


## WBCS Prelims Question Paper Held on 14 June 2026

A-19



CSP/24/III

89. The leader of the Reang uprising in Tripura (1942-43) was

- (A) Parikshit Jamatiya
- (B) Ratan Mani
- (C) Birsa Munda
- (D) Bir Bikram Manikya

90. "My two fingers on a typewriter have never connected with my brain. My hand on a pen does. A fountain pen, of course", — Graham Greene. Which one of the following is a manufacturer of Fountain Pens?

- (A) Voltas
- (B) Sailor
- (C) Hundai
- (D) Kirloskar



91. Consider the following pairs:

Dam	State
(I) Rihand	Uttarpradesh
(II) Massanjore	West Bengal
(III) Rana Pratap Sagar	Rajasthan
(IV) Hirakud	Chhattisgarh

Which of the pairs given above is/are correctly matched?

- (A) (I), (II) and (IV)
- (B) (II) only
- (C) (II) and (IV)
- (D) (I) and (III)

92. Who among the following abolished the pilgrimage tax ?

- (A) Humayun
- (B) Sher Shah
- (C) Akbar
- (D) Jahangir



89. ত্রিপুরায় রিয়াং বিদ্রোহের (1942-43) নেতা কে ছিলেন?

- (A) পরীক্ষিত জামতিয়া
- (B) রতন মণি
- (C) বিরসা মুন্ডা
- (D) বীর বিক্রম মাণিক্য



90. "টাইপরাইটারের ওপর রাখা আমার দুটি আঙ্গুল কখনোই আমার মস্তিষ্কের সাথে সংযোগ স্থাপন করতে পারেনি। কিন্তু কলমের ওপর রাখা আমার হাত তা পারে। অবশ্যই, একটি ফাউন্টেন পেন"; — গ্রাহাম গ্রিন। নীচের কোনটি ফাউন্টেন পেনের অন্যতম প্রস্তুতকারক?

- (A) ভোল্টাস
- (B) সেইলোর
- (C) হুন্দাই
- (D) কির্লোস্কার

91. নীচের জোড়াগুলি বিবেচনা করুন :

বাঁধ	রাজ্য
(I) রিহান্দ	উত্তরপ্রদেশ
(II) মাসাজোর	পশ্চিমবঙ্গ
(III) রানা প্রতাপ সাগর	রাজস্থান
(IV) হিরাকুঁদ	ছত্তিশগড়

উপরের জোড়াগুলির মধ্যে কোনটি/কোনগুলি সঠিকভাবে মেলানো হয়েছে?


- (A) (I), (II) এবং (IV)
- (B) শুধুমাত্র (II)
- (C) (II) এবং (IV)
- (D) (I) এবং (III)



92. নিম্নলিখিত ব্যক্তিদের মধ্যে কে তীর্থকর বিলোপ করেছিলেন?

- (A) হুমায়ুন
- (B) শের শাহ
- (C) আকবর
- (D) জাহাঙ্গির

CSP/24/II



A-20

93. A body covers half the distance with a speed of 10 m/s and the remaining half with a speed of 40 m/s. Then the average speed of the body over the entire journey

- (A) is 16 m/s.  
(B) is 20 m/s.  
(C) is 25 m/s.  
(D) will depend on the total distance.



94. Which three African countries have withdrawn themselves from the International Criminal Court?

- (A) Burkina Faso, Mali, Niger  
(B) Congo, Gabon, Togo  
(C) Ethiopia, Somalia, Kenya  
(D) Nigeria, Ghana, Sudan

95. The two Vaishnava brothers Roop and Sanatan who held high posts in court of

- (A) Ilyas Shah  
(B) Alauddin Hussain Shah  
(C) Firoz Tughlaq  
(D) Sikandar Shah



96. During whose reign Malik Muhaamad Jaisi completed poem Padmavat ?

- (A) Alauddin Khaliji  
(B) Ruknuddin Firoz Khiliji  
(C) Sher Shah  
(D) Muhammad Bin Tughlaq

97. Which of the following social and political leaders opposed the 'Age of Consent Bill'?

- (A) W. C. Bonnerjee  
(B) Gokhale  
(C) Ranade  
(D) Tilak

93. একটি বস্তু দূরত্বের অর্ধেক অংশ 10 m/s বেগে এবং অবশিষ্ট অর্ধেক অংশ 40 m/s বেগে অতিক্রম করে। তাহলে সমগ্র যাত্রাপথে বস্তুটির গড় বেগ

- (A) 16 m/s হবে।  
(B) 20 m/s হবে।  
(C) 25 m/s হবে।  
(D) মোট দূরত্বের ওপর নির্ভর করবে।

94. কোন তিনটি আফ্রিকার দেশ নিজেদেরকে আন্তর্জাতিক অপরাধ আদালত থেকে নাম প্রত্যাহার করে নিয়েছে?

- (A) বুরকিনা ফাসো, মালি, নাইজার  
(B) কঙ্গো, গ্যাবন, টোগো  
(C) ইথিওপিয়া, সোমালিয়া, কেনিয়া  
(D) নাইজেরিয়া, ঘানা, সুদান



95. বৈষ্ণব ভাতৃদ্বয় রূপ ও সনাতন কার সভাতে উচ্চপদে অধিষ্ঠিত ছিলেন?

- (A) ইলিয়াস শাহ  
(B) আলাউদ্দিন হোসেন শাহ  
(C) ফিরোজ তুঘলক  
(D) সিকান্দার শাহ


96. মালিক মুহাম্মদ জাইসি কার রাজত্বকালে পদ্মাবত কাব্য রচনা সমাপ্ত করেন?

- (A) আলাউদ্দিন খলিজি  
(B) রুকনুদ্দিন ফিরোজ খিলিজি  
(C) শের শাহ  
(D) মুহাম্মদ বিন তুঘলক

97. নীচের কোন সামাজিক ও রাজনৈতিক নেতা 'সম্মতির বয়স বিল'-এর বিরোধিতা করেছিলেন?

- (A) ডব্লিউ. সি. ব্যানার্জি  
(B) গোখলে  
(C) রানাডে  
(D) তিলক





98. Which out of the following letters should replace the question mark in the series?

A, D, G, J, M, ?

- (A) O
- (B) P
- (C) Q
- (D) R

99. The tax imposed on import and export of commodity is known as

- (A) Customs Duties
- (B) Excise Duties
- (C) VAT
- (D) GST



100. Who among the following Gupta rulers is credited with defeating the Hunas ?

- (A) Samudragupta
- (B) Chandragupta II
- (C) Skandagupta
- (D) Bhanugupta

101. Which one of the following is not correctly matched?

- (A) Kandla — Maharashtra
- (B) Paradip — Odisha
- (C) Tuticorin — Tamilnadu
- (D) Cochin — Kerala

102. Which of the following elements is a semiconductor?

- (A) Iron
- (B) Zinc
- (C) Mercury
- (D) Silicon



98. নীচের অক্ষরগুলির মধ্যে কোনটি ধারাবাহিকটির (series) প্রশ্নবোধক চিহ্নের স্থানে বসবে?

A, D, G, J, M, ?

- (A) O
- (B) P
- (C) Q
- (D) R



99. পণ্যের আমদানি ও রপ্তানির ওপর আরোপিত কর কী নামে পরিচিত?

- (A) কাস্টমস ডিউটি
- (B) এক্সাইজ ডিউটি
- (C) ভ্যাট
- (D) জিএসটি

100. নিম্নলিখিত গুপ্ত শাসকদের মধ্যে কাকে হুনের পরাজিত করার কৃতিত্ব দেওয়া হয়?

- (A) সমুদ্রগুপ্ত
- (B) দ্বিতীয় চন্দ্রগুপ্ত
- (C) স্কন্দগুপ্ত
- (D) ভানুগুপ্ত

101. নীচের কোন জোড়াটি সঠিকভাবে মেলানো নয়?


- (A) কান্দলা — মহারাষ্ট্র
- (B) পারাদ্বীপ — ওড়িশা
- (C) তুতিকোরিন — তামিলনাড়ু
- (D) কোচিন — কেরালা



102. নিম্নলিখিত মৌলগুলির মধ্যে কোনটি অর্ধপরিবাহী?

- (A) লৌহ
- (B) দস্তা
- (C) পারদ
- (D) সিলিকন

CSP/24/II



A-22

103. Who was the first Indian ruler to join the Subsidiary Alliance?

- (A) Peshwa Bajirao II
- (B) The King of Travancore
- (C) The Nawab of Oudh
- (D) The Nizam of Hyderabad

104. Who opposed the burning of foreign clothes during the Non-Cooperation Movement?

- (A) Chittaranjan Das
- (B) Rabindranath Tagore
- (C) Subhas Chandra Bose
- (D) Bal Gangadhar Tilak

105. In an examination, a student gets 4 marks for every correct answer, 1 for every unattempted question and 0 for every wrong answer. If there are 30 questions, which of the following total scores is not attainable by a student?

- (A) 113
- (B) 114
- (C) 115
- (D) 117



106. Which particular bonding exists in  $H_2O$  and  $HF$  but does not exist in  $H_2S$ ?

- (A) Covalent bonding
- (B) Ionic bonding
- (C) Hydrogen bonding
- (D) Metallic bonding

107. As per agreement with a bank, a businessman had to refund a loan in some equal installments without interest. After paying 18 installments he found that 60% of his loan was refunded. How many installments were there in the agreement?

- (A) 22
- (B) 24
- (C) 30
- (D) 33



103. অধীনতামূলক মিত্রতা নীতিতে যোগদানকারী প্রথম ভারতীয় শাসক কে ছিলেন?

- (A) দ্বিতীয় পেশোয়া বাজিরাও
- (B) ত্রিবাঙ্কুরের রাজা
- (C) অযোধ্যার নবাব
- (D) হায়দ্রাবাদের নিজাম



104. অসহযোগ আন্দোলনের সময় বিদেশি বস্ত্র পোড়ানোর বিরোধিতা কে করেছিলেন?

- (A) চিত্তরঞ্জন দাশ
- (B) রবীন্দ্রনাথ ঠাকুর
- (C) সুভাষচন্দ্র বসু
- (D) বালগঙ্গাধর তিলক



105. একটি পরীক্ষায় একজন শিক্ষার্থী প্রতিটি সঠিক উত্তরের জন্য 4 নম্বর, উত্তর না-দেওয়া প্রতিটি প্রশ্নের জন্য 1 নম্বর এবং প্রতিটি ভুল উত্তরের জন্য 0 নম্বর পায়। যদি মোট 30টি প্রশ্ন থাকে, তবে নীচের মোট স্কোরগুলির কোনটি কোনো শিক্ষার্থীর পক্ষে অর্জন করা সম্ভব নয়?


- (A) 113
- (B) 114
- (C) 115
- (D) 117

106. কোন বন্ধনটি  $H_2O$  এবং  $HF$ -এ বিদ্যমান, কিন্তু  $H_2S$ -এ বিদ্যমান নয়?

- (A) সমযোজী বন্ধন
- (B) আয়নিক বন্ধন
- (C) হাইড্রোজেন বন্ধন
- (D) ধাতব বন্ধন

107. একটি ব্যাঙ্কের সাথে চুক্তি অনুযায়ী একজন ব্যবসায়ীকে সুদমুক্ত কিছু সমান কিস্তিতে একটি ঋণ পরিশোধ করতে হত। 18টি কিস্তি পরিশোধ করার পর তিনি দেখলেন যে, তাঁর ঋণের 60% পরিশোধ হয়ে গেছে। চুক্তিটিতে মোট কতগুলি কিস্তি ছিল?

- (A) 22
- (B) 24
- (C) 30
- (D) 33



108. What is the SHANTI Act, 2025?
- (A) Super Hydrated Anti Natal Transformed India (SHANTI) Act, 2025
- (B) Sustainable Harnessing and Advancement of Nuclear Energy for Transforming India (SHANTI) Act, 2025
- (C) Sustained Harnessed and Advanced Nuke Engineering for Transformed India (SHANTI) Act, 2025
- (D) None of the above

109. The length of a rectangle is decreased by 20% while the breadth is increased by 20%. Then the area of the rectangle will

- (A) remain unchanged.
- (B) decrease by 4%.
- (C) increase by 2%.
- (D) increase by 4%.

110. In West Bengal, silk industry is famous in

- (A) Murshidabad
- (B) Purulia
- (C) Nadia
- (D) Howrah

111. Synapsis occurs during

- (A) Leptotene
- (B) Diplotene
- (C) Zygotene
- (D) Pachytene

108. SHANTI আইন, 2025 কী?

- (A) সুপার হাইড্রেটেড অ্যান্টি ন্যাটাল ট্রান্সফর্মড ইন্ডিয়া (SHANTI) আইন, 2025
- (B) সাস্টেইনেবল হার্নেসিং অ্যান্ড অ্যাডভান্সমেন্ট অব নিউক্লিয়ার এনার্জি ফর ট্রান্সফর্মিং ইন্ডিয়া (SHANTI) আইন, 2025
- (C) সাস্টেইনড হার্নেসড অ্যান্ড অ্যাডভান্সড নিউক্লিয়ার ইঞ্জিনিয়ারিং ফর ট্রান্সফর্মড ইন্ডিয়া (SHANTI) আইন, 2025
- (D) উপরের কোনোটিই নয়



109. একটি আয়তক্ষেত্রের দৈর্ঘ্য 20% হ্রাস করা হল, এবং প্রস্থ 20% বৃদ্ধি করা হল। তাহলে আয়তক্ষেত্রটির ক্ষেত্রফল

- (A) অপরিবর্তিত থাকবে।
- (B) 4% হ্রাস পাবে।
- (C) 2% বৃদ্ধি পাবে।
- (D) 4% বৃদ্ধি পাবে।

110. পশ্চিমবঙ্গের যে জেলায় রেশম শিল্প বিখ্যাত, তা হল


- (A) মুর্শিদাবাদ
- (B) পুরুলিয়া
- (C) নদিয়া
- (D) হাওড়া



111. সাইনাপসিস কখন ঘটে?

- (A) লেপটোটিন
- (B) ডিপ্লোটিন
- (C) জাইগোটিন
- (D) প্যাকাইটিন

CSP/24/II



A-24

112. Homage was paid to Thiruvalluvar. Who was he? Why is he famous for?

- (A) Thiruvalluvar was a celebrated Tamil poet and philosopher. He wrote Tirukkural, a classical Tamil text of 1,330 short couplets (kurals).
- (B) Thiruvalluvar was a celebrated Assamese Poet and philosopher. He translated Mahabharata in Assamese.
- (C) Thiruvalluvar was a king of Chola dynasty. He conquered Ceylon.
- (D) Thiruvalluvar was court poet of Rajaraja-I. He wrote several poems on contemporary Subject.

113. Which Article deals with persons voluntarily acquiring foreign citizenship?

- (A) Article 7
- (B) Article 8
- (C) Article 9
- (D) Article 10



114. Which one of the following is included in secondary sector from the standpoint of sources of national income?

- (A) Trade
- (B) Transport
- (C) Communication
- (D) Construction

115. How many members should at least be there in a Club so that it is guaranteed that at least two members have the same month of birth?

- (A) 3
- (B) 12
- (C) 13
- (D) 24



112. থিরুবাল্লভার-কে শ্রদ্ধা জানানো হল। ইনি কে? ইনি কেন বিখ্যাত?

- (A) থিরুবাল্লভার একজন প্রাথিতযশা তামিল কবি ও দার্শনিক। তিনি তিরুক্কুরাল, একটি ধ্রুপদী তামিল কাব্য লিখেছেন যেখানে ১৩৩০ টি ছোটো কবিতা (কুরাল) রয়েছে।
- (B) থিরুবাল্লভার একজন অসমীয়া কবি ও দার্শনিক। তিনি অসমীয়া ভাষায় মহাভারত অনুবাদ করেছেন।
- (C) থিরুবাল্লভার চোল বংশের রাজা ছিলেন। তিনি শ্রীলংকা জয় করেছেন।
- (D) থিরুবাল্লভার ১ম রাজারাজা-র সভাকবি ছিলেন। তৎকালীন বিষয়গুলি নিয়ে অনেক কবিতা লিখেছেন।

113. কোন অনুচ্ছেদটি সেইসব ব্যক্তিদের বিষয় নিয়ে আলোচনা করে, যারা স্বেচ্ছায় বিদেশি নাগরিকত্ব অর্জন করেন?

- (A) অনুচ্ছেদ 7
- (B) অনুচ্ছেদ 8
- (C) অনুচ্ছেদ 9
- (D) অনুচ্ছেদ 10




114. জাতীয় আয়ের উৎসের দৃষ্টিকোণ থেকে নীচের কোনটি দ্বিতীয়ক ক্ষেত্র (secondary sector)-এর অন্তর্ভুক্ত?

- (A) বাণিজ্য
- (B) পরিবহণ
- (C) যোগাযোগ
- (D) নির্মাণ



115. একটি ক্লাবে অন্তত কতজন সদস্য থাকা উচিত, যাতে এটি নিশ্চিত হয় যে অন্তত দুজন সদস্যের জন্মমাস একই?

- (A) 3
- (B) 12
- (C) 13
- (D) 24



116. Wind Energy Project was set up in West Bengal at

- (A) Bakkhali  
(B) Frezerganj  
(C) Digha  
(D) Haldia



117. Krishna Raja Sagar dam and Mettur dam are built across the river

- (A) Krishna  
(B) Cauvery (Kaveri)  
(C) Mahanadi  
(D) Godavari

118.  $2x - 3y = -12$  and  $x/y = 3/4$ , what is the value of  $x$  and  $y$ ?

- (A)  $x = 6, y = 9$   
(B)  $x = 6, y = 8$   
(C)  $x = 4, y = 3$   
(D)  $x = 8, y = 4$



119. Which of the following elements, available adequately in India, can be used to produce the nuclear power?

- (A) Actinium  
(B) Neptunium  
(C) Copper  
(D) Thorium

120. Formula of the Chloride of an element M is  $MCl_4$  and its Molecular weight is 154 ( $Cl = 35.5$ ). The molecular weight of its oxide is

- (A) 64  
(B) 72  
(C) 44  
(D) 40

116. পশ্চিমবঙ্গে বায়ু শক্তি প্রকল্প (Wind Energy Project) নির্মিত হয়েছিল কোন জায়গায়?

- (A) বকখালি  
(B) ফ্রেজারগঞ্জ  
(C) দিঘা  
(D) হলদিয়া

117. কৃষ্ণ রাজা সাগর বাঁধ এবং মেট্টুর বাঁধ কোন নদীর ওপর নির্মিত হয়েছে?

- (A) কৃষ্ণা  
(B) কাবেরী  
(C) মহানদী  
(D) গোদাবরী



118.  $2x - 3y = -12$  এবং  $x/y = 3/4$  হলে,  $x$  এবং  $y$ -এর মান কত?

- (A)  $x = 6, y = 9$   
(B)  $x = 6, y = 8$   
(C)  $x = 4, y = 3$   
(D)  $x = 8, y = 4$

119. ভারতবর্ষে পর্যাপ্ত পরিমাণে পাওয়া যায়, নিম্নলিখিত এমন কোন মৌল থেকে পারমাণবিক শক্তি তৈরি করা সম্ভব?


- (A) আক্টিনিয়াম  
(B) নেপচুনিয়াম  
(C) তামা  
(D) থোরিয়াম



120. 'M' মৌলের ক্লোরাইডের সংকেত হল  $MCl_4$  এবং এর আণবিক ভর 154 ( $Cl = 35.5$ )। মৌলটির অক্সাইডের আণবিক ভর হবে

- (A) 64  
(B) 72  
(C) 44  
(D) 40

CSP/24/II



A-26

121. Who drafted the Congress Enquiry Committee Report on the Jallianwala Bagh Massacre?

- (A) Chittaranjan Das
- (B) Motilal Nehru
- (C) Mahatma Gandhi
- (D) Saifuddin Kitchlew



122. Who among the following paid his soldiers in cash ?

- (A) Balban
- (B) Alauddin
- (C) Muhammad Bin Tuglaq
- (D) Iltutmish

123. Who founded Himalayan Institute of Alternatives (HIAL)? Why it is famous for?

- (A) Tenzing Norgay. Holistic development of Himalayan Area.
- (B) Sonam Wangchuk & Gitanjali J. Angmo. HIAL desires to address the educational and developmental challenges unique to Ladakh's exceptional geographical and cultural context.
- (C) Phunsukh Wangdu. Cultural development of Leh region
- (D) None of the above

124. Boundary between the greater and the lesser Himalaya is known as

- (A) Main Boundary Thrust
- (B) Main Central Thrust
- (C) Main Mantle Thrust
- (D) Main Frontal Thrust



121. জালিয়ানওয়ালাবাগ হত্যাকাণ্ড সম্পর্কিত কংগ্রেস উদ্যোগ কমিটির প্রতিবেদনটি কে রচনা করেছিলেন?

- (A) চিত্তরঞ্জন দাশ
- (B) মোতিলাল নেহরু
- (C) মহাত্মা গান্ধী
- (D) সাইফুদ্দিন কিচলু

122. নিম্নলিখিতদের মধ্যে কে তাঁর সৈন্যদের নগদ অর্থে বেতন দিতেন?

- (A) বলবন
- (B) আলাউদ্দিন
- (C) মুহাম্মদ বিন তুঘলক
- (D) ইলতুতমিশ




123. হিমালয়ান ইনস্টিটিউট অব অল্টারনেটিভস HIAL-এর প্রতিষ্ঠাতা কে? এটি কেন বিখ্যাত?

- (A) তেনজিং নোরগে। হিমালয় অঞ্চলের সামগ্রিক উন্নয়ন।
- (B) সোনাম ওয়াংচুক ও গীতাজলি জে. আংমো। লাদাখের অনন্য ভৌগোলিক ও সাংস্কৃতিক প্রেক্ষাপটের সঙ্গে সংশ্লিষ্ট শিক্ষাগত ও উন্নয়নমূলক চ্যালেঞ্জগুলো মোকাবিলা করাই HIAL-এর লক্ষ্য।
- (C) ফুনসুখ ওয়াংডু। লেহ অঞ্চলের সাংস্কৃতিক উন্নয়ন।
- (D) উপরের কোনোটিই নয়



124. মহাপ্রাচীর (greater) ও নিম্ন (lesser) হিমালয়ের মধ্যবর্তী সীমানা কী নামে পরিচিত?

- (A) প্রধান বাউন্ডারি থ্রাস্ট
- (B) প্রধান কেন্দ্রীয় থ্রাস্ট
- (C) প্রধান ম্যান্টেল থ্রাস্ট
- (D) প্রধান ফ্রন্টাল থ্রাস্ট



125. The film 'Ek Ruka Hua Faisla' (1986) directed by Sri Basu Chatterjee was adopted from a 1957 American film '12 Angry Men'. Recently it was adopted as a play in Bengali language. Which group has adopted it and what is the name of the play?

- (A) Nandikar, Ek Theke Baro
- (B) Sayak, Kundubabu
- (C) Rangakarmee, Rudali
- (D) Natasena, Fata Gopal

126. The leader of the Eka movement was

- (A) Birsa Munda
- (B) Annie Besant
- (C) Madari Pasi
- (D) A. N. Sinha

127. India has officially set its net-zero Carbon Emission target for the year \_\_\_\_\_.

- (A) 2050
- (B) 2060
- (C) 2100
- (D) 2070

128. If 14 gm of  $N_2$  has ' $n$ ' number of molecules, how many molecules are present in 46 gm  $NO_2$ ?

- (A)  $n$
- (B)  $2n$
- (C)  $\frac{n}{2}$
- (D)  $\frac{3n}{2}$

129. Which one of the following is not the anti-inflationary measure in India?

- (A) Curbing disposable income of the people
- (B) Checking black markets
- (C) Tax reform
- (D) Increase in money supply

125. শ্রী বাসু চ্যাটার্জি পরিচালিত চলচ্চিত্র 'এক রুকা হুয়া ফয়সলা' (1986) একটি 1957 সালের আমেরিকান চলচ্চিত্র '12 অ্যাংরি মেন' থেকে অনুপ্রাণিত ছিল। সম্প্রতি এটি বাংলা ভাষায় একটি নাটক হিসেবে রূপান্তরিত হয়েছে। কোন নাট্যদল এটি মঞ্চস্থ করেছে এবং নাটকটির নাম কী?

- (A) নন্দীকার, এক থেকে বারো
- (B) সায়ক, কুণ্ডুবাবু
- (C) রঙ্গকর্মা, রুদালি
- (D) নটসেনা, ফাটা গোপাল

126. একা আন্দোলনের নেতা ছিলেন

- (A) বিরসা মুন্ডা
- (B) অ্যানি বেসান্ট
- (C) মাদারী পাসি
- (D) এ. এন. সিনহা

127. ভারত আনুষ্ঠানিকভাবে \_\_\_\_\_ সালের মধ্যে তার 'নেট-জিরো' কার্বন নির্গমনের লক্ষ্যমাত্রা নির্ধারণ করেছে।

- (A) 2050
- (B) 2060
- (C) 2100
- (D) 2070


128. যদি 14 গ্রাম  $N_2$ -তে ' $n$ ' সংখ্যক অণু থাকে, তবে 46 গ্রাম  $NO_2$ -তে কত সংখ্যক অণু উপস্থিত থাকবে?

- (A)  $n$
- (B)  $2n$
- (C)  $\frac{n}{2}$
- (D)  $\frac{3n}{2}$

129. নীচের কোনটি ভারতে মুদ্রাস্ফীতি রোধকারী ব্যবস্থা নয়?

- (A) জনগণের ব্যয়যোগ্য আয় নিয়ন্ত্রণ করা
- (B) কালোবাজারি রোধ করা
- (C) কর সংস্কার
- (D) অর্থের সরবরাহ বৃদ্ধি করা

A-29



CSP/24/II

134. Which of the following carries oxygenated blood?

- (A) Hepatic portal veins  
(B) Pulmonary veins  
(C) Renal veins  
(D) Pulmonary artery



135. Dehradun is the capital city of Uttarakhand. What does 'dun' (also spelled 'doon') signify here?

- (A) A valley between Lesser Himalaya and Shivalik  
(B) An apple orchard  
(C) Fertile land  
(D) Silted-up lake in Shivalik

136. Who was the Governor-General of Bengal when the Asiatic Society was founded?

- (A) Warren Hastings  
(B) Lord Cornwallis  
(C) Lord Wellesley  
(D) Lord Clive

137. Which Article of the Indian Constitution abolishes Untouchability?

- (A) Article 17  
(B) Article 19  
(C) Article 18  
(D) Article 21



138. Which has become the first country to recognize the Taliban Government in Afghanistan?

- (A) India  
(B) Iran  
(C) Russia  
(D) China

139. Name the town that is located on the bank of Karola river.

- (A) Malda  
(B) Jalpaiguri  
(C) Darjeeling  
(D) Baharampur

134. নীচের কোনটি অক্সিজেনযুক্ত রক্ত বহন করে?

- (A) যকৃৎ-পোর্টাল শিরাসমূহ  
(B) ফুসফুসীয় শিরাসমূহ  
(C) বৃক্কীয় শিরাসমূহ  
(D) ফুসফুসীয় ধমনী

135. দেহরাদুন হল উত্তরাখণ্ডের রাজধানী শহর। এখানে 'দুন' (dun বা doon) শব্দটি কী নির্দেশ করে?

- (A) নিম্ন হিমালয় ও শিবালিকের মধ্যবর্তী উপত্যকা  
(B) একটি আপেল বাগান  
(C) উর্বর ভূমি  
(D) শিবালিক অঞ্চলে পলি জমে ভরাট হয়ে যাওয়া হ্রদ

136. এশিয়াটিক সোসাইটি প্রতিষ্ঠিত হওয়ার সময় বাংলার গভর্নর-জেনারেল কে ছিলেন?

- (A) ওয়ারেন হেস্টিংস  
(B) লর্ড কর্নওয়ালিস  
(C) লর্ড ওয়েলেসলি  
(D) লর্ড ক্লাইভ



137. ভারতের সংবিধানের কোন অনুচ্ছেদটি অস্পৃশ্যতা বিলোপ করে?

- (A) অনুচ্ছেদ 17  
(B) অনুচ্ছেদ 19  
(C) অনুচ্ছেদ 18  
(D) অনুচ্ছেদ 21

138. বিশ্বের কোন দেশ সর্বপ্রথম আফগানিস্তানের তালিবান সরকারকে স্বীকৃতি দিয়েছে?

- (A) ভারত  
(B) ইরান  
(C) রাশিয়া  
(D) চীন




139. কোন শহরটি করলা নদীর তীরে অবস্থিত?

- (A) মালদা  
(B) জলপাইগুড়ি  
(C) দার্জিলিং  
(D) বহরমপুর

Please Turn Over

CSP/24/II



A-30

140. Which period in India is known as Plan Holiday?

- (A) 1961–1966  
(B) 1965–1966  
(C) 1966–1969  
(D) 1969–1974



141. India has recently launched a nationwide campaign for free HPV vaccination. The goal of this vaccination is to combat

- (A) Cervical cancer in women  
(B) Prostate cancer in men  
(C) Lung cancer  
(D) Breast cancer

142. Which one among the following is not Sunrise Sectors in India?

- (A) Food Processing  
(B) Textile  
(C) Artificial Intelligence (AI) and Information Technology (IT)  
(D) Space Technology

143. Select the shape which is different from the rest:

- (A) Square  
(B) Circle  
(C) Triangle  
(D) Rectangle



144. The name 'Operation Polo' referred to the military operation to integrate which princely state within the Indian Union?

- (A) Kashmir  
(B) Junagadh  
(C) Hyderabad  
(D) Jodhpur

140. ভারতের কোন সময়কালটি পরিকল্পনা বিরতি (Plan Holiday) নামে পরিচিত?

- (A) 1961–1966  
(B) 1965–1966  
(C) 1966–1969  
(D) 1969–1974

141. ভারত সম্প্রতি বিনামূল্যে HPV টিকাদানের জন্য একটি দেশব্যাপী অভিযান চালু করেছে। এই টিকাদানের লক্ষ্য হল, মোকাবিলা করা—

- (A) নারীদের জরায়ুমুখের ক্যান্সার  
(B) পুরুষদের প্রোস্টেট ক্যান্সার  
(C) ফুসফুসের ক্যান্সার  
(D) স্তনের ক্যান্সার

142. নীচের কোনটি ভারতের 'সানরাইজ সেক্টর' (উদীয়মান শিল্পক্ষেত্র) নয়?

- (A) খাদ্য প্রক্রিয়াকরণ  
(B) বস্ত্রশিল্প  
(C) কৃত্রিম বুদ্ধিমত্তা (AI) এবং তথ্যপ্রযুক্তি (IT)  
(D) মহাকাশ প্রযুক্তি



143. যে আকৃতিটি (shape) বাকিগুলির থেকে আলাদা, সেটি নির্বাচন করুন :


- (A) বর্গক্ষেত্র  
(B) বৃত্ত  
(C) ত্রিভুজ  
(D) আয়তক্ষেত্র

144. 'অপারেশন পোলো' নামটি কোন দেশীয় রাজ্যকে ভারতীয় ইউনিয়নের অন্তর্ভুক্ত করার সামরিক অভিযানের সাথে সম্পর্কিত ছিল?

- (A) কাশ্মীর  
(B) জুনাগড়  
(C) হায়দ্রাবাদ  
(D) যোধপুর



A-31



CSP/24/II

145. Which amendment made written advice of Cabinet mandatory for Emergency declaration?

- (A) 42nd Amendment  
(B) 52nd Amendment  
(C) 86th Amendment  
(D) 44th Amendment



146. The Indian Sangita Samaj was founded by—

- (A) Rajanikanta Sen  
(B) Jyotirindranath Tagore  
(C) Dwijendralal Roy  
(D) Sourindro Mohun Tagore

147. What is the study and analysis of Coins known as ?

- (A) Coinography  
(B) Epigraphy  
(C) Numismatics  
(D) Calligraphy



148. Which of the following is not a UNESCO world heritage site?

- (A) Ellora caves  
(B) Kaziranga National Park  
(C) Churches and convents of Goa  
(D) Gateway of India

149. Running at a speed of 60 km per hour, a train passed through a 1.5 km long tunnel in 2 minutes. What is the length of the train?

- (A) 250 m  
(B) 500 m  
(C) 1000 m  
(D) 1500 m



145. কোন সংশোধনীর মাধ্যমে জরুরি অবস্থা ঘোষণার জন্য মন্ত্রিসভার লিখিত পরামর্শ গ্রহণ বাধ্যতামূলক করা হয়েছিল?

- (A) 42তম সংশোধনী  
(B) 52তম সংশোধনী  
(C) 86তম সংশোধনী  
(D) 44তম সংশোধনী



146. ভারতীয় সংগীত সমাজ প্রতিষ্ঠা করেছিলেন—

- (A) রজনীকান্ত সেন  
(B) জ্যোতিরিন্দ্রনাথ ঠাকুর  
(C) দ্বিজেন্দ্রলাল রায়  
(D) সৌরীন্দ্রমোহন ঠাকুর

147. মুদ্রার অধ্যয়ন ও বিশ্লেষণ কী নামে পরিচিত?

- (A) কয়েনোগ্রাফি  
(B) এপিগ্রাফি  
(C) নিউমিসম্যাটিকস  
(D) ক্যালিগ্রাফি



148. নিচের কোনটি ইউনেস্কো বিশ্ব ঐতিহ্যবাহী স্থান নয়?


- (A) ইলোরা গুহা  
(B) কাজিরঙ্গা জাতীয় উদ্যান  
(C) গোয়ার গির্জা ও কনভেন্টসমূহ  
(D) গেটওয়ে অব ইন্ডিয়া

149. ঘণ্টায় 60 কিমি বেগে চলমান একটি ট্রেন 2 মিনিটে 1.5 কিমি দীর্ঘ একটি সুড়ঙ্গ অতিক্রম করল। ট্রেনটির দৈর্ঘ্য কত?

- (A) 250 মি  
(B) 500 মি  
(C) 1000 মি  
(D) 1500 মি

Please Turn Over

CSP/24/II



A-32

150. Consider the following pairs:

District	Trees found in natural habitat
(I) Bankura	Sal
(II) South 24 Parganas	Sundari
(III) Coochbehar	Pine
(IV) Purba Medinipur	Baobab

How many of the pairs given above is/are correctly matched?

- (A) Only one  
(B) Only two  
(C) Only three  
(D) All four



151. Who played the role of a mediator leading to the signing of the Gandhi-Irwin Pact?

- (A) Motilal Nehru  
(B) Annie Besant  
(C) Tej Bahadur Sapru  
(D) Chintamani Panigrahi

152. Andaman and Nicobar Islands are separated by

- (A) Ten Degree Channel  
(B) Five Degree Channel  
(C) Eight Degree Channel  
(D) Zero Degree Channel

153. Who introduced the Ryotwari settlement in Madras?

- (A) Charles Metcalfe  
(B) Thomas Munro  
(C) John Malcolm  
(D) Mountstuart Elphinstone



150. নীচের জোড়াগুলি বিবেচনা করুন :

জেলা	প্রাকৃতিক পরিবেশে প্রাপ্ত বৃক্ষ
(I) বাঁকুড়া	শাল
(II) দক্ষিণ 24 পরগনা	সুন্দরী
(III) কোচবিহার	পাইন
(IV) পূর্ব মেদিনীপুর	বাওবাব

উপরে প্রদত্ত জোড়াগুলির মধ্যে কতগুলি সঠিকভাবে

মেলানো হয়েছে?

- (A) শুধুমাত্র একটি  
(B) শুধুমাত্র দুটি  
(C) শুধুমাত্র তিনটি  
(D) চারটিই



151. গান্ধী-আরউইন চুক্তি স্বাক্ষরে মধ্যস্থতাকারীর ভূমিকা পালন করেছিলেন কে?

- (A) মোতিলাল নেহরু  
(B) অ্যানি বেসান্ট  
(C) তেজ বাহাদুর সাপ্ৰু  
(D) চিন্তামণি পাণিগ্রাহী


152. আন্দামান ও নিকোবর দ্বীপপুঞ্জ যে প্রণালী দ্বারা বিচ্ছিন্ন—

- (A) দশ ডিগ্রি চ্যানেল  
(B) পাঁচ ডিগ্রি চ্যানেল  
(C) আট ডিগ্রি চ্যানেল  
(D) শূন্য ডিগ্রি চ্যানেল



153. মাদ্রাজে কে রায়তওয়ারি বন্দোবস্ত প্রবর্তন করেন?

- (A) চার্লস মেটকাল্ফ  
(B) টমাস মুনরো  
(C) জন ম্যালকম  
(D) মাউন্টস্টুয়ার্ট এলফিনস্টোন



154. Which word is not formed from the word 'RABBIT' to form a meaningful word?

- (A) RAT  
(B) BAT  
(C) BAG  
(D) BIT



155. Jaldapara National Park is located in

(A) Jalpaiguri and Alipurduar districts  
(B) Alipurduar district  
(C) Coochbehar and Jalpaiguri districts  
(D) Kalimpong district

156. Which of the following mountain peaks does not belong to the Himalayan Range?

- (A) Kamet  
(B) K2  
(C) Kanchenjunga  
(D) Nandadevi



157. A verdict was delivered by a Seven Judge Bench headed by Hon'ble Chief Justice of India on sub-categorization of Scheduled Castes in 2024. The relevant litigation was between —

- (A) E. V. Chinnaiah Vs. State of Andhra Pradesh  
(B) Indra Sawhney Vs. Union of India  
(C) Association for Democratic Reforms Vs. Election Commission of India  
(D) Indra Sawhney Vs. Association for Democratic Reforms

154. 'RABBIT' শব্দটি থেকে নীচের কোন শব্দটি গঠন করা যায় না যাতে একটি অর্থপূর্ণ শব্দ তৈরি হয়?

- (A) RAT  
(B) BAT  
(C) BAG  
(D) BIT



155. জলদাপাড়া জাতীয় উদ্যানটি কোথায় অবস্থিত?

- (A) জলপাইগুড়ি এবং আলিপুরদুয়ার জেলায়  
(B) আলিপুরদুয়ার জেলায়  
(C) কোচবিহার এবং জলপাইগুড়ি জেলায়  
(D) কালিম্পং জেলায়




156. নীচের কোন পর্বতশৃঙ্গটি হিমালয় পর্বতমালায় অবস্থিত নয়?

- (A) কামেট  
(B) K2  
(C) কাঞ্চনজঙ্ঘা  
(D) নন্দাদেবী

157. 2024 সালে ভারতের মাননীয় প্রধান বিচারপতির নেতৃত্বে সাতজন বিচারকের সমন্বয়ে গঠিত একটি বেঞ্চ তফশিলি জাতিসমূহের উপ-শ্রেণিবিন্যাস (sub-categorization) সংক্রান্ত একটি রায় প্রদান করেন। সংশ্লিষ্ট মামলাটি ছিল —

- (A) ই. ভি. চিন্নায়া বনাম অন্ধ্রপ্রদেশ রাজ্য  
(B) ইন্দ্র সাহনি বনাম ভারত সরকার  
(C) অ্যাসোসিয়েশন ফর ডেমোক্রেটিক রিফর্মস বনাম ভারতের নির্বাচন কমিশন  
(D) ইন্দ্র সাহনি বনাম অ্যাসোসিয়েশন ফর ডেমোক্রেটিক রিফর্মস

CSP/24/II



A-34

158. Which one of the following is not the attribute/main function of NABARD?

- (A) Apex institution of rural sector
- (B) Promoting integrated rural development
- (C) Long-term credit to State Government for share capital of co-operative society
- (D) Apex financial institution of industrial credit

159. A real gas behaves like an ideal gas at

- (A) high temperature and high pressure.
- (B) high pressure and low temperature.
- (C) low pressure and high temperature.
- (D) low pressure and low temperature.



160. Babur's famous autobiography 'Baburnama' was translated in Persian by

- (A) Abdur Rahim Khan-I-Khanan
- (B) Badauni
- (C) Faizi
- (D) Gulbadan Begaum

161. How many hymns are there in the Rigveda?

- (A) 1017
- (B) 1028
- (C) 1128
- (D) 1228



158. নীচের কোনটি NABARD-এর বৈশিষ্ট্য/প্রধান কাজ নয়?

- (A) গ্রামীণ ক্ষেত্রের শীর্ষ প্রতিষ্ঠান
- (B) সামগ্রিক গ্রামীণ উন্নয়নের প্রসার ঘটানো
- (C) সমবায় সমিতির শেয়ার মূলধনের জন্য রাজ্য সরকারকে দীর্ঘমেয়াদি ঋণ প্রদান
- (D) শিল্প ঋণের শীর্ষ আর্থিক প্রতিষ্ঠান



159. একটি বাস্তব গ্যাস কখন আদর্শ গ্যাসের মতো আচরণ করে?

- (A) উচ্চ তাপমাত্রা ও উচ্চ চাপে
- (B) উচ্চ চাপ ও নিম্ন তাপমাত্রায়
- (C) নিম্ন চাপ ও উচ্চ তাপমাত্রায়
- (D) নিম্ন চাপ ও নিম্ন তাপমাত্রায়


160. বাবরের বিখ্যাত আত্মজীবনী 'বাবরনামা' ফারসি ভাষায় কে অনুবাদ করেন?

- (A) আবদুর রহিম খান-ই-খানান
- (B) বাদায়ুনি
- (C) ফৈজি
- (D) গুলবদন বেগম




161. ঋগ্বেদে কতগুলি স্তোত্র রয়েছে?

- (A) 1017
- (B) 1028
- (C) 1128
- (D) 1228



162. Which Buddhist text provides an account of the 16 Mahajanpadas of the 6th century B.C.?
- (A) Tripitaka  
(B) Dipavamsa  
(C) Digha Nikaya  
(D) Anguttara Nikaya
163. Growth inhibiting hormone of plant is
- (A) Auxin  
(B) Gibberellin  
(C) Cytokinin  
(D) Abscisic acid
164. The editor of the journal 'Karmayogin' was
- (A) Aurobindo Ghosh  
(B) Sisir Kumar Ghosh  
(C) Bal Gangadhar Tilak  
(D) Mahatma Gandhi
165. Who among the following persons wrote a biography of Mahatma Gandhi?
- (A) Richard Gregg  
(B) Louis Fischer  
(C) Web Miller  
(D) Pat Hendricks
166. Consider the following statements:  
(I) Finance Commission is a Constitutional Body.  
(II) National Commission for Women is a Statutory Body.  
Which option is correct?  
(A) Only (I)  
(B) Only (II)  
(C) Both (I) and (II)  
(D) None of the above
162. কোন বৌদ্ধ গ্রন্থে খ্রিস্টপূর্ব ষষ্ঠ শতাব্দীর 16টি মহাজনপদের বিবরণ পাওয়া যায়?
- (A) ত্রিপিটক  
(B) দীপবংশ  
(C) দীঘা নিকায়  
(D) অঙ্গুত্তারা নিকায়
163. উদ্ভিদের বৃদ্ধি-রোধকারী হরমোন হল
- (A) অক্সিন  
(B) জিব্বেরেলিন  
(C) সাইটোকাইনিন  
(D) অ্যাবসিসিক অ্যাসিড
164. 'কর্মযোগী' পত্রিকার সম্পাদক ছিলেন
- (A) অরবিন্দ ঘোষ  
(B) শিশিরকুমার ঘোষ  
(C) বালগঙ্গাধর তিলক  
(D) মহাত্মা গান্ধী
165. নিম্নলিখিত ব্যক্তিদের মধ্যে কে মহাত্মা গান্ধীর জীবনী রচনা করেছিলেন?
- (A) রিচার্ড গ্রেগ  
(B) লুই ফিশার  
(C) ওয়েব মিলার  
(D) প্যাট হেনড্রিক্স
166. নীচের বিবৃতিগুলি বিবেচনা করুন :  
(I) অর্থ কমিশন একটি সাংবিধানিক সংস্থা।  
(II) জাতীয় মহিলা কমিশন একটি বিধিবদ্ধ সংস্থা।  
কোন বিকল্পটি সঠিক?  
(A) শুধুমাত্র (I)  
(B) শুধুমাত্র (II)  
(C) (I) এবং (II) উভয়ই  
(D) উপরের কোনোটিই নয়


CSP/24/11



A-36

167. The leader of the Khaksar movement was
- (A) M. A. Jinnah  
(B) Inayatullah Khan Mashriqi  
(C) Swami Shraddhanand  
(D) M. A. Jayakar
168. Congress Democratic Party was founded by—
- (A) Anne Besant  
(B) B.G. Tilak  
(C) Muhammad Ali Jinnah  
(D) Motilal Nehru
169. Mixed Economy refers to an economy where
- (A) both agriculture and industry are equally promoted by the State.  
(B) there is co-existence of public sector and private sector.  
(C) there is co-existence of foreign firms and domestic firms.  
(D) economy is under joint control of elected government and military.
170. The Indian revolutionary leader associated with the battle of Buribalam in 1915 was
- (A) V. S. Phadke  
(B) Jatindra Nath Mukherjee  
(C) Ajay Samanta  
(D) Gaidinliu
171. Which incident prompted the appointment of the Hunter Committee?
- (A) Uprising of 1857  
(B) Partition of Bengal  
(C) Jallianwala Bagh Massacre  
(D) Komagata Maru incident
167. খাকসার আন্দোলনের নেতা ছিলেন
- (A) এম. এ. জিন্মাহ  
(B) ইনায়েতুল্লাহ খান মার্শরিকি  
(C) স্বামী শ্রদ্ধানন্দ  
(D) এম. এ. জয়াকর
168. কংগ্রেস ডেমোক্রেটিক পার্টি প্রতিষ্ঠা করেছিলেন—
- (A) অ্যানি বেসান্ট  
(B) বি.জি. তিলক  
(C) মুহাম্মদ আলি জিন্মাহ  
(D) মতিলাল নেহরু
169. মিশ্র অর্থনীতি বলতে এমন একটি অর্থনীতিকে বোঝায় যেখানে
- (A) রাষ্ট্র কর্তৃক কৃষি ও শিল্প উভয়কেই সমানভাবে উৎসাহিত করা হয়।  
(B) সরকারি ও বেসরকারি ক্ষেত্রের (sector) সহাবস্থান থাকে।  
(C) বিদেশি ও দেশীয় প্রতিষ্ঠানগুলির সহাবস্থান থাকে।  
(D) অর্থনীতি নির্বাচিত সরকার ও সেনাবাহিনীর যৌথ নিয়ন্ত্রণে থাকে।
170. 1915 সালের বুড়িবালাম যুদ্ধের সাথে যুক্ত ভারতীয় বিপ্লবী নেতা ছিলেন
- (A) ভি. এস. ফাড়কে  
(B) যতীন্দ্রনাথ মুখার্জী  
(C) অজয় সামন্ত  
(D) গাইদিনলিউ
171. কোন ঘটনাটি হান্টার কমিটি নিয়োগের প্রেক্ষাপট তৈরি করেছিল?
- (A) 1857 সালের বিদ্রোহ  
(B) বঙ্গভঙ্গ  
(C) জালিয়ানওয়ালাবাগ হত্যাকাণ্ড  
(D) কোমাগাতা মারু ঘটনা

A-37




CSP/24/II

172. Water available for plants within the soil is
- (A) Hygroscopic water  
(B) Capillary water  
(C) Mineral water  
(D) Chemically bound water
173. Indian Topographical Map is published by
- (A) Survey of India  
(B) Geological Survey of India  
(C) Indian Space Research Organization  
(D) UGC
174. Who became the Congress President after the resignation of Subhas Chandra Bose?
- (A) Rajendra Prasad  
(B) Jawaharlal Nehru  
(C) Acharya Kripalani  
(D) C. Rajagopalachari
175. In which ancient Scripture was the phrase "Tamaso Ma Jyotirgamaya" originally mentioned?
- (A) Rig Veda  
(B) Bhagavad Gita  
(C) Mundak Upanishad  
(D) Brihadaranyaka Upanishad
176. Parallel governments during the 1942 Movement were formed in
- (A) Ballia  
(B) Satara  
(C) Talcher  
(D) All of the above
172. মাটির মধ্যে উদ্ভিদের জন্য উপলব্ধ জল হল
- (A) আর্দ্রতাপ্রাপ্ত জল  
(B) কৈশিক জল  
(C) খনিজ জল  
(D) রাসায়নিকভাবে আবদ্ধ জল
173. ভারতের ভূ-স্থানিক মানচিত্র প্রকাশ করে
- (A) সার্ভে অফ ইন্ডিয়া  
(B) জিওলজিক্যাল সার্ভে অফ ইন্ডিয়া  
(C) ইন্ডিয়ান স্পেস রিসার্চ অর্গানাইজেশন  
(D) ইউ. জি. সি.
174. সুভাষচন্দ্র বসুর পদত্যাগের পর কে কংগ্রেস সভাপতি হয়েছিলেন?
- (A) রাজেন্দ্রপ্রসাদ  
(B) জওহরলাল নেহরু  
(C) আচার্য কৃপালনি  
(D) সি. রাজাগোপালাচারী
175. কোন প্রাচীন শাস্ত্রে "তমসো মা জ্যোতির্গময়" বাক্যটি প্রথম উল্লেখ করা হয়েছিল?
- (A) ঋগ্বেদ  
(B) ভগবদ্গীতা  
(C) মুণ্ডক উপনিষদ  
(D) বৃহদারণ্যক উপনিষদ
176. 1942 সালের আন্দোলনের সময় সমান্তরাল সরকারগুলি যেখানে গঠিত হয়েছিল —
- (A) বালিয়া  
(B) সাতারা  
(C) তালচের  
(D) উপরের সবকটিই

Please Turn Over

CSP/24/II



A-38

177. Among the following indices which one is not used for the construction of Human Development Index?

- (A) Health Index
- (B) Price Index
- (C) Education Index
- (D) Income Index



178. All X-brand cars parked here are white.

Some of them have radial tyres.

All X-brand cars manufactured after 1986 have radial tyres.

All cars are not X-brand.

Which one of the following conclusions can be drawn from the above statements?

- (A) Cars other than X-brand cannot have radial tyres.
- (B) Only white cars are parked here.
- (C) Some white X-brand cars with radial tyres are parked here.
- (D) Cars other than X-brand cannot have radial Tyres.



179. Which element although situated outside the Radioactive series, has radioactive isotope ?

- (A) Fluorine
- (B) Iodine
- (C) Chlorine
- (D) All of the above

177. নীচের সূচকগুলির মধ্যে কোনটি মানব উন্নয়ন সূচক গঠনের ক্ষেত্রে ব্যবহৃত হয় না?

- (A) স্বাস্থ্য সূচক
- (B) মূল্য সূচক
- (C) শিক্ষা সূচক
- (D) আয় সূচক



178. এখানে পার্ক করা X-ব্র্যান্ডের সব গাড়িই সাদা।

এগুলোর কয়েকটিতে রেডিয়াল টায়ার আছে।

1986 সালের পরে তৈরি X-ব্র্যান্ডের সব গাড়িতেই রেডিয়াল টায়ার আছে।

সব গাড়িই X-ব্র্যান্ডের নয়।

উপরের বিবৃতিগুলি থেকে নীচের কোন সিদ্ধান্তে উপনীত হওয়া যায়?


- (A) X-ব্র্যান্ড ছাড়া অন্য কোনো গাড়িতে রেডিয়াল টায়ার থাকতে পারে না।
- (B) এখানে শুধুমাত্র সাদা রঙের গাড়িই পার্ক করা আছে।
- (C) এখানে রেডিয়াল টায়ারযুক্ত X-ব্র্যান্ডের কিছু সাদা গাড়ি পার্ক করা আছে।
- (D) X-ব্র্যান্ড ছাড়া অন্য কোনো গাড়িতে রেডিয়াল টায়ার থাকতে পারে না।



179. কোন মৌলটি তেজস্ক্রিয় সিরিজের বাইরে অবস্থিত হওয়া সত্ত্বেও, এর একটি তেজস্ক্রিয় আইসোটোপ রয়েছে?

- (A) ফ্লোরিন
- (B) আয়োডিন
- (C) ক্লোরিন
- (D) উপরের সবকটিই

A-39



CSP/24/II

180. Under what authority the President of United States of America can impose tariffs?

- (A) Congress passed laws allowing the President to impose tariffs unilaterally for national security reasons.
- (B) The Constitution of United States authorizes the President to impose tariff subject to some restrictions.
- (C) The President of United States has sweeping powers to impose tariffs to correct the trade imbalance.
- (D) None of the above



181. Which of the following correctly describes the relationship between the Union and the States under the Constitution of India?

- (A) India follows a completely federal system.
- (B) India follows a completely unitary system.
- (C) India has a quasi-federal system with a strong Centre.
- (D) States have more power than the Centre.



182. 'The Notes on Infant Marriage and Enforced Widowhood' was written by

- (A) Behramji Malabari
- (B) Jyotiba Phule
- (C) Mahadeb Ranade
- (D) Dadoba Pandurang

180. যুক্তরাষ্ট্রের রাষ্ট্রপতি কোন কর্তৃত্ববলে শুল্ক আরোপ করতে পারেন?

- (A) কংগ্রেস এমন আইন পাস করেছে, যা রাষ্ট্রপতিকে জাতীয় নিরাপত্তার স্বার্থে একতরফাভাবে শুল্ক আরোপের অনুমতি দেয়।
- (B) যুক্তরাষ্ট্রের সংবিধান রাষ্ট্রপতিকে কিছু নির্দিষ্ট শর্তসাপেক্ষে শুল্ক আরোপের ক্ষমতা প্রদান করে।
- (C) বাণিজ্যবৈষম্য দূর করার লক্ষে শুল্ক আরোপের ক্ষেত্রে যুক্তরাষ্ট্রের রাষ্ট্রপতির ব্যাপক ক্ষমতা রয়েছে।
- (D) উপরের কোনোটিই নয়



181. নীচের কোনটি ভারতের সংবিধানের অধীনে কেন্দ্র ও রাজ্যগুলির মধ্যকার সম্পর্ককে সঠিকভাবে বর্ণনা করে?

- (A) ভারত একটি সম্পূর্ণ যুক্তরাষ্ট্রীয় ব্যবস্থা অনুসরণ করে।
- (B) ভারত একটি সম্পূর্ণ এককেন্দ্রিক ব্যবস্থা অনুসরণ করে।
- (C) ভারতে একটি শক্তিশালী কেন্দ্র-সহ আধা-যুক্তরাষ্ট্রীয় ব্যবস্থা বিদ্যমান।
- (D) কেন্দ্রের চেয়ে রাজ্যগুলির ক্ষমতা বেশি।


182. 'The Notes on Infant Marriage and Enforced Widowhood' গ্রন্থটি কে রচনা করেছিলেন?

- (A) বেহরামজি মালাবারি
- (B) জ্যোতিবা ফুলে
- (C) মহাদেব রানাডে
- (D) দাদোবা পান্ডুরঙ্গ



Please Turn Over

CSP/24/II



A-40

183. Which of the following statements correctly describes the status of 'Right to Privacy' in India?

- (A) It is a statutory right granted by the Parliament of India.
- (B) It is not recognized under the Constitution of India.
- (C) It is a fundamental right confirmed by the Supreme Court of India.
- (D) None of the above

184. Identify the incorrect statement about ongoing Ukraine-Russia War:

- (A) Russia has occupied Ukrainian territories in the Luhansk and Donetsk regions—also known as the Donbas
- (B) The war started in February, 2022
- (C) Russian invasion of Ukraine was driven by a desire to stop its integration into Western alliances (NATO/EU)
- (D) Crimea has been taken over by Russian forces from Ukraine during the current war



185. The retreating South-West Monsoon brings rain in which part of India?

- (A) North-Western part
- (B) North-Eastern part
- (C) Eastern part of Peninsular India
- (D) Western part of Peninsular India

186. Who wrote the book 'Gandhi versus Lenin'?

- (A) S.A. Dange
- (B) R.B. Lotwala
- (C) R.S. Nimbarkar
- (D) R.V. Nadkarni



183. নীচের কোন বিবৃতিটি ভারতে 'গোপনীয়তার অধিকার'-এর মর্যাদাকে সঠিকভাবে বর্ণনা করে?

- (A) এটি ভারতের সংসদ কর্তৃক প্রদত্ত একটি সংবিধিবদ্ধ অধিকার।
- (B) এটি ভারতের সংবিধানের অধীনে স্বীকৃত নয়।
- (C) এটি ভারতের সুপ্রিম কোর্ট কর্তৃক নিশ্চিতকৃত একটি মৌলিক অধিকার।
- (D) উপরের কোনোটিই নয়



184. চলমান ইউক্রেন-রাশিয়া যুদ্ধ সম্পর্কিত ভুল বিবৃতিটি চিহ্নিত করুন :

- (A) রাশিয়া লুহানস্ক ও দোনেৎস্ক অঞ্চলের (যা 'দোনবাস' নামেও পরিচিত) ইউক্রেনীয় ভূখণ্ড দখল করেছে।
- (B) যুদ্ধটি 2022 সালের ফেব্রুয়ারি মাসে শুরু হয়েছিল।
- (C) ইউক্রেনের ওপর রাশিয়ার আক্রমণের উদ্দেশ্য ছিল দেশটির পশ্চিম জোটসমূহে (NATO/EU) অন্তর্ভুক্ত হওয়া প্রতিহত করা।
- (D) বর্তমান যুদ্ধ-চলাকালীন রাশিয়ান বাহিনী ইউক্রেনের কাছ থেকে ক্রিমিয়া দখল করে নিয়েছে।


185. প্রত্যাবর্তনকারী দক্ষিণ-পশ্চিম মৌসুমি বায়ু ভারতের কোন অংশে বৃষ্টিপাত ঘটায়?

- (A) উত্তর-পশ্চিম অংশ
- (B) উত্তর-পূর্ব অংশ
- (C) উপদ্বীপীয় ভারতের পূর্বাংশ
- (D) উপদ্বীপীয় ভারতের পশ্চিমাংশ



186. 'Gandhi versus Lenin' বইটি কে লিখেছেন?

- (A) এস.এ. ডাঙ্গে
- (B) আর.বি. লোটওয়াল
- (C) আর.এস. নিম্বারকর
- (D) আর.ভি. নাদকার্নি



187. Which one of the following animals is not depicted on the Harappan seal ?

- (A) Bull
- (B) Elephant
- (C) Sheep
- (D) Horse

187. নীচের কোন প্রাণীটির চিত্র হরপ্পা সভ্যতার সিলমোহরে দেখা যায় না ?

- (A) বাঁড়
- (B) হাতি
- (C) ভেড়া
- (D) ঘোড়া



188. Which one of the following is not located in West Bengal?

- (A) Singalila National Park
- (B) Chapramari Wildlife Sanctuary
- (C) Namthing Pokhari Biodiversity Heritage Site
- (D) Manas Biosphere Reserve

188. নীচের কোনটি পশ্চিমবঙ্গে অবস্থিত নয় ?

- (A) সিঙ্গালিলা জাতীয় উদ্যান
- (B) চাপড়ামারি বন্যপ্রাণী অভয়ারণ্য
- (C) নামথিং পোখরি জীববৈচিত্র্য ঐতিহ্য ক্ষেত্র
- (D) মানস জীবমণ্ডল সংরক্ষণ ক্ষেত্র



189. Which Fundamental Rights cannot be suspended during a National Emergency under Article 359?

- (A) Articles 19 and 32
- (B) Articles 14 and 15
- (C) Articles 20 and 21
- (D) All are right.

189. অনুচ্ছেদ 359-এর অধীনে জারি জাতীয় জরুরি অবস্থার সময় কোন মৌলিক অধিকারগুলি স্থগিত করা যায় না ?

- (A) অনুচ্ছেদ 19 এবং 32
- (B) অনুচ্ছেদ 14 এবং 15
- (C) অনুচ্ছেদ 20 এবং 21
- (D) সবকটিই সঠিক।



190. Which of the following Indian states does not share the boundary with West Bengal?


- (A) Sikkim
- (B) Jharkhand
- (C) Chhattisgarh
- (D) Assam



190. নীচের কোন ভারতীয় রাজ্যটির সীমানা পশ্চিমবঙ্গের সাথে যুক্ত নয় ?

- (A) সিকিম
- (B) ঝাড়খণ্ড
- (C) ছত্তিশগড়
- (D) আসাম

CSP/24/II



A-42

191. Resistance of a uniform metal wire of length 1m and cross-sectional area  $1\text{cm}^2$  is  $10\Omega$ . Resistivity of the wire is

- (A)  $\frac{1}{10} \Omega\text{cm}$   
 (B)  $1 \Omega\text{cm}$   
 (C)  $10 \Omega\text{cm}$   
 (D)  $100 \Omega\text{cm}$

192. With reference to Cyclone which of the following statements is/are correct?

- (I) The formation of a cyclone is caused by difference in air pressure.  
 (II) Most of the cyclones develop over warm ocean waters in the tropical regions.  
 (III) The Eye of the Cyclone has dense cloud cover and the lowest temperature.

Select the answer using the codes given below:

- (A) (II) only  
 (B) (I), (II) and (III)  
 (C) (II) and (III)  
 (D) (III) only



193. Which of the following is a reason that driving rapid growth of data centers in India?

- (A) Lax environmental enforcement  
 (B) Strict data localization regulations (DPDP Act 2023)  
 (C) Cheap electricity  
 (D) Deterioration in Indo-US relation

194. The leader of the Tana Bhagat movement was

- (A) Sidho Majhi  
 (B) Birsa Munda  
 (C) Jatra Oraon  
 (D) Bhai Mukund



191. 1m লম্বা এবং  $1\text{cm}^2$  প্রস্থচ্ছেদের একটি ধাতব তারের রোধ  $10\Omega$ । তারটির রোধক হল

- (A)  $\frac{1}{10} \Omega\text{cm}$   
 (B)  $1 \Omega\text{cm}$   
 (C)  $10 \Omega\text{cm}$   
 (D)  $100 \Omega\text{cm}$



192. ঘূর্ণিঝড় প্রসঙ্গে নীচের কোন বিবৃতি/বিবৃতিগুলি সঠিক?

- (I) বায়ুচাপের পার্থক্যের কারণে ঘূর্ণিঝড়ের সৃষ্টি হয়।  
 (II) অধিকাংশ ঘূর্ণিঝড় ক্রান্তীয় অঞ্চলের উষ্ণ সমুদ্র জলের ওপর সৃষ্টি হয়।  
 (III) ঘূর্ণিঝড়ের চোখ (Eye)-এ ঘন মেঘের আন্তরণ থাকে এবং তাপমাত্রা সর্বনিম্ন হয়।

নীচে প্রদত্ত কোড ব্যবহার করে সঠিক উত্তরটি নির্বাচন

করুন :

- (A) শুধুমাত্র (II)  
 (B) (I), (II) এবং (III)  
 (C) (II) এবং (III)  
 (D) শুধুমাত্র (III)


193. নীচের কোনটি ভারতে ডেটা সেন্টারগুলোর দ্রুত বৃদ্ধির একটি কারণ?

- (A) পরিবেশগত বিধিবিধানের শিথিল প্রয়োগ  
 (B) কঠোর ডেটা স্থানীয়করণ বিধিমালা (DPDP আইন 2023)  
 (C) সস্তা বিদ্যুৎ  
 (D) ভারত-মার্কিন সম্পর্কের অবনতি



194. তানা ভগত আন্দোলনের নেতা ছিলেন

- (A) সিধু মাঝি  
 (B) বিরসা মুন্ডা  
 (C) যাত্রা ওরাওঁ  
 (D) ভাই মুকুন্দ



195. Which of the following ape(s) is/are genetically closest to the modern humans (*Homo sapiens*)?

- (A) Chimpanzee and Bonobo  
(B) Gorilla  
(C) Orangutan  
(D) Gibbon



196. "Having four equal sides is a necessary condition for a quadrilateral to be a square, but it is not sufficient."

This means:

- (A) A quadrilateral cannot be square unless it has four equal sides, but having four equal sides doesn't guarantee a quadrilateral to be a square.  
(B) No quadrilateral with four equal sides is a square.  
(C) For a quadrilateral to be a square, all four sides cannot be equal.  
(D) In Mathematics, equality of sides is unrelated to the condition for a quadrilateral to be a square.



197. Banu Mushtaq and Deepa Bhasini won 'International Booker Prize' for 'Heart Lamp' in 2025 while David Szalay has won the Booker Prize in 2025 for his novel 'Flesh'. What is the difference between the two prizes?

- (A) They are the same.  
(B) The nomenclature changed since 2011.  
(C) Booker Prize is for the books written in English while 'International Booker Prize' is for the books written in other languages and translated in English.  
(D) 'International Booker Prize' is given to Writers from Asia and Africa.

195. নিম্নলিখিত বনমানুষগুলির মধ্যে কোনটি/কোনগুলি আধুনিক মানুষের (হোমো সেপিয়েন্স) জিনগতভাবে সবচেয়ে নিকটতম?

- (A) সিম্পানজি ও বোনোবো  
(B) গরিলা  
(C) ওরাংওটাং  
(D) গিবন



196. "একটি চতুর্ভুজের বর্গক্ষেত্র হওয়ার জন্য চারটি সমান বাহু থাকা একটি প্রয়োজনীয় শর্ত, কিন্তু এটি যথেষ্ট নয়।"


এর অর্থ হল :

- (A) চারটি সমান বাহু না থাকলে কোনো চতুর্ভুজ বর্গক্ষেত্র হতে পারে না, তবে চারটি সমান বাহু থাকা মানেই যে চতুর্ভুজটি বর্গক্ষেত্র হবে— এমন কোনো নিশ্চয়তা নেই।  
(B) চারটি সমান বাহুবিশিষ্ট কোনো চতুর্ভুজই বর্গক্ষেত্র নয়।  
(C) একটি চতুর্ভুজের বর্গক্ষেত্র হওয়ার জন্য এর চারটি বাহু সমান হতে পারে না।  
(D) গণিতশাস্ত্রে বাহুগুলির সমান হওয়ার বিষয়টি একটি চতুর্ভুজের বর্গক্ষেত্র হওয়ার শর্তের সাথে সম্পর্কহীন।

197. বানু মুস্তাক এবং দীপা ভাস্তি আন্তর্জাতিক বুক প্রসঙ্গ পুরস্কার পেয়েছেন 'হার্ট ল্যাম্প' বইয়ের জন্য 2025 সালে। এদিকে ডেভিড স্যালয় 2025 সালের বুক প্রসঙ্গ পুরস্কার পান তার 'ফ্লেশ' উপন্যাসের জন্য। এই দুটি পুরস্কারের মধ্যে পার্থক্য কী?

- (A) কোনো পার্থক্য নাই।  
(B) 2011-র পর থেকে পুরস্কারের কেবল নাম বদল হয়েছে।  
(C) 'বুক প্রসঙ্গ পুরস্কার' কেবলমাত্র ইংরেজিতে লেখা বইয়ের জন্য দেওয়া হয়। 'আন্তর্জাতিক বুক প্রসঙ্গ পুরস্কার' দেওয়া হয় যেকোনো ভাষায় লেখা বইয়ের জন্য এবং ইংরেজিতে যার অনুবাদ হয়েছে।  
(D) কেবলমাত্র এশিয়া আর আফ্রিকার লেখকদেরই 'আন্তর্জাতিক বুক প্রসঙ্গ পুরস্কার' দেওয়া হয়।

CSP/24/II



A-44

198. Dependency Ratio of a country is

- (A) Ratio of Imports to Gross Domestic Product.
- (B) Ratio of Foreign Direct Investment to Total Investment.
- (C) Ratio of Non-working Age Population to Working Age Population.
- (D) Ratio of Government Expenditure to National Income.

199. A group of 630 children seated in rows for a group photo session. Each row contains three less children than the row in front of it. Which one of the following number of rows is not possible?

- (A) 3
- (B) 4
- (C) 5
- (D) 6



200. "If a person is highly educated, then he earns well."

— Then which of the following options is necessarily correct?

- (A) Suman earns well, so he is highly educated.
- (B) Illiterate people cannot earn well.
- (C) All persons with good income must be highly educated.
- (D) All persons with high education has good earnings.



198. কোনো দেশের নির্ভরশীলতার অনুপাত হল

- (A) আমদানির সাথে মোট অভ্যন্তরীণ উৎপাদনের অনুপাত।
- (B) প্রত্যক্ষ বিদেশি বিনিয়োগের সাথে মোট বিনিয়োগের অনুপাত।
- (C) কর্মক্ষম নয় এমন জনসংখ্যার সাথে কর্মক্ষম জনসংখ্যার অনুপাত।
- (D) সরকারি ব্যয়ের সাথে জাতীয় আয়ের অনুপাত।

199. একটি দলগত ছবি তোলার জন্য 630 জন শিশুর একটি দলকে সারিবদ্ধভাবে বসানো হল। প্রতিটি সারিতে তার ঠিক সামনের সারিটির তুলনায় তিনজন শিশু কম রয়েছে। নীচের সারির সংখ্যাগুলির মধ্যে কোনটিতে এমন বিন্যাস সম্ভব নয়?

- (A) 3
- (B) 4
- (C) 5
- (D) 6



200. "যদি কোনো ব্যক্তি উচ্চশিক্ষিত হন, তবে তিনি ভালো উপার্জন করেন।"

— তাহলে নীচের বিকল্পগুলির মধ্যে কোনটি নিশ্চিতভাবে সঠিক?

- (A) সুমন ভালো উপার্জন করেন, তাই তিনি উচ্চশিক্ষিত।
- (B) নিরক্ষর ব্যক্তির ভালো উপার্জন করতে পারেন না।
- (C) ভালো আয়ের অধিকারী সকল ব্যক্তি অবশ্যই উচ্চশিক্ষিত হন।
- (D) উচ্চশিক্ষিত সকল ব্যক্তিরই ভালো উপার্জন থাকে।

