

|

TSPSC AEE

**Previous Year Paper
(GS & GA) Paper-I
08 May 2023**

Adda247

**Test
Prime**

By Adda247

ALL EXAMS, ONE SUBSCRIPTION



Test. Analyze. Improve. Repeat.



Don't just *prepare*. Perform.

Test Prime — built only for mock tests.



1,50,000+
Mock Tests



25,000+
Previous Year Papers



800+
Exam Covered



500% Refund
on Selection



5 lakh+
Free Quizzes



Daily
Free PDFs



Job Alerts
Stay Updated

- Multilingual
- Detailed Solution
- Strong and Weak Areas



**All India
Rankings**

Compete with lakhs.
Rank. Improve. Repeat.



← Adda247 test prime

Rating ▾

Editors' choice

New



Adda247 Test Prime
Adda Education • Education
Installed



DOWNLOAD THE APP



TCSiON CAE

Notations :

- 1.Options shown in green color and with ✓ icon are correct.
- 2.Options shown in red color and with ✗ icon are incorrect.

Question Paper Name :	PC22121GENERALSTUDIESANDGENERALABILITIESAAEE2212 08th May 2023 Shift 1
Subject Name :	PC22121 GENERAL STUDIES AND GENERAL ABILITIES AAEE2212
Actual Answer Key :	Yes
Calculator :	None
Magnifying Glass Required? :	No
Ruler Required? :	No
Eraser Required? :	No
Scratch Pad Required? :	No
Rough Sketch/Notepad Required? :	No
Protractor Required? :	No
Show Watermark on Console? :	Yes
Highlighter :	No
Auto Save on Console?	Yes
Change Font Color :	No
Change Background Color :	No
Change Theme :	No
Help Button :	No
Show Reports :	No
Show Progress Bar :	No
Is this Group for Examiner? :	No

Examiner permission : Cant View

Show Progress Bar? : No

Enable Mark as Answered Mark for
Review and Clear Response : Yes

Maximum Instruction Time : 0

Is Section Default? : null

Question Number : 1 Question Id : 630680218413 Question Type : MCQ Option Shuffling : Yes

Is Question Mandatory : No Calculator : None Response Time : N.A Think Time : N.A

Minimum Instruction Time : 0

Correct Marks : 1 Wrong Marks : 0

In October 2022, who became the prime minister of the United Kingdom by replacing Liz Truss?

Options :

1. ✘ Kemi Badenoch

2. ✘ Penny Mordaunt

3. ✘ Boris Johnson

4. ✔ Rishi Sunak

Question Number : 1 Question Id : 630680218413 Question Type : MCQ Option Shuffling : Yes

Is Question Mandatory : No Calculator : None Response Time : N.A Think Time : N.A

Minimum Instruction Time : 0

Correct Marks : 1 Wrong Marks : 0

అక్టోబర్ 2022లో, లిజ్ ట్రస్ స్థానంలో యునైటెడ్ కింగ్డమ్ ప్రధానమంత్రి ఎవరు అయ్యారు?

1. ✖ కెమి బాడెనోచ్
2. ✖ పెన్నీ మోర్గాంట్
3. ✖ బోరిస్ జాన్సన్
4. ✔ రిషి సునక్

Question Number : 2 Question Id : 630680218414 Question Type : MCQ Option Shuffling : Yes
Is Question Mandatory : No Calculator : None Response Time : N.A Think Time : N.A
Minimum Instruction Time : 0

Correct Marks : 1 Wrong Marks : 0

What is the theme of the World Environment Day 2023?

Options :

1. ✖ Many Species, One Planet, One Future
2. ✔ Solutions to Plastic Pollution
3. ✖ Connecting People to Nature
4. ✖ Ecosystem Restoration

Question Number : 2 Question Id : 630680218414 Question Type : MCQ Option Shuffling : Yes
Is Question Mandatory : No Calculator : None Response Time : N.A Think Time : N.A
Minimum Instruction Time : 0

Correct Marks : 1 Wrong Marks : 0

2023 ప్రపంచ పర్యావరణ దినోత్సవం యొక్క థీమ్ ఏమిటి?

Options :

1. ✘ అనేక జాతులు, ఒక గ్రహం, ఒక భవిష్యత్తు
2. ✔ ప్లాస్టిక్ కాలుష్యానికి పరిష్కారాలు
3. ✘ ప్రజలను ప్రకృతికి అనుసంధానించడం
4. ✘ పర్యావరణ వ్యవస్థ పునరుద్ధరణ

Question Number : 3 Question Id : 630680218415 Question Type : MCQ Option Shuffling : Yes

Is Question Mandatory : No Calculator : None Response Time : N.A Think Time : N.A

Minimum Instruction Time : 0

Correct Marks : 1 Wrong Marks : 0

Which of the following statements is correct regarding the United Nations Statistical Commission?

- I. In April 2023, India has been elected to the United Nations Statistical Commission.
- II. India has been elected for a two-year term beginning January 1, 2024.

Options :

1. ✔ Only I
2. ✘ Only II
3. ✘ Both I and II
4. ✘ Neither I nor II

Question Number : 3 Question Id : 630680218415 Question Type : MCQ Option Shuffling : Yes
Is Question Mandatory : No Calculator : None Response Time : N.A Think Time : N.A
Minimum Instruction Time : 0

Correct Marks : 1 Wrong Marks : 0

యునైటెడ్ నేషన్స్ స్టాటిస్టికల్ కమిషన్ కు సంబంధించి ఈ క్రింది ప్రకటనల్లో సరైనది ఏది?

- I. ఏప్రిల్ 2023లో, భారతదేశం ఐక్యరాజ్యసమితి గణాంక కమిషన్ కు ఎన్నికైంది.
- II. భారతదేశం జనవరి 1, 2024 నుండి రెండేళ్ల కాలానికి ఎన్నికైంది.

Options :

1. ✓ I మాత్రమే
2. ✘ II మాత్రమే
3. ✘ I మరియు II రెండూ
4. ✘ I లేదా II ఏదీ కాదు

Question Number : 4 Question Id : 630680218416 Question Type : MCQ Option Shuffling : Yes
Is Question Mandatory : No Calculator : None Response Time : N.A Think Time : N.A
Minimum Instruction Time : 0

Correct Marks : 1 Wrong Marks : 0

Which of the following statements is correct regarding the Asian Infrastructure Investment Bank (AIIB)?

- I. In January 2022, former RBI governor Urjit Patel was appointed as vice president of the AIIB.
- II. In November 2022, Afghanistan was removed as a member of the AIIB.
- III. In March 2023, Japan became the biggest shareholder in the AIIB.

Options :

1. ✓ Only I
2. ✘ Only I and II
3. ✘ Only II and III
4. ✘ Only III

Question Number : 4 Question Id : 630680218416 Question Type : MCQ Option Shuffling : Yes
Is Question Mandatory : No Calculator : None Response Time : N.A Think Time : N.A
Minimum Instruction Time : 0

Correct Marks : 1 Wrong Marks : 0

ఏషియన్ ఇన్ఫ్రాస్ట్రక్చర్ ఇన్వెస్ట్మెంట్ బ్యాంక్ (AIIB)కు సంబంధించి ఈ క్రింది ప్రకటనల్లో సరైనది ఏది?

- I. జనవరి 2022లో, మాజీ RBI గవర్నర్ ఉర్షిత్ పటేల్ AIIB వైస్ ప్రెసిడెంట్‌గా నియమితులయ్యారు.
- II. నవంబర్ 2022లో, AIIB సభ్యత్వం నుండి ఆఫ్ఫిసియల్ తొలగించబడింది.
- III. మార్చి 2023లో, జపాన్ AIIBలో అతిపెద్ద వాటాదారుగా మారింది.

Options :

1. ✓ I మాత్రమే
2. ✘ I మరియు II మాత్రమే
3. ✘ II మరియు III మాత్రమే
4. ✘ III మాత్రమే

Question Number : 5 Question Id : 630680218417 Question Type : MCQ Option Shuffling : Yes
Is Question Mandatory : No Calculator : None Response Time : N.A Think Time : N.A
Minimum Instruction Time : 0

Correct Marks : 1 Wrong Marks : 0

Which of the following pairs is correct regarding West Asian Quad?

Options :

1. ✓ I2U2 – India, Israel, the UAE, and the USA
2. ✗ I2U2 – India, Israel, the United Kingdom, and the USA
3. ✗ I2U2 – India, Indonesia, the United Kingdom, and the USA
4. ✗ I2U2 – India, Indonesia, the United Kingdom, and the UAE

Question Number : 5 Question Id : 630680218417 Question Type : MCQ Option Shuffling : Yes
Is Question Mandatory : No Calculator : None Response Time : N.A Think Time : N.A
Minimum Instruction Time : 0

Correct Marks : 1 Wrong Marks : 0

వెస్ట్ ఆసియన్ క్వార్టెట్ కి సంబంధించి ఈ క్రింది జంటలలో ఏది సరైనది?

Options :

1. ✓ I2U2 - భారతదేశం, ఇజ్రాయెల్, UAE మరియు USA
2. ✗ I2U2 - భారతదేశం, ఇజ్రాయెల్, యునైటెడ్ కింగ్డమ్ మరియు USA
3. ✗ I2U2 - భారతదేశం, ఇండోనేషియా, యునైటెడ్ కింగ్డమ్ మరియు USA
4. ✗ I2U2 - భారతదేశం, ఇండోనేషియా, యునైటెడ్ కింగ్డమ్ మరియు UAE

Question Number : 6 Question Id : 630680218418 Question Type : MCQ Option Shuffling : Yes

Is Question Mandatory : No Calculator : None Response Time : N.A Think Time : N.A

Minimum Instruction Time : 0

Correct Marks : 1 Wrong Marks : 0

Which of the following is the correct descending order of the share of given countries in India's Inward remittances for 2020-21?

Options :

1. ✘ United Arab Emirates, Singapore, United Kingdom
2. ✘ United Kingdom, Singapore, United Arab Emirates
3. ✔ United Arab Emirates, United Kingdom, Singapore
4. ✘ Singapore, United Kingdom, United Arab Emirates

Question Number : 6 Question Id : 630680218418 Question Type : MCQ Option Shuffling : Yes

Is Question Mandatory : No Calculator : None Response Time : N.A Think Time : N.A

Minimum Instruction Time : 0

Correct Marks : 1 Wrong Marks : 0

ఈ క్రింది వాటిలో 2020-21 కోసం భారతదేశం యొక్క ఇన్వార్డ్ రెమిటెన్స్‌లలో ఇచ్చిన దేశాల వాటా యొక్క సరైన అవరోహణ క్రమం ఏది?

Options :

1. ✘ యునైటెడ్ అరబ్ ఎమిరేట్స్, సింగపూర్, యునైటెడ్ కింగ్‌డమ్
2. ✘ యునైటెడ్ కింగ్‌డమ్, సింగపూర్, యునైటెడ్ అరబ్ ఎమిరేట్స్

3. ✓ యునైటెడ్ అరబ్ ఎమిరేట్స్, యునైటెడ్ కింగ్డమ్, సింగపూర్

4. ✘ సింగపూర్, యునైటెడ్ కింగ్డమ్, యునైటెడ్ అరబ్ ఎమిరేట్స్

Question Number : 7 Question Id : 630680218419 Question Type : MCQ Option Shuffling : Yes

Is Question Mandatory : No Calculator : None Response Time : N.A Think Time : N.A

Minimum Instruction Time : 0

Correct Marks : 1 Wrong Marks : 0

With respect to Indian defence, what is BrahMos?

Options :

1. ✘ Indigenous Tank

2. ✓ Missile

3. ✘ Nuclear submarine

4. ✘ Bulletproof jacket

Question Number : 7 Question Id : 630680218419 Question Type : MCQ Option Shuffling : Yes

Is Question Mandatory : No Calculator : None Response Time : N.A Think Time : N.A

Minimum Instruction Time : 0

Correct Marks : 1 Wrong Marks : 0

భారత రక్షణకు సంబంధించి, బ్రహ్మోస్ అంటే ఏమిటి?

Options :

1. ✘ స్వదేశీ ట్యాంక్

2. ✓ క్షిపణి

3. ✘ అణు జలాంతర్గామి

4. ✘ బుల్లెట్ ప్రూఫ్ జాకెట్

Question Number : 8 Question Id : 630680218420 Question Type : MCQ Option Shuffling : Yes

Is Question Mandatory : No Calculator : None Response Time : N.A Think Time : N.A

Minimum Instruction Time : 0

Correct Marks : 1 Wrong Marks : 0

What is the theme of the 'National Science Day 2023'?

Options :

1. ✘ Radiation and Radioisotopes in Healthcare
2. ✓ Global Science for Global Well being
3. ✘ Science for the People and the People for Science
4. ✘ Science & Technology for Specially abled Persons

Question Number : 8 Question Id : 630680218420 Question Type : MCQ Option Shuffling : Yes

Is Question Mandatory : No Calculator : None Response Time : N.A Think Time : N.A

Minimum Instruction Time : 0

Correct Marks : 1 Wrong Marks : 0

'నేషనల్ సైన్స్ డే 2023' యొక్క థీమ్ ఏమిటి?

Options :

1. ✘ హెల్త్ కేర్ లో రేడియేషన్ మరియు రేడియోఐసోటోప్ లు
2. ✔ ప్రపంచ శ్రేయస్సు కోసం గ్లోబల్ సైన్స్
3. ✘ సైన్స్ ఫర్ ది పీపుల్ అండ్ ది పీపుల్ ఫర్ సైన్స్
4. ✘ విభిన్న సామర్థ్యం ఉన్న వ్యక్తుల కోసం సైన్స్ & టెక్నాలజీ

Question Number : 9 Question Id : 630680218421 Question Type : MCQ Option Shuffling : Yes

Is Question Mandatory : No Calculator : None Response Time : N.A Think Time : N.A

Minimum Instruction Time : 0

Correct Marks : 1 Wrong Marks : 0

Which of the following statements is correct regarding India Science, Technology and Engineering facilities Map (I-STEM)?

I. It has organized the Tech Management Conclave in 2023 at the Indian Institute of Science (IISc).

II. The theme of the I-STEM initiative is linking researchers and resources.

Options :

1. ✘ Only I
2. ✘ Only II
3. ✔ Both I and II
4. ✘ Neither I nor II

Question Number : 9 Question Id : 630680218421 Question Type : MCQ Option Shuffling : Yes

Is Question Mandatory : No Calculator : None Response Time : N.A Think Time : N.A

Minimum Instruction Time : 0

Correct Marks : 1 Wrong Marks : 0

భారతదేశ సైన్స్, టెక్నాలజీ మరియు ఇంజనీరింగ్ సౌకర్యాల మ్యాప్ (I-STEM)కి సంబంధించి క్రింది ప్రకటనలలో ఏది సరైనది?

I. ఇది 2023లో ఇండియన్ ఇన్స్టిట్యూట్ ఆఫ్ సైన్స్ (IISc)లో టెక్ మేనేజ్‌మెంట్ కాంక్లెవ్‌ను నిర్వహించింది.

II. I-STEM యొక్క ముఖ్య ధీమ్ పరిశోధకులు మరియు వనరులను అనుసంధానించడం.

Options :

1. ✘ I మాత్రమే

2. ✘ II మాత్రమే

3. ✔ I మరియు II రెండూ

4. ✘ I లేదా II ఏదీ కాదు

Question Number : 10 Question Id : 630680218422 Question Type : MCQ Option Shuffling : Yes

Is Question Mandatory : No Calculator : None Response Time : N.A Think Time : N.A

Minimum Instruction Time : 0

Correct Marks : 1 Wrong Marks : 0

Which of the following statements is correct regarding ADITYA-L1 mission?

I. Aditya L1 shall be the second space based Indian mission to study the Sun.

II. The spacecraft shall be placed in a halo orbit around the Lagrange point 1 of the Sun-Earth system.

III. One of the objectives of this mission is to study physics of solar corona and its heating mechanism.

Options :

1. ✘ Only I
2. ✘ Only II
3. ✔ Only II and III
4. ✘ Only I and III

Question Number : 10 Question Id : 630680218422 Question Type : MCQ Option Shuffling : Yes
Is Question Mandatory : No Calculator : None Response Time : N.A Think Time : N.A
Minimum Instruction Time : 0

Correct Marks : 1 Wrong Marks : 0

ADITYA-L1 మిషన్‌కు సంబంధించి ఈ క్రింది ప్రకటనలలో ఏది సరైనది?

- I. ఆదిత్య L1 అనేది సూర్యుడి గురించి అధ్యయనం చేసే రెండవ అంతరిక్ష ఆధారిత భారతీయ మిషన్.
- II. అంతరిక్ష నౌకను సూర్య-భూమి వ్యవస్థ యొక్క లాగ్రాంజ్ పాయింట్ 1 చుట్టూ ఒక హలో కక్ష్యలో ఉంచాలి.
- III. ఈ మిషన్ యొక్క లక్ష్యాలలో ఒకటి సౌర కరోనా యొక్క భౌతిక శాస్త్రాన్ని మరియు దాని తాపన యంత్రాంగాన్ని అధ్యయనం చేయడం.

Options :

1. ✘ I మాత్రమే
2. ✘ II మాత్రమే
3. ✔ II మరియు III మాత్రమే
4. ✘ I మరియు III మాత్రమే

Question Number : 11 Question Id : 630680218423 Question Type : MCQ Option Shuffling : Yes

Is Question Mandatory : No Calculator : None Response Time : N.A Think Time : N.A

Minimum Instruction Time : 0

Correct Marks : 1 Wrong Marks : 0

As per the fifth World Air Quality Report prepared by IQAir based on the annual average level of pollutant PM2.5 in air, Delhi is the _____ polluted city in the World.

Options :

1. ✘ third most
2. ✔ fourth most
3. ✘ second most
4. ✘ most

Question Number : 11 Question Id : 630680218423 Question Type : MCQ Option Shuffling : Yes

Is Question Mandatory : No Calculator : None Response Time : N.A Think Time : N.A

Minimum Instruction Time : 0

Correct Marks : 1 Wrong Marks : 0

IQAir రూపొందించిన ఐదవ ప్రపంచ వాయు నాణ్యత నివేదిక ప్రకారం, గాలిలో కాలుష్యకారకం PM2.5 యొక్క వార్షిక సగటు స్థాయి ఆధారంగా, ఢిల్లీ ప్రపంచంలో _____ కాలుష్య నగరంగా ఉంది.

Options :

1. ✘ మూడవ
2. ✔ నాల్గవ

3. ✖ రెండవ

4. ✖ అత్యంత

Question Number : 12 Question Id : 630680218424 Question Type : MCQ Option Shuffling : Yes

Is Question Mandatory : No Calculator : None Response Time : N.A Think Time : N.A

Minimum Instruction Time : 0

Correct Marks : 1 Wrong Marks : 0

Which of the following statements is correct regarding World Day of Social Justice?

- I. Every year, February 20 marks the World Day of Social Justice across the globe.
- II. The main goal of commemorating this day is to raise a voice against social injustice and to bring various communities together.
- III. The theme for 2023 was "Overcoming Barriers and Unleashing Opportunities for Social Justice".

Options :

1. ✖ Only I and II

2. ✖ Only II and III

3. ✖ Only I and III

4. ✔ I, II and III

Question Number : 12 Question Id : 630680218424 Question Type : MCQ Option Shuffling : Yes

Is Question Mandatory : No Calculator : None Response Time : N.A Think Time : N.A

Minimum Instruction Time : 0

Correct Marks : 1 Wrong Marks : 0

ప్రపంచ సామాజిక న్యాయ దినోత్సవానికి సంబంధించి ఈ క్రింది ప్రకటనల్లో సరైనది ఏది?

- I. ప్రతి సంవత్సరం, ఫిబ్రవరి 20న ప్రపంచవ్యాప్తంగా ప్రపంచ సామాజిక న్యాయ దినోత్సవాన్ని జరుపుకుంటారు.
- II. సామాజిక అన్యాయానికి వ్యతిరేకంగా గళం విప్పడం మరియు వివిధ సంఘాలను ఏకతాటిపైకి తీసుకురావడం ఈ దినోత్సవాన్ని జరుపుకోవడం యొక్క ప్రధాన లక్ష్యం.
- III. 2023 యొక్క ఉద్దేశం "అడ్డంకులను అధిగమించడం మరియు సామాజిక న్యాయం కోసం అవకాశాలను వదులుకోవడం".

Options :

1. ✘ I మరియు II మాత్రమే
2. ✘ II మరియు III మాత్రమే
3. ✘ I మరియు III మాత్రమే
4. ✔ I, II మరియు III



Question Number : 13 Question Id : 630680218425 Question Type : MCQ Option Shuffling : Yes

Is Question Mandatory : No Calculator : None Response Time : N.A Think Time : N.A

Minimum Instruction Time : 0

Correct Marks : 1 Wrong Marks : 0

Which of the following statement is correct regarding All India Survey on Higher Education (AISHE) 2020-2021 released in January 2023?

- I. The total enrollment in higher education has increased to nearly 4.14 crore in 2020-21.
- II. During 2020-21, the number of universities has increased by 70, and the number of colleges has increased by 1,453.

Options :

1. ✘ Only I

2. ✘ Only II

3. ✔ Both I and II

4. ✘ Neither I nor II

Question Number : 13 Question Id : 630680218425 Question Type : MCQ Option Shuffling : Yes

Is Question Mandatory : No Calculator : None Response Time : N.A Think Time : N.A

Minimum Instruction Time : 0

Correct Marks : 1 Wrong Marks : 0

జనవరి 2023లో విడుదల చేసిన ఆల్ ఇండియా సర్వే ఆన్ హయ్యర్ ఎడ్యుకేషన్ (AISHE) 2020-2021కి సంబంధించి ఈ క్రింది ప్రకటనల్లో సరైనది ఏది?

I. 2020-21లో ఉన్నత విద్యలో మొత్తం నమోదు సంఖ్య దాదాపు 4.14 కోట్లకు పెరిగింది.

II. 2020-21లో, విశ్వవిద్యాలయాల సంఖ్య 70కి పెరిగింది మరియు కళాశాలల సంఖ్య 1,453కు పెరిగింది.

Options :

1. ✘ I మాత్రమే

2. ✘ II మాత్రమే

3. ✔ I మరియు II రెండూ

4. ✘ I లేదా II ఏదీ కాదు

Question Number : 14 Question Id : 630680218426 Question Type : MCQ Option Shuffling : Yes

Is Question Mandatory : No Calculator : None Response Time : N.A Think Time : N.A

Minimum Instruction Time : 0

Correct Marks : 1 Wrong Marks : 0

In January 2023, Jal Jeevan Mission (JJM) has achieved _____ crores tap connections.

Options :

1. ✓ 11

2. ✘ 8

3. ✘ 18

4. ✘ 6

Question Number : 14 Question Id : 630680218426 Question Type : MCQ Option Shuffling : Yes

Is Question Mandatory : No Calculator : None Response Time : N.A Think Time : N.A

Minimum Instruction Time : 0

Correct Marks : 1 Wrong Marks : 0

జనవరి 2023లో, జల్ జీవన్ మిషన్ (JJM) _____ కోట్ల కుళాయి కనెక్షన్లను అందించింది.

Options :

1. ✓ 11

2. ✘ 8

3. ✘ 18

4. ✘ 6

Question Number : 15 Question Id : 630680218427 Question Type : MCQ Option Shuffling : Yes

Is Question Mandatory : No Calculator : None Response Time : N.A Think Time : N.A

Minimum Instruction Time : 0

Correct Marks : 1 Wrong Marks : 0

ORS solutions are used to treat dehydration caused by diarrhoea, What does ORS stands for in ORS solutions?

Options :

1. ✘ Organic Rehydration Substances
2. ✘ Oral Rehydration Substances
3. ✔ Oral Rehydration Salts
4. ✘ Organic Rehydration Salts

Question Number : 15 Question Id : 630680218427 Question Type : MCQ Option Shuffling : Yes

Is Question Mandatory : No Calculator : None Response Time : N.A Think Time : N.A

Minimum Instruction Time : 0

Correct Marks : 1 Wrong Marks : 0

డయేరియా వల్ల కలిగే నిర్జలీకరణానికి చికిత్స చేయడానికి ORS సొల్యూషన్స్ ఉపయోగిస్తారు, ORS సొల్యూషన్స్లో ORS అంటే ఏమిటి?

Options :

1. ✘ ఆర్గానిక్ రీహైడ్రేషన్ సబ్స్టాన్సెస్ (Organic Rehydration Substances)
2. ✘ ఓరల్ రీహైడ్రేషన్ సబ్స్టాన్సెస్ (Oral Rehydration Substances)
3. ✔ ఓరల్ రీహైడ్రేషన్ సాల్ట్స్ (Oral Rehydration Salts)
4. ✘ ఆర్గానిక్ రీహైడ్రేషన్ సాల్ట్స్ (Organic Rehydration Salts)

Question Number : 16 Question Id : 630680218428 Question Type : MCQ Option Shuffling : Yes

Is Question Mandatory : No Calculator : None Response Time : N.A Think Time : N.A

Minimum Instruction Time : 0

Correct Marks : 1 Wrong Marks : 0

Which type of vehicles is capable of running on 100 per cent petrol or 100 per cent bio-ethanol or a combination of both?

Options :

1. ✓ Flex fuel vehicles

2. ✘ Fuel Cell Vehicles

3. ✘ Propane Vehicles

4. ✘ Natural Gas Vehicles

Question Number : 16 Question Id : 630680218428 Question Type : MCQ Option Shuffling : Yes

Is Question Mandatory : No Calculator : None Response Time : N.A Think Time : N.A

Minimum Instruction Time : 0

Correct Marks : 1 Wrong Marks : 0

ఏ రకమైన వాహనాలు 100 శాతం పెట్రోల్ లేదా 100 శాతం బయో-ఇథనాల్ లేదా రెండింటి కలయికతో నడిచే సామర్థ్యాన్ని కలిగి ఉంటాయి?

Options :

1. ✓ ఫ్లెక్స్ ఇంధన వాహనాలు

2. ✘ ఫ్యూయల్ సెల్ వాహనాలు

3. ✖ ప్రొపేన్ వాహనాలు

4. ✖ నాచురల్ గ్యాస్ వాహనాలు

Question Number : 17 Question Id : 630680218429 Question Type : MCQ Option Shuffling : Yes

Is Question Mandatory : No Calculator : None Response Time : N.A Think Time : N.A

Minimum Instruction Time : 0

Correct Marks : 1 Wrong Marks : 0

The 2021 Nobel Prize in Physiology or Medicine is given for the _____.

Options :

1. ✓ discovery of receptors for temperature and touch

2. ✖ discovery of genome editing method

3. ✖ discovery of cause of covid-19 mutation

4. ✖ discovery of new variety of GM cotton crop

Question Number : 17 Question Id : 630680218429 Question Type : MCQ Option Shuffling : Yes

Is Question Mandatory : No Calculator : None Response Time : N.A Think Time : N.A

Minimum Instruction Time : 0

Correct Marks : 1 Wrong Marks : 0

ఫిజియాలజీ లేదా మెడిసిన్లో 2021 నోబెల్ బహుమతి _____ కోసం ఇవ్వబడింది.

Options :

1. ✓ ఉష్ణోగ్రత మరియు స్పర్శ కోసం గ్రాహకాల ఆవిష్కరణ

2. ✖ జన్యు సవరణ పద్ధతి యొక్క ఆవిష్కరణ
3. ✖ కోవిడ్-19 మ్యూటేషన్ కారణాన్ని కనుగొనడం
4. ✖ కొత్త రకం GM పత్తి పంట ఆవిష్కరణ

Question Number : 18 Question Id : 630680218430 Question Type : MCQ Option Shuffling : Yes

Is Question Mandatory : No Calculator : None Response Time : N.A Think Time : N.A

Minimum Instruction Time : 0

Correct Marks : 1 Wrong Marks : 0

Which of the following statements is correct regarding metals?

- I. Metals can form positive ions by losing electrons to non-metals.
- II. Metals combine with oxygen to form basic oxides.

Options :

1. ✖ Only I
2. ✖ Only II
3. ✔ Both I and II
4. ✖ Neither I nor II

Question Number : 18 Question Id : 630680218430 Question Type : MCQ Option Shuffling : Yes

Is Question Mandatory : No Calculator : None Response Time : N.A Think Time : N.A

Minimum Instruction Time : 0

Correct Marks : 1 Wrong Marks : 0

లోహాలకు సంబంధించి ఈ క్రింది వాటిలో సరైనది ఏది?

- I. అలోహాలకు ఎలక్ట్రాన్లను కోల్పోవడం ద్వారా లోహాలు ధన అయాన్లను ఏర్పరుస్తాయి.
- II. లోహాలు ఆక్సిజన్తో కలిసి క్షార ఆక్సైడ్లను ఏర్పరుస్తాయి.

Options :

1. ✖ I మాత్రమే
2. ✖ II మాత్రమే
3. ✔ I మరియు II రెండూ
4. ✖ I లేదా II ఏదీ కాదు

Question Number : 19 Question Id : 630680218431 Question Type : MCQ Option Shuffling : Yes

Is Question Mandatory : No Calculator : None Response Time : N.A Think Time : N.A

Minimum Instruction Time : 0

Correct Marks : 1 Wrong Marks : 0

Which of the following statement is correct regarding transportation in plants?

- I. Plant transport system will move energy from leaves and raw material from roots.
- II. Xylem moves product of photosynthesis.
- III. Phloem moves water and minerals.

Options :

1. ✖ Only II
2. ✔ Only I
3. ✖ Only I and III

4. ✖ No statement is correct

Question Number : 19 Question Id : 630680218431 Question Type : MCQ Option Shuffling : Yes
Is Question Mandatory : No Calculator : None Response Time : N.A Think Time : N.A
Minimum Instruction Time : 0

Correct Marks : 1 Wrong Marks : 0

మొక్కలలో రవాణాకు సంబంధించి కింది వాటిలో సరైన ప్రకటన ఏది?

- I. మొక్కల రవాణా వ్యవస్థ ఆకుల నుండి శక్తిని మరియు వేర్ల నుండి ముడి పదార్థాన్ని తరలిస్తుంది.
- II. పోషక కణజాలం కిరణజన్య సంయోగక్రియ యొక్క ఉత్పత్తిని తరలిస్తుంది.
- III. ఫ్లోయమ్ నీరు మరియు ఖనిజాలను కదిలిస్తుంది.

Options :

1. ✖ II మాత్రమే

2. ✔ I మాత్రమే

3. ✖ I మరియు III మాత్రమే

4. ✖ ఏ ప్రకటన సరైనది కాదు

Question Number : 20 Question Id : 630680218432 Question Type : MCQ Option Shuffling : Yes
Is Question Mandatory : No Calculator : None Response Time : N.A Think Time : N.A
Minimum Instruction Time : 0

Correct Marks : 1 Wrong Marks : 0

Which of the following pair of element : atomic mass is correct?

I. Sodium : 23

II. Sulphur : 32

Options :

1. ✘ Only I

2. ✘ Only II

3. ✔ Both I and II

4. ✘ Neither I nor II

Question Number : 20 Question Id : 630680218432 Question Type : MCQ Option Shuffling : Yes

Is Question Mandatory : No Calculator : None Response Time : N.A Think Time : N.A

Minimum Instruction Time : 0

Correct Marks : 1 Wrong Marks : 0

ఈ క్రింది వాటిలో ఏ మూలకానికి సంబంధించిన పరమాణు ద్రవ్యరాశి జత సరైనది?

I. సోడియం : 23

II. సల్ఫర్ : 32

Options :

1. ✘ I మాత్రమే

2. ✘ II మాత్రమే

3. ✔ I మరియు II రెండూ

4. ✖ I లేదా II ఏదీ కాదు

Question Number : 21 Question Id : 630680218433 Question Type : MCQ Option Shuffling : Yes

Is Question Mandatory : No Calculator : None Response Time : N.A Think Time : N.A

Minimum Instruction Time : 0

Correct Marks : 1 Wrong Marks : 0

Match the following parts of body with the type of tissues they have?

	Part		Tissue type
I	Skin	1	Cuboidal epithelium
II	Ducts of salivary glands	2	Columnar epithelium
III	Inner lining of intestine	3	Squamous epithelium

Options :

1. ✖ I-2, II-1, III-3

2. ✖ I-3, II-2, III-1

3. ✔ I-3, II-1, III-2

4. ✖ I-2, II-3, III-1

Question Number : 21 Question Id : 630680218433 Question Type : MCQ Option Shuffling : Yes

Is Question Mandatory : No Calculator : None Response Time : N.A Think Time : N.A

Minimum Instruction Time : 0

Correct Marks : 1 Wrong Marks : 0

శరీరంలోని ఈ క్రింది భాగాలను అవి కలిగి ఉన్న కణజాల రకంతో జతచేయండి?

	శరీర భాగం		కణజాల రకం
I	చర్మం	1	క్యూబాయిడల్ ఎపిథీలియం
II	లాలాజల గ్రంధుల నాళాలు	2	కాలమ్నార్ ఎపిథీలియం
III	ప్రేగు లోపలి పొర	3	స్క్వామోస్ ఎపిథీలియం

Options :

1. ✘ I-2, II-1, III-3
2. ✘ I-3, II-2, III-1
3. ✔ I-3, II-1, III-2
4. ✘ I-2, II-3, III-1

Question Number : 22 Question Id : 630680218434 Question Type : MCQ Option Shuffling : Yes

Is Question Mandatory : No Calculator : None Response Time : N.A Think Time : N.A

Minimum Instruction Time : 0

Correct Marks : 1 Wrong Marks : 0

Members of which phylum of animal kingdom are commonly known as sponges?

Options :

1. ✘ Mollusca
2. ✘ Platyhelminthes
3. ✔ Porifera

4. ✖ Annelida

Question Number : 22 Question Id : 630680218434 Question Type : MCQ Option Shuffling : Yes

Is Question Mandatory : No Calculator : None Response Time : N.A Think Time : N.A

Minimum Instruction Time : 0

Correct Marks : 1 Wrong Marks : 0

జంతు రాజ్యంలోని ఏ వర్గానికి చెందిన సభ్యులను సాధారణంగా స్పాంజ్‌లు అని పిలుస్తారు?

Options :

1. ✖ మొలస్కా

2. ✖ ప్లాటిహెల్మింథెస్

3. ✓ పోరిఫెరా

4. ✖ అన్నెలిడా



Question Number : 23 Question Id : 630680218435 Question Type : MCQ Option Shuffling : Yes

Is Question Mandatory : No Calculator : None Response Time : N.A Think Time : N.A

Minimum Instruction Time : 0

Correct Marks : 1 Wrong Marks : 0

Phytoplankton are generally part of which trophic level in an ecosystem?

Options :

1. ✓ First

2. ✖ Second

3. ✖ Third

4. ✖ Fourth

Question Number : 23 Question Id : 630680218435 Question Type : MCQ Option Shuffling : Yes

Is Question Mandatory : No Calculator : None Response Time : N.A Think Time : N.A

Minimum Instruction Time : 0

Correct Marks : 1 Wrong Marks : 0

పైటోప్లాంక్టన్ సాధారణంగా పర్యావరణ వ్యవస్థలో ఏ ట్రోఫిక్ స్ట్రాాయిలో భాగం?

Options :

1. ✓ ప్రథమ

2. ✖ రెండవ

3. ✖ మూడవ

4. ✖ నాల్గవ

Question Number : 24 Question Id : 630680218436 Question Type : MCQ Option Shuffling : Yes

Is Question Mandatory : No Calculator : None Response Time : N.A Think Time : N.A

Minimum Instruction Time : 0

Correct Marks : 1 Wrong Marks : 0

In India, with respect to disaster reduction, the prime minister in 2016 gave how many points for disaster risk reduction?

Options :

1. ✖ Seven points agenda

2. ✘ Eight points agenda
3. ✘ Nine points agenda
4. ✔ Ten points agenda

Question Number : 24 Question Id : 630680218436 Question Type : MCQ Option Shuffling : Yes

Is Question Mandatory : No Calculator : None Response Time : N.A Think Time : N.A

Minimum Instruction Time : 0

Correct Marks : 1 Wrong Marks : 0

భారతదేశంలో, విపత్తు ప్రభావ తగ్గించునకు సంబంధించి, 2016లో ప్రధాన మంత్రి విపత్తు ప్రమాదాన్ని తగ్గించడానికి ఎన్ని పాయింట్లు ఇచ్చారు?

Options :

1. ✘ ఏడు పాయింట్లు ఎజెండా
2. ✘ ఎనిమిది పాయింట్లు ఎజెండా
3. ✘ తొమ్మిది పాయింట్లు ఎజెండా
4. ✔ పది పాయింట్లు ఎజెండా

Question Number : 25 Question Id : 630680218437 Question Type : MCQ Option Shuffling : Yes

Is Question Mandatory : No Calculator : None Response Time : N.A Think Time : N.A

Minimum Instruction Time : 0

Correct Marks : 1 Wrong Marks : 0

The Indian satellites that is placed in geostationary orbit (GEO) and geosynchronous orbit (GSO) and can be used in the early warning of disasters is called _____.

Options :

1. ✓ NavIC
2. ✗ SanIK
3. ✗ GaruDA
4. ✗ RakshAK

Question Number : 25 Question Id : 630680218437 Question Type : MCQ Option Shuffling : Yes

Is Question Mandatory : No Calculator : None Response Time : N.A Think Time : N.A

Minimum Instruction Time : 0

Correct Marks : 1 Wrong Marks : 0

జియోస్టేషనరీ ఆర్బిట్ (GEO) మరియు జియోసింక్రోసస్ ఆర్బిట్ (GSO)లో ఉంచబడిన మరియు విపత్తుల ముందస్తు హెచ్చరిక కొరకు ఉపయోగించబడే భారతీయ ఉపగ్రహాలను _____ అంటారు.

Options :

1. ✓ NavIC
2. ✗ SanIK
3. ✗ GaruDA
4. ✗ RakshAK

Question Number : 26 Question Id : 630680218438 Question Type : MCQ Option Shuffling : Yes

Is Question Mandatory : No Calculator : None Response Time : N.A Think Time : N.A

Minimum Instruction Time : 0

Correct Marks : 1 Wrong Marks : 0

In India, Port Blair is located in which Seismic zone?

Options :

1. ✘ Zone I
2. ✘ Zone II
3. ✘ Zone IV
4. ✔ Zone V

Question Number : 26 Question Id : 630680218438 Question Type : MCQ Option Shuffling : Yes

Is Question Mandatory : No Calculator : None Response Time : N.A Think Time : N.A

Minimum Instruction Time : 0

Correct Marks : 1 Wrong Marks : 0

భారతదేశంలో, పోర్ట్ బ్లెయిర్ ఏ భూకంప జోన్లో ఉంది?

Options :

1. ✘ జోన్ I
2. ✘ జోన్ II
3. ✘ జోన్ IV
4. ✔ జోన్ V

Question Number : 27 Question Id : 630680218439 Question Type : MCQ Option Shuffling : Yes

Is Question Mandatory : No Calculator : None Response Time : N.A Think Time : N.A

Minimum Instruction Time : 0

Correct Marks : 1 Wrong Marks : 0

The Montreal Protocol was based on _____.

Options :

1. ✘ artificial afforestation in cities
2. ✘ protection of critical endangered species
3. ✘ nuclear proliferation
4. ✔ ozone layer depletion

Question Number : 27 Question Id : 630680218439 Question Type : MCQ Option Shuffling : Yes

Is Question Mandatory : No Calculator : None Response Time : N.A Think Time : N.A

Minimum Instruction Time : 0

Correct Marks : 1 Wrong Marks : 0

మాంట్రీయల్ ప్రోటోకాల్ _____ పై ఆధారపడింది.

Options :

1. ✘ నగరాల్లో కృత్రిమ అడవుల పెంపకం
2. ✘ క్లిష్టమైన అంతరించిపోతున్న జాతుల సంరక్షణ
3. ✘ అణు విస్తరణ

4. ✓ ఓజోన్ పొర క్షీణత

Question Number : 28 Question Id : 630680218440 Question Type : MCQ Option Shuffling : Yes

Is Question Mandatory : No Calculator : None Response Time : N.A Think Time : N.A

Minimum Instruction Time : 0

Correct Marks : 1 Wrong Marks : 0

With respect to fertilizers used in India, what is the ideal Nitrogen:Phosphorus:Potassium (NPK) ratio for soils?

Options :

1. ✘ 15:7:3

2. ✓ 4:2:1

3. ✘ 28:15:7

4. ✘ 28:11:3



Question Number : 28 Question Id : 630680218440 Question Type : MCQ Option Shuffling : Yes

Is Question Mandatory : No Calculator : None Response Time : N.A Think Time : N.A

Minimum Instruction Time : 0

Correct Marks : 1 Wrong Marks : 0

భారతదేశంలో ఉపయోగించే ఎరువులకు సంబంధించి, నేలలకు అనువైన నత్రజని: భాస్వరం: పొటాషియం (NPK) నిష్పత్తి ఎంత?

Options :

1. ✘ 15:7:3

2. ✓ 4:2:1

3. ✖ 28:15:7

4. ✖ 28:11:3

Question Number : 29 Question Id : 630680218441 Question Type : MCQ Option Shuffling : Yes**Is Question Mandatory : No Calculator : None Response Time : N.A Think Time : N.A****Minimum Instruction Time : 0****Correct Marks : 1 Wrong Marks : 0**

With respect to environmental issues, which practice is refers to misleading and exaggerated claims to deceive people about the environmental worthiness of a product or action?

Options :

1. ✔ Greenwashing

2. ✖ Fake greening

3. ✖ Window greening

4. ✖ Ecowasher

Question Number : 29 Question Id : 630680218441 Question Type : MCQ Option Shuffling : Yes**Is Question Mandatory : No Calculator : None Response Time : N.A Think Time : N.A****Minimum Instruction Time : 0****Correct Marks : 1 Wrong Marks : 0**

పర్యావరణ సమస్యలకు సంబంధించి, ఒక ఉత్పత్తి లేదా చర్య యొక్క పర్యావరణ యోగ్యత గురించి ప్రజలను మోసం చేయడానికి తప్పుదారి పట్టించే మరియు అతిశయోక్తి వాదనలను సూచించే అభ్యాసం ఏది?

Options :

1.

✓ గ్రీన్ వాషింగ్ (Greenwashing)

2. ✘ ఫేక్ గ్రీనింగ్ (Fake greening)

3. ✘ విండో గ్రీనింగ్ (Window greening)

4. ✘ ఎకోవాషర్ (Ecowasher)

Question Number : 30 Question Id : 630680218442 Question Type : MCQ Option Shuffling : Yes

Is Question Mandatory : No Calculator : None Response Time : N.A Think Time : N.A

Minimum Instruction Time : 0

Correct Marks : 1 Wrong Marks : 0

In September 2022, the Centre government of India has set a new target of a 40% reduction in particulate matter concentration in cities covered under the National Clean Air Programme (NCAP) by _____.

Options :

1. ✘ 2030

2. ✘ 2028

3. ✓ 2026

4. ✘ 2024

Question Number : 30 Question Id : 630680218442 Question Type : MCQ Option Shuffling : Yes

Is Question Mandatory : No Calculator : None Response Time : N.A Think Time : N.A

Minimum Instruction Time : 0

Correct Marks : 1 Wrong Marks : 0

సెప్టెంబరు 2022లో, భారత కేంద్ర ప్రభుత్వం నేషనల్ క్లీన్ ఎయిర్ ప్రోగ్రాం (NCAP) పరిధిలోకి వచ్చే నగరాల్లో 40% రేణువుల గాఢతను _____ నాటికి తగ్గించాలనే కొత్త లక్ష్యాన్ని నిర్దేశించింది.

Options :

1. ✘ 2030

2. ✘ 2028

3. ✔ 2026

4. ✘ 2024

Question Number : 31 Question Id : 630680218443 Question Type : MCQ Option Shuffling : Yes

Is Question Mandatory : No Calculator : None Response Time : N.A Think Time : N.A

Minimum Instruction Time : 0

Correct Marks : 1 Wrong Marks : 0

GRIHA (Green Rating for Integrated Habitat Assessment) which evaluates environmental performance of a building was developed by _____.

Options :

1. ✔ The Energy and Resource Institute (TERI)

2. ✘ National Green Tribunal (NGT)

3. ✘ Bombay Natural History Society (BNHS)

4. ✘ Central Pollution Control Board (CPCB)

Question Number : 31 Question Id : 630680218443 Question Type : MCQ Option Shuffling : Yes
Is Question Mandatory : No Calculator : None Response Time : N.A Think Time : N.A
Minimum Instruction Time : 0

Correct Marks : 1 Wrong Marks : 0

భవనం యొక్క పర్యావరణ పనితీరును అంచనా వేసే GRIHA (గ్రీన్ రేటింగ్ ఫర్ ఇంటిగ్రేటెడ్ హబిటాట్ అసెస్మెంట్) _____ ద్వారా అభివృద్ధి చేయబడింది.

Options :

1. ✓ శక్తి మరియు వనరుల సంస్థ (TERI)

2. ✘ నేషనల్ గ్రీన్ ట్రిబ్యూనల్ (NGT)

3. ✘ బాంబే నేచురల్ హిస్టరీ సొసైటీ (BNHS)

4. ✘ కేంద్ర కాలుష్య నియంత్రణ మండలి (CPCB)

Question Number : 32 Question Id : 630680218444 Question Type : MCQ Option Shuffling : Yes
Is Question Mandatory : No Calculator : None Response Time : N.A Think Time : N.A
Minimum Instruction Time : 0

Correct Marks : 1 Wrong Marks : 0

Which of the following statements is correct regarding the corals?

I. The Great Barrier Reef is the largest living structure on Earth and is situated in Indonesia.

II. Blast fishing does not cause physical damage to corals.

Options :

1. ✘ I only

2. ✘ II only

3. ✖ Both I and II

4. ✔ Neither I nor II

Question Number : 32 Question Id : 630680218444 Question Type : MCQ Option Shuffling : Yes

Is Question Mandatory : No Calculator : None Response Time : N.A Think Time : N.A

Minimum Instruction Time : 0

Correct Marks : 1 Wrong Marks : 0

పగడాలకు సంబంధించి ఈ క్రింది ప్రకటనల్లో సరైనది ఏది?

- I. గ్రేట్ బారియర్ రీఫ్ భూమిపై అతిపెద్ద జీవన నిర్మాణం, ఇది ఇండోనేషియాలో ఉంది.
- II. పగడాలకు బ్లాస్ట్ ఫిషింగ్ భౌతిక నష్టాన్ని కలిగించదు.

Options :

1. ✖ I మాత్రమే

2. ✖ II మాత్రమే

3. ✖ I మరియు II రెండూ

4. ✔ I లేదా II ఏదీ కాదు

Question Number : 33 Question Id : 630680218445 Question Type : MCQ Option Shuffling : Yes

Is Question Mandatory : No Calculator : None Response Time : N.A Think Time : N.A

Minimum Instruction Time : 0

Correct Marks : 1 Wrong Marks : 0

Which of the following statements is correct regarding the air pollutants?

- I. PM_{2.5} is more likely to travel into and deposit on the surface of the deeper parts of the lung.
- II. PM₁₀ is more likely to deposit on the surfaces of the larger airways of the upper region of the lung.
- III. Both PM_{2.5} and PM₁₀ are bigger than human hair.

Options :

1. ✘ Only I
2. ✘ Only II
3. ✔ Only I and II
4. ✘ I, II and III

Question Number : 33 Question Id : 630680218445 Question Type : MCQ Option Shuffling : Yes

Is Question Mandatory : No Calculator : None Response Time : N.A Think Time : N.A

Minimum Instruction Time : 0

Correct Marks : 1 Wrong Marks : 0

వాయు కాలుష్య కారకాలకు సంబంధించి ఈ క్రింది వాటిలో సరైన ప్రకటన ఏది?

- I. PM_{2.5} ఊపిరితిత్తుల లోతైన భాగాల ఉపరితలం పైకి ప్రయాణించి జమ అయ్యే అవకాశం ఉంది.
- II. ఊపిరితిత్తుల ఎగువ ప్రాంతంలోని పెద్ద వాయుమార్గాల ఉపరితలాలపై PM₁₀ జమ అయ్యే అవకాశం ఉంది.
- III. PM_{2.5} మరియు PM₁₀ రెండూ మనుషుల వెంట్రుకల కంటే పెద్దవి.

Options :

1. ✘ I మాత్రమే
2. ✘ II మాత్రమే

3. ✓ I మరియు II మాత్రమే

4. ✘ I, II మరియు III

Question Number : 34 Question Id : 630680218446 Question Type : MCQ Option Shuffling : Yes

Is Question Mandatory : No Calculator : None Response Time : N.A Think Time : N.A

Minimum Instruction Time : 0

Correct Marks : 1 Wrong Marks : 0

What is the correct order (first to last) of the following Indian regions with respect to the expected arrival of advancing monsoon?

Options :

1. ✓ Thiruvananthapuram, Mumbai, Ahmedabad

2. ✘ Ahmedabad, Mumbai, Thiruvananthapuram

3. ✘ Thiruvananthapuram, Ahmedabad, Mumbai

4. ✘ Mumbai, Ahmedabad, Thiruvananthapuram

Question Number : 34 Question Id : 630680218446 Question Type : MCQ Option Shuffling : Yes

Is Question Mandatory : No Calculator : None Response Time : N.A Think Time : N.A

Minimum Instruction Time : 0

Correct Marks : 1 Wrong Marks : 0

ఋతుపవనాలు భారతదేశంలో ప్రవేశించే అంచనాకు సంబంధించి ఈ క్రింది భారతీయ ప్రాంతాలలో సరైన క్రమం (మొదటి నుండి చివరి వరకు) ఏమిటి?

Options :

1. ✓ తిరువనంతపురం, ముంబై, అహ్మదాబాద్
2. ✘ అహ్మదాబాద్, ముంబై, తిరువనంతపురం
3. ✘ తిరువనంతపురం, అహ్మదాబాద్, ముంబై
4. ✘ ముంబై, అహ్మదాబాద్, తిరువనంతపురం

Question Number : 35 Question Id : 630680218447 Question Type : MCQ Option Shuffling : Yes
Is Question Mandatory : No Calculator : None Response Time : N.A Think Time : N.A
Minimum Instruction Time : 0

Correct Marks : 1 Wrong Marks : 0

Arrange the following national parks in India based on their location from north to south.

- I. Bandipur National Park
- II. Simlipal National Park
- III. Manas National Park

Options :

1. ✘ III, I, II
2. ✘ I, II, III
3. ✓ III, II, I
4. ✘ I, III, II

Question Number : 35 Question Id : 630680218447 Question Type : MCQ Option Shuffling : Yes

Is Question Mandatory : No Calculator : None Response Time : N.A Think Time : N.A

Minimum Instruction Time : 0

Correct Marks : 1 Wrong Marks : 0

ఈ క్రింది జాతీయ ఉద్యానవనాలను భారతదేశంలోని ఉత్తరం నుండి దక్షిణానికి వాటి స్థానం ఆధారంగా అమర్చండి.

I. బందీపూర్ జాతీయ ఉద్యానవనం

II. సిమ్లిపాల్ జాతీయ ఉద్యానవనం

III. మానస్ జాతీయ ఉద్యానవనం

Options :

1. ✘ III, I, II

2. ✘ I, II, III

3. ✔ III, II, I

4. ✘ I, III, II



Question Number : 36 Question Id : 630680218448 Question Type : MCQ Option Shuffling : Yes

Is Question Mandatory : No Calculator : None Response Time : N.A Think Time : N.A

Minimum Instruction Time : 0

Correct Marks : 1 Wrong Marks : 0

Match the following seasons in India and their period.

	Season		Period
I	Retreating Monsoons	1	Mid-November to February
II	Cold Weather Season	2	October-November
III	Hot Weather Season	3	March to May

Options :

1. ✘ I-3, II-2, III-1
2. ✘ I-1, II-2, III-3
3. ✔ I-2, II-1, III-3
4. ✘ I-2, II-3, III-1

Question Number : 36 Question Id : 630680218448 Question Type : MCQ Option Shuffling : Yes

Is Question Mandatory : No Calculator : None Response Time : N.A Think Time : N.A

Minimum Instruction Time : 0

Correct Marks : 1 Wrong Marks : 0

భారతదేశం లోని క్రింది సీజన్లను మరియు వాటి కాలాన్ని జతచేయండి.

	సీజన్		కాలం
I	తిరోగమన రుతుపవనాలు	1	నవంబర్ మధ్య నుండి ఫిబ్రవరి వరకు
II	శీతాకాలం	2	అక్టోబర్-నవంబర్
III	వేసవి సీజన్	3	మార్చి నుండి మే వరకు

Options :

1. ✘ I-3, II-2, III-1
2. ✘ I-1, II-2, III-3
3. ✔ I-2, II-1, III-3
4. ✘ I-2, II-3, III-1

Question Number : 37 Question Id : 630680218449 Question Type : MCQ Option Shuffling : Yes

Is Question Mandatory : No Calculator : None Response Time : N.A Think Time : N.A

Minimum Instruction Time : 0

Correct Marks : 1 Wrong Marks : 0

Which of the following pairs is correct regarding the trees/plants and their scientific names?

I. Mahua : *Bassia latifolia*

II. Mango : *Mangifera indica*

Options :

1. ✘ Only I
2. ✘ Only II
3. ✔ Both I and II
4. ✘ Neither I nor II

Question Number : 37 Question Id : 630680218449 Question Type : MCQ Option Shuffling : Yes

Is Question Mandatory : No Calculator : None Response Time : N.A Think Time : N.A

Minimum Instruction Time : 0

Correct Marks : 1 Wrong Marks : 0

చెట్లు/మొక్కలు మరియు వాటి శాస్త్రీయ నామాలకు సంబంధించి ఈ క్రింది జంటలలో ఏది సరైనది?

I. మహువా : బస్సియా లాటిఫోలియా

II. మామిడి: మాంగిఫెరా ఇండికా

Options :

1. ✘ I మాత్రమే

2. ✘ II మాత్రమే

3. ✔ I మరియు II రెండూ

4. ✘ I లేదా II ఏదీ కాదు

Question Number : 38 Question Id : 630680218450 Question Type : MCQ Option Shuffling : Yes

Is Question Mandatory : No Calculator : None Response Time : N.A Think Time : N.A

Minimum Instruction Time : 0

Correct Marks : 1 Wrong Marks : 0

Which of the following pairs of Committee and their respective fields is correct?

I. Alagh Committee: Educational reforms

II. Tendulkar Committee: Poverty estimation

Options :

1. ✘ Only I

2. ✔ Only II

3. ✖ Both I and II

4. ✖ Neither I nor II

Question Number : 38 Question Id : 630680218450 Question Type : MCQ Option Shuffling : Yes

Is Question Mandatory : No Calculator : None Response Time : N.A Think Time : N.A

Minimum Instruction Time : 0

Correct Marks : 1 Wrong Marks : 0

ఈ క్రింది జతల కమిటీ మరియు వాటి సంబంధిత ఫీల్డ్లలో ఏది సరైనది?

I. అలఘ్ కమిటీ: విద్యా సంస్కరణలు

II. శుండూల్కర్ కమిటీ: పేదరికం అంచనా

Options :

1. ✖ I మాత్రమే

2. ✔ II మాత్రమే

3. ✖ I మరియు II రెండూ

4. ✖ I లేదా II ఏదీ కాదు

Question Number : 39 Question Id : 630680218451 Question Type : MCQ Option Shuffling : Yes

Is Question Mandatory : No Calculator : None Response Time : N.A Think Time : N.A

Minimum Instruction Time : 0

Correct Marks : 1 Wrong Marks : 0

Match the following years and related events with respect to census of India.

	Year		Events
I	1872	1	First census of India was conducted
II	1948	2	Census Act was enacted
III	1951	3	First census conducted of Independent India

Options :

1. ✓ I-1, II-2, III-3
2. ✗ I-1, II-3, III-2
3. ✗ I-3, II-2, III-1
4. ✗ I-3, II-1, III-2



Question Number : 39 Question Id : 630680218451 Question Type : MCQ Option Shuffling : Yes

Is Question Mandatory : No Calculator : None Response Time : N.A Think Time : N.A

Minimum Instruction Time : 0

Correct Marks : 1 Wrong Marks : 0

భారతదేశ జనాభా గణనకు సంబంధించి ఈ క్రింది సంవత్సరాలు మరియు సంబంధిత ఈవెంట్‌లను జతచేయండి.

	సంవత్సరం	ఈవెంట్‌లు
I	1872	1 భారతదేశంలో మొదటి జనాభా గణన జరిగింది
II	1948	2 జనాభా గణన చట్టం రూపొందించబడింది
III	1951	3 స్వతంత్ర భారతదేశంలో మొదటిసారి జనాభా గణన నిర్వహించబడింది

Options :

1. ✓ I-1, II-2, III-3
2. ✗ I-1, II-3, III-2
3. ✗ I-3, II-2, III-1
4. ✗ I-3, II-1, III-2



Question Number : 40 Question Id : 630680218452 Question Type : MCQ Option Shuffling : Yes

Is Question Mandatory : No Calculator : None Response Time : N.A Think Time : N.A

Minimum Instruction Time : 0

Correct Marks : 1 Wrong Marks : 0

Arrange the following Indian states with respect to their poverty ratio from high to low as per census India 2011.

I. Kerala

II. Punjab

III. Gujarat

Options :

1. ✓ III, II, I

2. ✘ I, II, III

3. ✘ II, I, III

4. ✘ III, I, II

Question Number : 40 Question Id : 630680218452 Question Type : MCQ Option Shuffling : Yes

Is Question Mandatory : No Calculator : None Response Time : N.A Think Time : N.A

Minimum Instruction Time : 0

Correct Marks : 1 Wrong Marks : 0

భారతదేశ జనాభా లెక్కలు 2011 ప్రకారం, ఈ క్రింది భారతీయ రాష్ట్రాలను వాటి పేదరిక నిష్పత్తి ప్రకారం ఎక్కువ నుండి తక్కువ వరకు ఏర్పాటు చేయండి.

I. కేరళ

II. పంజాబ్

III. గుజరాత్

Options :

1. ✔ III, II, I

2. ✘ I, II, III

3. ✘ II, I, III

4. ✘ III, I, II

Question Number : 41 Question Id : 630680218453 Question Type : MCQ Option Shuffling : Yes

Is Question Mandatory : No Calculator : None Response Time : N.A Think Time : N.A

Minimum Instruction Time : 0

Correct Marks : 1 Wrong Marks : 0

What is the chronological order (first to last) of launching of following social scheme of government of India?

- I. Prime Minister Rozgar Yozana
- II. Rural Employment Generation Programme
- III. Swarnajayanti Gram Swarozgar Yojana

Options :

1. ✓ I, II, III

2. ✘ III, II, I

3. ✘ II, I, III

4. ✘ I, III, II

Question Number : 41 Question Id : 630680218453 Question Type : MCQ Option Shuffling : Yes

Is Question Mandatory : No Calculator : None Response Time : N.A Think Time : N.A

Minimum Instruction Time : 0

Correct Marks : 1 Wrong Marks : 0

భారత ప్రభుత్వంలోని ఈ క్రింది సామాజిక పథకాల ప్రారంభం యొక్క కాలక్రమ క్రమం (మొదటి నుండి చివరి వరకు) ఏమిటి?

- I. ప్రధాన మంత్రి రోజ్ గార్ యోజన
- II. గ్రామీణ ఉపాధి కల్పన కార్యక్రమం
- III. స్వర్ణజయంతి గ్రామ స్వరోజ్గర్ యోజన

Options :

1. ✓ I, II, III

2. ✘ III, II, I

3. ✘ II, I, III

4. ✘ I, III, II

Question Number : 42 Question Id : 630680218454 Question Type : MCQ Option Shuffling : Yes

Is Question Mandatory : No Calculator : None Response Time : N.A Think Time : N.A

Minimum Instruction Time : 0

Correct Marks : 1 Wrong Marks : 0

Which of the following statements is correct regarding the Sugar Industry in India?

I. The raw material used in this industry is bulky, and in haulage its sucrose content reduces.

II. This industry is seasonal in nature.

Options :

1. ✘ Only I

2. ✘ Only II

3. ✔ Both I and II

4. ✘ Neither I nor II

Question Number : 42 Question Id : 630680218454 Question Type : MCQ Option Shuffling : Yes

Is Question Mandatory : No Calculator : None Response Time : N.A Think Time : N.A

Minimum Instruction Time : 0

Correct Marks : 1 Wrong Marks : 0

భారతదేశంలోని చక్కెర పరిశ్రమకు సంబంధించి ఈ క్రింది ప్రకటనల్లో సరైనది ఏది?

I. ఈ పరిశ్రమలో ఉపయోగించే ముడి పదార్థం భారీగా ఉంటుంది, రవాణా చేస్తున్నప్పుడు దాని సుక్రోజ్ శాతం తగ్గుతుంది.

II. ఈ పరిశ్రమ ప్రకృతిలో కాలానుగుణంగా ఉంటుంది.

Options :

1. ✘ I మాత్రమే

2. ✘ II మాత్రమే

3. ✔ I మరియు II రెండూ

4. ✘ I లేదా II ఏదీ కాదు

Question Number : 43 Question Id : 630680218455 Question Type : MCQ Option Shuffling : Yes

Is Question Mandatory : No Calculator : None Response Time : N.A Think Time : N.A

Minimum Instruction Time : 0

Correct Marks : 1 Wrong Marks : 0

Which is the chronological order (first to last) of events following their occurrence with respect to transport development in India?

I. Establishment of the Border Roads Organisation

II. The Golden Quadrilateral Super Highways project is launched.

III. The first train of India steams off from Mumbai to Thane.

Options :

1. ✔ III, I, II

2. ✘ I, II, III

3. ✘ I, III, II

4. ✘ III, II, I

Question Number : 43 Question Id : 630680218455 Question Type : MCQ Option Shuffling : Yes

Is Question Mandatory : No Calculator : None Response Time : N.A Think Time : N.A

Minimum Instruction Time : 0

Correct Marks : 1 Wrong Marks : 0

ఈ క్రింది వాటిలో భారతదేశంలో రవాణా అభివృద్ధికి సంబంధించి జరిగిన సంఘటనల కాలక్రమానుసారం (మొదటి నుండి చివరి వరకు) ఏది?

- I. బోర్లర్ రోడ్స్ ఆర్గనైజేషన్ స్థాపన
- II. గోల్డెన్ క్వాడ్రెటెటరల్ సూపర్ హైవేస్ ప్రాజెక్ట్ ప్రారంభించబడింది.
- III. భారతదేశంలోని మొట్టమొదటి రైలు ముంబై నుండి ఢాన్ ల మధ్య ప్రారంభించబడింది.

Options :

1. ✔ III, I, II

2. ✘ I, II, III

3. ✘ I, III, II

4. ✘ III, II, I

Question Number : 44 Question Id : 630680218456 Question Type : MCQ Option Shuffling : Yes

Is Question Mandatory : No Calculator : None Response Time : N.A Think Time : N.A

Minimum Instruction Time : 0

Correct Marks : 1 Wrong Marks : 0

Arrange the following iron and steel plants based on their location from north to south.

I. Salem Steel Plant

II. Bhadravati Steel Plant

III. Bhilai Steel Plant

Options :

1. ✘ I, II, III

2. ✔ III, II, I

3. ✘ II, I, III

4. ✘ III, I, II

Question Number : 44 Question Id : 630680218456 Question Type : MCQ Option Shuffling : Yes

Is Question Mandatory : No Calculator : None Response Time : N.A Think Time : N.A

Minimum Instruction Time : 0

Correct Marks : 1 Wrong Marks : 0

ఈ క్రింది ఇనుము మరియు ఉక్కు కర్మాగారాలను ఉత్తరం నుండి దక్షిణానికి వాటి స్థానం ఆధారంగా అమర్చండి.

I. సేలం స్టీల్ ప్లాంట్

II. భద్రావతి స్టీల్ ప్లాంట్

III. భిలాయ్ స్టీల్ ప్లాంట్

Options :

1. ✘ I, II, III

2. ✔ III, II, I

3. ✘ II, I, III

4. ✘ III, I, II

Question Number : 45 Question Id : 630680218457 Question Type : MCQ Option Shuffling : Yes

Is Question Mandatory : No Calculator : None Response Time : N.A Think Time : N.A

Minimum Instruction Time : 0

Correct Marks : 1 Wrong Marks : 0

Which of the following statements is/are NOT correct regarding 'Right against Exploitation' of the Indian Constitution?

I. It includes four articles.

II. It provides protection against preventive detention.

Options :

1. ✘ Only I

2. ✘ Only II

3. ✔ Both I and II

4. ✘ Neither I nor II

Question Number : 45 Question Id : 630680218457 Question Type : MCQ Option Shuffling : Yes

Is Question Mandatory : No Calculator : None Response Time : N.A Think Time : N.A

Minimum Instruction Time : 0

Correct Marks : 1 Wrong Marks : 0

భారత రాజ్యాంగంలోని 'పీఠనాన్ని నిరోధించే హక్కు'కు సంబంధించి ఈ క్రింది వాటిలో ఏది/ ఏవి సరైనవి కావు?

- I. ఇందులో నాలుగు అధికరణాలు ఉన్నాయి.
- II. ఇది నివారణ నిర్బంధానికి వ్యతిరేకంగా రక్షణను అందిస్తుంది.

Options :

1. ✘ I మాత్రమే
2. ✘ II మాత్రమే
3. ✔ I మరియు II రెండూ
4. ✘ I లేదా II ఏదీ కాదు

Question Number : 46 Question Id : 630680218458 Question Type : MCQ Option Shuffling : Yes

Is Question Mandatory : No Calculator : None Response Time : N.A Think Time : N.A

Minimum Instruction Time : 0

Correct Marks : 1 Wrong Marks : 0

What is the correct order (from first to last) of the following fundamental duties mentioned in the Indian Constitution?

- I. To defend the country and render national service.
- II. To value and preserve the rich heritage of our composite culture.
- III. To develop the scientific temper.

Options :

1. ✔ I, II, III
2. ✘ III, II, I

3. ✘ III, I, II

4. ✘ II, III, I

Question Number : 46 Question Id : 630680218458 Question Type : MCQ Option Shuffling : Yes

Is Question Mandatory : No Calculator : None Response Time : N.A Think Time : N.A

Minimum Instruction Time : 0

Correct Marks : 1 Wrong Marks : 0

భారత రాజ్యాంగంలో పేర్కొన్న ఈ క్రింది ప్రాథమిక విధుల్లో సరైన క్రమం (మొదటి నుండి చివరి వరకు) ఏమిటి?

- I. దేశాన్ని రక్షించడానికి మరియు జాతీయ సేవను అందించడానికి.
- II. మన మిశ్రమ సంస్కృతి యొక్క గొప్ప వారసత్వానికి విలువ ఇవ్వడానికి మరియు సంరక్షించడానికి.
- III. శాస్త్రీయ దృక్పథాన్ని పెంపొందించుకోవడానికి.

Options :

1. ✔ I, II, III

2. ✘ III, II, I

3. ✘ III, I, II

4. ✘ II, III, I

Question Number : 47 Question Id : 630680218459 Question Type : MCQ Option Shuffling : Yes

Is Question Mandatory : No Calculator : None Response Time : N.A Think Time : N.A

Minimum Instruction Time : 0

Correct Marks : 1 Wrong Marks : 0

What is the correct order (first to last) of the following articles regarding citizenship in which they appear in the Indian Constitution?

- I. Parliament to regulate the right of citizenship by law.
- II. Rights of citizenship of certain migrants to Pakistan.
- III. Persons voluntarily acquiring citizenship of a foreign State not to be citizens.

Options :

1. ✘ I, II, III
2. ✘ III, II, I
3. ✘ III, I, II
4. ✔ II, III, I

**Question Number : 47 Question Id : 630680218459 Question Type : MCQ Option Shuffling : Yes
Is Question Mandatory : No Calculator : None Response Time : N.A Think Time : N.A
Minimum Instruction Time : 0**

Correct Marks : 1 Wrong Marks : 0

భారత రాజ్యాంగంలో పౌరసత్వానికి సంబంధించి కింది అధికరణాల్లో సరైన క్రమం (మొదటి నుండి చివరి వరకు) ఏమిటి?

- I. చట్టం ద్వారా పౌరసత్వ హక్కును నియంత్రించడానికి పార్లమెంటు.
- II. పాకిస్తాన్‌కు వలస వెళ్లిన కొంత మంది పౌరసత్వ హక్కులు.
- III. పౌరులు కాకూడదని స్వచ్ఛందంగా విదేశీ రాష్ట్ర పౌరసత్వాన్ని పొందిన వ్యక్తులు.

Options :

1. ✘ I, II, III

2. ✘ III, II, I

3. ✘ III, I, II

4. ✔ II, III, I

Question Number : 48 Question Id : 630680218460 Question Type : MCQ Option Shuffling : Yes

Is Question Mandatory : No Calculator : None Response Time : N.A Think Time : N.A

Minimum Instruction Time : 0

Correct Marks : 1 Wrong Marks : 0

Arrange the following Indian states in descending order on the basis of seats allocated in the Council of States as of March 2023.

Options :

1. ✘ Jharkhand, Telangana, Haryana, Uttarakhand

2. ✔ Telangana, Jharkhand, Haryana, Uttarakhand

3. ✘ Jharkhand, Telangana, Uttarakhand, Haryana

4. ✘ Telangana, Jharkhand, Uttarakhand, Haryana

Question Number : 48 Question Id : 630680218460 Question Type : MCQ Option Shuffling : Yes

Is Question Mandatory : No Calculator : None Response Time : N.A Think Time : N.A

Minimum Instruction Time : 0

Correct Marks : 1 Wrong Marks : 0

మార్చి 2023 నాటికి కౌన్సిల్ ఆఫ్ స్టేట్స్ లో కేటాయించబడిన సీట్ల ఆధారంగా ఈ క్రింది భారతీయ రాష్ట్రాలను అవరోహణ క్రమంలో అమర్చండి.

Options :

1. ✘ జార్ఖండ్, తెలంగాణ, హర్యానా, ఉత్తరాఖండ్
2. ✔ తెలంగాణ, జార్ఖండ్, హర్యానా, ఉత్తరాఖండ్
3. ✘ జార్ఖండ్, తెలంగాణ, ఉత్తరాఖండ్, హర్యానా
4. ✘ తెలంగాణ, జార్ఖండ్, ఉత్తరాఖండ్, హర్యానా

Question Number : 49 Question Id : 630680218461 Question Type : MCQ Option Shuffling : Yes

Is Question Mandatory : No Calculator : None Response Time : N.A Think Time : N.A

Minimum Instruction Time : 0

Correct Marks : 1 Wrong Marks : 0

Article 226 of the Indian Constitution mentions about _____.

Options :

1. ✔ power of High Courts to issue certain writs
2. ✘ oath or affirmation by Judges of High Courts
3. ✘ power of Supreme Court of India to issue certain writs
4. ✘ oath or affirmation by Judges of Supreme Court of India

Question Number : 49 Question Id : 630680218461 Question Type : MCQ Option Shuffling : Yes

Is Question Mandatory : No Calculator : None Response Time : N.A Think Time : N.A

Minimum Instruction Time : 0

Correct Marks : 1 Wrong Marks : 0

భారత రాజ్యాంగంలోని అధికరణం 226 _____ గురించి ప్రస్తావిస్తుంది.

Options :

1. ✓ కొన్ని రిటల్లను జారీ చేయడానికి హైకోర్టులకు ఉన్న అధికారం
2. ✗ హైకోర్టుల న్యాయమూర్తుల ప్రమాణ స్వీకారం లేదా ధృవీకరణ
3. ✗ కొన్ని రిటల్లను జారీ చేయడానికి భారత సుప్రీంకోర్టుకు ఉన్న అధికారం
4. ✗ భారత సుప్రీంకోర్టు న్యాయమూర్తుల ప్రమాణ స్వీకారం లేదా ధృవీకరణ

Question Number : 50 Question Id : 630680218462 Question Type : MCQ Option Shuffling : Yes

Is Question Mandatory : No Calculator : None Response Time : N.A Think Time : N.A

Minimum Instruction Time : 0

Correct Marks : 1 Wrong Marks : 0

Which of the following statements is correct regarding the Governor of a State in India?

I. Unlike the president, the governor of a state does not have the power to promulgate ordinances during the recess of the state legislature.

II. The governor is appointed by the president.

Options :

1. ✗ Only I
2. ✓ Only II
3. ✗ Both I and II

4. ✖ Neither I nor II

Question Number : 50 Question Id : 630680218462 Question Type : MCQ Option Shuffling : Yes

Is Question Mandatory : No Calculator : None Response Time : N.A Think Time : N.A

Minimum Instruction Time : 0

Correct Marks : 1 Wrong Marks : 0

భారతదేశంలోని ఒక రాష్ట్ర గవర్నర్‌కు సంబంధించి ఈ క్రింది వాటిల్లో సరైన ప్రకటన ఏది?

I. రాష్ట్రపతి వలె కాకుండా, రాష్ట్ర శాసనసభ విరామ సమయంలో ఆర్డినెన్స్‌లను ప్రకటించే అధికారం రాష్ట్ర గవర్నర్‌కు ఉండదు.

II. గవర్నర్‌ను రాష్ట్రపతి నియమిస్తారు.

Options :

1. ✖ I మాత్రమే

2. ✔ II మాత్రమే

3. ✖ I మరియు II రెండూ

4. ✖ I లేదా II ఏదీ కాదు

Question Number : 51 Question Id : 630680218463 Question Type : MCQ Option Shuffling : Yes

Is Question Mandatory : No Calculator : None Response Time : N.A Think Time : N.A

Minimum Instruction Time : 0

Correct Marks : 1 Wrong Marks : 0

Which of the following statements is correct regarding the Indian Constitution?

- I. Article 161 of the constitution provides for an Advocate-General for the State.
- II. The Advocate-General of a state shall hold office during the pleasure of the Prime Minister.
- III. The Advocate-General of a state shall receive such remuneration as the Governor may determine.

Options :

1. ✘ Only I
2. ✘ Only I and II
3. ✘ Only I and III
4. ✔ Only III

Question Number : 51 Question Id : 630680218463 Question Type : MCQ Option Shuffling : Yes

Is Question Mandatory : No Calculator : None Response Time : N.A Think Time : N.A

Minimum Instruction Time : 0

Correct Marks : 1 Wrong Marks : 0

భారత రాజ్యాంగానికి సంబంధించి ఈ క్రింది వాటిల్లో సరైన ప్రకటన ఏది?

- I. రాజ్యాంగంలోని అధికరణం 161 రాష్ట్రానికి అడ్వకేట్ జనరల్‌ను అందిస్తుంది.
- II. ఒక రాష్ట్ర అడ్వకేట్-జనరల్, ప్రధానమంత్రి నిర్ణయిస్తే పదవిని కలిగి ఉంటారు.
- III. రాష్ట్ర అడ్వకేట్-జనరల్ గవర్నర్ నిర్ణయించే విధంగా వేతనం అందుకుంటారు.

Options :

1. ✘ I మాత్రమే
2. ✘ I మరియు II మాత్రమే

3. ✘ I మరియు III మాత్రమే

4. ✔ III మాత్రమే

Question Number : 52 Question Id : 630680218464 Question Type : MCQ Option Shuffling : Yes

Is Question Mandatory : No Calculator : None Response Time : N.A Think Time : N.A

Minimum Instruction Time : 0

Correct Marks : 1 Wrong Marks : 0

Which is the correct order (first to last) of the chapters of Part VI of the Indian Constitution?

Options :

1. ✘ The Legislative power of the Governor, The High Courts in the States, The State Legislature
2. ✘ The High Courts in the States, The State Legislature, The Legislative power of the Governor
3. ✘ The High Courts in the States, The Legislative power of the Governor, The State Legislature
4. ✔ The State Legislature, The Legislative power of the Governor, The High Courts in the States

Question Number : 52 Question Id : 630680218464 Question Type : MCQ Option Shuffling : Yes

Is Question Mandatory : No Calculator : None Response Time : N.A Think Time : N.A

Minimum Instruction Time : 0

Correct Marks : 1 Wrong Marks : 0

భారత రాజ్యాంగంలోని విభాగం VI అధ్యాయంలో సరైన క్రమం (మొదటి నుండి చివరి వరకు) ఏది?

Options :

1. ✘ గవర్నర్ యొక్క శాసనాధికారం, రాష్ట్రాలలోని హైకోర్టులు, రాష్ట్ర శాసనసభ

2. ✘ రాష్ట్రాలలోని హైకోర్టులు, రాష్ట్ర శాసనసభ, గవర్నర్ యొక్క శాసనాధికారం
3. ✘ రాష్ట్రాలలోని హైకోర్టులు, గవర్నర్ యొక్క శాసనాధికారం, రాష్ట్ర శాసనసభ
4. ✔ రాష్ట్ర శాసనసభ, గవర్నర్ యొక్క శాసనాధికారం, రాష్ట్రాలలోని హైకోర్టులు

Question Number : 53 Question Id : 630680218465 Question Type : MCQ Option Shuffling : Yes

Is Question Mandatory : No Calculator : None Response Time : N.A Think Time : N.A

Minimum Instruction Time : 0

Correct Marks : 1 Wrong Marks : 0

Which is the descending order of the following positions with respect to rank and precedence in the Indian political system?

- I. Former Presidents
- II. Governors of the states within their respective states.
- III. Chief Justice of India

Options :

1. ✔ II, I, III
2. ✘ I, II, III
3. ✘ III, II, I
4. ✘ II, III, I

Question Number : 53 Question Id : 630680218465 Question Type : MCQ Option Shuffling : Yes

Is Question Mandatory : No Calculator : None Response Time : N.A Think Time : N.A

Minimum Instruction Time : 0

Correct Marks : 1 Wrong Marks : 0

భారత రాజకీయ వ్యవస్థలో ర్యాంక్ మరియు ప్రాధాన్యతకు సంబంధించి ఈ క్రింది స్థానాల అవరోహణ క్రమం ఏది?

- I. మాజీ రాష్ట్రపతులు
- II. ఆయా రాష్ట్రాల్లోని రాష్ట్రాల గవర్నర్లు.
- III. భారత ప్రధాన న్యాయమూర్తి

Options :

1. ✓ II, I, III
2. ✗ I, II, III
3. ✗ III, II, I
4. ✗ II, III, I



Question Number : 54 Question Id : 630680218466 Question Type : MCQ Option Shuffling : Yes

Is Question Mandatory : No Calculator : None Response Time : N.A Think Time : N.A

Minimum Instruction Time : 0

Correct Marks : 1 Wrong Marks : 0

In India, to contest the election of a municipality, a person must have a minimum age of _____.

Options :

1. ✗ 25
2. ✗ 23

3. ✓ 21

4. ✘ 18

Question Number : 54 Question Id : 630680218466 Question Type : MCQ Option Shuffling : Yes

Is Question Mandatory : No Calculator : None Response Time : N.A Think Time : N.A

Minimum Instruction Time : 0

Correct Marks : 1 Wrong Marks : 0

భారతదేశంలో, మునిసిపాలిటీ ఎన్నికలలో పోటీ చేయడానికి, ఒక వ్యక్తికి కనీసం _____ సంవత్సరాల వయస్సు ఉండాలి.

Options :

1. ✘ 25

2. ✘ 23

3. ✓ 21

4. ✘ 18

Question Number : 55 Question Id : 630680218467 Question Type : MCQ Option Shuffling : Yes

Is Question Mandatory : No Calculator : None Response Time : N.A Think Time : N.A

Minimum Instruction Time : 0

Correct Marks : 1 Wrong Marks : 0

The elections of local bodies are conducted by the _____.

Options :

1. ✓ State Election Commission

2. ✖ Election Commission of India
3. ✖ High Court of concerned State
4. ✖ Governor of concerned State

Question Number : 55 Question Id : 630680218467 Question Type : MCQ Option Shuffling : Yes

Is Question Mandatory : No Calculator : None Response Time : N.A Think Time : N.A

Minimum Instruction Time : 0

Correct Marks : 1 Wrong Marks : 0

స్థానిక సంస్థల ఎన్నికలు _____ ద్వారా నిర్వహించబడతాయి.

Options :

1. ✓ రాష్ట్ర ఎన్నికల సంఘం
2. ✖ భారత ఎన్నికల సంఘం
3. ✖ సంబంధిత రాష్ట్ర ఛైకోర్టు
4. ✖ సంబంధిత రాష్ట్ర గవర్నర్

Question Number : 56 Question Id : 630680218468 Question Type : MCQ Option Shuffling : Yes

Is Question Mandatory : No Calculator : None Response Time : N.A Think Time : N.A

Minimum Instruction Time : 0

Correct Marks : 1 Wrong Marks : 0

Which of the following articles of the Indian Constitution has provisions related to the Organisation of Village Panchayats?

Options :

1. ✖ Article 76
2. ✖ Article 64
3. ✖ Article 55
4. ✔ Article 40

Question Number : 56 Question Id : 630680218468 Question Type : MCQ Option Shuffling : Yes

Is Question Mandatory : No Calculator : None Response Time : N.A Think Time : N.A

Minimum Instruction Time : 0

Correct Marks : 1 Wrong Marks : 0

భారత రాజ్యాంగంలోని ఈ క్రింది ఏ అధికరణంలో గ్రామ పంచాయతీల సంస్థకు సంబంధించిన నిబంధనలు ఉన్నాయి?

Options :

1. ✖ అధికరణం 76
2. ✖ అధికరణం 64
3. ✖ అధికరణం 55
4. ✔ అధికరణం 40

Question Number : 57 Question Id : 630680218469 Question Type : MCQ Option Shuffling : Yes

Is Question Mandatory : No Calculator : None Response Time : N.A Think Time : N.A

Minimum Instruction Time : 0

Correct Marks : 1 Wrong Marks : 0

The Second Round Table Conference was held in _____.

Options :

1. ✘ December 1930

2. ✔ December 1931

3. ✘ December 1932

4. ✘ December 1933

Question Number : 57 Question Id : 630680218469 Question Type : MCQ Option Shuffling : Yes

Is Question Mandatory : No Calculator : None Response Time : N.A Think Time : N.A

Minimum Instruction Time : 0

Correct Marks : 1 Wrong Marks : 0

రెండవ రౌండ్ టేబుల్ సమావేశం _____లో జరిగింది.

Options :

1. ✘ డిసెంబర్ 1930

2. ✔ డిసెంబర్ 1931

3. ✘ డిసెంబర్ 1932

4. ✘ డిసెంబర్ 1933

Question Number : 58 Question Id : 630680218470 Question Type : MCQ Option Shuffling : Yes
Is Question Mandatory : No Calculator : None Response Time : N.A Think Time : N.A
Minimum Instruction Time : 0

Correct Marks : 1 Wrong Marks : 0

The Depressed Classes Association was founded by _____.

Options :

1. ✘ Mahatma Gandhi
2. ✘ Lala Lajpat Rai
3. ✘ Jyotiba Phule
4. ✔ Bhimrao Ambedkar

Question Number : 58 Question Id : 630680218470 Question Type : MCQ Option Shuffling : Yes
Is Question Mandatory : No Calculator : None Response Time : N.A Think Time : N.A
Minimum Instruction Time : 0

Correct Marks : 1 Wrong Marks : 0

అణగారిన తరగతుల సంఘం _____చే స్థాపించబడింది.

Options :

1. ✘ మహాత్మా గాంధీ
2. ✘ లాలా లజపతిరాయ్
3. ✘ జ్యోతిబా ఫూలే
4. ✔ భీమ్‌రావ్ అంబేద్కర్

Question Number : 59 Question Id : 630680218471 Question Type : MCQ Option Shuffling : Yes

Is Question Mandatory : No Calculator : None Response Time : N.A Think Time : N.A

Minimum Instruction Time : 0

Correct Marks : 1 Wrong Marks : 0

Which of the following statements is correct?

I. In 1801, a subsidiary alliance was imposed on Mysore.

II. Nana Saheb was the adopted son of Peshwa Baji Rao II

Options :

1. ✘ Only I
2. ✔ Only II
3. ✘ Both I and II
4. ✘ Neither I nor II



Question Number : 59 Question Id : 630680218471 Question Type : MCQ Option Shuffling : Yes

Is Question Mandatory : No Calculator : None Response Time : N.A Think Time : N.A

Minimum Instruction Time : 0

Correct Marks : 1 Wrong Marks : 0

ఈ క్రింది ప్రకటనల్లో ఏది సరైనది?

- I. 1801లో, మైసూర్‌పై అనుబంధ కూటమి విధించబడింది.
- II. పీష్వా బాజీరావు II యొక్క దత్తపుత్రుడు నానా సాహెబ్.

Options :

1. ✘ I మాత్రమే

2. ✓ || మాత్రమే

3. ✘ | మరియు || రెండూ

4. ✘ | లేదా || ఏదీ కాదు

Question Number : 60 Question Id : 630680218472 Question Type : MCQ Option Shuffling : Yes

Is Question Mandatory : No Calculator : None Response Time : N.A Think Time : N.A

Minimum Instruction Time : 0

Correct Marks : 1 Wrong Marks : 0

Match the following revolt/Rebellion of India and their years.

	Revolt		Year
I	Santhal Revolt	1	1910
II	Bastar Rebellion	2	1940
III	Warli Revolt	3	1855

Options :

1. ✘ I-3, II-2, III-1

2. ✓ I-3, II-1, III-2

3. ✘ I-1, II-2, III-3

4. ✘ I-2, II-3, III-1

Question Number : 60 Question Id : 630680218472 Question Type : MCQ Option Shuffling : Yes

Is Question Mandatory : No Calculator : None Response Time : N.A Think Time : N.A

Minimum Instruction Time : 0

Correct Marks : 1 Wrong Marks : 0

భారతదేశంలో జరిగిన ఈ క్రింది తిరుగుబాటును మరియు వాటి సంవత్సరాలను జతచేయండి.

	తిరుగుబాటు		సంవత్సరం
I	సంతాల్ తిరుగుబాటు	1	1910
II	బస్తర్ తిరుగుబాటు	2	1940
III	వార్లీ తిరుగుబాటు	3	1855

Options :

1. ✘ I-3, II-2, III-1

2. ✔ I-3, II-1, III-2

3. ✘ I-1, II-2, III-3

4. ✘ I-2, II-3, III-1

Question Number : 61 Question Id : 630680218473 Question Type : MCQ Option Shuffling : Yes

Is Question Mandatory : No Calculator : None Response Time : N.A Think Time : N.A

Minimum Instruction Time : 0

Correct Marks : 1 Wrong Marks : 0

Which of the following pairs of organisations and its region is correct with respect to social and religious development in Indian?

Options :

1. ✘ Brahma Sabha – Punjab
2. ✘ Arya Samaj – Calcutta
3. ✘ Dev Samaj – Madras
4. ✔ Paramhans Mandali – Bombay

Question Number : 61 Question Id : 630680218473 Question Type : MCQ Option Shuffling : Yes
Is Question Mandatory : No Calculator : None Response Time : N.A Think Time : N.A
Minimum Instruction Time : 0

Correct Marks : 1 Wrong Marks : 0

భారతదేశంలో సామాజిక మరియు మతపరమైన అభివృద్ధికి సంబంధించి ఈ క్రింది జంట సంస్థలు మరియు దాని ప్రాంతం ఎంపికలలో ఏది సరైనది?

Options :

1. ✘ బ్రహ్మ సభ - పంజాబ్
2. ✘ ఆర్యసమాజ్ - కలకత్తా
3. ✘ దేవ్ సమాజ్ - మద్రాసు
4. ✔ పరమహంస మండలి - బొంబాయి

Question Number : 62 Question Id : 630680218474 Question Type : MCQ Option Shuffling : Yes
Is Question Mandatory : No Calculator : None Response Time : N.A Think Time : N.A
Minimum Instruction Time : 0

Correct Marks : 1 Wrong Marks : 0

Arrange the following kingdoms in decreasing order with respect to the number of wars they fought with the British East India Company.

I. Mysore

II. Maratha

III. Sikh

Options :

1. ✓ I, II, III

2. ✗ III, II, I

3. ✗ I, III, II

4. ✗ II, I, III

Question Number : 62 Question Id : 630680218474 Question Type : MCQ Option Shuffling : Yes

Is Question Mandatory : No Calculator : None Response Time : N.A Think Time : N.A

Minimum Instruction Time : 0

Correct Marks : 1 Wrong Marks : 0

బ్రిటీష్ ఈస్టిండియా కంపెనీతో వారు చేసిన యుద్ధాల సంఖ్యకు సంబంధించి ఈ క్రింది రాజ్యాలను అవరోహణ క్రమంలో అమర్చండి.

I. మైసూర్

II. మరాఠా

III. సిక్కు

Options :

1. ✓ I, II, III

2. ✘ III, II, I

3. ✘ I, III, II

4. ✘ II, I, III

Question Number : 63 Question Id : 630680218475 Question Type : MCQ Option Shuffling : Yes

Is Question Mandatory : No Calculator : None Response Time : N.A Think Time : N.A

Minimum Instruction Time : 0

Correct Marks : 1 Wrong Marks : 0

What is the chronological order (first to last) of the following events?

I. Direct Action Day

II. End of World War II

III. Cabinet Mission Plan

Options :

1. ✔ II, III, I

2. ✘ I, II, III

3. ✘ III, II, I

4. ✘ II, I, III

Question Number : 63 Question Id : 630680218475 Question Type : MCQ Option Shuffling : Yes

Is Question Mandatory : No Calculator : None Response Time : N.A Think Time : N.A

Minimum Instruction Time : 0

Correct Marks : 1 Wrong Marks : 0

ఈ క్రింది సంఘటనల కాలక్రమానుసారం (మొదటి నుండి చివరి వరకు) ఏమిటి?

- I. డైరెక్ట్ యాక్షన్ డే
- II. రెండవ ప్రపంచ యుద్ధం ముగింపు
- III. క్యాబినెట్ మిషన్ ప్లాన్

Options :

1. ✓ II, III, I

2. ✗ I, II, III

3. ✗ III, II, I

4. ✗ II, I, III

Question Number : 64 Question Id : 630680218476 Question Type : MCQ Option Shuffling : Yes

Is Question Mandatory : No Calculator : None Response Time : N.A Think Time : N.A

Minimum Instruction Time : 0

Correct Marks : 1 Wrong Marks : 0

Disinvestment of PSUs is classified under which of the following economic reforms?

Options :

1. ✗ Liberalisation

2. ✗ Centralization

3. ✗ Globalisation

4. ✓ Privatisation

Question Number : 64 Question Id : 630680218476 Question Type : MCQ Option Shuffling : Yes

Is Question Mandatory : No Calculator : None Response Time : N.A Think Time : N.A

Minimum Instruction Time : 0

Correct Marks : 1 Wrong Marks : 0

PSUల పెట్టుబడుల ఉపసంహరణ అనేది క్రింది ఏ ఆర్థిక సంస్కరణల క్రింద వర్గీకరించబడింది?

Options :

1. ✘ సరళీకరణ

2. ✘ కేంద్రీకరణ

3. ✘ ప్రపంచీకరణ

4. ✓ ప్రైవేటీకరణ



Question Number : 65 Question Id : 630680218477 Question Type : MCQ Option Shuffling : Yes

Is Question Mandatory : No Calculator : None Response Time : N.A Think Time : N.A

Minimum Instruction Time : 0

Correct Marks : 1 Wrong Marks : 0

Which of the following Central Public Sector Enterprises is classified as Maharatnas company?

Options :

1. ✓ Indian Oil Corporation Limited

2. ✘ Mahanagar Telephone Nigam Limited

3. ✘ Airport Authority of India

4. ✘ Tourism Corporation Limited

Question Number : 65 Question Id : 630680218477 Question Type : MCQ Option Shuffling : Yes

Is Question Mandatory : No Calculator : None Response Time : N.A Think Time : N.A

Minimum Instruction Time : 0

Correct Marks : 1 Wrong Marks : 0

ఈ క్రింది వాటిలో ఏ కేంద్ర ప్రభుత్వ రంగ సంస్థ మహారత్న కంపెనీగా వర్గీకరించబడింది?

Options :

1. ✔ ఇండియన్ ఆయిల్ కార్పొరేషన్ లిమిటెడ్ (Indian Oil Corporation Limited)

2. ✘ మహానగర్ టెలిఫోన్ నిగమ్ లిమిటెడ్ (Mahanagar Telephone Nigam Limited)

3. ✘ ఎయిర్పోర్ట్ అథారిటీ ఆఫ్ ఇండియా (Airport Authority of India)

4. ✘ టూరిజం కార్పొరేషన్ లిమిటెడ్ (Tourism Corporation Limited)

Question Number : 66 Question Id : 630680218478 Question Type : MCQ Option Shuffling : Yes

Is Question Mandatory : No Calculator : None Response Time : N.A Think Time : N.A

Minimum Instruction Time : 0

Correct Marks : 1 Wrong Marks : 0

Which of the following five-year plans was launched after the new economic policy of 1991?

Options :

1. ✘ Fifth five-year plan

2. ✘ Sixth five-year plan
3. ✘ Seventh five-year plan
4. ✔ Eighth five-year plan

Question Number : 66 Question Id : 630680218478 Question Type : MCQ Option Shuffling : Yes

Is Question Mandatory : No Calculator : None Response Time : N.A Think Time : N.A

Minimum Instruction Time : 0

Correct Marks : 1 Wrong Marks : 0

1991 కొత్త ఆర్థిక విధానం తర్వాత ఈ క్రింది పంచవర్ష ప్రణాళికల్లో ఏది ప్రారంభించబడింది?

Options :

1. ✘ ఐదవ పంచవర్ష ప్రణాళిక
2. ✘ ఆరవ పంచవర్ష ప్రణాళిక
3. ✘ ఏడవ పంచవర్ష ప్రణాళిక
4. ✔ ఎనిమిదవ పంచవర్ష ప్రణాళిక

Question Number : 67 Question Id : 630680218479 Question Type : MCQ Option Shuffling : Yes

Is Question Mandatory : No Calculator : None Response Time : N.A Think Time : N.A

Minimum Instruction Time : 0

Correct Marks : 1 Wrong Marks : 0

Who was the first to argue that in the face of high deficits, people would save more?

Options :

1. ✓ David Ricardo
2. ✘ Adam Smith
3. ✘ Alfred Marshall
4. ✘ Amartya Sen

Question Number : 67 Question Id : 630680218479 Question Type : MCQ Option Shuffling : Yes
Is Question Mandatory : No Calculator : None Response Time : N.A Think Time : N.A
Minimum Instruction Time : 0

Correct Marks : 1 Wrong Marks : 0

అధిక లోటుల నేపథ్యంలో ప్రజలు ఎక్కువ ఆదా చేస్తారని మొదట వాదించినది ఎవరు?

Options :

1. ✓ డేవిడ్ రికార్డో (David Ricardo)
2. ✘ ఆడమ్ స్మిత్ (Adam Smith)
3. ✘ ఆల్ఫ్రెడ్ మార్షల్ (Alfred Marshall)
4. ✘ అమర్త్య సేన్ (Amartya Sen)

Question Number : 68 Question Id : 630680218480 Question Type : MCQ Option Shuffling : Yes
Is Question Mandatory : No Calculator : None Response Time : N.A Think Time : N.A
Minimum Instruction Time : 0

Correct Marks : 1 Wrong Marks : 0

With respect to the Green Revolution in India, what does "HYV" stand for?

Options :

1. ✘ Hidden Yielding Variety
2. ✘ Healthy Young Variety
3. ✔ High Yielding Variety
4. ✘ Hyper Young Variety

Question Number : 68 Question Id : 630680218480 Question Type : MCQ Option Shuffling : Yes

Is Question Mandatory : No Calculator : None Response Time : N.A Think Time : N.A

Minimum Instruction Time : 0

Correct Marks : 1 Wrong Marks : 0

భారతదేశంలో హరిత విప్లవానికి సంబంధించి, "HYV" దేనిని సూచిస్తుంది?

Options :

1. ✘ దాచిన దిగుబడి వెరైటీ (Hidden Yielding Variety)
2. ✘ ఆరోగ్యకరమైన యంగ్ వెరైటీ (Healthy Young Variety)
3. ✔ అధిక దిగుబడినిచ్చే వెరైటీ (High Yielding Variety)
4. ✘ హైపర్ యంగ్ వెరైటీ (Hyper Young Variety)

Question Number : 69 Question Id : 630680218481 Question Type : MCQ Option Shuffling : Yes

Is Question Mandatory : No Calculator : None Response Time : N.A Think Time : N.A

Minimum Instruction Time : 0

Correct Marks : 1 Wrong Marks : 0

"Garibi Hatao" was one of the two main objectives of which Five-Year Plan of India?

Options :

1. ✓ Fifth Five-Year Plan
2. ✘ Sixth Five-Year Plan
3. ✘ Seventh Five-Year Plan
4. ✘ Eighth Five-Year Plan

Question Number : 69 Question Id : 630680218481 Question Type : MCQ Option Shuffling : Yes

Is Question Mandatory : No Calculator : None Response Time : N.A Think Time : N.A

Minimum Instruction Time : 0

Correct Marks : 1 Wrong Marks : 0

భారతదేశం యొక్క ఏ పంచవర్ష ప్రణాళిక యొక్క రెండు ప్రధాన లక్ష్యాలలో "గరిబీ హటావో" ఒకటి?

Options :

1. ✓ ఐదవ పంచవర్ష ప్రణాళిక
2. ✘ ఆరవ పంచవర్ష ప్రణాళిక
3. ✘ ఏడవ పంచవర్ష ప్రణాళిక
4. ✘ ఎనిమిదవ పంచవర్ష ప్రణాళిక

Question Number : 70 Question Id : 630680218482 Question Type : MCQ Option Shuffling : Yes

Is Question Mandatory : No Calculator : None Response Time : N.A Think Time : N.A

Minimum Instruction Time : 0

Correct Marks : 1 Wrong Marks : 0

Match the following Five-Year Plan with their main objective.

	Plan		Objective
I	Second five-Year Plan	1	Rapid Industrialization- Heavy & basic industries
II	Fifth five-Year Plan	2	Towards Faster & More Inclusive Growth
III	Eleventh five-Year Plan	3	Attainment of self-reliance

Options :

1. ✘ I-1, II-2, III-3

2. ✔ I-1, II-3, III-2

3. ✘ I-3, II-2, III-1

4. ✘ I-2, II-3, III-1

Question Number : 70 Question Id : 630680218482 Question Type : MCQ Option Shuffling : Yes

Is Question Mandatory : No Calculator : None Response Time : N.A Think Time : N.A

Minimum Instruction Time : 0

Correct Marks : 1 Wrong Marks : 0

ఈ క్రింది పంచవర్ష ప్రణాళికలను మరియు వాటి ప్రధాన లక్ష్యంతో జతచేయండి.

ప్రణాళిక	లక్ష్యం
I రెండవ పంచవర్ష ప్రణాళిక	1 వేగవంతమైన పారిశ్రామికీకరణ- భారీ మరియు ప్రాథమిక పరిశ్రమలు
II ఐదవ పంచవర్ష ప్రణాళిక	2 వేగవంతమైన మరియు మరింత సమగ్ర వృద్ధి దిశగా
III పదకొండవ పంచవర్ష ప్రణాళిక	3 స్వావలంబన సాధన

Options :

1. ✘ I-1, II-2, III-3

2. ✔ I-1, II-3, III-2

3. ✘ I-3, II-2, III-1

4. ✘ I-2, II-3, III-1

Question Number : 71 Question Id : 630680218483 Question Type : MCQ Option Shuffling : Yes

Is Question Mandatory : No Calculator : None Response Time : N.A Think Time : N.A

Minimum Instruction Time : 0

Correct Marks : 1 Wrong Marks : 0

Which of the following pairs is correct regarding time periods and economic development in India?

- I. Mid 1960s to mid-1970s: First phase of the green revolution
- II. Mid 1970s to mid-1990s: Second phase of the green revolution

Options :

1. ✔ Only I

2. ✘ Only II

3. ✖ Both I and III

4. ✖ Neither I nor II

Question Number : 71 Question Id : 630680218483 Question Type : MCQ Option Shuffling : Yes

Is Question Mandatory : No Calculator : None Response Time : N.A Think Time : N.A

Minimum Instruction Time : 0

Correct Marks : 1 Wrong Marks : 0

భారతదేశంలో కాలవ్యవధులు మరియు ఆర్థికాభివృద్ధికి సంబంధించి ఈ క్రింది జంటలలో ఏది సరైనది?

I. 1960ల మధ్య నుండి 1970ల మధ్య వరకు: హరిత విప్లవం యొక్క మొదటి దశ

II. 1970ల మధ్య నుండి 1990ల మధ్య వరకు: హరిత విప్లవం యొక్క రెండవ దశ

Options :

1. ✔ I మాత్రమే

2. ✖ II మాత్రమే

3. ✖ I మరియు III రెండూ

4. ✖ I లేదా II ఏదీ కాదు

Question Number : 72 Question Id : 630680218484 Question Type : MCQ Option Shuffling : Yes

Is Question Mandatory : No Calculator : None Response Time : N.A Think Time : N.A

Minimum Instruction Time : 0

Correct Marks : 1 Wrong Marks : 0

As per the 2011 census of India, what is the approximate percent of Scheduled Tribes (ST)?

Options :

1. ✘ 6.6

2. ✘ 7.6

3. ✔ 8.6

4. ✘ 9.6

Question Number : 72 Question Id : 630680218484 Question Type : MCQ Option Shuffling : Yes
Is Question Mandatory : No Calculator : None Response Time : N.A Think Time : N.A
Minimum Instruction Time : 0

Correct Marks : 1 Wrong Marks : 0

భారతదేశం యొక్క 2011 జనాభా లెక్కల ప్రకారం, షెడ్యూల్డ్ తెగల (ST) యొక్క సుమారు శాతం ఎంత?

Options :

1. ✘ 6.6

2. ✘ 7.6

3. ✔ 8.6

4. ✘ 9.6

Question Number : 73 Question Id : 630680218485 Question Type : MCQ Option Shuffling : Yes
Is Question Mandatory : No Calculator : None Response Time : N.A Think Time : N.A
Minimum Instruction Time : 0

Correct Marks : 1 Wrong Marks : 0

Varishtha Pension Bima Yojana is under which Union ministry?

Options :

1. ✓ Ministry of Finance
2. ✘ Ministry of Social Justice and Empowerment
3. ✘ Ministry of Home Affairs
4. ✘ Ministry of Health and Family Welfare

Question Number : 73 Question Id : 630680218485 Question Type : MCQ Option Shuffling : Yes

Is Question Mandatory : No Calculator : None Response Time : N.A Think Time : N.A

Minimum Instruction Time : 0

Correct Marks : 1 Wrong Marks : 0

వరిష్ట పెన్షన్ బీమా యోజన ఏ కేంద్ర మంత్రిత్వ శాఖ క్రిందకు వస్తుంది?

Options :

1. ✓ ఆర్థిక మంత్రిత్వ శాఖ
2. ✘ సామాజిక న్యాయం మరియు సాధికారత మంత్రిత్వ శాఖ
3. ✘ హోం వ్యవహారాల మంత్రిత్వ శాఖ
4. ✘ ఆరోగ్య మరియు కుటుంబ సంక్షేమ మంత్రిత్వ శాఖ

Question Number : 74 Question Id : 630680218486 Question Type : MCQ Option Shuffling : Yes

Is Question Mandatory : No Calculator : None Response Time : N.A Think Time : N.A

Minimum Instruction Time : 0

Correct Marks : 1 Wrong Marks : 0

The Ministry of Social Justice and Empowerment has launched an scheme called the SMILE scheme for _____.

Options :

1. ✓ Support for Marginalized Individuals for Livelihood and Enterprise
2. ✘ Old age home of elderly
3. ✘ Free gas connection to women
4. ✘ Free higher education for economically weaker sections

Question Number : 74 Question Id : 630680218486 Question Type : MCQ Option Shuffling : Yes

Is Question Mandatory : No Calculator : None Response Time : N.A Think Time : N.A

Minimum Instruction Time : 0

Correct Marks : 1 Wrong Marks : 0

సామాజిక న్యాయం మరియు సాధికారత మంత్రిత్వ శాఖ _____ కోసం స్మైల్ (SMILE) అనే పథకాన్ని ప్రారంభించింది.

Options :

1. ✓ జీవనోపాధి మరియు ఎంటర్ప్రైజ్ కోసం అట్టడుగు వ్యక్తులకు మద్దతు
2. ✘ వృద్ధుల కొరకు వృద్ధాశ్రమం
3. ✘ మహిళలకు ఉచిత గ్యాస్ కనెక్షన్
4. ✘ ఆర్థికంగా వెనుకబడిన వర్గాలకు ఉచిత ఉన్నత విద్య

Question Number : 75 Question Id : 630680218487 Question Type : MCQ Option Shuffling : Yes

Is Question Mandatory : No Calculator : None Response Time : N.A Think Time : N.A

Minimum Instruction Time : 0

Correct Marks : 1 Wrong Marks : 0

The New Education Policy (NEP) 2020 has introduced a new structure of _____.

Options :

1. ✘ $5 + 5 + 2 + 3$

2. ✔ $5 + 3 + 3 + 4$

3. ✘ $4 + 4 + 4 + 3$

4. ✘ $6 + 3 + 3 + 3$

Question Number : 75 Question Id : 630680218487 Question Type : MCQ Option Shuffling : Yes

Is Question Mandatory : No Calculator : None Response Time : N.A Think Time : N.A

Minimum Instruction Time : 0

Correct Marks : 1 Wrong Marks : 0

కొత్త విద్యా విధానం (NEP) 2020 _____ అనే కొత్త ఏర్పాటును ప్రవేశపెట్టింది.

Options :

1. ✘ $5 + 5 + 2 + 3$

2. ✔ $5 + 3 + 3 + 4$

3. ✘ $4 + 4 + 4 + 3$

4. ✖ 6 + 3 + 3 + 3

Question Number : 76 Question Id : 630680218488 Question Type : MCQ Option Shuffling : Yes

Is Question Mandatory : No Calculator : None Response Time : N.A Think Time : N.A

Minimum Instruction Time : 0

Correct Marks : 1 Wrong Marks : 0

Kinnerasani River is an important tributary of which river flowing in Telangana?

Options :

1. ✔ Godavari
2. ✖ Krishna
3. ✖ Cauvery
4. ✖ Wainganga



Question Number : 76 Question Id : 630680218488 Question Type : MCQ Option Shuffling : Yes

Is Question Mandatory : No Calculator : None Response Time : N.A Think Time : N.A

Minimum Instruction Time : 0

Correct Marks : 1 Wrong Marks : 0

తెలంగాణలో ప్రవహించే ఏ నదికి కిన్నెరసాని నది ఒక ముఖ్యమైన ఉపనది?

Options :

1. ✔ గోదావరి
2. ✖ కృష్ణా

3. ✖ కావేరి

4. ✖ వైన్‌గంగా

Question Number : 77 Question Id : 630680218489 Question Type : MCQ Option Shuffling : Yes

Is Question Mandatory : No Calculator : None Response Time : N.A Think Time : N.A

Minimum Instruction Time : 0

Correct Marks : 1 Wrong Marks : 0

Which district of Telangana is rich in Manganese ore?

Options :

1. ✖ Jagtial district

2. ✔ Adilabad district

3. ✖ Jogulamba Gadwal district

4. ✖ Hanumakonda district

Question Number : 77 Question Id : 630680218489 Question Type : MCQ Option Shuffling : Yes

Is Question Mandatory : No Calculator : None Response Time : N.A Think Time : N.A

Minimum Instruction Time : 0

Correct Marks : 1 Wrong Marks : 0

తెలంగాణలోని ఏ జిల్లాలో మాంగనీస్ ఖనిజం సమృద్ధిగా ఉంది?

Options :

1. ✖ జగిత్యాల జిల్లా

2. ✓ ఆదిలాబాద్ జిల్లా

3. ✘ జోగులాంబ గద్వాల జిల్లా

4. ✘ హనుమకొండ జిల్లా

Question Number : 78 Question Id : 630680218490 Question Type : MCQ Option Shuffling : Yes

Is Question Mandatory : No Calculator : None Response Time : N.A Think Time : N.A

Minimum Instruction Time : 0

Correct Marks : 1 Wrong Marks : 0

After the bifurcation of Andhra Pradesh, the Telangana state is the _____ largest State in terms of both area and the size of the population in the country.

Options :

1. ✘ 13th

2. ✘ 8th

3. ✘ 10th

4. ✓ 12th

Question Number : 78 Question Id : 630680218490 Question Type : MCQ Option Shuffling : Yes

Is Question Mandatory : No Calculator : None Response Time : N.A Think Time : N.A

Minimum Instruction Time : 0

Correct Marks : 1 Wrong Marks : 0

ఆంధ్రప్రదేశ్ విభజన తర్వాత, దేశంలోని విస్తీర్ణం మరియు జనాభా పరిమాణం రెండింటినీనూ తెలంగాణ రాష్ట్రం _____ అతిపెద్ద రాష్ట్రంగా ఉంది.

Options :

1. ✘ 13వ
2. ✘ 8వ
3. ✘ 10వ
4. ✔ 12వ

Question Number : 79 Question Id : 630680218491 Question Type : MCQ Option Shuffling : Yes

Is Question Mandatory : No Calculator : None Response Time : N.A Think Time : N.A

Minimum Instruction Time : 0

Correct Marks : 1 Wrong Marks : 0

Into how many agro-climatic zones is Telangana state divided based on geographical characteristics such as rainfall, nature of soils, climate etc?

Options :

1. ✔ 4
2. ✘ 3
3. ✘ 2
4. ✘ 5

Question Number : 79 Question Id : 630680218491 Question Type : MCQ Option Shuffling : Yes

Is Question Mandatory : No Calculator : None Response Time : N.A Think Time : N.A

Minimum Instruction Time : 0

Correct Marks : 1 Wrong Marks : 0

వర్షపాతం, నేలల స్వభావం, వాతావరణం మొదలైన భౌగోళిక లక్షణాల ఆధారంగా తెలంగాణ రాష్ట్రం ఎన్ని వ్యవసాయ-వాతావరణ మండలాలుగా విభజించబడింది?

Options :

1. ✓ 4

2. ✘ 3

3. ✘ 2

4. ✘ 5

Question Number : 80 Question Id : 630680218492 Question Type : MCQ Option Shuffling : Yes

Is Question Mandatory : No Calculator : None Response Time : N.A Think Time : N.A

Minimum Instruction Time : 0

Correct Marks : 1 Wrong Marks : 0

As per the Telangana State Development Planning Society (TSDPS), Planning Department report-2021 what is the sex ratio (Females per 1000 males) of Telangana?

Options :

1. ✘ 978

2. ✓ 988

3. ✘ 968

4. ✘ 958

Question Number : 80 Question Id : 630680218492 Question Type : MCQ Option Shuffling : Yes

Is Question Mandatory : No Calculator : None Response Time : N.A Think Time : N.A

Minimum Instruction Time : 0

Correct Marks : 1 Wrong Marks : 0

తెలంగాణ స్టేట్ డెవలప్‌మెంట్ ప్లానింగ్ సొసైటీ (TSDPS), ప్లానింగ్ డిపార్ట్‌మెంట్ నివేదిక-2021 ప్రకారం తెలంగాణ లింగ నిష్పత్తి (1000 మంది పురుషులకు స్త్రీలు) ఎంత?

Options :

1. ✘ 978

2. ✔ 988

3. ✘ 968

4. ✘ 958

Question Number : 81 Question Id : 630680218493 Question Type : MCQ Option Shuffling : Yes

Is Question Mandatory : No Calculator : None Response Time : N.A Think Time : N.A

Minimum Instruction Time : 0

Correct Marks : 1 Wrong Marks : 0

Which city of Telangana has been recognized as the "Tree City of the World- 2021" by the Arbor Day Foundation and the Food and Agriculture Organisation (FAO) of the United Nations for the second consecutive year?

Options :

1. ✔ Hyderabad

2. ✘ Warangal

3. ✖ Karimnagar

4. ✖ Adilabad

Question Number : 81 Question Id : 630680218493 Question Type : MCQ Option Shuffling : Yes

Is Question Mandatory : No Calculator : None Response Time : N.A Think Time : N.A

Minimum Instruction Time : 0

Correct Marks : 1 Wrong Marks : 0

అర్బర్ డే ఫౌండేషన్ మరియు ఐక్యరాజ్యసమితి యొక్క షుడ్ అండ్ అగ్రికల్చర్ ఆర్గనైజేషన్ (FAO) చేత వరుసగా రెండవ సంవత్సరం "ట్రీ సిటీ ఆఫ్ ది వరల్డ్- 2021" గా తెలంగాణలోని ఏ నగరం గుర్తింపు పొందింది?

Options :

1. ✓ హైదరాబాద్

2. ✖ వరంగల్

3. ✖ కరీంనగర్

4. ✖ ఆదిలాబాద్

Question Number : 82 Question Id : 630680218494 Question Type : MCQ Option Shuffling : Yes

Is Question Mandatory : No Calculator : None Response Time : N.A Think Time : N.A

Minimum Instruction Time : 0

Correct Marks : 1 Wrong Marks : 0

As per the Telangana State Development Planning Society (TSDPS), Planning Department report-2021 what is population Density (Persons / Sq Km)of Telangana?

Options :

1. ✓ 312

2. ✘ 412

3. ✘ 512

4. ✘ 212

Question Number : 82 Question Id : 630680218494 Question Type : MCQ Option Shuffling : Yes
Is Question Mandatory : No Calculator : None Response Time : N.A Think Time : N.A
Minimum Instruction Time : 0

Correct Marks : 1 Wrong Marks : 0

తెలంగాణ స్టేట్ డెవలప్‌మెంట్ ప్లానింగ్ సొసైటీ (TSDPS), ప్లానింగ్ డిపార్ట్‌మెంట్ రిపోర్ట్-2021 ప్రకారం తెలంగాణ జన సాంద్రత (వ్యక్తులు / చదరపు కి.మీ) ఎంత?

Options :

1. ✓ 312

2. ✘ 412

3. ✘ 512

4. ✘ 212

Question Number : 83 Question Id : 630680218495 Question Type : MCQ Option Shuffling : Yes
Is Question Mandatory : No Calculator : None Response Time : N.A Think Time : N.A
Minimum Instruction Time : 0

Correct Marks : 1 Wrong Marks : 0

Read the following and select the correct statement(s):

A: Bharat Heavy Electricals Limited (BHEL) has bagged the contract for the construction of the Yadadri Ultra Mega Power Plant (UMPP).

B: Yadadri Ultra Mega Power Plant (UMPP) is a 4,000-megawatt (MW) power station.

Options :

1. ✘ Only A
2. ✘ Only B
3. ✔ Both A and B
4. ✘ Neither A nor B

Question Number : 83 Question Id : 630680218495 Question Type : MCQ Option Shuffling : Yes

Is Question Mandatory : No Calculator : None Response Time : N.A Think Time : N.A

Minimum Instruction Time : 0

Correct Marks : 1 Wrong Marks : 0

ఈ క్రింది వాటిని చదివి, సరైన ప్రకటన(ల)ను ఎంచుకోండి:

A: యాదాద్రి అల్ట్రా మెగా పవర్ ప్లాంట్ (UMPP) నిర్మాణ కాంట్రాక్టును భారత్ హెవీ ఎలక్ట్రికల్స్ లిమిటెడ్ (BHEL) చేజిక్కించుకుంది.

B: యాదాద్రి అల్ట్రా మెగా పవర్ ప్లాంట్ (UMPP) 4,000 మెగావాట్ల (MW) పవర్ స్టేషన్.

Options :

1. ✘ A మాత్రమే
2. ✘ B మాత్రమే

3. ✓ A మరియు B రెండూ

4. ✗ A లేదా B ఏది కాదు

Question Number : 84 Question Id : 630680218496 Question Type : MCQ Option Shuffling : Yes

Is Question Mandatory : No Calculator : None Response Time : N.A Think Time : N.A

Minimum Instruction Time : 0

Correct Marks : 1 Wrong Marks : 0

Read the following and select the correct statement(s):

A: As per reports of the Central Electricity Authority as on 31st August 2022, the total installed power capacity in Telangana was 18029.39 MW

B: In October 2020, the Telangana State Government rolled out a 10-year Electric Vehicle (EV) policy.

C: As per the Provisional Advance Estimates for 2022-23 given in Telangana Socio Economic Outlook 2023, Telangana's Gross State Domestic Product (GSDP) at current prices is ₹13.27 lakh crores.

Options :

1. ✓ A, B and C

2. ✗ Both B and C

3. ✗ Both A and B

4. ✗ Only C

Question Number : 84 Question Id : 630680218496 Question Type : MCQ Option Shuffling : Yes

Is Question Mandatory : No Calculator : None Response Time : N.A Think Time : N.A

Minimum Instruction Time : 0

Correct Marks : 1 Wrong Marks : 0

ఈ క్రింది వాటిని చదివి, సరైన ప్రకటన(ల)ను ఎంచుకోండి:

A: సెంట్రల్ ఎలక్ట్రిసిటీ అథారిటీ నివేదికల ప్రకారం 31 ఆగస్టు 2022 నాటికి, తెలంగాణలో మొత్తం స్థాపిత విద్యుత్ సామర్థ్యం 18029.39 MW.

B: అక్టోబర్ 2020లో, తెలంగాణ రాష్ట్ర ప్రభుత్వం 10 సంవత్సరాల ఎలక్ట్రిక్ వెహికల్ (EV) విధానాన్ని రూపొందించింది.

C: 2022-23 తాత్కాలిక ముందస్తు అంచనాల ప్రకారం, ప్రస్తుత ధరల ప్రకారం తెలంగాణ స్థూల రాష్ట్ర దేశీయోత్పత్తి (GSDP) ₹13.27 లక్షల కోట్లు.

Options :

1. ✓ A, B మరియు C

2. ✗ B మరియు C రెండూ

3. ✗ A మరియు B రెండూ

4. ✗ C మాత్రమే

Question Number : 85 Question Id : 630680218497 Question Type : MCQ Option Shuffling : Yes

Is Question Mandatory : No Calculator : None Response Time : N.A Think Time : N.A

Minimum Instruction Time : 0

Correct Marks : 1 Wrong Marks : 0

Match the following power projects and their respective location/district:

Power project	Location/district
A. Nagarjunasagar Hydroelectric project	1. Nizamabad
B. Pochampad Hydroelectric Project	2. Nalgonda
C. Singoor Hydroelectric Project	3. Mahabubnagar
D. Srisaillam Hydroelectric Project	4. Sangareddyn

Options :

1. ✘ A-1, B-2, C-4, D-3
2. ✔ A-2, B-1, C-4, D-3
3. ✘ A-2, B-1, C-3, D-4
4. ✘ A-4, B-1, C-2, D-3

Question Number : 85 Question Id : 630680218497 Question Type : MCQ Option Shuffling : Yes
Is Question Mandatory : No Calculator : None Response Time : N.A Think Time : N.A
Minimum Instruction Time : 0

Correct Marks : 1 Wrong Marks : 0

ఈ క్రింది పవర్ ప్రాజెక్ట్‌లు మరియు వాటి సంబంధిత స్థానం/జిల్లాను జతచేయండి:

పవర్ ప్రాజెక్ట్	ప్రాంతం/జిల్లా
A. నాగార్జునసాగర్ జలవిద్యుత్ ప్రాజెక్ట్	1. నిజామాబాద్
B. పోచంపాడ జలవిద్యుత్ ప్రాజెక్ట్	2. నల్గొండ
C. సింగూర్ జలవిద్యుత్ ప్రాజెక్ట్	3. మహబూబ్ నగర్
D. శ్రీశైలం జలవిద్యుత్ ప్రాజెక్ట్	4. సంగారెడ్డి

Options :

1. ✘ A-1, B-2, C-4, D-3
2. ✔ A-2, B-1, C-4, D-3
3. ✘ A-2, B-1, C-3, D-4

4. ✘ A-4, B-1, C-2, D-3

Question Number : 86 Question Id : 630680218498 Question Type : MCQ Option Shuffling : Yes

Is Question Mandatory : No Calculator : None Response Time : N.A Think Time : N.A

Minimum Instruction Time : 0

Correct Marks : 1 Wrong Marks : 0

Read the following and choose the correct statement(s):

A: Malinadha Suri from Medak made Telugu interpretations of Kalidasa's poems.

B: Baddena wrote 'Neethi Shastra Muktavali'.

Options :

1. ✘ Only A

2. ✘ Only B

3. ✔ Both A and B

4. ✘ Neither A nor B

Question Number : 86 Question Id : 630680218498 Question Type : MCQ Option Shuffling : Yes

Is Question Mandatory : No Calculator : None Response Time : N.A Think Time : N.A

Minimum Instruction Time : 0

Correct Marks : 1 Wrong Marks : 0

ఈ క్రింది వాటిని చదివి సరైన ప్రకటన(ల)ను ఎంచుకోండి:

A: కాళిదాసు పద్యాలను మెదక్కు చెందిన మలినాథ సూరి తెలుగులోకి అనువదించారు.

B: బద్దెన 'నీతి శాస్త్ర ముక్తావళి'ని రాశారు.

Options :

1. ✘ A మాత్రమే

2. ✘ B మాత్రమే

3. ✔ A మరియు B రెండూ

4. ✘ A లేదా B ఏదీ కాదు

Question Number : 87 Question Id : 630680218499 Question Type : MCQ Option Shuffling : Yes
Is Question Mandatory : No Calculator : None Response Time : N.A Think Time : N.A
Minimum Instruction Time : 0

Correct Marks : 1 Wrong Marks : 0

Select the correct pair(s) from the following:

Heritage site	Location/district
A. Fort of Idgal	Adilabad
B. Kesavardhana panchamukha lingeswara temple	Jagtial
C. Gnana Saraswathi temple	Nirmal
D. Tringeswralyam	Siddipet

Options :

1. ✘ Both A and C

2. ✘ Both A and D

3. ✘ Only A, C and D

4. ✔ A, B, C and D

Question Number : 87 Question Id : 630680218499 Question Type : MCQ Option Shuffling : Yes

Is Question Mandatory : No Calculator : None Response Time : N.A Think Time : N.A

Minimum Instruction Time : 0

Correct Marks : 1 Wrong Marks : 0

ఈ క్రింది వాటి నుండి సరైన జతను ఎంచుకోండి:

వారసత్వ ప్రదేశం	ప్రాంతం / జిల్లా
A. ఈధల్ కోట	ఆదిలాబాద్
B. కేశవర్థన పంచముఖ లింగేశ్వర దేవాలయం	జగిత్యాల
C. జ్ఞాన సరస్వతి ఆలయం	నిర్మల్
D. త్రింగేశ్వరాలయం	సిద్దిపేట

Options :

1. ✘ A మరియు C రెండూ

2. ✘ A మరియు D రెండూ

3. ✘ A, C మరియు D మాత్రమే

4. ✔ A, B, C మరియు D

Question Number : 88 Question Id : 630680218500 Question Type : MCQ Option Shuffling : Yes

Is Question Mandatory : No Calculator : None Response Time : N.A Think Time : N.A

Minimum Instruction Time : 0

Correct Marks : 1 Wrong Marks : 0

Dhokra or Dokra is also known as bell metal craft and is widely seen in _____ district of Telangana.

Options :

1. ✓ Adilabad
2. ✘ Nizamabad
3. ✘ Nalgonda
4. ✘ Warangal

Question Number : 88 Question Id : 630680218500 Question Type : MCQ Option Shuffling : Yes
Is Question Mandatory : No Calculator : None Response Time : N.A Think Time : N.A
Minimum Instruction Time : 0

Correct Marks : 1 Wrong Marks : 0

ధోక్రా లేదా డోక్రాను బెల్ మెటల్ క్రాఫ్ట్ అని కూడా పిలుస్తారు మరియు ఇది తెలంగాణలోని _____ జిల్లాలో విస్తృతంగా కనిపిస్తుంది.

Options :

1. ✓ ఆదిలాబాద్
2. ✘ నిజామాబాద్
3. ✘ నల్గొండ
4. ✘ వరంగల్

Question Number : 89 Question Id : 630680218501 Question Type : MCQ Option Shuffling : Yes
Is Question Mandatory : No Calculator : None Response Time : N.A Think Time : N.A
Minimum Instruction Time : 0

Correct Marks : 1 Wrong Marks : 0

Bonalu is a Hindu Festival, celebrated during the Telugu month of _____ in Telangana.

Options :

1. ✘ Magham
2. ✘ Pushyam
3. ✘ Sravanam
4. ✔ Ashadam

Question Number : 89 Question Id : 630680218501 Question Type : MCQ Option Shuffling : Yes

Is Question Mandatory : No Calculator : None Response Time : N.A Think Time : N.A

Minimum Instruction Time : 0

Correct Marks : 1 Wrong Marks : 0

బోనాలు అనేది హిందువుల పండుగ, దీనిని తెలంగాణలో _____ తెలుగు నెలలో జరుపుకుంటారు.

Options :

1. ✘ మాఘం
2. ✘ పుష్యం
3. ✘ శ్రావణం
4. ✔ ఆషాఢం

Question Number : 90 Question Id : 630680218502 Question Type : MCQ Option Shuffling : Yes

Is Question Mandatory : No Calculator : None Response Time : N.A Think Time : N.A

Minimum Instruction Time : 0

Correct Marks : 1 Wrong Marks : 0

Match the following heritage sites and their respective location/district:

Heritage site	Location/district
A. Devarakonda fort	1. Nizamabad
B. Domakonda Fort	2. Adilabad
C. Niramal fort	3. Karimnagar
D. Elagandula Khilla	4. Nalgonda

Options :

1. ✓ A-4, B-1, C-2, D-3

2. ✘ A-1, B-2, C-4, D-3

3. ✘ A-2, B-1, C-4, D-3

4. ✘ A-3, B-1, C-2, D-4

Question Number : 90 Question Id : 630680218502 Question Type : MCQ Option Shuffling : Yes

Is Question Mandatory : No Calculator : None Response Time : N.A Think Time : N.A

Minimum Instruction Time : 0

Correct Marks : 1 Wrong Marks : 0

ఈ క్రింది వారసత్వ ప్రదేశాలను మరియు వాటి సంబంధిత ప్రాంతం/జిల్లాతో జతచేయండి:

వారసత్వ ప్రదేశం	ప్రాంతం/ జిల్లా
A. దేవరకొండ కోట	1. నిజామాబాద్
B. దోమకొండ కోట	2. ఆదిలాబాద్
C. నిర్మల్ కోట	3. కరీంనగర్
D. ఎలగందుల ఖిల్లా	4. నల్గొండ

Options :

1. ✓ A-4, B-1, C-2, D-3
2. ✗ A-1, B-2, C-4, D-3
3. ✗ A-2, B-1, C-4, D-3
4. ✗ A-3, B-1, C-2, D-4

Question Number : 91 Question Id : 630680218503 Question Type : MCQ Option Shuffling : Yes

Is Question Mandatory : No Calculator : None Response Time : N.A Think Time : N.A

Minimum Instruction Time : 0

Correct Marks : 1 Wrong Marks : 0

Read the following and choose the correct statement(s):

A: Medak fort was built during the reign of the Kakatiyan ruler, Pratapa Rudra.

B: Medak fort was built in the 12th century.

Options :

1. ✗ Only A

2. ✘ Only B

3. ✔ Both A and B

4. ✘ Neither A nor B

Question Number : 91 Question Id : 630680218503 Question Type : MCQ Option Shuffling : Yes

Is Question Mandatory : No Calculator : None Response Time : N.A Think Time : N.A

Minimum Instruction Time : 0

Correct Marks : 1 Wrong Marks : 0

ఈ క్రింది వాటిని చదివి సరైన ప్రకటన(ల)ను ఎంచుకోండి:

A: మెదక్ కోట కాకతీయ పాలకులు ప్రతాప రుద్రుని కాలంలో నిర్మించబడింది.

B: మెదక్ కోట 12వ శతాబ్దంలో నిర్మించబడింది.

Options :

1. ✘ A మాత్రమే

2. ✘ B మాత్రమే

3. ✔ A మరియు B రెండూ

4. ✘ A లేదా B ఏదీ కాదు

Question Number : 92 Question Id : 630680218504 Question Type : MCQ Option Shuffling : Yes

Is Question Mandatory : No Calculator : None Response Time : N.A Think Time : N.A

Minimum Instruction Time : 0

Correct Marks : 1 Wrong Marks : 0

As per historians, the Sammakka Saralamma shrine in Warangal is reported to have been built during the ____ century.

Options :

1. ✓ 12th
2. ✗ 13th
3. ✗ 14th
4. ✗ 15th

Question Number : 92 Question Id : 630680218504 Question Type : MCQ Option Shuffling : Yes

Is Question Mandatory : No Calculator : None Response Time : N.A Think Time : N.A

Minimum Instruction Time : 0

Correct Marks : 1 Wrong Marks : 0

చరిత్రకారుల ప్రకారం, వరంగల్‌లోని సమ్మక్క సారలమ్మ గద్దె _____ శతాబ్దంలో నిర్మించబడిందని నివేదించబడింది.

Options :

1. ✓ 12వ
2. ✗ 13వ
3. ✗ 14వ
4. ✗ 15వ

Question Number : 93 Question Id : 630680218505 Question Type : MCQ Option Shuffling : Yes

Is Question Mandatory : No Calculator : None Response Time : N.A Think Time : N.A

Minimum Instruction Time : 0

Correct Marks : 1 Wrong Marks : 0

During which Telugu month does the Medaram Jathara begin in Telangana?

Options :

1. ✘ Pushya
2. ✔ Magha
3. ✘ Phalguna
4. ✘ Chaitra

Question Number : 93 Question Id : 630680218505 Question Type : MCQ Option Shuffling : Yes

Is Question Mandatory : No Calculator : None Response Time : N.A Think Time : N.A

Minimum Instruction Time : 0

Correct Marks : 1 Wrong Marks : 0

తెలంగాణలో మేడారం జాతర ఏ తెలుగు నెలలో ప్రారంభమవుతుంది?

Options :

1. ✘ పుష్యం
2. ✔ మాఘం
3. ✘ పాల్గుణం
4. ✘ చైత్రం

Question Number : 94 Question Id : 630680218506 Question Type : MCQ Option Shuffling : Yes

Is Question Mandatory : No Calculator : None Response Time : N.A Think Time : N.A

Minimum Instruction Time : 0

Correct Marks : 1 Wrong Marks : 0

Perini Shivatandavam is a war dance originated during the _____ century when Kakatiya dynasty was in supreme power reigning across Telangana state.

Options :

1. ✓ 10th

2. ✗ 11th

3. ✗ 12th

4. ✗ 13th

Question Number : 94 Question Id : 630680218506 Question Type : MCQ Option Shuffling : Yes

Is Question Mandatory : No Calculator : None Response Time : N.A Think Time : N.A

Minimum Instruction Time : 0

Correct Marks : 1 Wrong Marks : 0

పేరిణి శివతాండవం అనేది _____ శతాబ్దంలో కాకతీయ రాజవంశం తెలంగాణ రాష్ట్రాన్ని పాలిస్తున్న సమయంలో ఉద్భవించిన యుద్ధ నృత్యం.

Options :

1. ✓ 10వ

2. ✗ 11వ

3. ✗ 12వ

4. ✖ 13వ

**Question Number : 95 Question Id : 630680218507 Question Type : MCQ Option Shuffling : Yes
Is Question Mandatory : No Calculator : None Response Time : N.A Think Time : N.A
Minimum Instruction Time : 0**

Correct Marks : 1 Wrong Marks : 0

Read the following and choose the correct statement(s):

A: As of 2022, Telangana is ranked 4th in India in terms of solar power production (as per reports of the Ministry of Statistics and Programme Implementation).

B: As of 2022, Telangana is ranked 2nd in India in terms of solar power capacity per unit area of land mass (as per reports of the Ministry of Statistics and Programme Implementation).

Options :

1. ✖ Only A

2. ✖ Only B

3. ✔ Both A and B

4. ✖ Neither A nor B

**Question Number : 95 Question Id : 630680218507 Question Type : MCQ Option Shuffling : Yes
Is Question Mandatory : No Calculator : None Response Time : N.A Think Time : N.A
Minimum Instruction Time : 0
Correct Marks : 1 Wrong Marks : 0**

ఈ క్రింది వాటిని చదివి సరైన ప్రకటన(ల)ను ఎంచుకోండి:

A: 2022 నాటికి, సౌర విద్యుత్ ఉత్పత్తిలో తెలంగాణ భారతదేశంలో 4వ స్థానంలో ఉంది (గణాంకాలు మరియు కార్యక్రమ అమలు మంత్రిత్వ శాఖ నివేదికల ప్రకారం).

B: 2022 నాటికి, ప్రతి యూనిట్ విస్తీర్ణంలో సౌర విద్యుత్ సామర్థ్యంలో తెలంగాణ భారతదేశంలో 2వ స్థానంలో ఉంది. (గణాంకాలు మరియు కార్యక్రమ అమలు మంత్రిత్వ శాఖ నివేదికల ప్రకారం).

Options :

1. ✘ A మాత్రమే

2. ✘ B మాత్రమే

3. ✔ A మరియు B రెండూ

4. ✘ A లేదా B ఏదీ కాదు

Question Number : 96 Question Id : 630680218508 Question Type : MCQ Option Shuffling : Yes

Is Question Mandatory : No Calculator : None Response Time : N.A Think Time : N.A

Minimum Instruction Time : 0

Correct Marks : 1 Wrong Marks : 0

Match the scheme and its respective description:

Scheme	Description
A. KCR Nutrition Kit	1. Creation of effective infrastructure in schools
B. Mana ooru - Mana badi	2. One-time grant of ₹10,00,000
C. Dalit Bandhu	3. Launched in 2018
D. Kanti Velugu	4. Aimed at reducing Anaemia

Options :

1. ✘ A-1, B-2, C-4, D-3

2. ✘ A-2, B-1, C-4, D-3
3. ✘ A-2, B-1, C-3, D-4
4. ✔ A-4, B-1, C-2, D-3

Question Number : 96 Question Id : 630680218508 Question Type : MCQ Option Shuffling : Yes

Is Question Mandatory : No Calculator : None Response Time : N.A Think Time : N.A

Minimum Instruction Time : 0

Correct Marks : 1 Wrong Marks : 0

పథకం మరియు దాని సంబంధిత వివరణను జతచేయండి:

పథకం	వివరణ
A. కేసీఆర్ న్యూట్రీషన్ కిట్	1. పాఠశాలల్లో సమర్థవంతమైన మౌలికసదుపాయాల సృష్టి
B. మన ఊరు - మన బడి	2. వన్-టైమ్ గ్రాంట్ ₹10,00,000
C. దళిత బంధు	3. 2018లో ప్రారంభించబడింది
D. కంటి వెలుగు	4. రక్షహీనత తగ్గించడం లక్ష్యం

Options :

1. ✘ A-1, B-2, C-4, D-3
2. ✘ A-2, B-1, C-4, D-3
3. ✘ A-2, B-1, C-3, D-4
4. ✔ A-4, B-1, C-2, D-3

Question Number : 97 Question Id : 630680218509 Question Type : MCQ Option Shuffling : Yes

Is Question Mandatory : No Calculator : None Response Time : N.A Think Time : N.A

Minimum Instruction Time : 0

Correct Marks : 1 Wrong Marks : 0

Read the following and choose the correct statement(s):

A: Telangana has been ranked 6th in India in the Sustainable Development Goals (SDGs) index for the year 2020-21.

B: Telangana has scored 69 out of 100 in the SDGs index for the year 2020-21.

C: Tamil Nadu scored less points than Telangana in Sustainable Development Goals (SDGs) index for the year 2020-21.

Options :

1. ✘ A, B and C
2. ✘ Both B and C
3. ✔ Both A and B
4. ✘ Only C



Question Number : 97 Question Id : 630680218509 Question Type : MCQ Option Shuffling : Yes

Is Question Mandatory : No Calculator : None Response Time : N.A Think Time : N.A

Minimum Instruction Time : 0

Correct Marks : 1 Wrong Marks : 0

ఈ క్రింది వాటిని చదివి సరైన ప్రకటన(ల)ను ఎంచుకోండి:

A: 2020-21 సంవత్సరానికి గాను భారతదేశంలో సుస్థిరత అభివృద్ధి లక్ష్యాలు (SDG) ఇండెక్స్‌లో తెలంగాణ 6వ స్థానంలో ఉంది.

B: 2020-21 సంవత్సరానికి SDGల సూచికలో తెలంగాణ 100కి 69 స్కోర్ చేసింది.

C: 2020-21 సంవత్సరానికి సుస్థిర అభివృద్ధి లక్ష్యాల (SDGs) సూచికలో తెలంగాణ కంటే తమిళనాడుకు తక్కువ పాయింట్లు వచ్చాయి.

Options :

1. ✘ A, B మరియు C

2. ✘ B మరియు C రెండూ

3. ✔ A మరియు B రెండూ

4. ✘ C మాత్రమే

Question Number : 98 Question Id : 630680218510 Question Type : MCQ Option Shuffling : Yes
Is Question Mandatory : No Calculator : None Response Time : N.A Think Time : N.A
Minimum Instruction Time : 0

Correct Marks : 1 Wrong Marks : 0

Arrange the following schemes of Telangana government in the chronological order (launch year):

A. KCR Nutrition Kit

B. Dalit Bandhu

C. Kanti Velugu

D. Kalyana Lakshmi

Options :

1. ✔ D, C, B, A

2. ✘ A, B, D, C

3. ✘ A, C, D, B

4. ✘ A, B, C, D

Question Number : 98 Question Id : 630680218510 Question Type : MCQ Option Shuffling : Yes

Is Question Mandatory : No Calculator : None Response Time : N.A Think Time : N.A

Minimum Instruction Time : 0

Correct Marks : 1 Wrong Marks : 0

తెలంగాణ ప్రభుత్వం యొక్క ఈ క్రింది పథకాలను కాలక్రమానుసారం (ప్రారంభ సంవత్సరం) అమర్చండి:

A. కేసీఆర్ న్యూట్రీషన్ కిట్

B. దళిత బంధు

C. కంటి వెలుగు

D. కళ్యాణలక్ష్మి

Options :

1. ✔ D, C, B, A

2. ✘ A, B, D, C

3. ✘ A, C, D, B

4. ✘ A, B, C, D

Question Number : 99 Question Id : 630680218511 Question Type : MCQ Option Shuffling : Yes

Is Question Mandatory : No Calculator : None Response Time : N.A Think Time : N.A

Minimum Instruction Time : 0

Correct Marks : 1 Wrong Marks : 0

Consider the following and select the correct pair(s):

Scheme	Launch year
A. Kanti Velugu	2018
B. Dalit Bandhu	2021
C. Mana ooru - Mana badi	2022
D. KCR Nutrition Kit	2015

Options :

1. ✘ Both A and C

2. ✘ Both A and D

3. ✔ Only A, B and C

4. ✘ A, B, C and D

Question Number : 99 Question Id : 630680218511 Question Type : MCQ Option Shuffling : Yes

Is Question Mandatory : No Calculator : None Response Time : N.A Think Time : N.A

Minimum Instruction Time : 0

Correct Marks : 1 Wrong Marks : 0

ఈ క్రింది వాటిని పరిగణనలోకి తీసుకుకుని, సరైన జత(ల)ను ఎంచుకోండి:

పథకం	ఆవిష్కరణ సంవత్సరం
A. కంటి వెలుగు	2018
B. దళిత బంధు	2021
C. మన ఊరు - మన బడి	2022
D. కేసీఆర్ న్యూట్రీషన్ కిట్	2015

Options :

1. ✘ A మరియు C రెండూ
2. ✘ A మరియు D రెండూ
3. ✔ A, B మరియు C మాత్రమే
4. ✘ A, B, C మరియు D

Question Number : 100 Question Id : 630680218512 Question Type : MCQ Option Shuffling :

Yes Is Question Mandatory : No Calculator : None Response Time : N.A Think Time : N.A

Minimum Instruction Time : 0

Correct Marks : 1 Wrong Marks : 0

Consider the following and select the correct statement(s):

A: Ramagundam Thermal Power Station is commissioned in 1971

B: Yadadri TPS is an upcoming 4000 megawatt, supercritical thermal power project.

C: Bhadradi Thermal Power Station is a proposed power plant project located near Edulla Bayyaram at Manuguru

Options :

1. ✔ A, B and C

2. ✖ Both B and C

3. ✖ Both A and B

4. ✖ Only C

Question Number : 100 Question Id : 630680218512 Question Type : MCQ Option Shuffling :

Yes Is Question Mandatory : No Calculator : None Response Time : N.A Think Time : N.A

Minimum Instruction Time : 0

Correct Marks : 1 Wrong Marks : 0

ఈ క్రింది వాటిని పరిగణనలోకి తీసుకుకుని, సరైన ప్రకటన(ల)ను ఎంచుకోండి:

A: రామగుండం ధర్మల్ పవర్ స్టేషన్ 1971లో ప్రారంభించబడింది

B: యాదాద్రి TPS రాబోయే 4000 మెగావాట్ల, అతి ముఖ్యమైన ధర్మల్ పవర్ ప్రాజెక్ట్.

C: భద్రాద్రి ధర్మల్ పవర్ స్టేషన్ మణుగూరు వద్ద ఎదుళ్ల బయ్యారం సమీపంలో ఉన్న ప్రతిపాదిత పవర్ ప్లాంట్ ప్రాజెక్ట్.

Options :

1. ✔ A, B మరియు C

2. ✖ B మరియు C రెండూ

3. ✖ A మరియు B రెండూ

4. ✖ C మాత్రమే

Question Number : 101 Question Id : 630680218513 Question Type : MCQ Option Shuffling :
Yes Is Question Mandatory : No Calculator : None Response Time : N.A Think Time : N.A
Minimum Instruction Time : 0

Correct Marks : 1 Wrong Marks : 0

Arrange the following in chronological order (commissioned year):

- A. Nagarjunasagar Hydroelectric Project
- B. Singur Hydroelectric Project
- C. Srisaillam Hydroelectric Project.
- D. Pochampad Hydroelectric Project

Options :

- 1. ✘ A, C, D, B
- 2. ✘ B, D, C, A
- 3. ✘ A, D, B, C
- 4. ✔ D, A, C, B



Question Number : 101 Question Id : 630680218513 Question Type : MCQ Option Shuffling :
Yes Is Question Mandatory : No Calculator : None Response Time : N.A Think Time : N.A
Minimum Instruction Time : 0
Correct Marks : 1 Wrong Marks : 0

ఈ క్రింది వాటిని కాలక్రమానుసారం (పని చేయడం మొదలైన సంవత్సరం ఆధారంగా) అమర్చండి:

- A. నాగార్జునసాగర్ జలవిద్యుత్ ప్రాజెక్ట్
- B. సింగూర్ జలవిద్యుత్ ప్రాజెక్ట్
- C. శ్రీశైలం జలవిద్యుత్ ప్రాజెక్ట్.
- D. పోచంపాడ్ జలవిద్యుత్ ప్రాజెక్ట్

Options :

1. ✘ A, C, D, B

2. ✘ B, D, C, A

3. ✘ A, D, B, C

4. ✔ D, A, C, B

Question Number : 102 Question Id : 630680218514 Question Type : MCQ Option Shuffling :

Yes Is Question Mandatory : No Calculator : None Response Time : N.A Think Time : N.A

Minimum Instruction Time : 0

Correct Marks : 1 Wrong Marks : 0

Kalyana Lakshmi scheme is launched by the Telangana government for girls who have completed 18 years of age at the time of marriage and whose parental income does NOT exceed _____ per annum.

Options :

1. ✔ ₹2 lakh

2. ✘ ₹1 lakh

3. ✘ ₹3 lakh

4. ✖ ₹4 lakh

Question Number : 102 Question Id : 630680218514 Question Type : MCQ Option Shuffling :

Yes Is Question Mandatory : No Calculator : None Response Time : N.A Think Time : N.A

Minimum Instruction Time : 0

Correct Marks : 1 Wrong Marks : 0

వివాహ సమయానికి 18 సంవత్సరాలు నిండిన మరియు తల్లిదండ్రుల ఆదాయం సంవత్సరానికి _____ మించని బాలికల కోసం తెలంగాణ ప్రభుత్వం కళ్యాణలక్ష్మి పథకాన్ని ప్రారంభించింది.

Options :

1. ✓ ₹2 లక్షలు

2. ✖ ₹1 లక్ష

3. ✖ ₹3 లక్షలు

4. ✖ ₹4 లక్షలు



Question Number : 103 Question Id : 630680218515 Question Type : MCQ Option Shuffling :

Yes Is Question Mandatory : No Calculator : None Response Time : N.A Think Time : N.A

Minimum Instruction Time : 0

Correct Marks : 1 Wrong Marks : 0

Consider the following and select the correct statement(s):

A: The merger of the Telangana government's Aarogyasri Health Scheme and Centre's Ayushman Bharat Scheme has increased the maximum health protection to ₹5 lakhs per year.

B: The upper limit under the Aarogyasri scheme was ₹2 lakh per year before merging with Ayushman Bharat Scheme.

C: Aarogyasri scheme includes 15 Organ Transplantation Surgeries.

Options :

1. ✓ Both A and B
2. ✘ Only B
3. ✘ A, B and C
4. ✘ A and C only

Question Number : 103 Question Id : 630680218515 Question Type : MCQ Option Shuffling :

Yes Is Question Mandatory : No Calculator : None Response Time : N.A Think Time : N.A

Minimum Instruction Time : 0

Correct Marks : 1 Wrong Marks : 0

ఈ క్రింది వాటిని పరిగణనలోకి తీసుకుకుని, సరైన ప్రకటన(ల)ను ఎంచుకోండి:

A: తెలంగాణ ప్రభుత్వ ఆరోగ్యశ్రీ ఆరోగ్య పథకం మరియు కేంద్రం యొక్క ఆయుష్మాన్ భారత్ పథకం విలీనంతో సంవత్సరానికి గరిష్ఠ ఆరోగ్య రక్షణ ₹5 లక్షలకు పెరిగింది.

B: ఆయుష్మాన్ భారత్ పథకంలో విలీనం చేయడానికి ముందు ఆరోగ్యశ్రీ పథకం కింద గరిష్ఠ పరిమితి సంవత్సరానికి ₹2 లక్షలు.

C: ఆరోగ్యశ్రీ పథకంలో 15 అవయవ మార్పిడి శస్త్రచికిత్సలు ఉన్నాయి.

Options :

1. ✓ A మరియు B రెండూ
2. ✘ B మాత్రమే
3. ✘ A, B మరియు C

4. ✖ A మరియు C మాత్రమే

Question Number : 104 Question Id : 630680218516 Question Type : MCQ Option Shuffling :

Yes Is Question Mandatory : No Calculator : None Response Time : N.A Think Time : N.A

Minimum Instruction Time : 0

Correct Marks : 1 Wrong Marks : 0

Read the following and select the correct statement(s):

A: WE Hub is a start-up incubator launched by the Telangana government exclusively for women entrepreneurs.

B: The full form of the TASK scheme launched by the Telangana government is Telangana Academy for Skill and Knowledge.

Options :

1. ✖ Only A

2. ✖ Only B

3. ✔ Both A and B

4. ✖ Neither A nor B

Question Number : 104 Question Id : 630680218516 Question Type : MCQ Option Shuffling :

Yes Is Question Mandatory : No Calculator : None Response Time : N.A Think Time : N.A

Minimum Instruction Time : 0

Correct Marks : 1 Wrong Marks : 0

ఈ క్రింది వాటిని చదివి, సరైన ప్రకటన(ల)ను ఎంచుకోండి:

A: WE హబ్ అనేది తెలంగాణ ప్రభుత్వం ప్రత్యేకంగా మహిళా పారిశ్రామికవేత్తల కోసం ప్రారంభించిన స్టార్టప్ ఇంక్యుబేటర్.

B: తెలంగాణ ప్రభుత్వం ప్రారంభించిన TASK పథకం యొక్క పూర్తి రూపం తెలంగాణ అకాడమీ ఫర్ స్కిల్ అండ్ నాలెడ్జ్.

Options :

1. ✘ A మాత్రమే

2. ✘ B మాత్రమే

3. ✔ A మరియు B రెండూ

4. ✘ A లేదా B ఏదీ కాదు

Question Number : 105 Question Id : 630680218517 Question Type : MCQ Option Shuffling :

Yes Is Question Mandatory : No Calculator : None Response Time : N.A Think Time : N.A

Minimum Instruction Time : 0

Correct Marks : 1 Wrong Marks : 0

How many MLA seats did Telangana Rashtra Samithi win in the General Elections held in April 2014 to emerge victorious and form government in Telangana state?

Options :

1. ✔ 63

2. ✘ 73

3. ✘ 93

4. ✖ 53

Question Number : 105 Question Id : 630680218517 Question Type : MCQ Option Shuffling :

Yes Is Question Mandatory : No Calculator : None Response Time : N.A Think Time : N.A

Minimum Instruction Time : 0

Correct Marks : 1 Wrong Marks : 0

తెలంగాణ రాష్ట్రంలో విజయం సాధించి ప్రభుత్వాన్ని ఏర్పాటు చేసేందుకు ఏప్రిల్ 2014లో జరిగిన సాధారణ ఎన్నికలలో తెలంగాణ రాష్ట్ర సమితి ఎన్ని ఎమ్మెల్యే స్థానాలను గెలుచుకుంది?

Options :

1. ✓ 63

2. ✖ 73

3. ✖ 93

4. ✖ 53



Question Number : 106 Question Id : 630680218518 Question Type : MCQ Option Shuffling :

Yes Is Question Mandatory : No Calculator : None Response Time : N.A Think Time : N.A

Minimum Instruction Time : 0

Correct Marks : 1 Wrong Marks : 0

Arrange the following in chronological order:

- A. Telangana became Hyderabad State with the appointment of M.A. Vellodi as chief minister.
- B. First elections held in Hyderabad State
- C. 'Jai Telangana' movement for separate statehood to Telangana began.

Options :

1. ✓ A, B, C

2. ✖ B, C, A

3. ✖ A, C, B

4. ✖ B, A, C

Question Number : 106 Question Id : 630680218518 Question Type : MCQ Option Shuffling :

Yes Is Question Mandatory : No Calculator : None Response Time : N.A Think Time : N.A

Minimum Instruction Time : 0

Correct Marks : 1 Wrong Marks : 0

ఈ క్రింది వాటిని కాలక్రమానుసారం అమర్చండి:

- A. ఎం.ఎ.వెల్లోడి ముఖ్యమంత్రిగా నియమించడంతో తెలంగాణ హైదరాబాద్ రాష్ట్రంగా మారింది.
- B. హైదరాబాద్ రాష్ట్రంలో మొదటిసారిగా ఎన్నికలు జరిగాయి
- C. తెలంగాణకు ప్రత్యేక రాష్ట్ర సాధన కోసం 'జై తెలంగాణ' ఉద్యమం ప్రారంభమైంది.

Options :

1. ✔ A, B, C

2. ✖ B, C, A

3. ✖ A, C, B

4. ✖ B, A, C

Question Number : 107 Question Id : 630680218519 Question Type : MCQ Option Shuffling :

Yes Is Question Mandatory : No Calculator : None Response Time : N.A Think Time : N.A

Minimum Instruction Time : 0

Correct Marks : 1 Wrong Marks : 0

As per bill passed for separation of Telangana, in 2014, for how many years from the appointed day of Telangana formation Hyderabad will be the common capital for both states?

Options :

1. ✓ 10 years

2. ✘ 5 years

3. ✘ 8 years

4. ✘ 15 years

Question Number : 107 Question Id : 630680218519 Question Type : MCQ Option Shuffling :

Yes Is Question Mandatory : No Calculator : None Response Time : N.A Think Time : N.A

Minimum Instruction Time : 0

Correct Marks : 1 Wrong Marks : 0

2014లో తెలంగాణ రాష్ట్ర విభజన బిల్లు ప్రకారం తెలంగాణ ఏర్పడిన నాటి నుంచి ఎన్ని సంవత్సరాల పాటు హైదరాబాద్ రెండు రాష్ట్రాలకు ఉమ్మడి రాజధానిగా ఉంటుంది?

Options :

1. ✓ 10 సంవత్సరాలు

2. ✘ 5 సంవత్సరాలు

3. ✘ 8 సంవత్సరాలు

4. ✖ 15 సంవత్సరాలు

Question Number : 108 Question Id : 630680218520 Question Type : MCQ Option Shuffling :

Yes Is Question Mandatory : No Calculator : None Response Time : N.A Think Time : N.A

Minimum Instruction Time : 0

Correct Marks : 1 Wrong Marks : 0

Arrange the following in chronological order:

- A. Dr Burgula Ramakrishna Rao was elected chief minister of the Hyderabad State in its first democratic election.
- B. The Indian government conducted a military operation called Operation Polo to bring Hyderabad state into the Indian Union.
- C. The Commission consisting of HC Heda, Konda Venkat Ranga Reddy submitted its report and recommended the formation of Telangana state.
- D. M Chenna Reddy, founded the Telangana Praja Samithi (TPS) political party.

Options :

1. ✓ B, A, C, D

2. ✖ D, A, C, B

3. ✖ C, B, A, D

4. ✖ B, C, D, A

Question Number : 108 Question Id : 630680218520 Question Type : MCQ Option Shuffling :

Yes Is Question Mandatory : No Calculator : None Response Time : N.A Think Time : N.A

Minimum Instruction Time : 0

Correct Marks : 1 Wrong Marks : 0

ఈ క్రింది వాటిని కాలక్రమానుసారం అమర్చండి:

- డాక్టర్ బూర్గుల రామకృష్ణారావు హైదరాబాద్ రాష్ట్రానికి మొదటి ప్రజాస్వామ్య ఎన్నికలలో ముఖ్యమంత్రిగా ఎన్నికయ్యారు.
- హైదరాబాద్ రాష్ట్రాన్ని ఇండియన్ యూనియన్‌లోకి తీసుకురావడానికి భారత ప్రభుత్వం ఆపరేషన్ పోలో అనే సైనిక చర్యను నిర్వహించింది.
- హెచ్‌సి హెడా, కొండా వెంకట్ రంగారెడ్డితో కూడిన కమిషన్ తన నివేదికను సమర్పించి తెలంగాణ రాష్ట్ర ఏర్పాటుకు సిఫారసు చేసింది.
- ఎం చెన్నా రెడ్డి తెలంగాణ ప్రజా సమితి (TPS) రాజకీయ పార్టీని స్థాపించారు.

Options :

- ✓ B, A, C, D
- ✗ D, A, C, B
- ✗ C, B, A, D
- ✗ B, C, D, A



Question Number : 109 Question Id : 630680218521 Question Type : MCQ Option Shuffling :

Yes Is Question Mandatory : No Calculator : None Response Time : N.A Think Time : N.A

Minimum Instruction Time : 0

Correct Marks : 1 Wrong Marks : 0

In which year M Chenna Reddy, founded the Telangana Praja Samithi (TPS) political party to spearhead the statehood movement?

Options :

- ✓ 1969
- ✗ 1971

3. ✖ 1973

4. ✖ 1975

Question Number : 109 Question Id : 630680218521 Question Type : MCQ Option Shuffling :

Yes Is Question Mandatory : No Calculator : None Response Time : N.A Think Time : N.A

Minimum Instruction Time : 0

Correct Marks : 1 Wrong Marks : 0

రాష్ట్ర సాధన ఉద్యమానికి నాయకత్వం వహించేందుకు తెలంగాణ ప్రజా సమితి (TPS) రాజకీయ పార్టీని ఏ సంవత్సరంలో ఏం చెన్నా రెడ్డి స్థాపించారు?

Options :

1. ✔ 1969

2. ✖ 1971

3. ✖ 1973

4. ✖ 1975

Question Number : 110 Question Id : 630680218522 Question Type : MCQ Option Shuffling :

Yes Is Question Mandatory : No Calculator : None Response Time : N.A Think Time : N.A

Minimum Instruction Time : 0

Correct Marks : 1 Wrong Marks : 0

In the 2009 general elections, how many Lok Sabha seats did Telangana Rashtra Samithi (TRS) win?

Options :

1. ✖ 4

2. ✓ 2

3. ✘ 6

4. ✘ 8

Question Number : 110 Question Id : 630680218522 Question Type : MCQ Option Shuffling :**Yes Is Question Mandatory : No Calculator : None Response Time : N.A Think Time : N.A****Minimum Instruction Time : 0****Correct Marks : 1 Wrong Marks : 0**

2009 సార్వత్రిక ఎన్నికల్లో తెలంగాణ రాష్ట్ర సమితి (TRS) ఎన్ని లోక్సభ స్థానాలను గెలుచుకుంది?

Options :

1. ✘ 4

2. ✓ 2

3. ✘ 6

4. ✘ 8

Question Number : 111 Question Id : 630680218523 Question Type : MCQ Option Shuffling :**Yes Is Question Mandatory : No Calculator : None Response Time : N.A Think Time : N.A****Minimum Instruction Time : 0****Correct Marks : 1 Wrong Marks : 0**

Five girls F, K, M, P and R are sitting in a row facing towards south (not necessarily in the same order). No one is sitting towards the right of F. Three girls are sitting towards the left of R. K is second to the left of M. Who is sitting third to the right of K?

Options :

1. ✓ R

2. ✘ M

3. ✘ F

4. ✘ P

Question Number : 111 Question Id : 630680218523 Question Type : MCQ Option Shuffling :

Yes Is Question Mandatory : No Calculator : None Response Time : N.A Think Time : N.A

Minimum Instruction Time : 0

Correct Marks : 1 Wrong Marks : 0

F, K, M, P మరియు R అనే ఐదుగురు బాలికలు ఒక వరుసలో దక్షిణాభిముఖంగా కూర్చున్నారు (ఇవ్వబడిన క్రమంలో ఉండాలి అవసరం లేదు). F కి కుడి వైపున ఎవరూ కూర్చోలేదు. R కు ఎడమ వైపున ముగ్గురు అమ్మాయిలు కూర్చున్నారు. M కు ఎడమ వైపున రెండవ స్థానంలో K కూర్చున్నారు. అయిన K కు కుడి వైపున మూడవ స్థానంలో ఎవరు కూర్చున్నారు?

Options :

1. ✓ R

2. ✘ M

3. ✘ F

4. ✘ P

Question Number : 112 Question Id : 630680218524 Question Type : MCQ Option Shuffling :
Yes Is Question Mandatory : No Calculator : None Response Time : N.A Think Time : N.A
Minimum Instruction Time : 0

Correct Marks : 1 Wrong Marks : 0

Six women A, B, C, D, E and F are sitting around a circular table facing towards the centre (not necessarily in the same order). Two women are sitting between A and D. Two women are sitting between C and F. B is not the neighbour of A or C. A is not sitting to the immediate left of E. Who is sitting second to the right of C?

Options :

1. ✘ B

2. ✘ F

3. ✔ A

4. ✘ D

Question Number : 112 Question Id : 630680218524 Question Type : MCQ Option Shuffling :
Yes Is Question Mandatory : No Calculator : None Response Time : N.A Think Time : N.A
Minimum Instruction Time : 0

Correct Marks : 1 Wrong Marks : 0

A, B, C, D, E మరియు F అనే ఆరుగురు మహిళలు ఒక వృత్తాకార టేబుల్ చుట్టూ కేంద్రానికి అభిముఖంగా కూర్చున్నారు (అదే క్రమంలో ఉండాలి అవసరం లేదు). A మరియు D ల మధ్య ఇద్దరు మహిళలు కూర్చున్నారు. C మరియు F ల మధ్య ఇద్దరు మహిళలు కూర్చున్నారు. A లేదా C ల యొక్క పొరుగువాడు B కాదు. E కి తక్షణ ఎడమ వైపు A కూర్చోలేదు. అయిన C కి కుడి వైపున రెండవ స్థానంలో ఎవరు కూర్చున్నారు?

Options :

1. ✘ B

2. ✘ F

3. ✓ A

4. ✗ D

Question Number : 113 Question Id : 630680218525 Question Type : MCQ Option Shuffling :

Yes Is Question Mandatory : No Calculator : None Response Time : N.A Think Time : N.A

Minimum Instruction Time : 0

Correct Marks : 1 Wrong Marks : 0

If today is Monday, then what will be the day after 25 days?

Options :

1. ✓ Friday

2. ✗ Thursday

3. ✗ Wednesday

4. ✗ Saturday

Question Number : 113 Question Id : 630680218525 Question Type : MCQ Option Shuffling :

Yes Is Question Mandatory : No Calculator : None Response Time : N.A Think Time : N.A

Minimum Instruction Time : 0

Correct Marks : 1 Wrong Marks : 0

ఒకవేళ ఈరోజు సోమవారం అయితే, 25 రోజుల తర్వాత ఏ రోజు వస్తుంది?

Options :

1. ✓ శుక్రవారం

2. ✖ గురువారం

3. ✖ బుధవారం

4. ✖ శనివారం

Question Number : 114 Question Id : 630680218526 Question Type : MCQ Option Shuffling :

Yes Is Question Mandatory : No Calculator : None Response Time : N.A Think Time : N.A

Minimum Instruction Time : 0

Correct Marks : 1 Wrong Marks : 0

Saahil is standing at 30th position from the end in a row. If there are 98 people in the row, then what is his position from the start of the row?

Options :

1. ✖ 70

2. ✖ 67

3. ✖ 68

4. ✔ 69

Question Number : 114 Question Id : 630680218526 Question Type : MCQ Option Shuffling :

Yes Is Question Mandatory : No Calculator : None Response Time : N.A Think Time : N.A

Minimum Instruction Time : 0

Correct Marks : 1 Wrong Marks : 0

ఒక వరుసలో సాహిల్ చివరి నుండి 30వ స్థానంలో నిలబడ్డాడు. ఆ వరుసలో 98 మంది ఉంటే, వరుస ప్రారంభం నుండి అతని స్థానం ఏమిటి?

Options :

1. ✖ 70

2. ✖ 67

3. ✖ 68

4. ✔ 69

Question Number : 115 Question Id : 630680218527 Question Type : MCQ Option Shuffling :

Yes Is Question Mandatory : No Calculator : None Response Time : N.A Think Time : N.A

Minimum Instruction Time : 0

Correct Marks : 1 Wrong Marks : 0

Which day of week was there on 6th July 2011?

Options :

1. ✖ Tuesday

2. ✖ Monday

3. ✔ Wednesday

4. ✖ Thursday

Question Number : 115 Question Id : 630680218527 Question Type : MCQ Option Shuffling :

Yes Is Question Mandatory : No Calculator : None Response Time : N.A Think Time : N.A

Minimum Instruction Time : 0

Correct Marks : 1 Wrong Marks : 0

వారంలో ఏ రోజు, 6 జూలై 2011న వస్తుంది?

Options :

1. ✖ మంగళవారం

2. ✖ సోమవారం

3. ✔ బుధవారం

4. ✖ గురువారం

Question Number : 116 Question Id : 630680218528 Question Type : MCQ Option Shuffling :

Yes Is Question Mandatory : No Calculator : None Response Time : N.A Think Time : N.A

Minimum Instruction Time : 0

Correct Marks : 1 Wrong Marks : 0

In the following question below are given three statements followed by some conclusions based on those statements. Taking the given statements to be true even if they seem to be at variance from commonly known facts. Read all the conclusions and then decide which of the given conclusions logically follows the given statements.

Statements:

I. All N are Q.

II. Some Q are P.

III. No P is R.

Conclusions:

I. Some Q are R.

II. Some N are R.

III. All Q are N.

Options :

1. ✘ Only I conclusion follows
2. ✘ Only II conclusion follows
3. ✘ Only III conclusion follows
4. ✔ No conclusion follows

Question Number : 116 Question Id : 630680218528 Question Type : MCQ Option Shuffling :
Yes Is Question Mandatory : No Calculator : None Response Time : N.A Think Time : N.A
Minimum Instruction Time : 0

Correct Marks : 1 Wrong Marks : 0

ఈ క్రింది ప్రశ్నలో మూడు ప్రకటనలు, ఆ ప్రకటనల ఆధారంగా వాటిని అనుసరిస్తూ కొన్ని ముగింపులు ఇవ్వబడ్డాయి. ఇచ్చిన ప్రకటనలు సాధారణంగా తెలిసిన వాస్తవాలకు భిన్నంగా ఉన్నట్లు అనిపించినప్పటికీ, వాటిని వాస్తవంగా భావించండి. అన్ని ముగింపులను చదవి, ఇచ్చిన ముగింపులలో ఏది తార్కికంగా ప్రకటనలను అనుసరిస్తుందో నిర్ణయించండి.

ప్రకటనలు:

I. N లు అన్ని Q లు.

II. కొన్ని Q లు P లు.

III. P ఏదీ R కాదు.

ముగింపులు:

I. కొన్ని Q లు R లు.

II. కొన్ని N లు R లు.

III. Q లు అన్ని N లు.

Options :

1. ✘ ముగింపు I మాత్రమే అనుసరిస్తుంది

2. ✘ ముగింపు II మాత్రమే అనుసరిస్తుంది

3. ✘ ముగింపు III మాత్రమే అనుసరిస్తుంది

4. ✔ ఏ ముగింపు అనుసరించదు

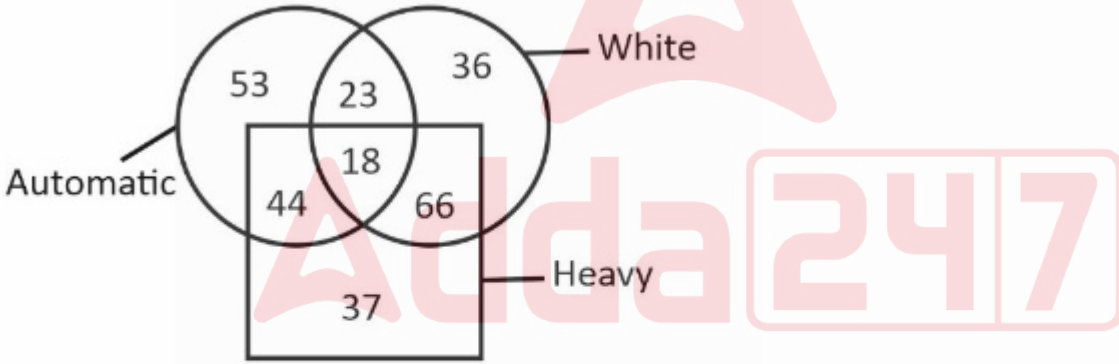
Question Number : 117 Question Id : 630680218529 Question Type : MCQ Option Shuffling :

Yes Is Question Mandatory : No Calculator : None Response Time : N.A Think Time : N.A

Minimum Instruction Time : 0

Correct Marks : 1 Wrong Marks : 0

The diagram given below shows the number of fans of different types.



Arrange the following in the increasing order of their numbers.

- I. Heavy automatic fans
- II. Heavy white fans
- III. Automatic white fans

Options :

1. ✔ III < I < II

2. ✘ III < II < I

3. ✖ I < II < III

4. ✖ I < III < II

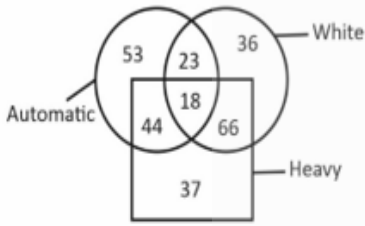
Question Number : 117 Question Id : 630680218529 Question Type : MCQ Option Shuffling :

Yes Is Question Mandatory : No Calculator : None Response Time : N.A Think Time : N.A

Minimum Instruction Time : 0

Correct Marks : 1 Wrong Marks : 0

ఈ క్రింద ఇవ్వబడిన రేఖాచిత్రం వివిధ రకాల ఫ్యాన్ల సంఖ్యను చూపుతుంది.



Automatic - ఆటోమేటిక్; White - తెలుపు రంగు; Heavy - భారీ

క్రింది వాటిని వాటి సంఖ్యల ఆరోహణ క్రమంలో అమర్చండి.

I. భారీ ఆటోమేటిక్ ఫ్యాన్లు

II. భారీ తెలుపు రంగు ఫ్యాన్లు

III. ఆటోమేటిక్ తెలుపు రంగు ఫ్యాన్లు

Options :

1. ✓ III < I < II

2. ✖ III < II < I

3. ✖ I < II < III

4. ✖ I < III < II

Question Number : 118 Question Id : 630680218530 Question Type : MCQ Option Shuffling :
Yes Is Question Mandatory : No Calculator : None Response Time : N.A Think Time : N.A
Minimum Instruction Time : 0

Correct Marks : 1 Wrong Marks : 0

Consider the following array of special characters and digits.

#9@36^7\$4@3!2*68

How many special characters are followed by an odd number and preceded by an even number?

Options :

1. ✖ 1

2. ✔ 2

3. ✖ 3

4. ✖ 4

Question Number : 118 Question Id : 630680218530 Question Type : MCQ Option Shuffling :
Yes Is Question Mandatory : No Calculator : None Response Time : N.A Think Time : N.A
Minimum Instruction Time : 0

Correct Marks : 1 Wrong Marks : 0

ఈ క్రింది స్పెషల్ క్యారెక్టర్లు మరియు అంకెల శ్రేణిని పరిగణించండి.

#9@36^7\$4@3!2*68

వాటి తర్వాత బేసి సంఖ్యను మరియు ముందు సరి సంఖ్యను కలిగిన ఎన్ని స్పెషల్ క్యారెక్టర్లు కలవు?

Options :

1. ✘ 1

2. ✔ 2

3. ✘ 3

4. ✘ 4

Question Number : 119 Question Id : 630680218531 Question Type : MCQ Option Shuffling :

Yes Is Question Mandatory : No Calculator : None Response Time : N.A Think Time : N.A

Minimum Instruction Time : 0

Correct Marks : 1 Wrong Marks : 0

The Price of six pens A, B, J, L, M and T is compared. No two pens have the same price. Price of L is more than only A, B and J. Price of T is maximum and price of A is least. Which pen has the second highest price?

Options :

1. ✘ T

2. ✘ L

3. ✔ M

4. ✘ J

Question Number : 119 Question Id : 630680218531 Question Type : MCQ Option Shuffling :

Yes Is Question Mandatory : No Calculator : None Response Time : N.A Think Time : N.A

Minimum Instruction Time : 0

Correct Marks : 1 Wrong Marks : 0

A, B, J, L, M మరియు T అనే ఆరు పెన్నుల యొక్క ధరలు పోల్చబడ్డాయి. ఏ రెండు పెన్నులకు ఒకే ధర లేదు. A, B మరియు J ల కంటే మాత్రమే L ధర ఎక్కువ. T యొక్క ధర అత్యధికమైనది మరియు A యొక్క ధర అత్యల్పమైనది. అయిన ఏ పెన్ను యొక్క ధర రెండవ గరిష్ట స్థానంలో ఉంది?

Options :

1. ✘ T

2. ✘ L

3. ✔ M

4. ✘ J

Question Number : 120 Question Id : 630680218532 Question Type : MCQ Option Shuffling :

Yes Is Question Mandatory : No Calculator : None Response Time : N.A Think Time : N.A

Minimum Instruction Time : 0

Correct Marks : 1 Wrong Marks : 0

Price of five cars C1, C2, C3, C4 and C5 are compared. Price of C1 is the least. No two cars have the same price. Price of C3 is less than C5, C2 and C4. Price of neither C5 nor C2 is the highest. Price of C5 is less than C2. Price of how many cars is less than the price of C2?

Options :

1. ✘ 2

2. ✔ 3

3. ✘ 4

4. ✖ 1

Question Number : 120 Question Id : 630680218532 Question Type : MCQ Option Shuffling :

Yes Is Question Mandatory : No Calculator : None Response Time : N.A Think Time : N.A

Minimum Instruction Time : 0

Correct Marks : 1 Wrong Marks : 0

C1, C2, C3, C4 మరియు C5 అనే ఐదు కార్ల ధరలు పోల్చబడ్డాయి. C1 ధర అత్యల్పమైనది. ఏ రెండు కార్లకు ఒకే ధర లేదు. C3 ధర C5, C2 మరియు C4 ల కంటే తక్కువ. C5 కానీ లేదా C2 ధరలలో ఏదీ అత్యధికం కాదు. C5 ధర C2 కంటే తక్కువ. అయిన C2 ధర కంటే ఎన్ని కార్ల ధర తక్కువ?

Options :

1. ✖ 2

2. ✔ 3

3. ✖ 4

4. ✖ 1



Question Number : 121 Question Id : 630680218533 Question Type : MCQ Option Shuffling :

Yes Is Question Mandatory : No Calculator : None Response Time : N.A Think Time : N.A

Minimum Instruction Time : 0

Correct Marks : 1 Wrong Marks : 0

In a certain coding language 'COLOR' is coded as 'AMJMP'. Match the following words with their respective codes on basis of the above given code language?

	Word		Code
I	SLEPT	1	QJCNR
II	CRUSH	2	APSQF
III	PUNCH	3	NSLAF

Options :

1. ✓ I-1, II-2, III-3
2. ✗ I-2, II-1, III-3
3. ✗ I-1, II-3, III-2
4. ✗ I-2, II-3, III-1



Question Number : 121 Question Id : 630680218533 Question Type : MCQ Option Shuffling :

Yes Is Question Mandatory : No Calculator : None Response Time : N.A Think Time : N.A

Minimum Instruction Time : 0

Correct Marks : 1 Wrong Marks : 0

నిర్దిష్ట కోడింగ్ భాషలో 'COLOR' అనేది 'AMJMP'గా కోడ్ చేయబడింది.

పైన ఇచ్చిన కోడ్ భాష ఆధారంగా కింది పదాలను వాటి సంబంధిత కోడ్లతో జతపరచండి?

	పదం		కోడ్
I	SLEPT	1	QJCNR
II	CRUSH	2	APSQF
III	PUNCH	3	NSLAF

Options :

1. ✓ I-1, II-2, III-3
2. ✗ I-2, II-1, III-3
3. ✗ I-1, II-3, III-2
4. ✗ I-2, II-3, III-1



Question Number : 122 Question Id : 630680218534 Question Type : MCQ Option Shuffling :

Yes Is Question Mandatory : No Calculator : None Response Time : N.A Think Time : N.A

Minimum Instruction Time : 0

Correct Marks : 1 Wrong Marks : 0

In a certain coding language 'PRAYINGS' is coded as 'YARPSGNI'. Which of the following pair of Word : Code is correct on basis of the above code language?

Options :

1. ✓ CORRECTY : RROCYTCE
2. ✗ WATCHILY : TAWCHYLI

3. ✖ SPININGS : PSNINISG

4. ✖ SEWINGLY : YLGNIWES

Question Number : 122 Question Id : 630680218534 Question Type : MCQ Option Shuffling :

Yes Is Question Mandatory : No Calculator : None Response Time : N.A Think Time : N.A

Minimum Instruction Time : 0

Correct Marks : 1 Wrong Marks : 0

నిర్దిష్ట కోడింగ్ భాషలో 'PRAYINGS' అనేది 'YARPSGNI'గా కోడ్ చేయబడింది. పై కోడ్ భాష ఆధారంగా క్రింది ఏ పదం : కోడ్ జత సరైనది?

Options :

1. ✔ CORRECTY : RROCYTCE

2. ✖ WATCHILY : TAWCHYLI

3. ✖ SPININGS : PSNINISG

4. ✖ SEWINGLY : YLGNIWES

Question Number : 123 Question Id : 630680218535 Question Type : MCQ Option Shuffling :

Yes Is Question Mandatory : No Calculator : None Response Time : N.A Think Time : N.A

Minimum Instruction Time : 0

Correct Marks : 1 Wrong Marks : 0

A person starts from point P and walks towards South for 25 km to reach point Q. He now takes a right turn and walks for 15 km to reach point R. He now takes a left and walks for 10 km to reach point S. he now takes a left and walks for 15 km to reach point T?

Which of the following statements is correct?

- I. T is south of P.
- II. S is north-east of P.
- III. Distance between T and P is 35 km.

Options :

- 1. ✘ Only II and III
- 2. ✘ Only I and II
- 3. ✔ Only I and III
- 4. ✘ I, II and III

Question Number : 123 Question Id : 630680218535 Question Type : MCQ Option Shuffling :

Yes Is Question Mandatory : No Calculator : None Response Time : N.A Think Time : N.A

Minimum Instruction Time : 0

Correct Marks : 1 Wrong Marks : 0

ఒక వ్యక్తి P స్థానం నుండి ప్రారంభమై, Q స్థానానికి చేరుకోవడానికి 25 km దక్షిణం వైపు నడుస్తాడు. అతను ఇప్పుడు కుడి వైపుకు తిరిగి R స్థానానికి చేరుకోవడానికి 15 km నడిచాడు. అతను ఇప్పుడు ఎడమ వైపుకు తిరిగి 10 km నడిచి S స్థానానికి చేరుకుంటాడు. తర్వాత ఎడమ వైపుకు తిరిగి 15 km నడిచి T స్థానానికి చేరుకుంటాడు.

ఈ క్రింది ప్రకటనలలో ఏది సరైనది?

- I. T అనేది P కి దక్షిణం వైపున ఉంది.
- II. S అనేది P కి ఈశాన్యం వైపున ఉంది.
- III. T మరియు P ల మధ్య దూరం 35 km.

Options :

1. ✘ II మరియు III లు మాత్రమే
2. ✘ I మరియు II లు మాత్రమే
3. ✔ I మరియు III లు మాత్రమే
4. ✘ I, II మరియు III



Question Number : 124 Question Id : 630680218536 Question Type : MCQ Option Shuffling :

Yes Is Question Mandatory : No Calculator : None Response Time : N.A Think Time : N.A

Minimum Instruction Time : 0

Correct Marks : 1 Wrong Marks : 0

Select the option that is related to the fifth letter cluster in the same way as the second letter cluster is related to the first letter cluster and fourth letter cluster is related to third letter cluster.

POND : RLRY :: SALT : UXPO :: KINT : ?

Options :

1. ✔ MFRO

2. ✘ MERO

3. ✘ MFSO

4. ✘ MEQO

Question Number : 124 Question Id : 630680218536 Question Type : MCQ Option Shuffling :

Yes Is Question Mandatory : No Calculator : None Response Time : N.A Think Time : N.A

Minimum Instruction Time : 0

Correct Marks : 1 Wrong Marks : 0

రెండవ అక్షర సమూహం మొదటి అక్షర సమూహానికి మరియు నాల్గవ అక్షర సమూహం మూడవ అక్షర సమూహానికి సంబంధించిన విధంగానే ఐదవ అక్షర సమూహానికి సంబంధించిన ఎంపికను ఎంచుకోండి.

POND : RLRY :: SALT : UXPO :: KINT : ?

Options :

1. ✔ MFRO

2. ✘ MERO

3. ✘ MFSO

4. ✘ MEQO

Question Number : 125 Question Id : 630680218537 Question Type : MCQ Option Shuffling :

Yes Is Question Mandatory : No Calculator : None Response Time : N.A Think Time : N.A

Minimum Instruction Time : 0

Correct Marks : 1 Wrong Marks : 0

Letters given on the left side of (:) are related with the letters given on the right side of (:) by some Logic/Rule/Relation.
Select the correct alternative from the given alternatives based on the same Logic/Rule/Relation.

PASTE : QCVXJ

Options :

1. ✘ JUICE : LWLGJ
2. ✔ STOUT : TVRY Y
3. ✘ POSCA : QQVGE
4. ✘ CREEP : DTHHU

**Question Number : 125 Question Id : 630680218537 Question Type : MCQ Option Shuffling :
Yes Is Question Mandatory : No Calculator : None Response Time : N.A Think Time : N.A
Minimum Instruction Time : 0**

Correct Marks : 1 Wrong Marks : 0

(:) యొక్క ఎడమ వైపున ఇచ్చిన అక్షరాలు కొన్ని తర్కం/నియమం/సంబంధం ద్వారా (:) యొక్క కుడి వైపున ఇచ్చిన అక్షరాలతో సంబంధం కలిగి ఉంటాయి. అదే తర్కం/నియమం/సంబంధం ఆధారంగా ఇచ్చిన ప్రత్యామ్నాయాల నుండి సరైన ప్రత్యామ్నాయాన్ని ఎంచుకోండి.

PASTE : QCVXJ

Options :

1. ✘ JUICE : LWLGJ
2. ✔ STOUT : TVRY Y
3. ✘ POSCA : QQVGE

4. ✘ CREEP : DTHHU

Question Number : 126 Question Id : 630680218538 Question Type : MCQ Option Shuffling :

Yes Is Question Mandatory : No Calculator : None Response Time : N.A Think Time : N.A

Minimum Instruction Time : 0

Correct Marks : 1 Wrong Marks : 0

The question given below has a question and two statements. Choose the correct option on basis of the question and statements.

What is the value of P?

I. Average of P, 36, 72 and 40 is 54.

II. P is 6 more than the average of 36, 38, 42 and 49.

Options :

The question can be answered by using one of the statements alone but cannot be answered by using the other statement

1. ✘ alone.

2. ✔ The question can be answered by using either of the statement I or II alone.

3. ✘ The question can be answered by using both the statements together but not by either statement alone.

4. ✘ The question cannot be answered by even by using both the statements together.

Question Number : 126 Question Id : 630680218538 Question Type : MCQ Option Shuffling :

Yes Is Question Mandatory : No Calculator : None Response Time : N.A Think Time : N.A

Minimum Instruction Time : 0

Correct Marks : 1 Wrong Marks : 0

ఈ క్రింద ఇవ్వబడిన ప్రశ్నలో ఒక ప్రశ్న మరియు రెండు ప్రకటనలు ఉన్నాయి. ప్రశ్న మరియు ప్రకటనల ఆధారంగా సరైన ఎంపికను ఎంచుకోండి.

P విలువ ఎంత?

I. P, 36, 72 మరియు 40 ల సగటు 54.

II. P అనేది 36, 38, 42 మరియు 49 ల సగటు కంటే 6 ఎక్కువ.

Options :

1. ✘ ప్రకటనలలో ఒకదాన్ని మాత్రమే ఉపయోగించి ప్రశ్నకు సమాధానం ఇవ్వవచ్చు కానీ మరొక ప్రకటనను మాత్రమే ఉపయోగించడం ద్వారా సమాధానం ఇవ్వలేరు.

2. ✔ I లేదా II ప్రకటనలలో దేనినైనా ఉపయోగించడం ద్వారా ప్రశ్నకు సమాధానం ఇవ్వవచ్చు.

3. ✘ రెండు ప్రకటనలను కలిపి ఉపయోగించడం ద్వారా ప్రశ్నకు సమాధానం ఇవ్వవచ్చు కానీ ఒక్క ప్రకటన ద్వారా కాదు.

4. ✘ రెండు ప్రకటనలను కలిపి ఉపయోగించడం ద్వారా కూడా ప్రశ్నకు సమాధానం ఇవ్వలేరు.

Question Number : 127 Question Id : 630680218539 Question Type : MCQ Option Shuffling :

Yes Is Question Mandatory : No Calculator : None Response Time : N.A Think Time : N.A

Minimum Instruction Time : 0

Correct Marks : 1 Wrong Marks : 0

The question given below has a question and two statements. Choose the correct option on the basis of the question and statements.

What is the percentage discount on shirt?

I. The marked price of shirt is Rs. 360 and it is sold for Rs. 318.

II. After giving a discount of Rs. 35, the shirt was sold for Rs. 325.

Options :

1.

The question can be answered by using one of the statements alone but cannot be answered by using the other statement

✘ alone.

2. ✔ The question can be answered by using either of the statement I or II alone.

3. ✘ The question can be answered by using both the statements together but not by either statement alone.

4. ✘ The question cannot be answered by even by using both the statements together.

Question Number : 127 Question Id : 630680218539 Question Type : MCQ Option Shuffling :

Yes Is Question Mandatory : No Calculator : None Response Time : N.A Think Time : N.A

Minimum Instruction Time : 0

Correct Marks : 1 Wrong Marks : 0

ఈ క్రింద ఇవ్వబడిన ప్రశ్నలో ఒక ప్రశ్న మరియు రెండు ప్రకటనలు ఉన్నాయి. ప్రశ్న మరియు ప్రకటనల ఆధారంగా సరైన ఎంపికను ఎంచుకోండి.

చోక్కాపై తగ్గింపు శాతం ఎంత?

I. చోక్కా యొక్క ముద్రిత వెల రూ. 360 మరియు అది రూ. 318 కు విక్రయించబడింది.

II. రూ. 35 తగ్గింపు ఇచ్చిన తర్వాత, చోక్కా రూ. 325 కు విక్రయించబడింది.

Options :

ప్రకటనలలో ఒకదాన్ని మాత్రమే ఉపయోగించి ప్రశ్నకు సమాధానం ఇవ్వవచ్చు కానీ మరొక ప్రకటనను

1. ✘ మాత్రమే ఉపయోగించడం ద్వారా సమాధానం ఇవ్వలేరు.

2. ✔ I కానీ లేదా II ప్రకటనలలో దేనినైనా ఉపయోగించడం ద్వారా ప్రశ్నకు సమాధానం ఇవ్వవచ్చు.

రెండు ప్రకటనలను కలిపి ఉపయోగించడం ద్వారా ప్రశ్నకు సమాధానం ఇవ్వవచ్చు కానీ ఒక్క ప్రకటన

3. ✘ ద్వారా కాదు.

4. ✖ రెండు ప్రకటనలను కలిపి ఉపయోగించడం ద్వారా కూడా ప్రశ్నకు సమాధానం ఇవ్వలేరు.

Question Number : 128 Question Id : 630680218540 Question Type : MCQ Option Shuffling :

Yes Is Question Mandatory : No Calculator : None Response Time : N.A Think Time : N.A

Minimum Instruction Time : 0

Correct Marks : 1 Wrong Marks : 0

In the following question, two statements are given. There may be a cause-and-effect relationship between the two statements. Identify the correct relation between the statements and choose the correct option.

Statement A: Company Z laid off an estimated 120,000 workers to reduce cost.

Statement B: Company Z wants to cut costs and remain competitive in a challenging economic environment.

Options :

1. ✖ If statement A is the cause and statement B is its effect.
2. ✔ If statement B is the cause and statement A is its effect.
3. ✖ If both the statements A and B are independent causes.
4. ✖ If both the statements A and B are effects of independent causes.

Question Number : 128 Question Id : 630680218540 Question Type : MCQ Option Shuffling :

Yes Is Question Mandatory : No Calculator : None Response Time : N.A Think Time : N.A

Minimum Instruction Time : 0

Correct Marks : 1 Wrong Marks : 0

ఈ క్రింది ప్రశ్నలో, రెండు ప్రకటనలు ఇవ్వబడ్డాయి. రెండు ప్రకటనల మధ్య కారణం-మరియు-ప్రభావ సంబంధం ఉండవచ్చు. ప్రకటనల మధ్య సరైన సంబంధాన్ని గుర్తించి, సరైన ఎంపికను ఎంచుకోండి.

ప్రకటన A: వ్యయాన్ని తగ్గించడానికి కంపెనీ Z, 120,000 మంది కార్మికులను తొలగించింది.

ప్రకటన B: కంపెనీ Z వ్యయాలను తగ్గించుకోవాలని మరియు సవాలుతో కూడిన ఆర్థిక వాతావరణంలో పోటీగా ఉండాలని కోరుకుంటుంది.

Options :

1. ✘ ఒకవేళ ప్రకటన A కారణం అయితే ప్రకటన B దాని ప్రభావం అవుతుంది.
2. ✔ ఒకవేళ ప్రకటన B కారణం అయితే ప్రకటన A దాని ప్రభావం అవుతుంది.
3. ✘ A మరియు B లు రెండు ప్రకటనలు స్వతంత్ర కారణాలు అవుతాయి.
4. ✘ A మరియు B లు రెండు ప్రకటనలు స్వతంత్ర కారణాల యొక్క ప్రభావాలు అవుతాయి.

Question Number : 129 Question Id : 630680218541 Question Type : MCQ Option Shuffling :

Yes Is Question Mandatory : No Calculator : None Response Time : N.A Think Time : N.A

Minimum Instruction Time : 0

Correct Marks : 1 Wrong Marks : 0

The table given below shows the number of cars sold by 5 showrooms in 3 consecutive years.

	Y1	Y2	Y3
S1	460	340	510
S2	860	440	220
S3	630	430	470
S4	230	290	840
S5	340	360	480

Which of the following is the correct order of total sales of showrooms in the given 3 years together?

Options :

- ✘ $S2 > S3 > S1 > S4 > S5$
- ✘ $S2 > S3 > S4 > S1 > S5$
- ✘ $S3 > S2 > S1 > S4 > S5$
- ✔ $S3 > S2 > S4 > S1 > S5$

Question Number : 129 Question Id : 630680218541 Question Type : MCQ Option Shuffling :

Yes Is Question Mandatory : No Calculator : None Response Time : N.A Think Time : N.A

Minimum Instruction Time : 0

Correct Marks : 1 Wrong Marks : 0

దిగువ ఇవ్వబడిన పట్టిక 3 వరుస సంవత్సరాలలో 5 షోరూమ్లు విక్రయించిన కార్ల సంఖ్యను చూపుతుంది.

	Y1	Y2	Y3
S1	460	340	510
S2	860	440	220
S3	630	430	470
S4	230	290	840
S5	340	360	480

ఈ క్రింది వాటిలో ఏది ఇచ్చిన 3 సంవత్సరాలలో కలిపి షోరూమ్ల మొత్తం అమ్మకాల యొక్క సరైన క్రమాన్ని చూపిస్తుంది?

Options :

1. ✘ S2 > S3 > S1 > S4 > S5

2. ✘ S2 > S3 > S4 > S1 > S5

3. ✘ S3 > S2 > S1 > S4 > S5

4. ✔ S3 > S2 > S4 > S1 > S5

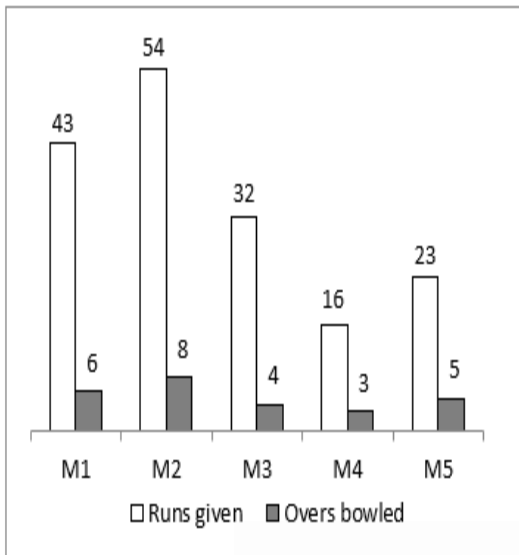
Question Number : 130 Question Id : 630680218542 Question Type : MCQ Option Shuffling :

Yes Is Question Mandatory : No Calculator : None Response Time : N.A Think Time : N.A

Minimum Instruction Time : 0

Correct Marks : 1 Wrong Marks : 0

The bar chart given below shows the number of runs given and overs bowled by a bowler in 5 matches.



Economy rate = $\frac{\text{Runs given}}{\text{overs bowled}}$

Which of the following is the correct order of economy rate for these 5 matches?

Options :

1. ✓ M3 > M1 > M2 > M4 > M5
2. ✗ M3 > M1 > M2 > M5 > M4
3. ✗ M3 > M2 > M1 > M4 > M5
4. ✗ M3 > M2 > M1 > M5 > M4

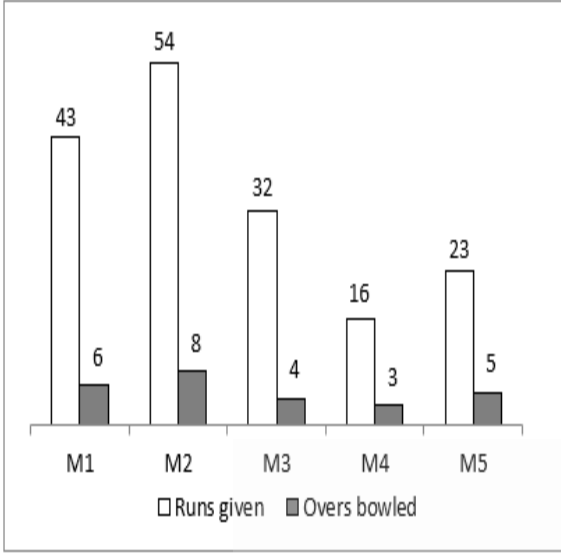
Question Number : 130 Question Id : 630680218542 Question Type : MCQ Option Shuffling :

Yes Is Question Mandatory : No Calculator : None Response Time : N.A Think Time : N.A

Minimum Instruction Time : 0

Correct Marks : 1 Wrong Marks : 0

దిగువ ఇవ్వబడిన బాల్ చార్ట్ 5 మ్యాచ్లలో బౌలర్ ఇచ్చిన పరుగులు మరియు ఓవర్ల సంఖ్యను చూపుతుంది.



Runs given - ఇవ్వబడిన పరుగులు; overs bowled - వేసిన ఓవర్లు

ఎకానమీ రేట్ = ఇవ్వబడిన పరుగులు/ వేసిన ఓవర్లు

ఈ క్రింది వాటిలో ఈ 5 మ్యాచ్ల కోసం ఎకానమీ రేటు యొక్క సరైన క్రమం ఏది?

Options :

1. ✓ M3 > M1 > M2 > M4 > M5

2. ✗ M3 > M1 > M2 > M5 > M4

3. ✗ M3 > M2 > M1 > M4 > M5

4. ✗ M3 > M2 > M1 > M5 > M4

Question Number : 131 Question Id : 630680218543 Question Type : MCQ Option Shuffling :

Yes Is Question Mandatory : No Calculator : None Response Time : N.A Think Time : N.A

Minimum Instruction Time : 0

Correct Marks : 1 Wrong Marks : 0

Select the most appropriate option to fill in the blank.

Misappropriation or conversion need not be permanent; it may be for _____.

Options :

1. ✘ a times
2. ✔ a time
3. ✘ an time
4. ✘ the time

Question Number : 131 Question Id : 630680218543 Question Type : MCQ Option Shuffling :

Yes Is Question Mandatory : No Calculator : None Response Time : N.A Think Time : N.A

Minimum Instruction Time : 0

Correct Marks : 1 Wrong Marks : 0

Select the most appropriate option to fill in the blank.

Misappropriation or conversion need not be permanent; it may be for _____.

Options :

1. ✘ a times
2. ✔ a time
3. ✘ an time
4. ✘ the time

Question Number : 132 Question Id : 630680218544 Question Type : MCQ Option Shuffling :
Yes Is Question Mandatory : No Calculator : None Response Time : N.A Think Time : N.A
Minimum Instruction Time : 0

Correct Marks : 1 Wrong Marks : 0

Select the most appropriate option to fill in the blank.

The nature of _____ bird is to fly in _____ open sky.

Options :

1. ✘ an, the

2. ✘ the, an

3. ✔ a, the

4. ✘ an, an

Question Number : 132 Question Id : 630680218544 Question Type : MCQ Option Shuffling :
Yes Is Question Mandatory : No Calculator : None Response Time : N.A Think Time : N.A
Minimum Instruction Time : 0

Correct Marks : 1 Wrong Marks : 0

Select the most appropriate option to fill in the blank.

The nature of _____ bird is to fly in _____ open sky.

Options :

1. ✘ an, the

2. ✘ the, an

3. ✔ a, the

4. ✘ an, an

Question Number : 133 Question Id : 630680218545 Question Type : MCQ Option Shuffling :

Yes Is Question Mandatory : No Calculator : None Response Time : N.A Think Time : N.A

Minimum Instruction Time : 0

Correct Marks : 1 Wrong Marks : 0

Select the most appropriate option to fill in the blank.

When one tree was chopped down, another _____ to ensure continuity.

Options :

1. ✔ was planted

2. ✘ planted

3. ✘ was planting

4. ✘ plants

Question Number : 133 Question Id : 630680218545 Question Type : MCQ Option Shuffling :

Yes Is Question Mandatory : No Calculator : None Response Time : N.A Think Time : N.A

Minimum Instruction Time : 0

Correct Marks : 1 Wrong Marks : 0

Select the most appropriate option to fill in the blank.

When one tree was chopped down, another _____ to ensure continuity.

Options :

1. ✔ was planted

2.

✘ planted

3. ✘ was planting

4. ✘ plants

Question Number : 134 Question Id : 630680218546 Question Type : MCQ Option Shuffling :

Yes Is Question Mandatory : No Calculator : None Response Time : N.A Think Time : N.A

Minimum Instruction Time : 0

Correct Marks : 1 Wrong Marks : 0

Select the most appropriate option to fill in the blank.

A devotee accepts everything that happens _____ him as a gift of God.

Options :

1. ✘ on

2. ✘ in

3. ✘ of

4. ✔ to

Question Number : 134 Question Id : 630680218546 Question Type : MCQ Option Shuffling :

Yes Is Question Mandatory : No Calculator : None Response Time : N.A Think Time : N.A

Minimum Instruction Time : 0

Correct Marks : 1 Wrong Marks : 0

Select the most appropriate option to fill in the blank.

A devotee accepts everything that happens _____ him as a gift of God.

Options :

1. ✘ on

2. ✘ in

3. ✘ of

4. ✔ to

Question Number : 135 Question Id : 630680218547 Question Type : MCQ Option Shuffling :

Yes Is Question Mandatory : No Calculator : None Response Time : N.A Think Time : N.A

Minimum Instruction Time : 0

Correct Marks : 1 Wrong Marks : 0

From the four sentences given below, identify the sentence(s) with a grammatical error.

- I. My new job is harder than my old one.
- II. I am not associated with any terrorist group.
- III. I am sorry you are not feeling well.
- IV. I did not knew you had a son.

Options :

1. ✘ Only I, II and III

2. ✔ Only IV

3. ✘ Only I and IV

4. ✘ Only II and III

Question Number : 135 Question Id : 630680218547 Question Type : MCQ Option Shuffling :

Yes Is Question Mandatory : No Calculator : None Response Time : N.A Think Time : N.A

Minimum Instruction Time : 0

Correct Marks : 1 Wrong Marks : 0

From the four sentences given below, identify the sentence(s) with a grammatical error.

I. My new job is harder than my old one.

II. I am not associated with any terrorist group.

III. I am sorry you are not feeling well.

IV. I did not knew you had a son.

Options :

1. ✘ Only I, II and III

2. ✔ Only IV

3. ✘ Only I and IV

4. ✘ Only II and III

Question Number : 136 Question Id : 630680218548 Question Type : MCQ Option Shuffling :

Yes Is Question Mandatory : No Calculator : None Response Time : N.A Think Time : N.A

Minimum Instruction Time : 0

Correct Marks : 1 Wrong Marks : 0

From the four sentences given below, identify the sentence(s) with a grammatical error.

- I. You should wash your clothes yourself.
- II. The remaining vacation slipped by quick, and life returned to normal.
- III. They were counting the number of students.
- IV. My cousin was born on July.

Options :

- 1. ✘ Only I
- 2. ✘ Only III and IV
- 3. ✔ Only II and IV
- 4. ✘ All I, II, III and IV

**Question Number : 136 Question Id : 630680218548 Question Type : MCQ Option Shuffling :
Yes Is Question Mandatory : No Calculator : None Response Time : N.A Think Time : N.A
Minimum Instruction Time : 0**

Correct Marks : 1 Wrong Marks : 0

From the four sentences given below, identify the sentence(s) with a grammatical error.

- I. You should wash your clothes yourself.
- II. The remaining vacation slipped by quick, and life returned to normal.
- III. They were counting the number of students.
- IV. My cousin was born on July.

Options :

- 1. ✘ Only I

2. ✘ Only III and IV
3. ✔ Only II and IV
4. ✘ All I, II, III and IV

Question Number : 137 Question Id : 630680218549 Question Type : MCQ Option Shuffling :

Yes Is Question Mandatory : No Calculator : None Response Time : N.A Think Time : N.A

Minimum Instruction Time : 0

Correct Marks : 1 Wrong Marks : 0

Identify the sentence with the correct usage of the present perfect tense.

- I. She has forgotten all her files at home.
II. Your servant had called me.

Options :

1. ✔ Only I
2. ✘ Only II
3. ✘ Both I and II
4. ✘ Neither I nor II

Question Number : 137 Question Id : 630680218549 Question Type : MCQ Option Shuffling :

Yes Is Question Mandatory : No Calculator : None Response Time : N.A Think Time : N.A

Minimum Instruction Time : 0

Correct Marks : 1 Wrong Marks : 0

Identify the sentence with the correct usage of the present perfect tense.

- I. She has forgotten all her files at home.
- II. Your servant had called me.

Options :

- 1. ✓ Only I
- 2. ✗ Only II
- 3. ✗ Both I and II
- 4. ✗ Neither I nor II

**Question Number : 138 Question Id : 630680218550 Question Type : MCQ Option Shuffling :
Yes Is Question Mandatory : No Calculator : None Response Time : N.A Think Time : N.A
Minimum Instruction Time : 0**

Correct Marks : 1 Wrong Marks : 0

Identify the sentence with the correct usage of the future continuous tense.

- I. I will be making all the arrangements for this upcoming trip.
- II. She might had been closing the door immediately.

Options :

- 1. ✓ Only I
- 2. ✗ Only II
- 3. ✗ Both I and II
- 4. ✗ Neither I nor II

Question Number : 138 Question Id : 630680218550 Question Type : MCQ Option Shuffling :
Yes Is Question Mandatory : No Calculator : None Response Time : N.A Think Time : N.A
Minimum Instruction Time : 0

Correct Marks : 1 Wrong Marks : 0

Identify the sentence with the correct usage of the future continuous tense.

- I. I will be making all the arrangements for this upcoming trip.
- II. She might had been closing the door immediately.

Options :

- 1. ✓ Only I
- 2. ✗ Only II
- 3. ✗ Both I and II
- 4. ✗ Neither I nor II

Question Number : 139 Question Id : 630680218551 Question Type : MCQ Option Shuffling :
Yes Is Question Mandatory : No Calculator : None Response Time : N.A Think Time : N.A
Minimum Instruction Time : 0

Correct Marks : 1 Wrong Marks : 0

Select the most appropriate option to fill in the blank.

Radha never shares her secrets, _____?

Options :

- 1. ✗ is she
- 2. ✓ does she

3. ✘ didn't her

4. ✘ don't she

Question Number : 139 Question Id : 630680218551 Question Type : MCQ Option Shuffling :

Yes Is Question Mandatory : No Calculator : None Response Time : N.A Think Time : N.A

Minimum Instruction Time : 0

Correct Marks : 1 Wrong Marks : 0

Select the most appropriate option to fill in the blank.

Radha never shares her secrets, _____?

Options :

1. ✘ is she

2. ✔ does she

3. ✘ didn't her

4. ✘ don't she

Question Number : 140 Question Id : 630680218552 Question Type : MCQ Option Shuffling :

Yes Is Question Mandatory : No Calculator : None Response Time : N.A Think Time : N.A

Minimum Instruction Time : 0

Correct Marks : 1 Wrong Marks : 0

Select the most appropriate option to fill in the blank.

Your teachers have denied admission to the school, _____?

Options :

1.

✓ haven't they

2. ✗ has they

3. ✗ did they

4. ✗ hadn't them

Question Number : 140 Question Id : 630680218552 Question Type : MCQ Option Shuffling :

Yes Is Question Mandatory : No Calculator : None Response Time : N.A Think Time : N.A

Minimum Instruction Time : 0

Correct Marks : 1 Wrong Marks : 0

Select the most appropriate option to fill in the blank.

Your teachers have denied admission to the school, _____?

Options :

1. ✓ haven't they

2. ✗ has they

3. ✗ did they

4. ✗ hadn't them

Question Number : 141 Question Id : 630680218553 Question Type : MCQ Option Shuffling :

Yes Is Question Mandatory : No Calculator : None Response Time : N.A Think Time : N.A

Minimum Instruction Time : 0

Correct Marks : 1 Wrong Marks : 0

Select the correct passive form of the given sentence.

My team has analysed the project.

Options :

1. ✘ The project is beenanalyzed by my team.
2. ✘ The project was analyzed by my team.
3. ✔ The project has been analyzed by my team.
4. ✘ By my team the project is analyzed.

Question Number : 141 Question Id : 630680218553 Question Type : MCQ Option Shuffling :

Yes Is Question Mandatory : No Calculator : None Response Time : N.A Think Time : N.A

Minimum Instruction Time : 0

Correct Marks : 1 Wrong Marks : 0

Select the correct passive form of the given sentence.

My team has analysed the project.

Options :

1. ✘ The project is beenanalyzed by my team.
2. ✘ The project was analyzed by my team.
3. ✔ The project has been analyzed by my team.
4. ✘ By my team the project is analyzed.

Question Number : 142 Question Id : 630680218554 Question Type : MCQ Option Shuffling :
Yes Is Question Mandatory : No Calculator : None Response Time : N.A Think Time : N.A
Minimum Instruction Time : 0

Correct Marks : 1 Wrong Marks : 0

Select the correct active form of the given sentence.

Some chocolates are distributed by the organisation.

Options :

1. ✘ The organization has distributed some chocolates.
2. ✔ The organisation distributes some chocolates.
3. ✘ The organisation distributing some chocolates.
4. ✘ The organisation distributed some chocolates.

Question Number : 142 Question Id : 630680218554 Question Type : MCQ Option Shuffling :
Yes Is Question Mandatory : No Calculator : None Response Time : N.A Think Time : N.A
Minimum Instruction Time : 0

Correct Marks : 1 Wrong Marks : 0

Select the correct active form of the given sentence.

Some chocolates are distributed by the organisation.

Options :

1. ✘ The organization has distributed some chocolates.
2. ✔ The organisation distributes some chocolates.
3. ✘ The organisation distributing some chocolates.

4. ✘ The organisation distributed some chocolates.

Question Number : 143 Question Id : 630680218555 Question Type : MCQ Option Shuffling :

Yes Is Question Mandatory : No Calculator : None Response Time : N.A Think Time : N.A

Minimum Instruction Time : 0

Correct Marks : 1 Wrong Marks : 0

Match the given idioms with their correct meanings.

Idiom		Meaning	
A	Be over the moon	1	Give up
B	Call it quits	2	To be extremely happy
C	Ill at ease	3	Uncomfortable
D	Make a living	4	To earn money

Options :

1. ✔ A-2, B-1, C-3, D-4

2. ✘ A-1, B-2, C-3, D-4

3. ✘ A-3, B-1, C-4, D-2

4. ✘ A-4, B-1, C-3, D-2

Question Number : 143 Question Id : 630680218555 Question Type : MCQ Option Shuffling :

Yes Is Question Mandatory : No Calculator : None Response Time : N.A Think Time : N.A

Minimum Instruction Time : 0

Correct Marks : 1 Wrong Marks : 0

Match the given idioms with their correct meanings.

Idiom		Meaning	
A	Be over the moon	1	Give up
B	Call it quits	2	To be extremely happy
C	Ill at ease	3	Uncomfortable
D	Make a living	4	To earn money

Options :

1. ✓ A-2, B-1, C-3, D-4
2. ✗ A-1, B-2, C-3, D-4
3. ✗ A-3, B-1, C-4, D-2
4. ✗ A-4, B-1, C-3, D-2

Question Number : 144 Question Id : 630680218556 Question Type : MCQ Option Shuffling : Yes Is Question Mandatory : No Calculator : None Response Time : N.A Think Time : N.A Minimum Instruction Time : 0

Correct Marks : 1 Wrong Marks : 0

Match the given idioms with their correct meanings.

Idiom		Meaning	
A	Raining cats and dogs	1	Make a fresh start
B	Spill the beans	2	Very dark
C	Turn over a new leaf	3	Rain heavily
D	Pitch black	4	Reveal a secret

Options :

1. ✗ A-3, B-1, C-2, D-4

2. ✘ A-4, B-3, C-1, D-2

3. ✔ A-3, B-4, C-1, D-2

4. ✘ A-1, B-4, C-2, D-3

Question Number : 144 Question Id : 630680218556 Question Type : MCQ Option Shuffling :

Yes Is Question Mandatory : No Calculator : None Response Time : N.A Think Time : N.A

Minimum Instruction Time : 0

Correct Marks : 1 Wrong Marks : 0

Match the given idioms with their correct meanings.

Idiom		Meaning	
A	Raining cats and dogs	1	Make a fresh start
B	Spill the beans	2	Very dark
C	Turn over a new leaf	3	Rain heavily
D	Pitch black	4	Reveal a secret

Options :

1. ✘ A-3, B-1, C-2, D-4

2. ✘ A-4, B-3, C-1, D-2

3. ✔ A-3, B-4, C-1, D-2

4. ✘ A-1, B-4, C-2, D-3

Question Number : 145 Question Id : 630680218557 Question Type : MCQ Option Shuffling :

Yes Is Question Mandatory : No Calculator : None Response Time : N.A Think Time : N.A

Minimum Instruction Time : 0

Correct Marks : 1 Wrong Marks : 0

Identify the correct pair of synonyms.

I. Flourishing: Abundant

II. Lethargic: Lazy

III. Fishy: Certain

IV. Restrict: Afford

Options :

1. ✘ Only IV

2. ✔ Only I and II

3. ✘ Only II and III

4. ✘ Only I, III and IV

Question Number : 145 Question Id : 630680218557 Question Type : MCQ Option Shuffling :

Yes Is Question Mandatory : No Calculator : None Response Time : N.A Think Time : N.A

Minimum Instruction Time : 0

Correct Marks : 1 Wrong Marks : 0

Identify the correct pair of synonyms.

I. Flourishing: Abundant

II. Lethargic: Lazy

III. Fishy: Certain

IV. Restrict: Afford

Options :

1. ✘ Only IV

2. ✔ Only I and II

3. ✖ Only II and III

4. ✖ Only I, III and IV

Question Number : 146 Question Id : 630680218558 Question Type : MCQ Option Shuffling :

Yes Is Question Mandatory : No Calculator : None Response Time : N.A Think Time : N.A

Minimum Instruction Time : 0

Correct Marks : 1 Wrong Marks : 0

Identify the correct pair of antonyms.

I. Alike: Connate

II. Mellow: Harsh

III. Slight: Strong

IV. Classy: Flashy

Options :

1. ✖ Only I, II and III

2. ✖ Only I and II

3. ✖ Only III and IV

4. ✔ Only II, III and IV

Question Number : 146 Question Id : 630680218558 Question Type : MCQ Option Shuffling :

Yes Is Question Mandatory : No Calculator : None Response Time : N.A Think Time : N.A

Minimum Instruction Time : 0

Correct Marks : 1 Wrong Marks : 0

Identify the correct pair of antonyms.

- I. Alike: Connate
- II. Mellow: Harsh
- III. Slight: Strong
- IV. Classy: Flashy

Options :

- 1. ✘ Only I, II and III
- 2. ✘ Only I and II
- 3. ✘ Only III and IV
- 4. ✔ Only II, III and IV

Question Number : 147 Question Id : 630680218559 Question Type : MCQ Option Shuffling :

Yes Is Question Mandatory : No Calculator : None Response Time : N.A Think Time : N.A

Minimum Instruction Time : 0

Correct Marks : 1 Wrong Marks : 0

Identify the sentence(s) with no spelling errors from the given sentences.

- I. A limitation of this new model is its two main pillars.
- II. Leadership is not about visibly outworking everybody.

Options :

- 1. ✘ Only I
- 2. ✘ Only II
- 3. ✔ Both I and II
- 4.

✘ Neither I nor II

Question Number : 147 Question Id : 630680218559 Question Type : MCQ Option Shuffling :

Yes Is Question Mandatory : No Calculator : None Response Time : N.A Think Time : N.A

Minimum Instruction Time : 0

Correct Marks : 1 Wrong Marks : 0

Identify the sentence(s) with no spelling errors from the given sentences.

I. A limitation of this new model is its two main pillars.

II. Leadership is not about visibly outworking everybody.

Options :

1. ✘ Only I

2. ✘ Only II

3. ✔ Both I and II

4. ✘ Neither I nor II

Question Number : 148 Question Id : 630680218560 Question Type : MCQ Option Shuffling :

Yes Is Question Mandatory : No Calculator : None Response Time : N.A Think Time : N.A

Minimum Instruction Time : 0

Correct Marks : 1 Wrong Marks : 0

Identify the sentence(s) with no spelling errors from the given sentences.

I. The driver stops at the crowded entrnce.

II. She pushes the button and glances back at me.

III. Our goal is to provide some answers.

IV. Atitudes and actions have direct consequences.

Options :

1. ✘ Only I, II and IV
2. ✘ Only I and II
3. ✔ Only II and III
4. ✘ Only III and IV

**Question Number : 148 Question Id : 630680218560 Question Type : MCQ Option Shuffling :
Yes Is Question Mandatory : No Calculator : None Response Time : N.A Think Time : N.A
Minimum Instruction Time : 0**

Correct Marks : 1 Wrong Marks : 0

Identify the sentence(s) with no spelling errors from the given sentences.

- I. The driver stops at the crowded entrnce.
- II. She pushes the button and glances back at me.
- III. Our goal is to provide some answers.
- IV. Atitudes and actions have direct consequences.

Options :

1. ✘ Only I, II and IV
2. ✘ Only I and II
3. ✔ Only II and III
4. ✘ Only III and IV

Question Number : 149 Question Id : 630680218561 Question Type : MCQ Option Shuffling :

Yes Is Question Mandatory : No Calculator : None Response Time : N.A Think Time : N.A

Minimum Instruction Time : 0

Correct Marks : 1 Wrong Marks : 0

Select the most appropriate pair of homonyms for the given blanks.

I _____ somewhere that an apple is _____ in colour.

Options :

1. ✓ read, red
2. ✗ red, read
3. ✗ raid, read
4. ✗ read, raid

Question Number : 149 Question Id : 630680218561 Question Type : MCQ Option Shuffling :

Yes Is Question Mandatory : No Calculator : None Response Time : N.A Think Time : N.A

Minimum Instruction Time : 0

Correct Marks : 1 Wrong Marks : 0

Select the most appropriate pair of homonyms for the given blanks.

I _____ somewhere that an apple is _____ in colour.

Options :

1. ✓ read, red
2. ✗ red, read
3. ✗ raid, read

4. ✘ read, raid

Question Number : 150 Question Id : 630680218562 Question Type : MCQ Option Shuffling :

Yes Is Question Mandatory : No Calculator : None Response Time : N.A Think Time : N.A

Minimum Instruction Time : 0

Correct Marks : 1 Wrong Marks : 0

Select the most appropriate pair of homonyms for the given blanks.

His live _____ concert in my city was _____ by the music organisation.

Options :

1. ✘ bass, base
2. ✘ base, bass
3. ✘ banned, band
4. ✔ band, banned

Question Number : 150 Question Id : 630680218562 Question Type : MCQ Option Shuffling :

Yes Is Question Mandatory : No Calculator : None Response Time : N.A Think Time : N.A

Minimum Instruction Time : 0

Correct Marks : 1 Wrong Marks : 0

Select the most appropriate pair of homonyms for the given blanks.

His live _____ concert in my city was _____ by the music organisation.

Options :

1. ✘ bass, base
- 2.

Test

Prime

By Adda247

Previous Year Papers PDF

PRACTICE MORE, SCORE HIGHER!



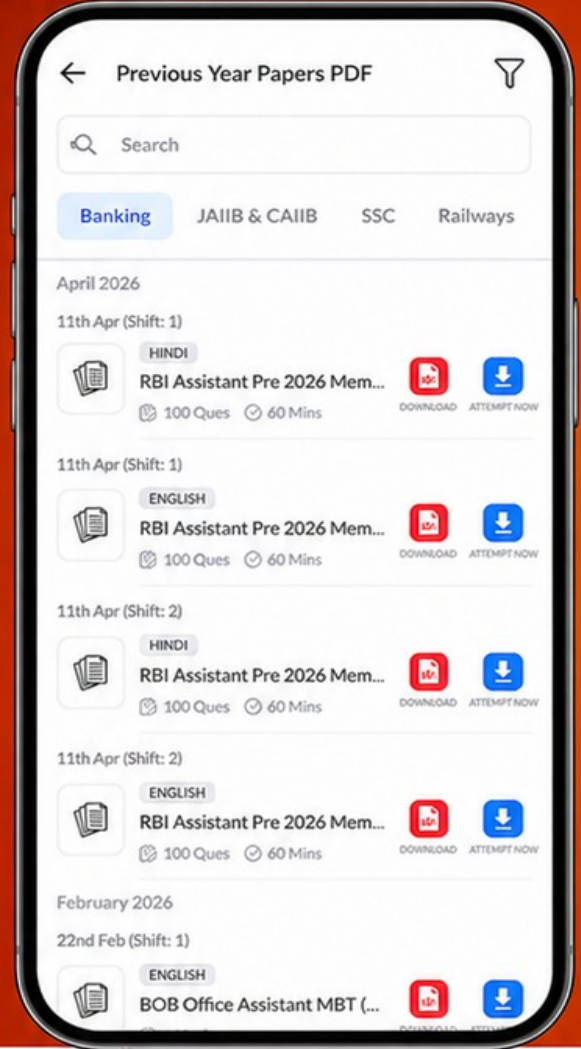
Free
25,000+
PDF's

High-Quality | Exam-Wise | Updated Regularly

ATTEMPT AS
MOCK



Turn PDFs into real exam experience.
Analyze. Improve. Succeed.



Topic-wise &
Exam-wise PDFs



Download &
Study Offline



Attempt as Mock
& Track Score



Smart Analysis
& Performance

AVAILABLE IN



Banking



SSC



Railway



Teaching



UGC



Agriculture



Nursing



Bihar



UP



Punjab



WB



Odisha



TN



AP & Telangana



Haryana



DOWNLOAD THE APP



✘ base, bass

3. ✘ banned, band

4. ✔ band, banned

