

TSPSC AEE

**Previous Year Paper
22 Jan 2023 Paper-I**

Adda247

**Test
Prime**

By Adda247

ALL EXAMS, ONE SUBSCRIPTION



Test. Analyze. Improve. Repeat.



Don't just prepare. Perform.

Test Prime — built only for mock tests.



1,50,000+
Mock Tests



25,000+
Previous Year Papers



800+
Exam Covered



500% Refund
on Selection



5 lakh+
Free Quizzes



Daily
Free PDFs



Job Alerts
Stay Updated

- Multilingual
- Detailed Solution
- Strong and Weak Areas



**All India
Rankings**

Compete with lakhs.
Rank. Improve. Repeat.



← Adda247 test prime

Rating ▾

Editors' choice

New



Adda247 Test Prime
Adda Education • Education
Installed



DOWNLOAD THE APP





22121

1. Which of the following districts are NOT covered under the 'land purchase scheme' for the poor dalits in Telangana ?

- A. Bhadradi Kothagudem
B. Hyderabad
C. Yadadri Bhuvanagiri
D. Rangareddy
E. Medchal-Malkajgiri



Choose the correct answer.

- (1) C, D and E only
(2) A, B and E only
(3) A, B, D and E only
(4) B, C and D only

2. A person suspected to be affected with COVID records a temperature of 106°F. What would be the reading on a Celsius thermometer ?

- (1) 41.5° C (2) 40.55° C
(3) 42.5° C (4) 41.11° C

3. As per NITI Aayog Social Inclusion Sector Report July 2021, more than half of all multidimensionally poor individuals in India live in the following states.

- A. Bihar
B. Jharkhand
C. Maharashtra
D. Madhya Pradesh
E. Uttar Pradesh



Select the correct answer.

- (1) A, B, D and E only
(2) A, B and C only
(3) C, D and E only
(4) A, B, C and E only

1. తెలంగాణలోని పేద దళితుల కోసం 'భూమి కొనుగోలు పథకం' కింది జిల్లాలలో వేటికి వర్తించదు ?

- A. భద్రాద్రి కొత్తగూడెం
B. హైదరాబాద్
C. యాదాద్రి భువనగిరి
D. రంగారెడ్డి
E. మేడ్చల్-మల్కాజ్గిరి

సరియైన సమాధానాన్ని ఎంపిక చేయండి.

- (1) C, D మరియు E మాత్రమే
(2) A, B మరియు E మాత్రమే
(3) A, B, D మరియు E మాత్రమే
(4) B, C మరియు D మాత్రమే



2. కోవిడ్తో ప్రభావితమైనట్లు అనుమానించబడిన వ్యక్తి 106°F ఉష్ణోగ్రతను నమోదు చేస్తాడు. సెల్సియస్ థర్మామీటర్లో రీడింగ్ ఎలా ఉంటుంది ?

- (1) 41.5°C (2) 40.55°C
(3) 42.5°C (4) 41.11°C

3. నీతి ఆయోగ్ సోషల్ ఇంక్లూజన్ సెక్టార్ రిపోర్ట్ జూలై 2021 ప్రకారం, భారతదేశంలోని బహుకోణ పేద జనాభాలో సగానికి పైగా ఈ క్రింది రాష్ట్రాలలో నివసిస్తున్నారు.

- A. బీహార్
B. జార్ఖండ్
C. మహారాష్ట్ర
D. మధ్య ప్రదేశ్
E. ఉత్తర ప్రదేశ్

సరియైన సమాధానాన్ని ఎంపిక చేయండి.

- (1) A, B, D మరియు E మాత్రమే
(2) A, B మరియు C మాత్రమే
(3) C, D మరియు E మాత్రమే
(4) A, B, C మరియు E మాత్రమే





22121

4. Match the following Urban Local Bodies of Telangana with the awards received by these bodies during Swachh Survekshan – 2021.

Urban Local Body	Award
A. Sircilla	1. Cleanest City
B. Ibrahimpatnam	2. Self-Sustaining City
C. Kosgi	3. Innovation and Best Practices
D. Siddipet	4. Fastest Mover City

Choose the correct pairs.

- (1) A-1; B-4; C-3; D-2
- (2) A-2; B-4; C-1; D-3
- (3) A-3; B-4; C-1; D-2
- (4) A-1; B-3; C-2; D-4



5. Which one of the following is WRONGLY matched ?

- (1) Atrabalda : Hyderabad
- (2) Indur : Nizamabad
- (3) Elgandal : Karimnagar
- (4) Gulshanabad : Secunderabad

6. Three bulbs A, B and C in an examination hall glow with more brightness, medium brightness and less brightness respectively. Which of the three bulbs has a large resistance ?

- (1) Bulb B
- (2) Bulb C
- (3) The three bulbs – A, B and C – have the same resistance
- (4) Bulb A



7. The Personal Data Protection (PDP) Bill, 2019 was framed on the recommendations of which Committee ?

- (1) Rangarajan Committee
- (2) Vivek Oberoi Committee
- (3) B. N. Srikrishna Committee
- (4) Santhanam Committee



4. స్వచ్ఛ సర్వేక్షన్-2021 కాలంలో కింది తెలంగాణ పట్టణ స్థానిక సంస్థలను అవి పొందిన బహుమతులతో జతపరచండి.

పట్టణ స్థానిక సంస్థ	అవార్డు
A. సిరిసిల్ల	1. అతి పరిశుభ్రమైన పట్టణం
B. ఇబ్రహీంపట్నం	2. స్వయం సుస్థిర పట్టణం
C. కొస్గి	3. నవకల్పన (ఇన్నోవేషన్), ఉత్తమ ఆచరణలు (ప్రాక్టీసెస్)
D. సిద్దిపేట	4. అత్యంత వేగంగా వృద్ధి చెందుతున్న (మూవర్) పట్టణం

సరైన జతలను ఎంపిక చేయండి.

- (1) A-1; B-4; C-3; D-2
- (2) A-2; B-4; C-1; D-3
- (3) A-3; B-4; C-1; D-2
- (4) A-1; B-3; C-2; D-4

5. కింది వాటిలో ఏది తప్పుగా జతపరచబడింది ?

- (1) అత్రఫ్ బల్దా : హైదరాబాద్
- (2) ఇందూరు : నిజామాబాద్
- (3) ఎల్లందల్ : కరీంనగర్
- (4) గుల్షానాబాద్ : సికింద్రాబాద్



6. ఒక పరీక్ష గదిలో ఉన్న మూడు విద్యుద్ధీపాలు A, B మరియు C వరుసగా అధిక ప్రకాశంతో, మధ్యమ ప్రకాశంతో మరియు తక్కువ ప్రకాశంతో వెలుగుతున్నాయి. ఆ మూడు విద్యుద్ధీపాలలో దేనికి ఎక్కువ విద్యుత్ నిరోధము ఉంటుంది ?

- (1) విద్యుద్ధీపము B
- (2) విద్యుద్ధీపము C
- (3) మూడు విద్యుద్ధీపాలు – A, B మరియు C – ఒకే విద్యుత్ నిరోధాన్ని కలిగియుంటాయి
- (4) విద్యుద్ధీపము A

7. వ్యక్తిగత డేటా రక్షణ (PDP) బిల్లు, 2019 ఏ కమిటీ సిఫార్సుల మేరకు రూపొందించబడింది ?

- (1) రంగరాజన్ కమిటీ
- (2) వివేక్ ఒబెరాయ్ కమిటీ
- (3) బి ఎన్ శ్రీకృష్ణ కమిటీ
- (4) సంతానం కమిటీ





8. Which of the following political parties promised bifurcation of state of Andhra Pradesh in 2009 elections ?

- A. Indian National Congress
- B. Telugu Desham Party
- C. Communist Party of India (Marxist)
- D. All India Majlis-e-Ittehadul Muslimeen

Select the correct answer.

- (1) A, B and D only
- (2) A, C and D only
- (3) A, B, C and D
- (4) A, B and C only



9. Six members of a family M, N, O, P, Q and R are travelling together. N is the son of O but O is not the mother of N. M and O are married couple. Q is the brother of O. P is the daughter of M. R is the brother of N. How many male members are there in the family, travelling ?

- (1) 2
- (3) 4

- (2) 3
- (4) 1

10. Arrange the following districts of Telangana in descending order on the basis of the percentage of SC population as per 2011 Census.

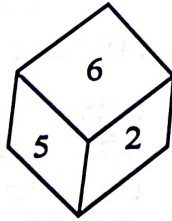
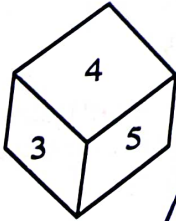
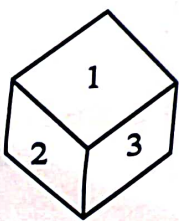
- A. Jagtial
- B. Jangaon
- C. Mancherial
- D. Peddapalli

Choose the correct order.

- (1) D, B, A, C
- (2) C, A, B, D
- (3) A, D, B, C
- (4) C, B, D, A

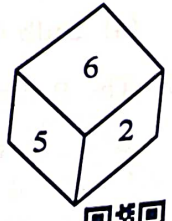
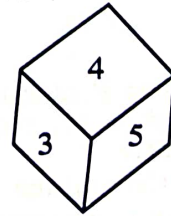
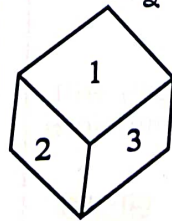


11. A dice with six faces is marked with six numbers 1, 2, 3, 4, 5 and 6. This dice is rolled three times and three positions are shown as below. What is the number opposite to 1 ?



- (1) 6
- (3) 4

- (2) 5
- (4) 2



- (1) 6
- (3) 4

- (2) 5
- (4) 2



8. ఈ క్రింది ఏ రాజకీయ పార్టీలు 2009 ఎన్నికలలో ఆంధ్రప్రదేశ్ రాష్ట్ర విభజనకు హామీని ఇచ్చాయి ?

- A. భారత జాతీయ కాంగ్రెస్
- B. తెలుగు దేశం పార్టీ
- C. భారత కమ్యూనిస్టు పార్టీ (మార్క్సిస్టు)
- D. ఆల్ ఇండియా మజిలిస్-ఎ-ఇత్తహాద్ ముస్లిమీన్.

సరియైన సమాధానాన్ని ఎంపిక చేయండి.

- (1) A, B మరియు D మాత్రమే
- (2) A, C మరియు D మాత్రమే
- (3) A, B, C మరియు D
- (4) A, B మరియు C మాత్రమే



9. ఒక కుటుంబంలోని ఆరుగురు సభ్యులు M, N, O, P, Q మరియు R కలిసి ప్రయాణిస్తున్నారు. O కుమారుడు N, కానీ O మాత్రం N కి తల్లి కాదు. M మరియు O వివాహిత జంట Q, O యొక్క సోదరుడు. P, M యొక్క కుమార్తె. N యొక్క సోదరుడు R ఆ కుటుంబంలో ఎంతమంది పురుషులు ప్రయాణిస్తున్నారు ?

- (1) 2
- (3) 4

- (2) 3
- (4) 1

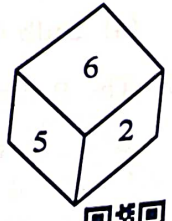
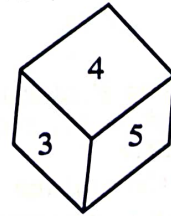
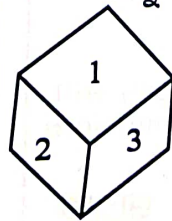
10. 2011 జనాభా లెక్కల ప్రకారం, ఎస్సీ (SC) జనాభా శాతం ఆధారంగా తెలంగాణలోని కింది జిల్లాలను అవరోహణ క్రమంలో అమర్చండి.

- A. జగిత్యాల
- B. జనగాం
- C. మంచిర్యాల
- D. పెద్దపల్లి

సరైన క్రమాన్ని ఎంపిక చేయండి.

- (1) D, B, A, C
- (2) C, A, B, D
- (3) A, D, B, C
- (4) C, B, D, A

11. ఒక పాచిక యొక్క ఆరు ముఖాలపై 1, 2, 3, 4, 5, 6 అనే ఆరు సంఖ్యలు వేయబడ్డాయి. ఈ పాచికను మూడు సార్లు దొర్లించినప్పుడు దాని యొక్క మూడు భంగిమలు క్రింది విధంగా ఉంటే, 1 కి అభిముఖంగా ఉన్న సంఖ్య ఏది ?



- (1) 6
- (3) 4

- (2) 5
- (4) 2





22121

12. Which one of the following was the earliest capital of Satavahanas ?

- (1) Pratisthanapuram/Paithan
(2) Kotilingala
(3) Amaravati
(4) Dhanyakatakam/Dharanikota



13. What will be the 7th term in the following series ?

4, 16, 64, 256, ...

- (1) 16,384
(2) 65,536
(3) 32,768
(4) 4,096



14. Two statements are given below followed by two conclusions numbered as I and II. Consider the given statements as true even if they seem to be not. After reading all the conclusions conform which of the given conclusion(s) logically follow(s), disregarding commonly known facts.

Statements : Some Dogs are Cats.

No Cat is Tiger.

Conclusions :

- I. Some Cats are not Dogs.
II. Some Tigers are Cats.
(1) Only conclusion II follows
(2) Both I and II follow
(3) Neither I nor II follows
(4) Only conclusion I follows



15. Hepatitis-A is caused by

- (1) A virus that spreads through air
(2) A virus that spreads through contact with animals
(3) A bacterium that spreads through fecal matter
(4) A virus that spreads through food and water

12. ఈ కింది వాటిలో శాతవాహనుల మొట్టమొదటి రాజధాని ఏది ?

- (1) ప్రతిస్థానపురం/పైథాన్
(2) కోటిలింగాల
(3) అమరావతి
(4) ధాన్యకటకం/ధరణికోట

13. క్రింది శ్రేణిలో వచ్చే 7 వ సంఖ్యని కనుగొనండి.
4, 16, 64, 256, ...

- (1) 16,384
(2) 65,536
(3) 32,768
(4) 4,096



14. క్రింది రెండు ప్రకటనలు, I మరియు II అనే రెండు ముగింపులు (నిర్ణయాలు) ఇవ్వబడ్డాయి. ఇచ్చిన ప్రకటనలు నిజం కానప్పటికీ వాటిని నిజంగా పరిగణించండి. అన్ని ముగింపులు చదివిన తర్వాత, సాధారణంగా తెలిసిన వాస్తవాలను విస్మరించి, తార్కికంగా అనుసరించే ముగింపు(ల)లో ఏది అనుగుణంగా ఉంటుందో గుర్తించండి ?

ప్రకటనలు : కొన్ని కుక్కలు పిల్లలు.

ఏ పిల్లీ పులి కాదు

ముగింపులు (నిర్ణయాలు) :

- I. కొన్ని పిల్లలు కుక్కలు కావు
II. కొన్ని పులులు పిల్లలు
(1) ముగింపు II మాత్రమే అనుసరిస్తుంది
(2) ముగింపులు I, II రెండూ అనుసరిస్తాయి
(3) ముగింపులు I, II లు రెండూ అనుసరించడం లేదు
(4) ముగింపు I మాత్రమే అనుసరిస్తుంది

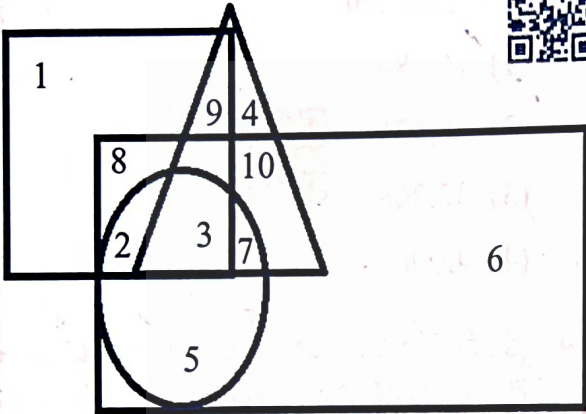
15. హెపటైటిస్ - A దీని వల్ల వస్తుంది ?

- (1) గాలి ద్వారా వ్యాపించే వైరస్
(2) జంతువులతో సంపర్కం ద్వారా వ్యాపించే వైరస్
(3) మల పదార్థం ద్వారా వ్యాపించే బ్యాక్టీరియా
(4) ఆహారం, నీటి ద్వారా వ్యాపించే వైరస్





16. In the following diagram, circle, square, triangle and rectangle represent for engineers, hard-working, urban and honest respectively. How many hardworking honest people, who are non-urban and non-engineering are there ?



- (1) 8 (2) 3
(3) 7 (4) 9

17. Monazite is an ore of :

- (1) Thorium
(2) Zirconium
(3) Iron
(4) Titanium

18. Consider the following statements with reference to Right to Education (RTE) Act, 2009:

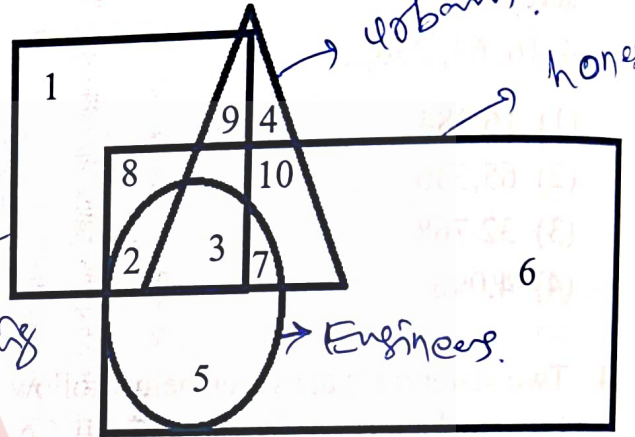
- A. It aims to provide primary education to all children aged 6 to 14 years.
B. It mandates 30% reservation for disadvantaged sections of the society.

Select the correct statement/s.

- (1) B only
(2) Both A and B
(3) Neither A nor B
(4) A only



16. కింది చిత్రంలో వృత్తం, చతురస్రం, త్రిభుజం, దీర్ఘచతురస్రం వరుసగా ఇంజనీర్లు, కష్టపడి పనిచేసే వారు, పట్టణ నివాసితులు, నిజాయితీపరులకి ప్రాతినిధ్యం వహిస్తాయి. పట్టణ నివాసితులు కాకుండా, ఇంజనీర్లు కాకుండా, కష్టపడి పనిచేసే నిజాయితీపరులు ఎంత మంది ఉన్నారు ?



- (1) 8 (2) 3
(3) 7 (4) 9

17. మోనజైట్ దీని యొక్క ముడి ఖనిజం (ధాతువు) :

- (1) థోరియం
(2) జిర్కోనియం
(3) ఐరన్
(4) టైటానియం



18. విద్యా హక్కు (RTE) చట్టం, 2009 కి సంబంధించి క్రింది వ్యాఖ్యలను పరిగణించండి.

- A. 6 నుండి 14 సంవత్సరాల వయస్సు గల పిల్లలందరికీ ప్రాథమిక విద్యను అందించడం దీని లక్ష్యం.
B. ఇది సమాజంలోని వెనుకబడిన వర్గాలకు 30% రిజర్వేషన్లను తప్పనిసరి చేస్తుంది.

సరైన వ్యాఖ్య(ల) ను ఎంపిక చేయండి.

- (1) B మాత్రమే
(2) A మరియు B రెండూ
(3) A మరియు B రెండూ కావు
(4) A మాత్రమే





22121

19. The new 'Industrial Policy Framework, 2014' of Telangana was driven by the goal consisting of

- A. Incorporate
- B. Incubate
- C. Inculcate
- D. Innovate

Choose the correct answer.

- (1) A, B and D only
- (2) B, C and D only
- (3) A and D only
- (4) A and B only



20. If AFHG is coded as INPO, then how RKID will be coded as ?

- (1) ZLSQ
- (2) AGFD
- (3) ZSQL
- (4) ZSLQ

21. What is the principle involved in the formation of mirages ?

- (1) Total internal reflection of light
- (2) Scattering of light
- (3) Dispersion of light
- (4) Interference of light

22. Find the wrong number in the following

series 8, 12, 26, 28, 56, 60, 120, ...

- (1) 28
- (2) 26
- (3) 56
- (4) 12



23. Study the following sequence carefully. How many letters are immediately preceded by a number and immediately followed by a symbol ?

P%R15H*MTE3BSVNKA8W162G#UH7JA9LY

- (1) 2
- (2) 3
- (3) 4
- (4) 1

19. తెలంగాణ నూతన 'పారిశ్రామిక విధాన చట్టం (ఫ్రేమ్ వర్క్), 2014' లక్ష్యం (గోల్) కింది అంశాలతో కూడి ఉంది

- A. సంలీనించు (Incorporate)
- B. ఆరంభించు (Incubate)
- C. దృఢపరచు (Inculcate)
- D. అవిష్కరించు (Innovate)



సరియైన సమాధానాన్ని ఎంపిక చేయండి.

- (1) A, B మరియు D మాత్రమే
- (2) B, C మరియు D మాత్రమే
- (3) A మరియు D మాత్రమే
- (4) A మరియు B మాత్రమే

20. AFHG ని INPO గా కోడ్ చేస్తే, అదే కోడ్ కోడ్ 'RKID' ని ఎలా కోడ్ చేయాలి ?

- (1) ZLSQ
- (2) AGFD
- (3) ZSQL
- (4) ZSLQ

21. ఎండమావులు ఏర్పడటంలో ఇమిడియున్న సూత్రము ఏమిటి ?

- (1) కాంతి సంపూర్ణాంతర పరావర్తనము
- (2) కాంతి పరిక్షేపణం
- (3) కాంతి విక్షేపణము
- (4) కాంతి వ్యతికరణము

22. క్రింది శ్రేణిలో తప్పుగా ఇవ్వబడిన సంఖ్యను కనుగొనండి.

8, 12, 26, 28, 56, 60, 120,

- (1) 28
- (2) 26
- (3) 56
- (4) 12



23. క్రింది శ్రేణిని జాగ్రత్తగా అధ్యయనం చేయండి. ముందు తక్షణమే ఒక సంఖ్య మరియు తర్వాత వెంటనే ఒక గుర్తు గల అక్షరాలు ఎన్ని ?

P%R15H*MTE3BSVNKA8W162G#UH7JA9LY

- (1) 2
- (2) 3
- (3) 4
- (4) 1



NLS

9

P.T.O.

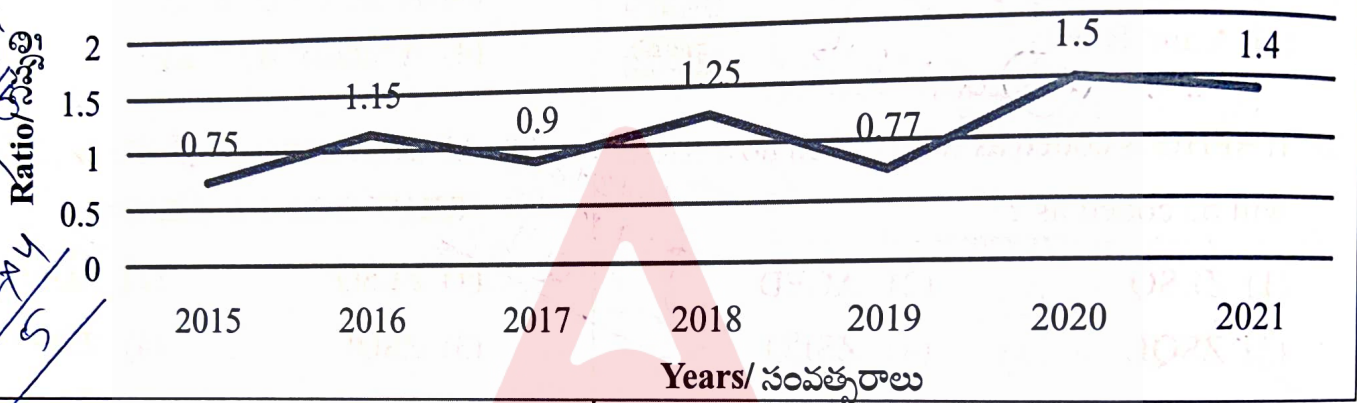


24. The following line graph gives the ratio of the amounts of imports of a company to the amounts of exports of that company over the period from 2015 to 2021. If the imports of the company in 2018 was Rs. 272 crores, the exports from the company (in Rs. crores) in 2018 was



24. దిగువ ఇవ్వబడిన లైన్ గ్రాఫ్ 2015 నుండి 2021 మధ్య కాలంలో, ఒక కంపెనీ దిగుమతుల మొత్తాలకు, ఆ కంపెనీ చేసిన ఎగుమతుల మొత్తాలకు మధ్యగల నిష్పత్తిని తెలియజేస్తుంది. ఒక వేళ 2018 లో కంపెనీ దిగుమతులు రూ. 272 కోట్లు అయితే, 2018 లో ఆ కంపెనీ యొక్క ఎగుమతులు (కోట్ల రూ.లలో) ?

Imports to Exports Ratio/ దిగుమతికి ఎగుమతికి నిష్పత్తి



- (1) 300.6 (2) 217.6
 (3) 215.6 (4) 330.6



- (1) 300.6 (2) 217.6
 (3) 215.6 (4) 330.6



25. Which of the following handicrafts related statements pertaining to Telangana are correct ?

- A. Since 2015, Telangana State Handicrafts Development Corporation has been using Charminar trade mark.
 B. Ushegaon village in undivided district of Adilabad is known for Dokra metal artefacts.
 C. Nirmal furniture received Geographical Indication (GI) Rights in 2012.

Choose the correct statement(s).

- (1) A and B only
 (2) B only
 (3) A and C only
 (4) A, B and C



25. తెలంగాణ హస్తకళలకు సంబంధించిన కింది వ్యాఖ్యలలో సరియైనది/వి ఏది/వి ?

- A. 2015 నుండి తెలంగాణ రాష్ట్ర హస్తకళల అభివృద్ధి సంస్థ చార్మినార్ బ్రేడ్ మార్కును ఉపయోగిస్తుంది.
 B. అవిభక్త ఆదిలాబాద్ జిల్లాలోని ఉషేగావ్ గ్రామం డోక్రా లోహ కళాఖండాలకు పేరు/ప్రసిద్ధి గాంచింది.
 C. నిర్మల్ ఫర్నిచర్ జియోగ్రాఫికల్ ఇండికేషన్ (GI) హక్కులను 2012 లో పొందింది.

సరైన వ్యాఖ్యలను ఎంపిక చేయండి.

- (1) A మరియు B మాత్రమే
 (2) B మాత్రమే
 (3) A మరియు C మాత్రమే
 (4) A, B మరియు C



26. Who among the following supported for the cause of formation of separated Telangana state ?

- A. Chandra Shekar
- B. V. P. Singh
- C. Mamata Banerjee
- D. Sharad Pawar

Select the correct answer.

- (1) A, C and D only
- (2) A, B and D only
- (3) B, C and D only
- (4) A, B and C only

27. Arrange the following events of the Indian National Movement in the chronological order of their occurring :

- A. Chauri Chaura Incident
- B. Rowlatt Satyagraha
- C. Champaran Satyagraha
- D. Mopalah Rebellion

Choose the correct answer.

- (1) C, A, D, B
- (2) D, A, C, B
- (3) B, D, C, A
- (4) A, C, D, B

28. What is the angle between the minute hand and the hour hand of a clock when the time is 8.30 am ?

- (1) 75°
- (2) 60°
- (3) 105°
- (4) 85°

29. Match the following :

Physical Quantity	Unit
A. Quantity of matter	1. Watt
B. Power	2. Mol
C. Electrical resistivity	3. Knot
D. Speed	4. Ohm meter

Choose the correct answer.

- (1) A-2, B-1, C-4, D-3
- (2) A-2, B-1, C-3, D-4
- (3) A-4, B-2, C-1, D-3
- (4) A-1, B-2, C-3, D-4

26. ఈ క్రింది వారిలో ఎవరు ప్రత్యేక తెలంగాణ రాష్ట్ర ఏర్పాటుకు మద్దతునిచ్చారు ?

- A. చంద్ర శేఖర్
- B. వి.పి. సింగ్
- C. మమత బెనర్జీ
- D. శరద్ పవార్

సరియైన సమాధానాన్ని ఎంపిక చేయండి.

- (1) A, C మరియు D మాత్రమే
- (2) A, B మరియు D మాత్రమే
- (3) B, C మరియు D మాత్రమే
- (4) A, B మరియు C మాత్రమే

27. భారత జాతీయ ఉద్యమంలోని క్రింది సంఘటనలను అవి సంభవించిన కాలక్రమానుసారం అమర్చండి.

- A. చౌరీ చౌరా సంఘటన
- B. రౌలట్ సత్యాగ్రహం
- C. చంపారన్ సత్యాగ్రహం
- D. మోపలా తిరుగుబాటు.

సరైన జవాబును ఎంచుకోండి.

- (1) C, A, D, B
- (2) D, A, C, B
- (3) B, D, C, A
- (4) A, C, D, B

28. సమయం ఉదయం 8.30 అయినప్పుడు ఒక గడియారం యొక్క నిమిషం ముల్లు, గంట ముళ్ళ మధ్య కోణం ఎంత ?

- (1) 75°
- (2) 60°
- (3) 105°
- (4) 85°

29. క్రింది వాటిని జతపర్చండి :

భౌతిక రాశి	ప్రమాణము
A. పదార్థ రాశి	1. వాట్
B. సామర్థ్యము	2. మోల్
C. విద్యుత్ నిరోధకత	3. నాట్
D. వడి	4. ఓమ్ మీటర్

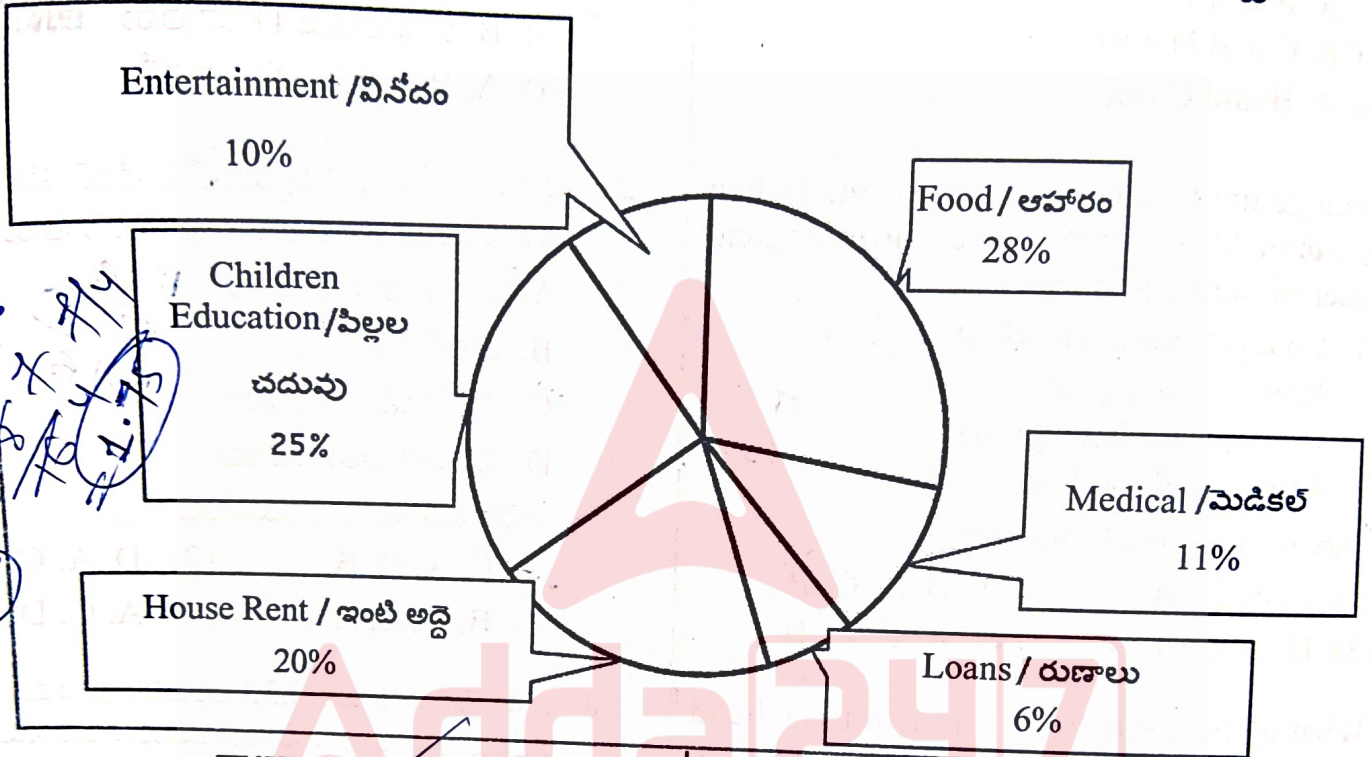
సరైన సమాధానాన్ని ఎంపిక చేయండి.

- (1) A-2, B-1, C-4, D-3
- (2) A-2, B-1, C-3, D-4
- (3) A-4, B-2, C-1, D-3
- (4) A-1, B-2, C-3, D-4

The graph below represents the monthly domestic expenditure of a family in percentages. How many times the monthly expenditure for food is greater than monthly expenditure of entertainment and loan combined together?

30. దిగువ ఇవ్వబడిన పై (pie) చార్ట్, ఒక కుటుంబం యొక్క నెలవారీ గృహ వ్యయాన్ని, శాతాల్లో సూచిస్తుంది. వినోదం, రుణాలకు కలిపి చేసిన నెలవారీ ఖర్చు కంటే, ఆహారం కోసం చేసిన నెలవారీ ఖర్చు ఎన్ని రెట్లు ఎక్కువ?

Monthly Domestic Expenditure / నెలవారీ ఇంటి ఖర్చులు



- (1) 1.65 (2) 1.75
 (3) 1.80 (4) 1.55

- (1) 1.65 (2) 1.75
 (3) 1.80 (4) 1.55

31. Match the following authors with their works :

Author	Work
A. Devaraju Maharaju	1. Enimido Adugu
B. Boya Jangaiah	2. Kadupu Kotha
C. Ampasayya Naveen	3. Matti Vasanelu
D. Panjala Jagannadham	4. Cheemalu

Choose the correct answer.

- (1) A-3; B-1; C-2; D-4
 (2) A-2; B-4; C-1; D-3
 (3) A-4; B-1; C-2; D-3
 (4) A-1; B-2; C-3; D-4

31. కింది రచయితలను వారి రచనలతో జతపరచండి.

రచయిత	రచన
A. దేవరాజు మహారాజు	1. ఎనిమిదో అడుగు
B. బోయ జంగయ్య	2. కడుపు కోత
C. అంపశయ్య నవీన్	3. మట్టి వాసనలు
D. పంజాల జగన్నాథం	4. చీమలు

సరియైన సమాధానాన్ని ఎంపిక చేయండి.

- (1) A-3; B-1; C-2; D-4
 (2) A-2; B-4; C-1; D-3
 (3) A-4; B-1; C-2; D-3
 (4) A-1; B-2; C-3; D-4



22121

32. With reference to the Central Bureau of Investigation (CBI), consider the following statements :


- A. It functions under the Department of Personnel, Ministry of Personnel, Public Grievances and Pensions, Government of India.
- B. The CBI derives power to investigate from the Delhi Special Police Establishment Act, 1946.

Select the correct statement/s.

- (1) B only
- (2) Both A and B
- (3) Neither A nor B
- (4) A only



33. Vishal walked 25 m towards north. Then he turned right and walks 40 m. Then he turns right and walks another 50 m. Then he turns left and walks 20 m. Finally, he turns left and walks 25 m. In which direction and how many meters is he from the starting position ?



- (1) East, 30 m
- (2) West, 55 m
- (3) East, 60 m
- (4) West, 45 m

34. Which satellite was launched first by India's indigenous launching vehicle ?

- (1) Bhaskaracharya
- (2) Rohini
- (3) Saraswathi
- (4) Aryabhata

35. Consider the following:

- A. Jakkana wrote Vikramarka Charitra.
- B. Srinatha wrote Shodasha Kumara Charitra.
- C. Pedakomati Vema Reddy wrote Shabdaratnaakaram.
- D. Singhabhoopala wrote Rasaarnava Sudhakaram.



Choose the correct answer.

- (1) A and B only
- (2) B and D only
- (3) A and D only
- (4) C and D only



32. సెంట్రల్ బ్యూరో ఆఫ్ ఇన్వెస్టిగేషన్ (CBI) కి సంబంధించి, క్రింది వ్యాఖ్యలను పరిగణించండి.

- A. ఇది సిబిఐ డివిజన్, సిబిఐ, పెన్షన్ మరియు ప్రజా ఫిర్యాదుల మంత్రిత్వ శాఖ, భారత ప్రభుత్వం క్రింద పనిచేస్తుంది.
- B. ఢిల్లీ స్పెషల్ పోలీస్ ఎస్టాబ్లిష్మెంట్ యాక్ట్, 1946 నుండి దర్యాప్తు చేసే అధికారాన్ని సీబీఐ పొందింది.

సరైన వ్యాఖ్య(ల) ను ఎంపిక చేయండి.

- (1) B మాత్రమే
- (2) A మరియు B రెండూ
- (3) A మరియు B రెండూ కావు
- (4) A మాత్రమే



33. విశాల్ ఉత్తరం వైపు 25 మీటర్లు నడిచాడు. తరువాత, అతను కుడివైపుకు తిరిగి 40 మీ. నడిచిన తరువాత మళ్ళీ కుడివైపుకు తిరిగి మరో 50 మీ నడిచాడు. ఆ తరువాత అతను ఎడమవైపుకు తిరిగి 20 మీ నడిచి, చివరగా మళ్ళీ ఎడమవైపుకు తిరిగి 25 మీటర్లు నడిచాడు. అతను ప్రారంభ స్థానం నుండి ఇప్పుడు ఏ దిశలో, ఎన్ని మీటర్ల దూరంలో ఉన్నాడు ?

- (1) తూర్పు, 30 మీ
- (2) పడమర, 55 మీ
- (3) తూర్పు, 60 మీ
- (4) పడమర, 45 మీ

34. భారతదేశ స్వదేశీ ప్రయోగ వాహనం ద్వారా మొదటగా ప్రయోగించిన ఉపగ్రహం ఏది ?

- (1) భాస్కరాచార్య
- (2) రోహిణి
- (3) సరస్వతి
- (4) ఆర్యభట్ట

35. కింది వాటిని పరిగణించండి.

- A. జక్కన విక్రమార్క చరిత్రను రచించాడు.
- B. శ్రీనాథుడు షోడష కుమార చరిత్రను రచించాడు.
- C. పెదకోమటి వేమా రెడ్డి శబ్దరత్నాకరం రచించాడు.
- D. సింఘభూపాలుడు రసార్ణవ సుధాకరం రచించాడు.

సరియైన సమాధానాన్ని ఎంపిక చేయండి.

- (1) A మరియు B మాత్రమే
- (2) B మరియు D మాత్రమే
- (3) A మరియు D మాత్రమే
- (4) C మరియు D మాత్రమే





36. Who is Prajakta Koli ?
- She is UNICEF India's first youth champion for slum children education.
 - She is UNDP India's first youth climate champion.
 - She is a YouTuber known for her channel 'Mostlysane'.
 - She has participated at the UN 2019 International Day of Tolerance.
 - She has released a short film named Khayali Pulao.

Select the correct answer.

- B, C, D and E only
- A and E only
- B, C and D only
- A, C, D and E only

37. Match the following agreements, formulas and presidential orders with their respective years of promulgations :

Agreements, Formulas and Presidential Orders	Year
A. Gentleman's Agreement	1. 1969
B. Eight-Point Formula of the Prime Minister	2. 1975
C. Six-Point Formula of the Prime Minister	3. 1976
D. Presidential Order (AP Public Employment Order)	4. 1956 5. 1972

Select the correct answer.

- A-4; B-5; C-3; D-1
- A-4; B-1; C-5; D-2
- A-3; B-2; C-1; D-4
- A-4; B-3; C-1; D-5

36. ప్రజక్త కోలి అంటే ఏవరు ?

- ఈమె మురికివాడల పిల్లల విద్య కోసం ఏర్పడిన UNICEF భారతదేశపు మొదటి యూత్ చాంపియన్.
- ఈమె UNDP భారతదేశపు మొదటి వాతావరణ మార్పు యూత్ చాంపియన్.
- ఈమె ఒక యూట్యూబర్, తన చానల్ 'మోస్ట్లీ సేన్' ద్వారా ప్రసిద్ధి.
- ఈమె ఐక్యరాజ్య సమితి 2019 లో నిర్వహించిన అంతర్జాతీయ ఓరిమి దినోత్సవంలో పాల్గొన్నది.
- ఈమె ఖయాలి పులావ్ అనే ఒక లఘు చిత్రాన్ని విడుదల చేసింది.

సరియైన సమాధానాన్ని ఎంపిక చేయండి.

- B, C, D మరియు E మాత్రమే
- A మరియు E మాత్రమే
- B, C మరియు D మాత్రమే
- A, C, D మరియు E మాత్రమే

37. ఈ క్రింది ఒప్పందాలు, సూత్రాలు, రాష్ట్రపతి ఉత్తర్వులను వాటి సంబంధిత జారీచేసిన సంవత్సరాలతో జతపరచుము :

ఒప్పందాలు, సూత్రాలు, రాష్ట్రపతి ఉత్తర్వులు	సంవత్సరం
A. పెద్ద మనుషుల ఒప్పందం	1. 1969
B. ప్రధాన మంత్రి ఎనిమిది సూత్రాలు	2. 1975
C. ప్రధాన మంత్రి ఆరు సూత్రాలు	3. 1976
D. రాష్ట్రపతి ఉత్తర్వులు (ఆం.ప్ర ప్రభుత్వ ఉద్యోగుల ఉత్తర్వులు)	4. 1956 5. 1972

సరియైన సమాధానాన్ని ఎంపిక చేయండి.

- A-4; B-5; C-3; D-1
- A-4; B-1; C-5; D-2
- A-3; B-2; C-1; D-4
- A-4; B-3; C-1; D-5

22121

38. What are the focus areas identified by the Telangana's AI Framework, 2020 ?

- A. Health care
- B. Agriculture
- C. Mobility
- D. Education
- E. Law enforcement



Select the correct answer.

- (1) A, C and D only
- (2) B, C, D and E only
- (3) A, B, C, D and E
- (4) A, B, C and D only

39. Consider the following statements:

- A. Gandhiji's Salt Satyagraha was a signal for the starting of the Civil Disobedience Movement in the country.
- B. The Second Round Table Conference was held at Delhi.
- C. M. A. Jinnah proposed the 'Two-Nation Theory' in the early part of 1940.
- D. 'Do or Die' slogan was given to the people by Gandhiji on the eve of the Non-Cooperation Movement.

Choose the correct answer.

- (1) B and C only
- (2) C and D only
- (3) A and C only
- (4) A and B only



40. Read the following statements about Ms. Liz Truss, former Prime Minister of Britain:

- A. Ms. Liz Truss became the fourth female Prime Minister of Britain.
- B. 47-year-old Ms. Truss belongs to the Conservative Party.
- C. Mr. Rishi Sunak, the former Finance Minister lost his leadership bid 67%-33% to Ms. Liz Truss.

Choose the correct statement(s).

- (1) A only
- (2) A and C only
- (3) B and C only
- (4) B only



38. తెలంగాణ AI ఫ్రేమ్ వర్క్, 2020 ద్వారా గుర్తించబడిన ఫోకస్ ఏరియాలు ఏవి ?

- A. ఆరోగ్య సంరక్షణ
- B. వ్యవసాయం
- C. మొబిలిటీ
- D. విద్య
- E. చట్టాల అమలు

సరియైన సమాధానాన్ని ఎంపిక చేయండి.

- (1) A, C మరియు D మాత్రమే
- (2) B, C, D మరియు E మాత్రమే
- (3) A, B, C, D మరియు E
- (4) A, B, C మరియు D మాత్రమే

39. ఈ క్రింది వ్యాఖ్యలను పరిగణించండి.

- A. గాంధీజీ ఉప్పు సత్యాగ్రహం దేశంలో శాసనోల్లంఘన ఉద్యమానికి సంకేతాన్నిచ్చింది.
- B. రెండో రౌండ్ టేబుల్ సమావేశం ఢిల్లీలో జరిగింది.
- C. M.A. జిన్నా 1940 ప్రారంభంలో రెండు దేశాల (ద్విజాతి) సిద్ధాంతాన్ని ప్రతిపాదించాడు.
- D. గాంధీజీ ప్రజలకు 'డు ఆర్ డె/దేశానికి విముక్తి చేయండి లేదా ఆ ప్రయత్నంలో చావండి' నినాదాన్ని సహాయనిరాకరణ ఉద్యమం కాలంలో ఇచ్చినాడు.

సరైన జవాబును ఎంచుకోండి.

- (1) B మరియు C మాత్రమే
- (2) C మరియు D మాత్రమే
- (3) A మరియు C మాత్రమే
- (4) A మరియు B మాత్రమే



40. లిజ్ ట్రస్ బ్రిటిష్ మాజీ ప్రధాన మంత్రి గురించి కింది వ్యాఖ్యలను చదవండి :

- A. లిజ్ ట్రస్ బ్రిటన్ యొక్క నాల్గవ మహిళా ప్రధాన మంత్రి.
- B. 47 సంవత్సరాల ట్రస్ కంజర్వేటివ్ పార్టీకి చెందింది.
- C. మాజీ ఆర్థిక మంత్రి ఋషి సునక్ తన నాయకత్వ పోటీని లిజ్ ట్రస్ తో 67%-33% తో కోల్పోయాడు.

సరైన వ్యాఖ్యా(ల)ను ఎంపిక చేయండి.

- (1) A మాత్రమే
- (2) A మరియు C మాత్రమే
- (3) B మరియు C మాత్రమే
- (4) B మాత్రమే





41. Which of the following are the observations of Srikrishna Committee ?

- A. The upper castes in Rayala Seema and Coastal Andhra are vehemently against the idea of dividing the state.
- B. There is a large-scale involvement of students including those from Dalits and backward castes in the Telangana movement.
- C. Telangana movement can be interpreted as a desire for greater democracy and empowerment within a political unit.
- D. The Telangana movement does pose a threat to national unity if it continued for longer period of time.

Select the correct answer.

- (1) A and D only
- (2) B, C and D only
- (3) A, B, C and D
- (4) A, B and C only



42. Which of the following is NOT a scheme/yojana/programme meant for roadways infrastructure in India ?

- (1) Prime Minister Bharat Jodo Pariyojana (PMBJP)
- (2) Pradhan Mantri Vaya Vandana Yojana (PMVVY)
- (3) Bharatmala Pariyojana
- (4) Setu Bharatam Programme

43. Vivek is the brother of Krishna. Bharathi is the sister of Abhishek. Krishna is the son of Bharathi. How is Vivek related to Bharathi ?

- (1) Son
- (2) Father-in-law
- (3) Brother
- (4) Nephew

44. Match the following :

- | | |
|------------|------------|
| A. Rubber | 1. Resin |
| B. Amber | 2. Bark |
| C. Quinine | 3. Rhizome |
| D. Haldi | 4. Gum |
| | 5. Latex |

Choose the correct answer.

- (1) A-1; B-5; C-4; D-2
- (2) A-5; B-4; C-1; D-2
- (3) A-5; B-2; C-1; D-3
- (4) A-5; B-1; C-2; D-3

41. ఈ క్రింది వాటిలో శ్రీకృష్ణ కమిటీ పరిశీలనలు ఏవి ?

- A. రాష్ట్ర విభజనను రాయలసీమ, కోస్తా ఆంధ్రలోని అగ్ర వర్గాలు తీవ్రంగా వ్యతిరేకిస్తున్నాయి.
- B. తెలంగాణ ఉద్యమంలో దళితులు, వెనుకబడిన వర్గాలతో సహా పెద్ద ఎత్తున విద్యార్థులు పాల్గొంటున్నారు.
- C. ఒక రాజకీయ విభాగంలో చెలరేగిన ఈ తెలంగాణ ఉద్యమాన్ని ఒక గొప్ప ప్రజాస్వామ్య, సాధికార ఆకాంక్షగా వ్యాఖ్యానించవచ్చు.
- D. తెలంగాణ ఉద్యమం ఎక్కువ కాలం కొనసాగితే అది జాతీయ సమైక్యతకు ముప్పు కాగలదు.

సరియైన సమాధానాన్ని ఎంపిక చేయండి.

- (1) A మరియు D మాత్రమే
- (2) B, C మరియు D మాత్రమే
- (3) A, B, C మరియు D
- (4) A, B మరియు C మాత్రమే



42. కింది వాటిలో భారతదేశంలో రోడ్డు మార్గాల అవస్థాపన సదుపాయాల కొరకు ఉద్దేశించిన పథకం/యోజన/ప్రోగ్రాం కానిది ఏది ?

- (1) ప్రధాన మంత్రి భారత్ జోడ్ పరియోజన (PMBJP)
- (2) ప్రధాన మంత్రి వయ వందన యోజన (PMVVY)
- (3) భారత్మాల పరియోజన
- (4) సేతు భారతం ప్రోగ్రాం

43. వివేక్, కృష్ణ యొక్క సోదరుడు. భారతీ, అభిషేక్ యొక్క సోదరి. కృష్ణ, భారతీ యొక్క కుమారుడు అయితే వివేక్, భారతీకి ఏమవుతాడు ?

- (1) కొడుకు
- (2) మామగారు
- (3) సోదరుడు
- (4) మేనల్లుడు

44. ఈ క్రింది వాటిని జతపరచుము.

- | | |
|-------------|-------------|
| A. రబ్బరు | 1. రెసిన్ |
| B. అంబర్ | 2. బెరడు |
| C. క్వినిన్ | 3. రైజోమ్ |
| D. హనుపు | 4. బంక |
| | 5. లేటెక్స్ |

సరైన సమాధానాన్ని ఎంపిక చేయండి.

- (1) A-1; B-5; C-4; D-2
- (2) A-5; B-4; C-1; D-2
- (3) A-5; B-2; C-1; D-3
- (4) A-5; B-1; C-2; D-3



22121

45. The TSR Subramanian Committee (2014) is associated with which of the following ?

- (1) Review the processes, laws and acts of the Ministry of Environment, Forest and Climate Change
- (2) Dissolution of Muslim Marriage Act
- (3) Review the processes, laws and acts of the Ministry of Human Resources Development
- (4) India's efforts to counter internal and external terrorism

46. Who among the following Asafjahi rulers used the title 'Nizam' for the first time ?

- (1) Nizam Ali Khan
- (2) Muzaffar Jung
- (3) Sikandar Jhah
- (4) Nizam-ul-Mulk

47. Match the following :

- | | |
|--|-----------------------|
| A. Kakaori Rail Looting | 1. Bhagat Singh |
| B. Killing of Sanders, the Police Officer | 2. Chandrasekhar Azad |
| C. Bomb explosion at the train in which the Viceroy was travelling | 3. Ramprasad Bismil |
| | 4. Surya Sen |

Choose the correct answer.

- (1) A-4; B-1; C-3
- (2) A-3; B-1; C-2
- (3) A-3; B-4; C-1
- (4) A-1; B-3; C-2

48. Read the following pairs about the International Literacy Day (ILD) :

- A. International Literary Day (Month and Date): September 8
- B. Organisation of ILD : UNESCO
- C. Theme of ILD 2022 : Literacy teaching and learning in crisis and beyond

Choose the correct pairs.

- (1) A and B only
- (2) A, B and C
- (3) B and C only
- (4) A only

45. TSR సుబ్రమణియన్ కమిటీ (2014) కింది వాటిలో దేనికి సంబంధించినది ?

- (1) పర్యావరణం, అటవీ, వాతావరణ మార్పు మంత్రిత్వ శాఖ ప్రక్రియలు, చట్టాలను సమీక్షించడం
- (2) ముస్లిం వివాహ చట్టం రద్దు
- (3) మానవ వనరుల అభివృద్ధి మంత్రిత్వ శాఖ ప్రక్రియలు, చట్టాలను సమీక్షించడం
- (4) అంతర్గత, బాహ్య ఉగ్రవాదాన్ని ఎదుర్కోవడానికి భారతదేశపు ప్రయత్నాలు

46. కింది అసఫ్జాహీ పాలకుల్లో మొదటిసారిగా 'నిజాం' అనే బిరుదును ఎవరు ఉపయోగించారు ?

- (1) నిజాం అలీ ఖాన్
- (2) ముజాఫర్ జంగ్
- (3) సికందర్ రూఝా
- (4) నిజాం ఉల్ ముల్క్

47. కింది వాటిని జతపరచుము.

- | | |
|--|------------------------|
| A. కకోరి రైలు దోపిడి | 1. భగత్ సింగ్ |
| B. పోలీస్ అధికారి సాండర్స్ హత్య | 2. చంద్రశేఖర్ ఆజాద్ |
| C. వైస్రాయ్ ప్రయాణిస్తున్న రైలుపై బాంబు దాడి | 3. రాంప్రసాద్ బిస్మిల్ |
| | 4. సూర్య సేన్ |

సరియైన సమాధానాన్ని ఎంపిక చేయండి.

- (1) A-4, B-1, C-3
- (2) A-3, B-1, C-2
- (3) A-3, B-4, C-1
- (4) A-1, B-3, C-2

48. అంతర్జాతీయ అక్షరాస్యతా దినోత్సవంకు సంబంధించి కింది జతలను చదవండి.

- A. అంతర్జాతీయ అక్షరాస్యతా దినోత్సవం (నెల మరియు తేదీ) : సెప్టెంబర్ 8
- B. అంతర్జాతీయ అక్షరాస్యతా దినోత్సవాన్ని నిర్వహించే సంస్థ : యునెస్కో (UNESCO).
- C. అంతర్జాతీయ అక్షరాస్యతా దినోత్సవం 2022 థీమ్ : సంక్షోభంలో మరియు ఆ తరువాత బోధన మరియు అభ్యాసం.

సరైన జతలను ఎంపిక చేయండి.

- (1) A మరియు B మాత్రమే
- (2) A, B మరియు C
- (3) B మరియు C మాత్రమే
- (4) A మాత్రమే



49. In a class of 40 persons, Aniketh secured 20th rank, if the maximum scorer of the class was given 1st Rank. If the 1st rank is given to the minimum scorer of the class, Advait secures 15th rank. Ankith's rank is exactly in the middle of these two. What will be the rank of Ankith, if the 1st rank is given to the maximum scorer of the class ?

- (1) 17 (2) 23
(3) 22 (4) 25



Handwritten notes: 40, 15 = 20, 15 = 15, R 50, 20, 15, 20

50. Which of the following districts of Telangana have the border with Chhattisgarh ?

- A. Jayashankar-Bhupalapalli
B. Bhadradi-Kothagudem
C. Khammam
D. Mulugu



Select the correct answer.

- (1) A, C and D only
(2) A, B and D only
(3) B, C and D only
(4) A, B and C only

51. In a code language, if WINTER can be written as 8150241932, how can SUMMER be written ?

- (1) 81531311291 (2) 81581311391
(3) 81531311391 (4) 82431311291

Handwritten note: 81531311291

52. 'Agreement for Co-operation between the Government of India and the Government of the United States of America concerning Peaceful Uses of Nuclear Energy' is also known as :

- (1) 122 Agreement (2) 123 Agreement
(3) 124 Agreement (4) 121 Agreement

53. If + means ÷, - means +, ÷ means × and × means -, then what is the value of the following ?

$20 \times (4 \div 6 - 4 + 2)$

- (1) -20 (2) -6
(3) -26 (4) 6



Handwritten calculation: $20 - (4 \div 6 + 4 - 2)$

49. 40 మంది వ్యక్తులు గల ఒక తరగతిలో, క్లాస్ లో గరిష్ఠ స్కోర్ సాధించిన వ్యక్తికి 1 వ ర్యాంక్ ఇస్తే, అనికేత్ 20 వ ర్యాంక్ సాధించాడు. తరగతిలో కనిష్ఠ స్కోర్ సాధించిన వ్యక్తికి 1 వ ర్యాంక్ ఇస్తే, అద్వైత్ 15 వ ర్యాంక్ సాధించాడు. అంకిత్ ర్యాంక్ సరిగ్గా ఈ రెండింటి మధ్యలో ఉంది. తరగతిలో గరిష్ఠ స్కోర్ సాధించిన వ్యక్తికి 1 వ ర్యాంక్ ఇస్తే అంకిత్ ర్యాంక్ ఎంత ?

- (1) 17 (2) 23
(3) 22 (4) 25

50. తెలంగాణలోని ఈ క్రింది ఏ జిల్లాలు ఛత్తీస్ గఢ్ లో సరిహద్దులు కలిగి ఉన్నాయి ?

- A. జయశంకర్ - భూపాలపల్లి
B. భద్రాద్రి - కొత్తగూడెం
C. ఖమ్మం
D. ములుగు

సరైన జవాబును ఎంచుకొనుము.

- (1) A, C మరియు D మాత్రమే
(2) A, B మరియు D మాత్రమే
(3) B, C మరియు D మాత్రమే
(4) A, B మరియు C మాత్రమే



51. ఒక కోడ్ భాషలో, WINTER ని 8150241932 అని రాస్తే SUMMER అని ఎలా రాయవచ్చు ?

- (1) 81531311291 (2) 81581311391
(3) 81531311391 (4) 82431311291

52. అణు శక్తి శాంతియుత ఉపయోగాలకు సంబంధించి భారత ప్రభుత్వం, యునైటెడ్ స్టేట్స్ ఆఫ్ అమెరికా ప్రభుత్వం మధ్య సహకార ఒప్పందం ఈ విధంగా కూడా పిలువబడుతుంది.

- (1) 122 ఒప్పందం (2) 123 ఒప్పందం
(3) 124 ఒప్పందం (4) 121 ఒప్పందం

53. ఒక వేళ + అంటే ÷, - అంటే +, ÷ అంటే × మరియు × అంటే - అయితే ఈ క్రింది దాని విలువ ఎంత ?

$20 \times (4 \div 6 - 4 + 2)$

- (1) -20 (2) -6
(3) -26 (4) 6





22121

54. The National Disaster Response Force (NDRF) consists of battalions from which of the following organisations ?

- A. Border Security Force
- B. Central Industrial Security Force
- C. Central Reserve Police Force
- D. Central Air Force
- E. Central Naval Force

Select the correct answer.

- (1) B, D and E only
- (2) A, C, D and E only
- (3) A, B, C and D only
- (4) A, B and C only



55. Consider the following statements :

- A. The official language of the Indian Union shall be Hindi in the Brahmi script.
- B. The Constitution recognizes English as the primary language of the Supreme Court and the High Courts.

Select the correct statement/s.

- (1) B only
- (2) Both A and B
- (3) Neither A nor B
- (4) A only

56. Match the following :

Movement	State
A. Punnapara Valayar Movement	1. Kerala
B. Tebhaga Movement	2. Bengal
C. Eka Movement	3. Uttar Pradesh
D. Champaran Satyagraha	4. Bihar

Choose the correct answer.

- (1) A-2; B-1; C-4; D-3
- (2) A-4; B-3; C-1; D-2
- (3) A-3; B-4; C-2; D-1
- (4) A-1; B-2; C-3; D-4



54. నేషనల్ డిజాస్టర్ రెస్పాన్స్ ఫోర్స్ (NDRF) ఈ క్రింది ఏ సంస్థలకు సంబంధించిన వారితో బెటాలియన్లను కలిగి ఉన్నది ?

- A. సరిహద్దు భద్రతా దళం
- B. కేంద్ర పారిశ్రామిక భద్రతా దళం
- C. కేంద్ర రిజర్వ్ పోలీస్ దళం
- D. కేంద్ర వాయు దళం
- E. కేంద్ర నావికా దళం

సరియైన సమాధానాన్ని ఎంపిక చేయండి.

- (1) B, D మరియు E మాత్రమే
- (2) A, C, D మరియు E మాత్రమే
- (3) A, B, C మరియు D మాత్రమే
- (4) A, B మరియు C మాత్రమే



55. కింది వ్యాఖ్యలను పరిగణించండి.

- A. భారత యూనియన్ యొక్క అధికారిక భాష బ్రాహ్మీ లిపిలో హిందీగా ఉండాలి.
- B. సుప్రీంకోర్టు, హైకోర్టులలో రాజ్యాంగం ఆంగ్లాన్ని ప్రాథమిక భాషగా గుర్తిస్తుంది.

సరియైన వ్యాఖ్య(ల) ను ఎంపిక చేయండి.

- (1) B మాత్రమే
- (2) A మరియు B రెండూ
- (3) A మరియు B రెండూ కావు
- (4) A మాత్రమే



56. కింది వాటిని జతపరచండి.

ఉద్యమం	రాష్ట్రం
A. పున్నపర వళయార్ ఉద్యమం	1. కేరళ
B. తెభాగ ఉద్యమం	2. బెంగాల్
C. ఏక ఉద్యమం	3. ఉత్తర ప్రదేశ్
D. చంపారన్ సత్యాగ్రహం	4. బీహార్

సరియైన జవాబును ఎంచుకోండి.

- (1) A-2; B-1; C-4; D-3
- (2) A-4; B-3; C-1; D-2
- (3) A-3; B-4; C-2; D-1
- (4) A-1; B-2; C-3; D-4

22121



57. Match the following marriage assistance schemes of states in India.

Name of the Scheme/Yojana	State Name
A. Bidaai (Shaadi Scheme)	1. Haryana
B. Mukhya Mantri Kanya Vivah/ Nikah Yojana	2. Karnataka
C. Mukhya Mantri Vivah Shagun Yojana	3. Madhya Pradesh
	4. Uttar Pradesh

Choose the correct pairs.

- (1) A-2; B-4; C-3 (2) A-1; B-3; C-4
 (3) A-3; B-2; C-1 (4) A-2; B-3; C-1

58. Who was the last ruler of the Qutub Shahi Kingdom ?

- (1) Abul Hasan Tanesha
 (2) Sultan-Mohammed Shah
 (3) Jamshed Shah
 (4) Abdullah Qutub Shah

59. In India, the first shore-based iron and steel plant is located at

- (1) Visakhapatnam (2) Chennai
 (3) Mangalore (4) Kochi

60. Who among the following did NOT participate in the Vandemataram Movement of 1938 in Hyderabad ?

- (1) Achyuta Reddy
 (2) Madapati Hanumantha Rao
 (3) Devulapalli Venkateswara Rao
 (4) P.V. Narasimha Rao

61. Which of the following Presidents of the then Soviet Union had taken the decision to pull out Soviet army from Afghanistan in 1988 ?

- (1) Mikhail Gorbachev
 (2) Nikita Khrushchev
 (3) Boris Yeltsin
 (4) Leonid Brezhnev



57. భారతదేశంలోని వివిధ రాష్ట్రాలలో అమలులో ఉండిన కింది వివాహ సహాయ పథకాలను జతపరచండి.

పథకం/యోజన పేరు	రాష్ట్రం పేరు
A. బిదాయి (షాది స్కీమ్)	1. హర్యానా
B. ముఖ్యమంత్రి కన్య వివాహ/నిఖా యోజన	2. కర్ణాటక
C. ముఖ్యమంత్రి వివాహ పగుస యోజన	3. మధ్యప్రదేశ్
	4. ఉత్తర్ ప్రదేశ్



సరైన జతలను ఎంపిక చేయండి.

- (1) A-2; B-4; C-3 (2) A-1; B-3; C-4
 (3) A-3; B-2; C-1 (4) A-2; B-3; C-1

58. కుతుబ్షాహీ రాజ్యానికి చివరి పాలకుడు ఎవరు ?

- (1) అబుల్ హసన్ తానిషా
 (2) సుల్తాన్-మహమ్మద్ షా
 (3) జంషెడ్ షా
 (4) అబ్దుల్లా కుతుబ్ షా



59. భారతదేశంలో మొదటి తీర ఆధారిత ఐరన్ మరియు స్టీల్ ప్లాంట్ ఇక్కడ ఉంది

- (1) విశాఖపట్నం (2) చెన్నై
 (3) మంగళూరు (4) కొచ్చి

60. కింది వారిలో 1938 లో హైదరాబాద్ లో జరిగిన వందేమాతరం ఉద్యమంలో ఎవరు పాల్గొన లేదు ?

- (1) అచ్యుత రెడ్డి
 (2) మాడపాటి హనుమంత రావు
 (3) దేవులపల్లి వెంకటేశ్వరరావు
 (4) పి.వి. నరసింహారావు



61. ఈ కింది వారిలో ఏ సోవియట్ యూనియన్ అధ్యక్షుడు 1988 లో ఆఫ్ఘనిస్తాన్ నుండి సోవియట్ సైన్యాలను ఉపసంహరించుకునే నిర్ణయాన్ని తీసుకున్నాడు ?

- (1) మిఖాయిల్ గోర్బచేవ్
 (2) నికితా క్రుశ్చెవ్
 (3) బోరిస్ ఎల్సిన్
 (4) లియోనిడ్ బ్రెజ్నెవ్

22121

62. The Governor General who first imposed censorship on newspapers was

- (1) Wellesley (2) Hastings
(3) Cornwallis (4) Dalhousie

63. Consider the following in relation to the Rights of Persons with Disabilities Act, 2016.

- A. The act provides effect to the UN Convention on the Rights of Persons with Disabilities.
B. No promotion shall be denied to a person merely on the ground of disability.
C. No person with disability shall be a subject of any research without the consent and prior permission of a Committee for Research on Disability.
D. The persons with disabilities shall have equal protection and safety in situations of emergencies and natural disasters.
E. The act provides for conducting survey of school going children in every ten years for identifying children with disabilities.

Select the correct answer.

- (1) B, C, D and E only
(2) A and B only
(3) C and D only
(4) A, B, C and D only

64. The main objective of the Regional Rural Banks (RRBs) is to provide credit to

- A. Agricultural labourers
B. Marginal farmers
C. Small entrepreneurs
D. Small farmers

Choose the correct answer.

- (1) A, B and D only
(2) B and D only
(3) A and C only
(4) A, B, C, D

62. వార్తా పత్రికలపై మొదటిసారి ఆంక్షలు విధించిన గవర్నర్ జనరల్ :

- (1) వెల్లెస్లీ (2) హేస్టింగ్స్
(3) కార్న్ వాలిస్ (4) డల్హౌసీ

63. వికలాంగుల హక్కుల చట్టం 2016 కు సంబంధించి ఈ క్రింది వాటిని గ్రహించుము.

- A. ఈ చట్టం ఐక్యరాజ్య సమితి వికలాంగుల హక్కుల కన్వెన్షన్ కు కార్యరూపం ఇచ్చినది.
B. కేవలం వైకల్యం కారణంగా ఏదేని ఒక వ్యక్తి ప్రమోషన్ నిరాకరించబడరాదు.
C. వ్యక్తిగత అనుమతి, వికలాంగుల పరిశోధనలపై గల కమిటీ ముందస్తు అనుమతి లేకుండా వికలాంగ వ్యక్తులపై పరిశోధన చేయరాదు.
D. ప్రకృతి వైపరీత్యాలు, అత్యవసర పరిస్థితుల సందర్భాలలో వికలాంగులకు సమాన రక్షణ, భద్రత కల్పించాలి.
E. వికలాంగ పిల్లలను గుర్తించేందుకు ప్రతి పదేళ్ళకు ఒకసారి పాఠశాలలకు వెళ్ళే పిల్లల సర్వే నిర్వహించాలని చట్టం ఆదేశిస్తున్నది.

సరియైన సమాధానాన్ని ఎంపిక చేయండి.

- (1) B, C, D మరియు E మాత్రమే
(2) A మరియు B మాత్రమే
(3) C మరియు D మాత్రమే
(4) A, B, C మరియు D మాత్రమే

64. ప్రాంతీయ గ్రామీణ బ్యాంకుల (RRB ల) ప్రధాన లక్ష్యం కింది వారికి రుణాన్ని అందించడం

- A. వ్యవసాయ కూలీలు
B. సన్నకారు (మార్జినల్) రైతులు
C. చిన్న తరహా వ్యవస్థాపకులు
D. చిన్న (స్మాల్) రైతులు

సరైన సమాధానాన్ని ఎంపిక చేయండి.

- (1) A, B మరియు D మాత్రమే
(2) B మరియు D మాత్రమే
(3) A మరియు C మాత్రమే
(4) A, B, C, D

22121



65. If 18th February 2023 falls on Saturday, what will be the week day on 08th October, 2023 ?

- (1) Tuesday (2) Thursday
(3) Sunday (4) Monday

66. Consider the following in relation to air.

- A. Atmosphere is made up of approximately 78% nitrogen and 21% oxygen.
B. The other gases of atmosphere are carbon dioxide, neon and hydrogen.
C. Carbon dioxide in the air can be both good and bad.
D. Air pollution is measured with the Air Quality Index (AQI). The higher the AQI, the cleaner the air is.

Select the correct answer.

- (1) B, C and D only
(2) A, B and D only
(3) A and B only
(4) A, B and C only

67. In a certain code language, MONEY is written as XDMNL. How is DELHI written in that code ?

- (1) HGKCD (2) HGKDC
(3) HGDKC (4) HGCDK

68. Which of the following statements is/are correct with regard to the 'Telangana State Police Integrated Command and Control Centre (TSPICCC) ?

- A. It was inaugurated by the Chief Minister of Telangana in August 2022.
B. The foundation of the building was laid in the year 2018.

Choose the correct statement(s).

- (1) Both A and B
(2) B only
(3) Neither A nor B
(4) A only



65. 18 ఫిబ్రవరి 2023 వ తేదీ, శనివారం అయితే, 08 అక్టోబర్ 2023వ రోజున ఏ వారం అవుతుంది ?
(1) మంగళవారం (2) గురువారం
(3) ఆదివారం (4) సోమవారం

66. గాలికి సంబంధించి ఈ క్రింది వాటిని గ్రహించుము.

- A. వాతావరణం దాదాపు 78% నైట్రోజన్, 21% ఆక్సిజన్లతో కూడి ఉన్నది.
B. వాతావరణంలోని ఇతర వాయువులు, కార్బన్ డైయాక్సైడ్, నియాన్, హైడ్రోజన్.
C. గాలిలోని కార్బన్ డైయాక్సైడ్‌నకు మంచి, చెడు రెండు లక్షణాలు కలవు.
D. వాయు కాలుష్యాన్ని ఎయిర్ క్వాలిటీ ఇండెక్స్ (AQI) తో కొలుస్తారు. ఎంత AQI ఎక్కువగా ఉంటే గాలి అంత శుభ్రంగా ఉంటుంది.

సరియైన సమాధానాన్ని ఎంపిక చేయండి.

- (1) B, C మరియు D మాత్రమే
(2) A, B మరియు D మాత్రమే
(3) A మరియు B మాత్రమే
(4) A, B మరియు C మాత్రమే



67. ఒక నిర్దిష్ట కోడ్ భాష లో, MONEY అనే పదం XDMNL గా రాస్తే. అదే కోడ్‌లో DELHI ని ఎలా రాయవచ్చు ?

- (1) HGKCD (2) HGKDC
(3) HGDKC (4) HGCDK

68. 'తెలంగాణ స్టేట్ పాలీస్ ఇంటిగ్రేటెడ్ కమాండ్ మరియు కంట్రోల్ సెంటర్' (TSPICCC) కు సంబంధించి కింది వ్యాఖ్యలలో ఏది/వి సరైనది/వి ?

- A. దీనిని ఆగస్టు 2022 లో తెలంగాణ ముఖ్య మంత్రి ప్రారంభించాడు.
B. ఈ భవనానికి పునాది 2018 లో వేయబడినది.
సరైన వ్యాఖ్య(ల)ను ఎంపిక చేయండి.

- (1) A మరియు B రెండూ
(2) B మాత్రమే
(3) A మరియు B రెండూ కావు
(4) A మాత్రమే



22121

69. Find out the next term in the following series.
CPK, ETR, HYZ, ?
(1) LIL (2) LEK
(3) LEI (4) LLI

70. Thick deposits of glacial clay and other materials embedded with moraines, termed as 'Karewas' are found in
(1) Sikkim Himalayas
(2) Himachal Himalayas
(3) Kashmir Himalayas
(4) Arunachal Himalayas

71. Select the correct sequence of arithmetical signs to replace the symbol \$, to balance the following equation
 $150 \$ 2 \$ 50 \$ 500 \$ 2$
(1) $\div + = \times$ (2) $\times - = \div$
(3) $\div - = \div$ (4) $\times + = \div$

72. What is hydroponics ?
(1) Method of growing plants with soil
(2) Method of growing plants in drought
(3) Method of growing plants in green house
(4) Method of growing plants without soil

73. The ratio of current ages of P and Q is 2 : 3. If the ratio of their ages after 20 years is 9 : 11, then what is the sum of the current ages of P and Q (in years) ?
(1) 45 (2) 50
(3) 40 (4) 35

69. క్రింది శ్రేణిలో వచ్చు తదుపరి పదాన్ని కనుగొనండి.
CPK, ETR, HYZ, ?
(1) LIL (2) LEK
(3) LEI (4) LLI

70. హిమనదీయ బంకమట్టి మరియు మొరైన్లతో పొందుపరచబడిన ఇతర పదార్థాల దట్టమైన నిక్షేపాలు, 'కరేవాస్' అని పిలువబడేవి ఇక్కడ ఉన్నాయి
(1) సిక్కిం హిమాలయాలు
(2) హిమాచల్ హిమాలయాలు
(3) కాశ్మీర్ హిమాలయాలు
(4) అరుణాచల్ హిమాలయాలు

71. క్రింది సమీకరణాన్ని సతులనం (బ్యాలెన్స్) చేయాలంటే, \$ చిహ్నాన్ని భర్తీ చేయడానికి దిగువ ఇచ్చిన అంకగణిత సంకేతాల యొక్క సరైన క్రమాన్ని కనుక్కోండి.
 $150 \$ 2 \$ 50 \$ 500 \$ 2$
(1) $\div + = \times$ (2) $\times - = \div$
(3) $\div - = \div$ (4) $\times + = \div$

72. హైడ్రోపోనిక్స్ అనగానేమి ?
(1) నేలలో మొక్కలను పెంచు విధానం
(2) జలాభావ పరిస్థితులలో మొక్కలను పెంచు విధానం
(3) గ్రీన్ హౌస్ లో మొక్కలు పెంచు విధానం
(4) నేలలో కాకుండా మొక్కలను పెంచు విధానం

73. P మరియు Q ల ప్రస్తుత వయస్సుల నిష్పత్తి 2 : 3 ఒకవేళ, 20 సంవత్సరాల తర్వాత వారి వయస్సుల నిష్పత్తి 9 : 11 అయితే, P, Q ల ప్రస్తుత వయస్సుల మొత్తం ఎంత (సంవత్సరాల్లో)?
(1) 45 (2) 50
(3) 40 (4) 35

P.T.O.

22121



74. Arrange the following states in descending order on the basis of their gross state domestic product (GSDP) at current prices (base year : 2011-12) for 2019-20.

- A. Gujarat
B. Madhya Pradesh
C. Maharashtra
D. Tamil Nadu



Choose the correct descending order.

- (1) C, A, D, B (2) A, C, D, B
(3) B, A, D, C (4) C, D, A, B

75. Which one of the following is WRONGLY matched ?

- (1) Comrades : P. Sundaraiah
Association
(2) All Hyderabad : Burugula
Students Union : Narsinga Rao
(3) Attack on British : Turrebaz
Residency : Khan
(4) Nizam's : Sir Nizam
Subjects League : Jung

76. Consider the following statements with reference to the 103rd Constitution (Amendment) Act, 2019 :

- A. It amended Article 15 and Article 16 of the Indian Constitution.
B. It enabled the introduction of the 10% EWS (Economically Weaker Sections) quota.

Select the correct statement/s.

- (1) B only
(2) Both A and B
(3) Neither A nor B
(4) A only



77. The following is considered as a base for creating the United Nations Organisation :

- (1) 1943 Quebec Conference
(2) 1943 Teheran Conference
(3) 1945 San Francisco Conference
(4) 1944 Washington Conference

74. ప్రస్తుత ధరల (ఆధార సంవత్సరం : 2011-12) వద్ద 2019-20 సంవత్సరపు స్థూల రాష్ట్ర దేశీయ ఉత్పత్తి (GSDP) ఆధారంగా కింది రాష్ట్రాలను అవరోహణ క్రమంలో అమర్చండి.

- A. గుజరాత్
B. మధ్యప్రదేశ్
C. మహారాష్ట్ర
D. తమిళనాడు



సరైన అవరోహణ క్రమాన్ని అమర్చండి.

- (1) C, A, D, B (2) A, C, D, B
(3) B, A, D, C (4) C, D, A, B

75. ఈ కింది వాటిలో ఏది తప్పుగా జతపరచబడినది ?

- (1) కామ్రేడ్స్ : పి సుందరయ్య
అసోసియేషన్
(2) ఆల్ హైదరాబాద్ : బూరుగుల నర్సింగరావు
స్టూడెంట్స్ యూనియన్
(3) బ్రిటీష్ రెసిడెన్సీపై : తుర్రేబాజ్ ఖాన్
దాడి
(4) నిజాం సబ్జెక్ట్స్ లీగ్ : సర్ నిజామత్ జంగ్

76. 103 వ రాజ్యాంగం (సవరణ) చట్టం, 2019 కి సంబంధించి కింది వ్యాఖ్యలను పరిగణించండి.



- A. ఇది భారత రాజ్యాంగం ఆర్టికల్ 15, ఆర్టికల్ 16 ను సవరించింది.
B. ఇది 10% EWS (ఆర్థికంగా బలహీనమైన వర్గాల) కోటాను ప్రవేశపెట్టడానికి వీలు కల్పించింది.

సరైన వ్యాఖ్య(ల) ను ఎంపిక చేయండి.

- (1) B మాత్రమే
(2) A మరియు B రెండూ
(3) A మరియు B రెండూ కావు
(4) A మాత్రమే

77. ఐక్యరాజ్య సమితి ఏర్పాటునకు ఈ కింది సమావేశం ఒక ప్రాతిపదికగా పరిగణించబడుతున్నది :

- (1) 1943 క్యుబెక్ కాన్ఫరెన్స్
(2) 1943 తెహరాన్ కాన్ఫరెన్స్
(3) 1945 శాన్ ఫ్రాన్సిస్కో కాన్ఫరెన్స్
(4) 1944 వాషింగ్టన్ కాన్ఫరెన్స్





78. Who built Falaknuma Palace ?

- (1) Mir Osman Ali Khan
- (2) Vicar-ul-Umra
- (3) Nasiruddaula
- (4) Nizamul Mulk



79. Who among the following participated in the Vaikom Satyagraha Movement ?

- (1) Sri Narayana Guru
- (2) B.R. Ambedkar
- (3) Ramaswami Naicker
- (4) Beharamji Malabari

80. Vast limestone deposits occur in Telangana in which of the following districts ?

- A. Nalgonda
- B. Vikarabad
- C. Mancherial
- D. Wanaparthy

Select the correct answer.

- (1) B, C and D only
- (2) A, C and D only
- (3) A, B, C and D
- (4) A, B and C only

81. Match the following :

- | | |
|--------------------------------|--|
| A. Ponneganti
Telaganaryudu | 1. Tapati
Samvaranopakhyanam |
| B. Addanki
Gangadhara | 2. Yayathi Charitra |
| C. Kancherla
Gopanna | 3. Dasharatha
Rajanandana
Charitra |
| D. Singanacharyudu | 4. Dasharathi
Satakam |
| | 5. Vijayanthi
Vilaasam |



Choose the correct answer.

- (1) A-2; B-1; C-4; D-3
- (2) A-3; B-2; C-5; D-1
- (3) A-4; B-5; C-3; D-2
- (4) A-1; B-2; C-4; D-3

22121

78. ఫలక్నుమా ప్యాలెస్ ని ఎవరు నిర్మించారు ?

- (1) మీర్ ఉస్మాన్ అలీ ఖాన్
- (2) వీకార్-ఉల్-ఉమ్రా
- (3) నాసిరుద్దౌలా
- (4) నిజాముల్ ముల్క్



79. కింది వారిలో వైకోమ్ సత్యాగ్రహ ఉద్యమంలో ఎవరు పాల్గొన్నారు ?

- (1) శ్రీ నారాయణ గురు
- (2) బి.ఆర్. అంబేద్కర్
- (3) రామస్వామి నాయకర్
- (4) బెహరాంజీ మలబారి

80. తెలంగాణలో విస్తారమైన సున్నపురాయి నిక్షేపాలు కింది ఏ జిల్లాలలో ఉన్నాయి ?

- A. నల్గొండ
- B. వికారాబాద్
- C. మంచిర్యాల
- D. వనపర్తి

సరైన జవాబును ఎంచుకొనుము.

- (1) B, C మరియు D మాత్రమే
- (2) A, C మరియు D మాత్రమే
- (3) A, B, C మరియు D
- (4) A, B మరియు C మాత్రమే

81. కింది వాటిని జతపరచండి.

- | | |
|-------------------------------|------------------------|
| A. పొన్నెగంటి
తెలగనార్యుడు | 1. తపతి |
| B. అద్దంకి గంగాధర | 2. సంవరణోపాఖ్యానం |
| C. కంచెర్ల గోపన్న | 3. యయాతి చరిత్ర |
| D. సింగనాచార్యుడు | 4. దశరథ రాజనందన చరిత్ర |
| | 5. దాశరథి శతకం |
| | 6. వైజయంతీ విలాసం |

సరియైన సమాధానాన్ని ఎంపిక చేయండి.

- (1) A-2; B-1; C-4; D-3
- (2) A-3; B-2; C-5; D-1
- (3) A-4; B-5; C-3; D-2
- (4) A-1; B-2; C-4; D-3



22121



82. Read the following statements about the 44th Chess Olympiad which were opened on 28th July 2022 :

- A. For the first time, the Chess Olympiad was held in India.
B. The 44th Chess Olympiad was conducted in New Delhi.

Choose the correct statement(s).

- (1) A only
(2) Both A and B
(3) B only
(4) Neither A nor B



83. The introduction of principles of self-government in municipal administration in India was the result of the following :

- (1) Lord Curzon's Resolution of July 1866
(2) Lord Dalhousie's Resolution of April 1901
(3) Sir William Bentinck's Resolution of February 1903
(4) Lord Rippon's Resolution of May 1882

84. Which irrigation project in Telangana is oldest among the following ?

- (1) Priya Darshini Jurala
(2) Nizamsagar
(3) Nagarjunasagar
(4) Sriramsagar



85. Consider the following pairs.

- A. Sprite drink : Trade secret
B. Byadagi chilli variety : Geographical indication
C. Computer software : Copyright
D. Crop variety : Trademark

Select the correct pairs.

- (1) B, C and D only
(2) A, B and D only
(3) A, B, C and D
(4) A, B and C only

82. జూలై 28, 2022 న ప్రారంభించబడిన 44 వ చెస్ ఒలింపియాడ్ గురించిన కింది వ్యాఖ్యలను చదవండి.

- A. మొట్టమొదటి సారిగా చెస్ ఒలింపియాడ్ భారతదేశంలో జరిగింది.
B. 44 వ చెస్ ఒలింపియాడ్ను న్యూ ఢిల్లీలో నిర్వహించారు.

సరైన వ్యాఖ్య(ల)ను ఎంపిక చేయండి.

- (1) A మాత్రమే
(2) A మరియు B రెండూ
(3) B మాత్రమే
(4) A మరియు B రెండూ కావు



83. ఈ కింది వాటిలో భారతదేశంలో మునిసిపల్ పరిపాలనలో స్వయం-ప్రభుత్వం సూత్రాల ప్రవేశం దీని ఫలితంగా జరిగింది.

- (1) లార్డ్ కర్జన్ యొక్క జూలై 1866 తీర్మానం
(2) లార్డ్ డల్హౌసీ యొక్క ఏప్రిల్ 1901 తీర్మానం
(3) సర్ విలియం బెంటింక్ యొక్క ఫిబ్రవరి 1903 తీర్మానం
(4) లార్డ్ రిప్పన్ యొక్క మే 1882 తీర్మానం

84. ఈ కింది వాటిలో తెలంగాణలోని ఏ నీటి పారుదల ప్రాజెక్టు పురాతనమైనది ?

- (1) ప్రియదర్శిని జూరాల
(2) నిజాంసాగర్
(3) నాగార్జునసాగర్
(4) శ్రీరాంసాగర్

85. కింది జతలను పరిగణించండి.

- A. స్ప్రిట్ పానీయం : వాణిజ్య రహస్యం
B. బ్యాడగి మిరప రకం : భౌగోళిక గుర్తింపు
C. కంప్యూటర్ సాఫ్ట్వేర్ : కాపీరైట్
D. పంట రకం : ట్రేడ్మార్క్

- సరైన జతలను ఎంపిక చేయండి.
(1) B, C మరియు D మాత్రమే
(2) A, B మరియు D మాత్రమే
(3) A, B, C మరియు D
(4) A, B మరియు C మాత్రమే



22121

86. In a certain coding method, the word POLITICS is coded as 103 and POWER is coded as 77, what is the code for the word MONEY ?

- (1) 72 (2) 78
(3) 80 (4) 74



87. Chakma and Rajbanshi constitute the mother tongue of which major language group of India ?

- (1) Bodo
(2) Dogri
(3) Andamanese
(4) Bengali

88. Which one of the following extreme weather events reportedly claimed a greater number of deaths in 2021 ?

- (1) Heavy rainfall and flood
(2) Cyclonic storms
(3) Thunderstorms and lightning
(4) Dust storms

89. Find out the next term in the following series. AAA, BDH, CIA, DPL, ?

- (1) EXT (2) ETX
(3) EYV (4) EYU



90. Which of the following statements are correct with regard to Covid intranasal vaccine?

A. Intranasal vaccine 'iNCOVACC' received approval in November 2022 from DCGI.

B. It is world's first intranasal vaccine.

Choose the correct answer.

- (1) B only
(2) Both A and B
(3) Neither A nor B
(4) A only



86. ఒక నిర్దిష్ట కోడింగ్ పద్ధతిలో, POLITICS అనే పదం 103 గా మరియు POWER అనే పదం 77 గా కోడ్ చేయబడితే, MONEY అనే పదానికి కోడ్ ఏమిటి ?

- (1) 72 (2) 78
(3) 80 (4) 74



87. చక్కా మరియు రాజ్ బంశి భారతదేశంలోని ఏ ప్రధాన భాషా సమూహం యొక్క మాతృభాషగా ఉన్నాయి ?

- (1) బోడో
(2) డోగ్రీ
(3) అండమానేస్
(4) బెంగాలీ

88. ఈ క్రింది వాటిలో 2021 లో ఎక్కువ మరణాలు సంభవించాయని నివేదించబడిన తీవ్ర వాతావరణ ఘటన ఏది ?

- (1) భారీ వర్షాలు, వరదలు
(2) సైక్లోనిక్ తుఫానులు
(3) ఉరుములు, మెరుపులు
(4) ఇసుక/దుమ్ము-ధూళి తుఫానులు

89. క్రింది శ్రేణిలో తరువాతి పదాన్ని కనుగొనండి.

AAA, BDH, CIA, DPL, ?

- (1) EXT (2) ETX
(3) EYV (4) EYU



90. కోవిడ్ ఇంట్రానాసల్ వ్యాక్సిన్ కు సంబంధించి కింది వ్యాఖ్యలలో సరైనది/వి ఏది/వి ?

A. ఇంట్రానాసల్ వ్యాక్సిన్ "ఇంకోవాక్" (iNCOVACC) DCGI నుండి నవంబర్ 2022 లో ఆమోదం లభించింది.

B. ఇది ప్రపంచంలో మొట్ట మొదటి ఇంట్రానాసల్ వ్యాక్సిన్.

సరైన సమాధానాన్ని ఎంపిక చేయండి.

- (1) B మాత్రమే
(2) A మరియు B రెండూ
(3) A మరియు B రెండూ కావు
(4) A మాత్రమే



91. Match the following waterfalls with their locations.

Waterfall	Location
A. Dudhsagar	1. Odisha
B. Bharkana	2. Goa
C. Duduma	3. Tamil Nadu
D. Ayyanar	4. Karnataka
	5. Kerala

Select the correct answer.

- (1) A-3; B-2; C-4; D-5
- (2) A-1; B-3; C-2; D-5
- (3) A-2; B-4; C-1; D-3
- (4) A-4; B-1; C-3; D-2



92. Article 324 of Indian Constitution deals with :

- (1) Provision for Comptroller Auditor General of India
- (2) Supreme Court of India
- (3) Provision for Election Commission
- (4) Imposition of emergency in the states

93. In which of the following states, lowest wage rate was fixed for the unskilled manual workers for 2022-23 by the Government of India for the MGNREG programme ?

- A. Bihar
- B. Chhattisgarh
- C. Madhya Pradesh
- D. Uttar Pradesh

Choose the correct answer.

- (1) A, B and C only
- (2) B and C only
- (3) B only
- (4) A and D only



94. Which organisation members had undertaken the Chittagong Armoury Raid ?

- (1) The Indian Republican Army
- (2) The Indian National Army
- (3) Provisional Revolutionary Army
- (4) The Indian National Congress



91. ఈ క్రింది జలపాతాలను వాటి ప్రాంతాలతో జతచుము

జలపాతం	ప్రాంతం
A. దూద్‌సాగర్	1. ఒడిషా
B. బర్కన	2. గోవా
C. డుడుమా	3. తమిళనాడు
D. అయ్యనార్	4. కర్నాటక
	5. కేరళ

సరైన జవాబును ఎంచుకొనుము.

- (1) A-3; B-2; C-4; D-5
- (2) A-1; B-3; C-2; D-5
- (3) A-2; B-4; C-1; D-3
- (4) A-4; B-1; C-3; D-2

92. భారత రాజ్యాంగంలోని ఆర్టికల్ 324 దీనిని సూచిస్తుంది.

- (1) కంప్ట్రోలర్ ఆడిటర్ జనరల్ ఆఫ్ ఇండియా కోసం నిబంధన
- (2) భారత సుప్రీంకోర్టు
- (3) ఎన్నికల కమిషన్ కోసం నిబంధన
- (4) రాష్ట్రాల్లో ఎమర్జెన్సీని విధించడం



93. 2022-23 సంవత్సరానికి నెవుణ్యం చేసి మాన్యువల్ వర్కర్లు MGNREG పథకం కోసం భారత ప్రభుత్వం అత్యల్ప వేతన రేటును కింది ఏ రాష్ట్రం(ల)లో నిర్ణయించింది ?

- A. బీహార్
- B. ఛత్తీస్‌ఘట్
- C. మధ్యప్రదేశ్
- D. ఉత్తర్‌ప్రదేశ్

సరైన సమాధానాన్ని ఎంచుకోండి.

- (1) A, B మరియు C మాత్రమే
- (2) B మరియు C మాత్రమే
- (3) B మాత్రమే
- (4) A మరియు D మాత్రమే

94. ఏ సంస్థకు చెందిన సభ్యులు చిట్టగాంగ్ ఆయుధ కర్మాగారంపై దాడి చేశారు ?

- (1) భారత రిపబ్లికన్ సైన్యం
- (2) భారత జాతీయ సైన్యం
- (3) తాత్కాలిక విప్లవ సైన్యం
- (4) భారత జాతీయ కాంగ్రెస్



22121

95. In a certain code language, 'Given Time Simple Plan' was written as '@E4 &N4 %N5 #E6', 'Tired Solution Plant Great' was written as '#N8 @D5 %T5 &T5', 'Sick Point Good Turn' was written as '#K4 %D4 @N4 &T5' and 'Garden Sister Phone Team' was written as '&E5 #R6 %N6 @M4'. What will be the code for 'Translate' ?

- (1) @E9 (2) @E8
(3) #T9 (4) #E8

96. An inter-ministerial initiative, Toycathon 2021, was organised by the Ministry of Education's Innovation Cell with the support from

- A. AICTE
B. Ministry of MSME
C. Ministry of Textiles
D. NCERT

Choose the correct answer.

- (1) A, C and D only
(2) B and C only
(3) A and D only
(4) A, B and C only

97. India's first Pollinator Park was established in 2020 at which of the following places ?

- (1) Haldwani in Nainital district of Uttarakhand
(2) Anantagiri in Vikarabad district of Telangana
(3) Edakkal in Wayanad district of Kerala
(4) Ratangarh in Churu district of Rajasthan

98. Who among the following was the founder of 'Khudai Khidmatgars' ?

- (1) Khan Abdul Gafar Khan
(2) Abul Kalam Azad
(3) Mujib-ur-Rahaman
(4) Mohammad Ali Jinnah

95. ఒక నిర్దిష్ట కోడ్ భాషలో 'Given Time Simple Plan' ను '@E4 & N4 %N5 #E6' గా Tired Solution Plant Great ను '#N8 @D5 %T5 &T5' గా 'Sick Point Good Turn' ను '#K4 %D4 @N4 &T5' గా Garden Sister Phone Team ను '&E5 #R6 %N6 @M4' గా రాస్తే 'Translate' ను ఏవిధంగా రాయాలి?

- (1) @E9 (2) @E8
(3) #T9 (4) #E8

96. విద్యా మంత్రిత్వ శాఖ యొక్క ఇన్నోవేషన్ సెల్ ద్వారా నిర్వహించబడిన టైకాథాన్ 2021 అంతర్-మంత్రిత్వ శాఖల చొరవకు వీటి మద్దతు ఉంది

- A. ఎ.ఐ.సి.టి.ఇ. (AICTE)
B. ఎం.ఎస్.ఎం.ఇ. మంత్రిత్వ శాఖ (MSME)
C. టెక్స్ టైల్స్ మంత్రిత్వ శాఖ
D. ఎన్.సి.ఇ.ఆర్.టి. (NCERT)

సరైన సమాధానాన్ని ఎంపిక చేయండి.

- (1) A, C మరియు D మాత్రమే
(2) B మరియు C మాత్రమే
(3) A మరియు D మాత్రమే
(4) A, B మరియు C మాత్రమే

97. భారతదేశపు మొదటి పరాగ సంపర్క పార్క్ 2020 లో ఈ క్రింది ఏ ప్రదేశంలో స్థాపించారు ?

- (1) ఉత్తరాఖండ్ నైనితాల్ జిల్లాలోని హాల్ద్వాని
(2) తెలంగాణ వికారాబాద్ జిల్లాలోని అనంతగిరి
(3) కేరళ వాయనాడ్ జిల్లాలోని ఇడక్కల్
(4) రాజస్థాన్ చురు జిల్లాలోని రతన్ఘడ్

98. ఈ కింది వారిలో 'ఖుదాయ్ కిద్మత్ గార్' స్థాపించిన వారు ఎవరు ?

- (1) ఖాన్ అబ్దుల్ గఫార్ ఖాన్
(2) అబుల్ కలాం ఆజాద్
(3) ముజీబ్-ఉర్-రహమాన్
(4) మొహమ్మద్ అలీ జిన్నా

22121



99. Which of the following was the Japan's surprise attack on the American naval base during World War-II ?

- (1) Pearl Harbour in Hawaii
- (2) Port San Diego in California
- (3) Arutanga Harbour in Cook Islands
- (4) Port of Balboa in Panama



100. Consider the following in relation to the Special Central Assistance to Tribal Sub-Scheme (SCA to TSS).

- A. It is 100% grant from the Government of India.
- B. It is implemented from 1962.
- C. It is charged to Consolidated Fund of India.
- D. It is an additive to state plan funds.
- E. This grant is utilized exclusively in education development sector of tribals.

Select the correct answer.

- (1) A, C and D only
- (2) D and E only
- (3) A, B, C, D and E
- (4) A, B, C and E only

101. From the following, what does 'PPP', in economics, stand for ?

- A. Purchasing Power Parity
- B. Poor Peoples' Policy
- C. Public-Private Partnership
- D. Power Purchasing Programme

Choose the correct answer.

- (1) A only
- (2) C only
- (3) B and D only
- (4) A and C only



99. ఈ కింది వాటిలో రెండవ యుద్ధ సమయంలో అమెరికన్ నౌకా స్థావరం పై జపాన్ ఆకస్మికంగా నిర్వహించిన దాడి ఏది ?

- (1) హవాయ్ లోని పెర్ల్ హార్బర్
- (2) కాలిఫోర్నియాలోని పోర్ట్ సాన్ డియాగో
- (3) కూక్ ద్వీపాలలోని అరుతంగా హార్బర్
- (4) పనామాలోని పోర్ట్ ఆఫ్ బల్బోవా



100. ప్రత్యేక కేంద్ర సహాయం గిరిజన ఉప పథకం (SCA నుండి TSS) కు సంబంధించి ఈ క్రింది వాటిని గ్రహించుము.

- A. ఇది 100% భారత ప్రభుత్వ గ్రాంటు.
- B. దీనిని 1962 నుండి అమలు చేస్తున్నారు.
- C. దీనిని కన్సాలిడేటెడ్ ఫండ్ ఆఫ్ ఇండియా నుండి ఇస్తారు.
- D. ఇది రాష్ట్ర ప్రణాళిక నిధులకు సంకలనం.
- E. ఈ గ్రాంటును గిరిజనుల విద్యాభివృద్ధికి ప్రత్యేకంగా వినియోగిస్తారు.

సరియైన సమాధానాన్ని ఎంపిక చేయండి.

- (1) A, C మరియు D మాత్రమే
- (2) D మరియు E మాత్రమే
- (3) A, B, C, D మరియు E
- (4) A, B, C మరియు E మాత్రమే

101. అర్థశాస్త్రంలో 'PPP' అంటే కింది వాటిలో దేనిని సూచిస్తుంది ?

- A. కొనుగోలు శక్తి తుల్యత/సమానత.
- B. పేద ప్రజల విధానం.
- C. ప్రభుత్వ-ప్రైవేట్ భాగస్వామ్యం.
- D. శక్తి (విద్యుత్) కొనుగోలు పథకం.

సరైన సమాధానాన్ని ఎంపిక చేయండి.

- (1) A మాత్రమే
- (2) C మాత్రమే
- (3) B మరియు D మాత్రమే
- (4) A మరియు C మాత్రమే





22121

102. Six persons are sitting in a circle and are facing the centre of the circle. Deepa is between Prakash and Pankaj and immediate right to Pankaj. Preeti is between Mukesh and Lalit. Prakash and Mukesh are opposite to each other. Who is sitting immediate right to Prakash ?

- (1) Deepa (2) Pankaj
(3) Lalit (4) Mukesh



103. Which of the following is/are WRONGLY matched ?

- A. Hanumakonda 1000 : Rudramadevi Pillar Inscription
B. Bayyaram : Mailamba Tank Inscription
C. Motupalli : Ganapatideva Inscription
D. Chandupatla : Ambadeva Inscription

Choose the correct answer.

- (1) B and D only
(2) A and D only
(3) C and D only
(4) A and B only



104. Match the following parts of the Indian Constitution with the provisions they deal with :

Parts	Provisions
A. Part – I	1. Citizenship
B. Part – II	2. Directive Principles of State Policy
C. Part – III	3. Union and its Territory
D. Part – IV	4. Union-State Relations
	5. Fundamental Rights

Choose the correct answer.

- (1) A-4; B-3; C-1; D-5
(2) A-3; B-5; C-2; D-4
(3) A-2; B-5; C-1; D-3
(4) A-3; B-1; C-5; D-2 ✓



102. ఆరుగురు వ్యక్తులు వృత్తాకారంలో కూర్చుని వృత్తం యొక్క కేంద్రం వైపు చూస్తున్నారు. దీప, ప్రకాష్ మరియు పంకజ్ల మధ్య, పంకజ్ కు వెంటనే కుడివైపున కూర్చోని ఉంది. ప్రీతి ముఖేష్ మరియు లలిత్ల మధ్య ఉంది. ప్రకాష్ మరియు ముఖేష్లు ఒకరికొకరు ఎదురెదురుగా ఉన్నారు. ప్రకాష్ కి వెంటనే కుడి వైపున ఎవరు కూర్చున్నారు ?

- (1) దీప (2) పంకజ్
(3) లలిత్ (4) ముఖేష్

103. ఈ క్రింది వాటిలో ఏది/ఏవి తప్పుగా జతపరచబడినాయి ?



- A. హనుమకొండ : రుద్రమదేవి 1000 స్థంబాల శాసనం
B. బయ్యారం చెరువు శాసనం : మైలాంబ
C. మోటుపల్లి శాసనం : గణపతిదేవుడు
D. చందుపట్ల శాసనం : అంబదేవుడు సరియైన సమాధానాన్ని ఎంపిక చేయండి.

- (1) B మరియు D మాత్రమే
(2) A మరియు D మాత్రమే
(3) C మరియు D మాత్రమే
(4) A మరియు B మాత్రమే

104. భారత రాజ్యాంగంలోని క్రింది భాగాలను అవి వ్యవహరించే నిబంధనలతో జతపరచండి.

భాగాలు	నిబంధనలు
A. పార్ట్ - I	1. పౌరసత్వం
B. పార్ట్ - II	2. ఆదేశ సూత్రాలు
C. పార్ట్ - III	3. యూనియన్, దాని భూభాగం
D. పార్ట్ - IV	4. కేంద్ర-రాష్ట్ర సంబంధాలు
	5. ప్రాథమిక హక్కులు

సరియైన సమాధానాన్ని ఎంపిక చేయండి.

- (1) A-4; B-3; C-1; D-5
(2) A-3; B-5; C-2; D-4
(3) A-2; B-5; C-1; D-3
(4) A-3; B-1; C-5; D-2



22121



105. Indian pharmaceutical industry is one of the major producers of the bulk drugs in the world. In this context, read the following statements :

- A. By volume, the Indian pharmaceutical industry is the second largest in the world.
- B. India's exports of bulk drugs/drug intermediaries are more than the imports of bulk drugs/active pharma ingredients in the year 2021-22.
- C. India imports various bulk drugs/active pharma ingredients for producing medicines.

Choose the correct statement(s).

- (1) A and B only
(2) A and C only
(3) C only
(4) A, B and C



106. Match the following :

- | | |
|--------------------------------|---------------------|
| A. Nanaghat Inscription | 1. Kharavela |
| B. Hathigumpha Inscription | 2. Rudradamana |
| C. Nasik Inscription | 3. Naganika |
| D. Junagadh/Girnar Inscription | 4. Gauthami Balasri |

Choose the correct answer.

- (1) A-3; B-1; C-4; D-2
(2) A-4; B-3; C-2; D-1
(3) A-2; B-4; C-1; D-3
(4) A-1; B-2; C-3; D-4



107. The province that became famous for jute industry in colonial India was

- (1) Bengal
(2) Central Provinces
(3) Madras
(4) Bombay



108. Supply of liquid fertilizers to plants through drip irrigation is

- (1) Sublimation
(2) Volatilisation
(3) Fertigation
(4) Vertigation

105. భారతీయ ఔషధ పరిశ్రమ ప్రపంచంలోని బల్క్ డ్రగ్స్ యొక్క ప్రధాన ఉత్పత్తిదారులలో ఒకటి. ఈ సందర్భంలో కింది వ్యాఖ్యలను చదవండి

- A. పరిమాణం ప్రకారం భారతీయ ఔషధ పరిశ్రమ ప్రపంచంలో రెండవ అతి పెద్దది.
- B. 2021-22 లో భారతదేశపు బల్క్ డ్రగ్స్/మధ్యంతర ఔషధాల ఎగుమతులు బల్క్ డ్రగ్స్/యాక్టివ్ ఫార్మా పదార్థాల దిగుమతుల కంటే ఎక్కువ.
- C. ఔషధాలను ఉత్పత్తి చేయడానికి వివిధ బల్క్ డ్రగ్స్/యాక్టివ్ ఫార్మా పదార్థాలను భారతదేశం దిగుమతి చేసుకుంటుంది.

సరైన వ్యాఖ్యా(ల)ను ఎంపిక చేయండి.

- (1) A మరియు B మాత్రమే
(2) A మరియు C మాత్రమే
(3) C మాత్రమే
(4) A, B మరియు C



106. కింది వాటిని జతపరచండి.

- | | |
|---------------------------|------------------|
| A. నానాఘాట్ శాసనం | 1. ఖరవేలుడు |
| B. హాతిగుంఘా శాసనం | 2. రుద్రదమనుడు |
| C. నాసిక్ శాసనం | 3. నాగానిక |
| D. జునాగఢ్/గిర్నార్ శాసనం | 4. గౌతమీ బాలశ్రీ |

సరియైన సమాధానాన్ని ఎంపిక చేయండి.

- (1) A-3, B-1, C-4, D-2
(2) A-4, B-3, C-2, D-1
(3) A-2, B-4, C-1, D-3
(4) A-1, B-2, C-3, D-4

107. భారతదేశ వలస పాలనలో జనపనార పరిశ్రమకు ప్రసిద్ధి చెందిన ప్రావిన్స్

- (1) బెంగాల్
(2) సెంట్రల్ ప్రావిన్సులు
(3) మద్రాసు
(4) బొంబాయి



108. బిందు సేద్యం (నీటి పారుదల) ద్వారా ద్రవ రూప ఎరువులను మొక్కలకు అందించడం అనగా

- (1) సబ్లిమేషన్
(2) వోలటైలైజేషన్
(3) ఫర్టిగేషన్
(4) వెర్టిగేషన్



44121

109. Which among the following are the objectives of the 5th and 6th Schedule of the Indian Constitution ?

- (1) Administration and control of scheduled areas and scheduled tribes
- (2) Provisions relating to the rural local bodies
- (3) Provisions relating to the minorities
- (4) Inter-state river water sharing and disputes

110. Which of the following is NOT a mountain pass in the Western Ghats ?

- (1) Bhor Ghat
- (2) Pal Ghat
- (3) Indrahar Ghat
- (4) Thal Ghat

111. The Sriparvata University was established during reign of

- (1) Vasishtaputra Srishantamala
- (2) Vasishtaputra Pulumavi
- (3) Rudrapurushadatta
- (4) Virapurshadatta



112. National Green Tribunal (NGT) imposed fine on West Bengal Government. Read the following statements about it.

- A. The Tribunal imposed a compensation of ₹ 500 crore for failure to process solid waste.
- B. It imposed a compensation of ₹ 3,000 crore (after rounded off) for failure to process liquid waste.
- C. The total amount of environmental compensation may be deposited by the Government of West Bengal within 3 months.
- D. All cities, towns and villages, panchayats of West Bengal may be made fully compliant in respect of environmental norms within 6 months.
- E. Justice Adarsh Kumar Goel is the Chairperson of NGT as on November 30, 2022

Choose the correct statements.

- (1) A, B and E only
- (2) C, D and E only
- (3) A, B and C only
- (4) A, B, C, D and E



109. కింది వాటిలో భారత రాజ్యాంగంలోని 5 వ, 6వ షెడ్యూల్ లక్ష్యాలు ఏవి ?

- (1) షెడ్యూల్డ్ ప్రాంతాలు, షెడ్యూల్డ్ తెగల పరిపాలన, నియంత్రణ
- (2) గ్రామీణ స్థానిక సంస్థలకు సంబంధించిన నిబంధనలు
- (3) మైనారిటీలకు సంబంధించిన నిబంధనలు
- (4) అంతర్-రాష్ట్ర నదీ జలాల భాగస్వామ్యం, వివాదాలు

110. ఈ క్రింది వాటిలో పశ్చిమ కనుమలలోని పర్వత మార్గం కానిది ఏది ?



- (1) భోర్ ఘాట్
- (2) పాల్ ఘాట్
- (3) ఇంద్రహర్ ఘాట్
- (4) థాల్ ఘాట్

111. శ్రీపర్వత విశ్వవిద్యాలయం వీరి పాలనలో స్థాపించబడింది.

- (1) వశిష్టపుత్ర శ్రీశాంతమాల
- (2) వశిష్టపుత్ర పులుమావి
- (3) రుద్రపురుషదత్త
- (4) వీరపురుషదత్త



112. పశ్చిమ బెంగాల్ ప్రభుత్వానికి జాతీయ హరిత ట్రిబ్యూనల్ (NGT) జరిమానా విధించింది. దానికి సంబంధించి కింది వ్యాఖ్యలను చదవండి.

- A. ఘన వ్యర్థాలను ప్రాసెస్ చేయడంలో విఫలమైనందుకు ₹ 500 కోట్ల పరిహారాన్ని ట్రిబ్యూనల్ విధించింది.
- B. ద్రవ వ్యర్థాలను ప్రాసెస్ చేయడంలో విఫలమైనందుకు ₹ 3,000 కోట్ల పరిహారాన్ని (రౌండ్ ఆఫ్ చేసిన తరువాత) ట్రిబ్యూనల్ విధించింది.
- C. మొత్తం పర్యావరణ పరిహారాన్ని పశ్చిమ బెంగాల్ ప్రభుత్వం 3 నెలల లోగా జమ చేయాలి.
- D. పశ్చిమ బెంగాల్ లోని నగరాలు, పట్టణాలు, గ్రామ వంచాయతీలు ఆరు నెలల లోగా పర్యావరణ నిబంధనలకు సంబంధించి పూర్తిగా క్లుప్తబడి ఉండాలి.
- E. నవంబర్ 30, 2022 నాటికి జస్టిస్ ఆదర్శ్ కుమార్ గోయల్ జాతీయ హరిత ట్రిబ్యూనల్ ఛైర్ పర్సన్.

సరైన వ్యాఖ్య(ల)ను ఎంపిక చేయండి.


- (1) A, B మరియు E మాత్రమే
- (2) C, D మరియు E మాత్రమే
- (3) A, B మరియు C మాత్రమే
- (4) A, B, C, D మరియు E



22121



113. Arrange the following states based on their decadal population growth rates between 2001-2011 census in descending order :

- A. Arunachal Pradesh 
B. Bihar
C. Meghalaya
D. Uttar Pradesh

Select the correct answer/order.

- (1) D, B, A, C (2) C, A, B, D
(3) B, D, C, A (4) A, D, C, B

114. Which of the following persons are eligible for getting free legal services under the Legal Services Authorities Act ?

- A. Disabled persons
B. Members of SC/ST
C. Industrial workmen
D. Victims of mass disaster


Choose the correct answer.

- (1) A and B only
(2) A and D only
(3) B only
(4) A, B, C and D

115. Which of the following declared, "The American continents are hence forth not to be considered the subjects for future colonization by any European powers." ?

- (1) Treaty of Wanghia
(2) The Monroe Doctrine
(3) The Nixon Doctrine
(4) Treaty of Adrianople

116. Which one of the following TV channels organised the programme 'Andhra Pradesh Dasha-Disha' ?

- (1) HM TV 
(2) T-News
(3) ABN-Andhra Jyothi
(4) TV 9


113. ఈ కింది రాష్ట్రాలలో 2001-2011 జనాభా గణాంకాల కాలంలో వారి దశాబ్ద జనాభా వృద్ధి రేట్ల ఆధారంగా అవరోహణ క్రమంలో అమర్చుము.

- A. అరుణాచల్ ప్రదేశ్
B. బీహార్
C. మేఘాలయ
D. ఉత్తరప్రదేశ్

సరైన జవాబును/క్రమంను ఎంచుకొనుము.

- (1) D, B, A, C (2) C, A, B, D
(3) B, D, C, A (4) A, D, C, B


114. లీగల్ సర్వీసెస్ అథారిటీస్ యాక్ట్ కింద ఉచిత న్యాయ సేవలను పొందడానికి కింది వ్యక్తులలో ఎవరు అర్హులు ?

- A. వికలాంగులు 
B. SC/ST సభ్యులు
C. పారిశ్రామిక కార్మికులు
D. సామూహిక విపత్తు బాధితులు

సరియైన సమాధానాన్ని ఎంపిక చేయండి.

- (1) A మరియు B మాత్రమే
(2) A మరియు D మాత్రమే
(3) B మాత్రమే
(4) A, B, C మరియు D

115. ఈ క్రింది వాటిలో ఏది "అమెరికన్ ఖండాలు భవిష్యత్తులో ఏ ఐరోపా శక్తులచే వలస రాజ్యాలకు సంబంధించిన అంశాలుగా పరిగణించబడవు" అని ప్రకటించింది ?

- (1) వాంఘియ ఒప్పందం 
(2) మన్రో సిద్ధాంతం
(3) నిక్సన్ సిద్ధాంతం
(4) ఆడ్రీయానోపుల్ ఒప్పందం

116. ఈ క్రింది వాటిలో 'ఆంధ్రప్రదేశ్ దశ-దిశ' కార్యక్రమాన్ని నిర్వహించిన టి.వీ. ఛానల్ ఏది ?

- (1) హెచ్ ఎం టివి
(2) టీ-న్యూస్
(3) ఎబిఎన్-ఆంధ్రజ్యోతి
(4) టివి 9

22121

117. The behaviour that shows favouritism towards one gender over another is referred as

- (1) Gender bias
(2) Gender awareness
(3) Gender equality
(4) Gender role



118. Golden rice developed by genetic modification is a rich source of

- (1) Vitamin B (2) Vitamin K
(3) Vitamin C (4) Vitamin A

119. Which of the following statements regarding Salar Jung-I's reforms are INCORRECT ?

- A. He abolished auctioning of revenue collection, but continued the middlemen to collect land revenue.
B. He introduced Hali Sicca currency in 1857.
C. He appointed Nawab Bashiruddaula as Revenue Minister.
D. He established separate civil and criminal courts in Hyderabad city.

Choose the correct answer.

- (1) B and D only
(2) C and D only
(3) B and C only
(4) A and C only



120. Which one of the hydel power plants of Telangana is NOT correctly matched with its production capacity ?

- (1) Priyadarshini : 234 MW
(2) Paleru : 56 MW
(3) Pulichintala : 120 MW
(4) Pochampad : 36 MW



117. ఒక జండరుపై మరొక జండరు పట్ల అభిమానాన్ని చూపించే ప్రవర్తన దీనిని సూచిస్తుంది.

- (1) జండర్ వివక్ష/పక్షపాతం
(2) జండర్ అవగాహన
(3) జండర్ సమానత్వం
(4) జండర్ పాత్ర



118. జన్యు మార్పిడి ద్వారా అభివృద్ధి చేయబడిన బంగారు వరి (golden rice) దీనికి గొప్ప మూలం :

- (1) విటమిన్ బి (2) విటమిన్ కె
(3) విటమిన్ సి (4) విటమిన్ ఎ

119. ఈ కింది వాటిలో సాలార్ జంగ్-I సంస్కరణలకు సంబంధించి ఏవి తప్పుగా ఇవ్వబడినాయి ?

- A. ఆయన రెవెన్యూ సేకరణ వేలం వేయడాన్ని రద్దు చేశాడు, అయితే భూ ఆదాయాన్ని సేకరించేందుకు మధ్యవర్తులను కొనసాగించాడు.
B. ఆయన 1857 లో హాలీ సిక్కా కరెన్సీని ప్రవేశపెట్టాడు.
C. ఆయన నవాబ్ బషీరుద్దౌలాను రెవెన్యూ మంత్రిగా నియమించాడు.
D. ఆయన హైదరాబాద్ నగరంలో వేర్వేరు సివిల్, క్రిమినల్ న్యాయస్థానాలను ఏర్పాటు చేశాడు. సరియైన సమాధానాన్ని ఎంపిక చేయండి.

- (1) B మరియు D మాత్రమే
(2) C మరియు D మాత్రమే
(3) B మరియు C మాత్రమే
(4) A మరియు C మాత్రమే

120. ఈ క్రింది తెలంగాణలోని ఏ జల విద్యుత్ కేంద్రం దాని ఉత్పాదక సామర్థ్యంతో ఊతపరచబడ లేదు ?

- (1) ప్రియదర్శిని : 234 మెగా వాట్లు
(2) పాలేరు : 56 మెగా వాట్లు
(3) పులిచింతల : 120 మెగా వాట్లు
(4) పోచంపాడ్ : 36 మెగా వాట్లు



22121



121. From among the following, who were nominated to the Rajya Sabha by the President of India as on 29th November 2022 ?

- A. Ilaiyaraaja
- B. P.T. Usha
- C. Veerendra Heggade
- D. V. Vijayendra Prasad



Choose the correct answer.

- (1) B and C only
- (2) A, B and D only
- (3) A, B, C and D
- (4) A and D only

122. Which of the statements are correct about the first Salar Jung's reforms during Asaf Jahi Period ?

- A. He introduced the Zilabandi System.
- B. He built Mir Alam Tank.
- C. He established Dar-ul-ulm School.
- D. He founded the Nizam College.

Choose the correct answer.

- (1) B and D only
- (2) C and D only
- (3) B and C only
- (4) A and C only



123. The consumer base of electrical connections consists of agricultural, domestic and industrial consumers. Arrange them in descending order on the basis of electrical connections in Telangana as of 2020-21.

- (1) Domestic, industrial and agricultural connections
- (2) Agricultural, domestic and industrial connections
- (3) Domestic, agricultural and industrial connections
- (4) Industrial, agricultural and domestic connections

121. 29 నవంబర్ 2022 నాటికి కింది వారిలో భారత రాజ్యసభ ఎవరిని రాజ్యసభకు నామినేట్ చేశారు ?

- A. ఇళయరాజా
- B. పి.టి. ఉష
- C. వీరేంద్ర హెగ్డె
- D. వి. విజయేంద్ర ప్రసాద్



సరైన సమాధానాన్ని ఎంచుకోండి.

- (1) B మరియు C మాత్రమే
- (2) A, B మరియు D మాత్రమే
- (3) A, B, C మరియు D
- (4) A మరియు D మాత్రమే



122. అసఫ్ జాహీ కాలంలో మొదటి సాలార్ జంగ్ సంస్కరణలకు సంబంధించి కింది పేర్కొన్న వాటిలో ఏవి ఒప్పుగా ఉన్నాయి ?

- A. ఆయన జిల్లాబంది విధానాన్ని ప్రవేశపెట్టాడు.
- B. ఆయన మీరాలమ్ చెరువును తవ్వించాడు.
- C. ఆయన దారుల్-ఉల్మ్ పాఠశాలను స్థాపించాడు.
- D. ఆయన నిజాం కళాశాలను స్థాపించాడు.

సరియైన సమాధానాన్ని ఎంపిక చేయండి.

- (1) B మరియు D మాత్రమే
- (2) C మరియు D మాత్రమే
- (3) B మరియు C మాత్రమే
- (4) A మరియు C మాత్రమే



123. వ్యవసాయం, గృహ మరియు పారిశ్రామిక వినియోగదారులను విద్యుత్ కనెక్షన్ యొక్క వినియోగదారు బేస్ కలిగి ఉంటుంది. 2020-21 నాటికి తెలంగాణలోని విద్యుత్ కనెక్షన్ ఆధారంగా వాటిని అవరోహణ క్రమంలో అమర్చండి.

- (1) గృహ, పారిశ్రామిక, వ్యవసాయ రంగాల కనెక్షన్లు
- (2) వ్యవసాయ, గృహ, పారిశ్రామిక రంగాల కనెక్షన్లు
- (3) గృహ, వ్యవసాయ, పారిశ్రామిక రంగాల కనెక్షన్లు
- (4) పారిశ్రామిక, వ్యవసాయ, గృహ రంగాల కనెక్షన్లు



22121

124. What are the features of the Pradhan Mantri Mahila Shakti Kendra Scheme ?

- It supports the implementation of women centric schemes/programs.
- It envisages community engagement through college student volunteers.
- It aims to set up of District Level Centres for Women (DLCW) and State Resource Centres for Women (SRCW).
- These centres are to function as Project Management Units for UJJAWALA Scheme.
- Administration cost sharing ratio would be 50 : 50 between centre and states for its implementation.

Select the correct answer.

- B, D and E only
- A, B and C only
- C and D only
- A, B, C and D only



125. India's first 100% women-owned industrial park began operations on 8th March 2022. In this context, read the following pairs :

- The city where the park is established: Hyderabad
- In partnership with the state government, the promoter of the park: FICCI Ladies Organisation (FLO)
- The number of acres allotted for the park : 100 acres
- Number of units, the park has : 50

Choose the correct pair(s).

- A only
- A, B and C only
- C and D only
- A and B only



124. ప్రధానమంత్రి మహిళా శక్తి కేంద్రం పథకం లక్షణాలు ఏమిటి ?

- ఇది మహిళా కేంద్రీకృత పథకాల/కార్యక్రమాల అమలుకు మద్దతునిస్తుంది.
- ఇది కళాశాల విద్యార్థి వాలంటీర్ల ద్వారా కమ్యూనిటీ ఎంగేజ్మెంట్ను ప్రోత్సహిస్తుంది.
- మహిళలకోసం జిల్లాస్థాయి కేంద్రాలను (DLCW లు), రాష్ట్ర స్థాయి వనరుల కేంద్రాలను (SRCW లు) ఏర్పాటు చేయడం దీని లక్ష్యం.
- ఈ కేంద్రాలు ఉజ్జవాలా (UJJAWALA) పథకం కోసం ప్రాజెక్ట్ నిర్వహణ యూనిట్లుగా పనిచేస్తాయి.
- ఈ పథకం అమలు ఖర్చును కేంద్ర, రాష్ట్రాలు 50:50 భాగస్వామ్య నిష్పత్తిలో భరిస్తాయి. సరియైన సమాధానాన్ని ఎంపిక చేయండి.

- B, D మరియు E మాత్రమే
- A, B మరియు C మాత్రమే
- C మరియు D మాత్రమే
- A, B, C మరియు D మాత్రమే



125. భారతదేశపు వెలుట్టవెలుదటి 100% మహిళా యాజమాన్యంలోని పారిశ్రామిక పార్క్ 8 మార్చి 2022 నాడు కార్యకలాపాలను ప్రారంభించింది. ఈ సందర్భంలో కింది జతలను చదవండి.

- పార్క్ స్థాపించబడిన నగరం : హైదరాబాద్.
- రాష్ట్ర ప్రభుత్వ భాగస్వామ్యంతో పార్క్ ప్రమోటర్ : ఫిక్సి (FICCI) లేడీస్ ఆర్గనైజేషన్ (FLO).
- పార్క్ కోసం కేటాయించిన ఎకరాలు : 100 ఎకరాలు.
- పార్క్లో ఉన్న యూనిట్ల సంఖ్య : 50 సరైన జత (ల) ను ఎంపిక చేయండి.

- A మాత్రమే
- A, B మరియు C మాత్రమే
- C మరియు D మాత్రమే
- A మరియు B మాత్రమే





126. Find out the synonym of the underlined word in the given sentence.

A.P.J. Abdul Kalam, the erstwhile President of India wrote *Wings of Fire*.

- (1) former (2) elder
(3) previous (4) present



127. Which one of the following is a wrongly spelt word ?

- (1) harrassment (2) collection
(3) embarrassing (4) pleasure

128. Complete the given sentence using the grammatically correct option.

Anirudh _____ just _____ to market.

- (1) had, going (2) has, went
(3) has, gone (4) have, gone

129. Find out the antonym of the underlined word in the given sentence.

No one likes to cultivate in a barren land.

- (1) desperate (2) fertile
(3) parched (4) desolate

130. Complete the given sentence using the grammatically correct option.

It is said that some fifty years ago, these tribals _____ hardworking people.

- (1) were (2) have
(3) been (4) are



131. Which one of the following is a correctly spelt word ?

- (1) summory (2) technique
(3) thorgh (4) callege

132. Which of the following are the correct plural forms of the underlined words in the given sentence ?

The foot of a man has its own size.

- (1) foots, men (2) feet, mans
(3) foots, mans (4) feet, men

133. In which one of the following sentences are the punctuation marks used correctly ?

- (1) an idea can change our life ?
(2) We are Indians. Isn't it.
(3) Knowledge of computers is mandatory nowadays !
(4) Sindhu is a famous Badminton player.

134. Complete the given sentence using the grammatically correct option.

One of my friends, who is in Hyderabad, _____ a famous doctor.

- (1) is (2) were
(3) have (4) are



135. Find out the antonym of the underlined word in the given sentence.

Urban people fail to get fresh air and lead an artificial life.

- (1) rural (2) sophisticated
(3) labourer (4) metropolitan

136. Complete the given sentence using the grammatically correct option.

You should _____ that thorough reading _____ necessary to understand an essay.

- (1) remain, was (2) remember, is
(3) correct, has (4) forget, were

137. Complete the given sentence using the grammatically correct option.

They _____ in a flat in Hyderabad now.

- (1) are living
(2) have been living
(3) lived
(4) have lived



138. Which of the following are the correct singular forms of the words 'teeth and mice' ?

- (1) teeth, mice (2) tooth, mice
(3) teeth, mouse (4) tooth, mouse

139. In which one of the following sentences are the punctuation marks used correctly ?

- (1) The thieves are very, clever in diverting our attention.
(2) Are you going anywhere on Sunday ?
(3) kapil dev has won a place in the hearts of the lovers of cricket.
(4) english is not spoken by all indians.

Test

Prime

By Adda247

Previous Year Papers PDF

PRACTICE MORE, SCORE HIGHER!



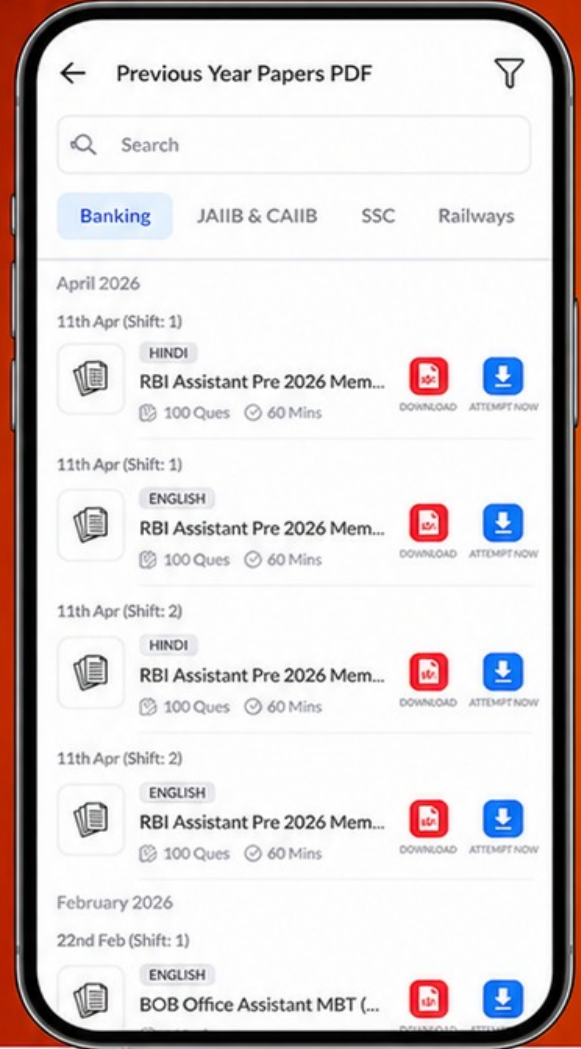
Free
25,000+
PDF's

High-Quality | Exam-Wise | Updated Regularly

ATTEMPT AS
MOCK



Turn PDFs into real exam experience.
Analyze. Improve. Succeed.



Topic-wise &
Exam-wise PDFs



Download &
Study Offline



Attempt as Mock
& Track Score



Smart Analysis
& Performance

AVAILABLE IN



Banking



SSC



Railway



Teaching



UGC



Agriculture



Nursing



Bihar



UP



Punjab



WB



Odisha



TN



AP & Telangana



Haryana



DOWNLOAD THE APP



140. Complete the given sentence using the grammatically correct option.

The customers _____ against the shopkeeper a few minutes ago.

- (1) have complained (2) had complained
(3) complaining (4) ~~complained~~ ✓

141. Which two of the following are the correctly spelt words ?

- A. Autumn
B. Seperate
C. Column
D. Doutful



Choose the correct answer.

- (1) B and C (2) C and D
(3) A and D (4) A and C

142. Which of the following are the correct plural forms of the underlined words in the given sentence ?

'There is a story about the origin of the flower called lily.

- (1) Storys, lilies (2) ~~Stories, lilies~~
(3) Storys, lilys (4) Stories, lilys

143. Find out the synonym of the underlined word in the given sentence.

The devotees were eagerly waiting to witness the procession of the tribal goddess.

- (1) ~~worship~~ (2) honour
(3) pray (4) observe

144. Complete the given sentence using the grammatically correct option.

If you _____ the work, it _____ your laziness.

- (1) postpones, show
(2) ~~postpone, will show~~
(3) postponed, show
(4) will postpone, show



145. In which one of the following sentences are the punctuation marks used correctly ?

- (1) ~~What an interesting story it is !~~
(2) Does it rain in the month of January.
(3) Rohit says, I am a shuttle player.
(4) how wonderful the flow of water is in the canal.

146. Which of the following are the correct plural forms of the underlined words in the given sentence ?

The formula given by my brother-in-law is very difficult for me to solve.

- (1) Formulae, brother-ins-law
(2) Formulas, brothers-in-law
(3) ~~Formulae, brothers-in-law~~
(4) Formulas, brother-in-laws



147. Find out the synonym of the underlined word in the given sentence.

His humble approach helped him get the work done.

- (1) indignant (2) courteous
(3) ~~poignant~~ (4) outrageous

148. Complete the given sentence using the grammatically correct option.

It _____ in Delhi since morning.

- (1) rained (2) ~~has been raining~~
(3) had been raining (4) is raining

149. Which two of the following are the correctly spelt words ?

- A. Impartial
B. Develop
C. Whethor
D. Crualty



Choose the correct answer.

- (1) ~~A and B~~ (2) C and D
(3) A and D (4) B and C

150. Find out the meaning of the underlined word in the given sentence.

Both the countries resolved to fight terrorism at any cost.

- (1) improved (2) approved
(3) submitted (4) ~~decided~~