



RAILWAY RECRUITMENT BOARDS

रेलवे भर्ती बोर्ड

RRB ALP & TECHNICIANS 2018

Roll No:	
Participants Name:	
Test Center Name:	iON Digital Zone iDZ 2
Duhai Test Date:	10/08/2018
Test Time:	4:00 PM - 5:00 PM
Subject:	ALP Technicians

- Options shown in green color with a tick icon are correct
- Chosen option on top right of the question indicates the option selected by the candidate

Q.1 यदि संख्या $x4441, 11$ द्वारा विभाजित हो जाती है तो x का मान कितना है?

If the number $x4441$ is divisible by 11, what is the face value of x ?

- Ans
- 1. 2
 - 2. 5
 - 3. 4
 - 4. 3

Question ID : 9864492985

Status : Not Attempted and
Marked For Review

Chosen Option : --

Q.2 दिये गए क्रम में अनुपस्थित संख्या का चयन करें।

1, 2, 6, _____, 120, 720

Select the number missing from the given sequence.

1, 2, 6, _____, 120, 720

- Ans
- 1. 24
 - 2. 9
 - 3. 50
 - 4. 12

Question ID : 9864493936

Status : Answered

Chosen Option : 1

Q.3

Question ID : 9864493906

Status : Answered

Chosen Option : 1

**Test
Prime**

By Adda247

ALL EXAMS, ONE SUBSCRIPTION



Test. Analyze. Improve. Repeat.



Don't just *prepare*. *Perform*.

Test Prime — built only for mock tests.



1,50,000+
Mock Tests



25,000+
Previous Year Papers



800+
Exam Covered



500% Refund
on Selection



5 lakh+
Free Quizzes



Daily
Free PDFs



Job Alerts
Stay Updated

- Multilingual
- Detailed Solution
- Strong and Weak Areas



**All India
Rankings**

Compete with lakhs.
Rank. Improve. Repeat.



← Adda247 test prime

Rating ▾

Editors' choice

New



Adda247 Test Prime
Adda Education • Education
Installed

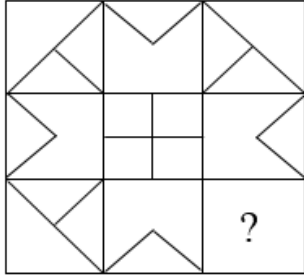


DOWNLOAD THE APP

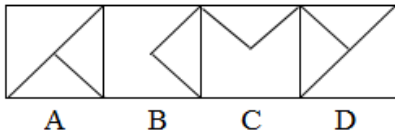


प्रश्नचिह्न की जगह सही आकृति चुनें:

Problem Figure



Answer Figures

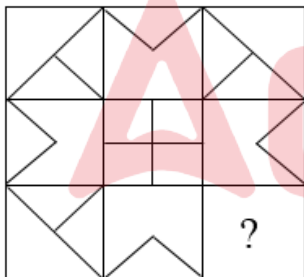


Problem Figure - समस्या चित्र

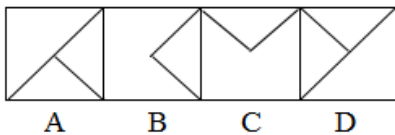
Answer Figures - उत्तर आकृतियाँ

Choose the correct figure that replaces the question mark.

Problem Figure



Answer Figures



- Ans 1. D
 2. B
 3. A
 4. C

Q.4 एक पहिये का व्यास 84 सेंटीमीटर है। 792 मीटर की दूरी तय करने के लिए कितने पूर्ण चक्कर लगेंगे?

A wheel has diameter 84 cm. The number of complete revolution it will take to cover 792 m is:

Ans 1. 330

Question ID : 9864492531

Status : Not Answered

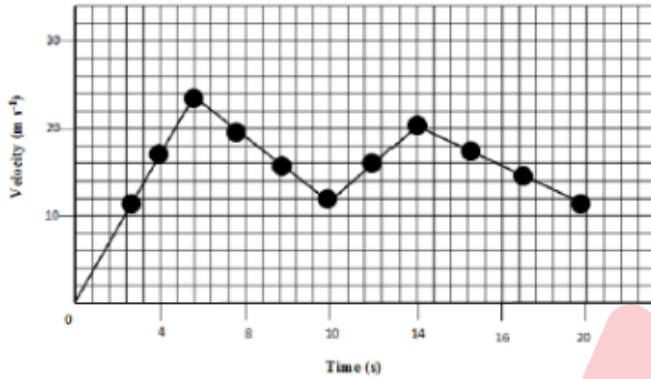
Chosen Option : --

- ✓ 2. 300
- ✗ 3. 320
- ✗ 4. 350

Q.5 निम्न ग्राफों में से कौन किसी कार की एक समान गति को दर्शाता है?
Which of the following is a velocity–time graph for uniform motion of a car?

Question ID : 9864493479
Status : Not Answered
Chosen Option : --

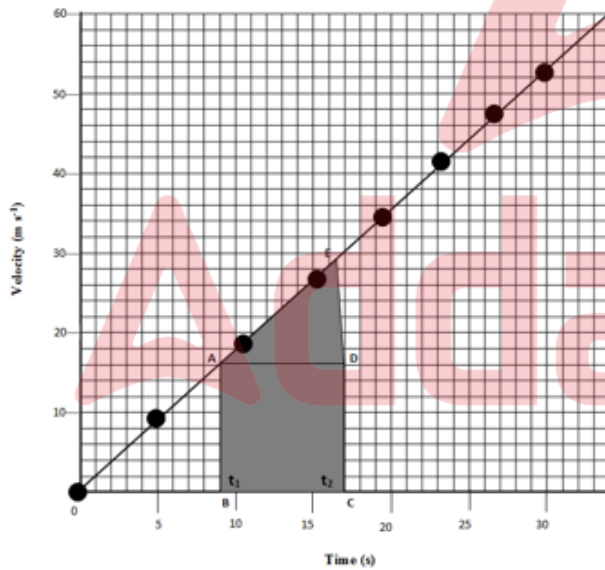
Ans ✗ 1.



Velocity (ms^{-1})- वेग (मीटर प्रति सेकंड)

Time (s)- समय (सेकंड)

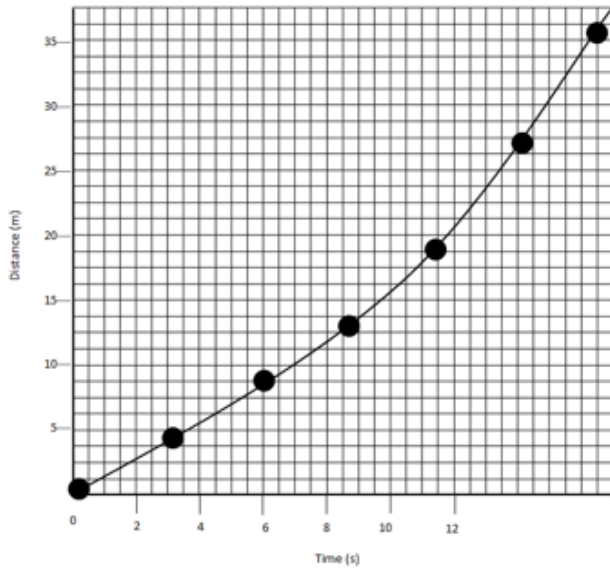
✗ 2.



Velocity (ms^{-1})- वेग (मीटर प्रति सेकंड)

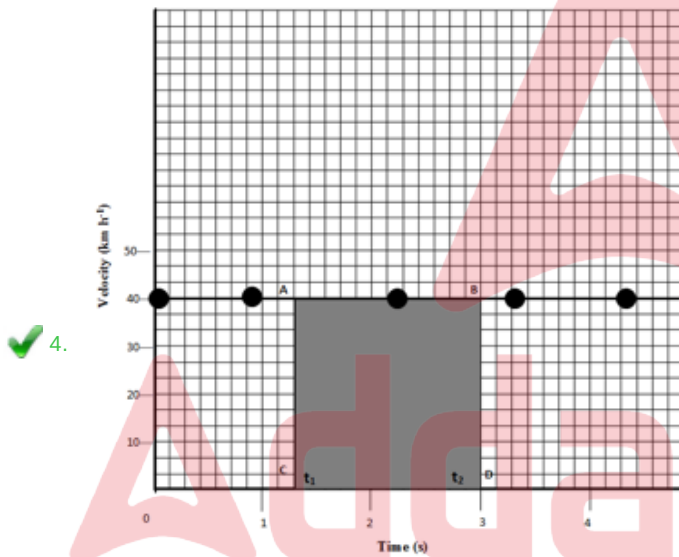
Time (s)- समय (सेकंड)

✗ 3.



Velocity (ms^{-1})- वेग (मीटर प्रति सेकंड)

Time (s)- समय (सेकंड)



✓ 4.

Velocity (ms^{-1})- वेग (मीटर प्रति सेकंड)

Time (s)- समय (सेकंड)

Q.6 निम्न अनुक्रम में उन अक्षरों की संख्या कितनी है जिनके ठीक पहले एक प्रतीक है परन्तु ठीक बाद में संख्या नहीं है?

$\$M@A\#N2B4O\&3C5P+D2$

The number of letters that are preceded by a symbol but not followed by a number in the given expression is _____.

$\$M@A\#N2B4O\&3C5P+D2$

- Ans
- 1. 1
 - 2. 3
 - 3. 2
 - 4. 4

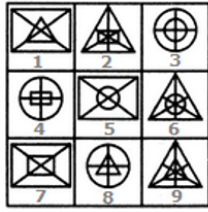
Question ID : 9864493997
 Status : Answered
 Chosen Option : 2

Q.7 नीचे दी गई प्रत्येक आकृति का केवल एक बार प्रयोग करके तीन समूह बनाइए। इस तरह से बनने वाले तीन समूह हैं :

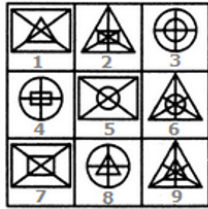
Question ID : 9864493849

Status : Answered

Chosen Option : 2



Use each of the following figures only once and form three groups. The three groups thus formed are:



- Ans
- 1. (1,5,7), (2,3,9), (4,6,8)
 - 2. (1,5,7), (2,6,9), (4,3,8)
 - 3. (1,5,7), (2,6,8), (4,3,9)
 - 4. (1,5,9), (2,6,7), (4,3,8)

Q.8 $BaCl_2$ के 2.08 ग्राम और अतिरिक्त तनु H_2SO_4 के जलीय विलयन को मिश्रित करने पर निर्मित होने वाली $BaSO_4$ की मात्रा कितनी होगी?
(परमाणु भार: Ba = 137, Cl = 35.5, S = 32, O = 16)

The amount of $BaSO_4$ formed on mixing an aqueous solution of 2.08 gm of $BaCl_2$ and excess of dilute H_2SO_4 is _____.
(atomic weights: Ba = 137, Cl = 35.5, S = 32, O = 16)

Question ID : 9864493107

Status : Not Attempted and Marked For Review

Chosen Option : --

- Ans
- 1. 2.33 ग्राम
2.33 g
 - 2. 2.08 ग्राम
2.08 g
 - 3. 23.3 ग्राम
23.3 g
 - 4. 1.04 ग्राम
1.04 g

Q.9 कूलम्ब का नियम क्या कहता है?

What does Coulomb's Law state?

Question ID : 9864493386

Status : Not Answered

Chosen Option : --

- Ans
- 1. दो बिंदु आवेशों के मध्य आकर्षण (या प्रतिकर्षण) बल का परिमाण दो आवेशों की मात्रा के गुणनफल के साथ-साथ उनके बीच की दूरी के वर्ग के व्युत्क्रमानुपाती होता है।
The magnitude of the force of attraction (or repulsion) between two point charges is inversely proportional to the product of the quantity of the two charges as well as to the square of the distance between them.
 - 2.

दो बिंदु आवेशों के मध्य आकर्षण (या प्रतिकर्षण) के बल का परिमाण दो आवेशों की मात्रा के अनुक्रमानुपाती होता है और उनके बीच की दूरी के वर्ग के व्युत्क्रमानुपाती होता है।

The magnitude of the force of attraction (or repulsion) between two point charges is directly proportional to the product of the quantity of the two charges and inversely proportional to the square of the distance between them.

✗ 3.

दो बिंदु आवेशों के मध्य आकर्षण (या प्रतिकर्षण) के बल का परिमाण दो आवेशों की मात्रा के व्युत्क्रमानुपाती होता है और उनके बीच की दूरी के वर्ग के अनुक्रमानुपाती होता है।

The magnitude of the force of attraction (or repulsion) between two point charges is inversely proportional to the product of the quantity of the two charges and directly proportional to the square of the distance between them.

✗ 4.

दो बिंदु आवेशों के मध्य आकर्षण (या प्रतिकर्षण) के बल का परिमाण दो आवेशों की मात्रा के साथ-साथ उनके बीच की दूरी के वर्ग के अनुक्रमानुपाती होता है।

The magnitude of the force of attraction (or repulsion) between two point charges is directly proportional to the product of the quantity of the two charges and to the square of the distance between them.

Q.10 निम्नलिखित में से भारत की कौन सी फिल्म को ऑस्कर 2018 में आधिकारिक प्रविष्टि मिली है?

Which of the following films is India's official entry to Oscars 2018?

Ans

✓ 1. न्यूटन

Newton

✗ 2. ए डेथ इन द गंज

A Death in the Gunj

✗ 3. लिपस्टिक अंडर माय बुर्का

Lipstick Under My Burkha

✗ 4. बाहुबली

Bahubali

Question ID : 9864492292

Status : Not Attempted and
Marked For Review

Chosen Option : --

Q.11 निम्नलिखित में से कौन गर्म पानी के कुण्डों, गहरे समुद्र, तप्त कंदराओं और अंटार्कटिका की बर्फ जैसे जीवन यापन हेतु अति जटिल निवास स्थान में भी निवास कर सकता है?

Which of the following can inhabit the most inhabitable habitats like hot springs, deep sea, thermal vents and ice in Antarctica?

Ans

✓ 1. जीवाणु

Bacteria

✗ 2. अमीबा

Amoeba

✗ 3. यूग्लीना

Euglena

✗ 4. विषाणु

Viruses

Question ID : 9864493377

Status : Answered

Chosen Option : 2

Q.12 पौधों में, वे कार्बोहाइड्रेट जिन्हें तुरंत उपयोग नहीं किया जाता है, उन्हें निम्नलिखित में से किस रूप में संग्रहित किया जाता है :

In plants, the carbohydrates which are NOT used immediately are stored in the form of:

Ans

Question ID : 9864493256

Status : Answered

Chosen Option : 1

1. अमीनो अम्ल
Amino acids
2. स्टार्च
Starch
3. वसायुक्त अम्ल
Fatty acids
4. वसा
Fats

Q.13 निम्नलिखित समांतर श्रेणी का पहला ऋणात्मक पद ज्ञात कीजिए।

129, 120, 111, 102,

Find the first negative term of the below A.P.

129, 120, 111, 102,

- Ans
1. 14 वाँ पद
14th term
2. 16 वाँ पद
16th term
3. 15 वाँ पद
15th term
4. 13 वाँ पद
13th term

Question ID : 9864492615

Status : Not Attempted and
Marked For Review

Chosen Option : --

Q.14 वाहनों की हेडलाइट में प्रयुक्त दर्पण कौन सा होता है?

Name the type of mirror used in the headlight of vehicles:

- Ans
1. समतल-उत्तल दर्पण
Plano-convex mirror
2. उत्तल दर्पण
Convex mirror
3. समतल दर्पण
Plane mirror
4. अवतल दर्पण
Concave mirror

Question ID : 9864493184

Status : Answered

Chosen Option : 4

Q.15 निम्नलिखित तत्वों में से किसका परमाणु द्रव्यमान सबसे कम है?

Which one of the following elements has the lowest atomic mass?

- Ans
1. लीथियम
Lithium

Question ID : 9864493233

Status : Answered

Chosen Option : 3

- 2. नाइट्रोजन
Nitrogen
- 3. हाइड्रोजन
Hydrogen
- 4. हीलियम
Helium

Q.16 A अकेला किसी कार्य को 8 दिन में पूरा कर सकता है, जबकि B इसे स्वयं करने में 12 दिन लगाती है। C के साथ मिलकर वे इसे 4 दिन में पूरा करते हैं। यदि C और D मिल कर उस काम को 15 दिन में पूरा करते हैं तो D को इस काम को पूरा करने में कितना समय लगेगा?

A can complete a task alone in 8 days, while B takes 12 days to do it by herself. Together with C it takes them 4 days to complete the work. If C and D together can complete the task in 15 days, then how many days will D need to complete the task by herself?

- Ans
- 1. 36
 - 2. 32
 - 3. 40
 - 4. 30

Question ID : 9864492929

Status : Answered

Chosen Option : 3

Q.17 पृथ्वी के चारों ओर एक पूरा चक्कर लगाने में चन्द्रमा द्वारा किया गया कार्य निम्नलिखित में से किसके बराबर है?

The work done in one complete revolution of the moon around the earth is equal to:

- Ans
- 1.

केन्द्राभिमुख बल \times चंद्रमा की कक्षा की त्रिज्या

centripetal force \times radius of the orbit of the moon

- 2.

गुरुत्वाकर्षण बल \times चंद्रमा की कक्षा की परिधि

gravitational force \times circumference of the orbit of the moon

- 3.

गुरुत्वाकर्षण बल \times चंद्रमा की कक्षा का व्यास

gravitational force \times diameter of the orbit of the moon

- 4. शून्य

Zero

Question ID : 9864493102

Status : Not Attempted and
Marked For Review

Chosen Option : --

Q.18 निम्नलिखित प्रश्न पढ़ें और तय करें कि दिए गए तर्क में से कौन सा (से) तर्क सही है (हैं)।

हाइड्रोजन एक सिलेंडर में है।

तर्क 1: हाइड्रोजन तरल स्थिति में है।

तर्क 2: हाइड्रोजन गैसीय स्थिति में है।

Read the given question and decide which of the following argument(s) is/are correct.

Hydrogen is in a cylinder.

Argument 1: Hydrogen is in a liquid state.

Argument 2: Hydrogen is in a gaseous state.

Ans

Question ID : 9864494269

Status : Answered

Chosen Option : 4

1. केवल तर्क 1 सही है।
Only argument 1 is correct.
2. 1 और 2 दोनों सही नहीं हैं।
Neither argument 1 nor 2 is correct.
3. केवल तर्क 2 सही है।
Only argument 2 is correct.
4. या तो 1 या 2 सही है।
Either argument 1 or 2 is correct.

Q.19 अमेरिकी इतिहास में राष्ट्रपतियों के सबसे प्रसिद्ध भाषणों में से एक 'दी गेटिसबर्ग एड्रेस' है। उस अमेरिकी राष्ट्रपति का नाम बताएं जिन्होंने यह महत्त्वपूर्ण भाषण दिया था?
One of the most famous speeches in U.S. Presidential history is 'The Gettysburg Address'. Name the US President who gave this epochal speech.

Question ID : 9864492137

Status : Not Attempted and
Marked For Review

Chosen Option : --

Ans

1. अब्राहम लिंकन
Abraham Lincoln
2. थियोडोर रूसवेल्ट
Theodore Roosevelt
3. जॉन एफ. कैनेडी
John F. Kennedy
4. जॉर्ज वाशिंगटन
George Washington

Q.20 दिए गए विकल्पों में से कौन शब्दों के निम्नलिखित व्यवस्था में '?' को प्रतिस्थापित करने के लिए उपयुक्त है यदि दिए गए शब्द उस क्रम में हैं जिस क्रम में वे शब्दकोश में दिखाई देते हैं?

Question ID : 9864494122

Status : Answered

Chosen Option : 4

MABELA, MABLE, MABUSE, MABEPEARL, ?
MABELA, MABLE, MABUSE, MABEPEARL, ?

If the above given words are arranged in the dictionary then the last word is:

- Ans 1. MABLE
2. MABUSE
3. MABEPEARL
4. MABELA


Q.21

Question ID : 9864494204


Status : Answered

Chosen Option : 1





चित्र के दिए गए संबंधित जोड़े के आधार पर अनुपस्थित चित्र चुनें।



Select the missing figure based on the given related pair of figures.



Ans

- ✓ 1. 
- ✗ 2. 
- ✗ 3. 
- ✗ 4. 

Q.22 दिए गए कथन को सही मानकर यह तय करें कि नीचे दिए निष्कर्षों में से कौन-सा निष्कर्ष दिए गए कथन से निश्चित तौर पर निकाला जा सकता है।

Question ID : 9864493902

Status : Answered

Chosen Option : 1

कथन:

नदियाँ पूजनीय हैं। सभी देवता पूजनीय हैं।

निष्कर्ष:

- 1. सभी नदियाँ देवता हैं।
- 2. सभी देवता नदियाँ हैं।

Consider the given statement as true and decide which of the given conclusions can definitely be drawn from the given statements.

Statement:

All rivers are holy. All gods are holy.

Conclusion:

- 1. All rivers are gods.
- 2. All gods are rivers.

Ans

✓ 1. न तो 1 न 2 ही अनुसरण करता है

Neither 1 or 2 follows

- 2. 1 व 2 दोनों अनुसरण करते हैं
Both 1 and 2 follows
- 3. मात्र निष्कर्ष 1 अनुसरण करता है
Only conclusion 1 follows
- 4. मात्र निष्कर्ष 2 अनुसरण करता है
Only conclusion 2 follows

Q.23 _____ मनुष्यों में अंतःस्रावी ग्रंथि नहीं है।
_____ is not an endocrine gland in humans.

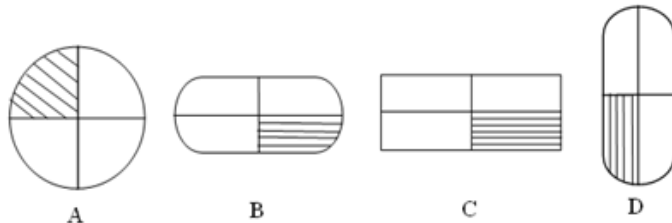
- Ans
- 1. पीयूष ग्रंथि
The pituitary gland
 - 2. शीर्षग्रंथि
The pineal gland
 - 3. अधिवृक्क ग्रंथि
The adrenal gland
 - 4. यकृत
The liver

Question ID : 9864493458
Status : Not Attempted and Marked For Review
Chosen Option : --

Q.24 दिए गए समूह से विषम आकृति चुनिए:



Select the figure which does NOT belong to the group.



- Ans
- 1. B
 - 2. C
 - 3. D
 - 4. A

Question ID : 9864493799
Status : Answered
Chosen Option : 4

Q.25 निम्नलिखित में से कौन सा एक धातु और अधातु दोनों के रूप में ही कार्य नहीं करता है?
Which of the following does NOT act as both, metal and nonmetal?

- Ans
- 1. बिस्मथ
Bismuth

Question ID : 9864493151
Status : Answered
Chosen Option : 2

2. आर्सेनिक
Arsenic
3. जर्मैनियम
Germanium
4. बोरॉन
Boron

Q.26 स्थायी ऊतकों के निर्माण के लिए एक स्थायी संरचना, आकार और क्रिया अपनाने की प्रक्रिया को क्या कहा जाता है?

The process of taking up a permanent shape, size and function to form a permanent tissue is called:

- Ans
1. विरचन (formation)
formation
2. विभेदन (differentiation)
differentiation
3. एकीकरण (unification)
unification
4. खटीकरण (calcification)
calcification

Question ID : 9864493195

Status : Answered

Chosen Option : 3

Q.27 X अपने घर से पश्चिम की ओर मुंह करके निकलता है, उसी दिशा में 100 किलोमीटर गाड़ी चलाने के बाद वह दाएँ मुड़ता है और पुनः 100 किलोमीटर गाड़ी चलाता है। इसके बाद वह बाएँ मुड़कर 50 किलोमीटर चलता है। अपने शुरुआती बिंदु के सापेक्ष X किस दिशा से सम्मुख खड़ा है?

X leaves his house facing west, drives 100 km, then turns right and drives 100 km. He then turns left and drives 50 km. In which direction is X facing in relation to his starting point?

- Ans
1. उत्तर पूर्व
North east
2. दक्षिण पश्चिम
South west
3. दक्षिण पूर्व
South east
4. उत्तर पश्चिम
North west

Question ID : 9864493769

Status : Answered

Chosen Option : 4

Q.28 तापीय अपघटन के दौरान अमोनियम नाइट्रेट, उत्पन्न करता है:

Ammonium nitrate, on thermal decomposition, produces:

- Ans
1. NH_3 और NO_2
 NH_3 and NO_2
2. NH_3 और NO
 NH_3 and NO

Question ID : 9864493170

Status : Not Attempted and
Marked For Review

Chosen Option : --

- 3. N_2 और H_2O
 N_2 and H_2O
- 4. N_2O और H_2O
 N_2O and H_2O

Q.29 निम्नलिखित ट्रायड में से कौन सा एक, डोबरेनर ट्रायड का प्रतिनिधित्व करता है?
Which one of the following triad represents Dobereiner's Triad?

- Ans
- 1. Li, Na, K
 - 2. Na, Sr, Br
 - 3. Li, K, Na
 - 4. Li, Ca, C1

Question ID : 9864493354

Status : Not Attempted and
Marked For Review

Chosen Option : --

Q.30 भारतीय और जापानी प्रधानमंत्रियों ने हाल ही में एक हाई-स्पीड रेल प्रोजेक्ट डील साइन की है। यह मुंबई को किस प्रमुख शहर से जोड़ेगा?

The Indian and Japanese Prime Ministers have recently signed a high-speed rail project deal that will connect Mumbai with which major city?

- Ans
- 1. बेंगलोर
Bangalore
 - 2. हैदराबाद
Hyderabad
 - 3. अहमदाबाद
Ahmedabad
 - 4. नई दिल्ली
New Delhi

Question ID : 9864492398

Status : Answered

Chosen Option : 4

Q.31 निम्न में से किसका मान शान्त दशमलव में प्राप्त होगा?
Which of the following will give a terminating decimal?

- Ans
- 1. $\frac{3}{36}$
 - 2. $\frac{9}{36}$
 - 3. $\frac{12}{36}$
 - 4. $\frac{6}{36}$

Question ID : 9864492840

Status : Answered

Chosen Option : 2

Q.32 उस विकल्प का चयन करें जो निम्नलिखित चित्र में त्रिकोणों की संख्या को दर्शाता है।



Select the option that represents the number of triangles in the following figure.



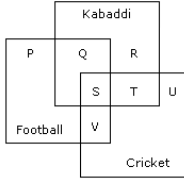
Question ID : 9864493979

Status : Answered

Chosen Option : 2

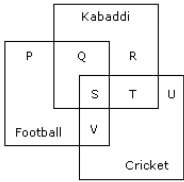
- Ans 1. 17
 2. 12
 3. 15
 4. 16

Q.33



Football -फुटबॉल Kabaddi -कबड्डी Cricket -क्रिकेट

दिए गए वेन आरेख के अनुसार, उन छात्रों की कुल संख्या _____ है जो क्रिकेट और फुटबॉल दोनों खेलते हैं लेकिन कबड्डी नहीं खेलते हैं।



As per the given Venn diagram, the total number of students who play cricket as well as football but not Kabaddi is _____.

- Ans 1. R
 2. T
 3. P
 4. V

Q.34 किस भारतीय महिला पर्वतारोही ने 5 दिनों के भीतर लगातार दो बार माउंट एवरेस्ट पर चढ़ाई करने का सबसे तेज कीर्तिमान बनाया?
 Which Indian female mountaineer recently created the fastest record of scaling Mount Everest back-to-back twice within 5 days?

Ans

1. अंशु जमसेपा
 Anshu Jamsenpa
 2. अरुणिमा सिन्हा
 Arunima Sinha
 3. प्रेमलता अग्रवाल
 Premlatha Agarwal
 4. बछेन्द्री पाल
 Bachendri Pal

Q.35 रियान विहान की माँ की बहन के पिता के इकलौते बेटे का बेटा है। रियान किस रूप में विहान से संबंध रखता है?

Ryaan is Vahaan's mother's sister's father's only son's son. How is Ryaan related to Vahaan?

Ans

1. चाचा /मामा /फूफा/ मौसा /ताऊ
 Uncle

Question ID : 9864494035

Status : Answered

Chosen Option : 4

Question ID : 9864492369

Status : Answered

Chosen Option : 4

Question ID : 9864494341

Status : Answered

Chosen Option : 1

- ✓ 2. चचेरा /ममेरा /मौसेरा /फुफेरा भाई
Cousin
- ✗ 3. पुत्र
Son
- ✗ 4. भतीजा/ भांजा
Nephew

Q.36 भारतीय सिनेमा की सबसे अधिक कमाई वाली फिल्म बाहुबली के निर्देशक कौन हैं?

Who is the director of Indian cinema's highest grossing film Bahubali?

Ans

- ✓ 1. एस.एस. राजमौली
SS Rajamouli
- ✗ 2. गौथम वासुदेव मेनन
Gautham Vasudev Menon
- ✗ 3. करन जौहर
Karan Johar
- ✗ 4. संजय लीला भंसाली
Sanjay Leela Bhansali

Question ID : 9864492171

Status : Answered

Chosen Option : 4

Q.37 निम्नलिखित में से कौन सा विकल्प दिए गए चित्र के सही दर्पण प्रतिबिंब को दर्शाता है?

15UP5062

Which of the options depicts the correct mirror image of the given figure?

15UP5062

Ans

- ✗ 1. 28059UP51
- ✗ 2. 2605PU51
- ✓ 3. 28029U21
- ✗ 4. 5062UP15

Question ID : 9864493975

Status : Answered

Chosen Option : 3

Q.38

Question ID : 9864494078

Status : Answered

Chosen Option : 3

दिए गए प्रश्न पर विचार करें और निर्णय लें कि प्रश्न का उत्तर देने के लिए निम्न में से कौन सा कथन पर्याप्त है।

किचन के ग्रेनाइट का रंग क्या है?

कथन:

1. ग्रेनाइट का रंग दीवार का रंग है।
2. ग्रेनाइट का रंग बहुत चमकीला है।

Consider the given question and decide which of the following statements is sufficient to answer the question.

What is the colour of the granite in the kitchen?

Statements:

1. The colour of the granite is the colour of the wall.
2. The colour of the granite is very bright.

Ans ✓ 1.

दिये गए प्रश्न का उत्तर देने के लिए न तो 1 और न ही 2 पर्याप्त है।

Neither 1 nor 2 is sufficient to answer the given question.

✗ 2.

दिये गए प्रश्न का उत्तर देने के लिए अकेला 1 पर्याप्त है लेकिन अकेला 2 पर्याप्त नहीं है।

1 alone is sufficient while 2 alone is not sufficient to answer the given question.

✗ 3.

दिये गए प्रश्न का उत्तर देने के लिए अकेला 2 पर्याप्त है लेकिन अकेला 1 पर्याप्त नहीं है।

2 alone is sufficient while 1 alone is not sufficient to answer the given question.

✗ 4.

दिये गए प्रश्न का उत्तर देने के लिए 1 और 2 दोनों पर्याप्त हैं।

Both 1 and 2 are sufficient to answer the given question.

Q.39 निम्नलिखित में से कौन सा कथन गलत है ?

Which of the following statements is INCORRECT?

Ans

✗ 1. ठोस पदार्थों का आयतन निश्चित होता है

Solids have definite volume

✗ 2. ठोस पदार्थ कठोर होते हैं

Solids are rigid

✓ 3. ठोस पदार्थों का आकार अनिश्चित होता है

Solids have indefinite shape

✗ 4. ठोस पदार्थ लगभग असंपीनीय होते हैं

Solids are almost incompressible

Question ID : 9864493228

Status : Answered

Chosen Option : 3

Q.40

Question ID : 9864494320

Status : Answered

Chosen Option : 3

दी गई टिप्पणी पर विचार करें और तय करें कि दिया गया कौन सा अनुमान उसमें निहित है/हैं।

टिप्पणी:

"प्राकृतिक संसाधनों के बारे में उनके ज्ञान को बढ़ाने के लिए विद्यालय के छात्रों की वनस्पति उद्यान की यात्रा की व्यवस्था की गई है" -- स्कूल में नोटिस बोर्ड पर एक संदेश।

अनुमान:

1. वनस्पति उद्यान प्राकृतिक संसाधनों से परिपूर्ण हैं।
2. नए परिवेश के साथ अंतःक्रिया के माध्यम से स्कूल के छात्रों के अधिक सीखने की संभावना है।

Consider the given argument and decide which of the given assumptions is (are) implicit.

Argument:

"A visit of school students to botanical garden to widen their knowledge of natural resources has been arranged" — a message on the notice board in the school.

Assumptions:

1. Botanical gardens are full of natural resources.
2. School students are likely to learn more through interaction with the new environment.

Ans

- ❌ 1. निहित टिप्पणी केवल 1 है।
Only assumption 1 is implicit.
- ❌ 2. निहित टिप्पणियाँ 1 और 2 दोनों हैं।
Both assumptions 1 and 2 are implicit.
- ❌ 3. निहित टिप्पणी केवल 2 है।
Only assumption 2 is implicit.
- ✅ 4. निहित टिप्पणी न तो 1 नही 2 है।
Neither assumption 1 nor 2 is implicit.

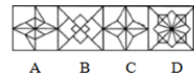
Q.41 दिया गया प्रश्न-चित्र किसी एक उत्तर आकृति में सन्निहित है, उसकी पहचान कीजिए?

प्रश्न चित्र:

Problem Figure



Answer Figures



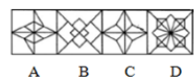
उत्तर चित्र

The given Problem Figure is embedded in one of the given Answer Figures. Which is that Answer Figure?

Problem Figure



Answer Figures



Ans ❌ 1. C

Question ID : 9864494365

Status : Answered

Chosen Option : 2

- 2. D
- 3. A
- 4. B

Q.42 निम्नलिखित में से कौन सी गैस चूने के पानी को दूधिया बना देती है?

Which of the following gases turns lime water milky?

- Ans
- 1. O_3
 - 2. CO_2
 - 3. O_2
 - 4. CO

Question ID : 9864493569

Status : Answered

Chosen Option : 2

Q.43 नानी और लीलू की लंबाई का अनुपात 4 : 3 है। यदि लीलू की लंबाई 1.2 मीटर है, तो नानी की लंबाई कितनी है?

The ratio of the heights of Nani and Leelu is 4 : 3. If Leelu is 1.2 m tall, then what is the height of Nani?

- Ans
- 1. 1.6 मीटर
 - 2. 2 मीटर
 - 3. 0.9 मीटर
 - 4. 1.8 मीटर

Question ID : 9864492525

Status : Not Attempted and Marked For Review

Chosen Option : --

Q.44 ₹ 1,560 की एक धनराशि A, B और C के बीच इस प्रकार बाँटी जानी है, कि A को प्राप्त होने वाला भाग B को प्राप्त होने वाले भाग का 50% हो और B को प्राप्त होने वाला भाग C को प्राप्त होने वाले भाग का 20% हो। B को कितनी राशि प्राप्त होगी?

A total amount of ₹ 1560 is to be divided among A, B and C such that A gets 50% of what B gets and B gets 20% of what C gets. How much will B get?

- Ans
- 1. ₹ 540
 - 2. ₹ 440
 - 3. ₹ 280
 - 4. ₹ 240

Question ID : 9864492447

Status : Not Attempted and Marked For Review

Chosen Option : --

Q.45 यदि $17 \times 29 = 493$ हो तो $170 \times 0.029 = ?$

Given $17 \times 29 = 493$, then $170 \times 0.029 = ?$

- Ans
- 1. 0.0493
 - 2. 4.93
 - 3. 0.493
 - 4. 49.3

Question ID : 9864492981

Status : Answered

Chosen Option : 2

Q.46

27225 का वर्गमूल कौन सा है:

The square root of 27225 is:

- Ans
- 1. 165
 - 2. 155
 - 3. 175
 - 4. 145

Question ID : 9864492863

Status : Answered

Chosen Option : 1

Q.47 फरवरी 2018 तक जे.पी. मॉर्गन इंडिया के मुख्य कार्यकारी अधिकारी (सीईओ) कौन हैं?

Who is the Chief Executive Officer (CEO) of JP Morgan India as of February 2018?

- Ans
- 1. नैना लाल किदवाई
Naina Lal Kidwai
 - 2. कल्पना मोरपारिया
Kalpana Morparia
 - 3. शांति इकम्बरम
Shanthi Ekambaram
 - 4. उषा अनंतसुब्रमण्यन
Usha Ananthasubramanian

Question ID : 9864492214

Status : Answered

Chosen Option : 4

Q.48 3 जनवरी, 2018 को बुधवार था। निम्नलिखित में से कौन से वर्ष में फिर 3 जनवरी को बुधवार होगा?

3rd January 2018 was a Wednesday. Which of the following years will also have 3rd January on a Wednesday?

- Ans
- 1. 2020
 - 2. 2024
 - 3. 2022
 - 4. 2023

Question ID : 9864492954

Status : Not Attempted and
Marked For Review

Chosen Option : --

Q.49 निम्नलिखित में से कौन सी एक गैर-चमकदार वस्तु है?

Which of the following is a Non-Luminous body?

- Ans
- 1. जगमगाता बल्ब
Glowing bulb
 - 2. चांद
Moon
 - 3. जलती हुई मोमबत्ती
Burning candle
 - 4. जुगनू
Firefly

Question ID : 9864493383

Status : Answered

Chosen Option : 2

Q.50

Question ID : 9864492775

Status : Not Attempted and

ΔABC में $AB = 8$ सेंटीमीटर है। $\angle A$ का समद्विभाजक आन्तरिक रूप से BC पर D पर मिलता है और $BD = 6$ सेंटीमीटर हो और $DC = 7.5$ सेंटीमीटर हो तो CA का मान क्या होगा?

In ΔABC , $AB = 8$ cm. $\angle A$ is bisected internally to intersect BC at D . $BD = 6$ cm and $DC = 7.5$ cm. What is the length of CA ?

Marked For Review

Chosen Option : --

Ans

- 1. 12 सेंटीमीटर
12 cm
- 2. 10 सेंटीमीटर
10 cm
- 3. 12.5 सेंटीमीटर
12.5 cm
- 4. 10.5 सेंटीमीटर
10.5 cm

Q.51 दक्षिण गंगोत्री भारतीय वैज्ञानिकों द्वारा स्थापित एक रिसर्च बेस स्टेशन है। यह कहां स्थित है?

Dakshin Gangotri is a research base station set up by Indian scientists. Where is it located?

Question ID : 9864492130

Status : Answered

Chosen Option : 1

Ans

- 1. सुंदरवन डेल्टा
Sundarbans Delta
- 2. कावेरी बेसिन
Cauvery Basin
- 3. श्री लंका
Sri Lanka
- 4. अंटार्कटिका
Antarctica

Q.52 विद्युत आवेश की SI इकाई क्या है?

The SI unit of electric charge is:

Question ID : 9864493285

Status : Answered

Chosen Option : 3

Ans

- 1. ओम
ohm
- 2. वोल्ट
volt
- 3. एम्पेयर
ampere
- 4. कूलम्ब
coulomb

Q.53 निम्नलिखित में से कौन सा एक आयनिक यौगिक का गुण नहीं है?

Which of the following is not the properties of an ionic compound?

Question ID : 9864493372

Status : Answered

Chosen Option : 4

Ans

1. पानी में घुलनशील और पेट्रोल में अघुलनशील
Soluble in water and insoluble in petrol
2. उच्च गलनांक और क्वथनांक
High melting and boiling points
3. कम गलनांक और क्वथनांक
Low melting and boiling points
4. ठोस और मजबूत
Solid and hard

Q.54 निम्न हल करें:

$$\{38 - (60 \div 5 \times \overline{16 - 8} \div 2 \div 3)\} = ?$$

Solve the following.

$$\{38 - (60 \div 5 \times \overline{16 - 8} \div 2 \div 3)\} = ?$$

- Ans 1. 22
2. 29
3. 30
4. 37

Question ID : 9864492839

Status : Answered

Chosen Option : 1

Q.55 बिहार के उपमुख्यमंत्री (फरवरी 2018 से) कौन हैं?

Who is the Deputy Chief Minister of Bihar as of February 2018?

- Ans 1. लालू प्रसाद यादव
Lalu Prasad Yadav
2. राम विलास पासवान
Ram Vilas Paswan
3. शत्रुघन सिन्हा
Shatrughan Sinha
4. सुशील कुमार मोदी
Sushil Kumar Modi

Question ID : 9864492397

Status : Not Attempted and
Marked For Review

Chosen Option : -

Q.56 रघु ने ₹ 66 में खिलौने खरीदने के बाद इसे %15लाभ पर बेच दिया। खिलौने का बिक्री मूल्य कितना था:

After buying a toy for ₹ 66, Raghu managed to sell it at a profit of 15%. The selling price of the toy was:

- Ans 1. ₹ 75.90
2. ₹ 70.80
3. ₹ 75.20
4. ₹ 76.90

Question ID : 9864492969

Status : Answered

Chosen Option : 4

Q.57

Question ID : 9864494293

निम्नलिखित वाक्यों को सही मानते हुए निर्णय करें कि उक्त वाक्यों से कौन से निष्कर्ष तार्किक रूप से अनुसरण करते हैं।

Status : Answered

Chosen Option : 3

वाक्य :

भार भी एक प्रकार का बल होता है।

Conclusions:

1. भार की इकाई, न्यूटन होती है।
2. भार की इकाई किलोग्राम होती है।

Consider the given statement to be true and decide which of the conclusion(s) logically follow(s) from the statement.

Statement:

Weight is also a Force.

Conclusions:

1. The unit of weight is Newton.
2. The unit of weight is Kilograms.

Ans

✓ 1. केवल निष्कर्ष 1 ही अनुसरण करता है।

Only conclusion 1 follows.

✗ 2. निष्कर्ष 1 और 2 दोनों अनुसरण करते हैं।

Both conclusions 1 and 2 follow.

✗ 3. केवल निष्कर्ष 2 ही अनुसरण करता है।

Only conclusion 2 follows.

✗ 4. निष्कर्ष 1 और 2 दोनों ही अनुसरण नहीं करते हैं।

Neither conclusion 1 nor 2 follows.

Q.58 निम्न समीकरण की बाईं ओर दी गई संख्याओं के बीच क्रमिक रूप से रखे जाने वाले गणितीय चिह्नों का उपयुक्त संयोजन चुनें ताकि इसका बायां भाग = दायां भाग हो।

Question ID : 9864493996

Status : Answered

Chosen Option : 3

5035=20

Select the appropriate combination of mathematical operators to be sequentially placed between the numbers given on the left of the following equation so that LHS = RHS.

5035 = 20

Ans ✗ 1. + × -

✗ 2. + - ×

✓ 3. - + ×

✗ 4. × + -

Q.59 गति के दूसरे समीकरण द्वारा किसके बीच संबंध को दर्शाया गया है:

The second equation of motion gives the relation between:

Ans

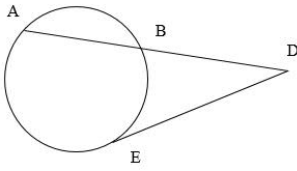
Question ID : 9864493500

Status : Answered

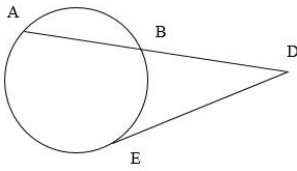
Chosen Option : 4

- 1. वेग और समय
Velocity and time
- 2. स्थान और वेग
Position and velocity
- 3. स्थान और समय
Position and time
- 4. वेग और त्वरण
Velocity and acceleration

Q.60



उपर दिखाए गए वृत्त में जीवा \overline{AB} को बढ़ाया जाता है ताकि वो स्पर्श रेखा \overline{DE} से D पर मिले। यदि $\overline{AB} = 5$ सेंटीमीटर हो और $\overline{DE} = 6$ सेंटीमीटर हो तो \overline{BD} की लम्बाई ज्ञात करें।



In the circle above, chord \overline{AB} is extended to meet the tangent \overline{DE} at D. If $\overline{AB} = 5$ cm and $\overline{DE} = 6$ cm, find the length of \overline{BD} .

Ans

- 1. 4 सेंटीमीटर
4 cm
- 2. 5 सेंटीमीटर
5 cm
- 3. 6 सेंटीमीटर
6 cm
- 4. $\sqrt{30}$ सेंटीमीटर
 $\sqrt{30}$ cm

Question ID : 9864492695

Status : Not Attempted and
Marked For Review

Chosen Option : --

Q.61 पूजिता की तीन वर्ष पहले की आयु के एक-तिहाई और वर्तमान आयु से दो वर्ष बाद की आयु के आधे का योग बीस वर्ष है। उसकी वर्तमान आयु क्या है?

One-third of Poojitha's age three years ago plus one-half of her age two years from now is twenty years. How old is she now?

Ans

- 1. 26 वर्ष
26 years
- 2. 25 वर्ष
25 years
- 3. 23 वर्ष
23 years

Question ID : 9864492493

Status : Not Attempted and
Marked For Review

Chosen Option : --

✓ 4. 24 वर्ष
24 years

Q.62 एक मीटर में कुल कितने किलोमीटर होते हैं?

How many kilometres are there in one metre?

- Ans
- ✗ 1. 0.01
 - ✗ 2. 0.0001
 - ✓ 3. 0.001
 - ✗ 4. 0.1

Question ID : 9864492601

Status : Answered

Chosen Option : 3

Q.63 यदि WASP STINGS HARD को @%Z के रूप में, HARD TO DEAL को Z65 के रूप में और HEAL LONG TIME को 896 के रूप में कोडेड किया जाता है तो HARD का कोड क्या होगा?

If WASP STINGS HARD is coded as @%Z, HARD TO DEAL is coded as Z65 and HEAL LONG TIME is coded as 896, what is the code for HARD?

- Ans
- ✗ 1. @
 - ✗ 2. 9
 - ✓ 3. Z
 - ✗ 4. 5

Question ID : 9864494364

Status : Answered

Chosen Option : 3

Q.64 नवंबर 2017 में, सबसे कम टेस्ट मैचों में 300 विकेट लेकर रविचंद्रन अश्विन ने किसका रिकार्ड तोड़ा है?

Ravichandran Ashwin became the fastest player in the world (in terms of number of test matches) to get 300 wickets in test cricket in November 2017. Whose record did Ashwin break?

- Ans
- ✓ 1. डेनिस लिली
Dennis Lillee
 - ✗ 2. मुथैया मुरलीधरन
Muthiah Muralitharan
 - ✗ 3. रिचर्ड हैडली
Richard Hadlee
 - ✗ 4. मैल्कम मार्शल
Malcolm Marshall

Question ID : 9864492220

Status : Answered

Chosen Option : 1

Q.65

Question ID : 9864494001

Status : Not Attempted and
Marked For Review

Chosen Option : --

शहर	जनसंख्या	शिक्षित लोग	अशिक्षित लोग	शिक्षित लोगों का %
A	200	150	50	-
B	-	200	100	66.6
C	150	50	100	-
D	120	-	90	25

दिए गए आंकड़ों के आधार पर, चारों शहरों में कुल मिलाकर शिक्षितों का कुल प्रतिशत, एक दशमलव तक पूर्णांकित _____ है।

City	Population	Literate	Illiterate	% of literates
A	200	150	50	-
B	-	200	100	66.6
C	150	50	100	-
D	120	-	90	25

Based on the given data, the total percentage of literates in the four cities together, round to one decimal, is _____.

- Ans
- 1. 55
 - 2. 55.7
 - 3. 55.9
 - 4. 55.8

Q.66 चार्ल्स और श्रिया की उम्र के बीच 6 साल का अंतर है। जब उन्होंने 30 साल पहले एक दूसरे से शादी की थी तो, चार्ल्स की उम्र का 4 गुना उतना था जितना कि श्रिया की उम्र का 5 गुना। उनकी वर्तमान उम्रों का योग क्या है?

The difference between Charles' and Shriya's ages is 6 years. When they married each other 30 years ago, 4 times Charles's age was the same as 5 times the age of Shriya. What is the current sum of their ages?

Question ID : 9864493033

Status : Not Attempted and Marked For Review

Chosen Option : --

- Ans
- 1. 115 वर्ष
115 years
 - 2. 112 वर्ष
112 years
 - 3. 114 वर्ष
114 years
 - 4. 110 वर्ष
110 years

Q.67 सम्बंधित युग्म का लुप्त शब्द ज्ञात करें।

Question ID : 9864494318

Status : Answered

Chosen Option : 2

सड़क : कार :: समुद्र : ?

Find the missing word for the related pair.

Road : Car :: Sea : ?

- Ans
- 1. मछली
Fish

2. जहाज
Ship
3. नदी
River
4. पानी
Water

Q.68 एक कंप्यूटर गेम में, बिल्डर और विध्वंसक हैं। ये कुल मिलाकर 20 हैं। इनमें से कुछ महल के चारों ओर एक दीवार बनाने की कोशिश करते हैं जबकि बाकी इसे ध्वस्त करने की कोशिश करते हैं। बिल्डरों में से प्रत्येक, 15 घंटे में अकेले दीवार का निर्माण कर सकते हैं, जबकि कोई भी विध्वंसक इसे 10 घंटे में ध्वस्त कर सकता है। दीवार के न होने पर यदि सभी 20 बिल्डर और विध्वंसक सक्रिय हो जाते हैं तो दीवार 3 घंटे में बन जाती है। इनमें से विध्वंसक कितने हैं?

In a computer game, there are builders and destroyers. Together there are 20 of them. Some of them try to build a wall around a castle while the rest try to demolish it. Each of the builders can build the wall alone in 15 hours while any of the destroyers can demolish it in 10 hours. If all 20 builders and destroyers are made active when there is no wall and the wall gets built in 3 hours, how many of them are destroyers?

- Ans 1. 5
2. 7
3. 6
4. 8

Question ID : 9864492849

Status : Not Attempted and
Marked For Review

Chosen Option : --

Q.69 निम्न में से कौन सा विकल्प दिये गए कथन की सही व्याख्या करता है?

कथन:

शतरंज के खेल में चार हाथी होते हैं।

Which of the following options correctly describes the given statement.

Statement:

There are four rooks in a game of chess.

- Ans 1. कभी नहीं
Never
2. अक्सर
Often
3. हमेशा
Always
4. कभी कभी
Sometimes

Question ID : 9864493925

Status : Answered

Chosen Option : 3

Q.70 8% प्रतिवर्ष साधारण ब्याज की दर पर निवेशित कोई धनराशि 2 वर्ष 9 महीने में ₹ 732 हो जाती है। निवेशित की गई धनराशि कितनी थी?

A sum of money invested for 2 years and 9 months at the rate of 8% simple interest per annum became ₹ 732 at the end of the period. What was the sum that was initially invested?

- Ans 1. ₹ 575
2. ₹ 500
3. ₹ 600
4. ₹ 550

Question ID : 9864492687

Status : Not Attempted and
Marked For Review

Chosen Option : --

Q.71 यदि X की दो बहनें Y और Z हैं और W की माँ Y के पिता की बहन है तो W Z का (की) _____ है।

If X has two sisters - Y and Z, and W's mother is the sister of Y's father, then W is Z's _____.

Question ID : 9864494066

Status : Answered

Chosen Option : 4

Ans

- 1. पिता
Father
- 2. भतीजी / भांजी
Niece
- 3. माँ
Mother
- 4. चचेरा /ममेरा /मौसेरा /फुफेरा भाई
Cousin

Q.72 यदि ABCD एक समलम्ब चतुर्भुज है, AC और BD उसके एक दूसरे को बिंदु O पर प्रतिच्छेद करने वाले विकर्ण हैं, तो AC:BD होगा:

If ABCD is a trapezium, AC and BD are the diagonals intersecting each other at point O. Then AC:BD is

Question ID : 9864492618

Status : Not Attempted and Marked For Review

Chosen Option : --

Ans

- 1. $AB+AD:DC+BC$
- 2. $AO-OC:OB-OD$
- 3. $AB:CD$
- 4. $AD:BC$

Q.73 क्रम से दी गई आकृतियों में से भिन्न का चयन करें।

Question ID : 9864494331

Status : Answered

Chosen Option : 2

13 M	23 W	20 E	10 J
---------	---------	---------	---------

1 2 3 4

Select the odd figure out of the given series.

13 M	23 W	20 E	10 J
---------	---------	---------	---------

1 2 3 4

Ans

- 1. 2
- 2. 3
- 3. 4
- 4. 1

Q.74

Question ID : 9864492345

Status : Not Attempted and

Test

Prime

By Adda247

Previous Year Papers PDF

PRACTICE MORE, SCORE HIGHER!



Free
25,000+
PDF's

High-Quality | Exam-Wise | Updated Regularly

ATTEMPT AS
MOCK



Turn PDFs into real exam experience.
Analyze. Improve. Succeed.



Topic-wise & Exam-wise PDFs



Download & Study Offline



Attempt as Mock & Track Score



Smart Analysis & Performance

AVAILABLE IN



Banking



SSC



Railway



Teaching



UGC



Agriculture



Nursing



Bihar



UP



Punjab



WB



Odisha



TN



AP & Telangana



Haryana



DOWNLOAD THE APP



1962 में स्थापित डॉ. बी. सी. रॉय पुरस्कार मुख्य रूप में किस क्षेत्र में सफलता प्राप्त करने वाले प्रख्यात व्यक्तियों को दिया जाता है?

The Dr. B. C. Roy awards, instituted in 1962, are given to eminent achievers primarily from which field?

Marked For Review

Chosen Option : --

Ans

- ✓ 1. चिकित्सा
Medicine
- ✗ 2. विधि
Law
- ✗ 3. खेल
Sports
- ✗ 4. पत्रकारिता
Journalism

Q.75 0.1 किलोग्राम वजन की एक गेंद को स्थिर स्थिति से गिराया जाता है। जब यह 2 मीटर की दूरी से गिरती है, तो गुरुत्वाकर्षण के बल से लगने वाला कार्य कितना होगा ($g = 9.8$ मीटर प्रति वर्ग सैकंड) :

A ball of 0.1 kg is dropped from rest. When it falls through a distance of 2 m, the work done by the force of gravity is ($g = 9.8 \text{ m/s}^2$):

Question ID : 9864493222

Status : Answered

Chosen Option : 1

Ans

- ✗ 1. 0.98 जूल
- 0.98 J
- ✗ 2. -0.98 जूल
- 0.98 J
- ✓ 3. 1.96 जूल
- 1.96 J
- ✗ 4. -1.96 जूल
- 1.96 J