

CRPF Constable

**Previous Year Paper
Technical Tradesman
01 July, 2023 Shift 1**

Adda247

Adda247

Test Prime

ALL EXAMS, ONE SUBSCRIPTION



1,00,000+
Mock Tests



**Personalised
Report Card**



**Unlimited
Re-Attempt**



600+
Exam Covered



25,000+ Previous
Year Papers



500%
Refund



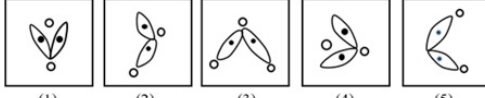
ATTEMPT FREE MOCK NOW

CRPF Technical Trades Man 1st to 12th July 2023

Participant ID	
Participant Name	
Test Center Name	
Test Date	01/07/2023
Test Time	8:30 AM - 10:30 AM
Subject	Constable Cook

Section : General Intelligence and Reasoning

9.1 पांच आकृति दी गई हैं, जिनमें से चार किसी न किसी रूप में एकसमान हैं और एक असमान है। उस आकृति का चयन कीजिए जो असमान है।



(1)

(2)

(3)

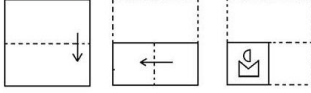
(4)

(5)

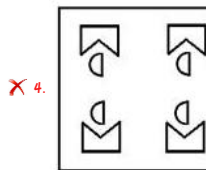
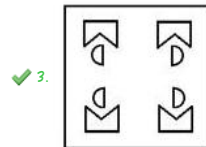
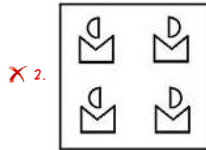
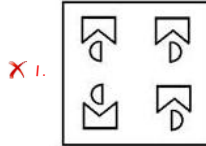
Ans ✓ 1.3
 ✗ 2.2
 ✗ 3.1
 ✗ 4.4

Question ID : 63068084072
 Option 1 ID : 630680325842
 Option 2 ID : 630680325841
 Option 3 ID : 630680325840
 Option 4 ID : 630680325843
 Status : Answered
 Chosen Option : 1

9.2 कागज के एक टुकड़े को मोड़ने का क्रम और मोड़े गए कागज को काटने का तरीका निम्नलिखित आकृतियों में दिखाया गया है। खोलने पर यह कागज कैसा दिखेगा?



Ans



Question ID : 63068058612
Option 1 ID : 630680226095
Option 2 ID : 630680226096
Option 3 ID : 630680226094
Option 4 ID : 630680226097
Status : Answered
Chosen Option : 3

9.3 एक बाइकर 3.4 घंटे में 99.1 km की दूरी तय करता है। 1 घंटे में बाइकर द्वारा तय की गई औसत दूरी कितनी है?

Ans ✗ 1. 31.21 km

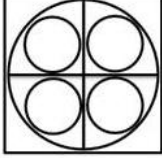
✓ 2. 29.14 km

✗ 3. 36.23 km

✗ 4. 28.19 km

Question ID : 630680109111
Option 1 ID : 630680423261
Option 2 ID : 630680423262
Option 3 ID : 630680423263
Option 4 ID : 630680423260
Status : Answered
Chosen Option : 1

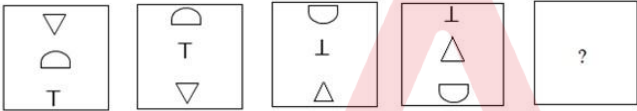
9.4 दी गई आकृति में कितने वृत्त हैं?



- Ans
- 1. 4
 - 2. 6
 - 3. 5
 - 4. 8

Question ID : 63068049478
 Option 1 ID : 630680190342
 Option 2 ID : 630680190344
 Option 3 ID : 630680190343
 Option 4 ID : 630680190345
 Status : Answered
 Chosen Option : 3

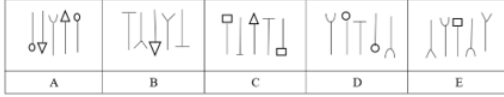
9.5 दिए गए विकल्पों में से उस आकृति का चयन कीजिए जो निम्नलिखित श्रृंखला में प्रश्न चिह्न (?) को प्रतिस्थापित कर सकती है।



- Ans
- 1.
 - 2.
 - 3.
 - 4.

Question ID : 63068057465
 Option 1 ID : 630680221703
 Option 2 ID : 630680221702
 Option 3 ID : 630680221705
 Option 4 ID : 630680221704
 Status : Answered
 Chosen Option : 1

Q.6 पांच आकृतियां दी गयी हैं, जिनमें से चार किसी न किसी रूप में एक समान हैं और एक भिन्न है। भिन्न आकृति का चयन करें।



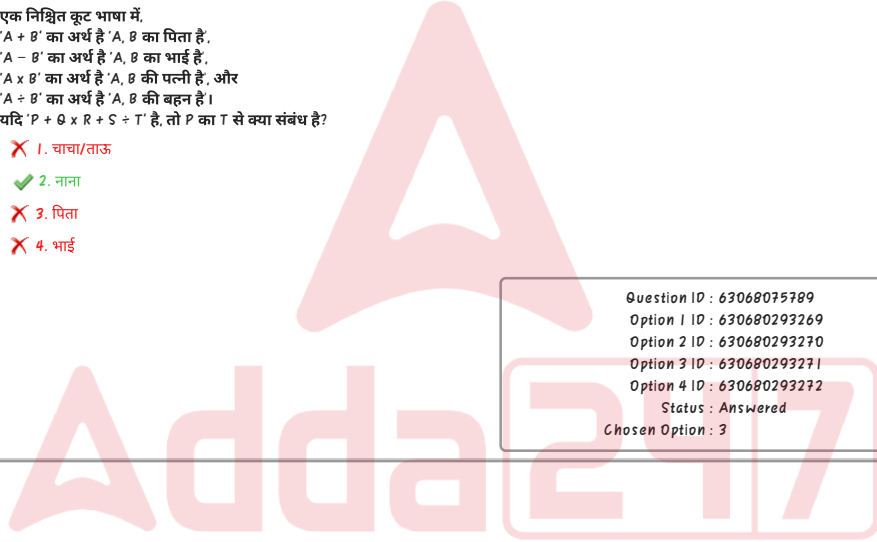
Ans 1. B
 2. C
 3. E
 4. D

Question ID : 63068011487
 Option 1 ID : 630680431744
 Option 2 ID : 630680431745
 Option 3 ID : 630680431742
 Option 4 ID : 630680431743
 Status : Answered
 Chosen Option : 1

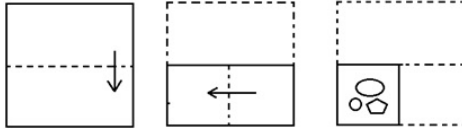
Q.7 एक निश्चित कूट भाषा में,
 'A + B' का अर्थ है 'A, B का पिता है',
 'A - B' का अर्थ है 'A, B का भाई है',
 'A x B' का अर्थ है 'A, B की पत्नी है', और
 'A ÷ B' का अर्थ है 'A, B की बहन है'।
 यदि 'P + Q x R + S ÷ T' है, तो P का T से क्या संबंध है?

Ans 1. चाचा/ताऊ
 2. नाना
 3. पिता
 4. भाई



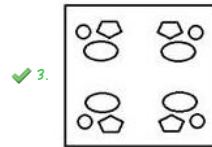
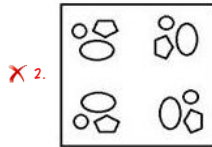
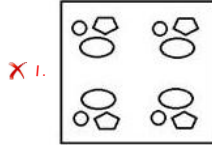
Question ID : 63068075789
 Option 1 ID : 630680293269
 Option 2 ID : 630680293270
 Option 3 ID : 630680293271
 Option 4 ID : 630680293272
 Status : Answered
 Chosen Option : 3



9.8 नीचे दी गई आकृतियों में कागज़ के एक टुकड़े को मोड़ने का क्रम और उसे काटने का तरीका दर्शाया गया है। खोले जाने पर यह कागज़ कैसा दिखेगा?



Ans



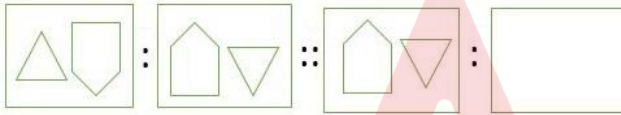
Question ID : 63068063322
 Option 1 ID : 630680244455
 Option 2 ID : 630680244456
 Option 3 ID : 630680244457
 Option 4 ID : 630680244454
 Status : Answered
 Chosen Option : 3

9.9 A & B का अर्थ है A, B की बहन है।
A!B का अर्थ है A, B का भाई है।
A%B का अर्थ है A, B की पुत्री है।
A>B का अर्थ है A, B का पुत्र है।
A=B का अर्थ है A, B का पिता है।
A~B का अर्थ है A, B का पति है।
निम्नलिखित में से किसका अर्थ है कि B, A की माता है?

- Ans
- ✓ 1. A & C % D ~ B
 - ✗ 2. A > C ~ D & B
 - ✗ 3. B ! D ~ A % C
 - ✗ 4. A ~ D ! C > B

Question ID : 630680102765
Option 1 ID : 630680399320
Option 2 ID : 630680399321
Option 3 ID : 630680399319
Option 4 ID : 630680399322
Status : Answered
Chosen Option : 1

9.10 उस विकल्प का चयन कीजिए जो तीसरी आकृति से उसी प्रकार संबंधित है जिस प्रकार दूसरी आकृति पहली आकृति से संबंधित है।



Ans

- ✗ 1.
- ✓ 2.
- ✗ 3.
- ✗ 4.

Question ID : 63068083323
Option 1 ID : 630680323140
Option 2 ID : 630680323141
Option 3 ID : 630680323142
Option 4 ID : 630680323143
Status : Answered
Chosen Option : 2

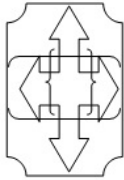
9.11 उस विकल्प का चयन कीजिए जिसमें दी गई आकृति (X) सन्निहित है (छुमाने की अनुमति नहीं है)।



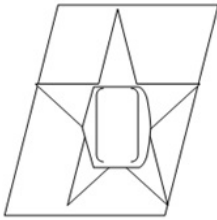
(X)

Ans

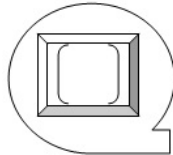
✓ 1.



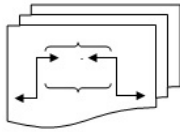
✗ 2.



✗ 3.

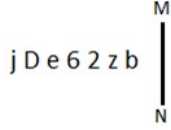


✗ 4.



Question ID : 630680160258
 Option 1 ID : 630680620406
 Option 2 ID : 630680620407
 Option 3 ID : 630680620404
 Option 4 ID : 630680620405
 Status : Answered
 Chosen Option : 1

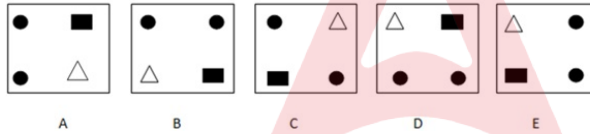
9.12 जब दर्पण को MN पर रखा जाता है तो दी गई आकृति के सही दर्पण प्रतिबिंब का चयन कीजिए।



- Ans
- 1. d z z e e D j
 - 2. q z z e e D j
 - 3. b z z e e D j
 - 4. d z z e e D j

Question ID : 630680176005
 Option 1 ID : 630680682268
 Option 2 ID : 630680682271
 Option 3 ID : 630680682269
 Option 4 ID : 630680682270
 Status : Answered
 Chosen Option : 1

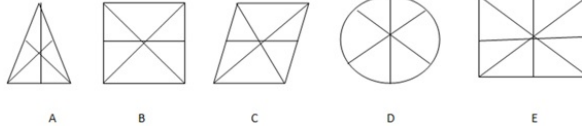
9.13 निम्नलिखित पांच आकृतियों में से चार एक निश्चित तरीके से समान हैं और इस प्रकार एक समूह बनाती हैं। उस आकृति का चयन करें जो उस समूह से संबंधित नहीं है।



- Ans
- 1. D
 - 2. C
 - 3. B
 - 4. A

Question ID : 63068083894
 Option 1 ID : 630680325169
 Option 2 ID : 630680325170
 Option 3 ID : 630680325171
 Option 4 ID : 630680325168
 Status : Answered
 Chosen Option : 1

Q.14 निम्नलिखित पांच आकृतियों में से चार एक निश्चित तरीके से समान हैं और इस प्रकार एक समूह बनाती हैं। उस आकृति का चयन करें जो उस समूह से संबंधित नहीं है।



Ans 1. D
 2. B
 3. A
 4. E

Question ID : 63068083899
 Option 1 ID : 630680325190
 Option 2 ID : 630680325191
 Option 3 ID : 630680325189
 Option 4 ID : 630680325188
 Status : Answered
 Chosen Option : 4

Q.15 सिम्हा उत्तर की ओर कार चलाना शुरू करता है। 30 मी झाड़व करने के बाद, वह दक्षिण की ओर मुड़ता है और 40 मी झाड़व करता है। फिर वह पूर्व की ओर मुड़ता है और 20 मी झाड़व करता है और फिर 10 मीटर उत्तर की ओर झाड़व करता है। वह प्रारंभिक बिंदु से कितनी दूर है?

Ans 1. 30 मी
 2. 20 मी
 3. 40 मी
 4. 10 मी

Question ID : 63068062300
 Option 1 ID : 630680240449
 Option 2 ID : 630680240446
 Option 3 ID : 630680240448
 Option 4 ID : 630680240447
 Status : Answered
 Chosen Option : 2

9.16 निम्नलिखित श्रृंखला को जारी रखने के लिए प्रश्न चिह्न (?) के स्थान पर कौन-सी आकृति आनी चाहिए?

R	T	=	8	□	R	R	U	T	=	A	R	
U	□	8	=	A	U	□	A	=	T	8	□	?
A				T		8			U			

Ans

✗ 1.

R	=	A
□	T	8
		U

✗ 2.

U	□	=
A	8	T
		R

✓ 3.

R	□	U
A	8	T
	=	

✗ 4.

R	□	U
A	T	8
	=	

Question ID : 630680214409
Option 1 ID : 630680831670
Option 2 ID : 630680831668
Option 3 ID : 630680831667
Option 4 ID : 630680831669

Status : Not Attempted and
Marked For Review
Chosen Option : --

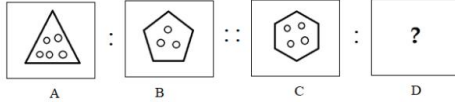
9.17 E, O के दक्षिण में पांच फुट है। K, O के पश्चिम में 5 फुट है। L, O के पूर्व में है। V, E के पश्चिम में 5 फुट है। E के पूर्व में 15 फुट है। I से V तक पहुँचने के लिए एक व्यक्ति को कितनी दूर और किस दिशा में चलना चाहिए?

- Ans
- ✓ 1. 20 फुट; पश्चिम
 - ✗ 2. 20 फुट; पूर्व
 - ✗ 3. 10 फुट; पश्चिम
 - ✗ 4. 20 फुट; दक्षिण-पश्चिम

Question ID : 630680104927
Option 1 ID : 630680407841
Option 2 ID : 630680407839
Option 3 ID : 630680407840
Option 4 ID : 630680407842

Status : Answered
Chosen Option : 1

9.18 उस विकल्प का चयन करें जो तीसरी आकृति से उसी प्रकार संबंधित है जैसे दूसरी आकृति पहली आकृति से संबंधित है।




Ans

- ✗ 1.
- ✗ 2.
- ✗ 3.
- ✓ 4.

Question ID : 63068058838
 Option 1 ID : 630680226975
 Option 2 ID : 630680226977
 Option 3 ID : 630680226974
 Option 4 ID : 630680226976
 Status : Answered
 Chosen Option : 4

9.19 दी गई आकृति में त्रिभुजों की संख्या ज्ञात कीजिए।



- Ans
- ✗ 1. 26
 - ✗ 2. 30
 - ✗ 3. 28
 - ✓ 4. 24

Question ID : 63068082594
 Option 1 ID : 630680320380
 Option 2 ID : 630680320383
 Option 3 ID : 630680320382
 Option 4 ID : 630680320381
 Status : Not Attempted and
 Marked For Review
 Chosen Option : --

9.20 पांच आकृतियां दी गयी हैं, जिनमें से चार किसी न किसी रूप में एक समान हैं और एक भिन्न है। भिन्न आकृति का चयन करें।

♡♡♡♡	∩∪∪∩	▽△△▽	∪∩∩∪	ΑΥΑΥ
A	B	C	D	E

Ans ✓ 1. E

✗ 2. B

✗ 3. A

✗ 4. D

Question ID : 63068011475
 Option 1 ID : 630680431697
 Option 2 ID : 630680431694
 Option 3 ID : 630680431696
 Option 4 ID : 630680431695
 Status : Answered
 Chosen Option : 1

9.21 रिया 20 m दक्षिण की ओर चलती है, फिर बाएं मुड़ती है और 60 m चलती है। फिर वह दाएं मुड़ती है और 100 m चलती है। रिया ने कुल कितनी दूरी तय की?

Ans ✗ 1. 240 m

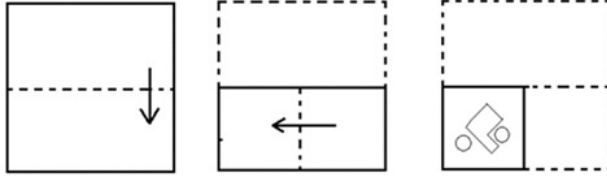
✓ 2. 180 m

✗ 3. 100 m

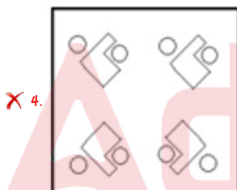
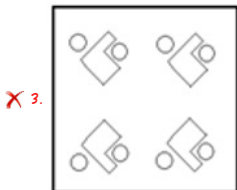
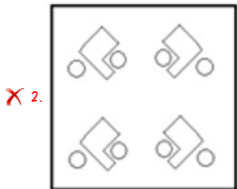
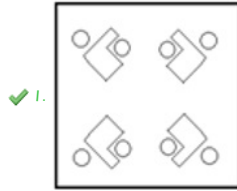
✗ 4. 120 m

Question ID : 63068057315
 Option 1 ID : 630680221102
 Option 2 ID : 630680221103
 Option 3 ID : 630680221105
 Option 4 ID : 630680221104
 Status : Answered
 Chosen Option : 2

9.22 एक कागज को मोड़ने का क्रम और मोड़े गए कागज को काटने का तरीका नीचे दिखाया गया है। दिए गए विकल्पों में से उस आकृति का चयन करें जो कागज के खुले हुए रूप से सबसे अधिक मिलती-जुलती हो?



Ans



Question ID : 630680157525
 Option 1 ID : 630680609630
 Option 2 ID : 630680609629
 Option 3 ID : 630680609631
 Option 4 ID : 630680609628
 Status : Answered
 Chosen Option : 1

Q.23 यदि $M + N$ का अर्थ है कि 'M, N का पिता है'
 $M - N$ का अर्थ है कि 'M, N की माँ है'
 $M \times N$ का अर्थ है कि 'M, N का भाई है'
 $M \div N$ का अर्थ है कि 'M, N की बहन है'
तो, इनमें से किसका अर्थ है कि 'P, R का दादा है'?

- Ans
- 1. $P - Q + R$
 - 2. $P + Q \times R$
 - 3. $P + Q + R$
 - 4. $R \times S + P$

Question ID : 63068056490
Option 1 ID : 630680217929
Option 2 ID : 630680217928
Option 3 ID : 630680217926
Option 4 ID : 630680217927
Status : Answered
Chosen Option : 3

Q.24 रोहन अपने कार्यालय से 6 किमी दक्षिण की ओर जाता है और फिर दायें मुड़ता है और 4 किमी चलता है। वहां से वह बाएं मुड़ता है और 2 किमी की दूरी तय करता है और वह फिर से बाएं मुड़ता है और 8 किमी की दूरी तय करने के बाद रुक जाता है। वह अभी कार्यालय से किस दिशा में है?

- Ans
- 1. पूर्व
 - 2. पश्चिम
 - 3. उत्तर-पश्चिम
 - 4. दक्षिण-पूर्व

Question ID : 63068057836
Option 1 ID : 630680223118
Option 2 ID : 630680223121
Option 3 ID : 630680223120
Option 4 ID : 630680223119
Status : Answered
Chosen Option : 4

Q.25 निम्नलिखित श्रृंखला को जारी रखने के लिए प्रश्न चिह्न (?) के स्थान पर कौन-सी आकृति आनी चाहिए?

BURST	TSURE	URTSO	OSRTB	?
△	E B	△ △	B U	△

Ans

✗ 1. T O S R N
△ U

✓ 2. R T O S N
△ U

✗ 3. R T O S △
B U

✗ 4. N O S R T
△ U

Question ID : 630680214410
Option 1 ID : 630680831671
Option 2 ID : 630680831673
Option 3 ID : 630680831672
Option 4 ID : 630680831674

Status : Not Attempted and
Marked For Review
Chosen Option : --

Section : General Knowledge and General Awareness

Q.1 भारत का निम्नलिखित में से कौन-सा राज्य भूमध्य रेखा के सबसे नजदीक स्थित है?

Ans ✓ 1. तमिलनाडु

✗ 2. तेलंगाना

✗ 3. आंध्र प्रदेश

✗ 4. गोवा

Question ID : 63068090188
Option 1 ID : 630680349528
Option 2 ID : 630680349526
Option 3 ID : 630680349527
Option 4 ID : 630680349529

Status : Answered
Chosen Option : 3

Q.2 भारत की सबसे बड़ी प्रायद्वीपीय नदी कौन-सी है?

- Ans
- 1. तापी
 - 2. गोदावरी
 - 3. नर्मदा
 - 4. महानदी

Question ID : 63068090187
 Option 1 ID : 630680349525
 Option 2 ID : 630680349522
 Option 3 ID : 630680349523
 Option 4 ID : 630680349524
 Status : Not Attempted and
 Marked For Review
 Chosen Option : --

Q.3 दिल्ली के निम्नलिखित में से किस सुल्तान ने मंगोल आक्रमण पर जीत और सुरक्षा के लिए एक मजबूत और विशाल स्थायी सेना की स्थापना की?

- Ans
- 1. अलाउद्दीन खिलजी
 - 2. मुहम्मद बिन तुगलक
 - 3. जलाल-उद-दीन खिलजी
 - 4. गयासुद्दीन बलबन

Question ID : 630680214209
 Option 1 ID : 630680830885
 Option 2 ID : 630680830886
 Option 3 ID : 630680830883
 Option 4 ID : 630680830884
 Status : Answered
 Chosen Option : 1

Q.4 निम्नलिखित में से किसे कोशिका की आत्मघाती थैली कहा जाता है?

- Ans
- 1. सूत्रकणिका
 - 2. लाइसोसोम
 - 3. गॉल्जी समिश्र
 - 4. केंद्रक

Question ID : 630680209078
 Option 1 ID : 630680810530
 Option 2 ID : 630680810527
 Option 3 ID : 630680810529
 Option 4 ID : 630680810528
 Status : Answered
 Chosen Option : 3

Q.5 भाजा में कितनी शैलकलित (रॉक फट) गुफाएँ हैं?

- Ans
- 1. 16
 - 2. 30
 - 3. 22
 - 4. 34

Question ID : 630680157807
 Option 1 ID : 630680610758
 Option 2 ID : 630680610757
 Option 3 ID : 630680610759
 Option 4 ID : 630680610756
 Status : Answered
 Chosen Option : 3

9.6 गयासुद्दीन तुगलक ने तुगलक राजवंश की स्थापना कौन-सी शताब्दी में की थी?

- Ans
- 1. तेरहवीं शताब्दी
 - 2. पंद्रहवीं शताब्दी
 - 3. चौदहवीं शताब्दी
 - 4. बारहवीं शताब्दी

Question ID : 63068092826
Option 1 ID : 630680359995
Option 2 ID : 630680359997
Option 3 ID : 630680359996
Option 4 ID : 630680359998
Status : Answered
Chosen Option : 2

9.7 करक्युमिन नामक योगिक जो विभिन्न प्रकार की जैविक गतिविधियों को दर्शाता है, कहां से निकाला जा सकता है?

- Ans
- 1. टमाटर से
 - 2. अदरक के पौधा
 - 3. हल्दी के पौधे से
 - 4. चंदन के पौधे से

Question ID : 63068056781
Option 1 ID : 630680219061
Option 2 ID : 630680219059
Option 3 ID : 630680219058
Option 4 ID : 630680219060
Status : Answered
Chosen Option : 3

9.8 श्री गोविंदजी मंदिर और सेकटा टीला दिए गए राज्यों में से किस राज्य में स्थित हैं?

- Ans
- 1. मणिपुर
 - 2. त्रिपुरा
 - 3. सिक्किम
 - 4. असम

Question ID : 630680115321
Option 1 ID : 630680446636
Option 2 ID : 630680446637
Option 3 ID : 630680446634
Option 4 ID : 630680446635
Status : Answered
Chosen Option : 1

9.9 _____ को आरबीआई द्वारा सूक्ष्म वित्त क्षेत्र के लिए एक स्व-विनियामक संगठन (SRO) के रूप में मान्यताप्रदान की गई है।

- Ans
- 1. सा-धन
 - 2. सब-धन
 - 3. जन-धन
 - 4. सा-जन

Question ID : 63068054964
Option 1 ID : 630680211886
Option 2 ID : 630680211889
Option 3 ID : 630680211887
Option 4 ID : 630680211888
Status : Answered
Chosen Option : 3

9.10 जनवरी 2019 में, युवा विज्ञानी कार्यक्रम (YUVIKA) का शुभारंभ निम्नलिखित में से किस संगठन द्वारा किया गया था, जिसका उद्देश्य युवाओं को अंतरिक्ष प्रौद्योगिकी, अंतरिक्ष विज्ञान और अंतरिक्ष अनुप्रयोगों का आधारभूत ज्ञान प्रदान करना था?

- Ans
- 1. बार्क (BARC)
 - 2. इसरो (ISRO)
 - 3. सीएसआईआर (CSIR)
 - 4. आईएआरआई (IARI)

Question ID : 630680100112
 Option 1 ID : 630680389144
 Option 2 ID : 630680389145
 Option 3 ID : 630680389146
 Option 4 ID : 630680389147
 Status : Answered
 Chosen Option : 3

9.11 निम्नलिखित में से कौन-सा राजस्व व्यय का उदाहरण है?

- Ans
- 1. सार्वजनिक क्षेत्र की कंपनी में निवेश
 - 2. सरकार द्वारा जमीन की खरीद
 - 3. सरकारी परियोजना के लिए मशीनरी की खरीद
 - 4. सरकारी कर्मचारियों को वेतन भुगतान

Question ID : 630680209001
 Option 1 ID : 630680810220
 Option 2 ID : 630680810219
 Option 3 ID : 630680810222
 Option 4 ID : 630680810221
 Status : Answered
 Chosen Option : 3

9.12 सिंधु घाटी सभ्यता के किस स्थल पर विशाल धान्यागार पाया गया था?

- Ans
- 1. लोधल स्थल
 - 2. मोहनजोदड़ो स्थल
 - 3. बनावली स्थल
 - 4. कालीबंगा स्थल

Question ID : 630680133920
 Option 1 ID : 630680518610
 Option 2 ID : 630680518611
 Option 3 ID : 630680518613
 Option 4 ID : 630680518612
 Status : Answered
 Chosen Option : 2

9.13 निम्नलिखित में से कौन-सी हड़प्पा सभ्यता की एक उल्लेखनीय वास्तुशिल्प संरचना है?

- Ans
- 1. विशाल स्टेडियम
 - 2. विशाल स्नानागार
 - 3. विशाल उद्यान
 - 4. विशाल सभागार

Question ID : 63068090946
 Option 1 ID : 630680352543
 Option 2 ID : 630680352542
 Option 3 ID : 630680352544
 Option 4 ID : 630680352545
 Status : Answered
 Chosen Option : 2

Q.14 दिसंबर 2021 में, प्रधान मंत्री नरेंद्र मोदी ने _____ के दीक्षांत समारोह में ब्लॉकचेन-आधारित डिजिटल डिघी का शुभारंभ किया।

- Ans
- 1. आईआईटी बॉम्बे
 - 2. आईआईटी हैदराबाद
 - 3. आईआईटी कानपुर
 - 4. आईआईटी रुड़की

Question ID : 630680112010
Option 1 ID : 630680433768
Option 2 ID : 630680433767
Option 3 ID : 630680433766
Option 4 ID : 630680433769
Status : Answered
Chosen Option : 3

Q.15 मुहम्मद बिन तुगलक ने दिल्ली से राजधानी कहाँ स्थानांतरित की थी?

- Ans
- 1. दौलताबाद
 - 2. अहमदाबाद
 - 3. अगरा
 - 4. लाहौर

Question ID : 630680113616
Option 1 ID : 630680440001
Option 2 ID : 630680440000
Option 3 ID : 630680439999
Option 4 ID : 630680439998
Status : Answered
Chosen Option : 1

Q.16 भारतीय कैलेंडर के अनुसार, 'वसंत (स्प्रिंग)' का मौसम किन महीनों में होता है?

- Ans
- 1. चैत्र-वैशाख
 - 2. मार्गशीर्ष-पौष
 - 3. माघ-फाल्गुन
 - 4. श्रवण-भाद्र

Question ID : 63068087512
Option 1 ID : 630680339435
Option 2 ID : 630680339434
Option 3 ID : 630680339433
Option 4 ID : 630680339436
Status : Answered
Chosen Option : 3

Q.17 परिवर्ती अनुपात के नियम में, नति परिवर्तन बिंदु कहाँ होता है?

- Ans
- 1. जहाँ कुल उत्पाद बढ़ती दर से घटने लगता है
 - 2. जहाँ कुल उत्पाद बढ़ती दर से बढ़ने लगता है
 - 3. जहाँ कुल उत्पाद घटती दर से बढ़ने लगता है
 - 4. जहाँ कुल उत्पाद घटती दर से घटने लगता है

Question ID : 630680209017
Option 1 ID : 630680810283
Option 2 ID : 630680810285
Option 3 ID : 630680810286
Option 4 ID : 630680810284
Status : Answered
Chosen Option : 2

Q.18 भारत में चक्रवर्ती तूफान 'ताउते' कब आया?

- Ans
- 1. मई 2020
 - 2. मई 2021
 - 3. अप्रैल 2021
 - 4. जुलाई 2020

Question ID : 630680216300
Option 1 ID : 630680839177
Option 2 ID : 630680839175
Option 3 ID : 630680839176
Option 4 ID : 630680839178
Status : Answered
Chosen Option : 3

Q.19 स्तूप की संरचना में प्रदक्षिणा-पथ क्या है?

- Ans
- 1. प्रदक्षिणा पथ
 - 2. बालकनी जैसी संरचना
 - 3. समृद्ध नक्काशीदार प्रवेश द्वार
 - 4. अर्धवृत्ताकार टीला

Question ID : 630680213906
Option 1 ID : 630680829673
Option 2 ID : 630680829671
Option 3 ID : 630680829672
Option 4 ID : 630680829674
Status : Answered
Chosen Option : 3

Q.20 भारत के संविधान के अनुच्छेद 51A में कितने मौलिक कर्तव्यों का उल्लेख किया गया है?

- Ans
- 1. 12
 - 2. 13
 - 3. 11
 - 4. 10

Question ID : 630680132033
Option 1 ID : 630680511308
Option 2 ID : 630680511309
Option 3 ID : 630680511307
Option 4 ID : 630680511306
Status : Answered
Chosen Option : 2

Q.21 निम्नलिखित में से किसने तारीख-ए-फ़िरोज़ शाही लिखी है?

- Ans
- 1. अमीर खुसरो
 - 2. ज़ियाउद्दीन बरनी
 - 3. अल-बिरूनी
 - 4. फ़िरिश्ता

Question ID : 630680214208
Option 1 ID : 630680830881
Option 2 ID : 630680830879
Option 3 ID : 630680830880
Option 4 ID : 630680830882
Status : Not Attempted and
Marked For Review
Chosen Option : --

Q.22 कौन सा दिल्ली सुल्तान 'दूसरा सिकंदर' बनना चाहता था?

- Ans
- 1. इल्तुतमिश
 - 2. गयास-उद-दीन बलबन
 - 3. मुहम्मद तुगलक
 - 4. अलाउद्दीन खिलजी

Question ID : 63068090830
 Option 1 ID : 630680352094
 Option 2 ID : 630680352097
 Option 3 ID : 630680352096
 Option 4 ID : 630680352095
 Status : Not Attempted and
 Marked For Review
 Chosen Option : --

Q.23 दिसंबर 2021 की एमपीसी समिति की समीक्षा के बाद सीमांत स्थायी सुविधा दर क्या है?

- Ans
- 1. 4.00%
 - 2. 4.25%
 - 3. 4.50%
 - 4. 3.50%

Question ID : 63068090266
 Option 1 ID : 630680349838
 Option 2 ID : 630680349841
 Option 3 ID : 630680349839
 Option 4 ID : 630680349840
 Status : Not Attempted and
 Marked For Review
 Chosen Option : --

Q.24 विश्व का एकमात्र तैरता हुआ राष्ट्रीय उद्यान (कीबुल लामजाओ) भारत की किस झील में स्थित है?

- Ans
- 1. संगोस्तर
 - 2. उमियाम
 - 3. शिलोई
 - 4. लोकतक

Question ID : 63068087528
 Option 1 ID : 630680339499
 Option 2 ID : 630680339498
 Option 3 ID : 630680339500
 Option 4 ID : 630680339497
 Status : Answered
 Chosen Option : 3

Q.25 निम्नलिखित में से किस संविधान से भारत ने अपने संविधान में "कानून के शासन" की अवधारणा को अपनाया है?

- Ans
- 1. ब्रिटिश संविधान
 - 2. श्रीलंका के संविधान
 - 3. आयरिश संविधान
 - 4. स्पेनिश संविधान

Question ID : 630680209095
 Option 1 ID : 630680810596
 Option 2 ID : 630680810597
 Option 3 ID : 630680810595
 Option 4 ID : 630680810598
 Status : Answered
 Chosen Option : 1

Section : Elementary Mathematics

Q.1 A और B मिलकर एक काम 12 दिन में कर सकते हैं, B और C मिलकर उसे 15 दिन में कर सकते हैं, C और A मिलकर उसे 20 दिन में कर सकते हैं। A, B और C उस काम को कितने दिन में समाप्त करेंगे, यदि वे सभी एक साथ काम करते हैं?

- Ans
- 1. 20
 - 2. 5
 - 3. 30
 - 4. 10

Question ID : 630680101778
 Option 1 ID : 630680395475
 Option 2 ID : 630680395473
 Option 3 ID : 630680395474
 Option 4 ID : 630680395472
 Status : Answered
 Chosen Option : 2

Q.2 एक कार पहले घंटे में 60 km और दूसरे घंटे में 40 km की यात्रा करती है। पूरी यात्रा के लिए कार की औसत गति (km/h में) क्या है?

- Ans
- 1. 50
 - 2. 30
 - 3. 40
 - 4. 100

Question ID : 630680107370
 Option 1 ID : 630680416845
 Option 2 ID : 630680416847
 Option 3 ID : 630680416844
 Option 4 ID : 630680416846
 Status : Answered
 Chosen Option : 1

Q.3 रवि एक वस्तु को ₹1530 में बेचता है। यदि उसे 15% की हानि हुई है, तो वस्तु का क्रय मूल्य कितना है?

- Ans
- 1. Rs.1,750
 - 2. Rs.1,850
 - 3. Rs.1,700
 - 4. Rs.1,800

Question ID : 630680108582
 Option 1 ID : 630680421284
 Option 2 ID : 630680421286
 Option 3 ID : 630680421287
 Option 4 ID : 630680421285
 Status : Answered
 Chosen Option : 2

Q.4 पायल ने ऊपरी सिरे पर एक गोलाई गिराव के साथ एक बेलनाकार पक्षी स्नान करने का पात्र बनाया। वृत्ताकार आकार के शीर्ष की त्रिज्या 20 cm और बेलन की ऊंचाई 160 cm है। पक्षी स्नान पात्र का कुल पृष्ठीय क्षेत्रफल ज्ञात कीजिए।

- Ans
- 1. $3530 \pi \text{ cm}^2$
 - 2. $7200 \pi \text{ cm}^2$
 - 3. $8000 \pi \text{ cm}^2$
 - 4. $4800 \pi \text{ cm}^2$

Question ID : 63068056843
 Option 1 ID : 630680219304
 Option 2 ID : 630680219303
 Option 3 ID : 630680219305
 Option 4 ID : 630680219302
 Status : Not Attempted and
 Marked For Review
 Chosen Option : --

Q.5 एक चोर 3:00 a.m. पर एक कार चुराता है और उसे 50 km/h की चाल से चलाता है। चोर को 4:00 a.m. पर खोजा जाता है और मालिक 75 km/h की चाल से दूसरी कार से उसका पीछा करना शुरू करता है। वह चोर को किस समय पकड़ लेगा?

- Ans
- 1. 6:00 a.m.
 - 2. 5:00 a.m.
 - 3. 5:45 a.m.
 - 4. 6:00 p.m.

Question ID : 630680119773
 Option 1 ID : 630680464173
 Option 2 ID : 630680464170
 Option 3 ID : 630680464172
 Option 4 ID : 630680464171
 Status : Answered
 Chosen Option : 3

Q.6 If the surface area of the sphere is 616 cm^2 , then the radius of the sphere is equal to:

- Ans
- 1. 18.0cm
 - 2. 7.0cm
 - 3. 3.5cm
 - 4. 14.0cm

Question ID : 630680220927
 Option 1 ID : 630680857560
 Option 2 ID : 630680857558
 Option 3 ID : 630680857557
 Option 4 ID : 630680857559
 Status : Answered
 Chosen Option : 1

Q.7 A closed cylindrical tank with a height of 1 m and a base diameter of 140 cm must be constructed from a metal sheet. For the same, how many m^2 of the sheet are required? [Use $\pi = 22/7$]

- Ans
- 1. $10.56 m^2$
 - 2. $7.48 m^2$
 - 3. $9.23 m^2$
 - 4. $7 m^2$

Question ID : 63068064880
Option 1 ID : 630680250489
Option 2 ID : 630680250486
Option 3 ID : 630680250487
Option 4 ID : 630680250488
Status : Answered
Chosen Option : 1

Q.8 यदि मिश्रण में रेत और सीमेंट का अनुपात समान रहता है, और मिश्रण के 216 kg में सीमेंट की मात्रा 84 kg है, यदि मिश्रण में रेत की मात्रा 231 kg है, तो मिश्रण की मात्रा क्या होगी?

- Ans
- 1. 360 kg
 - 2. 369 kg
 - 3. 378 kg
 - 4. 396 kg

Question ID : 630680104285
Option 1 ID : 630680405355
Option 2 ID : 630680405356
Option 3 ID : 630680405357
Option 4 ID : 630680405358
Status : Answered
Chosen Option : 2

Q.9 यदि एक चादर का अंकित मूल्य इसके क्रय मूल्य से 35% अधिक है और उस पर 20% की छूट की घोषणा की जाती है, तो लाभ प्रतिशत ज्ञात करें।

- Ans
- 1. 8%
 - 2. 14%
 - 3. 12%
 - 4. 10%

Question ID : 630680104351
Option 1 ID : 630680405619
Option 2 ID : 630680405622
Option 3 ID : 630680405621
Option 4 ID : 630680405620
Status : Answered
Chosen Option : 3

Q.10 A rectangular sheet of a paper, 15 cm long and 10 cm wide, has squares of side 2 cm cut from each of its corners. The sheet is then folded to form a tray of depth 2 cm. Find the volume of this tray.

- Ans
- 1. 33 cm^3
 - 2. 136 cm^3
 - 3. 132 cm^3
 - 4. 66 cm^3

Question ID : 63068084440
 Option 1 ID : 630680327314
 Option 2 ID : 630680327312
 Option 3 ID : 630680327313
 Option 4 ID : 630680327315
 Status : Answered
 Chosen Option : 3

Q.11 रवि और सरिता के वेतन का अनुपात 3:5 है। यदि प्रत्येक के वेतन में ₹5,000 की वृद्धि की जाती है, तो नया अनुपात 29:45 हो जाता है। सरिता का वर्तमान वेतन क्या है?

- Ans
- 1. ₹24,000
 - 2. ₹30,000
 - 3. ₹45,000
 - 4. ₹40,000

Question ID : 630680106796
 Option 1 ID : 630680414802
 Option 2 ID : 630680414803
 Option 3 ID : 630680414801
 Option 4 ID : 630680414800
 Status : Answered
 Chosen Option : 3

Q.12 X और Y दो स्टेशन एक दूसरे से 390 km दूर हैं। एक ट्रेन स्टेशन X से सुबह 11 बजे (11 a.m.) शुरू होती है और स्टेशन Y की ओर 65 km/h की गति से चलती है। एक अन्य ट्रेन स्टेशन Y से दोपहर 12 (12 noon) बजे शुरू होती है और स्टेशन X की ओर 35 km/h की गति से चलती है। वे दोनों ट्रेनें किस समय मिलती हैं?

- Ans
- 1. 3:25 p.m.
 - 2. 2:15 p.m.
 - 3. 3:15 p.m.
 - 4. 4:15 p.m.

Question ID : 630680108782
 Option 1 ID : 630680422043
 Option 2 ID : 630680422040
 Option 3 ID : 630680422042
 Option 4 ID : 630680422041
 Status : Answered
 Chosen Option : 2

Q.13 पाइप A एक खाली टैंक को 6 h में और पाइप B, 8 h में भर सकता है। यदि दोनों पाइपों को एक ही समय पर खोल दिया जाता है और 2 घंटे के बाद पाइप A को बंद कर दिया जाता है, तो शेष टैंक भरने में अकेले पाइप B को कितना समय लगेगा?

- Ans
- 1. 3 h
 - 2. 4 h
 - 3. $3\frac{1}{3}$ h
 - 4. $\frac{12}{5}$ h

Question ID : 630680101792
 Option 1 ID : 630680395530
 Option 2 ID : 630680395531
 Option 3 ID : 630680395529
 Option 4 ID : 630680395528
 Status : Answered
 Chosen Option : 3

Q.14 तीन उम्मीदवारों P, Q और R ने एक चुनाव में भाग लिया। P को Q से 25% अधिक मत मिलते हैं। R को Q से 25% अधिक मत मिलते हैं। साथ ही P, R को 1250 मतों से पीछे कर देता है। यदि 80% मतदाताओं ने मतदान किया और कोई अमान्य या अवैध मत नहीं डाला गया, तो मतदान सूची में मतदाताओं की संख्या कितनी थी?

- Ans
- 1. 58,280
 - 2. 60,000
 - 3. 51,520
 - 4. 56,250

Question ID : 630680104011
 Option 1 ID : 630680404260
 Option 2 ID : 630680404262
 Option 3 ID : 630680404259
 Option 4 ID : 630680404261
 Status : Answered
 Chosen Option : 3

Q.15 दिए गए समीकरण का मान क्या होगा?

$$2^3 - 5^0 = ?$$

- Ans
- 1. 3
 - 2. 8
 - 3. 7
 - 4. 1

Question ID : 63068070706
 Option 1 ID : 630680273446
 Option 2 ID : 630680273447
 Option 3 ID : 630680273448
 Option 4 ID : 630680273449
 Status : Answered
 Chosen Option : 2

Q.16 अमृता ने साधारण ब्याज पर ₹21,300 का ऋण उतने ही वर्षों के लिए लिया, जितनी ब्याज दर थी। यदि उसने ऋण अवधि के अंत में ब्याज के रूप में ₹5,325 का भुगतान किया, तो वार्षिक ब्याज की दर प्रतिशत क्या थी?

- Ans
- 1. 4
 - 2. 2
 - 3. 5
 - 4. 3

Question ID : 630680111526
 Option 1 ID : 630680431888
 Option 2 ID : 630680431886
 Option 3 ID : 630680431889
 Option 4 ID : 630680431887
 Status : Answered
 Chosen Option : 3

Q.17 A number when divided by a divisor leaves a remainder of 25. When twice the original number is divided by the same divisor, the remainder is 13. What is the value of the divisor?

- Ans
- 1. 36
 - 2. 37
 - 3. 39
 - 4. 38

Question ID : 63068068354
 Option 1 ID : 630680264122
 Option 2 ID : 630680264123
 Option 3 ID : 630680264125
 Option 4 ID : 630680264124
 Status : Answered
 Chosen Option : 4

Q.18 किरण एक वस्तु को उसके मूल्य से 12% कम मूल्य पर खरीदता है और इसे उसके मूल्य से 12% अधिक मूल्य पर बेचता है। उसका लाभ प्रतिशत ज्ञात कीजिए।

- Ans
- 1. 23.76%
 - 2. 28.83%
 - 3. 25.55%
 - 4. 27.27%

Question ID : 630680109046
 Option 1 ID : 630680423047
 Option 2 ID : 630680423046
 Option 3 ID : 630680423044
 Option 4 ID : 630680423045
 Status : Answered
 Chosen Option : 4

Q.19 एक अर्धगोले और एक शंकु के आधार बराबर हैं। यदि उनकी ऊंचाई भी समान है, तो उनके वक्र पृष्ठीय क्षेत्रफलों के बीच क्या अनुपात है?

- Ans
- 1. $\sqrt{3} : 1$
 - 2. $\sqrt{2} : \sqrt{3}$
 - 3. $1 : \sqrt{3}$
 - 4. $\sqrt{2} : 1$

Question ID : 63068079847
 Option 1 ID : 630680309413
 Option 2 ID : 630680309416
 Option 3 ID : 630680309414
 Option 4 ID : 630680309415
 Status : Not Attempted and
 Marked For Review
 Chosen Option : --

Q.20 छह क्रमागत संख्याओं A, B, C, D, E और F का औसत 62 है। B और F का गुणनफल क्या है?

- Ans
- 1. 3002.25
 - 2. 2002.25
 - 3. 3902.25
 - 4. 2902.25

Question ID : 630680108468
 Option 1 ID : 630680420837
 Option 2 ID : 630680420839
 Option 3 ID : 630680420836
 Option 4 ID : 630680420838
 Status : Not Attempted and
 Marked For Review
 Chosen Option : --

Q.21 रवि ने 6 महीने के लिए 20% प्रति वर्ष की दर से ₹8,000 का निवेश किया। यदि ब्याज अर्धवार्षिक रूप से चक्रवृद्धि किया जाता है, तो चक्रवृद्धि ब्याज कितना है?

- Ans
- 1. Rs. 700
 - 2. Rs. 750
 - 3. Rs. 850
 - 4. Rs. 800

Question ID : 630680108589
 Option 1 ID : 630680421315
 Option 2 ID : 630680421314
 Option 3 ID : 630680421312
 Option 4 ID : 630680421313
 Status : Answered
 Chosen Option : 4

Q.22 32, 18, 95, 52 और 86 संख्याओं का औसत ज्ञात कीजिए।

- Ans
- 1. 57.5
 - 2. 65.2
 - 3. 63.5
 - 4. 56.6

Question ID : 630680108760
 Option 1 ID : 630680421952
 Option 2 ID : 630680421955
 Option 3 ID : 630680421954
 Option 4 ID : 630680421953
 Status : Answered
 Chosen Option : 4

Q.23 3 या 5 से विभाज्य तीन अंकों वाली संख्याओं की कुल संख्या _____ है।

- Ans
- 1. 440
 - 2. 300
 - 3. 100
 - 4. 420

Question ID : 63068068353
 Option 1 ID : 630680264118
 Option 2 ID : 630680264119
 Option 3 ID : 630680264120
 Option 4 ID : 630680264121
 Status : Answered
 Chosen Option : 2

Q.24 मीना और सीनू के बीच Rs.20,000 इस प्रकार से वितरित किए जाने हैं ताकि सीनू को मीना से Rs.4,000 कम मिले। मीना द्वारा प्राप्त की गयी धनराशि और सीनू द्वारा प्राप्त की गयी धनराशि का अनुपात _____ है।

- Ans
- 1. 5 : 3
 - 2. 5 : 2
 - 3. 3 : 5
 - 4. 3 : 2

Question ID : 630680107286
 Option 1 ID : 630680416528
 Option 2 ID : 630680416530
 Option 3 ID : 630680416531
 Option 4 ID : 630680416529
 Status : Answered
 Chosen Option : 1

Q.25 दो उम्मीदवारों द्वारा लड़े गए चुनाव में, एक उम्मीदवार को डाले गए कुल मतों का 40% प्राप्त हुआ और वह 1000 मतों से हार गया। डाले गए मतों की कुल संख्या ज्ञात कीजिए।

- Ans
- 1. 7000
 - 2. 5000
 - 3. 1000
 - 4. 3000

Question ID : 630680108764
 Option 1 ID : 630680421971
 Option 2 ID : 630680421970
 Option 3 ID : 630680421968
 Option 4 ID : 630680421969
 Status : Answered
 Chosen Option : 2

Section : English

Q.1 The following sentence has been split into four segments. Identify the segment that contains a grammatical error.

Rupa does not / want to go to the / movies hence she / hates the smell of buttered popcorn.

- Ans
- 1. Rupa does not
 - 2. want to go to the
 - 3. hates the smell of buttered popcorn
 - 4. movies hence she

Question ID : 63068067402
Option 1 ID : 630680260430
Option 2 ID : 630680260431
Option 3 ID : 630680260433
Option 4 ID : 630680260432
Status : Not Answered
Chosen Option : --

Q.2 Select the most appropriate synonym of the underlined word.

Sita practices a lot as she knows that handwork is needed to achieve her goal.

- Ans
- 1. Make
 - 2. Attain
 - 3. Get
 - 4. Prepare

Question ID : 630680104672
Option 1 ID : 630680406835
Option 2 ID : 630680406838
Option 3 ID : 630680406837
Option 4 ID : 630680406836
Status : Not Answered
Chosen Option : --

Q.3 Select the option that can be used as a one-word substitute for the given group of words.

A collection of wild animals kept in captivity for exhibition

- Ans
- 1. Hippodrome
 - 2. Abattoir
 - 3. Infirmary
 - 4. Menagerie

Question ID : 630680115467
Option 1 ID : 630680447220
Option 2 ID : 630680447221
Option 3 ID : 630680447218
Option 4 ID : 630680447219
Status : Not Answered
Chosen Option : --

Q.4 Sentences of a paragraph are given below in jumbled order. Arrange the sentences in the correct order to form a meaningful and coherent paragraph.
A. Major research has shown that these problems have sprung from unwillingness of people.
B. These people were intolerant of other people's thought and beliefs.
C. Science has influenced human civilisation in a lot of ways.
D. Its major impact is the unveiling of misery of human history.

- Ans
- 1. DBAC
 - 2. BACD
 - 3. ABDC
 - 4. CDAB

Question ID : 630680204340
Option 1 ID : 630680792443
Option 2 ID : 630680792445
Option 3 ID : 630680792444
Option 4 ID : 630680792446
Status : Not Answered
Chosen Option : --

Q.5 Select the most appropriate ANTONYM of the given word.

Copy

- Ans
- 1. Cliché
 - 2. Original
 - 3. Photo
 - 4. Reference

Question ID : 630680129562
Option 1 ID : 630680501866
Option 2 ID : 630680501869
Option 3 ID : 630680501868
Option 4 ID : 630680501867
Status : Not Answered
Chosen Option : --

Q.6 Select the most appropriate option that can substitute the underlined segment in the given sentence.

These sanguine expectations were not fully realised.

- Ans
- 1. optimistic
 - 2. doubtful
 - 3. dubious
 - 4. pessimistic

Question ID : 630680119680
Option 1 ID : 630680463805
Option 2 ID : 630680463803
Option 3 ID : 630680463804
Option 4 ID : 630680463802
Status : Not Answered
Chosen Option : --

Q.7 Sentences of a paragraph are given below in jumbled order. Arrange the sentences in the correct order to form a meaningful and coherent paragraph.
 A. England wanted a share of the wealth that Spain had been taking from the lands it had claimed in the Americas.
 B. Conflict had existed between Spain and England since the 1570s.
 C. Elizabeth I, Queen of England, encouraged her staunch admiral of the navy, Sir Francis Drake, to raid Spanish ships and towns.
 D. Though these raids were on a small scale, Drake achieved dramatic success, adding gold and silver to England's treasury and diminishing Spain's supremacy.

- Ans
- 1. ADCB
 - 2. BDAC
 - 3. BACD
 - 4. CDAB

Question ID : 630680204361
 Option 1 ID : 630680792529
 Option 2 ID : 630680792528
 Option 3 ID : 630680792530
 Option 4 ID : 630680792527
 Status : Not Answered
 Chosen Option : --

Q.8 Select the most appropriate option to fill in the blank in the given sentence.
 People in the olden days believed that the Earth was _____.

- Ans
- 1. stationeiry
 - 2. stationary
 - 3. stationery
 - 4. stationiry

Question ID : 630680118358
 Option 1 ID : 630680458567
 Option 2 ID : 630680458569
 Option 3 ID : 630680458568
 Option 4 ID : 630680458566
 Status : Not Answered
 Chosen Option : --

Q.9 Select the INCORRECTLY spelt word.

- Ans
- 1. Deceive
 - 2. Dignify
 - 3. Receive
 - 4. Amplifi

Question ID : 630680123956
 Option 1 ID : 630680480683
 Option 2 ID : 630680480685
 Option 3 ID : 630680480682
 Option 4 ID : 630680480684
 Status : Not Answered
 Chosen Option : --

Q.10 Select the option that can be used as a one-word substitute for the given group of words.
Feeling of unhappiness

- Ans
- 1. Melancholy
 - 2. Estrangement
 - 3. Atrocity
 - 4. Alienation

Question ID : 630680162047
Option 1 ID : 630680627497
Option 2 ID : 630680627499
Option 3 ID : 630680627496
Option 4 ID : 630680627498
Status : Not Answered
Chosen Option : --

Q.11 Select the most appropriate synonym of the underlined word.

The best that the paparazzi had managed to get was a smudgy silhouette about to board a jet.

- Ans
- 1. mugshot
 - 2. selfie
 - 3. autograph
 - 4. profile

Question ID : 63068069055
Option 1 ID : 630680266912
Option 2 ID : 630680266910
Option 3 ID : 630680266913
Option 4 ID : 630680266911
Status : Not Answered
Chosen Option : --

Q.12 Sentences of a paragraph are given below in jumbled order. Arrange the sentences in the correct order to form a meaningful and coherent paragraph.

- A. Life is not a bed of roses but of thorns.
- B. These need to be overcome to get success in life.
- C. One should be brave at heart to achieve fame and honour in life.
- D. It is full of dangers and difficulties.

- Ans
- 1. DCBA
 - 2. CDAB
 - 3. ADBC
 - 4. BCDA

Question ID : 630680204344
Option 1 ID : 630680792462
Option 2 ID : 630680792461
Option 3 ID : 630680792459
Option 4 ID : 630680792460
Status : Not Answered
Chosen Option : --

Q.13 Sentences of a paragraph are given below in jumbled order. Arrange the sentences in the correct order to form a meaningful and coherent paragraph.
A. Biophobia is a growing phenomenon that seems to be increasing with urban development.
B. This means that growing biophobic could hurt wild ecosystems as well.
C. Existing research already suggests that people who are biophobic are less likely to support conservation efforts.
D. It is being reinforced and proliferated through society, which can have harmful consequences for people's physical and mental health.

Ans ✓ 1. ADCB

✗ 2. CDBA

✗ 3. DABC

✗ 4. ABCD

Question ID : 630680204321
Option 1 ID : 630680792369
Option 2 ID : 630680792368
Option 3 ID : 630680792370
Option 4 ID : 630680792367
Status : Not Answered
Chosen Option : --

Q.14 Select the INCORRECTLY spelt word.

Ans ✗ 1. Immortal

✓ 2. Immediately

✗ 3. Immense

✗ 4. Immorality

Question ID : 630680126300
Option 1 ID : 630680489808
Option 2 ID : 630680489807
Option 3 ID : 630680489806
Option 4 ID : 630680489809
Status : Not Answered
Chosen Option : --

Q.15 Select the INCORRECTLY spelt word.

Ans ✓ 1. Analogy

✗ 2. Amateur

✗ 3. Alimony

✗ 4. Atrocity

Question ID : 630680124908
Option 1 ID : 630680484440
Option 2 ID : 630680484441
Option 3 ID : 630680484438
Option 4 ID : 630680484439
Status : Not Answered
Chosen Option : --

Q.16 Select the Most appropriate option that can substitute the underlined segment in the given sentence.

The inexorable truth is that Shelley is going to die within six months because she has cancer.

- Ans
- 1. consoling
 - 2. merciless
 - 3. impending
 - 4. gruesome

Question ID : 630680119681
Option 1 ID : 630680463809
Option 2 ID : 630680463808
Option 3 ID : 630680463807
Option 4 ID : 630680463806
Status : Not Answered
Chosen Option : --

Q.17 Select the Most appropriate pronoun to fill in the blank.

The computer programmer _____ skills are world renowned will be the chief guest of the online show.

- Ans
- 1. whom
 - 2. his
 - 3. who
 - 4. whose

Question ID : 63068060850
Option 1 ID : 630680234852
Option 2 ID : 630680234853
Option 3 ID : 630680234850
Option 4 ID : 630680234851
Status : Not Answered
Chosen Option : --

Q.18 Select the option that can be used as a one-word substitute for the given phrase.
'A person who practises calligraphy, the art of writing beautifully with a special pen or brush'

- Ans
- 1. Topographer
 - 2. Calligrapher
 - 3. Cartographer
 - 4. Choreographer

Question ID : 630680212280
Option 1 ID : 630680823263
Option 2 ID : 630680823266
Option 3 ID : 630680823265
Option 4 ID : 630680823264
Status : Not Answered
Chosen Option : --

Q.19 Select the most appropriate synonym of the underlined word in the given sentence.
Simi could barely carry the pail of water as it was very heavy.

- Ans
- 1. Bucket
 - 2. Bowl
 - 3. Cannister
 - 4. Glass

Question ID : 630680158484
Option 1 ID : 630680613463
Option 2 ID : 630680613460
Option 3 ID : 630680613462
Option 4 ID : 630680613461
Status : Not Answered
Chosen Option : --

Q.20 Select the option that can be used as a one-word substitute for the underlined group of words.

The chief engineer's excessive concern with minor details or rules is delaying the project quite a bit.

- Ans
- 1. Orthodox
 - 2. Sanguine
 - 3. Pedantic
 - 4. Herculean

Question ID : 630680115468
Option 1 ID : 630680447222
Option 2 ID : 630680447223
Option 3 ID : 630680447224
Option 4 ID : 630680447225
Status : Not Answered
Chosen Option : --

Comprehension:

Read the given passage and answer the questions that follow.

The rock-cut caves of Ajanta are world famous for their murals that demonstrate the degree of skill and artistry that Indian craftsmen had achieved several hundred years ago. The site of the caves, situated at a distance of 107 kilometres north of Aurangabad, is an important tourist destination in the world. These caves are excavated in a horse-shoe shaped bend of rock surface almost 76 metres in height, overlooking a narrow stream known as Waghora. The site of this valley once provided a calm and serene environment for the Buddhist monks who retreated there during the rainy season. The site consists of many excavations. A total of thirty excavations were hewn out of rock, including an unfinished one. Many of the caves can be dated to the pre-Christian era, the earliest among them being from the second century BC. It is understood that the art was financed by royal patronage of that time. Professional artists carried out much of the work and each contributed his own individual skill and devotion to this monumental work. The stupa formed the object of worship here and these caves exhibit the imitation of wooden construction to the extent that the rafters and beams are also sculpted, even though they are non-functional. New excavations were made again during the period of Vakatakas, the contemporaries of the imperial Guptas. The caves were made to be excavated by royal benefaction and the feudatories under the Vakatakas, as illustrated by the inscriptions found in the caves. The boom in activities at Ajanta was between the mid-fifth century AD to the mid-sixth century AD. However, Hieun Tsang, the famous Chinese traveller who visited India during the first half of the seventh century AD, has left a vivid and graphic description of the flourishing Buddhist establishments here, even though he did not visit the caves. A solitary Rashtrakuta inscription in one of the caves indicates its use during the eighth-ninth centuries AD. The world-famous paintings at Ajanta can be classified into two broad phases. The first phase is noticed in the form of fragmentary specimens which can be dated to the second century BC. The headgear and the other ornaments of the images of these paintings resemble the bas-relief sculpture of Sanchi and Bharhut. The second phase of paintings started around the fifth-sixth centuries AD, and continued for the next two centuries. The main theme of the paintings centre around Jataka stories, different incidents associated with the life of Buddha, and also contemporary events and social life.

Subquestion No : 21

Q.21 Which of the following statements is NOT true according to the passage?

- Ans
- 1. Ajanta paintings can be broadly divided into two phases
 - 2. The Stupa was the object of worship.
 - 3. The theme of first phase of paintings centres around Jataka Stories.
 - 4. Vakatakas were contemporaries of the imperial Guptas

Question ID : 630680133621
Option 1 ID : 630680517426
Option 2 ID : 630680517428
Option 3 ID : 630680517427
Option 4 ID : 630680517429
Status : Not Answered
Chosen Option : --

Comprehension:

Read the given passage and answer the questions that follow.

The rock-cut caves of Ajanta are world famous for their murals that demonstrate the degree of skill and artistry that Indian craftsmen had achieved several hundred years ago. The site of the caves, situated at a distance of 107 kilometres north of Aurangabad, is an important tourist destination in the world. These caves are excavated in a horse-shoe shaped bend of rock surface almost 76 metres in height, overlooking a narrow stream known as Waghora. The site of this valley once provided a calm and serene environment for the Buddhist monks who retreated there during the rainy season. The site consists of many excavations. A total of thirty excavations were hewn out of rock, including an unfinished one. Many of the caves can be dated to the pre-Christian era, the earliest among them being from the second century BC. It is understood that the art was financed by royal patronage of that time. Professional artists carried out much of the work and each contributed his own individual skill and devotion to this monumental work. The stupa formed the object of worship here and these caves exhibit the imitation of wooden construction to the extent that the rafters and beams are also sculpted, even though they are non-functional. New excavations were made again during the period of Vakatakas, the contemporaries of the imperial Guptas. The caves were made to be excavated by royal benefaction and the feudatories under the Vakatakas, as illustrated by the inscriptions found in the caves. The boom in activities at Ajanta was between the mid-fifth century AD to the mid-sixth century AD. However, Hieun Tsang, the famous Chinese traveller who visited India during the first half of the seventh century AD, has left a vivid and graphic description of the flourishing Buddhist establishments here, even though he did not visit the caves. A solitary Rashtrakuta inscription in one of the caves indicates its use during the eighth-ninth centuries AD. The world-famous paintings at Ajanta can be classified into two broad phases. The first phase is noticed in the form of fragmentary specimens which can be dated to the second century BC. The headgear and the other ornaments of the images of these paintings resemble the bas-relief sculpture of Sanchi and Bharhut. The second phase of paintings started around the fifth-sixth centuries AD, and continued for the next two centuries. The main theme of the paintings centre around Jataka stories, different incidents associated with the life of Buddha, and also contemporary events and social life.

Subquestion No : 22

Q.22 The boom in activities at Ajanta came:

- Ans
- 1. in the eighth-ninth century AD
 - 2. between the mid-fifth century AD to the mid sixth century AD
 - 3. in the period when Hieun Tsang visited India
 - 4. in the second century BC

Question ID : 630680133617
Option 1 ID : 630680517412
Option 2 ID : 630680517411
Option 3 ID : 630680517410
Option 4 ID : 630680517413
Status : Not Answered
Chosen Option : --

Comprehension:

Read the given passage and answer the questions that follow.

The rock-cut caves of Ajanta are world famous for their murals that demonstrate the degree of skill and artistry that Indian craftsmen had achieved several hundred years ago. The site of the caves, situated at a distance of 107 kilometres north of Aurangabad, is an important tourist destination in the world. These caves are excavated in a horse-shoe shaped bend of rock surface almost 76 metres in height, overlooking a narrow stream known as Waghora. The site of this valley once provided a calm and serene environment for the Buddhist monks who retreated there during the rainy season. The site consists of many excavations. A total of thirty excavations were hewn out of rock, including an unfinished one. Many of the caves can be dated to the pre-Christian era, the earliest among them being from the second century BC. It is understood that the art was financed by royal patronage of that time. Professional artists carried out much of the work and each contributed his own individual skill and devotion to this monumental work. The stupa formed the object of worship here and these caves exhibit the imitation of wooden construction to the extent that the rafters and beams are also sculpted, even though they are non-functional. New excavations were made again during the period of Vakatakas, the contemporaries of the imperial Guptas. The caves were made to be excavated by royal benefaction and the feudatories under the Vakatakas, as illustrated by the inscriptions found in the caves. The boom in activities at Ajanta was between the mid-fifth century AD to the mid-sixth century AD. However, Hieun Tsang, the famous Chinese traveller who visited India during the first half of the seventh century AD, has left a vivid and graphic description of the flourishing Buddhist establishments here, even though he did not visit the caves. A solitary Rashtrakuta inscription in one of the caves indicates its use during the eighth-ninth centuries AD. The world-famous paintings at Ajanta can be classified into two broad phases. The first phase is noticed in the form of fragmentary specimens which can be dated to the second century BC. The headgear and the other ornaments of the images of these paintings resemble the bas-relief sculpture of Sanchi and Bharhut. The second phase of paintings started around the fifth-sixth centuries AD, and continued for the next two centuries. The main theme of the paintings centre around Jataka stories, different incidents associated with the life of Buddha, and also contemporary events and social life.

SubQuestion No : 23

Q.23 Select an appropriate title for the passage

- Ans
- 1. Ajanta Caves: Modern art vs Ancient Art
 - 2. Ajanta Caves: Deterioration and Preservation
 - 3. Ajanta Caves: A Journey through Time
 - 4. Ajanta Caves: Merits and Demerits

Question ID : 630680133620
Option 1 ID : 630680517423
Option 2 ID : 630680517424
Option 3 ID : 630680517422
Option 4 ID : 630680517425
Status : Not Answered
Chosen Option : --

Comprehension:

Read the given passage and answer the questions that follow.

The rock-cut caves of Ajanta are world famous for their murals that demonstrate the degree of skill and artistry that Indian craftsmen had achieved several hundred years ago. The site of the caves, situated at a distance of 107 kilometres north of Aurangabad, is an important tourist destination in the world. These caves are excavated in a horse-shoe shaped bend of rock surface almost 76 metres in height, overlooking a narrow stream known as Waghora. The site of this valley once provided a calm and serene environment for the Buddhist monks who retreated there during the rainy season. The site consists of many excavations. A total of thirty excavations were hewn out of rock, including an unfinished one. Many of the caves can be dated to the pre-Christian era, the earliest among them being from the second century BC. It is understood that the art was financed by royal patronage of that time. Professional artists carried out much of the work and each contributed his own individual skill and devotion to this monumental work. The stupa formed the object of worship here and these caves exhibit the imitation of wooden construction to the extent that the rafters and beams are also sculpted, even though they are non-functional. New excavations were made again during the period of Vakatakas, the contemporaries of the imperial Guptas. The caves were made to be excavated by royal benefaction and the feudatories under the Vakatakas, as illustrated by the inscriptions found in the caves. The boom in activities at Ajanta was between the mid-fifth century AD to the mid-sixth century AD. However, Hieun Tsang, the famous Chinese traveller who visited India during the first half of the seventh century AD, has left a vivid and graphic description of the flourishing Buddhist establishments here, even though he did not visit the caves. A solitary Rashtrakuta inscription in one of the caves indicates its use during the eighth-ninth centuries AD. The world-famous paintings at Ajanta can be classified into two broad phases. The first phase is noticed in the form of fragmentary specimens which can be dated to the second century BC. The headgear and the other ornaments of the images of these paintings resemble the bas-relief sculpture of Sanchi and Bharhut. The second phase of paintings started around the fifth-sixth centuries AD, and continued for the next two centuries. The main theme of the paintings centre around Jataka stories, different incidents associated with the life of Buddha, and also contemporary events and social life.

Subquestion No : 24

Q.24 The meaning of 'murals' is:

- Ans
- 1. a piece of artwork created using curved and diagonal lines
 - 2. a piece of artwork painted or applied directly on a wall
 - 3. a piece of artwork made using stones and sand
 - 4. a piece of artwork related to religious themes

Question ID : 630680133619
Option 1 ID : 630680517419
Option 2 ID : 630680517418
Option 3 ID : 630680517421
Option 4 ID : 630680517420
Status : Not Answered
Chosen Option : --

Comprehension:

Read the given passage and answer the questions that follow.

The rock-cut caves of Ajanta are world famous for their murals that demonstrate the degree of skill and artistry that Indian craftsmen had achieved several hundred years ago. The site of the caves, situated at a distance of 107 kilometres north of Aurangabad, is an important tourist destination in the world. These caves are excavated in a horse-shoe shaped bend of rock surface almost 76 metres in height, overlooking a narrow stream known as Waghora. The site of this valley once provided a calm and serene environment for the Buddhist monks who retreated there during the rainy season. The site consists of many excavations. A total of thirty excavations were hewn out of rock, including an unfinished one. Many of the caves can be dated to the pre-Christian era, the earliest among them being from the second century BC. It is understood that the art was financed by royal patronage of that time. Professional artists carried out much of the work and each contributed his own individual skill and devotion to this monumental work. The stupa formed the object of worship here and these caves exhibit the imitation of wooden construction to the extent that the rafters and beams are also sculpted, even though they are non-functional. New excavations were made again during the period of Vakatakas, the contemporaries of the imperial Guptas. The caves were made to be excavated by royal benefaction and the feudatories under the Vakatakas, as illustrated by the inscriptions found in the caves. The boom in activities at Ajanta was between the mid-fifth century AD to the mid-sixth century AD. However, Hieun Tsang, the famous Chinese traveller who visited India during the first half of the seventh century AD, has left a vivid and graphic description of the flourishing Buddhist establishments here, even though he did not visit the caves. A solitary Rashtrakuta inscription in one of the caves indicates its use during the eighth-ninth centuries AD. The world-famous paintings at Ajanta can be classified into two broad phases. The first phase is noticed in the form of fragmentary specimens which can be dated to the second century BC. The headgear and the other ornaments of the images of these paintings resemble the bas-relief sculpture of Sanchi and Bharhut. The second phase of paintings started around the fifth-sixth centuries AD, and continued for the next two centuries. The main theme of the paintings centre around Jataka stories, different incidents associated with the life of Buddha, and also contemporary events and social life.

Subquestion No : 25

Q.25 Select the most appropriate ANTONYM of the given word.
Imitation

- Ans
- 1. Resemblance
 - 2. Replication
 - 3. Original
 - 4. Substitution

Question ID : 630680133618
Option 1 ID : 630680517416
Option 2 ID : 630680517414
Option 3 ID : 630680517417
Option 4 ID : 630680517415
Status : Not Answered
Chosen Option : --

Section : Hindi

Q.1 'संदिग्ध' का पर्यायवाची शब्द निम्न में से है-

- Ans
- 1. बाध्यकर
 - 2. भर्त्सक
 - 3. भर्त्सन
 - 4. भ्रामक

Question ID : 630680126202
Option 1 ID : 630680489415
Option 2 ID : 630680489417
Option 3 ID : 630680489414
Option 4 ID : 630680489416
Status : Answered
Chosen Option : 4

9.2 'कोयले की दलाली में मुँह काला' लोकोक्ति का अर्थ है-

- Ans
- 1. अत्यधिक हानि होना
 - 2. बुरे काम में पड़ने का नतीजा बदनामी
 - 3. किसी की नकल करके नुकसान उठाना
 - 4. उम्मीद से कम लाभ होना

Question ID : 630680203736
 Option 1 ID : 630680790144
 Option 2 ID : 630680790145
 Option 3 ID : 630680790146
 Option 4 ID : 630680790143
 Status : Answered
 Chosen Option : 2

9.3 निम्नलिखित में से एक शब्द-युग्म द्विगु समास का नहीं है ?

- Ans
- 1. इकत्री-अठत्री
 - 2. चवत्री-त्रिफला
 - 3. मझधार-नीलगाय
 - 4. दुलत्ती-दुधारी

Question ID : 63068064632
 Option 1 ID : 630680249496
 Option 2 ID : 630680249494
 Option 3 ID : 630680249497
 Option 4 ID : 630680249495
 Status : Answered
 Chosen Option : 3

9.4 निम्न विकल्पों में से 'निश्चल' शब्द का सही संधि विच्छेद अंकित कीजिए।

- Ans
- 1. नीः+चाल
 - 2. निः+चाल
 - 3. नीः+चल
 - 4. निः+चल

Question ID : 63068065886
 Option 1 ID : 630680254476
 Option 2 ID : 630680254475
 Option 3 ID : 630680254474
 Option 4 ID : 630680254477
 Status : Answered
 Chosen Option : 4

9.5 '(i) मेरे ये मित्र यहाँ किसी काम से आए हैं./ (ii) उनके ठहरने की/ (iii) कोई व्यवस्था कर दें' वाक्य के जिस खंड में त्रुटि है उसका विकल्प चुनिए अन्यथा 'कोई त्रुटि नहीं' विकल्प चुनिए-

- Ans
- 1. कोई त्रुटि नहीं
 - 2. iii
 - 3. i
 - 4. ii

Question ID : 63068065363
 Option 1 ID : 630680252409
 Option 2 ID : 630680252408
 Option 3 ID : 630680252406
 Option 4 ID : 630680252407
 Status : Answered
 Chosen Option : 3

9.6 'क्या _____ के खाने से शरीर में फास्फोरस की कमी पूरी हो जाती है' निम्नलिखित वाक्य के रिक्त स्थान में कौन सा उचित तद्भव शब्द प्रयोग होगा?

- Ans
- 1. मछली
 - 2. प्रक्षण
 - 3. मधुक
 - 4. मत्स्य

Question ID : 630680197092
Option 1 ID : 630680764651
Option 2 ID : 630680764654
Option 3 ID : 630680764653
Option 4 ID : 630680764652
Status : Answered
Chosen Option : 1

9.7 'दुर्निवार्य' शब्द के लिए अनेक शब्दों का वाक्यखंड बताइए।

- Ans
- 1. जो कठिनाई से प्राप्त हो
 - 2. जो बुरे रास्ते पर चलता हो
 - 3. जिसका निवारण करना कठिन है
 - 4. जिसका कोई शत्रु न हो

Question ID : 630680198535
Option 1 ID : 630680770101
Option 2 ID : 630680770100
Option 3 ID : 630680770102
Option 4 ID : 630680770099
Status : Not Attempted and
Marked For Review
Chosen Option : --

9.8 सर्वनाम की दृष्टि से अशुद्ध वाक्य है-

- Ans
- 1. हम खा रहा हूँ।
 - 2. उस थैले में कुछ अवश्य है।
 - 3. बाहर कौन खड़ा है?
 - 4. यह घड़ी खराब है।

Question ID : 63068064504
Option 1 ID : 630680248993
Option 2 ID : 630680248990
Option 3 ID : 630680248992
Option 4 ID : 630680248991
Status : Answered
Chosen Option : 1

9.9 उचित तद्भव शब्द का चयन कर निम्नलिखित वाक्य को पूर्ण करें।
प्रापण का तद्भव होगा _____

- Ans
- 1. पाना
 - 2. प्राण
 - 3. पानी
 - 4. पापड़

Question ID : 630680197175
Option 1 ID : 630680764984
Option 2 ID : 630680764986
Option 3 ID : 630680764983
Option 4 ID : 630680764985
Status : Answered
Chosen Option : 1

9.10 निम्नलिखित विकल्पों में से कौनसा विकल्प 'पुष्प' का पर्यायवाची शब्द नहीं है।

- Ans
- 1. फूल
 - 2. सुमन
 - 3. कुसुम
 - 4. रमेश

Question ID : 630680128851
Option 1 ID : 630680499038
Option 2 ID : 630680499040
Option 3 ID : 630680499039
Option 4 ID : 630680499041
Status : Answered
Chosen Option : 4

9.11 सूरज ने श्याम से कहा कि मैं सूरज बीमार है। दिये गए वाक्य में कौनसा/ कौनसे शब्द में असंगतता पहचानिए?

- Ans
- 1. कहा कि
 - 2. श्याम
 - 3. सूरज
 - 4. मैं सूरज

Question ID : 63068056098
Option 1 ID : 630680216385
Option 2 ID : 630680216384
Option 3 ID : 630680216382
Option 4 ID : 630680216383
Status : Answered
Chosen Option : 4

9.12 निम्नलिखित में से एक कौन सा वाक्य शुद्ध है?

- Ans
- 1. यथाशीघ्र-जितना शीघ्र हो में समाहार द्वंद्व समास है।
 - 2. प्रतिदिन-एक-एक दिन में द्वंद्व समास है।
 - 3. गाय-भैंस, गाय-भैंस वगैरह में समाहार द्वंद्व समास है।
 - 4. यथार्थ-अर्थ के अनुसार में द्वंद्व समास है।

Question ID : 63068064635
Option 1 ID : 630680249508
Option 2 ID : 630680249509
Option 3 ID : 630680249506
Option 4 ID : 630680249507
Status : Not Attempted and
Marked For Review
Chosen Option : --

9.13 निम्नलिखित में से उचित पर्यायवाची हैं -

- Ans
- 1. सहेली - वामा
 - 2. अरण्य - अटवी
 - 3. अचिर - अचर
 - 4. नीरद - नीरज

Question ID : 630680128901
Option 1 ID : 630680499236
Option 2 ID : 630680499237
Option 3 ID : 630680499235
Option 4 ID : 630680499234
Status : Answered
Chosen Option : 4

Q.14 दिए गए शब्द का उपयुक्त पर्यायवाची शब्द चुनिए-

अकिंचन

- Ans
- 1. आलसी
 - 2. गरीब
 - 3. कृषक
 - 4. ऋणी

Question ID : 630680128714
 Option 1 ID : 630680498494
 Option 2 ID : 630680498496
 Option 3 ID : 630680498497
 Option 4 ID : 630680498495
 Status : Answered
 Chosen Option : 1

Q.15 निम्नलिखित विकल्पों को ध्यानपूर्वक देखें और बताएं कि कौनसा विकल्प 'मूल' शब्द का अर्थ प्रस्तुत नहीं करता।

- Ans
- 1. नीच
 - 2. जड़
 - 3. पत्ता
 - 4. पूँजी

Question ID : 630680197199
 Option 1 ID : 630680765080
 Option 2 ID : 630680765082
 Option 3 ID : 630680765079
 Option 4 ID : 630680765081
 Status : Answered
 Chosen Option : 3

Q.16 मनीष के परिवार में माँस आरम्भ से ही नहीं खाया जाता है। वाक्य के लिए उपयुक्त शब्द है।

- Ans
- 1. सामिश भोजी
 - 2. शाकाहारी
 - 3. मांसाहारी
 - 4. अल्पहारी

Question ID : 630680126264
 Option 1 ID : 630680489664
 Option 2 ID : 630680489662
 Option 3 ID : 630680489663
 Option 4 ID : 630680489665
 Status : Answered
 Chosen Option : 2

Q.17 'गत्यंतर' शब्द का सर्वाधिक उपयुक्त संधि-विच्छेद है-

- Ans
- 1. गति+अंतर
 - 2. गत्य+अंतर
 - 3. गत+यंतर
 - 4. गत्+अंतर

Question ID : 630680123429
 Option 1 ID : 630680478598
 Option 2 ID : 630680478599
 Option 3 ID : 630680478601
 Option 4 ID : 630680478600
 Status : Answered
 Chosen Option : 4

Q.18 दिए गए शब्द का उपयुक्त पर्यायवाची शब्द चुनिए-

गिरिधर

- Ans
- 1. मनोज
 - 2. नंद
 - 3. गोविंद
 - 4. आनंद

Question ID : 630680128715
 Option 1 ID : 630680498500
 Option 2 ID : 630680498499
 Option 3 ID : 630680498501
 Option 4 ID : 630680498498
 Status : Answered
 Chosen Option : 4

Q.19 निम्न में से किस विकल्प में लोकोक्ति और उसका अर्थ सुमेलित है

- Ans
- 1. आटे के साथ घुन भी पिसता है - दोषियों को दण्ड अवश्य मिलता है।
 - 2. उल्टा चोर कोतवाल को डोंट - पुलिस का डर समाप्त हो जाना।
 - 3. ऊँची दुकान फीका पकवान - केवल बाहरी दिखावा।
 - 4. आम के आम गुठलियों के दाम - बेईमानी से ज्यादा पैसे बनाना।

Question ID : 630680197139
 Option 1 ID : 630680764839
 Option 2 ID : 630680764841
 Option 3 ID : 630680764842
 Option 4 ID : 630680764840
 Status : Not Attempted and
 Marked For Review
 Chosen Option : --

Q.20 निम्नलिखित वाक्यांश के लिए सार्थक शब्द का चयन करें।

जिसे भेदा न जा सके।

- Ans
- 1. अमर
 - 2. अभेदा
 - 3. भेदा
 - 4. अपरिमेय

Question ID : 630680128825
 Option 1 ID : 630680498934
 Option 2 ID : 630680498936
 Option 3 ID : 630680498937
 Option 4 ID : 630680498935
 Status : Answered
 Chosen Option : 4

Comprehension:

निम्नलिखित गद्यांश को ध्यानपूर्वक पढ़ें और प्रश्न के उत्तर दीजिये:

हाल के वर्षों में आतंकवाद अंतरराष्ट्रीय स्तर पर एक भयंकर चुनौती के रूप में उभरा है। वह विश्व क्षितिज पर प्रलयकारी बादलों की भीति छाया हुआ है और प्रतिपल मानव के लिए संकट का कारण बना हुआ है। न जाने कहीं और किसके ऊपर उसका वज्रपात हो जाए और विनाशलीला प्रकट हो जाए। इसके कारण मानव हर क्षण संश्रुत है। वह केवल मूकदर्शक बना हुआ है। आतंकवाद और मानव मूल्यों की बात की जाए तो दोनों ही संपूर्ण रूप से परस्पर विपरीत हैं। आतंकवाद वास्तव में अतिवाद का दुष्परिणाम है। आज के भौतिकवादी युग में आतंकवाद की काली छाया बहुत तेजी से बढ़ रही है। इसके कारण मनुष्य में असंतोष की भावना उत्पन्न हो रही है। इस असंतोष की अभिव्यक्ति के अनेक माध्यम हैं। यह असंतोष, क्रुद्ध युवा पीढ़ी में बुरी तरह फैल रहा है। राजनीतिक स्वार्थपरता की पूर्ति के लिए आतंकवाद आज एक अमोघ अस्त्र बन गया है। हत्या, लूट, बलात्कार, अपहरण आदि इसके सामान्य रूप हैं। अपनी बात मनवाने के लिए आतंक उत्पन्न करने की पद्धति एक सामान्य प्रक्रिया बन गई है। जब कोई शक्तिशाली राष्ट्र निर्बल राष्ट्र के प्रति उपेक्षा का व्यवहार करता है तो प्रायः इसका प्रतिकार आतंकवाद के रूप में सामने आता है। उपेक्षित वर्ग अपनी अस्मिता प्रमाणित करने के लिए आतंकवाद का मार्ग अपनाता है।

SubQuestion No : 21

9.21 प्रस्तुत गद्यांश में प्रयोग किए गए 'आतंकवाद' शब्द का शाब्दिक अर्थ क्या है?

- Ans
- 1. धार्मिक गतिविधि
 - 2. हिंसात्मक गतिविधि
 - 3. राजनीतिक गतिविधि
 - 4. अहिंसात्मक गतिविधि

Question ID : 63068065864
Option 1 ID : 630680254396
Option 2 ID : 630680254394
Option 3 ID : 630680254397
Option 4 ID : 630680254395
Status : Answered
Chosen Option : 2

Comprehension:

निम्नलिखित गद्यांश को ध्यानपूर्वक पढ़ें और प्रश्न के उत्तर दीजिये:

हाल के वर्षों में आतंकवाद अंतरराष्ट्रीय स्तर पर एक भयंकर चुनौती के रूप में उभरा है। वह विश्व क्षितिज पर प्रलयकारी बादलों की भीति छाया हुआ है और प्रतिपल मानव के लिए संकट का कारण बना हुआ है। न जाने कहीं और किसके ऊपर उसका वज्रपात हो जाए और विनाशलीला प्रकट हो जाए। इसके कारण मानव हर क्षण संश्रुत है। वह केवल मूकदर्शक बना हुआ है। आतंकवाद और मानव मूल्यों की बात की जाए तो दोनों ही संपूर्ण रूप से परस्पर विपरीत हैं। आतंकवाद वास्तव में अतिवाद का दुष्परिणाम है। आज के भौतिकवादी युग में आतंकवाद की काली छाया बहुत तेजी से बढ़ रही है। इसके कारण मनुष्य में असंतोष की भावना उत्पन्न हो रही है। इस असंतोष की अभिव्यक्ति के अनेक माध्यम हैं। यह असंतोष, क्रुद्ध युवा पीढ़ी में बुरी तरह फैल रहा है। राजनीतिक स्वार्थपरता की पूर्ति के लिए आतंकवाद आज एक अमोघ अस्त्र बन गया है। हत्या, लूट, बलात्कार, अपहरण आदि इसके सामान्य रूप हैं। अपनी बात मनवाने के लिए आतंक उत्पन्न करने की पद्धति एक सामान्य प्रक्रिया बन गई है। जब कोई शक्तिशाली राष्ट्र निर्बल राष्ट्र के प्रति उपेक्षा का व्यवहार करता है तो प्रायः इसका प्रतिकार आतंकवाद के रूप में सामने आता है। उपेक्षित वर्ग अपनी अस्मिता प्रमाणित करने के लिए आतंकवाद का मार्ग अपनाता है।

SubQuestion No : 22

9.22 निम्न विकल्पों में से उपर्युक्त गद्यांश का सही शीर्षक अंकित कीजिए।

- Ans
- 1. समाजवाद
 - 2. आतंकवाद
 - 3. मार्क्सवाद
 - 4. प्रगतिवाद

Question ID : 63068065865
Option 1 ID : 630680254399
Option 2 ID : 630680254401
Option 3 ID : 630680254400
Option 4 ID : 630680254398
Status : Answered
Chosen Option : 2

Comprehension:

निम्नलिखित गद्यांश को ध्यानपूर्वक पढ़ें और प्रश्न के उत्तर दीजिये:

हाल के वर्षों में आतंकवाद अंतरराष्ट्रीय स्तर पर एक भयंकर चुनौती के रूप में उभरा है। वह विश्व क्षितिज पर प्रलयकारी बादलों की भीति छाया हुआ है और प्रतिपल मानव के लिए संकट का कारण बना हुआ है। न जाने कहीं और किसके ऊपर उसका वज्रपात हो जाए और विनाशलीला प्रकट हो जाए। इसके कारण मानव हर क्षण संतप्त है। वह केवल मूकदर्शक बना हुआ है। आतंकवाद और मानव मूल्यों की बात की जाए तो दोनों ही संपूर्ण रूप से परस्पर विपरीत हैं। आतंकवाद वास्तव में अतिवाद का दुष्परिणाम है। आज के भौतिकवादी युग में आतंकवाद की काली छाया बहुत तेजी से बढ़ रही है। इसके कारण मनुष्य में असंतोष की भावना उत्पन्न हो रही है। इस असंतोष की अभिव्यक्ति के अनेक माध्यम हैं। यह असंतोष, क्रुद्ध युवा पीढ़ी में बुरी तरह फैल रहा है। राजनीतिक स्वार्थपरता की पूर्ति के लिए आतंकवाद आज एक अमोघ अस्त्र बन गया है। हत्या, लूट, बलात्कार, अपहरण आदि इसके सामान्य रूप हैं। अपनी बात मनवाने के लिए आतंक उत्पन्न करने की पद्धति एक सामान्य प्रक्रिया बन गई है। जब कोई शक्तिशाली राष्ट्र निर्बल राष्ट्र के प्रति उपेक्षा का व्यवहार करता है तो प्रायः इसका प्रतिकार आतंकवाद के रूप में सामने आता है। उपेक्षित वर्ग अपनी अस्मिता प्रमाणित करने के लिए आतंकवाद का मार्ग अपनाता है।

SubQuestion No : 23

9.23 दिए गए अपठित गद्यांश के सही तथ्य को अंकित कीजिए।

- Ans 1. आतंकवाद असंतोष की अभिव्यक्ति है।
 2. आतंकवाद अतृप्ति की अभिव्यक्ति है।
 3. आतंकवाद संतोष की अभिव्यक्ति है।
 4. आतंकवाद तृप्ति की अभिव्यक्ति है।

Question ID : 63068065867
 Option 1 ID : 630680254407
 Option 2 ID : 630680254409
 Option 3 ID : 630680254406
 Option 4 ID : 630680254408
 Status : Answered
 Chosen Option : 2

Comprehension:

निम्नलिखित गद्यांश को ध्यानपूर्वक पढ़ें और प्रश्न के उत्तर दीजिये:

हाल के वर्षों में आतंकवाद अंतरराष्ट्रीय स्तर पर एक भयंकर चुनौती के रूप में उभरा है। वह विश्व क्षितिज पर प्रलयकारी बादलों की भीति छाया हुआ है और प्रतिपल मानव के लिए संकट का कारण बना हुआ है। न जाने कहीं और किसके ऊपर उसका वज्रपात हो जाए और विनाशलीला प्रकट हो जाए। इसके कारण मानव हर क्षण संतप्त है। वह केवल मूकदर्शक बना हुआ है। आतंकवाद और मानव मूल्यों की बात की जाए तो दोनों ही संपूर्ण रूप से परस्पर विपरीत हैं। आतंकवाद वास्तव में अतिवाद का दुष्परिणाम है। आज के भौतिकवादी युग में आतंकवाद की काली छाया बहुत तेजी से बढ़ रही है। इसके कारण मनुष्य में असंतोष की भावना उत्पन्न हो रही है। इस असंतोष की अभिव्यक्ति के अनेक माध्यम हैं। यह असंतोष, क्रुद्ध युवा पीढ़ी में बुरी तरह फैल रहा है। राजनीतिक स्वार्थपरता की पूर्ति के लिए आतंकवाद आज एक अमोघ अस्त्र बन गया है। हत्या, लूट, बलात्कार, अपहरण आदि इसके सामान्य रूप हैं। अपनी बात मनवाने के लिए आतंक उत्पन्न करने की पद्धति एक सामान्य प्रक्रिया बन गई है। जब कोई शक्तिशाली राष्ट्र निर्बल राष्ट्र के प्रति उपेक्षा का व्यवहार करता है तो प्रायः इसका प्रतिकार आतंकवाद के रूप में सामने आता है। उपेक्षित वर्ग अपनी अस्मिता प्रमाणित करने के लिए आतंकवाद का मार्ग अपनाता है।

SubQuestion No : 24

9.24 उपर्युक्त गद्यांश का वास्तविक जीवन से क्या संबंध हो सकता है?

- Ans 1. आज के भौतिक जीवन में प्रगतिवाद आतंकवाद की काली छाया के समान तेजी से बढ़ता जा रहा है।
 2. आज के भौतिक जीवन में प्रयोगवाद आतंकवाद की काली छाया के समान तेजी से बढ़ता जा रहा है।
 3. आज के भौतिक जीवन में अतिवाद आतंकवाद की काली छाया के समान तेजी से बढ़ता जा रहा है।
 4. आज के भौतिक जीवन में छायावाद आतंकवाद की काली छाया के समान तेजी से बढ़ता जा रहा है।

Question ID : 63068065868
 Option 1 ID : 630680254410
 Option 2 ID : 630680254412
 Option 3 ID : 630680254411
 Option 4 ID : 630680254413
 Status : Answered
 Chosen Option : 3

Comprehension:

निम्नलिखित गद्यांश को ध्यानपूर्वक पढ़ें और प्रश्न के उत्तर दीजिये:

हाल के वर्षों में आतंकवाद अंतरराष्ट्रीय स्तर पर एक भयंकर चुनौती के रूप में उभरा है। वह विश्व क्षितिज पर प्रलयकारी बादलों की भीति छाया हुआ है और प्रतिपल मानव के लिए संकट का कारण बना हुआ है। न जाने कहीं और किसके ऊपर उसका वज्रपात हो जाए और विनाशलीला प्रकट हो जाए। इसके कारण मानव हर क्षण संव्रस्त है। वह केवल मूकदर्शक बना हुआ है। आतंकवाद और मानव मूल्यों की बात की जाए तो दोनों ही संपूर्ण रूप से परस्पर विपरीत हैं। आतंकवाद वास्तव में अतिवाद का दुष्परिणाम है। आज के भौतिकवादी युग में आतंकवाद की काली छाया बहुत तेजी से बढ़ रही है। इसके कारण मनुष्य में असंतोष की भावना उत्पन्न हो रही है। इस असंतोष की अभिव्यक्ति के अनेक माध्यम हैं। यह असंतोष, क्रुद्ध युवा पीढ़ी में बुरी तरह फैल रहा है। राजनीतिक स्वार्थपरता की पूर्ति के लिए आतंकवाद आज एक अमोघ अस्त्र बन गया है। हत्या, लूट, बलात्कार, अपहरण आदि इसके सामान्य रूप हैं। अपनी बात मनवाने के लिए आतंक उत्पन्न करने की पद्धति एक सामान्य प्रक्रिया बन गई है। जब कोई शक्तिशाली राष्ट्र निर्बल राष्ट्र के प्रति उपेक्षा का व्यवहार करता है तो प्रायः इसका प्रतिकार आतंकवाद के रूप में सामने आता है। उपेक्षित वर्ग अपनी अस्मिता प्रमाणित करने के लिए आतंकवाद का मार्ग अपनाता है।

SubQuestion No : 25

Q.25 निम्न में से प्रस्तुत गद्यांश का प्रमुख विषय कौनसा है?

- Ans
- 1. आतंकवाद का सुखद परिणाम
 - 2. आतंकवाद का दुष्परिणाम
 - 3. आतंकवाद का सुपरिणाम
 - 4. आतंकवाद का कुपरिणाम

Question ID : 63068065866
 Option 1 ID : 630680254403
 Option 2 ID : 630680254404
 Option 3 ID : 630680254402
 Option 4 ID : 630680254405
 Status : Answered
 Chosen Option : 2