

CRPF Constable

**Previous Year Paper
Technical Tradesman
03 July, 2023 Shift 1**

Adda247

Adda247

Test Prime

ALL EXAMS, ONE SUBSCRIPTION



1,00,000+
Mock Tests



**Personalised
Report Card**



**Unlimited
Re-Attempt**



600+
Exam Covered



25,000+ Previous
Year Papers



500%
Refund



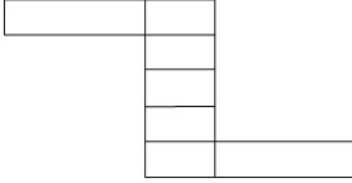
ATTEMPT FREE MOCK NOW

CRPF Technical Tradesman 1st to 12th July 2023

Participant ID	
Participant Name	
Test Center Name	
Test Date	03/07/2023
Test Time	8:30 AM - 10:30 AM
Subject	Constable Cook

Section : General Intelligence and Reasoning

Q.1 दी गई आकृति में कितने आयत हैं?



- Ans
- A. 18
 - B. 21
 - C. 20
 - D. 19

Question ID : 630680109098
Option 1 ID : 630680423208
Option 2 ID : 630680423211
Option 3 ID : 630680423210
Option 4 ID : 630680423209
Status : Not Answered
Chosen Option : --

Q.2 दर्पण को MN पर रखे जाने पर दी गई आकृति के सही दर्पण प्रतिबिम्ब का चयन कीजिए।



- Ans
- A. $p q n m l x y$
 - B. $p q n m l x y$
 - C. $p q n m n l x y$
 - D. $p q n m l x y$

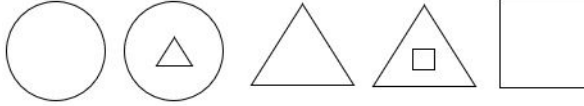
Question ID : 630680177301
 Option 1 ID : 630680687382
 Option 2 ID : 630680687380
 Option 3 ID : 630680687383
 Option 4 ID : 630680687381
 Status : Answered
 Chosen Option : D

Q.3 दी गई श्रृंखला में प्रश्नवाचक चिह्न (?) के स्थान पर क्या आना चाहिए?
20, 21, 25, 34, 50, 75, ?

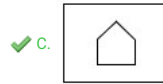
- Ans
- A. 96
 - B. 121
 - C. 111
 - D. 100

Question ID : 630680134067
 Option 1 ID : 630680519171
 Option 2 ID : 630680519172
 Option 3 ID : 630680519173
 Option 4 ID : 630680519170
 Status : Answered
 Chosen Option : C

Q.4 निम्नलिखित शृंखला में आगे आने वाली आकृति का चयन कीजिए।



Ans



Question ID : 630680118157
Option 1 ID : 630680457807
Option 2 ID : 630680457806
Option 3 ID : 630680457808
Option 4 ID : 630680457809
Status : Answered
Chosen Option : C

Q.5 निम्नलिखित समीकरण में प्रश्न चिन्ह (?) के स्थान पर लगभग कितना मान आना चाहिए?

$$(13.01)^2 + ? = (10.99)^2 + (13.999)^2$$

- Ans
- A. 146
 - B. 147
 - C. 149
 - D. 148

Question ID : 630680118414
Option 1 ID : 630680458790
Option 2 ID : 630680458791
Option 3 ID : 630680458793
Option 4 ID : 630680458792
Status : Answered
Chosen Option : D

Q.6 दिए गए विकल्पों में से उस संख्या का चयन करें जो निम्नलिखित समीकरण में प्रश्न चिह्न (?) के स्थान पर आ सकती है।

$$\frac{14.99\% \text{ of } 40.01 + 288.01 - 155.99}{575.01 \div 24.99} = ?$$

- Ans
- A. 2
 - B. 18
 - C. 6
 - D. 12

Question ID : 630680204258
 Option 1 ID : 630680792115
 Option 2 ID : 630680792118
 Option 3 ID : 630680792116
 Option 4 ID : 630680792117
 Status : Answered
 Chosen Option : C

Q.7 एक निश्चित कूटभाषा में,
 'No cooking today' को 'Na Ba Ka' के रूप में लिखा जाता है;
 'Help me cooking' को 'Ta Ga Ba' के रूप में लिखा जाता है;
 'Me cooking Maggie today' को 'Ba Na Pa Ta' के रूप में लिखा जाता है।
 'Ga' किसका कूट है?

- Ans
- A. Today
 - B. Cooking
 - C. Me
 - D. Help

Question ID : 630680261954
 Option 1 ID : 6306801017474
 Option 2 ID : 6306801017473
 Option 3 ID : 6306801017472
 Option 4 ID : 6306801017471
 Status : Answered
 Chosen Option : D

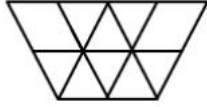
Q.8 यदि + का अर्थ -, - का अर्थ ×, × का अर्थ ÷, ÷ का अर्थ + है, तो निम्नलिखित समीकरण में प्रश्न चिह्न (?) के स्थान पर क्या मान आएगा?

$$133 \div 65 \times 13 - 7 + 35 = ?$$

- Ans
- A. 129
 - B. 133
 - C. 124
 - D. 142

Question ID : 630680163572
 Option 1 ID : 630680633473
 Option 2 ID : 630680633475
 Option 3 ID : 630680633472
 Option 4 ID : 630680633474
 Status : Answered
 Chosen Option : B

Q.9 नीचे दी गई आकृति में कितने त्रिभुज हैं?



- Ans A. 12
 B. 11
 C. 14
 D. 13

Question ID : 63068057745
 Option 1 ID : 630680222818
 Option 2 ID : 630680222819
 Option 3 ID : 630680222820
 Option 4 ID : 630680222821
 Status : Not Answered
 Chosen Option : --

Q.10 कागज के एक टुकड़े को मोड़ने का क्रम और मोड़े गए कागज को काटने के तरीके को निम्नलिखित आकृतियों में दर्शाया गया है। खोले जाने पर यह कागज कैसा दिखाई देगा?



- Ans A.
 B.
 C.
 D.

Question ID : 630680161862
 Option 1 ID : 630680626757
 Option 2 ID : 630680626758
 Option 3 ID : 630680626759
 Option 4 ID : 630680626756
 Status : Answered
 Chosen Option : A

Q.11 निम्नलिखित समीकरण में प्रश्न चिन्ह (?) के स्थान पर लगभग कितना मान आना चाहिए?

$$(20\% \text{ of } 1000) \times 5\% \text{ of } \left(\frac{400}{?}\right) = 10$$

- Ans
- A. 350
 - B. 400
 - C. 425
 - D. 450

Question ID : 630680118415
 Option 1 ID : 630680458794
 Option 2 ID : 630680458796
 Option 3 ID : 630680458795
 Option 4 ID : 630680458797
 Status : Answered
 Chosen Option : B

Q.12 एक तस्वीर की ओर इशारा करते हुए अमन ने कहा, "वह मेरी माँ के पिता के बेटे की इकलौती बहन की बेटा है।" तस्वीर में दिख रही महिला का अमन से क्या संबंध है?

- Ans
- A. बेटा
 - B. माँ
 - C. बहन
 - D. मौसी

Question ID : 630680117599
 Option 1 ID : 630680455607
 Option 2 ID : 630680455609
 Option 3 ID : 630680455606
 Option 4 ID : 630680455608
 Status : Answered
 Chosen Option : C

Q.13 रमेश उत्तर की ओर 50 मीटर चलता है, दाएं मुड़ता है और 20 मीटर चलता है, वह फिर से दाएं मुड़ता है और 50 मीटर चलता है। वह फिर से दाएं मुड़ता है और फिर 20 मीटर चलता है। वह आरंभिक बिंदु से कितनी दूर है?

- Ans
- A. 0 मीटर
 - B. 30 मीटर
 - C. 20 मीटर
 - D. 15 मीटर

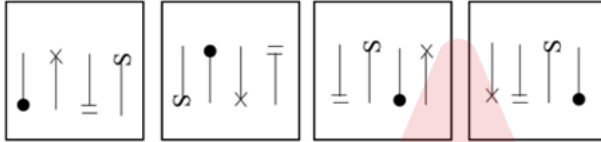
Question ID : 63068056467
 Option 1 ID : 630680217835
 Option 2 ID : 630680217836
 Option 3 ID : 630680217834
 Option 4 ID : 630680217837
 Status : Answered
 Chosen Option : A

Q.14 M, B के पति के पुत्र की बहन की पुत्री का पुत्र है। M का B से क्या संबंध है?

- Ans
- A. परपोता/परनाती
 - B. नाना का भाई/दादा का भाई
 - C. भाई का पोता/भाई का नाती
 - D. पुत्र

Question ID : 630680180419
Option 1 ID : 630680699350
Option 2 ID : 630680699348
Option 3 ID : 630680699349
Option 4 ID : 630680699351
Status : Answered
Chosen Option : A

Q.15 चार आकृतियां दी गई हैं जिनमें से तीन एक निश्चित पैटर्न के आधार पर पिछली आकृति का अनुसरण करती हैं, जबकि एक अलग है। अलग आकृति का चयन करें।



- Ans
- A. A
 - B. D
 - C. C
 - D. B

Question ID : 630680159898
Option 1 ID : 630680618978
Option 2 ID : 630680618979
Option 3 ID : 630680618977
Option 4 ID : 630680618976
Status : Answered
Chosen Option : D

Q.16 दी गई श्रृंखला में '?' इसके स्थान पर क्या आना चाहिए?
81, 93, 165, 160, 249, 227, 333, 294, ?, ?

- Ans
- A. 417, 361
 - B. 451, 391
 - C. 403, 352
 - D. 383, 341

Question ID : 630680221852
Option 1 ID : 630680861258
Option 2 ID : 630680861260
Option 3 ID : 630680861259
Option 4 ID : 630680861257
Status : Not Answered
Chosen Option : --

Q.17 निया, खुशी की पैटर्नल आंटी है। नूरा, अमित की पत्नी है। दीक्षा की सिर्फ एक बेटी नूरा है। मनीष, निया के पिता हैं। समय, दीक्षा का पति है। लीना, खुशी की पैटर्नल ग्रैंडमदर हैं। निया, अमित की बहन है। यदि मनीष के सिर्फ दो बच्चे हैं, तो लीना का नूरा से क्या संबंध है?

- Ans
- A. सिस्टर-इन-लॉ
 - B. आंटी
 - C. माता
 - D. मदर-इन-लॉ

Question ID : 630680111502
 Option 1 ID : 630680431805
 Option 2 ID : 630680431804
 Option 3 ID : 630680431802
 Option 4 ID : 630680431803
 Status : Answered
 Chosen Option : D

Q.18 एक ही पासे की तीन अलग-अलग स्थितियाँ दिखाई गई हैं। उस संख्या का चयन कीजिए जो '5' दर्शाने वाले फलक के विपरीत फलक पर होगी।

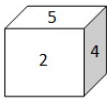


Figure 1

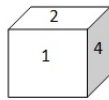


Figure 2

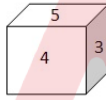


Figure 3

Figure - चित्र

- Ans
- A. 3
 - B. 2
 - C. 4
 - D. 1

Question ID : 630680160270
 Option 1 ID : 630680620454
 Option 2 ID : 630680620453
 Option 3 ID : 630680620455
 Option 4 ID : 630680620452
 Status : Answered
 Chosen Option : D

Q.19 एक निश्चित कूट में,
'Lion run fast' को 'Ni Mo Na' के रूप में लिखा जाता है;
'Cubs of Lion' को 'Mo Ci Ka' के रूप में लिखा जाता है;
'Make Cubs Run' को 'Ka Na Ti' के रूप में लिखा जाता है।
'Ci' किसका कूट है?

- Ans A. Lion
 B. Of
 C. Cubs
 D. Fast

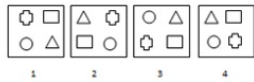
Question ID : 630680261942
Option 1 ID : 6306801017423
Option 2 ID : 6306801017426
Option 3 ID : 6306801017424
Option 4 ID : 6306801017425
Status : Answered
Chosen Option : B

Q.20 E, C की बहन है और C, D की पुत्री है। H का विवाह F से हुआ है। A का विवाह D से हुआ है। F, C का पुत्र है। G का विवाह C से हुआ है। E का F के साथ क्या संबंध है?

- Ans A. बहन
 B. बहन की पुत्री
 C. माँ की बहन
 D. पिता की बहन

Question ID : 630680119308
Option 1 ID : 630680462322
Option 2 ID : 630680462325
Option 3 ID : 630680462323
Option 4 ID : 630680462324
Status : Answered
Chosen Option : C

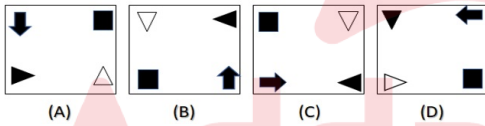
Q.21 विकल्पों में दी गई उस आकृति का चयन कीजिए जिसे प्रश्नवाचक चिन्ह (?) के स्थान पर रखने पर श्रृंखला तार्किक रूप से पूर्ण हो जाएगी।



- Ans A. 2
 B. 3
 C. 1
 D. 4

Question ID : 630680111619
 Option 1 ID : 630680432219
 Option 2 ID : 630680432220
 Option 3 ID : 630680432218
 Option 4 ID : 630680432221
 Status : Answered
 Chosen Option : B

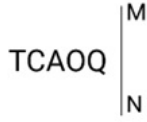
Q.22 निम्नलिखित चार आकृतियों में से तीन एक निश्चित तरीके से समान हैं और इस प्रकार एक समूह बनाती हैं। वह कौन-सी है, जो इस समूह से संबंधित नहीं है?



- Ans A. A
 B. B
 C. D
 D. C

Question ID : 630680124847
 Option 1 ID : 630680484211
 Option 2 ID : 630680484210
 Option 3 ID : 630680484213
 Option 4 ID : 630680484212
 Status : Answered
 Chosen Option : A

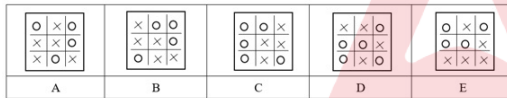
Q.23 दी गई आकृति के सही दर्पण प्रतिबिंब का चयन करें, जब दर्पण को MN पर रखा जाता है जैसा कि नीचे दिखाया गया है।



- Ans
- A. \overline{LCVOQ}
 - B. \overline{QOACT}
 - C. \overline{QOAVT}
 - D. \overline{TCOAT}

Question ID : 630680162222
 Option 1 ID : 630680628193
 Option 2 ID : 630680628194
 Option 3 ID : 630680628192
 Option 4 ID : 630680628195
 Status : Answered
 Chosen Option : B

Q.24 निम्नलिखित पांच आकृतियों में से चार आकृतियां किसी न किसी रूप में एक जैसी हैं और इस प्रकार ये चारों आकृतियां एक समूह बनाती हैं। कौन-सी आकृति समूह से भिन्न है?



- Ans
- A. D
 - B. A
 - C. E
 - D. B

Question ID : 630680113729
 Option 1 ID : 630680440442
 Option 2 ID : 630680440443
 Option 3 ID : 630680440444
 Option 4 ID : 630680440445
 Status : Not Answered
 Chosen Option : --

Q.25 अवलि पूर्व की ओर 24 m दौड़ती है, दाएँ मुड़ती है और 12 km दौड़ती है। इसके बाद वह फिर दाएँ मुड़ती है और 22 km दौड़कर सुपर मार्केट पहुंच जाती है। सुपर मार्केट प्रारंभिक बिंदु से किस दिशा में है?

- Ans
- A. उत्तर-पूर्व
 - B. दक्षिण-पश्चिम
 - C. उत्तर-पश्चिम
 - D. दक्षिण-पूर्व

Question ID : 63068082800
 Option 1 ID : 630680321065
 Option 2 ID : 630680321064
 Option 3 ID : 630680321067
 Option 4 ID : 630680321066
 Status : Answered
 Chosen Option : D

Section : General Knowledge and General Awareness

Q.1 स्वर्णिम चतुर्भुज परियोजना कब शुरू की गई थी?

- Ans
- A. 2006 में
 - B. 2004 में
 - C. 2001 में
 - D. 2005 में

Question ID : 630680213956
 Option 1 ID : 630680829874
 Option 2 ID : 630680829873
 Option 3 ID : 630680829871
 Option 4 ID : 630680829872
 Status : Answered
 Chosen Option : A

Q.2 होयसलेश्वर मंदिर किस भारतीय राज्य में स्थित है?

- Ans
- A. कर्नाटक
 - B. तमिलनाडु
 - C. तेलंगाना
 - D. आंध्र प्रदेश

Question ID : 630680166669
 Option 1 ID : 630680645591
 Option 2 ID : 630680645590
 Option 3 ID : 630680645589
 Option 4 ID : 630680645588
 Status : Answered
 Chosen Option : A

Q.3 सल्तनत काल के दौरान फारसी शब्द 'बंदगान' का सही अर्थ निम्नलिखित में से कौन-सा था?

- Ans A. सैन्य सेवा करने वाले विशेष गुलाम
 B. कुलीन जन
 C. धार्मिक मौलवी
 D. सुल्तान के करीबी सहयोगी

Question ID : 630680127608
 Option 1 ID : 630680494691
 Option 2 ID : 630680494690
 Option 3 ID : 630680494688
 Option 4 ID : 630680494689
 Status : Not Answered
 Chosen Option : --

Q.4 अकाली आंदोलन का नेतृत्व किस धर्म के नेताओं ने किया था?

- Ans A. हिन्दू धर्म
 B. सिख धर्म
 C. पारसी धर्म
 D. इस्लाम

Question ID : 630680114126
 Option 1 ID : 630680441909
 Option 2 ID : 630680441908
 Option 3 ID : 630680441907
 Option 4 ID : 630680441906
 Status : Answered
 Chosen Option : B

Q.5 दिल्ली सल्तनत का संस्थापक निम्नलिखित में से कौन था?

- Ans A. कुतुबुद्दीन ऐबक
 B. मुहम्मद गोरी
 C. महमूद गजनवी
 D. अलाउद्दीन खिलजी

Question ID : 630680127603
 Option 1 ID : 630680494669
 Option 2 ID : 630680494670
 Option 3 ID : 630680494671
 Option 4 ID : 630680494668
 Status : Answered
 Chosen Option : A

Q.6 एनी बेसेंट निम्नलिखित में से किस पहल से संबंधित नहीं थी?

- Ans
- A. सेंट्रल हिंदू स्कूल
 - B. थियोसोफिकल सोसायटी
 - C. होम रूल लीग
 - D. रामकृष्ण मिशन

Question ID : 630680176056
 Option 1 ID : 630680682472
 Option 2 ID : 630680682473
 Option 3 ID : 630680682474
 Option 4 ID : 630680682475
 Status : Answered
 Chosen Option : D

Q.7 ____ और भारतीय वायु सेना (IAF) ने स्वदेशी रूप से डिजाइन और विकसित हेलीकॉप्टर का उड़ान परीक्षण किया था जिसने 11 दिसंबर 2021 को पोखरण से स्टैंड-ऑफ एंटी टैंक (SANT) मिसाइल को पहली बार लॉन्च किया था।

- Ans
- A. भारतीय अंतरिक्ष अनुसंधान संगठन
 - B. रक्षा अनुसंधान एवं विकास संगठन
 - C. हिंदुस्तान एयरोनॉटिक्स लिमिटेड
 - D. भारत इलेक्ट्रॉनिक्स लिमिटेड

Question ID : 630680119812
 Option 1 ID : 630680464315
 Option 2 ID : 630680464314
 Option 3 ID : 630680464316
 Option 4 ID : 630680464317
 Status : Not Answered
 Chosen Option : --

Q.8 बाबर और राजपूतों के बीच चंदेरी का युद्ध कब लड़ा गया था?

- Ans
- A. 1532
 - B. 1530
 - C. 1528
 - D. 1526

Question ID : 630680127629
 Option 1 ID : 630680494774
 Option 2 ID : 630680494775
 Option 3 ID : 630680494772
 Option 4 ID : 630680494773
 Status : Not Answered
 Chosen Option : --

Q.9 2011 की जनगणना के अनुसार, निम्न में से किस राज्य की साक्षरता दर सबसे कम है?

- Ans A. बिहार
 B. केरल
 C. राजस्थान
 D. तेलंगाना

Question ID : 630680213952
 Option 1 ID : 630680829858
 Option 2 ID : 630680829855
 Option 3 ID : 630680829856
 Option 4 ID : 630680829857
 Status : Answered
 Chosen Option : A

Q.10 मई 2021 में निम्नलिखित में से किस वैज्ञानिक को विश्व खाद्य पुरस्कार 2021 दिया गया था?

- Ans A. डॉ एम एस स्वामीनाथन
 B. डॉ रतन लाल
 C. डॉ शकुंतला हरक सिंह थिल्लटेड
 D. शैली प्रवीण

Question ID : 630680113596
 Option 1 ID : 630680439919
 Option 2 ID : 630680439920
 Option 3 ID : 630680439918
 Option 4 ID : 630680439921
 Status : Not Answered
 Chosen Option : --

Q.11 अवसंरचना (इन्फ्रास्ट्रक्चर) के संबंध में निम्नलिखित में से कौन-सा कथन सत्य है?

- Ans A. अवसंरचना एक मूर्त परिसंपत्ति है।
 B. अर्धव्यवस्था के कार्य-प्रणाली के लिए अवसंरचना की आवश्यकता नहीं है।
 C. अवसंरचना सड़कों और पुलों जैसी भौतिक संरचनाओं तक सीमित है।
 D. अवसंरचना, वस्तुओं और सेवाओं के उत्पादन में प्रत्यक्ष योगदान करती है।

Question ID : 630680210834
 Option 1 ID : 630680817495
 Option 2 ID : 630680817497
 Option 3 ID : 630680817498
 Option 4 ID : 630680817496
 Status : Answered
 Chosen Option : D

Q.12 पश्चिम बंगाल के निम्नलिखित में से कौन-सा लोक-नृत्य महिलाओं द्वारा किया जाता है, जो अपने बच्चों की इच्छाओं को पूरा करने के लिए देवताओं से आशीर्वाद मांगती हैं?

- Ans A. ढाली
 B. त्रिता
 C. गरिया
 D. डोलू कुनिथा

Question ID : 630680214145
 Option 1 ID : 630680830629
 Option 2 ID : 630680830630
 Option 3 ID : 630680830627
 Option 4 ID : 630680830628
 Status : Not Answered
 Chosen Option : --

Q.13 पूर्वांचल में पटकाई पहाड़ियाँ, नागा पहाड़ियाँ, मणिपुर पहाड़ियाँ और _____ शामिल हैं।

- Ans A. मिज़ो पहाड़ियाँ
 B. गारो पहाड़ियाँ
 C. मैकलोडगंज पहाड़ियाँ
 D. अल्मोड़ा पहाड़ियाँ

Question ID : 630680113731
 Option 1 ID : 630680440450
 Option 2 ID : 630680440453
 Option 3 ID : 630680440452
 Option 4 ID : 630680440451
 Status : Answered
 Chosen Option : A

Q.14 भारतीय संविधान के भाग III को किस रूप में जाना जाता है?

- Ans A. महाधिकार - पत्र (मैम्ना कार्टा)
 B. भारतीय संविधान की आत्मा
 C. स्वतंत्रता का चार्टर
 D. अधिकारों के विधेयक

Question ID : 630680213942
 Option 1 ID : 630680829817
 Option 2 ID : 630680829818
 Option 3 ID : 630680829816
 Option 4 ID : 630680829815
 Status : Not Answered
 Chosen Option : --

Q.15 _____ राग का मुक्त प्रवाह है, जिसमें कोई शब्द और कोई निश्चित ताल का उपयोग नहीं किया जाता है।

- Ans
- A. अरोहा
 - B. अभोग
 - C. अंग
 - D. आलाप

Question ID : 630680214169
 Option 1 ID : 630680830723
 Option 2 ID : 630680830725
 Option 3 ID : 630680830726
 Option 4 ID : 630680830724
 Status : Answered
 Chosen Option : D

Q.16 भारतीय स्वतंत्रता-पूर्व अवधि के दौरान, गरीबी आकलन का हिस्सा कौन नहीं था?

- Ans
- A. दादाभाई नौरोजी
 - B. वी.एन. दांडेकर
 - C. जवाहर लाल नेहरू
 - D. बॉम्बे योजना के सदस्य

Question ID : 630680210839
 Option 1 ID : 630680817515
 Option 2 ID : 630680817518
 Option 3 ID : 630680817516
 Option 4 ID : 630680817517
 Status : Not Answered
 Chosen Option : --

Q.17 पूंजी बाजार _____ ऋण के उधार देने और उधार लेने से संबंधित है।

- Ans
- A. दस वर्षीय
 - B. मध्यावधि और दीर्घावधि
 - C. पाँच वर्षीय
 - D. एक वर्षीय

Question ID : 630680209142
 Option 1 ID : 630680810786
 Option 2 ID : 630680810783
 Option 3 ID : 630680810785
 Option 4 ID : 630680810784
 Status : Answered
 Chosen Option : B

Q.18 इंजीनियरिंग और कंप्यूटर विज्ञान के क्षेत्र में 2021 का इंफोसिस पुरस्कार किसे मिला था?

- Ans
- A. सुनीता सरावगी
 - B. जयंत हरित्सा
 - C. विश्वनाथन कुमारन
 - D. चंद्रशेखर नायर

Question ID : 630680115956
 Option 1 ID : 630680449155
 Option 2 ID : 630680449156
 Option 3 ID : 630680449157
 Option 4 ID : 630680449154
 Status : Not Answered
 Chosen Option : --

Q.19 लोक संगीत और उसके संबंधित राज्य / केंद्र शासित प्रदेश के सही संयोजन का चयन करें।

- Ans
- A. तुमरी-मेघालय
 - B. चकरी - जम्मू और कश्मीर
 - C. सोरथी - केरल
 - D. सोहर - पुडुचेरी

Question ID : 63068090952
 Option 1 ID : 630680352566
 Option 2 ID : 630680352567
 Option 3 ID : 630680352569
 Option 4 ID : 630680352568
 Status : Not Answered
 Chosen Option : --

Q.20 निम्नलिखित में से कौन-सी चोटी ग्रेट निकोबार द्वीप में स्थित है?

- Ans
- A. माउंट डियावोलो (Mount Diavolo)
 - B. माउंट थुलियर (Mount Thullier)
 - C. माउंट कोयब (Mount Koyob)
 - D. सैडल चोटी (Saddle Peak)

Question ID : 63068090961
 Option 1 ID : 630680352603
 Option 2 ID : 630680352605
 Option 3 ID : 630680352604
 Option 4 ID : 630680352602
 Status : Not Answered
 Chosen Option : --

Q.21 खाद्य संरक्षण के लिए निम्नलिखित में से किस तकनीक का उपयोग किया जाता है?

- Ans
- A. खाना बनाना, बंध्यकरण, गीला करना, प्रशीतन
 - B. सूर्य प्रकाश उपचार, गीला करना, खाना बनाना, पानी भिगोना
 - C. खाना बनाना, बंध्यकरण, सुखाना
 - D. डिब्बाबंदी, पाश्चुरीकरण, हिमीकरण, विकिरण

Question ID : 630680111966
 Option 1 ID : 630680433592
 Option 2 ID : 630680433593
 Option 3 ID : 630680433591
 Option 4 ID : 630680433590
 Status : Answered
 Chosen Option : D

Q.22 निम्नलिखित में से किसने अपने अनुयायियों के साथ खुदाई खिदमतगार या 'लाल कुर्ती' आंदोलन शुरू किया?

- Ans
- A. खान अब्दुल गफ्फार खान
 - B. गोपाल कृष्ण गोखले
 - C. मुहम्मद अली जिन्ना
 - D. शौकत अली

Question ID : 630680214236
 Option 1 ID : 630680830992
 Option 2 ID : 630680830991
 Option 3 ID : 630680830993
 Option 4 ID : 630680830994
 Status : Not Answered
 Chosen Option : --

Q.23 मध्य प्रदेश में सांची किस शैली के स्थापत्य महत्त्व के लिए लोकप्रिय है?

- Ans
- A. मंदिर स्थापत्य
 - B. बौद्ध स्थापत्य
 - C. मकबरा स्थापत्य
 - D. मुगल गार्डन

Question ID : 630680162576
 Option 1 ID : 630680629600
 Option 2 ID : 630680629601
 Option 3 ID : 630680629602
 Option 4 ID : 630680629603
 Status : Answered
 Chosen Option : B

Q.24 असामान्य पर्यावरणीय परिस्थितियों के संपर्क में आने वाले प्रोटीन में होने वाले भौतिक परिवर्तन को इस नाम से जाना जाता है:

- Ans A. विकृतीकरण (डीनेचुरेशन)
 B. निम्नीकरण (डीग्रेडेशन)
 C. बिगाड़ (स्पॉइलेज़)
 D. पुनर्नवीकरण (रीनेचुरेशन)

Question ID : 630680102289
 Option 1 ID : 630680397441
 Option 2 ID : 630680397440
 Option 3 ID : 630680397442
 Option 4 ID : 630680397439
 Status : Answered
 Chosen Option : A

Q.25 Which of the following cells can divide properly?

- Ans A. Skin cells
 B. Muscle cells
 C. Red blood cells
 D. Nerve cells

Question ID : 630680214102
 Option 1 ID : 630680830455
 Option 2 ID : 630680830458
 Option 3 ID : 630680830457
 Option 4 ID : 630680830456
 Status : Answered
 Chosen Option : B

Section : Elementary Mathematics

Q.1 एक व्यक्ति ने 9 वर्षों के लिए साधारण ब्याज पर ₹ 8,000 की राशि को इस प्रकार निवेश किया कि पहले 4 वर्षों के लिए ब्याज दर 10% वार्षिक है और अगले 5 वर्षों के लिए यह 5% वार्षिक है। 9 वर्ष के अंत में यह क्रमशः कितना ब्याज और मिश्रधन (दोनों ₹ में) अर्जित करेगा?

- Ans A. 5,200 और 13,200
 B. 6,500 और 14,500
 C. 13,200 और 5,200
 D. 14,500 और 6,500

Question ID : 630680118281
 Option 1 ID : 630680458258
 Option 2 ID : 630680458260
 Option 3 ID : 630680458259
 Option 4 ID : 630680458261
 Status : Answered
 Chosen Option : A

Q.2 20 cm ऊंचाई और 9 cm व्यास का एक लंब वृत्तीय बेलन बनाने के लिए पिघलाये जाने वाले 2.5 cm व्यास और 0.4 cm मोटाई वाले सिक्कों की संख्या ज्ञात कीजिए।

- Ans A. 600
 B. 648
 C. 440
 D. 512

Question ID : 630680108505
 Option 1 ID : 630680420981
 Option 2 ID : 630680420982
 Option 3 ID : 630680420980
 Option 4 ID : 630680420983
 Status : Answered
 Chosen Option : B

Q.3 ऊटी में, एक ट्रेवल कंपनी के पास दो 4-सीटर कारें और एक 8-सीटर मैक्सी कैब और एक 25-सीटर मिनीबस है। एक चक्कर के लिए प्रति यात्री का किराया कार से ₹20 है, मैक्सी कैब से ₹16 है, और मिनीबस से ₹10 है। सीटों का औसत अधिभोग क्रमशः 100%, 75% और 92% है। एक चक्कर के लिए वाहनों की औसत कमाई (₹ में) क्या है?

- Ans A. 125.5
 B. 121.5
 C. 100.5
 D. 162

Question ID : 630680115619
 Option 1 ID : 630680447828
 Option 2 ID : 630680447827
 Option 3 ID : 630680447829
 Option 4 ID : 630680447826
 Status : Answered
 Chosen Option : A

Q.4 यदि $\frac{\sqrt{13}-1}{\sqrt{13}+1} = a+b\sqrt{13}$ है, तो a और b के मान क्या हैं?

- Ans A. $a = \frac{5}{6}$, $b = -\frac{1}{6}$
 B. $a=0$, $b=0$
 C. $a = \frac{1}{6}$, $b = -\frac{1}{6}$
 D. $a = \frac{7}{6}$, $b = -\frac{1}{6}$

Question ID : 630680218039
 Option 1 ID : 630680846066
 Option 2 ID : 630680846065
 Option 3 ID : 630680846064
 Option 4 ID : 630680846063
 Status : Not Answered
 Chosen Option : --

Q.5 एक दुकानदार अपने माल पर उसके क्रय मूल्य से $p\%$ अधिक अंकित करता है। यदि दुकानदार 15% की छूट देता है और फिर भी 20% का लाभ प्राप्त करता है, तो p का मान ज्ञात कीजिए (2 दशमलव स्थानों तक पूर्णांकित)।

- Ans
- A. 41.81%
 - B. 45.5%
 - C. 41.18%
 - D. 42%

Question ID : 630680116561
 Option 1 ID : 630680451541
 Option 2 ID : 630680451538
 Option 3 ID : 630680451540
 Option 4 ID : 630680451539
 Status : Not Answered
 Chosen Option : --

Q.6 एक कॉलेज में, एक कक्षा के छात्रों द्वारा एक पार्टी का आयोजन किया जाना था। प्रत्येक छात्र ने छात्रों की संख्या के बराबर रुपयों का योगदान दिया। छात्रों द्वारा एकत्र की गई कुल राशि ₹3,249 थी। कक्षा में छात्रों की संख्या की गणना करें?

- Ans
- A. 53
 - B. 57
 - C. 47
 - D. 63

Question ID : 63068070711
 Option 1 ID : 630680273468
 Option 2 ID : 630680273466
 Option 3 ID : 630680273467
 Option 4 ID : 630680273469
 Status : Answered
 Chosen Option : B

Q.7 कागज की एक आयताकार शीट, 10 cm लंबी और 8 cm चौड़ी है, इसके प्रत्येक कोने से 2 cm के वर्ग काट लिए जाते हैं। फिर शीट को मोड़कर 2 cm की गहराई की एक ट्रे बनाई जाती है। इस ट्रे का आयतन ज्ञात कीजिए।

- Ans
- A. 48 cm^3
 - B. 36 cm^3
 - C. 96 cm^3
 - D. 24 cm^3

Question ID : 630680108229
 Option 1 ID : 630680419979
 Option 2 ID : 630680419977
 Option 3 ID : 630680419978
 Option 4 ID : 630680419976
 Status : Answered
 Chosen Option : C

Q.8 P की आय, Q की आय से 20% अधिक है। Q की आय, P की आय से कितने प्रतिशत कम है?

- Ans
- A. $15\frac{2}{3}\%$
- B. $14\frac{2}{3}\%$
- C. $13\frac{2}{3}\%$
- D. $16\frac{2}{3}\%$

Question ID : 630680108882
 Option 1 ID : 630680422421
 Option 2 ID : 630680422422
 Option 3 ID : 630680422423
 Option 4 ID : 630680422420
 Status : Answered
 Chosen Option : D

Q.9 सामान्य तौर पर, डॉ. शांता सप्ताह के सभी 7 दिन लंच लेती हैं, लेकिन अस्पताल में बहुत अधिक काम होने के चलते, वह प्रत्येक सप्ताह 1, 2 या 5 दिन लंच ले पाती हैं।
 उनका रिकॉर्ड इस प्रकार है:
 2 सप्ताह: पूरे सप्ताह में केवल एक लंच
 14 सप्ताह: प्रत्येक सप्ताह 2 लंच
 8 सप्ताह: प्रत्येक सप्ताह 5 लंच
 32 सप्ताह: प्रत्येक सप्ताह 7 लंच
 सप्ताहों की संख्या को भार मानते हुए, शांता के प्रत्येक सप्ताह के लंच की संख्या का भारित औसत ज्ञात करें।

- Ans
- A. 29.4
- B. 5
- C. 6
- D. 5.25

Question ID : 630680131188
 Option 1 ID : 630680508018
 Option 2 ID : 630680508020
 Option 3 ID : 630680508021
 Option 4 ID : 630680508019
 Status : Answered
 Chosen Option : D

Q.10 यदि एक गोले की त्रिज्या में 25% की वृद्धि की जाती है, तो गोले के आयतन में कितनी वृद्धि होगी?

Ans

✓ A. $95\frac{5}{16}\%$

✗ B. $92\frac{5}{16}\%$

✗ C. $93\frac{5}{16}\%$

✗ D. $96\frac{5}{16}\%$

Question ID : 630680104057
 Option 1 ID : 630680404444
 Option 2 ID : 630680404445
 Option 3 ID : 630680404443
 Option 4 ID : 630680404446
 Status : Not Answered
 Chosen Option : --

Q.11 14 सेमी ऊंचाई वाले एक लम्ब वृत्तीय बेलन का वक्र पृष्ठीय क्षेत्रफल 88 सेमी² है, तो बेलन के आधार का व्यास होगा:

Ans

✗ A. 3 cm

✗ B. 1 cm

✓ C. 2 cm

✗ D. 4 cm

Question ID : 630680220938
 Option 1 ID : 630680857603
 Option 2 ID : 630680857601
 Option 3 ID : 630680857602
 Option 4 ID : 630680857604
 Status : Not Answered
 Chosen Option : --

Q.12 कौन-सी संख्या 4 और 5 दोनों से विभाज्य है?

Ans

✗ A. 82610

✓ B. 82160

✗ C. 82106

✗ D. 82016

Question ID : 63068078409
 Option 1 ID : 630680303697
 Option 2 ID : 630680303700
 Option 3 ID : 630680303699
 Option 4 ID : 630680303698
 Status : Answered
 Chosen Option : B

Q.13 $\frac{20}{\sqrt{\pi}}$ cm त्रिज्या वाले एक गोले को कागज़ में लपेटा जाना है। इस गोले को लपेटने के लिए आवश्यक कागज़ का क्षेत्रफल कितना होगा?

- Ans
- A. 1200 cm^2
 - B. 1800 cm^2
 - C. 1600 cm^2
 - D. 400 cm^2

Question ID : 630680110258
 Option 1 ID : 630680427388
 Option 2 ID : 630680427390
 Option 3 ID : 630680427389
 Option 4 ID : 630680427387
 Status : Not Answered
 Chosen Option : --

Q.14 एक घनाभ के विकर्ण की लंबाई ज्ञात करें, जिसकी विमाएँ 2,3,4 cm हैं।

- Ans
- A. $\sqrt{29}$
 - B. 3
 - C. 29
 - D. 9

Question ID : 63068070235
 Option 1 ID : 630680271574
 Option 2 ID : 630680271577
 Option 3 ID : 630680271575
 Option 4 ID : 630680271576
 Status : Not Answered
 Chosen Option : --

Q.15 यदि $2^x = 4^y = 8^z, \frac{1}{2x} + \frac{1}{4y} + \frac{1}{6z} = \frac{24}{7}$ तो है, तो z का मान निम्न में से किसके बराबर है?

- Ans
- A. $\frac{7}{24}$
 - B. $\frac{7}{48}$
 - C. $\frac{24}{7}$
 - D. $\frac{48}{7}$

Question ID : 63068079533
 Option 1 ID : 630680308172
 Option 2 ID : 630680308170
 Option 3 ID : 630680308169
 Option 4 ID : 630680308171
 Status : Not Answered
 Chosen Option : --

Q.16 7 : 5 के अनुपात में, पूर्ववर्ती 21 है। अनुवर्ती क्या होगा?

- Ans A. 15
 B. 17
 C. 11
 D. 19

Question ID : 630680131491
Option 1 ID : 630680509211
Option 2 ID : 630680509212
Option 3 ID : 630680509210
Option 4 ID : 630680509213
Status : Answered
Chosen Option : A

Q.17 दो धनराशियां 5 : 6 के समानुपातिक हैं। यदि पहली धनराशि 20 है, तो दूसरी धनराशि _____ है।

- Ans A. 21
 B. 22
 C. 24
 D. 25

Question ID : 630680137017
Option 1 ID : 630680530666
Option 2 ID : 630680530667
Option 3 ID : 630680530669
Option 4 ID : 630680530668
Status : Answered
Chosen Option : C

Q.18 $5\text{ cm} \times 6\text{ cm} \times 8\text{ cm}$, $4\text{ cm} \times 5\text{ cm} \times 8\text{ cm}$, और $2\text{ cm} \times 3\text{ cm} \times 10\text{ cm}$ विमाओं वाले तीन घनाभों को पिघलाकर एक घन बनाया जाता है। घन का आयतन ज्ञात करें।

- Ans A. 240 cm^3
 B. 460 cm^3
 C. 360 cm^3
 D. 160 cm^3

Question ID : 630680220774
Option 1 ID : 630680856945
Option 2 ID : 630680856948
Option 3 ID : 630680856947
Option 4 ID : 630680856946
Status : Answered
Chosen Option : B

Q.19 एक चुनाव में, 10% मतदाताओं ने मतदान नहीं किया और 10% मतों को अमान्य पाया गया। केवल दो उम्मीदवार थे। विजेता ने 972 के शेष मान्य मतों का 56% प्राप्त करके प्रतिद्वंद्वी को हराया। मतदाताओं की कुल संख्या कितनी है?

- Ans
- A. 19720
 - B. 9720
 - C. 10000
 - D. 8000

Question ID : 630680177861
 Option 1 ID : 630680689560
 Option 2 ID : 630680689563
 Option 3 ID : 630680689562
 Option 4 ID : 630680689561
 Status : Not Answered
 Chosen Option : --

Q.20 एक मोटर कार 60 km/h की चाल से चलना शुरू करती है और प्रत्येक दो घंटे के बाद इसकी चाल में 15 km/h की वृद्धि हो जाती है। इसे 360 km की दूरी तय करने में कितना समय लगेगा?

- Ans
- A. 5 घंटे
 - B. 2 घंटे
 - C. 9 घंटे
 - D. 7 घंटे

Question ID : 630680206521
 Option 1 ID : 630680800692
 Option 2 ID : 630680800691
 Option 3 ID : 630680800694
 Option 4 ID : 630680800693
 Status : Answered
 Chosen Option : A

Q.21 30 और 50 के बीच आने वाली सभी अभाज्य संख्याओं का औसत ज्ञात कीजिए।

- Ans
- A. 40.8
 - B. 38.8
 - C. 37.8
 - D. 39.8

Question ID : 630680121559
 Option 1 ID : 630680471197
 Option 2 ID : 630680471194
 Option 3 ID : 630680471196
 Option 4 ID : 630680471195
 Status : Answered
 Chosen Option : D

Q.22 पाइप A एक टैंक को 4 घंटे में भर सकता है और पाइप B उसी टैंक को 12 घंटे में भर सकता है। यदि टैंक को भरने के लिए दोनों पाइपों को एक साथ खोल दिया जाए, तो टैंक को पूरा भरने में कितने घंटे लगेंगे?

- Ans
- A. 7
 - B. 8
 - C. 3
 - D. 5

Question ID : 630680135884
 Option 1 ID : 630680526243
 Option 2 ID : 630680526242
 Option 3 ID : 630680526245
 Option 4 ID : 630680526244
 Status : Answered
 Chosen Option : C

Q.23 एक व्यक्ति की मासिक आय ₹87,500 थी और उसका मासिक व्यय ₹31,400 था। अगले वर्ष, उसकी आय में 12% और उसके व्यय में 15% की वृद्धि हुई। उसकी बचत में प्रतिशत वृद्धि ज्ञात कीजिए। (दो दशमलव तक पूर्णांकित कीजिए)

- Ans
- A. 11.28%
 - B. 10.32%
 - C. 8.32%
 - D. 12.96%

Question ID : 630680108475
 Option 1 ID : 630680420864
 Option 2 ID : 630680420866
 Option 3 ID : 630680420867
 Option 4 ID : 630680420865
 Status : Answered
 Chosen Option : B

Q.24 एक आयत का परिमाण 40 m है। इसका क्षेत्रफल और लंबाई 5 : 1 के अनुपात में है। आयत की लंबाई ज्ञात कीजिए।

- Ans
- A. 10 m
 - B. 20 m
 - C. 15 m
 - D. 15 cm

Question ID : 630680222490
 Option 1 ID : 630680863720
 Option 2 ID : 630680863719
 Option 3 ID : 630680863721
 Option 4 ID : 630680863722
 Status : Not Answered
 Chosen Option : --

Q.25 एक वाशिंग मशीन को उसके एमआरपी पर 15%, 20% और R% की तीन क्रमागत छूटों के बाद ₹12,546 में बेचा गया था। यदि एमआरपी पर दी गई कुल छूट ₹ 7,954 है, तो R का मान ज्ञात कीजिए।

- Ans A. 12
 B. 9
 C. 10
 D. 8

Question ID : 630680115559
 Option 1 ID : 630680447589
 Option 2 ID : 630680447587
 Option 3 ID : 630680447588
 Option 4 ID : 630680447586
 Status : Not Answered
 Chosen Option : --

Section : English

Q.1 Select the most appropriate synonym of the given word.
 Zealous

- Ans A. Envious
 B. Impersonal
 C. Enthusiastic
 D. Formal

Question ID : 630680204397
 Option 1 ID : 630680792674
 Option 2 ID : 630680792671
 Option 3 ID : 630680792673
 Option 4 ID : 630680792672
 Status : Not Answered
 Chosen Option : --

Q.2 Sentences of a paragraph are given below in jumbled order. Arrange the sentences in the correct order to form a meaningful and coherent paragraph.

- A. The main attraction of the exhibition was the Eiffel tower.
 B. Mahatma Gandhi had read about its grand preparations.
 C. He decided to visit Paris on that occasion.
 D. There was a great exhibition organised at Paris in the year 1890.

- Ans A. CADB
 B. DABC
 C. BDAC
 D. ABCD

Question ID : 630680204467
 Option 1 ID : 630680792929
 Option 2 ID : 630680792930
 Option 3 ID : 630680792928
 Option 4 ID : 630680792927
 Status : Not Answered
 Chosen Option : --

Q.3 Sentences of a paragraph are given below in jumbled order. Arrange the sentences in the correct order to form a meaningful and coherent paragraph.
 A. Toda, Soga is an ecologist at the University of Tokyo who specialises in the psychological benefits of nature.
 B. His research contributes to the growing body of scientific literature showing how spending time outside has a positive effect on humans.
 C. He studies how people's interactions with nature affect their attitude toward it.
 D. The early exposure to butterflies helped foster Soga's appreciation for nature.

- Ans A. DACB
 B. ADBC
 C. CADB
 D. DCBA

Question ID : 630680204478
 Option 1 ID : 630680792974
 Option 2 ID : 630680792972
 Option 3 ID : 630680792973
 Option 4 ID : 630680792971
 Status : Not Answered
 Chosen Option : --

Q.4 Select the option that can be used as a one-word substitute for the given group of words.
 One who is indifferent to pleasure or pain

- Ans A. Cynic
 B. Chivalrous
 C. Stoic
 D. Omniscient

Question ID : 630680166076
 Option 1 ID : 630680643279
 Option 2 ID : 630680643276
 Option 3 ID : 630680643278
 Option 4 ID : 630680643277
 Status : Not Answered
 Chosen Option : --

Q.5 Identify the error in the sentence and select the option to rectify it.
 Kalam's father was a boatman who ferries pilgrims to and from Dhanush Kodi.

- Ans A. ferry
 B. is
 C. were
 D. ferried

Question ID : 630680157370
 Option 1 ID : 630680609013
 Option 2 ID : 630680609015
 Option 3 ID : 630680609014
 Option 4 ID : 630680609012
 Status : Not Answered
 Chosen Option : --

Q.6 The following sentence has been split into four segments. Identify the segment that contains a grammatical error.

An octogenarian / continued living a tough life / but never he asked / for any help from his friends.

- Ans**
- A. for any help from his friends
 - B. but never he asked
 - C. continued living a tough life
 - D. An octogenarian

Question ID : 630680126811
 Option 1 ID : 630680491765
 Option 2 ID : 630680491764
 Option 3 ID : 630680491763
 Option 4 ID : 630680491762
 Status : Not Answered
 Chosen Option : --

Q.7 Select the INCORRECTLY spelt word.

- Ans**
- A. Reciept
 - B. Restore
 - C. Rewind
 - D. Remuneration

Question ID : 630680129945
 Option 1 ID : 630680503369
 Option 2 ID : 630680503367
 Option 3 ID : 630680503368
 Option 4 ID : 630680503366
 Status : Not Answered
 Chosen Option : --

Q.8 Select the INCORRECTLY spelt word.

- Ans**
- A. Sensational
 - B. Stricker
 - C. Scenic
 - D. Strive

Question ID : 630680129944
 Option 1 ID : 630680503364
 Option 2 ID : 630680503362
 Option 3 ID : 630680503363
 Option 4 ID : 630680503365
 Status : Not Answered
 Chosen Option : --

Q.9 Select the word that means the OPPOSITE of the given word.

Native

- Ans
- A. Centric
 - B. Horrible
 - C. Paranormal
 - D. Foreign

Question ID : 630680162037
Option 1 ID : 630680627459
Option 2 ID : 630680627457
Option 3 ID : 630680627456
Option 4 ID : 630680627458
Status : Not Answered
Chosen Option : --

Q.10 Select the INCORRECTLY spelt word.

- Ans
- A. Stationery
 - B. Dictionery
 - C. Register
 - D. Diary

Question ID : 630680167071
Option 1 ID : 630680647144
Option 2 ID : 630680647145
Option 3 ID : 630680647147
Option 4 ID : 630680647146
Status : Not Answered
Chosen Option : --

Q.11 Select the most appropriate synonym for the underlined word in the given sentence.
I make judicious use of taxis; they are not expensive when compared to the running costs of a car.

- Ans
- A. Complicated
 - B. Unrelated
 - C. Irrational
 - D. Thoughtful

Question ID : 630680167018
Option 1 ID : 630680646935
Option 2 ID : 630680646933
Option 3 ID : 630680646932
Option 4 ID : 630680646934
Status : Not Answered
Chosen Option : --

Q.12 Sentences of a paragraph are given below in jumbled order. Arrange the sentences in the correct order to form a meaningful and coherent paragraph.

- A. One of the earliest known vacuum cleaners was so large that it had to be hauled from house to house.
- B. Its giant hoses were popped through the windows of customers.
- C. Vacuum cleaners were originally horse-drawn.
- D. A gas-powered motor generated the suction that pulled the dirt and debris into a glass container where onlookers could gawk at the volume of filth coming from their neighbours' homes.

- Ans
- A. CBDA
 - B. CDAB
 - C. CABD
 - D. CADB

Question ID : 630680204443
 Option 1 ID : 630680792842
 Option 2 ID : 630680792841
 Option 3 ID : 630680792839
 Option 4 ID : 630680792840
 Status : Not Answered
 Chosen Option : --

Q.13 Select the most appropriate ANTONYM of the underlined word/phrase in the given sentence.

His friends liked everything about him except his frugality.

- Ans
- A. Temper
 - B. Punctuality
 - C. Extravagance
 - D. Shabbiness

Question ID : 630680177551
 Option 1 ID : 630680688367
 Option 2 ID : 630680688364
 Option 3 ID : 630680688366
 Option 4 ID : 630680688365
 Status : Not Answered
 Chosen Option : --

Q.14 Select the most appropriate meaning of the given idiom.
 A cloud on the horizon

- Ans
- A. A state of extreme, euphoric happiness
 - B. To be impractical, aloof, or fanciful or to be very unproductive
 - C. To be viewed with suspicion, distrust or disapproval
 - D. A sign of trouble or difficulty to come

Question ID : 630680146599
 Option 1 ID : 630680567279
 Option 2 ID : 630680567280
 Option 3 ID : 630680567281
 Option 4 ID : 630680567278
 Status : Not Answered
 Chosen Option : --

Q.15 Select the INCORRECTLY spelt word.

- Ans A. Colonal
 B. Inflection
 C. Colonial
 D. Saucer

Question ID : 630680163358
Option 1 ID : 630680632619
Option 2 ID : 630680632616
Option 3 ID : 630680632618
Option 4 ID : 630680632617
Status : Not Answered
Chosen Option : --

Q.16 Select the most appropriate option that can substitute the underlined segment in the given sentence.

For adolescent girls especially, UNICEF invests on skills building to further their economic empowerment – as entrepreneurs, innovators and leaders.

- Ans A. invests through skills building
 B. invests with skills building
 C. invests in skills building
 D. invests up skills building

Question ID : 630680130474
Option 1 ID : 630680505207
Option 2 ID : 630680505208
Option 3 ID : 630680505209
Option 4 ID : 630680505206
Status : Not Answered
Chosen Option : --

Q.17 Select the word that means the same as the underlined segment in the sentence.
Riya is a person who loves wisdom and hence pursues it.

- Ans A. philosopher
 B. sycophant
 C. philanthropist
 D. patriot

Question ID : 630680209312
Option 1 ID : 630680811463
Option 2 ID : 630680811465
Option 3 ID : 630680811464
Option 4 ID : 630680811466
Status : Not Answered
Chosen Option : --

Q.18 Select the most appropriate meaning of the given proverb.
Beauty is only skin deep.

Ans A. Being beautiful is overrated.
 B. A person's physical appearance is the most important quality.
 C. What may be beautiful to someone may not be beautiful to someone else.
 D. A person's inner qualities matter more than their physical appearance.

Question ID : 630680160886
 Option 1 ID : 630680622918
 Option 2 ID : 630680622917
 Option 3 ID : 630680622919
 Option 4 ID : 630680622916
 Status : Not Answered
 Chosen Option : --

Q.19 Select the option that can be used as a one-word substitute for the given group of words.
That which is unavoidable

Ans A. Salient
 B. Significant
 C. Indispensable
 D. Inevitable

Question ID : 630680160082
 Option 1 ID : 630680619714
 Option 2 ID : 630680619715
 Option 3 ID : 630680619712
 Option 4 ID : 630680619713
 Status : Not Answered
 Chosen Option : --

Q.20 Sentences of a paragraph are given below in jumbled order. Arrange the sentences in the correct order to form a meaningful and coherent paragraph.

A. 2020 began on a hopeful note—as all new years do.
 B. A lot has already happened in the first half of 2020—from the coronavirus pandemic to Australia's devastating bushfires.
 C. Very soon, however, it transformed into the year that introduced a 'new normal' to the world and gave a whole new meaning to the phrase 'unprecedented times'.
 D. In the last few months alone, American rapper Kanye announced his presidential bid and then promptly dropped out of the race, Prince Harry and Meghan declared they were stepping down as senior royals and moved to North America, the Olympics were postponed and Elon Musk named his baby boy X AE A-12!

Ans A. ABCD
 B. ACBD
 C. ABDC
 D. ACDB

Question ID : 630680204431
 Option 1 ID : 630680792791
 Option 2 ID : 630680792793
 Option 3 ID : 630680792792
 Option 4 ID : 630680792794
 Status : Not Answered
 Chosen Option : --

Comprehension:

Read the given passage carefully and answer the questions that follow.
The best men are supposed to be elected by the people. The members serve without pay and therefore, it must be assumed, only for the public weal. The electors are considered to be educated and therefore we should assume that they would not generally make mistakes in their choice. Such a Parliament should not need the spur of petitions or any other pressure. Its work should be so smooth that its effects would be more apparent day by day. But, as a matter of fact, it is generally acknowledged that the members are hypocritical and selfish. Each thinks of his own little interest. It is fear that is the guiding motive. What is done today may be undone tomorrow. It is not possible to recall a single instance in which finality can be predicted for its work. When the greatest questions are debated, its members have been seen to stretch themselves and to doze. Sometimes the members talk away until the listeners are disgusted. Carlyle has called it the 'talking shop of the world'. Members vote for their party without a thought. Their so-called discipline binds them to it. If any member, by way of exception, gives an independent vote, he is considered a renegade. If the money and the time wasted by Parliament were entrusted to a few good men, the English nation would be occupying today a much higher platform. Parliament is simply a costly toy of the nation. These views are by no means peculiar to me. Some great English thinkers have expressed them. One of the members of that Parliament recently said that a true Christian could not become a member of it. Another said that it was a baby. And if it has remained a baby after an existence of seven hundred years, when will it outgrow its babyhood?

SubQuestion No : 21

Q.21 Which of the following is NOT a reason to suggest that a few good men would be more effective than Parliament in governing the nation?

- Ans
- A. Parliament's work is not smooth and its effects are unpredictable.
 - B. The electors are not educated enough to make good choices.
 - C. Parliament is made up of hypocritical and selfish members.
 - D. Members vote for their party without considering the public weal.

Question ID : 630680214343

Option 1 ID : 630680831413

Option 2 ID : 630680831412

Option 3 ID : 630680831411

Option 4 ID : 630680831414

Status : Not Answered

Chosen Option : --

Comprehension:

Read the given passage carefully and answer the questions that follow.
The best men are supposed to be elected by the people. The members serve without pay and therefore, it must be assumed, only for the public weal. The electors are considered to be educated and therefore we should assume that they would not generally make mistakes in their choice. Such a Parliament should not need the spur of petitions or any other pressure. Its work should be so smooth that its effects would be more apparent day by day. But, as a matter of fact, it is generally acknowledged that the members are hypocritical and selfish. Each thinks of his own little interest. It is fear that is the guiding motive. What is done today may be undone tomorrow. It is not possible to recall a single instance in which finality can be predicted for its work. When the greatest questions are debated, its members have been seen to stretch themselves and to doze. Sometimes the members talk away until the listeners are disgusted. Carlyle has called it the 'talking shop of the world'. Members vote for their party without a thought. Their so-called discipline binds them to it. If any member, by way of exception, gives an independent vote, he is considered a renegade. If the money and the time wasted by Parliament were entrusted to a few good men, the English nation would be occupying today a much higher platform. Parliament is simply a costly toy of the nation. These views are by no means peculiar to me. Some great English thinkers have expressed them. One of the members of that Parliament recently said that a true Christian could not become a member of it. Another said that it was a baby. And if it has remained a baby after an existence of seven hundred years, when will it outgrow its babyhood?

SubQuestion No : 22

Q.22 According to the passage, what is the guiding motive for Members of Parliament?

- Ans
- A. Education
 - B. Fear
 - C. Public welfare
 - D. Discipline

Question ID : 630680214342
Option 1 ID : 630680831409
Option 2 ID : 630680831408
Option 3 ID : 630680831407
Option 4 ID : 630680831410
Status : Not Answered
Chosen Option : --

Comprehension:

Read the given passage carefully and answer the questions that follow.
The best men are supposed to be elected by the people. The members serve without pay and therefore, it must be assumed, only for the public weal. The electors are considered to be educated and therefore we should assume that they would not generally make mistakes in their choice. Such a Parliament should not need the spur of petitions or any other pressure. Its work should be so smooth that its effects would be more apparent day by day. But, as a matter of fact, it is generally acknowledged that the members are hypocritical and selfish. Each thinks of his own little interest. It is fear that is the guiding motive. What is done today may be undone tomorrow. It is not possible to recall a single instance in which finality can be predicted for its work. When the greatest questions are debated, its members have been seen to stretch themselves and to doze. Sometimes the members talk away until the listeners are disgusted. Carlyle has called it the 'talking shop of the world'. Members vote for their party without a thought. Their so-called discipline binds them to it. If any member, by way of exception, gives an independent vote, he is considered a renegade. If the money and the time wasted by Parliament were entrusted to a few good men, the English nation would be occupying today a much higher platform. Parliament is simply a costly toy of the nation. These views are by no means peculiar to me. Some great English thinkers have expressed them. One of the members of that Parliament recently said that a true Christian could not become a member of it. Another said that it was a baby. And if it has remained a baby after an existence of seven hundred years, when will it outgrow its babyhood?

SubQuestion No : 23**Q.23 Identify the tone of the passage.**

- Ans
- A. Humorous
 - B. Neutral
 - C. Assertive
 - D. Inquisitive

Question ID : 630680214340
Option 1 ID : 630680831400
Option 2 ID : 630680831402
Option 3 ID : 630680831399
Option 4 ID : 630680831401
Status : Not Answered
Chosen Option : --

Comprehension:

Read the given passage carefully and answer the questions that follow.
The best men are supposed to be elected by the people. The members serve without pay and therefore, it must be assumed, only for the public weal. The electors are considered to be educated and therefore we should assume that they would not generally make mistakes in their choice. Such a Parliament should not need the spur of petitions or any other pressure. Its work should be so smooth that its effects would be more apparent day by day. But, as a matter of fact, it is generally acknowledged that the members are hypocritical and selfish. Each thinks of his own little interest. It is fear that is the guiding motive. What is done today may be undone tomorrow. It is not possible to recall a single instance in which finality can be predicted for its work. When the greatest questions are debated, its members have been seen to stretch themselves and to doze. Sometimes the members talk away until the listeners are disgusted. Carlyle has called it the 'talking shop of the world'. Members vote for their party without a thought. Their so-called discipline binds them to it. If any member, by way of exception, gives an independent vote, he is considered a renegade. If the money and the time wasted by Parliament were entrusted to a few good men, the English nation would be occupying today a much higher platform. Parliament is simply a costly toy of the nation. These views are by no means peculiar to me. Some great English thinkers have expressed them. One of the members of that Parliament recently said that a true Christian could not become a member of it. Another said that it was a baby. And if it has remained a baby after an existence of seven hundred years, when will it outgrow its babyhood?

SubQuestion No : 24

Q.24 What can be observed about the behaviour of members when important debates are taking place?

- Ans**
- A. They are fully engaged and alert.
 - B. They become impatient and quickly end the debate.
 - C. They stretch themselves and doze off.
 - D. They actively listen to each other and participate constructively.

Question ID : 630680214339
Option 1 ID : 630680831395
Option 2 ID : 630680831398
Option 3 ID : 630680831396
Option 4 ID : 630680831397
Status : Not Answered
Chosen Option : --

Comprehension:

Read the given passage carefully and answer the questions that follow.
The best men are supposed to be elected by the people. The members serve without pay and therefore, it must be assumed, only for the public weal. The electors are considered to be educated and therefore we should assume that they would not generally make mistakes in their choice. Such a Parliament should not need the spur of petitions or any other pressure. Its work should be so smooth that its effects would be more apparent day by day. But, as a matter of fact, it is generally acknowledged that the members are hypocritical and selfish. Each thinks of his own little interest. It is fear that is the guiding motive. What is done today may be undone tomorrow. It is not possible to recall a single instance in which finality can be predicted for its work. When the greatest questions are debated, its members have been seen to stretch themselves and to doze. Sometimes the members talk away until the listeners are disgusted. Carlyle has called it the 'talking shop of the world'. Members vote for their party without a thought. Their so-called discipline binds them to it. If any member, by way of exception, gives an independent vote, he is considered a renegade. If the money and the time wasted by Parliament were entrusted to a few good men, the English nation would be occupying today a much higher platform. Parliament is simply a costly toy of the nation. These views are by no means peculiar to me. Some great English thinkers have expressed them. One of the members of that Parliament recently said that a true Christian could not become a member of it. Another said that it was a baby. And if it has remained a baby after an existence of seven hundred years, when will it outgrow its babyhood?

SubQuestion No : 25

Q.25 Select the most appropriate ANTONYM for the word 'weal'.

- Ans A. Welfare
 B. Suffering
 C. Ache
 D. Aspirations

Question ID : 630680214341
 Option 1 ID : 630680831403
 Option 2 ID : 630680831404
 Option 3 ID : 630680831406
 Option 4 ID : 630680831405
 Status : Not Answered
 Chosen Option : --

Section : Hindi

Q.1 सर्वोचित शब्द से दिया गया वाक्य पूर्ण करें।
 आप मेरी राय की _____ कर ही नहीं सकते क्योंकि मेरी बात सोलह आने सच है।

- Ans A. उपमा
 B. अपेक्षा
 C. उपेक्ष्य
 D. उपेक्षा

Question ID : 630680204542
 Option 1 ID : 630680793221
 Option 2 ID : 630680793219
 Option 3 ID : 630680793222
 Option 4 ID : 630680793220
 Status : Answered
 Chosen Option : D

Q.2 निम्नलिखित में से किस वाक्य में सर्वनाम का अशुद्ध प्रयोग हुआ है?

- Ans A. वह संतोष के साथ चला गया।
 B. वह सब भले लोग हैं।
 C. मुझे उसने खाना खिलाया।
 D. मैंने उसे किताब देने को कहा।

Question ID : 63068071680
 Option 1 ID : 630680277190
 Option 2 ID : 630680277192
 Option 3 ID : 630680277191
 Option 4 ID : 630680277193
 Status : Answered
 Chosen Option : B

Q.3 निम्नलिखित में से किस शब्द से पक्ष या अनुसार का भाव प्रकट होता है?

- Ans A. प्रतिकूल
 B. अनुकूल
 C. अनुभव
 D. ज्ञान

Question ID : 630680126250
 Option 1 ID : 630680489607
 Option 2 ID : 630680489606
 Option 3 ID : 630680489608
 Option 4 ID : 630680489609
 Status : Answered
 Chosen Option : B

Q.4 'सर्प' शब्द के लिए कौन - सा पर्यायवाची अर्थ उपयुक्त रहेगा?

- Ans A. शार्दूल
 B. शकुली
 C. व्याल
 D. कुक्कुट

Question ID : 630680129028
 Option 1 ID : 630680499741
 Option 2 ID : 630680499740
 Option 3 ID : 630680499739
 Option 4 ID : 630680499738
 Status : Not Answered
 Chosen Option : --

Q.5 "कुंभकरण ____ के लिए प्रसिद्ध है।"
रिक्त स्थान में उपयुक्त तद्भव शब्द होगा।

- Ans
- A. नासिका
 - B. अधर्म
 - C. नींद
 - D. निद्रा

Question ID : 630680165025
Option 1 ID : 630680639147
Option 2 ID : 630680639146
Option 3 ID : 630680639144
Option 4 ID : 630680639145
Status : Answered
Chosen Option : C

Q.6 निम्नलिखित विकल्पों में से 'वाग्दान' का संधि विच्छेद है-

- Ans
- A. वक्+अदान
 - B. वाक्+दाना
 - C. वाक्+अदना
 - D. वाक्+दान

Question ID : 630680138591
Option 1 ID : 630680536544
Option 2 ID : 630680536542
Option 3 ID : 630680536545
Option 4 ID : 630680536543
Status : Answered
Chosen Option : D

Q.7 'उगले तो अंधा, निगले तो कोढ़ी'- इस कहावत के उचित अर्थ का चयन करें-

- Ans
- A. हर स्थिति में नुकसान होने की सम्भावना
 - B. किसी के साथ बहुत बुरा व्यवहार हो जाना
 - C. बहुत अधिक परिश्रम, अत्यंत कम उपलब्धि
 - D. वातावरण और परिस्थिति के अनुसार रहना

Question ID : 630680214270
Option 1 ID : 630680831130
Option 2 ID : 630680831129
Option 3 ID : 630680831128
Option 4 ID : 630680831127
Status : Answered
Chosen Option : A

Q.8 निम्नलिखित में से कौन सा एक वाक्य 'पूर्वकालिक क्रिया' से सम्बन्ध नहीं रखता है?

- Ans A. वह नहा कर खाता है
 B. वह पैदल घर आया
 C. सन्यासी होकर भी वह घरवासी है
 D. वह विद्यार्थी होकर भी पढ़ता नहीं

Question ID : 630680123309
Option 1 ID : 630680478128
Option 2 ID : 630680478129
Option 3 ID : 630680478126
Option 4 ID : 630680478127
Status : Answered
Chosen Option : B

Q.9 निम्नलिखित विकल्पों में से 'जिसे वाणी द्वारा कहा न जा सके।' वाक्यांश के लिए एक सार्थक शब्द क्या होगा?

- Ans A. अद्भुत
 B. वर्णनातीत
 C. अनिर्वचनीय
 D. अतुलनीय

Question ID : 630680126110
Option 1 ID : 630680489057
Option 2 ID : 630680489055
Option 3 ID : 630680489056
Option 4 ID : 630680489054
Status : Answered
Chosen Option : B

Q.10 दिये गए वाक्यांश के लिए एक शब्द होगा।
धन से संबंधित

- Ans A. अर्थवित्ता
 B. अर्थशास्त्री
 C. धनिक
 D. आर्थिक

Question ID : 630680126187
Option 1 ID : 630680489355
Option 2 ID : 630680489354
Option 3 ID : 630680489357
Option 4 ID : 630680489356
Status : Answered
Chosen Option : D

Q.11 निम्नलिखित अर्थ वाली कहावत की पहचान करें-
'दिखावटी ठाट-बाट किन्तु सार कुछ नहीं'

- Ans A. छप्पर पर फूस नहीं, झोड़ी पर नाच
 B. चूल्हे की न चक्की की
 C. चिराग में बत्ती और आँख में पट्टी
 D. ज़र का ज़ोर पूरा, बाकी अधूरा

Question ID : 630680214271
 Option 1 ID : 630680831131
 Option 2 ID : 630680831133
 Option 3 ID : 630680831132
 Option 4 ID : 630680831134
 Status : Answered
 Chosen Option : A

Q.12 निम्नलिखित विकल्पों को ध्यानपूर्वक पढ़ें और बताएं कि इनमें से कौनसा विकल्प द्विगु समास का उदाहरण है?

- Ans A. पाप-पुण्य
 B. पीताम्बर
 C. पंचवटी
 D. गजानन

Question ID : 630680203696
 Option 1 ID : 630680789985
 Option 2 ID : 630680789983
 Option 3 ID : 630680789986
 Option 4 ID : 630680789984
 Status : Answered
 Chosen Option : C

Q.13 निम्नलिखित में से किस वाक्य में 'अर्थ' का अर्थ 'धन' है-

- Ans A. उसकी एक गलती से अर्थ का अनर्थ हो गया।
 B. तुम्हारी बातों का अर्थ समझना बहुत कठिन है।
 C. पुष्प का अर्थ फूल होता है।
 D. भारत की अर्थव्यवस्था विकासशील है।

Question ID : 630680203860
 Option 1 ID : 630680790642
 Option 2 ID : 630680790640
 Option 3 ID : 630680790639
 Option 4 ID : 630680790641
 Status : Answered
 Chosen Option : D

Q.14 'दूसरे के काम में दखल देना' वाक्यांश के लिए सार्थक शब्द इनमें से कौन-सा है?

- Ans
- A. हस्तक्षेप
 - B. हस्ताक्षर
 - C. अनधिकार प्रयास
 - D. हस्तागत

Question ID : 630680204933
 Option 1 ID : 630680794600
 Option 2 ID : 630680794599
 Option 3 ID : 630680794601
 Option 4 ID : 630680794602
 Status : Answered
 Chosen Option : A

Q.15 'ऑख' का पर्यायवाची शब्द है-

- Ans
- A. स्कन्ध
 - B. नासिका
 - C. कर्ण
 - D. नेत्र

Question ID : 630680128969
 Option 1 ID : 630680499503
 Option 2 ID : 630680499505
 Option 3 ID : 630680499504
 Option 4 ID : 630680499502
 Status : Answered
 Chosen Option : D

Q.16 सर्वनाम का रूपांतरण _____ की दृष्टि से होता है। - रिक्त स्थान के लिए उचित विकल्प है-

- Ans
- A. लिंग और वचन
 - B. पुरुष, वचन और कारक
 - C. संज्ञा और विशेषण
 - D. विकारी और अविकारी

Question ID : 63068091120
 Option 1 ID : 630680353235
 Option 2 ID : 630680353234
 Option 3 ID : 630680353236
 Option 4 ID : 630680353237
 Status : Answered
 Chosen Option : A

Q.17 'दध्योदन' का संधि-विच्छेद है-

- Ans
- A. दध् + ओदन
 - B. दधि + ओदन
 - C. दधः + अदन
 - D. दध्य + ओदन

Question ID : 630680138919
Option 1 ID : 630680537827
Option 2 ID : 630680537828
Option 3 ID : 630680537829
Option 4 ID : 630680537826
Status : Answered
Chosen Option : B

Q.18 'पीताम्बर' में समास है-

- Ans
- A. द्वन्द्व समास
 - B. द्विगु समास
 - C. अव्ययीभाव समास
 - D. बहुव्रीहि समास

Question ID : 630680204548
Option 1 ID : 630680793243
Option 2 ID : 630680793244
Option 3 ID : 630680793245
Option 4 ID : 630680793246
Status : Answered
Chosen Option : D

Q.19 निम्नलिखित में से किस शब्द के विग्रह में 'तत्पुरुष समास' होगा? चयन कीजिए-

- Ans
- A. कृताकृत
 - B. धरणीधर
 - C. अनुकृति
 - D. छत्तीसगढ़

Question ID : 630680214273
Option 1 ID : 630680831140
Option 2 ID : 630680831142
Option 3 ID : 630680831139
Option 4 ID : 630680831141
Status : Answered
Chosen Option : A

Q.20 'उदधि बढ़ाई कौन है, जगत पिआसो जाय।।' इस पंक्ति में 'उदधि' शब्द किसका पर्यायवाची है?

- Ans A. पयोधि
 B. सरिता
 C. कुमुद
 D. उपवन

Question ID : 630680203843
 Option 1 ID : 630680790572
 Option 2 ID : 630680790573
 Option 3 ID : 630680790574
 Option 4 ID : 630680790571
 Status : Answered
 Chosen Option : A

Comprehension:

निम्नलिखित गद्यांश को ध्यानपूर्वक पढ़िए और पूछे गए प्रश्नों के सही उत्तर चुनिए।

जनसंख्या की वृद्धि भारत के लिए आज एक विकट समस्या बन गयी है। यह समाज की सुख-सम्पन्नता के लिए एक भयंकर चुनौती है। महानगरों में कीड़ों-मकोड़ों की भाँति अस्वास्थ्यकर घोंसलों में आदमी भरा पड़ा है। न धूप, न हवा, न पानी, न दवा। पीले-दुर्बल, निराश चेहरे। यह संकट अनायास नहीं आया है। संतान को ईश्वरीय विधान और वरदान मानने वाला भारतीय समाज ही इस 'रक्तबीजी संस्कृति' के लिए जिम्मेदार है। चाहे खिलाने को रोटी और पहनाने को वस्त्र न हो, शिक्षा को शुल्क और रहने को छप्पर न हो, लेकिन अध-भूखे, अध-नंगे बच्चों की कतार खड़ी करना हर भारतीय अपना जन्म सिद्ध अधिकार समझता है। यदि इस जनवृद्धि पर नियंत्रण न हो सका तो हमारे सारे प्रयोजन और आयोजन व्यर्थ हो जायेंगे। धरती पर पैर रखने की जगह नहीं बचेगी। जब किसी समाज के सदस्यों की संख्या बढ़ती है तो उसे उनके भरण-पोषण के लिए जीवनोपयोगी वस्तुओं की आवश्यकता पड़ती है, परंतु वस्तुओं का उत्पादन तो गणितीय क्रम से होता है और जनसंख्या रेखागणित की दर से बढ़ती है। फलस्वरूप जनसंख्या और उत्पादन-दर में चोर-सिपाही का खेल शुरू हो जाता है। आगे-आगे जनसंख्या दौड़ती है और पीछे-पीछे उत्पादन-वृद्धि। वास्तविकता यह है कि उत्पादन-वृद्धि के सारे लाभ को जनसंख्या की वृद्धि व्यर्थ कर देती है। जिसके परिणामस्वरूप वस्तुएँ अलभ्य हो जाती हैं। मँहगाई निरंतर बढ़ती रहती है। जीवन-स्तर गिरता जाता है। गरीबी, अशिक्षा, बेकारी बढ़ती चली जाती है। देश वहीं-का-वहीं पड़ा रहता है।

SubQuestion No : 21

Q.21 'रक्तबीजी संस्कृति' का अर्थ है-

- Ans A. अधिक संतति उत्पन्न करने की संस्कृति
 B. संतान को ईश्वर का वरदान मानने की संस्कृति
 C. खून बहाने की संस्कृति
 D. गरीबी और गंदगी में रहने की संस्कृति

Question ID : 630680138860
 Option 1 ID : 630680537595
 Option 2 ID : 630680537596
 Option 3 ID : 630680537594
 Option 4 ID : 630680537597
 Status : Answered
 Chosen Option : B

Comprehension:

निम्नलिखित गद्यांश को ध्यानपूर्वक पढ़िए और पूछे गए प्रश्नों के सही उत्तर चुनिए।

जनसंख्या की वृद्धि भारत के लिए आज एक विकट समस्या बन गयी है। यह समाज की सुख-सम्पन्नता के लिए एक भयंकर चुनौती है। महानगरों में कीड़ों-मकोड़ों की भाँति अस्वास्थ्यकर घोंसलों में आदमी भरा पड़ा है। न धूप, न हवा, न पानी, न दवा। पीले-दुर्बल, निराश चेहरे। यह संकट अनायास नहीं आया है। संतान को ईश्वरीय विधान और वरदान मानने वाला भारतीय समाज ही इस 'रक्तबीजी संस्कृति' के लिए ज़िम्मेदार है। चाहे खिलाने को रोटी और पहनाने को वस्त्र न हो, शिक्षा को शुल्क और रहने को छप्पर न हो, लेकिन अध-भूखे, अध-नंगे बच्चों की कतार खड़ी करना हर भारतीय अपना जन्म सिद्ध अधिकार समझता है। यदि इस जनवृद्धि पर नियंत्रण न हो सका तो हमारे सारे प्रयोजन और आयोजन व्यर्थ हो जायेंगे। धरती पर पैर रखने की जगह नहीं बचेगी। जब किसी समाज के सदस्यों की संख्या बढ़ती है तो उसे उनके भरण-पोषण के लिए जीवनोपयोगी वस्तुओं की आवश्यकता पड़ती है, परंतु वस्तुओं का उत्पादन तो गणितीय क्रम से होता है और जनसंख्या रेखागणित की दर से बढ़ती है। फलस्वरूप जनसंख्या और उत्पादन-दर में चोर-सिपाही का खेल शुरू हो जाता है। आगे-आगे जनसंख्या दौड़ती है और पीछे-पीछे उत्पादन-वृद्धि। वास्तविकता यह है कि उत्पादन-वृद्धि के सारे लाभ को जनसंख्या की वृद्धि व्यर्थ कर देती है। जिसके परिणामस्वरूप वस्तुएँ अलभ्य हो जाती हैं। मँहगाई निरंतर बढ़ती रहती है। जीवन-स्तर गिरता जाता है। गरीबी, अशिक्षा, बेकारी बढ़ती चली जाती है। देश वहीं-का-वहीं पड़ा रहता है।

SubQuestion No : 22

Q.22 गद्यांश के अनुसार भारत में बढ़ती जनसंख्या के लिए ज़िम्मेदार है--

- Ans A. संतान को ईश्वरीय विधान और वरदान मानना
- B. अशिक्षा और रीतिरिवाज का बंधन
- C. जनसंख्या नियंत्रण के उपायों की कमी
- D. प्रजनन क्षमता का अधिक होना

Question ID : 630680138858
 Option 1 ID : 630680537589
 Option 2 ID : 630680537588
 Option 3 ID : 630680537587
 Option 4 ID : 630680537586
 Status : Answered
 Chosen Option : A

Comprehension:

निम्नलिखित गद्यांश को ध्यानपूर्वक पढ़िए और पूछे गए प्रश्नों के सही उत्तर चुनिए।

जनसंख्या की वृद्धि भारत के लिए आज एक विकट समस्या बन गयी है। यह समाज की सुख-सम्पन्नता के लिए एक भयंकर चुनौती है। महानगरों में कीड़ों-मकोड़ों की भाँति अस्वास्थ्यकर घोंसलों में आदमी भरा पड़ा है। न धूप, न हवा, न पानी, न दवा। पीले-दुर्बल, निराश चेहरे। यह संकट अनायास नहीं आया है। संतान को ईश्वरीय विधान और वरदान मानने वाला भारतीय समाज ही इस 'रक्तबीजी संस्कृति' के लिए ज़िम्मेदार है। चाहे खिलाने को रोटी और पहनाने को वस्त्र न हो, शिक्षा को शुल्क और रहने को छप्पर न हो, लेकिन अध-भूखे, अध-नंगे बच्चों की कतार खड़ी करना हर भारतीय अपना जन्म सिद्ध अधिकार समझता है। यदि इस जनवृद्धि पर नियंत्रण न हो सका तो हमारे सारे प्रयोजन और आयोजन व्यर्थ हो जायेंगे। धरती पर पैर रखने की जगह नहीं बचेगी। जब किसी समाज के सदस्यों की संख्या बढ़ती है तो उसे उनके भरण-पोषण के लिए जीवनोपयोगी वस्तुओं की आवश्यकता पड़ती है, परंतु वस्तुओं का उत्पादन तो गणितीय क्रम से होता है और जनसंख्या रेखागणित की दर से बढ़ती है। फलस्वरूप जनसंख्या और उत्पादन-दर में चोर-सिपाही का खेल शुरू हो जाता है। आगे-आगे जनसंख्या दौड़ती है और पीछे-पीछे उत्पादन-वृद्धि। वास्तविकता यह है कि उत्पादन-वृद्धि के सारे लाभ को जनसंख्या की वृद्धि व्यर्थ कर देती है। जिसके परिणामस्वरूप वस्तुएँ अलभ्य हो जाती हैं। मँहगाई निरंतर बढ़ती रहती है। जीवन-स्तर गिरता जाता है। गरीबी, अशिक्षा, बेकारी बढ़ती चली जाती है। देश वहीं-का-वहीं पड़ा रहता है।

SubQuestion No : 23

Q.23 बढ़ती जनसंख्या का दुष्प्रभाव निम्न में से नहीं है--

- Ans A. जीवनोपयोगी वस्तुओं का अभाव
 B. रोज़गार के साधनों में वृद्धि
 C. मँहगाई में अत्यधिक वृद्धि
 D. अस्वास्थ्यकर रहन-सहन

Question ID : 630680138862
 Option 1 ID : 630680537603
 Option 2 ID : 630680537605
 Option 3 ID : 630680537604
 Option 4 ID : 630680537602
 Status : Answered
 Chosen Option : B

Comprehension:

निम्नलिखित गद्यांश को ध्यानपूर्वक पढ़िए और पूछे गए प्रश्नों के सही उत्तर चुनिए।

जनसंख्या की वृद्धि भारत के लिए आज एक विकट समस्या बन गयी है। यह समाज की सुख-सम्पन्नता के लिए एक भयंकर चुनौती है। महानगरों में कीड़ों-मकोड़ों की भाँति अस्वास्थ्यकर घोंसलों में आदमी भरा पड़ा है। न धूप, न हवा, न पानी, न दवा। पीले-दुर्बल, निराश चेहरे। यह संकट अनायास नहीं आया है। संतान को ईश्वरीय विधान और वरदान मानने वाला भारतीय समाज ही इस 'रक्तबीजी संस्कृति' के लिए ज़िम्मेदार है। चाहे खिलाने को रोटी और पहनाने को वस्त्र न हो, शिक्षा को शुल्क और रहने को छप्पर न हो, लेकिन अध-भूखे, अध-नंगे बच्चों की कतार खड़ी करना हर भारतीय अपना जन्म सिद्ध अधिकार समझता है। यदि इस जनवृद्धि पर नियंत्रण न हो सका तो हमारे सारे प्रयोजन और आयोजन व्यर्थ हो जायेंगे। धरती पर पैर रखने की जगह नहीं बचेगी। जब किसी समाज के सदस्यों की संख्या बढ़ती है तो उसे उनके भरण-पोषण के लिए जीवनोपयोगी वस्तुओं की आवश्यकता पड़ती है, परंतु वस्तुओं का उत्पादन तो गणितीय क्रम से होता है और जनसंख्या रेखागणित की दर से बढ़ती है। फलस्वरूप जनसंख्या और उत्पादन-दर में चोर-सिपाही का खेल शुरू हो जाता है। आगे-आगे जनसंख्या दौड़ती है और पीछे-पीछे उत्पादन-वृद्धि। वास्तविकता यह है कि उत्पादन-वृद्धि के सारे लाभ को जनसंख्या की वृद्धि व्यर्थ कर देती है। जिसके परिणामस्वरूप वस्तुएँ अलभ्य हो जाती हैं। मँहगाई निरंतर बढ़ती रहती है। जीवन-स्तर गिरता जाता है। गरीबी, अशिक्षा, बेकारी बढ़ती चली जाती है। देश वहीं-का-वहीं पड़ा रहता है।

SubQuestion No : 24

Q.24 जनसंख्या और मँहगाई में क्या संबंध है--

- Ans** A. जनसंख्या बढ़ने से उत्पादन वृद्धि भी व्यर्थ हो जाती है और मँहगाई बढ़ जाती है।
 B. जनसंख्या बढ़ने से उत्पादन में वृद्धि हो जाती है और मँहगाई घट जाती है।
 C. जनसंख्या बढ़ने से कमाने वाले ज़्यादा होते हैं तो मँहगाई कम होती है।
 D. जनसंख्या बढ़ने से खाने वाले ज़्यादा होते हैं तो मँहगाई अधिक होती है।

Question ID : 630680138859
 Option 1 ID : 630680537592
 Option 2 ID : 630680537593
 Option 3 ID : 630680537590
 Option 4 ID : 630680537591
 Status : Answered
 Chosen Option : A

Comprehension:

निम्नलिखित गद्यांश को ध्यानपूर्वक पढ़िए और पूछे गए प्रश्नों के सही उत्तर चुनिए।

जनसंख्या की वृद्धि भारत के लिए आज एक विकट समस्या बन गयी है। यह समाज की सुख-सम्पन्नता के लिए एक भयंकर चुनौती है। महानगरों में कीड़ों-मकोड़ों की भाँति अस्वास्थ्यकर घोंसलों में आदमी भरा पड़ा है। न धूप, न हवा, न पानी, न दवा। पीले-दुर्बल, निराश चेहरे। यह संकट अनायास नहीं आया है। संतान को ईश्वरीय विधान और वरदान मानने वाला भारतीय समाज ही इस 'रक्तबीजी संस्कृति' के लिए ज़िम्मेदार है। चाहे खिलाने को रोटी और पहनाने को वस्त्र न हो, शिक्षा को शुल्क और रहने को छप्पर न हो, लेकिन अध-भूखे, अध-नंगे बच्चों की कतार खड़ी करना हर भारतीय अपना जन्म सिद्ध अधिकार समझता है। यदि इस जनवृद्धि पर नियंत्रण न हो सका तो हमारे सारे प्रयोजन और आयोजन व्यर्थ हो जायेंगे। धरती पर पैर रखने की जगह नहीं बचेगी। जब किसी समाज के सदस्यों की संख्या बढ़ती है तो उसे उनके भरण-पोषण के लिए जीवनोपयोगी वस्तुओं की आवश्यकता पड़ती है, परंतु वस्तुओं का उत्पादन तो गणितीय क्रम से होता है और जनसंख्या रेखागणित की दर से बढ़ती है। फलस्वरूप जनसंख्या और उत्पादन-दर में चोर-सिपाही का खेल शुरू हो जाता है। आगे-आगे जनसंख्या दौड़ती है और पीछे-पीछे उत्पादन-वृद्धि। वास्तविकता यह है कि उत्पादन-वृद्धि के सारे लाभ को जनसंख्या की वृद्धि व्यर्थ कर देती है। जिसके परिणामस्वरूप वस्तुएँ अलभ्य हो जाती हैं। मँहगाई निरंतर बढ़ती रहती है। जीवन-स्तर गिरता जाता है। गरीबी, अशिक्षा, बेकारी बढ़ती चली जाती है। देश वहीं-का-वहीं पड़ा रहता है।

SubQuestion No : 25

Q.25 गद्यांश का उचित शीर्षक होगा-

- Ans A. जनसंख्या और मँहगाई
- B. बढ़ती जनसंख्या: एक अभिशाप
- C. जनसंख्या नियंत्रण की आवश्यकता
- D. जनसंख्या वृद्धि की समस्या

Question ID : 630680138861
 Option 1 ID : 630680537601
 Option 2 ID : 630680537599
 Option 3 ID : 630680537598
 Option 4 ID : 630680537600
 Status : Not Answered
 Chosen Option : --