

# **CRPF Constable**

**Previous Year Paper  
Technical Tradesman  
03 July, 2023 Shift 2**



Adda247

# Test Prime

**ALL EXAMS, ONE SUBSCRIPTION**



**1,00,000+**  
Mock Tests



**Personalised  
Report Card**



**Unlimited  
Re-Attempt**



**600+**  
Exam Covered



**25,000+** Previous  
Year Papers



**500%**  
Refund



**ATTEMPT FREE MOCK NOW**

## CRPF Technical Tradesman 1st to 12th July 2023

Participant ID	
Participant Name	
Test Center Name	
Test Date	03/07/2023
Test Time	12:30 PM - 2:30 PM
Subject	Constable Cook

Section : General Intelligence and Reasoning

Q.1 एक निश्चित कूट भाषा में, 'SPARK' को '93521', 'ARC' को '369' और 'TRACK' को '38691' के रूप में कूटबद्ध किया जाता है। दी गई कूट भाषा में 'T' के लिए कूट क्या है?

- Ans
- A. 8
  - B. 3
  - C. 5
  - D. 2

Question ID : 630680261930  
Option 1 ID : 6306801017378  
Option 2 ID : 6306801017377  
Option 3 ID : 6306801017376  
Option 4 ID : 6306801017375  
Status : Answered  
Chosen Option : A

Q.2 अरुण ने सुमित का परिचय अपने पिता की पत्नी के इकलौते भाई के पुत्र के रूप में दिया। सुमित, अरुण से किस प्रकार संबंधित है?

- Ans
- A. भाई
  - B. पुत्र
  - C. दामाद
  - D. चचेरा/ममेरा/फुफेरा/मौसेरा भाई

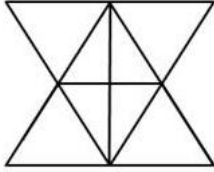
Question ID : 630680106078  
Option 1 ID : 630680412214  
Option 2 ID : 630680412211  
Option 3 ID : 630680412212  
Option 4 ID : 630680412213  
Status : Answered  
Chosen Option : D

Q.3 'J & K' का अर्थ है कि 'J, K की मां है',  
'J × K' का अर्थ है कि 'J, K की बहन है',  
'J # K' का अर्थ है कि 'J, K का पति है',  
'J \$ K' का अर्थ है कि 'J, K की पुत्री है',  
'J@K' का अर्थ है कि 'J, K का भाई है'।  
यदि 'B & F × G @ C \$ D' है, तो B का D से क्या संबंध है?

- Ans  A. पत्नी  
 B. मौसी  
 C. बहन  
 D. बेटी

Question ID : 63068085557  
Option 1 ID : 630680331735  
Option 2 ID : 630680331733  
Option 3 ID : 630680331734  
Option 4 ID : 630680331732  
Status : Answered  
Chosen Option : A

Q.4 नीचे दी गई आकृति में कितने त्रिभुज हैं?



- Ans  A. 19  
 B. 17  
 C. 18  
 D. 16

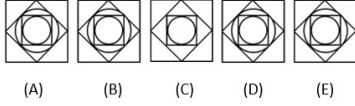
Question ID : 63068057742  
Option 1 ID : 630680222809  
Option 2 ID : 630680222807  
Option 3 ID : 630680222808  
Option 4 ID : 630680222806  
Status : Answered  
Chosen Option : C

Q.5 अजय अपने घर से चलना शुरू करता है और पूर्व की ओर 15 km ड्राइव करता है। फिर वह बाएं मुड़ता है, 5 km ड्राइव करता है, दाएं मुड़ता है और 5 km ड्राइव करता है। फिर वह दायें मुड़ता है और 2 km ड्राइव करता है। फिर वह दायें मुड़ता है, 7 km ड्राइव करता है। फिर वह बाएं मुड़ता है और 10 km ड्राइव करता है। फिर वह अंतिम बार दायें मुड़ता है और 13 km ड्राइव करता है और अपने कार्यालय में रुक जाता है। उसे फिर से अपने घर पहुंचने के लिए कितनी दूर और किस दिशा में ड्राइव करना चाहिए?

- Ans
- A. 7 km दक्षिण
  - B. 5 km दक्षिण
  - C. 10 km उत्तर
  - D. 7 km उत्तर

Question ID : 63068075780  
 Option 1 ID : 630680293236  
 Option 2 ID : 630680293234  
 Option 3 ID : 630680293233  
 Option 4 ID : 630680293235  
 Status : Answered  
 Chosen Option : D

Q.6 निम्नलिखित पाँच आकृतियों में से चार एक समान हैं और एक समूह से संबंधित हैं। निम्नलिखित में से कौन-सी आकृति समूह से संबंधित नहीं है?



- Ans
- A. C
  - B. D
  - C. A
  - D. E

Question ID : 630680118476  
 Option 1 ID : 630680459007  
 Option 2 ID : 630680459006  
 Option 3 ID : 630680459009  
 Option 4 ID : 630680459008  
 Status : Answered  
 Chosen Option : A

Q.7 दिए गए विकल्पों में से कौन-सा वह लगभग निकटतम मान है, जो निम्नलिखित समीकरण में प्रश्न-चिह्न (?) के स्थान पर आएगा?

$$16.01^2 \div 9.99\% \text{ of } 39.99 + 128.01 = ?$$

- Ans
- A. 212
  - B. 152
  - C. 172
  - D. 192

Question ID : 630680172638  
Option 1 ID : 630680668972  
Option 2 ID : 630680668975  
Option 3 ID : 630680668974  
Option 4 ID : 630680668973  
Status : Answered  
Chosen Option : D

Q.8 एक निश्चित कूटभाषा में,  
'Child is Happy' को 'Bi Di Fi' के रूप में लिखा जाता है;  
'Smile is Positive' को 'Fi Gi Ji' के रूप में लिखा जाता है;  
'Happy People Smile' को 'Di Ji Ki' के रूप में लिखा जाता है।  
'Child' के लिए कूट क्या है?

- Ans
- A. Fi
  - B. Bi
  - C. Di
  - D. Ji

Question ID : 630680261947  
Option 1 ID : 6306801017446  
Option 2 ID : 6306801017444  
Option 3 ID : 6306801017443  
Option 4 ID : 6306801017445  
Status : Answered  
Chosen Option : B

Q.9 उस विकल्प आकृति का चयन करें जिसमें दी गई आकृति इसके भाग के रूप में अंतर्निहित है (घुमाने की अनुमति नहीं है)।

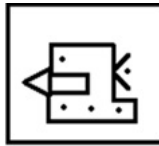


Ans

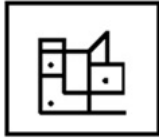
✗ A.



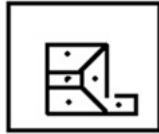
✓ B.



✗ C.



✗ D.



Question ID : 630680105146  
Option 1 ID : 630680408696  
Option 2 ID : 630680408697  
Option 3 ID : 630680408698  
Option 4 ID : 630680408695  
Status : Answered  
Chosen Option : B

Q.10 यदि '+' का अर्थ '-' है, '-' का अर्थ '×' है, '×' का अर्थ '÷' है और '÷' का अर्थ '+' है, तो निम्नलिखित गणना में प्रश्नवाचक चिह्न (?) के स्थान पर क्या आएगा?  
 $145 \times 5 - 3 \div 44 + 14 = ?$

Ans ✗ A. 123

✗ B. 121

✗ C. 114

✓ D. 117

Question ID : 630680147881  
Option 1 ID : 630680572239  
Option 2 ID : 630680572240  
Option 3 ID : 630680572238  
Option 4 ID : 630680572241  
Status : Answered  
Chosen Option : D

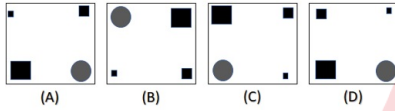
Q.11 निम्नलिखित व्यंजक में (?) के स्थान पर क्या आएगा?

$$3\frac{2}{5} \times 2\frac{4}{3} \times 4\frac{7}{4} = ?$$

- Ans  A. 0.833  
 B. 65.17  
 C. 4.17  
 D. 68.23

Question ID : 630680161816  
 Option 1 ID : 630680626592  
 Option 2 ID : 630680626593  
 Option 3 ID : 630680626594  
 Option 4 ID : 630680626595  
 Status : Answered  
 Chosen Option : B

Q.12 निम्नलिखित चार आकृतियों में से तीन एक निश्चित तरीके से समान हैं और इस प्रकार एक समूह बनाती हैं। वह कौन-सी है, जो इस समूह से संबंधित नहीं है?



- Ans  A. A  
 B. D  
 C. B  
 D. C

Question ID : 630680124854  
 Option 1 ID : 630680484241  
 Option 2 ID : 630680484238  
 Option 3 ID : 630680484239  
 Option 4 ID : 630680484240  
 Status : Answered  
 Chosen Option : A

Q.13 'J & K' का अर्थ है कि 'J, K की माता है',  
'J × K' का अर्थ है कि 'J, K की बहन है',  
'J # K' का अर्थ है कि 'J, K का पति है',  
'J \$ K' का अर्थ है कि 'J, K का पुत्र है',  
'J @ K' का अर्थ है कि 'J, K का भाई है'.  
यदि 'M @ K & J × L \$ N' है, तो M का N से क्या संबंध है?

- Ans  A. भाई  
 B. चाचा  
 C. साला  
 D. पुत्र

Question ID : 63068085562  
Option 1 ID : 630680331752  
Option 2 ID : 630680331755  
Option 3 ID : 630680331753  
Option 4 ID : 630680331754  
Status : Answered  
Chosen Option : C

Q.14 एक निश्चित कूट भाषा में,  
'A+B' का अर्थ है 'A, B का भाई है',  
'A×B' का अर्थ है 'A, B की बहन है',  
'A-B' का अर्थ है 'A, B की माँ है',  
'A+B' का अर्थ है 'A, B का पिता है'.  
उपर्युक्त के आधार पर यदि 'Z+U – T+V × W', तो Z का W के साथ क्या संबंध है?

- Ans  A. माँ का पिता  
 B. भाई का पुत्र  
 C. बहन का पुत्र  
 D. पिता का पिता

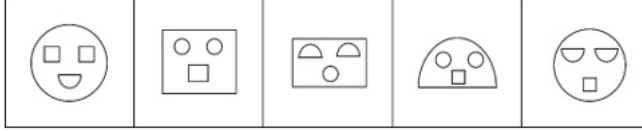
Question ID : 630680119311  
Option 1 ID : 630680462335  
Option 2 ID : 630680462336  
Option 3 ID : 630680462337  
Option 4 ID : 630680462334  
Status : Answered  
Chosen Option : A

Q.15 श्रीराम पार्क से 20 मीटर दक्षिण की ओर चलता है, बाएं मुड़ता है और 30 मीटर चलता है। फिर वह दाएं मुड़ता है और एक बेकरी तक पहुँचने के लिए 10 मीटर चलता है। पार्क से बेकरी किस दिशा में है?

- Ans  A. दक्षिण-पूर्व  
 B. दक्षिण पश्चिम  
 C. पूर्व  
 D. उत्तर

Question ID : 63068056909  
Option 1 ID : 630680219569  
Option 2 ID : 630680219566  
Option 3 ID : 630680219567  
Option 4 ID : 630680219568  
Status : Answered  
Chosen Option : A

Q.16 निम्नलिखित पाँच आकृतियों में से चार एक निश्चित तरीके से एक समान हैं और इस प्रकार एक समूह बनाती हैं। उस आकृति का चयन कीजिए जो समूह से संबंधित नहीं है।



A

B

C

D

E

Ans  A. C

B. A

C. B

D. E

Question ID : 630680214473  
 Option 1 ID : 630680831925  
 Option 2 ID : 630680831924  
 Option 3 ID : 630680831926  
 Option 4 ID : 630680831923  
 Status : Answered  
 Chosen Option : D

Q.17 निम्नलिखित में से कौन-सा मान, निकटतम लगभग मान है, जो दिए गए समीकरण में प्रश्न-चिह्न (?) को प्रतिस्थापित कर सकता है?  
 $649.99 + 12.99 + 568.01 + 7.01 + 82.01 = ?$

Ans  A. 213

B. 206

C. 224

D. 238

Question ID : 630680161776  
 Option 1 ID : 630680626434  
 Option 2 ID : 630680626435  
 Option 3 ID : 630680626433  
 Option 4 ID : 630680626432  
 Status : Answered  
 Chosen Option : A

Q.18 दी गई श्रृंखला में '?' इसके स्थान पर क्या आना चाहिए?  
 56, 63, 74, ?, 108, 131

Ans  A. 78

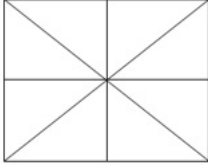
B. 92

C. 89

D. 85

Question ID : 630680221854  
 Option 1 ID : 630680861268  
 Option 2 ID : 630680861266  
 Option 3 ID : 630680861265  
 Option 4 ID : 630680861267  
 Status : Answered  
 Chosen Option : C

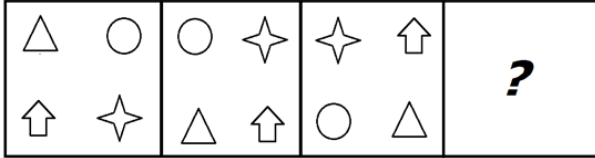
Q.19 निम्न आकृति में कितने त्रिभुज हैं?



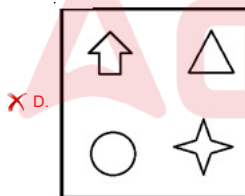
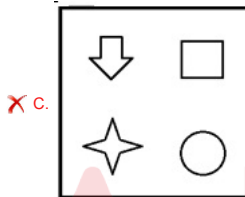
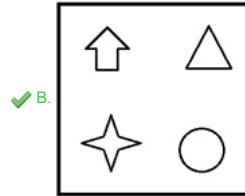
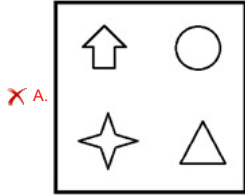
- Ans  A. 10  
 B. 16  
 C. 8  
 D. 12

Question ID : 630680115218  
Option 1 ID : 630680446241  
Option 2 ID : 630680446240  
Option 3 ID : 630680446238  
Option 4 ID : 630680446239  
Status : Answered  
Chosen Option : B

Q.20 नीचे दिए गए विकल्पों में से उस आकृति का चयन कीजिए जो निम्नलिखित श्रृंखला में प्रश्न चिह्न (?) को प्रतिस्थापित कर सकती है।

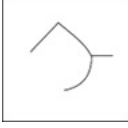


Ans




Question ID : 630680105015  
 Option 1 ID : 630680408174  
 Option 2 ID : 630680408173  
 Option 3 ID : 630680408172  
 Option 4 ID : 630680408171  
 Status : Answered  
 Chosen Option : B

Q.21 उस विकल्प का चयन कीजिए जिसमें दी गई आकृति सन्निहित है (घुमाने की अनुमति नहीं है)।



Ans

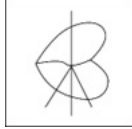
✗ A.



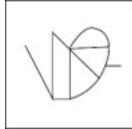
✓ B.



✗ C.



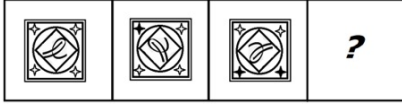
✗ D.



Question ID : 630680177283  
Option 1 ID : 630680687310  
Option 2 ID : 630680687311  
Option 3 ID : 630680687309  
Option 4 ID : 630680687308

Status : Answered  
Chosen Option : B

Q.22 निम्नलिखित विकल्पों में से एक उपयुक्त आकृति का चयन कीजिए जो दी गई आकृति श्रृंखला में प्रश्नवाचक चिह्न (?) को प्रतिस्थापित कर सकती है।



Ans

- A.
- B.
- C.
- D.

Question ID : 630680139879  
 Option 1 ID : 630680541440  
 Option 2 ID : 630680541439  
 Option 3 ID : 630680541438  
 Option 4 ID : 630680541441  
 Status : Answered  
 Chosen Option : A

Q.23 दी गई श्रृंखला में प्रश्नवाचक चिह्न (?) के स्थान पर क्या आना चाहिए?  
 87, 57, 36, 19, ?

- A. 5
- B. 11
- C. 10
- D. 9

Question ID : 630680134066  
 Option 1 ID : 630680519166  
 Option 2 ID : 630680519169  
 Option 3 ID : 630680519168  
 Option 4 ID : 630680519167  
 Status : Answered  
 Chosen Option : C

Q.24 दी गई आकृति के सही दर्पण प्रतिबिंब का चयन करें, जब दर्पण को MN पर रखा जाता है जैसा कि नीचे दिखाया गया है।

y b t k l m

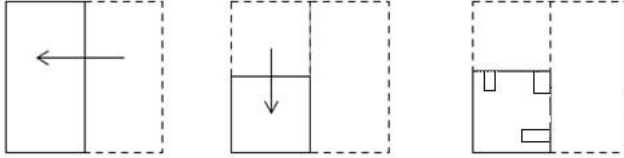


- Ans
- A. m l k t d y
  - B. m l k t y b
  - C. m l k t d y
  - D. m l k t d y

Question ID : 630680162230  
Option 1 ID : 630680628224  
Option 2 ID : 630680628227  
Option 3 ID : 630680628226  
Option 4 ID : 630680628225  
Status : Answered  
Chosen Option : D



Q.25 एक कागज को निम्ननुसार मोड़ा और काटा जाता है। खोलने पर यह कैसा दिखाई दे सकता है?



Ans

- A.
- B.
- C.
- D.

Question ID : 630680147861  
 Option 1 ID : 630680572160  
 Option 2 ID : 630680572159  
 Option 3 ID : 630680572158  
 Option 4 ID : 630680572161  
 Status : Answered  
 Chosen Option : B

Section : General Knowledge and General Awareness

Q.1 चोल प्रशासन में \_\_\_\_\_ को वेल्लाला के नाम से जाना जाता था।

- Ans  A. धार्मिक समूह  
 B. धनी किसान  
 C. व्यापारिक समुदाय  
 D. प्रांतीय अधिकारी

Question ID : 630680115392  
 Option 1 ID : 630680446920  
 Option 2 ID : 630680446918  
 Option 3 ID : 630680446919  
 Option 4 ID : 630680446921  
 Status : Not Answered  
 Chosen Option : --

Q.2 कथक नृत्य का राष्ट्रीय संस्थान, जिसे कथक केंद्र भी जाना जाता है, जो संगीत नाटक अकादमी की एक इकाई है, \_\_\_\_\_ में स्थित है।

- Ans  A. उत्तर प्रदेश  
 B. नई दिल्ली  
 C. तमिलनाडु  
 D. मध्य प्रदेश

Question ID : 630680214149  
 Option 1 ID : 630680830646  
 Option 2 ID : 630680830644  
 Option 3 ID : 630680830645  
 Option 4 ID : 630680830643  
 Status : Answered  
 Chosen Option : A

Q.3 निम्नलिखित में से कौन शास्त्रीय कर्नाटक संगीतज्ञ नहीं है/था/थी?

- Ans  A. शकुंतला नरसिम्हन  
 B. हीराबाई बाडोदेकर  
 C. जी.एन. बालासुब्रमण्यम  
 D. एम.के. त्यागराज

Question ID : 630680214159  
 Option 1 ID : 630680830686  
 Option 2 ID : 630680830685  
 Option 3 ID : 630680830683  
 Option 4 ID : 630680830684  
 Status : Not Answered  
 Chosen Option : --

Q.4 निम्नलिखित में से कौन सा आर्थिक अवसंरचना का एक भाग है?

- Ans  A. आवास  
 B. दूरसंचार प्रणाली  
 C. शिक्षा  
 D. स्वास्थ्य

Question ID : 630680114099  
 Option 1 ID : 630680441800  
 Option 2 ID : 630680441801  
 Option 3 ID : 630680441798  
 Option 4 ID : 630680441799  
 Status : Answered  
 Chosen Option : A

Q.5 अलाउद्दीन खिलजी ने मंगोल आक्रमण से अपने साम्राज्य की रक्षा के लिए दिल्ली में निम्नलिखित में से किस रक्षकसेना (गैरिसन) शहर का निर्माण कराया था?

- Ans  A. जहाँपनाह  
 B. दिल्ली-ए-कुहना  
 C. सीरी  
 D. हौज़ खास

Question ID : 630680127610  
 Option 1 ID : 630680494697  
 Option 2 ID : 630680494698  
 Option 3 ID : 630680494699  
 Option 4 ID : 630680494696  
 Status : Not Answered  
 Chosen Option : --

Q.6 आगरा में शाहजहाँ द्वारा बनवाए गए ताजमहल को यूनेस्को की विश्व धरोहर स्थल के रूप में कब नामित किया गया था?

- Ans  A. 1984  
 B. 1982  
 C. 1981  
 D. 1983

Question ID : 630680158689  
 Option 1 ID : 630680614248  
 Option 2 ID : 630680614250  
 Option 3 ID : 630680614251  
 Option 4 ID : 630680614249  
 Status : Not Answered  
 Chosen Option : --

Q.7 निम्नलिखित में से कौन किराना घराने के संस्थापकों में से एक है?

- Ans
- A. उस्ताद अली बख्श
  - B. उस्ताद इनायत खान
  - C. अब्दुल करीम खान
  - D. हाजी सुजान खान

Question ID : 630680214166  
 Option 1 ID : 630680830711  
 Option 2 ID : 630680830713  
 Option 3 ID : 630680830714  
 Option 4 ID : 630680830712  
 Status : Marked For Review  
 Chosen Option : C

Q.8 नीना गुप्ता को दिसंबर 2021 में निम्नलिखित में से कौन सा पुरस्कार दिया गया था?

- Ans
- A. वैज्ञानिक अनुसंधान के लिए जीडी बिरला पुरस्कार
  - B. एबेल पुरस्कार
  - C. शांति स्वरूप भटनागर पुरस्कार
  - D. युवा गणितज्ञ के लिए रामानुजन पुरस्कार

Question ID : 630680113595  
 Option 1 ID : 630680439917  
 Option 2 ID : 630680439915  
 Option 3 ID : 630680439916  
 Option 4 ID : 630680439914  
 Status : Answered  
 Chosen Option : D

Q.9 निम्नलिखित में से किस संवैधानिक संशोधन अधिनियम ने ग्राम, मध्यवर्ती और जिला स्तरों पर त्रिस्तरीय पंचायत राज व्यवस्था की परिकल्पना की है?

- Ans
- A. 89वाँ संविधान संशोधन अधिनियम
  - B. 42वाँ संविधान संशोधन अधिनियम
  - C. 73वाँ संविधान संशोधन अधिनियम
  - D. 44वाँ संविधान संशोधन अधिनियम

Question ID : 630680181717  
 Option 1 ID : 630680704113  
 Option 2 ID : 630680704111  
 Option 3 ID : 630680704112  
 Option 4 ID : 630680704110  
 Status : Answered  
 Chosen Option : C

Q.10 निम्नलिखित में से किसे वर्ष 1862 में ब्रह्म समाज के आचार्य के पद पर पदोन्नत किया गया था?

- Ans
- A. आर सी भंडारकर
  - B. रविद्रनाथ टैगोर
  - C. केशव चंद्र सेन
  - D. ईश्वर चंद्र विद्यासागर

Question ID : 630680176055  
Option 1 ID : 630680682471  
Option 2 ID : 630680682468  
Option 3 ID : 630680682470  
Option 4 ID : 630680682469  
Status : Not Answered  
Chosen Option : --

Q.11 निम्नलिखित में से किस भारतीय नेता से अल्बर्ट आइंस्टीन अत्यधिक प्रभावित थे?

- Ans
- A. महात्मा गांधी
  - B. मोतीलाल नेहरू
  - C. सरोजिनी नायडू
  - D. रवीन्द्रनाथ टैगोर

Question ID : 630680214232  
Option 1 ID : 630680830977  
Option 2 ID : 630680830975  
Option 3 ID : 630680830978  
Option 4 ID : 630680830976  
Status : Not Answered  
Chosen Option : --

Q.12 निम्नलिखित में से कौन-सा स्मारक यूनेस्को में सूचीबद्ध नहीं है?

- Ans
- A. ताजमहल
  - B. दुबडी मठ
  - C. एलिफेंटा की गुफाएँ
  - D. हुमायूँ का मकबरा

Question ID : 630680214123  
Option 1 ID : 630680830540  
Option 2 ID : 630680830541  
Option 3 ID : 630680830539  
Option 4 ID : 630680830542  
Status : Answered  
Chosen Option : D

Q.13 अगस्त 2021 तक प्राप्त जानकारी के अनुसार, केंद्रीय सशस्त्र पुलिस बल (CAPF) निम्नलिखित में से किसके प्रशासनिक नियंत्रण में कार्य करता है?

- Ans
- A. विदेश मंत्रालय
  - B. रक्षा मंत्रालय
  - C. गृह मंत्रालय
  - D. कानून और न्याय मंत्रालय

Question ID : 630680137661  
Option 1 ID : 630680532976  
Option 2 ID : 630680532977  
Option 3 ID : 630680532975  
Option 4 ID : 630680532974  
Status : Answered  
Chosen Option : C

Q.14 निम्नलिखित में से कौन-सा मोबाइल बैंकिंग ट्रोजन है?

- Ans
- A. इवेंटबॉट
  - B. बैकडोर
  - C. ब्लैकरॉक
  - D. रैसम

Question ID : 630680181649  
Option 1 ID : 630680703838  
Option 2 ID : 630680703841  
Option 3 ID : 630680703839  
Option 4 ID : 630680703840  
Status : Not Answered  
Chosen Option : --

Q.15 भारतीय रिज़र्व बैंक की स्थापना \_\_\_\_\_ में की गई।

- Ans
- A. 1955
  - B. 1948
  - C. 1935
  - D. 1949

Question ID : 630680100171  
Option 1 ID : 630680389381  
Option 2 ID : 630680389382  
Option 3 ID : 630680389380  
Option 4 ID : 630680389383  
Status : Answered  
Chosen Option : C

Q.16 हिमालय की निम्नलिखित में से कौन सी पर्वतमाला हिमाद्री के नाम से जानी जाती है?

- Ans
- A. ट्रांस हिमालय
  - B. शिवालिक हिमालय
  - C. लघु हिमालय
  - D. महान हिमालय

Question ID : 630680113525  
 Option 1 ID : 630680439637  
 Option 2 ID : 630680439634  
 Option 3 ID : 630680439635  
 Option 4 ID : 630680439636  
 Status : Answered  
 Chosen Option : A

Q.17 5 दिनों में 75 km लंबी सड़क बनाने के लिए किस भारतीय राष्ट्रीय राजमार्ग का उपयोग किया गया, जिसने 2022 में विश्व रिकॉर्ड तोड़ दिया?

- Ans
- A. NH58
  - B. NH44
  - C. NH60
  - D. NH53

Question ID : 630680213964  
 Option 1 ID : 630680829905  
 Option 2 ID : 630680829904  
 Option 3 ID : 630680829906  
 Option 4 ID : 630680829903  
 Status : Not Answered  
 Chosen Option : --

Q.18 निम्नलिखित में से कौन-सी वित्तीय संस्था अवसंरचना (इंफ्रास्ट्रक्चर) परियोजनाओं के लिए दीर्घकालिक वित्त प्रदान करता है?

- Ans
- A. पीएफसी (PFC)
  - B. आईएफसीआई (IFCI)
  - C. आईडीबीआई (IDBI)
  - D. एलआईसी (LIC)

Question ID : 630680210829  
 Option 1 ID : 630680817478  
 Option 2 ID : 630680817476  
 Option 3 ID : 630680817475  
 Option 4 ID : 630680817477  
 Status : Answered  
 Chosen Option : C

Q.19 प्रोटोप्लास्ट, \_\_\_\_\_ एक पादप कोशिका है।

- Ans  A. प्लाज्मा झिल्ली के बिना  
 B. कोशिका भित्ति के बिना  
 C. केन्द्रक के बिना  
 D. कोशिका भित्ति के साथ

Question ID : 630680102271  
 Option 1 ID : 630680397369  
 Option 2 ID : 630680397368  
 Option 3 ID : 630680397370  
 Option 4 ID : 630680397367  
 Status : Answered  
 Chosen Option : D

Q.20 \_\_\_\_\_ लहरदार स्थलाकृति की भूमि होती है, जो अनुदैर्घ्य टीलों और बरकानों से बनी होती है।

- Ans  A. मध्य पहाड़ी इलाका  
 B. तटीय मैदान  
 C. भारतीय रेगिस्तान  
 D. दक्कन का पठार

Question ID : 63068091572  
 Option 1 ID : 630680355022  
 Option 2 ID : 630680355023  
 Option 3 ID : 630680355025  
 Option 4 ID : 630680355024  
 Status : Answered  
 Chosen Option : C

Q.21 कोशिका चक्र के संबंध में निम्नलिखित में कौन-सा संयोजन सही नहीं है?

- Ans  A. M-माइटोटिक फेज  
 B. S फेज-DNA संश्लेषण  
 C. G2-DNA प्रतिकृति  
 D. G1 फेज-प्रोथ फेज

Question ID : 63068089737  
 Option 1 ID : 630680347725  
 Option 2 ID : 630680347723  
 Option 3 ID : 630680347724  
 Option 4 ID : 630680347722  
 Status : Not Answered  
 Chosen Option : --

Q.22 अमादोरी पुनर्व्यवस्था को \_\_\_\_\_ का अध्ययन करते समय खोजा गया था।

- Ans
- A. हाइड्रोलॉजिकल चक्र
  - B. प्रोटीन जैवसंश्लेषण
  - C. माइलार्ड अभिक्रिया
  - D. क्रेब्स चक्र

Question ID : 630680214106  
 Option 1 ID : 630680830473  
 Option 2 ID : 630680830474  
 Option 3 ID : 630680830472  
 Option 4 ID : 630680830471  
 Status : Not Answered  
 Chosen Option : --

Q.23 निम्नलिखित में से किसने बक्सर के युद्ध में भाग लिया था?

- Ans
- A. मीर मदन
  - B. मीर कासिम
  - C. मीर जाफ़र
  - D. सिराजुद्दौला

Question ID : 630680113631  
 Option 1 ID : 630680440061  
 Option 2 ID : 630680440060  
 Option 3 ID : 630680440058  
 Option 4 ID : 630680440059  
 Status : Answered  
 Chosen Option : D

Q.24 1574 में अकबर ने युनीम खान खान-ए-खाना के साथ निम्नलिखित में से किस प्रांत की ओर कूच किया?

- Ans
- A. बिहार
  - B. हैदराबाद
  - C. गुजरात
  - D. राजस्थान

Question ID : 630680214219  
 Option 1 ID : 630680830924  
 Option 2 ID : 630680830923  
 Option 3 ID : 630680830925  
 Option 4 ID : 630680830926  
 Status : Answered  
 Chosen Option : C

Q.25 भारत की जनगणना 2011 के अनुसार, राज्यों के किस समूह में महिला साक्षरता दर सर्वाधिक है?

- Ans
- A. तमिलनाडु और महाराष्ट्र
  - B. पंजाब और हरियाणा
  - C. केरल और मिजोरम
  - D. गुजरात और राजस्थान

Question ID : 630680162089  
 Option 1 ID : 630680627666  
 Option 2 ID : 630680627665  
 Option 3 ID : 630680627664  
 Option 4 ID : 630680627667  
 Status : Answered  
 Chosen Option : C

Section : Elementary Mathematics

Q.1 यदि  $(2x+3y) : (3x+5y) = 21 : 32$  है, तो  $x : y$  का मान क्या है?

- Ans
- A. 3 : 5
  - B. 9 : 1
  - C. 2 : 3
  - D. 1 : 8

Question ID : 630680131684  
 Option 1 ID : 630680509947  
 Option 2 ID : 630680509949  
 Option 3 ID : 630680509946  
 Option 4 ID : 630680509948  
 Status : Answered  
 Chosen Option : B

Q.2 यदि  $x = [4 \times 6 \div 3 - 2(6 \div 2 + 1) + 2 \times 2] \div [(6 \times 8 \div 4 + 3) - 4(5) + 2 \times 3]$  है, तो  $4x-6$  का मान ज्ञात करें।

- Ans
- A. 42
  - B. 2
  - C. 26
  - D. 10

Question ID : 63068079120  
 Option 1 ID : 630680306519  
 Option 2 ID : 630680306518  
 Option 3 ID : 630680306520  
 Option 4 ID : 630680306517  
 Status : Answered  
 Chosen Option : D

Q.3 क्रमशः 80 m और 120 m लंबाई वाली दो छोटी रेलगाड़ियां समानांतर पटरियों पर विपरीत दिशाओं में क्रमशः 30 m/s और 20 m/s की चाल से चल रही हैं। दोनों छोटी रेलगाड़ियों को एक-दूसरे को पार करने में कितना समय (सेकंड में) लगेगा?

- Ans
- A. 10
  - B. 8
  - C. 4
  - D. 6

Question ID : 630680206534  
 Option 1 ID : 630680800743  
 Option 2 ID : 630680800744  
 Option 3 ID : 630680800746  
 Option 4 ID : 630680800745  
 Status : Answered  
 Chosen Option : C

Q.4 12 m व्यास वाले एक बेलनाकार टंकी में 4 m की गहराई तक पानी है। गोली सतह का कुल क्षेत्रफल कितना है?

- Ans
- A. 110 m<sup>2</sup>
  - B. 131 m<sup>2</sup>
  - C. 264 m<sup>2</sup>
  - D. 220 m<sup>2</sup>

Question ID : 630680107692  
 Option 1 ID : 630680418060  
 Option 2 ID : 630680418061  
 Option 3 ID : 630680418062  
 Option 4 ID : 630680418063  
 Status : Not Answered  
 Chosen Option : --

Q.5 निम्नलिखित का मान ज्ञात कीजिए:

$$(0.\dot{4} + 0.\dot{5} + 0.\dot{6} + 0.\dot{7} + 0.\dot{8})$$

- Ans
- A.  $3\frac{3}{9}$
  - B.  $3\frac{4}{9}$
  - C.  $3\frac{1}{9}$
  - D.  $3\frac{2}{9}$

Question ID : 630680218044  
 Option 1 ID : 630680846084  
 Option 2 ID : 630680846083  
 Option 3 ID : 630680846086  
 Option 4 ID : 630680846085  
 Status : Answered  
 Chosen Option : C

Q.6 एक शहर में जनवरी के पहले सप्ताह में सात दिनों का तापमान 2, 4, 5, 1, 7, 9 और 10 डिग्री सेंटीग्रेड है। सप्ताह का औसत तापमान (2 दशमलव स्थानों तक सही) है:

- Ans  A. 5.43°C  
 B. 4.29°C  
 C. 5.85°C  
 D. 4.97°C

Question ID : 630680131253  
 Option 1 ID : 630680508280  
 Option 2 ID : 630680508278  
 Option 3 ID : 630680508281  
 Option 4 ID : 630680508279  
 Status : Answered  
 Chosen Option : A

Q.7 यदि किसी वस्तु की कीमत में पहले 10% की कमी की जाती है और फिर 15% की वृद्धि की जाती है, तो कीमत में शुद्ध परिवर्तन ----- का होगा।

- Ans  A. 3.5% वृद्धि  
 B. 5.3% वृद्धि  
 C. 5.3% कमी  
 D. 3.5% कमी

Question ID : 630680114255  
 Option 1 ID : 630680442425  
 Option 2 ID : 630680442422  
 Option 3 ID : 630680442423  
 Option 4 ID : 630680442424  
 Status : Answered  
 Chosen Option : A

Q.8 एक ऐसे घनीय/घनाकार ब्लॉक में से 4 cm भुजा वाले कितने छोटे घनाकार ब्लॉक काटे जा सकते हैं, जिसके प्रत्येक किनारे की माप 16 cm है?

- Ans  A. 64  
 B. 4  
 C. 256  
 D. 16

Question ID : 630680220933  
 Option 1 ID : 630680857583  
 Option 2 ID : 630680857581  
 Option 3 ID : 630680857584  
 Option 4 ID : 630680857582  
 Status : Answered  
 Chosen Option : A

Q.9 एक गोले की त्रिज्या में 20% की वृद्धि की जाती है। गोले के पृष्ठीय क्षेत्रफल में हुई वृद्धि का प्रतिशत ज्ञात कीजिए।

- Ans
- A. 44%
  - B. 20%
  - C. 40%
  - D. 24%

Question ID : 630680116133  
 Option 1 ID : 630680449862  
 Option 2 ID : 630680449863  
 Option 3 ID : 630680449864  
 Option 4 ID : 630680449865  
 Status : Answered  
 Chosen Option : A

Q.10 एक व्यक्ति अपने मासिक वेतन का 35% बचाता है। यदि उसका मासिक व्यय ₹ 7,995 है, तो उसकी मासिक बचत कितनी होगी?

- Ans
- A. Rs.4,504
  - B. Rs.5,403
  - C. Rs.4,305
  - D. Rs.3,580

Question ID : 630680107342  
 Option 1 ID : 630680416743  
 Option 2 ID : 630680416740  
 Option 3 ID : 630680416741  
 Option 4 ID : 630680416742  
 Status : Answered  
 Chosen Option : C

Q.11 यदि ₹6,500 को 8% वार्षिक साधारण ब्याज की दर से 6 वर्ष के लिए निवेश किया जाता है, तो परिपक्वता राशि का 24% (₹ में, निकटतम दहाई तक) क्या होगा?

- Ans
- A. 9,620
  - B. 2,310
  - C. 5,380
  - D. 2,410

Question ID : 630680122783  
 Option 1 ID : 630680476042  
 Option 2 ID : 630680476043  
 Option 3 ID : 630680476045  
 Option 4 ID : 630680476044  
 Status : Answered  
 Chosen Option : B

Q.12 L, M और N का औसत भार 34 kg है। यदि L और M का औसत भार 36 kg तथा M और N का औसत भार 42 kg है, तो M का भार ज्ञात करें।

- Ans  A. 52 kg  
 B. 54 kg  
 C. 55 kg  
 D. 50 kg

Question ID : 630680110308  
 Option 1 ID : 630680427588  
 Option 2 ID : 630680427589  
 Option 3 ID : 630680427590  
 Option 4 ID : 630680427587  
 Status : Answered  
 Chosen Option : B

Q.13 एक दुकानदार एक वस्तु पर 25%, 30% और 10% की छूट देता है। यदि वस्तु पर ₹940 मूल्य अंकित है, तो उसका विक्रय मूल्य (₹ में, निकटतम पूर्ण संख्या में पूर्णांकित) क्या है?

- Ans  A. 329  
 B. 423  
 C. 444  
 D. 574

Question ID : 630680122775  
 Option 1 ID : 630680476010  
 Option 2 ID : 630680476011  
 Option 3 ID : 630680476013  
 Option 4 ID : 630680476012  
 Status : Answered  
 Chosen Option : C

Q.14 एक संस्थान में 10वीं, 11वीं और 12वीं कक्षा के लिए सीटों की संख्या 5 : 7 : 8 के अनुपात में है। इन सीटों को क्रमशः 40%, 50% और 75% बढ़ाने का प्रस्ताव है। बढ़ी हुई सीटों का अनुपात क्या होगा?

- Ans  A. 2 : 3 : 4  
 B. 4 : 5 : 6  
 C. 3 : 4 : 5  
 D. 5 : 6 : 7

Question ID : 630680137284  
 Option 1 ID : 630680531733  
 Option 2 ID : 630680531731  
 Option 3 ID : 630680531732  
 Option 4 ID : 630680531730  
 Status : Answered  
 Chosen Option : A

Q.15 एक घन के विकर्ण की लंबाई  $9\sqrt{27}$  cm है। घन के कोर की लंबाई क्या होगी?

- Ans  A. 27 cm  
 B. 9 cm  
 C. 16 cm  
 D. 18 cm

Question ID : 63068070066  
 Option 1 ID : 630680270904  
 Option 2 ID : 630680270902  
 Option 3 ID : 630680270905  
 Option 4 ID : 630680270903  
 Status : Answered  
 Chosen Option : A

Q.16 जब  $43^{41} + 1$  को 42 से विभाजित किया जाता है तो निम्न में से क्या शेषफल बचता है?

- Ans  A. 3  
 B. 2  
 C. 5  
 D. 4

Question ID : 630680218022  
 Option 1 ID : 630680845996  
 Option 2 ID : 630680845995  
 Option 3 ID : 630680845998  
 Option 4 ID : 630680845997  
 Status : Marked For Review  
 Chosen Option : B

Q.17 यदि अनिल की आय, भरत की आय से 25% कम है, तो भरत की आय, अनिल की आय से कितने प्रतिशत अधिक है?

- Ans  A.  $33\frac{1}{3}$  %  
 B. 25%  
 C. 30%  
 D.  $66\frac{2}{3}$  %

Question ID : 630680137689  
 Option 1 ID : 630680533086  
 Option 2 ID : 630680533088  
 Option 3 ID : 630680533087  
 Option 4 ID : 630680533089  
 Status : Answered  
 Chosen Option : A

Q.18 दो वर्गों के परिमाण 33 cm और 21 cm हैं। ऐसे तीसरे वर्ग का परिमाण ज्ञात कीजिए जिसका क्षेत्रफल दो वर्गों के क्षेत्रफलों के अंतर के बराबर है। (दो दशमलव तक पूर्णांकित कीजिए)

- Ans  A. 21.34 cm  
 B. 25.44 cm  
 C. 28.44 cm  
 D. 15.48 cm

Question ID : 630680108499  
 Option 1 ID : 630680420956  
 Option 2 ID : 630680420959  
 Option 3 ID : 630680420958  
 Option 4 ID : 630680420957  
 Status : Answered  
 Chosen Option : C

Q.19  $\sqrt{\sqrt{156.25} \times 1.2^2 \times 2.5} + \sqrt{361}$  को हल कीजिए।

- Ans  A. 7  
 B. 9  
 C. 8  
 D. 64

Question ID : 63068070292  
 Option 1 ID : 630680271800  
 Option 2 ID : 630680271801  
 Option 3 ID : 630680271798  
 Option 4 ID : 630680271799  
 Status : Answered  
 Chosen Option : C

Q.20 अपने माल के अंकित मूल्य में 36 रुपये की कमी करने पर, एक दुकानदार को 15% का लाभ होता है। यदि वस्तु का क्रय मूल्य ₹380 है और इसे अंकित मूल्य पर बेचा जाता है, तो लाभ प्रतिशत ज्ञात करें (दशमलव के दो स्थानों तक)।

- Ans  A. 22.45%  
 B. 21.56%  
 C. 23.58%  
 D. 24.47%

Question ID : 630680121707  
 Option 1 ID : 630680471779  
 Option 2 ID : 630680471781  
 Option 3 ID : 630680471780  
 Option 4 ID : 630680471778  
 Status : Answered  
 Chosen Option : D

Q.21 एक घनाभ का आयतन, एक घन के आयतन का चार गुना है। यदि घनाभ की विमाएँ क्रमशः 12 m, 9 m और 8 m हैं, तो घन का पृष्ठीय क्षेत्रफल ज्ञात कीजिए।

- Ans
- A. 216 cm<sup>2</sup>
  - B. 64 m<sup>2</sup>
  - C. 216 m<sup>2</sup>
  - D. 36 m<sup>2</sup>

Question ID : 63068022491  
 Option 1 ID : 630680863723  
 Option 2 ID : 630680863725  
 Option 3 ID : 630680863726  
 Option 4 ID : 630680863724  
 Status : Answered  
 Chosen Option : C

Q.22 9 cm त्रिज्या वाले एक ठोस धातु के गोले को पिघलाकर 3 cm त्रिज्या वाली गोलाकार गेंदों में ढाला जाता है। इस प्रकार प्राप्त गोलाकार गेंदों की संख्या \_\_\_\_\_ है।

- Ans
- A. 26
  - B. 25
  - C. 28
  - D. 27

Question ID : 630680107299  
 Option 1 ID : 630680416581  
 Option 2 ID : 630680416583  
 Option 3 ID : 630680416580  
 Option 4 ID : 630680416582  
 Status : Answered  
 Chosen Option : D

Q.23 एक कक्षा में 5 विद्यार्थी हैं। उनका औसत वजन 40 kg है। जब एक विद्यार्थी कक्षा छोड़ देता है, तो औसत वजन 35 kg हो जाता है। कक्षा छोड़ने वाले विद्यार्थी का वजन कितना है?

- Ans
- A. 50 kg
  - B. 60 g
  - C. 38 kg
  - D. 60 kg

Question ID : 630680109173  
 Option 1 ID : 630680423506  
 Option 2 ID : 630680423504  
 Option 3 ID : 630680423507  
 Option 4 ID : 630680423505  
 Status : Answered  
 Chosen Option : D

Q.24 उस बेलनाकार रोलर की चौड़ाई ज्ञात कीजिए जो 7.4 हेक्टेयर घास काटते हुए 148 km की दूरी तय करता है।

- Ans  A. 50 cm  
 B. 100 m  
 C. 75 cm  
 D. 100 cm

Question ID : 630680109176  
 Option 1 ID : 630680423516  
 Option 2 ID : 630680423518  
 Option 3 ID : 630680423519  
 Option 4 ID : 630680423517  
 Status : Answered  
 Chosen Option : B

Q.25 18 आदमी 7 दिनों में एक बिल्डिंग मॉडल का निर्माण कर सकते हैं। उसी मॉडल को बनाने में 15 आदमी कितने दिन लेंगे?

- Ans  A. 7.2  
 B. 8.2  
 C. 7.4  
 D. 8.4

Question ID : 630680131279  
 Option 1 ID : 630680508382  
 Option 2 ID : 630680508384  
 Option 3 ID : 630680508383  
 Option 4 ID : 630680508385  
 Status : Answered  
 Chosen Option : D

Section : English

Q.1 Select the most appropriate meaning that can replace the underlined idiom in the given sentence.  
 I meet my school friends once in a blue moon .

- Ans  A. once a month  
 B. quite frequently  
 C. every weekend  
 D. very rarely

Question ID : 630680157162  
 Option 1 ID : 630680608181  
 Option 2 ID : 630680608182  
 Option 3 ID : 630680608180  
 Option 4 ID : 630680608183  
 Status : Not Answered  
 Chosen Option : --

Q.2 Select the most appropriate synonym of the underlined word in the given sentence.

The father got a vicarious thrill out of watching his son score the winning goal.

- Ans
- A. vicious
  - B. curious
  - C. pragmatic
  - D. experiencing through reading, observing

Question ID : 630680176618  
Option 1 ID : 630680684695  
Option 2 ID : 630680684694  
Option 3 ID : 630680684692  
Option 4 ID : 630680684693  
Status : Not Answered  
Chosen Option : --

Q.3 The given sentence is divided into four parts. One of them contains a grammatical error. Select the part that contains the error from the given options.  
The key of success/ is devotion/ and perseverance/ towards what you do.

- Ans
- A. towards what you do
  - B. and perseverance
  - C. The key of success
  - D. is devotion

Question ID : 630680157289  
Option 1 ID : 630680608691  
Option 2 ID : 630680608690  
Option 3 ID : 630680608688  
Option 4 ID : 630680608689  
Status : Not Answered  
Chosen Option : --

Q.4 Select the INCORRECTLY spelt word.

- Ans
- A. Proclaiming
  - B. Scintillating
  - C. Penetrating
  - D. Reciporocating

Question ID : 630680172403  
Option 1 ID : 630680668039  
Option 2 ID : 630680668036  
Option 3 ID : 630680668037  
Option 4 ID : 630680668038  
Status : Not Answered  
Chosen Option : --

Q.5 Sentences of a paragraph are given below in jumbled order. Arrange the sentences in the correct order to form a meaningful and coherent paragraph.

- A. Have you ever heard of a massive star just...disappearing?
- B. Recently, they looked at the latest observations and realised they could not find it anymore.
- C. The discovery was announced in the last month of 2020—and it could be the first instance of a star collapsing into a black hole without first exploding into a supernova.
- D. For nearly 2 decades, astronomers studied a star in a galaxy 75 million light years away.

- Ans
- A. BCAD
  - B. ABCD
  - C. ADBC
  - D. ADCB

Question ID : 630680204440  
 Option 1 ID : 630680792827  
 Option 2 ID : 630680792828  
 Option 3 ID : 630680792829  
 Option 4 ID : 630680792830  
 Status : Not Answered  
 Chosen Option : --

Q.6 Select the option that can be used as a one-word substitute for the given group of words.

A short remark or message added to the bottom of a letter after it has been signed

- Ans
- A. Postscript
  - B. Memo
  - C. Epistolise
  - D. Correspondence

Question ID : 630680130673  
 Option 1 ID : 630680505989  
 Option 2 ID : 630680505988  
 Option 3 ID : 630680505986  
 Option 4 ID : 630680505987  
 Status : Not Answered  
 Chosen Option : --

Q.7 The given sentence is divided into three segments. One of them may contain a grammatical error. Select the option that has the segment with the error. If you don't find any error, mark 'No error' as your answer.  
 The jury have / announced / its unanimous decision.

- Ans
- A. The jury have
  - B. announced
  - C. its unanimous decision.
  - D. No error

Question ID : 630680158816  
 Option 1 ID : 630680614744  
 Option 2 ID : 630680614745  
 Option 3 ID : 630680614746  
 Option 4 ID : 630680614747  
 Status : Not Answered  
 Chosen Option : --

**Q.8** Select an ideal answer for the given question.  
"In what frequency does Prince lose his temper?"

Ans  A. Prince loses his temper quick.  
 B. Prince loses his temper too often.  
 C. Prince loses his temper much fast.  
 D. Prince loses his temper much often.

Question ID : 630680161647  
 Option 1 ID : 630680625917  
 Option 2 ID : 630680625919  
 Option 3 ID : 630680625918  
 Option 4 ID : 630680625916  
 Status : Not Answered  
 Chosen Option : --

---

**Q.9** Select the INCORRECTLY spelt word.

Ans  A. Prejudice  
 B. Precaution  
 C. Pronunciation  
 D. Premier

Question ID : 630680129946  
 Option 1 ID : 630680503371  
 Option 2 ID : 630680503373  
 Option 3 ID : 630680503370  
 Option 4 ID : 630680503372  
 Status : Not Answered  
 Chosen Option : --

---

**Q.10** Select the word that means the OPPOSITE of the given word.  
Optimist

Ans  A. Procrastinator  
 B. Hopeless  
 C. Romanticist  
 D. Fragile

Question ID : 630680162038  
 Option 1 ID : 630680627463  
 Option 2 ID : 630680627461  
 Option 3 ID : 630680627462  
 Option 4 ID : 630680627460  
 Status : Not Answered  
 Chosen Option : --

Q.11 Select the most appropriate synonym of the given word.

Active

- Ans  A. Dull  
 B. Rest  
 C. Lazy  
 D. Energetic

Question ID : 630680181762  
 Option 1 ID : 630680704285  
 Option 2 ID : 630680704282  
 Option 3 ID : 630680704284  
 Option 4 ID : 630680704283  
 Status : Not Answered  
 Chosen Option : --

Q.12 Select the option that can be used as a one-word substitute for the given phrase.

One who speaks less with the others

- Ans  A. Scatter-brained  
 B. Sober  
 C. Slapdash  
 D. Reticent

Question ID : 63068084659  
 Option 1 ID : 630680328167  
 Option 2 ID : 630680328165  
 Option 3 ID : 630680328164  
 Option 4 ID : 630680328166  
 Status : Not Answered  
 Chosen Option : --

Q.13 Select the correctly spelt word.

- Ans  A. Absense  
 B. Dumbell  
 C. Adress  
 D. Definitely

Question ID : 630680129850  
 Option 1 ID : 630680502991  
 Option 2 ID : 630680502993  
 Option 3 ID : 630680502990  
 Option 4 ID : 630680502992  
 Status : Not Answered  
 Chosen Option : --

**Q.14** Select the option that can be used as a one-word substitute for the underlined words in the following sentence.  
Marco was more interested in studying ancient buildings and caves.

- Ans
- A. demography
  - B. geology
  - C. dermatology
  - D. archaeology

Question ID : 630680129834  
 Option 1 ID : 630680502927  
 Option 2 ID : 630680502926  
 Option 3 ID : 630680502929  
 Option 4 ID : 630680502928  
 Status : Not Answered  
 Chosen Option : --

**Q.15** Sentences of a paragraph are given below in jumbled order. Arrange the sentences in the correct order to form a meaningful and coherent paragraph.  
 A. The chef prepared a delicious meal, using fresh ingredients and a blend of spices.  
 B. The guests arrived at the restaurant, eager to sample the cuisine.  
 C. The ambience of the restaurant was warm and inviting, with soft lighting and comfortable seating.  
 D. The waiter greeted the guests and took their orders, recommending the chef's signature dishes.

- Ans
- A. ACDB
  - B. BCDA
  - C. DCAB
  - D. CDBA

Question ID : 630680209293  
 Option 1 ID : 630680811388  
 Option 2 ID : 630680811387  
 Option 3 ID : 630680811390  
 Option 4 ID : 630680811389  
 Status : Not Answered  
 Chosen Option : --

**Q.16** Select the most appropriate meaning of the given proverb.  
Barking dogs seldom bite.

- Ans
- A. Don't be afraid of people who threaten or swear.
  - B. Let the dog be quiet if you want him to bite.
  - C. Don't be afraid of barking dogs.
  - D. Dogs only bark but don't bite.

Question ID : 630680158267  
 Option 1 ID : 630680612598  
 Option 2 ID : 630680612599  
 Option 3 ID : 630680612597  
 Option 4 ID : 630680612596  
 Status : Not Answered  
 Chosen Option : --

Q.17 Select the INCORRECTLY spelt word.

- Ans  A. Defination  
 B. Progression  
 C. Profession  
 D. Determination

Question ID : 630680129669  
Option 1 ID : 630680502284  
Option 2 ID : 630680502282  
Option 3 ID : 630680502283  
Option 4 ID : 630680502285  
Status : Not Answered  
Chosen Option : --

Q.18 Select the most appropriate ANTONYM of the given word.  
Boon

- Ans  A. Thoughtful  
 B. Bane  
 C. Barren  
 D. Gentleness

Question ID : 630680176634  
Option 1 ID : 630680684757  
Option 2 ID : 630680684758  
Option 3 ID : 630680684759  
Option 4 ID : 630680684756  
Status : Not Answered  
Chosen Option : --

Q.19 Sentences of a paragraph are given below in jumbled order. Arrange the sentences in the correct order to form a meaningful and coherent paragraph.

1. In today's fast-paced world, it can be easy to feel disconnected from others.
2. That's why it's important to make time for face-to-face interactions with friends and loved ones.
3. Social media and technology have made it easier than ever to stay in touch, but they can also lead to feelings of isolation and loneliness.
4. Spending quality time with others can help strengthen relationships and improve overall well-being.

- Ans  A. 3214  
 B. 1324  
 C. 3421  
 D. 4123

Question ID : 630680206194  
Option 1 ID : 630680799575  
Option 2 ID : 630680799577  
Option 3 ID : 630680799578  
Option 4 ID : 630680799576  
Status : Not Answered  
Chosen Option : --

Q.20 Sentences of a paragraph are given below in jumbled order. Arrange the sentences in the correct order to form a meaningful and coherent paragraph.

- A. The Voynich Manuscript is a 240-page medieval tome written in an unknown language that has baffled scholars and code-breakers for years.
- B. All attempts to translate the book's text or identify the plants depicted in it have failed.
- C. The manuscript is believed to have originated sometime between 1404 and 1438.
- D. It is filled with enigmatic illustrations and diagrams that seem to depict everything from unusual plants to women with swollen bellies bathing in green pools.

Ans  A. ACDB

B. ADBC

C. ABDC

D. ACBD

Question ID : 630680204437  
Option 1 ID : 630680792815  
Option 2 ID : 630680792818  
Option 3 ID : 630680792817  
Option 4 ID : 630680792816  
Status : Not Answered  
Chosen Option : --

#### Comprehension:

Read the given passage and answer the questions that follow.

Good society usually has good leaders. The people of the society follow the leaders, good citizens. Today's world is in dire need of selflessly influential leaders. In a sense, of sanity and egocentrism, the rationality of both leaders and the people reached the top. The relationship and the coordination between the leader and the followers are mostly equivocal and doubtful. On one hand, though the man is improving in terms of comfort, help, food, shelter, transportation, and technology still people follow leaders based on personal benefits like caste, religion region gender, etc. On the other hand, most of the leaders irrespective of political, religious, spiritual, business, science educational sectors are at selfish achievement and personal growth. For a better world, the globe needs self-disciplined, selfless, and impactful leaders like Mahatma Gandhi, Gautama Buddha, Abdul Kalam, and Mother Teresa.

SubQuestion No : 21

Q.21 Which of the following statements is NOT the opinion of the writer?

- Ans  A. When there are good leaders, people can be good citizens.
- B. Man is developing materialistically and he is developing narrowmindedness in matters such as caste and religion.
- C. There are not many worthy leaders in our world.
- D. The world needs only spiritual leaders like Buddha.

Question ID : 630680133122  
Option 1 ID : 630680515513  
Option 2 ID : 630680515510  
Option 3 ID : 630680515511  
Option 4 ID : 630680515512  
Status : Not Answered  
Chosen Option : --

**Comprehension:**

Read the given passage and answer the questions that follow.  
 Good society usually has good leaders. The people of the society follow the leaders, good citizens. Today's world is in dire need of selflessly influential leaders. In a sense, of sanity and egocentrism, the rationality of both leaders and the people reached the top. The relationship and the coordination between the leader and the followers are mostly equivocal and doubtful. On one hand, though the man is improving in terms of comfort, help, food, shelter, transportation, and technology still people follow leaders based on personal benefits like caste, religion region gender, etc. On the other hand, most of the leaders irrespective of political, religious, spiritual, business, science educational sectors are at selfish achievement and personal growth. For a better world, the globe needs self-disciplined, selfless, and impactful leaders like Mahatma Gandhi, Gautama Buddha, Abdul Kalam, and Mother Teresa.

**SubQuestion No : 22**

**Q.22 In which sense is the word 'sense' used in the passage?**

- Ans  A. Desire  
 B. Intelligence  
 C. Belief  
 D. Comfort

Question ID : 630680133120  
 Option 1 ID : 630680515503  
 Option 2 ID : 630680515502  
 Option 3 ID : 630680515504  
 Option 4 ID : 630680515505  
 Status : Not Answered  
 Chosen Option : --

**Comprehension:**

Read the given passage and answer the questions that follow.  
 Good society usually has good leaders. The people of the society follow the leaders, good citizens. Today's world is in dire need of selflessly influential leaders. In a sense, of sanity and egocentrism, the rationality of both leaders and the people reached the top. The relationship and the coordination between the leader and the followers are mostly equivocal and doubtful. On one hand, though the man is improving in terms of comfort, help, food, shelter, transportation, and technology still people follow leaders based on personal benefits like caste, religion region gender, etc. On the other hand, most of the leaders irrespective of political, religious, spiritual, business, science educational sectors are at selfish achievement and personal growth. For a better world, the globe needs self-disciplined, selfless, and impactful leaders like Mahatma Gandhi, Gautama Buddha, Abdul Kalam, and Mother Teresa.

**SubQuestion No : 23**

**Q.23 What is the aim of most of the leaders?**

- Ans  A. People's development  
 B. Selfless development  
 C. Self-development  
 D. Society development

Question ID : 630680133121  
 Option 1 ID : 630680515508  
 Option 2 ID : 630680515509  
 Option 3 ID : 630680515507  
 Option 4 ID : 630680515506  
 Status : Not Answered  
 Chosen Option : --

**Comprehension:**

Read the given passage and answer the questions that follow.  
 Good society usually has good leaders. The people of the society follow the leaders, good citizens. Today's world is in dire need of selflessly influential leaders. In a sense, of sanity and egocentrism, the rationality of both leaders and the people reached the top. The relationship and the coordination between the leader and the followers are mostly equivocal and doubtful. On one hand, though the man is improving in terms of comfort, help, food, shelter, transportation, and technology still people follow leaders based on personal benefits like caste, religion region gender, etc. On the other hand, most of the leaders irrespective of political, religious, spiritual, business, science educational sectors are at selfish achievement and personal growth. For a better world, the globe needs self-disciplined, selfless, and impactful leaders like Mahatma Gandhi, Gautama Buddha, Abdul Kalam, and Mother Teresa.

**SubQuestion No : 24**

**Q.24** According to the passage, \_\_\_\_\_ is one of the things that makes the relationship between leaders and followers doubtful.

- Ans  A. educational qualifications  
 B. equivocal nature  
 C. desire to grow  
 D. egocentrism

Question ID : 630680133119  
 Option 1 ID : 630680515500  
 Option 2 ID : 630680515501  
 Option 3 ID : 630680515498  
 Option 4 ID : 630680515499  
 Status : Not Answered  
 Chosen Option : --

**Comprehension:**

Read the given passage and answer the questions that follow.  
 Good society usually has good leaders. The people of the society follow the leaders, good citizens. Today's world is in dire need of selflessly influential leaders. In a sense, of sanity and egocentrism, the rationality of both leaders and the people reached the top. The relationship and the coordination between the leader and the followers are mostly equivocal and doubtful. On one hand, though the man is improving in terms of comfort, help, food, shelter, transportation, and technology still people follow leaders based on personal benefits like caste, religion region gender, etc. On the other hand, most of the leaders irrespective of political, religious, spiritual, business, science educational sectors are at selfish achievement and personal growth. For a better world, the globe needs self-disciplined, selfless, and impactful leaders like Mahatma Gandhi, Gautama Buddha, Abdul Kalam, and Mother Teresa.

**SubQuestion No : 25**

**Q.25** According to the writer, how can a good society have good citizens?

- Ans  A. If they have good people to interact.  
 B. When people follow good leaders  
 C. Because they attract good leaders.  
 D. As good leaders definitely make good citizens.

Question ID : 630680133118  
 Option 1 ID : 630680515494  
 Option 2 ID : 630680515497  
 Option 3 ID : 630680515495  
 Option 4 ID : 630680515496  
 Status : Not Answered  
 Chosen Option : --

Section : Hindi

Q.1 निम्नलिखित में से बहुव्रीहि सामसिक शब्द की पहचान कीजिए-

- Ans  A. भरपेट  
 B. तिराहा  
 C. त्रिलोचन  
 D. प्रतिदिन

Question ID : 630680214282  
 Option 1 ID : 630680831177  
 Option 2 ID : 630680831176  
 Option 3 ID : 630680831175  
 Option 4 ID : 630680831178  
 Status : Answered  
 Chosen Option : A

Q.2 दिए गए विकल्पों में से पर्यायवाची शब्द 'वस्त्र' के लिए उचित शब्दार्थ का चयन कीजिये।

- Ans  A. चिर  
 B. कमीज  
 C. वसन  
 D. चादर

Question ID : 630680129073  
 Option 1 ID : 630680499918  
 Option 2 ID : 630680499920  
 Option 3 ID : 630680499919  
 Option 4 ID : 630680499921  
 Status : Answered  
 Chosen Option : C

Q.3 निर्झर का तद्भव रूप \_\_\_\_\_ होता है। उचित तद्भव शब्द से रिक्त स्थान की पूर्ति कीजिए।

- Ans  A. रेगिस्तान  
 B. झरना  
 C. पहाड़  
 D. झर्झर

Question ID : 630680203835  
 Option 1 ID : 630680790540  
 Option 2 ID : 630680790541  
 Option 3 ID : 630680790542  
 Option 4 ID : 630680790539  
 Status : Answered  
 Chosen Option : B

Q.4 निम्नलिखित वाक्यांश के लिए एक सार्थक शब्द का चयन कीजिए।  
'जो पहले न हो रहा हो या न हुआ हो'

- Ans
- A. अच्युत
  - B. अपरिच्छिन्न
  - C. अपूर्व
  - D. अपांग

Question ID : 630680204525  
Option 1 ID : 630680793152  
Option 2 ID : 630680793151  
Option 3 ID : 630680793153  
Option 4 ID : 630680793154  
Status : Answered  
Chosen Option : A

Q.5 निम्नलिखित में से कौन सा एक वाक्य 'निजवाचक सर्वनाम' से सम्बंधित नहीं है?

- Ans
- A. वे आप ही यह जिम्मेदारी सँभालने को तैयार हो गए।
  - B. ये सब वे आप देख लेंगे।
  - C. ये फ़ाइलें मैं आप देखूँगा।
  - D. कोई सज्जन आपका पता पूछ रहे थे।

Question ID : 630680123283  
Option 1 ID : 630680478025  
Option 2 ID : 630680478022  
Option 3 ID : 630680478024  
Option 4 ID : 630680478023  
Status : Not Answered  
Chosen Option : --

Q.6 निम्नलिखित लोकोक्ति के उचित अर्थ का चयन करें।  
'इक नागिन अरु पंख लगाई'

- Ans
- A. एक के साथ दूसरा दोष
  - B. सीमा के अन्दर कार्य करना
  - C. बेमेल चीज़ों का सम्मिश्रण
  - D. दृष्टता के बदले और अधिक दृष्टता

Question ID : 630680204510  
Option 1 ID : 630680793092  
Option 2 ID : 630680793091  
Option 3 ID : 630680793093  
Option 4 ID : 630680793094  
Status : Not Answered  
Chosen Option : --

Q.7 मुझे इस यात्रा से संबंधित \_\_\_\_\_ का भुगतान यथाशीघ्र कर दीजिए' वाक्य के रिक्त स्थान के लिए संप्रदान तत्पुरुष का सर्वाधिक उपयुक्त समास-विग्रह चुनकर वाक्य पूर्ण कीजिए।

- Ans
- A. राह में खर्च
  - B. रास्ते का खर्च
  - C. राह के लिए खर्च
  - D. राहखर्च

Question ID : 630680123453  
 Option 1 ID : 630680478696  
 Option 2 ID : 630680478697  
 Option 3 ID : 630680478694  
 Option 4 ID : 630680478695  
 Status : Answered  
 Chosen Option : D

Q.8 निम्नलिखित विकल्पों को ध्यानपूर्वक देखें और बताएं कि कौनसा विकल्प 'आम' शब्द का अर्थ प्रस्तुत नहीं करता।

- Ans
- A. सामान्य
  - B. महत्वपूर्ण
  - C. विशेष प्रकार का फल
  - D. साधारण

Question ID : 630680204550  
 Option 1 ID : 630680793252  
 Option 2 ID : 630680793254  
 Option 3 ID : 630680793251  
 Option 4 ID : 630680793253  
 Status : Answered  
 Chosen Option : B

Q.9 जब ओखली में सर दिया, तो मूसल से क्या डरना। लोकोक्ति के सही अर्थ का चयन कीजिए।

- Ans
- A. कोई भी काम न करना
  - B. ओखली से बिलकुल न डरना
  - C. युद्ध के लिए हमेशा तैयार रहना
  - D. कोई काम करने की सोच लेने पर न घबराना

Question ID : 630680170143  
 Option 1 ID : 630680659171  
 Option 2 ID : 630680659169  
 Option 3 ID : 630680659172  
 Option 4 ID : 630680659170  
 Status : Answered  
 Chosen Option : D

Q.10 'जो ठीठ न हो' वाक्यांश के लिए सर्वाधिक उपयुक्त सार्थक शब्द है।

- Ans
- A. मूढ़
  - B. अनाचारी
  - C. अप्रगल्भ
  - D. अपभ्रंश

Question ID : 630680123414  
 Option 1 ID : 630680478541  
 Option 2 ID : 630680478540  
 Option 3 ID : 630680478538  
 Option 4 ID : 630680478539  
 Status : Answered  
 Chosen Option : C

Q.11 अनिश्चयवाचक सर्वनाम की पहचान करें।

- Ans
- A. तुम्हारे पास क्या चीज है ?
  - B. यह आ गई।
  - C. घर में कोई नहीं है।
  - D. जो चढ़ेगा वही गिरेगा।

Question ID : 630680123004  
 Option 1 ID : 630680476923  
 Option 2 ID : 630680476924  
 Option 3 ID : 630680476922  
 Option 4 ID : 630680476925  
 Status : Not Answered  
 Chosen Option : --

Q.12 निम्नलिखित में से 'उद्धरण' के सही सन्धि-विच्छेद का चयन कीजिये-

- Ans
- A. उत् + हरण
  - B. उदि + हरन
  - C. उदध + हरण
  - D. उद+ हरण

Question ID : 63068065796  
 Option 1 ID : 630680254131  
 Option 2 ID : 630680254133  
 Option 3 ID : 630680254132  
 Option 4 ID : 630680254130  
 Status : Answered  
 Chosen Option : A

Q.13 निम्नलिखित विकल्पों में से 'आत्मा व परमात्मा से सम्बन्ध रखने वाला।' वाक्यांश के लिए एक सार्थक शब्द क्या होगा?

- Ans  A. आद्योपांत  
 B. आधिदेविक  
 C. आध्यात्मिक  
 D. आधिभौतिक

Question ID : 630680126113  
 Option 1 ID : 630680489069  
 Option 2 ID : 630680489066  
 Option 3 ID : 630680489067  
 Option 4 ID : 630680489068  
 Status : Answered  
 Chosen Option : C

Q.14 'बहुमूल्य' शब्द में कौन-सा समास है?

- Ans  A. अव्ययीभाव समास  
 B. बहुव्रीहि समास  
 C. कर्मधारय समास  
 D. द्वन्द्व समास

Question ID : 630680204925  
 Option 1 ID : 630680794568  
 Option 2 ID : 630680794570  
 Option 3 ID : 630680794567  
 Option 4 ID : 630680794569  
 Status : Answered  
 Chosen Option : C

Q.15 मैंने उससे किताब लिखी। - प्रेरणार्थक क्रिया की दृष्टि से वाक्य में अशुद्ध शब्द है-

- Ans  A. उससे  
 B. मैंने  
 C. किताब  
 D. लिखी

Question ID : 630680126562  
 Option 1 ID : 630680490806  
 Option 2 ID : 630680490807  
 Option 3 ID : 630680490809  
 Option 4 ID : 630680490808  
 Status : Answered  
 Chosen Option : A

Q.16 'गुर्वोदार्य' का संधि-विच्छेद कीजिए-

- Ans
- A. गुर + औदार्य
  - B. गुरुवो + दार्य
  - C. गुरुवे + दार्य
  - D. गुरु + औदार्य

Question ID : 63068065749  
 Option 1 ID : 630680253946  
 Option 2 ID : 630680253949  
 Option 3 ID : 630680253947  
 Option 4 ID : 630680253948  
 Status : Not Answered  
 Chosen Option : --

Q.17 निम्नलिखित विकल्पों में से 'परम्परा से संपत्ति अथवा पद पाने वाला।' वाक्यांश के लिए एक सार्थक शब्द क्या होगा?

- Ans
- A. पदाधिकारी
  - B. उत्तराधिकारी
  - C. इच्छाचारी
  - D. औपनिवेशिक

Question ID : 630680126115  
 Option 1 ID : 630680489075  
 Option 2 ID : 630680489077  
 Option 3 ID : 630680489076  
 Option 4 ID : 630680489074  
 Status : Answered  
 Chosen Option : B

Q.18 'मोहन द्वारा फेंका गया पत्थर जल के \_\_\_\_\_ में चला गया।' रिक्त स्थान के लिए सर्वाधिक उपयुक्त समश्रुत भिन्नार्थक शब्द है।

- Ans
- A. अतल
  - B. अतुल
  - C. अटल
  - D. पटल

Question ID : 630680203855  
 Option 1 ID : 630680790621  
 Option 2 ID : 630680790619  
 Option 3 ID : 630680790620  
 Option 4 ID : 630680790622  
 Status : Answered  
 Chosen Option : D

Q.19 निम्नलिखित शब्द का पर्यायवाची बताएं।  
ओज

- Ans  A. ओस  
 B. बल  
 C. अंधकार  
 D. संपत्ति

Question ID : 630680203787  
Option 1 ID : 630680790350  
Option 2 ID : 630680790347  
Option 3 ID : 630680790349  
Option 4 ID : 630680790348  
Status : Answered  
Chosen Option : A

Q.20 दिए गए विकल्पों में से पर्यायवाची शब्द 'यमुना' के लिए उचित शब्दार्थ का चयन कीजिये।

- Ans  A. निर्झर  
 B. नदी  
 C. कावेरी  
 D. कालिंदी

Question ID : 630680129074  
Option 1 ID : 630680499924  
Option 2 ID : 630680499922  
Option 3 ID : 630680499923  
Option 4 ID : 630680499925  
Status : Answered  
Chosen Option : D

Adda247

**Comprehension:**

उपरोक्त गद्यांश के आधार पर निम्नलिखित प्रश्न का उत्तर दें।

जब प्राचीन भारत की ओर आँख उठाकर देखते हैं तो एक अजीब किस्म का करिश्मा सब ओर अठखेलियाँ करता हुआ दिखाई पड़ता है। ऐसा कहनेवाले कि हिंदुस्तानी जन्म से आध्यात्मिक होते हैं, असल में कहना चाहते हैं कि हिंदुस्तानी जन्म से दरिद्र और अतृप्त होते हैं। प्राचीन भारत को देखिए और आपको आँख खुल जाएगी। हिंदुस्तान जब समृद्ध था तभी उसके यहाँ अध्यात्म भी अपनी अंतिम चोटी पर पहुँचा। हिंदुस्तान में जब वेदांत सूत्र लिखा गया तब कामसूत्र रचा जा चुका था। हिंदुस्तान में जब तुलसी और सूर पैदा हुए तब भुवनेश्वर और खजुराहो के मंदिर बन चुके थे। हिंदुस्तानी अध्यात्म ने कभी भी भौतिक आनंद की गहराइयों में उतरने से हिंदुस्तानी को रोका नहीं। क्योंकि हिंदुस्तान की आत्मा की यह विशेषता है कि वह जीवन के खूब जरूरी दो अतिवादी छोरों के बीच अच्छा समन्वय कर लेती है। हिंदुस्तानी न सिर्फ भौतिक मधु को लगातार इकट्ठा करता रहा, बल्कि उसे उपभोग में लाने के सूक्ष्म तरीके खोजता रहा। इस मधु का आस्वादन कितनी मुद्राओं और कितने आसनों से संभव है, उससे पूछ लीजिए। पुराना हिंदुस्तानी इसीलिए कम से कम सौ शरद जीने की कामना करता था ताकि वह इस मधु का छककर पान कर सके। जब से आधुनिकता आई है न रस रहा, न मधु। एक हवस बच गयी है जो बेशुमार छटपटाहटों से भरी हुई है।

**SubQuestion No : 21**

Q.21 उपरोक्त गद्यांश के आधार पर निम्नलिखित प्रश्न का उत्तर दें।

प्राचीन भारत की मुख्य रूप से विशेषता क्या थी? निम्नलिखित विकल्पों में से सबसे उचित एवं सार्थक उत्तर चुनें।

Ans  A. प्राचीन भारत में समन्वय का गुण था।

- B. प्राचीन भारत सूर एवं तुलसी को महत्व देता था।  
 C. प्राचीन भारत में धार्मिक गतिविधियाँ अधिक हुईं।  
 D. प्राचीन भारत में कई मंदिरों का निर्माण हुआ।

Question ID : 630680211295  
 Option 1 ID : 630680819327  
 Option 2 ID : 630680819328  
 Option 3 ID : 630680819330  
 Option 4 ID : 630680819329  
 Status : Answered  
 Chosen Option : A

**Comprehension:**

उपरोक्त गद्यांश के आधार पर निम्नलिखित प्रश्न का उत्तर दें।

जब प्राचीन भारत की ओर आँख उठाकर देखते हैं तो एक अजीब किस्म का करिश्मा सब ओर अठखेलियाँ करता हुआ दिखाई पड़ता है। ऐसा कहनेवाले कि हिंदुस्तानी जन्म से आध्यात्मिक होते हैं, असल में कहना चाहते हैं कि हिंदुस्तानी जन्म से दरिद्र और अतृप्त होते हैं। प्राचीन भारत को देखिए और आपको आँख खुल जाएगी। हिंदुस्तान जब समृद्ध था तभी उसके यहाँ अध्यात्म भी अपनी अंतिम चोटी पर पहुँचा। हिंदुस्तान में जब वेदांत सूत्र लिखा गया तब कामसूत्र रचा जा चुका था। हिंदुस्तान में जब तुलसी और सूर पैदा हुए तब भुवनेश्वर और खजुराहो के मंदिर बन चुके थे। हिंदुस्तानी अध्यात्म ने कभी भी भौतिक आनंद की गहराइयों में उतरने से हिंदुस्तानी को रोका नहीं। क्योंकि हिंदुस्तान की आत्मा की यह विशेषता है कि वह जीवन के खूब जरूरी दो अतिवादी छोरों के बीच अच्छा समन्वय कर लेती है। हिंदुस्तानी न सिर्फ भौतिक मधु को लगातार इकट्ठा करता रहा, बल्कि उसे उपभोग में लाने के सूक्ष्म तरीके खोजता रहा। इस मधु का आस्वादन कितनी मुद्राओं और कितने आसनों से संभव है, उससे पूछ लीजिए। पुराना हिंदुस्तानी इसीलिए कम से कम सौ शरद जीने की कामना करता था ताकि वह इस मधु का छककर पान कर सके। जब से आधुनिकता आई है न रस रहा, न मधु। एक हवस बच गयी है जो बेशुमार छटपटाहटों से भरी हुई है।

**SubQuestion No : 22**

Q.22 निम्नलिखित वाक्य को ध्यानपूर्वक पढ़ें और बताएं कि प्रस्तुत विकल्पों में से कौन सा विकल्प चिन्हित शब्द का समानार्थी शब्द नहीं है।

असल में कहना चाहते हैं कि हिंदुस्तानी जन्म से **दुरिद्र** और अतृप्त होते हैं।

- Ans
- A. गरीब
  - B. अकिंचन
  - C. किंकर्तव्यविमूढ़
  - D. निर्धन

Question ID : 630680211293  
 Option 1 ID : 630680819319  
 Option 2 ID : 630680819321  
 Option 3 ID : 630680819322  
 Option 4 ID : 630680819320  
 Status : Answered  
 Chosen Option : C

**Comprehension:**

उपरोक्त गद्यांश के आधार पर निम्नलिखित प्रश्न का उत्तर दें।

जब प्राचीन भारत की ओर आँख उठाकर देखते हैं तो एक अजीब किस्म का करिश्मा सब ओर अठखेलियाँ करता हुआ दिखाई पड़ता है। ऐसा कहनेवाले कि हिंदुस्तानी जन्म से आध्यात्मिक होते हैं, असल में कहना चाहते हैं कि हिंदुस्तानी जन्म से दरिद्र और अतृप्त होते हैं। प्राचीन भारत को देखिए और आपको आँख खुल जाएगी। हिंदुस्तान जब समृद्ध था तभी उसके यहाँ अध्यात्म भी अपनी अंतिम चोटी पर पहुँचा। हिंदुस्तान में जब वेदांत सूत्र लिखा गया तब कामसूत्र रचा जा चुका था। हिंदुस्तान में जब तुलसी और सूर पैदा हुए तब भुवनेश्वर और खजुराहो के मंदिर बन चुके थे। हिंदुस्तानी अध्यात्म ने कभी भी भौतिक आनंद की गहराइयों में उतरने से हिंदुस्तानी को रोका नहीं। क्योंकि हिंदुस्तान की आत्मा की यह विशेषता है कि वह जीवन के खूब जरूरी दो अतिवादी छोरों के बीच अच्छा समन्वय कर लेती है। हिंदुस्तानी न सिर्फ भौतिक मधु को लगातार इकट्ठा करता रहा, बल्कि उसे उपभोग में लाने के सूक्ष्म तरीके खोजता रहा। इस मधु का आस्वादन कितनी मुद्राओं और कितने आसनों से संभव है, उससे पूछ लीजिए। पुराना हिंदुस्तानी इसीलिए कम से कम सौ शरद जीने की कामना करता था ताकि वह इस मधु का छककर पान कर सके। जब से आधुनिकता आई है न रस रहा, न मधु। एक हवस बच गयी है जो बेशुमार छटपटाहटों से भरी हुई है।

**SubQuestion No : 23**

**Q.23** उपरोक्त गद्यांश के आधार पर निम्नलिखित प्रश्न का उत्तर दें।  
कौन हिंदुस्तानियों को जन्म से दरिद्र एवं अतृप्त मानते हैं?

- Ans**
- A. वे लोग जो हिंदुस्तानियों को जन्म से आध्यात्मिक मानते हैं
  - B. वे लोग जो हिंदुस्तानियों को जन्म से विलासी मानते हैं
  - C. वे लोग जो हिंदुस्तानियों को जन्म से नास्तिक मानते हैं
  - D. वे लोग जो हिंदुस्तानियों को जन्म से व्यावहारिक मानते हैं

Question ID : 630680211292  
Option 1 ID : 630680819315  
Option 2 ID : 630680819317  
Option 3 ID : 630680819316  
Option 4 ID : 630680819318  
Status : Answered  
Chosen Option : A

**Comprehension:**

उपरोक्त गद्यांश के आधार पर निम्नलिखित प्रश्न का उत्तर दें।

जब प्राचीन भारत की ओर आँख उठाकर देखते हैं तो एक अजीब किस्म का करिश्मा सब ओर अठखेलियाँ करता हुआ दिखाई पड़ता है। ऐसा कहनेवाले कि हिंदुस्तानी जन्म से आध्यात्मिक होते हैं, असल में कहना चाहते हैं कि हिंदुस्तानी जन्म से दरिद्र और अतृप्त होते हैं। प्राचीन भारत को देखिए और आपको आँख खुल जाएगी। हिंदुस्तान जब समृद्ध था तभी उसके यहाँ अध्यात्म भी अपनी अंतिम चोटी पर पहुँचा। हिंदुस्तान में जब वेदांत सूत्र लिखा गया तब कामसूत्र रचा जा चुका था। हिंदुस्तान में जब तुलसी और सूर पैदा हुए तब भुवनेश्वर और खजुराहो के मंदिर बन चुके थे। हिंदुस्तानी अध्यात्म ने कभी भी भौतिक आनंद की गहराइयों में उतरने से हिंदुस्तानी को रोका नहीं। क्योंकि हिंदुस्तान की आत्मा की यह विशेषता है कि वह जीवन के खूब जरूरी दो अतिवादी छोरों के बीच अच्छा समन्वय कर लेती है। हिंदुस्तानी न सिर्फ भौतिक मधु को लगातार इकट्ठा करता रहा, बल्कि उसे उपभोग में लाने के सूक्ष्म तरीके खोजता रहा। इस मधु का आस्वादन कितनी मुद्राओं और कितने आसनों से संभव है, उससे पूछ लीजिए। पुराना हिंदुस्तानी इसीलिए कम से कम सौ शरद जीने की कामना करता था ताकि वह इस मधु का छककर पान कर सके। जब से आधुनिकता आई है न रस रहा, न मधु। एक हवस बच गयी है जो बेशुमार छटपटाहटों से भरी हुई है।

**SubQuestion No : 24**

Q.24 उपरोक्त गद्यांश के आधार पर निम्नलिखित प्रश्न का उत्तर दें।  
निम्नलिखित विकल्पों में से कौनसा विकल्प उपरोक्त गद्यांश का उचित शीर्षक है?

- Ans
- A. प्रांत
  - B. प्राचीन भारत एवं नवीन भारत
  - C. देश
  - D. लोकजीवन

Question ID : 630680211291  
Option 1 ID : 630680819313  
Option 2 ID : 630680819311  
Option 3 ID : 630680819312  
Option 4 ID : 630680819314  
Status : Answered  
Chosen Option : B

**Comprehension:**

उपरोक्त गद्यांश के आधार पर निम्नलिखित प्रश्न का उत्तर दें।

जब प्राचीन भारत की ओर आँख उठाकर देखते हैं तो एक अजीब किस्म का करिश्मा सब ओर अठखेलियाँ करता हुआ दिखाई पड़ता है। ऐसा कहनेवाले कि हिंदुस्तानी जन्म से आध्यात्मिक होते हैं, असल में कहना चाहते हैं कि हिंदुस्तानी जन्म से दरिद्र और अतृप्त होते हैं। प्राचीन भारत को देखिए और आपको आँख खुल जाएगी। हिंदुस्तान जब समृद्ध था तभी उसके यहाँ अध्यात्म भी अपनी अंतिम चोटी पर पहुँचा। हिंदुस्तान में जब वेदांत सूत्र लिखा गया तब कामसूत्र रचा जा चुका था। हिंदुस्तान में जब तुलसी और सूर पैदा हुए तब भुवनेश्वर और खजुराहो के मंदिर बन चुके थे। हिंदुस्तानी अध्यात्म ने कभी भी भौतिक आनंद की गहराइयों में उतरने से हिंदुस्तानी को रोका नहीं। क्योंकि हिंदुस्तान की आत्मा की यह विशेषता है कि वह जीवन के खूब जरूरी दो अतिवादी छोरों के बीच अच्छा समन्वय कर लेती है। हिंदुस्तानी न सिर्फ भौतिक मधु को लगातार इकट्ठा करता रहा, बल्कि उसे उपभोग में लाने के सूक्ष्म तरीके खोजता रहा। इस मधु का आस्वादन कितनी मुद्राओं और कितने आसनों से संभव है, उससे पूछ लीजिए। पुराना हिंदुस्तानी इसीलिए कम से कम सौ शरद जीने की कामना करता था ताकि वह इस मधु का छककर पान कर सके। जब से आधुनिकता आई है न रस रहा, न मधु। एक हवस बच गयी है जो बेशुमार छटपटाहटों से भरी हुई है।

**SubQuestion No : 25**

Q.25 उपरोक्त गद्यांश के आधार पर निम्नलिखित रिक्तस्थान की पूर्ति करें।  
\_\_\_\_\_ ने कभी भी समाज को भौतिक आनंद प्राप्त करने से नहीं रोका।

- Ans
- A. खजुराहो के मंदिर
  - B. सूर एवं तुलसीदास के साहित्य
  - C. वेदान्त एवं कामसूत्र
  - D. हिन्दुस्तानी अध्यात्म

Question ID : 630680211294  
Option 1 ID : 630680819325  
Option 2 ID : 630680819324  
Option 3 ID : 630680819326  
Option 4 ID : 630680819323  
Status : Answered  
Chosen Option : D