

CRPF Constable

**Previous Year Paper
Technical Tradesman
01 July, 2023 Shift 2**



Adda247

Test Prime

ALL EXAMS, ONE SUBSCRIPTION



1,00,000+
Mock Tests



Personalised
Report Card



Unlimited
Re-Attempt



600+
Exam Covered



25,000+ Previous
Year Papers



500%
Refund



ATTEMPT FREE MOCK NOW

CRPF Technical Tradesman 1st to 12th July 2023

Participant ID	
Participant Name	
Test Center Name	
Test Date	01/07/2023
Test Time	12:30 PM - 2:30 PM
Subject	Constable Cook

Section : General Intelligence and Reasoning

Q.1 सुधाकर ने अपने घर से चलना आरंभ किया और 20 किलोमीटर पश्चिम की ओर चला। फिर वह अपनी बाईं ओर मुड़ा और 20 किलोमीटर चला। वहां से वह दायें मुड़ा और 20 किलोमीटर चला। अब वह किस दिशा में उन्मुख है?

- Ans
- 1. दक्षिण
 - 2. पूर्व
 - 3. उत्तर
 - 4. पश्चिम

Question ID : 63068048860
Option 1 ID : 630680187988
Option 2 ID : 630680187987
Option 3 ID : 630680187989
Option 4 ID : 630680187986
Status : Answered
Chosen Option : 4

Q.2 P, O का भाई है। U और V, O की पुत्रियाँ हैं। G, O की माता है। P, F का पुत्र है। S, G का पोता/नाती है। S और T, P के पुत्र हैं। S का F से क्या संबंध है?

- Ans
- 1. पुत्र
 - 2. कजिन/भतीजा
 - 3. ताऊ/चाचा
 - 4. पोता

Question ID : 630680104931
Option 1 ID : 630680407855
Option 2 ID : 630680407857
Option 3 ID : 630680407856
Option 4 ID : 630680407858
Status : Answered
Chosen Option : 4

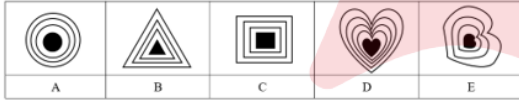
Q.3 दी गई आकृति में त्रिभुजों की संख्या ज्ञात कीजिए।



- Ans
- 1. 18
 - 2. 14
 - 3. 16
 - 4. 20

Question ID : 63068082595
 Option 1 ID : 630680320386
 Option 2 ID : 630680320385
 Option 3 ID : 630680320384
 Option 4 ID : 630680320387
 Status : Not Answered
 Chosen Option : --

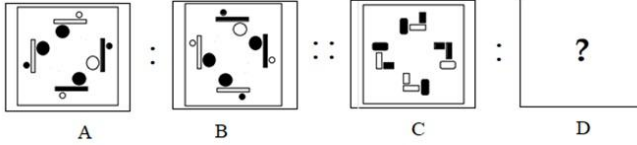
Q.4 पांच आकृतियां दी गयी हैं, जिनमें से चार किसी न किसी रूप में एक समान हैं और एक भिन्न है। भिन्न आकृति का चयन करें।




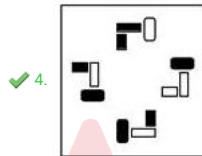
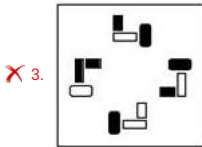
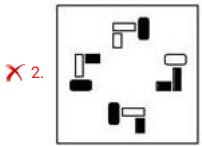
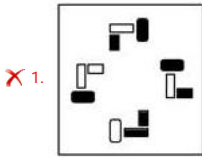
- Ans
- 1. D
 - 2. C
 - 3. A
 - 4. B

Question ID : 630680111486
 Option 1 ID : 630680431738
 Option 2 ID : 630680431740
 Option 3 ID : 630680431739
 Option 4 ID : 630680431741
 Status : Answered
 Chosen Option : 1

Q.5 उस विकल्प का चयन करें जो तीसरी आकृति से उसी प्रकार संबंधित है जैसे दूसरी आकृति पहली आकृति से संबंधित है।



Ans







Question ID : 63068058837
 Option 1 ID : 630680226972
 Option 2 ID : 630680226970
 Option 3 ID : 630680226973
 Option 4 ID : 630680226971
 Status : Answered
 Chosen Option : 1

Q.6 विकल्पों में से गणितीय चिह्नों के उस सही संयोजन का चयन कीजिए जिसमें उल्लेखित चिन्ह क्रमिक रूप से X चिह्नों को प्रतिस्थापित कर सकते हैं और दिए गए समीकरण को संतुलित कर सकते हैं।
39 X 13 X 25 X 5 X 15

- Ans
- ✓ 1. ÷, ×, =, ×
 - ✗ 2. ×, =, -, ÷
 - ✗ 3. ÷, ×, =, -
 - ✗ 4. ×, ÷, =, -

Question ID : 630680105080
Option 1 ID : 630680408434
Option 2 ID : 630680408431
Option 3 ID : 630680408432
Option 4 ID : 630680408433
Status : Answered
Chosen Option : 1

Q.7 चार आकृतियां दी गई हैं, जिनमें से तीन किसी न किसी रूप में एकसमान हैं और एक उनसे असंगत है। उस असंगत आकृति का चयन करें।

- Ans
- ✓ 1. 
 - ✗ 2. 
 - ✗ 3. 
 - ✗ 4. 

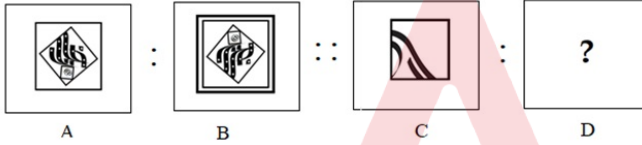
Question ID : 63068058858
Option 1 ID : 630680227057
Option 2 ID : 630680227055
Option 3 ID : 630680227056
Option 4 ID : 630680227054
Status : Answered
Chosen Option : 1

Q.8 एक व्यक्ति अपनी कार 3 किमी पश्चिम की ओर चलाता है। फिर वह दाएं मुड़ता है और 5 किमी चलाता है। वह फिर बाएं मुड़ता है और 2 किमी चलाता करता है और फिर दाएं मुड़ता है और 5 किमी तक कार चलाता है। वह अंत में दाएं मुड़ता है और अपने गंतव्य तक पहुंचने के लिए 1 किमी कार चलाता है। वह अब आरंभिक बिंदु से किस दिशा में है?

- Ans
- 1. दक्षिण-पश्चिम
 - 2. उत्तर-पूर्व
 - 3. दक्षिण-पूर्व
 - 4. उत्तर-पश्चिम

Question ID : 63068058765
Option 1 ID : 630680226682
Option 2 ID : 630680226683
Option 3 ID : 630680226685
Option 4 ID : 630680226684
Status : Answered
Chosen Option : 4

Q.9 उस विकल्प का चयन करें जो तीसरी आकृति से उसी प्रकार संबंधित है जैसे दूसरी आकृति पहली आकृति से संबंधित है।



Ans

- 1.
- 2.
- 3.
- 4.

Question ID : 63068058841
Option 1 ID : 630680226988
Option 2 ID : 630680226987
Option 3 ID : 630680226989
Option 4 ID : 630680226986
Status : Answered
Chosen Option : 2

Q.10 पांच आकृतियां दी गयी हैं, जिनमें से चार किसी न किसी रूप में एक समान हैं और एक भिन्न है। भिन्न आकृति का चयन करें।

P O U T	S O U R	D E A R	P U S H	B E L T
T P O U	R S O U	R D E A	H P U S	T E L B
U T P O	U R S O	A R D E	S H P U	E T B L
A	B	C	D	E

- Ans 1. D
 2. E
 3. A
 4. B

Question ID : 63068011478
Option 1 ID : 630680431707
Option 2 ID : 630680431709
Option 3 ID : 630680431706
Option 4 ID : 630680431708
Status : Answered
Chosen Option : 2

Q.11 निम्नलिखित श्रृंखला को जारी रखने के लिए प्रश्न चिह्न (?) के स्थान पर कौन-सी आकृति आनी चाहिए?

C	T	Z	9	9	Q	B	Z	
	B		T		C		Q	?
9	Q	Z	B	C	Q	Z	T	B
								C
								9
								T

Ans

✗ 1.

C	B
9	
T	Q
Z	

✗ 2.

C	T
9	
B	Q
Z	

✗ 3.

Z	Q
B	
T	C
9	

✓ 4.

Z	T
9	
B	Q
C	

Adda247

Question ID : 630680214407
Option 1 ID : 630680831659
Option 2 ID : 630680831661
Option 3 ID : 630680831660
Option 4 ID : 630680831662
Status : Answered
Chosen Option : 1

Q.12 उस विकल्प का चयन कीजिए जो दिए गए संयोजन के दर्पण में निर्मित प्रतिबिम्ब से सर्वाधिक मिलता जुलता हो।



- Ans
- ✓ 1. AnAVeEj
 - ✗ 2. AuAVeEj
 - ✗ 3. AnvVeEj
 - ✗ 4. AnAVEej

Question ID : 63068083987
 Option 1 ID : 630680325542
 Option 2 ID : 630680325543
 Option 3 ID : 630680325540
 Option 4 ID : 630680325541
 Status : Answered
 Chosen Option : 1

Q.13 चार आकृतियां दी गयी हैं, जिनमें से तीन किसी न किसी रूप में एक समान हैं और एक भिन्न है। जो आकृति भिन्न है उसे चुनें।

- Ans
- ✗ 1.
 - ✗ 2.
 - ✗ 3.
 - ✓ 4.

Question ID : 63068062132
 Option 1 ID : 630680239846
 Option 2 ID : 630680239847
 Option 3 ID : 630680239848
 Option 4 ID : 630680239849
 Status : Answered
 Chosen Option : 3

Q.14 यदि निम्नलिखित शृंखला को जारी रखा जाए, तो प्रश्नचिह्न (?) के स्थान पर कौन-सी आकृति आनी चाहिए?

S	6	P	SS	PA	S	
	P	N	N	6	A	N
O		A	A	OO	6	6
						O
						?

Ans

✗ 1.

N	A
P	S
O	6

✗ 2.

S	A
P	O
N	6

✓ 3.

S	A
6	N
O	P

✗ 4.

S	A
6	O
N	P

Question ID : 630680214404

Option 1 ID : 630680831648

Option 2 ID : 630680831649

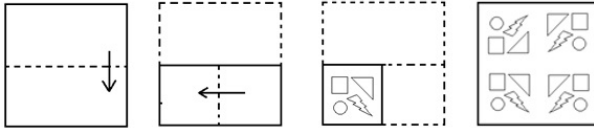
Option 3 ID : 630680831650

Option 4 ID : 630680831647

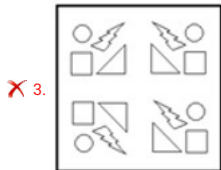
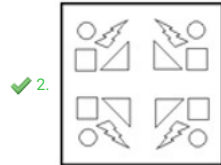
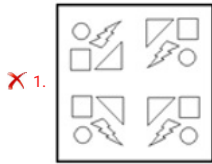
Status : Answered

Chosen Option : 3

Q.15 एक कागज को मोड़ने का क्रम और मोड़े गए कागज को काटने का तरीका नीचे दिखाया गया है। दिए गए विकल्पों में से उस आकृति का चयन करें जो कागज के खुले हुए रूप से सबसे अधिक मिलती-जुलती हो?

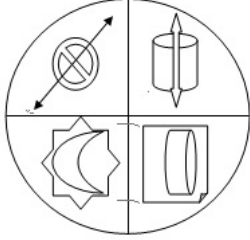






Ans



Question ID : 630680157510
 Option 1 ID : 630680609568
 Option 2 ID : 630680609570
 Option 3 ID : 630680609571
 Option 4 ID : 630680609569
 Status : Answered
 Chosen Option : 1

Q.16 उस विकल्प का चयन कीजिए जो दी गई आकृति में सन्निहित है (छुमाने की अनुमति नहीं है)।



- Ans
- ✗ 1. 
 - ✗ 2. 
 - ✓ 3. 
 - ✗ 4. 

Question ID : 630680160260
 Option 1 ID : 630680620412
 Option 2 ID : 630680620415
 Option 3 ID : 630680620413
 Option 4 ID : 630680620414
 Status : Answered
 Chosen Option : 3

Q.17 निम्नलिखित श्रृंखला को जारी रखने के लिए प्रश्न चिह्न (?) के स्थान पर कौन-सी आकृति आनी चाहिए?

B	D D	<input type="checkbox"/>	6	9 9	I	?
I	V V	I	<input type="checkbox"/>	D D	<input type="checkbox"/>	
<input type="checkbox"/>	6 6	9 I	V V	8		

Ans

✗ 1.

V	8
<input type="checkbox"/>	D
9	I

✗ 2.

V	8
9	I
D	<input type="checkbox"/>

✗ 3.

V	<input type="checkbox"/>
I	D
8	9

✓ 4.

V	8
I	9
<input type="checkbox"/>	D

Question ID : 630680214406
 Option 1 ID : 630680831656
 Option 2 ID : 630680831655
 Option 3 ID : 630680831658
 Option 4 ID : 630680831657
 Status : Not Answered
 Chosen Option : --

Q.18 उस विकल्प का चयन कीजिए जो दिए गए संयोजन के दर्पण में निर्मित प्रतिबिम्ब से सर्वाधिक मिलता जुलता हो।



- Ans
- 1. W R I N G E R
 - 2. Я R E G I N R W
 - 3. W R I N G E R
 - 4. W R I N G E R

Question ID : 63068083979
Option 1 ID : 630680325511
Option 2 ID : 630680325510
Option 3 ID : 630680325508
Option 4 ID : 630680325509
Status : Answered
Chosen Option : 1

Q.19 Q P की बहन है। H P की माता है। B H के पति की माता है। A G के पति का पिता है और H का पति है। N G का पुत्र है। E Q का पिता है। E N से किस प्रकार संबंधित है?

- Ans
- 1. पिता
 - 2. बेटा
 - 3. पिता का भाई
 - 4. भाई

Question ID : 630680108400
Option 1 ID : 630680420567
Option 2 ID : 630680420566
Option 3 ID : 630680420565
Option 4 ID : 630680420564
Status : Answered
Chosen Option : 3

Q.20 रमन ने टैक्सी स्टैंड से अपने होमटाउन के लिए कार चलाई। वह 10 km टैक्सी स्टैंड के उत्तर में चला। इसके बाद, वह दायें मुड़ा और 20 km चला। फिर वह अपनी बाईं ओर 30 km चला। वह फिर से बायें मुड़ा और 20 km चला। फिर उसने अंतिम बार बाईं ओर मुड़ा और अंतिम 10 km चला। टैक्सी स्टैंड से उसका होमटाउन कितनी दूर है और किस दिशा में है?

- Ans
- 1. 20 km, दक्षिण
 - 2. 30 km, उत्तर
 - 3. 30 km, दक्षिण
 - 4. 20 km, उत्तर

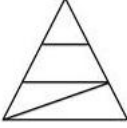
Question ID : 63068053336
Option 1 ID : 630680205431
Option 2 ID : 630680205432
Option 3 ID : 630680205433
Option 4 ID : 630680205430
Status : Answered
Chosen Option : 2

Q.21 ऋतिक दक्षिण दिशा की ओर अभिमुख है। वह दाएं मुड़ता है और अपनी साइकिल पर 20 km चलता है। वह फिर दाएं मुड़ता है और 30 km चलता है। फिर वह बाएं मुड़ता है और 15 km चलता है। अंत में, वह बाएं मुड़ता है और 30 km चलता है। ऋतिक अब किस दिशा की ओर अभिमुख है?

- Ans
- 1. पूर्व
 - 2. पश्चिम
 - 3. दक्षिण
 - 4. उत्तर

Question ID : 63068051794
 Option 1 ID : 630680199347
 Option 2 ID : 630680199348
 Option 3 ID : 630680199349
 Option 4 ID : 630680199346
 Status : Answered
 Chosen Option : 3

Q.22 दी गई आकृति में कितने त्रिभुज हैं?



- Ans
- 1. 1
 - 2. 3
 - 3. 5
 - 4. 6

Question ID : 63068075415
 Option 1 ID : 630680291811
 Option 2 ID : 630680291812
 Option 3 ID : 630680291813
 Option 4 ID : 630680291814
 Status : Answered
 Chosen Option : 4

Q.23 उस विकल्प का चयन कीजिए जो दिए गए संयोजन के दर्पण में निर्मित प्रतिबिंब से सर्वाधिक मिलता जुलता हो।

K A M A L A M
A
B

Ans

- ✓ 1. M A J A M A K
 ✗ 2. M A L A M A K
 ✗ 3. M A J A M A K
 ✗ 4. M A J A M A K

Question ID : 63068083990
 Option 1 ID : 630680325553
 Option 2 ID : 630680325552
 Option 3 ID : 630680325555
 Option 4 ID : 630680325554
 Status : Answered
 Chosen Option : 1

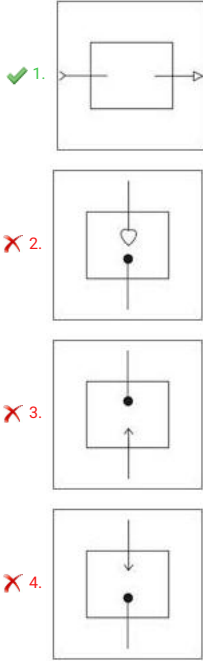
Q.24 U और V बहनें हैं। F, U की माता का पिता है। F और G का इकलौता दामाद R है। A और P, F के पुत्र हैं। C, A का पुत्र है। T, P का पुत्र है। U, O की पुत्री है। A, O से किस प्रकार संबंधित है?

- Ans ✗ 1. दादा
 ✗ 2. नाना
 ✓ 3. भाई
 ✗ 4. पिता

Question ID : 630680104937
 Option 1 ID : 630680407881
 Option 2 ID : 630680407882
 Option 3 ID : 630680407879
 Option 4 ID : 630680407880
 Status : Answered
 Chosen Option : 3

Q.25 नीचे चार आकृतियां दी गई हैं, जिनमें से तीन किसी न किसी रूप में समान हैं और एक उनसे असंगत है। असंगत आकृति का चयन कीजिए।

Ans



Question ID : 63068049712
 Option 1 ID : 630680191278
 Option 2 ID : 630680191280
 Option 3 ID : 630680191279
 Option 4 ID : 630680191281
 Status : Answered
 Chosen Option : 2

Section : General Knowledge and General Awareness

Q.1 भारत के संविधान के किस अनुच्छेद के अंतर्गत, किसी भी व्यक्ति को अपने खिलाफ गवाह बनने के लिए मजबूर नहीं किया जा सकता है?

- Ans ✗ 1. अनुच्छेद 19
 ✓ 2. अनुच्छेद 20
 ✗ 3. अनुच्छेद 21
 ✗ 4. अनुच्छेद 18

Question ID : 630680209111
 Option 1 ID : 630680810660
 Option 2 ID : 630680810661
 Option 3 ID : 630680810662
 Option 4 ID : 630680810659
 Status : Not Answered
 Chosen Option : --

Q.2 भारतीय उपमहाद्वीप का पहला उद्यान मकबरा कौन सा है?

- Ans
- 1. सासाराम में शेरशाह का मकबरा
 - 2. फतेहपुर सीकरी में सलीम चिश्ती का मकबरा
 - 3. दिल्ली में हुमायूँ का मकबरा
 - 4. मालवा में होशंग शाह का मकबरा

Question ID : 630680213909
 Option 1 ID : 630680829683
 Option 2 ID : 630680829686
 Option 3 ID : 630680829684
 Option 4 ID : 630680829685
 Status : Not Answered
 Chosen Option : --

Q.3 निम्नलिखित में से किस प्रकार के चक्रवात पश्चिम बंगाल और हिंद महासागर में उत्पन्न होते हैं?

- Ans
- 1. उष्णकटिबंधीय चक्रवात
 - 2. बाह्योष्णकटिबंधीय चक्रवात
 - 3. मेसो चक्रवात
 - 4. उपोष्णकटिबंधीय चक्रवात

Question ID : 63068080390
 Option 1 ID : 630680311587
 Option 2 ID : 630680311586
 Option 3 ID : 630680311588
 Option 4 ID : 630680311585
 Status : Not Answered
 Chosen Option : --

Q.4 निम्नलिखित में से कौन-सा औसत उत्पाद और सीमान्त उत्पाद के बीच सही संबंध को दर्शाता है?

1. जब तक सीमान्त उत्पाद, औसत उत्पाद से कम होता है, औसत उत्पाद बढ़ता है।
2. जब सीमान्त उत्पाद, औसत उत्पाद के बराबर होता है, तो औसत उत्पाद न्यूनतम होता है।
3. जब सीमान्त उत्पाद, औसत उत्पाद से कम होता है, तो औसत उत्पाद गिर जाता है।

- Ans
- 1. केवल 2 और 3
 - 2. केवल 3
 - 3. केवल 1 और 2
 - 4. केवल 1 और 3

Question ID : 630680209014
 Option 1 ID : 630680810272
 Option 2 ID : 630680810273
 Option 3 ID : 630680810271
 Option 4 ID : 630680810274
 Status : Not Answered
 Chosen Option : --

Q.5 LOTUS-HR परियोजना का अक्टूबर 2019 में शुरू किया गया दूसरा चरण, स्वास्थ्यकर दोबारा उपयोग के लिए _____ के उपचार से संबंधित है।

- Ans
- 1. ग्रामीण टोस अपशिष्ट
 - 2. ग्रामीण सीवेज
 - 3. शहरी टोस अपशिष्ट
 - 4. शहरी सीवेज

Question ID : 630680115964
 Option 1 ID : 630680449189
 Option 2 ID : 630680449188
 Option 3 ID : 630680449187
 Option 4 ID : 630680449186
 Status : Not Answered
 Chosen Option : --

Q.6 भारतीय रिजर्व बैंक द्वारा मुद्रा आपूर्ति को विनियमित करने के लिए निम्नलिखित में से किस साधन का उपयोग किया जाता है?

- Ans
- 1. व्यापार नीति
 - 2. औद्योगिक नीति
 - 3. मौद्रिक नीति
 - 4. राजकोषीय नीति

Question ID : 630680209009
 Option 1 ID : 630680810254
 Option 2 ID : 630680810253
 Option 3 ID : 630680810252
 Option 4 ID : 630680810251
 Status : Not Answered
 Chosen Option : --

Q.7 स्तूप की संरचना में 'हर्मिका' क्या है?

- Ans
- 1. अर्धवृत्ताकार टीले के ऊपर बालकनी जैसी संरचना
 - 2. समृद्ध नक्काशीदार प्रवेश द्वार चार प्रमुख बिंदुओं पर स्थापित है
 - 3. पवित्र स्थान को धर्मनिरपेक्ष दुनिया से अलग करने के लिए एक रेलिंग
 - 4. पत्थर की रेलिंग जो बांस या लकड़ी की बाड़ जैसी होती है

Question ID : 630680213900
 Option 1 ID : 630680829647
 Option 2 ID : 630680829649
 Option 3 ID : 630680829648
 Option 4 ID : 630680829650
 Status : Not Answered
 Chosen Option : --

Q.8 निम्नलिखित में से कौन-सा भारतीय मुद्रा आपूर्ति का घटक नहीं है?

- Ans
- 1. संचलन में मुद्रा
 - 2. विदेशी मुद्रा भंडार
 - 3. सावधि जमा
 - 4. मांग जमा

Question ID : 630680209008
 Option 1 ID : 630680810247
 Option 2 ID : 630680810250
 Option 3 ID : 630680810249
 Option 4 ID : 630680810248
 Status : Not Answered
 Chosen Option : --

Q.9 किस संविधान संशोधन अधिनियम के अंतर्गत मौलिक कर्तव्यों को जोड़ा गया था?

- Ans
- 1. 73वें संविधान संशोधन अधिनियम
 - 2. 42वें संविधान संशोधन अधिनियम
 - 3. 7 वें संविधान संशोधन अधिनियम
 - 4. 44वें संविधान संशोधन अधिनियम

Question ID : 63068090760
 Option 1 ID : 630680351817
 Option 2 ID : 630680351815
 Option 3 ID : 630680351814
 Option 4 ID : 630680351816
 Status : Not Answered
 Chosen Option : --

Q.10 शाह-जी-की-ढेरी में स्तूप किसने बनवाया था?

- Ans
- 1. मौर्य राजा - अशोक
 - 2. शक राजा - माउज़
 - 3. कुषाण राजा - कनिष्क
 - 4. सातवाहन राजा - सातकर्णी द्वितीय

Question ID : 630680213905
 Option 1 ID : 630680829668
 Option 2 ID : 630680829670
 Option 3 ID : 630680829667
 Option 4 ID : 630680829669
 Status : Not Answered
 Chosen Option : --

Q.11 ब्रह्मपुत्र घाटी कहाँ स्थित है?

- Ans
- 1. नागालैंड
 - 2. त्रिपुरा
 - 3. असम
 - 4. मेघालय

Question ID : 63068080383
 Option 1 ID : 630680311560
 Option 2 ID : 630680311559
 Option 3 ID : 630680311557
 Option 4 ID : 630680311558
 Status : Answered
 Chosen Option : 2

Q.12 हड़प्पा शहर धोलावीरा के बारे में निम्नलिखित में से कौन सा/से कथन सही है/हैं?

1. कई हड़प्पा स्थलों में दीवारों वाला एक मध्य शहर और निम्न शहर मिट्टी की ईंटों के बजाय बलुआ पत्थर या चूना पत्थर से बना था।
2. अद्वितीय डिजाइन वाले नौ द्वार और कब्र-स्तूप की विशेषता वाली अंत्येष्टि संबंधी वास्तुकला- बौद्ध स्तूप जैसी अर्धगोलाकार संरचनाएं धोलावीरा स्थल की कुछ अद्वितीय विशेषताएं हैं।
3. वर्तमान में, यह भारत में उत्तर प्रदेश में स्थित है।

- Ans
- 1. केवल 2
 - 2. केवल 1
 - 3. केवल 3
 - 4. केवल 1 और 2

Question ID : 630680115327
 Option 1 ID : 630680446659
 Option 2 ID : 630680446658
 Option 3 ID : 630680446660
 Option 4 ID : 630680446661
 Status : Answered
 Chosen Option : 4

Q.13 संयुक्त राष्ट्र के 'इंटरनेशनल टेलीकम्युनिकेशन यूनियन' द्वारा जारी ग्लोबल साइबर सेक्युरिटी इंडेक्स - 2020 में भारत का कौन-सा स्थान है?

- Ans
- 1. 16 वाँ
 - 2. 10 वाँ
 - 3. 12 वाँ
 - 4. 15 वाँ

Question ID : 630680100133
 Option 1 ID : 630680389231
 Option 2 ID : 630680389228
 Option 3 ID : 630680389229
 Option 4 ID : 630680389230
 Status : Not Answered
 Chosen Option : --

Q.14 नकदी पाश में सट्टा मुद्रा मांग के लिए व्याज मूल्य सापेक्षता (interest elasticity) _____ होती है।

- Ans
- 1. पूर्णतः लोचहीन
 - 2. पूर्णतः लोचदार
 - 3. अनंत
 - 4. शून्य

Question ID : 63068054251
Option 1 ID : 630680209047
Option 2 ID : 630680209046
Option 3 ID : 630680209048
Option 4 ID : 630680209049
Status : Not Answered
Chosen Option : --

Q.15 हिमालय पर्वत प्रणाली किस प्रकार की स्थलाकृति का निरूपण करती है?

- Ans
- 1. वृद्ध
 - 2. अति वृद्ध
 - 3. युवा
 - 4. परिपक्व

Question ID : 63068087938
Option 1 ID : 630680341139
Option 2 ID : 630680341140
Option 3 ID : 630680341137
Option 4 ID : 630680341138
Status : Not Answered
Chosen Option : --

Q.16 पुष्प के किस भाग में एक एकल अंडप या संलयित अंडप का समूह होता है, जो आमतौर पर अंडाशय, बर्तिका और वर्तिकाग्र में विभेदित होते हैं और पराग और निषेचन प्राप्त करने की प्रक्रिया में मदद करते हैं?

- Ans
- 1. स्त्रीकेसर
 - 2. बाह्यदल
 - 3. पुंकेसर
 - 4. परागकोष

Question ID : 63068085817
Option 1 ID : 630680332729
Option 2 ID : 630680332731
Option 3 ID : 630680332728
Option 4 ID : 630680332730
Status : Answered
Chosen Option : 4

Q.17 निम्नलिखित में से किस पल्लव राजा को लोकप्रिय रूप से राजसिंह की उपाधि से जाना जाता था?

- Ans
- ✓ 1. नरसिंहवर्मन द्वितीय
 - ✗ 2. नरसिंहवर्मन प्रथम
 - ✗ 3. महेंद्रवर्मन द्वितीय
 - ✗ 4. महेंद्रवर्मन प्रथम

Question ID : 630680118806
Option 1 ID : 630680460327
Option 2 ID : 630680460326
Option 3 ID : 630680460329
Option 4 ID : 630680460328
Status : Not Answered
Chosen Option : --

Q.18 निम्नलिखित में से किस शासक ने दिल्ली सल्तनत में सिजदा प्रथा की शुरुआत की थी?

- Ans
- ✓ 1. गयासुद्दीन बलबन
 - ✗ 2. जलालुद्दीन खिलजी
 - ✗ 3. रज़िया सुल्तान
 - ✗ 4. इल्तुतमिश

Question ID : 630680114117
Option 1 ID : 630680441871
Option 2 ID : 630680441873
Option 3 ID : 630680441872
Option 4 ID : 630680441870
Status : Not Answered
Chosen Option : --

Q.19 स्तंभों का मिलान कीजिए।

सूची I	सूची II
A. चारमीनार	i. गया
B. चरार-ए-शरीफ	ii. माउंट आबू
C. विष्णुपद मंदिर	iii. बडगाम
D. दिलवाड़ा जैन मंदिर	iv. हैदराबाद

- Ans
- ✗ 1. a-iv, b-iii, c-ii, d-i
 - ✓ 2. a-iv, b-iii, c-i, d-ii
 - ✗ 3. a-iii, b-iv, c-i, d-ii
 - ✗ 4. a-iii, b-iv, c-ii, d-i

Question ID : 630680213915
Option 1 ID : 630680829710
Option 2 ID : 630680829708
Option 3 ID : 630680829709
Option 4 ID : 630680829707
Status : Answered
Chosen Option : 2

Q.20 भारत के निम्नलिखित में से किस राज्य को 'मोलासेस बेसिन' के नाम से जाना जाता है?

- Ans
- 1. त्रिपुरा
 - 2. मिज़ोरम
 - 3. नागालैंड
 - 4. मणिपुर

Question ID : 63068087939
 Option 1 ID : 630680341142
 Option 2 ID : 630680341141
 Option 3 ID : 630680341144
 Option 4 ID : 630680341143
 Status : Not Answered
 Chosen Option : --

Q.21 मुहम्मद गोरी किसके भाई थे?

- Ans
- 1. फारस के सुल्तान बहराम
 - 2. फारस के शाह तहमासप
 - 3. गोरी के सुल्तान बलबन
 - 4. गोरी के सुल्तान गियाथ अल-दीन

Question ID : 63068089827
 Option 1 ID : 630680348085
 Option 2 ID : 630680348083
 Option 3 ID : 630680348082
 Option 4 ID : 630680348084
 Status : Not Answered
 Chosen Option : --

Q.22 बहमनी साम्राज्य को चार प्रशासनिक इकाइयों में विभाजित किया गया था, जिन्हें _____ या प्रांत कहा जाता था।

- Ans
- 1. मंडल
 - 2. नाडु
 - 3. तरफ
 - 4. चावड़ी

Question ID : 630680213983
 Option 1 ID : 630680829982
 Option 2 ID : 630680829980
 Option 3 ID : 630680829981
 Option 4 ID : 630680829979
 Status : Not Answered
 Chosen Option : --

Q.23 निम्नलिखित में से कौन-से मुगल शासक ने राणा सांगा के साथ खानवा की लड़ाई लड़ी थी?

- Ans
- 1. बाबर
 - 2. जहांगीर
 - 3. आलमगीर द्वितीय
 - 4. औरंगज़ेब

Question ID : 63068092830
 Option 1 ID : 630680360012
 Option 2 ID : 630680360014
 Option 3 ID : 630680360011
 Option 4 ID : 630680360013
 Status : Answered
 Chosen Option : 1

Q.24 'बुग्याल' शब्द का क्या अर्थ है?

- Ans
- 1. हिमालय के ग्लेशियर
 - 2. गंगा नदी की सहायक नदी
 - 3. हिमालय में ग्रीष्मकालीन घास के मैदान
 - 4. हिमालय में वनों के प्रकार

Question ID : 63068087502
 Option 1 ID : 630680339396
 Option 2 ID : 630680339393
 Option 3 ID : 630680339394
 Option 4 ID : 630680339395
 Status : Not Answered
 Chosen Option : --

Q.25 निम्नलिखित में से कौन-सा संयोजन गलत है?

- Ans
- 1. आयरन की कमी - एनीमिया
 - 2. विटामिन D की कमी - रिकेट्स
 - 3. विटामिन C की कमी - स्कर्वी
 - 4. विटामिन A की कमी - वर्णांधता

Question ID : 63068056785
 Option 1 ID : 630680219074
 Option 2 ID : 630680219077
 Option 3 ID : 630680219076
 Option 4 ID : 630680219075
 Status : Answered
 Chosen Option : 4

Section : Elementary Mathematics

Q.1 एक राशि के 32% के 65% का 40% Rs.520 है। वह राशि क्या है?

- Ans
- 1. ₹5,240
 - 2. ₹8,550
 - 3. ₹6,540
 - 4. ₹6,250

Question ID : 630680104010
 Option 1 ID : 630680404255
 Option 2 ID : 630680404257
 Option 3 ID : 630680404256
 Option 4 ID : 630680404258
 Status : Answered
 Chosen Option : 4

Q.2 ₹9,500 की एक राशि 4 वर्षों में ₹1,520 का साधारण ब्याज देती है। प्रति वर्ष ब्याज दर क्या है?

- Ans
- 1. 3%
 - 2. 4%
 - 3. 5%
 - 4. 6%

Question ID : 630680109192
 Option 1 ID : 630680423582
 Option 2 ID : 630680423580
 Option 3 ID : 630680423581
 Option 4 ID : 630680423583
 Status : Answered
 Chosen Option : 2

Q.3 $23^8 - 29$ को 22 से विभाजित करने पर कितना शेषफल बचेगा?

- Ans
- 1. 14
 - 2. 10
 - 3. 12
 - 4. 16

Question ID : 630680218017
 Option 1 ID : 630680845976
 Option 2 ID : 630680845978
 Option 3 ID : 630680845977
 Option 4 ID : 630680845975
 Status : Not Answered
 Chosen Option : --

Q.4 एक राशि को A, B, C और D में 4:7:2:8 के अनुपात में बाँटा जाता है। यदि B को C से Rs.365 अधिक मिलते हैं, तो D का हिस्सा कितना है?

- Ans
- 1. ₹486
 - 2. ₹584
 - 3. ₹511
 - 4. ₹139

Question ID : 630680103365
 Option 1 ID : 630680401721
 Option 2 ID : 630680401719
 Option 3 ID : 630680401722
 Option 4 ID : 630680401720
 Status : Answered
 Chosen Option : 2

Q.5 एक महिला की बचत से व्यय का अनुपात 2:1 है। यदि उसकी आय और व्यय में क्रमशः 17% और 13% की वृद्धि होती है, तो उसकी बचत में प्रतिशत वृद्धि ज्ञात कीजिए।

- Ans
- 1. 26%
 - 2. 28%
 - 3. 27%
 - 4. 25%

Question ID : 630680103484
 Option 1 ID : 630680402180
 Option 2 ID : 630680402182
 Option 3 ID : 630680402181
 Option 4 ID : 630680402179
 Status : Not Answered
 Chosen Option : --

Q.6 P एक कार्य का $\frac{1}{3}$ भाग 15 दिनों में पूरा करता है और Q शेष कार्य को 45 दिनों में पूरा करता है। वे मिलकर उसी कार्य को कितने दिनों में पूरा कर सकते हैं?

- Ans
- 1. 27 दिन
 - 2. 30 दिन
 - 3. 21 दिन
 - 4. 25 दिन

Question ID : 630680104041
 Option 1 ID : 630680404382
 Option 2 ID : 630680404379
 Option 3 ID : 630680404381
 Option 4 ID : 630680404380
 Status : Answered
 Chosen Option : 1

Q.7 एक घनाभ की ऊँचाई ज्ञात कीजिए जिसका आयतन 275 cm^3 और आधार क्षेत्रफल 25 cm^2 है।

- Ans
- 1. 26 cm
 - 2. 27 cm
 - 3. 11 cm
 - 4. 25 cm

Question ID : 63068070233
 Option 1 ID : 630680271566
 Option 2 ID : 630680271567
 Option 3 ID : 630680271569
 Option 4 ID : 630680271568
 Status : Not Answered
 Chosen Option : --

Q.8 एक घन में, इसके विकर्ण की लंबाई $10\sqrt{3} \text{ cm}$ है। इसकी लंबाई ज्ञात कीजिए।

- Ans
- 1. $10\sqrt{3} \text{ cm}$
 - 2. 3 cm
 - 3. 100 cm
 - 4. 10 cm

Question ID : 630680208580
 Option 1 ID : 630680808553
 Option 2 ID : 630680808554
 Option 3 ID : 630680808552
 Option 4 ID : 630680808551
 Status : Answered
 Chosen Option : 4

Q.9 निम्नलिखित समीकरण को सरल कीजिए। यदि $F = \frac{3}{4}$ of K और $K = \frac{4}{7}$ of J, तो अनुपात $F : J =$ क्या होगा?

- Ans
- 1. 16 : 21
 - 2. 21 : 16
 - 3. 7 : 3
 - 4. 3 : 7

Question ID : 630680220255
 Option 1 ID : 630680854894
 Option 2 ID : 630680854893
 Option 3 ID : 630680854891
 Option 4 ID : 630680854892
 Status : Not Answered
 Chosen Option : --

Q.10 निम्नलिखित व्यंजक का सरलीकरण करें।

$$100-5 \times 4 \div 2 \times 2$$

Ans 1. 80

2. 20

3. 95

4. 60

Question ID : 63068070990

Option 1 ID : 630680274572

Option 2 ID : 630680274570

Option 3 ID : 630680274573

Option 4 ID : 630680274571

Status : Answered

Chosen Option : 1

Q.11 एक बंदूकधारी चोर का पीछा कर रहा है। चोर को चेतावनी देने के लिए उसने गोली चला दी। चोर ने 7.5 s के बाद गोली चलने की आवाज सुनी। बताइए कि चोर बंदूकधारी से कितनी दूर है (इस तथ्य का उपयोग कीजिए कि ध्वनि 340 m/s की गति से यात्रा करती है)।

Ans 1. 2500 m

2. 2300 m

3. 2550 m

4. 2000 m

Question ID : 630680138007

Option 1 ID : 630680534325

Option 2 ID : 630680534322

Option 3 ID : 630680534324

Option 4 ID : 630680534323

Status : Answered

Chosen Option : 3

Q.12 25 महिलाओं के एक समूह के औसत वजन की गणना 65.6 kg के रूप में की गई थी, और बाद में पता चला कि एक महिला का वजन 60 kg पढ़ा गया था, जबकि उसका वास्तविक वजन 70 kg था। 25 महिलाओं के समूह का वास्तविक औसत वजन कितना था?

Ans 1. 66 kg

2. 67 kg

3. 65 kg

4. 68 kg

Question ID : 630680103481

Option 1 ID : 630680402168

Option 2 ID : 630680402169

Option 3 ID : 630680402167

Option 4 ID : 630680402170

Status : Answered

Chosen Option : 1

Q.13 एक बेलनाकार टैंक में जल की गहराई 8 फिट है। माना कि टैंक की त्रिज्या और ऊंचाई क्रमशः 5 फिट और 11.5 फिट है। टैंक को पूरा भरने के लिए आवश्यक जल का आयतन ज्ञात करें।

- Ans
- 1. 902.75 घन फिट
 - 2. 274 घन फिट
 - 3. 274.75 घन फिट
 - 4. 628 घन फिट

Question ID : 63068068390
 Option 1 ID : 630680264269
 Option 2 ID : 630680264268
 Option 3 ID : 630680264266
 Option 4 ID : 630680264267
 Status : Not Answered
 Chosen Option : --

Q.14 लम्ब वृत्तीय बेलनाकार स्तंभ के आयतन और वक्र पृष्ठीय क्षेत्रफल का अनुपात 2772 : 528 है, बेलनाकार स्तंभ के आधार की त्रिज्या कितनी है?

- Ans
- 1. 6.5 मीटर
 - 2. 7.5 मीटर
 - 3. 7 मीटर
 - 4. 8 मीटर

Question ID : 630680208575
 Option 1 ID : 630680808534
 Option 2 ID : 630680808532
 Option 3 ID : 630680808533
 Option 4 ID : 630680808531
 Status : Not Answered
 Chosen Option : --

Q.15 पाइप A एक टंकी को 10 घंटे में, पाइप B 20 घंटे में और पाइप C 60 घंटे में भर सकता है। यदि सभी पाइपों को एक साथ खोल दिया जाए, तो टंकी कितने घंटे में भर जाएगी?

- Ans
- 1. $1\frac{3}{4}$ घंटे
 - 2. $7\frac{1}{3}$ घंटे
 - 3. 6 घंटे
 - 4. 3 घंटे

Question ID : 63068068078
 Option 1 ID : 630680263046
 Option 2 ID : 630680263049
 Option 3 ID : 630680263048
 Option 4 ID : 630680263047
 Status : Answered
 Chosen Option : 3

Q.16 एक व्यक्ति हर रोज सुबह 12 km/h की औसत चाल से 45 मिनट पैदल चलता है और 24 km/h की चाल से 15 मिनट दौड़ता है। औसत चाल की गणना करें।

- Ans 1. 15 km/h
 2. 14 km/h
 3. 18 km/h
 4. 12 km/h

Question ID : 630680108695
 Option 1 ID : 630680421710
 Option 2 ID : 630680421708
 Option 3 ID : 630680421709
 Option 4 ID : 630680421711
 Status : Not Answered
 Chosen Option : --

Q.17 एक पुस्तक को Rs.30 में बेचने पर, एक व्यक्ति को उसके प्रारंभिक मूल्य की एक बटा सोलह हानि होती है। पुस्तक का क्रय-मूल्य कितना है?

- Ans 1. Rs.33
 2. Rs.32
 3. Rs.31
 4. Rs.35

Question ID : 630680107279
 Option 1 ID : 630680416501
 Option 2 ID : 630680416500
 Option 3 ID : 630680416502
 Option 4 ID : 630680416503
 Status : Answered
 Chosen Option : 2

Q.18 एक ऐसे घन का आयतन ज्ञात कीजिए जिसकी कोर 13 cm है। ऐसे कमरे का आयतन भी ज्ञात कीजिए जो 10 m लंबा, 8 m चौड़ा और 12 m ऊंचा है।

- Ans 1. 2097 cm³; 860 m³
 2. 2190 cm³; 660 m³
 3. 2297 cm³; 860 m³
 4. 2197 cm³; 960 m³

Question ID : 63068076063
 Option 1 ID : 630680294359
 Option 2 ID : 630680294357
 Option 3 ID : 630680294360
 Option 4 ID : 630680294358
 Status : Not Answered
 Chosen Option : --

Q.19 यदि ब्याज अर्धवार्षिक रूप से लगाया जाता है, तो 2 वर्ष बाद 4% वार्षिक की दर से ₹5,000 पर चक्रवृद्धि ब्याज क्या होगा?

- Ans
- 1. RS.418
 - 2. RS.500
 - 3. RS.415.16
 - 4. RS.412.16

Question ID : 630680108779
 Option 1 ID : 630680422030
 Option 2 ID : 630680422031
 Option 3 ID : 630680422028
 Option 4 ID : 630680422029
 Status : Not Answered
 Chosen Option : --

Q.20 45 और 65 का महत्तम समापवर्तक (HCF) क्या है?

- Ans
- 1. 5
 - 2. 1
 - 3. 3
 - 4. 13

Question ID : 63068060072
 Option 1 ID : 630680231860
 Option 2 ID : 630680231858
 Option 3 ID : 630680231859
 Option 4 ID : 630680231861
 Status : Answered
 Chosen Option : 1

Q.21 एक व्यक्ति ने एक प्रेशर कुकर को उसके विक्रय मूल्य के $\frac{9}{10}$ पर खरीदा और उसे उसके विक्रय मूल्य से 8% अधिक पर बेचा। लाभ प्रतिशत ज्ञात कीजिए।

- Ans
- 1. 20%
 - 2. 15%
 - 3. 10%
 - 4. 5%

Question ID : 630680220179
 Option 1 ID : 630680854594
 Option 2 ID : 630680854593
 Option 3 ID : 630680854592
 Option 4 ID : 630680854591
 Status : Answered
 Chosen Option : 1

Q.22 Rs.750 अंकित मूल्य वाले एक रेडियो सेट को Rs.570 में ऑफर दिया जाता है। इसमें कितनी छूट दी जा रही है?

- Ans 1. 24%
 2. 21%
 3. 32%
 4. 30%

Question ID : 63068070159
Option 1 ID : 630680271275
Option 2 ID : 630680271274
Option 3 ID : 630680271277
Option 4 ID : 630680271276
Status : Answered
Chosen Option : 1

Q.23 खिलाड़ियों के एक समूह में, यदि उनकी आयु 29, 31, 22, 24, 27 और 23 वर्ष है, तो खिलाड़ियों की औसत आयु कितनी है?

- Ans 1. 26 वर्ष
 2. 30 वर्ष
 3. 24 वर्ष
 4. 28 वर्ष

Question ID : 630680108571
Option 1 ID : 630680421242
Option 2 ID : 630680421243
Option 3 ID : 630680421241
Option 4 ID : 630680421240
Status : Answered
Chosen Option : 1

Q.24 यदि x का 30%, y के 20% के बराबर है, तो x : y ज्ञात कीजिए।

- Ans 1. 2 : 3
 2. 3 : 2
 3. 2 : 5
 4. 5 : 2

Question ID : 630680108202
Option 1 ID : 630680419874
Option 2 ID : 630680419875
Option 3 ID : 630680419872
Option 4 ID : 630680419873
Status : Answered
Chosen Option : 1

Q.25 क्रमशः 195 m और 181 m लंबी दो रेलगाड़ियां एक-दूसरे की ओर बढ़ रही हैं। इनकी चाल क्रमशः 19 m/s और 28 m/s है। रेलगाड़ियों को एक दूसरे को पार करने में कितना समय लगेगा?

- Ans
- 1. 11 सेकंड
 - 2. 10 सेकंड
 - 3. 12 सेकंड
 - 4. 8 सेकंड

Question ID : 630680109158
 Option 1 ID : 630680423446
 Option 2 ID : 630680423444
 Option 3 ID : 630680423447
 Option 4 ID : 630680423445
 Status : Answered
 Chosen Option : 4

Section : English

Q.1 Select the most appropriate synonym of the underlined word.
 Nina could hear the pots and pans clanking in the kitchen.

- Ans
- 1. rattling
 - 2. poking
 - 3. dragging
 - 4. lingering

Question ID : 630680135706
 Option 1 ID : 630680525544
 Option 2 ID : 630680525545
 Option 3 ID : 630680525542
 Option 4 ID : 630680525543
 Status : Not Answered
 Chosen Option : --

Q.2 Select the INCORRECTLY spelt word.

- Ans
- 1. Pretentious
 - 2. Aggregate
 - 3. Pliable
 - 4. Seggregate

Question ID : 630680204310
 Option 1 ID : 630680792326
 Option 2 ID : 630680792323
 Option 3 ID : 630680792324
 Option 4 ID : 630680792325
 Status : Not Answered
 Chosen Option : --

Q.3 Select the most appropriate ANTONYM of the given word.

Plethora

- Ans 1. Dearth
 2. Wisdom
 3. Aura
 4. Abundance

Question ID : 630680129481
 Option 1 ID : 630680501543
 Option 2 ID : 630680501542
 Option 3 ID : 630680501545
 Option 4 ID : 630680501544
 Status : Not Answered
 Chosen Option : --

Q.4 Sentences of a paragraph are given below in jumbled order. Arrange the sentences in the correct order to form a meaningful and coherent paragraph.

- 1.As the field of AI continues to evolve, it is important to consider both the benefits and potential risks associated with this technology.
- 2.AI refers to machines that are programmed to perform tasks that would typically require human intelligence, such as recognising patterns, making decisions and learning from experience.
- 3.However, there are also concerns about the ethical implications of AI, such as job displacement and privacy concerns.
- 4.AI has many applications, including in healthcare, finance and transportation.

- Ans 1. 2314
 2. 1243
 3. 2431
 4. 4213

Question ID : 630680204373
 Option 1 ID : 630680792577
 Option 2 ID : 630680792578
 Option 3 ID : 630680792576
 Option 4 ID : 630680792575
 Status : Not Answered
 Chosen Option : --

Q.5 Sentences of a paragraph are given below in jumbled order. Arrange the sentences in the correct order to form a meaningful and coherent paragraph.

- A. The king spent all his money on dresses and fine clothes.
- B. Once upon a time, there was a peculiar king.
- C. He has a great interest and affection for beautiful clothes.
- D. He did not care for the public.

- Ans 1. CBAD
 2. DACB
 3. BCAD
 4. ACBD

Question ID : 630680204338
 Option 1 ID : 630680792436
 Option 2 ID : 630680792438
 Option 3 ID : 630680792437
 Option 4 ID : 630680792435
 Status : Not Answered
 Chosen Option : --

Q.6 The following sentence has been split into four segments. Identify the segment that contains a grammatical error.

Neither Smith / or Jones / came to / the meeting.

- Ans**
- 1. the meeting
 - 2. or Jones
 - 3. came to
 - 4. Neither Smith

Question ID : 63068067404
 Option 1 ID : 630680260441
 Option 2 ID : 630680260439
 Option 3 ID : 630680260440
 Option 4 ID : 630680260438
 Status : Not Answered
 Chosen Option : --

Q.7 Select the INCORRECTLY spelt word from the given sentence.
 The reality is that our own pursuits are a small refl ection of our activities.

- Ans**
- 1. Reflection
 - 2. Activities
 - 3. Reality
 - 4. Pursuits

Question ID : 630680204333
 Option 1 ID : 630680792417
 Option 2 ID : 630680792418
 Option 3 ID : 630680792415
 Option 4 ID : 630680792416
 Status : Not Answered
 Chosen Option : --

Q.8 Select the option that can be used as a one-word substitute for the given group of words.
 That which cannot be noticed

- Ans**
- 1. Imperceptible
 - 2. Impenetrable
 - 3. Impossible
 - 4. Plausible

Question ID : 630680162175
 Option 1 ID : 630680628006
 Option 2 ID : 630680628004
 Option 3 ID : 630680628007
 Option 4 ID : 630680628005
 Status : Not Answered
 Chosen Option : --

Q.9 Select the option that can be used as a one-word substitute for the given group of words.

An imaginary line on which the earth rotates

- Ans
- 1. Longitude
 - 2. Orbit
 - 3. Axis
 - 4. Equator

Question ID : 63068071538
 Option 1 ID : 630680276693
 Option 2 ID : 630680276691
 Option 3 ID : 630680276690
 Option 4 ID : 630680276692
 Status : Not Answered
 Chosen Option : --

Q.10 Select the most appropriate ANTONYM of the given word.
Ascend

- Ans
- 1. Diminish
 - 2. Slope
 - 3. Descend
 - 4. Dissent

Question ID : 630680158883
 Option 1 ID : 630680615003
 Option 2 ID : 630680615002
 Option 3 ID : 630680615001
 Option 4 ID : 630680615000
 Status : Not Answered
 Chosen Option : --

Q.11 Sentences of a paragraph are given below in jumbled order. Arrange the sentences in the correct order to form a meaningful and coherent paragraph.

- 1."Emma, will you marry me?" he asked, tears in his eyes.
- 2.As the sun set over the beach, Jack got down on one knee and pulled out a small box from his pocket.
- 3.Emma gasped and covered her mouth in shock. "Yes, yes, a thousand times yes!" she exclaimed.
- 4.They embraced, knowing that their lives would never be the same again.

- Ans
- 1. 4213
 - 2. 1234
 - 3. 2134
 - 4. 2314

Question ID : 630680204374
 Option 1 ID : 630680792579
 Option 2 ID : 630680792582
 Option 3 ID : 630680792580
 Option 4 ID : 630680792581
 Status : Not Answered
 Chosen Option : --

Q.12 Select the most appropriate synonym of the given word to fill in the blank.

Serendipity

They believed that they met because of _____.

- Ans
- 1. love
 - 2. past birth
 - 3. chance
 - 4. values

Question ID : 630680157358
 Option 1 ID : 630680608965
 Option 2 ID : 630680608964
 Option 3 ID : 630680608966
 Option 4 ID : 630680608967
 Status : Not Answered
 Chosen Option : --

Q.13 Select the INCORRECTLY spelt word.

- Ans
- 1. Mandate
 - 2. Manger
 - 3. Managable
 - 4. Manage

Question ID : 630680126299
 Option 1 ID : 630680489802
 Option 2 ID : 630680489804
 Option 3 ID : 630680489805
 Option 4 ID : 630680489803
 Status : Not Answered
 Chosen Option : --

Q.14 Select the most appropriate synonym of the underlined word.

Rana lay on the ground, clutching his chest, sure his heart was going to jump right out of it.

- Ans
- 1. Dropping
 - 2. Gripping
 - 3. Wetting
 - 4. Bandaging

Question ID : 630680115237
 Option 1 ID : 630680446314
 Option 2 ID : 630680446316
 Option 3 ID : 630680446317
 Option 4 ID : 630680446315
 Status : Not Answered
 Chosen Option : --

Q.15 The following sentence has been split into four segments. Identify the segment that contains a grammatical error.

I took a / banana unless it / was the only / fruit in the bowl.

- Ans
- 1. I took a
 - 2. fruit in the bowl
 - 3. banana unless it
 - 4. was the only

Question ID : 63068067409
 Option 1 ID : 630680260458
 Option 2 ID : 630680260461
 Option 3 ID : 630680260459
 Option 4 ID : 630680260460
 Status : Not Answered
 Chosen Option : --

Q.16 Select the option that can be used as a one-word substitute for the given phrase.

A person who is well experienced in something

- Ans
- 1. Charlatan
 - 2. Imposter
 - 3. Veteran
 - 4. Mountebank

Question ID : 63068084658
 Option 1 ID : 630680328161
 Option 2 ID : 630680328163
 Option 3 ID : 630680328160
 Option 4 ID : 630680328162
 Status : Not Answered
 Chosen Option : --

Q.17 Select the most appropriate synonym of the given word.
Malleable

- Ans
- 1. Moldable
 - 2. Recyclable
 - 3. Limpid
 - 4. Brittle

Question ID : 630680204367
 Option 1 ID : 630680792554
 Option 2 ID : 630680792553
 Option 3 ID : 630680792552
 Option 4 ID : 630680792551
 Status : Not Answered
 Chosen Option : --

Q.18 Select the INCORRECTLY spelt word from the given sentence.
Manu believed that the king was the head of all justice and his chief objective was to protect people from invaders.

- Ans
- 1. Believed
 - 2. Invaders
 - 3. Objective
 - 4. Justice

Question ID : 630680204335
Option 1 ID : 630680792423
Option 2 ID : 630680792426
Option 3 ID : 630680792425
Option 4 ID : 630680792424
Status : Not Answered
Chosen Option : --

Q.19 Select the option that can be used as a one-word substitute for the given group of words.

A place where mentally ill people are kept for care

- Ans
- 1. Archives
 - 2. Asylum
 - 3. Arena
 - 4. Arsenal

Question ID : 630680129655
Option 1 ID : 630680502229
Option 2 ID : 630680502228
Option 3 ID : 630680502227
Option 4 ID : 630680502226
Status : Not Answered
Chosen Option : --

Q.20 Sentences of a paragraph are given below in jumbled order. Arrange the sentences in the correct order to form a meaningful and coherent paragraph.

- A. Laws are framed to protect citizens from robbery and theft.
- B. The first important part is order and safety of an individual.
- C. Many historians believe that a civilisation has two important parts.
- D. It also gives decisions regarding the disputes between two people.

- Ans
- 1. CBAD
 - 2. DACB
 - 3. BADC
 - 4. ADBC

Question ID : 630680204339
Option 1 ID : 630680792440
Option 2 ID : 630680792442
Option 3 ID : 630680792441
Option 4 ID : 630680792439
Status : Not Answered
Chosen Option : --

Comprehension:

Read the given passage and answer the questions that follow.

Social isolation and loneliness are increasingly becoming societal problems, as they contribute to polarisation and affect our physical health. Mental health professionals, community advocates and health-care providers have been raising the alarm about this impending crisis.

The pandemic may have exacerbated social isolation and the subsequent feelings of loneliness, but it did not invent it. In 2018, two years before the pandemic, the United Kingdom created a ministerial portfolio for loneliness. Japan, where nearly 40 percent of the population report experiencing loneliness, began a similar position in 2021.

In studying the history of loneliness, Ananya Chakravarti, associate professor of history at Georgetown University in Washington in the U.S., has found as opposed to the loneliness of choosing solitude for religious or creative purposes, today's loneliness is a product of our modern lives.

SubQuestion No : 21

Q.21 In which year did the United Kingdom create an exclusive portfolio for loneliness?

Ans 1. 2017

2. 2018

3. 2021

4. 2020

Question ID : 630680204487
 Option 1 ID : 630680792999
 Option 2 ID : 630680793000
 Option 3 ID : 630680793002
 Option 4 ID : 630680793001
 Status : Not Answered
 Chosen Option : --

Comprehension:

Read the given passage and answer the questions that follow.

Social isolation and loneliness are increasingly becoming societal problems, as they contribute to polarisation and affect our physical health. Mental health professionals, community advocates and health-care providers have been raising the alarm about this impending crisis.

The pandemic may have exacerbated social isolation and the subsequent feelings of loneliness, but it did not invent it. In 2018, two years before the pandemic, the United Kingdom created a ministerial portfolio for loneliness. Japan, where nearly 40 percent of the population report experiencing loneliness, began a similar position in 2021.

In studying the history of loneliness, Ananya Chakravarti, associate professor of history at Georgetown University in Washington in the U.S., has found as opposed to the loneliness of choosing solitude for religious or creative purposes, today's loneliness is a product of our modern lives.

SubQuestion No : 22

Q.22 What, according to the passage, is the impending crisis created by isolation and loneliness?

Ans 1. Distraction

2. Palpitation

3. Shiver

4. Polarisation

Question ID : 630680204486
 Option 1 ID : 630680792995
 Option 2 ID : 630680792997
 Option 3 ID : 630680792998
 Option 4 ID : 630680792996
 Status : Not Answered
 Chosen Option : --

Comprehension:

Read the given passage and answer the questions that follow.

Social isolation and loneliness are increasingly becoming societal problems, as they contribute to polarisation and affect our physical health. Mental health professionals, community advocates and health-care providers have been raising the alarm about this impending crisis.

The pandemic may have exacerbated social isolation and the subsequent feelings of loneliness, but it did not invent it. In 2018, two years before the pandemic, the United Kingdom created a ministerial portfolio for loneliness. Japan, where nearly 40 percent of the population report experiencing loneliness, began a similar position in 2021.

In studying the history of loneliness, Ananya Chakravarti, associate professor of history at Georgetown University in Washington in the U.S., has found as opposed to the loneliness of choosing solitude for religious or creative purposes, today's loneliness is a product of our modern lives.

SubQuestion No : 23

Q.23 What is the most suitable title for the passage?

- Ans
- 1. Mental Trauma
 - 2. Physical Illness
 - 3. Terrors of Loneliness
 - 4. Health and Society

Question ID : 630680204489
 Option 1 ID : 630680793009
 Option 2 ID : 630680793007
 Option 3 ID : 630680793008
 Option 4 ID : 630680793010
 Status : Not Answered
 Chosen Option : --

Comprehension:

Read the given passage and answer the questions that follow.

Social isolation and loneliness are increasingly becoming societal problems, as they contribute to polarisation and affect our physical health. Mental health professionals, community advocates and health-care providers have been raising the alarm about this impending crisis.

The pandemic may have exacerbated social isolation and the subsequent feelings of loneliness, but it did not invent it. In 2018, two years before the pandemic, the United Kingdom created a ministerial portfolio for loneliness. Japan, where nearly 40 percent of the population report experiencing loneliness, began a similar position in 2021.

In studying the history of loneliness, Ananya Chakravarti, associate professor of history at Georgetown University in Washington in the U.S., has found as opposed to the loneliness of choosing solitude for religious or creative purposes, today's loneliness is a product of our modern lives.

SubQuestion No : 24

Q.24 Select the most suitable word from the passage that means 'worsen'.

- Ans
- 1. Contribute
 - 2. Consider
 - 3. Exacerbate
 - 4. Invent

Question ID : 630680204488
 Option 1 ID : 630680793003
 Option 2 ID : 630680793006
 Option 3 ID : 630680793004
 Option 4 ID : 630680793005
 Status : Not Answered
 Chosen Option : --

Comprehension:

Read the given passage and answer the questions that follow.

Social isolation and loneliness are increasingly becoming societal problems, as they contribute to polarisation and affect our physical health. Mental health professionals, community advocates and health-care providers have been raising the alarm about this impending crisis.

The pandemic may have exacerbated social isolation and the subsequent feelings of loneliness, but it did not invent it. In 2018, two years before the pandemic, the United Kingdom created a ministerial portfolio for loneliness. Japan, where nearly 40 percent of the population report experiencing loneliness, began a similar position in 2021.

In studying the history of loneliness, Ananya Chakravarti, associate professor of history at Georgetown University in Washington in the U.S., has found as opposed to the loneliness of choosing solitude for religious or creative purposes, today's loneliness is a product of our modern lives.

SubQuestion No : 25

Q.25 What is the tone of the passage?

- Ans
- 1. Humorous
 - 2. Vituperative
 - 3. Thoughtful
 - 4. Satirical

Question ID : 630680204490
 Option 1 ID : 630680793014
 Option 2 ID : 630680793011
 Option 3 ID : 630680793013
 Option 4 ID : 630680793012
 Status : Not Answered
 Chosen Option : --

Section : Hindi

Q.1 जिसका जन्म पहले हुआ हो' इस वाक्यांश के लिए सार्थक शब्द है -

- Ans
- 1. अग्रज
 - 2. युवा
 - 3. अनुज
 - 4. अजन्मा

Question ID : 630680142415
 Option 1 ID : 630680551166
 Option 2 ID : 630680551168
 Option 3 ID : 630680551167
 Option 4 ID : 630680551169
 Status : Answered
 Chosen Option : 3

Q.2 निम्नलिखित में से कौन-सा एक शब्द 'कंज' का पर्यायवाची नहीं है?

- Ans
- 1. शतदल
 - 2. स्तर
 - 3. अब्ज
 - 4. सरोज

Question ID : 630680197096
 Option 1 ID : 630680764668
 Option 2 ID : 630680764667
 Option 3 ID : 630680764669
 Option 4 ID : 630680764670
 Status : Answered
 Chosen Option : 2

Q.3 निम्नलिखित वाक्य में कारक चिन्ह है:

चाकू से काट दो इसे।

- Ans
- 1. दो
 - 2. इसे
 - 3. चाकू
 - 4. से

Question ID : 63068071773
 Option 1 ID : 630680277564
 Option 2 ID : 630680277562
 Option 3 ID : 630680277565
 Option 4 ID : 630680277563
 Status : Answered
 Chosen Option : 3

Q.4 वह यहाँ क्या आया था। निम्नलिखित वाक्य में कौनसा शब्द व्याकरण के नियम का पालन नहीं करता है:

- Ans
- 1. स्वयं
 - 2. यहाँ
 - 3. वह
 - 4. क्या

Question ID : 63068066851
 Option 1 ID : 630680258245
 Option 2 ID : 630680258244
 Option 3 ID : 630680258243
 Option 4 ID : 630680258242
 Status : Answered
 Chosen Option : 4

Q.5 कौन से विकल्प में पर्यायवाची का समेल नहीं है?

- Ans
- 1. पंकज - नलिन
 - 2. अग्नि - दहन
 - 3. कमल - सारंग
 - 4. गेह - धाम

Question ID : 630680198505
 Option 1 ID : 630680769982
 Option 2 ID : 630680769980
 Option 3 ID : 630680769981
 Option 4 ID : 630680769979
 Status : Answered
 Chosen Option : 1

Q.6 'भीति' का अर्थ है, भय। इसका श्रुति भिन्नार्थक शब्द है, 'भीत'। इसके अर्थ से वाक्य पूर्ण कीजिए।
 घर की _____ टूट जाती है तो घर की इज्जत बाहर आ जाती है।

- Ans
- 1. हुनर
 - 2. दीवार
 - 3. दुग्ध
 - 4. सूरत

Question ID : 630680198513
 Option 1 ID : 630680770012
 Option 2 ID : 630680770011
 Option 3 ID : 630680770013
 Option 4 ID : 630680770014
 Status : Answered
 Chosen Option : 2

Q.7 'जैसा पहले था वैसा ही' वाक्यांश के लिए सार्थक शब्द निम्नलिखित में से है-

- Ans
- 1. यथादिष्ट
 - 2. यथार्थ
 - 3. यथापूर्व
 - 4. यथारंभ

Question ID : 630680197157
 Option 1 ID : 630680764914
 Option 2 ID : 630680764913
 Option 3 ID : 630680764912
 Option 4 ID : 630680764911
 Status : Answered
 Chosen Option : 3

Q.8 निम्नलिखित में से किस वाक्य में सर्वनाम का अशुद्ध प्रयोग हुआ है?

- Ans
- 1. मैं उसके पिताजी से मिला।
 - 2. हमें भाषा का अच्छा ज्ञान होना चाहिए।
 - 3. वे सब उसके घर पहुँचे।
 - 4. इतनी-सी बात पर वह तेरे से रूठ गई?

Question ID : 63068071679
Option 1 ID : 630680277186
Option 2 ID : 630680277188
Option 3 ID : 630680277187
Option 4 ID : 630680277189
Status : Answered
Chosen Option : 4

Q.9 खंड, अवयव इन पर्यायवाची शब्दों का अर्थ है -

- Ans
- 1. सम्पूर्ण
 - 2. किनारा
 - 3. भाग
 - 4. पर्वत

Question ID : 630680128777
Option 1 ID : 630680498747
Option 2 ID : 630680498748
Option 3 ID : 630680498746
Option 4 ID : 630680498749
Status : Answered
Chosen Option : 3

Q.10 निम्नलिखित वाक्य को ध्यानपूर्वक पढ़ें और रिक्त स्थान की पूर्ति तत्सम शब्द से करें।
पनघट पर रखे सभी _____ संतोष ने ही फोड़े हैं।

- Ans
- 1. घट
 - 2. माटी के बर्तन
 - 3. घड़े
 - 4. मटके

Question ID : 630680148285
Option 1 ID : 630680573812
Option 2 ID : 630680573815
Option 3 ID : 630680573813
Option 4 ID : 630680573814
Status : Answered
Chosen Option : 1

Q.11 'जगज्जननी' का संधि-विच्छेद कीजिए।

- Ans
- 1. जगज्ज + ननी
 - 2. जगज् + जननी
 - 3. जग + जननी
 - 4. जगत् + जननी

Question ID : 63068065735
 Option 1 ID : 630680253893
 Option 2 ID : 630680253891
 Option 3 ID : 630680253892
 Option 4 ID : 630680253890
 Status : Answered
 Chosen Option : 4

Q.12 निम्न में से किस विकल्प में लोकोक्ति और उसका अर्थ सुमेलित है-

- Ans
- 1. अब पछताए होत क्या जब चिड़ियों चुग गई खेत - चिड़ियों को खेत चुगने से रोका नहीं जा सकता।
 - 2. अधजल गगरी छलकत जाए - ओछा आदमी थोड़ा गुण या धन मिलने पर सुखी हो जाता है।
 - 3. आँख के अंधे नाम नैनसुख - गुणानुसार नाम रखा जाना।
 - 4. अंधा बाँटे रेवड़ी, फिर-फिर अपनों को दे - अपने अधिकार का लाभ अपनों को ही पहुँचाना।

Question ID : 630680197138
 Option 1 ID : 630680764836
 Option 2 ID : 630680764835
 Option 3 ID : 630680764838
 Option 4 ID : 630680764837
 Status : Answered
 Chosen Option : 4

Q.13 निम्नलिखित में से कौन-सा एक शब्द 'वल्लभ' का पर्यायवाची नहीं है?

- Ans
- 1. भर्ता
 - 2. कलत्र
 - 3. आर्यपुत्र
 - 4. स्वामी

Question ID : 630680197097
 Option 1 ID : 630680764671
 Option 2 ID : 630680764673
 Option 3 ID : 630680764672
 Option 4 ID : 630680764674
 Status : Answered
 Chosen Option : 3

Q.14 निम्नलिखित विकल्पों में से उपयुक्त संधि शब्द चुनिए।

दुः + धर्ष = _____

- Ans
- 1. दुर्धर्ष
 - 2. दुःधर्ष
 - 3. दुधरस
 - 4. दूरधर्ष

Question ID : 630680123490
Option 1 ID : 630680478842
Option 2 ID : 630680478843
Option 3 ID : 630680478845
Option 4 ID : 630680478844
Status : Answered
Chosen Option : 2

Q.15 उचित तत्सम शब्द का चयन कर निम्नलिखित वाक्य को पूर्ण करें।
कल शाम विवेक और सुनीता का _____ समारोह है। हम सब इस समारोह में जाएंगे।

- Ans
- 1. ब्याह
 - 2. विवाह
 - 3. शादी
 - 4. कल्याण

Question ID : 630680197168
Option 1 ID : 630680764956
Option 2 ID : 630680764955
Option 3 ID : 630680764957
Option 4 ID : 630680764958
Status : Answered
Chosen Option : 2

Q.16 फरफंद रचना -
उपरोक्त मुहावरे का अर्थ छाँटिए।

- Ans
- 1. प्रगति पर अग्रसर होना
 - 2. संबंध विच्छेद करना
 - 3. आकर्षक लगना
 - 4. माया जाल बिछाना

Question ID : 630680198530
Option 1 ID : 630680770079
Option 2 ID : 630680770082
Option 3 ID : 630680770081
Option 4 ID : 630680770080
Status : Answered
Chosen Option : 4

Q.17 तट, तीर इन पर्यायवाची शब्दों का अर्थ है -

- Ans 1. किनारा
 2. अंश
 3. धनुष
 4. सागर

Question ID : 630680128782
 Option 1 ID : 630680498768
 Option 2 ID : 630680498769
 Option 3 ID : 630680498767
 Option 4 ID : 630680498766
 Status : Answered
 Chosen Option : 1

Q.18 'आम्रवृक्ष' शब्द का सही समास-विग्रह नीचे दिए विकल्पों में से चुनिए।

- Ans 1. आम्र वृक्ष
 2. वृक्ष है जो आम्र
 3. आम्र और वृक्ष
 4. आम्र है जो वृक्ष

Question ID : 630680112856
 Option 1 ID : 630680437061
 Option 2 ID : 630680437058
 Option 3 ID : 630680437060
 Option 4 ID : 630680437059
 Status : Answered
 Chosen Option : 3

Q.19 समास विग्रह, सन्धि -विच्छेद से किस प्रकार अलग है, इस अंतर की पहचान करते हुये, समास विग्रह के सही गुण का चयन कीजिये-

- Ans 1. इसमें पदों के प्रत्यय समाप्त कर दिए जाते हैं
 2. इसमें केवल संस्कृत के तत्सम शब्दों का विग्रह अथवा विच्छेद होता है
 3. इसमें पदों के मेल और विकार की स्थिति भी बनती है
 4. इसमें दो वर्णों का योग होता है

Question ID : 63068065823
 Option 1 ID : 630680254241
 Option 2 ID : 630680254239
 Option 3 ID : 630680254240
 Option 4 ID : 630680254238
 Status : Answered
 Chosen Option : 4

Q.20 'केश' का पर्यायवाची बताइए।

- Ans
- 1. कर
 - 2. चिकुर
 - 3. काया
 - 4. छेक

Question ID : 630680198501
 Option 1 ID : 630680769963
 Option 2 ID : 630680769964
 Option 3 ID : 630680769965
 Option 4 ID : 630680769966
 Status : Not Answered
 Chosen Option : --

Comprehension:

निम्नलिखित गद्यांश को ध्यानपूर्वक पढ़े और प्रश्न के उत्तर दीजिए:

अन्य कलाओं की भांति साहित्य जीवन की अभिव्यक्ति है। साहित्य व्यक्ति और समाज के भावों और विचारों की अभिव्यक्ति का माध्यम है। इसमें हमारे सुख-दुःख, हमारी आशा-निराशा, सफलता-असफलता, और हमारे गुण-अवगुणों का चित्रण रहता है। समाज के सभी अवयवों – अमीर और गरीब, भले और बुरे, युवा और वृद्ध, स्त्री और पुरुष सबका दिल और दिमाग अपने साहित्य में स्पन्दित होता रहता है, जिस समाज में साहित्य नहीं होता उसके हृदय और मस्तिष्क की गति का लेखा-जोखा नहीं होता, उसके विचार बुलबुले के समान क्षणभंगुर होते हैं। साहित्य ही किसी समाज के विचारों को चिरस्थायी बनाता है।

SubQuestion No : 21

Q.21 साहित्य किसका माध्यम है?

- Ans
- 1. व्यक्ति और समाज के भावों का
 - 2. आशा और निराशा के भावों का
 - 3. सफलता और असफलता के भावों का
 - 4. अमीर और गरीब के भावों का

Question ID : 630680131964
 Option 1 ID : 630680511050
 Option 2 ID : 630680511053
 Option 3 ID : 630680511051
 Option 4 ID : 630680511052
 Status : Answered
 Chosen Option : 1

Comprehension:

निम्नलिखित गद्यांश को ध्यानपूर्वक पढ़े और प्रश्न के उत्तर दीजिए:

अन्य कलाओं की भांति साहित्य जीवन की अभिव्यक्ति है। साहित्य व्यक्ति और समाज के भावों और विचारों की अभिव्यक्ति का माध्यम है। इसमें हमारे सुख-दुःख, हमारी आशा-निराशा, सफलता-असफलता, और हमारे गुण-अवगुणों का चित्रण रहता है। समाज के सभी अवयवों – अमीर और गरीब, भले और बुरे, युवा और वृद्ध, स्त्री और पुरुष सबका दिल और दिमाग अपने साहित्य में स्पन्दित होता रहता है, जिस समाज में साहित्य नहीं होता उसके हृदय और मस्तिष्क की गति का लेखा-जोखा नहीं होता, उसके विचार बुलबुले के समान क्षणभंगुर होते हैं। साहित्य ही किसी समाज के विचारों को चिरस्थायी बनाता है।

SubQuestion No : 22

Q.22 उपर्युक्त गद्यांश का शीर्षक क्या होगा ?

- Ans
- 1. साहित्य और जीवन
 - 2. समाज और विचार
 - 3. मनुष्य और समाज
 - 4. साहित्य और समाज

Question ID : 630680131968
Option 1 ID : 630680511069
Option 2 ID : 630680511068
Option 3 ID : 630680511066
Option 4 ID : 630680511067
Status : Answered
Chosen Option : 4

Comprehension:

निम्नलिखित गद्यांश को ध्यानपूर्वक पढ़े और प्रश्न के उत्तर दीजिए:

अन्य कलाओं की भांति साहित्य जीवन की अभिव्यक्ति है। साहित्य व्यक्ति और समाज के भावों और विचारों की अभिव्यक्ति का माध्यम है। इसमें हमारे सुख-दुःख, हमारी आशा-निराशा, सफलता-असफलता, और हमारे गुण-अवगुणों का चित्रण रहता है। समाज के सभी अवयवों – अमीर और गरीब, भले और बुरे, युवा और वृद्ध, स्त्री और पुरुष सबका दिल और दिमाग अपने साहित्य में स्पन्दित होता रहता है, जिस समाज में साहित्य नहीं होता उसके हृदय और मस्तिष्क की गति का लेखा-जोखा नहीं होता, उसके विचार बुलबुले के समान क्षणभंगुर होते हैं। साहित्य ही किसी समाज के विचारों को चिरस्थायी बनाता है।

SubQuestion No : 23

Q.23 जिस समाज में साहित्य नहीं होता, उसका विचार केसा होता है?

- Ans
- 1. समाज का लेखा जोखा रखता है।
 - 2. समाज को चिरस्थायी बनाता है।
 - 3. समाज की अभिव्यक्ति करता है।
 - 4. बुलबुले के समान क्षणभंगुर होता है।

Question ID : 630680131965
Option 1 ID : 630680511055
Option 2 ID : 630680511054
Option 3 ID : 630680511056
Option 4 ID : 630680511057
Status : Answered
Chosen Option : 4

Comprehension:

निम्नलिखित गद्यांश को ध्यानपूर्वक पढ़े और प्रश्न के उत्तर दीजिए:

अन्य कलाओं की भांति साहित्य जीवन की अभिव्यक्ति है। साहित्य व्यक्ति और समाज के भावों और विचारों की अभिव्यक्ति का माध्यम है। इसमें हमारे सुख-दुःख, हमारी आशा-निराशा, सफलता-असफलता, और हमारे गुण-अवगुणों का चित्रण रहता है। समाज के सभी अवयवों – अमीर और गरीब, भले और बुरे, युवा और वृद्ध, स्त्री और पुरुष सबका दिल और दिमाग अपने साहित्य में स्पन्दित होता रहता है, जिस समाज में साहित्य नहीं होता उसके हृदय और मस्तिष्क की गति का लेखा-जोखा नहीं होता, उसके विचार बुलबुले के समान क्षणभंगुर होते हैं। साहित्य ही किसी समाज के विचारों को चिरस्थायी बनाता है।

SubQuestion No : 24

Q.24 समाज के विचारों को चिरस्थायी कौन बनाता है?

- Ans
- 1. विचार
 - 2. मनुष्य
 - 3. मस्तिष्क
 - 4. साहित्य

Question ID : 630680131966
 Option 1 ID : 630680511061
 Option 2 ID : 630680511059
 Option 3 ID : 630680511058
 Option 4 ID : 630680511060
 Status : Answered
 Chosen Option : 4

Comprehension:

निम्नलिखित गद्यांश को ध्यानपूर्वक पढ़े और प्रश्न के उत्तर दीजिए:

अन्य कलाओं की भांति साहित्य जीवन की अभिव्यक्ति है। साहित्य व्यक्ति और समाज के भावों और विचारों की अभिव्यक्ति का माध्यम है। इसमें हमारे सुख-दुःख, हमारी आशा-निराशा, सफलता-असफलता, और हमारे गुण-अवगुणों का चित्रण रहता है। समाज के सभी अवयवों – अमीर और गरीब, भले और बुरे, युवा और वृद्ध, स्त्री और पुरुष सबका दिल और दिमाग अपने साहित्य में स्पन्दित होता रहता है, जिस समाज में साहित्य नहीं होता उसके हृदय और मस्तिष्क की गति का लेखा-जोखा नहीं होता, उसके विचार बुलबुले के समान क्षणभंगुर होते हैं। साहित्य ही किसी समाज के विचारों को चिरस्थायी बनाता है।

SubQuestion No : 25

Q.25 हमारे सुख दुःख, आशा निराशा, सफलता-असफलता और गुण अवगुणों का चित्रण किसमें रहता है?

- Ans
- 1. भावनाओं में
 - 2. साहित्य में
 - 3. समाज में
 - 4. दिमाग में

Question ID : 630680131967
 Option 1 ID : 630680511063
 Option 2 ID : 630680511064
 Option 3 ID : 630680511062
 Option 4 ID : 630680511065
 Status : Answered
 Chosen Option : 2