

CRPF Constable

Previous Year Paper

Tech Tradesman

04 July, 2023 Shift

Adda247

Adda247

Test Prime

ALL EXAMS, ONE SUBSCRIPTION



1,00,000+
Mock Tests



Personalised
Report Card



Unlimited
Re-Attempt



600+
Exam Covered



25,000+ Previous
Year Papers



500%
Refund



ATTEMPT FREE MOCK NOW

CRPF Technical Tradesman 1st to 12th July 2023

Participant ID	
Participant Name	
Test Center Name	
Test Date	04/07/2023
Test Time	8:30 AM - 10:30 AM
Subject	Constable Cook

Section : General Intelligence and Reasoning

Q.1 आकृति A एक निश्चित पैटर्न में आकृति B से संबंधित है। उसी पैटर्न का अनुसरण करते हुए, आकृति C आकृति D से संबंधित है। पैटर्न का अध्ययन करें और उस आकृति का चयन करें जो आकृति D के लिए प्रश्न चिह्न (?) को प्रतिस्थापित कर सकती है।

$$\begin{array}{|c|c|} \hline 0 & 2 \\ \hline 4 & 3 \\ \hline 1 & 3 \\ \hline \end{array} : \begin{array}{|c|c|} \hline 1 & 0 \\ \hline 2 & 4 \\ \hline \end{array} :: \begin{array}{|c|c|} \hline 7 & 8 \\ \hline 6 & 9 \\ \hline \end{array} : \square$$

A B C D

Ans

A. $\begin{array}{|c|c|} \hline 7 & 6 \\ \hline 5 & 9 \\ \hline 8 & 8 \\ \hline \end{array}$

B. $\begin{array}{|c|c|} \hline 7 & 6 \\ \hline 9 & 5 \\ \hline 8 & 8 \\ \hline \end{array}$

C. $\begin{array}{|c|c|} \hline 6 & 7 \\ \hline 9 & 5 \\ \hline 8 & 8 \\ \hline \end{array}$

D. $\begin{array}{|c|c|} \hline 6 & 7 \\ \hline 9 & 5 \\ \hline 8 & 8 \\ \hline \end{array}$

Question ID : 63068062232
Option 1 ID : 630680240225
Option 2 ID : 630680240224
Option 3 ID : 630680240223
Option 4 ID : 630680240222
Status : Answered
Chosen Option : D

Q.2 जब दर्पण को MN पर रखा जाता है तो दी गई आकृति के सही दर्पण प्रतिबिंब का चयन कीजिए।

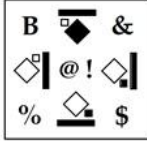
Ans

- A. d 6 P 6 h g 5
- B. b 6 P e r h g 5
- C. a d P e r h g 5
- D. d 6 P e r h g 2

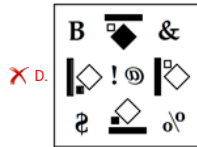
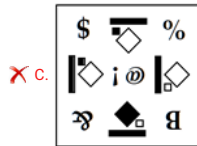
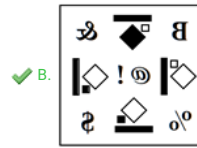
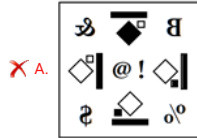
Question ID : 630680176003
 Option 1 ID : 630680682262
 Option 2 ID : 630680682260
 Option 3 ID : 630680682263
 Option 4 ID : 630680682261
 Status : Answered
 Chosen Option : B



Q.3 जब पाठक के दाहिनी ओर दर्पण रखा जाता है, तब कौन-सी विकल्प आकृति दी गई प्रश्न आकृति का सही दर्पण प्रतिबिम्ब है?
प्रश्न आकृति:



Ans



Question ID : 630680113658

Option 1 ID : 630680440166

Option 2 ID : 630680440167

Option 3 ID : 630680440168

Option 4 ID : 630680440169

Status : Answered

Chosen Option : B

Q.4 रवि बिंदु A से पूर्व की ओर चलना शुरू करता है और 10 km साइकिल चलाकर बिंदु B पर पहुंचता है। फिर वह दाएं मुड़ता है और बिंदु C पर पहुंचने के लिए 10 km साइकिल चलाता है। फिर, वह एक बार और दाएं मुड़ता है और बिंदु D तक पहुंचने के लिए 10 km साइकिल चलाता है। बिंदु D से बिंदु A की दूरी ज्ञात कीजिए।

Ans A. 20 km

B. 10 km

C. 25 km

D. 15 km

Question ID : 630680107477

Option 1 ID : 630680417262

Option 2 ID : 630680417261

Option 3 ID : 630680417263

Option 4 ID : 630680417260

Status : Answered

Chosen Option : B





Q.5 वक्कास 20 km दक्षिण दिशा की ओर यात्रा करता है, बाएं मुड़ता है और बाजार पहुंचने के लिए 21 km की यात्रा करता है। प्रारंभिक बिंदु पर वापस जाने के लिए उसे कितनी न्यूनतम दूरी तय करनी होगी?

- Ans
- A. 20 km
 - B. 29 km
 - C. 41 km
 - D. 21 km

Question ID : 63068050331
 Option 1 ID : 630680193646
 Option 2 ID : 630680193648
 Option 3 ID : 630680193649
 Option 4 ID : 630680193647
 Status : Answered
 Chosen Option : B

Q.6 चार आकृतियां दी गई हैं, जिनमें से तीन किसी न किसी रूप में एकसमान हैं और एक उनसे असंगत है। उस असंगत आकृति का चयन करें।

Ans

- A. 
- B. 
- C. 
- D. 

Question ID : 63068058853
 Option 1 ID : 630680227034
 Option 2 ID : 630680227036
 Option 3 ID : 630680227037
 Option 4 ID : 630680227035
 Status : Answered
 Chosen Option : C

Q.7 'A - B' का अर्थ है, 'A, B का भाई है',
'A + B' का अर्थ है, 'A, B का बेटा है',
'A ÷ B' का अर्थ है, 'A, B का पिता है',
'A × B' का अर्थ है, 'A, B की माँ है'
यदि 'G × J + H ÷ I' है, तो G का। से क्या संबंध है?

Ans A. सास
 B. माँ
 C. बहन
 D. बेटी

Question ID : 630680108349
Option 1 ID : 630680420399
Option 2 ID : 630680420398
Option 3 ID : 630680420397
Option 4 ID : 630680420396
Status : Answered
Chosen Option : B

Q.8 संख्या 4069.875 में दहाई के स्थान पर कौन-सा अंक है?

Ans A. 7
 B. 6
 C. 8
 D. 9

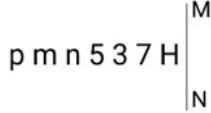
Question ID : 630680109114
Option 1 ID : 630680423275
Option 2 ID : 630680423273
Option 3 ID : 630680423274
Option 4 ID : 630680423272
Status : Answered
Chosen Option : B

Q.9 एक लड़का उत्तर की ओर 125 m दौड़ता है और फिर दाएं मुड़ता है। वह 180 m तक दौड़ना जारी रखता है और फिर दूसरी बार दाएं मुड़ता है। वह 160 m दौड़ता है और फिर एक और बार दाएं मुड़ता है और 150 m का अपना आखिरी भाग दौड़ता है और रुक जाता है। अब वह किस दिशा की ओर अभिमुख है?

Ans A. पश्चिम
 B. उत्तर
 C. दक्षिण
 D. पूर्व

Question ID : 630680104922
Option 1 ID : 630680407822
Option 2 ID : 630680407819
Option 3 ID : 630680407820
Option 4 ID : 630680407821
Status : Answered
Chosen Option : A

Q.10 दी गई आकृति के सही दर्पण प्रतिबिंब का चयन करें, जब दर्पण को MN पर रखा जाता है जैसा कि नीचे दिखाया गया है।



- Ans
- A. H 7 3 5 m n q
 - B. H 7 5 3 n m q
 - C. H 7 5 3 w u q
 - D. H 1 5 3 n m q

Question ID : 630680162240
 Option 1 ID : 630680628266
 Option 2 ID : 630680628265
 Option 3 ID : 630680628267
 Option 4 ID : 630680628264
 Status : Answered
 Chosen Option : B

Q.11 उस विकल्प आकृति का चयन कीजिए जिसमें दी गई आकृति इसके भाग के रूप में अंतर्निहित है (आकृति को घुमाने की अनुमति नहीं है)।



- Ans
- A.
 - B.
 - C.
 - D.

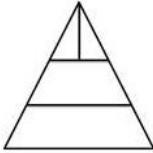
Question ID : 630680106430
 Option 1 ID : 630680413509
 Option 2 ID : 630680413508
 Option 3 ID : 630680413507
 Option 4 ID : 630680413506
 Status : Answered
 Chosen Option : C

Q.12 विकल्पों में से गणितीय चिन्हों के उस सही संयोजन का चयन कीजिए जिसमें उल्लेखित चिन्ह क्रमिक रूप से % चिह्नों को प्रतिस्थापित कर सकते हैं और दिए गए समीकरण को संतुलित कर सकते हैं।
24 % 8 % 6 % 9 % 2

- Ans
- A. $\times, \div, =, -$
 - B. $\div, \times, =, \times$
 - C. $\times, =, -, \div$
 - D. $\div, \times, =, -$

Question ID : 630680105077
Option 1 ID : 630680408421
Option 2 ID : 630680408419
Option 3 ID : 630680408422
Option 4 ID : 630680408420
Status : Answered
Chosen Option : B

Q.13 दी गई आकृति में कितने त्रिभुज हैं?



- Ans
- A. 3
 - B. 4
 - C. 2
 - D. 5

Question ID : 63068049469
Option 1 ID : 630680190307
Option 2 ID : 630680190308
Option 3 ID : 630680190306
Option 4 ID : 630680190309
Status : Answered
Chosen Option : D

Q.14 दी गई आकृति में कितने वर्ग हैं?



- Ans
- A. 6
 - B. 4
 - C. 8
 - D. 5

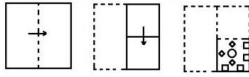
Question ID : 63068049475
Option 1 ID : 630680190332
Option 2 ID : 630680190330
Option 3 ID : 630680190333
Option 4 ID : 630680190331
Status : Answered
Chosen Option : D

Q.15 J, A की पुत्री है, जो कि G की इकलौती संतान है। B, G की पुत्रवधू है। C, F का पोता/नाती है। G, F की पत्नी है।
J का C से क्या संबंध है?

- Ans
- A. नानी
 - B. मां
 - C. भाई
 - D. बहन

Question ID : 630680104929
Option 1 ID : 630680407849
Option 2 ID : 630680407847
Option 3 ID : 630680407850
Option 4 ID : 630680407848
Status : Answered
Chosen Option : D

Q.16 कागज के एक टुकड़े को मोड़ने का क्रम और जिस तरीके से मुड़े हुए कागज को काटा गया है, उसे निम्नलिखित आकृतियों में दर्शाया गया है। खोले जाने पर यह कागज कैसा दिखेगा?



Ans

- A.
- B.
- C.
- D.

Question ID : 63068056597
Option 1 ID : 630680218323
Option 2 ID : 630680218324
Option 3 ID : 630680218325
Option 4 ID : 630680218322
Status : Answered
Chosen Option : C

Q.17 सुरेश अब 19 साल का है और कॉलेज में है। जब वह 5 साल का था, तब से वह एक छात्रावास में रहा और अब 14 साल के लंबे समय के बाद घर वापस आ रहा है। उसके माता-पिता ने उसे रेलवे स्टेशन से उसके घर तक का रास्ता लिखकर भेजा है। सुरेश को उसके माता-पिता द्वारा भेजा गया नीचे दिया गया टेक्स्ट देखिए और उसके अनुसार निम्नलिखित प्रश्न का उत्तर दीजिए।
"जब आप रेलवे स्टेशन से बाहर निकलते हैं, तो आपका मुख उत्तर की ओर होगा। दाएं मुड़ें और 4 km ड्राइव करें, आपको एक T-जंक्शन दिखाई देगा। दाएं मुड़ें और 2 km ड्राइव करें। चार सड़कों वाला एक गोल चक्कर मिलेगा। गोल चक्कर से बाएं दूसरा मोड़ लें और 1 km ड्राइव करें। दाएं मुड़ें और 3 km ड्राइव करें। बाएं मुड़ें और 2 km ड्राइव करें। आपको हमारा घर सामने मिलेगा। जल्दी घर आओ!"
8वें किलोमीटर पर सुरेश का मुख किस दिशा में होगा?

- Ans
- A. पूर्व
 - B. उत्तर
 - C. दक्षिण
 - D. पश्चिम

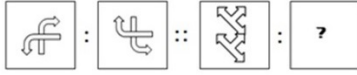
Question ID : 630680118461
Option 1 ID : 630680458947
Option 2 ID : 630680458946
Option 3 ID : 630680458948
Option 4 ID : 630680458949
Status : Answered
Chosen Option : C

Q.18 यदि 'A + B' का अर्थ है 'A, B का पिता है',
'A - B' का अर्थ है 'A, B का भाई है',
'A ÷ B' का अर्थ है 'A, B की माँ है',
'A × B' का अर्थ है 'A, B की बहन है',
तो निम्नलिखित में से कौन 'Z, Y की आँटी है' के संबंध को दर्शाता है?

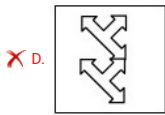
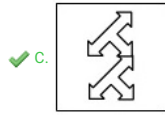
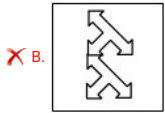
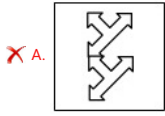
- Ans
- A. $Z - W + V = Y$
 - B. $Z + V - W = Y$
 - C. $Z \times V - W + Y$
 - D. $Z \div V + W - Y$

Question ID : 63068083711
Option 1 ID : 630680324462
Option 2 ID : 630680324463
Option 3 ID : 630680324461
Option 4 ID : 630680324460
Status : Answered
Chosen Option : D

Q.19 उस आकृति का चयन कीजिए जो तीसरी आकृति से उसी प्रकार संबंधित है जिस प्रकार दूसरी आकृति पहली आकृति से संबंधित है।

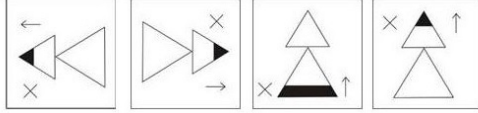


Ans

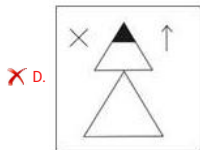
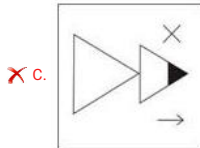
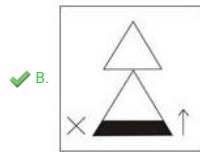
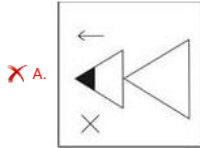


Question ID : 63068058810
 Option 1 ID : 630680226865
 Option 2 ID : 630680226864
 Option 3 ID : 630680226862
 Option 4 ID : 630680226863
 Status : Answered
 Chosen Option : C

Q.20 चार आकृतियां दी गई हैं जिनमें से तीन किसी न किसी रूप में एक समान हैं और एक भिन्न है। जो भिन्न है उसे चुनें।



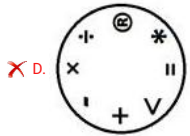
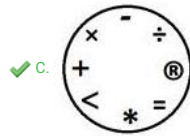
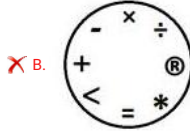
Ans



Question ID : 630680107250
 Option 1 ID : 630680416384
 Option 2 ID : 630680416386
 Option 3 ID : 630680416385
 Option 4 ID : 630680416387
 Status : Answered
 Chosen Option : B


Q.21 चार आकृतियां दी गई हैं, जिनमें से तीन किसी न किसी रूप में एकसमान हैं और एक उनसे असंगत है। उस असंगत आकृति का चयन करें।

Ans



Question ID : 63068058848
 Option 1 ID : 630680227015
 Option 2 ID : 630680227017
 Option 3 ID : 630680227014
 Option 4 ID : 630680227016
 Status : Answered
 Chosen Option : C

Q.22 दी गई आकृति में वर्गों की संख्या ज्ञात कीजिए।



- Ans
- A. 14
 - B. 10
 - C. 12
 - D. 15

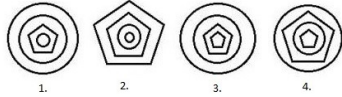
Question ID : 63068082596
 Option 1 ID : 630680320388
 Option 2 ID : 630680320389
 Option 3 ID : 630680320390
 Option 4 ID : 630680320391
 Status : Answered
 Chosen Option : D

Q.23 मायरा उत्तर की ओर 30 मीटर साइकिल चलाती है, और फिर बाएं मुड़ती है और 15 मीटर साइकिल चलाती है। वह फिर से बाएं मुड़ती है और 30 मीटर साइकिल चलाती है। वह आरंभिक बिंदु से कितनी दूर और किस दिशा में है?

- Ans
- A. 15 मीटर, उत्तर
 - B. 15 मीटर, पूर्व
 - C. 15 मीटर, दक्षिण
 - D. 15 मीटर, पश्चिम

Question ID : 630680107480
 Option 1 ID : 630680417272
 Option 2 ID : 630680417273
 Option 3 ID : 630680417274
 Option 4 ID : 630680417275
 Status : Answered
 Chosen Option : D

Q.24 चार आकृतियां दी गई हैं, जिनमें से तीन किसी न किसी रूप में एकसमान हैं और एक उनसे असंगत है। उस असंगत आकृति का चयन करें।

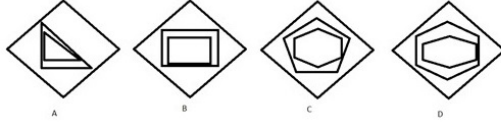


Ans

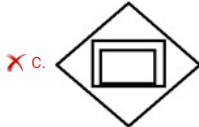
- A.
- B.
- C.
- D.

Question ID : 63068058857
 Option 1 ID : 630680227050
 Option 2 ID : 630680227053
 Option 3 ID : 630680227051
 Option 4 ID : 630680227052
 Status : Answered
 Chosen Option : B

Q.25 चार आकृतियाँ दी गई हैं जिनमें से तीन किसी न किसी रूप में एक समान हैं और एक अलग है, जो अलग है उसका चयन कीजिए।



Ans



Question ID : 630680106439
 Option 1 ID : 630680413545
 Option 2 ID : 630680413544
 Option 3 ID : 630680413542
 Option 4 ID : 630680413543
 Status : Answered
 Chosen Option : A

Section : General Knowledge and General Awareness

Q.1 निम्नलिखित में से कौन-सी कोशिकाएं रक्त शर्करा स्तर में वृद्धि होने पर इंसुलिन का उत्पादन करती हैं?

- Ans
- ✗ A. α -कोशिकाएं
 - ✗ B. γ -कोशिकाएं
 - ✓ C. β -कोशिकाएं
 - ✗ D. δ -कोशिकाएं

Question ID : 630680209082
 Option 1 ID : 630680810543
 Option 2 ID : 630680810545
 Option 3 ID : 630680810544
 Option 4 ID : 630680810546
 Status : Not Answered
 Chosen Option : --

Q.2 निम्नलिखित में से कौन चिल्का झील की प्रमुख प्रजाति है?

- Ans A. कस्तूरी कछुआ
 B. घड़ियाल
 C. विशालकाय मिट्टी केकड़ा
 D. इरावदी डॉल्फिन

Question ID : 63068069421
 Option 1 ID : 630680268351
 Option 2 ID : 630680268350
 Option 3 ID : 630680268352
 Option 4 ID : 630680268353
 Status : Answered
 Chosen Option : A

Q.3 खिज़्र खान ने _____ से शासन किया था।

- Ans A. 1420 ई. से 1431 ई.
 B. 1417 ई. से 1423 ई.
 C. 1419 ई. से 1424 ई.
 D. 1414 ई. से 1421 ई.

Question ID : 630680115388
 Option 1 ID : 630680446905
 Option 2 ID : 630680446902
 Option 3 ID : 630680446903
 Option 4 ID : 630680446904
 Status : Not Answered
 Chosen Option : --

Q.4 निम्नलिखित में से कौन-सा कारक भारत में मुद्रा आपूर्ति में वृद्धि का कारण बन सकता है?

- Ans A. बैंक आरक्षित निधि अपेक्षाओं में वृद्धि
 B. ब्याज दरों में वृद्धि
 C. बैंक ऋण में वृद्धि
 D. सरकारी खर्च में कमी

Question ID : 630680209010
 Option 1 ID : 630680810255
 Option 2 ID : 630680810257
 Option 3 ID : 630680810258
 Option 4 ID : 630680810256
 Status : Not Answered
 Chosen Option : --

Q.5 लुई पाश्चर ने किस वर्ष यह सिद्ध किया कि दूध के खट्टेपन (लैक्टिक अम्ल किण्वन) का कारण एक सूक्ष्मदर्शी पादप होता है?

- Ans A. 1857
 B. 1859
 C. 1869
 D. 1858

Question ID : 63068076918
 Option 1 ID : 630680297769
 Option 2 ID : 630680297771
 Option 3 ID : 630680297772
 Option 4 ID : 630680297770
 Status : Not Answered
 Chosen Option : --

Q.6 स्तूप की संरचना में 'यष्टि' क्या है?

- Ans A. समृद्ध नक्काशीदार प्रवेश द्वार
 B. अर्धवृत्ताकार टीला
 C. बालकनी जैसी संरचना
 D. छतरी से घिरा हुआ मस्तूल

Question ID : 630680213903
 Option 1 ID : 630680829661
 Option 2 ID : 630680829660
 Option 3 ID : 630680829659
 Option 4 ID : 630680829662
 Status : Not Answered
 Chosen Option : --

Q.7 निम्नलिखित में से कौन-सा पंजीगत प्राप्ति का उदाहरण है?

- Ans A. सार्वजनिक क्षेत्र की कंपनी के शेयरों की बिक्री
 B. सरकारी निवेश पर अर्जित व्याज
 C. सरकार द्वारा संग्रहित कर राजस्व
 D. विदेशों से प्राप्त अनुदान

Question ID : 630680209000
 Option 1 ID : 630680810216
 Option 2 ID : 630680810217
 Option 3 ID : 630680810215
 Option 4 ID : 630680810218
 Status : Not Answered
 Chosen Option : --

Q.8 गांधार क्षेत्र में बौद्ध वास्तुकला के बारे में कौन सा कथन सही है?

- Ans A. कुछ स्तूपों के आधार में स्वास्तिक बना हुआ था
 B. अयाका चबूतरे और स्तंभ पाये जाते हैं
 C. अधिकांश स्तूपों के आधार पहिये के आकार के होते थे
 D. भारतीय और यूनानी विशेषताएं और शैलियाँ आपस में जुड़ी हुई हैं

Question ID : 630680213907
 Option 1 ID : 630680829677
 Option 2 ID : 630680829676
 Option 3 ID : 630680829678
 Option 4 ID : 630680829675
 Status : Not Answered
 Chosen Option : --

Q.9 अल्पकालीन उत्पादन फलन के संदर्भ में निम्नलिखित में से कौन-सा कथन सही है?

- Ans A. प्रौद्योगिकी को श्रम निविष्टि परिवर्तन के साथ बदलता माना जाता है।
 B. किसी दिए गए उत्पादन के लिए प्रौद्योगिकी को स्थिर माना जाता है।
 C. प्रौद्योगिकी को पूंजी स्टॉक परिवर्तन के साथ बदलता माना जाता है।
 D. प्रौद्योगिकी को तब तक सकारात्मक रूप से बदलता माना जाता है जब तक कि हासमान प्रतिफल न हो जाए।

Question ID : 630680209016
 Option 1 ID : 630680810279
 Option 2 ID : 630680810282
 Option 3 ID : 630680810280
 Option 4 ID : 630680810281
 Status : Not Answered
 Chosen Option : --

Q.10 निम्नलिखित में से कौन सा एकमात्र हड़प्पा शहर है जहाँ रेडियल सड़कें पाई गई हैं?

- Ans A. लोधल
 B. कालीबंगा
 C. बनावली
 D. चन्हूदड़ो

Question ID : 630680157820
 Option 1 ID : 630680610811
 Option 2 ID : 630680610810
 Option 3 ID : 630680610808
 Option 4 ID : 630680610809
 Status : Answered
 Chosen Option : A

Q.11 किस दिल्ली सुल्तान ने तांबे के सिक्कों को आधिकारिक मुद्रा के रूप में जारी किया?

- Ans A. कुतुबुद्दीन ऐबक
 B. फिरोज़ तुगलक
 C. इल्तुतमिश
 D. मुहम्मद बिन तुगलक

Question ID : 63068090832
 Option 1 ID : 630680352105
 Option 2 ID : 630680352103
 Option 3 ID : 630680352104
 Option 4 ID : 630680352102
 Status : Answered
 Chosen Option : A

Q.12 हड़प्पा नगरों में दुर्ग किस दिशा में बने थे?

- Ans A. पूर्व
 B. उत्तर
 C. पश्चिम
 D. दक्षिण

Question ID : 630680157819
 Option 1 ID : 630680610804
 Option 2 ID : 630680610805
 Option 3 ID : 630680610806
 Option 4 ID : 630680610807
 Status : Not Answered
 Chosen Option : --

Q.13 7वीं और 12वीं शताब्दी के बीच दक्षिण भारत के कुछ हिस्सों पर शासन करने वाले पूर्वी चालुक्य वंश की स्थापना किसने की थी?

- Ans A. विजयादित्य
 B. कुब्ज विष्णुवर्धन
 C. इंद्रवर्मन
 D. जयसिंह सिद्धराज

Question ID : 630680118807
 Option 1 ID : 630680460333
 Option 2 ID : 630680460332
 Option 3 ID : 630680460331
 Option 4 ID : 630680460330
 Status : Not Answered
 Chosen Option : --

Q.14 निम्नलिखित में से कौन 2021 में अंतरिक्ष में उड़ान भरने वाली तीसरी भारतीय मूल की महिला थी?

- Ans A. सुनीता विलियम्स
 B. वेलेटीना बांदला
 C. सिरिशा बांदला
 D. कल्पना चावला

Question ID : 630680127553
 Option 1 ID : 630680494474
 Option 2 ID : 630680494475
 Option 3 ID : 630680494473
 Option 4 ID : 630680494472
 Status : Not Answered
 Chosen Option : --

Q.15 बाढ़ के दौरान नए जलोढ़ के निक्षेपण से बनने वाले बाढ़ के मैदानों को बेट (bet) कहा जाता है, ये किस राज्य में स्थित हैं?

- Ans A. ओडिशा
 B. गुजरात
 C. पंजाब
 D. उत्तर प्रदेश

Question ID : 63068087940
 Option 1 ID : 630680341147
 Option 2 ID : 630680341145
 Option 3 ID : 630680341146
 Option 4 ID : 630680341148
 Status : Not Answered
 Chosen Option : --

Q.16 ग्रीष्मकालीन मानसून से सबसे पहली वर्षा भारत के निम्नलिखित में से किस शहर में होती है?

- Ans A. हैदराबाद
 B. चेन्नई
 C. बेंगलुरु
 D. तिरुवनंतपुरम

Question ID : 63068090209
 Option 1 ID : 630680349611
 Option 2 ID : 630680349610
 Option 3 ID : 630680349612
 Option 4 ID : 630680349613
 Status : Not Answered
 Chosen Option : --

Q.17 सूफी संत शेख फरीदुद्दीन गंज-ए शकर की दरगाह/समाधि _____ में स्थित है।

- Ans A. हांसी
 B. अजोधन
 C. मुल्तान
 D. दिल्ली

Question ID : 630680213981
 Option 1 ID : 630680829974
 Option 2 ID : 630680829972
 Option 3 ID : 630680829973
 Option 4 ID : 630680829971
 Status : Not Answered
 Chosen Option : --

Q.18 भारत में तीन प्रकार की भू-आकृतियाँ हैं - भूमि, पर्वत और पठार। देश के क्षेत्रफल का कितना प्रतिशत भाग पठारी क्षेत्र से घिरा हुआ है?

- Ans
- A. 30%
 - B. 43%
 - C. 27%
 - D. 45%

Question ID : 63068074869
Option 1 ID : 630680289629
Option 2 ID : 630680289627
Option 3 ID : 630680289628
Option 4 ID : 630680289630
Status : Not Answered
Chosen Option : --

Q.19 सितंबर 2020 में, निम्नलिखित में से किस विभाग/मंत्रालय द्वारा नेशनल इनिशिएटिव फॉर डेवेलपिंग एंड हार्नेसिंग इनोवेशन (NIDHI) कार्यक्रम के अंतर्गत एंटरप्रेन्योर इन रेजिडेंस (ईआईआर) का शुभारंभ किया गया?

- Ans
- A. दूरसंचार विभाग
 - B. जैवप्रौद्योगिकी विभाग
 - C. वित्त मंत्रालय
 - D. विज्ञान एवं प्रौद्योगिकी विभाग

Question ID : 630680100114
Option 1 ID : 630680389152
Option 2 ID : 630680389153
Option 3 ID : 630680389155
Option 4 ID : 630680389154
Status : Not Answered
Chosen Option : --

Q.20 प्रसिद्ध ऐतिहासिक गृह संग्रहालय, आनंद भवन कहाँ स्थित है?

- Ans
- A. नई दिल्ली
 - B. प्रयागराज
 - C. लखनऊ
 - D. बनारस

Question ID : 630680157825
Option 1 ID : 630680610831
Option 2 ID : 630680610830
Option 3 ID : 630680610828
Option 4 ID : 630680610829
Status : Answered
Chosen Option : A

Q.21 भारत की संसद ने वर्ष _____ में राष्ट्रपति और उप-राष्ट्रपति चुनाव अधिनियम लागू किया।

- Ans
- A. 1949
 - B. 1956
 - C. 1954
 - D. 1952

Question ID : 630680209103
Option 1 ID : 630680810627
Option 2 ID : 630680810630
Option 3 ID : 630680810629
Option 4 ID : 630680810628
Status : Answered
Chosen Option : D

Q.22 अनुच्छेद _____ के तहत संवैधानिक प्रावधान की न्यूनता को पूर्ण करने के लिए, नागरिक अधिकार संरक्षण अधिनियम 1955, अधिनियमित किया गया था।

- Ans
- A. 14
 - B. 21
 - C. 19
 - D. 17

Question ID : 630680209102
Option 1 ID : 630680810623
Option 2 ID : 630680810626
Option 3 ID : 630680810625
Option 4 ID : 630680810624
Status : Not Answered
Chosen Option : --

Q.23 रज़िया सुल्तान की मृत्यु के बाद गुलाम वंश का अंतिम प्रभावी सम्राट कौन था?

- Ans
- A. आराम शाह
 - B. कुतुबुद्दीन ऐबक
 - C. गयासुद्दीन बलबन
 - D. इल्तुतमिश

Question ID : 630680114116
Option 1 ID : 630680441869
Option 2 ID : 630680441866
Option 3 ID : 630680441868
Option 4 ID : 630680441867
Status : Answered
Chosen Option : A

Q.24 असम राज्य में स्थित कार्बी-आंगलॉग पठार भारत के किस भौतिक प्रभाग का हिस्सा है?

- Ans
- A. तटीय मैदान
 - B. उत्तर के मैदान
 - C. हिमालय पर्वत
 - D. प्रायद्वीपीय पठार

Question ID : 63068087527
Option 1 ID : 630680339496
Option 2 ID : 630680339495
Option 3 ID : 630680339493
Option 4 ID : 630680339494
Status : Not Answered
Chosen Option : --

Q.25 निम्नलिखित में से कौन-सा कथन राजस्व बजट का सबसे अच्छा वर्णन करता है?

- Ans
- A. बजट जो दीर्घकालिक निवेश पर केंद्रित है
 - B. बजट जो नकदी प्रवाह और बहिर्वाह को प्रदर्शित करता है
 - C. बजट जो विशिष्ट कार्यक्रमों के लिए संसाधन आवंटित करता है
 - D. ऐसा बजट जिसमें सरकार की आय और व्यय का अनुमान लगाया जाता है

Question ID : 630680208999
Option 1 ID : 630680810211
Option 2 ID : 630680810214
Option 3 ID : 630680810212
Option 4 ID : 630680810213
Status : Not Answered
Chosen Option : --

Section : Elementary Mathematics

Q.1 कमल और लता की वर्तमान आयु क्रमशः 26 और 38 वर्ष है। यदि n वर्ष बाद उनकी आयु का अनुपात 9:11 हो, तो n का मान क्या है?

- Ans A. 28
 B. 26
 C. 24
 D. 22

Question ID : 630680220266
 Option 1 ID : 630680854930
 Option 2 ID : 630680854931
 Option 3 ID : 630680854929
 Option 4 ID : 630680854932
 Status : Answered
 Chosen Option : A

Q.2 जितिन, राविया और अखिलेश के पास क्रमशः ₹19, ₹23 और ₹28 हैं। उन्होंने एक जरूरतमंद व्यक्ति को समान राशि इस तरह से उपहार में देने का फैसला किया कि उनमें से तीनों के पास बची हुई राशि अब निरंतर अनुपात में हो। उनमें से प्रत्येक द्वारा उपहार में दी गई राशि ज्ञात कीजिए।

- Ans A. ₹5
 B. ₹4
 C. ₹3
 D. ₹2

Question ID : 630680115581
 Option 1 ID : 630680447677
 Option 2 ID : 630680447676
 Option 3 ID : 630680447675
 Option 4 ID : 630680447674
 Status : Not Attempted and Marked For Review
 Chosen Option : --

Q.3 यदि कोई ग्राहक 8 पेन खरीदता है तो दुकानदार 2 पेन मुफ्त में देता है। ग्राहकों को दी गई छूट का प्रतिशत ज्ञात कीजिए।

- Ans A. 25%
 B. 20%
 C. 30%
 D. 15%

Question ID : 630680108891
 Option 1 ID : 630680422456
 Option 2 ID : 630680422458
 Option 3 ID : 630680422459
 Option 4 ID : 630680422457
 Status : Answered
 Chosen Option : B

Q.4 गोपाल 16 संतरे ₹80 में खरीदता है और 20 संतरे ₹110 में बेचता है। उसके लाभ/हानि का प्रतिशत ज्ञात कीजिए।

- Ans A. 10% लाभ
 B. 8% लाभ
 C. 8% हानि
 D. 10% हानि

Question ID : 630680111159
Option 1 ID : 630680430481
Option 2 ID : 630680430480
Option 3 ID : 630680430478
Option 4 ID : 630680430479
Status : Answered
Chosen Option : A

Q.5 निम्नलिखित में से कौन-सी संख्या 7 से पूर्णतः विभाज्य है?

- Ans A. 5881
 B. 786
 C. 8064
 D. 614

Question ID : 63068070714
Option 1 ID : 630680273479
Option 2 ID : 630680273478
Option 3 ID : 630680273481
Option 4 ID : 630680273480
Status : Answered
Chosen Option : C

Q.6 40 वस्तुओं का विक्रय मूल्य 30 वस्तुओं के क्रय मूल्य के बराबर है। लाभ या हानि प्रतिशत क्या है?

- Ans A. 10% हानि
 B. 10% लाभ
 C. 25% हानि
 D. 25% लाभ

Question ID : 630680108768
Option 1 ID : 630680421987
Option 2 ID : 630680421986
Option 3 ID : 630680421985
Option 4 ID : 630680421984
Status : Answered
Chosen Option : C

Q.7 यदि एक व्यक्ति शांत जल में 8 km/h की गति से नाव चलाता है और धारा के प्रतिकूल उसकी गति 6 km/h है, तो धारा के अनुकूल उसकी गति (km/h में) _____ है।

- Ans A. 10
 B. 4
 C. 6
 D. 8

Question ID : 630680120233
Option 1 ID : 630680465969
Option 2 ID : 630680465966
Option 3 ID : 630680465967
Option 4 ID : 630680465968
Status : Answered
Chosen Option : A

Q.8 यदि $A : B = 4 : 5$ और $B : C = 3 : 2$ है, तो $A : B : C$ ज्ञात कीजिए।

- Ans
- A. $12 : 15 : 7$
 - B. $12 : 15 : 14$
 - C. $12 : 15 : 10$
 - D. $12 : 15 : 5$

Question ID : 630680107717
 Option 1 ID : 630680418157
 Option 2 ID : 630680418159
 Option 3 ID : 630680418158
 Option 4 ID : 630680418156
 Status : Answered
 Chosen Option : C

Q.9 R का व्यय उसकी बचत से दोगुना है। उसने अपनी बचत को दोगुना कर दिया और अपने व्यय को पिछले से 1.5 गुना कर लिया। ऐसा करने के लिए, उसकी आय पिछली आय की कितनी गुनी होनी चाहिए?

- Ans
- A. 1.67
 - B. 1.33
 - C. 2
 - D. 1.5

Question ID : 63068091905
 Option 1 ID : 630680356354
 Option 2 ID : 630680356357
 Option 3 ID : 630680356356
 Option 4 ID : 630680356355
 Status : Answered
 Chosen Option : A

Q.10 उस वृत्त का क्षेत्रफल, जो 6 cm की भुजा वाले वर्ग में बनाया जा सकता है, क्या होगा?

- Ans
- A. 36π
 - B. 12π
 - C. 18π
 - D. 9π

Question ID : 63068079600
 Option 1 ID : 630680308425
 Option 2 ID : 630680308427
 Option 3 ID : 630680308426
 Option 4 ID : 630680308428
 Status : Answered
 Chosen Option : D

Q.11 400 m की दूरी से एक पुलिसकर्मी द्वारा एक चोर को देखा जाता है। चोर भागने लगता है और पुलिसकर्मी उसका पीछा करता है। चोर और पुलिसकर्मी की चाल क्रमशः 12 km/h और 15 km/h है। कितनी दूरी (km में) दौड़ने के बाद पुलिसकर्मी चोर को पकड़ लेगा?

- Ans
- A. 2.4
 - B. 2.2
 - C. 1.8
 - D. 2

Question ID : 630680131277
 Option 1 ID : 630680508377
 Option 2 ID : 630680508376
 Option 3 ID : 630680508374
 Option 4 ID : 630680508375
 Status : Answered
 Chosen Option : D

Q.12 7 cm भुजा वाले एक घनाकार ब्लॉक के फलक को अंदर से काटकर एक अर्धगोलाकार गड्ढा (hemispherical depression) इस प्रकार बनाया जाता है कि गोलार्ध का व्यास घन के कोर के बराबर हो। शेष ठोस का पृष्ठीय क्षेत्रफल ज्ञात कीजिए।

- Ans
- A. 413.3 cm²
 - B. 412.5 cm²
 - C. 332.5 cm²
 - D. 312.2 cm²

Question ID : 63068070880
 Option 1 ID : 630680274132
 Option 2 ID : 630680274133
 Option 3 ID : 630680274130
 Option 4 ID : 630680274131
 Status : Not Answered
 Chosen Option : --

Q.13 मान लें कि $\frac{2a}{1 + \frac{1}{1-a}} = 1$ है। a का मान ज्ञात करें।

- Ans
- A. $\frac{1}{2}$
 - B. $\frac{3}{4}$
 - C. $\frac{3}{2}$
 - D. $\frac{2}{3}$

Question ID : 63068022268
 Option 1 ID : 630680862903
 Option 2 ID : 630680862906
 Option 3 ID : 630680862905
 Option 4 ID : 630680862904
 Status : Answered
 Chosen Option : A

Q.14 तीन पाइप P, Q और R एक टंकी को क्रमशः 10, 15 और 20 घंटे में भर सकते हैं। यदि P हर समय खुला रहता है और Q और R को एक-एक घंटे के लिए एक-एक करके खोला जाता है, तो टंकी कितने समय में भर जाएगी?

Ans

- ✓ A. 7 घंटे
 ✗ B. $6\frac{1}{3}$ घंटे
 ✗ C. 8 घंटे
 ✗ D. $5\frac{1}{4}$ घंटे

Question ID : 63068068082
 Option 1 ID : 630680263065
 Option 2 ID : 630680263063
 Option 3 ID : 630680263064
 Option 4 ID : 630680263062
 Status : Answered
 Chosen Option : B

Q.15 ₹30,000 पर 16% प्रति वर्ष की दर से 9 महीने के लिए चक्रवृद्धि ब्याज ज्ञात कीजिए, जिसे तिमाही आधार पर चक्रवृद्धित किया जाता है। (केवल पूर्णांक पर विचार कीजिए)

Ans

- ✗ A. ₹2,745
 ✗ B. ₹3,644
 ✗ C. ₹3,325
 ✓ D. ₹3,745

Question ID : 630680108487
 Option 1 ID : 630680420912
 Option 2 ID : 630680420914
 Option 3 ID : 630680420915
 Option 4 ID : 630680420913
 Status : Answered
 Chosen Option : D

Q.16 पाइप A और पाइप B एक टैंक को क्रमशः 12 घंटे और 16 घंटे में भर सकते हैं। यदि दोनों पाइपों को पाइप A से शुरू करते हुए बारी-बारी से 1 घंटे के लिए खोला जाता है, तो टैंक कितने समय में भर जाएगा?

Ans

- ✗ A. $12\frac{2}{3}$ घंटे
 ✗ B. $7\frac{2}{3}$ घंटे
 ✓ C. $13\frac{2}{3}$ घंटे
 ✗ D. $6\frac{3}{4}$ घंटे

Question ID : 630680119873
 Option 1 ID : 630680464560
 Option 2 ID : 630680464559
 Option 3 ID : 630680464561
 Option 4 ID : 630680464558
 Status : Answered
 Chosen Option : A

Q.17 यदि $m > 1$ और $(m + \frac{1}{m}) = \sqrt{5}$, है, तो $(m^2 - \frac{1}{m^2})$ का मान क्या होगा?

- Ans
- A. $2\sqrt{5}$
 - B. 1
 - C. $\sqrt{5}$
 - D. $3\sqrt{5}$

Question ID : 63068070939
 Option 1 ID : 630680274368
 Option 2 ID : 630680274367
 Option 3 ID : 630680274366
 Option 4 ID : 630680274369
 Status : Not Attempted and Marked For Review
 Chosen Option : --

Q.18 यदि 44 cm भुजा वाले कागज की एक वर्गाकार शीट को बिना किसी अतिव्यापन के भुजा के साथ एक बेलन के आकार में लपेटा जाता है, तो _____ बेलन का वक्र क्षेत्रफल होगा।

- Ans
- A. 1396 cm²
 - B. 1936 cm²
 - C. 1963 cm²
 - D. 968 cm²

Question ID : 630680220925
 Option 1 ID : 630680857551
 Option 2 ID : 630680857549
 Option 3 ID : 630680857550
 Option 4 ID : 630680857552
 Status : Not Attempted and Marked For Review
 Chosen Option : --

Q.19 3 व्यक्तियों A, B और C का औसत वजन 74 kg है। एक अन्य व्यक्ति, D, समूह में शामिल हो जाता है और अब समूह का औसत वजन 70 kg हो जाता है। यदि कोई अन्य व्यक्ति, E, जिसका वजन D से 4 kg अधिक है, A को प्रतिस्थापित करता है, तो B, C, D और E का औसत वजन 76 kg हो जाता है। A का वजन ज्ञात करें।

- Ans
- A. 32 kg
 - B. 38 kg
 - C. 40 kg
 - D. 30 kg

Question ID : 630680105241
 Option 1 ID : 630680409044
 Option 2 ID : 630680409045
 Option 3 ID : 630680409046
 Option 4 ID : 630680409043
 Status : Answered
 Chosen Option : B

Q.20 10 m प्रत्येक की त्रिज्या वाले दो गोलाकार एक ऐसे नियमित वृत्तीय बेलन के दोनों सिरों पर लटके हुए हैं जिसकी ऊँचाई 20 m और आधार की त्रिज्या 10 m है। नए ठोस का संपूर्ण पृष्ठीय क्षेत्रफल ज्ञात कीजिए।

- Ans
- A. $800 \pi \text{ m}^2$
 - B. $600 \pi \text{ m}^2$
 - C. $200 \pi \text{ m}^2$
 - D. $400 \pi \text{ m}^2$

Question ID : 63068076068
 Option 1 ID : 630680294377
 Option 2 ID : 630680294380
 Option 3 ID : 630680294379
 Option 4 ID : 630680294378
 Status : Not Answered
 Chosen Option : --

Q.21 दो उम्मीदवारों के बीच एक कॉलेज चुनाव में, एक उम्मीदवार को कुल वैध मतों के 60% मत प्राप्त हुए। 20% मत अवैध थे। यदि कुल मत 16,250 थे, तो दूसरे उम्मीदवार द्वारा पाए गए वैध मतों की संख्या कितनी है?

- Ans
- A. 6200
 - B. 5525
 - C. 5200
 - D. 3000

Question ID : 630680107277
 Option 1 ID : 630680416492
 Option 2 ID : 630680416495
 Option 3 ID : 630680416493
 Option 4 ID : 630680416494
 Status : Answered
 Chosen Option : C

Q.22 एक गोले का आयतन 38808 cm^3 है। इसका पृष्ठीय क्षेत्रफल क्या होगा?

- Ans
- A. 5600 cm^2
 - B. 5500 cm^2
 - C. 5544 cm^2
 - D. 4455 cm^2

Question ID : 63068071106
 Option 1 ID : 630680275021
 Option 2 ID : 630680275020
 Option 3 ID : 630680275018
 Option 4 ID : 630680275019
 Status : Not Answered
 Chosen Option : --

Q.23 एक निश्चित राशि साधारण ब्याज पर 3 वर्षों में स्वयं की $\frac{7}{4}$ हो जाती है। प्रति वर्ष ब्याज दर क्या है?

- Ans
- A. 10%
 - B. 5%
 - C. 25%
 - D. 20%

Question ID : 630680220604
Option 1 ID : 630680856267
Option 2 ID : 630680856268
Option 3 ID : 630680856265
Option 4 ID : 630680856266
Status : Answered
Chosen Option : C

Q.24 1, 3, 5, 7 और 10 का औसत ज्ञात कीजिए।

- Ans
- A. 5.2
 - B. 4.2
 - C. 10.4
 - D. 6.2

Question ID : 630680107362
Option 1 ID : 630680416812
Option 2 ID : 630680416813
Option 3 ID : 630680416814
Option 4 ID : 630680416815
Status : Answered
Chosen Option : A

Q.25 एक व्यक्ति ने पहले घंटे में 50 km और दूसरे घंटे में 70 km की यात्रा की। पूरी यात्रा के लिए उसकी औसत चाल (km/h में) क्या है?

- Ans
- A. 50
 - B. 120
 - C. 60
 - D. 70

Question ID : 630680107371
Option 1 ID : 630680416851
Option 2 ID : 630680416850
Option 3 ID : 630680416848
Option 4 ID : 630680416849
Status : Answered
Chosen Option : C

Section : English

Q.1 Select the most appropriate ANTONYM of the given word.
Courage

- Ans A. Deceit
 B. Devious
 C. Timidity
 D. Humble

Question ID : 630680129841
Option 1 ID : 630680502955
Option 2 ID : 630680502956
Option 3 ID : 630680502957
Option 4 ID : 630680502954
Status : Not Answered
Chosen Option : --

Q.2 Select the most appropriate ANTONYM of the given word.

Parsimonious

- Ans A. Charitable
 B. Careful
 C. Tightfisted
 D. Unconventional

Question ID : 630680129618
Option 1 ID : 630680502082
Option 2 ID : 630680502085
Option 3 ID : 630680502083
Option 4 ID : 630680502084
Status : Not Answered
Chosen Option : --

Q.3 Select the INCORRECTLY spelt word in the given sentence.

The fermentation phenomengan was formerly thought to be weird and mysterious.

- Ans A. mysterious
 B. weird
 C. phenomengan
 D. fermentation

Question ID : 630680126941
Option 1 ID : 630680492274
Option 2 ID : 630680492277
Option 3 ID : 630680492276
Option 4 ID : 630680492275
Status : Not Answered
Chosen Option : --

Q.4 Select the most appropriate synonym of the underlined word in the given sentence.
I would prefer to have an ice-cream rather than a shake.

- Ans A. Need
 B. Favour
 C. Take
 D. Desire

Question ID : 630680163263
Option 1 ID : 630680632261
Option 2 ID : 630680632262
Option 3 ID : 630680632260
Option 4 ID : 630680632263
Status : Not Answered
Chosen Option : --

Q.5 Select the most appropriate ANTONYM of the given word.

Dainty

- Ans A. Cranky
 B. Ugly
 C. Petite
 D. Cute

Question ID : 630680129773
Option 1 ID : 630680502691
Option 2 ID : 630680502693
Option 3 ID : 630680502692
Option 4 ID : 630680502690
Status : Not Answered
Chosen Option : --

Q.6 Select the option that can be used as a one-word substitute for the given group of words.
One always anxious about health

- Ans A. Virago
 B. Samaritan
 C. Valetudinarian
 D. Reticule

Question ID : 630680167100
Option 1 ID : 630680647257
Option 2 ID : 630680647256
Option 3 ID : 630680647259
Option 4 ID : 630680647258
Status : Not Answered
Chosen Option : --

Q.7 Select the correctly spelt word.

- Ans A. Embarass
 B. Embarrase
 C. Embarrass
 D. Embarras

Question ID : 630680209289
Option 1 ID : 630680811373
Option 2 ID : 630680811374
Option 3 ID : 630680811372
Option 4 ID : 630680811371
Status : Not Answered
Chosen Option : --

Q.8 Sentences of a paragraph are given below in jumbled order. Arrange the sentences in the correct order to form a meaningful and coherent paragraph.
A. Computers are capable of doing extremely complicated work in all branches of learning.
B. For instance, they can provide information on the best way to prevent traffic accidents.
C. These machines can be put to varied uses.
D. They can solve the most complex mathematical problems or put a thousand unrelated pieces of data in order.

- Ans A. DBCA
 B. CBAD
 C. DCAB
 D. ADCB

Question ID : 630680204357
Option 1 ID : 630680792513
Option 2 ID : 630680792511
Option 3 ID : 630680792512
Option 4 ID : 630680792514
Status : Not Answered
Chosen Option : --

Q.9 Select the INCORRECTLY spelt word.

- Ans A. Rememberance
 B. Utterance
 C. Leisure
 D. Grievance

Question ID : 630680129672
Option 1 ID : 630680502297
Option 2 ID : 630680502296
Option 3 ID : 630680502295
Option 4 ID : 630680502294
Status : Not Answered
Chosen Option : --

Q.10 Select the most appropriate synonym of the underlined word in the given sentence.
Simi could barely carry the pail of water as it was very heavy.

- Ans A. Cannister
 B. Glass
 C. Bucket
 D. Bowl

Question ID : 630680163264
 Option 1 ID : 630680632266
 Option 2 ID : 630680632265
 Option 3 ID : 630680632267
 Option 4 ID : 630680632264
 Status : Not Answered
 Chosen Option : --

Q.11 Select the grammatically correct form of the given sentence from the following options.
They started the cricket match therefore the rain had stopped.

- Ans A. They started the cricket match as soon as the rain had stopped.
 B. They started the cricket match as the rain had stopped.
 C. They started the cricket match even then the rain had stopped.
 D. They started the cricket match provided that the rain had stopped.

Question ID : 63068049369
 Option 1 ID : 630680189907
 Option 2 ID : 630680189906
 Option 3 ID : 630680189908
 Option 4 ID : 630680189909
 Status : Not Answered
 Chosen Option : --

Q.12 Sentences of a paragraph are given below in jumbled order. Arrange the sentences in the correct order to form a meaningful and coherent paragraph.

- A. The volcano had been inactive for centuries.
 B. The most famous of these eruptions occurred in AD 79.
 C. There was little warning of the coming eruption, although one account unearthed by archaeologists says that a hard rain and a strong wind had disturbed the celestial calm during the preceding night.
 D. Mount Vesuvius, a volcano located between the ancient Italian cities of Pompeii and Herculaneum, has received much attention because of its frequent and destructive eruptions.

- Ans A. ABDC
 B. DBAC
 C. ADBC
 D. CBAD

Question ID : 630680204360
 Option 1 ID : 630680792523
 Option 2 ID : 630680792525
 Option 3 ID : 630680792526
 Option 4 ID : 630680792524
 Status : Not Answered
 Chosen Option : --

Q.13 Select the INCORRECTLY spelt word.

- Ans A. Humiliation
 B. Cancellation
 C. Remuneration
 D. Assassination

Question ID : 630680129671
 Option 1 ID : 630680502293
 Option 2 ID : 630680502291
 Option 3 ID : 630680502290
 Option 4 ID : 630680502292
 Status : Not Answered
 Chosen Option : --

Q.14 Select the option that can be used as a one-word substitute for the given group of words.

Style full of words.

- Ans A. Verbose
 B. Valetudinarian
 C. Vesper
 D. Verbicide

Question ID : 630680129697
 Option 1 ID : 630680502396
 Option 2 ID : 630680502397
 Option 3 ID : 630680502395
 Option 4 ID : 630680502394
 Status : Not Answered
 Chosen Option : --

Q.15 Sentences of a paragraph are given below in jumbled order. Arrange the sentences in the correct order to form a meaningful and coherent paragraph.

- A. They should look after them in their old age.
 B. Parents play an important role in bringing up children.
 C. They try their best to fulfil the desires of their kids.
 D. Children should give respect to their parents.

- Ans A. ADBC
 B. DCBA
 C. CDAB
 D. BCDA

Question ID : 630680204345
 Option 1 ID : 630680792463
 Option 2 ID : 630680792466
 Option 3 ID : 630680792465
 Option 4 ID : 630680792464
 Status : Not Answered
 Chosen Option : --

Q.16 Select the option that can be used as a one-word substitute for the given group of words.

The state of being serious and calm

- Ans
- A. Sagacious
 - B. Hilarious
 - C. Sanity
 - D. Sobriety

Question ID : 630680126283
 Option 1 ID : 630680489740
 Option 2 ID : 630680489738
 Option 3 ID : 630680489741
 Option 4 ID : 630680489739
 Status : Not Answered
 Chosen Option : --

Q.17 Select the option that can be used as a one-word substitute for the given group of words.
 The study of ancient writing and scriptures

- Ans
- A. Lexicography
 - B. Palaeography
 - C. Ornithology
 - D. Psephology

Question ID : 630680176602
 Option 1 ID : 630680684629
 Option 2 ID : 630680684628
 Option 3 ID : 630680684631
 Option 4 ID : 630680684630
 Status : Not Answered
 Chosen Option : --

Q.18 Select the most appropriate ANTONYM of the given word.
 Embrace

- Ans
- A. Enfold
 - B. Exclude
 - C. Include
 - D. Accept

Question ID : 630680129358
 Option 1 ID : 630680501052
 Option 2 ID : 630680501051
 Option 3 ID : 630680501050
 Option 4 ID : 630680501053
 Status : Not Answered
 Chosen Option : --

Q.19 Sentences of a paragraph are given below in jumbled order. Arrange the sentences in the correct order to form a meaningful and coherent paragraph.
A. When caffeine is ingested, it quickly enters the brain, where it competes with a chemical called adenosine.
B. One of adenosine's most important jobs is to make you feel tired.
C. But that doesn't explain why about 85 per cent of Americans consume it in some form each day.
D. Caffeine evolved in certain plants as a naturally occurring pesticide to discourage insects from eating them.

Ans A. DCAB
 B. DBCA
 C. BDCA
 D. ACBD

Question ID : 630680204324
Option 1 ID : 630680792379
Option 2 ID : 630680792380
Option 3 ID : 630680792382
Option 4 ID : 630680792381
Status : Not Answered
Chosen Option : --

Q.20 In the given sentence, four words/phrases have been underlined and the underlined words/phrases are given as options. Select the option that contains an error.

Students of Class 10 are naughty and students of Class 12 are sincere.

Ans A. naughty
 B. Students
 C. sincere
 D. and

Question ID : 63068048032
Option 1 ID : 630680184791
Option 2 ID : 630680184790
Option 3 ID : 630680184793
Option 4 ID : 630680184792
Status : Not Answered
Chosen Option : --

Adda247

Comprehension:

Read the given passage and answer the questions that follow.

In this jet age, everyone is interested in making easy money. Thanks to the advancement in science and technology, these days life has become easier and more comfortable than earlier with a lot of domestic gadgets as well as instantaneous food recipes available in the market. This has resulted in making the people develop a mindset to have anything immediately without waiting for, even at the traffic signals. The single most important factor that distinguishes those of us who succeed in any venture from those of us who don't, is this 'instant coffee' attitude. Most of us want results quickly. We want to reach the top immediately and get worked up when things go wrong. Perseverance and patience are forgotten words. We get upset, frustrated and angry when a skill or activity requires us to put in a lot of effort and time. We get dejected and want to give it up, things should be easy. Why should things take long? It is unfair. Life is too short and there is not enough time to do all the things we want to. We tend to compare with others and get upset when they seem to be doing well, dismissing God as being too kind to them and not to us. And so, we give up. But such thinking serves no purpose. For it doesn't solve the problem. Life is tough for those with the 'instant coffee' attitude. Success, real success, and happiness come to those who have a 'bread-making' attitude. Those who are willing to knead the dough, wait for hours for it to rise only to punch it down and knead some more, wait for another couple of hours for it to rise again, then bake it before it is ready to be eaten. Nothing is instantaneous. For every endeavour – whether in the area of career, academics, music, sports, relationship, physical fitness or even in spirituality – it is a long arduous journey. Only if we are willing to spend time, put in painstaking effort and have faith, can we get results. If we don't accept this difficult but true fact of life, our lives will be far from being happy and fulfilling, for we may not make that extra effort which can change the course of life dramatically, for our benefit.

SubQuestion No : 21

Q.21 Which of the following statements is NOT true according to the passage?

- Ans
- A. Music, relationship, academics, sports and spirituality, all are prolonged endeavours.
 - B. We blame God for being kind to others and not to us.
 - C. Science and technology has advanced a lot, making life comfortable.
 - D. Results can be obtained by spending time, putting efforts and wavering faith

Question ID : 630680133615
Option 1 ID : 630680517409
Option 2 ID : 630680517407
Option 3 ID : 630680517406
Option 4 ID : 630680517408
Status : Not Answered
Chosen Option : --

Comprehension:

Read the given passage and answer the questions that follow.

In this jet age, everyone is interested in making easy money. Thanks to the advancement in science and technology, these days life has become easier and more comfortable than earlier with a lot of domestic gadgets as well as instantaneous food recipes available in the market. This has resulted in making the people develop a mindset to have anything immediately without waiting for, even at the traffic signals. The single most important factor that distinguishes those of us who succeed in any venture from those of us who don't, is this 'instant coffee' attitude. Most of us want results quickly. We want to reach the top immediately and get worked up when things go wrong. Perseverance and patience are forgotten words. We get upset, frustrated and angry when a skill or activity requires us to put in a lot of effort and time. We get dejected and want to give it up, things should be easy. Why should things take long? It is unfair. Life is too short and there is not enough time to do all the things we want to. We tend to compare with others and get upset when they seem to be doing well, dismissing God as being too kind to them and not to us. And so, we give up. But such thinking serves no purpose. For it doesn't solve the problem. Life is tough for those with the 'instant coffee' attitude. Success, real success, and happiness come to those who have a 'bread-making' attitude. Those who are willing to knead the dough, wait for hours for it to rise only to punch it down and knead some more, wait for another couple of hours for it to rise again, then bake it before it is ready to be eaten. Nothing is instantaneous. For every endeavour – whether in the area of career, academics, music, sports, relationship, physical fitness or even in spirituality – it is a long arduous journey. Only if we are willing to spend time, put in painstaking effort and have faith, can we get results. If we don't accept this difficult but true fact of life, our lives will be far from being happy and fulfilling, for we may not make that extra effort which can change the course of life dramatically, for our benefit.

SubQuestion No : 22

Q.22 Select the word from the passage which means:

'The quality that allows someone to continue trying to do something even though it is difficult.'

- Ans
- A. Perseverance
 - B. Instantaneous
 - C. Patience
 - D. Painstaking

Question ID : 630680133614
Option 1 ID : 630680517404
Option 2 ID : 630680517405
Option 3 ID : 630680517402
Option 4 ID : 630680517403
Status : Not Answered
Chosen Option : --

Comprehension:

Read the given passage and answer the questions that follow.

In this jet age, everyone is interested in making easy money. Thanks to the advancement in science and technology, these days life has become easier and more comfortable than earlier with a lot of domestic gadgets as well as instantaneous food recipes available in the market. This has resulted in making the people develop a mindset to have anything immediately without waiting for, even at the traffic signals. The single most important factor that distinguishes those of us who succeed in any venture from those of us who don't, is this 'instant coffee' attitude. Most of us want results quickly. We want to reach the top immediately and get worked up when things go wrong. Perseverance and patience are forgotten words. We get upset, frustrated and angry when a skill or activity requires us to put in a lot of effort and time. We get dejected and want to give it up, things should be easy. Why should things take long? It is unfair. Life is too short and there is not enough time to do all the things we want to. We tend to compare with others and get upset when they seem to be doing well, dismissing God as being too kind to them and not to us. And so, we give up. But such thinking serves no purpose. For it doesn't solve the problem. Life is tough for those with the 'instant coffee' attitude. Success, real success, and happiness come to those who have a 'bread-making' attitude. Those who are willing to knead the dough, wait for hours for it to rise only to punch it down and knead some more, wait for another couple of hours for it to rise again, then bake it before it is ready to be eaten. Nothing is instantaneous. For every endeavour – whether in the area of career, academics, music, sports, relationship, physical fitness or even in spirituality – it is a long arduous journey. Only if we are willing to spend time, put in painstaking effort and have faith, can we get results. If we don't accept this difficult but true fact of life, our lives will be far from being happy and fulfilling, for we may not make that extra effort which can change the course of life dramatically, for our benefit.

SubQuestion No : 23

Q.23 Select the most appropriate tone of the passage

- Ans
- A. Moralising
 - B. Apologetic
 - C. Sarcastic
 - D. Humorous

Question ID : 630680133611
Option 1 ID : 630680517393
Option 2 ID : 630680517390
Option 3 ID : 630680517391
Option 4 ID : 630680517392
Status : Not Answered
Chosen Option : --

Comprehension:

Read the given passage and answer the questions that follow.

In this jet age, everyone is interested in making easy money. Thanks to the advancement in science and technology, these days life has become easier and more comfortable than earlier with a lot of domestic gadgets as well as instantaneous food recipes available in the market. This has resulted in making the people develop a mindset to have anything immediately without waiting for, even at the traffic signals. The single most important factor that distinguishes those of us who succeed in any venture from those of us who don't, is this 'instant coffee' attitude. Most of us want results quickly. We want to reach the top immediately and get worked up when things go wrong. Perseverance and patience are forgotten words. We get upset, frustrated and angry when a skill or activity requires us to put in a lot of effort and time. We get dejected and want to give it up, things should be easy. Why should things take long? It is unfair. Life is too short and there is not enough time to do all the things we want to. We tend to compare with others and get upset when they seem to be doing well, dismissing God as being too kind to them and not to us. And so, we give up. But such thinking serves no purpose. For it doesn't solve the problem. Life is tough for those with the 'instant coffee' attitude. Success, real success, and happiness come to those who have a 'bread-making' attitude. Those who are willing to knead the dough, wait for hours for it to rise only to punch it down and knead some more, wait for another couple of hours for it to rise again, then bake it before it is ready to be eaten. Nothing is instantaneous. For every endeavour – whether in the area of career, academics, music, sports, relationship, physical fitness or even in spirituality – it is a long arduous journey. Only if we are willing to spend time, put in painstaking effort and have faith, can we get results. If we don't accept this difficult but true fact of life, our lives will be far from being happy and fulfilling, for we may not make that extra effort which can change the course of life dramatically, for our benefit.

SubQuestion No : 24

Q.24 Select the most appropriate proverb depicting the central theme of the passage.

- Ans
- A. Rome wasn't built in a day
 - B. Time and tide wait for none
 - C. A stitch in time saves nine
 - D. The early bird catches the worm

Question ID : 630680133613
Option 1 ID : 630680517401
Option 2 ID : 630680517398
Option 3 ID : 630680517400
Option 4 ID : 630680517399
Status : Not Answered
Chosen Option : --

Comprehension:

Read the given passage and answer the questions that follow.

In this jet age, everyone is interested in making easy money. Thanks to the advancement in science and technology, these days life has become easier and more comfortable than earlier with a lot domestic gadgets as well as instantaneous food recipes available in the market. This has resulted in making the people develop a mindset to have anything immediately without waiting for, even at the traffic signals. The single most important factor that distinguishes those of us who succeed in any venture from those of us who don't, is this 'instant coffee' attitude. Most of us want results quickly. We want to reach the top immediately and get worked up when things go wrong. Perseverance and patience are forgotten words. We get upset, frustrated and angry when a skill or activity requires us to put in a lot of effort and time. We get dejected and want to give it up, things should be easy. Why should things take long? It is unfair. Life is too short and there is not enough time to do all the things we want to. We tend to compare with others and get upset when they seem to be doing well, dismissing God as being too kind to them and not to us. And so, we give up. But such thinking serves no purpose. For it doesn't solve the problem. Life is tough for those with the 'instant coffee' attitude. Success, real success, and happiness come to those who have a 'bread-making' attitude. Those who are willing to knead the dough, wait for hours for it to rise only to punch it down and knead some more, wait for another couple of hours for it to rise again, then bake it before it is ready to be eaten. Nothing is instantaneous. For every endeavour – whether in the area of career, academics, music, sports, relationship, physical fitness or even in spirituality – it is a long arduous journey. Only if we are willing to spend time, put in painstaking effort and have faith, can we get results. If we don't accept this difficult but true fact of life, our lives will be far from being happy and fulfilling, for we may not make that extra effort which can change the course of life dramatically, for our benefit.

SubQuestion No : 25

Q.25 The "instant coffee" attitude wants:

- Ans A. a lot of effort and time
 B. comparison with others
 C. to save time
 D. quick results

Question ID : 630680133612
 Option 1 ID : 630680517394
 Option 2 ID : 630680517396
 Option 3 ID : 630680517397
 Option 4 ID : 630680517395
 Status : Not Answered
 Chosen Option : --

Section : Hindi

Q.1 निम्नलिखित शब्द का पर्यायवाची बताएं।
रत

- Ans A. जागना
 B. लीन
 C. रात
 D. रस

Question ID : 630680197183
 Option 1 ID : 630680765016
 Option 2 ID : 630680765015
 Option 3 ID : 630680765017
 Option 4 ID : 630680765018
 Status : Answered
 Chosen Option : B

Q.2 _____ संवाददाता ने यह सूचना दी है। रिक्त स्थान के लिए सर्वनाम का उचित विकल्प है-

- Ans A. आप
 B. हम
 C. हमारे
 D. मैं

Question ID : 63068064537
 Option 1 ID : 630680249116
 Option 2 ID : 630680249114
 Option 3 ID : 630680249115
 Option 4 ID : 630680249117
 Status : Answered
 Chosen Option : C

Q.3 यह अशोक कितना हरा भरा है। रेखांकित शब्द का उचित अर्थ चुनिए-

- Ans A. एक वृक्ष
 B. शोक रहित
 C. राजा
 D. नाम

Question ID : 630680203657
 Option 1 ID : 630680789827
 Option 2 ID : 630680789828
 Option 3 ID : 630680789829
 Option 4 ID : 630680789830
 Status : Answered
 Chosen Option : A

Q.4 निम्नलिखित लोकोक्ति को ध्यानपूर्वक पढ़ें और बताएं कि कौनसा विकल्प लोकोक्ति के उचित अर्थ को प्रस्तुत कर रहा है?
 अपना रख पराया चख

- Ans A. अपरिचित के हाथ से कुछ नहीं खाना चाहिए।
 B. केवल घर का खाना खाना चाहिए।
 C. अपना खाना खाना चाहिए।
 D. निजी वस्तु की रक्षा एवं अन्य की वस्तु का उपभोग

Question ID : 630680203677
 Option 1 ID : 630680789910
 Option 2 ID : 630680789909
 Option 3 ID : 630680789908
 Option 4 ID : 630680789907
 Status : Answered
 Chosen Option : D

Q.5 'चतुर्वेद' शब्द का सही समास-विग्रह नीचे दिए विकल्पों में से चुनिए।

- Ans A. चार वेद
 B. चार वेदों का समाहार
 C. चार वेदों का
 D. चार वेद वाला

Question ID : 63068071834
 Option 1 ID : 630680277806
 Option 2 ID : 630680277809
 Option 3 ID : 630680277808
 Option 4 ID : 630680277807
 Status : Answered
 Chosen Option : B

Q.6 दिए गए वाक्यांश के लिए सार्थक शब्द का चयन कीजिए-

गिरा हुआ

- Ans A. पत्य
 B. गिरिजा
 C. पतित
 D. पतनीय

Question ID : 630680128694
Option 1 ID : 630680498414
Option 2 ID : 630680498417
Option 3 ID : 630680498415
Option 4 ID : 630680498416
Status : Answered
Chosen Option : C

Q.7 किस विकल्प में संधि विच्छेद अनुचित है ?

- Ans A. परम + अर्थ = परमार्थ
 B. देवी + इच्छा = देवीच्छा
 C. देव + आगम = देव्यागम
 D. विद्या + अभ्यास = विद्याभ्यास

Question ID : 63068064547
Option 1 ID : 630680249156
Option 2 ID : 630680249155
Option 3 ID : 630680249157
Option 4 ID : 630680249154
Status : Answered
Chosen Option : C

Q.8 निम्नलिखित में से कौन-सा एक शब्द 'घातुधान' का पर्यायवाची नहीं है?

- Ans A. दैत्य
 B. निशाचर
 C. दनुज
 D. अतुल

Question ID : 630680197095
Option 1 ID : 630680764664
Option 2 ID : 630680764663
Option 3 ID : 630680764665
Option 4 ID : 630680764666
Status : Answered
Chosen Option : D

Q.9 निम्नलिखित विकल्पों को ध्यानपूर्वक देखें और बताएं कि कौनसा विकल्प 'घन' शब्द का अर्थ प्रस्तुत नहीं करता।

- Ans A. तीन मित्र
 B. तीन का घात
 C. बादल
 D. बड़ा हथौड़ा

Question ID : 630680203669
 Option 1 ID : 630680789878
 Option 2 ID : 630680789877
 Option 3 ID : 630680789875
 Option 4 ID : 630680789876
 Status : Answered
 Chosen Option : A

Q.10 सर्वनाम की दृष्टि से अशुद्ध वाक्य है-

- Ans A. तुम क्या खा रहे हो?
 B. तुम कहाँ जा रहे हो?
 C. वह लोग आ गए।
 D. मैं पढ़ रहा हूँ।

Question ID : 63068064507
 Option 1 ID : 630680249002
 Option 2 ID : 630680249003
 Option 3 ID : 630680249004
 Option 4 ID : 630680249005
 Status : Answered
 Chosen Option : C

Q.11 निम्नलिखित में से किस विकल्प में सन्धि-विच्छेद और शब्द अपने शुद्ध रूप में है?

- Ans A. उत् + थान = उत्थान
 B. उत् + थान = उत्थान
 C. उत् + स्थान = उत्थान
 D. उत् + स्थान = उत्स्थान

Question ID : 63068062347
 Option 1 ID : 630680240637
 Option 2 ID : 630680240636
 Option 3 ID : 630680240635
 Option 4 ID : 630680240634
 Status : Answered
 Chosen Option : A

Q.12 उचित तद्भव शब्द का चयन कर निम्नलिखित वाक्य को पूर्ण करें।
 पंचत्रिंशत् का तद्भव होगा _____

- Ans A. पच्चीस
 B. पाँच सौ
 C. पाँच सौ तीस
 D. पैंतीस

Question ID : 630680197174
 Option 1 ID : 630680764981
 Option 2 ID : 630680764980
 Option 3 ID : 630680764979
 Option 4 ID : 630680764982
 Status : Answered
 Chosen Option : C

Q.13 'जतू' का अर्थ है गोंद। इसका श्रुतिभिन्नार्थक शब्द 'जतू' है। आप इसके अर्थ से वाक्य पूर्ण कीजिए।
पुरी जगन्नाथ मंदिर में एक द्वार में _____ बहुत रहते हैं।

- Ans
- A. चमेली
 - B. दौलत
 - C. चिड़िया
 - D. चमगादड़

Question ID : 630680198507
Option 1 ID : 630680769988
Option 2 ID : 630680769987
Option 3 ID : 630680769989
Option 4 ID : 630680769990
Status : Answered
Chosen Option : D

Q.14 उचित तद्भव शब्द का चयन कर निम्नलिखित वाक्य को पूर्ण करें।
कालू के घर में लक्ष्मी का _____ नहीं होगा। दोनों में बनती नहीं है।

- Ans
- A. आगमन
 - B. व्यतीत
 - C. निर्वाह
 - D. निबाह

Question ID : 630680197173
Option 1 ID : 630680764978
Option 2 ID : 630680764977
Option 3 ID : 630680764976
Option 4 ID : 630680764975
Status : Answered
Chosen Option : A

Q.15 'अनुरोध' का पर्यायवाची शब्द निम्न में से है-

- Ans
- A. यातना
 - B. याचित
 - C. याचना
 - D. याजन

Question ID : 630680126201
Option 1 ID : 630680489411
Option 2 ID : 630680489412
Option 3 ID : 630680489410
Option 4 ID : 630680489413
Status : Answered
Chosen Option : C

Q.16 निम्नलिखित में से कोई एक विकल्प सही है। सही विकल्प का चयन करें।

- Ans
- A. चवत्री, पसेरी, चौराहा द्विगु समास है।
 - B. चवत्री, पसेरी, दशमुख द्विगु समास है।
 - C. चवत्री, पसेरी, चतुरानन द्विगु समास है।
 - D. चवत्री, पसेरी, सहस्रानन द्विगु समास है।

Question ID : 630680112852
Option 1 ID : 630680437044
Option 2 ID : 630680437042
Option 3 ID : 630680437045
Option 4 ID : 630680437043
Status : Answered
Chosen Option : C

Q.17 निम्नलिखित में से कौन सा एक 'मुहावरे' से सम्बंधित शब्द-युग्म अशुद्ध है?

- Ans
- A. रास्ते पर लाना-सुधार देना
 - B. शैतान की आँख-अच्छा रास्ता
 - C. हथियार डाल देना-हार मान लेना
 - D. शान में बट्टा लगाना-महत्त्व कम होना

Question ID : 630680197106
 Option 1 ID : 630680764707
 Option 2 ID : 630680764710
 Option 3 ID : 630680764709
 Option 4 ID : 630680764708
 Status : Answered
 Chosen Option : B

Q.18 निम्नलिखित विकल्पों को ध्यानपूर्वक देखें और बताएं कि कौनसा विकल्प 'जड़' शब्द का अर्थ प्रस्तुत नहीं करता।

- Ans
- A. मूल
 - B. विदुर
 - C. अचेतन
 - D. मूर्ख

Question ID : 630680203670
 Option 1 ID : 630680789880
 Option 2 ID : 630680789882
 Option 3 ID : 630680789879
 Option 4 ID : 630680789881
 Status : Answered
 Chosen Option : D

Q.19 निम्नलिखित वाक्यांश हेतु सार्थक शब्द की पहचान करें।
जिसे किसी बात की जानकारी न हो

- Ans
- A. बधिर
 - B. अनपढ़
 - C. अखिल
 - D. अनभिज्ञ

Question ID : 630680203706
 Option 1 ID : 630680790025
 Option 2 ID : 630680790026
 Option 3 ID : 630680790024
 Option 4 ID : 630680790023
 Status : Answered
 Chosen Option : D

Q.20 '(i) इस लोकतंत्र में/ (ii) जिन्होंने सलाखों के पीछे होना चाहिए/ (iii) वे गद्दी पर बैठे हैं' वाक्य के जिस खंड में त्रुटि है उसका विकल्प चुनिए अन्यथा 'कोई त्रुटि नहीं' विकल्प चुनिए-

- Ans
- A. ii
 - B. iii
 - C. i
 - D. कोई त्रुटि नहीं

Question ID : 63068065367
 Option 1 ID : 630680252423
 Option 2 ID : 630680252424
 Option 3 ID : 630680252422
 Option 4 ID : 630680252425
 Status : Answered
 Chosen Option : A

Comprehension:

निम्नलिखित गद्यांश को ध्यानपूर्वक पढ़ें और प्रश्न के उत्तर दीजिये:

आकाश के तारों में शुक का कोई जोड़ नहीं। शुक चंद्र का साथी माना गया है। उसकी आभा-प्रभा का वर्णन करने में संसार के कवि थके नहीं। फिर भी नक्षत्र मंडल में कलागी-रूप इस तेजस्वी तारे को दुनिया या तो ऐन शाम के समय, बड़े सवेरे घंटे-दो घंटे से अधिक देख नहीं पाती। इसी तरह भाई महादेव जी आधुनिक भारत की स्वतंत्रता के उषाकाल में अपनी वैसी ही आभा से हमारे आकाश को जगमगाकर, देश और दुनिया को मुग्ध करके, शुक तारे की तरह ही अचानक अस्त हो गए। सेवधर्म का पालन करने के लिए इस धरती पर जनमे स्वर्गीय महादेव देसाई गांधीजी के मंत्री थे। मित्रों के बीच विनोद में अपने को गांधीजी का 'हम्माल' कहने में और कभी-कभी अपना परिचय उनके 'पीर-बावर्ची-भिश्ती-खर' के रूप में देने में वे गौरव का अनुभव किया करते थे।

SubQuestion No : 21

Q.21 शुक को किसका साथी माना गया है?

- Ans A. चंद्र का
 B. तारों का
 C. नक्षत्र का
 D. आकाश का

Question ID : 630680126522
 Option 1 ID : 630680490654
 Option 2 ID : 630680490655
 Option 3 ID : 630680490657
 Option 4 ID : 630680490656
 Status : Answered
 Chosen Option : A

Comprehension:

निम्नलिखित गद्यांश को ध्यानपूर्वक पढ़ें और प्रश्न के उत्तर दीजिये:

आकाश के तारों में शुक का कोई जोड़ नहीं। शुक चंद्र का साथी माना गया है। उसकी आभा-प्रभा का वर्णन करने में संसार के कवि थके नहीं। फिर भी नक्षत्र मंडल में कलागी-रूप इस तेजस्वी तारे को दुनिया या तो ऐन शाम के समय, बड़े सवेरे घंटे-दो घंटे से अधिक देख नहीं पाती। इसी तरह भाई महादेव जी आधुनिक भारत की स्वतंत्रता के उषाकाल में अपनी वैसी ही आभा से हमारे आकाश को जगमगाकर, देश और दुनिया को मुग्ध करके, शुक तारे की तरह ही अचानक अस्त हो गए। सेवधर्म का पालन करने के लिए इस धरती पर जनमे स्वर्गीय महादेव देसाई गांधीजी के मंत्री थे। मित्रों के बीच विनोद में अपने को गांधीजी का 'हम्माल' कहने में और कभी-कभी अपना परिचय उनके 'पीर-बावर्ची-भिश्ती-खर' के रूप में देने में वे गौरव का अनुभव किया करते थे।

SubQuestion No : 22

Q.22 देश और दुनिया को मुग्ध करके का भाव है-

- Ans A. सभी को भूल जाना
 B. सभी का प्यार पाना
 C. सभी को परेशान करना
 D. सभी को गुस्सा दिलाना

Question ID : 630680126524
 Option 1 ID : 630680490663
 Option 2 ID : 630680490664
 Option 3 ID : 630680490665
 Option 4 ID : 630680490662
 Status : Answered
 Chosen Option : A

Comprehension:

निम्नलिखित गद्यांश को ध्यानपूर्वक पढ़ें और प्रश्न के उत्तर दीजिये:

आकाश के तारों में शुक्र का कोई जोड़ नहीं। शुक्र चंद्र का साथी माना गया है। उसकी आभा-प्रभा का वर्णन करने में संसार के कवि थके नहीं। फिर भी नक्षत्र मंडल में कलागी-रूप इस तेजस्वी तारे को दुनिया या तो ऐन शाम के समय, बड़े सवेरे घंटे-दो घंटे से अधिक देख नहीं पाती। इसी तरह भाई महादेव जी आधुनिक भारत की स्वतंत्रता के उषाकाल में अपनी वैसी ही आभा से हमारे आकाश को जगमगाकर, देश और दुनिया को मुग्ध करके, शुक्र तारे की तरह ही अचानक अस्त हो गए। सेवधर्म का पालन करने के लिए इस धरती पर जनमे स्वर्गीय महादेव देसाई गांधीजी के मंत्री थे। मित्रों के बीच विनोद में अपने को गांधीजी का 'हम्माल' कहने में और कभी-कभी अपना परिचय उनके 'पीर-बावर्ची-भिश्ती-खर' के रूप में देने में वे गौरव का अनुभव किया करते थे।

SubQuestion No : 23

Q.23 हम बड़े सवेरे घंटे-दो घंटे से अधिक किसे नहीं देख पाते हैं?

- Ans A. सामान्य तारे को
 B. शुक्र तारे को
 C. आकाश को
 D. चाँद को

Question ID : 630680126523
 Option 1 ID : 630680490658
 Option 2 ID : 630680490659
 Option 3 ID : 630680490660
 Option 4 ID : 630680490661
 Status : Answered
 Chosen Option : A

Comprehension:

निम्नलिखित गद्यांश को ध्यानपूर्वक पढ़ें और प्रश्न के उत्तर दीजिये:

आकाश के तारों में शुक्र का कोई जोड़ नहीं। शुक्र चंद्र का साथी माना गया है। उसकी आभा-प्रभा का वर्णन करने में संसार के कवि थके नहीं। फिर भी नक्षत्र मंडल में कलागी-रूप इस तेजस्वी तारे को दुनिया या तो ऐन शाम के समय, बड़े सवेरे घंटे-दो घंटे से अधिक देख नहीं पाती। इसी तरह भाई महादेव जी आधुनिक भारत की स्वतंत्रता के उषाकाल में अपनी वैसी ही आभा से हमारे आकाश को जगमगाकर, देश और दुनिया को मुग्ध करके, शुक्र तारे की तरह ही अचानक अस्त हो गए। सेवधर्म का पालन करने के लिए इस धरती पर जनमे स्वर्गीय महादेव देसाई गांधीजी के मंत्री थे। मित्रों के बीच विनोद में अपने को गांधीजी का 'हम्माल' कहने में और कभी-कभी अपना परिचय उनके 'पीर-बावर्ची-भिश्ती-खर' के रूप में देने में वे गौरव का अनुभव किया करते थे।

SubQuestion No : 24

Q.24 'गौरव' का पर्यायवाची शब्द है-

- Ans A. स्वाभिमान
 B. वीरता
 C. उच्च
 D. सफेद

Question ID : 630680126526
 Option 1 ID : 630680490670
 Option 2 ID : 630680490673
 Option 3 ID : 630680490672
 Option 4 ID : 630680490671
 Status : Answered
 Chosen Option : A

Comprehension:

निम्नलिखित गद्यांश को ध्यानपूर्वक पढ़ें और प्रश्न के उत्तर दीजिये:

आकाश के तारों में शुक्र का कोई जोड़ नहीं। शुक्र चंद्र का साथी माना गया है। उसकी आभा-प्रभा का वर्णन करने में संसार के कवि थके नहीं। फिर भी नक्षत्र मंडल में कलागी-रूप इस तेजस्वी तारे को दुनिया या तो ऐन शाम के समय, बड़े सवेरे घंटे-दो घंटे से अधिक देख नहीं पाती। इसी तरह भाई महादेव जी आधुनिक भारत की स्वतंत्रता के उषाकाल में अपनी वैसी ही आभा से हमारे आकाश को जगमगाकर, देश और दुनिया को मुग्ध करके, शुक्र तारे की तरह ही अचानक अस्त हो गए। सेवाधर्म का पालन करने के लिए इस धरती पर जनमे स्वर्गीय महादेव देसाई गांधीजी के मंत्री थे। मित्रों के बीच विनोद में अपने को गांधीजी का 'हम्माल' कहने में और कभी-कभी अपना परिचय उनके 'पीर-बावर्ची-भिश्ती-खर' के रूप में देने में वे गौरव का अनुभव किया करते थे।

SubQuestion No : 25

Q.25 महादेव देसाई का जन्म किस धर्म का पालन करने के लिए हुआ?

- Ans A. सेवा धर्म
 B. दान धर्म
 C. मित्र धर्म
 D. राज धर्म

Question ID : 630680126525
Option 1 ID : 630680490669
Option 2 ID : 630680490667
Option 3 ID : 630680490668
Option 4 ID : 630680490666
Status : Answered
Chosen Option : A