

CRPF Constable

**Previous Year Paper
Technical Tradesman
04 July, 2023 Shift 2**

Adda247

Adda247

Test Prime

ALL EXAMS, ONE SUBSCRIPTION



1,00,000+
Mock Tests



**Personalised
Report Card**



**Unlimited
Re-Attempt**



600+
Exam Covered



25,000+ Previous
Year Papers



500%
Refund



ATTEMPT FREE MOCK NOW





CRPF Technical Tradesman 1st to 12th July 2023

Participant ID	
Participant Name	
Test Center Name	
Test Date	04/07/2023
Test Time	12:30 PM - 2:30 PM
Subject	Constable Water Carrier

Section : General Intelligence and Reasoning

Q.1 चार आकृतियां दी गई हैं, जिनमें से तीन किसी न किसी रूप में एकसमान हैं और एक उनसे असंगत है। उस असंगत आकृति का चयन करें।

Ans

- A. 
- B. 
- C. 
- D. 

Question ID : 63068058844
Option 1 ID : 630680226999
Option 2 ID : 630680227000
Option 3 ID : 630680227001
Option 4 ID : 630680226998
Status : Answered
Chosen Option : B

Q.2 दी गई आकृति के सही दर्पण प्रतिबिंब का चयन करें, जब दर्पण को MN पर रखा जाता है जैसा कि नीचे दिखाया गया है।

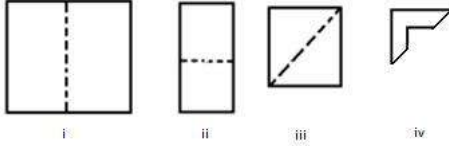
EMP79mn

M
|
N

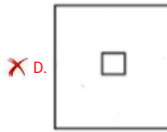
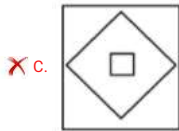
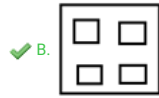
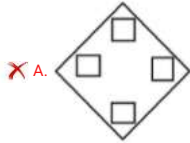
- Ans
- A. nm979EM
 - B. nm979M3
 - C. nm109M3
 - D. nm979M3

Question ID : 630680162243
 Option 1 ID : 630680628278
 Option 2 ID : 630680628279
 Option 3 ID : 630680628277
 Option 4 ID : 630680628276
 Status : Answered
 Chosen Option : D

Q.3 कागज के एक टुकड़े को मोड़ने का क्रम (आकृति i, ii और iii) और जिस तरीके से मुड़े हुए कागज को काटा जाता है (आकृति iv) निम्नलिखित आकृतियों में दिखाया गया है। खोलने पर यह कागज कैसा दिखेगा?



Ans



Question ID : 630680113696

Option 1 ID : 630680440320

Option 2 ID : 630680440321

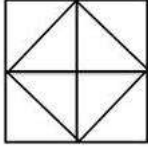
Option 3 ID : 630680440318

Option 4 ID : 630680440319

Status : Answered

Chosen Option : B

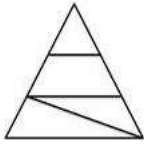
Q.4 दी गई आकृति में कितने वर्ग हैं?



- Ans
- A. 8
 - B. 6
 - C. 5
 - D. 7

Question ID : 63068049474
Option 1 ID : 630680190329
Option 2 ID : 630680190327
Option 3 ID : 630680190326
Option 4 ID : 630680190328
Status : Answered
Chosen Option : B

Q.5 दी गई आकृति में कितने त्रिभुज हैं?



- Ans
- A. 8
 - B. 5
 - C. 6
 - D. 4

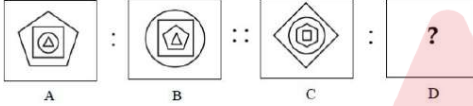
Question ID : 63068075416
Option 1 ID : 630680291818
Option 2 ID : 630680291815
Option 3 ID : 630680291817
Option 4 ID : 630680291816
Status : Answered
Chosen Option : B

Q.6 शुभ बिंदु Z से पश्चिम की ओर 15 मीटर चलता है। फिर वह बाएं मुड़ता है और 20 मीटर चलता है। फिर वह अपने दाएं मुड़ता है और 100 मीटर चलता है। वह फिर से अपने दाएं मुड़ता है और बिंदु A पर पहुंचने के लिए और 50 मीटर चलता है। वह बिंदु Z से किस दिशा में है?

- Ans
- A. दक्षिण - पूर्व
 - B. दक्षिण - पश्चिम
 - C. उत्तर - पश्चिम
 - D. उत्तर- पूर्व

Question ID : 63068058764
 Option 1 ID : 630680226681
 Option 2 ID : 630680226678
 Option 3 ID : 630680226679
 Option 4 ID : 630680226680
 Status : Answered
 Chosen Option : C

Q.7 उस विकल्प का चयन करें जो तीसरी आकृति से उसी प्रकार संबंधित है जैसे दूसरी आकृति पहली आकृति से संबंधित है।

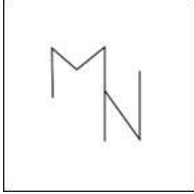


Ans

- A.
- B.
- C.
- D.


Question ID : 63068058835
 Option 1 ID : 630680226962
 Option 2 ID : 630680226963
 Option 3 ID : 630680226965
 Option 4 ID : 630680226964
 Status : Answered
 Chosen Option : D

Q.8 उस विकल्प का चयन कीजिए जिसमें दी गई आकृति सन्निहित है (छुमाने की अनुमति नहीं है)।




Ans

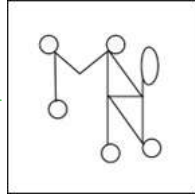
✗ A.



✗ B.



✓ C.



✗ D.



Question ID : 630680177272
 Option 1 ID : 630680687266
 Option 2 ID : 630680687267
 Option 3 ID : 630680687264
 Option 4 ID : 630680687265
 Status : Answered
 Chosen Option : C


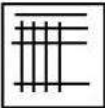


Q.9 दशमलव के तीसरे स्थान तक पूर्णांक में लिखी गई संख्या 4.14094 _____ है।

- Ans
- A. 4.150
 - B. 4.140
 - C. 4.141
 - D. 4.149

Question ID : 630680109112
Option 1 ID : 630680423267
Option 2 ID : 630680423264
Option 3 ID : 630680423265
Option 4 ID : 630680423266
Status : Answered
Chosen Option : B

Q.10 चार आकृतियां दी गई हैं, जिनमें से तीन किसी न किसी रूप में एकसमान हैं और एक उनसे असंगत है। उस असंगत आकृति का चयन करें।

Ans

- A. 
- B. 
- C. 
- D. 

Question ID : 63068058854
Option 1 ID : 630680227040
Option 2 ID : 630680227038
Option 3 ID : 630680227039
Option 4 ID : 630680227041
Status : Answered
Chosen Option : D

Q.11 चारु उत्तर दिशा की ओर अभिमुख है। वह 3 m चलती है, बाएं मुड़ती है और 7 m चलती है। वह फिर से बाएं मुड़ती है और 7 m चलती है। वह फिर से बाएं मुड़ती है और 4 m चलती है। अंत में, वह बाएं मुड़ती है और 4 m चलती है। चारु अब किस दिशा की ओर अभिमुख है?

- Ans A. पूर्व
 B. दक्षिण
 C. पश्चिम
 D. उत्तर

Question ID : 63068051792
 Option 1 ID : 630680199341
 Option 2 ID : 630680199338
 Option 3 ID : 630680199340
 Option 4 ID : 630680199339
 Status : Answered
 Chosen Option : D

Q.12 T के दो पुत्र A और B हैं। A का विवाह M से हुआ है। M, Q की माँ है। N, T की पुत्रवधू है। S, T की सास है। निम्नलिखित में से कौन B की पत्नी है?

- Ans A. T
 B. Q
 C. N
 D. S

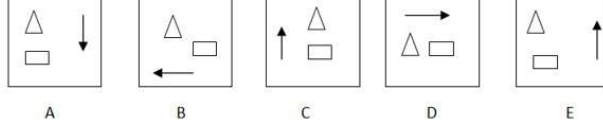
Question ID : 630680106067
 Option 1 ID : 630680412168
 Option 2 ID : 630680412169
 Option 3 ID : 630680412167
 Option 4 ID : 630680412170
 Status : Answered
 Chosen Option : C

Q.13 सोहित दक्षिण की ओर 10 किमी दौड़ता है। वह दाएं मुड़ता है और 20 किमी दौड़ता है। वह फिर से दाएं मुड़ता है और 10 किमी दौड़ता है। अंत में, वह दाईं ओर मुड़कर 10 किमी दौड़ता है। वह प्रारंभिक स्थान से कितनी दूर है?

- Ans A. 20 किमी
 B. 6 किमी
 C. 10 किमी
 D. 5 किमी

Question ID : 63068051820
 Option 1 ID : 630680199452
 Option 2 ID : 630680199451
 Option 3 ID : 630680199450
 Option 4 ID : 630680199453
 Status : Answered
 Chosen Option : C

Q.14 निम्नलिखित पांच आकृतियों में से चार एक निश्चित तरीके से समान हैं और इस प्रकार एक समूह बनाती हैं। उस आकृति का चयन करें जो उस समूह से संबंधित नहीं है।

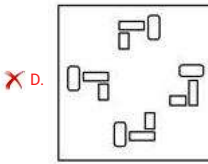
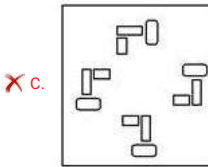
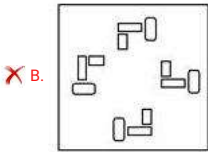
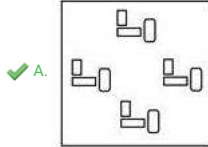


Ans A, E
 B, A
 C, C
 D, D

Question ID : 63068083902
 Option 1 ID : 630680325200
 Option 2 ID : 630680325201
 Option 3 ID : 630680325202
 Option 4 ID : 630680325203
 Status : Answered
 Chosen Option : A

Q.15 चार आकृतियां दी गई हैं, जिनमें से तीन किसी न किसी रूप में एकसमान हैं और एक उनसे असंगत है। उस असंगत आकृति का चयन करें।

Ans



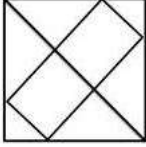
Question ID : 63068058846
Option 1 ID : 630680227006
Option 2 ID : 630680227007
Option 3 ID : 630680227009
Option 4 ID : 630680227008
Status : Answered
Chosen Option : A

Q.16 P, Q के पिता है। R, Y की माता है। P और R सहोदर हैं। S, R की माता है। T, S के पिता है। T का P से क्या संबंध है?

- Ans
- ✗ A. पिता
 - ✓ B. नाना
 - ✗ C. दादा
 - ✗ D. चाचा

Question ID : 630680105760
Option 1 ID : 630680411045
Option 2 ID : 630680411046
Option 3 ID : 630680411044
Option 4 ID : 630680411043
Status : Answered
Chosen Option : B

Q.17 दी गई आकृति में कितने त्रिभुज हैं?



- Ans
- A. 8
 - B. 4
 - C. 10
 - D. 12

Question ID : 63068049470
 Option 1 ID : 630680190311
 Option 2 ID : 630680190310
 Option 3 ID : 630680190312
 Option 4 ID : 630680190313
 Status : Answered
 Chosen Option : C

Q.18 विकल्पों में से गणितीय चिन्हों के उस सही संयोजन का चयन कीजिए जिसमें उल्लेखित चिह्नों को क्रमिक रूप से प्रतिस्थापित कर सकते हैं और दिए गए समीकरण को संतुलित कर सकते हैं।
 $42 \div 6 \div 4 \div 50 \div 22$

- Ans
- A. $\times, =, -, \div$
 - B. $\times, \div, =, -$
 - C. $\div, \times, =, \times$
 - D. $\div, \times, =, -$

Question ID : 630680105085
 Option 1 ID : 630680408451
 Option 2 ID : 630680408453
 Option 3 ID : 630680408454
 Option 4 ID : 630680408452
 Status : Answered
 Chosen Option : D

Q.19 हर्षजा एक मंदिर से चलना प्रारंभ करती है और दक्षिण की ओर 40 किमी चलती है। फिर वह दायें मुड़ती है और 20 किमी चलती है, फिर से दायें मुड़ती है और 40 किमी चलती है और फिर बायें मुड़ती है और 40 किमी चलती है। हर्षजा को सीधे मंदिर तक पहुँचने के लिए कितने किलोमीटर चलना होगा?

- Ans
- A. 60 किमी
 - B. 10 किमी
 - C. 20 किमी
 - D. 40 किमी

Question ID : 63068062299
 Option 1 ID : 630680240443
 Option 2 ID : 630680240445
 Option 3 ID : 630680240444
 Option 4 ID : 630680240442
 Status : Answered
 Chosen Option : A

Q.20 पांच आकृतियां दी गयी हैं, जिनमें से चार किसी न किसी रूप में एक समान हैं और एक भिन्न है। भिन्न आकृति का चयन करें।

B	⊞	>	∨	⊞	d	∠	∩	∩	∩
⊞	⊞	∧	<	D	⊞	∪	>	∩	∩
A	B	C	D	E					

- Ans
- A. D
 - B. B
 - C. C
 - D. A


Question ID : 63068011484
 Option 1 ID : 630680431733
 Option 2 ID : 630680431731
 Option 3 ID : 630680431732
 Option 4 ID : 630680431730
 Status : Answered
 Chosen Option : A

Q.21 श्वेता और रिंकी जुड़वां बहने हैं। श्वेता का भाई राघव है। अनन्या राघव की पत्नी हैं। रिंकी की मां मृदुला हैं। श्वेता के पति अर्णव हैं। अर्णव की बेटी रिया है। राघव रिया से कैसे संबंधित है?


- Ans
- A. मामा
 - B. पिता
 - C. भाई
 - D. बेटा

Question ID : 630680139510
 Option 1 ID : 630680540108
 Option 2 ID : 630680540107
 Option 3 ID : 630680540106
 Option 4 ID : 630680540109
 Status : Answered
 Chosen Option : A


Q.22 आकृति A एक निश्चित पैटर्न में आकृति B से संबंधित है। उसी पैटर्न का अनुसरण करते हुए, आकृति C आकृति D से संबंधित है। पैटर्न का अध्ययन करें और उस आकृति का चयन करें जो आकृति D के लिए प्रश्न चिह्न (?) को प्रतिस्थापित कर सकती है।



A



B





C


?


D

Ans

✗
A.


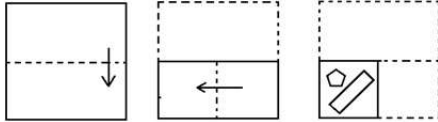
✓
B.


✗
C.


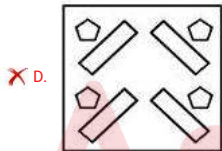
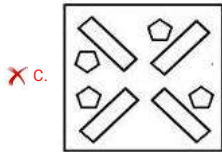
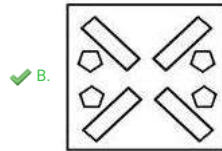
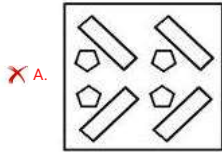
✗
D.


Question ID : 63068062230
 Option 1 ID : 630680240216
 Option 2 ID : 630680240214
 Option 3 ID : 630680240217
 Option 4 ID : 630680240215
 Status : Answered
 Chosen Option : B

Q.23 नीचे दी गई आकृतियों में कागज़ के एक टुकड़े को मोड़ने का क्रम और उसे काटने का तरीका दर्शाया गया है। खोले जाने पर यह कागज़ कैसा दिखेगा?



Ans



Question ID : 63068063316
 Option 1 ID : 630680244430
 Option 2 ID : 630680244431
 Option 3 ID : 630680244432
 Option 4 ID : 630680244433
 Status : Answered
 Chosen Option : B

Q.24 V, E के पश्चिम में 5 km की दूरी पर खड़ा है। Z, V के दक्षिण में 10 km की दूरी पर खड़ा है। A, E के दक्षिण में 10 km की दूरी पर खड़ा है। I, V के पूर्व में 20 km की दूरी पर है। Q, A के उत्तर में 15 km की दूरी पर है। K, V के उत्तर में 5 km की दूरी पर है। L, K के पूर्व में 20 km की दूरी पर है। S, L के दक्षिण में 15 km की दूरी पर है। A और S के बीच की दूरी क्या है और S, A से किस दिशा में है?

- Ans
- A. 10km; पश्चिम
 - B. 15km; पूर्व
 - C. 10km; पूर्व
 - D. 15km; पश्चिम

Question ID : 630680104928
Option 1 ID : 630680407845
Option 2 ID : 630680407846
Option 3 ID : 630680407843
Option 4 ID : 630680407844
Status : Answered
Chosen Option : B

Q.25 जब दर्पण को MN पर रखा जाता है तो दी गई आकृति के सही दर्पण प्रतिबिंब का चयन कीजिए।



- Ans
- A. J ə d ɛ ɜ ʔ b
 - B. J ə q ɛ ɜ ʔ p
 - C. ɾ ə d 3 ɜ ʔ F b
 - D. ɾ ə p ɛ ɜ ʔ b

Question ID : 630680176004
Option 1 ID : 630680682265
Option 2 ID : 630680682264
Option 3 ID : 630680682266
Option 4 ID : 630680682267
Status : Answered
Chosen Option : D

Section : General Knowledge and General Awareness

Q.1 किस हड़प्पा स्थल से जुते हुए खेत, टेराकोटा की गाड़ी, प्रतीकात्मक कल और अग्नि वेदी के प्रमाण मिले हैं?

- Ans
- A. कालीबंगा
 - B. लोधल
 - C. राखीगढ़ी
 - D. बनावली

Question ID : 630680213922
Option 1 ID : 630680829735
Option 2 ID : 630680829738
Option 3 ID : 630680829737
Option 4 ID : 630680829736
Status : Answered
Chosen Option : B

Q.2 बैरन द्वीप निम्नलिखित में से किसका हिस्सा है?

- Ans
- A. श्रीहरिकोटा द्वीप
 - B. दमन द्वीप
 - C. अंडमान और निकोबार द्वीप समूह
 - D. लक्षद्वीप द्वीप समूह

Question ID : 63068090220
 Option 1 ID : 630680349657
 Option 2 ID : 630680349656
 Option 3 ID : 630680349655
 Option 4 ID : 630680349654
 Status : Answered
 Chosen Option : C

Q.3 निम्नलिखित में से किसे सुल्तान नसीरुद्दीन महमूद का प्रथम नायब नियुक्त किया गया था?

- Ans
- A. बलबन
 - B. मसूद शाह
 - C. बेहराम शाह
 - D. मलिक जमासुद्दीन याकूत

Question ID : 630680213980
 Option 1 ID : 630680829970
 Option 2 ID : 630680829968
 Option 3 ID : 630680829967
 Option 4 ID : 630680829969
 Status : Answered
 Chosen Option : A

Q.4 मोहन लिमिटेड ने रेफ्रिजरेटर बनाने का व्यवसाय शुरू किया। व्यापार के दौरान, उन्होंने अच्छे और उदास दोनों दिन देखे। व्यवसाय के दौरान, वह व्यवसाय के तीन चरणों से गुजरे जिसमें बढ़ते, स्थिर और घटते पैमाने पर प्रतिलाभ शामिल हैं। पैमाने के विभिन्न प्रतिलाभों के संबंध में निम्नलिखित में से कौन-सा/से कथन सही है/हैं?

1. पैमाने के घटते प्रतिलाभकी स्थिति में, कुल उत्पाद निविष्टियों में वृद्धि की दर से अधिक तेजी से बढ़ता है।
2. पैमाने के बढ़ते प्रतिलाभ की स्थिति में, कुल उत्पाद में वृद्धि की दर निविष्टियों में वृद्धि की दर से अधिक होती है।
3. पैमाने पर लगातार प्रतिलाभ का मतलब है कि कुल उत्पाद सभी निविष्टियों में वृद्धि के साथ आनुपातिक रूप से बदलता है।

- Ans
- A. 2 और 3
 - B. 1 और 2
 - C. केवल 1
 - D. 1 और 3

Question ID : 630680209013
 Option 1 ID : 630680810270
 Option 2 ID : 630680810267
 Option 3 ID : 630680810269
 Option 4 ID : 630680810268
 Status : Not Answered
 Chosen Option : --

Q.5 निम्नलिखित में से कौन-सी बालकनी जैसी संरचना है, जो बौद्ध स्तूपों की संरचना में भगवान के निवास का प्रतिनिधित्व करती है?

- Ans A. यस्ति
 B. हरमिका
 C. मस्त
 D. अंड

Question ID : 630680214111
 Option 1 ID : 630680830493
 Option 2 ID : 630680830492
 Option 3 ID : 630680830491
 Option 4 ID : 630680830494
 Status : Answered
 Chosen Option : B

Q.6 रेगुर मिट्टी किस प्रकार की मिट्टी होती है?

- Ans A. रेतीली मिट्टी
 B. काली मिट्टी
 C. भूरी मिट्टी
 D. लाल मिट्टी

Question ID : 63068087944
 Option 1 ID : 630680341164
 Option 2 ID : 630680341161
 Option 3 ID : 630680341163
 Option 4 ID : 630680341162
 Status : Answered
 Chosen Option : B

Q.7 निम्नलिखित में से कौन-सी भारतीय संविधान की एक विशेषता है?

- Ans A. सरकार का संसदीय स्वरूप
 B. अलिखित संविधान
 C. दोहरी नागरिकता
 D. सरकार का अध्यक्षीय स्वरूप

Question ID : 630680209099
 Option 1 ID : 630680810613
 Option 2 ID : 630680810614
 Option 3 ID : 630680810611
 Option 4 ID : 630680810612
 Status : Answered
 Chosen Option : A

Q.8 निम्नलिखित में से किस अरब यात्री के अनुसार, दिल्ली के लोग सुल्तान मुहम्मद बिन तुगलक को अभद्र पत्र लिखते थे और इसलिए, उन्हें दंडित करने के लिए, सुल्तान ने राजधानी स्थानांतरित करने का निर्णय लिया?

- Ans
- A. अल-बिरूनी
 - B. जियाउद्दीन बरनी
 - C. अमीर खुसरो
 - D. इब्न बतूता

Question ID : 630680214210
 Option 1 ID : 630680830887
 Option 2 ID : 630680830890
 Option 3 ID : 630680830889
 Option 4 ID : 630680830888
 Status : Answered
 Chosen Option : D

Q.9 स्थानापन्न वस्तुओं के लिए, मांग की प्रति लोच _____ होती है।

- Ans
- A. ऋणात्मक
 - B. धनात्मक
 - C. अनंत
 - D. शून्य

Question ID : 630680209121
 Option 1 ID : 630680810700
 Option 2 ID : 630680810699
 Option 3 ID : 630680810702
 Option 4 ID : 630680810701
 Status : Not Answered
 Chosen Option : --

Q.10 निम्नलिखित में से किस इतिहासकार ने उल्लेख किया था कि "रज़िया अपने सभी भाइयों से अधिक सक्षम और योग्य थी"?

- Ans
- A. अबू नस्र
 - B. मुहम्मद अली-बिन-अबू बक्र
 - C. मिन्हाज़-ए सिराज
 - D. शेख अब्दुल हुसैन

Question ID : 630680115389
 Option 1 ID : 630680446908
 Option 2 ID : 630680446907
 Option 3 ID : 630680446909
 Option 4 ID : 630680446906
 Status : Answered
 Chosen Option : C

Q.11 ताजमहल को किस वर्ष में यूनेस्को (UNESCO) विश्व धरोहर स्थल घोषित किया गया था?

- Ans A. 2020
 B. 2021
 C. 1983
 D. 1632

Question ID : 630680100440
Option 1 ID : 630680390458
Option 2 ID : 630680390459
Option 3 ID : 630680390456
Option 4 ID : 630680390457
Status : Answered
Chosen Option : C

Q.12 निम्नलिखित में से कौन-सा आंध्र प्रदेश में एक बाधा द्वीप है?

- Ans A. एलीफेंटा द्वीप
 B. श्रीहरिकोटा
 C. बैरन द्वीप
 D. साल्सेट द्वीप

Question ID : 63068069447
Option 1 ID : 630680268454
Option 2 ID : 630680268455
Option 3 ID : 630680268457
Option 4 ID : 630680268456
Status : Answered
Chosen Option : B

Q.13 निम्नलिखित में से कौन-सा विकल्प गुणसूत्री विपथन का एक रूप नहीं दर्शाता है?

- Ans A. द्विगुणन
 B. स्थानांतरण
 C. उत्परिवर्तन
 D. व्युत्क्रमण

Question ID : 630680209081
Option 1 ID : 630680810542
Option 2 ID : 630680810539
Option 3 ID : 630680810540
Option 4 ID : 630680810541
Status : Not Answered
Chosen Option : --

Q.14 Which movement in North India started in 1973 was against deforestation?

- Ans
- A. Navdanya
 - B. Jungle Bachao Andolan
 - C. Appiko
 - D. Chipko

Question ID : 63068069484
Option 1 ID : 630680268605
Option 2 ID : 630680268604
Option 3 ID : 630680268602
Option 4 ID : 630680268603
Status : Answered
Chosen Option : B

Q.15 निम्नलिखित में से क्या सल्फोराफेन का एक स्रोत है?

- Ans
- A. ब्रॉकली
 - B. कॉफी
 - C. टमाटर
 - D. काली मिर्च

Question ID : 630680209074
Option 1 ID : 630680810512
Option 2 ID : 630680810511
Option 3 ID : 630680810514
Option 4 ID : 630680810513
Status : Answered
Chosen Option : A

Q.16 निम्नलिखित में से कौन-सा बौद्ध वास्तुकला का हिस्सा नहीं है?

- Ans
- A. छत्र
 - B. हरमिका
 - C. गर्भगृह
 - D. अंड

Question ID : 630680214110
Option 1 ID : 630680830488
Option 2 ID : 630680830487
Option 3 ID : 630680830490
Option 4 ID : 630680830489
Status : Answered
Chosen Option : A

Q.17 किस संविधान संशोधन अधिनियम के द्वारा भारतीय संविधान में ग्यारहवाँ मौलिक कर्तव्य जोड़ा गया था?

- Ans
- A. 82वें संशोधन अधिनियम
 - B. 86वें संशोधन अधिनियम
 - C. 84वें संशोधन अधिनियम
 - D. 80वें संशोधन अधिनियम

Question ID : 630680209107
Option 1 ID : 630680810644
Option 2 ID : 630680810646
Option 3 ID : 630680810645
Option 4 ID : 630680810643
Status : Answered
Chosen Option : B

Q.18 निम्नलिखित में से किसका शासनकाल दक्षिण भारत में साहित्यिक कृतियों के लिए विख्यात हुआ?

- Ans
- A. हरिहर प्रथम
 - B. देव राय प्रथम
 - C. कृष्णदेव राय
 - D. देव राय द्वितीय

Question ID : 630680113619
Option 1 ID : 630680440013
Option 2 ID : 630680440011
Option 3 ID : 630680440010
Option 4 ID : 630680440012
Status : Answered
Chosen Option : C

Q.19 निम्नलिखित में से वह कौन भारतीय अमेरिकी भौतिक विज्ञानी हैं, जिन्हें मरणोपरान्त फाइबर ऑप्टिक्स के क्षेत्र में उनके काम के लिए विज्ञान और इंजीनियरिंग की श्रेणी में पद्म विभूषण 2021 से सम्मानित किया गया?

- Ans
- A. सुदर्शन साहू
 - B. नरिंदर सिंह कपानी
 - C. बी.बी. लाल
 - D. डॉ. बेले मोनप्पा हेगडे

Question ID : 630680100104
Option 1 ID : 630680389113
Option 2 ID : 630680389112
Option 3 ID : 630680389114
Option 4 ID : 630680389115
Status : Answered
Chosen Option : B

Q.20 निम्नलिखित में से किस राज्य में सबसे कम समय की वर्षा ऋतु होती है?

- Ans
- A. पश्चिम बंगाल
 - B. गोवा
 - C. केरल
 - D. राजस्थान

Question ID : 63068090210
Option 1 ID : 630680349617
Option 2 ID : 630680349616
Option 3 ID : 630680349615
Option 4 ID : 630680349614
Status : Answered
Chosen Option : D

Q.21 बहमनी साम्राज्य में निम्नलिखित में से वह किस प्रकार की भूमि का एक टुकड़ा था, जिसका उपयोग राजा और शाही घराने के खर्चों को चलाने के लिए किया जाता था?

- Ans
- A. खलीसा
 - B. इनाम
 - C. परौती
 - D. पोलाज

Question ID : 630680213984
Option 1 ID : 630680829985
Option 2 ID : 630680829984
Option 3 ID : 630680829986
Option 4 ID : 630680829983
Status : Answered
Chosen Option : A

Q.22 वैध मुद्रा (फिएट मनी) के बारे में निम्नलिखित में से कौन सा कथन गलत है?

- Ans
- A. वैध मुद्रा सरकार द्वारा जारी मुद्रा है जो सोने जैसी कमोडिटी द्वारा समर्थित नहीं है
 - B. वैध मुद्रा केंद्रीय बैंक को अधिक नियंत्रण देता है
 - C. अमेरिकी डॉलर एक वैध मुद्रा नहीं है
 - D. वैध मुद्रा अति-मुद्रास्फीति की स्थिति बना सकती है

Question ID : 63068090265
Option 1 ID : 630680349835
Option 2 ID : 630680349837
Option 3 ID : 630680349834
Option 4 ID : 630680349836
Status : Answered
Chosen Option : D

Q.23 निम्नलिखित में से कौन-सा मंत्रालय, समुद्री संसाधनों के मानचित्रण, खोज और उपयोग के लिए जून 2021 में भारत सरकार द्वारा प्रस्तावित डीप ओशन मिशन (Deep Ocean Mission) की गतिविधियों का समन्वय करेगा?

- Ans
- A. विज्ञान और प्रौद्योगिकी मंत्रालय
 - B. शिक्षा मंत्रालय
 - C. पृथ्वी विज्ञान मंत्रालय
 - D. जलवायु परिवर्तन और पर्यावरण मंत्रालय

Question ID : 63068074618
 Option 1 ID : 630680288629
 Option 2 ID : 630680288627
 Option 3 ID : 630680288628
 Option 4 ID : 630680288630
 Status : Not Answered
 Chosen Option : --

Q.24 निम्नलिखित में से कौन-सा एक सरकार के लिए एक सतत राजस्व घाटे का संभावित परिणाम है?

- Ans
- A. बुनियादी ढांचा परियोजनाओं में बढ़ा हुआ निवेश
 - B. रक्षा कार्यक्रमों पर बढ़ा हुआ खर्च
 - C. समाज कल्याण कार्यक्रमों को निधि देने की सीमित क्षमता
 - D. लोक ऋण का निम्न स्तर

Question ID : 630680209004
 Option 1 ID : 630680810231
 Option 2 ID : 630680810234
 Option 3 ID : 630680810233
 Option 4 ID : 630680810232
 Status : Not Answered
 Chosen Option : --

Q.25 पश्चिम बंगाल में बिष्णुपुर के मंदिर ज्यादातर _____ के बने हैं।

- Ans
- A. संगमरमर
 - B. ग्रेनाइट
 - C. काला बलुआ पत्थर
 - D. टैरकोटा

Question ID : 630680157815
 Option 1 ID : 630680610790
 Option 2 ID : 630680610791
 Option 3 ID : 630680610789
 Option 4 ID : 630680610788
 Status : Answered
 Chosen Option : C

Section : Elementary Mathematics

Q.1 राजू और राणा मिलकर एक खेत 4 दिन में जोतते हैं। राणा अकेले इसे 6 दिन में जोत सकता है। राजू अकेले कितने दिन में खेत जोत सकता है?

- Ans A. 18
 B. 12
 C. 16
 D. 14

Question ID : 630680101779
 Option 1 ID : 630680395479
 Option 2 ID : 630680395477
 Option 3 ID : 630680395478
 Option 4 ID : 630680395476
 Status : Answered
 Chosen Option : B

Q.2 एक संख्या में 20% की वृद्धि की जाती है और फिर 20% की कमी की जाती है। शुद्ध वृद्धि या कमी प्रतिशत क्या है?

- Ans A. 0
 B. 8% की वृद्धि
 C. 4% की कमी
 D. 4% की वृद्धि

Question ID : 63068059517
 Option 1 ID : 630680229674
 Option 2 ID : 630680229675
 Option 3 ID : 630680229677
 Option 4 ID : 630680229676
 Status : Answered
 Chosen Option : C

Q.3 एक चोर को एक पुलिसकर्मी 100 मीटर की दूरी से देखता है। जब पुलिसकर्मी ने उसका पीछा करना शुरू किया, तो चोर भी भागने लगा। यदि चोर की गति 8 km/h है और पुलिसकर्मी की गति 10 km/h है, तो चोर को पकड़ने से पहले वह कितनी दूर भाग चुका होगा?

- Ans A. 500 मीटर
 B. 550 मीटर
 C. 450 मीटर
 D. 400 मीटर

Question ID : 630680145673
 Option 1 ID : 630680563626
 Option 2 ID : 630680563628
 Option 3 ID : 630680563627
 Option 4 ID : 630680563629
 Status : Not Answered
 Chosen Option : --

Q.4 यदि एक बेलन के वृत्ताकार आधार का क्षेत्रफल 616 m^2 है और इसकी ऊंचाई 8 m है, तो बेलन का वक्र पृष्ठीय क्षेत्रफल ज्ञात करें।

- Ans A. 704 m^2
 B. 604 m^2
 C. 804 m^2
 D. 407 m^2

Question ID : 63068084439
 Option 1 ID : 630680327308
 Option 2 ID : 630680327311
 Option 3 ID : 630680327309
 Option 4 ID : 630680327310
 Status : Answered
 Chosen Option : A

Q.5 $\frac{1000 \times 3^4 \times 5^2}{5^5 \times 6^3}$ को सरल कीजिए।

- Ans A. 6
 B. 5
 C. 4
 D. 3

Question ID : 63068070822
 Option 1 ID : 630680273905
 Option 2 ID : 630680273904
 Option 3 ID : 630680273903
 Option 4 ID : 630680273902
 Status : Answered
 Chosen Option : D

Q.6 एक परीक्षा में एक कक्षा के लड़कों और लड़कियों का औसत अंक 42 है। लड़कों और लड़कियों का अनुपात 3 : 2 है। यदि लड़कों का औसत अंक 46 हो, तो लड़कियों का औसत अंक क्या है?

- Ans A. 46
 B. 44
 C. 42
 D. 36

Question ID : 630680103612
 Option 1 ID : 630680402694
 Option 2 ID : 630680402691
 Option 3 ID : 630680402692
 Option 4 ID : 630680402693
 Status : Answered
 Chosen Option : D

Q.7 ₹1,60,000 की धनराशि 2 वर्ष में 10% वार्षिक दर से कितनी हो जाएगी जब व्याज अर्ध-वार्षिक आधार पर चक्रवृद्धित किया जाता है?

- Ans A. Rs.1,94,481
 B. Rs.1,19,881
 C. Rs.2,15,581
 D. Rs.1,45,781

Question ID : 630680103853
 Option 1 ID : 630680403644
 Option 2 ID : 630680403646
 Option 3 ID : 630680403643
 Option 4 ID : 630680403645
 Status : Answered
 Chosen Option : A

Q.8 निम्नलिखित में से कौन-सी संख्या 15 से विभाज्य है?

- Ans A. 1025
 B. 2045
 C. 2015
 D. 1440

Question ID : 63068071002
 Option 1 ID : 630680274618
 Option 2 ID : 630680274621
 Option 3 ID : 630680274620
 Option 4 ID : 630680274619
 Status : Answered
 Chosen Option : D

Q.9 एक घनाभ की ऊंचाई उसके वर्गकार आधार की भुजा की दुगुनी है और उसका आयतन 3456 cm^3 है। इसके आधार का क्षेत्रफल क्या है?

- Ans A. 462 cm^2
 B. 242 cm^2
 C. 144 cm^2
 D. 142 cm^2

Question ID : 63068068102
 Option 1 ID : 630680263137
 Option 2 ID : 630680263135
 Option 3 ID : 630680263136
 Option 4 ID : 630680263134
 Status : Not Answered
 Chosen Option : --

Q.10 एक कक्षा में दो समूह A और B हैं, जिसमें क्रमशः 20 और 30 विद्यार्थी हैं। यदि समूह A का औसत वजन 30 kg और समूह B का औसत वजन 50 kg है, तो पूरी कक्षा का औसत वजन ज्ञात कीजिए।

- Ans
- A. 44 kg
 - B. 47 kg
 - C. 42 kg
 - D. 45 kg

Question ID : 630680103347
 Option 1 ID : 630680401649
 Option 2 ID : 630680401648
 Option 3 ID : 630680401647
 Option 4 ID : 630680401650
 Status : Answered
 Chosen Option : C

Q.11 $\frac{1}{6}$ और 1350 के बीच माध्यानुपात क्या है?

- Ans
- A. 24
 - B. 15
 - C. 40
 - D. 12

Question ID : 630680116165
 Option 1 ID : 630680449990
 Option 2 ID : 630680449992
 Option 3 ID : 630680449991
 Option 4 ID : 630680449993
 Status : Answered
 Chosen Option : B

Q.12 ₹1,820 पर $7\frac{1}{2}\%$ वार्षिक दर से 9 मार्च 2012 से 21 मई 2012 तक का साधारण ब्याज होगा।

- Ans
- A. ₹28.15
 - B. ₹27.30
 - C. ₹35.10
 - D. ₹25.68

Question ID : 630680115867
 Option 1 ID : 630680448805
 Option 2 ID : 630680448803
 Option 3 ID : 630680448804
 Option 4 ID : 630680448802
 Status : Answered
 Chosen Option : B

Q.13 एक चुनाव में रामू को कुल वैध मतों का 55% प्राप्त हुआ और 20% मत अवैध थे। यदि मतों की कुल संख्या 7,500 थी, तो दूसरे उम्मीदवार को मिले वैध मतों की संख्या क्या है?

- Ans
- A. 3300
 - B. 4500
 - C. 3375
 - D. 2700

Question ID : 630680112900
 Option 1 ID : 630680437223
 Option 2 ID : 630680437222
 Option 3 ID : 630680437224
 Option 4 ID : 630680437225
 Status : Answered
 Chosen Option : D

Q.14 एक पुस्तक के अंकित मूल्य पर 20% की छूट एक व्यक्ति को एक पेन खरीदने में सक्षम बनाती है जिसकी अतिरिक्त कीमत Rs.80 है। उसने किताब के लिए कितने रूपये का भुगतान किया?

- Ans
- A. Rs.256
 - B. Rs.220
 - C. Rs.350
 - D. Rs.320

Question ID : 630680105875
 Option 1 ID : 630680411457
 Option 2 ID : 630680411455
 Option 3 ID : 630680411458
 Option 4 ID : 630680411456
 Status : Answered
 Chosen Option : D

Q.15 यदि एक दुकानदार वस्तुओं की कीमत उनके क्रय मूल्य से 40% अधिक पर अंकित करता है और 25% की छूट देता है, तो उसका लाभ या हानि प्रतिशत क्या है?

- Ans
- A. 35% का लाभ
 - B. 35% की हानि
 - C. 5% की हानि
 - D. 5% का लाभ

Question ID : 630680220075
 Option 1 ID : 630680854179
 Option 2 ID : 630680854182
 Option 3 ID : 630680854180
 Option 4 ID : 630680854181
 Status : Answered
 Chosen Option : D

Q.16 यदि एक घन का आयतन 1331 cm^3 है तो उसके विकर्ण की लंबाई ज्ञात करें।

- Ans
- A. 11 cm
 - B. 121 cm
 - C. $11\sqrt{2}$ cm
 - D. $11\sqrt{3}$ cm

Question ID : 630680208576
Option 1 ID : 630680808535
Option 2 ID : 630680808538
Option 3 ID : 630680808537
Option 4 ID : 630680808536
Status : Answered
Chosen Option : D

Q.17 K, (p + 9) का अनुक्रमानुपाती है। यदि p = 6 होने पर k = 45 होता है, तो p = 11 होने पर k का मान क्या होगा?

- Ans
- A. 35
 - B. 60
 - C. 75
 - D. 90

Question ID : 630680115583
Option 1 ID : 630680447685
Option 2 ID : 630680447684
Option 3 ID : 630680447683
Option 4 ID : 630680447682
Status : Answered
Chosen Option : B

Q.18 यदि एक संख्या का 0.2 दूसरी संख्या के 0.02 के बराबर है, तो संख्याओं का अनुपात ज्ञात कीजिए।

- Ans
- A. 10 : 1
 - B. 1 : 10
 - C. 2 : 3
 - D. 3 : 4

Question ID : 630680108130
Option 1 ID : 630680419596
Option 2 ID : 630680419597
Option 3 ID : 630680419599
Option 4 ID : 630680419598
Status : Answered
Chosen Option : B

Q.19 एक कक्षा में 25 लड़के और 55 लड़कियां हैं। यदि लड़कों की औसत आयु 10 वर्ष है और लड़कियों की औसत आयु 8 वर्ष है, तो पूरी कक्षा की औसत आयु ज्ञात कीजिए।

- Ans
- A. 10.44 वर्ष
 - B. 86.25 वर्ष
 - C. 10.77 वर्ष
 - D. 10.55 वर्ष

Question ID : 630680108120
 Option 1 ID : 630680419559
 Option 2 ID : 630680419556
 Option 3 ID : 630680419558
 Option 4 ID : 630680419557
 Status : Answered
 Chosen Option : B

Q.20 एक आयताकार भूखंड की लंबाई उसकी चौड़ाई की तीन गुनी है और इसके विकर्ण की लंबाई $50\sqrt{10}$ मीटर है। भूखंड का परिमाण ज्ञात कीजिए।

- Ans
- A. 400 metres
 - B. 420 metres
 - C. 380 metres
 - D. 360 metres

Question ID : 63068070979
 Option 1 ID : 630680274527
 Option 2 ID : 630680274526
 Option 3 ID : 630680274528
 Option 4 ID : 630680274529
 Status : Answered
 Chosen Option : D

Q.21 एक रियल इस्टेट एजेंट एक साइट 25% के लाभ पर Rs.1,80,000 में अमित को बेचता है और अमित इसे 10% के लाभ पर सुखी को बेचता है। सुखी का क्रय मूल्य क्या है?

- Ans
- A. Rs.1,97,000
 - B. Rs.1,98,000
 - C. Rs.2,01,500
 - D. Rs.2,47,000

Question ID : 630680106830
 Option 1 ID : 630680414936
 Option 2 ID : 630680414937
 Option 3 ID : 630680414938
 Option 4 ID : 630680414939
 Status : Answered
 Chosen Option : B

Q.22 शांत पानी में एक नाव की चाल 11 km/h है और धारा की चाल 2.5 km/h है। एक व्यक्ति द्वारा नौकायन में 135 km की दूरी पर एक स्थान तक पहुँचने और प्रारंभिक बिंदु पर वापस आने में लिया गया कुल समय ज्ञात कीजिए।

Ans

✗ A. $25\frac{17}{15}$ घंटे

✗ B. $25\frac{12}{17}$ घंटे

✗ C. 25 घंटे

✓ D. $25\frac{15}{17}$ घंटे

Question ID : 630680220084
Option 1 ID : 630680854216
Option 2 ID : 630680854218
Option 3 ID : 630680854215
Option 4 ID : 630680854217
Status : Not Answered
Chosen Option : --

Q.23 एक बड़ी टंकी को दो पाइप P और Q क्रमशः 48 मिनट और 16 मिनट में भर सकते हैं। यदि Q को आधे भाग के लिए उपयोग किया जाता है और P और Q दूसरे आधे भाग को एक साथ भरते हैं, तो टंकी को खाली अवस्था से भरने में कितने मिनट लगेंगे?

Ans

✓ A. $13\frac{5}{7}$ मिनट

✗ B. $7\frac{1}{3}$ मिनट

✗ C. $24\frac{2}{3}$ मिनट

✗ D. 48 मिनट

Question ID : 63068068083
Option 1 ID : 630680263069
Option 2 ID : 630680263067
Option 3 ID : 630680263068
Option 4 ID : 630680263066
Status : Not Answered
Chosen Option : --

Q.24 1650 cm^3 आयतन और 21 cm ऊँचाई वाले एक लंब वृत्तीय बेलन की त्रिज्या कितनी है?

Ans

✓ A. 5 cm

✗ B. 4 cm

✗ C. 7 cm

✗ D. 6.5 cm

Question ID : 63068068059
Option 1 ID : 630680262971
Option 2 ID : 630680262973
Option 3 ID : 630680262970
Option 4 ID : 630680262972
Status : Answered
Chosen Option : A

Q.25 जब एक संख्या में 27 जोड़ा जाता है, तो प्राप्त योगफल 6, 75, 225, 675 और 2700 प्रत्येक द्वारा पूर्णतः विभाजित होता है। इस शर्त को पूरा करने वाली न्यूनतम संख्या ज्ञात कीजिए।

- Ans
- A. 2700
 - B. 2680
 - C. 2673
 - D. 2773

Question ID : 63068071082
Option 1 ID : 630680274922
Option 2 ID : 630680274923
Option 3 ID : 630680274924
Option 4 ID : 630680274925
Status : Answered
Chosen Option : C

Section : English

Q.1 Select the option that can be used as a one-word substitute for the given group of words.
A period of ten years

- Ans
- A. Era
 - B. Decade
 - C. Eon
 - D. Century

Question ID : 630680160918
Option 1 ID : 630680623037
Option 2 ID : 630680623038
Option 3 ID : 630680623036
Option 4 ID : 630680623039
Status : Not Answered
Chosen Option : --

Q.2 Select the INCORRECTLY spelt word.

- Ans
- A. Irresponsible
 - B. Irrevocable
 - C. Irreversible
 - D. Irreparable

Question ID : 630680129488
Option 1 ID : 630680501572
Option 2 ID : 630680501573
Option 3 ID : 630680501571
Option 4 ID : 630680501570
Status : Not Answered
Chosen Option : --

Q.3 Select the option that can be used as a one-word substitute for the given group of words.
One who is new to a profession

Ans A. Nascent
 B. Former
 C. Novice
 D. Employee

Question ID : 630680129517
Option 1 ID : 630680501688
Option 2 ID : 630680501687
Option 3 ID : 630680501689
Option 4 ID : 630680501686
Status : Not Answered
Chosen Option : --

Q.4 Select the INCORRECTLY spelt word.

Ans A. Bogus
 B. Biege
 C. Binge
 D. Bugle

Question ID : 630680126298
Option 1 ID : 630680489801
Option 2 ID : 630680489799
Option 3 ID : 630680489798
Option 4 ID : 630680489800
Status : Not Answered
Chosen Option : --

Q.5 Sentences of a paragraph are given below in jumbled order. Arrange the sentences in the correct order to form a meaningful and coherent paragraph.

A. They are a country's wealth.
B. They prevent floods and give us numerous products.
C. They add to the beauty of a country and provide shelter to animals.
D. Forests are called the green gold of a country.

Ans A. DABC
 B. ABCD
 C. BCDA
 D. CBDA

Question ID : 630680204343
Option 1 ID : 630680792457
Option 2 ID : 630680792455
Option 3 ID : 630680792456
Option 4 ID : 630680792458
Status : Not Answered
Chosen Option : --

Q.6 Read the sentence carefully and select the synonym of the underlined word from the given alternatives.

He drove the medicant away and closed the door.

- Ans
- A. Attendant
 - B. Investigator
 - C. Shepherd
 - D. Beggar

Question ID : 630680123911
 Option 1 ID : 630680480506
 Option 2 ID : 630680480508
 Option 3 ID : 630680480507
 Option 4 ID : 630680480509
 Status : Not Answered
 Chosen Option : --

Q.7 Select the most appropriate synonym of the given word.
Disorient

- Ans
- A. Disburse
 - B. Distort
 - C. Dissolve
 - D. Distract

Question ID : 630680204363
 Option 1 ID : 630680792535
 Option 2 ID : 630680792538
 Option 3 ID : 630680792536
 Option 4 ID : 630680792537
 Status : Not Answered
 Chosen Option : --

Q.8 The following sentence has been split into four segments. Identify the segment that contains a grammatical error.

Rita asked / Arjun to stay / for lunch, / so he left.

- Ans
- A. Arjun to stay
 - B. for lunch
 - C. so he left
 - D. Rita asked

Question ID : 63068067406
 Option 1 ID : 630680260447
 Option 2 ID : 630680260448
 Option 3 ID : 630680260449
 Option 4 ID : 630680260446
 Status : Not Answered
 Chosen Option : --

Q.9 Select the most appropriate option to fill in the blank.

Geeta writes in a _____ regularly.

- Ans A. dairy
 B. diary
 C. darey
 D. dariey

Question ID : 630680120854
Option 1 ID : 630680468391
Option 2 ID : 630680468392
Option 3 ID : 630680468390
Option 4 ID : 630680468393
Status : Not Answered
Chosen Option : --

Q.10 Select the INCORRECTLY spelt word from the given sentence.
Without self-help expecting permanent sucess is like building castles in the air.

- Ans A. Permanent
 B. Sucess
 C. Expecting
 D. Castles

Question ID : 630680204336
Option 1 ID : 630680792428
Option 2 ID : 630680792429
Option 3 ID : 630680792427
Option 4 ID : 630680792430
Status : Not Answered
Chosen Option : --

Q.11 Select the most appropriate synonym of the given word.
Conventional

- Ans A. Innovative
 B. Usual
 C. Global
 D. Sustainable

Question ID : 630680204365
Option 1 ID : 630680792544
Option 2 ID : 630680792543
Option 3 ID : 630680792546
Option 4 ID : 630680792545
Status : Not Answered
Chosen Option : --

Q.12 Select the most appropriate synonym of the underlined word in the given sentence.

Aarti brought a gift wrapped in silver paper.

- Ans
- A. Glad
 - B. Past
 - C. Future
 - D. Present

Question ID : 630680132549
 Option 1 ID : 630680513330
 Option 2 ID : 630680513332
 Option 3 ID : 630680513331
 Option 4 ID : 630680513333
 Status : Not Answered
 Chosen Option : --

Q.13 Select the option that can be used as a one-word substitute for the given phrase.

Someone who never makes mistakes

- Ans
- A. Inexorable
 - B. Infeasible
 - C. Infallible
 - D. Indigestible

Question ID : 63068084656
 Option 1 ID : 630680328152
 Option 2 ID : 630680328154
 Option 3 ID : 630680328155
 Option 4 ID : 630680328153
 Status : Not Answered
 Chosen Option : --

Q.14 Select the option that can be used as a one-word substitute for the given group of words.
 A building where weapons and military equipment are stored

- Ans
- A. Warehouse
 - B. Depository
 - C. Garage
 - D. Arsenal

Question ID : 630680180695
 Option 1 ID : 630680700279
 Option 2 ID : 630680700278
 Option 3 ID : 630680700277
 Option 4 ID : 630680700276
 Status : Not Answered
 Chosen Option : --

Q.15 Sentences of a paragraph are given below in jumbled order. Arrange the sentences in the correct order to form a meaningful and coherent paragraph.
 P. Planning, therefore, is imperative and should begin as early as possible.
 Q. So, we should first ask what and when we need to get the best solution.
 R. Most of us would prioritise our children's education above anything else.
 S. With so many opportunities available in the market, it is very easy to get this planning wrong.

- Ans A. PSQR
 B. RPSQ
 C. QPRS
 D. SPQR

Question ID : 630680204389
 Option 1 ID : 630680792639
 Option 2 ID : 630680792642
 Option 3 ID : 630680792641
 Option 4 ID : 630680792640
 Status : Not Answered
 Chosen Option : --

Q.16 Select the most appropriate synonym of the underlined word in the following sentence.

Looking at that portrait, Shreya jumped with a sudden fright.

- Ans A. Horror
 B. Excitement
 C. Contentment
 D. Pain

Question ID : 630680130684
 Option 1 ID : 630680506030
 Option 2 ID : 630680506032
 Option 3 ID : 630680506031
 Option 4 ID : 630680506033
 Status : Not Answered
 Chosen Option : --

Q.17 Sentences of a paragraph are given below in jumbled order. Arrange the sentences in the correct order to form a meaningful and coherent paragraph.

- A. They took their revenge by condemning Sisyphus to eternal torment in the underworld.
 B. He was so clever that he cheated death twice, angering the gods.
 C. Sisyphus, the king of Ephyra was renowned in Greek mythology for his ingenuity.
 D. He had to roll a huge boulder up a hill and when he reached the top, the stone would roll back down to the bottom.

- Ans A. CBAD
 B. CDBA
 C. CBDA
 D. CADB

Question ID : 630680204322
 Option 1 ID : 630680792374
 Option 2 ID : 630680792372
 Option 3 ID : 630680792373
 Option 4 ID : 630680792371
 Status : Not Answered
 Chosen Option : --

Q.18 In the given sentence, four words/phrases have been underlined and the underlined words/phrases are given as options. Select the option that contains an error.
Until you yourself will go, she is not going to accept the proposal.

- Ans
- A. Until
 - B. she
 - C. yourself
 - D. accept

Question ID : 63068054084
Option 1 ID : 630680208390
Option 2 ID : 630680208392
Option 3 ID : 630680208391
Option 4 ID : 630680208393
Status : Not Answered
Chosen Option : --

Q.19 Sentences of a paragraph are given below in jumbled order. Arrange the sentences in the correct order to form a meaningful and coherent paragraph.
A. We have but one method of acquiring knowledge.
B. From the lowest man to the highest yogi, all have to use the same method, and that method is called 'concentration'.
C. Even the lowest shoeblick, if he pays more concentration, will polish shoes better, the cook with his concentration will focus all his attention on the work in hand and will cook a better meal.
D. The more this power of concentration is, the more is the knowledge acquired, because this is the one and the only method of acquiring it.

- Ans
- A. BDAC
 - B. DCAB
 - C. ABDC
 - D. CBAD

Question ID : 630680204354
Option 1 ID : 630680792502
Option 2 ID : 630680792499
Option 3 ID : 630680792500
Option 4 ID : 630680792501
Status : Not Answered
Chosen Option : --

Q.20 Select the most appropriate synonym of the given word.
Incredible

- Ans
- A. Unbelievable
 - B. Impossible
 - C. Inconsistent
 - D. Imaginable

Question ID : 630680204328
Option 1 ID : 630680792398
Option 2 ID : 630680792396
Option 3 ID : 630680792397
Option 4 ID : 630680792395
Status : Not Answered
Chosen Option : --

Comprehension:

Read the following passage carefully and answer the given questions.

We are the living graves of murdered beasts, Slaughtered to satisfy our appetites. We never pause to wonder at our feasts, If animals, like men, can possibly have rights. We pray on Sundays that we may have light, To guide our footsteps on the path we tread. We're sick of war, we do not want to fight -The thought of it now fills our hearts with dread, And yet - we gorge ourselves upon the dead.

SubQuestion No : 21

Q.21 Select from the passage the word which is nearest in meaning to 'glutton'.

Ans A. satisfy

B. gorge

C. appetite

D. feast

Question ID : 63068072084
Option 1 ID : 630680278717
Option 2 ID : 630680278716
Option 3 ID : 630680278714
Option 4 ID : 630680278715
Status : Not Answered
Chosen Option : --

Comprehension:

Read the following passage carefully and answer the given questions.

We are the living graves of murdered beasts, Slaughtered to satisfy our appetites. We never pause to wonder at our feasts, If animals, like men, can possibly have rights. We pray on Sundays that we may have light, To guide our footsteps on the path we tread. We're sick of war, we do not want to fight -The thought of it now fills our hearts with dread, And yet - we gorge ourselves upon the dead.

SubQuestion No : 22

Q.22 Which literary device is used in the line "We are the living graves of murdered beasts"?

Ans A. Metaphor

B. Symbol

C. Metonymy

D. Synecdoche

Question ID : 63068072081
Option 1 ID : 630680278702
Option 2 ID : 630680278705
Option 3 ID : 630680278704
Option 4 ID : 630680278703
Status : Not Answered
Chosen Option : --

Comprehension:

Read the following passage carefully and answer the given questions.

We are the living graves of murdered beasts, Slaughtered to satisfy our appetites. We never pause to wonder at our feasts, If animals, like men, can possibly have rights. We pray on Sundays that we may have light, To guide our footsteps on the path we tread. We're sick of war, we do not want to fight -The thought of it now fills our hearts with dread, And yet - we gorge ourselves upon the dead.

SubQuestion No : 23

Q.23 The word 'light' in the passage has been used as a metonymy for:

- Ans A. knowledge
 B. weightlessness
 C. virtue
 D. God

Question ID : 63068072085
Option 1 ID : 630680278718
Option 2 ID : 630680278721
Option 3 ID : 630680278720
Option 4 ID : 630680278719
Status : Not Answered
Chosen Option : --

Comprehension:

Read the following passage carefully and answer the given questions.

We are the living graves of murdered beasts, Slaughtered to satisfy our appetites. We never pause to wonder at our feasts, If animals, like men, can possibly have rights. We pray on Sundays that we may have light, To guide our footsteps on the path we tread. We're sick of war, we do not want to fight -The thought of it now fills our hearts with dread, And yet - we gorge ourselves upon the dead.

SubQuestion No : 24

Q.24 What is the theme of the given passage?

- Ans A. Hypocrisy of non-vegetarian pacifists
 B. War
 C. Condemning non-vegetarianism
 D. Animals should have rights

Question ID : 63068072082
Option 1 ID : 630680278709
Option 2 ID : 630680278706
Option 3 ID : 630680278708
Option 4 ID : 630680278707
Status : Not Answered
Chosen Option : --

Comprehension:

Read the following passage carefully and answer the given questions.

We are the living graves of murdered beasts, Slaughtered to satisfy our appetites. We never pause to wonder at our feasts, If animals, like men, can possibly have rights. We pray on Sundays that we may have light, To guide our footsteps on the path we tread. We're sick of war, we do not want to fight -The thought of it now fills our hearts with dread, And yet - we gorge ourselves upon the dead.

SubQuestion No : 25

Q.25 What message can be inferred from the given passage?

- Ans A. Animals have the same right to live and protection against violence and murder as men. PETA and other organisations are continuously fighting for this right of the living beings in general.
- B. Wars cannot end until we stop our violent behaviour towards other life forms because the violence against beasts is the first step in the ladder of violence of which war is the final step.
- C. Our religious intentions lose force because of the prevalent practice of animal slaughter. Therefore, it should be mandatory for religious countries to ban animal slaughter.
- D. Animal eating is as murderous and condemnable as the act of cannibalism as in both we consume the dead living beings. If a person is non-vegetarian he/she or they are no better than cannibals and scavengers.

Question ID : 63068072083
 Option 1 ID : 630680278711
 Option 2 ID : 630680278710
 Option 3 ID : 630680278713
 Option 4 ID : 630680278712
 Status : Not Answered
 Chosen Option : --

Section : Hindi

Q.1 उचित तद्भव शब्द का चयन कर निम्नलिखित वाक्य को पूर्ण करें।
 खेत का _____ हिस्सा चाचा का है।

- Ans A. आधा
 B. अधूरा
 C. अधूरी
 D. अर्द्ध

Question ID : 630680197172
 Option 1 ID : 630680764971
 Option 2 ID : 630680764974
 Option 3 ID : 630680764973
 Option 4 ID : 630680764972
 Status : Answered
 Chosen Option : A

Q.2 दिए गए शब्द का उपयुक्त पर्यायवाची शब्द चुनिए-

सर्प

- Ans A. राजराज
 B. माही
 C. सप्रहा
 D. अहि

Question ID : 630680128708
 Option 1 ID : 630680498473
 Option 2 ID : 630680498471
 Option 3 ID : 630680498472
 Option 4 ID : 630680498470
 Status : Answered
 Chosen Option : D

Q.3 निम्नलिखित शब्द समूह में से क्रिया-विशेषण की दृष्टि से अशुद्ध शब्द समूह का चयन करो।

- Ans A. चतुर, पुराना, चकोर, चार
 B. थोड़ा, तनिक, इतना, अधिक
 C. बारी बारी से, बस, ठीक, जितना
 D. अति, अधिक, भारी, जरा सा

Question ID : 63068071767
 Option 1 ID : 630680277540
 Option 2 ID : 630680277539
 Option 3 ID : 630680277541
 Option 4 ID : 630680277538
 Status : Answered
 Chosen Option : A

Q.4 'नयन' का सही संधि-विच्छेद रूप चुनिए।

- Ans A. ने+यन
 B. नय+न
 C. ने+अन
 D. न+यन

Question ID : 63068071814
 Option 1 ID : 630680277728
 Option 2 ID : 630680277726
 Option 3 ID : 630680277729
 Option 4 ID : 630680277727
 Status : Answered
 Chosen Option : C

Q.5 तनिक, लेशमात्र इन पर्यायवाची शब्दों का अर्थ है -

- Ans
- A. अधिक
 - B. विपुल
 - C. किंचित
 - D. पर्याप्त

Question ID : 630680128783
 Option 1 ID : 630680498771
 Option 2 ID : 630680498773
 Option 3 ID : 630680498770
 Option 4 ID : 630680498772
 Status : Answered
 Chosen Option : C

Q.6 वृद्धि संधि का उदाहरण कौनसा है ?

- Ans
- A. गायन
 - B. एकैक
 - C. अन्वित
 - D. नयन

Question ID : 630680126459
 Option 1 ID : 630680490421
 Option 2 ID : 630680490419
 Option 3 ID : 630680490418
 Option 4 ID : 630680490420
 Status : Answered
 Chosen Option : B

Q.7 'क्रिकेट खेलते समय मेरे _____ की हड्डी टूट गई है' निम्नलिखित वाक्य के रिक्त स्थान में कौन सा उचित तद्भव शब्द प्रयोग होगा?

- Ans
- A. नाक
 - B. पीठ
 - C. नक़
 - D. पाद

Question ID : 630680197093
 Option 1 ID : 630680764656
 Option 2 ID : 630680764658
 Option 3 ID : 630680764655
 Option 4 ID : 630680764657
 Status : Answered
 Chosen Option : C

Q.8 डाल पर अनेक खुर्रु बेठे हैं। रेखांकित शब्द का उचित अर्थ चुनिए-

- Ans A. पक्षी
 B. गंदर्भ
 C. बाण
 D. तारा

Question ID : 630680203650
 Option 1 ID : 630680789800
 Option 2 ID : 630680789802
 Option 3 ID : 630680789801
 Option 4 ID : 630680789799
 Status : Answered
 Chosen Option : A

Q.9 'लेनदेन' शब्द का सही समास-विग्रह नीचे दिए विकल्पों में से चुनिए।

- Ans A. लेन या देन
 B. लेन देन
 C. लेन के साथ देन
 D. लेन और देन

Question ID : 63068071835
 Option 1 ID : 630680277813
 Option 2 ID : 630680277810
 Option 3 ID : 630680277811
 Option 4 ID : 630680277812
 Status : Answered
 Chosen Option : D

Q.10 निम्नलिखित विकल्पों में से 'अंगना' शब्द के लिए किस एक वाक्य में उचित समश्रुत भिन्नार्थक शब्द का प्रयोग हुआ है?

- Ans A. सत्य का विकल्प नहीं होता है।
 B. उसने मुझ पर दया की है।
 C. भारतीय समाज में सदियों से स्त्री का सम्मान होता आया है।
 D. हमारे घर के आँगन में तुलसी का पोधा रोपा गया है।

Question ID : 630680197101
 Option 1 ID : 630680764690
 Option 2 ID : 630680764689
 Option 3 ID : 630680764687
 Option 4 ID : 630680764688
 Status : Not Answered
 Chosen Option : --

Q.11 निम्नलिखित रिक्तस्थान की पूर्ति समश्रुत भिन्नार्थक शब्द से करें।

प्रातः काल में जब सूर्य का प्रकाश _____ पर पड़ा तो वह _____ स्वरूप हो गया।

- Ans
- A. तरंग, तुरंग
 - B. बर्फ, सर्द
 - C. हिम, हेम
 - D. अंग, उमंग

Question ID : 630680197193
 Option 1 ID : 630680765057
 Option 2 ID : 630680765056
 Option 3 ID : 630680765055
 Option 4 ID : 630680765058
 Status : Answered
 Chosen Option : D

Q.12 निम्नलिखित में से किस वाक्य में सर्वनाम का अशुद्ध प्रयोग हुआ है?

- Ans
- A. तुम अपनी बात कहो |
 - B. मैंने उससे माफ़ी माँगी |
 - C. तेरे को भी उसके साथ जाना चाहिए |
 - D. तुम्हारा उससे क्या संबंध है?

Question ID : 63068071677
 Option 1 ID : 630680277179
 Option 2 ID : 630680277178
 Option 3 ID : 630680277180
 Option 4 ID : 630680277181
 Status : Answered
 Chosen Option : C

Q.13 दिये गए वाक्यांश के लिए एक शब्द होगा—

जो दूसरों का बुरा करे

- Ans
- A. अपकृत
 - B. अपकारी
 - C. अनिष्टकारक
 - D. परोपकारी

Question ID : 630680126191
 Option 1 ID : 630680489373
 Option 2 ID : 630680489372
 Option 3 ID : 630680489371
 Option 4 ID : 630680489370
 Status : Answered
 Chosen Option : A

Q.14 'चीं बोलना'

दिए गए मुहावरे का अर्थ निम्नलिखित में से है-

- Ans A. असमर्थता अथवा दीनता सूचक लक्षण दिखाना
 B. बहुत शोरगुल करना
 C. पक्षियों की आवाज़ निकालना
 D. ज़ोर-ज़ोर से रोना

Question ID : 630680197133
 Option 1 ID : 630680764817
 Option 2 ID : 630680764816
 Option 3 ID : 630680764815
 Option 4 ID : 630680764818
 Status : Answered
 Chosen Option : A

Q.15 उत्तर में बादल छाए हैं। रेखांकित शब्द का उचित अर्थ चुनिए-

- Ans A. उतरना
 B. हल
 C. जवाब
 D. उत्तर दिशा

Question ID : 630680203649
 Option 1 ID : 630680789798
 Option 2 ID : 630680789797
 Option 3 ID : 630680789796
 Option 4 ID : 630680789795
 Status : Answered
 Chosen Option : D

Q.16 निम्नलिखित वाक्यांश हेतु सार्थक शब्द की पहचान करें।
जो सामने न हो

- Ans A. परोक्ष
 B. अनुसूना
 C. उपलब्ध
 D. सापेक्ष

Question ID : 630680203709
 Option 1 ID : 630680790035
 Option 2 ID : 630680790038
 Option 3 ID : 630680790037
 Option 4 ID : 630680790036
 Status : Answered
 Chosen Option : A

Q.17 दिए गए शब्द का उपयुक्त पर्यायवाची शब्द चुनिए-
निकेतन

- Ans
- A. रासभ
 - B. आश्रय
 - C. आश्रम
 - D. गृह

Question ID : 630680203631
Option 1 ID : 630680789726
Option 2 ID : 630680789723
Option 3 ID : 630680789725
Option 4 ID : 630680789724
Status : Answered
Chosen Option : C

Q.18 वह धीरे धीरे चलता है, वाक्य में कौन सा क्रिया विशेषण का भेद है?

- Ans
- A. कालवाचक
 - B. रीतिवाचक
 - C. परिमाणवाचक
 - D. स्थानवाचक

Question ID : 63068066905
Option 1 ID : 630680258455
Option 2 ID : 630680258457
Option 3 ID : 630680258456
Option 4 ID : 630680258454
Status : Answered
Chosen Option : A

Q.19 निम्नलिखित में से उस शब्द का चयन कीजिये जिसमें द्विगु समास है-

- Ans
- A. ऋषिमुनि
 - B. यथावत
 - C. सतसई
 - D. प्रतिदिन

Question ID : 63068065826
Option 1 ID : 630680254250
Option 2 ID : 630680254251
Option 3 ID : 630680254253
Option 4 ID : 630680254252
Status : Answered
Chosen Option : C

Q.20 निम्नलिखित मुहावरे का अर्थ बताइए।
छाती पर भूँग दलना -

- Ans A. धोखे में रखकर व्यक्ति को ठगना
 B. अपने प्राण त्याग देना
 C. किसी व्यक्ति को आशंका से सदा पीड़ित रखना
 D. मिट्टी पलीद करना

Question ID : 630680198524
Option 1 ID : 630680770058
Option 2 ID : 630680770057
Option 3 ID : 630680770056
Option 4 ID : 630680770055
Status : Answered
Chosen Option : C

Comprehension:

निम्नलिखित गद्यांश को ध्यानपूर्वक पढ़े और प्रश्न के उत्तर दीजिये:

मैं स्वप्न नहीं देखा करता। मैं एक व्यवहारी आदर्शवादी होने का दावा करता हूँ। अहिंसा का धर्म केवल ऋषियों और महात्माओं के लिए नहीं है। वह जनसाधारण के लिए भी है। जिस तरह से हिंसा पशुओं का जीवन सिद्धांत है, उसी तरह अहिंसा हम मानवों का। पशु में आत्मा सुप्त पड़ी रहती है और पशु शारीरिक बल के अतिरिक्त और कोई नियम नहीं जानता। मनुष्य की मर्यादा के लिए एक उच्च नियम- आत्मिक शक्ति- के प्रति आज्ञाकारिता आवश्यक है। इसीलिए मैंने भारत के सामने आत्म-त्याग का पुराना सिद्धांत रखने का साहस किया है। सत्याग्रह और उसकी शाखाएं- असहयोग और सविनय अवज्ञा- और कुछ नहीं, बल्कि कष्ट सहन के नाम हैं। जिन ऋषियों ने हिंसा के बीच अहिंसा के सिद्धांत का पता लगाया वे न्यूटन से भी अधिक प्रतिभा-सम्पन्न थे; वेलिंगटन से भी बड़े योद्धा थे। शस्त्रों के प्रयोग को स्वयं जानकार भी उन्होंने उनकी निरर्थकता को समझा और इस धके हुए संसार को सिखाया कि मुक्ति हिंसा नहीं, बल्कि अहिंसा के द्वारा ही मिल सकती है।

SubQuestion No : 21

Q.21 गद्यांश से यह निष्कर्ष निकलता है कि मानव को-

- Ans A. साधारण-जन बनना चाहिए
 B. ऋषि बनना चाहिए
 C. अहिंसक बनना चाहिए
 D. प्रतिभा-संपन्न वैज्ञानिक बनना चाहिए

Question ID : 630680127825
Option 1 ID : 630680495461
Option 2 ID : 630680495462
Option 3 ID : 630680495463
Option 4 ID : 630680495460
Status : Answered
Chosen Option : D

Comprehension:

निम्नलिखित गद्यांश को ध्यानपूर्वक पढ़ें और प्रश्न के उत्तर दीजिये:

मैं स्वप्न नहीं देखा करता। मैं एक व्यवहारी आदर्शवादी होने का दावा करता हूँ। अहिंसा का धर्म केवल ऋषियों और महात्माओं के लिए नहीं है। वह जनसाधारण के लिए भी है। जिस तरह से हिंसा पशुओं का जीवन सिद्धांत है, उसी तरह अहिंसा हम मानवों का। पशु में आत्मा सुप्त पड़ी रहती है और पशु शारीरिक बल के अतिरिक्त और कोई नियम नहीं जानता। मनुष्य की मर्यादा के लिए एक उच्च नियम- आत्मिक शक्ति- के प्रति आज्ञाकारिता आवश्यक है। इसीलिए मैंने भारत के सामने आत्म-त्याग का पुराना सिद्धांत रखने का साहस किया है। सत्याग्रह और उसकी शाखाएं- असहयोग और सविनय अवज्ञा- और कुछ नहीं, बल्कि कष्ट सहन के नाम हैं। जिन ऋषियों ने हिंसा के बीच अहिंसा के सिद्धांत का पता लगाया वे न्यूनतम से भी अधिक प्रतिभा-सम्पन्न थे; वे लिंगटन से भी बड़े योद्धा थे। शस्त्रों के प्रयोग को स्वयं जानकार भी उन्होंने उनकी निरर्थकता को समझा और इस थके हुए संसार को सिखाया कि मुक्ति हिंसा नहीं, बल्कि अहिंसा के द्वारा ही मिल सकती है।

SubQuestion No : 22

Q.22 अहिंसा के सिद्धांत का पता लगाने वाले ऋषि न्यूनतम और वे लिंगटन से श्रेष्ठ थे, क्योंकि वे-

- Ans A. तपस्या कर सकते थे
 B. मुक्ति के लिए अहिंसा को जरूरी मानते थे
 C. शस्त्र और शास्त्र के ज्ञाता थे
 D. कष्ट-सहन कर सकते थे

Question ID : 630680127826
 Option 1 ID : 630680495465
 Option 2 ID : 630680495466
 Option 3 ID : 630680495467
 Option 4 ID : 630680495464
 Status : Answered
 Chosen Option : B

Comprehension:

निम्नलिखित गद्यांश को ध्यानपूर्वक पढ़ें और प्रश्न के उत्तर दीजिये:

मैं स्वप्न नहीं देखा करता। मैं एक व्यवहारी आदर्शवादी होने का दावा करता हूँ। अहिंसा का धर्म केवल ऋषियों और महात्माओं के लिए नहीं है। वह जनसाधारण के लिए भी है। जिस तरह से हिंसा पशुओं का जीवन सिद्धांत है, उसी तरह अहिंसा हम मानवों का। पशु में आत्मा सुप्त पड़ी रहती है और पशु शारीरिक बल के अतिरिक्त और कोई नियम नहीं जानता। मनुष्य की मर्यादा के लिए एक उच्च नियम- आत्मिक शक्ति- के प्रति आज्ञाकारिता आवश्यक है। इसीलिए मैंने भारत के सामने आत्म-त्याग का पुराना सिद्धांत रखने का साहस किया है। सत्याग्रह और उसकी शाखाएं- असहयोग और सविनय अवज्ञा- और कुछ नहीं, बल्कि कष्ट सहन के नाम हैं। जिन ऋषियों ने हिंसा के बीच अहिंसा के सिद्धांत का पता लगाया वे न्यूनतम से भी अधिक प्रतिभा-सम्पन्न थे; वे लिंगटन से भी बड़े योद्धा थे। शस्त्रों के प्रयोग को स्वयं जानकार भी उन्होंने उनकी निरर्थकता को समझा और इस थके हुए संसार को सिखाया कि मुक्ति हिंसा नहीं, बल्कि अहिंसा के द्वारा ही मिल सकती है।

SubQuestion No : 23

Q.23 पशुओं का जीवन सिद्धांत किसे बताया गया है?

- Ans A. आज्ञाकारिता
 B. अहिंसा को
 C. हिंसा को
 D. शारीरिक बल

Question ID : 630680127823
 Option 1 ID : 630680495455
 Option 2 ID : 630680495453
 Option 3 ID : 630680495452
 Option 4 ID : 630680495454
 Status : Answered
 Chosen Option : C

Comprehension:

निम्नलिखित गद्यांश को ध्यानपूर्वक पढ़ें और प्रश्न के उत्तर दीजिये:

मैं स्वप्न नहीं देखा करता। मैं एक व्यवहारी आदर्शवादी होने का दावा करता हूँ। अहिंसा का धर्म केवल ऋषियों और महात्माओं के लिए नहीं है। वह जनसाधारण के लिए भी है। जिस तरह से हिंसा पशुओं का जीवन सिद्धांत है, उसी तरह अहिंसा हम मानवों का। पशु में आत्मा सुप्त पड़ी रहती है और पशु शारीरिक बल के अतिरिक्त और कोई नियम नहीं जानता। मनुष्य की मर्यादा के लिए एक उच्च नियम- आत्मिक शक्ति- के प्रति आज्ञाकारिता आवश्यक है। इसीलिए मैंने भारत के सामने आत्म-त्याग का पुराना सिद्धांत रखने का साहस किया है। सत्याग्रह और उसकी शाखाएँ- असहयोग और सविनय अवज्ञा- और कुछ नहीं, बल्कि कष्ट सहन के नाम हैं। जिन ऋषियों ने हिंसा के बीच अहिंसा के सिद्धांत का पता लगाया वे न्यूनतम से भी अधिक प्रतिभा-सम्पन्न थे; वे लिंगटन से भी बड़े योद्धा थे। शस्त्रों के प्रयोग को स्वयं जानकार भी उन्होंने उनकी निरर्थकता को समझा और इस थके हुए संसार को सिखाया कि मुक्ति हिंसा नहीं, बल्कि अहिंसा के द्वारा ही मिल सकती है।

SubQuestion No : 24

Q.24 गद्यांश में जनसाधारण के लिए किस सिद्धांत की बात कही गई है?

- Ans A. आत्मिक शक्ति का सिद्धांत
 B. मर्यादा का सिद्धांत
 C. सविनय अवज्ञा का सिद्धांत
 D. अहिंसा का सिद्धांत

Question ID : 630680127824
 Option 1 ID : 630680495456
 Option 2 ID : 630680495459
 Option 3 ID : 630680495458
 Option 4 ID : 630680495457
 Status : Answered
 Chosen Option : D

Comprehension:

निम्नलिखित गद्यांश को ध्यानपूर्वक पढ़ें और प्रश्न के उत्तर दीजिये:

मैं स्वप्न नहीं देखा करता। मैं एक व्यवहारी आदर्शवादी होने का दावा करता हूँ। अहिंसा का धर्म केवल ऋषियों और महात्माओं के लिए नहीं है। वह जनसाधारण के लिए भी है। जिस तरह से हिंसा पशुओं का जीवन सिद्धांत है, उसी तरह अहिंसा हम मानवों का। पशु में आत्मा सुप्त पड़ी रहती है और पशु शारीरिक बल के अतिरिक्त और कोई नियम नहीं जानता। मनुष्य की मर्यादा के लिए एक उच्च नियम- आत्मिक शक्ति- के प्रति आज्ञाकारिता आवश्यक है। इसीलिए मैंने भारत के सामने आत्म-त्याग का पुराना सिद्धांत रखने का साहस किया है। सत्याग्रह और उसकी शाखाएँ- असहयोग और सविनय अवज्ञा- और कुछ नहीं, बल्कि कष्ट सहन के नाम हैं। जिन ऋषियों ने हिंसा के बीच अहिंसा के सिद्धांत का पता लगाया वे न्यूनतम से भी अधिक प्रतिभा-सम्पन्न थे; वे लिंगटन से भी बड़े योद्धा थे। शस्त्रों के प्रयोग को स्वयं जानकार भी उन्होंने उनकी निरर्थकता को समझा और इस थके हुए संसार को सिखाया कि मुक्ति हिंसा नहीं, बल्कि अहिंसा के द्वारा ही मिल सकती है।

SubQuestion No : 25

Q.25 गद्यांश के लेखक ने अपने क्या होने का दावा किया है?

- Ans A. वैचारिक आदर्शवादी
 B. सैद्धांतिक आदर्शवादी
 C. व्यावहारिक आदर्शवादी
 D. अहिंसावादी आदर्शवादी

Question ID : 630680127822
 Option 1 ID : 630680495450
 Option 2 ID : 630680495449
 Option 3 ID : 630680495451
 Option 4 ID : 630680495448
 Status : Answered
 Chosen Option : C