

CRPF
Constable
Previous Year Paper
Technical Tradesman
05 July, 2023 Shift 1

Adda247

Adda247

Test Prime

ALL EXAMS, ONE SUBSCRIPTION



1,00,000+
Mock Tests



Personalised
Report Card



Unlimited
Re-Attempt



600+
Exam Covered



25,000+ Previous
Year Papers



500%
Refund



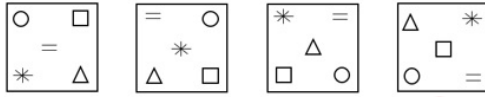
ATTEMPT FREE MOCK NOW

CRPF Technical Tradesman 1st to 12th July 2023

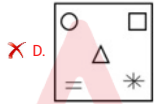
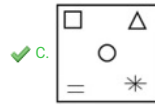
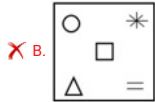
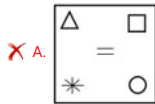
Participant ID	
Participant Name	
Test Center Name	
Test Date	05/07/2023
Test Time	8:30 AM - 10:30 AM
Subject	Constable Water Carrier

Section : General Intelligence and Reasoning

Q.1 उस आकृति का चयन कीजिए जो निम्नलिखित श्रृंखला में आगे आएगी।



Ans



Question ID : 630680137142
 Option 1 ID : 630680531166
 Option 2 ID : 630680531167
 Option 3 ID : 630680531168
 Option 4 ID : 630680531169
 Status : Answered
 Chosen Option : C

Q.2 दी गई श्रृंखला में प्रश्न चिह्न (?) के स्थान पर क्या आना चाहिए?
99, 122, 143, 170, ?

- Ans
- A. 201
 - B. 197
 - C. 210
 - D. 195

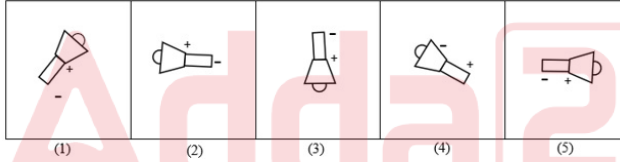
Question ID : 630680139889
Option 1 ID : 630680541479
Option 2 ID : 630680541481
Option 3 ID : 630680541478
Option 4 ID : 630680541480
Status : Answered
Chosen Option : D

Q.3 एक निश्चित कूट भाषा में, 'LAMP' को '2364', 'FRAME' को '75239' और 'CAP' को '214' के रूप में कूटबद्ध किया जाता है।
दी गई कूट भाषा में 'C' के लिए कूट क्या है?

- Ans
- A. 2
 - B. 1
 - C. 4
 - D. 5

Question ID : 630680261924
Option 1 ID : 6306801017353
Option 2 ID : 6306801017352
Option 3 ID : 6306801017354
Option 4 ID : 6306801017351
Status : Not Answered
Chosen Option : --

Q.4 नीचे दी गई आकृतियों में से कौन-सी आकृति असंगत है?



- Ans
- A. 5
 - B. 3
 - C. 1
 - D. 4

Question ID : 630680128172
Option 1 ID : 630680496657
Option 2 ID : 630680496655
Option 3 ID : 630680496654
Option 4 ID : 630680496656
Status : Answered
Chosen Option : D

Q.5 C का विवाह A से हुआ है। D, B की बहन है और A, B की माता है। F, C का पिता है और F का विवाह E से हुआ है। G, F की पुत्री है। A का G के साथ क्या संबंध है?

- Ans
- A. पति की बहन
 - B. भाई की पत्नी
 - C. माँ की माँ
 - D. पिता की माँ

Question ID : 630680119309
 Option 1 ID : 630680462326
 Option 2 ID : 630680462329
 Option 3 ID : 630680462328
 Option 4 ID : 630680462327
 Status : Answered
 Chosen Option : B

Q.6 A, B का पति है। C, D का भाई है। D, E की पत्नी है। E, B का दामाद है। F, D की पुत्री है। A किस प्रकार F से संबंधित है?

- Ans
- A. नाना
 - B. चाचा/ताऊ
 - C. मामा
 - D. दादा

Question ID : 630680117510
 Option 1 ID : 630680455277
 Option 2 ID : 630680455274
 Option 3 ID : 630680455275
 Option 4 ID : 630680455276
 Status : Answered
 Chosen Option : A

Q.7 दर्पण को MN पर रखे जाने पर दी गई आकृति के सही दर्पण प्रतिबिम्ब का चयन कीजिए।

QSBX94hrf

M
|
N

- Ans
- A. hrf49XSQ
 - B. hrf49XSQ
 - C. hrf49XSQ
 - D. hrf49XSQ

Question ID : 630680177286
 Option 1 ID : 630680687323
 Option 2 ID : 630680687320
 Option 3 ID : 630680687321
 Option 4 ID : 630680687322
 Status : Answered
 Chosen Option : A

Q.8 दिए गए विकल्पों में से वह संख्या चुनें, जो निम्नलिखित श्रृंखला में प्रश्न-चिह्न (?) के स्थान पर आएगी?

3, 7, 13, 21, 31, 43, ?

Ans A. 57

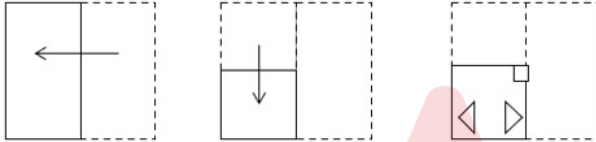
B. 58

C. 60

D. 59

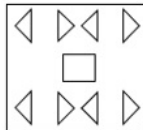
Question ID : 630680119321
 Option 1 ID : 630680462374
 Option 2 ID : 630680462375
 Option 3 ID : 630680462377
 Option 4 ID : 630680462376
 Status : Answered
 Chosen Option : A

Q.9 एक कागज को निम्नानुसार मोड़ा और काटा जाता है। खोलने पर यह कैसा दिखाई दे सकता है?

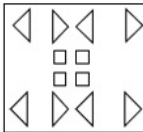


Ans

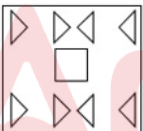
A.



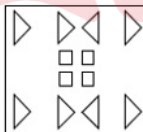
B.



C.



D.



Question ID : 630680147866
 Option 1 ID : 630680572180
 Option 2 ID : 630680572179
 Option 3 ID : 630680572178
 Option 4 ID : 630680572181
 Status : Answered
 Chosen Option : A

Q.10 तरुण दक्षिण दिशा की ओर अभिमुख है। वह 10 m चलता है और बाएं मुड़ता है। फिर वह 5 m चलता है और दायें मुड़ता है फिर 7 m और चलता है। फिर वह दायें मुड़ता है और 5 m चलता है। वह आरंभिक बिंदु से कितनी दूरी पर है?

- Ans A. 17m
 B. 27m
 C. 15m
 D. 10m

Question ID : 63068053347
 Option 1 ID : 630680205474
 Option 2 ID : 630680205475
 Option 3 ID : 630680205476
 Option 4 ID : 630680205477
 Status : Answered
 Chosen Option : A

Q.11 निम्न आकृति में वर्गों की संख्या जात कीजिए।



- Ans A. 16
 B. 12
 C. 11
 D. 15

Question ID : 630680115221
 Option 1 ID : 630680446253
 Option 2 ID : 630680446252
 Option 3 ID : 630680446250
 Option 4 ID : 630680446251
 Status : Answered
 Chosen Option : D

Q.12 दिए गए विकल्पों में से उस संख्या का चयन करें जो निम्नलिखित समीकरण में प्रश्न चिह्न (?) के स्थान पर आ सकती है।

$$96.01 \div 6.01 \div 1.99 \times 25.01 = ? + 8.99^2$$

- Ans A. 130
 B. 119
 C. 125
 D. 108

Question ID : 630680204246
 Option 1 ID : 630680792069
 Option 2 ID : 630680792067
 Option 3 ID : 630680792068
 Option 4 ID : 630680792070
 Status : Not Answered
 Chosen Option : --

Q.13 यदि + का अर्थ - है, - का अर्थ × है, × का अर्थ ÷ है, ÷ का अर्थ + है, तो निम्नलिखित समीकरण में प्रश्नवाचक चिह्न (?) के स्थान पर क्या आएगा?

$$782+58-364\times 28\div 72=?$$

- Ans A. 100
 B. 112
 C. 121
 D. 101

Question ID : 630680118426
 Option 1 ID : 630680458840
 Option 2 ID : 630680458841
 Option 3 ID : 630680458838
 Option 4 ID : 630680458839
 Status : Answered
 Chosen Option : A

Q.14 निम्नलिखित में से कौन-सा मान, निकटतम लगभग मान है, जो दिए गए समीकरण में प्रश्न-चिह्न (?) को प्रतिस्थापित कर सकता है?

$$41.99 \times 10.01 + \sqrt[3]{4999} \div 40.01 = ? - 15.01$$

- Ans A. 440
 B. 480
 C. 520
 D. 380

Question ID : 630680161775
 Option 1 ID : 630680626430
 Option 2 ID : 630680626429
 Option 3 ID : 630680626428
 Option 4 ID : 630680626431
 Status : Answered
 Chosen Option : A

Q.15 आकांक्षा अपने घर से निकली और दक्षिण की ओर 35 km चली। फिर वह दाईं ओर मुड़ी और 10 km चली। फिर से, वह दाईं ओर मुड़ी और 20 km चली। फिर वह बाईं ओर मुड़ी और 10 km चली। अंत में, वह दाईं ओर मुड़ी और 15 km चली। आकांक्षा को अपने घर तक पहुँचने के लिए अब कितनी दूरी तय करनी होगी?

- Ans A. 35 km
 B. 20 km
 C. 40 km
 D. 10 km

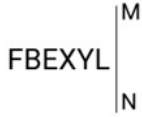
Question ID : 630680261983
 Option 1 ID : 6306801017588
 Option 2 ID : 6306801017589
 Option 3 ID : 6306801017587
 Option 4 ID : 6306801017590
 Status : Answered
 Chosen Option : B

Q.16 एक निश्चित कूट भाषा में,
'water is cold' को 'yk hl cr' के रूप में कूटबद्ध किया जाता है,
'serve cold drink' को 'sd cr ls' के रूप में कूटबद्ध किया जाता है,
'drink is ready' को 'tf sd yk' के रूप में कूटबद्ध किया जाता है.
'cold drink' के लिए संभावित कूट क्या हो सकता है?

- Ans
- A. sd cr
 - B. cr ls
 - C. yk sd
 - D. sd ls

Question ID : 630680261968
Option 1 ID : 6306801017528
Option 2 ID : 6306801017529
Option 3 ID : 6306801017527
Option 4 ID : 6306801017530
Status : Answered
Chosen Option : A

Q.17 दी गई आकृति के सही दर्पण प्रतिबिंब का चयन करें, जब दर्पण को MN पर रखा जाता है जैसा कि नीचे दिखाया गया है।



- Ans
- A. JYXEBF
 - B. JYXB EF
 - C. JYXEBF
 - D. JYXEBF

Question ID : 630680162221
Option 1 ID : 630680628189
Option 2 ID : 630680628190
Option 3 ID : 630680628191
Option 4 ID : 630680628188
Status : Answered
Chosen Option : D

Q.18 विकल्पों में दी गई आकृतियों में से कौन-सी आकृति '?' के स्थान पर रखे जाने पर ताकिक रूप से श्रृंखला को पूरा करेगी?



Ans

- A.
- B.
- C.
- D.

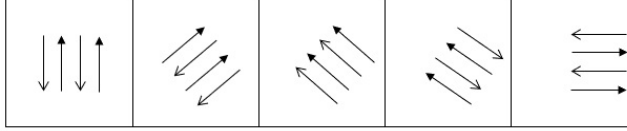
Question ID : 630680128352
Option 1 ID : 630680497241
Option 2 ID : 630680497238
Option 3 ID : 630680497239
Option 4 ID : 630680497240
Status : Answered
Chosen Option : A

Q.19 P, Q का पुत्र है। Q, R की माँ है। R, T की पत्नी है। T, V के पिता है। V, W का भाई है। Y, T की माँ है। T, P से किस प्रकार संबंधित है?

- A. पुत्र
- B. दामाद
- C. जीजा
- D. भाई

Question ID : 630680106075
Option 1 ID : 630680412200
Option 2 ID : 630680412199
Option 3 ID : 630680412201
Option 4 ID : 630680412202
Status : Answered
Chosen Option : C

Q.20 निम्नलिखित में से कौन सी आकृति असंगत है?



(1)

(2)

(3)

(4)

(5)

Ans A. 5
 B. 2
 C. 3
 D. 4

Question ID : 630680137876
 Option 1 ID : 630680533825
 Option 2 ID : 630680533822
 Option 3 ID : 630680533823
 Option 4 ID : 630680533824
 Status : Answered
 Chosen Option : C

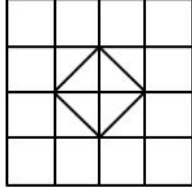
Q.21 निम्नलिखित में से कौन-सा मान, निकटतम लगभग मान है, जो दिए गए समीकरण में प्रश्न-चिह्न (?) को प्रतिस्थापित कर सकता है?

$$(99.99 + 85.01 + 14.98) \times 2.01 = (?)^2$$

Ans A. 8
 B. 16
 C. 20
 D. 24

Question ID : 630680161780
 Option 1 ID : 630680626448
 Option 2 ID : 630680626449
 Option 3 ID : 630680626450
 Option 4 ID : 630680626451
 Status : Answered
 Chosen Option : C

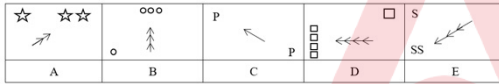
Q.22 नीचे दी गई आकृति में कितने वर्ग हैं?



- Ans
- A. 35
 - B. 33
 - C. 31
 - D. 29

Question ID : 63068057744
 Option 1 ID : 630680222817
 Option 2 ID : 630680222816
 Option 3 ID : 630680222815
 Option 4 ID : 630680222814
 Status : Answered
 Chosen Option : D

Q.23 निम्नलिखित पांच आकृतियों में से चार आकृतियां किसी न किसी रूप में एक जैसी हैं और इस प्रकार ये चारों आकृतियां एक समूह बनाती हैं। कौन-सी आकृति समूह से भिन्न है?



- Ans
- A. D
 - B. A
 - C. C
 - D. E

Question ID : 630680113720
 Option 1 ID : 630680440407
 Option 2 ID : 630680440408
 Option 3 ID : 630680440409
 Option 4 ID : 630680440406
 Status : Answered
 Chosen Option : D

Q.24 दर्पण को MN पर रखे जाने पर दी गई आकृति के सही दर्पण प्रतिबिम्ब का चयन कीजिए।



- Ans
- A. F c v x h i 2
 - B. F ɔ v x d i S
 - C. F c v x d i 2
 - D. F ɔ v x h i 2

Question ID : 630680177294
 Option 1 ID : 630680687353
 Option 2 ID : 630680687355
 Option 3 ID : 630680687352
 Option 4 ID : 630680687354
 Status : Answered
 Chosen Option : D

Q.25 'P % Q' का अर्थ है कि, 'P, Q का पिता है'
 'P & Q' का अर्थ है कि, 'P, Q की माता है'
 'P # Q' का अर्थ है कि, 'P, Q का पति है'
 'P \$ Q' का अर्थ है कि, 'P, Q की पुत्री है'
 'P @ Q' का अर्थ है कि, 'P, Q का भाई है'
 यदि 'G % C @ D \$ F & L # B & E' है, तो B का G से क्या संबंध है?

- Ans
- A. पुत्र-वधू
 - B. बहन
 - C. पुत्री
 - D. माता

Question ID : 630680127378
 Option 1 ID : 630680493776
 Option 2 ID : 630680493778
 Option 3 ID : 630680493777
 Option 4 ID : 630680493779
 Status : Answered
 Chosen Option : A

Section : General Knowledge and General Awareness

Q.1 चोल साम्राज्य में प्रचलित निम्नलिखित शब्दावली को उनके सही अर्थों के साथ सुमेलित करें।

a. मंडलम	I.मंदिर का प्रवेश-द्वार
b. वालानाडु	II.सभा
c. उर	III.जिला
d. गोपुरम	IV.राज्य

- Ans A. a - IV, b - III, c - II, d - I
 B. a - II, b - I, c - IV, d - III
 C. a - I, b - II, c - III, d - IV
 D. a - IV, b - II, c - III, d - I

Question ID : 630680127617
 Option 1 ID : 630680494726
 Option 2 ID : 630680494725
 Option 3 ID : 630680494724
 Option 4 ID : 630680494727
 Status : Answered
 Chosen Option : A

Q.2 मानव विकास रिपोर्ट, 2020 के अनुसार, भारत में किस अवधि के दौरान जन्म के समय जीवन प्रत्याशा में लगभग 12 वर्ष की वृद्धि हुई?

- Ans A. 1995 से 2010
 B. 1990 से 2019
 C. 1980 से 2005
 D. 1985 से 2015

Question ID : 63068090297
 Option 1 ID : 630680349962
 Option 2 ID : 630680349963
 Option 3 ID : 630680349964
 Option 4 ID : 630680349965
 Status : Answered
 Chosen Option : A

Q.3 निम्नलिखित में से किस केंद्र शासित प्रदेश में रंगदम मठ स्थित है?

- Ans A. पुदुचेरी
 B. दमन और दीव
 C. चंडीगढ़
 D. लद्दाख

Question ID : 630680214129
 Option 1 ID : 630680830563
 Option 2 ID : 630680830564
 Option 3 ID : 630680830566
 Option 4 ID : 630680830565
 Status : Answered
 Chosen Option : A

Q.4 निम्न में से कौन अनेटो (annatto) में उच्च मात्रा में पाया जाता है?

- Ans A. कैरोटीनॉयड
 B. हीम रंजक
 C. काला रंग
 D. फ्लेविनॉइड

Question ID : 630680214105
 Option 1 ID : 630680830469
 Option 2 ID : 630680830468
 Option 3 ID : 630680830467
 Option 4 ID : 630680830470
 Status : Answered
 Chosen Option : A

Q.5 भारत के क्षेत्र के किसी भी भूभाग में रहने और बसने के मौलिक अधिकार को निम्न में से किस श्रेणी के तहत वर्गीकृत किया गया है?

- Ans A. कतिपय अपराधों में निरोध के संबंध में संरक्षण
 B. कतिपय मामलों में गिरफ्तारी के खिलाफ संरक्षण
 C. जीवन की सुरक्षा और व्यक्तिगत स्वतंत्रता
 D. अभिव्यक्ति की स्वतंत्रता के संबंध में कतिपय अधिकारों, आदि का संरक्षण।

Question ID : 63068092792
 Option 1 ID : 630680359860
 Option 2 ID : 630680359861
 Option 3 ID : 630680359859
 Option 4 ID : 630680359862
 Status : Answered
 Chosen Option : D

Q.6 उत्तर-पूर्वी मानसून द्वारा सर्दियों में किस क्षेत्र में वर्षा होती है?

- Ans A. केंद्रीय उच्चभूमि
 B. भारत के द्वीप
 C. प्रायद्वीपीय पठार
 D. कोरोमंडल तट

Question ID : 630680113733
 Option 1 ID : 630680440460
 Option 2 ID : 630680440461
 Option 3 ID : 630680440458
 Option 4 ID : 630680440459
 Status : Answered
 Chosen Option : A

Q.7 बीजीय पादपों की उस विशेषता को किस नाम से जाना जाता है, जिसमें एक शुक्राणु केन्द्रक, अंड केन्द्रक के साथ एक भ्रूण बनाने के लिए और दूसरा ध्रुवीय केन्द्रक के साथ एक एंडोस्पर्म बनाने के लिए संलयित होता है?

- Ans A. दोहरा निषेचन
 B. तिहरा निषेचन
 C. आंतरिक निषेचन
 D. पार (क्रॉस) परागण

Question ID : 630680102280
 Option 1 ID : 630680397405
 Option 2 ID : 630680397403
 Option 3 ID : 630680397404
 Option 4 ID : 630680397406
 Status : Answered
 Chosen Option : A

Q.8 उस स्थान का नाम बताइए, जहाँ दक्षिण पूर्व मध्य रेलवे जोन का मुख्यालय स्थित है।

- Ans A. कोलकाता
 B. बिलासपुर
 C. मुंबई
 D. चेन्नई

Question ID : 630680209264
 Option 1 ID : 630680811271
 Option 2 ID : 630680811272
 Option 3 ID : 630680811274
 Option 4 ID : 630680811273
 Status : Answered
 Chosen Option : B

Q.9 आंध्र प्रदेश और तेलंगाना के लोक संगीत सुवि पातालु में किस प्रकार के वाद्य-यंत्रों का प्रयोग किया जाता है?

- Ans A. पवन वाद्ययंत्र
 B. तंतु वाद्ययंत्र
 C. आघात वाद्ययंत्र
 D. घन वाद्ययंत्र

Question ID : 630680214180
 Option 1 ID : 630680830768
 Option 2 ID : 630680830770
 Option 3 ID : 630680830767
 Option 4 ID : 630680830769
 Status : Answered
 Chosen Option : A

Q.10 निम्नलिखित में से क्या किसी देश के आर्थिक और सामाजिक विकास का सहायक तंत्र है?

- Ans A. प्राकृतिक संसाधन
 B. ग्रामीण विकास
 C. आधारभूत संरचना
 D. जनसंख्या

Question ID : 630680111942
 Option 1 ID : 630680433495
 Option 2 ID : 630680433494
 Option 3 ID : 630680433496
 Option 4 ID : 630680433497
 Status : Answered
 Chosen Option : A

Q.11 लूनी नदी इनमें से किस क्षेत्र में है?

- Ans A. उत्तरी मैदान
 B. भारतीय रेगिस्तान
 C. प्रायद्वीपीय पठार
 D. तटीय मैदान

Question ID : 630680113532
 Option 1 ID : 630680439664
 Option 2 ID : 630680439663
 Option 3 ID : 630680439662
 Option 4 ID : 630680439665
 Status : Answered
 Chosen Option : A

Q.12 भावगीत किस राज्य का प्रसिद्ध लोक-संगीत है?

- Ans A. कर्नाटक
 B. केरल
 C. आंध्र प्रदेश
 D. असम

Question ID : 630680214178
 Option 1 ID : 630680830762
 Option 2 ID : 630680830761
 Option 3 ID : 630680830760
 Option 4 ID : 630680830759
 Status : Answered
 Chosen Option : A

Q.13 निम्नलिखित में से किस संगठन से, जिसकी एक शाखा भारत में भी है, रूसी अध्यात्मवादी मैडम एचपी ब्लावात्स्की (Madame HP Blavatsky) और अमेरिकी सैन्य अधिकारी कर्नल एचएस ऑलकॉट (Col. HS Olcott) जुड़े थे?

- Ans A. परमहंस मंडली
 B. थियिसोफिकल सोसाइटी
 C. ब्रह्म समाज
 D. एशियाटिक सोसायटी

Question ID : 630680214246
 Option 1 ID : 630680831034
 Option 2 ID : 630680831031
 Option 3 ID : 630680831032
 Option 4 ID : 630680831033
 Status : Answered
 Chosen Option : A

Q.14 उन राज्यों के समूह की पहचान कीजिए, जो गरीब कल्याण रोजगार अभियान (2020) का हिस्सा नहीं हैं।

- Ans A. राजस्थान और झारखंड
 B. उत्तर प्रदेश और बिहार
 C. उत्तर प्रदेश और मध्य प्रदेश
 D. असम और पश्चिम बंगाल

Question ID : 630680209251
 Option 1 ID : 630680811220
 Option 2 ID : 630680811221
 Option 3 ID : 630680811219
 Option 4 ID : 630680811222
 Status : Answered
 Chosen Option : A

Q.15 शरीर को वृद्धि, मरम्मत और ऊर्जा के लिए निम्नलिखित में से किसकी आवश्यकता होती है?

- Ans A. पोषक तत्त्व
 B. केवल कार्बोहाइड्रेट
 C. केवल प्रोटीन
 D. कैलोरी

Question ID : 630680214100
 Option 1 ID : 630680830449
 Option 2 ID : 630680830448
 Option 3 ID : 630680830447
 Option 4 ID : 630680830450
 Status : Answered
 Chosen Option : D

Q.16 इलेक्ट्रॉनिक्स और सूचना प्रौद्योगिकी मंत्रालय (MeitY) ने 2021 में _____ के साथ साझेदारी में क्वांटम कंप्यूटिंग एप्लीकेशन लैब की स्थापना की घोषणा की है।

- Ans
- A. माइक्रोसॉफ्ट
 - B. एप्पल
 - C. अमेज़न वेब सर्विस
 - D. मेटा

Question ID : 630680113606
 Option 1 ID : 630680439961
 Option 2 ID : 630680439960
 Option 3 ID : 630680439958
 Option 4 ID : 630680439959
 Status : Answered
 Chosen Option : A

Q.17 निम्नलिखित में से किसने चौथे को वार्षिक कर के रूप में 17वीं और 18वीं शताब्दी में राजस्व या उपज पर अभिहित रूप से 25% लगाया?

- Ans
- A. अफगानों ने
 - B. जाटों ने
 - C. मुगलों ने
 - D. मराठों ने

Question ID : 630680118811
 Option 1 ID : 630680460348
 Option 2 ID : 630680460346
 Option 3 ID : 630680460349
 Option 4 ID : 630680460347
 Status : Answered
 Chosen Option : A

Q.18 फरवरी 2022 में भारतीय विज्ञान संस्थान (IISc) बेंगलूर में राष्ट्रीय सुपरकंप्यूटिंग मिशन के तहत निम्नलिखित में से कौन-सा सुपर कंप्यूटर स्थापित किया गया था?

- Ans
- A. परम शिव
 - B. प्रलुष
 - C. मिहिर
 - D. परम प्रवेग

Question ID : 630680115976
 Option 1 ID : 630680449235
 Option 2 ID : 630680449237
 Option 3 ID : 630680449236
 Option 4 ID : 630680449234
 Status : Answered
 Chosen Option : D

Q.19 जब गरीबों की संख्या का अनुमान गरीबी रेखा से नीचे के लोगों के अनुपात के रूप में लगाया जाता है, तो इसे _____ के रूप में जाना जाता है।

- Ans A. हेड काउंट अनुपात
 B. गरीबी रेखा
 C. गरीबी अंतर
 D. गरीबी रेखा बास्केट

Question ID : 630680209049
 Option 1 ID : 630680810411
 Option 2 ID : 630680810412
 Option 3 ID : 630680810414
 Option 4 ID : 630680810413
 Status : Answered
 Chosen Option : A

Q.20 फरवरी 2022 में, प्रधान मंत्री नरेंद्र मोदी ने थलसेनाध्यक्ष को अर्जुन एमके -1A सौंपा। अर्जुन एमके-1A क्या है?

- Ans A. युद्ध टैंक
 B. मशीन गन
 C. मिसाइल
 D. हेलीकॉप्टर

Question ID : 630680116392
 Option 1 ID : 630680450864
 Option 2 ID : 630680450865
 Option 3 ID : 630680450863
 Option 4 ID : 630680450862
 Status : Answered
 Chosen Option : A

Q.21 1592 तक, निम्नलिखित में से किस मुगल मनसबदार ने पूरे उड़ीसा को मुगल शासन के अधीन कर दिया?

- Ans A. बैरम खान
 B. मुनीम खान खान-ए-खाना
 C. राजा मान सिंह
 D. मिर्जा अजीज कोका

Question ID : 630680214220
 Option 1 ID : 630680830929
 Option 2 ID : 630680830927
 Option 3 ID : 630680830930
 Option 4 ID : 630680830928
 Status : Answered
 Chosen Option : A

Q.22 केसरिया स्तूप कहाँ स्थित है?

- Ans A. थोलाकोंडा
 B. पूर्वी चंपारण
 C. सारनाथ
 D. गंगटोक

Question ID : 630680165363
 Option 1 ID : 630680640470
 Option 2 ID : 630680640469
 Option 3 ID : 630680640471
 Option 4 ID : 630680640468
 Status : Answered
 Chosen Option : A

Q.23 निम्नलिखित में से किसे 'नारी शक्ति' का मूर्त रूप माना गया और जर्मनी में हमारी स्वतंत्रता का झंडा फहराने वाली पहली भारतीय बनी?

- Ans
- A. सरोजिनी नायडू
 - B. सुचेता कृपलानी
 - C. भीकाजी कामा
 - D. लक्ष्मी सहगल

Question ID : 630680214239
 Option 1 ID : 630680831006
 Option 2 ID : 630680831004
 Option 3 ID : 630680831005
 Option 4 ID : 630680831003
 Status : Answered
 Chosen Option : D

Q.24 महात्मा गांधी के मार्गदर्शन में भारत में पहला राष्ट्रव्यापी विरोध निम्नलिखित में से कौन सा था?

- Ans
- A. खेड़ा सत्याग्रह
 - B. चंपारण सत्याग्रह
 - C. रोलेट सत्याग्रह
 - D. अहमदाबाद मिल हड़ताल

Question ID : 630680214228
 Option 1 ID : 630680830961
 Option 2 ID : 630680830959
 Option 3 ID : 630680830960
 Option 4 ID : 630680830962
 Status : Answered
 Chosen Option : A

Q.25 पद्म भूषण डॉ. पद्म सुब्रह्मण्यम, नृत्य की एक नई शैली के निर्माता हैं, जिसे _____ के नाम से जाना जाता है।

- Ans
- A. भरतनाट्यम
 - B. कुचिपुड़ी
 - C. मोहिनीअट्टम
 - D. कथक

Question ID : 630680158717
 Option 1 ID : 630680614361
 Option 2 ID : 630680614360
 Option 3 ID : 630680614363
 Option 4 ID : 630680614362
 Status : Answered
 Chosen Option : A

Section : Elementary Mathematics

Q.1 $3.2 \times \{ 2.125 + 0.5 \text{ of } (4.75 - 0.625 + 1.5625) \}$ को हल कीजिए।

- Ans
- A. 13.6
 - B. 13.66
 - C. 13.76
 - D. 15.072

Question ID : 63068070299
 Option 1 ID : 630680271829
 Option 2 ID : 630680271826
 Option 3 ID : 630680271827
 Option 4 ID : 630680271828
 Status : Answered
 Chosen Option : A

Q.2 एक परिवार अपनी कुल मासिक आय का 30% बचाता है। उनका मासिक खर्च, उनकी बचत के दोगुने से भी ₹4,000 अधिक है। उनका मासिक खर्च (₹ में) ज्ञात कीजिए।

- Ans
- A. 30000
 - B. 24000
 - C. 34000
 - D. 28000

Question ID : 630680112492
 Option 1 ID : 630680435662
 Option 2 ID : 630680435664
 Option 3 ID : 630680435665
 Option 4 ID : 630680435663
 Status : Answered
 Chosen Option : B

Q.3 एक समान चौड़ाई 5 m का पथ एक ऐसे आयताकार मैदान के चारों ओर है जिसकी माप 48 m X 27 m है। पथ के बाहरी आयत के परिमाण और पथ के आंतरिक आयत के परिमाण का अनुपात क्या होगा?

- Ans
- A. 19 : 15
 - B. 17 : 15
 - C. 15 : 17
 - D. 15 : 19

Question ID : 630680220617
 Option 1 ID : 630680856319
 Option 2 ID : 630680856320
 Option 3 ID : 630680856317
 Option 4 ID : 630680856318
 Status : Answered
 Chosen Option : A

Q.4 4 क्रमागत प्राकृत संख्याओं का औसत, जिनमें से सबसे छोटी संख्या n है, ज्ञात कीजिए।

Ans

✓ A. $\frac{(4n + 6)}{4}$

✗ B. $(4n + 6) \times 4$

✗ C. $\frac{(n + 4)}{4}$

✗ D. $4n + 6$

Question ID : 630680119852
Option 1 ID : 630680464477
Option 2 ID : 630680464474
Option 3 ID : 630680464475
Option 4 ID : 630680464476
Status : Answered
Chosen Option : A

Q.5 एक आदमी 40 पेन बेचता है और 8 पेन के बिक्री मूल्य के बराबर राशि की हानि उठाता है। उसका हानि प्रतिशत क्या है?

Ans

✓ A. $16\frac{2}{3}\%$

✗ B. $18\frac{1}{3}\%$

✗ C. $20\frac{2}{3}\%$

✗ D. $16\frac{1}{3}\%$

Question ID : 630680122771
Option 1 ID : 630680475996
Option 2 ID : 630680475997
Option 3 ID : 630680475995
Option 4 ID : 630680475994
Status : Answered
Chosen Option : A

Q.6 लगातार दो छूटों के बाद, ₹250 के सूची मूल्य वाली एक वस्तु ₹125 पर उपलब्ध है। यदि दूसरी छूट 10.5% है, तो पहली छूट ज्ञात कीजिए।

Ans

✗ A. 40.12%

✓ B. 44.13%

✗ C. 52.12%

✗ D. 50.02%

Question ID : 630680125153
Option 1 ID : 630680485392
Option 2 ID : 630680485390
Option 3 ID : 630680485391
Option 4 ID : 630680485393
Status : Answered
Chosen Option : B

Q.7 15 संख्याओं का औसत 80 है। यदि प्रथम आठ संख्याओं का औसत 77 है और अंतिम आठ संख्याओं का औसत 83 है, तो आठवीं संख्या ज्ञात कीजिए।

- Ans
- A. 83
 - B. 81
 - C. 80
 - D. 79

Question ID : 630680116177
 Option 1 ID : 630680450038
 Option 2 ID : 630680450041
 Option 3 ID : 630680450040
 Option 4 ID : 630680450039
 Status : Answered
 Chosen Option : C

Q.8 यदि एक घनाकार डिब्बे के तीन आसन्न फलकों का क्षेत्रफल 51cm^2 , 63cm^2 और 357cm^2 है, तो डिब्बे का आयतन क्या है?

- Ans
- A. 987cm^3
 - B. 1071cm^3
 - C. 1485cm^3
 - D. 1581cm^3

Question ID : 630680104068
 Option 1 ID : 630680404490
 Option 2 ID : 630680404487
 Option 3 ID : 630680404489
 Option 4 ID : 630680404488
 Status : Answered
 Chosen Option : B

Q.9 एक कंपनी ने 1200 पुरुषों और 800 महिलाओं को रोजगार दिया और उनका औसत वेतन 51 रुपये प्रति दिन था। यदि एक महिला को एक पुरुष से 10 रुपये कम मिलते हैं, तो महिला की दैनिक मजदूरी कितनी है?

- Ans
- A. Rs.45
 - B. Rs.55
 - C. Rs.40
 - D. Rs.50

Question ID : 630680109082
 Option 1 ID : 630680423149
 Option 2 ID : 630680423151
 Option 3 ID : 630680423148
 Option 4 ID : 630680423150
 Status : Answered
 Chosen Option : A

Q.10 17^{500} को 18 से विभाजित करने पर, प्राप्त शेषफल ज्ञात कीजिए।

- Ans
- A. 3
 - B. 2
 - C. 1
 - D. 4

Question ID : 630680218023
 Option 1 ID : 630680846001
 Option 2 ID : 630680846000
 Option 3 ID : 630680845999
 Option 4 ID : 630680846002
 Status : Answered
 Chosen Option : C

Q.11 9 cm कोर वाले एक ठोस घन को पिघलाकर 9 cm लंबे ऐसे घनाभ में ढाला जाता है जिसकी चौड़ाई 8 cm है। घनाभ के तीसरे आयाम की माप क्या होगी?

- Ans
- A. $\frac{21}{2}$ cm
 - B. $\frac{81}{8}$ cm
 - C. $\frac{91}{9}$ cm
 - D. 10 cm

Question ID : 630680222276
 Option 1 ID : 630680862938
 Option 2 ID : 630680862936
 Option 3 ID : 630680862937
 Option 4 ID : 630680862935
 Status : Answered
 Chosen Option : B

Q.12 दो स्टेशनों A और B के बीच की दूरी 1800 km है। एक रेलगाड़ी स्टेशन A से B की ओर पूर्वाह्न 7 बजे 100km/h की चाल से चलना शुरू करती है। एक दूसरी रेलगाड़ी स्टेशन B से A की ओर पूर्वाह्न 8 बजे 325km/h की चाल से चलना शुरू करती है। दोनों रेलगाड़ियां एक-दूसरे को कितने बजे पार करेंगी?

- Ans
- A. पूर्वाह्न 11 बजे
 - B. अपराह्न 3 बजे
 - C. पूर्वाह्न 9 बजे
 - D. दोपहर 12 बजे

Question ID : 630680206510
 Option 1 ID : 630680800648
 Option 2 ID : 630680800650
 Option 3 ID : 630680800647
 Option 4 ID : 630680800649
 Status : Answered
 Chosen Option : D

Q.13 8 cm त्रिज्या वाले गोले से बनाई जा सकने वाली 2 cm त्रिज्या वाली मोम की गेंदों की संख्या कितनी है?

- Ans
- A. 93
 - B. 57
 - C. 64
 - D. 82

Question ID : 630680108542
 Option 1 ID : 630680421127
 Option 2 ID : 630680421124
 Option 3 ID : 630680421125
 Option 4 ID : 630680421126
 Status : Answered
 Chosen Option : A

Q.14 एक रोड रोलर का व्यास 84 cm है और इसकी लंबाई 120 cm है। एक खेल के मैदान को समतल करने में उसके 500 चक्कर लगते हैं। खेल के मैदान का क्षेत्रफल ज्ञात कीजिए। ($\pi = \frac{22}{7}$ का प्रयोग करें)

- Ans
- A. $1580 \times 10^4 \text{ cm}^2$
 - B. $1582 \times 10^4 \text{ cm}^2$
 - C. $1584 \times 10^4 \text{ cm}^2$
 - D. $1584 \times 10^3 \text{ cm}^2$

Question ID : 630680220936
 Option 1 ID : 630680857594
 Option 2 ID : 630680857596
 Option 3 ID : 630680857595
 Option 4 ID : 630680857593
 Status : Answered
 Chosen Option : A

Q.15 एक हॉल 15 m लंबा और 12 m चौड़ा है। यदि फर्श और छत के क्षेत्रफल का योग चार दीवारों के क्षेत्रफल के योग के बराबर है, तो हॉल का आयतन कितना है?

- Ans
- A. 1000 m^3
 - B. 1100 m^3
 - C. 1200 m^3
 - D. 1150 m^3

Question ID : 630680107693
 Option 1 ID : 630680418064
 Option 2 ID : 630680418065
 Option 3 ID : 630680418067
 Option 4 ID : 630680418066
 Status : Not Answered
 Chosen Option : --

Q.16 $19 - \{19 \div (19 \times 2 - 19)\} = ?$

- Ans A. 0
 B. 18
 C. 1
 D. 19

Question ID : 63068079529
 Option 1 ID : 630680308156
 Option 2 ID : 630680308155
 Option 3 ID : 630680308154
 Option 4 ID : 630680308153
 Status : Answered
 Chosen Option : B

Q.17 1 लीटर और 2 लीटर की दो बोतलों में पानी और अल्कोहल का अनुपात क्रमशः 2 : 3 और 4 : 5 है। यदि 1 लीटर की बोतल और 2 लीटर की बोतल को मिलाया जाता है, तो मिश्रण में अल्कोहल और पानी का अनुपात क्या हो जाएगा?

- Ans A. 19 : 26
 B. 77 : 58
 C. 26 : 19
 D. 58 : 77

Question ID : 63068022272
 Option 1 ID : 630680862922
 Option 2 ID : 630680862920
 Option 3 ID : 630680862921
 Option 4 ID : 630680862919
 Status : Answered
 Chosen Option : A

Q.18 यदि $a = 2$ और $b = 3$ है तो $(a + b)^{(a+b)}$ का मान ज्ञात कीजिए

- Ans A. 32
 B. 3125
 C. 216
 D. 243

Question ID : 63068070824
 Option 1 ID : 630680273910
 Option 2 ID : 630680273912
 Option 3 ID : 630680273913
 Option 4 ID : 630680273911
 Status : Answered
 Chosen Option : B

Q.19 यदि एक बेलन का संपूर्णपृष्ठीय क्षेत्रफल 3080 m^2 है और त्रिज्या 14 m हो, तो बेलन की ऊँचाई कितनी है?
(मान लीजिए $\pi = 22/7$)

- Ans A. 28 m
 B. 21 m
 C. 14 m
 D. 35 m

Question ID : 630680220770
 Option 1 ID : 630680856932
 Option 2 ID : 630680856931
 Option 3 ID : 630680856930
 Option 4 ID : 630680856929
 Status : Answered
 Chosen Option : A

Q.20 यदि 28 cm व्यास वाले धातु के एक ठोस गोले को पिघलाकर 7 cm व्यास वाले कई छोटे गोलों में ढाला जाता है, तो इस प्रकार कितने छोटे गोलें बनाए जा सकेंगे?

- Ans A. 56
 B. 32
 C. 128
 D. 64

Question ID : 630680220934
 Option 1 ID : 630680857586
 Option 2 ID : 630680857587
 Option 3 ID : 630680857585
 Option 4 ID : 630680857588
 Status : Answered
 Chosen Option : A

Q.21 एक व्यक्ति अपनी मासिक आय का 30% भाग बचाता है। यदि उसकी मासिक आय में 20% की वृद्धि होती है, तो वह पिछली बचत से 20% अधिक बचत कर सकता है। उसके व्यय में हुई प्रतिशत वृद्धि _____ है।

- Ans A. 25%
 B. 30%
 C. 16%
 D. 20%

Question ID : 630680206502
 Option 1 ID : 630680800616
 Option 2 ID : 630680800618
 Option 3 ID : 630680800617
 Option 4 ID : 630680800615
 Status : Answered
 Chosen Option : A

Q.22 2 वर्षों के बाद ₹20,000 पर देय राशि क्या होगी जब क्रमिक वर्षों के लिए साधारण ब्याज की दर क्रमशः 10% और 8% है?

- Ans
- A. ₹24,000
 - B. ₹23,600
 - C. ₹23,760
 - D. ₹22,000

Question ID : 630680119864
 Option 1 ID : 630680464524
 Option 2 ID : 630680464523
 Option 3 ID : 630680464522
 Option 4 ID : 630680464525
 Status : Answered
 Chosen Option : B

Q.23 एक दुकानदार ने एक घड़ी खरीदी और उसे एक ग्राहक को 10% के लाभ पर बेच दिया। फिर, ग्राहक ने इसे एक ब्रोकर को 20% के लाभ पर बेच दिया और ₹220 का लाभ प्राप्त किया। दुकानदार ने किस कीमत पर घड़ी खरीदी थी?

- Ans
- A. Rs.1,550
 - B. Rs.1,000
 - C. Rs.1,600
 - D. Rs.1,700

Question ID : 630680108955
 Option 1 ID : 630680422714
 Option 2 ID : 630680422713
 Option 3 ID : 630680422712
 Option 4 ID : 630680422715
 Status : Answered
 Chosen Option : A

Q.24 दो पाइप किसी टंकी को क्रमशः 30 hrs और 40 hrs में भर सकते हैं। यदि दोनों पाइपों को एक साथ खोला जाए, तो उस टंकी को भरने में कितना समय लगेगा?

- Ans
- A. $17\frac{1}{7}$ hrs
 - B. $\frac{13}{7}$ hrs
 - C. $\frac{1}{7}$ hrs
 - D. $\frac{10}{7}$ hrs

Question ID : 630680107430
 Option 1 ID : 630680417085
 Option 2 ID : 630680417084
 Option 3 ID : 630680417086
 Option 4 ID : 630680417087
 Status : Answered
 Chosen Option : A

Q.25 एक दूधवाले के मिश्रण में दूध में $\frac{1}{4}$ पानी है। गुणवत्ता जांच को पास करने के लिए प्रत्येक 2.5 लीटर के नमूने में दूध की मात्रा, कुल मात्रा की $\frac{9}{10}$ होनी चाहिए। मिश्रण के 5 लीटर में, गुणवत्ता जांच में पास होने के लिए मिश्रण में कितना शुद्ध दूध (लीटर में) मिलाया जाना चाहिए?

- Ans
- A. 8
 - B. 7
 - C. 6.5
 - D. 7.5

Question ID : 630680136517
 Option 1 ID : 630680528700
 Option 2 ID : 630680528698
 Option 3 ID : 630680528701
 Option 4 ID : 630680528699
 Status : Answered
 Chosen Option : A

Section : English

Q.1 Choose the most appropriate meaning of the given idiom.
 In one's good books

- Ans
- A. In one's highest achievement
 - B. In one's favour
 - C. In a great difficulty
 - D. In the right mood

Question ID : 630680166992
 Option 1 ID : 630680646831
 Option 2 ID : 630680646830
 Option 3 ID : 630680646829
 Option 4 ID : 630680646828
 Status : Not Answered
 Chosen Option : --

Q.2 Identify the most appropriate ANTONYM of the given word.
 Miserable

- Ans
- A. Happy
 - B. Forlorn
 - C. Smiling
 - D. Despondent

Question ID : 630680163265
 Option 1 ID : 630680632269
 Option 2 ID : 630680632271
 Option 3 ID : 630680632268
 Option 4 ID : 630680632270
 Status : Not Answered
 Chosen Option : --

Q.3 Select the **INCORRECTLY** spelt word.

Ans A. Omission
 B. Solicitation
 C. Rejuvenation
 D. Ostentatious

Question ID : 630680172402
 Option 1 ID : 630680668032
 Option 2 ID : 630680668033
 Option 3 ID : 630680668034
 Option 4 ID : 630680668035
 Status : Not Answered
 Chosen Option : --

Q.4 Sentences of a paragraph are given below in jumbled order. Arrange the sentences in the correct order to form a meaningful and coherent paragraph.
 A. NMC has also included the provision of the formation of student associations in all the medical colleges to support students with their general welfare.
 B. The National Medical Commission (NMC) has issued draft regulations for the MBBS curriculum.
 C. According to the regulations, students would only have four attempts to pass the first year and they will not be allowed to continue the course beyond nine years.
 D. Migration to a medical college in a different state or district will be allowed only to meritorious students.

Ans A. CABD
 B. BCAD
 C. CBAD
 D. DCBA

Question ID : 630680204403
 Option 1 ID : 630680792695
 Option 2 ID : 630680792698
 Option 3 ID : 630680792697
 Option 4 ID : 630680792696
 Status : Not Answered
 Chosen Option : --

Q.5 The following sentence has been split into four segments. Identify the segment that contains a grammatical error.
 You have to pay at / the tickets when / you buy them / from the ticket counter.

Ans A. you buy them
 B. the tickets when
 C. You have to pay at
 D. from the ticket counter

Question ID : 630680160869
 Option 1 ID : 630680622850
 Option 2 ID : 630680622849
 Option 3 ID : 630680622848
 Option 4 ID : 630680622851
 Status : Not Answered
 Chosen Option : --

Q.6 Select the option that can be used as a one-word substitute for the given phrase.
That can be verifiable and not based only on assumption

Ans A. Empirical
 B. Logical
 C. Theoretical
 D. Experimental

Question ID : 630680113224
 Option 1 ID : 630680438459
 Option 2 ID : 630680438461
 Option 3 ID : 630680438458
 Option 4 ID : 630680438460
 Status : Not Answered
 Chosen Option : --

Q.7 Select the most appropriate meaning of the given proverb.
Beggars can't be choosers

Ans A. You should aspire to have the best
 B. If you rely on others, then you should be content with what you get
 C. You should take what you get
 D. You can't make your own decisions

Question ID : 630680158905
 Option 1 ID : 630680615089
 Option 2 ID : 630680615091
 Option 3 ID : 630680615088
 Option 4 ID : 630680615090
 Status : Not Answered
 Chosen Option : --

Q.8 Select the most appropriate synonym for the underlined word in the given sentence.
My broken wrist is the impediment preventing me from finishing my new novel.

Ans A. Assistant
 B. Concurrence
 C. Indifference
 D. Hurdle

Question ID : 630680167016
 Option 1 ID : 630680646927
 Option 2 ID : 630680646924
 Option 3 ID : 630680646926
 Option 4 ID : 630680646925
 Status : Not Answered
 Chosen Option : --

Q.9 Select the grammatically correct sentence.

Ans A. Reggie was quite careless to make any mistake.
 B. Reggie was very careless to make any mistake.
 C. Reggie was quite careful to make any mistake.
 D. Reggie was too careful to make any mistake.

Question ID : 630680161645
 Option 1 ID : 630680625908
 Option 2 ID : 630680625910
 Option 3 ID : 630680625909
 Option 4 ID : 630680625911
 Status : Not Answered
 Chosen Option : --

Q.10 Sentences of a paragraph are given below in jumbled order. Arrange the sentences in the correct order to form a meaningful and coherent paragraph.

- A. It may sound crazy at first, but think about it: Your feet support your weight and allow you to jump, run and climb.
- B. It's one of the reasons humans can outrun any other animal in an endurance race.
- C. There are 26 bones in each foot, that is, 52 bones in both feet, out of 206 total bones in your whole body, which is more than 25%.
- D. Those bones and joints also allow your feet to absorb and release energy efficiently.

- Ans
- A. CBAD
 - B. CABD
 - C. CADB
 - D. CDAB

Question ID : 630680204447
 Option 1 ID : 630680792856
 Option 2 ID : 630680792858
 Option 3 ID : 630680792857
 Option 4 ID : 630680792855
 Status : Not Answered
 Chosen Option : --

Q.11 Select the INCORRECTLY spelt word.

- Ans
- A. Recognition
 - B. Righteous
 - C. Betterment
 - D. Question

Question ID : 630680129786
 Option 1 ID : 630680502743
 Option 2 ID : 630680502745
 Option 3 ID : 630680502744
 Option 4 ID : 630680502742
 Status : Not Answered
 Chosen Option : --

Q.12 The following sentence has been split into four segments. Identify the segment that contains a grammatical error.
 She jumped down / after shouted / a warning to / the people standing below.

- Ans
- A. the people standing below
 - B. a warning to
 - C. She jumped down
 - D. after shouted

Question ID : 630680153850
 Option 1 ID : 630680595303
 Option 2 ID : 630680595302
 Option 3 ID : 630680595300
 Option 4 ID : 630680595301
 Status : Not Answered
 Chosen Option : --

Q.13 Select the option that can be used as a one-word substitute for the given group of words.

Someone who hates womankind or thinks very lowly of them

- Ans A. Misogynist
 B. Misogamist
 C. Misandrist
 D. Misanthrope

Question ID : 630680130670
 Option 1 ID : 630680505974
 Option 2 ID : 630680505975
 Option 3 ID : 630680505977
 Option 4 ID : 630680505976
 Status : Not Answered
 Chosen Option : --

Q.14 Sentences of a paragraph are given below in jumbled order. Arrange the sentences in the correct order to form a meaningful and coherent paragraph.

- A. That means that these adorable animals must eat about 30 pounds of the stuff each day to get enough nutrients.
 B. They defecate about four-fifths of what they eat (and even what they do digest is not especially easy on their gastrointestinal system).
 C. Pandas basically only eat bamboo, which also happens to be incredibly hard to digest.
 D. These guys should really consider a change in diet.

- Ans A. CBDA
 B. CABD
 C. CBAD
 D. CADB

Question ID : 630680204444
 Option 1 ID : 630680792844
 Option 2 ID : 630680792845
 Option 3 ID : 630680792843
 Option 4 ID : 630680792846
 Status : Not Answered
 Chosen Option : --

Q.15 Sentences of a paragraph are given below in jumbled order. Arrange the sentences in the correct order to form a meaningful and coherent paragraph.

- A. This combination has enabled lichens to survive in diverse and often hostile conditions.
 B. Each is a community made up of one or more species of fungus and an alga or cyanobacteria.
 C. More than 3,600 species of lichens have been identified in North America alone.
 D. They can be found in the scalding tropical heat as well as the bitter Antarctic cold.

- Ans A. CBDA
 B. BDCA
 C. DCAB
 D. CBAD

Question ID : 630680204475
 Option 1 ID : 630680792959
 Option 2 ID : 630680792960
 Option 3 ID : 630680792961
 Option 4 ID : 630680792962
 Status : Not Answered
 Chosen Option : --

Q.16 Select the most appropriate ANTONYM of the given word.
Reveal

- Ans
- A. Endorse
 - B. Rescue
 - C. Command
 - D. Conceal

Question ID : 630680167661
 Option 1 ID : 630680649272
 Option 2 ID : 630680649275
 Option 3 ID : 630680649273
 Option 4 ID : 630680649274
 Status : Not Answered
 Chosen Option : --

Q.17 Select the INCORRECTLY spelt word.

- Ans
- A. Reputation
 - B. Mercenary
 - C. Publication
 - D. Benevolence

Question ID : 630680172400
 Option 1 ID : 630680668026
 Option 2 ID : 630680668024
 Option 3 ID : 630680668027
 Option 4 ID : 630680668025
 Status : Not Answered
 Chosen Option : --

Q.18 Select the most appropriate option to fill in the blank in the given sentence.

My father asked me, "Can you _____ misfortune with a smile on your face?"

- Ans
- A. meat
 - B. mite
 - C. met
 - D. meet

Question ID : 630680132333
 Option 1 ID : 630680512500
 Option 2 ID : 630680512498
 Option 3 ID : 630680512499
 Option 4 ID : 630680512501
 Status : Not Answered
 Chosen Option : --

Q.19 Select the option that can be used as a one-word substitute for the given group of words.
Something real or genuine.

- Ans A. Prosthetic
 B. Authentic
 C. Actual
 D. True

Question ID : 630680158481
Option 1 ID : 630680613450
Option 2 ID : 630680613449
Option 3 ID : 630680613448
Option 4 ID : 630680613451
Status : Not Answered
Chosen Option : --

Q.20 Select the most appropriate synonym of the word 'paucity'.

- Ans A. Excess
 B. Scarcity
 C. Wealth
 D. Abundance

Question ID : 630680209286
Option 1 ID : 630680811362
Option 2 ID : 630680811361
Option 3 ID : 630680811360
Option 4 ID : 630680811359
Status : Not Answered
Chosen Option : --

Adda247

Comprehension:

Read the given passage and answer the questions that follow.

The digital divide is emerging as one of the 21st century's steepest hurdles to global equality. Digital tools and technologies are increasingly becoming integral components of everyday life—mostly accessible however to people living in developed countries. More than a third of the world—2.9 billion people—don't use the internet. Most of those who are unconnected live in developing countries, where only 57% of people access the internet. This is driven by a lack of key infrastructure and/or compatible devices and further exacerbated by unaffordability of data and a lack of basic skills needed to use the internet.

The Covid-19 pandemic has only deepened this digital divide and progress to bring more people online has slowed down. As essential services have moved online during and in the wake of the pandemic, those not participating in the digital economy are in danger of being left even further behind. Schools have been a prime example of this phenomenon. Public education systems with pre-existing knowledge and experience of running distance and multimodal learning delivery have fared significantly better than in-person systems. A concerted effort is needed to reduce these deepening inequalities. We must address the accessibility of affordable technology and the availability of digital services to increase opportunities for everyone. But for actors engaged in policymaking or influencing policy, both public and private, it can be hard to know where to start when it comes to furthering digital inclusion. Reliable information from credible sources is often siloed, scattered across thousands of platforms and websites, taking hours to sift through. What's more, approaches are constantly changing and adjusting to new best practices, meaning that by the time a project design is finished, it can already be out of date. Common protocols, standards and other governance mechanisms required to achieve cohesion between efforts are missing. Therefore, competing interests and redundancy are hindering digital inclusion.

SubQuestion No : 21

Q.21 What is the central idea of the passage?

- Ans
- A. Covid-19 pandemic
 - B. Use of internet
 - C. Digital services
 - D. Digital inclusion for global equality

Question ID : 630680131075
Option 1 ID : 630680507574
Option 2 ID : 630680507577
Option 3 ID : 630680507575
Option 4 ID : 630680507576
Status : Not Answered
Chosen Option : --

Comprehension:

Read the given passage and answer the questions that follow.

The digital divide is emerging as one of the 21st century's steepest hurdles to global equality. Digital tools and technologies are increasingly becoming integral components of everyday life—mostly accessible however to people living in developed countries. More than a third of the world—2.9 billion people—don't use the internet. Most of those who are unconnected live in developing countries, where only 57% of people access the internet. This is driven by a lack of key infrastructure and/or compatible devices and further exacerbated by unaffordability of data and a lack of basic skills needed to use the internet.

The Covid-19 pandemic has only deepened this digital divide and progress to bring more people online has slowed down. As essential services have moved online during and in the wake of the pandemic, those not participating in the digital economy are in danger of being left even further behind. Schools have been a prime example of this phenomenon. Public education systems with pre-existing knowledge and experience of running distance and multimodal learning delivery have fared significantly better than in-person systems. A concerted effort is needed to reduce these deepening inequalities. We must address the accessibility of affordable technology and the availability of digital services to increase opportunities for everyone. But for actors engaged in policymaking or influencing policy, both public and private, it can be hard to know where to start when it comes to furthering digital inclusion. Reliable information from credible sources is often siloed, scattered across thousands of platforms and websites, taking hours to sift through. What's more, approaches are constantly changing and adjusting to new best practices, meaning that by the time a project design is finished, it can already be out of date. Common protocols, standards and other governance mechanisms required to achieve cohesion between efforts are missing. Therefore, competing interests and redundancy are hindering digital inclusion.

SubQuestion No : 22

Q.22 What is the tone of the passage?

- Ans
- A. Incendiary
 - B. Satirical
 - C. Technical
 - D. Dogmatic

Question ID : 630680131076
Option 1 ID : 630680507580
Option 2 ID : 630680507579
Option 3 ID : 630680507581
Option 4 ID : 630680507578
Status : Not Answered
Chosen Option : --

Comprehension:

Read the given passage and answer the questions that follow.

The digital divide is emerging as one of the 21st century's steepest hurdles to global equality. Digital tools and technologies are increasingly becoming integral components of everyday life—mostly accessible however to people living in developed countries. More than a third of the world—2.9 billion people—don't use the internet. Most of those who are unconnected live in developing countries, where only 57% of people access the internet. This is driven by a lack of key infrastructure and/or compatible devices and further exacerbated by unaffordability of data and a lack of basic skills needed to use the internet.

The Covid-19 pandemic has only deepened this digital divide and progress to bring more people online has slowed down. As essential services have moved online during and in the wake of the pandemic, those not participating in the digital economy are in danger of being left even further behind. Schools have been a prime example of this phenomenon. Public education systems with pre-existing knowledge and experience of running distance and multimodal learning delivery have fared significantly better than in-person systems. A concerted effort is needed to reduce these deepening inequalities. We must address the accessibility of affordable technology and the availability of digital services to increase opportunities for everyone. But for actors engaged in policymaking or influencing policy, both public and private, it can be hard to know where to start when it comes to furthering digital inclusion. Reliable information from credible sources is often siloed, scattered across thousands of platforms and websites, taking hours to sift through. What's more, approaches are constantly changing and adjusting to new best practices, meaning that by the time a project design is finished, it can already be out of date. Common protocols, standards and other governance mechanisms required to achieve cohesion between efforts are missing. Therefore, competing interests and redundancy are hindering digital inclusion.

SubQuestion No : 23

Q.23 What can be inferred from the passage?

- Ans A. Digital divide can be reduced by digital inclusion.
- B. Competing interests and redundancy were never a hindrance to digital inclusion.
- C. Covid -19 Pandemic gave way to provide accessibility to affordable technology and opportunities for everyone.
- D. Digital tools and technologies are the only integral components of day-to-day life.

Question ID : 630680131078

Option 1 ID : 630680507587

Option 2 ID : 630680507588

Option 3 ID : 630680507589

Option 4 ID : 630680507586

Status : Not Answered

Chosen Option : --

Adda247

Comprehension:

Read the given passage and answer the questions that follow.

The digital divide is emerging as one of the 21st century's steepest hurdles to global equality. Digital tools and technologies are increasingly becoming integral components of everyday life—mostly accessible however to people living in developed countries. More than a third of the world—2.9 billion people—don't use the internet. Most of those who are unconnected live in developing countries, where only 57% of people access the internet. This is driven by a lack of key infrastructure and/or compatible devices and further exacerbated by unaffordability of data and a lack of basic skills needed to use the internet.

The Covid-19 pandemic has only deepened this digital divide and progress to bring more people online has slowed down. As essential services have moved online during and in the wake of the pandemic, those not participating in the digital economy are in danger of being left even further behind. Schools have been a prime example of this phenomenon. Public education systems with pre-existing knowledge and experience of running distance and multimodal learning delivery have fared significantly better than in-person systems. A concerted effort is needed to reduce these deepening inequalities. We must address the accessibility of affordable technology and the availability of digital services to increase opportunities for everyone. But for actors engaged in policymaking or influencing policy, both public and private, it can be hard to know where to start when it comes to furthering digital inclusion. Reliable information from credible sources is often siloed, scattered across thousands of platforms and websites, taking hours to sift through. What's more, approaches are constantly changing and adjusting to new best practices, meaning that by the time a project design is finished, it can already be out of date. Common protocols, standards and other governance mechanisms required to achieve cohesion between efforts are missing. Therefore, competing interests and redundancy are hindering digital inclusion.

SubQuestion No : 24

Q.24 Select the most appropriate ANTONYM of the word 'cohesion'.

- Ans
- A. Compatibility
 - B. Adherence
 - C. Disintegration
 - D. Attachment

Question ID : 630680131079
Option 1 ID : 630680507591
Option 2 ID : 630680507592
Option 3 ID : 630680507590
Option 4 ID : 630680507593
Status : Not Answered
Chosen Option : --

Comprehension:

Read the given passage and answer the questions that follow.

The digital divide is emerging as one of the 21st century's steepest hurdles to global equality. Digital tools and technologies are increasingly becoming integral components of everyday life—mostly accessible however to people living in developed countries. More than a third of the world—2.9 billion people—don't use the internet. Most of those who are unconnected live in developing countries, where only 57% of people access the internet. This is driven by a lack of key infrastructure and/or compatible devices and further exacerbated by unaffordability of data and a lack of basic skills needed to use the internet.

The Covid-19 pandemic has only deepened this digital divide and progress to bring more people online has slowed down. As essential services have moved online during and in the wake of the pandemic, those not participating in the digital economy are in danger of being left even further behind. Schools have been a prime example of this phenomenon. Public education systems with pre-existing knowledge and experience of running distance and multimodal learning delivery have fared significantly better than in-person systems. A concerted effort is needed to reduce these deepening inequalities. We must address the accessibility of affordable technology and the availability of digital services to increase opportunities for everyone. But for actors engaged in policymaking or influencing policy, both public and private, it can be hard to know where to start when it comes to furthering digital inclusion. Reliable information from credible sources is often siloed, scattered across thousands of platforms and websites, taking hours to sift through. What's more, approaches are constantly changing and adjusting to new best practices, meaning that by the time a project design is finished, it can already be out of date. Common protocols, standards and other governance mechanisms required to achieve cohesion between efforts are missing. Therefore, competing interests and redundancy are hindering digital inclusion.

SubQuestion No : 25

Q.25 According to the passage, what does the term 'exacerbate' mean?

- Ans
- A. Reduce
 - B. Sift through
 - C. Make worse
 - D. Calm

Question ID : 630680131077
 Option 1 ID : 630680507584
 Option 2 ID : 630680507585
 Option 3 ID : 630680507583
 Option 4 ID : 630680507582
 Status : Not Answered
 Chosen Option : --

Section : Hindi

Q.1 निम्नलिखित में कोई एक स्वर संधि विच्छेद का सही रूप है।

- Ans
- A. महा + ऐश्वर्य
 - B. दुःशासन
 - C. वाक् : मय
 - D. दिक् + गज

Question ID : 630680159797
 Option 1 ID : 630680618632
 Option 2 ID : 630680618635
 Option 3 ID : 630680618634
 Option 4 ID : 630680618633
 Status : Answered
 Chosen Option : A

Q.2 निम्नलिखित में से कौन-सा शब्द अनेकार्थक है-

- Ans A. पुरस्कार
 B. चित्त
 C. स्वाधीनता
 D. कोटि

Question ID : 630680204543
 Option 1 ID : 630680793224
 Option 2 ID : 630680793223
 Option 3 ID : 630680793225
 Option 4 ID : 630680793226
 Status : Answered
 Chosen Option : D

Q.3 निम्नलिखित में से कौन सा एक वाक्य 'सम्बन्धवाचक सर्वनाम' से सम्बंधित नहीं है?

- Ans A. यह लड़का हमारे विद्यालय का चपरासी विधि है।
 B. जो व्यक्ति आपत्ति में विचलित नहीं होता, वह अवश्य अपनी मंजिल को पाता है।
 C. जिसे चोट लगती है, वही पीर पहचानता है।
 D. जो सोवत है सो खोवत है।

Question ID : 630680123281
 Option 1 ID : 630680478017
 Option 2 ID : 630680478016
 Option 3 ID : 630680478015
 Option 4 ID : 630680478014
 Status : Not Answered
 Chosen Option : --

Q.4 निम्नलिखित शब्द किस समास का उदाहरण है?
'समक्ष'

- Ans A. कर्मधारय
 B. द्विगु
 C. तत्पुरुष
 D. अव्ययीभाव

Question ID : 630680204519
 Option 1 ID : 630680793128
 Option 2 ID : 630680793129
 Option 3 ID : 630680793127
 Option 4 ID : 630680793130
 Status : Answered
 Chosen Option : A

Q.5 निम्नलिखित में से कौन-सा एक शब्द 'प्रकंपन' का पर्यायवाची नहीं है?

- Ans A. वात
 B. बयार
 C. बनिता
 D. समीर

Question ID : 630680204492
 Option 1 ID : 630680793019
 Option 2 ID : 630680793021
 Option 3 ID : 630680793022
 Option 4 ID : 630680793020
 Status : Answered
 Chosen Option : D

Q.6 'गोपुत्र' शब्द में कौन-सा समास है?

- Ans
- A. द्वन्द्व समास
 - B. अव्ययीभाव समास
 - C. कर्मधारय समास
 - D. तत्पुरुष समास

Question ID : 630680204924
 Option 1 ID : 630680794566
 Option 2 ID : 630680794565
 Option 3 ID : 630680794564
 Option 4 ID : 630680794563
 Status : Answered
 Chosen Option : A

Q.7 'जिसका जन्म पहले हुआ हो' वाक्यांश के लिए उपयुक्त शब्द होगा-

- Ans
- A. सहोदर
 - B. द्विज
 - C. अनुज
 - D. अग्रज

Question ID : 630680203767
 Option 1 ID : 630680790269
 Option 2 ID : 630680790270
 Option 3 ID : 630680790267
 Option 4 ID : 630680790268
 Status : Answered
 Chosen Option : C

Q.8 दिए गए सन्धि-विच्छेदों में से, अशुद्ध सन्धि-विच्छेद वाले विकल्प का चयन कीजिये-

- Ans
- A. वागीश = वाक् + ईश
 - B. उद्धृत = उत् + हृत
 - C. नीरस = निर् + रस
 - D. तच्छाया = तद् + छाया

Question ID : 63068065798
 Option 1 ID : 630680254141
 Option 2 ID : 630680254139
 Option 3 ID : 630680254138
 Option 4 ID : 630680254140
 Status : Answered
 Chosen Option : B

Q.9 निम्नलिखित वाक्यांश को एक सार्थक शब्द से प्रतिस्थापित कीजिए-
'जंगल की आग'

- Ans
- A. बाइवानल
 - B. दावानल
 - C. जठरानल
 - D. ईर्ष्यानल

Question ID : 630680204531
 Option 1 ID : 630680793175
 Option 2 ID : 630680793177
 Option 3 ID : 630680793176
 Option 4 ID : 630680793178
 Status : Answered
 Chosen Option : B

Q.10 'दुःख' का पर्यायवाची शब्द है-

- Ans A. भय
 B. कलह
 C. क्रोध
 D. वेदना

Question ID : 630680128975
 Option 1 ID : 630680499528
 Option 2 ID : 630680499526
 Option 3 ID : 630680499529
 Option 4 ID : 630680499527
 Status : Answered
 Chosen Option : D

Q.11 'इस प्रश्न-पत्र को हल करने हेतु दो घंटे की _____ सुनिश्चित की गई है।' रिक्त स्थान के लिए सर्वाधिक उपयुक्त समश्रुत भिन्नार्थक शब्द है-

- Ans A. अवधी
 B. अवधि
 C. आवधि
 D. अबधी

Question ID : 630680203853
 Option 1 ID : 630680790613
 Option 2 ID : 630680790611
 Option 3 ID : 630680790614
 Option 4 ID : 630680790612
 Status : Answered
 Chosen Option : A

Q.12 निम्न विकल्पों में से तद्भव पुल्लिङ्ग शब्द चयनकर वाक्य पूर्ण कीजिए।
 यह तो आपका _____ है कि आप मेरी प्रशंसा करते हैं।

- Ans A. लगान
 B. समझ
 C. बड़प्पन
 D. बढ़ावा

Question ID : 630680198499
 Option 1 ID : 630680769958
 Option 2 ID : 630680769956
 Option 3 ID : 630680769957
 Option 4 ID : 630680769955
 Status : Answered
 Chosen Option : C

Q.13 नाच न जाने आँगन टेढ़ा। लोकोक्ति के सही अर्थ का चयन कीजिए।

- Ans A. नाचना गाना बिलकुल न आना
 B. बहुत अधिक सोच विचार करना
 C. काम न जानने पर तरह- तरह के बहाने बनाना
 D. आँगन का काफ़ी खराब होना

Question ID : 630680170144
 Option 1 ID : 630680659174
 Option 2 ID : 630680659176
 Option 3 ID : 630680659175
 Option 4 ID : 630680659173
 Status : Answered
 Chosen Option : C

Q.14 दिये गए वाक्यांश के लिए एक शब्द होगा-

जहाँ पहुँचा न जा सके

- Ans A. अगम्य
 B. अदम्य
 C. अनल्प
 D. अग्राम्य

Question ID : 630680126183
 Option 1 ID : 630680489339
 Option 2 ID : 630680489338
 Option 3 ID : 630680489340
 Option 4 ID : 630680489341
 Status : Answered
 Chosen Option : A

Q.15 जो काम करेगा सो मजदूरी पायेगा | वाक्य में किस सर्वनाम का प्रयोग हुआ है?

- Ans A. सम्बन्ध वाचक सर्वनाम
 B. निज वाचक सर्वनाम
 C. निश्चय वाचक सर्वनाम
 D. पुरुषवाचक सर्वनाम

Question ID : 630680123005
 Option 1 ID : 630680476928
 Option 2 ID : 630680476929
 Option 3 ID : 630680476927
 Option 4 ID : 630680476926
 Status : Answered
 Chosen Option : D

Q.16 निम्नलिखित विकल्पों को ध्यानपूर्वक पढ़ें और बताएं कि इनमें से कौनसा विकल्प द्विगु समास का उदाहरण नहीं है?

- Ans A. शताब्दी
 B. सप्तत्रिंशति
 C. लंबोदर
 D. त्रिलोक

Question ID : 630680203695
 Option 1 ID : 630680789980
 Option 2 ID : 630680789981
 Option 3 ID : 630680789982
 Option 4 ID : 630680789979
 Status : Answered
 Chosen Option : B

Q.17 आर्यण सदैव जानने की इच्छा रखता है। वाक्य के लिए उपयुक्त शब्द है।

- Ans
- A. कृतघ्न
 - B. अंजान
 - C. जिज्ञासु
 - D. कृतज्ञ

Question ID : 630680157263
 Option 1 ID : 630680608586
 Option 2 ID : 630680608585
 Option 3 ID : 630680608584
 Option 4 ID : 630680608587
 Status : Answered
 Chosen Option : C

Q.18 क्रिया, त्रुटियाँ पहचाने और वाक्य शुद्ध करें तथा उत्तर के रूप में सही विकल्प चुनें।
 बाघ और बकरी एक घाट पर पानी पीता है।

- Ans
- A. बाघ और बकरी एक ही घाट पर पानी पीता है।
 - B. बाघ और बकरी एक घाट पर पानी पीता है।
 - C. बाघ और बकरी एक घाट पर पानी पीते हैं।
 - D. बाघ और बकरी एक ही घाट पर पानी पीती थी।

Question ID : 630680156514
 Option 1 ID : 630680605713
 Option 2 ID : 630680605712
 Option 3 ID : 630680605715
 Option 4 ID : 630680605714
 Status : Answered
 Chosen Option : C

Q.19 'जड़ काटते जाएँ, पानी देते जाएँ'
 उपरोक्त लोकोक्ति के उचित अर्थ की पहचान करें-

- Ans
- A. भीतर से दुश्मनी, ऊपर से दोस्ती
 - B. अनुपयुक्त स्थान पर उपयुक्त कार्य करना
 - C. दोनों तरफ से हानि
 - D. केवल दिखावा

Question ID : 630680204506
 Option 1 ID : 630680793076
 Option 2 ID : 630680793075
 Option 3 ID : 630680793077
 Option 4 ID : 630680793078
 Status : Answered
 Chosen Option : A

Q.20 तेज बुद्धि वाला - वाक्यांश के लिए उपयुक्त शब्द क्या होगा?

- Ans
- A. बुद्धिमानी
 - B. कार्यकुशल
 - C. कुशाग्रबुद्धि
 - D. अंतर्ज्ञानी

Question ID : 630680123047
 Option 1 ID : 630680477096
 Option 2 ID : 630680477094
 Option 3 ID : 630680477097
 Option 4 ID : 630680477095
 Status : Answered
 Chosen Option : A

Comprehension:

गद्यांश के आधार पर प्रश्न का उत्तर दें।

यायावर की याद में यायावरी का यह दर्शन जीवन को नए ढंग से समझने की माँग करता है कि रचनात्मकता के मूल में नया होने एवं नया करने की यही जिजीविषा आधार का काम करती है। कुछ नया करने, नया गढ़ने में बेलीक होना आवश्यक होता है। प्रकृति से बेलीक होकर ही तो सभ्यता का विकास प्रारंभ होता है। चाहें तो उन्मुक्तता कह लें, परंतु अनुसंधान एवं समाधान के मूल में उन्मुक्तता ही तो कारण रूप में होती है। बंधन में पिछपेपण होता है- सर्जना नहीं। सर्जन आनंदात्मक होता है और आनंद हमेशा नूतन-नवीन। मुक्ति की गूँज प्रकृति का सामान्य स्वर है। मुक्ति का नाद प्रकृति के पौर-पौर में गूँज रहा है। पर्वत, पहाड़, नदी, झरने से लेकर घास की नोक तक सभी मुक्ति के आहवान हैं। चिड़ियों की मुस्कान, वृक्षों की झकाझोर झूम, झरनों की बहती, फलौंगती दौड़ सभी तो मुक्ति की इसी आदिम लालसा से स्वरित हैं। बारिश धूप किसका बंधन मानते हैं? कल एक चिड़िया देखी - झूल रही थी एक वृक्ष की छोटी, पतली टहनी को पकड़ कर बीच-बीच में पंखों से हवा के थपेड़े दे रही थी - चिड़िया क्या, पूरा पेड़ झूम रहा था। तितली, भैंरे, टिड्डे जीव-जंतु इसी निर्बाधता के ही तो प्रत्यय हैं। कभी पढ़ा था बंधन मृत्यु है तो क्या मुक्ति जीवन नहीं। मुक्ति ही तो यायावरी है - मुक्ति का परम उत्सव। पराधीन सपनेहुँ सुख नहीं।

SubQuestion No : 21

Q.21 उपरोक्त गद्यांश के आधार पर निम्नलिखित प्रश्न का उत्तर दें।
अनुसंधान एवं समाधान के मूल में क्या होता है?

- Ans A. उन्मुक्तता
 B. सम्मान
 C. गर्व
 D. धैर्य

Question ID : 630680157094
Option 1 ID : 630680607925
Option 2 ID : 630680607926
Option 3 ID : 630680607927
Option 4 ID : 630680607924
Status : Answered
Chosen Option : A

Comprehension:

गद्यांश के आधार पर प्रश्न का उत्तर दें।

यायावर की याद में यायावरी का यह दर्शन जीवन को नए ढंग से समझने की माँग करता है कि रचनात्मकता के मूल में नया होने एवं नया करने की यही जिजीविषा आधार का काम करती है। कुछ नया करने, नया गढ़ने में बेलीक होना आवश्यक होता है। प्रकृति से बेलीक होकर ही तो सभ्यता का विकास प्रारंभ होता है। चाहें तो उन्मुक्तता कह लें, परंतु अनुसंधान एवं समाधान के मूल में उन्मुक्तता ही तो कारण रूप में होती है। बंधन में पिछपेपण होता है- सर्जना नहीं। सर्जन आनंदात्मक होता है और आनंद हमेशा नूतन-नवीन। मुक्ति की गूँज प्रकृति का सामान्य स्वर है। मुक्ति का नाद प्रकृति के पौर-पौर में गूँज रहा है। पर्वत, पहाड़, नदी, झरने से लेकर घास की नोक तक सभी मुक्ति के आहवान हैं। चिड़ियों की मुस्कान, वृक्षों की झकाझोर झूम, झरनों की बहती, फलौंगती दौड़ सभी तो मुक्ति की इसी आदिम लालसा से स्वरित हैं। बारिश धूप किसका बंधन मानते हैं? कल एक चिड़िया देखी - झूल रही थी एक वृक्ष की छोटी, पतली टहनी को पकड़ कर बीच-बीच में पंखों से हवा के थपेड़े दे रही थी - चिड़िया क्या, पूरा पेड़ झूम रहा था। तितली, भैंरे, टिड्डे जीव-जंतु इसी निर्बाधता के ही तो प्रत्यय हैं। कभी पढ़ा था बंधन मृत्यु है तो क्या मुक्ति जीवन नहीं। मुक्ति ही तो यायावरी है - मुक्ति का परम उत्सव। पराधीन सपनेहुँ सुख नहीं।

SubQuestion No : 22

Q.22 उपरोक्त गद्यांश के आधार पर निम्नलिखित प्रश्न का उत्तर दें।
बंधन में क्या संभव नहीं है?

- Ans A. द्वेष
 B. उन्मुक्तता
 C. सर्जना
 D. संबंध

Question ID : 630680157097
Option 1 ID : 630680607939
Option 2 ID : 630680607936
Option 3 ID : 630680607937
Option 4 ID : 630680607938
Status : Not Answered
Chosen Option : --

Comprehension:

गद्यांश के आधार पर प्रश्न का उत्तर दें।

यायावर की याद में यायावरी का यह दर्शन जीवन को नए ढंग से समझने की माँग करता है कि रचनात्मकता के मूल में नया होने एवं नया करने की यही जिजीविषा आधार का काम करती है। कुछ नया करने, नया गढ़ने में बेलीक होना आवश्यक होता है। प्रकृति से बेलीक होकर ही तो सभ्यता का विकास प्रारंभ होता है। चाहें तो उन्मुक्तता कह लें, परंतु अनुसंधान एवं समाधान के मूल में उन्मुक्तता ही तो कारण रूप में होती है। बंधन में पिष्टपेषण होता है- सर्जना नहीं। सर्जन आनंदात्मक होता है और आनंद हमेशा नूतन-नवीन। मुक्ति की गूँज प्रकृति का सामान्य स्वर है। मुक्ति का नाद प्रकृति के पौर-पौर में गूँज रहा है। पर्वत, पहाड़, नदी, झरने से लेकर घास की नोक तक सभी मुक्ति के आहवान हैं। चिड़ियों की मुस्कान, वृक्षों की झकाझोर झूम, झरनों की बहती, फलौंगती दौड़ सभी तो मुक्ति की इसी आदिम लालसा से स्वरित हैं। बारिश धूप किसका बंधन मानते हैं? कल एक चिड़िया देखी - झूल रही थी एक वृक्ष की छोटी, पतली टहनी को पकड़ कर बीच-बीच में पंखों से हवा के थपड़े दे रही थी - चिड़िया क्या, पूरा पेड़ झूम रहा था। तितली, भैंरे, टिड्डे जीव-जंतु इसी निर्बाधता के ही तो प्रत्यय हैं। कभी पढ़ा था बंधन मृत्यु है तो क्या मुक्ति जीवन नहीं। मुक्ति ही तो यायावरी है - मुक्ति का परम उत्सव। पराधीन सपनेहुँ सुख नहीं।

SubQuestion No : 23

Q.23 उपरोक्त गद्यांश के आधार पर निम्नलिखित रिक्त स्थान की पूर्ति करें।
आनंद हमेशा _____।

- Ans A. अजीब
 B. नूतन-नवीन
 C. नयापन
 D. नया

Question ID : 630680157095
Option 1 ID : 630680607929
Option 2 ID : 630680607930
Option 3 ID : 630680607931
Option 4 ID : 630680607928
Status : Answered
Chosen Option : B

Comprehension:

गद्यांश के आधार पर प्रश्न का उत्तर दें।

यायावर की याद में यायावरी का यह दर्शन जीवन को नए ढंग से समझने की माँग करता है कि रचनात्मकता के मूल में नया होने एवं नया करने की यही जिजीविषा आधार का काम करती है। कुछ नया करने, नया गढ़ने में बेलीक होना आवश्यक होता है। प्रकृति से बेलीक होकर ही तो सभ्यता का विकास प्रारंभ होता है। चाहें तो उन्मुक्तता कह लें, परंतु अनुसंधान एवं समाधान के मूल में उन्मुक्तता ही तो कारण रूप में होती है। बंधन में पिष्टपेषण होता है- सर्जना नहीं। सर्जन आनंदात्मक होता है और आनंद हमेशा नूतन-नवीन। मुक्ति की गूँज प्रकृति का सामान्य स्वर है। मुक्ति का नाद प्रकृति के पौर-पौर में गूँज रहा है। पर्वत, पहाड़, नदी, झरने से लेकर घास की नोक तक सभी मुक्ति के आहवान हैं। चिड़ियों की मुस्कान, वृक्षों की झकाझोर झूम, झरनों की बहती, फलौंगती दौड़ सभी तो मुक्ति की इसी आदिम लालसा से स्वरित हैं। बारिश धूप किसका बंधन मानते हैं? कल एक चिड़िया देखी - झूल रही थी एक वृक्ष की छोटी, पतली टहनी को पकड़ कर बीच-बीच में पंखों से हवा के थपड़े दे रही थी - चिड़िया क्या, पूरा पेड़ झूम रहा था। तितली, भैंरे, टिड्डे जीव-जंतु इसी निर्बाधता के ही तो प्रत्यय हैं। कभी पढ़ा था बंधन मृत्यु है तो क्या मुक्ति जीवन नहीं। मुक्ति ही तो यायावरी है - मुक्ति का परम उत्सव। पराधीन सपनेहुँ सुख नहीं।

SubQuestion No : 24

Q.24 उपरोक्त गद्यांश के आधार पर निम्नलिखित प्रश्न का उत्तर दें।
लेखक ने कल क्या देखा?

- Ans A. चिड़िया
 B. नदी
 C. महल
 D. पेड़

Question ID : 630680157096
Option 1 ID : 630680607934
Option 2 ID : 630680607935
Option 3 ID : 630680607933
Option 4 ID : 630680607932
Status : Answered
Chosen Option : B

Comprehension:

गद्यांश के आधार पर प्रश्न का उत्तर दें।

यायावर की याद में यायावरी का यह दर्शन जीवन को नाए ढंग से समझने की माँग करता है कि रचनात्मकता के मूल में नया होने एवं नया करने की यही जिजीविषा आधार का काम करती है। कुछ नया करने, नया गढ़ने में बेलीक होना आवश्यक होता है। प्रकृति से बेलीक होकर ही तो सभ्यता का विकास प्रारंभ होता है। चाहें तो उन्मुक्तता कह लें, परंतु अनुसंधान एवं समाधान के मूल में उन्मुक्तता ही तो कारण रूप में होती है। बंधन में पिष्टपेषण होता है- सर्जना नहीं। सर्जन आनंदात्मक होता है और आनंद हमेशा नूतन-नवीन। मुक्ति की गूँज प्रकृति का सामान्य स्वर है। मुक्ति का नाद प्रकृति के पोर-पोर में गूँज रहा है। पर्वत, पहाड़, नदी, झरने से लेकर घास की नोक तक सभी मुक्ति के आहवान हैं। चिड़ियों की मुस्कान, वृक्षों की झकाझोर झूम, झरनों की बहती, फलौंगती दौड़ सभी तो मुक्ति की इसी आदिम लालसा से स्वरित हैं। बारिश धूप किसका बंधन मानते हैं? कल एक चिड़िया देखी - झूल रही थी एक वृक्ष की छोटी, पतली टहनी को पकड़ कर बीच-बीच में पंखों से हवा के थपड़े दे रही थी - चिड़िया क्या, पूरा पेड़ झूम रहा था। तितली, भैंरे, टिड्डे जीव-जंतु इसी निर्बाधता के ही तो प्रत्यय हैं। कभी पढ़ा था बंधन मृत्यु है तो क्या मुक्ति जीवन नहीं। मुक्ति ही तो यायावरी है - मुक्ति का परम उत्सव। पराधीन सपनेहुँ सुख नहीं।

SubQuestion No : 25

Q.25 उपरोक्त गद्यांश के आधार पर निम्नलिखित प्रश्न का उत्तर दें।
उपरोक्त गद्यांश का उचित शीर्षक बताएं।

- Ans
- A. याद
 - B. यायावर की याद
 - C. हम सब यायावर
 - D. तुम सब यायावर

Question ID : 630680157093
Option 1 ID : 630680607921
Option 2 ID : 630680607920
Option 3 ID : 630680607922
Option 4 ID : 630680607923
Status : Answered
Chosen Option : B