

**CRPF**  
**Constable**  
Technical Tradesman

**06 July, 2023 Shift 1**

**Adda247**

Adda247

# Test Prime

**ALL EXAMS, ONE SUBSCRIPTION**



**1,00,000+**  
Mock Tests



**Personalised**  
Report Card



**Unlimited**  
Re-Attempt



**600+**  
Exam Covered



**25,000+** Previous  
Year Papers



**500%**  
Refund



**ATTEMPT FREE MOCK NOW**

## CRPF Technical Tradesman 1st to 12th July 2023


### General Intelligence and Reasoning

Q.1 उस विकल्प का चयन कीजिए जो दिए गए संयोजन के दर्पण में निर्मित प्रतिबिंब से सर्वाधिक मिलता जुलता हो।

ABSOLUTE



Ans

eTULOZBA  
eTULOZBA

63068083977  
630680325503  
630680325500  
630680325502  
630680325501  
Answered  
A

Q.2 प्र (?)  
 $153 \div 65 \times 13 - 6 + 85 = ?$

Ans

630680147878  
630680572226  
630680572229  
630680572227  
630680572228  
Answered  
B

का भाई है। का भाई है। का पुत्र है। क पत्नी है। क पुत्री है। का से क्यासंबंध है

- A. पत्नी  
 B. बहन  
 C. माता  
 D. पुत्री

Question ID :  
 Option 1 ID :  
 Option 2 ID :  
 Option 3 ID :  
 Option 4 ID :  
 Status :  
 Chosen Option :

कमलेश को एक मल्टिनेशनल कंपनी में काम करने का मौका मिला। कल कार्यालय में उसका पहला दिन है और उसने अपने साथी कर्मचारी से अपने नए कार्यालय के लिए दशानद शिवाजी नेको कहा। कमलेश शहर उर में मरहता है और उसका कार्यालय शहरमें है। उसके साथी कर्मचारी ने उसे फोन पर दशानद शिवाजी और उसने इसे एक कागज पर नोट कर लिया। नीचे द गई लखत प्रतलेख को देखिए और उसके अनुसार नम नलखत प्र का उर दजिए।

“शहर से बाएं मुड़ें और द्राइव करें आप शहर में होंगे। शहर से बाएं मुड़ें और शहर तक पहुंचने के लिए द्राइव करें। शहर से दाएं मुड़ें और शहर तक पहुंचने के लिए द्राइव करें। शहर से दाएं मुड़ें और शहर पहुंचने के लिए द्राइव करें। शहर से बाएं मुड़ें और शहर तक पहुंचने के लिए द्राइव करें। कार्यालय शहरमें है। शहरकस दशा में है

- A. पूर्व  
 B. पश्चिम  
 C. उत्तर  
 D. दक्षिण

Question ID :  
 Option 1 ID :  
 Option 2 ID :  
 Option 3 ID :  
 Option 4 ID :  
 Status :  
 Chosen Option :

Q.5 उस विकल्प का चयन करें जो तीसरी आकृति से उसी प्रकार संबंधित है जैसे दूसरी आकृति पहली आकृति से संबंधित है।



Ans

- A.
- B.
- C.
- D.

Question ID : 63068058840  
Option 1 ID : 630680226982  
Option 2 ID : 630680226985  
Option 3 ID : 630680226983  
Option 4 ID : 630680226984  
Status : Answered  
Chosen Option : C

Q.6 निम्नलिखित पांच आकृतियों में से चार एक निश्चित तरीके से समान हैं और इस प्रकार एक समूह बनाती हैं। उस आकृति का चयन करें जो उस समूह से संबंधित नहीं है।



- A, D
- B, E
- C, B
- D, A

Question ID : 63068083898  
Option 1 ID : 630680325185  
Option 2 ID : 630680325186  
Option 3 ID : 630680325184  
Option 4 ID : 630680325187  
Status : Answered  
Chosen Option : B

Q.7 सुबह करीब 7 बजे कृतिकी जब घर से स्कूल जा रही थीं तो उसकी परछाई दाहिनी ओर थी। उसका घर स्कूल से किस दिशा में है?

- Ans
- A. पश्चिम
  - B. पूर्व
  - C. दक्षिण
  - D. उत्तर



उस विकल्प का चयन कीजिए जो दिए गए संयोजन के दर्पण में निर्मित प्रतिबिंब से सर्वाधिक मिलता जुलता हो।

SHASHI

- Ans
- A. IHS2H2
  - B. IHS2H2
  - C. IHS2H2
  - D. IHS2H2

Question ID : 63068083976060320498068025

Adda247

Q.9 उस विकल्प का चयन कीजिए जो दिए गए संयोजन के दर्पण में निर्मित प्रतिबिम्ब से सर्वाधिक मिलता जुलता हो।

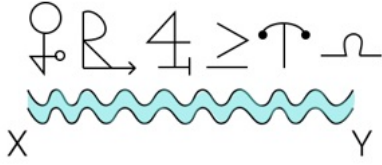


Ans



Question ID : 63068084005  
 Option 1 ID : 630680325612  
 Option 2 ID : 630680325615  
 Option 3 ID : 630680325614  
 Option 4 ID : 630680325613  
 Status : Answered  
 Chosen Option : D

Q.10 दिए गए पैटर्न के सही जल प्रतिबिंब का चयन कीजिए, यह मानते हुए कि जल XY के समानांतर है।



Ans

- A.
- B.
- C.
- D.

Question ID : 630680149193  
Option 1 ID : 630680577040  
Option 2 ID : 630680577042  
Option 3 ID : 630680577043  
Option 4 ID : 630680577041  
Status : Answered  
Chosen Option : B

Q.11 घर A घर B के उत्तर में है। घर C घर D के पश्चिम में है। घर E घर D के पूर्व में है। घर B घर D के दक्षिण में है। घर B के संबंध में घर C की स्थिति क्या है?

- A. पश्चिम
- B. उत्तर-पश्चिम
- C. उत्तर-पूर्व
- D. उत्तर

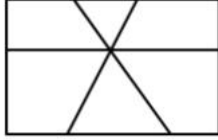
Question ID : 630680106969  
Option 1 ID : 630680415362  
Option 2 ID : 630680415363  
Option 3 ID : 630680415361  
Option 4 ID : 630680415360  
Status : Not Answered  
Chosen Option : --

Q.12 C और Q बहनें हैं। Z, Q की माता है और P, Z का पुत्र है। A, Z के इकलौते पुत्र का पुत्र है। निम्नलिखित में से कौन सा सत्य है?

- Ans  A. Q, A की बहन है।  
 B. Q, A की बुआ है।  
 C. Q, A की दादी है।  
 D. Q, A की मौसी है।

Question ID : 630680102766  
 Option 1 ID : 630680399323  
 Option 2 ID : 630680399326  
 Option 3 ID : 630680399325  
 Option 4 ID : 630680399324  
 Status : Answered  
 Chosen Option : A

Q.13 निम्न आकृति में कितने चतुर्भुज (चार भुजाओं वाली एक आकृति) हैं?



- Ans  A. 17  
 B. 13  
 C. 15  
 D. 14

Question ID : 630680104588  
 Option 1 ID : 630680406531  
 Option 2 ID : 630680406534  
 Option 3 ID : 630680406532  
 Option 4 ID : 630680406533  
 Status : Not Answered  
 Chosen Option : --

Q.14 A उत्तर की ओर अभिमुख होकर खड़ा है। B उसके दाहिनी ओर है। C, A के पीछे है। D, A के सामने है। B, D से किस दिशा में है?

- Ans  A. दक्षिण  
 B. दक्षिण-पश्चिम  
 C. दक्षिण-पूर्व  
 D. पश्चिम

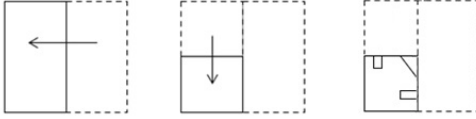
Question ID : 630680104923  
 Option 1 ID : 630680407823  
 Option 2 ID : 630680407824  
 Option 3 ID : 630680407826  
 Option 4 ID : 630680407825  
 Status : Answered  
 Chosen Option : C

Q.15 'P % Q' का अर्थ है कि 'P, Q का पिता है'।  
'P # Q' का अर्थ है कि 'P, Q की माँ है'।  
'P \$ Q' का अर्थ है कि 'P, Q की पुत्री है'।  
'P + Q' का अर्थ है कि 'P, Q की बहन है'।  
'P @ Q' का अर्थ है कि 'P, Q का भाई है'।  
'P & Q' का अर्थ है कि 'P, Q का पति है'।  
यदि 'B & C # A + D % E' है, तो B का E से क्या संबंध है?


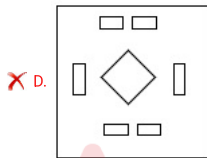
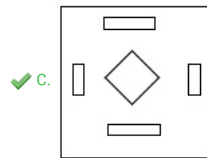
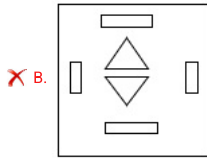
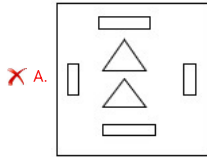
- Ans
- A. अंकल
  - B. ग्रैंडमदर
  - C. आंटी
  - D. ग्रैंडफादर

Question ID : 630680133294  
Option 1 ID : 630680516153  
Option 2 ID : 630680516150  
Option 3 ID : 630680516152  
Option 4 ID : 630680516151  
Status : Not Answered  
Chosen Option : --

Q.16 एक कागज को निम्नानुसार मोड़ा और काटा जाता है। खोलने पर यह कैसा दिखाई देगा?



Ans



Question ID : 630680147860  
 Option 1 ID : 630680572156  
 Option 2 ID : 630680572155  
 Option 3 ID : 630680572157  
 Option 4 ID : 630680572154  
 Status : Answered  
 Chosen Option : B

Q.17 समीकरण करे:



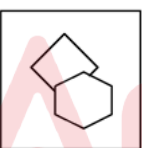

$$27.08 - [37.65 - \{45.98 - (15.09 - 13.08)\}] = ?$$

- Ans
- A. 43
  - B. 47
  - C. 33
  - D. 40

Question ID : 63068049424  
 Option 1 ID : 630680190128  
 Option 2 ID : 630680190129  
 Option 3 ID : 630680190126  
 Option 4 ID : 630680190127  
 Status : Not Answered  
 Chosen Option : --

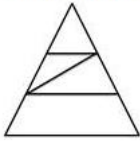
Q.18 निम्नलिखित में से तीन आकृतियाँ किसी न किसी रूप में एक जैसी हैं और एक भिन्न है। भिन्न आकृति का चयन कीजिए।

Ans

- A. 
- B. 
- C. 
- D. 

Question ID : 630680113657  
 Option 1 ID : 630680440164  
 Option 2 ID : 630680440165  
 Option 3 ID : 630680440163  
 Option 4 ID : 630680440162  
 Status : Answered  
 Chosen Option : A

Q.19 दी गई आकृति में कितने त्रिभुज हैं?

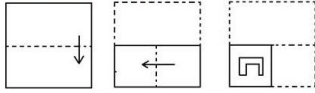


- Ans  A. 5  
 B. 6  
 C. 7  
 D. 4

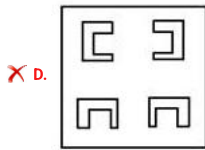
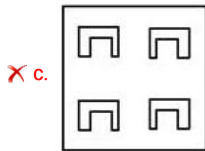
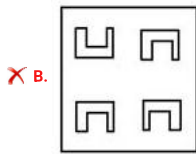
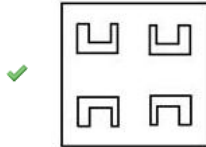
Question ID : 63068049467  
Option 1 ID : 630680190299  
Option 2 ID : 630680190300  
Option 3 ID : 630680190301  
Option 4 ID : 630680190298  
Status : Answered  
Chosen Option : B

Adda247

Q.20 कागज के एक टुकड़े को मोड़ने का क्रम और मोड़े गए कागज को काटने का तरीका निम्नलिखित आकृतियों में दिखाया गया है। खोलने पर यह कागज कैसा दिखेगा?



Ans



Question ID : 63068058609060220083068025

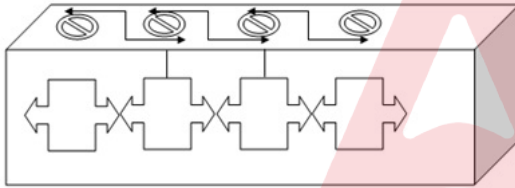
Q.21 पांच आकृतियां दी गयी हैं, जिनमें से चार किसी न किसी रूप में एक समान हैं और एक भिन्न है। भिन्न आकृति का चयन करें।

B 2 △ ○	△ ☆ ○ S	X ↑ □ 3	T P ♥ V	○ A □ ☆
2 B △ ○	☆ △ S ○	↑ X 3 □	P T V ♥	A ○ ☆ □
A	B	C	D	E

- Ans
- A. C
  - B. B
  - C. A
  - D. E

Question ID : 63068011485  
 Option 1 ID : 630680431735  
 Option 2 ID : 630680431737  
 Option 3 ID : 630680431736  
 Option 4 ID : 630680431734  
 Status : Answered  
 Chosen Option : C

Q.22 उस विकल्प का चयन कीजिए जो दी गई आकृति में सन्निहित है (धुमाने की अनुमति नहीं है)।



- Ans
- A.
  - B.
  - C.
  - D.

Question ID : 630680160263  
 Option 1 ID : 630680620426  
 Option 2 ID : 630680620425  
 Option 3 ID : 630680620424  
 Option 4 ID : 630680620427  
 Status : Answered  
 Chosen Option : A

Q.23 राहुल बिंदु A से चलना शुरू करता है और दक्षिण की ओर 2 km ड्राइव करता है। फिर वह बाएं मुड़ता है, 5 km ड्राइव करता है, दाएं मुड़ता है और 5 km ड्राइव करता है। फिर वह दायें मुड़ता है और 2 km ड्राइव करता है। वह अंतिम बार दायें मुड़ता है, 7 km ड्राइव करता है और बिंदु B पर रुकता है। बिंदु A तक फिर से पहुंचने के लिए उसे कितनी दूर और किस दिशा में ड्राइव करना चाहिए?

- Ans
- A. पूर्व की ओर 2 km
  - B. पश्चिम की ओर 2 km
  - C. पश्चिम की ओर 3 km
  - D. पूर्व की ओर 3 km

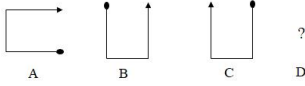
Question ID : 63068075778  
 Option 1 ID : 630680293228  
 Option 2 ID : 630680293225  
 Option 3 ID : 630680293227  
 Option 4 ID : 630680293226  
 Status : Answered  
 Chosen Option : B

Q.24 यदि '÷' का अर्थ '-' है, '-' का अर्थ '×' है, '×' का अर्थ '÷' है और '×' का अर्थ '÷' है, तो निम्नलिखित समीकरण में प्रश्नवाचक चिह्न (?) के स्थान पर क्या आएगा?  
 $267 \div 69 \times 3 - 7 + 33 = ?$

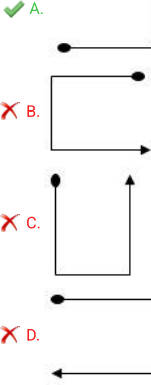
- Ans
- A. 402
  - B. 411
  - C. 389
  - D. 395

Question ID : 630680147877  
 Option 1 ID : 630680572223  
 Option 2 ID : 630680572225  
 Option 3 ID : 630680572222  
 Option 4 ID : 630680572224  
 Status : Answered  
 Chosen Option : D

**Q.25** आकृति A एक निश्चित पैटर्न में आकृति B से संबंधित है। उसी पैटर्न का अनुसरण करते हुए, आकृति C आकृति D से संबंधित है। पैटर्न का अध्ययन करें और उस आकृति का चयन करें जो आकृति D के लिए प्रश्न चिह्न (?) को प्रतिस्थापित कर सकती है।



Ans



Question ID : 63068062227  
Option 1 ID : 630680240204  
Option 2 ID : 630680240203  
Option 3 ID : 630680240202  
Option 4 ID : 630680240205  
Status : Answered  
Chosen Option : D

Section : General Knowledge and General Awareness

**Q.1** भारत में निम्नलिखित में से किस राज्य की साक्षरता दर 2011 के अनुसार सबसे कम है?

- Ans
- A. बिहार
  - B. उत्तराखंड
  - C. छत्तीसगढ़
  - D. मध्य प्रदेश

Question ID : 63068080416  
Option 1 ID : 630680311691  
Option 2 ID : 630680311692  
Option 3 ID : 630680311690  
Option 4 ID : 630680311689  
Status : Answered  
Chosen Option : C

Q.2 निम्नलिखित में से किस पेड़ के बीजों का उपयोग आन्नाटो (मक्खन को रंगने के लिए आन्नाटो का उपयोग किया जाता है) बनाने के लिए किया जाता है?

- Ans  A. बिक्सा ओरेलाना  
 B. चीड़  
 C. सागौन  
 D. विशाल सिकुआ

Question ID : 630680209084  
 Option 1 ID : 630680810552  
 Option 2 ID : 630680810551  
 Option 3 ID : 630680810553  
 Option 4 ID : 630680810554  
 Status : Not Answered  
 Chosen Option : --

Q.3 एंग्लो-नेपाली युद्ध \_\_\_\_\_ की संधि के साथ समाप्त हुआ था।

- Ans  A. कलकत्ता  
 B. ल्हासा  
 C. सुगौली  
 D. थिम्बू

Question ID : 630680214006  
 Option 1 ID : 630680830071  
 Option 2 ID : 630680830072  
 Option 3 ID : 630680830074  
 Option 4 ID : 630680830073  
 Status : Not Answered  
 Chosen Option : --

Q.4 निम्नलिखित में से कौन-से मुगल शासक बक्सर की लड़ाई में ब्रिटिश ईस्ट इंडिया कंपनी के खिलाफ लड़े थे?

- Ans  A. अकबर शाह द्वितीय  
 B. औरंगज़ेब  
 C. बहादुर शाह द्वितीय  
 D. शाह आलम द्वितीय

Question ID : 63068092828  
 Option 1 ID : 630680360004  
 Option 2 ID : 630680360006  
 Option 3 ID : 630680360005  
 Option 4 ID : 630680360003  
 Status : Answered  
 Chosen Option : D

Q.5 भारतीय संविधान के निम्नलिखित में से किस अनुच्छेद में जीवित प्राणियों के लिए दया (सहानुभूति) का उल्लेख है?

Ans

B. 51 A (g)

C. 51 A (d)

D. 51 A (c)

Question ID : 630680146280680656579068065

Q.6

त्यागराज के बारे में कौन सा कथन सही है?

Ans

के स्ताक्षरें का नामें गुरुगुहा था।

वे हिंदुस्तानी संगीत के प्रसिद्ध लाकारें हैं।

बुधें प्रहलक्षणें क्रेटरें का नामेंन के नामेंन खा या है।

स्वराजति संगीतें शेली का श्रेयें न्हीं को जाता है।

निम्नलिखित में से किसे अक्षय ऊर्जा स्रोतों और ऊर्जा भंडारण में अनुसंधान के लिए अंतर्राष्ट्रीय एनी (Ani) पुरस्कार 2020 प्राप्त हुआ?

Ans

प्रोफेसरें संदीपें मी

प्रोफेसरें सी राव

डॉ सूर्येंदु ता

डॉ माशेलकर

Q.8 निम्न में से 4 सही ?

- Ans
- A. रटलैंड द्वीप (Rutland Island)
  - B. कैबेल बे
  - C. वेस्ट स्टार आइलैंड
  - D. ईस्ट स्टार आइलैंड

Question ID : 63068069444  
Option 1 ID : 630680268442  
Option 2 ID : 630680268445  
Option 3 ID : 630680268443  
Option 4 ID : 630680268444  
Status : Answered  
Chosen Option : C

Q.9 GO & Wf निम्न में से कौन सा स्थान है ?

- Ans
- A. यंग बंगाल मूवमेंट
  - B. अलीगढ़ एंग्लो कॉलेज
  - C. स्वदेशी आंदोलन
  - D. वेदांत कॉलेज

Question ID : 630680214009  
Option 1 ID : 630680830084  
Option 2 ID : 630680830086  
Option 3 ID : 630680830083  
Option 4 ID : 630680830085  
Status : Answered  
Chosen Option : A

Q.10 Q; G W N (G6B G 2011) % F O I O निम्न में से सही विकल्प चुनिए।  
A. I शि 6 Q  
B. M X O  
C. शि

- Ans
- A. B, C, A
  - B. B, A, C
  - C. A, C, B
  - D. A, B, C

Question ID : 630680209238  
Option 1 ID : 630680811168  
Option 2 ID : 630680811169  
Option 3 ID : 630680811167  
Option 4 ID : 630680811170  
Status : Answered  
Chosen Option : C

Q.11 हड़प्पा स्थलों से संबंधित निम्नलिखित में से कोन सा सही सुमेलित है?

- Ans
- A. कालीबंगा: हरियाणा
  - B. लोधल : पंजाब
  - C. धोलावीरा : गुजरात
  - D. बनावली : राजस्थान

Question ID : 630680213919  
 Option 1 ID : 630680829726  
 Option 2 ID : 630680829723  
 Option 3 ID : 630680829724  
 Option 4 ID : 630680829725  
 Status : Answered  
 Chosen Option : B

Q.12 चोल राजवंश के संस्थापक कौन थे?

- Ans
- A. विजयालय, कांची के पल्लवों का सामंत, जिन्होंने 850 CE में तंजौर पर कब्जा कर लिया था।
  - B. परंतक, कांची के पल्लवों के सामंत, जिन्होंने 870 CE में तंजौर पर कब्जा कर लिया था।
  - C. विजयग्रीव, कांची के पल्लवों के सामंत, जिन्होंने 852 CE में तंजौर पर कब्जा कर लिया था।
  - D. राजराजा, कांची के पल्लवों के सामंत, जिन्होंने 850 CE में तंजौर पर कब्जा कर लिया था।

Question ID : 630680115789  
 Option 1 ID : 630680448490  
 Option 2 ID : 630680448492  
 Option 3 ID : 630680448491  
 Option 4 ID : 630680448493  
 Status : Not Answered  
 Chosen Option : --

Q.13 महात्मा ज्योतिराव गोविंदराव फुले ने किस सामाजिक सुधार समाज की शुरुआत की थी?

- Ans
- A. सत्य शोधक समाज
  - B. आर्य समाज
  - C. प्रार्थना समाज
  - D. थियिसोफिकल सोसाइटी

Question ID : 630680127482  
 Option 1 ID : 630680494191  
 Option 2 ID : 630680494190  
 Option 3 ID : 630680494189  
 Option 4 ID : 630680494188  
 Status : Answered  
 Chosen Option : A

Q.14 श्याम कृष्ण (Syama Krishna) किसकी पहचान धुन या मुद्रा थी?

- Ans
- A. अन्नमाचार्य
  - B. वेंकट सुब्रह्मण्य
  - C. पुरन्दर दास
  - D. त्यागराज

Question ID : 630680210818  
Option 1 ID : 630680817434  
Option 2 ID : 630680817431  
Option 3 ID : 630680817433  
Option 4 ID : 630680817432  
Status : Not Answered  
Chosen Option : --

Q.15 निम्नलिखित वैज्ञानिकों में से किसे आधुनिक कोशिका जीव विज्ञान (1912-2008) का जनक माना जाता है?

- Ans
- A. जॉर्ज एमिल पलाडे (George Emil Palade)
  - B. रसेल कार्सन (Rachel Carson)
  - C. कार्ल लीनियस (Carl Linnaeus)
  - D. एंटोनी वॉन ल्यूवेनहॉक (Antonie van Leeuwenhoek)

Question ID : 630680209079  
Option 1 ID : 630680810532  
Option 2 ID : 630680810533  
Option 3 ID : 630680810534  
Option 4 ID : 630680810531  
Status : Answered  
Chosen Option : C

Q.16 1927 में अछूतों को एक सार्वजनिक टैंक से पानी का उपयोग करने की अनुमति देने के लिए डॉ. बी.आर. अम्बेडकर ने निम्नलिखित में से किस सत्याग्रह का नेतृत्व किया गया था?

- Ans
- A. बारदोली सत्याग्रह
  - B. चंपारण सत्याग्रह
  - C. महाड़ सत्याग्रह
  - D. नासिक सत्याग्रह

Question ID : 630680213992  
Option 1 ID : 630680830018  
Option 2 ID : 630680830015  
Option 3 ID : 630680830017  
Option 4 ID : 630680830016  
Status : Answered  
Chosen Option : C

Q.17 न्यायालय किस रिट याचिका के माध्यम से, कैद किए गए किसी व्यक्ति को अपने सामने बुला सकता है, ताकि वह यह जान सके कि उसे कैद क्यों किया गया है?

- Ans
- A. उत्प्रेषण-लेख
  - B. परमादेश
  - C. निषेध
  - D. बन्दी प्रत्यक्षीकरण

Question ID : 630680209115  
 Option 1 ID : 630680810678  
 Option 2 ID : 630680810675  
 Option 3 ID : 630680810677  
 Option 4 ID : 630680810676  
 Status : Answered  
 Chosen Option : D

Q.18 निम्नलिखित में से कौन भारत के संसद भवन के वास्तुकारों में से एक थे?

- Ans
- A. स्विटन जैकब
  - B. विलियम इमर्सन
  - C. आर्थर शूस्मिथ
  - D. एडविन लुटियंस

Question ID : 630680115324  
 Option 1 ID : 630680446646  
 Option 2 ID : 630680446648  
 Option 3 ID : 630680446649  
 Option 4 ID : 630680446647  
 Status : Not Answered  
 Chosen Option : --

Q.19 निम्नलिखित में से कौन-सी, कम आय वाले देश के लिए एक मूल आधारिक संरचना सेवा नहीं है?

- Ans
- A. दूरसंचार
  - B. परिवहन
  - C. बिजली
  - D. सिंचाई

Question ID : 63068054194  
 Option 1 ID : 630680208820  
 Option 2 ID : 630680208819  
 Option 3 ID : 630680208821  
 Option 4 ID : 630680208818  
 Status : Answered  
 Chosen Option : D

Q.20 पुरुलिया छऊ नृत्य निम्नलिखित में से किस देवता से संबंधित है?

- Ans
- A. कृष्ण
  - B. इंद्र
  - C. विष्णु
  - D. शिव

Question ID : 630680214140  
Option 1 ID : 630680830607  
Option 2 ID : 630680830608  
Option 3 ID : 630680830610  
Option 4 ID : 630680830609  
Status : Answered  
Chosen Option : C

Q.21 निम्नलिखित में से कौन सी गुजरात में सपेरों की लोकप्रिय नृत्य शैली है?

- Ans
- A. लावणी
  - B. मदारी नृत्य
  - C. ढोलो रानो
  - D. दांग

Question ID : 630680157844  
Option 1 ID : 630680610906  
Option 2 ID : 630680610905  
Option 3 ID : 630680610904  
Option 4 ID : 630680610907  
Status : Answered  
Chosen Option : C

Q.22 राष्ट्रीय निवेश और अवसंरचना कोष की स्थापना कब की गई थी?

- Ans
- A. 2017 में
  - B. 2014 में
  - C. 2015 में
  - D. 2016 में

Question ID : 63068090256  
Option 1 ID : 630680349801  
Option 2 ID : 630680349798  
Option 3 ID : 630680349799  
Option 4 ID : 630680349800  
Status : Not Answered  
Chosen Option : --

Q.23 कुछ देश और उनके क्षेत्रफल मिलियन वर्ग किमी में दिए गए हैं। निम्नलिखित का सही मिलान करें।

देश	क्षेत्रफल (मिलियन वर्ग किमी में)
1. भारत	a. 3.28
2. ऑस्ट्रेलिया	b. 7.69
3. ब्राज़ील	c. 8.51
4. चीन	d. 9.60

- Ans
- A. 1-c, 2-b, 3-d, 4-a
  - B. 1-a, 2-b, 3-d, 4-c
  - C. 1-a, 2-c, 3-b, 4-d
  - D. 1-a, 2-b, 3-c, 4-d

Question ID : 63068074870  
 Option 1 ID : 630680289634  
 Option 2 ID : 630680289632  
 Option 3 ID : 630680289633  
 Option 4 ID : 630680289631  
 Status : Answered  
 Chosen Option : D

Q.24 अखिल भारतीय मुस्लिम लीग की स्थापना कहाँ ई थी?

- Ans
- A. कराची
  - B. मुंबई
  - C. ढाका
  - D. मक्का

Question ID : 63068087066  
 Option 1 ID : 630680337656  
 Option 2 ID : 630680337654  
 Option 3 ID : 630680337655  
 Option 4 ID : 630680337653  
 Status : Answered  
 Chosen Option : C

Q.25 मोरमुगाओ बंदरगाह (Mormugao Port) भारत के किस राज्य में स्थित है?

- Ans
- A. महाराष्ट्र
  - B. कर्नाटक
  - C. गोवा
  - D. तमिलनाडु

Question ID : 630680209255  
 Option 1 ID : 630680811235  
 Option 2 ID : 630680811236  
 Option 3 ID : 630680811237  
 Option 4 ID : 630680811238  
 Status : Answered  
 Chosen Option : D

Section : Elementary Mathematics

Q.1 Rs.45,000 पर 6 महीने के लिए  $4\frac{1}{5}\%$  प्रति वर्ष की दर से साधारण ब्याज ज्ञात कीजिए।

- Ans
- A. Rs.745
  - B. Rs.645
  - C. Rs.945
  - D. Rs.845

Question ID : 63068058200  
 Option 1 ID : 630680224528  
 Option 2 ID : 630680224529  
 Option 3 ID : 630680224527  
 Option 4 ID : 630680224526  
 Status : Not Answered  
 Chosen Option : --

Q.2 एक खेल के मैदान की लंबाई 540 मीटर है और इस खेल के मैदान की लंबाई और चौड़ाई का अनुपात 9 : 8 है। खेल के मैदान की चौड़ाई कितनी है?

- Ans
- A. 506 मीटर
  - B. 514 मीटर
  - C. 498 मीटर
  - D. 480 मीटर

Question ID : 630680120025  
 Option 1 ID : 630680465136  
 Option 2 ID : 630680465137  
 Option 3 ID : 630680465135  
 Option 4 ID : 630680465134  
 Status : Answered  
 Chosen Option : C

Q.3 पाइप A एक खाली टैंक को 12 घंटे में भर सकता है, जबकि पाइप B भरे टैंक को 18 घंटे में खाली कर सकता है। यदि खाली टैंक भरने के लिए दोनों पाइपों को एक साथ खोल दिया जाए, तो टैंक कितने घंटे में पूरी तरह से भर जाएगा?

- Ans
- A. 12 घंटे
  - B. 36 घंटे
  - C. 17 घंटे
  - D. 18 घंटे

Question ID : 630680131147  
 Option 1 ID : 630680507858  
 Option 2 ID : 630680507860  
 Option 3 ID : 630680507861  
 Option 4 ID : 630680507859  
 Status : Not Answered  
 Chosen Option : --



Q.7 स्वामी की वार्षिक आय ₹6,60,000 है। वह अपनी मासिक आय का 24% किस्तों पर, 16% घरेलू सामानों पर, 14% अपने बच्चों की फीस का भुगतान करने पर और 2% वह दान में खर्च करता है। यदि वह बची हुई राशि का 3/5वां हिस्सा म्यूचुअल फंड में निवेश करता है, तो उसके पास हर महीने कितनी राशि बचती है?

- Ans
- A. ₹16,221
  - B. ₹16,280
  - C. ₹15,800
  - D. ₹15,884

Question ID : 630680115681  
 Option 1 ID : 630680448077  
 Option 2 ID : 630680448076  
 Option 3 ID : 630680448074  
 Option 4 ID : 630680448075  
 Status : Not Answered  
 Chosen Option : --

Q.8 एक बाइक की चाल 54 km/h है और दूसरी बाइक की चाल 6 m/s है। दोनों बाइक की चाल का अनुपात ज्ञात करें।

- Ans
- A. 5: 2
  - B. 1: 9
  - C. 9: 1
  - D. 2: 5

Question ID : 630680112233  
 Option 1 ID : 630680434659  
 Option 2 ID : 630680434660  
 Option 3 ID : 630680434658  
 Option 4 ID : 630680434661  
 Status : Answered  
 Chosen Option : C

Q.9 ₹35,000 पर 10% प्रति वर्ष की दर से चक्रवृद्धि ब्याज ₹7,350 है। यदि ब्याज वार्षिक रूप से चक्रवृद्धि किया जाता है, तो समयावधि कितनी है?

- Ans
- A. 2 वर्ष
  - B.  $3\frac{1}{2}$  वर्ष
  - C. 3 वर्ष
  - D.  $1\frac{1}{2}$  वर्ष

Question ID : 630680108590  
 Option 1 ID : 630680421316  
 Option 2 ID : 630680421319  
 Option 3 ID : 630680421317  
 Option 4 ID : 630680421318  
 Status : Not Answered  
 Chosen Option : --

Q.10 एक कार्य को पूरा करने के लिए A और B की कार्य करने की क्षमताओं का अनुपात 2 : 3 है। कार्य को पूरा करने में उनके द्वारा लिए गए दिनों की संख्या का अनुपात..... होगा।

- Ans
- A. 4:3
- B. 3:2
- C. 3:4
- D. 2:3

Question ID : 63068094361  
 Option 1 ID : 630680366140  
 Option 2 ID : 630680366142  
 Option 3 ID : 630680366139  
 Option 4 ID : 630680366141  
 Status : Answered  
 Chosen Option : D

Q.11 एक कक्षा को 5 अलग-अलग समूहों में बांटा गया है। पहले समूह में कक्षा की कुल संख्या का 25%, दूसरे समूह में कक्षा की कुल संख्या का 20%, तीसरे समूह में कक्षा की कुल संख्या का 30%, चौथे समूह में कक्षा की कुल संख्या का 10% और शेष छात्र पांचवें समूह में हैं। इन समूहों की औसत ऊंचाई क्रमशः 158 सेमी, 162 सेमी, 165 सेमी, 172 सेमी और 160 सेमी है। कक्षा में छात्रों की औसत ऊंचाई क्या है, यदि कक्षा की कुल संख्या 80 है?

- Ans
- A. 168.2
- B. 163.5
- C. 165.5
- D. 162.6

Question ID : 630680103706  
 Option 1 ID : 630680403058  
 Option 2 ID : 630680403057  
 Option 3 ID : 630680403056  
 Option 4 ID : 630680403055  
 Status : Not Answered  
 Chosen Option : --

Q.12 यदि 5 लड़कों की आयु 23, 18, 22, 17 और 20 वर्ष है, तो लड़कों की औसत आयु कितनी है?

- Ans
- A. 19 वर्ष
- B. 22 वर्ष
- C. 20 वर्ष
- D. 21 वर्ष

Question ID : 630680108570  
 Option 1 ID : 630680421239  
 Option 2 ID : 630680421237  
 Option 3 ID : 630680421236  
 Option 4 ID : 630680421238  
 Status : Answered  
 Chosen Option : C

Q.13 एक बर्तन मादो तरल पदार्थ P और Q का मि ण 4:5 के अनुपात माहै। यदि बर्तन मा5 लीटर तरल P मिला दिया जाए, तो अनुपात 6:5 हो जाता है। बर्तन मात्रलरल Q की मा कितनी है?

- Ans  A. 15 litres  
 B. 12.5 litres  
 C. 17.5 litres  
 D. 10 litres

Question ID : 63068070960  
 Option 1 ID : 630680274452  
 Option 2 ID : 630680274451  
 Option 3 ID : 630680274453  
 Option 4 ID : 630680274450  
 Status : Not Answered  
 Chosen Option : --

Q.14 ₹1,000 पर 4% वार्षिक की दर से 2 वर्षके लिए वार्षिक प से चक्रवृद्धि ब्याज ज्ञात कीजिए।

- Ans  A. RS.78.6  
 B. RS.81.6  
 C. RS.80  
 D. RS.70.5

Question ID : 630680108778  
 Option 1 ID : 630680422024  
 Option 2 ID : 630680422026  
 Option 3 ID : 630680422027  
 Option 4 ID : 630680422025  
 Status : Not Answered  
 Chosen Option : --

Q.15 51 से पूर्णतः विभाज्य 5 अंकवाली सबसे छोटी संख्या कौन सी है?

- Ans  A. 10047  
 B. 10098  
 C. 10051  
 D. 10037

Question ID : 63068059999  
 Option 1 ID : 630680231567  
 Option 2 ID : 630680231569  
 Option 3 ID : 630680231568  
 Option 4 ID : 630680231566  
 Status : Not Answered  
 Chosen Option : --

Q.16 एक पुलिसकर्मी 200 m की दूरी से एक चोर को देखता है। चोर भागने लगता है और पुलिसकर्मी उसका पीछा करता है। चोर और पुलिसकर्मी क्रमशः 10 km/h और 11 km/h की चाल से भागते हैं। 5 मिनट बाद उनके बीच की दूरी ज्ञात करें।

- Ans
- A.  $116\frac{2}{3}$  m
  - B.  $118\frac{2}{3}$  m
  - C.  $106\frac{2}{3}$  m
  - D.  $110\frac{2}{3}$  m

Question ID : 630680220270  
 Option 1 ID : 630680854946  
 Option 2 ID : 630680854947  
 Option 3 ID : 630680854948  
 Option 4 ID : 630680854945  
 Status : Not Answered  
 Chosen Option : --

Q.17 600 और 200 के मध्य ऐसी कितनी संख्याएँ हैं, जो 11 से विभाज्य हैं।

- Ans
- A. 25
  - B. 36
  - C. 42
  - D. 39

Question ID : 63068070244  
 Option 1 ID : 630680271613  
 Option 2 ID : 630680271612  
 Option 3 ID : 630680271611  
 Option 4 ID : 630680271610  
 Status : Not Answered  
 Chosen Option : --

Q.18 यदि एक दुकानदार, एक जैकेट पर क्रय मूल्य से 40% अधिक मूल्य अंकित करता है और उस पर 15% की छूट देता है, तो उसका लाभ प्रतिशत ज्ञात कीजिए।

- Ans
- A. 15%
  - B. 12%
  - C. 17%
  - D. 19%

Question ID : 630680108890  
 Option 1 ID : 630680422453  
 Option 2 ID : 630680422452  
 Option 3 ID : 630680422454  
 Option 4 ID : 630680422455  
 Status : Answered  
 Chosen Option : D

Q.19 एक वर्ग में, प्रत्येक 8 छात्रों को 15 अंक मिले, 6 छात्रों को 24 अंक मिले, 4 छात्रों को 10 अंक मिले, 5 छात्रों को 12 अंक मिले और 2 छात्रों को 18 अंक मिले। कक्षा के औसत अंक कितने हैं?

- Ans  A. 16  
 B. 14  
 C. 12  
 D. 18

Question ID : 630680219100  
 Option 1 ID : 630680850301  
 Option 2 ID : 630680850300  
 Option 3 ID : 630680850299  
 Option 4 ID : 630680850302  
 Status : Not Answered  
 Chosen Option : --

Q.20  $10.\bar{3}$  के लिए सही व्यंजक है:

- Ans  A.  $\frac{10}{3}$   
 B.  $\frac{103}{9}$   
 C.  $\frac{93}{10}$   
 D.  $\frac{31}{3}$

Question ID : 63068071006  
 Option 1 ID : 630680274634  
 Option 2 ID : 630680274636  
 Option 3 ID : 630680274637  
 Option 4 ID : 630680274635  
 Status : Answered  
 Chosen Option : A

Q.21 हेरिसन ने एक कलाकार से एक मूर्ति खरीदी और उस पर क्रय मूल्य से 25% अधिक मूल्य अंकित कर दिया। हेरिसन ने इसे बेचने पर 20% की छूट की पेशकश की। कुल लेनदेन में समय लाभ या हानि प्रतिशत ज्ञात कीजिए।

- Ans  A. 10% लाभ  
 B. न लाभ, न हा  
 C. 20% हा  
 D. 5% लाभ

Question ID : 630680108958  
 Option 1 ID : 630680422726  
 Option 2 ID : 630680422727  
 Option 3 ID : 630680422724  
 Option 4 ID : 630680422725  
 Status : Answered  
 Chosen Option : B

Q.22 धातु के एक घन की प्रत्येक भुजा की लंबाई 12 cm है। इसे पिघलाकर तीन छोटे घन बनाए जाते हैं। इन घनों में से दो की भुजाएँ 6 cm और 8 cm हैं। तीसरे घन की प्रत्येक भुजा की लंबाई कितनी है?

- Ans  A. 10.5 cm  
 B. 9 cm  
 C. 11 cm  
 D. 10 cm

Question ID : 63068070986  
 Option 1 ID : 630680274556  
 Option 2 ID : 630680274554  
 Option 3 ID : 630680274557  
 Option 4 ID : 630680274555  
 Status : Not Answered  
 Chosen Option : --

Q.23 स्टॉपेज को छोड़कर, बस की चाल 80 km/h है और स्टॉपेज सहित, बस की चाल 50 km/h है। तो बताइए बस प्रति घंटे कितने मिनट के लिए रुकती है?

- Ans  A. 25  
 B. 25.5  
 C. 24.5  
 D. 22.5

Question ID : 630680108781  
 Option 1 ID : 630680422039  
 Option 2 ID : 630680422037  
 Option 3 ID : 630680422038  
 Option 4 ID : 630680422036  
 Status : Not Answered  
 Chosen Option : --

Q.24 रमेश ने 3 घंटे, 20 मील/घंटे की गति से और 2 घंटे, 30 मील/घंटे की गति से गाड़ी चलाई। पूरी यात्रा में उसकी औसत गति (मील/घंटे में) क्या थी?

- Ans  A. 25  
 B. 24  
 C. 30  
 D. 20

Question ID : 630680107367  
 Option 1 ID : 630680416832  
 Option 2 ID : 630680416834  
 Option 3 ID : 630680416835  
 Option 4 ID : 630680416833  
 Status : Not Answered  
 Chosen Option : --

Q.25  $15^{23} + 23^{23}$  को 19 से विभाजित करने पर शेषफल कितना बचेगा?

- Ans
- A. 3
  - B. 1
  - C. 0
  - D. 2

Question ID : 63068068119  
 Option 1 ID : 630680263205  
 Option 2 ID : 630680263203  
 Option 3 ID : 630680263202  
 Option 4 ID : 630680263204  
 Status : Not Answered  
 Chosen Option : --

Section : English

Q.1 Select the most appropriate synonym of the given word.  
 Catch

- Ans
- A. Drop
  - B. Grab
  - C. Turn
  - D. Lose

Question ID : 630680204330  
 Option 1 ID : 630680792404  
 Option 2 ID : 630680792403  
 Option 3 ID : 630680792406  
 Option 4 ID : 630680792405  
 Status : Not Answered  
 Chosen Option : --

Q.2 Sentences of a paragraph are given below in jumbled order. Arrange the sentences in the correct order to form a meaningful and coherent paragraph.

- A. Humans have long found meaning in the stars.
- B. Other shimmery structures became known to us after the invention of the telescope.
- C. A few nearby galaxies have always been visible to the naked eye.
- D. But only recently have we begun to understand whole clusters of them.

- Ans
- A. CDDBA
  - B. ADCB
  - C. BDCA
  - D. DACB

Question ID : 630680204316  
 Option 1 ID : 630680792349  
 Option 2 ID : 630680792348  
 Option 3 ID : 630680792347  
 Option 4 ID : 630680792350  
 Status : Not Answered  
 Chosen Option : --

Q.3 Select the correctly spelt word.

- Ans  A. Accommodate  
 B. Acomodate  
 C. Accomodate  
 D. Accommoddate

Question ID : 630680209291  
Option 1 ID : 630680811381  
Option 2 ID : 630680811379  
Option 3 ID : 630680811380  
Option 4 ID : 630680811382  
Status : Not Answered  
Chosen Option : --

Q.4 Read the sentence carefully and select the synonym of the underlined word from the given alternatives.

The Chairman insinuated that there will be an increase in the salary of all the workers.

- Ans  A. Confirmed  
 B. Implied  
 C. Promulgated  
 D. Indulged

Question ID : 630680123912  
Option 1 ID : 630680480513  
Option 2 ID : 630680480510  
Option 3 ID : 630680480511  
Option 4 ID : 630680480512  
Status : Not Answered  
Chosen Option : --

Q.5 Select the option that can be used as a one-word substitute for the given group of words.  
Extreme fear about ugliness

- Ans  A. Catrophobia  
 B. Chronophobia  
 C. Cacophobia  
 D. Cellophobia

Question ID : 630680160180  
Option 1 ID : 630680620095  
Option 2 ID : 630680620092  
Option 3 ID : 630680620093  
Option 4 ID : 630680620094  
Status : Not Answered  
Chosen Option : --

Q.6 Select the word that means the same as the underlined segment in the sentence.  
John is well known for his bad qualities around the neighbourhood.

- Ans
- A. well known
  - B. incorrigible
  - C. notorious
  - D. intrepid

Question ID : 6306802093680680111580680021

Q.7 Identify the option that makes the given sentence grammatically correct.  
Kavita is absent, because he is sick.

Ans

- A. Kavita is absent, because it is sick.
- B. Kavita is absent, because he was sick.
- C. Kavita is absent, because she is sick.
- D. Kavita is absent, because they is sick.

Question ID : 6306807124806802715580680025

Q.8 Select the option that can be used as a one-word substitute for the following sentence.  
A doctor specialising in the treatment of skin diseases

Ans

- A. Nephrologist
- B. Dermatologist
- C. Cardiologist
- D. Radiologist

Question ID : 6306807154806802715580680025

Q.9 Select the correctly spelt word.

- Ans  A. Occurrence  
 B. Occurence  
 C. Occurance  
 D. Ocurance

Question ID : 630680209290  
Option 1 ID : 630680811377  
Option 2 ID : 630680811375  
Option 3 ID : 630680811378  
Option 4 ID : 630680811376  
Status : Not Answered  
Chosen Option : --

Q.10 Select the INCORRECTLY spelt word.

- Ans  A. Ensemble  
 B. Ecstasy  
 C. En masse  
 D. Embassy

Question ID : 630680126301  
Option 1 ID : 630680489813  
Option 2 ID : 630680489810  
Option 3 ID : 630680489812  
Option 4 ID : 630680489811  
Status : Not Answered  
Chosen Option : --

Q.11 Select the most appropriate ANTONYM of the given word.  
Indulge

- Ans  A. Abandon  
 B. Coddle  
 C. Surrender  
 D. Deny

Question ID : 630680144526  
Option 1 ID : 630680559170  
Option 2 ID : 630680559173  
Option 3 ID : 630680559172  
Option 4 ID : 630680559171  
Status : Not Answered  
Chosen Option : --

ces in the  
seats have  
he country.  
1, with 10

A. Stare  
 B. Glimpse  
 C. Flash  
 D. Gaze

Question ID :630680204331  
Option 1 ID :630680792407  
Option 2 ID :630680792409  
Option 3 ID :630680792410  
Option 4 ID :630680792408  
Status :Not Answered  
Chosen Option :-

ces in the  
seats have  
he country.  
1, with 10

A. DCBA  
 B. ABDC  
 C. CDAB  
 D. CABD

Question ID :630680204402  
Option 1 ID :630680792692  
Option 2 ID :630680792693  
Option 3 ID :630680792694  
Option 4 ID :630680792691  
Status :Not Answered  
Chosen Option :-

ces in the  
seats have  
he country.  
1, with 10

A. CBAD  
 B. DCAB  
 C. ABCD  
 D. BCDA

Question ID :630680204342  
Option 1 ID :630680792451  
Option 2 ID :630680792453  
Option 3 ID :630680792452  
Option 4 ID :630680792454  
Status :Not Answered  
Chosen Option :-

Q.15 Select the INCORRECTLY spelt word.

- Ans
- A. Develop
  - B. Defenitely
  - C. Dismay
  - D. Degree

Question ID : 630680129715  
Option 1 ID : 630680502469  
Option 2 ID : 630680502468  
Option 3 ID : 630680502467  
Option 4 ID : 630680502466  
Status : Not Answered  
Chosen Option : --

Q.16 Select the option that can be used as a one-word substitute for the given group of words.

A place where birds are kept

- Ans
- A. Roost
  - B. Aviary
  - C. Burrow
  - D. Den

Question ID : 630680129476  
Option 1 ID : 630680501525  
Option 2 ID : 630680501522  
Option 3 ID : 630680501524  
Option 4 ID : 630680501523  
Status : Not Answered  
Chosen Option : --

Q.17 Select the most appropriate option to fill in the blank in the given sentence.  
The lion is a \_\_\_ of prey in a forest.

- Ans
- A. beat
  - B. bet
  - C. beast
  - D. best

Question ID : 630680118357  
Option 1 ID : 630680458564  
Option 2 ID : 630680458565  
Option 3 ID : 630680458563  
Option 4 ID : 630680458562  
Status : Not Answered  
Chosen Option : --

Q.18 Identify the option that makes the given sentence grammatically correct  
When the child saw the mother, they stopped crying.

- Ans
- A. When the child saw the mother, he stopped crying.
  - B. When the child saw his mother, him stopped crying.
  - C. When the child saw the mother, it stopped crying.
  - D. When the child saw the mother, she stopped crying.

Question ID : 63068071244  
Option 1 ID : 630680275559  
Option 2 ID : 630680275561  
Option 3 ID : 630680275560  
Option 4 ID : 630680275558  
Status : Not Answered  
Chosen Option : --

Q.19 Select the most appropriate synonym of the underlined word.

Silence does seldom harm.

- Ans
- A. Benefit
  - B. Reparation
  - C. Heal
  - D. Hurt

Question ID : 630680132849  
Option 1 ID : 630680514462  
Option 2 ID : 630680514464  
Option 3 ID : 630680514463  
Option 4 ID : 630680514465  
Status : Not Answered  
Chosen Option : --

Q.20 Select the option that can be used as a one-word substitute for the given group of words.  
Belief in God and nature

- Ans
- A. Immaculate
  - B. Pantheism
  - C. Xenomania
  - D. Polyglot

Question ID : 630680167101  
Option 1 ID : 630680647263  
Option 2 ID : 630680647262  
Option 3 ID : 630680647261  
Option 4 ID : 630680647260  
Status : Not Answered  
Chosen Option : --

**Comprehension:**

Read the given passage and answer the questions that follow.

Social media, which was created to bring the world closer virtually, has in fact resulted in an addictive phenomenon which has led to an increase in the number of anxiety and depression-related cases. 'Social detox' is an up and coming term, which refers to a social blackout for a certain number of days, to essentially give the mind and soul a rest from the constant updates. However, with the world that we live in, this isn't the ideal answer to our problems. A 'social detox' may not be viable given the work and priorities we all have. An alternative to aid our mental health and have an overall positive impact on our mood is music.

Music is a universal language that is understood and felt across cultures, religions and all social aspects. Every element in the universe actually originates from a sound vibration. Simple elements of nature like the rustle of trees, the crunching of grass and bees buzzing have a calming effect on the brain and have the power of inducing a sense of happiness and joy. A great example of the power of music to induce a remedial melody for a stressfilled mind is the lullabies which were sung by our mothers at a very young age. It is observed that singing lullabies to children calms them, putting them to a peaceful sleep. Similarly, playing music while working can not only increase one's productivity but also act as a breather amidst an otherwise stressful environment. Music is also seen as a great medium to practice meditation – the epitome of achieving mental peace. All these examples exhibit the effect of music on one's mental health by stimulating a calming sensation.

In olden times, music was given equal importance as maths and other subjects because it was known to aid the cognitive development of children. Playing an instrument is the brain's equivalent of a full body work out, as it engages all parts of the brain at once, especially the visual, motor and auditory cortices.

Music and its positive effects on the mind have been studied by various professionals, which has led to the introduction of music therapy. Music is also a readily available medium that can help individuals of all age groups battle mental health problems.

SubQuestion No : 21

Q.21 According to the passage, what increases anxiety?

Ans  A. Social Media

B. Poverty

C. Music

D. Education

Question ID : 630680204424

Option 1 ID : 630680792771

Option 2 ID : 630680792774

Option 3 ID : 630680792772

Option 4 ID : 630680792773

Status : Not Answered

Chosen Option : --

**Comprehension:**

Read the given passage and answer the questions that follow.

Social media, which was created to bring the world closer virtually, has in fact resulted in an addictive phenomenon which has led to an increase in the number of anxiety and depression-related cases. 'Social detox' is an up and coming term, which refers to a social blackout for a certain number of days, to essentially give the mind and soul a rest from the constant updates. However, with the world that we live in, this isn't the ideal answer to our problems. A 'social detox' may not be viable given the work and priorities we all have. An alternative to aid our mental health and have an overall positive impact on our mood is music.

Music is a universal language that is understood and felt across cultures, religions and all social aspects. Every element in the universe actually originates from a sound vibration. Simple elements of nature like the rustle of trees, the crunching of grass and bees buzzing have a calming effect on the brain and have the power of inducing a sense of happiness and joy. A great example of the power of music to induce a remedial melody for a stressfilled mind is the lullabies which were sung by our mothers at a very young age. It is observed that singing lullabies to children calms them, putting them to a peaceful sleep. Similarly, playing music while working can not only increase one's productivity but also act as a breather amidst an otherwise stressful environment. Music is also seen as a great medium to practice meditation – the epitome of achieving mental peace. All these examples exhibit the effect of music on one's mental health by stimulating a calming sensation.

In olden times, music was given equal importance as maths and other subjects because it was known to aid the cognitive development of children. Playing an instrument is the brain's equivalent of a full body work out, as it engages all parts of the brain at once, especially the visual, motor and auditory cortices.

Music and its positive effects on the mind have been studied by various professionals, which has led to the introduction of music therapy. Music is also a readily available medium that can help individuals of all age groups battle mental health problems.

SubQuestion No : 22

Q.22 Choose the most appropriate meaning of the word 'lullaby'.

- Ans
- A. Instrumental music played by violin player
  - B. A western song sung by Indian musicians
  - C. A folk song sung by western people
  - D. A song sung to children to help them go to sleep

Question ID : 630680204428

Option 1 ID : 630680792790

Option 2 ID : 630680792789

Option 3 ID : 630680792788

Option 4 ID : 630680792787

Status : Not Answered

Chosen Option : --

**Comprehension:**

Read the given passage and answer the questions that follow.

Social media, which was created to bring the world closer virtually, has in fact resulted in an addictive phenomenon which has led to an increase in the number of anxiety and depression-related cases. 'Social detox' is an up and coming term, which refers to a social blackout for a certain number of days, to essentially give the mind and soul a rest from the constant updates. However, with the world that we live in, this isn't the ideal answer to our problems. A 'social detox' may not be viable given the work and priorities we all have. An alternative to aid our mental health and have an overall positive impact on our mood is music.

Music is a universal language that is understood and felt across cultures, religions and all social aspects. Every element in the universe actually originates from a sound vibration. Simple elements of nature like the rustle of trees, the crunching of grass and bees buzzing have a calming effect on the brain and have the power of inducing a sense of happiness and joy. A great example of the power of music to induce a remedial melody for a stressfilled mind is the lullabies which were sung by our mothers at a very young age. It is observed that singing lullabies to children calms them, putting them to a peaceful sleep. Similarly, playing music while working can not only increase one's productivity but also act as a breather amidst an otherwise stressful environment. Music is also seen as a great medium to practice meditation – the epitome of achieving mental peace. All these examples exhibit the effect of music on one's mental health by stimulating a calming sensation.

In olden times, music was given equal importance as maths and other subjects because it was known to aid the cognitive development of children. Playing an instrument is the brain's equivalent of a full body work out, as it engages all parts of the brain at once, especially the visual, motor and auditory cortices.

Music and its positive effects on the mind have been studied by various professionals, which has led to the introduction of music therapy. Music is also a readily available medium that can help individuals of all age groups battle mental health problems.

SubQuestion No : 23

Q.23 Which of the following statements is true about the term 'social detox'?

- Ans
- A. Spending all one's time on social media
  - B. Going away from daily updates for a while
  - C. Being in the presence of parents and relatives
  - D. Spending time with the colleagues in the office

Question ID : 630680204427

Option 1 ID : 630680792786

Option 2 ID : 630680792785

Option 3 ID : 630680792783

Option 4 ID : 630680792784

Status : Not Answered

Chosen Option : --

**Comprehension:**

Read the given passage and answer the questions that follow.

Social media, which was created to bring the world closer virtually, has in fact resulted in an addictive phenomenon which has led to an increase in the number of anxiety and depression-related cases. 'Social detox' is an up and coming term, which refers to a social blackout for a certain number of days, to essentially give the mind and soul a rest from the constant updates. However, with the world that we live in, this isn't the ideal answer to our problems. A 'social detox' may not be viable given the work and priorities we all have. An alternative to aid our mental health and have an overall positive impact on our mood is music.

Music is a universal language that is understood and felt across cultures, religions and all social aspects. Every element in the universe actually originates from a sound vibration. Simple elements of nature like the rustle of trees, the crunching of grass and bees buzzing have a calming effect on the brain and have the power of inducing a sense of happiness and joy. A great example of the power of music to induce a remedial melody for a stressfilled mind is the lullabies which were sung by our mothers at a very young age. It is observed that singing lullabies to children calms them, putting them to a peaceful sleep. Similarly, playing music while working can not only increase one's productivity but also act as a breather amidst an otherwise stressful environment. Music is also seen as a great medium to practice meditation – the epitome of achieving mental peace. All these examples exhibit the effect of music on one's mental health by stimulating a calming sensation.

In olden times, music was given equal importance as maths and other subjects because it was known to aid the cognitive development of children. Playing an instrument is the brain's equivalent of a full body work out, as it engages all parts of the brain at once, especially the visual, motor and auditory cortices.

Music and its positive effects on the mind have been studied by various professionals, which has led to the introduction of music therapy. Music is also a readily available medium that can help individuals of all age groups battle mental health problems.

**SubQuestion No : 24**

**Q.24 Select the most appropriate title for the passage.**

- Ans**     **A. Music, The Best Medicine for Modern Woes**  
 **B. Social Media and its Advantages**  
 **C. Music Schools And Music Programmes**  
 **D. Music and Magic Learning in Modern Society**

Question ID : 630680204426

Option 1 ID : 630680792779

Option 2 ID : 630680792782

Option 3 ID : 630680792781

Option 4 ID : 630680792780

Status : Not Answered

Chosen Option : --

**Comprehension:**

Read the given passage and answer the questions that follow.

Social media, which was created to bring the world closer virtually, has in fact resulted in an addictive phenomenon which has led to an increase in the number of anxiety and depression-related cases. A new coming term, which refers to a social blackout for a few days, to essentially give the mind and soul a rest from the constant bombardment of information and priorities this age has. An alternative to aid an overall positive impact on our mood is music. Music is a language that is understood and felt across cultures, religions and all ages. It is believed that the universe actually originates from a sound vibration. Like the rustle of trees, the crunching of grass and bees buzzing, music can help us relax and have the power of inducing a sense of happiness and relief. The power of music to induce a remedial melody for a stress-

filled mind is the lullabies which were sung by our mothers at a very young age. It is observed that singing lullabies to children calms them, putting them to a peaceful sleep. Similarly, playing music while working can not only increase one's productivity but also act as a breather amidst an otherwise stressful environment. Music is also seen as a great medium to practice meditation and achieve mental peace. All these examples exhibit the effect of music on one's mental health by stimulating a calming sensation. In olden times, music was given equal importance as maths and other subjects because it was known to aid the cognitive development of children. Playing an instrument is the brain's equivalent of a full body work out, as it engages all parts of the brain at once, especially the visual, motor and auditory cortices. Music and its positive effects on the mind have been studied by various professionals, which has led to the introduction of music therapy. Music is also a readily available medium that can help individuals of all age groups battle mental health problems.

SubQuestion No : 25

Identify the central theme of the passage.

- A. Western music is better than traditional music.
- B. Movies makers are neglecting music.
- C. Music gives relief from anxiety.
- D. Music has a negative impact on human mind.

Question ID : 630680204425  
Option 1 ID : 630680792777  
Option 2 ID : 630680792775  
Option 3 ID : 630680792776  
Option 4 ID : 630680792778  
Status : Not Answered  
Chosen Option : --

Section : Hindi

Q.1 निम्नलिखित में से कौन सा एक 'मुहावरे' से सम्बंधित शब्द-युग्म अशुद्ध है?

- Ans
- A. लोहा मानना-शक्तिमत्ता को स्वीकार करना
  - B. रास्ता नापना-सफल होना
  - C. विष की गॉँठ-कड़वी बातें कहने वाला
  - D. लोहा लेना-युद्ध करना

Question ID : 630680197104  
Option 1 ID : 630680764699  
Option 2 ID : 630680764700  
Option 3 ID : 630680764701  
Option 4 ID : 630680764702  
Status : Answered  
Chosen Option : D

Q.2 'आजकल \_\_\_\_\_ ब त बढ़ गए ह॥' ( रह काटने वाला)

को क म ए संकेत के आधार पर सही सामा क शब्द चुनकर वाक्य पूर्ण कर॥

- Ans  A. गिरहकट  
 B. गिरहवाले  
 C. गिरह काटने वाले  
 D. गिरहकाटे

Question ID : 63068071830  
 Option 1 ID : 630680277791  
 Option 2 ID : 630680277793  
 Option 3 ID : 630680277790  
 Option 4 ID : 630680277792  
 Status : Answered  
 Chosen Option : B

Q.3 म् त वाक्यांश को ध्यानपूर्वक पढ़ और बताएं यह स समास का उदाहरण है?  
 तीन रंग का समूह - रंगा

- Ans  A. बहुव्रीहि समास  
 B. द्विगु समास  
 C. द्वंद समास  
 D. कर्मधारय समास

Question ID : 630680203692  
 Option 1 ID : 630680789969  
 Option 2 ID : 630680789967  
 Option 3 ID : 630680789970  
 Option 4 ID : 630680789968  
 Status : Answered  
 Chosen Option : B

Q.4 कौन - से मुहावरे से म् न् अर्थ सू त होता है?  
 कार्यरंभ म प आना-

- Ans  A. सिर नंगा करना  
 B. सिर मुंडाते ओले पड़ना  
 C. दाँत काटी रोटी  
 D. मुँह में खून लगना

Question ID : 630680198527  
 Option 1 ID : 630680770070  
 Option 2 ID : 630680770068  
 Option 3 ID : 630680770069  
 Option 4 ID : 630680770067  
 Status : Not Answered  
 Chosen Option : --

Q.5 म्म त लोको को ध्यानपूर्वक पढ़ें और बताएं कौनसा कल्प लोको के उ त अर्थ को प्रस्तुत कर रहा है?  
अक्ल के अंधे, गौंठ के पूरे

- Ans  A. निर्बुद्धि धनवान  
 B. चालाक धनवान  
 C. मोटा धनवान  
 D. बुद्धिमान धनवान

Question ID : 630680203681  
Option 1 ID : 630680789923  
Option 2 ID : 630680789925  
Option 3 ID : 630680789926  
Option 4 ID : 630680789924  
Status : Answered  
Chosen Option : A

Q.6 "कार दुर्घटना में सुरेश क□□ हो गई।"

उपर्युक्त वाक्य में क्त न क□पू के ए उपयुक्त त व शब्द है -

- Ans  A. पराभव  
 B. मौत  
 C. मृत्यु  
 D. खराब

Question ID : 630680140324  
Option 1 ID : 630680543099  
Option 2 ID : 630680543100  
Option 3 ID : 630680543101  
Option 4 ID : 630680543098  
Status : Answered  
Chosen Option : C

Q.7 म्म त वाक्यांश के ए सार्थक शब्द का चयन करें।

सक□तुलना न क□जा सके।

- Ans  A. तुलनीय  
 B. अन्त्योत्य  
 C. अतुलनीय  
 D. तुल्य

Question ID : 630680128826  
Option 1 ID : 630680498939  
Option 2 ID : 630680498941  
Option 3 ID : 630680498938  
Option 4 ID : 630680498940  
Status : Answered  
Chosen Option : C

Q.8 'अशक्य' के लिए वाक्य खंड चुनिए।

- Ans
- A. जो कुछ भी नहीं जानते
  - B. जो साधा न जा सके
  - C. जिसे छिपाना उचित हो
  - D. जो कभी न हो सके

Question ID : 630680198537  
 Option 1 ID : 630680770107  
 Option 2 ID : 630680770110  
 Option 3 ID : 630680770109  
 Option 4 ID : 630680770108  
 Status : Answered  
 Chosen Option : D

Q.9 'जब तक मेरी \_\_\_\_\_ चलेगी तब तक मैं अपनी बात पर कायम रहूँगा' निम्नलिखित वाक्य के रिक्त स्थान में उचित तद्भव शब्द का चयन करें

- Ans
- A. सौंस
  - B. साग
  - C. श्वास
  - D. शाक

Question ID : 630680197087  
 Option 1 ID : 630680764634  
 Option 2 ID : 630680764631  
 Option 3 ID : 630680764633  
 Option 4 ID : 630680764632  
 Status : Answered  
 Chosen Option : A

Q.10 निम्नलिखित में से कौन-सा एक शब्द 'गाछ' का पर्यायवाची नहीं है?

- Ans
- A. द्रुम
  - B. क्षणप्रभा
  - C. विटप
  - D. अगम

Question ID : 630680197100  
 Option 1 ID : 630680764684  
 Option 2 ID : 630680764686  
 Option 3 ID : 630680764685  
 Option 4 ID : 630680764683  
 Status : Not Answered  
 Chosen Option : --

निम्नलिखित वाक्यों में कारक चिन्हें है

मेरे मेहमानों।



✗ मेरे




निम्नलिखित में से कौन सा कारक चिन्हें ही है

✗ को

✗ के द्वारा

✗ से

✓ ही

दिएँ किसे विकल्प में व्ययीभाषें मासों बँ का प्रयोम ही किया या है

✓ माता पिता का रो

✗ हानी में धार्थ का चित्रण होता है

✗ प्रत्येक व्यक्ति म्मानें चाहता है

✗ प्रत्यक्ष को प्रमाणों की रूसों ही होती है

Q.14 'पुरोहित' का उचित संधि विच्छेद है-

- Ans  A. पुरः + त  
 B. पुर + त  
 C. पुरो + त  
 D. पुरो + हीत

Question ID : 63068061009  
 Option 1 ID : 630680235454  
 Option 2 ID : 630680235456  
 Option 3 ID : 630680235455  
 Option 4 ID : 630680235457  
 Status : Answered  
 Chosen Option : A

Q.15 'सादर' किस समास का उदाहरण है?

- Ans  A. तत्पुरुष  
 B. कर्मधारय  
 C. अ वीभाव  
 D. नञ समास

Question ID : 63068065769  
 Option 1 ID : 630680254026  
 Option 2 ID : 630680254028  
 Option 3 ID : 630680254027  
 Option 4 ID : 630680254029  
 Status : Not Answered  
 Chosen Option : --

Q.16 निम्नलिखित में से तत्पुरुष समास के उदाहरण की पहचान कीजिये-

- Ans  A. आधा है जो पका - अधपका  
 B. तीन वे यों का समूह - वेणी  
 C. मृत्यु पर जय - मृत्युंजय  
 D. श के अनुसार - यथाश

Question ID : 63068065820  
 Option 1 ID : 630680254227  
 Option 2 ID : 630680254228  
 Option 3 ID : 630680254226  
 Option 4 ID : 630680254229  
 Status : Answered  
 Chosen Option : D

Q.17 निम्नलिखित में से उचित तत्सम शब्द चुनकर उपरोक्त वाक्य पूर्ण करें - जिसका वस्तु का मूल्य कुछ समय पहले के मूल्य से अधिक हो, उसे \_\_\_\_\_ कहते हैं।

- Ans  A. महार्थ  
 B. अमूल्य  
 C. महंगा  
 D. क्रांती

Question ID : 630680146757  
 Option 1 ID : 630680567869  
 Option 2 ID : 630680567868  
 Option 3 ID : 630680567866  
 Option 4 ID : 630680567867  
 Status : Answered  
 Chosen Option : C

Q.18 निम्नलिखित शब्द का पर्यायवाची बताएं।  
गूढ़

- Ans  A. गधा  
 B. दुर्बोध  
 C. गुड़  
 D. ग

Question ID : 630680197180  
 Option 1 ID : 630680765006  
 Option 2 ID : 630680765004  
 Option 3 ID : 630680765003  
 Option 4 ID : 630680765005  
 Status : Answered  
 Chosen Option : B

Q.19 जिसे पानी या किसी और वस्तु को पीने की प्यास हो' वाक्यांश के लिए सार्थक शब्द निम्नलिखित में से है-

- Ans  A. यरी  
 B. उनी  
 C. गाक्षी  
 D. पासु

Question ID : 630680197153  
 Option 1 ID : 630680764898  
 Option 2 ID : 630680764897  
 Option 3 ID : 630680764896  
 Option 4 ID : 630680764895  
 Status : Answered  
 Chosen Option : D

Q.20 विधि, रीति इन पर्यायवाची शब्दों का अर्थ है -

- Ans
- A. दुविधा
  - B. अवसर
  - C. तरीका
  - D. मंथर

Question ID : 630680128784  
 Option 1 ID : 630680498776  
 Option 2 ID : 630680498775  
 Option 3 ID : 630680498774  
 Option 4 ID : 630680498777  
 Status : Answered  
 Chosen Option : B

**Comprehension:**

निम्नलिखित गद्यांश को पढ़कर पूछे गए सवालों का जवाब दीजिए।

धर्मराज लाखों वर्षों से असंख्य आदमियों को कर्म और सिफारिश के आधार पर स्वर्ग या नरक में निवास-स्थान 'अलॉट' करते आ रहे थे। पर ऐसा कभी नहीं हुआ था। सामने बैठे चित्रगुप्त बार-बार चश्मा पोंछ, बार-बार थूक से पन्ने पलट, रजिस्टर पर रजिस्टर देख रहे थे। गलती पकड़ में ही नहीं आ रही थी। आखिर उन्होंने खीझकर रजिस्टर इतने जोर से बंद किया कि मक्खी चपेट में आ गई। उसे निकालते हुए वे बोले- "महाराज, रिकॉर्ड सब ठीक है। भोलाराम के जीव ने पाँच दिन पहले देह त्यागी और यमदूत के साथ इस लोक के लिए रवाना भी हुआ, पर यहाँ अभी तक नहीं पहुँचा।"

SubQuestion No : 21

Q.21 चित्रगुप्त बार-बार चश्मा पोंछकर क्या देख रहे थे?

- Ans
- A. पुस्तक
  - B. मक्खी
  - C. रजिस्टर
  - D. आदमी

Question ID : 630680123140  
 Option 1 ID : 630680477460  
 Option 2 ID : 630680477458  
 Option 3 ID : 630680477459  
 Option 4 ID : 630680477461  
 Status : Answered  
 Chosen Option : C

**Comprehension:**

मन्तव्य श को पढ़कर पूछे गए सवालों का जवाब दीजिए।

धर्मराज लाखों वर्षों से असंख्य आदर्यों को कर्म और फल के आधार पर स्वर्ग या नरक में वास-न 'अलौट' करते आ रहे थे। पर ऐसा कभी नहीं हुआ था। सामने बैठे त्रगुप्त बार-बार चश्मा पोंछ, बार-बार थूक से पलट, रस्टर पर रस्टर देख रहे थे। गलती पकड़ में ही नहीं आ रही थी। आर उन्होंने खीझकर रस्टर इतने जोर से बंद या मक्खी चपेट में आ गई। उसे कालते हुए वे बोले- "महाराज, कोई सब ठीक है। भोलाराम के जीव ने पाँच न पहले देह त्यागी और यमदूत के साथ इस लोक के एरवाना भी हुआ, पर यहाँ अभी तक नहीं पहुँचा।"

**SubQuestion No : 22**

Q.22 'देह' शब्द का अर्थ है-

- Ans  A. छोड़ना  
 B. शरीर  
 C. चलना  
 D. देना

Question ID : 630680123143  
 Option 1 ID : 630680477471  
 Option 2 ID : 630680477470  
 Option 3 ID : 630680477472  
 Option 4 ID : 630680477473  
 Status : Answered  
 Chosen Option : B

**Comprehension:**

मन्तव्य श को पढ़कर पूछे गए सवालों का जवाब दीजिए।

धर्मराज लाखों वर्षों से असंख्य आदर्यों को कर्म और फल के आधार पर स्वर्ग या नरक में वास-न 'अलौट' करते आ रहे थे। पर ऐसा कभी नहीं हुआ था। सामने बैठे त्रगुप्त बार-बार चश्मा पोंछ, बार-बार थूक से पलट, रस्टर पर रस्टर देख रहे थे। गलती पकड़ में ही नहीं आ रही थी। आर उन्होंने खीझकर रस्टर इतने जोर से बंद या मक्खी चपेट में आ गई। उसे कालते हुए वे बोले- "महाराज, कोई सब ठीक है। भोलाराम के जीव ने पाँच न पहले देह त्यागी और यमदूत के साथ इस लोक के एरवाना भी हुआ, पर यहाँ अभी तक नहीं पहुँचा।"

**SubQuestion No : 23**

Q.23 स्वर्ग या नरक में वास-न कौन 'अलौट' करता था?

- Ans  A. यमदूत  
 B. आदमी  
 C. त्रगुप्त  
 D. धर्मराज

Question ID : 630680123139  
 Option 1 ID : 630680477457  
 Option 2 ID : 630680477455  
 Option 3 ID : 630680477456  
 Option 4 ID : 630680477454  
 Status : Answered  
 Chosen Option : D

**Comprehension:**

निम्नलिखित गद्यांश को पढ़कर पूछे गए सवालों का जवाब दीजिए।

धर्मराज लाखों वर्षों से असंख्य आदमियों को कर्म और सिफारिश के आधार पर स्वर्ग या नरक में निवास-स्थान 'अलौट' करते आ रहे थे। पर ऐसा कभी नहीं हुआ था। सामने बैठे चित्रगुप्त बार-बार चश्मा पोंछ, बार-बार थूक से पन्ने पलट, रजिस्टर पर रजिस्टर देख रहे थे। गलती पकड़ में ही नहीं आ रही थी। आखिर उन्होंने खीझकर रजिस्टर इतने जोर से बंद किया कि मक्खी चपेट में आ गई। उसे निकालते हुए वे बोले- "महाराज, रिकॉर्ड सब ठीक है। भोलाराम के जीव ने पाँच दिन पहले देह त्यागी और यमदूत के साथ इस लोक के लिए रवाना भी हुआ, पर यहाँ अभी तक नहीं पहुँचा।"

SubQuestion No : 24

Q.24 Q.OM T. 0.00 D. 0.00.00

- A. यमदूत के
- B. धर्मराज के
- C. चित्रगुप्त के
- D. देवराज के

Question ID : 630680123142  
 Option 1 ID : 630680477469  
 Option 2 ID : 630680477466  
 Option 3 ID : 630680477467  
 Option 4 ID : 630680477468  
 Status : Answered  
 Chosen Option : A

**Comprehension:**

निम्नलिखित गद्यांश को पढ़कर पूछे गए सवालों का जवाब दीजिए।

धर्मराज लाखों वर्षों से असंख्य आदमियों को कर्म और सिफारिश के आधार पर स्वर्ग या नरक में निवास-स्थान 'अलौट' करते आ रहे थे। पर ऐसा कभी नहीं हुआ था। सामने बैठे चित्रगुप्त बार-बार चश्मा पोंछ, बार-बार थूक से पन्ने पलट, रजिस्टर पर रजिस्टर देख रहे थे। गलती पकड़ में ही नहीं आ रही थी। आखिर उन्होंने खीझकर रजिस्टर इतने जोर से बंद किया कि मक्खी चपेट में आ गई। उसे निकालते हुए वे बोले- "महाराज, रिकॉर्ड सब ठीक है। भोलाराम के जीव ने पाँच दिन पहले देह त्यागी और यमदूत के साथ इस लोक के लिए रवाना भी हुआ, पर यहाँ अभी तक नहीं पहुँचा।"

SubQuestion No : 25

Q.25 Q.OM T. 0.00 D. 0.00.00

- Ans
- A. रवाना हो गए
  - B. मक्खी मारी
  - C. मौन धारण किया
  - D. रजिस्टर बंद किया

Question ID : 630680123141  
 Option 1 ID : 630680477463  
 Option 2 ID : 630680477462  
 Option 3 ID : 630680477465  
 Option 4 ID : 630680477464  
 Status : Answered  
 Chosen Option : D