

CRPF Constable

**Previous Year Paper
Technical Tradesman
11 July, 2023 Shift 1**



Adda247

Test Prime

ALL EXAMS, ONE SUBSCRIPTION



1,00,000+
Mock Tests



**Personalised
Report Card**



**Unlimited
Re-Attempt**



600+
Exam Covered



25,000+ Previous
Year Papers



500%
Refund



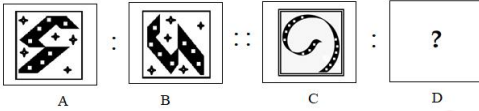
ATTEMPT FREE MOCK NOW

CRPF Technical Tradesman 1st to 12th July 2023

Participant ID	
Participant Name	
Test Center Name	
Test Date	11/07/2023
Test Time	8:30 AM - 10:30 AM
Subject	Constable Bugler

Section : General Intelligence and Reasoning

Q.1 उस विकल्प का चयन करें जो तीसरी आकृति से उसी प्रकार संबंधित है जैसे दूसरी आकृति पहली आकृति से संबंधित है।



Ans

- A.
- B.
- C.
- D.

Question ID : 63068058833
 Option 1 ID : 630680226957
 Option 2 ID : 630680226956
 Option 3 ID : 630680226954
 Option 4 ID : 630680226955
 Status : Answered
 Chosen Option : B

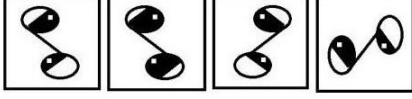
Q.2 यदि '4' का अर्थ '-' है, '-' का अर्थ 'x' है, 'x' का अर्थ '÷' है और '÷' का अर्थ '4' है, तो निम्नलिखित समीकरण में प्रश्नवाचक चिह्न (?) के स्थान पर क्या आएगा?
 $12 - 182 \times 14 \div 45 + 24 = ?$

- Ans A. 193
 B. 177
 C. 159
 D. 171

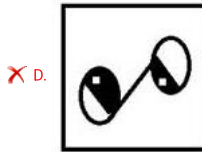
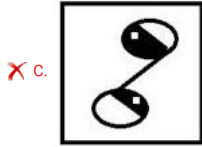
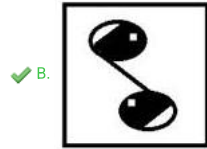
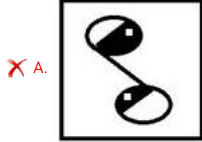
Question ID : 630680147876
Option 1 ID : 630680572219
Option 2 ID : 630680572218
Option 3 ID : 630680572220
Option 4 ID : 630680572221
Status : Answered
Chosen Option : B



Q.3 चार आकृतियां दी गई हैं, जिनमें से तीन किसी न किसी रूप में एकसमान हैं और एक उनसे असंगत है। उस असंगत आकृति का चयन करें।



Ans



Question ID : 63068058856
Option 1 ID : 630680227046
Option 2 ID : 630680227047
Option 3 ID : 630680227048
Option 4 ID : 630680227049
Status : Answered
Chosen Option : B

Q.4 कागज के एक टुकड़े को मोड़ने का क्रम और मोड़े गए कागज को काटने के तरीके को निम्नलिखित आकृतियों में दर्शाया गया है। खोले जाने पर यह कागज कैसा दिखाई देगा?



Ans

A.



B.



C.



D.



Question ID : 630680161857

Option 1 ID : 630680626736

Option 2 ID : 630680626739

Option 3 ID : 630680626737

Option 4 ID : 630680626738

Status : Answered

Chosen Option : C

Q.5 रोहित अपनी दुकान से पूर्व की ओर 10 km की यात्रा करता है, फिर बाएं मुड़ता है और 21 km की यात्रा करता है। वह फिर से बाएं मुड़ता है और अपने घर पहुंचने के लिए 30 km की यात्रा करता है। उसकी दुकान और उसके घर के बीच न्यूनतम दूरी कितनी है?

Ans

A. 29 km

B. 40 km

C. 51 km

D. 41 km

Question ID : 63068050329

Option 1 ID : 630680193641

Option 2 ID : 630680193638

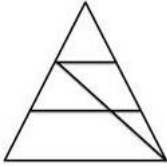
Option 3 ID : 630680193640

Option 4 ID : 630680193639

Status : Answered

Chosen Option : A

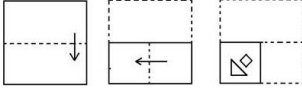
Q.6 दी गई आकृति में कितने त्रिभुज हैं?



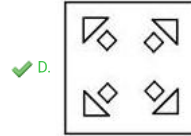
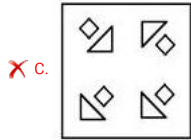
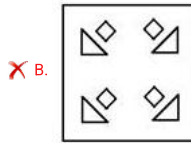
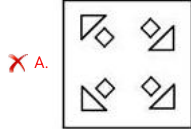
- Ans
- A. 5
 - B. 2
 - C. 7
 - D. 6

Question ID : 63068049466
Option 1 ID : 630680190295
Option 2 ID : 630680190294
Option 3 ID : 630680190296
Option 4 ID : 630680190297
Status : Answered
Chosen Option : D

Q.7 कागज के एक टुकड़े को मोड़ने का क्रम और मोड़े गए कागज को काटने का तरीका निम्नलिखित आकृतियों में दिखाया गया है। खोलने पर यह कागज कैसा दिखेगा?



Ans




Question ID : 63068058611
Option 1 ID : 630680226093
Option 2 ID : 630680226090
Option 3 ID : 630680226092
Option 4 ID : 630680226091
Status : Answered
Chosen Option : D

Q.8 I, B का पुत्र है। G, A का पुत्र है। B, A की पत्नी है। H, G की पत्नी है। I, J का पति है। W, J की पुत्री है। U, G का पुत्र है। B का J से क्या संबंध है?

- Ans
- ✗ A. पुत्रवधू
 - ✗ B. माँ
 - ✗ C. नानी
 - ✓ D. सास

Question ID : 63068084144
Option 1 ID : 630680326107
Option 2 ID : 630680326104
Option 3 ID : 630680326105
Option 4 ID : 630680326106
Status : Answered
Chosen Option : D

Q.9 दी गई आकृति में कितने त्रिभुज हैं?



Ans A. 24
 B. 26
 C. 30
 D. 28

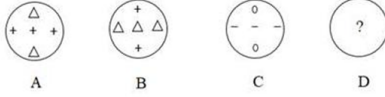
Question ID : 63068049923
 Option 1 ID : 630680192016
 Option 2 ID : 630680192015
 Option 3 ID : 630680192017
 Option 4 ID : 630680192014
 Status : Answered
 Chosen Option : D

Q.10 A दक्षिण की ओर चलना शुरू करता है और B तक पहुंचता है। वह फिर दाईं ओर मुड़ता है और C की ओर चलता है। फिर वह बाईं ओर मुड़ता है और D तक पहुंचता है। A का मुंह अब किस दिशा में है?

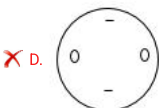
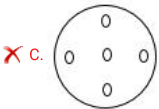
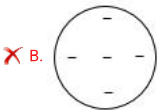
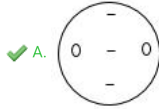
Ans A. पूर्व
 B. दक्षिण
 C. उत्तर
 D. पश्चिम

Question ID : 630680105909
 Option 1 ID : 630680411582
 Option 2 ID : 630680411579
 Option 3 ID : 630680411580
 Option 4 ID : 630680411581
 Status : Answered
 Chosen Option : B

Q.11 आकृति A एक निश्चित पैटर्न में आकृति B से संबंधित है। उसी पैटर्न का अनुसरण करते हुए, आकृति C आकृति D से संबंधित है। पैटर्न का अध्ययन करें और उस आकृति का चयन करें जो आकृति D के लिए प्रश्न चिह्न (?) को प्रतिस्थापित कर सकती है।

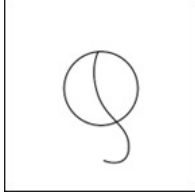


Ans




Question ID : 63068062229
 Option 1 ID : 630680240211
 Option 2 ID : 630680240213
 Option 3 ID : 630680240212
 Option 4 ID : 630680240210
 Status : Answered
 Chosen Option : A

Q.12 उस विकल्प का चयन कीजिए जिसमें दी गई आकृति सन्निहित है (घुमाने की अनुमति नहीं है)।

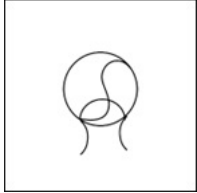


Ans


✗ A.




✗ B.



✗ C.



✓ D.



Question ID : 630680177275
 Option 1 ID : 630680687279
 Option 2 ID : 630680687276
 Option 3 ID : 630680687277
 Option 4 ID : 630680687278
 Status : Answered
 Chosen Option : D

Q.13 जब दर्पण को MN पर रखा जाता है तो दी गई आकृति के सही दर्पण प्रतिबिंब का चयन कीजिए।

Ans

- A.
- B.
- C.
- D.

Question ID : 630680176008
 Option 1 ID : 630680682281
 Option 2 ID : 630680682283
 Option 3 ID : 630680682282
 Option 4 ID : 630680682280
 Status : Answered
 Chosen Option : A

Q.14 उस विकल्प आकृति का चयन कीजिए जिसमें दी गई आकृति इसके भाग के रूप में अंतर्निहित है (आकृति को घुमाने की अनुमति नहीं है)।

Ans

- A.
- B.
- C.
- D.

Question ID : 630680106429
 Option 1 ID : 630680413502
 Option 2 ID : 630680413504
 Option 3 ID : 630680413505
 Option 4 ID : 630680413503
 Status : Answered
 Chosen Option : D

Q.15 निम्नलिखित समीकरण को सही बनाने के लिए किन दो संख्याओं को आपस में बदलने की आवश्यकता है?
 $2 \times 8 \div 6 + 4 - 8 = 2$

- Ans A. 4, 8
 B. 6, 8
 C. 2, 8
 D. 6, 4

Question ID : 630680105079
 Option 1 ID : 630680408430
 Option 2 ID : 630680408428
 Option 3 ID : 630680408429
 Option 4 ID : 630680408427
 Status : Answered
 Chosen Option : C

Q.16 J, K की पुत्री है। K और L बहनें हैं। M, L की माता है, और N, M के पिता है। N का K से क्या संबंध है?

- Ans A. पुत्र
 B. पिता
 C. नाना
 D. दादा

Question ID : 630680105759
 Option 1 ID : 630680411042
 Option 2 ID : 630680411039
 Option 3 ID : 630680411040
 Option 4 ID : 630680411041
 Status : Answered
 Chosen Option : C

Q.17 कबीर दक्षिण दिशा की ओर अभिमुख है। वह दाएं मुड़ता है और 20 km झाड़व करता है। फिर वह दाएं मुड़ता है और 30 km झाड़व करता है। फिर वह बाएं मुड़ता है और 15 km झाड़व करता है। अंत में वह, बाएं मुड़ता है और 30 km झाड़व करता है। कबीर अपने आरंभिक बिंदु से कितनी दूर है?

- Ans A. 30 km
 B. 35 km
 C. 20 km
 D. 15 km


Question ID : 63068051793
 Option 1 ID : 630680199344
 Option 2 ID : 630680199345
 Option 3 ID : 630680199342
 Option 4 ID : 630680199343
 Status : Answered
 Chosen Option : B

Q.18 चार आकृतियां दी गई हैं, जिनमें से तीन किसी न किसी रूप में एक जैसी हैं और एक भिन्न है। भिन्न आकृति को चुनिए।




Ans

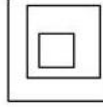
✓ A.



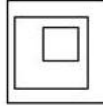
✗ B.



✗ C.



✗ D.



Question ID : 63068057866
Option 1 ID : 630680223241
Option 2 ID : 630680223238
Option 3 ID : 630680223239
Option 4 ID : 630680223240
Status : Answered
Chosen Option : B

Q.19 रवि अपनी से कार अपने घर से 5 km दक्षिण की ओर चला, फिर बाएं मुड़कर 4 km चला। फिर से, वह बाएं मुड़कर और 7 km चला, और फिर बाएं मुड़कर और 4 km चला। अब, वह अपने घर से कितने km दूर है और किस दिशा में है?

✗ A. 4 km; पूर्व

✗ B. 1 km; पश्चिम

✗ C. 3 km; दक्षिण

✓ D. 2 km; उत्तर

Question ID : 630680108346
Option 1 ID : 630680420386
Option 2 ID : 630680420387
Option 3 ID : 630680420385
Option 4 ID : 630680420384
Status : Answered
Chosen Option : D

Q.20 निम्नलिखित समीकरण को सही बनाने के लिए किन दो संख्याओं को आपस में बदलने की आवश्यकता है?
 $11 \times 5 \div 10 + 12 - 4 = 13$

- Ans A. 11, 12
 B. 11, 13
 C. 12, 13
 D. 5, 10

Question ID : 630680105084
 Option 1 ID : 630680408448
 Option 2 ID : 630680408449
 Option 3 ID : 630680408447
 Option 4 ID : 630680408450
 Status : Not Answered
 Chosen Option : -

Q.21 उस विकल्प का चयन कीजिए जो दिए गए संयोजन के दर्पण में निर्मित प्रतिबिम्ब से सर्वाधिक मिलता जुलता हो।

HOTSTAR


- Ans A. ЯAT2TOH
 B. ЯVT2TOH
 C. ЯVT2LOH
 D. ЯATT2OH

Question ID : 63068083985
 Option 1 ID : 630680325535
 Option 2 ID : 630680325533
 Option 3 ID : 630680325532
 Option 4 ID : 630680325534
 Status : Answered
 Chosen Option : A

Q.22 निम्नलिखित पाँच आकृतियों में से चार एक निश्चित तरीके से समान हैं और इस प्रकार एक समूह बनाती हैं। वह कौन-सी एक आकृति है, जो उस समूह से संबंधित नहीं है?



(A) (B) (C) (D) (E)

- Ans A. D
 B. E
 C. B
 D. C

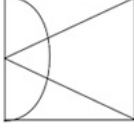
Question ID : 630680118406
 Option 1 ID : 630680458760
 Option 2 ID : 630680458761
 Option 3 ID : 630680458758
 Option 4 ID : 630680458759
 Status : Answered
 Chosen Option : A

Q.23 प्रकाश पश्चिम दिशा की ओर अभिमुख होकर खड़ा है। वह 2 m चलने के बाद बाएं मुड़ता है। फिर वह 3 m चलता है, बाएं मुड़ता है और 3 m चलता है। वह अंत में बाएं मुड़ता है और 1 m चलता है। वह अब किस दिशा की ओर अभिमुख है?

- Ans A. उत्तर
 B. पश्चिम
 C. दक्षिण
 D. पूर्व

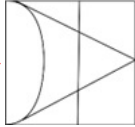
Question ID : 63068051788
 Option 1 ID : 630680199323
 Option 2 ID : 630680199322
 Option 3 ID : 630680199325
 Option 4 ID : 630680199324
 Status : Answered
 Chosen Option : C

Q.24 उस विकल्प का चयन कीजिए जिसमें दी गई आकृति सन्निहित है (घुमाने की अनुमति नहीं है)।

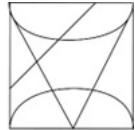


Ans

A.



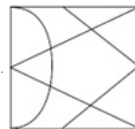
B.



C.



D.



Question ID : 630680177268

Option 1 ID : 630680687250

Option 2 ID : 630680687249

Option 3 ID : 630680687251

Option 4 ID : 630680687248

Status : Answered

Chosen Option : D

Q.25 एक पुरुष का परिचय देते हुए, एक महिला ने कहा, "उसकी पत्नी मेरी माँ की इकलौती पुत्री है"। महिला का पुरुष से क्या संबंध है?

Ans A. माँ

B. बहन

C. पत्नी

D. पुत्री

Question ID : 630680106066

Option 1 ID : 630680412165

Option 2 ID : 630680412163

Option 3 ID : 630680412164

Option 4 ID : 630680412166

Status : Answered

Chosen Option : B

Section : General Knowledge and General Awareness

Q.1 संगीत नाटक अकादमी के प्रथम अध्यक्ष कौन थे ?

- Ans
- A. मौलाना अबुल कलाम आजाद
 - B. शेखर सेन
 - C. राजेन्द्र प्रसाद
 - D. पी.वी. राजमन्नार

Question ID : 630680157852
Option 1 ID : 630680610939
Option 2 ID : 630680610936
Option 3 ID : 630680610938
Option 4 ID : 630680610937
Status : Answered
Chosen Option : D

Q.2 भारत में कौन-सा शहर पेट्रोरसायन उद्योग का केंद्र कहलाता है?

- Ans
- A. मुम्बई
 - B. चेन्नई
 - C. कोलकाता
 - D. दिल्ली

Question ID : 630680209060
Option 1 ID : 630680810456
Option 2 ID : 630680810458
Option 3 ID : 630680810457
Option 4 ID : 630680810455
Status : Answered
Chosen Option : B

Q.3 निम्नलिखित में से कौन भारतीय संविधान की एक विशेषता है?

- Ans
- A. दोहरी नागरिकता
 - B. लिखित संविधान
 - C. संसदीय सम्प्रभुता
 - D. एकात्मक संविधान

Question ID : 630680146500
Option 1 ID : 630680566883
Option 2 ID : 630680566885
Option 3 ID : 630680566882
Option 4 ID : 630680566884
Status : Answered
Chosen Option : B

Q.4 yQ4 Q ढररर ढररर 6M:O. ढररर _____ स्थर ॥

- Ans
- A. आगरा
 - B. लाहौर
 - C. दिल्ली
 - D. बदरूँ

Question ID : 630680115390
 Option 1 ID : 630680446910
 Option 2 ID : 630680446913
 Option 3 ID : 630680446912
 Option 4 ID : 630680446911
 Status : Answered
 Chosen Option : A

Q.5 ढररर ढररर ढररर ढररर 6Q:G ढररर M G C ?

- Ans
- A. खासी विद्रोह
 - B. अहोम विद्रोह
 - C. मुंडा विद्रोह
 - D. संथाल विद्रोह

Question ID : 630680213988
 Option 1 ID : 630680830000
 Option 2 ID : 630680830001
 Option 3 ID : 630680830002
 Option 4 ID : 630680829999
 Status : Answered
 Chosen Option : C

Q.6 ढररर ढररर G- CC.N ढररर Qररर ॥ ?

- Ans
- A. ट्विटर (Twitter)
 - B. बैदू (Baidu)
 - C. टंबलर (Tumblr)
 - D. कू (Koo)

Question ID : 63068091142
 Option 1 ID : 630680353322
 Option 2 ID : 630680353325
 Option 3 ID : 630680353323
 Option 4 ID : 630680353324
 Status : Answered
 Chosen Option : D

Q.13 निम्नलिखित में से कौन-सा भारत के सबसे पुराने भौतिक प्रभागों में से एक है?

- Ans
- A. तटीय मैदान
 - B. हिमालय पर्वत
 - C. उत्तर के मैदान
 - D. प्रायद्वीपीय पठार

Question ID : 63068087525
Option 1 ID : 630680339488
Option 2 ID : 630680339485
Option 3 ID : 630680339486
Option 4 ID : 630680339487
Status : Answered
Chosen Option : D

Q.14 1526 में पानीपत में जीत के बावजूद बाबर को किन समस्याओं का सामना करना पड़ा?

- Ans
- A. i. बाबर के अमीर और सेनापति मध्य एशिया लौटने के लिए उत्सुक थे क्योंकि उन्हें भारत की गर्म जलवायु पसंद नहीं थी और वे सांस्कृतिक रूप से अलग-थलग महसूस करते थे। ii. राजपूत, मेवाड़ के राजा राणा सांगा के नेतृत्व में रैली करते हुए, मुगल सेना को खदेड़ना चाहते थे। iii. अफगान, हालांकि पानीपत में पराजित हुए, अपनी खोई हुई शक्ति को पुनः प्राप्त करने के लिए वर्तमान यूपी, बिहार और बंगाल के पूर्वी हिस्सों में फिर से संगठित हो गए।
 - B. i. बाबर के अमीर और सेनापति मध्य एशिया लौटने के लिए उत्सुक थे क्योंकि वे भारत को पसंद नहीं करते थे। ii. राजपूत, अलवर के राजा राणा सांगा के नेतृत्व में रैली करते हुए, मुगल सेना को खदेड़ना चाहते थे। iii. अफगान, हालांकि पानीपत में पराजित हुए, अपनी शक्ति को पुनः प्राप्त करने के लिए वर्तमान यूपी, बिहार और बंगाल के पूर्वी हिस्सों में फिर से संगठित हो गए।
 - C. i. बाबर के अमीर और सेनापति मध्य एशिया लौटने के लिए उत्सुक थे क्योंकि उन्हें भोजन और पानी की कमी का सामना करना पड़ा था। ii. राजपूत, अजमेर के राजा राणा सांगा के नेतृत्व में रैली करते हुए, मुगल सेना को खदेड़ना चाहते थे। iii. अफगान, हालांकि पानीपत में पराजित हुए, अपनी खोई हुई शक्ति को पुनः प्राप्त करने के लिए वर्तमान यूपी, बिहार और बंगाल के पूर्वी हिस्सों में फिर से संगठित हो गए।
 - D. i. बाबर के अमीरों और सेनापतियों ने विद्रोह कर दिया क्योंकि वे सांपों और जंगलों से डरते थे। ii. राजपूत, मारवाड़ के राजा राणा सांगा के नेतृत्व में रैली करते हुए, मुगल सेना को खदेड़ना चाहते थे। iii. अफगान, हालांकि पानीपत में पराजित हुए, अपनी खोई हुई शक्ति को पुनः प्राप्त करने के लिए वर्तमान यूपी, बिहार और बंगाल के पूर्वी हिस्सों में फिर से संगठित हो गए।

Question ID : 630680111787
Option 1 ID : 630680432883
Option 2 ID : 630680432885
Option 3 ID : 630680432882
Option 4 ID : 630680432884
Status : Answered
Chosen Option : A

Q.15 निम्न में से कौन-सा गरीबी का सामान्य आर्थिक कारण नहीं है?

- Ans
- A. बुनियादी ढांचे की कमी
 - B. मांग की कमी
 - C. अत्यधिक रोजगार
 - D. कम पूंजी निर्माण

Question ID : 63068087930
Option 1 ID : 630680341107
Option 2 ID : 630680341106
Option 3 ID : 630680341108
Option 4 ID : 630680341105
Status : Answered
Chosen Option : C

Q.16 निम्नलिखित में से किस रिट में अदालत किसी दावे की वैधता की जांच करती है, जिसमें कोई पक्ष एक सरकारी पद (public office) पर दावा करता है, और यदि दावा सही नहीं पाया जाता है तो उसे इसके उपभोग से बाहर कर देती है?

- Ans
- A. अधिकार पृच्छा
 - B. परमादेश
 - C. निषेध
 - D. प्रमाणपत्र

Question ID : 630680209116
 Option 1 ID : 630680810682
 Option 2 ID : 630680810679
 Option 3 ID : 630680810680
 Option 4 ID : 630680810681
 Status : Not Answered
 Chosen Option : -

Q.17 पदार्थ पिपेरिन _____ में पाया जाता है।

- Ans
- A. अदरक
 - B. हल्दी
 - C. काली मिर्च
 - D. इलायची

Question ID : 630680209071
 Option 1 ID : 630680810501
 Option 2 ID : 630680810502
 Option 3 ID : 630680810500
 Option 4 ID : 630680810499
 Status : Answered
 Chosen Option : C

Q.18 किण्वित डेयरी, खमीर, मॉस और वनस्पति भोजन के निर्माण में किस प्रकार के जीवाणु का उपयोग किया जाता है?

- Ans
- A. बेसिलस सबटिलिस
 - B. एसीटोबैक्टर एसिटि
 - C. ग्लूकोनासेटोबैक्टर जाइलिनस
 - D. लेक्टोबेसिलस एसिडोफिलस

Question ID : 63068085821
 Option 1 ID : 630680332745
 Option 2 ID : 630680332744
 Option 3 ID : 630680332746
 Option 4 ID : 630680332747
 Status : Answered
 Chosen Option : D

Q.19 अजंता की प्रसिद्ध गुफाएँ कहाँ स्थित हैं?

- Ans
- प्र. 0000
 - 000
 - 00000
 - न.

63068090173
00000000000630680349468
00000000000630680349467
00000000000630680349466
00000000000630680349469
व्य. 000000 Answered
00000000000000000000

Q.20 भारतीय शास्त्रीय गायक पंडित जसराज किस घराने से संबंधित हैं?

- Ans
- प्र. 00000 000
 - 000 000
 - 00 000
 - 0000000000

630680209341
00000000000630680811571
00000000000630680811573
00000000000630680811572
00000000000630680811574
व्य. 000000 Answered
00000000000000000000

Q.21 निम्नलिखित विकल्पों में से यमुना नदी की सहायक नदी की पहचान करें।

- Ans
- 00 गंध.
 - 000
 - 0000
 - 0

63068090190
00000000000630680349536
00000000000630680349534
00000000000630680349535
00000000000630680349537
व्य. 000000 Answered
00000000000000000000

Q.22 भारत में 1918-19 में निम्नलिखित में से किस महामारी ने 170 लाख लोगों की जान ली थी?

- Ans A. हैज़ा
 B. इंप्लुरेंज़ा
 C. चेचक
 D. मलेरिया

Question ID : 630680134786
 Option 1 ID : 630680521964
 Option 2 ID : 630680521962
 Option 3 ID : 630680521965
 Option 4 ID : 630680521963
 Status : Answered
 Chosen Option : C

Q.23 किस उपनिषद में सा, रे, गा, मा, पा, धा और नि नामक सात संगीत स्वरों का उल्लेख है?

- Ans A. कथा उपनिषद
 B. नारद परिव्राजक उपनिषद
 C. मुंडक उपनिषद
 D. केना उपनिषद

Question ID : 630680213924
 Option 1 ID : 630680829745
 Option 2 ID : 630680829743
 Option 3 ID : 630680829746
 Option 4 ID : 630680829744
 Status : Answered
 Chosen Option : C

Q.24 निम्नलिखित में से किस आंदोलन को बाल गंगाधर तिलक ने 'बहिष्कार योग' कहा था?

- Ans A. चिपको आंदोलन
 B. खिलाफत आंदोलन
 C. सत्याग्रह आंदोलन
 D. स्वदेशी आंदोलन

Question ID : 630680176052
 Option 1 ID : 630680682456
 Option 2 ID : 630680682459
 Option 3 ID : 630680682458
 Option 4 ID : 630680682457
 Status : Answered
 Chosen Option : D

Q.25 2001 से 2011 तक भारत की जनसंख्या की दशकीय वृद्धि दर कितनी थी?

- Ans
- A. 16.1%
 - B. 17.7%
 - C. 20.4%
 - D. 27.9%

Question ID : 630680209052
 Option 1 ID : 630680810426
 Option 2 ID : 630680810423
 Option 3 ID : 630680810424
 Option 4 ID : 630680810425
 Status : Answered
 Chosen Option : C

Section : Elementary Mathematics

Q.1 पाँच आदमी एक काम 8 दिन में समाप्त कर सकते हैं। 12 आदमी उस काम को कितने दिन में समाप्त करेंगे?

- Ans
- A. 5
 - B. $3\frac{1}{3}$
 - C. 40
 - D. 4

Question ID : 630680101781
 Option 1 ID : 630680395487
 Option 2 ID : 630680395484
 Option 3 ID : 630680395486
 Option 4 ID : 630680395485
 Status : Answered
 Chosen Option : B

Q.2 यदि एक शीर्ष को साझा करने वाले घनाभ के तीन फलकों के पृष्ठीय क्षेत्रफल 25 m^2 , 32 m^2 और 32 m^2 दिए गए हैं, तो घनाभ का आयतन क्या होगा?

- Ans
- A. 240 m^3
 - B. 160 m^3
 - C. 80 m^3
 - D. 135 m^3

Question ID : 63068070448
 Option 1 ID : 630680272419
 Option 2 ID : 630680272420
 Option 3 ID : 630680272418
 Option 4 ID : 630680272421
 Status : Not Answered
 Chosen Option : -

Q.3 $\sqrt{1024} + \sqrt{10.24} + \sqrt{0.1024}$ का मान क्या होगा?

- Ans A. 38.4
 B. 35.84
 C. 35.52
 D. 32.84

Question ID : 63068075999
 Option 1 ID : 630680294109
 Option 2 ID : 630680294111
 Option 3 ID : 630680294110
 Option 4 ID : 630680294112
 Status : Not Answered
 Chosen Option : -

Q.4 A और B अपनी दादी से 6 : 4 के अनुपात में ₹5,000 प्राप्त करते हैं। A अपने धन का एक-पांचवां (1/5) हिस्सा खर्च करता है और शेष हिस्से को दो साल के लिए 5% वार्षिक साधारण ब्याज पर निवेश करता है। B अपना सारा धन सोने की अंगूठी खरीदने में खर्च करता है और दो साल बाद वह इसे 10% के लाभ पर बेचता है। दो वर्षों के बाद क्रमशः A और B के पास मौजूद धनराशि की तुलना करें।

- Ans A. 5 : 6
 B. 5 : 4
 C. 6 : 5
 D. 4 : 5

Question ID : 630680220256
 Option 1 ID : 630680854895
 Option 2 ID : 630680854897
 Option 3 ID : 630680854898
 Option 4 ID : 630680854896
 Status : Answered
 Chosen Option : C

Q.5 क्रिसमस की बिक्री (सेल) पर, एक दुकान में सभी सामान 30% छूट की बिक्री पर उपलब्ध हैं। यदि जैस्मिन ₹800 की एक स्कर्ट खरीदती है, तो उसे कितना भुगतान करना होगा?

- Ans A. ₹476
 B. ₹560
 C. ₹776
 D. ₹400

Question ID : 630680108632
 Option 1 ID : 630680421475
 Option 2 ID : 630680421472
 Option 3 ID : 630680421474
 Option 4 ID : 630680421473
 Status : Answered
 Chosen Option : B

Q.6 एक टंकी के परिवहन के दौरान, यह क्षति स्त हो गया और इसमें एक रिसाव बन गया जो टंकी को 30 मिनट में खाली कर सकता है। इसमें नल है जो इसे 4 लीटर/मिनट की दर से भर सकता है। यह पाया गया कि टंकी 90 मिनट में खाली हो गया। टंकी की क्षमता कितनी है?

- Ans
- A. 160 लीटर
 - B. 190 लीटर
 - C. 150 लीटर
 - D. 180 लीटर

Question ID : 63068070025
 Option 1 ID : 630680270752
 Option 2 ID : 630680270753
 Option 3 ID : 630680270750
 Option 4 ID : 630680270751
 Status : Answered
 Chosen Option : A

Q.7 Rs.8,000 पर 2 वर्षों के लिए, वार्षिक प से चक्रवृद्धि, 4% वार्षिक दर से चक्रवृद्धि ब्याज ज्ञात कीजिए।

- Ans
- A. Rs.752.80
 - B. Rs.452.80
 - C. Rs.552.80
 - D. Rs.652.80

Question ID : 630680108138
 Option 1 ID : 630680419630
 Option 2 ID : 630680419631
 Option 3 ID : 630680419629
 Option 4 ID : 630680419628
 Status : Answered
 Chosen Option : D

Q.8 12 क्षणस्का औसत 35 है और अन्य 10 क्षणस्का औसत 24 है। सभी 22 क्षणस्का औसत क्या है?

- Ans
- A. 30
 - B. 26
 - C. 22
 - D. 27

Question ID : 630680107360
 Option 1 ID : 630680416806
 Option 2 ID : 630680416805
 Option 3 ID : 630680416807
 Option 4 ID : 630680416804
 Status : Not Answered
 Chosen Option : -

Q.9 दो धनराशियां 8:9 के समानुपातिक हैं। यदि पहली धनराशि ₹28 है, तो दूसरी धनराशि कितनी है?

- Ans
- A. ₹29.5
 - B. ₹28.5
 - C. ₹30.5
 - D. ₹31.5

Question ID : 630680119764
 Option 1 ID : 630680464135
 Option 2 ID : 630680464134
 Option 3 ID : 630680464137
 Option 4 ID : 630680464136
 Status : Answered
 Chosen Option : D

Q.10 एक व्यक्ति एक स्थान की यात्रा 40 km/h की गति से करता है और 50 km/h की गति से वापस आ जाता है। पूरी यात्रा के दौरान उसकी औसत गति (km/h में) (दशमलव के एक स्थान तक सही) क्या है?

- Ans
- A. 50.4
 - B. 42.5
 - C. 44.4
 - D. 40.5

Question ID : 630680107366
 Option 1 ID : 630680416829
 Option 2 ID : 630680416831
 Option 3 ID : 630680416828
 Option 4 ID : 630680416830
 Status : Not Answered
 Chosen Option : -

Q.11 33 मीटर कपड़ा बेचने पर लाभ के रूप में 11 मीटर कपड़े का विक्रय मूल्य प्राप्त होता है। लाभ प्रतिशत ज्ञात कीजिए।

- Ans
- A. 50%
 - B. 25%
 - C. 35%
 - D. 60%

Question ID : 630680220176
 Option 1 ID : 630680854580
 Option 2 ID : 630680854579
 Option 3 ID : 630680854582
 Option 4 ID : 630680854581
 Status : Answered
 Chosen Option : C

Q.12 ₹6,000 पर 2 वर्ष में 10% वार्षिक की दर से चक्रवृद्धि ब्याज कितना होगा, यदि ब्याज वार्षिक रूप से चक्रवृद्धि किया जाता है?

- Ans
- ✓ A. ₹1,260
 - ✗ B. ₹1,250
 - ✗ C. ₹1,270
 - ✗ D. ₹1,280

Question ID : 630680104358
 Option 1 ID : 630680405648
 Option 2 ID : 630680405647
 Option 3 ID : 630680405649
 Option 4 ID : 630680405650
 Status : Answered
 Chosen Option : A

Q.13 एक निश्चित राशि पर 2 वर्ष के लिए 18% वार्षिक दर पर साधारण ब्याज पर प्राप्त राशि, समान राशि पर समान दर पर 8.5 वर्षों के लिए प्राप्त साधारण ब्याज राशि से ₹952 कम है। राशि (₹ में) ज्ञात करें।

- Ans
- ✗ A. Rs.6,500
 - ✗ B. Rs.4,500
 - ✗ C. Rs.5,400
 - ✓ D. Rs.5,600

Question ID : 630680112591
 Option 1 ID : 630680436060
 Option 2 ID : 630680436059
 Option 3 ID : 630680436058
 Option 4 ID : 630680436061
 Status : Not Answered
 Chosen Option : -

Q.14 तीन व्यक्ति स्थान A से स्थान B तक जाते हैं। उनकी गति 2 : 3 : 7 के अनुपात में है। इन व्यक्तियों द्वारा स्थान B तक पहुँचने में लगने वाले समय का अनुपात ज्ञात कीजिए।

- Ans
- ✗ A. 1 : 2 : 3
 - ✓ B. 21 : 14 : 6
 - ✗ C. 2 : 14 : 6
 - ✗ D. 21 : 4 : 6

Question ID : 630680220431
 Option 1 ID : 630680855591
 Option 2 ID : 630680855592
 Option 3 ID : 630680855589
 Option 4 ID : 630680855590
 Status : Answered
 Chosen Option : B

Q.15 रवीना ने ₹1,500 ति घड़ी की दर से 20 घड़ियाँ खरीदीं। उसे ति घड़ी किस दर पर बेचना चाहिए, ताकि अर्जित लाभ 20% हो?

- Ans
- A. Rs.1,700
 - B. Rs.1,800
 - C. Rs.1,600
 - D. Rs.1,750

Question ID : 630680108699
 Option 1 ID : 630680421726
 Option 2 ID : 630680421725
 Option 3 ID : 630680421724
 Option 4 ID : 630680421727
 Status : Answered
 Chosen Option : B

Q.16 मान लएकि एक बेलन और शंकु के आधार की िज्या का अनुपात 5:6 है और उनकी ऊंचाई का अनुपात 3:5 है। उनके सापेक्षिक आयतनस्का अनुपात_____है।

- Ans
- A. $\frac{5}{4}$
 - B. $\frac{5}{6}$
 - C. $\frac{6}{5}$
 - D. $\frac{4}{5}$

Question ID : 63068068437
 Option 1 ID : 630680264455
 Option 2 ID : 630680264454
 Option 3 ID : 630680264457
 Option 4 ID : 630680264456
 Status : Not Answered
 Chosen Option : -

Q.17 $5^{25} + 5^{26} + 5^{27}$ निम्नलिखित में से किससे पूर्णतः विभाज्य है?

- Ans
- A. 31
 - B. 38
 - C. 32
 - D. 36

Question ID : 630680218019
 Option 1 ID : 630680845983
 Option 2 ID : 630680845986
 Option 3 ID : 630680845984
 Option 4 ID : 630680845985
 Status : Answered
 Chosen Option : B

Q.18 $\left[\frac{53}{10} - \left\{5 + \left(\frac{1}{4} \times \frac{3}{5}\right) \text{ of } \left(\frac{5}{6} + \frac{7}{6}\right)\right\}\right]$ को सरल कीजिए।

- Ans
- A. 5
 - B. $\frac{53}{10}$
 - C. 1
 - D. 0

Question ID : 63068070819
 Option 1 ID : 630680273893
 Option 2 ID : 630680273890
 Option 3 ID : 630680273891
 Option 4 ID : 630680273892
 Status : Not Answered
 Chosen Option : -

Q.19 एक संख्या में $72\frac{1}{2}\%$ की वृद्धि करने पर 87 प्राप्त होता है। वह संख्या ज्ञात करें।

- Ans
- A. 120
 - B. 110
 - C. 130
 - D. 140

Question ID : 630680102044
 Option 1 ID : 630680396533
 Option 2 ID : 630680396532
 Option 3 ID : 630680396534
 Option 4 ID : 630680396535
 Status : Not Answered
 Chosen Option : -

Q.20 एक चोर को एक पुलिसकर्मने 550 m की री से देखा। फिर चोर 7 km/h की चाल से भागा और पुलिसकर्मने 9 km/h की चाल से उसका पीछा किया और अंत मयसे पकड़ लिया। पकड़े जाने से पहले चोर ने कितनी री तय कर ली थी?

- Ans
- A. 1950 m
 - B. 1925 m
 - C. 1875 m
 - D. 1985 m

Question ID : 630680138431
 Option 1 ID : 630680535934
 Option 2 ID : 630680535935
 Option 3 ID : 630680535936
 Option 4 ID : 630680535937
 Status : Answered
 Chosen Option : A

Q.21 यदि $(A+B)$ का 30% $(A-B)$ का 40% है, तो A:B ज्ञात कीजिए।

- Ans
- A. 2 : 7
 - B. 2 : 5
 - C. 7 : 1
 - D. 1 : 4

Question ID : 630680116071
Option 1 ID : 630680449615
Option 2 ID : 630680449617
Option 3 ID : 630680449614
Option 4 ID : 630680449616
Status : Not Answered
Chosen Option : -

Q.22 -9, 7, -6, 12, -2, 7 का औसत ज्ञात करें।

- Ans
- A. 3.4
 - B. 1.8
 - C. 1.5
 - D. 2.3

Question ID : 630680108519
Option 1 ID : 630680421039
Option 2 ID : 630680421036
Option 3 ID : 630680421038
Option 4 ID : 630680421037
Status : Not Answered
Chosen Option : -

Q.23 12 संख्याओं का औसत 20 है और अन्य 10 संख्याओं का औसत 31 है। सभी 22 संख्याओं का औसत क्या है?

- Ans
- A. 24
 - B. 22
 - C. 25
 - D. 23

Question ID : 630680107359
Option 1 ID : 630680416801
Option 2 ID : 630680416800
Option 3 ID : 630680416803
Option 4 ID : 630680416802
Status : Not Answered
Chosen Option : -

Q.24 एक दुकानदार ₹900 अंकित मूल्य वाली वस्तु पर दो क्रमागत छूट देता है। दिया गया पहला छूट 10% है। यदि ग्राहक वस्तु के लिए ₹688.5 का भुगतान करता है, तो दूसरा छूट ज्ञात करें।

- Ans
- A. 14%
 - B. 12.5%
 - C. 10%
 - D. 15%

Question ID : 630680220248
 Option 1 ID : 630680854866
 Option 2 ID : 630680854863
 Option 3 ID : 630680854865
 Option 4 ID : 630680854864
 Status : Not Answered
 Chosen Option : -

Q.25 $\frac{579.1223 \times 0.0584 \times 2.97}{0.0984 \times 82.681 \times 99.849}$ का मान निम्न में से किसके निकटतम होगा?

- Ans
- A. 1.2
 - B. 0.12
 - C. 0.012
 - D. 0.11

Question ID : 63068068466
 Option 1 ID : 630680264566
 Option 2 ID : 630680264568
 Option 3 ID : 630680264567
 Option 4 ID : 630680264569
 Status : Not Answered
 Chosen Option : -

Section : English

Q.1 Select the option that can be used as a one-word substitute for the given group of words.

One who believes in the existence of God.

- Ans
- A. Thearchy
 - B. Twins
 - C. Theist
 - D. Truism

Question ID : 630680129696
 Option 1 ID : 630680502393
 Option 2 ID : 630680502390
 Option 3 ID : 630680502392
 Option 4 ID : 630680502391
 Status : Not Answered
 Chosen Option : -

Q.2 Select the most appropriate synonym of the underlined word in the given sentence.

Rahul was a very obstinate person.

- Ans
- A. Stable
 - B. Stubborn
 - C. Factual
 - D. Cheerful

Question ID : 630680132558
 Option 1 ID : 630680513366
 Option 2 ID : 630680513368
 Option 3 ID : 630680513369
 Option 4 ID : 630680513367
 Status : Not Answered
 Chosen Option : -

Q.3 Sentences of a paragraph are given below in jumbled order. Arrange the sentences in the correct order to form a meaningful and coherent paragraph.

1. She had been tossing and turning for hours, her mind racing with worries and anxieties.
2. Jackie lay in bed, unable to sleep.
3. Just as she was about to give up, she heard a soft knock on her door.
4. It was her husband, who had come to check on her.

- Ans
- A. 4231
 - B. 2341
 - C. 1234
 - D. 2134

Question ID : 630680204380
 Option 1 ID : 630680792605
 Option 2 ID : 630680792606
 Option 3 ID : 630680792603
 Option 4 ID : 630680792604
 Status : Not Answered
 Chosen Option : -

Q.4 Select the INCORRECTLY spelt word.

- Ans
- A. Reseipt
 - B. Plight
 - C. Stereo
 - D. Stress

Question ID : 630680204307
 Option 1 ID : 630680792312
 Option 2 ID : 630680792311
 Option 3 ID : 630680792314
 Option 4 ID : 630680792313
 Status : Not Answered
 Chosen Option : -

Q.5 Select the INCORRECTLY spelt word.

- Ans
- A. Feedable
 - B. Credible
 - C. Drible
 - D. Edible

Question ID : 630680204308
Option 1 ID : 630680792315
Option 2 ID : 630680792316
Option 3 ID : 630680792318
Option 4 ID : 630680792317
Status : Not Answered
Chosen Option : -

Q.6 Select the most appropriate synonym of the underlined word in the given sentence.

The judgement was fair, based on her relationship with the accused.

- Ans
- A. Funny
 - B. Impartial
 - C. White
 - D. Content

Question ID : 630680132554
Option 1 ID : 630680513351
Option 2 ID : 630680513352
Option 3 ID : 630680513353
Option 4 ID : 630680513350
Status : Not Answered
Chosen Option : -

Q.7 Select the option that can be used as a one-word substitute for the given group of words.

Completely harmless

- Ans
- A. Innocuous
 - B. Insipid
 - C. Foppish
 - D. Immobile

Question ID : 630680126282
Option 1 ID : 630680489735
Option 2 ID : 630680489736
Option 3 ID : 630680489737
Option 4 ID : 630680489734
Status : Not Answered
Chosen Option : -

Q.8 Select the most appropriate synonym of the given word.
Acquire

- Ans A. Obtain
 B. Regulate
 C. Mesmerise
 D. Yield

Question ID : 630680204391
Option 1 ID : 630680792647
Option 2 ID : 630680792650
Option 3 ID : 630680792649
Option 4 ID : 630680792648
Status : Not Answered
Chosen Option : -

Q.9 Select the option that can be used as a one-word substitute for the given group of words.

A large number of fish swimming together

- Ans A. Shoal
 B. Sheath
 C. Fleet
 D. Posse

Question ID : 630680129656
Option 1 ID : 630680502231
Option 2 ID : 630680502230
Option 3 ID : 630680502232
Option 4 ID : 630680502233
Status : Not Answered
Chosen Option : -

Q.10 Select the INCORRECTLY spelt word.

- Ans A. Reduction
 B. Penitence
 C. Ruthlessness
 D. Residue

Question ID : 630680129788
Option 1 ID : 630680502750
Option 2 ID : 630680502751
Option 3 ID : 630680502752
Option 4 ID : 630680502753
Status : Not Answered
Chosen Option : -

Q.14 Select the most appropriate option to fill in the blank in the given sentence.
He cannot ____ to my request.

- Ans
- A. accede
 - B. exceed
 - C. seed
 - D. ascend

Question ID : 630680118355
Option 1 ID : 630680458554
Option 2 ID : 630680458555
Option 3 ID : 630680458556
Option 4 ID : 630680458557
Status : Not Answered
Chosen Option : -

Q.15 Select the INCORRECTLY spelt word.

- Ans
- A. Compassionate
 - B. Untamed
 - C. Abrogate
 - D. Cautous

Question ID : 630680129789
Option 1 ID : 630680502757
Option 2 ID : 630680502756
Option 3 ID : 630680502755
Option 4 ID : 630680502754
Status : Not Answered
Chosen Option : -

Q.16 The following sentence has been split into four segments. Identify the segment that contains a grammatical error.

Several of / the participants / shared there / personal experiences.

- Ans
- A. the participants
 - B. Several of
 - C. shared there
 - D. personal experiences

Question ID : 63068067399
Option 1 ID : 630680260419
Option 2 ID : 630680260418
Option 3 ID : 630680260420
Option 4 ID : 630680260421
Status : Not Answered
Chosen Option : -

Q.17 Select the most appropriate synonym of the given word.
Venerable

Ans A. Respectable
 B. Insignificant
 C. Indecisive
 D. Mischievous

Question ID : 630680204366
 Option 1 ID : 630680792548
 Option 2 ID : 630680792549
 Option 3 ID : 630680792547
 Option 4 ID : 630680792550
 Status : Not Answered
 Chosen Option : -

Q.18 Select the most appropriate synonym of the underlined word.

She has devoted herself to the service of poor.

Ans A. dedicated
 B. devastated
 C. extended
 D. gratified

Question ID : 630680123847
 Option 1 ID : 630680480261
 Option 2 ID : 630680480259
 Option 3 ID : 630680480260
 Option 4 ID : 630680480258
 Status : Not Answered
 Chosen Option : -

Q.19 Select the option that can be used as a one-word substitute for the underlined group of words.

You will need to submit an exact copy of the required documents in the passport office by next week.

Ans A. Facsimile
 B. Photograph
 C. Assemblage
 D. Counterfeit

Question ID : 630680115466
 Option 1 ID : 630680447215
 Option 2 ID : 630680447214
 Option 3 ID : 630680447216
 Option 4 ID : 630680447217
 Status : Not Answered
 Chosen Option : -

Q.20 Sentences of a paragraph are given below in jumbled order. Arrange the sentences in the correct order to form a meaningful and coherent paragraph.

- 1.Yoga is a popular practice that has been around for centuries.
- 2.Practicing yoga can improve flexibility, balance and strength, as well as reduce stress, anxiety and depression.
- 3.Additionally, yoga can help with weight loss, improve respiratory function and boost the immune system.
- 4.It originated in India and has since gained a global following due to its numerous health benefits.

- Ans
- A. 2143
 - B. 1423
 - C. 3214
 - D. 2134

Question ID : 630680204370
 Option 1 ID : 630680792566
 Option 2 ID : 630680792565
 Option 3 ID : 630680792564
 Option 4 ID : 630680792563
 Status : Not Answered
 Chosen Option : -

Comprehension:

In the following passage some words have been deleted. Read the passage carefully and select the most appropriate option to fill in each blank.

Any type of education that (1)_____ the language or languages that children are most comfortable (2)_____ to help them learn is referred to as mother tongue education. Children typically use this language at home with their families. It is not (3)_____ for the 'mother tongue' to be the mother's native tongue. Children are (4)_____ of speaking more than one language at home, and many times they do. For (5)_____, their mother, their father, and their grandparents may each speak a different language. Home language,first language, and legacy language are other words.

SubQuestion No : 21

Q.21 Select the most appropriate option to fill in blank number 5.

- Ans
- A. construe
 - B. complex
 - C. instance
 - D. obscure

Question ID : 630680158615
 Option 1 ID : 630680613953
 Option 2 ID : 630680613954
 Option 3 ID : 630680613952
 Option 4 ID : 630680613955
 Status : Not Answered
 Chosen Option : -

Comprehension:

In the following passage some words have been deleted. Read the passage carefully and select the most appropriate option to fill in each blank.

Any type of education that (1)_____ the language or languages that children are most comfortable (2)_____ to help them learn is referred to as mother tongue education. Children typically use this language at home with their families. It is not (3)_____ for the 'mother tongue' to be the mother's native tongue. Children are (4)_____ of speaking more than one language at home, and many times they do. For (5)_____, their mother, their father, and their grandparents may each speak a different language. Home language, first language, and legacy language are other words.

SubQuestion No : 22

Q.22 Select the most appropriate option to fill in blank number 4.

- Ans
- A. inept
 - B. dubious
 - C. capable
 - D. hesitant

Question ID : 630680158614
 Option 1 ID : 630680613948
 Option 2 ID : 630680613950
 Option 3 ID : 630680613951
 Option 4 ID : 630680613949
 Status : Not Answered
 Chosen Option : -

Comprehension:

In the following passage some words have been deleted. Read the passage carefully and select the most appropriate option to fill in each blank.

Any type of education that (1)_____ the language or languages that children are most comfortable (2)_____ to help them learn is referred to as mother tongue education. Children typically use this language at home with their families. It is not (3)_____ for the 'mother tongue' to be the mother's native tongue. Children are (4)_____ of speaking more than one language at home, and many times they do. For (5)_____, their mother, their father, and their grandparents may each speak a different language. Home language, first language, and legacy language are other words.

SubQuestion No : 23

Q.23 Select the most appropriate option to fill in blank number 3.

- Ans
- A. ordinary
 - B. necessary
 - C. voluntary
 - D. customary

Question ID : 630680158613
 Option 1 ID : 630680613944
 Option 2 ID : 630680613945
 Option 3 ID : 630680613946
 Option 4 ID : 630680613947
 Status : Not Answered
 Chosen Option : -

Comprehension:

In the following passage some words have been deleted. Read the passage carefully and select the most appropriate option to fill in each blank.

Any type of education that (1)_____ the language or languages that children are most comfortable (2)_____ to help them learn is referred to as mother tongue education. Children typically use this language at home with their families. It is not (3)_____ for the 'mother tongue' to be the mother's native tongue. Children are (4)_____ of speaking more than one language at home, and many times they do. For (5)_____, their mother, their father, and their grandparents may each speak a different language. Home language, first language, and legacy language are other words.

SubQuestion No : 24

Q.24 Select the most appropriate option to fill in blank number 2.

- Ans
- A. beyond
 - B. of
 - C. in
 - D. with

Question ID : 630680158612
 Option 1 ID : 630680613941
 Option 2 ID : 630680613943
 Option 3 ID : 630680613940
 Option 4 ID : 630680613942
 Status : Not Answered
 Chosen Option : -

Comprehension:

In the following passage some words have been deleted. Read the passage carefully and select the most appropriate option to fill in each blank.

Any type of education that (1)_____ the language or languages that children are most comfortable (2)_____ to help them learn is referred to as mother tongue education. Children typically use this language at home with their families. It is not (3)_____ for the 'mother tongue' to be the mother's native tongue. Children are (4)_____ of speaking more than one language at home, and many times they do. For (5)_____, their mother, their father, and their grandparents may each speak a different language. Home language, first language, and legacy language are other words.

SubQuestion No : 25

Q.25 Select the most appropriate answer for blank number 1.

- Ans
- A. employs
 - B. exaggerates
 - C. exhibits
 - D. excludes

Question ID : 630680158611
 Option 1 ID : 630680613938
 Option 2 ID : 630680613939
 Option 3 ID : 630680613936
 Option 4 ID : 630680613937
 Status : Not Answered
 Chosen Option : -

Section : Hindi

Q.1 जो सब कुछ जानता है - वाक्यांश के लिए सार्थक शब्द है-

- Ans
- A. अज्ञ
 - B. सुअज्ञ
 - C. सर्वज्ञ
 - D. अज्ञ

Question ID : 630680128689
 Option 1 ID : 630680498395
 Option 2 ID : 630680498397
 Option 3 ID : 630680498394
 Option 4 ID : 630680498396
 Status : Answered
 Chosen Option : C

Q.2 निम्नलिखित वाक्यांश को ध्यानपूर्वक पढ़ें और बताएं कि यह किस समास का उदाहरण है?
 माता और पिता : माता - पिता

- Ans
- A. कर्मधारय समास
 - B. बहुव्री समास
 - C. तत्पुरुष समास
 - D. द समास

Question ID : 630680203690
 Option 1 ID : 630680789960
 Option 2 ID : 630680789961
 Option 3 ID : 630680789959
 Option 4 ID : 630680789962
 Status : Answered
 Chosen Option : D

Q.3 'कीचड़ में घसीटना'
 दिए गए मुहावरे का अर्थ निम्नलिखित में से है

- Ans
- A. सी को र्थ में बदनाम करना
 - B. संकट में पड़ना
 - C. गंदगी में डालना
 - D. बुरी बालों में शा ल करना

Question ID : 630680197135
 Option 1 ID : 630680764824
 Option 2 ID : 630680764825
 Option 3 ID : 630680764826
 Option 4 ID : 630680764823
 Status : Answered
 Chosen Option : D

Q.4 'परलोकगमन' का सही विग्रह पहचानें।

- Ans
- A. परलोक गया
 - B. परलोक की यात्रा
 - C. परलोक जाएगा
 - D. परलोक को जाना

Question ID : 63068065760
Option 1 ID : 630680253990
Option 2 ID : 630680253993
Option 3 ID : 630680253992
Option 4 ID : 630680253991
Status : Answered
Chosen Option : A

Q.5 'जो बहुत से विषयों का जानकार हो' वाक्यांश के लिए सार्थक शब्द निम्नलिखित में से है-

- Ans
- A. सर्वज्ञ
 - B. अल्पज्ञ
 - C. बहुज्ञ
 - D. विज्ञ

Question ID : 630680197155
Option 1 ID : 630680764903
Option 2 ID : 630680764904
Option 3 ID : 630680764906
Option 4 ID : 630680764905
Status : Answered
Chosen Option : A

Q.6 निम्न विकल्पों में से 'मनोरथ' शब्द का संधि विच्छेद कौनसा सही है? अंकित कीजिए।

- Ans
- A. मानोः+रथ
 - B. मानो+रथ
 - C. माना+रथ
 - D. मनः+रथ

Question ID : 63068065890
Option 1 ID : 630680254492
Option 2 ID : 630680254490
Option 3 ID : 630680254493
Option 4 ID : 630680254491
Status : Answered
Chosen Option : A

Q.7 सर्वोचित शब्द से दिया गया वाक्य पूर्ण करें
_____ व्यक्ति भगवान के दरबार में गिड़गिड़ाता है।

- Ans
- A. आर्य
 - B. आर्ति
 - C. आर्द्र
 - D. आर्त्त

Question ID : 630680197117
Option 1 ID : 630680764752
Option 2 ID : 630680764751
Option 3 ID : 630680764753
Option 4 ID : 630680764754
Status : Answered
Chosen Option : D

Q.8 'घायल की गति घायल जाने' लोकोक्ति का अर्थ है-

- Ans
- A. समस्या की अनदेखी करना
 - B. अवस्था चिंताजनक होना
 - C. जो स्वयं कष्ट भोगता है वही दूसरों का कष्ट समझता है।
 - D. बाहर से प्रसन्न भीतर से दुखी

Question ID : 630680203738
Option 1 ID : 630680790154
Option 2 ID : 630680790152
Option 3 ID : 630680790151
Option 4 ID : 630680790153
Status : Answered
Chosen Option : C

Q.9 निम्नलिखित वाक्य के रिक्त स्थान में उचित तत्सम शब्द का चयन करें:

यह मेरा _____ है कि आप मेरे घर पधार।

- Ans
- A. सुहाग
 - B. सपना
 - C. सौभाग्य
 - D. सच

Question ID : 630680197086
Option 1 ID : 630680764627
Option 2 ID : 630680764628
Option 3 ID : 630680764629
Option 4 ID : 630680764630
Status : Answered
Chosen Option : C

Q.10 निम्नलिखित वाक्यांश को ध्यानपूर्वक पढ़ें और बताएं कि यह किस समास का उदाहरण है?
नीलकंठ = नीला है कंठ जिसका (शिव)

- Ans A. C ङ MW
 B. K ० ङ MW
 C. 4 MF ङ MW
 D. ङ MW

Question ID : 630680203688
 Option 1 ID : 630680789951
 Option 2 ID : 630680789953
 Option 3 ID : 630680789952
 Option 4 ID : 630680789954
 Status : Answered
 Chosen Option : B

Q.11 'गृहागत' में समास है-

- Ans A. ङ व्य म् ङ MW
 B. K 7 ङ MW
 C. C ङ MW
 D. ङ MW

Question ID : 630680197146
 Option 1 ID : 630680764868
 Option 2 ID : 630680764869
 Option 3 ID : 630680764867
 Option 4 ID : 630680764870
 Status : Not Answered
 Chosen Option : -

Q.12 'आजकल _____ के दाम तेजी से बढ़ रहे हैं।' निम्नलिखित वाक्य के रिक्त स्थान में उचित तद्भव शब्द का चयन करें-

- Ans A. TB
 B. G
 C. ङि
 D. O4

Question ID : 630680197084
 Option 1 ID : 630680764620
 Option 2 ID : 630680764619
 Option 3 ID : 630680764621
 Option 4 ID : 630680764622
 Status : Answered
 Chosen Option : A

Q.13 C E G C N B D
G f g _____ g C Q

Ans A. 90;
 B. 06
 C. (ME
 D. %

Question ID : 630680197171
Option 1 ID : 630680764970
Option 2 ID : 630680764968
Option 3 ID : 630680764969
Option 4 ID : 630680764967
Status : Answered
Chosen Option : D

Q.14 Nf N N E 6-

Q 4-

Ans A. Tb
 B. /
 C. TN
 D. TC

Question ID : 630680126192
Option 1 ID : 630680489377
Option 2 ID : 630680489374
Option 3 ID : 630680489375
Option 4 ID : 630680489376
Status : Answered
Chosen Option : C

Q.15 G C G- E' NINTID_ ?

Ans A. 5
 B. % U6
 C. Q.M
 D.

Question ID : 630680197099
Option 1 ID : 630680764682
Option 2 ID : 630680764679
Option 3 ID : 630680764680
Option 4 ID : 630680764681
Status : Answered
Chosen Option : C

Q.16 निम्नलिखित में से सही विकल्प चुनिए -

Ans प्रसन्न हानी ता है।
 मोहन खता है।
 संगीता ने मिठाई नहीं खाई।
 का पेड़ से गिरा।

63068065947
 रूपाक्षर 630680254720
 रूपाक्षर 630680254719
 रूपाक्षर 630680254721
 रूपाक्षर 630680254718
 Answered
 तैरूपाक्षर

Q.17 निम्नलिखित में से सही विकल्प चुनिए -

Ans प्रसुदरी
 क्या
 थोड़ा
 से

63068071763
 रूपाक्षर 630680277522
 रूपाक्षर 630680277525
 रूपाक्षर 630680277524
 रूपाक्षर 630680277523
 Answered
 तैरूपाक्षर

Q.18 निम्नलिखित में से सही विकल्प चुनिए -

Ans साक्षर ना
 दुखी होना
 बीमार हो जाना
 खीजकर जाना

630680197202
 रूपाक्षर 630680765094
 रूपाक्षर 630680765091
 रूपाक्षर 630680765093
 रूपाक्षर 630680765092
 Answered
 तैरूपाक्षर

Q.19 'प्रत्यक्ष' में कौन-सा समास है?

- Ans
- A. गु
 - B. तत्पुरुष
 - C. अ यीभाव
 - D.

Question ID : 63068065768
Option 1 ID : 630680254023
Option 2 ID : 630680254025
Option 3 ID : 630680254024
Option 4 ID : 630680254022
Status : Answered
Chosen Option : C

Q.20 सर्वोचित शब्द से दिया गया वाक्य पूर्ण करें
व्यक्ति के _____ से उसके परिवार का मान बढ़ता-घटता है।

- Ans
- A. आचार
 - B. अनाचार
 - C. अचार
 - D. आचार्य

Question ID : 630680197116
Option 1 ID : 630680764747
Option 2 ID : 630680764750
Option 3 ID : 630680764749
Option 4 ID : 630680764748
Status : Answered
Chosen Option : A

Comprehension:

मन त ग श को पढ़कर पूछे गए सवालों का जवाब दीजिए।

समुद्र के नारे एक गाँव था। उसमें एक कलाकार रहता था। वह नभर समुद्र कलहरों से खेलता रहता, जाल डालता और सी यों बटोरता। रंग- रंगी कौ यों, नाना रूप के सुंदर-सुंदर शंख, त्र- त्र प र, न जाने क्या- क्या समुद्र- जाल में भर देता। उनसे वह तरह- तरह के लीने, तरह- तरह कभालाएँ तैयार करता और पास के बड़े नगर में बेच आता। उसका एक बेटा था, नाम था उसका हर्ष। उम्र अभी ग्यारह कभी नहीं थी, पर समुद्र कलहरों में ऐसे घुस जाता, जैसे तालाब में ब ख।

SubQuestion No : 21

Q.21 'तालाब' का पर्यायवाची शब्द है-

- Ans
- A. कुओं
 - B. जलाशय
 - C. सागर
 - D. नदी

Question ID : 630680123155
Option 1 ID : 630680477513
Option 2 ID : 630680477510
Option 3 ID : 630680477512
Option 4 ID : 630680477511
Status : Answered
Chosen Option : B

Comprehension:

निम्नलिखित गद्यांश को पढ़कर पूछे गए सवालों का जवाब दीजिए।

समुद्र के किनारे एक गाँव था। उसमें एक कलाकार रहता था। वह दिनभर समुद्र की लहरों से खेलता रहता, जाल डालता और सीपियाँ बटोरता। रंग-बिरंगी कौड़ियाँ, नाना रूप के सुंदर-सुंदर शंख, चित्र-विचित्र पत्थर, न जाने क्या-क्या समुद्र-जाल में भर देता। उनसे वह तरह-तरह के खिलौने, तरह-तरह की मालाएँ तैयार करता और पास के बड़े नगर में बेच आता। उसका एक बेटा था, नाम था उसका हर्ष। उम्र अभी ग्यारह की भी नहीं थी, पर समुद्र की लहरों में ऐसे घुस जाता, जैसे तालाब में बत्तख।

SubQuestion No : 22

Q.22 समुद्र की लहरों में कौन घुस जाता था?

- Ans A. कलाकार का बेटा
 B. कलाकार का जाल
 C. कलाकार की नाव
 D. कलाकार

Question ID : 630680123154
 Option 1 ID : 630680477509
 Option 2 ID : 630680477507
 Option 3 ID : 630680477508
 Option 4 ID : 630680477506
 Status : Answered
 Chosen Option : A

Comprehension:

निम्नलिखित गद्यांश को पढ़कर पूछे गए सवालों का जवाब दीजिए।

समुद्र के किनारे एक गाँव था। उसमें एक कलाकार रहता था। वह दिनभर समुद्र की लहरों से खेलता रहता, जाल डालता और सीपियाँ बटोरता। रंग-बिरंगी कौड़ियाँ, नाना रूप के सुंदर-सुंदर शंख, चित्र-विचित्र पत्थर, न जाने क्या-क्या समुद्र-जाल में भर देता। उनसे वह तरह-तरह के खिलौने, तरह-तरह की मालाएँ तैयार करता और पास के बड़े नगर में बेच आता। उसका एक बेटा था, नाम था उसका हर्ष। उम्र अभी ग्यारह की भी नहीं थी, पर समुद्र की लहरों में ऐसे घुस जाता, जैसे तालाब में बत्तख।

SubQuestion No : 23

Q.23 कलाकार अपना सामान बेचने कहाँ जाता था?

- Ans A. बड़े बाज़ार में
 B. दूसरे देश में
 C. पास के बड़े नगर में
 D. पास के गाँव में

Question ID : 630680123153
 Option 1 ID : 630680477505
 Option 2 ID : 630680477503
 Option 3 ID : 630680477504
 Option 4 ID : 630680477502
 Status : Answered
 Chosen Option : C

Comprehension:

निम्नलिखित गद्यांश को पढ़कर पूछे गए सवालों का जवाब दीजिए।

समुद्र के किनारे एक गाँव था। उसमें एक कलाकार रहता था। वह दिनभर समुद्र की लहरों से खेलता रहता, जाल डालता और सीपियाँ बटोरता। रंग-बिरंगी कौड़ियों, नाना रूप के सुंदर-सुंदर शंख, चित्र-विचित्र पत्थर, न जाने क्या-क्या समुद्र-जाल में भर देता। उनसे वह तरह-तरह के खिलौने, तरह-तरह की मालाएँ तैयार करता और पास के बड़े नगर में बेच आता। उसका एक बेटा था, नाम था उसका हर्ष। उम्र अभी ग्यारह की भी नहीं थी, पर समुद्र की लहरों में ऐसे घुस जाता, जैसे तालाब में बत्तख।

SubQuestion No : 24

Q.24 गाँव में कौन रहता था?

- Ans A. किसान
 B. बच्चा
 C. कलाकार
 D. मछुआरा

Question ID : 630680123151
 Option 1 ID : 630680477497
 Option 2 ID : 630680477495
 Option 3 ID : 630680477494
 Option 4 ID : 630680477496
 Status : Answered
 Chosen Option : C

Comprehension:

निम्नलिखित गद्यांश को पढ़कर पूछे गए सवालों का जवाब दीजिए।

समुद्र के किनारे एक गाँव था। उसमें एक कलाकार रहता था। वह दिनभर समुद्र की लहरों से खेलता रहता, जाल डालता और सीपियाँ बटोरता। रंग-बिरंगी कौड़ियों, नाना रूप के सुंदर-सुंदर शंख, चित्र-विचित्र पत्थर, न जाने क्या-क्या समुद्र-जाल में भर देता। उनसे वह तरह-तरह के खिलौने, तरह-तरह की मालाएँ तैयार करता और पास के बड़े नगर में बेच आता। उसका एक बेटा था, नाम था उसका हर्ष। उम्र अभी ग्यारह की भी नहीं थी, पर समुद्र की लहरों में ऐसे घुस जाता, जैसे तालाब में बत्तख।

SubQuestion No : 25

Q.25 रंग-बिरंगी कौड़ियों, नाना रूप के सुंदर-सुंदर शंख आदि से कलाकार क्या बनाता था?

- Ans A. पढ़ाई का सामान
 B. खिलौने तथा मालाएँ
 C. घर का सामान
 D. कपड़े

Question ID : 630680123152
 Option 1 ID : 630680477501
 Option 2 ID : 630680477499
 Option 3 ID : 630680477500
 Option 4 ID : 630680477498
 Status : Answered
 Chosen Option : B