

# **CRPF Constable**

**Previous Year Paper  
Tech. Tradesman  
12 July, 2023 Shift 1**

**Adda247**

Adda247

# Test Prime

**ALL EXAMS, ONE SUBSCRIPTION**



**1,00,000+**  
Mock Tests



**Personalised  
Report Card**



**Unlimited  
Re-Attempt**



**600+**  
Exam Covered



**25,000+** Previous  
Year Papers



**500%**  
Refund



**ATTEMPT FREE MOCK NOW**

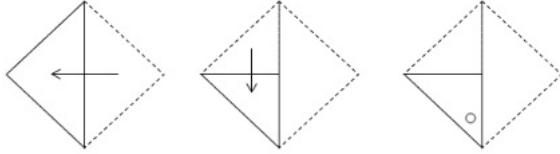
**CRPF Technical Tradesman 1st to 12th July 2023**

Participant ID	
Participant Name	
Test Center Name	
Test Date	12/07/2023
Test Time	8:30 AM - 10:30 AM
Subject	Constable Washerman

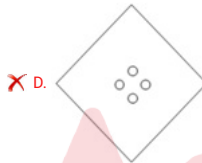
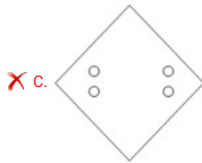
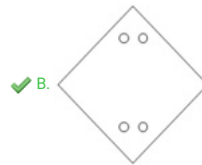
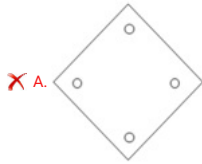
Section : General Intelligence and Reasoning



Q.1 एक कागज को मोड़ने का क्रम और मोड़े गए कागज को काटने का तरीका निम्नांकित आकृतियों में दर्शाया गया है। तह के खोले जाने पर यह कागज कैसा दिखेगा?



Ans



Question ID : 630680163549

Option 1 ID : 630680633380

Option 2 ID : 630680633381

Option 3 ID : 630680633383

Option 4 ID : 630680633382

Status : Answered

Chosen Option : B

Q.2 दी गई शृंखला में प्रश्न चिन्ह (?) के स्थान पर क्या आना चाहिए?

2, 13, 29, 55, 96, 157, 243, ?

Ans  A. 359

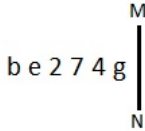
B. 378

C. 395

D. 387

Question ID : 630680118411  
Option 1 ID : 630680458778  
Option 2 ID : 630680458780  
Option 3 ID : 630680458779  
Option 4 ID : 630680458781  
Status : Answered  
Chosen Option : A

Q.3 जब दर्पण को MN पर रखा जाता है तो दी गई आकृति के सही दर्पण प्रतिबिंब का चयन कीजिए।



Ans  A. g 4 2 7 e b

B. g 4 2 7 e b

C. g 4 7 2 e b

D. g 7 2 4 e b

Question ID : 630680175996  
Option 1 ID : 630680682232  
Option 2 ID : 630680682235  
Option 3 ID : 630680682234  
Option 4 ID : 630680682233  
Status : Answered  
Chosen Option : C

Q.4 एक निश्चित कूट भाषा में,

'A # B' का अर्थ है 'A, B का पिता है';  
 'A \$ B' का अर्थ है 'A, B की मां है';  
 'A ! B' का अर्थ है 'A, B की बहन है';  
 'A @ B' का अर्थ है 'A, B का भाई है';  
 'A \* B' का अर्थ है 'A, B की पत्नी है';  
 'A > B' का अर्थ है 'A, B का पति है' और  
 'A % B' का अर्थ है 'A, B की पुत्री है'।

उपरोक्त जानकारी के आधार पर, दिए गए विकल्पों में से कौन सा विकल्प निम्नलिखित कथन को सत्य बना देगा?

'J, P का चाचा है'

- Ans  A. J # K ! M # O ! P @ N  
 B. J @ K ! M \$ O @ P % N  
 C. J @ K ! M # O @ P % N  
 D. J @ K \$ M # O @ P @ N

Question ID : 630680158233  
 Option 1 ID : 630680612462  
 Option 2 ID : 630680612461  
 Option 3 ID : 630680612463  
 Option 4 ID : 630680612460  
 Status : Answered  
 Chosen Option : C

Q.5 निम्नलिखित में से कौन-सा मान, निकटतम लगभग मान है, जो दिए गए समीकरण में प्रश्न-चिह्न (?) को प्रतिस्थापित कर सकता है?

$$83.99 \div 11.99 \div 1.99 \times ? = 157.01 - 122.01$$

- Ans  A. 1  
 B. 10  
 C. 20  
 D. 15

Question ID : 630680161778  
 Option 1 ID : 630680626443  
 Option 2 ID : 630680626440  
 Option 3 ID : 630680626442  
 Option 4 ID : 630680626441  
 Status : Not Answered  
 Chosen Option : --

Q.6 Q, P की बहन है। R, P का भाई है। T, S की बहन है। S, Q का पुत्र है। R, U का पुत्र है। R किस प्रकार T से संबंधित है?

- Ans  A. मामा  
 B. चाचा/ताऊ  
 C. नाना  
 D. दादा

Question ID : 630680117513  
Option 1 ID : 630680455287  
Option 2 ID : 630680455286  
Option 3 ID : 630680455288  
Option 4 ID : 630680455289  
Status : Answered  
Chosen Option : A

Q.7 1 P  
2 S  
3 M  
9 O  
8 R  
7 Q  
2 U

शर्त 1: यदि पहला और अंतिम अंक 2 हैं, तो दोनों को V के रूप में कूटबद्ध किया जाना है।  
शर्त 2: यदि पहला और अंतिम अंक विषम हैं, तो दोनों को A के रूप में कूटबद्ध किया जाना है।  
'VMORQV' को किस प्रकार कूटवाचन किया जाएगा?

- Ans  A. 524387  
 B. 239872  
 C. 139871  
 D. 538793

Question ID : 630680261934  
Option 1 ID : 6306801017394  
Option 2 ID : 6306801017391  
Option 3 ID : 6306801017392  
Option 4 ID : 6306801017393  
Status : Not Answered  
Chosen Option : --

Q.8 दी गई आकृति के सही दर्पण प्रतिबिंब का चयन करें, जब दर्पण को MN पर रखा जाता है जैसा कि नीचे दिखाया गया है।

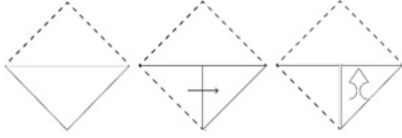
4069rR

- Ans
- A. R1900r
  - B. Rr960r
  - C. R1690r
  - D. Rr900r

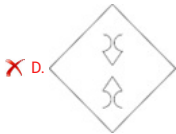
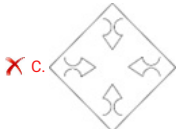
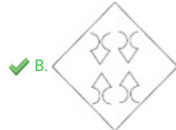
Question ID : 630680162239  
Option 1 ID : 630680628260  
Option 2 ID : 630680628263  
Option 3 ID : 630680628261  
Option 4 ID : 630680628262  
Status : Answered  
Chosen Option : A

Adda247

Q.9 नीचे दी गई आकृति में एक कागज को मोड़ने का क्रम और उस मुड़े हुए कागज को काटने का तरीका दर्शाया गया है। तह खोले जाने पर यह कागज कैसा दिखेगा?



Ans



Question ID : 630680177306  
 Option 1 ID : 630680687402  
 Option 2 ID : 630680687400  
 Option 3 ID : 630680687403  
 Option 4 ID : 630680687401  
 Status : Answered  
 Chosen Option : B

Q.10 एक निश्चित कूट भाषा में,

'A \$ B' का अर्थ है 'A, B का पिता है';  
 'A # B' का अर्थ है 'A, B की पुत्री है';  
 'A & B' का अर्थ है 'A, B की बहन है';  
 'A \* B' का अर्थ है 'A, B का पुत्र है';  
 'A @ B' का अर्थ है 'A, B का पति है';  
 'A + B' का अर्थ है 'A, B की पत्नी है' और  
 'A ^ B' का अर्थ है 'A, B की बहू है'।

उपरोक्त जानकारी के आधार पर, दिए गए विकल्पों में से कौन सा विकल्प निम्नलिखित कथन को सत्य बना देगा?

'C ^ J'

Ans  A. B & C + D \* F \$ E # J

B. B & C + D \* F \$ E & J

C. B & C + D \* F \* E & J

D. B & C + D \$ F & E + J

Question ID : 630680158234  
 Option 1 ID : 630680612465  
 Option 2 ID : 630680612464  
 Option 3 ID : 630680612466  
 Option 4 ID : 630680612467  
 Status : Answered  
 Chosen Option : A

Q.11 एक निश्चित कूटभाषा में,

'Lion run fast' को 'Ni Mo Na' के रूप में लिखा जाता है;  
 'Cubs of Lion' को 'Mo Ci Ka' के रूप में लिखा जाता है;  
 'Make Cubs Run' को 'Ka Na Ti' के रूप में लिखा जाता है।  
 'Make' के लिए कूट क्या है?

Ans  A. Ka

B. Ti

C. Ci

D. Ni

Question ID : 630680261943  
 Option 1 ID : 6306801017429  
 Option 2 ID : 6306801017427  
 Option 3 ID : 6306801017430  
 Option 4 ID : 6306801017428  
 Status : Answered  
 Chosen Option : B

Q.12 विकल्पों में दी गई आकृतियों में से कौन-सी आकृति '?' के स्थान पर रखे जाने पर तार्किक रूप से श्रृंखला को पूरा करेगी?



Ans

- A.
- B.
- C.
- D.

Question ID : 630680128363  
Option 1 ID : 630680497285  
Option 2 ID : 630680497282  
Option 3 ID : 630680497284  
Option 4 ID : 630680497283  
Status : Answered  
Chosen Option : B

Q.13 यदि + का अर्थ -, - का अर्थ  $\times$ ,  $\times$  का अर्थ  $\div$ ,  $\div$  का अर्थ + है, तो निम्नलिखित समीकरण में प्रश्न चिह्न (?) के स्थान पर क्या मान आएगा?  
 $167 \div 85 \times 5 - 4 + 36 = ?$

- A. 199
- B. 201
- C. 207
- D. 192

Question ID : 630680163567  
Option 1 ID : 630680633455  
Option 2 ID : 630680633452  
Option 3 ID : 630680633454  
Option 4 ID : 630680633453  
Status : Answered  
Chosen Option : A

Q.14 दिए गए विकल्पों में से उस संख्या का चयन करें जो निम्नलिखित समीकरण में प्रश्न चिह्न (?) के स्थान पर आ सकती है।

$$? + (15.01 \times 4.98) \div 3.01 = 131.99 + \sqrt{677}$$

- Ans
- A. 133
  - B. 121
  - C. 108
  - D. 144

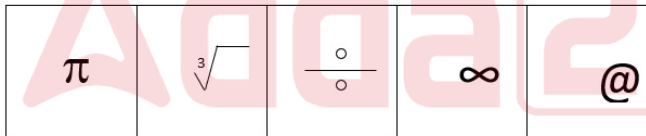
Question ID : 630680204249  
 Option 1 ID : 630680792082  
 Option 2 ID : 630680792080  
 Option 3 ID : 630680792079  
 Option 4 ID : 630680792081  
 Status : Not Answered  
 Chosen Option : --

Q.15 दी गई श्रृंखला में '?' इसके स्थान पर क्या आना चाहिए?  
 29, 58, 174, ?

- Ans
- A. 684
  - B. 714
  - C. 846
  - D. 696

Question ID : 630680221855  
 Option 1 ID : 630680861272  
 Option 2 ID : 630680861271  
 Option 3 ID : 630680861270  
 Option 4 ID : 630680861269  
 Status : Answered  
 Chosen Option : D

Q.16 निम्नलिखित में से कौन सी आकृति असंगत है?



- Ans
- A. 2
  - B. 5
  - C. 4
  - D. 3

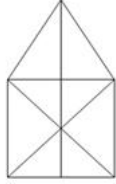
Question ID : 630680137879  
 Option 1 ID : 630680533834  
 Option 2 ID : 630680533837  
 Option 3 ID : 630680533836  
 Option 4 ID : 630680533835  
 Status : Answered  
 Chosen Option : B

Q.17 टाउन A, टाउन B के उत्तर में है। टाउन C, टाउन B के पश्चिम में है। टाउन D, टाउन C के दक्षिण में है। टाउन P, टाउन B के पूर्व में है। टाउन M, टाउन D के पूर्व में है। टाउन A, टाउन M के उत्तर-पूर्व में है। यदि टाउन R, टाउन D के दक्षिण-पश्चिम में है, तो टाउन R के सन्दर्भ में टाउन A किस दिशा में होगा?

- Ans  A. उत्तर-पश्चिम  
 B. उत्तर-पूर्व  
 C. उत्तर  
 D. पूर्व

Question ID : 630680261978  
 Option 1 ID : 6306801017569  
 Option 2 ID : 6306801017568  
 Option 3 ID : 6306801017567  
 Option 4 ID : 6306801017570  
 Status : Answered  
 Chosen Option : B

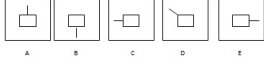
Q.18 दी गई आकृति में कितने त्रिभुज हैं?



- Ans  A. 18  
 B. 15  
 C. 17  
 D. 20

Question ID : 63068049925  
 Option 1 ID : 630680192024  
 Option 2 ID : 630680192022  
 Option 3 ID : 630680192023  
 Option 4 ID : 630680192025  
 Status : Answered  
 Chosen Option : C

Q.19 पांच आकृतियाँ दी गई हैं जिनमें से चार किसी न किसी रूप में एक जैसी हैं और एक भिन्न है। उसका चयन कीजिए जो भिन्न है।



- Ans
- A. E
  - B. B
  - C. C
  - D. D

Question ID : 63068085685  
 Option 1 ID : 630680332200  
 Option 2 ID : 630680332202  
 Option 3 ID : 630680332203  
 Option 4 ID : 630680332201  
 Status : Answered  
 Chosen Option : D

Q.20 शहर C शहर A के दक्षिण में है। शहर B शहर D के दक्षिण में है। शहर E शहर B के दक्षिण में है। शहर D शहर A के पूर्व में है। शहर B शहर C के पूर्व में है। शहर C के सापेक्ष E की स्थिति क्या है?

- Ans
- A. पूर्व
  - B. दक्षिण
  - C. दक्षिण-पश्चिम
  - D. दक्षिण-पूर्व

Question ID : 630680119306  
 Option 1 ID : 630680462317  
 Option 2 ID : 630680462314  
 Option 3 ID : 630680462316  
 Option 4 ID : 630680462315  
 Status : Answered  
 Chosen Option : D

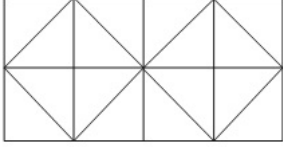
Q.21 दिए गए विकल्पों में से कौन-सा वह लगभग निकटतम मान है, जो निम्नलिखित समीकरण में प्रश्न-चिह्न (?) के स्थान पर आएगा?

$$676.01 \div 13.01 + 343.01 \div 6.99 - 51.01 = ?$$

- Ans
- A. 80
  - B. 50
  - C. 60
  - D. 40

Question ID : 630680172625  
 Option 1 ID : 630680668920  
 Option 2 ID : 630680668922  
 Option 3 ID : 630680668923  
 Option 4 ID : 630680668921  
 Status : Not Answered  
 Chosen Option : --

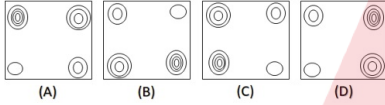
Q.22 दी गई आकृति में कितने वर्ग हैं?



- Ans  A. 16  
 B. 13  
 C. 15  
 D. 17

Question ID : 630680109095  
 Option 1 ID : 630680423198  
 Option 2 ID : 630680423196  
 Option 3 ID : 630680423197  
 Option 4 ID : 630680423199  
 Status : Answered  
 Chosen Option : B

Q.23 निम्नलिखित चार आकृतियों में से तीन एक निश्चित तरीके से समान हैं और इस प्रकार एक समूह बनाती हैं। वह कौन-सी है, जो इस समूह से संबंधित नहीं है?



- Ans  A. B  
 B. C  
 C. A  
 D. D

Question ID : 630680124852  
 Option 1 ID : 630680484232  
 Option 2 ID : 630680484231  
 Option 3 ID : 630680484233  
 Option 4 ID : 630680484230  
 Status : Answered  
 Chosen Option : D

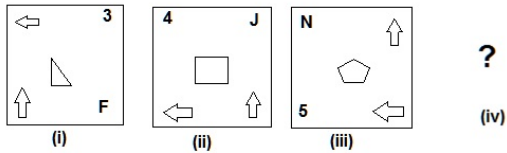
Q.24 हर्ष ने एक लड़की की ओर इशारा करते हुए कहा, "वह मेरे पिता के पिता के इकलौते पुत्र की पुत्री है"। हर्ष का उस लड़की से क्या संबंध है?

- Ans  A. भाई  
 B. पिता  
 C. पुत्र  
 D. चचेरा भाई

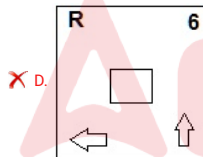
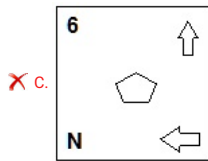
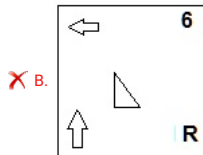
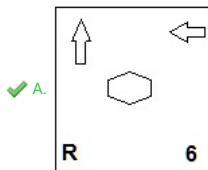
Question ID : 630680106073  
Option 1 ID : 630680412193  
Option 2 ID : 630680412192  
Option 3 ID : 630680412191  
Option 4 ID : 630680412194  
Status : Answered  
Chosen Option : A



Q.25 दिए गए विकल्पों में से उस आकृति का चयन कीजिए जिसे दी गई श्रृंखला को तार्किक रूप से पूरा करने के लिए प्रश्नवाचक चिह्न (?) के स्थान पर प्रतिस्थापित किया जा सके।



Ans



Question ID : 630680105940  
 Option 1 ID : 630680411706  
 Option 2 ID : 630680411705  
 Option 3 ID : 630680411703  
 Option 4 ID : 630680411704  
 Status : Answered  
 Chosen Option : A

Section : General Knowledge and General Awareness

Q.1 रामकृष्ण गोपाल भंडारकर और महादेव गोविंद रानाडे ने \_\_\_\_\_ के माध्यम से महाराष्ट्र में धार्मिक सुधारों के अपने कार्य को अंजाम दिया।

- Ans  A. प्रार्थना समाज  
 B. रामकृष्ण मिशन  
 C. ब्रह्म समाज  
 D. आर्य समाज

Question ID : 630680214251  
 Option 1 ID : 630680831053  
 Option 2 ID : 630680831051  
 Option 3 ID : 630680831054  
 Option 4 ID : 630680831052  
 Status : Answered  
 Chosen Option : A

Q.2 कौन-सा कोशिकांग प्रमुख सूक्ष्मलिका-संयोजन केंद्र (microtubule-organising centre) है?

- Ans  A. अन्तःप्रद्रव्यी जालिका  
 B. तारक काय  
 C. राइबोसोम  
 D. कोशिका झिल्ली

Question ID : 630680102273  
 Option 1 ID : 630680397378  
 Option 2 ID : 630680397377  
 Option 3 ID : 630680397375  
 Option 4 ID : 630680397376  
 Status : Not Answered  
 Chosen Option : --

Q.3 किसने 1839 में चिरसम्मत कोशिका परिकल्पना (Classical Cell Hypothesis) प्रस्तुत की?

- Ans  A. लुई पास्चर (Louis Pasteur)  
 B. चार्ल्स डार्विन (Charles Darwin)  
 C. थियोडोर श्वान (Theodor Schwann)  
 D. एंड्रियास वेसालियस (Andreas Vesalius)

Question ID : 630680209080  
 Option 1 ID : 630680810536  
 Option 2 ID : 630680810537  
 Option 3 ID : 630680810538  
 Option 4 ID : 630680810535  
 Status : Not Answered  
 Chosen Option : --

Q.4 निम्नलिखित में से किस अवसर पर छत्तीसगढ़ के यादव समुदाय द्वारा राउत नाचा का प्रदर्शन किया जाता है?

- Ans
- A. होली
  - B. दीपावली
  - C. बुद्ध पूर्णिमा
  - D. मकर संक्राति

Question ID : 630680214144  
 Option 1 ID : 630680830623  
 Option 2 ID : 630680830626  
 Option 3 ID : 630680830624  
 Option 4 ID : 630680830625  
 Status : Not Answered  
 Chosen Option : --

Q.5 निम्नलिखित में से कौन-सा राजवंश प्रारंभ में कर्नाटक के चालुक्यों के अधीन था?

- Ans
- A. राष्ट्रकूट
  - B. गुर्जर प्रतिहार
  - C. सतवाहन
  - D. चेर

Question ID : 630680115391  
 Option 1 ID : 630680446917  
 Option 2 ID : 630680446914  
 Option 3 ID : 630680446916  
 Option 4 ID : 630680446915  
 Status : Not Answered  
 Chosen Option : --

Q.6 मानव विकास सूचकांक को मापने समय प्रत्येक आयाम को कितनी भारिता दी जाती है?

- Ans
- A.  $\frac{1}{3}$
  - B.  $\frac{1}{4}$
  - C.  $\frac{2}{3}$
  - D.  $\frac{1}{2}$

Question ID : 630680181836  
 Option 1 ID : 630680704579  
 Option 2 ID : 630680704580  
 Option 3 ID : 630680704581  
 Option 4 ID : 630680704578  
 Status : Not Answered  
 Chosen Option : --

Q.7 निम्नलिखित में से किसे 2021 में आर्मी इंस्टीट्यूट ऑफ टेक्नोलॉजी (सैन्य प्रौद्योगिकी संस्थान) द्वारा लाइफटाइम अचीवमेंट अवार्ड से सम्मानित किया गया?

- Ans  A. डॉ. रमन गंगाखेडकर  
 B. डॉ. लालजी सिंह  
 C. डॉ. एम. विजयन  
 D. डॉ. के.वी. सुब्बा राव

Question ID : 630680127552  
 Option 1 ID : 630680494470  
 Option 2 ID : 630680494468  
 Option 3 ID : 630680494469  
 Option 4 ID : 630680494471  
 Status : Not Answered  
 Chosen Option : --

Q.8 निम्नलिखित में से किसने सामाजिक सशक्तिकरण के लिए उत्तरदायी आर्टिफिशियल इंटेलिजेंस - 2020 (RAISE -2020) का आयोजन किया।

- Ans  A. अल्पसंख्यक मामलों का मंत्रालय  
 B. श्रम एवं रोजगार मंत्रालय  
 C. सामाजिक न्याय और अधिकारिता मंत्रालय  
 D. इलेक्ट्रॉनिक्स और प्रौद्योगिकी मंत्रालय

Question ID : 630680171522  
 Option 1 ID : 630680664539  
 Option 2 ID : 630680664542  
 Option 3 ID : 630680664540  
 Option 4 ID : 630680664541  
 Status : Not Answered  
 Chosen Option : --

Q.9 1879 में, एक कृत्रिम, या गैर-पोषक, मीठा करने वाले कारक (स्वीटनर) की खोज की गई थी जो सुक्रोज से लगभग 300-400 गुना अधिक मीठा होता है। उस स्वीटनर का नाम क्या है?

- Ans  A. सुक्रालोज  
 B. सैकरीन  
 C. एलिटेम  
 D. एस्पार्टेम

Question ID : 63068094223  
 Option 1 ID : 630680365589  
 Option 2 ID : 630680365588  
 Option 3 ID : 630680365590  
 Option 4 ID : 630680365587  
 Status : Not Answered  
 Chosen Option : --

Q.10 अरुणाचल प्रदेश में हिमालय की दिशा क्या है?

- Ans
- A. उत्तर पूर्व से दक्षिण पश्चिम
  - B. दक्षिण पश्चिम से उत्तर पश्चिम
  - C. दक्षिण पूर्व से उत्तर पूर्व
  - D. दक्षिण पश्चिम से उत्तर पूर्व

Question ID : 63068091352  
Option 1 ID : 630680354144  
Option 2 ID : 630680354143  
Option 3 ID : 630680354145  
Option 4 ID : 630680354142  
Status : Answered  
Chosen Option : C

Q.11 भारत सरकार ने भारतीय निर्यात-आयात बैंक अधिनियम, \_\_\_\_\_ के तहत एक्सिम (EXIM) बैंक की स्थापना की थी।

- Ans
- A. 1981
  - B. 1985
  - C. 1979
  - D. 1983

Question ID : 63068090293  
Option 1 ID : 630680349947  
Option 2 ID : 630680349949  
Option 3 ID : 630680349946  
Option 4 ID : 630680349948  
Status : Not Answered  
Chosen Option : --

Q.12 विजयनगर के निम्नलिखित में से किस शासक ने 'यवनराज्य स्थापनाचार्य' की उपाधि धारण की थी?

- Ans
- A. अच्युत देव राय
  - B. कृष्णदेव राय
  - C. सदाशिव राय
  - D. राम राय

Question ID : 630680214214  
Option 1 ID : 630680830904  
Option 2 ID : 630680830906  
Option 3 ID : 630680830905  
Option 4 ID : 630680830903  
Status : Not Answered  
Chosen Option : --

Q.13 निम्नलिखित में से किस नेता को 'पंजाब केसरी' या 'पंजाब का शेर' के नाम से भी जाना जाता था?

- Ans
- A. भगत सिंह
  - B. लाला हरदयाल
  - C. लाला लाजपत राय
  - D. अजीत सिंह

Question ID : 630680214233  
 Option 1 ID : 630680830981  
 Option 2 ID : 630680830979  
 Option 3 ID : 630680830980  
 Option 4 ID : 630680830982  
 Status : Answered  
 Chosen Option : C

Q.14 नालंदा महाविहार स्थल निम्नलिखित में से किस राज्य में स्थित है?

- Ans
- A. असम
  - B. बिहार
  - C. महाराष्ट्र
  - D. आंध्र प्रदेश

Question ID : 630680214122  
 Option 1 ID : 630680830537  
 Option 2 ID : 630680830538  
 Option 3 ID : 630680830535  
 Option 4 ID : 630680830536  
 Status : Answered  
 Chosen Option : B

Q.15 इंफ्रास्ट्रक्चर कनेक्टिविटी परियोजनाओं की एकीकृत योजना और समन्वित कार्यान्वयन के लिए रेलवे और रोडवेज सहित 16 मंत्रालयों को एक साथ लाने के लिए कौन सा डिजिटल प्लेटफॉर्म लॉन्च किया गया है?

- Ans
- A. पीएम गति शक्ति राष्ट्रीय मास्टर प्लान
  - B. अमृत परियोजना
  - C. प्रधानमंत्री आवास योजना
  - D. भारतमाला परियोजना

Question ID : 630680213957  
 Option 1 ID : 630680829876  
 Option 2 ID : 630680829875  
 Option 3 ID : 630680829877  
 Option 4 ID : 630680829878  
 Status : Not Answered  
 Chosen Option : --

Q.16 पं. विष्णु नारायण भातखंडे ने हिंदुस्तानी शास्त्रीय संगीत के रागों को कितने थाट में वर्गीकृत किया है?

- Ans  A. 10  
 B. 13  
 C. 7  
 D. 4

Question ID : 630680214171  
Option 1 ID : 630680830732  
Option 2 ID : 630680830731  
Option 3 ID : 630680830733  
Option 4 ID : 630680830734  
Status : Not Answered  
Chosen Option : --

Q.17 चोल साम्राज्य का संस्थापक निम्नलिखित में से कौन था?

- Ans  A. आदित्य प्रथम  
 B. राजेन्द्र प्रथम  
 C. राजाराज  
 D. विजयालय

Question ID : 630680127620  
Option 1 ID : 630680494739  
Option 2 ID : 630680494738  
Option 3 ID : 630680494737  
Option 4 ID : 630680494736  
Status : Answered  
Chosen Option : B

Q.18 राष्ट्रीय साक्षरता मिशन प्राधिकरण की स्थापना कब हुई थी?

- Ans  A. 1976 में  
 B. 1988 में  
 C. 1972 में  
 D. 1985 में

Question ID : 630680213953  
Option 1 ID : 630680829859  
Option 2 ID : 630680829862  
Option 3 ID : 630680829860  
Option 4 ID : 630680829861  
Status : Not Answered  
Chosen Option : --

Q.19 एलोरा का कैलाश मंदिर \_\_\_\_\_ वंश के शासक राजा कृष्ण I द्वारा बनवाया गया था।

- Ans
- A. परमार
  - B. गुर्जर-प्रतिहार
  - C. राष्ट्रकूट
  - D. पल्लव

Question ID : 630680158692  
 Option 1 ID : 630680614262  
 Option 2 ID : 630680614263  
 Option 3 ID : 630680614260  
 Option 4 ID : 630680614261  
 Status : Answered  
 Chosen Option : C

Q.20 निम्नलिखित में से कौन-सा अरुणाचल प्रदेश का प्रसिद्ध लोक-संगीत है, जो ज्यादातर शादियों के दौरान गाया जाता है?

- Ans
- A. निओगा
  - B. पनिहारी
  - C. सोहर
  - D. फुघरी

Question ID : 630680214174  
 Option 1 ID : 630680830745  
 Option 2 ID : 630680830744  
 Option 3 ID : 630680830743  
 Option 4 ID : 630680830746  
 Status : Not Answered  
 Chosen Option : --

Q.21 लंदन में आयोजित दूसरे गोलमेज सम्मेलन में भारतीय राष्ट्रीय कांग्रेस के निम्नलिखित में से किस नेता ने भाग लिया?

- Ans
- A. सरदार वल्लभभाई पटेल
  - B. जवाहर लाल नेहरू
  - C. डॉ. बाबासाहेब अम्बेडकर
  - D. महात्मा गांधी

Question ID : 630680214237  
 Option 1 ID : 630680830995  
 Option 2 ID : 630680830997  
 Option 3 ID : 630680830996  
 Option 4 ID : 630680830998  
 Status : Answered  
 Chosen Option : D

Q.22 निम्नलिखित में से कौन सा सिद्धांत भारतीय संविधान के अनुच्छेद 13 में उल्लिखित अभिव्यक्ति से संबंधित है, जिसके अनुसार एक कानून केवल "असंगतता या उल्लंघन की सीमा तक" शून्य होता है?

- Ans  A. प्राकृतिक न्याय का सिद्धांत  
 B. पृथक्करणीयता का सिद्धांत  
 C. छद्मता का सिद्धांत  
 D. संप्रभुता का सिद्धांत

Question ID : 630680146223  
 Option 1 ID : 630680565785  
 Option 2 ID : 630680565784  
 Option 3 ID : 630680565783  
 Option 4 ID : 630680565782  
 Status : Not Answered  
 Chosen Option : --

Q.23 चीन ने भारत के निम्नलिखित में से किस स्थान के समीप एक हवाई पट्टी का निर्माण किया है जो नवंबर 2022 में भारत के लिए एक सुरक्षा से संबंधित मुद्दा बन गया था?

- Ans  A. गोगरा  
 B. डोकलाम  
 C. गलवान  
 D. अक्साई चिन

Question ID : 630680170381  
 Option 1 ID : 630680660120  
 Option 2 ID : 630680660119  
 Option 3 ID : 630680660118  
 Option 4 ID : 630680660117  
 Status : Not Answered  
 Chosen Option : --

Q.24 निम्नलिखित में से कौन-सी तटीय झील केरल में स्थित है?

- Ans  A. कोल्लेरू  
 B. पुलिकट  
 C. वेम्बनाड  
 D. चिलिका

Question ID : 630680216301  
 Option 1 ID : 630680839180  
 Option 2 ID : 630680839179  
 Option 3 ID : 630680839182  
 Option 4 ID : 630680839181  
 Status : Answered  
 Chosen Option : A

Q.25 निम्नलिखित में से कौन-सा उद्योग और कृषि उत्पादन के प्रमुख क्षेत्रों में सहायक सेवाएं प्रदान करता है?

- Ans
- A. खनिज पदार्थ
  - B. उपभोग स्वरूप
  - C. क्षेत्रीय असंतुलन
  - D. अवसंरचना (इंफ्रास्ट्रक्चर)

Question ID : 630680181811  
 Option 1 ID : 630680704480  
 Option 2 ID : 630680704479  
 Option 3 ID : 630680704481  
 Option 4 ID : 630680704478  
 Status : Not Answered  
 Chosen Option : --

Section : Elementary Mathematics

Q.1 X, Y और Z की औसत आयु 18 वर्ष है। यदि X और Y की औसत आयु 24 वर्ष है और Y और Z की औसत आयु 30 वर्ष है, तो Y की आयु, वर्षों में ज्ञात करें।

- Ans
- A. 40
  - B. 48
  - C. 54
  - D. 60

Question ID : 630680119636  
 Option 1 ID : 630680463631  
 Option 2 ID : 630680463630  
 Option 3 ID : 630680463632  
 Option 4 ID : 630680463633  
 Status : Not Answered  
 Chosen Option : --

Q.2  $x$  के 1 से बड़ी कोई सम संख्या होने पर,  $x^{65} - x$  निम्न में से किससे सदैव विभाज्य होता है?

- Ans
- A. 8
  - B. 6
  - C. 9
  - D. 7

Question ID : 630680218020  
 Option 1 ID : 630680845988  
 Option 2 ID : 630680845990  
 Option 3 ID : 630680845987  
 Option 4 ID : 630680845989  
 Status : Not Answered  
 Chosen Option : --

Q.3 एक चालान पर 11% और 12% की क्रमागत छूट, \_\_\_\_\_ की एकल छूट के समान है।

- Ans
- A. 21.38%
  - B. 21.68%
  - C. 21.48%
  - D. 21.78%

Question ID : 630680121571  
 Option 1 ID : 630680471244  
 Option 2 ID : 630680471242  
 Option 3 ID : 630680471243  
 Option 4 ID : 630680471245  
 Status : Answered  
 Chosen Option : B

Q.4 दीपिका को 12 वर्षों के बाद 4% प्रति वर्ष की दर से एक निश्चित राशि पर साधारण ब्याज के रूप में ₹7,856 प्राप्त हुए। दीपिका द्वारा निवेश की गई राशि (₹ में) क्या है? (2 दशमलव स्थानों तक सही)

- Ans
- A. 16466.67
  - B. 16266.67
  - C. 16366.67
  - D. 16306.67

Question ID : 630680120211  
 Option 1 ID : 630680465879  
 Option 2 ID : 630680465880  
 Option 3 ID : 630680465881  
 Option 4 ID : 630680465878  
 Status : Answered  
 Chosen Option : C

Q.5 सारा के वेतन में पहले 50% की कमी की जाती है और बाद में 50% की वृद्धि की जाती है। उसके प्रारंभिक वेतन से उसका अंतिम वेतन कितना कम था?

- Ans
- A. 32%
  - B. 25%
  - C. 24%
  - D. 21%

Question ID : 630680220605  
 Option 1 ID : 630680856272  
 Option 2 ID : 630680856271  
 Option 3 ID : 630680856270  
 Option 4 ID : 630680856269  
 Status : Answered  
 Chosen Option : B

Q.6 एक बेलन का वक्र पृष्ठीय क्षेत्रफल  $792 \text{ m}^2$  है और इसका आयतन  $2,772 \text{ m}^3$  है। इसके आधार की त्रिज्या ज्ञात करें।

- Ans
- A. 21 m
  - B. 3.5 m
  - C. 7 m
  - D. 14 m

Question ID : 630680220930  
 Option 1 ID : 630680857572  
 Option 2 ID : 630680857569  
 Option 3 ID : 630680857571  
 Option 4 ID : 630680857570  
 Status : Not Answered  
 Chosen Option : --

Q.7 P, Q और R का औसत भार 55 kg है। यदि P और Q का औसत भार 60 kg और Q तथा R का औसत भार 23 kg है, तो Q का भार ज्ञात कीजिए।

- Ans
- A. 1 g
  - B. 10 g
  - C. 100 g
  - D. 1000 g

Question ID : 630680121562  
 Option 1 ID : 630680471206  
 Option 2 ID : 630680471208  
 Option 3 ID : 630680471207  
 Option 4 ID : 630680471209  
 Status : Not Answered  
 Chosen Option : --

Q.8 औसत की गणना करने के लिए सूत्र क्या है?

- Ans
- A.  $\frac{\text{प्रेक्षणों का गुणन}}{\text{प्रेक्षणों का योग}}$
  - B.  $\frac{\text{प्रेक्षणों का योग}}{\text{प्रेक्षणों की संख्या}}$
  - C.  $\frac{\text{प्रेक्षणों का योग}}{\text{प्रेक्षणों का गुणन}}$
  - D.  $\frac{\text{प्रेक्षणों की संख्या}}{\text{प्रेक्षणों का योग}}$

Question ID : 630680131673  
 Option 1 ID : 630680509902  
 Option 2 ID : 630680509904  
 Option 3 ID : 630680509903  
 Option 4 ID : 630680509905  
 Status : Answered  
 Chosen Option : B

Q.9 दिए गए समीकरण का मान ज्ञात किजिए।

$$\frac{3}{8} \times \frac{7}{57} \text{ of } \frac{19}{3} \div \frac{1}{3} = ?$$

$$\frac{5}{8} \times \frac{7}{51} \text{ of } \frac{17}{5} \div \frac{2}{3}$$

Ans  A. 2

B.  $\frac{5}{7}$

C. 3

D.  $\frac{3}{4}$

Question ID : 630680220247  
Option 1 ID : 630680854859  
Option 2 ID : 630680854861  
Option 3 ID : 630680854862  
Option 4 ID : 630680854860  
Status : Answered  
Chosen Option : A

Q.10 एक बॉक्स का आयाम 9 cm, 6 cm और 2 cm है। बॉक्स के अंदर रखी जा सकने वाली छड़ी का सबसे बड़ा आकार क्या होगा?

Ans  A. 11 cm

B. 10 cm

C. 15 cm

D. 9 cm

Question ID : 63068070068  
Option 1 ID : 630680270913  
Option 2 ID : 630680270911  
Option 3 ID : 630680270912  
Option 4 ID : 630680270910  
Status : Not Answered  
Chosen Option : --

Q.11 एक विक्रेता को 30 आम बेचने पर 10 आमों के विक्रय मूल्य की हानि होती है। उसका हानि प्रतिशत ज्ञात कीजिए।

Ans  A. 20%

B. 35%

C. 25%

D. 15%

Question ID : 630680121569  
Option 1 ID : 630680471234  
Option 2 ID : 630680471237  
Option 3 ID : 630680471235  
Option 4 ID : 630680471236  
Status : Answered  
Chosen Option : C

Q.12 एक शंकु की ऊँचाई 16.8 cm और उसके आधार की त्रिज्या 4.2 cm है। इसे पिघलाकर एक गोले के रूप में ढाला जाता है। गोले का पृष्ठीय क्षेत्रफल ज्ञात करें।

- Ans
- A.  $335.64 \text{ cm}^2$
  - B.  $441.55 \text{ cm}^2$
  - C.  $221.76 \text{ cm}^2$
  - D.  $331.44 \text{ cm}^2$

Question ID : 630680110264  
 Option 1 ID : 630680427414  
 Option 2 ID : 630680427413  
 Option 3 ID : 630680427411  
 Option 4 ID : 630680427412  
 Status : Not Answered  
 Chosen Option : --

Q.13 यदि दो वस्तुओं का योग उनके अंतर के पाँच गुना के बराबर है, तो दोनों वस्तुओं का अनुपात \_\_\_\_\_ है।

- Ans
- A. 2:3
  - B. 3:2
  - C. 1:2
  - D. 2:1

Question ID : 630680137019  
 Option 1 ID : 630680530676  
 Option 2 ID : 630680530677  
 Option 3 ID : 630680530675  
 Option 4 ID : 630680530674  
 Status : Not Answered  
 Chosen Option : --

Q.14  $5544 \text{ cm}^2$  पृष्ठीय क्षेत्रफल वाले एक गोले की सतह पर पड़े सबसे बड़े वृत्त का व्यास कितना है?

- Ans
- A.  $9\sqrt{7} \text{ cm}$
  - B. 21 cm
  - C. 42 cm
  - D.  $7\sqrt{7} \text{ cm}$

Question ID : 630680108543  
 Option 1 ID : 630680421130  
 Option 2 ID : 630680421131  
 Option 3 ID : 630680421129  
 Option 4 ID : 630680421128  
 Status : Not Answered  
 Chosen Option : --

Q.15 एक व्यक्ति 14 घंटे में एक यात्रा पूरी कर सकता है। वह यात्रा का पहला एक तिहाई भाग 40 km/h की चाल से और शेष दूरी 60 km/h की चाल से तय करता है। उसकी यात्रा की कुल दूरी कितनी है?

- Ans
- A. 480 km
  - B. 540 km
  - C. 720 km
  - D. 360 km

Question ID : 630680206529  
 Option 1 ID : 630680800724  
 Option 2 ID : 630680800725  
 Option 3 ID : 630680800726  
 Option 4 ID : 630680800723  
 Status : Answered  
 Chosen Option : B

Q.16 11 cm किनारे (भुजा) वाले दो घनों को एक सिरे से दूसरे सिरे तक जोड़ा गया है। परिणामी घनाभ का पृष्ठीय क्षेत्रफल ज्ञात करें।

- Ans
- A. 144 cm<sup>2</sup>
  - B. 3,456 cm<sup>2</sup>
  - C. 14.40 cm<sup>2</sup>
  - D. 1,210 cm<sup>2</sup>

Question ID : 630680105284  
 Option 1 ID : 630680409212  
 Option 2 ID : 630680409213  
 Option 3 ID : 630680409211  
 Option 4 ID : 630680409214  
 Status : Not Answered  
 Chosen Option : --

Q.17 यदि  $a^x = b^y = c^z$  और  $c^2 = ab$  है, तो  $z = ?$

- Ans
- A.  $\frac{xy}{x+y}$
  - B.  $\frac{x+y}{xy}$
  - C.  $\frac{2xy}{x+y}$
  - D.  $\frac{x+y}{2xy}$

Question ID : 63068070643  
 Option 1 ID : 630680273195  
 Option 2 ID : 630680273197  
 Option 3 ID : 630680273196  
 Option 4 ID : 630680273194  
 Status : Not Answered  
 Chosen Option : --

Q.18 दो घनों के आयतन 8 : 27 के अनुपात में हैं। उनके पृष्ठीय क्षेत्रफलों का अनुपात ज्ञात कीजिए।

- Ans  A. 4 : 9  
 B. 2 : 3  
 C. 9 : 4  
 D. 3 : 2

Question ID : 630680108227  
 Option 1 ID : 630680419971  
 Option 2 ID : 630680419969  
 Option 3 ID : 630680419970  
 Option 4 ID : 630680419968  
 Status : Answered  
 Chosen Option : A

Q.19 एक महिला के व्यय और बचत का अनुपात 2 : 1 है। यदि उसकी आय और व्यय में क्रमशः 18% और 12% की वृद्धि होती है, तो उसकी बचत में होने वाली प्रतिशत वृद्धि ज्ञात कीजिए।

- Ans  A. 30%  
 B. 25%  
 C. 35%  
 D. 38%

Question ID : 630680108885  
 Option 1 ID : 630680422433  
 Option 2 ID : 630680422432  
 Option 3 ID : 630680422434  
 Option 4 ID : 630680422435  
 Status : Answered  
 Chosen Option : A

Q.20 A और B एक साथ काम करते हुए एक काम को 5 दिनों में कर सकते हैं, जबकि C और D एक साथ काम करते हुए उसी काम को 4 दिनों में कर सकते हैं। यदि वे सभी एक साथ काम करते हैं, तो काम कितने दिनों में पूरा हो जाएगा?

- Ans  A.  $\frac{20}{9}$   
 B.  $\frac{19}{9}$   
 C.  $\frac{20}{8}$   
 D. 2

Question ID : 630680121178  
 Option 1 ID : 630680469675  
 Option 2 ID : 630680469674  
 Option 3 ID : 630680469676  
 Option 4 ID : 630680469677  
 Status : Answered  
 Chosen Option : A

Q.21 एक खिलौने की कीमत में पहले 10% की वृद्धि की जाती है और बाद में बिक्री में कमी के कारण क्रमिक तरीके से 30% की कमी की जाती है। खिलौने का अंतिम मूल्य ज्ञात कीजिए।

- Ans
- A. RS.82
  - B. RS.30
  - C. RS.77
  - D. RS.75

Question ID : 630680108763  
 Option 1 ID : 630680421967  
 Option 2 ID : 630680421965  
 Option 3 ID : 630680421964  
 Option 4 ID : 630680421966  
 Status : Answered  
 Chosen Option : C

Q.22 रानी और रीता ने क्रमशः ₹50,000 और ₹15,000 का निवेश करके एक व्यवसाय शुरू किया। 2 वर्ष बाद लाभ को रानी और रीता के बीच किस अनुपात में विभाजित किया जाना चाहिए?

- Ans
- A. 4 : 3
  - B. 10 : 7
  - C. 5 : 3
  - D. 10 : 3

Question ID : 630680131484  
 Option 1 ID : 630680509182  
 Option 2 ID : 630680509185  
 Option 3 ID : 630680509183  
 Option 4 ID : 630680509184  
 Status : Answered  
 Chosen Option : D

Q.23 0.28,  $\frac{\quad}{25}$  के बराबर है।

- Ans
- A.  $\frac{13}{25}$
  - B.  $\frac{9}{25}$
  - C.  $\frac{8}{25}$
  - D.  $\frac{7}{25}$

Question ID : 630680220269  
 Option 1 ID : 630680854941  
 Option 2 ID : 630680854942  
 Option 3 ID : 630680854943  
 Option 4 ID : 630680854944  
 Status : Answered  
 Chosen Option : D

Q.24 एक आयत की लंबाई और चौड़ाई का अनुपात 4 : 3 है। यदि इसका परिमाप 154 cm है, तो इसकी चौड़ाई ज्ञात कीजिए।

- Ans  A. 33 cm  
 B. 44 cm  
 C. 11 cm  
 D. 22 cm

Question ID : 630680120028  
 Option 1 ID : 630680465146  
 Option 2 ID : 630680465147  
 Option 3 ID : 630680465149  
 Option 4 ID : 630680465148  
 Status : Not Answered  
 Chosen Option : --

Q.25 एक संवृत बेलन के आधार का व्यास 16 m है और इसकी ऊंचाई 6 m है। बेलन का कुल पृष्ठीय क्षेत्रफल ज्ञात कीजिए। ( $\pi = \frac{22}{7}$  का प्रयोग कीजिए)

- Ans  A. 700 m<sup>2</sup>  
 B. 712 m<sup>2</sup>  
 C. 704 m<sup>2</sup>  
 D. 708 m<sup>2</sup>

Question ID : 630680111175  
 Option 1 ID : 630680430526  
 Option 2 ID : 630680430529  
 Option 3 ID : 630680430527  
 Option 4 ID : 630680430528  
 Status : Answered  
 Chosen Option : C

Section : English

Q.1 Select the option that can be used as a one-word substitute for the given phrase.  
 An extremely self-centred person with an exaggerated sense of self-worth

- Ans  A. Optimist  
 B. Altruist  
 C. Narcissist  
 D. Anarchist

Question ID : 630680113805  
 Option 1 ID : 630680440748  
 Option 2 ID : 630680440746  
 Option 3 ID : 630680440747  
 Option 4 ID : 630680440749  
 Status : Not Answered  
 Chosen Option : --

Q.2 Identify the correct spelling of the incorrectly spelt word in the given sentence.

I failed this semester, so now I am back to the drawing board .

- Ans
- A. semesster
  - B. semester
  - C. semaster
  - D. semisiter

Question ID : 630680132850  
Option 1 ID : 630680514466  
Option 2 ID : 630680514467  
Option 3 ID : 630680514469  
Option 4 ID : 630680514468  
Status : Not Answered  
Chosen Option : --

Q.3 The following sentence has been split into four segments. Identify the segment that contains a grammatical error.

My grandfather first read / the preamble in 1950 / and has remembered / it since ever.

- Ans
- A. it since ever
  - B. the preamble in 1950
  - C. My grandfather first read
  - D. and has remembered

Question ID : 630680126812  
Option 1 ID : 630680491769  
Option 2 ID : 630680491767  
Option 3 ID : 630680491766  
Option 4 ID : 630680491768  
Status : Not Answered  
Chosen Option : --

Q.4 The following sentence has been split into four segments. Identify the segment that contains a grammatical error.

My grandmother is / abroad, so my / grandfather is staying / with us from the moment.

- Ans
- A. My grandmother is
  - B. abroad, so my
  - C. with us from the moment
  - D. grandfather is staying

Question ID : 630680160870  
Option 1 ID : 630680622852  
Option 2 ID : 630680622853  
Option 3 ID : 630680622855  
Option 4 ID : 630680622854  
Status : Not Answered  
Chosen Option : --

Q.5 Select the most appropriate meaning of the given idiom.  
To take the bull by the horns

- Ans
- A. To be very angry
  - B. To behave with an indifferent attitude
  - C. To face the danger boldly
  - D. To be quickly defeated

Question ID : 630680156979  
Option 1 ID : 630680607486  
Option 2 ID : 630680607484  
Option 3 ID : 630680607485  
Option 4 ID : 630680607487  
Status : Not Answered  
Chosen Option : --

Q.6 Which of the underlined parts of the given sentence is an INCORRECT way of using a verb?

He had heard the automobile's tyres thrumming, the horn was hooting and the brakes howling.

- Ans
- A. thrumming
  - B. was hooting
  - C. had heard
  - D. howling

Question ID : 630680140175  
Option 1 ID : 630680542535  
Option 2 ID : 630680542536  
Option 3 ID : 630680542534  
Option 4 ID : 630680542537  
Status : Not Answered  
Chosen Option : --

Q.7 Select the option that can be used as a one-word substitute for the given group of words.  
The quality or state of being likely to occur

- Ans
- A. Rationality
  - B. Sagacity
  - C. Realistically
  - D. Plausibility

Question ID : 630680162044  
Option 1 ID : 630680627487  
Option 2 ID : 630680627484  
Option 3 ID : 630680627485  
Option 4 ID : 630680627486  
Status : Not Answered  
Chosen Option : --

Q.8 Select the most appropriate ANTONYM of the given word.  
Abolish

- Ans  A. Accomplish  
 B. Riddance  
 C. Establish  
 D. Eliminate

Question ID : 630680167004  
Option 1 ID : 630680646879  
Option 2 ID : 630680646877  
Option 3 ID : 630680646878  
Option 4 ID : 630680646876  
Status : Not Answered  
Chosen Option : --

Q.9 Sentences of a paragraph are given below in jumbled order. Arrange the sentences in the correct order to form a meaningful and coherent paragraph.

- A. Well, that number is calculated by taking the water density of a cloud and multiplying it by its volume.  
B. Clouds are not as light and fluffy as they appear.  
C. Fortunately, the cloud can still 'float' at that weight because the air below it is even heavier.  
D. In fact, researchers have found that a single cloud weighs about 1.1 million pounds.

- Ans  A. BDCA  
 B. BDAC  
 C. BADC  
 D. BCAD

Question ID : 630680204450  
Option 1 ID : 630680792868  
Option 2 ID : 630680792867  
Option 3 ID : 630680792869  
Option 4 ID : 630680792870  
Status : Not Answered  
Chosen Option : --

Q.10 Sentences of a paragraph are given below in jumbled order. Arrange the sentences in the correct order to form a meaningful and coherent paragraph.

- A. It assumes the individuality of a complete act executed with perfection; material achievements do not define life.
- B. Success is not restricted within some kind of brick and mortar premises.
- C. The abundance of positive attitude underlines the grandeur of a truly rewarding rich life.
- D. We don't remember sports stars for the products they endorse but the spirit of achievement they represent.

Ans  A. BADC

B. CBAD

C. ABCD

D. DABC

Question ID : 630680209309  
 Option 1 ID : 630680811451  
 Option 2 ID : 630680811454  
 Option 3 ID : 630680811453  
 Option 4 ID : 630680811452  
 Status : Not Answered  
 Chosen Option : --

Q.11 Select the most appropriate meaning of the given proverb.  
 A man who is his own lawyer has a fool for a client.

Ans  A. Lawyers fool their clients.

B. Too much knowledge is not good for self and client.

C. One should take his own decisions, no matter what.

D. Self-representation in court is likely to end badly.

Question ID : 630680162033  
 Option 1 ID : 630680627440  
 Option 2 ID : 630680627442  
 Option 3 ID : 630680627443  
 Option 4 ID : 630680627441  
 Status : Not Answered  
 Chosen Option : --

Q.12 Select the most appropriate ANTONYM of the given word.  
 Evade

Ans  A. Glorify

B. Confront

C. Collapse

D. Counsel

Question ID : 630680167663  
 Option 1 ID : 630680649281  
 Option 2 ID : 630680649280  
 Option 3 ID : 630680649282  
 Option 4 ID : 630680649283  
 Status : Not Answered  
 Chosen Option : --

Q.13 Sentences of a paragraph are given below in jumbled order. Arrange the sentences in the correct order to form a meaningful and coherent paragraph.

- A. After the British took power in India, they dumped India's education model in India but implemented it in their own country.
- B. At that time, as per the education system prevalent in England, their literacy rate was around 17 percent.
- C. Before British rulers dominated this country, 70 percent of India's population was literate and educated.
- D. And on the basis of that education, everyone used to find ways to earn their livelihood and unemployment was almost negligible.

- Ans
- A. BCDA
  - B. DABC
  - C. CDBA
  - D. ADBC

Question ID : 630680204416  
 Option 1 ID : 630680792750  
 Option 2 ID : 630680792748  
 Option 3 ID : 630680792749  
 Option 4 ID : 630680792747  
 Status : Not Answered  
 Chosen Option : --

Q.14 Select the correctly spelt word.

- Ans
- A. Falicious
  - B. Falacious
  - C. Fallascious
  - D. Fallacious

Question ID : 630680160075  
 Option 1 ID : 630680619684  
 Option 2 ID : 630680619686  
 Option 3 ID : 630680619687  
 Option 4 ID : 630680619685  
 Status : Not Answered  
 Chosen Option : --

Q.15 Sentences of a paragraph are given below in jumbled order. Arrange the sentences in the correct order to form a meaningful and coherent paragraph.

- A. The world has already learned with birds.
- B. One ecologist found that bird feeding goes back at least 3,500 years.
- C. Animals don't need much to get cozy in our backyards and balconies.
- D. Birdhouses and bird feeders are so thoroughly part of human culture.

- Ans
- A. CABD
  - B. DACB
  - C. CDBA
  - D. BCDA

Question ID : 630680204967  
 Option 1 ID : 630680794731  
 Option 2 ID : 630680794733  
 Option 3 ID : 630680794734  
 Option 4 ID : 630680794732  
 Status : Not Answered  
 Chosen Option : --

Q.16 Select the option that can be used as a one-word substitute for the given group of words.

The study of human race, its culture and society and its physical development, concerning human body, behaviour and linguistics

- Ans
- A. Sociology
  - B. Anthropology
  - C. Biology
  - D. Zoology

Question ID : 630680130667  
Option 1 ID : 630680505965  
Option 2 ID : 630680505964  
Option 3 ID : 630680505963  
Option 4 ID : 630680505962  
Status : Not Answered  
Chosen Option : --

Q.17 Select the INCORRECTLY spelt word.

- Ans
- A. Basically
  - B. Challenge
  - C. Condemn
  - D. Enviroment

Question ID : 630680129320  
Option 1 ID : 630680500898  
Option 2 ID : 630680500899  
Option 3 ID : 630680500900  
Option 4 ID : 630680500901  
Status : Not Answered  
Chosen Option : --

Q.18 Select the INCORRECTLY spelt word.

- Ans
- A. Criterion
  - B. Excursion
  - C. Coercion
  - D. Stratification

Question ID : 630680172404  
Option 1 ID : 630680668041  
Option 2 ID : 630680668042  
Option 3 ID : 630680668040  
Option 4 ID : 630680668043  
Status : Not Answered  
Chosen Option : --

Q.19 Select the most appropriate synonym of the given word.

Meticulous

Ans  A. Mindful

B. Slim

C. Unsafe

D. Hefty

Question ID : 630680204394

Option 1 ID : 630680792660

Option 2 ID : 630680792659

Option 3 ID : 630680792662

Option 4 ID : 630680792661

Status : Not Answered

Chosen Option : --

Q.20 Select the most appropriate synonym of the underlined word in the following sentence.

Always pursue your dreams with utmost dedication.

Ans  A. Reprove

B. Shun

C. Follow

D. Avoid

Question ID : 630680130680

Option 1 ID : 630680506017

Option 2 ID : 630680506016

Option 3 ID : 630680506015

Option 4 ID : 630680506014

Status : Not Answered

Chosen Option : --

Adda247

**Comprehension:**

Read the given passage and answer the questions that follow.

Macbeth is a tragedy that tells the story of a soldier whose overriding ambition and thirst for power cause him to abandon his morals and bring about the near destruction of the kingdom he seeks to rule. At first, the conflict is between Macbeth and himself, as he debates whether or not he will violently seize power, and between Macbeth and his wife, as Lady Macbeth urges her husband toward a course of action he is hesitant to take.

Once Macbeth stops struggling against his ambition, the conflict shifts. It then primarily exists between Macbeth and the other characters, in particular Banquo and Macduff, who challenge his authority. Macbeth is the protagonist in the sense that he is the main focus of the narrative and that audiences frequently have access to his point of view. However, as he often acts against his own best interests, as well as the best interests of the other characters and his country, he is also the antagonist. The characters who oppose Macbeth and eventually defeat him do so in order to restore order and justice.

The play actually opens with the consequences of someone else's ambition. In the first scene, audiences hear about the bloody conflict that resulted from the rebellion led by the Thane of Cawdor. The rebellion foreshadows the consequences of overreaching one's role. The conflict is initiated when Macbeth encounters the witches who prophesied that he will become first the Thane of Cawdor, and then the King of Scotland. As soon as he learns that their first prophecy has come true, he is awakened to the possibility of the second also being realized. As Macbeth marvels to himself, 'Two truths are told / As happy prologues to the swelling act / Of the imperial theme'.

In a crucial turning point in the play, Macbeth is faced with a choice: to take decisive action to claim the crown as his own, or to simply wait and see what happens. Every choice he makes, and everything that happens for the rest of the play stem from his decision here. Macbeth feels ambivalence, as he wants to be king but also knows that he owes Duncan loyalty both 'as his kinsman and as his subject'.

SubQuestion No : 21

Q.21 Select the most appropriate synonym of the word 'ambition'.

- Ans
- A. Eagerness
  - B. Spirit
  - C. Enterprise
  - D. Aspiration

Question ID : 630680209318

Option 1 ID : 630680811483

Option 2 ID : 630680811486

Option 3 ID : 630680811485

Option 4 ID : 630680811484

Status : Not Answered

Chosen Option : --

**Comprehension:**

Read the given passage and answer the questions that follow.

Macbeth is a tragedy that tells the story of a soldier whose overriding ambition and thirst for power cause him to abandon his morals and bring about the near destruction of the kingdom he seeks to rule. At first, the conflict is between Macbeth and himself, as he debates whether or not he will violently seize power, and between Macbeth and his wife, as Lady Macbeth urges her husband toward a course of action he is hesitant to take.

Once Macbeth stops struggling against his ambition, the conflict shifts. It then primarily exists between Macbeth and the other characters, in particular Banquo and Macduff, who challenge his authority. Macbeth is the protagonist in the sense that he is the main focus of the narrative and that audiences frequently have access to his point of view. However, as he often acts against his own best interests, as well as the best interests of the other characters and his country, he is also the antagonist. The characters who oppose Macbeth and eventually defeat him do so in order to restore order and justice.

The play actually opens with the consequences of someone else's ambition. In the first scene, audiences hear about the bloody conflict that resulted from the rebellion led by the Thane of Cawdor. The rebellion foreshadows the consequences of overreaching one's role. The conflict is initiated when Macbeth encounters the witches who prophesied that he will become first the Thane of Cawdor, and then the King of Scotland. As soon as he learns that their first prophecy has come true, he is awakened to the possibility of the second also being realized. As Macbeth marvels to himself, 'Two truths are told / As happy prologues to the swelling act / Of the imperial theme'.

In a crucial turning point in the play, Macbeth is faced with a choice: to take decisive action to claim the crown as his own, or to simply wait and see what happens. Every choice he makes, and everything that happens for the rest of the play stem from his decision here. Macbeth feels ambivalence, as he wants to be king but also knows that he owes Duncan loyalty both 'as his kinsman and as his subject'.

SubQuestion No : 22

Q.22 Identify the central theme of the passage.

- Ans
- A. Macbeth's foolery
  - B. Macbeth as the King
  - C. Macbeth's fall
  - D. Macbeth's ambition

Question ID : 630680209314

Option 1 ID : 630680811469

Option 2 ID : 630680811468

Option 3 ID : 630680811467

Option 4 ID : 630680811470

Status : Not Answered

Chosen Option : --

**Comprehension:**

Read the given passage and answer the questions that follow.

Macbeth is a tragedy that tells the story of a soldier whose overriding ambition and thirst for power cause him to abandon his morals and bring about the near destruction of the kingdom he seeks to rule. At first, the conflict is between Macbeth and himself, as he debates whether or not he will violently seize power, and between Macbeth and his wife, as Lady Macbeth urges her husband toward a course of action he is hesitant to take.

Once Macbeth stops struggling against his ambition, the conflict shifts. It then primarily exists between Macbeth and the other characters, in particular Banquo and Macduff, who challenge his authority. Macbeth is the protagonist in the sense that he is the main focus of the narrative and that audiences frequently have access to his point of view. However, as he often acts against his own best interests, as well as the best interests of the other characters and his country, he is also the antagonist. The characters who oppose Macbeth and eventually defeat him do so in order to restore order and justice.

The play actually opens with the consequences of someone else's ambition. In the first scene, audiences hear about the bloody conflict that resulted from the rebellion led by the Thane of Cawdor. The rebellion foreshadows the consequences of overreaching one's role. The conflict is initiated when Macbeth encounters the witches who prophesied that he will become first the Thane of Cawdor, and then the King of Scotland. As soon as he learns that their first prophecy has come true, he is awakened to the possibility of the second also being realized. As Macbeth marvels to himself, 'Two truths are told / As happy prologues to the swelling act / Of the imperial theme'.

In a crucial turning point in the play, Macbeth is faced with a choice: to take decisive action to claim the crown as his own, or to simply wait and see what happens. Every choice he makes, and everything that happens for the rest of the play stem from his decision here. Macbeth feels ambivalence, as he wants to be king but also knows that he owes Duncan loyalty both 'as his kinsman and as his subject'.

SubQuestion No : 23

Q.23 What is the tone of the passage?

- Ans
- A. Romantic
  - B. Passive
  - C. Anxious
  - D. Dramatic

Question ID : 630680209317

Option 1 ID : 630680811482

Option 2 ID : 630680811480

Option 3 ID : 630680811481

Option 4 ID : 630680811479

Status : Not Answered

Chosen Option : --

**Comprehension:**

Read the given passage and answer the questions that follow.

Macbeth is a tragedy that tells the story of a soldier whose overriding ambition and thirst for power cause him to abandon his morals and bring about the near destruction of the kingdom he seeks to rule. At first, the conflict is between Macbeth and himself, as he debates whether or not he will violently seize power, and between Macbeth and his wife, as Lady Macbeth urges her husband toward a course of action he is hesitant to take.

Once Macbeth stops struggling against his ambition, the conflict shifts. It then primarily exists between Macbeth and the other characters, in particular Banquo and Macduff, who challenge his authority. Macbeth is the protagonist in the sense that he is the main focus of the narrative and that audiences frequently have access to his point of view. However, as he often acts against his own best interests, as well as the best interests of the other characters and his country, he is also the antagonist. The characters who oppose Macbeth and eventually defeat him do so in order to restore order and justice.

The play actually opens with the consequences of someone else's ambition. In the first scene, audiences hear about the bloody conflict that resulted from the rebellion led by the Thane of Cawdor. The rebellion foreshadows the consequences of overreaching one's role. The conflict is initiated when Macbeth encounters the witches who prophesied that he will become first the Thane of Cawdor, and then the King of Scotland. As soon as he learns that their first prophecy has come true, he is awakened to the possibility of the second also being realized. As Macbeth marvels to himself, 'Two truths are told / As happy prologues to the swelling act / Of the imperial theme'.

In a crucial turning point in the play, Macbeth is faced with a choice: to take decisive action to claim the crown as his own, or to simply wait and see what happens. Every choice he makes, and everything that happens for the rest of the play stem from his decision here. Macbeth feels ambivalence, as he wants to be king but also knows that he owes Duncan loyalty both 'as his kinsman and as his subject'.

SubQuestion No : 24

Q.24 What tool does Macbeth seem to employ to seize the crown and the throne?

- Ans
- A. Peaceful protest
  - B. Negotiation
  - C. Strategy
  - D. Violence

Question ID : 630680209316

Option 1 ID : 630680811478

Option 2 ID : 630680811475

Option 3 ID : 630680811477

Option 4 ID : 630680811476

Status : Not Answered

Chosen Option : --

**Comprehension:**

Read the given passage and answer the questions that follow.

Macbeth is a tragedy that tells the story of a soldier whose overriding ambition and thirst for power cause him to abandon his morals and bring about the near destruction of the kingdom he seeks to rule. At first, the conflict is between Macbeth and himself, as he debates whether or not he will violently seize power, and between Macbeth and his wife, as Lady Macbeth urges her husband toward a course of action he is hesitant to take.

Once Macbeth stops struggling against his ambition, the conflict shifts. It then primarily exists between Macbeth and the other characters, in particular Banquo and Macduff, who challenge his authority. Macbeth is the protagonist in the sense that he is the main focus of the narrative and that audiences frequently have access to his point of view. However, as he often acts against his own best interests, as well as the best interests of the other characters and his country, he is also the antagonist. The characters who oppose Macbeth and eventually defeat him do so in order to restore order and justice.

The play actually opens with the consequences of someone else's ambition. In the first scene, audiences hear about the bloody conflict that resulted from the rebellion led by the Thane of Cawdor. The rebellion foreshadows the consequences of overreaching one's role. The conflict is initiated when Macbeth encounters the witches who prophesied that he will become first the Thane of Cawdor, and then the King of Scotland. As soon as he learns that their first prophecy has come true, he is awakened to the possibility of the second also being realized. As Macbeth marvels to himself, 'Two truths are told / As happy prologues to the swelling act / Of the imperial theme'.

In a crucial turning point in the play, Macbeth is faced with a choice: to take decisive action to claim the crown as his own, or to simply wait and see what happens. Every choice he makes, and everything that happens for the rest of the play stem from his decision here. Macbeth feels ambivalence, as he wants to be king but also knows that he owes Duncan loyalty both 'as his kinsman and as his subject'.

SubQuestion No : 25

Q.25 What do the three witches promise Macbeth?

- Ans  A. He will become the Thane of Cawdor and then the King of Scotland.  
 B. He will become the King of Scotland first and the Thane of Cawdor Second.  
 C. He will become the King of Scotland.  
 D. He will become the Thane of Cawdor.

Question ID : 630680209315  
 Option 1 ID : 630680811474  
 Option 2 ID : 630680811473  
 Option 3 ID : 630680811472  
 Option 4 ID : 630680811471  
 Status : Not Answered  
 Chosen Option : --

Section : Hindi

Q.1 निम्नलिखित में से कौन सा एक वाक्य 'प्रश्रवाचक सर्वनाम' से सम्बंधित नहीं है?

- Ans  A. इस थैले में क्या है?  
 B. यह कौन सी भाषा है?  
 C. किशन का मकान कौन-सा है?  
 D. सबकी अपनी-अपनी मजदूरियाँ थीं?

Question ID : 630680123284  
 Option 1 ID : 630680478029  
 Option 2 ID : 630680478027  
 Option 3 ID : 630680478028  
 Option 4 ID : 630680478026  
 Status : Answered  
 Chosen Option : D

Q.2 'वाणी' शब्द का पर्यायवाची शब्द पहचानिए।

- Ans  A. कृष्णा  
 B. भारती  
 C. सत्ता  
 D. अम्मा

Question ID : 630680129025  
 Option 1 ID : 630680499728  
 Option 2 ID : 630680499726  
 Option 3 ID : 630680499729  
 Option 4 ID : 630680499727  
 Status : Answered  
 Chosen Option : B

Q.3 विकल्पों में से तत्सम स्त्री लिंग शब्द चयन करके वाक्य पूर्ण कीजिए।  
 शोधार्थी की \_\_\_\_\_ से परीक्षक प्रसन्न हो गए।

- Ans  A. पर्यवेक्षण  
 B. गवेषणा  
 C. प्रतिलिपि  
 D. परिशोध

Question ID : 630680198494  
 Option 1 ID : 630680769938  
 Option 2 ID : 630680769936  
 Option 3 ID : 630680769937  
 Option 4 ID : 630680769935  
 Status : Answered  
 Chosen Option : B

Q.4 निम्न में से कौन सा वाक्य बहुब्रीह समस का सही उदाहरण है? चयन कीजिये-

- Ans  A. दाँत टूट जाने से यह एकदंत हो गया है।  
 B. त्रिनेत्र ने कामदेव को भस्म कर दिया  
 C. असे! यह प्रतिमा तो चतुरानन है।  
 D. शिव के त्रिनेत्र को देखकर कामदेव भस्म हो गया।

Question ID : 630680126446  
 Option 1 ID : 630680490370  
 Option 2 ID : 630680490372  
 Option 3 ID : 630680490373  
 Option 4 ID : 630680490371  
 Status : Answered  
 Chosen Option : C

Q.5 'चिराग तले अंधेरा' लोकोक्ति का सही अर्थ इनमें से क्या होगा?

- Ans
- A. नजदीक का उजाला
  - B. पास की महत्वपूर्ण वस्तु
  - C. अपनी बुराई दिखाई न देना
  - D. चिराग में तेल कम होना

Question ID : 630680214267  
 Option 1 ID : 630680831117  
 Option 2 ID : 630680831115  
 Option 3 ID : 630680831116  
 Option 4 ID : 630680831118  
 Status : Answered  
 Chosen Option : C

Q.6 वह कवि जो तुरंत कविता कर डालता हो - वाक्यांश के लिए सही शब्द का चयन करे।

- Ans
- A. आशुकवि
  - B. कवियित्री
  - C. आशुतोष
  - D. कविगण

Question ID : 630680125865  
 Option 1 ID : 630680488101  
 Option 2 ID : 630680488098  
 Option 3 ID : 630680488100  
 Option 4 ID : 630680488099  
 Status : Answered  
 Chosen Option : A

Q.7 रेलगाड़ी पटरी पर चलती है, वाक्य में रेलगाड़ी शब्द में निहित समास है-

- Ans
- A. तत्पुरुष
  - B. बहुव्रीहि
  - C. अव्ययीभाव
  - D. द्वन्द्व

Question ID : 630680214281  
 Option 1 ID : 630680831174  
 Option 2 ID : 630680831171  
 Option 3 ID : 630680831173  
 Option 4 ID : 630680831172  
 Status : Answered  
 Chosen Option : D

Q.8 'कुटिल' शब्द के उचित पर्यायवाची का चयन कीजिए -

- Ans
- A. पलाश
  - B. ढाक
  - C. नाहर
  - D. खमदार

Question ID : 630680162666  
 Option 1 ID : 630680629961  
 Option 2 ID : 630680629963  
 Option 3 ID : 630680629960  
 Option 4 ID : 630680629962  
 Status : Not Answered  
 Chosen Option : --

Q.9 कई बार मॉगने पर भी तुम मेरे पैसे नहीं दे रहे हो, मुझे तुम्हारी \_\_\_\_\_ ठीक नहीं लग रही है। रिक्त स्थान के लिए उचित शब्द चुनिए-

- Ans
- A. नीयत
  - B. नीरज
  - C. नियति
  - D. नियत

Question ID : 630680203645  
 Option 1 ID : 630680789781  
 Option 2 ID : 630680789782  
 Option 3 ID : 630680789780  
 Option 4 ID : 630680789779  
 Status : Answered  
 Chosen Option : D

Q.10 'सात सौ पछाँ की पुस्तक' के लिए सार्थक शब्द है -

- Ans
- A. सतसई
  - B. सताहार
  - C. चालीसा
  - D. शतक

Question ID : 63068055997  
 Option 1 ID : 630680215982  
 Option 2 ID : 630680215984  
 Option 3 ID : 630680215985  
 Option 4 ID : 630680215983  
 Status : Answered  
 Chosen Option : A

Q.11 'रात्रि व संध्या के बीच की बेला' वाक्यांश के लिए उपयुक्त शब्द होगा-

- Ans
- A. कुहू
  - B. राका
  - C. गोधूलि
  - D. निशीथ

Question ID : 630680203769  
 Option 1 ID : 630680790275  
 Option 2 ID : 630680790278  
 Option 3 ID : 630680790276  
 Option 4 ID : 630680790277  
 Status : Answered  
 Chosen Option : C

Q.12 निम्नलिखित विकल्पों को ध्यानपूर्वक देखें और बताएं कि कौनसा विकल्प 'कुंभ' शब्द का अर्थ प्रस्तुत नहीं करता।

- Ans
- A. घड़ा
  - B. एक राशि
  - C. हाथी का मस्तक
  - D. मछली

Question ID : 630680204551  
 Option 1 ID : 630680793255  
 Option 2 ID : 630680793256  
 Option 3 ID : 630680793257  
 Option 4 ID : 630680793258  
 Status : Answered  
 Chosen Option : D

Q.13 'कंगाली में आटा गीला' लोकोक्ति का सही अर्थ इनमें से क्या होगा?

- Ans
- A. एक अतिथि के बाद दूसरे अतिथि का आना
  - B. आटा में पानी डालना
  - C. एक मुसीबत पर दूसरी मुसीबत आना
  - D. गीला आटा बनाना

Question ID : 630680204921  
 Option 1 ID : 630680794551  
 Option 2 ID : 630680794553  
 Option 3 ID : 630680794552  
 Option 4 ID : 630680794554  
 Status : Answered  
 Chosen Option : C

Q.14 निम्नलिखित में से उस शब्द का चयन कीजिए जिसके विग्रह में 'द्विगु समास' है-

- Ans
- A. गगनचुम्बी
  - B. वनमानुष
  - C. ज्वालामुखी
  - D. शताब्दी

Question ID : 630680204516  
Option 1 ID : 630680793118  
Option 2 ID : 630680793117  
Option 3 ID : 630680793116  
Option 4 ID : 630680793115  
Status : Answered  
Chosen Option : D

Q.15 निम्नलिखित में से कौन सा शब्द 'कुसुम' का पर्यायवाची है?

- Ans
- A. सरोज
  - B. प्रसून
  - C. नीरव
  - D. पल्लव

Question ID : 630680203845  
Option 1 ID : 630680790579  
Option 2 ID : 630680790582  
Option 3 ID : 630680790580  
Option 4 ID : 630680790581  
Status : Answered  
Chosen Option : B

Q.16 निम्नलिखित में से व्यंजन सन्धि के उदाहरण का चयन कीजिये-

- Ans
- A. रत्न + आकर
  - B. अंतर + पुर
  - C. सम + राट्
  - D. जल + ओध

Question ID : 63068065802  
Option 1 ID : 630680254157  
Option 2 ID : 630680254156  
Option 3 ID : 630680254154  
Option 4 ID : 630680254155  
Status : Answered  
Chosen Option : C

Q.17 निम्नलिखित वाक्यों में से सर्वनाम की दृष्टि से कौन-सा वाक्य अशुद्ध है?

- Ans
- A. यह किसका घर है?
  - B. कुछ भी हो सकता है।
  - C. वह कौन रो रहा है।
  - D. कौन आप पढ़ रहे हैं?

Question ID : 630680104692  
 Option 1 ID : 630680406916  
 Option 2 ID : 630680406917  
 Option 3 ID : 630680406918  
 Option 4 ID : 630680406915  
 Status : Answered  
 Chosen Option : D

Q.18 "निशा को कल राघव के घर आने के लिए बोल दो।"

इस वाक्य में क्रिया संबंधी त्रुटि पहचानकर निम्नलिखित में से शुद्ध वाक्य चुनिए -

- Ans
- A. निशा को कल राघव के घर आने के लिए बता दो।
  - B. निशा को कल राघव के घर आने के लिए कह दो।
  - C. निशा को कल राघव के घर आने के लिए सूचना दो।
  - D. निशा को कल राघव के घर आने के लिए लिख दो।

Question ID : 630680142441  
 Option 1 ID : 630680551270  
 Option 2 ID : 630680551273  
 Option 3 ID : 630680551271  
 Option 4 ID : 630680551272  
 Status : Answered  
 Chosen Option : B

Q.19 निम्नलिखित में से किस विकल्प में 'औ + अ' का मेल है?

- Ans
- A. भावना
  - B. भवति
  - C. महोषध
  - D. शाविका

Question ID : 63068065815  
 Option 1 ID : 630680254206  
 Option 2 ID : 630680254207  
 Option 3 ID : 630680254209  
 Option 4 ID : 630680254208  
 Status : Answered  
 Chosen Option : C

Q.20 जो पहले कभी न देखा गया हो - वाक्यांश के उचित शब्द होगा ?

- Ans
- A. अश्रुतपूर्व
  - B. भूतपूर्व
  - C. अदृश्यपूर्व
  - D. अभूतपूर्व

Question ID : 630680125878  
 Option 1 ID : 630680488151  
 Option 2 ID : 630680488153  
 Option 3 ID : 630680488150  
 Option 4 ID : 630680488152  
 Status : Answered  
 Chosen Option : C

**Comprehension:**

गद्यांश के आधार पर प्रश्न का उत्तर दें।

यदि साहित्य समाज का दर्पण होता तो समाज को बदलने की बात न उठती। कवि का काम यथार्थ जीवन को प्रतिबिंबित करना ही होता तो वह प्रजापति का दर्जा न पाता। वास्तव में प्रजापति ने जो समाज बनाया है, उससे असन्तुष्ट होकर नया समाज बनाना कविता का जन्मसिद्ध अधिकार है। यूनानी विद्वानों के बारे में कहा जाता है कि वे कला को जीवन की नकल समझते थे और अफलातून ने असार संसार को असल की नकल बताकर कला को नकल की नकल कहा था। लेकिन अरस्तू ने ट्रेजडी के लिए जब कहा था कि उसमें मनुष्य जैसे हैं उससे बढ़कर दिखाए जाते हैं, तो नकल-नवीस कला का खंडन हो गया था और जब बाल्मीकि ने अपने चरित्र-नायक के गुण गिनाकर नारद से पूछा कि ऐसा कौन है? तब नारद ने पहले यही कहा- "बहवो दुर्लभाश्वेव ये त्वया कीर्तिता गुणाः।" दुर्लभ गुणों को एक ही पात्र में दिखाकर आदि कवि ने समाज को दर्पण में प्रतिबिंबित न किया था वरन प्रजापति की तरह नई सृष्टि की थी।

SubQuestion No : 21

Q.21 'आदि कवि' से आशय है -

- Ans
- A. प्रथम कवि
  - B. श्रेष्ठ कवि
  - C. वृद्ध कवि
  - D. महान कवि

Question ID : 630680131996  
 Option 1 ID : 630680511172  
 Option 2 ID : 630680511171  
 Option 3 ID : 630680511170  
 Option 4 ID : 630680511173  
 Status : Answered  
 Chosen Option : B

**Comprehension:**

गद्यांश के आधार पर प्रश्न का उत्तर दें।

यदि साहित्य समाज का दर्पण होता तो समाज को बदलने की बात न उठती। कवि का काम यथार्थ जीवन को प्रतिबिंबित करना ही होता तो वह प्रजापति का दर्जा न पाता। वास्तव में प्रजापति ने जो समाज बनाया है, उससे असन्तुष्ट होकर नया समाज बनाना कविता का जन्मसिद्ध अधिकार है। यूनानी विद्वानों के बारे में कहा जाता है कि वे कला को जीवन की नकल समझते थे और अफलातून ने असार संसार को असल की नकल बताकर कला को नकल की नकल कहा था। लेकिन अरस्तू ने ट्रेजडी के लिए जब कहा था कि उसमें मनुष्य जैसे हैं उससे बढ़कर दिखाए जाते हैं, तो नकल-नवीस कला का खंडन हो गया था और जब बाल्मीकि ने अपने चरित्र-नायक के गुण गिनाकर नारद से पूछा कि ऐसा कौन है? तब नारद ने पहले यही कहा- "बहवो दुर्लभाश्वेव ये त्वया कीर्तिता गुणाः।" दुर्लभ गुणों को एक ही पात्र में दिखाकर आदि कवि ने समाज को दर्पण में प्रतिबिंबित न किया था वरन प्रजापति की तरह नई सृष्टि की थी।

SubQuestion No : 22

Q.22 गद्यांश का सर्वाधिक उपयुक्त शीर्षक हो सकता है-

- Ans  A. प्रजापति की सृष्टि  
 B. साहित्य और समाज  
 C. नारद-बाल्मीकि संवाद  
 D. कला का संसार

Question ID : 630680131994  
 Option 1 ID : 630680511164  
 Option 2 ID : 630680511163  
 Option 3 ID : 630680511165  
 Option 4 ID : 630680511162  
 Status : Answered  
 Chosen Option : B

**Comprehension:**

गद्यांश के आधार पर प्रश्न का उत्तर दें।

यदि साहित्य समाज का दर्पण होता तो समाज को बदलने की बात न उठती। कवि का काम यथार्थ जीवन को प्रतिबिंबित करना ही होता तो वह प्रजापति का दर्जा न पाता। वास्तव में प्रजापति ने जो समाज बनाया है, उससे असन्तुष्ट होकर नया समाज बनाना कविता का जन्मसिद्ध अधिकार है। यूनानी विद्वानों के बारे में कहा जाता है कि वे कला को जीवन की नकल समझते थे और अफलातून ने असार संसार को असल की नकल बताकर कला को नकल की नकल कहा था। लेकिन अरस्तू ने ट्रेजडी के लिए जब कहा था कि उसमें मनुष्य जैसे हैं उससे बढ़कर दिखाए जाते हैं, तो नकल-नवीस कला का खंडन हो गया था और जब बाल्मीकि ने अपने चरित्र-नायक के गुण गिनाकर नारद से पूछा कि ऐसा कौन है? तब नारद ने पहले यही कहा- "बहवो दुर्लभाश्वेव ये त्वया कीर्तिता गुणाः।" दुर्लभ गुणों को एक ही पात्र में दिखाकर आदि कवि ने समाज को दर्पण में प्रतिबिंबित न किया था वरन प्रजापति की तरह नई सृष्टि की थी।

SubQuestion No : 23

Q.23 गद्यांश का क्या निष्कर्ष है? सर्वाधिक उपयुक्त विकल्प चुनिए-

- Ans  A. साहित्य समाज की पुनर्रचना है  
 B. साहित्य समाज का प्रतिबिंब है  
 C. साहित्य ईश्वरीय वस्तु है  
 D. साहित्य समाज से विच्छिन्न है

Question ID : 630680131997  
 Option 1 ID : 630680511174  
 Option 2 ID : 630680511175  
 Option 3 ID : 630680511177  
 Option 4 ID : 630680511176  
 Status : Answered  
 Chosen Option : A

**Comprehension:**

गद्यांश के आधार पर प्रश्न का उत्तर दें।

यदि साहित्य समाज का दर्पण होता तो समाज को बदलने की बात न उठती। कवि का काम यथार्थ जीवन को प्रतिबिंबित करना ही होता तो वह प्रजापति का दर्जा न पाता। वास्तव में प्रजापति ने जो समाज बनाया है, उससे असन्तुष्ट होकर नया समाज बनाना कविता का जन्मसिद्ध अधिकार है। यूनानी विद्वानों के बारे में कहा जाता है कि वे कला को जीवन की नकल समझते थे और अफलातून ने असार संसार को असल की नकल बताकर कला को नकल की नकल कहा था। लेकिन अरस्तू ने ट्रेजडी के लिए जब कहा था कि उसमें मनुष्य जैसे हैं उससे बढ़कर दिखाए जाते हैं, तो नकल-नवीस कला का खंडन हो गया था और जब बाल्मीकि ने अपने चरित्र-नायक के गुण गिनाकर नारद से पूछा कि ऐसा कौन है? तब नारद ने पहले यही कहा- "बहवो दुर्लभाश्वेव ये त्वया कीर्तिता गुणाः।" दुर्लभ गुणों को एक ही पात्र में दिखाकर आदि कवि ने समाज को दर्पण में प्रतिबिंबित न किया था वरन प्रजापति की तरह नई सृष्टि की थी।

SubQuestion No : 24

Q.24 वाल्मीकि का चरित्र - नायक किसे माना गया है -

- Ans
- A. लक्ष्मण को
  - B. हरिश्चंद्र को
  - C. कृष्ण को
  - D. राम को

Question ID : 630680131993  
Option 1 ID : 630680511159  
Option 2 ID : 630680511161  
Option 3 ID : 630680511160  
Option 4 ID : 630680511158  
Status : Not Answered  
Chosen Option : --

**Comprehension:**

गद्यांश के आधार पर प्रश्न का उत्तर दें।

यदि साहित्य समाज का दर्पण होता तो समाज को बदलने की बात न उठती। कवि का काम यथार्थ जीवन को प्रतिबिंबित करना ही होता तो वह प्रजापति का दर्जा न पाता। वास्तव में प्रजापति ने जो समाज बनाया है, उससे असन्तुष्ट होकर नया समाज बनाना कविता का जन्मसिद्ध अधिकार है। यूनानी विद्वानों के बारे में कहा जाता है कि वे कला को जीवन की नकल समझते थे और अफलातून ने असार संसार को असल की नकल बताकर कला को नकल की नकल कहा था। लेकिन अरस्तू ने ट्रेजडी के लिए जब कहा था कि उसमें मनुष्य जैसे हैं उससे बढ़कर दिखाए जाते हैं, तो नकल-नवीस कला का खंडन हो गया था और जब बाल्मीकि ने अपने चरित्र-नायक के गुण गिनाकर नारद से पूछा कि ऐसा कौन है? तब नारद ने पहले यही कहा- "बहवो दुर्लभाश्वेव ये त्वया कीर्तिता गुणाः।" दुर्लभ गुणों को एक ही पात्र में दिखाकर आदि कवि ने समाज को दर्पण में प्रतिबिंबित न किया था वरन प्रजापति की तरह नई सृष्टि की थी।

SubQuestion No : 25

Q.25 गद्यांश का मुख्य विषय किससे संबंधित है? सर्वाधिक उपयुक्त विकल्प चुनिए-

- Ans
- A. साहित्य की भूमिका से
  - B. यूनानी विद्वानों से
  - C. दर्पण से
  - D. बाल्मीकि से

Question ID : 630680131995  
Option 1 ID : 630680511168  
Option 2 ID : 630680511166  
Option 3 ID : 630680511169  
Option 4 ID : 630680511167  
Status : Not Answered  
Chosen Option : --