

CRPF Constable

**Previous Year Paper
Technical Tradesman
12 July, 2023 Shift 2**

Adda247

Adda247

Test Prime

ALL EXAMS, ONE SUBSCRIPTION



1,00,000+
Mock Tests



**Personalised
Report Card**



**Unlimited
Re-Attempt**



600+
Exam Covered



25,000+ Previous
Year Papers



500%
Refund



ATTEMPT FREE MOCK NOW

CRPF Technical Tradesman 1st to 12th July 2023

Participant ID	
Participant Name	
Test Center Name	
Test Date	12/07/2023
Test Time	12:30 PM - 2:30 PM
Subject	Constable Safai Karamchari

Section : General Intelligence and Reasoning

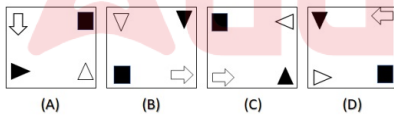
Q.1 पांच आकृतियां दी गयी हैं, जिनमें से चार किसी न किसी रूप में एक समान हैं और एक भिन्न है। भिन्न आकृति का चयन करें।



Ans A.A
 B.C
 C.E
 D.D

Question ID : 630680111470
Option 1 ID : 630680431675
Option 2 ID : 630680431674
Option 3 ID : 630680431676
Option 4 ID : 630680431677
Status : Answered
Chosen Option : D

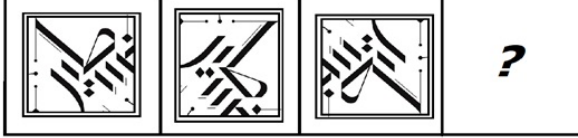
Q.2 निम्नलिखित चार आकृतियों में से तीन एक निश्चित तरीके से समान हैं और इस प्रकार एक समूह बनाती हैं। वह कौन-सी है, जो इस समूह से संबंधित नहीं है?



Ans A.D
 B.B
 C.A
 D.C

Question ID : 630680124850
Option 1 ID : 630680484224
Option 2 ID : 630680484223
Option 3 ID : 630680484222
Option 4 ID : 630680484225
Status : Not Attempted and
Marked For Review
Chosen Option : -

Q.3 नीचे दिए गए विकल्पों में से उस आकृति का चयन कीजिए जो निम्नलिखित श्रृंखला में प्रश्न चिह्न (?) को प्रतिस्थापित कर सकती है।



Ans

A.

B.

C.

D.



Question ID : 630680105017
Option 1 ID : 630680408179
Option 2 ID : 630680408180
Option 3 ID : 630680408181
Option 4 ID : 630680408182

Status : Answered

Chosen Option : B

Q.4 एक बच्चा अपने घर से पैदल स्कूल जा रहा है। वह पूर्व की ओर अपनी यात्रा शुरू करता है और 70 M चलता है। फिर वह बाएँ मुड़ता है और एक दुकान से चॉकलेट खरीदने के लिए 25 M चलता है। वह फिर से बाएँ मुड़ता है और 25 M चलता है। अंत में वह बाएँ मुड़ता है और अपने स्कूल तक पहुँचने के लिए 25 M चलता है। एक सीधी रेखा में उसका स्कूल उसके घर से कितनी दूर है?

- Ans
- A. 25 m
 - B. 70 m
 - C. 45 m
 - D. 95 m

Question ID : 630680124738
Option 1 ID : 630680483791
Option 2 ID : 630680483792
Option 3 ID : 630680483793
Option 4 ID : 630680483790
Status : Answered
Chosen Option : C

Q.5 दिए गए विकल्पों में से कौन-सा वह लगभग निकटतम मान है, जो निम्नलिखित समीकरण में प्रश्न-चिह्न (?) के स्थान पर आएगा?
(85.01 + 34.98) × 2.01 - ? = 159.99 + 7.99

- Ans
- A. 230
 - B. 220
 - C. 240
 - D. 210

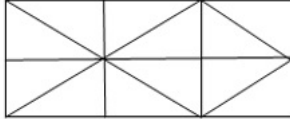
Question ID : 630680172629
Option 1 ID : 630680668938
Option 2 ID : 630680668937
Option 3 ID : 630680668939
Option 4 ID : 630680668936
Status : Answered
Chosen Option : B

Q.6 रीमा बिंदु A से चलना शुरू करती है और पश्चिम की ओर 3 km चलती है। फिर वह दाएँ मुड़ती है, 2 km चलती है, फिर से दाएँ मुड़ती है और बिंदु G तक पहुँचने के लिए 5 km चलती है। फिर वह बाएँ मुड़ती है और 2 km चलती है। फिर वह दाएँ मुड़ती है, 3 km चलती है और बिंदु P पर पहुँचती है। वह बिंदु P से दक्षिण की ओर 4 km चलती है और बिंदु X पर रुकती है। बिंदु A और बिंदु X के बीच न्यूनतम दूरी कितनी है?

- Ans
- A. 4 km
 - B. 3 km
 - C. 2 km
 - D. 5 km

Question ID : 630680261980
Option 1 ID : 6306801017577
Option 2 ID : 6306801017576
Option 3 ID : 6306801017575
Option 4 ID : 6306801017578
Status : Answered
Chosen Option : D

Q.7 दी गई आकृति में त्रिभुजों की संख्या ज्ञात कीजिए।



- Ans A. 20
 B. 23
 C. 16
 D. 15

Question ID : 630680115219
 Option 1 ID : 630680446242
 Option 2 ID : 630680446243
 Option 3 ID : 630680446244
 Option 4 ID : 630680446245
 Status : Answered
 Chosen Option : B

Q.8 दिए गए विकल्पों में से उस संख्या का चयन करें जो निम्नलिखित समीकरण में प्रश्न चिह्न (?) के स्थान पर आ सकती है।

$$(84.99 + 49.98) \times 2.01 - ?^2 = 404.99 \div 8.99$$

- Ans A. 10
 B. 21
 C. 27
 D. 15

Question ID : 630680204248
 Option 1 ID : 630680792075
 Option 2 ID : 630680792077
 Option 3 ID : 630680792078
 Option 4 ID : 630680792076
 Status : Answered
 Chosen Option : D

Q.9 एक निश्चित कूटभाषा में,
'Lion run fast' को 'Ni Mo Na' के रूप में लिखा जाता है;
'Cubs of Lion' को 'Mo Ci Ka' के रूप में लिखा जाता है;
'Make Cubs Run' को 'Ka Na Ti' के रूप में लिखा जाता है।
'Ka' किसका कूट है?

- Ans A. Of
 B. Cubs
 C. Run
 D. Lion

Question ID : 630680261944
Option 1 ID : 6306801017432
Option 2 ID : 6306801017434
Option 3 ID : 6306801017431
Option 4 ID : 6306801017433
Status : Answered
Chosen Option : B

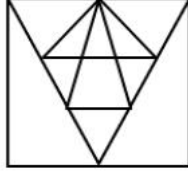
Q.10 दिए गए विकल्पों में से वह संख्या चुनिए जो निम्नलिखित श्रृंखला में प्रश्नवाचक चिह्न (?) को प्रतिस्थापित कर सके।
1, 8, 27, 64, ?

- Ans A. 125
 B. 120
 C. 150
 D. 625

Question ID : 630680221547
Option 1 ID : 630680860039
Option 2 ID : 630680860037
Option 3 ID : 630680860038
Option 4 ID : 630680860040
Status : Answered
Chosen Option : A

Adda247

Q.11 नीचे दी गई आकृति में कितने त्रिभुज हैं?



- Ans
- A. 21
 - B. 20
 - C. 18
 - D. 19

Question ID : 63068057743
 Option 1 ID : 630680222812
 Option 2 ID : 630680222813
 Option 3 ID : 630680222811
 Option 4 ID : 630680222810
 Status : Answered
 Chosen Option : C

Q.12 निम्नलिखित में से कौन-सा मान, निकटतम लगभग मान है, जो दिए गए समीकरण में प्रश्न-चिह्न (?) को प्रतिस्थापित कर सकता है?

$$178.01 - 11.01 \times ? + 164.01 = 122.01 + 120.99$$

- Ans
- A. 18
 - B. 6
 - C. 9
 - D. 13

Question ID : 630680161777
 Option 1 ID : 630680626436
 Option 2 ID : 630680626437
 Option 3 ID : 630680626439
 Option 4 ID : 630680626438
 Status : Answered
 Chosen Option : C

Q.13 A, C की माँ है। E का विवाह D से हुआ है। B का विवाह A से हुआ है। F, B का पुत्र है। D, G की माँ है। G, A का भाई है। E का C के साथ क्या संबंध है?

- Ans
- A. भाई
 - B. भाई का पुत्र
 - C. पिता के पिता
 - D. माँ के पिता

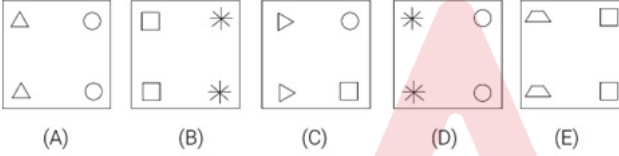
Question ID : 630680119307
 Option 1 ID : 630680462318
 Option 2 ID : 630680462321
 Option 3 ID : 630680462319
 Option 4 ID : 630680462320
 Status : Answered
 Chosen Option : D

Q.14 यदि + का अर्थ -, - का अर्थ \times , \times का अर्थ \div , \div का अर्थ + है, तो निम्नलिखित समीकरण में प्रश्न चिह्न (?) के स्थान पर क्या मान आएगा?
 $33 - 3 \div 108 \times 12 + 21 = ?$

- Ans A. 81
 B. 94
 C. 87
 D. 79

Question ID : 630680163570
 Option 1 ID : 630680633467
 Option 2 ID : 630680633466
 Option 3 ID : 630680633465
 Option 4 ID : 630680633464
 Status : Answered
 Chosen Option : C


Q.15 निम्न आकृतियों में से चार आकृतियां एक निश्चित तरीके से एक समान हैं और इस प्रकार एक समूह बनाती हैं। उस आकृति का चयन करें जो समूह से संबंधित नहीं है।



- Ans A. (A)
 B. (E)
 C. (C)
 D. (B)

Question ID : 630680204236
 Option 1 ID : 630680792027
 Option 2 ID : 630680792030
 Option 3 ID : 630680792029
 Option 4 ID : 630680792028
 Status : Answered
 Chosen Option : C

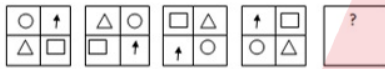
Q.16 दी गई आकृति के सही दर्पण प्रतिबिंब का चयन करें, जब दर्पण को MN पर रखा जाता है जैसा कि नीचे दिखाया गया है।



- Ans
- A.
 - B.
 - C.
 - D.

Question ID : 630680162234
 Option 1 ID : 630680628241
 Option 2 ID : 630680628242
 Option 3 ID : 630680628243
 Option 4 ID : 630680628240
 Status : Answered
 Chosen Option : B

Q.17 दिए गए विकल्पों में से उस आकृति का चयन कीजिए जो निम्न श्रृंखला में प्रश्नवाचक चिह्न (?) के स्थान पर आएगी?



- Ans
- A.
 - B.
 - C.
 - D.

Question ID : 630680110367
 Option 1 ID : 630680427810
 Option 2 ID : 630680427807
 Option 3 ID : 630680427808
 Option 4 ID : 630680427809
 Status : Answered
 Chosen Option : B

Q.18 दी गई श्रृंखला में प्रश्न चिह्न (?) के स्थान पर क्या आना चाहिए?
504, 42, 210, 20, ?

- Ans A. 60
 B. 84
 C. 104
 D. 124

Question ID : 630680112805
Option 1 ID : 630680436900
Option 2 ID : 630680436901
Option 3 ID : 630680436898
Option 4 ID : 630680436899
Status : Answered
Chosen Option : B

Q.19 M, B की माँ है। A, M का पति है। N, B का इकलौता भाई है। C का विवाह N से हुआ है। Q, C की इकलौती संतान है। N की कोई बहन नहीं है। J, A के पिता है। B, J से किस प्रकार संबंधित है?

- Ans A. .Eअ
 B. .O(B)
 C. 1B
 D. .िB

Question ID : 630680106070
Option 1 ID : 630680412181
Option 2 ID : 630680412182
Option 3 ID : 630680412180
Option 4 ID : 630680412179
Status : Answered
Chosen Option : B

Q.20 P, Q की बहन है। Q, R की बहन है। R, S का पिता है। T और U विवाहित युगल हैं। T, Q की माता है। U किस प्रकार S से संबंधित है?

- Ans A. ,B(D)
 B. *B*B
 C. ,B,B
 D. *B*B(B)

Question ID : 630680117509
Option 1 ID : 630680455273
Option 2 ID : 630680455271
Option 3 ID : 630680455270
Option 4 ID : 630680455272
Status : Answered
Chosen Option : B



Q.21 दर्पण को MN पर रखे जाने पर दी गई आकृति के सही दर्पण प्रतिबिम्ब का चयन कीजिए।

HKP498R

M
|
N

- Ans
- A. R894PKH
 - B. R894PKH
 - C.
 - D. R894PKH

Question ID : 630680177291
 Option 1 ID : 630680687340
 Option 2 ID : 630680687343
 Option 3 ID : 630680687341
 Option 4 ID : 630680687342
 Status : Answered
 Chosen Option : C

Q.22 जब दर्पण को MN पर रखा जाता है तो दी गई आकृति के सही दर्पण प्रतिबिम्ब का चयन कीजिए।

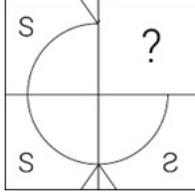
Fr3dam

M
|
N

- Ans
- A. wεpεrJ
 - B. Frεqm
 - C. wεpεrF
 - D. mεbεrF

Question ID : 630680175998
 Option 1 ID : 630680682243
 Option 2 ID : 630680682242
 Option 3 ID : 630680682241
 Option 4 ID : 630680682240
 Status : Answered
 Chosen Option : D

Q.23 विकल्पों में से उस आकृति का चयन कीजिए जो प्रश्न-चिह्न (?) को प्रतिस्थापित करेगी और पैटर्न को पूरा करेगी।



Ans

- A.
- B.
- C.
- D.

Question ID : 630680177315
 Option 1 ID : 630680687438
 Option 2 ID : 630680687437
 Option 3 ID : 630680687439
 Option 4 ID : 630680687436
 Status : Answered
 Chosen Option : D

Q.24 'M \$ N'का अर्थ है कि 'M, N का भाई है'।
 'M + N'का अर्थ है कि 'M, N की माँ है'।
 'M ÷ N'का अर्थ है कि 'M, N का पिता है'।
 'M & N'का अर्थ है कि 'M, N की पत्नी है'।
 'M = N'का अर्थ है कि 'M, N की बहन है'।
 यदि 'P + R = T + Q ÷ S', तो R का S से क्या संबंध है?

- A. ग्रैंडमदर का भाई
- B. आंटी
- C. ग्रैंडमदर की बहन
- D. ग्रैंडफादर की बहन

Question ID : 630680133292
 Option 1 ID : 630680516145
 Option 2 ID : 630680516144
 Option 3 ID : 630680516143
 Option 4 ID : 630680516142
 Status : Answered
 Chosen Option : C

Q.25 एक निश्चित कूटभाषा में,
'Old is Gold' को 'Si Mi Ki' के रूप में कूटबद्ध किया है;
'People grow old' को 'Mi Ci Ni' के रूप में कूटबद्ध किया है;
'Let gold grow' को 'Pi Ki Ni' के रूप में कूटबद्ध किया है।
'Gold' के लिए कूट क्या है?

- Ans A. Ki
 B. Pi
 C. Si
 D. Ni

Question ID : 630680261937
Option 1 ID : 6306801017403
Option 2 ID : 6306801017406
Option 3 ID : 6306801017404
Option 4 ID : 6306801017405
Status : Answered
Chosen Option : A

Section : General Knowledge and General Awareness

Q.1 कलाक्षेत्र फाउंडेशन, भारत के शास्त्रीय नृत्यों के लिए एक प्रसिद्ध प्रशिक्षण संस्थान, निम्नलिखित में से किस राज्य में स्थित है?

- Ans A. तमिलनाडु
 B. महाराष्ट्र
 C. केरल
 D. कर्नाटक

Question ID : 630680214147
Option 1 ID : 630680830638
Option 2 ID : 630680830635
Option 3 ID : 630680830637
Option 4 ID : 630680830636
Status : Answered
Chosen Option : C

Q.2 भारत के किस राज्य में 'तृतीकोरिन बंदरगाह' स्थित है?

- Ans A. पश्चिम बंगाल
 B. गोवा
 C. तमिलनाडु
 D. केरल

Question ID : 630680209265
Option 1 ID : 630680811275
Option 2 ID : 630680811277
Option 3 ID : 630680811276
Option 4 ID : 630680811278
Status : Answered
Chosen Option : D

Q.3 निम्नलिखित में से कौन-सा युद्ध 1852 में प्रारंभ हुआ था?

- Ans
- A. द्वितीय आंग्ल-मैसूर युद्ध
 - B. द्वितीय आंग्ल-मराठा युद्ध
 - C. द्वितीय आंग्ल-बर्मी युद्ध
 - D. द्वितीय आंग्ल-अफगान युद्ध

Question ID : 630680115407
 Option 1 ID : 630680446980
 Option 2 ID : 630680446978
 Option 3 ID : 630680446981
 Option 4 ID : 630680446979
 Status : Answered
 Chosen Option : B

Q.4 कर्नाटक संगीत में संगीत रूपों को अभ्यास गण और _____ गण में विभाजित किया गया है।

- Ans
- A. अलंकार
 - B. सभा
 - C. आवर्त
 - D. दातृ

Question ID : 630680214158
 Option 1 ID : 630680830682
 Option 2 ID : 630680830679
 Option 3 ID : 630680830681
 Option 4 ID : 630680830680
 Status : Answered
 Chosen Option : A

Q.5 चोलों के पतन के बाद निम्नलिखित में से कौन-सा प्रमुख तमिल राजवंश था?

- Ans
- A. बाद के चालुक्य (Later Chalukyas)
 - B. पांड्य
 - C. होयसल
 - D. काकतीय

Question ID : 630680176044
 Option 1 ID : 630680682427
 Option 2 ID : 630680682425
 Option 3 ID : 630680682424
 Option 4 ID : 630680682426
 Status : Answered
 Chosen Option : B

Q.6 भारत में चार मुख्य ऋतुएं होती हैं। किस ऋतु को संक्रमण ऋतु भी कहा जाता है?

- Ans
- A. मानसून के आगमन की ऋतु
 - B. मानसून की वापसी की ऋतु
 - C. ठंड मौसम की ऋतु
 - D. गर्म मौसम की ऋतु

Question ID : 63068011794
Option 1 ID : 630680432911
Option 2 ID : 630680432912
Option 3 ID : 630680432913
Option 4 ID : 630680432910
Status : Answered
Chosen Option : A

Q.7 यदि किसी भारतीय नागरिक को उसका ज्ञात के कारण सार्वजनिक स्थान पर प्रवेश से वंचित कर दिया जाता है, तो उसे निम्नलिखित में से किस मौलिक अधिकार से वंचित किया जाता है?

- Ans
- A. शोषण के विरुद्ध अधिकार
 - B. सांस्कृतिक और शैक्षिक अधिकार
 - C. संवैधानिक उपचार के अधिकार
 - D. समानता के अधिकार

Question ID : 630680213939
Option 1 ID : 630680829803
Option 2 ID : 630680829805
Option 3 ID : 630680829806
Option 4 ID : 630680829804
Status : Answered
Chosen Option : D

Q.8 निम्नलिखित में से किस शहर में जाड़े के मौसम में औसत तापमान सबसे अधिक होता है?

- Ans
- A. पटना
 - B. जयपुर
 - C. लखनऊ
 - D. चेन्नई

Question ID : 63068090970
Option 1 ID : 630680352639
Option 2 ID : 630680352638
Option 3 ID : 630680352641
Option 4 ID : 630680352640
Status : Answered
Chosen Option : B

Q.9 निम्नलिखित में से सही विकल्प चुनिए ?

- Ans
- A. तोरई का पौधा
 - B. अंगूर का पौधा
 - C. नीलकमल का पौधा
 - D. गुलाब का पौधा

Question ID : 630680209087
 Option 1 ID : 630680810566
 Option 2 ID : 630680810564
 Option 3 ID : 630680810565
 Option 4 ID : 630680810563
 Status : Answered
 Chosen Option : C

Q.10 निम्नलिखित में से सही विकल्प चुनिए ?

- Ans
- A. इंडोनेशिया
 - B. जापान
 - C. यूएसए (USA)
 - D. फ्रांस

Question ID : 63068085229
 Option 1 ID : 630680330422
 Option 2 ID : 630680330421
 Option 3 ID : 630680330420
 Option 4 ID : 630680330423
 Status : Answered
 Chosen Option : A

Q.11 निम्नलिखित में से सही विकल्प चुनिए ?

- Ans
- A. राष्ट्रीय आवास बैंक
 - B. भारतीय निर्यात-आयात बैंक
 - C. भारतीय लघु उद्योग विकास बैंक
 - D. भारतीय औद्योगिक वित्त निगम

Question ID : 63068090257
 Option 1 ID : 630680349802
 Option 2 ID : 630680349804
 Option 3 ID : 630680349803
 Option 4 ID : 630680349805
 Status : Answered
 Chosen Option : C

Q.12 राधा स्वामी सत्संग ब्यास का मुख्य केंद्र _____ राज्य में स्थित डेरा बाबा जयमल सिंह जी में है।

- Ans A. तमिलनाडु
 B. पंजाब
 C. उत्तर प्रदेश
 D. महाराष्ट्र

Question ID : 630680158701
Option 1 ID : 630680614297
Option 2 ID : 630680614296
Option 3 ID : 630680614299
Option 4 ID : 630680614298
Status : Answered
Chosen Option : B

Q.13 निम्नलिखित में से कौन क्रांतिकारी डी.एन.ए. (DNA) तकनीकों के विकास के लिए मिलेनियम टेक्नोलॉजिकल प्राइज - 2020 के विजेताओं में से एक थे?

- Ans A. जयंत हरित्सा
 B. शंकर बालासुब्रमण्यम
 C. चंद्रशेखर नायर
 D. सुनीता सरावगी

Question ID : 630680115957
Option 1 ID : 630680449160
Option 2 ID : 630680449159
Option 3 ID : 630680449158
Option 4 ID : 630680449161
Status : Answered
Chosen Option : C

Q.14 निम्नलिखित में से किस कांग्रेस अधिवेशन में मुस्लिम लीग ने भारतीय राष्ट्रीय कांग्रेस के साथ एक समझौते पर हस्ताक्षर किए?

- Ans A. लखनऊ अधिवेशन, 1916
 B. लाहौर अधिवेशन, 1929
 C. कलकत्ता अधिवेशन, 1917
 D. सूरत अधिवेशन, 1907

Question ID : 630680127636
Option 1 ID : 630680494800
Option 2 ID : 630680494802
Option 3 ID : 630680494801
Option 4 ID : 630680494803
Status : Answered
Chosen Option : B

Q.15 अवसंरचना (इंफ्रास्ट्रक्चर) का आर्थिक विकास में क्या योगदान है?

- Ans
- ✓ & यह जीवन कण्ठुणव और उसादन कारकों कउत्सादकता दोनों में सुधार करता है।
 - ✗ ' यह न तो जीवन कण्ठुणव में और न ही उत्पादन कारकों कउत्सादकता में सुधार करता है।
 - ✗ (यह जीवन कण्ठुणव में सुधार करता है।
 - ✗) यह उत्पादन कारकों कउत्सादकता में सुधार करता है।

6ZJXYNTS .) 630680181812
4UYNTS .) 630680704484
4UYNTS .) 630680704485
4UYNTS .) 630680704482
4UYNTS .) 630680704483
8YFYZXAnswered
(MTXJS 4UYNTS

Q.16 वर्ष 2020 युवा गणितज्ञों के लिए रामानुजन पुरस्कार से किसे सम्मानित किया गया था?

- Ans
- ✓ & डॉ कैरो ना अरुजो
 - ✗ ' डॉ इयान स्ट वार्ट
 - ✗ (डॉ डे ड क्लेरेमैन
 - ✗) डॉ सुमन चक्रवर्ती

6ZJXYNTS .) 630680139326
4UYNTS .) 630680539380
4UYNTS .) 630680539381
4UYNTS .) 630680539378
4UYNTS .) 630680539379
8YFYZXAnswered
(MTXJS 4UYNTS

Q.17 कॉलम A का कॉलम B के साथ सुमेलन कीजिए।

कॉलम A	कॉलम B
a. विटामिन-A	i. माँस, मुर्गा और मछली
b. विटामिन-B	ii. गाजर
c. विटामिन-C	iii. दूध और अंडा
d. विटामिन-D	iv. खट्टे फल

- Ans
- ✗ & FN GNN HNNN INI
 - ✗ ' FNNN GN HN[INN
 - ✓ (FNN GN HN[INNN
 - ✗) FN GNN HN[INNN

6ZJXYNTS .) 630680153037
4UYNTS .) 630680592089
4UYNTS .) 630680592091
4UYNTS .) 630680592090
4UYNTS .) 630680592088
8YFYZXAnswered
(MTXJS 4UYNTS

Q.18 1675 में सूक्ष्मदर्शी के तहत लाल रक्त कोशिकाओं का विस्तृत विवरण देने वाला पहला व्यक्ति कौन था?

- Ans
- A. रॉबर्ट हुक
 - B. रॉबर्ट ब्राउन
 - C. एंटोन वैन ल्यूवेनहॉक
 - D. थियोडोर श्वान

Question ID : 63068094217
Option 1 ID : 630680365563
Option 2 ID : 630680365564
Option 3 ID : 630680365566
Option 4 ID : 630680365565
Status : Answered
Chosen Option : A

Q.19 निम्नलिखित में से कौन-सा शास्त्रीय कर्नाटक संगीत में समय का माप है?

- Ans
- A. अलंकार
 - B. स्वर
 - C. राग
 - D. ताल

Question ID : 630680214156
Option 1 ID : 630680830671
Option 2 ID : 630680830672
Option 3 ID : 630680830674
Option 4 ID : 630680830673
Status : Answered
Chosen Option : C

Q.20 निम्नलिखित में से कौन सी लड़ाई बाबर ने नहीं लड़ी थी?

- Ans
- A. चंदेरी की लड़ाई
 - B. खानवा की लड़ाई
 - C. पानीपत की लड़ाई
 - D. हल्दीघाटी की लड़ाई

Question ID : 630680214216
Option 1 ID : 630680830914
Option 2 ID : 630680830912
Option 3 ID : 630680830911
Option 4 ID : 630680830913
Status : Answered
Chosen Option : D

Q.21 ओपनजीसी लिमिटेड की स्थापना किस वर्ष हुई थी?

- Ans
- A. 1957 में
 - B. 1959 में
 - C. 1958 में
 - D. 1956 में

Question ID : 630680214202
Option 1 ID : 630680830857
Option 2 ID : 630680830855
Option 3 ID : 630680830858
Option 4 ID : 630680830856
Status : Answered
Chosen Option : C

Q.22 _____ को दुनिया का सबसे ऊँचा और सबसे बड़ा स्तूप कहा जाता है।

- Ans
- A. धमेक स्तूप
 - B. केस या स्तूप
 - C. साँची का स्तूप
 - D. अमरावती स्तूप

Question ID : 630680158680
Option 1 ID : 630680614215
Option 2 ID : 630680614214
Option 3 ID : 630680614212
Option 4 ID : 630680614213
Status : Answered
Chosen Option : C

Q.23 राष्ट्रीय सांख्यिकी कार्यालय (NSO) के आंकड़ों के अनुसार, 2021 तक प्राप्त जानकारी के अनुसार, भारत की औसत साक्षरता दर _____ है।

- Ans
- A. 75.70%
 - B. 67.50%
 - C. 72.75%
 - D. 77.70%

Question ID : 630680213954
Option 1 ID : 630680829864
Option 2 ID : 630680829865
Option 3 ID : 630680829866
Option 4 ID : 630680829863
Status : Answered
Chosen Option : A

Q.24 निम्नलिखित में से कौन से (4) प्रमुख देशों में, कृषि (B, K) के लिए +E6 < निम्न 2 ई 3 स्थिति (B) में D?

- Ans
- A. दक्षिण - पूर्वी एशियाई सांघ
 - B. अंतर्राष्ट्रीय मुद्रा कोष
 - C. शंघाई सहयोग संगठन
 - D. बैंक

Question ID : 630680214244
 Option 1 ID : 630680831025
 Option 2 ID : 630680831026
 Option 3 ID : 630680831023
 Option 4 ID : 630680831024
 Status : Answered
 Chosen Option : A

Q.25 निम्नलिखित में से कौन से देशों में, कृषि (B, K) के लिए +E6 < निम्न 2 ई 3 स्थिति (B) में D?

- Ans
- A. एलस
 - B. बादामी
 - C. कांचीपुरम
 - D. मान्यखेट

Question ID : 630680118804
 Option 1 ID : 630680460319
 Option 2 ID : 630680460320
 Option 3 ID : 630680460318
 Option 4 ID : 630680460321
 Status : Answered
 Chosen Option : C

Section : Elementary Mathematics

Q.1 12 बच्चों का औसत वजन 45 kg है। यदि 2 बच्चों का वजन 1458 kg है तो शेष बच्चों का औसत वजन क्या होगा?

- Ans
- A. 59.75
 - B. 63.73
 - C. 57.95
 - D. 59.57

Question ID : 630680116558
 Option 1 ID : 630680451527
 Option 2 ID : 630680451528
 Option 3 ID : 630680451526
 Option 4 ID : 630680451529
 Status : Answered
 Chosen Option : A

Q.2 एक अर्धगोले का व्यास 8.4 m है। इसका आयतन ज्ञात करें। ($\pi = \frac{22}{7}$ मानें)

- Ans
- A. 156.232 m³
 - B. 157.232 m³
 - C. 158.232 m³
 - D. 155.232 m³

Question ID : 630680104379
Option 1 ID : 630680405725
Option 2 ID : 630680405724
Option 3 ID : 630680405723
Option 4 ID : 630680405726
Status : Answered
Chosen Option : D

Q.3 एक कक्षा की औसत आयु 45 वर्ष थी। 43 वर्ष की औसत आयु वाले आठ नए छात्र उस कक्षा में शामिल हुए, जिससे औसत आधे वर्ष से कम हो गया। कक्षा की मूल क्षमता कितनी थी?

- Ans
- A. 28
 - B. 24
 - C. 30
 - D. 26

Question ID : 630680125144
Option 1 ID : 630680485356
Option 2 ID : 630680485354
Option 3 ID : 630680485357
Option 4 ID : 630680485355
Status : Answered
Chosen Option : B

Q.4 यदि एक संख्या का 40% दूसरी संख्या के दो-तिहाई के बराबर है, तो पहली संख्या और दूसरी संख्या का अनुपात ज्ञात करें।

- Ans
- A. 3 : 5
 - B. 2 : 5
 - C. 5 : 3
 - D. 8 : 3

Question ID : 630680222270
Option 1 ID : 630680862912
Option 2 ID : 630680862911
Option 3 ID : 630680862913
Option 4 ID : 630680862914
Status : Answered
Chosen Option : C

Q.5 विज्या 2.1 cm होने पर संवृत गोलाध के संपूर्णपृष्ठीय क्षेत्रफल और वक्रपृष्ठीय क्षेत्रफल के बीच अंतर कितना है? (मान लीजिए $\pi = \frac{22}{7}$)

- Ans
- A. 14.86 cm²
 - B. 13.56 cm²
 - C. 13.86 cm²
 - D. 12.86 cm²

Question ID : 630680112527
 Option 1 ID : 630680435804
 Option 2 ID : 630680435803
 Option 3 ID : 630680435805
 Option 4 ID : 630680435802
 Status : Answered
 Chosen Option : C

Q.6 G₁ व G₂ के व्यासों का अनुपात 3:5 है तो G₁ व G₂ के क्षेत्रफलों का अनुपात क्या होगा? (G₁ व G₂ क्रमशः दो वृत्तों के क्षेत्रफल हैं)

- Ans
- A. 1:3
 - B. 2:3
 - C. 3:1
 - D. 3:2

Question ID : 630680145271
 Option 1 ID : 630680562067
 Option 2 ID : 630680562069
 Option 3 ID : 630680562066
 Option 4 ID : 630680562068
 Status : Answered
 Chosen Option : A

Q.7 एक वृत्त का व्यास 20 cm है, तो इस वृत्त के क्षेत्रफल का 6% क्या होगा?

- Ans
- A. 68.23 cm
 - B. 56.56 cm
 - C. 200 cm
 - D. 100 cm

Question ID : 630680120866
 Option 1 ID : 630680468439
 Option 2 ID : 630680468441
 Option 3 ID : 630680468438
 Option 4 ID : 630680468440
 Status : Not Attempted and Marked For Review
 Chosen Option : -

Q.8 $4\text{ m} \times 3.5\text{ m} \times 3\text{ m}$ विमा वाले लकड़ी के सं क म $8\text{ cm} \times 7\text{ cm} \times 6\text{ cm}$ विमा वाले आयताकार सं क रखे हलकड़ी के तीन सं कस्म रखे जा सकने वाले सं कस्की अधिकतम संख्या ज्ञात करे

- Ans A. 1,25,000
 B. 3,75,000
 C. 4,00,000
 D. 2,50,000

Question ID : 630680108731
 Option 1 ID : 630680421847
 Option 2 ID : 630680421844
 Option 3 ID : 630680421845
 Option 4 ID : 630680421846
 Status : Answered
 Chosen Option : B

Q.9 $(-24)^{-1}$ को किस संख्या से विभाजित किया जाना चाहिए ताकि भागफल 3^{-1} प्राप्त हो सके?

- Ans A. -8
 B. $\frac{1}{8}$
 C. $-\frac{1}{8}$
 D. 8

Question ID : 63068079534
 Option 1 ID : 630680308176
 Option 2 ID : 630680308173
 Option 3 ID : 630680308174
 Option 4 ID : 630680308175
 Status : Answered
 Chosen Option : C

Q.10 30 वस्तु का अंकित मूल्य 48 वस्तु के क्रय मूल्य के बराबर था। 25 वस्तु का विक्रय मूल्य 16 वस्तु के अंकित मूल्य के बराबर था। त्वेक वस्तु की विक्री से प्त लिशत लाभ या हानि की गणना करे

- Ans A. 2.4% हान
 B. 2.4% लाभ
 C. 2.34% लाभ
 D. 2.34% हान

Question ID : 630680115768
 Option 1 ID : 630680448411
 Option 2 ID : 630680448410
 Option 3 ID : 630680448412
 Option 4 ID : 630680448413
 Status : Answered
 Chosen Option : B

Q.11 निम्नलिखित का मान ज्ञात कीजिए:

$$\frac{(10.17+8.12)^2+(10.17-8.12)^2}{10.17 \times 10.17+8.12 \times 8.12}$$

- Ans A. 4
 B. 1
 C. 2
 D. 3

Question ID : 630680218043
 Option 1 ID : 630680846079
 Option 2 ID : 630680846082
 Option 3 ID : 630680846081
 Option 4 ID : 630680846080
 Status : Answered
 Chosen Option : C

Q.12 एक व्यक्ति अपने वेतन का 25% किराए पर, 30% भोजन पर और 25% अन्य खर्चों पर खर्च करता है। यदि वह 350 की बचत करता है, तो उसका वेतन ज्ञात करें।

- Ans A. Rs.1,750
 B. Rs.1,550
 C. Rs.1,570
 D. Rs.1,770

Question ID : 630680105245
 Option 1 ID : 630680409060
 Option 2 ID : 630680409062
 Option 3 ID : 630680409061
 Option 4 ID : 630680409059
 Status : Answered
 Chosen Option : A

Q.13 एक चुनाव में, एक प्रत्याशी जिसे 72% मत प्राप्त होते हैं, वह 308 मतों के बहुमत से निर्वाचित होता है। डाले गए मतों की कुल संख्या कितनी है?

- Ans A. 700
 B. 443
 C. 530
 D. 720

Question ID : 630680137221
 Option 1 ID : 630680531481
 Option 2 ID : 630680531479
 Option 3 ID : 630680531478
 Option 4 ID : 630680531480
 Status : Answered
 Chosen Option : A

Q.14 $\frac{(98 \times 4 + 7) \times (20 + 14) + \{1500 \div (10 \times 50)\} \times 2 - 1}{(112 \times 4 + 16) \times (60 + 21) + \{1750 \div (5 \times 50)\} \times 2 - 9}$ का मान क्या होगा?

- Ans A. 0.5
 B. 1
 C. 1.5
 D. 0

Question ID : 63068070285
 Option 1 ID : 630680271772
 Option 2 ID : 630680271770
 Option 3 ID : 630680271773
 Option 4 ID : 630680271771
 Status : Answered
 Chosen Option : B

Q.15 एक ठेकेदार को 90 दिनों में एक पार्क का निर्माण करना है। वह 60 पुरुषों को काम पर लगाता है। 30 दिनों के बाद उसे लगता है कि पार्क के केवल 1/5वें हिस्से का ही निर्माण हो पाया है। कार्य को समय पर पूरा करने के लिए उसे और कितने पुरुषों को काम पर लगाना चाहिए?

- Ans A. 60
 B. 75
 C. 90
 D. 120

Question ID : 630680131591
 Option 1 ID : 630680509603
 Option 2 ID : 630680509605
 Option 3 ID : 630680509604
 Option 4 ID : 630680509602
 Status : Answered
 Chosen Option : A

Q.16 एक बेलन का संपूर्ण पृष्ठीय क्षेत्रफल ज्ञात कीजिए, जिसका व्यास 6 cm और ऊँचाई 20 cm है (केवल दो दशमलव स्थान तक)।

- Ans A. 333.71 cm²
 B. 313.71 cm²
 C. 413.71 cm²
 D. 433.71 cm²

Question ID : 630680116082
 Option 1 ID : 630680449658
 Option 2 ID : 630680449661
 Option 3 ID : 630680449660
 Option 4 ID : 630680449659
 Status : Answered
 Chosen Option : D

Q.17 ₹450 क्रय मूल्य वाली किसी वस्तु पर 40% और 10% का दो क्रमिक बट्टा दिया जाता है। वस्तु का विक्रय मूल्य ज्ञात करें।

- Ans
- A. ₹236
 - B. ₹225
 - C. ₹215
 - D. ₹243

Question ID : 630680119647
 Option 1 ID : 630680463675
 Option 2 ID : 630680463674
 Option 3 ID : 630680463676
 Option 4 ID : 630680463677
 Status : Answered
 Chosen Option : D

Q.18 यदि एक ठोस लंबवृत्तीय बेलन के आधार पर ऊँचाई और परिधि 24cm और 132cm है, तो इसका संपूर्ण पृष्ठीय क्षेत्रफल _____ है। (मान लें $\pi = \frac{22}{7}$)

- Ans
- A. 3168cm²
 - B. 4454cm²
 - C. 4554cm²
 - D. 5940cm²

Question ID : 630680108453
 Option 1 ID : 630680420779
 Option 2 ID : 630680420776
 Option 3 ID : 630680420777
 Option 4 ID : 630680420778
 Status : Answered
 Chosen Option : D

Q.19 5 अंकों की सबसे छोटी संख्या कौन सी है जो 13 से पूर्णतः विभाज्य है?

- Ans
- A. 10005
 - B. 10026
 - C. 10013
 - D. 10010

Question ID : 63068079798
 Option 1 ID : 630680309217
 Option 2 ID : 630680309220
 Option 3 ID : 630680309218
 Option 4 ID : 630680309219
 Status : Answered
 Chosen Option : D

Q.20 एक सप्ताह के दौरान एक टैक्सी चालक की दैनिक आय ₹70, ₹55, ₹60, ₹52.50, ₹63, ₹73 और ₹78 है। सप्ताह के लिए उसकी औसत दैनिक आय क्या है?

- Ans A. ₹54.50
 B. ₹84.50
 C. ₹64.50
 D. ₹74.50

Question ID : 630680135548
 Option 1 ID : 630680524915
 Option 2 ID : 630680524917
 Option 3 ID : 630680524916
 Option 4 ID : 630680524914
 Status : Answered
 Chosen Option : C

Q.21 एक घनाभ का आयतन 440 सेमी^3 है और इसके आधार का क्षेत्रफल 88 सेमी^2 है, घनाभ की ऊंचाई होगी:

- Ans A. 2 सेमी
 B. 8 सेमी
 C. 44 सेमी
 D. 5 सेमी

Question ID : 630680109277
 Option 1 ID : 630680423889
 Option 2 ID : 630680423891
 Option 3 ID : 630680423888
 Option 4 ID : 630680423890
 Status : Answered
 Chosen Option : D

Q.22 संपर्क क्रांति एक्सप्रेस 14:30 बजे 75 km/h की चाल से चलते हुए दिल्ली से चेन्नई के लिए रवाना होती है, जबकि राजधानी एक्सप्रेस उसी दिन समान मार्ग से 16:30 बजे 90 km/h की चाल से चलते हुए दिल्ली से चेन्नई के लिए रवाना होती है। दोनों रेलगाड़ियां दिल्ली से कितनी दूरी पर एक-दूसरे से मिलेंगी?

- Ans A. 950 km
 B. 900 km
 C. 860 km
 D. 820 km

Question ID : 630680206531
 Option 1 ID : 630680800731
 Option 2 ID : 630680800732
 Option 3 ID : 630680800733
 Option 4 ID : 630680800734
 Status : Answered
 Chosen Option : B

<https://link.testbook.com/bQQ2EkH1bpb><https://link.testbook.com/bQQ2EkH1bpb>

Q.23 ₹6,880 पर 5% वार्षिक की दर से 12 वर्षों के लिए साधारण ब्याज ज्ञात कीजिए।

- Ans
- A. ₹4,129
 - ✓ B. ₹4,128
 - C. ₹4,127
 - D. ₹4,126

Question ID : 630680121577
 Option 1 ID : 630680471269
 Option 2 ID : 630680471266
 Option 3 ID : 630680471267
 Option 4 ID : 630680471268
 Status : Answered
 Chosen Option : B

Q.24 एक स्कूल की छात्र संख्या में प्रत्येक एकांतर वर्ष (एक वर्ष छोड़कर एक वर्ष) में 20% की वृद्धि और कमी होती है। यह क्रम 2015 में वृद्धि के साथ शुरू हुआ। 2015 की तुलना में 2018 की शुरुआत में स्कूल की छात्र संख्या ज्ञात करें।

- Ans
- A. 16.5% कमी
 - B. 16.5% वृद्धि
 - C. 15.2% कमी
 - ✓ D. 15.2% वृद्धि

Question ID : 630680112585
 Option 1 ID : 630680436036
 Option 2 ID : 630680436037
 Option 3 ID : 630680436034
 Option 4 ID : 630680436035
 Status : Answered
 Chosen Option : A

Q.25 10 cm कोर वाले एक खुले घन (एक सतह खुली है) को बाहर की तरफ पेंट किया जाना है। यदि पेंटिंग का मूल्य Rs.2 प्रति cm^2 है, तो उसे पेंट करने की कुल लागत (Rs. में) क्या होगी?

- Ans
- A. 1200
 - B. 500
 - ✓ C. 1000
 - D. 200

Question ID : 63068070063
 Option 1 ID : 630680270893
 Option 2 ID : 630680270891
 Option 3 ID : 630680270892
 Option 4 ID : 630680270890
 Status : Answered
 Chosen Option : D

Section : English

Q.1 Sentences of a paragraph are given below in jumbled order. Arrange the sentences in the correct order to form a meaningful and coherent paragraph.

- A. Today, sunglasses serve as protective eyewear, effectively preventing bright sunlight from causing discomfort or damage to our eyes.
- B. But sunglasses were originally made out of smoky quartz in 12th century China.
- C. Of course, they're also a fashion accessory.
- D. They were used by Chinese judges to mask their emotions when they were questioning witnesses.

- Ans
- A. ACDB
 - B. ACBD
 - C. ABDC
 - D. ABCD

Question ID : 630680204448
 Option 1 ID : 630680792861
 Option 2 ID : 630680792860
 Option 3 ID : 630680792859
 Option 4 ID : 630680792862
 Status : Not Answered
 Chosen Option : -

Q.2 Select the most appropriate ANTONYM of the underlined word/phrase in the given sentence.
 This offer has come as a great boon to me.

- Ans
- A. Curse
 - B. Blemish
 - C. Trouble
 - D. Misfortune

Question ID : 630680177550
 Option 1 ID : 630680688360
 Option 2 ID : 630680688361
 Option 3 ID : 630680688362
 Option 4 ID : 630680688363
 Status : Not Answered
 Chosen Option : -

Q.3 Select the most appropriate ANTONYM of the given word.

Parsimonious

- Ans
- A. Generous
 - B. Wealthy
 - C. Miser
 - D. Thrifty

Question ID : 630680176624
 Option 1 ID : 630680684719
 Option 2 ID : 630680684718
 Option 3 ID : 630680684717
 Option 4 ID : 630680684716
 Status : Not Answered
 Chosen Option : -

Q.4 Select the INCORRECTLY spelt word.

- Ans
- A. Friend
 - B. Relative
 - C. Cousin
 - D. Niecee

Question ID : 630680167070
 Option 1 ID : 630680647143
 Option 2 ID : 630680647142
 Option 3 ID : 630680647140
 Option 4 ID : 630680647141
 Status : Not Answered
 Chosen Option : -

Q.5 Select the most appropriate synonym of the given word.

Absorb

- Ans
- A. Emit
 - B. Throw up
 - C. Consume
 - D. Dissolve

Question ID : 630680181761
 Option 1 ID : 630680704279
 Option 2 ID : 630680704280
 Option 3 ID : 630680704281
 Option 4 ID : 630680704278
 Status : Not Answered
 Chosen Option : -

Q.6 Sentences of a paragraph are given below in jumbled order. Select the option that arranges the sentences in the correct logical sequence to form a meaningful and coherent paragraph.

- a. In reality, work constitutes the vast majority of everyday activity for all humans.
- b. Work is fundamental to all cultures, but each has distinct values and perceptions towards it.
- c. Work can be defined as activities performed for a specific reason or out of necessity.
- d. Education, health, age, opportunity, globalisation, geographic location, financial rewards, family background, and other factors affect people's work.

- Ans
- A. c, a, b, d
 - B. b, a, d, c
 - C. a, d, b, c
 - D. c, b, a, d

Question ID : 630680192507
 Option 1 ID : 630680746617
 Option 2 ID : 630680746619
 Option 3 ID : 630680746620
 Option 4 ID : 630680746618
 Status : Not Answered
 Chosen Option : -

Q.7 Select the most appropriate option that can substitute the underlined segment in the given sentence.

The cost of Covid-19 lockdowns and school closures in children's health, well-being and learning has been devastating.

- Ans
- & XHMTTQ HQTZXWJX 'NYM HMNQIWJS X MJFQYM
 - ' XHMTTQ HQTZXWJX YT HMNQIWJS X MJFQYM
 - (XHMTTQ HQTZXWJX FY HMNQIWJS X MJFQYM
 - XHMTTQ HQTZXWJX TS HMNQIWJS X MJFQYM

6ZJXYNTS .) 630680130475
4UYNTS .) 630680505210
4UYNTS .) 630680505213
4UYNTS ~ .) 630680505211
4UYNTS ~ .) 630680505212
8YFYZXNot Answered
(MTXJS 4UYNTS~

Q.8 Sentences of a paragraph are given below in jumbled order. Arrange the sentences in the correct order to form a meaningful and coherent paragraph.

- A. The state is known for good governance, peace, law and order and stability.
- B. It also has benefitted greatly from the work that has been done to increase social, physical and digital infrastructure.
- C. In the coming years, the state will create a big pool of talented and skilled youth, which will create a good social and economic environment not only in the state but in entire India.
- D. Uttar Pradesh has become a hope for the world and is driving the country's overall growth.

- Ans
- & (&)
 - ' &) (
 - () (&
 -) & (

6ZJXYNTS .) 630680204959
4UYNTS .) 630680794704
4UYNTS .) 630680794705
4UYNTS ~ .) 630680794706
4UYNTS ~ .) 630680794703
8YFYZXNot Answered
(MTXJS 4UYNTS~

Q.9 The following sentence has been divided into three segments. One of them may contain an error. Select the segment that contains the error from the given options. If you don't find any error, mark 'No error' as your answer.

Each of these students / have been warned / not to repeat the mistake.

- Ans
- & 3T ~WWTW
 - ' *FHM TK YMJXJ XYZIJSYX
 - (MFJ GJJS VFWSJI
 -) STY YT WJUFY YMJ RNXYFPJ

6ZJXYNTS .) 630680130697
4UYNTS .) 630680506085
4UYNTS .) 630680506082
4UYNTS ~ .) 630680506083
4UYNTS ~ .) 630680506084
8YFYZXNot Answered
(MTXJS 4UYNTS~

Q.10 Parts of a paragraph are given below in jumbled order. Arrange the parts in the correct order to form a meaningful and coherent paragraph.

- A. A 24-year-old woman was allegedly caught smoking in the toilet of a moving flight.
- B. And she was arrested on her arrival and later released on bail.
- C. Airport security officials complained the same to the police.
- D. A case under Indian Penal Code 336 was filed as hers was a rash and negligent behaviour on the flight

- Ans
- A. BACD
 - B. ACDB
 - C. DCBA
 - D. ABCD

Question ID : 630680204409
 Option 1 ID : 630680792722
 Option 2 ID : 630680792720
 Option 3 ID : 630680792721
 Option 4 ID : 630680792719
 Status : Not Answered
 Chosen Option : -

Q.11 Select the most appropriate synonym of the given word.
 Consolidate

- Ans
- A. Manage
 - B. Disperse
 - C. Distintegrate
 - D. Integrate

Question ID : 630680204956
 Option 1 ID : 630680794691
 Option 2 ID : 630680794692
 Option 3 ID : 630680794694
 Option 4 ID : 630680794693
 Status : Not Answered
 Chosen Option : -

Q.12 Select the INCORRECTLY spelt word.

- Ans
- A. Maintainence
 - B. Concentration
 - C. Improvement
 - D. Oppression

Question ID : 630680172399
 Option 1 ID : 630680668022
 Option 2 ID : 630680668020
 Option 3 ID : 630680668021
 Option 4 ID : 630680668023
 Status : Not Answered
 Chosen Option : -

Q.13 Select the sentence with the most appropriate use of adverb.

- Ans A. They have arrived recent.
 B. They have arrived on recently.
 C. They have arrived with recently.
 D. They have arrived recently.

Question ID : 630680129454
Option 1 ID : 630680501436
Option 2 ID : 630680501435
Option 3 ID : 630680501437
Option 4 ID : 630680501434
Status : Not Answered
Chosen Option : -

Q.14 Select the INCORRECTLY spelt word.

- Ans A. Penetrate
 B. Segregrate
 C. Separate
 D. Desperate

Question ID : 630680172401
Option 1 ID : 630680668028
Option 2 ID : 630680668029
Option 3 ID : 630680668030
Option 4 ID : 630680668031
Status : Not Answered
Chosen Option : -

Q.15 Select the option that can be used as a one-word substitute for the given phrase.
One who has divine reverence for nature

- Ans A. Atheist
 B. Theist
 C. Pantheist
 D. Anaesthetist

Question ID : 630680113218
Option 1 ID : 630680438435
Option 2 ID : 630680438436
Option 3 ID : 630680438434
Option 4 ID : 630680438437
Status : Not Answered
Chosen Option : -

Q.16 Select the most appropriate meaning of the given proverb/idiom.
It takes two to tango.

- Ans
- A. Two soldiers can win a war when trying together
 - B. Two people turn things worse
 - C. Two people are equally responsible for a situation
 - D. Two and two make four

Question ID : 630680160072
Option 1 ID : 630680619673
Option 2 ID : 630680619672
Option 3 ID : 630680619674
Option 4 ID : 630680619675
Status : Not Answered
Chosen Option : -

Q.17 Select the option that can be used as a one-word substitute for the given group of words.

It is a large building with an extensive floor area for housing aircraft.

- Ans
- A. Dormitory
 - B. Hangar
 - C. Gymnasium
 - D. Kennel

Question ID : 630680129764
Option 1 ID : 630680502656
Option 2 ID : 630680502654
Option 3 ID : 630680502655
Option 4 ID : 630680502657
Status : Not Answered
Chosen Option : -

Q.18 Select the correctly spelt word.

- Ans
- A. January
 - B. Janaury
 - C. Januaruy
 - D. Janury

Question ID : 630680131813
Option 1 ID : 630680510464
Option 2 ID : 630680510462
Option 3 ID : 630680510465
Option 4 ID : 630680510463
Status : Not Answered
Chosen Option : -

Q.19 Select the most appropriate meaning of the given idiom.
Stood his ground.

- Ans A. To stand on the ground
 B. To maintain one's own position
 C. To stand on one's own land
 D. To be clearly aware

Question ID : 630680167282
Option 1 ID : 630680647900
Option 2 ID : 630680647902
Option 3 ID : 630680647901
Option 4 ID : 630680647903
Status : Not Answered
Chosen Option : -

Q.20 Select the option that can be used as a one-word substitute for the given group of words.
The addition of a letter or syllable to a word in particular contexts as the language develops

- Ans A. Paragoge
 B. Palingram
 C. Etymology
 D. Pangram

Question ID : 630680176861
Option 1 ID : 630680685649
Option 2 ID : 630680685650
Option 3 ID : 630680685648
Option 4 ID : 630680685651
Status : Not Answered
Chosen Option : -

Comprehension:

Read the given passage and answer the questions that follow.

When you think of a desert the picture that immediately comes to your mind is that of sand. But besides the vast stretches of sands, that Sahara desert is covered with, there are also gravel plains and elevated plateaus with bare rocky surface. These rocky surfaces may be more than 2500m high at some places. The climate of the Sahara desert is scorching hot and parch dry. It has a short rainy season. The sky is cloudless and clear. Here, the moisture evaporates faster than it accumulates. Days are unbelievably hot. The temperatures during the day may soar as high as 50°C, heating up the sand and the bare rocks, which in turn radiates heat making everything around hot. The nights may be freezing cold with temperatures nearing zero degrees.

Vegetation in the Sahara desert includes cactus, date palms and acacia. In some places there are oases – green islands with date palms surrounding them. Camels, hyenas, jackals, foxes, scorpions, many varieties of snakes and lizards are the prominent animal species living there. The Sahara desert despite its harsh climate has been inhabited by various groups of people, who pursue different activities. Among them are the Bedouins and Tuaregs. These groups are nomadic tribes rearing livestock such as goats, sheep, camels and horses. These animals provide them with milk, hides from which they make leather for belts, slippers, water bottles; hair is used for mats, carpets, clothes and blankets. They wear heavy robes as protection against dust storms and hot winds. The oases in the Sahara and the Nile Valley in Egypt supports settled population. Since water is available, the people grow date palms. Crops such as rice, wheat, barley and beans are also grown. Egyptian cotton, famous worldwide is grown in Egypt. The discovery of oil – a product in great demand throughout the world, in Algeria, Libya and Egypt is constantly transforming the Sahara desert. Other minerals of importance that are found in the area include iron, phosphorus, manganese and uranium.

SubQuestion No : 21

Q.21 The days in Sahara are extremely hot. Which of the following is NOT a reason for this?

- Ans A. Sahara has a short rainy season.
- B. The moisture evaporates faster than it accumulates.
- C. The sky remains clear and cloudless and the sun shines brightly.
- D. The heated sand and bare rocks radiate heat.

Question ID : 630680134231

Option 1 ID : 630680519792

Option 2 ID : 630680519791

Option 3 ID : 630680519790

Option 4 ID : 630680519793

Status : Not Answered

Chosen Option : –

Comprehension:

Read the given passage and answer the questions that follow.

When you think of a desert the picture that immediately comes to your mind is that of sand. But besides the vast stretches of sands, that Sahara desert is covered with, there are also gravel plains and elevated plateaus with bare rocky surface. These rocky surfaces may be more than 2500m high at some places. The climate of the Sahara desert is scorching hot and parch dry. It has a short rainy season. The sky is cloudless and clear. Here, the moisture evaporates faster than it accumulates. Days are unbelievably hot. The temperatures during the day may soar as high as 50°C, heating up the sand and the bare rocks, which in turn radiates heat making everything around hot. The nights may be freezing cold with temperatures nearing zero degrees.

Vegetation in the Sahara desert includes cactus, date palms and acacia. In some places there are oasis – green islands with date palms surrounding them. Camels, hyenas, jackals, foxes, scorpions, many varieties of snakes and lizards are the prominent animal species living there. The Sahara desert despite its harsh climate has been inhabited by various groups of people, who pursue different activities. Among them are the Bedouins and Tuaregs. These groups are nomadic tribes rearing livestock such as goats, sheep, camels and horses. These animals provide them with milk, hides from which they make leather for belts, slippers, water bottles; hair is used for mats, carpets, clothes and blankets. They wear heavy robes as protection against dust storms and hot winds. The oasis in the Sahara and the Nile Valley in Egypt supports settled population. Since water is available, the people grow date palms. Crops such as rice, wheat, barley and beans are also grown. Egyptian cotton, famous worldwide is grown in Egypt. The discovery of oil – a product in great demand throughout the world, in Algeria, Libya and Egypt is constantly transforming the Sahara desert. Other minerals of importance that are found in the area include iron, phosphorus, manganese and uranium.

SubQuestion No : 22

Q.22 The Sahara Desert is undergoing a change. What is the main cause of its transformation?

- Ans
- A. Egyptian cotton which is world famous
 - B. The settled population in the Nile Valley
 - C. The local handicraft of the people of Sahara
 - D. The discovery of oil which is in great demand

Question ID : 630680134232

Option 1 ID : 630680519794

Option 2 ID : 630680519796

Option 3 ID : 630680519797

Option 4 ID : 630680519795

Status : Not Answered

Chosen Option : –

Comprehension:

Read the given passage and answer the questions that follow.

When you think of a desert the picture that immediately comes to your mind is that of sand. But besides the vast stretches of sands, that Sahara desert is covered with, there are also gravel plains and elevated plateaus with bare rocky surface. These rocky surfaces may be more than 2500m high at some places. The climate of the Sahara desert is scorching hot and parch dry. It has a short rainy season. The sky is cloudless and clear. Here, the moisture evaporates faster than it accumulates. Days are unbelievably hot. The temperatures during the day may soar as high as 50°C, heating up the sand and the bare rocks, which in turn radiates heat making everything around hot. The nights may be freezing cold with temperatures nearing zero degrees.

Vegetation in the Sahara desert includes cactus, date palms and acacia. In some places there are oasis – green islands with date palms surrounding them. Camels, hyenas, jackals, foxes, scorpions, many varieties of snakes and lizards are the prominent animal species living there. The Sahara desert despite its harsh climate has been inhabited by various groups of people, who pursue different activities. Among them are the Bedouins and Tuaregs. These groups are nomadic tribes rearing livestock such as goats, sheep, camels and horses. These animals provide them with milk, hides from which they make leather for belts, slippers, water bottles; hair is used for mats, carpets, clothes and blankets. They wear heavy robes as protection against dust storms and hot winds. The oasis in the Sahara and the Nile Valley in Egypt supports settled population. Since water is available, the people grow date palms. Crops such as rice, wheat, barley and beans are also grown. Egyptian cotton, famous worldwide is grown in Egypt. The discovery of oil – a product in great demand throughout the world, in Algeria, Libya and Egypt is constantly transforming the Sahara desert. Other minerals of importance that are found in the area include iron, phosphorus, manganese and uranium.

SubQuestion No : 23

Q.23 The theme of the last paragraph of the passage is:

- Ans A. the people of Sahara
 B. occupation of the people of Sahara
 C. the crops grown in Sahara
 D. the settled population of Sahara

Question ID : 630680134230

Option 1 ID : 630680519786

Option 2 ID : 630680519787

Option 3 ID : 630680519789

Option 4 ID : 630680519788

Status : Not Answered

Chosen Option : –

Adda247

Comprehension:

Read the given passage and answer the questions that follow.

When you think of a desert the picture that immediately comes to your mind is that of sand. But besides the vast stretches of sands, that Sahara desert is covered with, there are also gravel plains and elevated plateaus with bare rocky surface. These rocky surfaces may be more than 2500m high at some places. The climate of the Sahara desert is scorching hot and parch dry. It has a short rainy season. The sky is cloudless and clear. Here, the moisture evaporates faster than it accumulates. Days are unbelievably hot. The temperatures during the day may soar as high as 50°C, heating up the sand and the bare rocks, which in turn radiates heat making everything around hot. The nights may be freezing cold with temperatures nearing zero degrees.

Vegetation in the Sahara desert includes cactus, date palms and acacia. In some places there are oases – green islands with date palms surrounding them. Camels, hyenas, jackals, foxes, scorpions, many varieties of snakes and lizards are the prominent animal species living there. The Sahara desert despite its harsh climate has been inhabited by various groups of people, who pursue different activities. Among them are the Bedouins and Tuaregs. These groups are nomadic tribes rearing livestock such as goats, sheep, camels and horses. These animals provide them with milk, hides from which they make leather for belts, slippers, water bottles; hair is used for mats, carpets, clothes and blankets. They wear heavy robes as protection against dust storms and hot winds. The oases in the Sahara and the Nile Valley in Egypt supports settled population. Since water is available, the people grow date palms. Crops such as rice, wheat, barley and beans are also grown. Egyptian cotton, famous worldwide is grown in Egypt. The discovery of oil – a product in great demand throughout the world, in Algeria, Libya and Egypt is constantly transforming the Sahara desert. Other minerals of importance that are found in the area include iron, phosphorus, manganese and uranium.

SubQuestion No : 24

Q.24 Which of the given statements are true as per the passage?

- a. Sahara desert is just a vast stretch of dry sand.
- b. Sahara has some high rocky plateaus as well as some gravel plains.
- c. Sahara Desert has some green lands with water and trees.

- Ans
- A. b and c are true
 - B. a and c are true
 - C. a, b and c are all true
 - D. a and b are true

Question ID : 630680134229
Option 1 ID : 630680519783
Option 2 ID : 630680519784
Option 3 ID : 630680519785
Option 4 ID : 630680519782
Status : Not Answered
Chosen Option : -

Comprehension:

Read the given passage and answer the questions that follow.

When you think of a desert the picture that immediately comes to your mind is that of sand. But besides the vast stretches of sands, that Sahara desert is covered with, there are also gravel plains and elevated plateaus with bare rocky surface. These rocky surfaces may be more than 2500m high at some places. The climate of the Sahara desert is scorching hot and parch dry. It has a short rainy season. The sky is cloudless and clear. Here, the moisture evaporates faster than it accumulates. Days are unbelievably hot. The temperatures during the day may soar as high as 50°C, heating up the sand and the bare rocks, which in turn radiates heat making everything around hot. The nights may be freezing cold with temperatures nearing zero degrees.

Vegetation in the Sahara desert includes cactus, date palms and acacia. In some places there are oasis – green islands with date palms surrounding them. Camels, hyenas, jackals, foxes, scorpions, many varieties of snakes and lizards are the prominent animal species living there. The Sahara desert despite its harsh climate has been inhabited by various groups of people, who pursue different activities. Among them are the Bedouins and Tuaregs. These groups are nomadic tribes rearing livestock such as goats, sheep, camels and horses. These animals provide them with milk, hides from which they make leather for belts, slippers, water bottles; hair is used for mats, carpets, clothes and blankets. They wear heavy robes as protection against dust storms and hot winds. The oasis in the Sahara and the Nile Valley in Egypt supports settled population. Since water is available, the people grow date palms. Crops such as rice, wheat, barley and beans are also grown. Egyptian cotton, famous worldwide is grown in Egypt. The discovery of oil – a product in great demand throughout the world, in Algeria, Libya and Egypt is constantly transforming the Sahara desert. Other minerals of importance that are found in the area include iron, phosphorus, manganese and uranium.

SubQuestion No : 25

Q.25 After reading the passage one can infer that it belongs to the area of:

- Ans A. geography
 B. economics
 C. sociology
 D. history

Question ID : 630680134228
 Option 1 ID : 630680519779
 Option 2 ID : 630680519780
 Option 3 ID : 630680519781
 Option 4 ID : 630680519778
 Status : Not Answered
 Chosen Option : –

Section : Hindi

Q.1 'हाथी' का पर्यायवाची शब्द है-

- Ans A. अहि
 B. गज
 C. खर
 D. वायस

Question ID : 630680128968
 Option 1 ID : 630680499501
 Option 2 ID : 630680499500
 Option 3 ID : 630680499498
 Option 4 ID : 630680499499
 Status : Answered
 Chosen Option : B

Q.2 निम्नलिखित में से 'कोयल' के पर्यायवाची का चयन करें-

- Ans A. पिक
 B. करठ
 C. द्विज
 D. शुक

Question ID : 630680146771
 Option 1 ID : 630680567923
 Option 2 ID : 630680567925
 Option 3 ID : 630680567922
 Option 4 ID : 630680567924
 Status : Answered
 Chosen Option : A

Q.3 हंस के समान गति से चलने वाली – वाक्यांश के लिए उपयुक्त शब्द क्या होगा ?

- Ans A. गजवाहिनी
 B. हंसवाहिनी
 C. हंसगामिनी
 D. गजगामिनी

Question ID : 630680125877
 Option 1 ID : 630680488149
 Option 2 ID : 630680488147
 Option 3 ID : 630680488148
 Option 4 ID : 630680488146
 Status : Answered
 Chosen Option : B

Q.4 निम्नलिखित में से 'कर्मधारय समास' में विग्रह वाले विकल्प का चयन कीजिए -

- Ans A. दहीबड़ा-दही में डूबा हुआ बड़ा
 B. श्वेताम्बर-श्वेत है जो अम्बर
 C. दुमुट – दो प्रकार की मिट्टियों का समूह
 D. नीलकंठ – नीला है कंठ जिसका वह

Question ID : 630680204517
 Option 1 ID : 630680793122
 Option 2 ID : 630680793120
 Option 3 ID : 630680793119
 Option 4 ID : 630680793121
 Status : Answered
 Chosen Option : B

Q.5 'संस्कृत' शब्द का अर्थ क्या है ?
 विकल्प -

- Ans
- A. प्रतिक
 - B. प्रदीप
 - C. प्रतीक
 - D. प्रतीक

Question ID : 630680203858
 Option 1 ID : 630680790633
 Option 2 ID : 630680790631
 Option 3 ID : 630680790634
 Option 4 ID : 630680790632
 Status : Answered
 Chosen Option : B

Q.6 'असमान' शब्द का अर्थ क्या है ?
 विकल्प -

- Ans
- A. अद्भुत
 - B. असमान
 - C. विशाल
 - D. असमान

Question ID : 630680203635
 Option 1 ID : 630680789742
 Option 2 ID : 630680789740
 Option 3 ID : 630680789741
 Option 4 ID : 630680789739
 Status : Answered
 Chosen Option : B

Q.7 'शिव' शब्द का अर्थ क्या है ?
 विकल्प -

- Ans
- A. शिव
 - B. वैष्णव
 - C. भक्त
 - D. शाक्त

Question ID : 630680204936
 Option 1 ID : 630680794611
 Option 2 ID : 630680794613
 Option 3 ID : 630680794614
 Option 4 ID : 630680794612
 Status : Answered
 Chosen Option : A

Q.8 ' अति ' शब्द का अर्थ -

- Ans
- A. अति + उत्तम
 - B. अत्य + उत्तम
 - C. अत् + उत्तम
 - D. अति + युत्तम

Question ID : 630680138918
 Option 1 ID : 630680537822
 Option 2 ID : 630680537824
 Option 3 ID : 630680537823
 Option 4 ID : 630680537825
 Status : Answered
 Chosen Option : A

Q.9 " अक्षय " शब्द का अर्थ -

- Ans
- A. अक्षय ने सानवी की बहुत प्रतीक्षा किया
 - B. अक्षय ने सानवी की बहुत प्रतीक्षा करी
 - C. अक्षय ने सानवी की बहुत प्रतीक्षा की।
 - D. अक्षय ने सानवी की बहुत प्रतीक्षा कि।

Question ID : 630680142442
 Option 1 ID : 630680551277
 Option 2 ID : 630680551274
 Option 3 ID : 630680551276
 Option 4 ID : 630680551275
 Status : Answered
 Chosen Option : C

Q.10 ' अक्षय ' शब्द का अर्थ -

- Ans
- A. इच्छा के विरुद्ध काम करना
 - B. अपने स्वार्थ के लिए नुकसान भी मंजूर
 - C. मुफ्त में मिली चीज़ में मीन-मेख नहीं निकालना चाहिए
 - D. अनायास अपना काम बन जाए (तब कहते हैं)

Question ID : 630680204505
 Option 1 ID : 630680793072
 Option 2 ID : 630680793071
 Option 3 ID : 630680793073
 Option 4 ID : 630680793074
 Status : Answered
 Chosen Option : C

Q.11 निम्नलिखित में से कौन-सा शब्द अनेकार्थक नहीं है-

- Ans A. ठस
 B. निपुण
 C. तंग
 D. ठहरना

Question ID : 630680204544
 Option 1 ID : 630680793227
 Option 2 ID : 630680793229
 Option 3 ID : 630680793230
 Option 4 ID : 630680793228
 Status : Answered
 Chosen Option : D

Q.12 जो जानने की तीव्र इच्छा रखता है – वाक्यांश का उचित शब्द होगा?

- Ans A. जिजीविषु
 B. जिज्ञासा
 C. जिजीविषा
 D. जिज्ञासु

Question ID : 630680125871
 Option 1 ID : 630680488124
 Option 2 ID : 630680488122
 Option 3 ID : 630680488123
 Option 4 ID : 630680488125
 Status : Answered
 Chosen Option : D

Q.13 अंग्रेज भारत को अपने _____ करना चाहते थे। रिक्त स्थान की पूर्ति उचित तत्सम शब्द से कीजिए।

- Ans A. अधीन
 B. पराधीन
 C. आधीन
 D. स्वाधीन

Question ID : 630680203833
 Option 1 ID : 630680790532
 Option 2 ID : 630680790531
 Option 3 ID : 630680790533
 Option 4 ID : 630680790534
 Status : Answered
 Chosen Option : A

Q.14 निम्नलिखित में से 'अव्ययीभाव समास' के विकल्प का चयन कीजिए-

- Ans
- A. सद्भावना - सत् भावना
 - B. दानवीर - दान में वीर
 - C. पददलित - पद से दलित
 - D. उपकूल - कूल के समीप

Question ID : 630680204514
Option 1 ID : 630680793108
Option 2 ID : 630680793109
Option 3 ID : 630680793107
Option 4 ID : 630680793110
Status : Answered
Chosen Option : A

Q.15 _____ संवाददाता ने यह सूचना दी है। रिक्त स्थान के लिए सर्वनाम का उचित विकल्प है-

- Ans
- A. हम
 - B. हमारे
 - C. मैं
 - D. आप

Question ID : 63068091119
Option 1 ID : 630680353230
Option 2 ID : 630680353231
Option 3 ID : 630680353233
Option 4 ID : 630680353232
Status : Answered
Chosen Option : B

Q.16 निम्नलिखित में से 'अभिषिक्त' का सही सन्धि-विच्छेद क्या है? उचित विकल्प का चयन कीजिये-

- Ans
- A. अभी + शिक्त
 - B. अभि + शिक्त
 - C. अभि + शिक्त
 - D. अभ + शिक्त

Question ID : 63068065799
Option 1 ID : 630680254143
Option 2 ID : 630680254142
Option 3 ID : 630680254144
Option 4 ID : 630680254145
Status : Answered
Chosen Option : C

Q.17 'में, मैंने' सर्वनाम का बहुवचन रूप है-

- Ans A. हम, हमने
 B. हमें, हमको
 C. मुझे, मुझको
 D. मुझमें, मुझपर

Question ID : 63068091121
 Option 1 ID : 630680353241
 Option 2 ID : 630680353238
 Option 3 ID : 630680353239
 Option 4 ID : 630680353240
 Status : Answered
 Chosen Option : A

Q.18 सामासिक शब्द 'बारहसिंगा' में निहित समास की पहचान, इसके अग्रलिखित विग्रह 'बारह हूँ सींग जिसके' के अनुसार कीजिये-

- Ans A. कर्मधारय
 B. अव्ययीभाव
 C. बहुव्रीह
 D. द्विगु

Question ID : 630680126447
 Option 1 ID : 630680490374
 Option 2 ID : 630680490376
 Option 3 ID : 630680490375
 Option 4 ID : 630680490377
 Status : Answered
 Chosen Option : A

Q.19 निम्नलिखित विकल्पों में से 'जिसे प्रमाण द्वारा सिद्ध न किया जा सके।' वाक्यांश के लिए एक सार्थक शब्द क्या होगा ?

- Ans A. अकल्पनीय
 B. अहेतुक
 C. अप्रत्यासित
 D. अप्रमेय

Question ID : 630680126111
 Option 1 ID : 630680489059
 Option 2 ID : 630680489060
 Option 3 ID : 630680489058
 Option 4 ID : 630680489061
 Status : Answered
 Chosen Option : D

Q.20 'ऑख एक नहीं, कजरौटा दस दस' लोकोक्ति का सही अर्थ इनमें से क्या होगा?

- Ans A. र्थ आडंबर
 B. र्थ देखना
 C. र्थ बोलना
 D. र्थ सुनना

Question ID : 630680204917
 Option 1 ID : 630680794537
 Option 2 ID : 630680794536
 Option 3 ID : 630680794535
 Option 4 ID : 630680794538
 Status : Answered
 Chosen Option : A

Comprehension:

उपरोक्त ग श के आधार पर म् न त प्र का उ र दें।
 क ता एक बने-बनाये ल्प और आजमाये हुए तौर-तरीकों वाली रचना का नाम नहीं है। क ता वहा क जीवन में एक वैचा क प्रयोग भी है। यह प्रयोग केवल राजनी क तों कऱसामा क प ण कऱअ िक के ही काम नहीं आता ब जीवन कऱसभी उच्चताओं और म्नताओं का पीछा कर उन्हें अनुभू का ही नहीं अ िक का भी षय बनाने के काम आता है। क ता के प्रयोग, भाषा कऱही समू नहीं बढ़ाते ब वे संवाद के अर्थ और सौंदर्य को भी बढ़ाते हैं। सारी दु या क ता का षय हो सकती है यह क कऱदू पर र्भर करता है। क ता में पहला अनुभवकर्ता, पहला स और पहला दू एक ऐसा िक होता है से क भी कहा जाता है। यह समाज के स्वाध्याय से पायी हुई भाषा का कायाकल्प करता रहता है।

SubQuestion No : 21

Q.21 उपरोक्त गद्यांश के आधार पर निम्नलिखित प्रश्न का उत्तर दें।
 कविता का विषय क्या हो, यह किस पर निर्भर है?

- Ans A. क ता पर
 B. शब्दों पर
 C. क कऱदू पर
 D. समाज पर

Question ID : 630680156883
 Option 1 ID : 630680607136
 Option 2 ID : 630680607137
 Option 3 ID : 630680607139
 Option 4 ID : 630680607138
 Status : Answered
 Chosen Option : C

Comprehension:

उपरोक्त गद्यांश के आधार पर निम्नलिखित प्रश्न का उत्तर दें।
कविता एक बने-बनाये शिल्प और आजमाये हुए तौर-तरीकों वाली रचना का नाम नहीं है। कविता व्यावहारिक जीवन में एक वैचारिक प्रयोग भी है। यह प्रयोग केवल राजनीतिक सिद्धांतों की सामाजिक परिणति की अभिव्यक्ति के ही काम नहीं आता बल्कि जीवन की सभी उच्चताओं और निम्नताओं का पीछा कर उन्हें अनुभूति का ही नहीं अभिव्यक्ति का भी विषय बनाने के काम आता है। कविता के प्रयोग, भाषा की ही समृद्धि नहीं बढ़ाते बल्कि वे संवाद के अर्थ और सौंदर्य को भी बढ़ाते हैं। सारी दुनिया कविता का विषय हो सकती है यह कवि की दृष्टि पर निर्भर करता है। कविता में पहला अनुभवकर्ता, पहला स्रष्टा और पहला दृष्टा एक ऐसा व्यक्ति होता है जिसे कवि भी कहा जाता है। यह समाज के स्वाध्याय से पायी हुई भाषा का कायाकल्प करता रहता है।

SubQuestion No : 22

Q.22 उपरोक्त गद्यांश के आधार पर निम्नलिखित प्रश्न का उत्तर दें।
प्रस्तुत गद्यांश का उचित शीर्षक बताएं?

- Ans
- A. कला और कलाकार
 - B. गीत और गीतकार
 - C. कवि और कविता
 - D. संगीत और संगीतकार

Question ID : 630680156880
Option 1 ID : 630680607127
Option 2 ID : 630680607125
Option 3 ID : 630680607124
Option 4 ID : 630680607126
Status : Answered
Chosen Option : C

Comprehension:

उपरोक्त गद्यांश के आधार पर निम्नलिखित प्रश्न का उत्तर दें।
कविता एक बने-बनाये शिल्प और आजमाये हुए तौर-तरीकों वाली रचना का नाम नहीं है। कविता व्यावहारिक जीवन में एक वैचारिक प्रयोग भी है। यह प्रयोग केवल राजनीतिक सिद्धांतों की सामाजिक परिणति की अभिव्यक्ति के ही काम नहीं आता बल्कि जीवन की सभी उच्चताओं और निम्नताओं का पीछा कर उन्हें अनुभूति का ही नहीं अभिव्यक्ति का भी विषय बनाने के काम आता है। कविता के प्रयोग, भाषा की ही समृद्धि नहीं बढ़ाते बल्कि वे संवाद के अर्थ और सौंदर्य को भी बढ़ाते हैं। सारी दुनिया कविता का विषय हो सकती है यह कवि की दृष्टि पर निर्भर करता है। कविता में पहला अनुभवकर्ता, पहला स्रष्टा और पहला दृष्टा एक ऐसा व्यक्ति होता है जिसे कवि भी कहा जाता है। यह समाज के स्वाध्याय से पायी हुई भाषा का कायाकल्प करता रहता है।

SubQuestion No : 23

Q.23 उपरोक्त गद्यांश के आधार पर निम्नलिखित प्रश्न का उत्तर दें।
कविता के प्रयोग निम्न में से किसकी वृद्धि नहीं करते है?

- Ans
- A. भाषा की समृद्धि
 - B. संवाद के सौन्दर्य
 - C. शौर्य की वृद्धि
 - D. संवाद के अर्थ

Question ID : 630680156882
Option 1 ID : 630680607132
Option 2 ID : 630680607134
Option 3 ID : 630680607135
Option 4 ID : 630680607133
Status : Answered
Chosen Option : A

Comprehension:

उपरोक्त गद्यांश के आधार पर निम्नलिखित प्रश्न का उत्तर दें।
कविता एक बने-बनाये शिल्प और आजमाये हुए तौर-तरीकों वाली रचना का नाम नहीं है। कविता व्यावहारिक जीवन में एक वैचारिक प्रयोग भी है। यह प्रयोग केवल राजनीतिक सिद्धांतों की सामाजिक परिणति की अभिव्यक्ति के ही काम नहीं आता बल्कि जीवन की सभी उच्चताओं और निम्नताओं का पीछा कर उन्हें अनुभूति का ही नहीं अभिव्यक्ति का भी विषय बनाने के काम आता है। कविता के प्रयोग, भाषा की ही समृद्धि नहीं बढ़ाते बल्कि वे संवाद के अर्थ और सौंदर्य को भी बढ़ाते हैं। सारी दुनिया कविता का विषय हो सकती है यह कवि की दृष्टि पर निर्भर करता है। कविता में पहला अनुभवकर्ता, पहला स्रष्टा और पहला दृष्टा एक ऐसा व्यक्ति होता है जिसे कवि भी कहा जाता है। यह समाज के स्वाध्याय से पायी हुई भाषा का कायाकल्प करता रहता है।

SubQuestion No : 24

Q.24 उपरोक्त गद्यांश के आधार पर निम्नलिखित प्रश्न का उत्तर दें।
कविता में पहला दृष्टा कौन होता है?

- Ans A. कवि
 B. शब्द
 C. कविता
 D. पाठक

Question ID : 630680156884
Option 1 ID : 630680607142
Option 2 ID : 630680607141
Option 3 ID : 630680607140
Option 4 ID : 630680607143
Status : Answered
Chosen Option : A

Comprehension:

उपरोक्त गद्यांश के आधार पर निम्नलिखित प्रश्न का उत्तर दें।
कविता एक बने-बनाये शिल्प और आजमाये हुए तौर-तरीकों वाली रचना का नाम नहीं है। कविता व्यावहारिक जीवन में एक वैचारिक प्रयोग भी है। यह प्रयोग केवल राजनीतिक सिद्धांतों की सामाजिक परिणति की अभिव्यक्ति के ही काम नहीं आता बल्कि जीवन की सभी उच्चताओं और निम्नताओं का पीछा कर उन्हें अनुभूति का ही नहीं अभिव्यक्ति का भी विषय बनाने के काम आता है। कविता के प्रयोग, भाषा की ही समृद्धि नहीं बढ़ाते बल्कि वे संवाद के अर्थ और सौंदर्य को भी बढ़ाते हैं। सारी दुनिया कविता का विषय हो सकती है यह कवि की दृष्टि पर निर्भर करता है। कविता में पहला अनुभवकर्ता, पहला स्रष्टा और पहला दृष्टा एक ऐसा व्यक्ति होता है जिसे कवि भी कहा जाता है। यह समाज के स्वाध्याय से पायी हुई भाषा का कायाकल्प करता रहता है।

SubQuestion No : 25

Q.25 उपरोक्त गद्यांश के आधार पर निम्नलिखित प्रश्न का उत्तर दें।
कविता किस प्रकार का प्रयोग है?

- Ans A. सामाजिक
 B. वैचारिक
 C. वैयक्तिक
 D. आर्थिक

Question ID : 630680156881
Option 1 ID : 630680607129
Option 2 ID : 630680607128
Option 3 ID : 630680607131
Option 4 ID : 630680607130
Status : Answered
Chosen Option : B