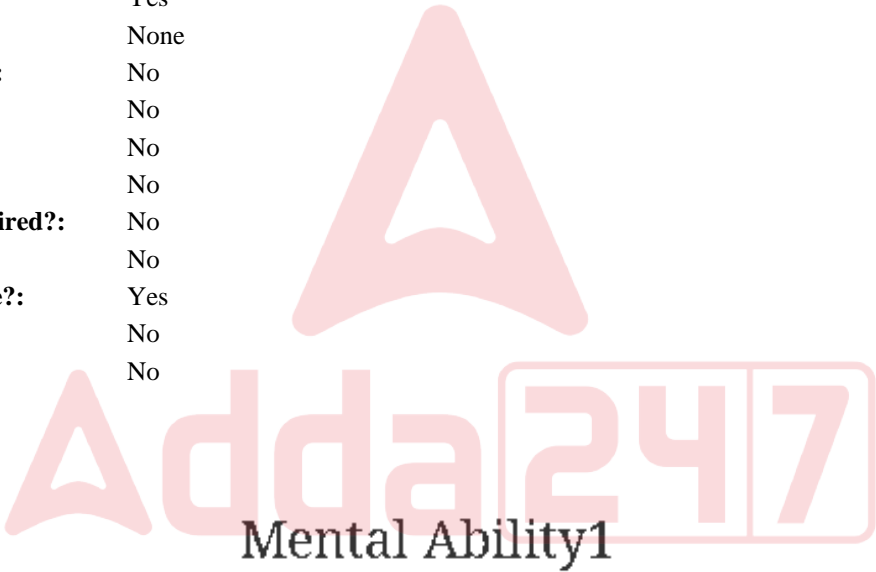


Education Consultant India Ltd.

Notations :

- 1.Options shown in green color and with ✓ icon are correct.
- 2.Options shown in red color and with ✖ icon are incorrect.

Question Paper Name:	GRADE II DASS 23rd July 2019 Shift 3
Subject Name:	GRADE II DASS
Creation Date:	2019-07-23 19:39:08
Duration:	120
Total Marks:	200
Display Marks:	Yes
Share Answer Key With Delivery Engine:	No
Actual Answer Key:	Yes
Calculator:	None
Magnifying Glass Required?:	No
Ruler Required?:	No
Eraser Required?:	No
Scratch Pad Required?:	No
Rough Sketch/Notepad Required?:	No
Protractor Required?:	No
Show Watermark on Console?:	Yes
Highlighter:	No
Auto Save on Console?:	No



Group Number :	1
Group Id :	586180322
Group Maximum Duration :	0
Group Minimum Duration :	0
Show Attended Group? :	No
Edit Attended Group? :	No
Break time:	0
Group Marks:	20
Is this Group for Examiner?:	No
Revisit allowed for group Instructions? :	Yes
Maximum Instruction Time:	0
Minimum Instruction Time:	0

Mental Ability1

Section Id :	586180326
Section Number :	1

Adda247

Test Prime

ALL EXAMS, ONE SUBSCRIPTION



1,00,000+
Mock Tests



**Personalised
Report Card**



**Unlimited
Re-Attempt**



600+
Exam Covered



25,000+ Previous
Year Papers



500%
Refund



ATTEMPT FREE MOCK NOW

Section type :	Online
Mandatory or Optional:	Mandatory
Number of Questions:	20
Number of Questions to be attempted:	20
Section Marks:	20

Sub-Section Number:	1
Sub-Section Id:	586180453
Question Shuffling Allowed :	Yes

Question Number : 1 Question Id : 5861806707 Question Type : MCQ Option Shuffling : Yes

Correct Marks : 1 Wrong Marks : 0.25

There is a certain relationship between two given words on one side of :: and one word is given on another side of :: while another word is to be found from the given alternatives, having the same relation with the word as the words of the given pair.

Choose the correct alternative.

Moon : Earth :: Phobos : ?

Options :

1. ✖ Jupiter

2. ✖ Deimos

3. ✔ Mars

4. ✖ Europa

Question Number : 1 Question Id : 5861806707 Question Type : MCQ Option Shuffling : Yes

Correct Marks : 1 Wrong Marks : 0.25

:: के एक ओर दिए दो शब्दों के बीच एक निश्चित संबंध है, और :: के दूसरी ओर एक शब्द दिया गया है, आपको दिए गए विकल्पों में से वह शब्द खोजना है जिसका उस शब्द से वही संबंध हो जो दिए गए जोड़े के शब्दों के बीच है।

निम्न में से सही विकल्प चुनें।

चंद्रमा : पृथ्वी :: फोबोस : ?

Options :

1. ✖ बृहस्पति

2. ✖ डीमाँस

3. ✔ मंगल

4. ✖ यूरोपा

Question Number : 2 Question Id : 5861806708 Question Type : MCQ Option Shuffling : Yes

Correct Marks : 1 Wrong Marks : 0.25

There is a certain relationship between two given numbers on one side of :: and one number is given on another side of :: while another number is to be found from the given alternatives, having the same relation with the number as the number of the given pair.

Choose the correct alternative.

17 : 144.5 :: 22 : ?

Options :

1. ✔ 242

2. ✖ 224

3. ✖ 338

4. ✖ 390

Question Number : 2 Question Id : 5861806708 Question Type : MCQ Option Shuffling : Yes

Correct Marks : 1 Wrong Marks : 0.25

:: के एक ओर दो संख्याओं के बीच एक निश्चित संबंध है, और :: के दूसरी ओर एक संख्या दी गई है, आपको दिए गए विकल्पों में से वह संख्या खोजनी है जिसका उस संख्या से वही संबंध हो जो दिए गए जोड़े की संख्याओं के बीच है।

निम्न में से सही विकल्प चुनें।

17 : 144.5 :: 22 : ?

Options :

1. ✓ 242

2. ✗ 224

3. ✗ 338

4. ✗ 390

Question Number : 3 Question Id : 5861806709 Question Type : MCQ Option Shuffling : Yes

Correct Marks : 1 Wrong Marks : 0.25

A group of three interrelated word is given. Choose a word from the given alternatives that is similar to the given words and hence belongs to the same group.

Facebook : Whatsapp : LinkedIn : _____.

Options :

1. ✗ Google

2. ✗ Yahoo

3. ✓ Instagram

4. ✗ Java

Question Number : 3 Question Id : 5861806709 Question Type : MCQ Option Shuffling : Yes

Correct Marks : 1 Wrong Marks : 0.25

प्रश्न में तीन परस्पर संबंधित शब्दों का एक समूह दिया गया है। दिए गए विकल्पों में से उस शब्द का चुनाव करें जो प्रश्न में दिए गए शब्दों से समानता रखता हो, और परिणामस्वरूप उसी समूह से संबंधित हो।

फेसबुक : व्हाट्सएप : लिंकडइन : _____

Options :

1. ✖ गूगल

2. ✖ याहू

3. ✔ इंस्टाग्राम

4. ✖ जावा

Question Number : 4 Question Id : 5861806710 Question Type : MCQ Option Shuffling : Yes

Correct Marks : 1 Wrong Marks : 0.25

A group of three interrelated numbers is given. Choose a numbers from the given alternatives that is similar to the given numbers and hence belongs to the same group.

196 : 256 : 324 : _____.

Options :

1. ✖ 180

2. ✖ 225

3. ✖ 169

4. ✔ 400

Question Number : 4 Question Id : 5861806710 Question Type : MCQ Option Shuffling : Yes

Correct Marks : 1 Wrong Marks : 0.25

प्रश्न में तीन परस्पर संबंधित संख्याओं का एक समूह दिया गया है। दिए गए विकल्पों में से उस संख्या का चुनाव करें जो प्रश्न में दी गई संख्या से समानता रखती हो, और परिणामस्वरूप उसी समूह से संबंधित हो।

196 : 256 : 324 : _____

Options :

1. ✖ 180

2. ✖ 225

3. ✖ 169

4. ✔ 400

Question Number : 5 Question Id : 5861806711 Question Type : MCQ Option Shuffling : Yes

Correct Marks : 1 Wrong Marks : 0.25

Which of the following is the same as **Rifle, Pistol and Machine Gun**?

Options :

1. ✖ Power

2. ✖ Sword

3. ✔ Cannon

4. ✖ Gun powder

Question Number : 5 Question Id : 5861806711 Question Type : MCQ Option Shuffling : Yes

Correct Marks : 1 Wrong Marks : 0.25

निम्न में से कौन सा विकल्प राइफल, पिस्टल और मशीन गन से समानता रखता है?

Options :

1. ✖ शक्ति

2. ✖ तलवार

3. ✔ तोप

4. ✖ बारूद

Question Number : 6 Question Id : 5861806712 Question Type : MCQ Option Shuffling : Yes

Correct Marks : 1 Wrong Marks : 0.25

Four pairs of words are given out of which the words in three pairs bear a certain common relationship. Choose the pair in which the words are differently related.

Options :

1. ✖ Hare – Burrow

2. ✖ Lunatic – Asylum

3. ✖ Eskimo – Igloo

4. ✔ Cow – Den

Question Number : 6 Question Id : 5861806712 Question Type : MCQ Option Shuffling : Yes

Correct Marks : 1 Wrong Marks : 0.25

नीचे चार शब्द समूह दिए गए हैं, जिनमें से तीन शब्द समूह आपस में किसी ना किसी तरीके से संबंधित हैं। आपस में संबंध ना रखने वाले शब्द समूहों का विकल्प चुनें:

Options :

1. ✖ खरगोश - बिल

2. ✖ पागल - पागलखाना

3. ✖ एस्किमो - इग्लू

4. ✔ गाय - मांद

Question Number : 7 Question Id : 5861806713 Question Type : MCQ Option Shuffling : Yes

Correct Marks : 1 Wrong Marks : 0.25

Pointing to a lady in a photograph, Veena said, "Her father's only son's wife is my mother-in-law". How is Veena's husband related to that lady in the photo?

Options :

1. ✔ Nephew

2. ✖ Uncle

3. ✖ Son

4. ✖ Father

Question Number : 7 Question Id : 5861806713 Question Type : MCQ Option Shuffling : Yes

Correct Marks : 1 Wrong Marks : 0.25

एक तस्वीर में एक महिला की ओर इशारा करते हुए, वीणा ने कहा, "उसके पिता के एकमात्र बेटे की पत्नी मेरी सास है"। वीणा के पति का फोटो वाली महिला से क्या संबंध है?

Options :

1. ✔ भतीजा

2. ✖ चाचा

3. ✖ बेटा

4. ✖ पिता

Question Number : 8 Question Id : 5861806714 Question Type : MCQ Option Shuffling : Yes

Correct Marks : 1 Wrong Marks : 0.25

My school is in the East of my house, Temple is North of my house and Market is South of my house. If all are at equal distance from my house, in which direction the Market is with respect to the School?

Options :

1. ✖ East

2. ✔ South – West

3. ✖ South

4. ✖ West

Question Number : 8 Question Id : 5861806714 Question Type : MCQ Option Shuffling : Yes

Correct Marks : 1 Wrong Marks : 0.25

मेरा स्कूल मेरे घर की पूर्व दिशा में है, मंदिर मेरे घर की उत्तर दिशा में है और बाज़ार मेरे घर की दक्षिण दिशा में है। अगर ये सभी मेरे घर से समान दूरी पर हैं, तो बाज़ार, स्कूल के संबंध में किस दिशा में स्थित है?

Options :

1. ✖ पूर्व

2. ✔ दक्षिण - पश्चिम

3. ✖ दक्षिण

4. ✖ पश्चिम

Question Number : 9 Question Id : 5861806715 Question Type : MCQ Option Shuffling : Yes

Correct Marks : 1 Wrong Marks : 0.25

Sachin, Sahil, Sandhya, Sani, Sanju, Saurabh, Shweta and Sunil are sitting around a round table in the same order for lunch at equal distance. Their positions are Anti-clockwise. If Sandhya sits facing East, then in which direction Saurabh is facing?

Options :

1. ✖ North - East

2. ✔ North - West

3. ✖ South - East

4. ✖ South - West

Question Number : 9 Question Id : 5861806715 Question Type : MCQ Option Shuffling : Yes

Correct Marks : 1 Wrong Marks : 0.25

सचिन, साहिल, संध्या, सानी, संजू, सौरभ, श्वेता और सुनील दोपहर का भोजन करने के लिए इसी क्रम में एक गोल मेज के चारों ओर बैठे हैं। उनकी स्थिति घड़ी की दिशा के विपरीत है। यदि संध्या पूर्व की ओर मुंह करके बैठी है, तो सौरभ का मुंह किस दिशा में है?

Options :

1. ✖ उत्तर - पूर्व

2. ✔ उत्तर - पश्चिम

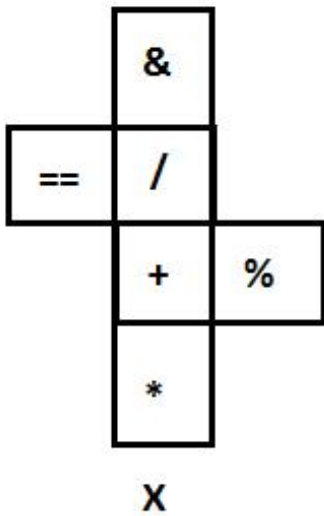
3. ✖ दक्षिण - पूर्व

4. ✖ दक्षिण - पश्चिम

Question Number : 10 Question Id : 5861806716 Question Type : MCQ Option Shuffling : Yes

Correct Marks : 1 Wrong Marks : 0.25

The sheet of paper in fig X is folded to form a cube. Which will come opposite to face showing %?



Options :

1. ✖ /

2. ✖ *

3. ✔ ==

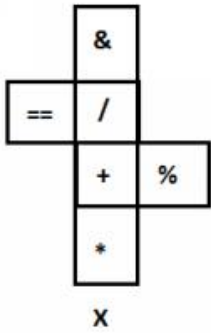
4. ✖ &



Question Number : 10 Question Id : 5861806716 Question Type : MCQ Option Shuffling : Yes

Correct Marks : 1 Wrong Marks : 0.25

चित्र X में कागज की एक शीट को मोड़कर एक घन बनाया गया है। इसका जो भाग % दिखा रहा है, उसके ठीक विपरीत क्या होगा?



Options :

1. ✖ /

2. ✖ *

3. ✔ ==

4. ✖ &

Question Number : 11 Question Id : 5861806717 Question Type : MCQ Option Shuffling : Yes

Correct Marks : 1 Wrong Marks : 0.25

Children A, B, C, D, E, F and G are standing in a line. F is to the left of A and right of B. D is between G and B. E is standing left of C and G is right of C. Who is standing at the fourth right of C?

Options :

1. ✔ F

2. ✖ A

3. ✖ E

4. ✖ D

Question Number : 11 Question Id : 5861806717 Question Type : MCQ Option Shuffling : Yes

Correct Marks : 1 Wrong Marks : 0.25

A, B, C, D, E, F और G बच्चे एक कतार में खड़े हैं। F, A के बाईं ओर व B के दाईं ओर खड़ा है। D, G और B के बीच में खड़ा है। E, C के बाएं खड़ा है और G, C के दाएं खड़ा है। C के चौथे स्थान पर दाईं ओर कौन खड़ा है?

Options :

1. ✔ F

2. ✖ A

3. ✖ E

4. ✖ D

Question Number : 12 Question Id : 5861806718 Question Type : MCQ Option Shuffling : Yes

Correct Marks : 1 Wrong Marks : 0.25

S, T, U, V, X, Y and Z are sitting around a round table for group discussion. T is sitting third to the right of S and between U and Z. Z is sitting third to the right of Y. V is sitting right of X. What will be the position of T?

Options :

1. ✖ T is sitting second to the left of U

2. ✖ T is sitting between Y and X

3. ✔ T is sitting third to the left of V

4. ✖ T is sitting third to the left of X

Question Number : 12 Question Id : 5861806718 Question Type : MCQ Option Shuffling : Yes

Correct Marks : 1 Wrong Marks : 0.25

S, T, U, V, X, Y और Z सामुहिक चर्चा में भाग लेने के लिए एक गोल मेज के चारों ओर बैठे हैं। T, S के दायें से तीसरे और U और Z के बीच में बैठा है। Z, Y के दायें से तीसरे स्थान पर बैठा है। V, X के ठीक दाईं ओर बैठा है। T की स्थिति क्या होगी?

Options :

1. ✖ T, U के बाएं से दूसरे स्थान पर बैठा है

2. ✖ T, Y और X के बीच में बैठा है
3. ✔ T, V के बाएं से तीसरे स्थान पर बैठा है
4. ✖ T, X के बाएं से तीसरे स्थान पर बैठा है

Question Number : 13 Question Id : 5861806719 Question Type : MCQ Option Shuffling : Yes
Correct Marks : 1 Wrong Marks : 0.25

- I. Doby is sister of John and John is brother of Shreya.
- II. Shreya is daughter Jones and sister of Jani.
- III. Jones is father of Doby.

If the first two statements are true, the third statement is:

Options :

1. ✖ True
2. ✖ False
3. ✖ May be true
4. ✔ Uncertain

Question Number : 13 Question Id : 5861806719 Question Type : MCQ Option Shuffling : Yes
Correct Marks : 1 Wrong Marks : 0.25

- I. डॉबी, जॉन की बहन है और जॉन श्रेया का भाई है।
- II. श्रेया, जोन्स की बेटी और जॉनी की बहन है।
- III. जोन्स, डॉबी के पिता हैं।

यदि पहले दो कथन सत्य हैं, तो तीसरा कथन क्या होगा?

Options :

1. ✖ सत्य
2. ✖ असत्य
3. ✖ सत्य हो सकता है
4. ✔ निर्धारित नहीं कर सकते

Question Number : 14 Question Id : 5861806720 Question Type : MCQ Option Shuffling : Yes

Correct Marks : 1 Wrong Marks : 0.25

Anas, Bipin, Chandan, Dev, Easa and Fatima are friends. No two friends are of the same age, but all have birthdays on the same date. The youngest is 23 years old and the oldest is 28 years. Easa is somewhere between Chandan and Anas. Dev is older than Bipin. Fatima is older than Chandan. Anas is oldest and Chandan is youngest among all. If Fatima is younger than Bipin, Bipin is younger than Easa. Dev is older than Easa. Then Which of the following is true?

Options :

1. ✖ Bipin is 24 years old.
2. ✔ Easa is 26 years old.
3. ✖ Chandan is 25 years old.

4. ✖ Fatima is 27 years old.

Question Number : 14 Question Id : 5861806720 Question Type : MCQ Option Shuffling : Yes

Correct Marks : 1 Wrong Marks : 0.25

अनस, बिपिन, चंदन, देव, ईसा और फातिमा दोस्त हैं। कोई भी दो दोस्त समान उम्र के नहीं हैं, लेकिन सभी का जन्मदिन एक ही तारीख को आता है। इनमें सबसे छोटा व्यक्ति 23 साल का और सबसे बड़ा 28 साल का है। ईसा की उम्र चंदन और अनस के कहीं बीच की है। देव बिपिन से बड़ा है। फातिमा चंदन से बड़ी हैं। अनस सबसे बड़ा है और चंदन सभी में सबसे छोटा है। अगर फातिमा बिपिन से छोटी है और बिपिन ईसा से छोटा है और देव ईसा से बड़ा है, तो निम्न में से कौन सा कथन सत्य है?

Options :

1. ✖ बिपिन की उम्र 24 साल है

2. ✔ ईसा की उम्र 26 साल है

3. ✖ चंदन की उम्र 25 साल है

4. ✖ फातिमा की उम्र 27 साल है

Question Number : 15 Question Id : 5861806721 Question Type : MCQ Option Shuffling : Yes

Correct Marks : 1 Wrong Marks : 0.25

What will be the water image of?



Options :



1. ✖

2. ✖



3. ✖



4. ✔



Question Number : 15 Question Id : 5861806721 Question Type : MCQ Option Shuffling : Yes
Correct Marks : 1 Wrong Marks : 0.25

निम्न की जल- छवि (वाटर इमेज) कौन सी होगी?



Options :

1. ✖



2. ✖





3. ✖



4. ✔

Question Number : 16 Question Id : 5861806722 Question Type : MCQ Option Shuffling : Yes
Correct Marks : 1 Wrong Marks : 0.25

Following are the criteria to recruit a Teacher in a college:

- I. The Applicant must be science post graduate with 75% marks.
- II. Have his / her age in between 25 to 32 years as on 10-05-2019.
- III. Have minimum 3 years' experience in Teaching.
- IV. Be ready to join 2 year probation.

If a candidate satisfies all the criteria except.

- i. at III above, but is an Arts with Mathematics graduate with minimum 72% marks and has an experience of more than 5 years and more her / his case is to be referred to the Vice President.
- ii. At IV above, but master degrees with minimum 60% marks, her / his is to be referred to the President.

A detail of applicant is given below in the questions. On the basis of the following decision which is based on the data given above, mark the answer.

- I. Salil is a B.Sc. Graduate with 80% marks and has completed PG in History with 70% marks. He completed 27 years of age in 2017 and has 6 years' experience as a Mathematics Faculty. He is ready to join probation period of 2 year.

Options :

1. ✖ If case is to be referred to President.

2. ✖ If case is to be referred to Vice President.

3. ✖ If candidate is to be selected.

4. ✔ If candidate is not to be selected.

Question Number : 16 Question Id : 5861806722 Question Type : MCQ Option Shuffling : Yes

Correct Marks : 1 Wrong Marks : 0.25

एक कॉलेज में शिक्षकों की भर्ती करने के लिए निम्नलिखित मापदंड निर्धारित किए गए हैं:

- I. आवेदक 75% अंकों के साथ विज्ञान स्नातकोत्तर होना चाहिए।
 - II. आवेदक की उम्र 10-05-2019 को 25 से 32 साल के बीच होनी चाहिए।
 - III. आवेदक के पास न्यूनतम 3 साल का शिक्षण अनुभव होना चाहिए।
 - IV. वह 2 साल की परीक्षा अवधि (probation) के लिए सहमत होना चाहिए।
- i. यदि वह ऊपर दिए मानदंडों में से III के अलावा सभी मानदंडों को पूरा करता है, लेकिन न्यूनतम 72% अंकों के साथ कला व गणित में स्नातक है और उसके पास 5 साल से अधिक का कार्यानुभव है, तो उसके मामले को उपाध्यक्ष के पास भेजा जाएगा।
 - ii. यदि वह ऊपर दिए मानदंडों में से IV के अलावा सभी मानदंडों को पूरा करता है, लेकिन वह न्यूनतम 60% अंकों के साथ स्नातकोत्तर डिग्रीधारी है, तो उसके मामले को अध्यक्ष के पास भेजा जाएगा।

नीचे दिए गए प्रश्न में एक आवेदक के बारे में कुछ जानकारियां दी गई हैं। निम्नलिखित निष्कर्ष के आधार पर जो कि ऊपर दिए गए डेटा पर आधारित हैं, सही उत्तर का पता लगाएं।

- I. सलिल ने 80% अंकों के साथ B.Sc. (बीएससी) स्नातक और 70% अंकों के साथ इतिहास में स्नातकोत्तर किया है। उसने 2017 में 27 साल की उम्र पूरी कर ली है और गणित संकाय में 6 साल का अनुभव प्राप्त किया है। वह 2 साल की परीक्षा अवधि के लिए तैयार है।

Options :

1. ✖ यह मामला अध्यक्ष के पास भेजा जाएगा।

2. ✖ यह मामला उपाध्यक्ष के पास भेजा जाएगा।

3. ✖ इस उम्मीदवार का चयन किया जाएगा।

4. ✓ इस उम्मीदवार का चयन नहीं किया जाएगा।

Question Number : 17 Question Id : 5861806723 Question Type : MCQ Option Shuffling : Yes

Correct Marks : 1 Wrong Marks : 0.25

आपकी उम्र, आपकी मां की उम्र से 10 साल कम है जिसकी उम्र आपके पिता से 5 साल कम है। यदि आपके पिता की उम्र 45 साल है, तो आपकी उम्र कितनी होगी?

Options :

1. ✗ 20 साल

2. ✗ 15 साल

3. ✓ 10 साल

4. ✗ 5 साल

Question Number : 17 Question Id : 5861806723 Question Type : MCQ Option Shuffling : Yes

Correct Marks : 1 Wrong Marks : 0.25

Your age is 10 years less than half your mother's age who is 5 years younger than your father. If your father is 45 years old, what is your age?

Options :

1. ✗ 20 years

2. ✗ 15 years

3. ✓ 10 years

4. ✗ 5 years

Question Number : 18 Question Id : 5861806724 Question Type : MCQ Option Shuffling : Yes

Correct Marks : 1 Wrong Marks : 0.25

The statement given below is followed by two decisions labeled I, and II. You have to assume everything in the statement to be true, and then decide which of the two suggested decisions logically follows for pursuing.

Statement: The ground water level is decreasing day by day and creating big water problem in many parts of India.

Decisions:

I: Water harvesting should be promoted to control such problem.

II: Bore well should be closed.

Options :

1. ✓ Only I follows

2. ✗ Both I and II follow

3. ✗ Neither I nor II follow

4. ✗ Only II follows

Question Number : 18 Question Id : 5861806724 Question Type : MCQ Option Shuffling : Yes

Correct Marks : 1 Wrong Marks : 0.25

नीचे दिए कथन के बाद दो निष्कर्ष I, और II दिए गए हैं। आपको कथन को पूर्णतया सत्य मानना है और फिर यह निर्धारित करना है कि दोनों में से कौन से निष्कर्ष तर्कसंगत रूप से अनुसरण करते हैं।

कथन: भारत के कई हिस्सों में भूजल स्तर दिन - प्रतिदिन गिर रहा है और इससे पानी की बड़ी समस्या पैदा हो रही है।

निष्कर्ष:

I: समस्या के निराकरण के लिए जल संचयन को बढ़ावा दिया जाना चाहिए।

II: बोरवेल बंद कर देने चाहिए।

Options :

1. ✓ केवल I अनुसरण करता है

2. ✗ I और II दोनों अनुसरण करते हैं

3. ✖ न तो I और न ही II अनुसरण करता है

4. ✖ केवल II अनुसरण करता है

Question Number : 19 Question Id : 5861806725 Question Type : MCQ Option Shuffling : Yes

Correct Marks : 1 Wrong Marks : 0.25

The statement given below is followed by two decisions labeled I, and II. You have to assume everything in the statement to be true, and then decide which of the two suggested decisions logically follows for pursuing.

Statement: Now a days cinema halls are incurring huge losses as people are watching movies at their home.

Decisions:

I: Cinema Halls should be closed.

II: Seeing movies at home should be banned.

Options :

1. ✖ Only I follows

2. ✖ Both I and II follow

3. ✔ Neither I nor II follow

4. ✖ Only II follows

Question Number : 19 Question Id : 5861806725 Question Type : MCQ Option Shuffling : Yes

Correct Marks : 1 Wrong Marks : 0.25

नीचे दिए कथन के बाद दो निष्कर्ष I और II दिए गए हैं। आपको मानना है कि कथन में दी गई सभी बातें सत्य हैं और फिर यह निर्धारित करना है कि दोनों में से कौन से निष्कर्ष तर्कसंगत रूप से अनुसरण करते हैं।

कथन: लोगों ने अपने घर पर ही फिल्में देखना शुरू कर दिया है, जिस कारण से आजकल सिनेमा हॉल भारी घाटे में हैं।

निष्कर्ष:

I: सिनेमा हॉल बंद कर देने चाहिए।

II: घर पर फिल्में देखने पर प्रतिबंध लगाया जाना चाहिए।

Options :

1. ✗ केवल I अनुसरण करता है

2. ✗ I और II दोनों अनुसरण करते हैं

3. ✓ न तो I और न ही II अनुसरण करता है

4. ✗ केवल II अनुसरण करता है

Question Number : 20 Question Id : 5861806726 Question Type : MCQ Option Shuffling : Yes

Correct Marks : 1 Wrong Marks : 0.25

The statement given below is followed by two decisions labeled I, and II. You have to assume everything in the statement to be true, and then decide which of the two suggested decisions logically follows for pursuing.

Statement: There are huge numbers of people affected by air pollution caused by thermal power plant.

Decisions:

I: The power plant should be shifted from the city.

II: There should be a protest in front of power plant.

Options :

1. ✓ Only I follows

2. ✗ Both I and II follow

3. ✖ Either I or II follow

4. ✖ Only II follows

Question Number : 20 Question Id : 5861806726 Question Type : MCQ Option Shuffling : Yes

Correct Marks : 1 Wrong Marks : 0.25

नीचे दिए कथन के बाद दो निष्कर्ष I और II दिए गए हैं। आपको मानना है कि कथन में दी गई सभी बातें सत्य हैं और फिर यह निर्धारित करना है कि दोनों में से कौन से निष्कर्ष तर्कसंगत रूप से अनुसरण करते हैं।

कथन: थर्मल पावर प्लांट के कारण होने वाले वायु प्रदूषण से भारी संख्या में लोग प्रभावित हो रहे हैं।

निष्कर्ष:

I: पावर प्लांट को शहर के बाहर स्थानांतरित किया जाना चाहिए।

II: पावर प्लांट के सामने विरोध प्रदर्शन किए जाने चाहिए।

Options :

1. ✔ केवल I अनुसरण करता है

2. ✖ I और II दोनों अनुसरण करते हैं

3. ✖ या तो I या II अनुसरण करता है

4. ✖ केवल II अनुसरण करता है

Mental Ability2

Group Number :

2

Group Id :

586180323

Group Maximum Duration :

0

Group Minimum Duration :

0

Show Attended Group? :

No

Edit Attended Group? :

No

Break time:

0

Group Marks:	20
Is this Group for Examiner?:	No
Revisit allowed for group Instructions? :	Yes
Maximum Instruction Time:	0
Minimum Instruction Time:	0

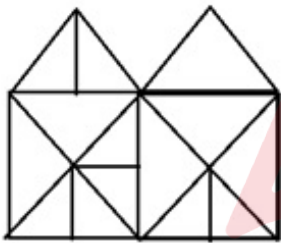
Mental Ability2

Section Id :	586180327
Section Number :	1
Section type :	Online
Mandatory or Optional:	Mandatory
Number of Questions:	20
Number of Questions to be attempted:	20
Section Marks:	20

Sub-Section Number:	1
Sub-Section Id:	586180454
Question Shuffling Allowed :	Yes

Question Number : 21 Question Id : 5861806727 Question Type : MCQ Option Shuffling : Yes
Correct Marks : 1 Wrong Marks : 0.25

How many triangles are in the figure?



Options :

1. ✖ 22

2. ✖ 23

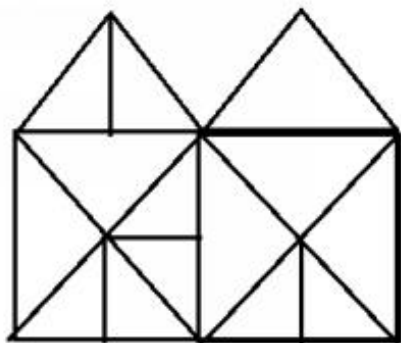
3. ✔ 28

4. ✖ 30

Question Number : 21 Question Id : 5861806727 Question Type : MCQ Option Shuffling : Yes

Correct Marks : 1 Wrong Marks : 0.25

निम्न आकृति में कितने त्रिभुज हैं?



Options :

1. ✖ 22

2. ✖ 23

3. ✔ 28

4. ✖ 30

Question Number : 22 Question Id : 5861806728 Question Type : MCQ Option Shuffling : Yes

Correct Marks : 1 Wrong Marks : 0.25

In a certain code of the words 'COMEATONCE' were written as XLNVZGLMXV. In the same code, which of the following would be written as OK?

Options :

1. ✖ LM

2. ✔ LP

3. ✖ KL

4. ✖ KM

Question Number : 22 Question Id : 5861806728 Question Type : MCQ Option Shuffling : Yes

Correct Marks : 1 Wrong Marks : 0.25

एक निश्चित कोड में 'COMEATONCE' को XLNVZGLMXV के रूप में लिखा जाता है। उसी कोड में, OK को किस प्रकार से लिखा जाएगा?

Options :

1. ✖ LM

2. ✔ LP

3. ✖ KL

4. ✖ KM

Question Number : 23 Question Id : 5861806729 Question Type : MCQ Option Shuffling : Yes

Correct Marks : 1 Wrong Marks : 0.25

Four letter clusters are given out of which the three letter clusters bear a certain common relationship. Choose the option in which the letter clusters are differently related.

Options :

1. ✔ GKOT

2. ✖ FJNR

3. ✖ UYCG

4. ✖ EIMQ

Question Number : 23 Question Id : 5861806729 Question Type : MCQ Option Shuffling : Yes

Correct Marks : 1 Wrong Marks : 0.25

नीचे चार अक्षर समूह दिए गए हैं, जिनमें से तीन अक्षर समूह आपस में किसी ना किसी तरीके से संबंधित हैं। आपस में संबंध ना रखने वाले अक्षर समूह को चुनें:

Options :

1. ✓ GKOT

2. ✗ FJNR

3. ✗ UYCG

4. ✗ EIMQ

Question Number : 24 Question Id : 5861806730 Question Type : MCQ Option Shuffling : Yes

Correct Marks : 1 Wrong Marks : 0.25

Four numbers are given out of which the three numbers bear a certain common relationship. Choose the number which is different from others.

Options :

1. ✗ 209

2. ✗ 247

3. ✗ 323

4. ✓ 221

Question Number : 24 Question Id : 5861806730 Question Type : MCQ Option Shuffling : Yes

Correct Marks : 1 Wrong Marks : 0.25

चार संख्याएं दी गई हैं, जिनमें से तीन संख्याओं के बीच एक निश्चित समानता है। अन्य से भिन्न संख्या का चुनाव करें।

Options :

1. ✖ 209

2. ✖ 247

3. ✖ 323

4. ✔ 221

Question Number : 25 Question Id : 5861806731 Question Type : MCQ Option Shuffling : Yes

Correct Marks : 1 Wrong Marks : 0.25

Four figures are given out of which the three figures bear a certain common relationship. Choose the figure which is different from others.

Options :

1. ✖ 

2. ✖ 

3. ✔ 

4. ✖ 

Question Number : 25 Question Id : 5861806731 Question Type : MCQ Option Shuffling : Yes

Correct Marks : 1 Wrong Marks : 0.25

प्रश्न में चार आकृतियां दी गई हैं जिनमें से तीन आकृतियों के बीच एक निश्चित सामान्य संबंध है। विषम आकृति का चुनाव करें:

Options :

1. ✖ 

2. ✖ 

3. ✔ 

4. ✖ 

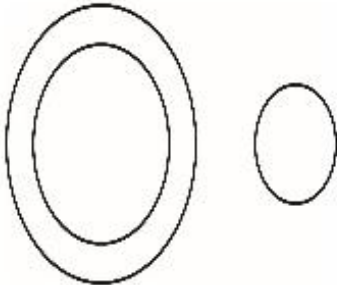
Question Number : 26 Question Id : 5861806732 Question Type : MCQ Option Shuffling : Yes

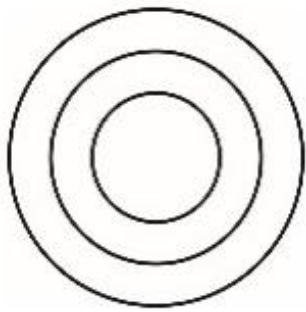
Correct Marks : 1 Wrong Marks : 0.25

Venn diagram that best represents the given set of classes:

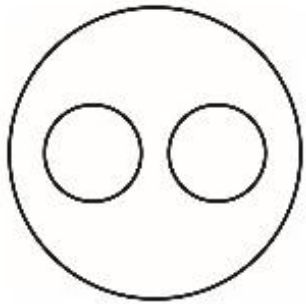
VEGETABLES, CAULIFLOWER, MEAT

Options :

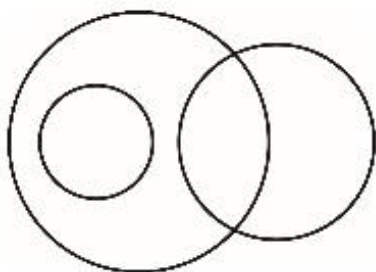
1. ✔ 



2. ✖



3. ✖



4. ✖

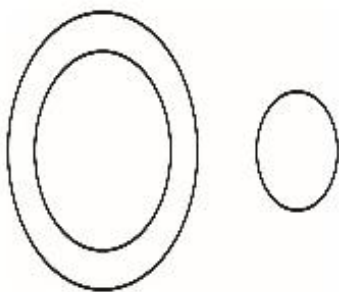
Question Number : 26 Question Id : 5861806732 Question Type : MCQ Option Shuffling : Yes

Correct Marks : 1 Wrong Marks : 0.25

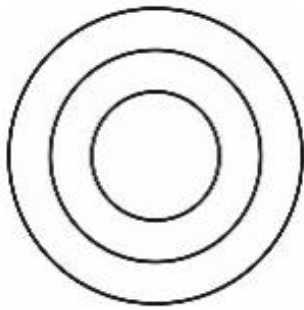
कौन सा वेन आरेख, दिए गए वर्गों के समुच्चय को सबसे अच्छे तरीके से दर्शाता है:

सब्जियां, गोभी, मांस

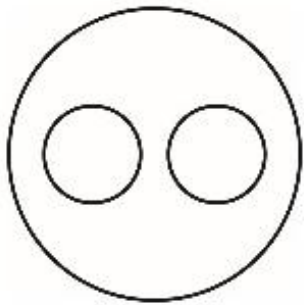
Options :



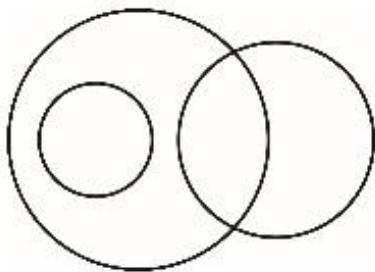
1. ✔



2. ✖



3. ✖




4. ✖

Question Number : 27 Question Id : 5861806733 Question Type : MCQ Option Shuffling : Yes
Correct Marks : 1 Wrong Marks : 0.25

Venn diagram that best represents the given set of classes:

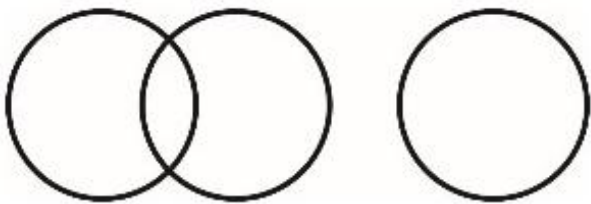
DOCTORS, BROTHERS, MALES

Options :

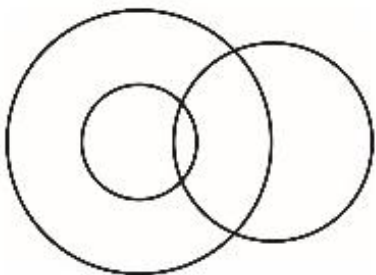


1. ✖

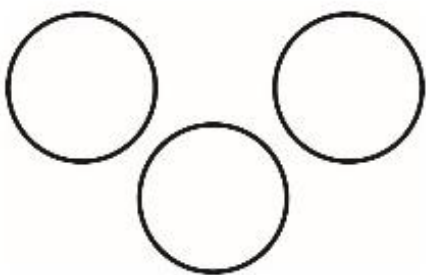
2. ✖



3. ✔



4. ✖




Question Number : 27 Question Id : 5861806733 Question Type : MCQ Option Shuffling : Yes

Correct Marks : 1 Wrong Marks : 0.25

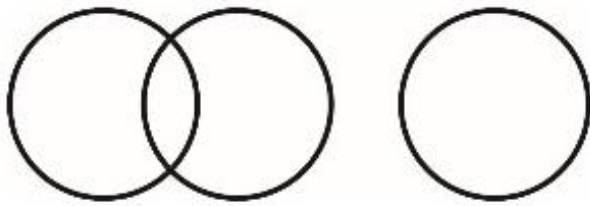
कौन सा वेन आरेख, दिए गए वर्गों के समुच्चय को सबसे अच्छे तरीके से दर्शाता है:

डॉक्टर, भाई, पुरुष

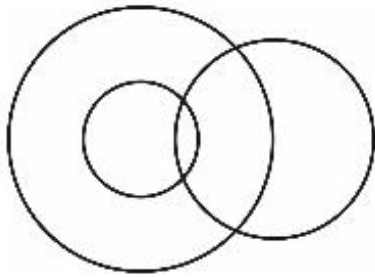
Options :



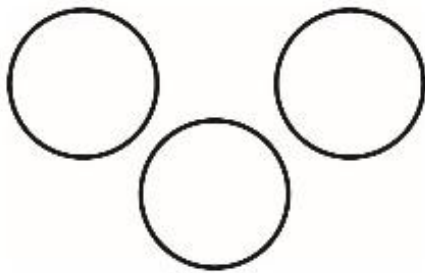
1. ✖



2. ✖



3. ✔



4. ✖

Question Number : 28 Question Id : 5861806734 Question Type : MCQ Option Shuffling : Yes

Correct Marks : 1 Wrong Marks : 0.25

If 'A - B' means A is mother of B, 'A \$ B', A is sister of B, 'A @ B' means A is father of B and 'A=B' means A is son of B.

If R @ S - O = P, then how R is related to P?

Options :

1. ✖ Nephew

2. ✖ Son

3. ✖ Brother

4. ✔ Father in law

Question Number : 28 Question Id : 5861806734 Question Type : MCQ Option Shuffling : Yes

Correct Marks : 1 Wrong Marks : 0.25

यदि 'A - B' का अर्थ A, B की मां है; 'A \$ B' का अर्थ, A, B की बहन है; 'A @ B' का अर्थ A, B का पिता है और 'A = B' का अर्थ A, B का पुत्र है।

यदि $R @ S - O = P$ है, तो R, P से किस प्रकार से संबंधित है?

Options :

1. ✖ भतीजा

2. ✖ बेटा

3. ✖ भाई

4. ✔ ससुर

Question Number : 29 Question Id : 5861806735 Question Type : MCQ Option Shuffling : Yes

Correct Marks : 1 Wrong Marks : 0.25

Shahini and Mohani are sisters. Dev and Anu are brothers. Dinesh is husband of Manju and son of Jyoti. Dev is son of Jyoti and Jyoti is mother of Shahini. How Mohini's father is related to Jyoti?

Options :

1. ✖ Son

2. ✖ Brother

3. ✖ Father

4. ✔ Husband

Question Number : 29 Question Id : 5861806735 Question Type : MCQ Option Shuffling : Yes

Correct Marks : 1 Wrong Marks : 0.25

शाहिनी और मोहनी बहनें हैं। देव और अनु भाई हैं। दिनेश मंजू का पति और ज्योति का बेटा है। देव ज्योति का बेटा है और ज्योति शाहिनी की मां हैं। मोहिनी के पिता का ज्योति से क्या संबंध है?

Options :

1. ✖ बेटा
2. ✖ भाई
3. ✖ पिता
4. ✔ पति

Question Number : 30 Question Id : 5861806736 Question Type : MCQ Option Shuffling : Yes

Correct Marks : 1 Wrong Marks : 0.25

If 'P * Q' means P is father of Q, 'P % Q', P is daughter of Q, 'P # Q' means P is mother of Q and 'P = Q' means Q is son of P.

If M # N % O * R * S, then how M is related to R?

Options :

1. ✖ Brother
2. ✖ Son
3. ✖ Father
4. ✔ Mother

Question Number : 30 Question Id : 5861806736 Question Type : MCQ Option Shuffling : Yes

Correct Marks : 1 Wrong Marks : 0.25

यदि 'P * Q' का अर्थ P, Q का पिता है; 'P % Q' का अर्थ P, Q की बेटी है; 'P # Q' का अर्थ P, Q की माता है और 'P = Q' का अर्थ है, Q, P का पुत्र है।

यदि M # N % O * R * S है, तो M, R से किस प्रकार से संबंधित है?

Options :

1. ✖ भाई
2. ✖ बेटा
3. ✖ पिता
4. ✔ मां

Question Number : 31 Question Id : 5861806737 Question Type : MCQ Option Shuffling : Yes

Correct Marks : 1 Wrong Marks : 0.25

There are some boys and dogs at a place. If total number of heads is 7 and total number of legs is 20, how many boys and how many dogs are there?

Options :

1. ✖ 2 boys and 5 dogs
2. ✖ 3 boys and 4 dogs
3. ✔ 4 boys and 3 dogs
4. ✖ 5 boys and 2 dogs

Question Number : 31 Question Id : 5861806737 Question Type : MCQ Option Shuffling : Yes

Correct Marks : 1 Wrong Marks : 0.25

एक जगह पर कुछ लड़के और कुछ कुत्ते हैं। यदि सिरों की कुल संख्या 7 है और पैरों की कुल संख्या 20 है, तो वहां पर कितने लड़के और कितने कुत्ते हैं?

Options :

1. ✖ 2 लड़के और 5 कुत्ते

2. ✖ 3 लड़के और 4 कुत्ते

3. ✔ 4 लड़के और 3 कुत्ते

4. ✖ 5 लड़के और 2 कुत्ते

Question Number : 32 Question Id : 5861806738 Question Type : MCQ Option Shuffling : Yes

Correct Marks : 1 Wrong Marks : 0.25

In certain code WOOL is written as 172, How will be SNAIL written in that code?

Options :

1. ✖ 200

2. ✖ 310

3. ✔ 400

4. ✖ 175



Question Number : 32 Question Id : 5861806738 Question Type : MCQ Option Shuffling : Yes

Correct Marks : 1 Wrong Marks : 0.25

किसी कोड में WOOL को 172 लिखा जाता है, उस कोड में SNAIL को कैसे लिखा जाएगा?

Options :

1. ✖ 200

2. ✖ 310

3. ✓ 400

4. ✗ 175

Question Number : 33 Question Id : 5861806739 Question Type : MCQ Option Shuffling : Yes

Correct Marks : 1 Wrong Marks : 0.25

Which of the following pairs of signs, when their positions are interchanged, will correctly solve the given mathematical equation?

$$15 + 10 - 25 \div 6 \times 5 = -5$$

Options :

1. ✓ \div and \times

2. ✗ \div and $+$

3. ✗ $+$ and \times

4. ✗ $+$ and $-$

Question Number : 33 Question Id : 5861806739 Question Type : MCQ Option Shuffling : Yes

Correct Marks : 1 Wrong Marks : 0.25

निम्नलिखित में से कौन सी संख्याओं व चिन्हों के जोड़े, उनकी स्थितियों को परस्पर बदल दिए जाने पर, दिए गए गणितीय समीकरण को सही ढंग से हल करेंगे?

$$15 + 10 - 25 \div 6 \times 5 = -5$$

Options :

1. ✓ \div और \times

2. ✖ ÷ और +

3. ✖ + और ×

4. ✖ + और -

Question Number : 34 Question Id : 5861806740 Question Type : MCQ Option Shuffling : Yes

Correct Marks : 1 Wrong Marks : 0.25

Which of the following pairs of numbers and signs, when their positions are interchanged, will correctly solve the given mathematical equation?

$$20 \div 4 \times 10 + 28 - 14 = -6$$

Options :

1. ✖ 20 and 10, + and -

2. ✖ 14 and 20, - and ×

3. ✖ 14 and 28, × and ÷

4. ✔ 4 and 10, + and -

Question Number : 34 Question Id : 5861806740 Question Type : MCQ Option Shuffling : Yes

Correct Marks : 1 Wrong Marks : 0.25

निम्नलिखित में से कौन सी संख्याओं व चिन्हों के जोड़े, उनकी स्थितियों को परस्पर बदल दिए जाने पर, दिए गए गणितीय समीकरण को सही ढंग से हल करेंगे?

$$20 \div 4 \times 10 + 28 - 14 = -6$$

Options :

1. ✖ 20 और 10, + और -

2. ✖ 14 और 20, - और ×

3. ✖ 14 और 28, × और ÷

4. ✔ 4 और 10, + और -

Question Number : 35 Question Id : 5861806741 Question Type : MCQ Option Shuffling : Yes

Correct Marks : 1 Wrong Marks : 0.25

If you write down all the numbers from 1 to 50, then how many times do you write 4?

Options :

1. ✖ 11

2. ✖ 12

3. ✖ 13

4. ✔ 15

Question Number : 35 Question Id : 5861806741 Question Type : MCQ Option Shuffling : Yes

Correct Marks : 1 Wrong Marks : 0.25

यदि आप 1 से 50 तक की सभी संख्याओं को लिखते हैं, तो आप 4 को कितनी बार लिखेंगे?

Options :

1. ✖ 11

2. ✖ 12

3. ✖ 13

4. ✔ 15

Question Number : 36 Question Id : 5861806742 Question Type : MCQ Option Shuffling : Yes

Correct Marks : 1 Wrong Marks : 0.25

Four words have been given out of which three are alike in some manner, while the fourth one is different. Choose out the odd one.

Options :

1. ✔ Halogen

2. ✖ Chlorine

3. ✖ Bromine

4. ✖ Astatine

Question Number : 36 Question Id : 5861806742 Question Type : MCQ Option Shuffling : Yes

Correct Marks : 1 Wrong Marks : 0.25

नीचे चार शब्द दिए गए हैं, जिनमें से तीन शब्द किसी ना किसी प्रकार से आपस में समानता रखते हैं, जबकि चौथा शब्द अन्य शब्दों से अलग है। विषम का चयन करें:

Options :

1. ✔ हैलोजन

2. ✖ क्लोरीन

3. ✖ ब्रोमिन

4. ✖ एस्टाटिन

Question Number : 37 Question Id : 5861806743 Question Type : MCQ Option Shuffling : Yes
Correct Marks : 1 Wrong Marks : 0.25
In problem, out of four figures marked 1, 2, 3 and 4, three are similar in a certain manner. However one figure is not like the other three. Choose the figure which is different from the rest.

Answer Fig.

TIEMOI	FIGMENT	FIGMENT	FIGMENT
--------	---------	---------	---------

1

2

3

4

Options :

1. ✖ 1

2. ✖ 2

3. ✔ 3

4. ✖ 4

Question Number : 37 Question Id : 5861806743 Question Type : MCQ Option Shuffling : Yes
Correct Marks : 1 Wrong Marks : 0.25

नीचे दिए गए प्रश्न में, चार आकृतियां 1, 2, 3 और 4 दी गई हैं, जो आपस में किसी ना किसी प्रकार से समानता रखती हैं। हालांकि एक आकृति अन्य तीनों से अलग है। अन्य से भिन्न आकृति का चुनाव करें।

उत्तर आकृति

FIGMENT	FIGMENT	FIGMENT	FIGMENT
1	2	3	4

Options :

1. ✖ 1

2. ✖ 2

3. ✔ 3

4. ✖ 4

Question Number : 38 Question Id : 5861806744 Question Type : MCQ Option Shuffling : Yes

Correct Marks : 1 Wrong Marks : 0.25

Select the option that will correctly replace the question mark (?) in the series.

27, 28, 26, 29, 25, ?

Options :

1. ✖ 29

2. ✔ 30

3. ✖ 31

4. ✖ 32

Question Number : 38 Question Id : 5861806744 Question Type : MCQ Option Shuffling : Yes

Correct Marks : 1 Wrong Marks : 0.25

नीचे दी गई श्रृंखला में उस विकल्प का चयन करें जो सही से प्रश्न चिन्ह (?) की जगह ले पाएगा।

27, 28, 26, 29, 25, ?

Options :

1. ✖ 29

2. ✔ 30

3. ✖ 31

4. ✖ 32

Question Number : 39 Question Id : 5861806745 Question Type : MCQ Option Shuffling : Yes

Correct Marks : 1 Wrong Marks : 0.25

Select the option that will correctly replace the question mark (?) in the series.

21, 57, 121, 221, ?

Options :

1. ✖ 285

2. ✖ 301

3. ✔ 365

4. ✖ 412

Question Number : 39 Question Id : 5861806745 Question Type : MCQ Option Shuffling : Yes

Correct Marks : 1 Wrong Marks : 0.25

नीचे दी गई श्रृंखला में उस विकल्प का चयन करें जो सही से प्रश्न चिन्ह (?) की जगह ले पाएगा।

21, 57, 121, 221, ?

Options :

1. ✖ 285

2. ✖ 301

3. ✔ 365

4. ✖ 412

Question Number : 40 Question Id : 5861806746 Question Type : MCQ Option Shuffling : Yes

Correct Marks : 1 Wrong Marks : 0.25

One term in the number series is wrong. Find out the wrong term.

6, 8, 14, 22, 30, 42, 54

Options :

1. ✔ 8

2. ✖ 22

3. ✖ 30

4. ✖ 42

Question Number : 40 Question Id : 5861806746 Question Type : MCQ Option Shuffling : Yes
Correct Marks : 1 Wrong Marks : 0.25

दी गई संख्या श्रृंखला में एक पद गलत है। गलत पद का पता लगाएं।

6, 8, 14, 22, 30, 42, 54

Options :

1. ✔ 8

2. ✖ 22

3. ✖ 30

4. ✖ 42



Group Number :	3
Group Id :	586180324
Group Maximum Duration :	0
Group Minimum Duration :	0
Show Attended Group? :	No
Edit Attended Group? :	No
Break time:	0
Group Marks:	20
Is this Group for Examiner?:	No
Revisit allowed for group Instructions? :	Yes
Maximum Instruction Time:	0
Minimum Instruction Time:	0

General Awareness1

Section Id : 586180328

Section Number :	1
Section type :	Online
Mandatory or Optional:	Mandatory
Number of Questions:	20
Number of Questions to be attempted:	20
Section Marks:	20

Sub-Section Number:	1
Sub-Section Id:	586180455
Question Shuffling Allowed :	Yes

Question Number : 41 Question Id : 5861806747 Question Type : MCQ Option Shuffling : Yes
Correct Marks : 1 Wrong Marks : 0.25

A. G. Tansley is associated to _____.

Options :

- ✖ Cardiology
- ✔ Ecosystem
- ✖ Green Revolution
- ✖ Education

Question Number : 41 Question Id : 5861806747 Question Type : MCQ Option Shuffling : Yes
Correct Marks : 1 Wrong Marks : 0.25

ए.जी. टेंसले, _____ से संबंधित हैं।

Options :

- ✖ हृदय विज्ञान (कार्डियोलॉजी)
- ✔ पारितंत्र
- ✖ हरित क्रांति
- ✖ शिक्षा

Question Number : 42 Question Id : 5861806748 Question Type : MCQ Option Shuffling : Yes
Correct Marks : 1 Wrong Marks : 0.25

The Silent Valley National Park is situated in:

Options :

- ✔ Kerala
- ✖ Karnataka

3. ✖ Uttarakhand

4. ✖ Madhya Pradesh

Question Number : 42 Question Id : 5861806748 Question Type : MCQ Option Shuffling : Yes
Correct Marks : 1 Wrong Marks : 0.25

साइलेंट वैली राष्ट्रीय उद्यान _____ में स्थित है।

Options :

1. ✔ केरल

2. ✖ कर्नाटक

3. ✖ उत्तराखंड

4. ✖ मध्य प्रदेश

Question Number : 43 Question Id : 5861806749 Question Type : MCQ Option Shuffling : Yes
Correct Marks : 1 Wrong Marks : 0.25

A new species of Frog named 'Mysticellus' has been discovered in which of the following sites?

Options :

1. ✖ Purvanchal

2. ✖ Andaman and Nicobar

3. ✖ Eastern Ghats

4. ✔ Western Ghats

Question Number : 43 Question Id : 5861806749 Question Type : MCQ Option Shuffling : Yes
Correct Marks : 1 Wrong Marks : 0.25

निम्न में से किस स्थान पर मेंढक की एक नई प्रजाति 'मिस्टिसेलस' का पता लगाया गया है?

Options :

1. ✖ पूर्वांचल

2. ✖ अंडमान और निकोबार

3. ✖ पूर्वी घाट

4. ✓ पश्चिमी घाट

Question Number : 44 Question Id : 5861806750 Question Type : MCQ Option Shuffling : Yes
Correct Marks : 1 Wrong Marks : 0.25

Who said, 'Earth provides enough resources to satisfy the every man's need, but need every man's greed'?

Options :

1. ✓ Mahatma Gandhi
2. ✗ Rabindra Nath Tagore
3. ✗ Vinobha Bhave
4. ✗ Sardar Vallabhbhai Patel

Question Number : 44 Question Id : 5861806750 Question Type : MCQ Option Shuffling : Yes
Correct Marks : 1 Wrong Marks : 0.25

किसने कहा था, 'धरती, प्रत्येक मनुष्य की आवश्यकताएं पूरी करने के लिए पर्याप्त संसाधन उपलब्ध करा सकती है, लेकिन प्रत्येक मनुष्य के लालच के लिए नहीं।'

Options :

1. ✓ महात्मा गांधी
2. ✗ रवीन्द्र नाथ टैगोर
3. ✗ विनोभा भावे
4. ✗ सरदार वल्लभभाई पटेल

Question Number : 45 Question Id : 5861806751 Question Type : MCQ Option Shuffling : Yes
Correct Marks : 1 Wrong Marks : 0.25

What is the theme for 2019 World Heritage Day?

Options :

1. ✓ Rural Landscape
2. ✗ Urban Landscape
3. ✗ Digital Data Conservation
4. ✗ Textile Marketing

Question Number : 45 Question Id : 5861806751 Question Type : MCQ Option Shuffling : Yes
Correct Marks : 1 Wrong Marks : 0.25

2019 विश्व विरासत दिवस का मूल विषय (थीम) क्या है?

Options :

1. ✓ ग्रामीण परिदृश्य
2. ✖ शहरी परिदृश्य
3. ✖ डिजिटल डाटा संरक्षण
4. ✖ कपड़ा विपणन

Question Number : 46 Question Id : 5861806752 Question Type : MCQ Option Shuffling : Yes
Correct Marks : 1 Wrong Marks : 0.25

Who is the author of the book titled 'Where Will Man take Us'?

Options :

1. ✖ Chetan Bhagat
2. ✓ Atul Jalan
3. ✖ Paulo Coelho
4. ✖ Rabindra Jain

Question Number : 46 Question Id : 5861806752 Question Type : MCQ Option Shuffling : Yes
Correct Marks : 1 Wrong Marks : 0.25

'व्हेअर विल मैन टेक अस' पुस्तक के लेखक कौन हैं?

Options :

1. ✖ चेतन भगत
2. ✓ अतुल जालान
3. ✖ पाउलो कोइल्हो
4. ✖ रवीन्द्र जैन

Question Number : 47 Question Id : 5861806753 Question Type : MCQ Option Shuffling : Yes
Correct Marks : 1 Wrong Marks : 0.25

The name of the naval bilateral exercise between India and Vietnam is:

Options :

1. ✖ VARUNA
2. ✖ IN- VIT- BILAT EX
3. ✖ INTAX
4. ✔ IN-VPN BILAT EX

Question Number : 47 Question Id : 5861806753 Question Type : MCQ Option Shuffling : Yes
Correct Marks : 1 Wrong Marks : 0.25

भारत और वियतनाम के बीच द्विपक्षीय नौसैन्य अभ्यास का नाम _____ है।

Options :

1. ✖ वरुण
2. ✖ इन - विट - बीआइएलएटी एक्स (IN - VIT - BILAT EX)
3. ✖ इनटैक्स (INTAX)
4. ✔ इन - वीपीएन - बीआइएलएटी एक्स (IN - VPN BILAT EX)

Question Number : 48 Question Id : 5861806754 Question Type : MCQ Option Shuffling : Yes
Correct Marks : 1 Wrong Marks : 0.25

Which social media site has launched the new feature titled 'Why am I seeing this post'?

Options :

1. ✖ Twitter
2. ✔ Facebook
3. ✖ YouTube
4. ✖ Pintrest

Question Number : 48 Question Id : 5861806754 Question Type : MCQ Option Shuffling : Yes
Correct Marks : 1 Wrong Marks : 0.25

किस सोशल मीडिया साइट ने 'व्हाय ऐम आय सीइंग दिस पोस्ट' नामक नई विशेषता लॉच की?

Options :

1. ✖ ट्विटर
2. ✔ फेसबुक
3. ✖ यूट्यूब
4. ✖ पिनट्रेस्ट

Question Number : 49 Question Id : 5861806755 Question Type : MCQ Option Shuffling : Yes
Correct Marks : 1 Wrong Marks : 0.25

The Para-military force under the Nizam of Hyderabad during the period of accession of Princely states was known as:

Options :

1. ✖ Pahalwans
2. ✔ Razakars
3. ✖ Nayakas
4. ✖ Prativedakas

Question Number : 49 Question Id : 5861806755 Question Type : MCQ Option Shuffling : Yes
Correct Marks : 1 Wrong Marks : 0.25

रियासत राज्यों के अधिग्रहण के दौरान हैदराबाद के निज़ाम के अर्ध - सैन्य बलों को _____ के नाम से जाना जाता था।

Options :

1. ✖ पहलवान
2. ✔ रजाकार
3. ✖ नायक
4. ✖ प्रतिवेदक

Question Number : 50 Question Id : 5861806756 Question Type : MCQ Option Shuffling : Yes

Correct Marks : 1 Wrong Marks : 0.25

In November 2017, Grant Thornton released its International Business Report (IBR). In this report, India occupied the _____ slot in 'Global Business Optimism Ranking' in the September-November quarter period of the year 2017.

Options :

1. ✖ 3rd
2. ✖ 5th
3. ✖ 11th
4. ✔ 7th

Question Number : 50 Question Id : 5861806756 Question Type : MCQ Option Shuffling : Yes

Correct Marks : 1 Wrong Marks : 0.25

नवंबर, 2017 में, ग्रांट थॉर्नटन ने अपनी अंतर्राष्ट्रीय व्यवसायिक रिपोर्ट (IBR) जारी की। इस रिपोर्ट में, वर्ष 2017 में सितंबर - नवंबर तिमाही अवधि में 'ग्लोबल बिजनेस ऑप्टिमिज्म रैंकिंग' में भारत ने _____ स्थान प्राप्त किया।

Options :

1. ✖ तीसरा
2. ✖ पांचवां
3. ✖ ग्यारवां
4. ✔ सातवां

Question Number : 51 Question Id : 5861806757 Question Type : MCQ Option Shuffling : Yes

Correct Marks : 1 Wrong Marks : 0.25

Humayun Nama was written by:

Options :

1. ✔ Gulbadan Begum
2. ✖ Jahanara Begum
3. ✖ Hamidabanu Begum

4. ✖ Roshanara Begum

Question Number : 51 Question Id : 5861806757 Question Type : MCQ Option Shuffling : Yes
Correct Marks : 1 Wrong Marks : 0.25

हुमायूँ नामा _____ द्वारा लिखा गया।

Options :

1. ✔ गुलबदन बेगम
2. ✖ जहाँआरा बेगम
3. ✖ हमीदाबानु बेगम
4. ✖ रोशनारा बेगम

Question Number : 52 Question Id : 5861806758 Question Type : MCQ Option Shuffling : Yes
Correct Marks : 1 Wrong Marks : 0.25

Which of the following is NOT a section of the Mahabharata?

Options :

1. ✖ Shalya Parva
2. ✖ Adi Parva
3. ✖ Shanti Parva
4. ✔ Sthala Parva

Question Number : 52 Question Id : 5861806758 Question Type : MCQ Option Shuffling : Yes
Correct Marks : 1 Wrong Marks : 0.25

निम्न में से कौन सा महाभारत का खंड नहीं है?

Options :

1. ✖ शल्य पर्व
2. ✖ आदि पर्व
3. ✖ शांति पर्व
4. ✔ स्थल पर्व

Question Number : 53 Question Id : 5861806759 Question Type : MCQ Option Shuffling : Yes
Correct Marks : 1 Wrong Marks : 0.25

Which Article of the Indian Constitution gives special status to Jammu and Kashmir?

Options :

1. ✖ Article 268
2. ✖ Article 324
3. ✔ Article 370
4. ✖ Article 79

Question Number : 53 Question Id : 5861806759 Question Type : MCQ Option Shuffling : Yes

Correct Marks : 1 Wrong Marks : 0.25

भारतीय संविधान का कौन सा अनुच्छेद जम्मू एवं कश्मीर को विशेष दर्जा प्रदान करता है?

Options :

1. ✖ अनुच्छेद 268
2. ✖ अनुच्छेद 324
3. ✔ अनुच्छेद 370
4. ✖ अनुच्छेद 79

Question Number : 54 Question Id : 5861806760 Question Type : MCQ Option Shuffling : Yes

Correct Marks : 1 Wrong Marks : 0.25

Chakravarti Rajagopalachari, was popularly known as_____.

Options :

1. ✖ Chachaji
2. ✖ Guruji
3. ✖ Balaji
4. ✔ Rajaji

Question Number : 54 Question Id : 5861806760 Question Type : MCQ Option Shuffling : Yes

Correct Marks : 1 Wrong Marks : 0.25

चक्रवर्ती राजगोपालाचारी को _____ के लोकप्रिय नाम से जाना जाता था।

Options :

1. ✖ चाचाजी
2. ✖ गुरुजी
3. ✖ बालाजी
4. ✔ राजाजी

Question Number : 55 Question Id : 5861806761 Question Type : MCQ Option Shuffling : Yes
Correct Marks : 1 Wrong Marks : 0.25

In the context of Electoral Reforms in India what does ETPBS stand for?

Options :

1. ✔ Electronically Transmitted Postal Ballot System
2. ✖ Electronically Transferred Payment Ballot System
3. ✖ Electronically Transposed Payment Ballot Scheme
4. ✖ Electronically Transported Polling Booth System

Question Number : 55 Question Id : 5861806761 Question Type : MCQ Option Shuffling : Yes
Correct Marks : 1 Wrong Marks : 0.25

भारत में निर्वाचन सुधारों के संदर्भ में ETPBS का क्या अर्थ है?

Options :

1. ✔ इलेक्ट्रॉनिकली ट्रांसमिटेड पोस्टल बैलेट सिस्टम
2. ✖ इलेक्ट्रॉनिकली ट्रांसफर्ड पेमेंट बैलेट सिस्टम
3. ✖ इलेक्ट्रॉनिकली ट्रांसपोज्ड पेमेंट बैलेट स्कीम
4. ✖ इलेक्ट्रॉनिकली ट्रांसपोर्टेड पोलिंग बूथ सिस्टम

Question Number : 56 Question Id : 5861806762 Question Type : MCQ Option Shuffling : Yes
Correct Marks : 1 Wrong Marks : 0.25

Which of the following rights was described by Dr. B.R. Ambedkar as the heart and soul of the Constitution?

Options :

1. ✖ Right to Freedom

2. ✖ Cultural and Educational Right
3. ✔ Right to Constitutional remedies
4. ✖ Right against Exploitation

Question Number : 56 Question Id : 5861806762 Question Type : MCQ Option Shuffling : Yes
Correct Marks : 1 Wrong Marks : 0.25

निम्न में से किस अधिकार को डॉ. बी.आर. अम्बेडकर ने संविधान का हृदय और आत्मा कहा था?

Options :

1. ✖ स्वतंत्रता का अधिकार
2. ✖ सांस्कृतिक और शैक्षणिक अधिकार
3. ✔ संवैधानिक उपचारों का अधिकार
4. ✖ शोषण के विरुद्ध अधिकार

Question Number : 57 Question Id : 5861806763 Question Type : MCQ Option Shuffling : Yes
Correct Marks : 1 Wrong Marks : 0.25

Articles 239-241 in part VIII of the Indian Constitution deal with _____.

Options :

1. ✔ Union Territories
2. ✖ Powers of President
3. ✖ Foreign Trade
4. ✖ Powers of Lokpal

Question Number : 57 Question Id : 5861806763 Question Type : MCQ Option Shuffling : Yes
Correct Marks : 1 Wrong Marks : 0.25

भारतीय संविधान के भाग VIII में अनुच्छेद 239 - 241 _____ से संबंधित है।

Options :

1. ✔ संघशासित क्षेत्र

2. ✖ राष्ट्रपति के अधिकार
3. ✖ विदेश व्यापार
4. ✖ लोकपाल के अधिकार

Question Number : 58 Question Id : 5861806764 Question Type : MCQ Option Shuffling : Yes
Correct Marks : 1 Wrong Marks : 0.25

Which Article of the Indian Constitution deals with the composition of Election Commission?

Options :

1. ✖ Article 234
2. ✖ Article 342
3. ✔ Article 324
4. ✖ Article 250

Question Number : 58 Question Id : 5861806764 Question Type : MCQ Option Shuffling : Yes
Correct Marks : 1 Wrong Marks : 0.25

भारतीय संविधान का कौन सा अनुच्छेद निर्वाचन आयोग के गठन से संबंधित है?

Options :

1. ✖ अनुच्छेद 234
2. ✖ अनुच्छेद 342
3. ✔ अनुच्छेद 324
4. ✖ अनुच्छेद 250

Question Number : 59 Question Id : 5861806765 Question Type : MCQ Option Shuffling : Yes
Correct Marks : 1 Wrong Marks : 0.25

Who has been selected as the new Hockey Coach of Indian Men's Hockey Team in 2019?

Options :

1. ✖ Ric Charles Worth

2. ✖ Roelant Oltmans

3. ✔ Graham Reid

4. ✖ Trent Eigner

Question Number : 59 Question Id : 5861806765 Question Type : MCQ Option Shuffling : Yes
Correct Marks : 1 Wrong Marks : 0.25

2019 में भारतीय पुरुषों की हॉकी टीम के नए हॉकी कोच के रूप में किसे चुना गया?

Options :

1. ✖ रिक चार्ल्स वर्थ

2. ✖ रोएलेंट ओल्टमैन्स

3. ✔ ग्राहम रीड

4. ✖ ट्रेंट ईग्नर

Question Number : 60 Question Id : 5861806766 Question Type : MCQ Option Shuffling : Yes
Correct Marks : 1 Wrong Marks : 0.25

Who won Chinese Grand Prix 2019?

Options :

1. ✔ Lewis Hamilton

2. ✖ Valtteri Bottas

3. ✖ Sebastian Vettel

4. ✖ Charles Leclerc

Question Number : 60 Question Id : 5861806766 Question Type : MCQ Option Shuffling : Yes
Correct Marks : 1 Wrong Marks : 0.25

चाइनीज ग्रांड प्रिक्स 2019 किसने जीता?

Options :

1. ✔ लुईस हैमिल्टन

2. ✖ वाल्टेरी बोटास

3. ✖ सेबस्टियन वेटेल

4. ✖ चार्ल्स लेक्लर्क

General Awareness2

Group Number :	4
Group Id :	586180325
Group Maximum Duration :	0
Group Minimum Duration :	0
Show Attended Group? :	No
Edit Attended Group? :	No
Break time:	0
Group Marks:	20
Is this Group for Examiner?:	No
Revisit allowed for group Instructions? :	Yes
Maximum Instruction Time:	0
Minimum Instruction Time:	0

General Awareness2

Section Id :	586180329
Section Number :	1
Section type :	Online
Mandatory or Optional:	Mandatory
Number of Questions:	20
Number of Questions to be attempted:	20
Section Marks:	20

Sub-Section Number:	1
Sub-Section Id:	586180456
Question Shuffling Allowed :	Yes

Question Number : 61 Question Id : 5861806767 Question Type : MCQ Option Shuffling : Yes
Correct Marks : 1 Wrong Marks : 0.25

Who won Women’s Final at Australian Open 2019?

Options :

- 1. ✖ Petra Kvitova
- 2. ✖ Serena Williams
- 3. ✖ Karolina Pliskova
- 4. ✔ Naomi Osaka

Question Number : 61 Question Id : 5861806767 Question Type : MCQ Option Shuffling : Yes
Correct Marks : 1 Wrong Marks : 0.25

ऑस्ट्रेलियाई ओपन 2019 में महिलाओं का फाइनल किसने जीता?

Options :

1. ✖ पेद्रा क्वितोवा
2. ✖ सेरेना विलियम्स
3. ✖ कैरोलीना प्लिस्कोवा
4. ✔ नाओमी ओसाका

Question Number : 62 Question Id : 5861806768 Question Type : MCQ Option Shuffling : Yes

Correct Marks : 1 Wrong Marks : 0.25

Vyasa, the author of the great epic Mahabharata is believed to be the Son of:

Options :

1. ✔ Parasara
2. ✖ Gautama
3. ✖ Sukracharya
4. ✖ Vasishta

Question Number : 62 Question Id : 5861806768 Question Type : MCQ Option Shuffling : Yes

Correct Marks : 1 Wrong Marks : 0.25

महाभारत काव्य के लेखक व्यास _____ के पुत्र माने जाते हैं।

Options :

1. ✔ पराशर
2. ✖ गौतम
3. ✖ शुक्राचार्य
4. ✖ वशिष्ठ

Question Number : 63 Question Id : 5861806769 Question Type : MCQ Option Shuffling : Yes

Correct Marks : 1 Wrong Marks : 0.25

To which Musical Instrument Ustad Alla Rakha was associated with?

Options :

1. ✓ Tabla
2. ✗ Santoor
3. ✗ Veena
4. ✗ Shehnai

Question Number : 63 Question Id : 5861806769 Question Type : MCQ Option Shuffling : Yes
Correct Marks : 1 Wrong Marks : 0.25

उस्ताद अल्ला रक्खा किस संगीत वाद्य से संबंधित थे?

Options :

1. ✓ तबला
2. ✗ संतूर
3. ✗ वीणा
4. ✗ शहनाई

Question Number : 64 Question Id : 5861806770 Question Type : MCQ Option Shuffling : Yes
Correct Marks : 1 Wrong Marks : 0.25

Rani-Ki-Vav (the Queen's Stepwell), the World Heritage Site is situated in_____

Options :

1. ✗ Uttar Pradesh
2. ✓ Gujrat
3. ✗ Punjab
4. ✗ Maharashtra

Question Number : 64 Question Id : 5861806770 Question Type : MCQ Option Shuffling : Yes
Correct Marks : 1 Wrong Marks : 0.25

विश्व विरासत स्थल रानी - की - वाव (रानी का सीढ़ीदार कुआं)
_____ में स्थित है।

Options :

1. ✗ उत्तर प्रदेश

2. ✓ गुजरात
3. ✗ पंजाब
4. ✗ महाराष्ट्र

Question Number : 65 Question Id : 5861806771 Question Type : MCQ Option Shuffling : Yes
Correct Marks : 1 Wrong Marks : 0.25

The Great Barrier Reef is situated at:

Options :

1. ✗ Brazil
2. ✓ Australia
3. ✗ Indonesia
4. ✗ Maldives

Question Number : 65 Question Id : 5861806771 Question Type : MCQ Option Shuffling : Yes
Correct Marks : 1 Wrong Marks : 0.25

दी ग्रेट बैरियर रीफ _____ में स्थित है।

Options :

1. ✗ ब्राज़ील
2. ✓ ऑस्ट्रेलिया
3. ✗ इंडोनेशिया
4. ✗ मालदीव

Question Number : 66 Question Id : 5861806772 Question Type : MCQ Option Shuffling : Yes
Correct Marks : 1 Wrong Marks : 0.25

Scientists have described a new species of reddish-brown pit-viper, a venomous snake with a unique heat-sensing system from a forest in _____.

Options :

1. ✗ Tamil Nadu
2. ✗ Sikkim

3. ✖ Kerala

4. ✔ Arunachal Pradesh

Question Number : 66 Question Id : 5861806772 Question Type : MCQ Option Shuffling : Yes
Correct Marks : 1 Wrong Marks : 0.25

वैज्ञानिकों ने एक अद्वितीय ताप - संवेदी प्रणाली वाले विषैले सर्प लाल - भूरे पिट - वाइपर की नई प्रजाति खोजी है, जो _____ के वन में पाई गई।

Options :

1. ✖ तमिलनाडु

2. ✖ सिक्किम

3. ✖ केरल

4. ✔ अरुणाचल प्रदेश

Question Number : 67 Question Id : 5861806773 Question Type : MCQ Option Shuffling : Yes
Correct Marks : 1 Wrong Marks : 0.25

The New Alluvial Soil is known as _____.

Options :

1. ✖ Bhangar

2. ✖ Tarai

3. ✖ Bhabar

4. ✔ Khadar

Question Number : 67 Question Id : 5861806773 Question Type : MCQ Option Shuffling : Yes
Correct Marks : 1 Wrong Marks : 0.25

नई जलोढ़ मिट्टी _____ कहलाती है।

Options :

1. ✖ भानगर

2. ✖ तराई

3. ✖ भाबर

4. ✓ खादर

Question Number : 68 Question Id : 5861806774 Question Type : MCQ Option Shuffling : Yes
Correct Marks : 1 Wrong Marks : 0.25

Which of the following bank has the tagline 'We Understand Your World'?

Options :

1. ✗ ICICI Bank
2. ✓ HDFC Bank
3. ✗ HSBC Bank
4. ✗ IDBI Bank

Question Number : 68 Question Id : 5861806774 Question Type : MCQ Option Shuffling : Yes
Correct Marks : 1 Wrong Marks : 0.25

निम्न में से किस बैंक की टैगलाइन है - 'हम समझते हैं आपकी दुनिया'?

Options :

1. ✗ आईसीआईसीआई बैंक
2. ✓ एचडीएफसी बैंक
3. ✗ एचएसबीसी बैंक
4. ✗ आईडीबीआई बैंक

Question Number : 69 Question Id : 5861806775 Question Type : MCQ Option Shuffling : Yes
Correct Marks : 1 Wrong Marks : 0.25

Who amongst the following is the first Governor of Reserve Bank of India?

Options :

1. ✓ Osborne Smith
2. ✗ James Taylor
3. ✗ C D Deshmukh
4. ✗ Benegal Rama Rau

Question Number : 69 Question Id : 5861806775 Question Type : MCQ Option Shuffling : Yes
Correct Marks : 1 Wrong Marks : 0.25

निम्न में से कौन, भारतीय रिजर्व बैंक का प्रथम गवर्नर था?

Options :

1. ✓ ओसबोर्न स्मिथ
2. ✗ जेम्स टेलर
3. ✗ सी डी देशमुख
4. ✗ बेनेगल रामा राउ

Question Number : 70 Question Id : 5861806776 Question Type : MCQ Option Shuffling : Yes
Correct Marks : 1 Wrong Marks : 0.25

Which Economic Survey for the first time introduced a new chapter entitled 'Sustainable Development and Climate Change'?

Options :

1. ✓ 2011 - 12
2. ✗ 2013 - 14
3. ✗ 2015 - 16
4. ✗ 2017 - 18

Question Number : 70 Question Id : 5861806776 Question Type : MCQ Option Shuffling : Yes
Correct Marks : 1 Wrong Marks : 0.25

किस आर्थिक सर्वेक्षण में पहली बार 'धारणीय विकास एवं जलवायु परिवर्तन' शीर्षक से एक नया अध्याय जोड़ा गया?

Options :

1. ✓ 2011 - 12
2. ✗ 2013 - 14
3. ✗ 2015 - 16
4. ✗ 2017 - 18

Question Number : 71 Question Id : 5861806777 Question Type : MCQ Option Shuffling : Yes
Correct Marks : 1 Wrong Marks : 0.25

Herpetology is the study of _____.

Options :

1. ✓ Reptiles and Amphibians
2. ✗ Bones
3. ✗ Elephants
4. ✗ Flowers and creepers

Question Number : 71 Question Id : 5861806777 Question Type : MCQ Option Shuffling : Yes
Correct Marks : 1 Wrong Marks : 0.25

हरपेटोलॉजी _____ का अध्ययन है।

Options :

1. ✓ सरीसृप और उभयचर
2. ✗ अस्थियां
3. ✗ हाथी
4. ✗ फूल और लताएं

Question Number : 72 Question Id : 5861806778 Question Type : MCQ Option Shuffling : Yes
Correct Marks : 1 Wrong Marks : 0.25

Which of the following does not react with cold water?

Options :

1. ✗ Potassium
2. ✓ Magnesium
3. ✗ Sodium
4. ✗ Calcium

Question Number : 72 Question Id : 5861806778 Question Type : MCQ Option Shuffling : Yes
Correct Marks : 1 Wrong Marks : 0.25

निम्नलिखित विकल्प में से कौन सा, शीतल जल से अभिक्रिया नहीं करता?

Options :

1. ✖ पोटैशियम
2. ✔ मैंगनेशियम
3. ✖ सोडियम
4. ✖ कैल्शियम

Question Number : 73 Question Id : 5861806779 Question Type : MCQ Option Shuffling : Yes
Correct Marks : 1 Wrong Marks : 0.25

In a bi-focal lens, the lower part of the lens is_____.

Options :

1. ✖ Plane
2. ✖ Concave
3. ✔ Convex
4. ✖ Progressive

Question Number : 73 Question Id : 5861806779 Question Type : MCQ Option Shuffling : Yes
Correct Marks : 1 Wrong Marks : 0.25

द्वि - फोकल लेन्स में, लेन्स का निचला भाग _____ होता है।

Options :

1. ✖ समतल
2. ✖ अवतल
3. ✔ उत्तल
4. ✖ प्रगामी (प्रोग्रेसिव)

Question Number : 74 Question Id : 5861806780 Question Type : MCQ Option Shuffling : Yes
Correct Marks : 1 Wrong Marks : 0.25

Who was the first to use a prism to obtain the spectrum of sunlight?

Options :

1. ✖ Henry Moseley
2. ✖ Christian Oersted

3. ✖ Einstein

4. ✔ Sir Isaac Newton

Question Number : 74 Question Id : 5861806780 Question Type : MCQ Option Shuffling : Yes
Correct Marks : 1 Wrong Marks : 0.25

पहली बार प्रिज्म का उपयोग करके सूर्य के प्रकाश का वर्णक्रम किसने प्राप्त किया?

Options :

1. ✖ हेनरी मोसले

2. ✖ क्रिश्चियन ओएस्टेड

3. ✖ आइंस्टाइन

4. ✔ सर आइज़ैक न्यूटन

Question Number : 75 Question Id : 5861806781 Question Type : MCQ Option Shuffling : Yes
Correct Marks : 1 Wrong Marks : 0.25

Which technology has been developed by IIT-Kharagpur to solve the problem of sleepy drivers in Indian Railways?

Options :

1. ✖ Peptic

2. ✖ Tojo

3. ✔ Chemvist

4. ✖ Zeus

Question Number : 75 Question Id : 5861806781 Question Type : MCQ Option Shuffling : Yes
Correct Marks : 1 Wrong Marks : 0.25

भारतीय रेलवे में नींद की समस्या से ग्रस्त ड्राइवरों की परेशानी को हल करने के लिए आईआईटी - खड़गपुर द्वारा कौन सी तकनीक विकसित की गई?

Options :

1. ✖ पेप्टिक

2. ✖ टोजो
3. ✔ केमविस्ट
4. ✖ जियस (Zeus)

Question Number : 76 Question Id : 5861806782 Question Type : MCQ Option Shuffling : Yes
Correct Marks : 1 Wrong Marks : 0.25

In which year NASA discovered the eighth planet of the Kepler-90 Planetary System?

Options :

1. ✖ 2015
2. ✖ 2016
3. ✔ 2017
4. ✖ 2018

Question Number : 76 Question Id : 5861806782 Question Type : MCQ Option Shuffling : Yes
Correct Marks : 1 Wrong Marks : 0.25

नासा ने किस वर्ष केप्लर - 90 ग्रह प्रणाली के आठवें ग्रह की खोज की?

Options :

1. ✖ 2015
2. ✖ 2016
3. ✔ 2017
4. ✖ 2018

Question Number : 77 Question Id : 5861806783 Question Type : MCQ Option Shuffling : Yes
Correct Marks : 1 Wrong Marks : 0.25

Who coined the term 'Excitonium'?

Options :

1. ✔ Bert Halperin
2. ✖ Margaret Alvin
3. ✖ Arthur Miller

4. ✖ Jackie Chan

Question Number : 77 Question Id : 5861806783 Question Type : MCQ Option Shuffling : Yes
Correct Marks : 1 Wrong Marks : 0.25

'एक्साइटोनियम' शब्द किसने प्रतिपादित किया?

Options :

1. ✔ बर्ट हैल्परिन
2. ✖ मार्गरेट एल्विन
3. ✖ आर्थर मिलर
4. ✖ जैकी चैन

Question Number : 78 Question Id : 5861806784 Question Type : MCQ Option Shuffling : Yes
Correct Marks : 1 Wrong Marks : 0.25

The Western Naval Command is situated at:

Options :

1. ✖ Dwarka
2. ✖ Diu
3. ✔ Mumbai
4. ✖ Panaji

Question Number : 78 Question Id : 5861806784 Question Type : MCQ Option Shuffling : Yes
Correct Marks : 1 Wrong Marks : 0.25

पश्चिमी नौसैनिक कमान _____ में स्थित है।

Options :

1. ✖ द्वारका
2. ✖ दीव
3. ✔ मुंबई
4. ✖ पणजी

Question Number : 79 Question Id : 5861806785 Question Type : MCQ Option Shuffling : Yes
Correct Marks : 1 Wrong Marks : 0.25

Where is the headquarters of International Mobile Satellite Organisation (IMSO) located?

Options :

1. ✖ Frankfurt
2. ✔ London
3. ✖ Beijing
4. ✖ Lisbon

Question Number : 79 Question Id : 5861806785 Question Type : MCQ Option Shuffling : Yes
Correct Marks : 1 Wrong Marks : 0.25

अंतर्राष्ट्रीय मोबाइल सैटेलाइट संगठन (IMSO) का मुख्यालय कहाँ पर स्थित है?

Options :

1. ✖ फ्रैंकफर्ट
2. ✔ लंदन
3. ✖ बीजिंग
4. ✖ लिस्बन

Question Number : 80 Question Id : 5861806786 Question Type : MCQ Option Shuffling : Yes
Correct Marks : 1 Wrong Marks : 0.25

Which of the following country is NOT a member of G-20?

Options :

1. ✖ India
2. ✖ Indonesia
3. ✖ Russia
4. ✔ Pakistan

Question Number : 80 Question Id : 5861806786 Question Type : MCQ Option Shuffling : Yes
Correct Marks : 1 Wrong Marks : 0.25

निम्न में से कौन सा देश, G - 20 का सदस्य नहीं है?

Options :

- 1. ✖ भारत
- 2. ✖ इंडोनेशिया
- 3. ✖ रूस
- 4. ✔ पाकिस्तान

Arithmetic Ability1

Group Number :	5
Group Id :	586180326
Group Maximum Duration :	0
Group Minimum Duration :	0
Show Attended Group? :	No
Edit Attended Group? :	No
Break time:	0
Group Marks:	20
Is this Group for Examiner?:	No
Revisit allowed for group Instructions? :	Yes
Maximum Instruction Time:	0
Minimum Instruction Time:	0

Arithmetic Ability1

Section Id :	586180330
Section Number :	1
Section type :	Online
Mandatory or Optional:	Mandatory
Number of Questions:	20
Number of Questions to be attempted:	20
Section Marks:	20

Sub-Section Number:	1
Sub-Section Id:	586180457
Question Shuffling Allowed :	Yes

Question Number : 81 Question Id : 5861806787 Question Type : MCQ Option Shuffling : Yes
Correct Marks : 1 Wrong Marks : 0.25

The value of $\frac{(75 + 24)^2 + (75 - 24)^2}{6201}$ is:

Options :

1. ✖ 3

2. ✖ 4

3. ✔ 2

4. ✖ 7

Question Number : 81 Question Id : 5861806787 Question Type : MCQ Option Shuffling : Yes
Correct Marks : 1 Wrong Marks : 0.25

$\frac{(75 + 24)^2 + (75 - 24)^2}{6201}$ का मान ज्ञात करें।

Options :

1. ✖ 3

2. ✖ 4

3. ✔ 2

4. ✖ 7

Question Number : 82 Question Id : 5861806788 Question Type : MCQ Option Shuffling : Yes
Correct Marks : 1 Wrong Marks : 0.25

If $4x + 5y = 192$ and $\frac{x+y}{y} = \frac{15}{4}$, then the value of $3x + 2y$ is:

Options :

1. ✔ 123

2. ✖ 132

3. ✖ 133

4. ✖ 142

Question Number : 82 Question Id : 5861806788 Question Type : MCQ Option Shuffling : Yes

Correct Marks : 1 Wrong Marks : 0.25

यदि $4x + 5y = 192$ और $\frac{x+y}{y} = \frac{15}{4}$ है, तो $3x + 2y$ का मान ज्ञात करें।

Options :

1. ✔ 123

2. ✖ 132

3. ✖ 133

4. ✖ 142



Question Number : 83 Question Id : 5861806789 Question Type : MCQ Option Shuffling : Yes

Correct Marks : 1 Wrong Marks : 0.25

On a farm, there are 60 hens, 55 goats, 12 horses and some farmers. If the total number of feet is 285 more than the total number of heads, then find the number of farmers.

Options :

1. ✖ 20

2. ✔ 24

3. ✖ 22

4. ✖ 18

Question Number : 83 Question Id : 5861806789 Question Type : MCQ Option Shuffling : Yes

Correct Marks : 1 Wrong Marks : 0.25

एक खेत में, 60 मुर्गियाँ, 55 बकरियाँ, 12 घोड़े और कुछ किसान हैं। यदि पैरों की कुल संख्या सिरों की कुल संख्या से 285 अधिक है, तो किसानों की संख्या ज्ञात करें।

Options :

1. ✖ 20

2. ✔ 24

3. ✖ 22

4. ✖ 18

Question Number : 84 Question Id : 5861806790 Question Type : MCQ Option Shuffling : Yes

Correct Marks : 1 Wrong Marks : 0.25

A sum of Rs. 3,660 is divided among A, B and C such that A gets $\frac{2}{5}$ of what B gets and B gets $\frac{3}{8}$ of what C gets. Then A's share is:

Options :

1. ✔ Rs. 360

2. ✖ Rs. 900

3. ✖ Rs. 460

4. ✖ Rs. 600

Question Number : 84 Question Id : 5861806790 Question Type : MCQ Option Shuffling : Yes

Correct Marks : 1 Wrong Marks : 0.25

₹ 3,660 राशि को A, B और C के बीच इस प्रकार से बाँटा गया है कि A को B कि $\frac{2}{5}$ राशि मिलती है और B को C कि $\frac{3}{8}$ राशि मिलती है। A का हिस्सा ज्ञात करें।

Options :

1. ✔ रुपये 360

2. ✖ रुपये 900

3. ✖ रुपये 460

4. ✖ रुपये 600

Question Number : 85 Question Id : 5861806791 Question Type : MCQ Option Shuffling : Yes

Correct Marks : 1 Wrong Marks : 0.25

The value of $\frac{24.8 \times 24.8 - 7.3 \times 7.3}{32.1}$ is:

Options :

1. ✖ 16.5

2. ✔ 17.5

3. ✖ 15.7

4. ✖ 18.5

Question Number : 85 Question Id : 5861806791 Question Type : MCQ Option Shuffling : Yes

Correct Marks : 1 Wrong Marks : 0.25

$$\frac{24.8 \times 24.8 - 7.3 \times 7.3}{32.1} \text{ का मान पता करें।}$$

Options :

1. ✖ 16.5

2. ✔ 17.5

3. ✖ 15.7

4. ✖ 18.5

Question Number : 86 Question Id : 5861806792 Question Type : MCQ Option Shuffling : Yes

Correct Marks : 1 Wrong Marks : 0.25

The price of commodity A increases by 75 paise every year, while the price of commodity B increases by 40 paise every year. If in 1998, the price of commodity A was Rs. 4.50 and that of B was Rs. 6.45, in which year will commodity A cost 85 paise more than commodity B?

Options :

1. ✔ 2006

2. ✖ 2005

3. ✖ 2007

4. ✖ 2008

Question Number : 86 Question Id : 5861806792 Question Type : MCQ Option Shuffling : Yes

Correct Marks : 1 Wrong Marks : 0.25

वस्तु A की कीमत हर साल 75 पैसे बढ़ जाती है, जबकि वस्तु B की कीमत हर साल 40 पैसे बढ़ती है। यदि 1998 में, वस्तु A की कीमत रुपये 4.50 थी और B की कीमत रुपये 6.45 थी, तो इनमें से किस साल में वस्तु A की कीमत वस्तु B से 85 पैसे अधिक होगी?

Options :

1. ✓ 2006

2. ✗ 2005

3. ✗ 2007

4. ✗ 2008

Question Number : 87 Question Id : 5861806793 Question Type : MCQ Option Shuffling : Yes

Correct Marks : 1 Wrong Marks : 0.25

The sum of two positive numbers is 14.6 and their product is 44.88. Find the greater number of the two.

Options :

1. ✗ 8.4

2. ✗ 12.2

3. ✗ 4.4

4. ✓ 10.2

Question Number : 87 Question Id : 5861806793 Question Type : MCQ Option Shuffling : Yes

Correct Marks : 1 Wrong Marks : 0.25

दो धनात्मक संख्याओं का योग 14.6 है और उनका गुणनफल 44.88 है। दोनों में से बड़ी संख्या पता करें।

Options :

1. ✖ 8.4

2. ✖ 12.2

3. ✖ 4.4

4. ✔ 10.2

Question Number : 88 Question Id : 5861806794 Question Type : MCQ Option Shuffling : Yes

Correct Marks : 1 Wrong Marks : 0.25

The value of $\frac{4\frac{3}{7} - \frac{1}{8} \times 10\frac{2}{3} + 5\frac{1}{8} \div \frac{41}{16}}{\frac{5}{6} \text{ of } 4\frac{3}{7} - \frac{2}{7} \div \frac{1}{4}}$ is:

Options :

1. ✔ 2

2. ✖ $\frac{1}{4}$

3. ✖ $\frac{1}{2}$

4. ✖ $\frac{1}{3}$

Question Number : 88 Question Id : 5861806794 Question Type : MCQ Option Shuffling : Yes

Correct Marks : 1 Wrong Marks : 0.25

$\frac{4\frac{3}{7} - \frac{1}{8} \times 10\frac{2}{3} + 5\frac{1}{8} \div \frac{41}{16}}{\frac{5}{6} \text{ of } 4\frac{3}{7} - \frac{2}{7} \div \frac{1}{4}}$ का मान पता करें।

Options :

1. ✓ 2

2. ✗ $\frac{1}{4}$

3. ✗ $\frac{1}{2}$

4. ✗ $\frac{1}{3}$

Question Number : 89 Question Id : 5861806795 Question Type : MCQ Option Shuffling : Yes
Correct Marks : 1 Wrong Marks : 0.25

A man divided a piece of land among his three children. He gave $32\frac{3}{7}$ km² to the first child and $\frac{3}{7}$ of the whole to the second. He gave the third child as much land as he gave the first two together. Find the share of the third child.

Options :

1. ✗ 217 km²

2. ✗ 237 km²

3. ✓ 227 km²

4. ✗ 327 km²

Question Number : 89 Question Id : 5861806795 Question Type : MCQ Option Shuffling : Yes
Correct Marks : 1 Wrong Marks : 0.25

एक व्यक्ति ने अपनी ज़मीन को अपने तीन बच्चों में बाँट दिया। उसने सारी ज़मीन में से अपने पहले बच्चे को $32\frac{3}{7}$ km² और दूसरे बच्चे को अपनी सारी जमीन का $\frac{3}{7}$ हिस्सा दिया। उसने अपने तीसरे बच्चे को दोनों बच्चों को मिलाकर दी गई जितनी ज़मीन दी। तीसरे बच्चे का हिस्सा ज्ञात करें।

Options :

1. ✖ 217 km²

2. ✖ 237 km²

3. ✔ 227 km²

4. ✖ 327 km²

Question Number : 90 Question Id : 5861806796 Question Type : MCQ Option Shuffling : Yes

Correct Marks : 1 Wrong Marks : 0.25

The value of $\frac{3}{28} + \frac{3}{70} + \frac{3}{130} + \frac{3}{208}$ is:

Options :

1. ✖ $\frac{5}{16}$

2. ✔ $\frac{3}{16}$

3. ✖ $\frac{7}{16}$

4. ✖ $\frac{3}{8}$

Question Number : 90 Question Id : 5861806796 Question Type : MCQ Option Shuffling : Yes

Correct Marks : 1 Wrong Marks : 0.25

$\frac{3}{28} + \frac{3}{70} + \frac{3}{130} + \frac{3}{208}$ का मान ज्ञात करें।

Options :

1. ✖ $\frac{5}{16}$

2. ✔ $\frac{3}{16}$

3. ✖ $\frac{7}{16}$

4. ✖ $\frac{3}{8}$

Question Number : 91 Question Id : 5861806797 Question Type : MCQ Option Shuffling : Yes

Correct Marks : 1 Wrong Marks : 0.25

Find the sum of all such numbers between 500 and 700 that when divided by 6, 15 and 18 leaves a remainder of 5 in each case.

Options :

1. ✔ 1180

2. ✖ 1280

3. ✖ 1170

4. ✖ 1810

Question Number : 91 Question Id : 5861806797 Question Type : MCQ Option Shuffling : Yes

Correct Marks : 1 Wrong Marks : 0.25

500 और 700 के बीच की ऐसी सभी संख्याओं का योग ज्ञात करें, जो 6, 15 और 18 से भाज्य हों और 5 शेष बचता हो।

Options :

1. ✔ 1180

2. ✖ 1280

3. ✖ 1170

4. ✖ 1810

Question Number : 92 Question Id : 5861806798 Question Type : MCQ Option Shuffling : Yes

Correct Marks : 1 Wrong Marks : 0.25

Find the smallest five-digit number that when divided by 12, 18 and 25 leaves a common remainder of 6.

Options :

1. ✖ 10628

2. ✖ 10800

3. ✖ 10618

4. ✔ 10806



Question Number : 92 Question Id : 5861806798 Question Type : MCQ Option Shuffling : Yes

Correct Marks : 1 Wrong Marks : 0.25

ऐसी सबसे छोटी पाँच-अंकों वाली संख्या ज्ञात करें, जिसे 12, 18 और 25 से विभाजित करने पर शेष 6 बचता हो।

Options :

1. ✖ 10628

2. ✖ 10800

3. ✖ 10618

4. ✔ 10806

Question Number : 93 Question Id : 5861806799 Question Type : MCQ Option Shuffling : Yes

Correct Marks : 1 Wrong Marks : 0.25

Find the sum of the greatest three-digit number and the smallest four-digit number that have 32 as their HCF.

Options :

1. ✔ 2016

2. ✖ 2026

3. ✖ 2018

4. ✖ 2014

Question Number : 93 Question Id : 5861806799 Question Type : MCQ Option Shuffling : Yes

Correct Marks : 1 Wrong Marks : 0.25

सबसे बड़ी तीन अंकों वाली संख्या और सबसे छोटी चार - अंकों वाली संख्या का योग ज्ञात करें, जिनका महत्तम समापवर्त्य 32 है।

Options :

1. ✔ 2016

2. ✖ 2026

3. ✖ 2018

4. ✖ 2014

Question Number : 94 Question Id : 5861806800 Question Type : MCQ Option Shuffling : Yes

Correct Marks : 1 Wrong Marks : 0.25

The salaries of Ahmed and Vinod are in the ratio of 4 : 5. If the salary of each is increased by Rs. 5,000, the new ratio becomes 38 : 45. What is Ahmed's salary after the increment?

Options :

1. ✖ Rs. 18,000

2. ✖ Rs. 15,000

3. ✖ Rs. 14,000

4. ✔ Rs. 19,000

Question Number : 94 Question Id : 5861806800 Question Type : MCQ Option Shuffling : Yes

Correct Marks : 1 Wrong Marks : 0.25

अहमद और विनोद के वेतन का अनुपात 4 : 5 है। यदि प्रत्येक का वेतन रुपये 5,000 बढ़ा दिया जाए, तो नया अनुपात 38 : 45 हो जाता है। बढ़ोतरी के बाद अहमद का वेतन ज्ञात करें?

Options :

1. ✖ रुपये 18,000

2. ✖ रुपये 15,000

3. ✖ रुपये 14,000

4. ✔ रुपये 19,000

Question Number : 95 Question Id : 5861806801 Question Type : MCQ Option Shuffling : Yes

Correct Marks : 1 Wrong Marks : 0.25

The sum of three numbers is 858. If the ratio of the first number to the second number is 4 : 7, and that of the second number to the third number is 6 : 11, then the second number is:

Options :

1. ✖ 352

2. ✔ 252

3. ✖ 225

4. ✖ 532

Question Number : 95 Question Id : 5861806801 Question Type : MCQ Option Shuffling : Yes

Correct Marks : 1 Wrong Marks : 0.25

तीन संख्याओं का योग 858 है। यदि पहली और दूसरी संख्या का अनुपात 4 : 7 है और दूसरी और तीसरी संख्या का अनुपात 6 : 11 है, तो दूसरी संख्या पता करें।

Options :

1. ✖ 352

2. ✔ 252

3. ✖ 225

4. ✖ 532

Question Number : 96 Question Id : 5861806802 Question Type : MCQ Option Shuffling : Yes

Correct Marks : 1 Wrong Marks : 0.25

Nandini and Kamali appeared for an examination. Nandini secured 12 marks more than Kamali, and her marks were 55% of the sum of their marks. Find the marks scored by Nandini.

Options :

1. ✓ 66

2. ✗ 54

3. ✗ 56

4. ✗ 68

Question Number : 96 Question Id : 5861806802 Question Type : MCQ Option Shuffling : Yes

Correct Marks : 1 Wrong Marks : 0.25

नंदिनी और कमली एक परीक्षा में बैठते हैं। नंदिनी को कमली से 12 अंक अधिक मिलते हैं और कमली के अंक उनके अंकों के योग का 55% थे। नंदिनी को कितने अंक मिले?

Options :

1. ✓ 66

2. ✗ 54

3. ✗ 56

4. ✗ 68

Question Number : 97 Question Id : 5861806803 Question Type : MCQ Option Shuffling : Yes

Correct Marks : 1 Wrong Marks : 0.25

If the length of a rectangle is increased by 10% and breadth by 20%, then by what percentage will the area be increased?

Options :

1. ✗ 23%

2. ✓ 32%

3. ✗ 25%

4. ✗ 30%

Question Number : 97 Question Id : 5861806803 Question Type : MCQ Option Shuffling : Yes

Correct Marks : 1 Wrong Marks : 0.25

यदि एक आयत की लंबाई 10% और चौड़ाई 20% बढ़ा दी जाए, तो क्षेत्रफल में कितने प्रतिशत बढ़ोतरी होगी?

Options :

1. ✗ 23%

2. ✓ 32%

3. ✗ 25%

4. ✗ 30%

Question Number : 98 Question Id : 5861806804 Question Type : MCQ Option Shuffling : Yes

Correct Marks : 1 Wrong Marks : 0.25

Two numbers, A and B, are such that the sum of 8% of A and 5% of B is three-fourth of the sum of 6% of A and 9% of B. Find the ratio of A to B.

Options :

1. ✓ 1 : 2

2. ✗ 2 : 1

3. ✖ 2 : 3

4. ✖ 3 : 2

Question Number : 98 Question Id : 5861806804 Question Type : MCQ Option Shuffling : Yes

Correct Marks : 1 Wrong Marks : 0.25

दो संख्याएँ A और B इस प्रकार हैं कि A के 8% और B के 5% का योग A के 6% और B के 9% के योग का तीन - चौथाई है। A और B का अनुपात ज्ञात करें।

Options :

1. ✔ 1 : 2

2. ✖ 2 : 1

3. ✖ 2 : 3

4. ✖ 3 : 2

Question Number : 99 Question Id : 5861806805 Question Type : MCQ Option Shuffling : Yes

Correct Marks : 1 Wrong Marks : 0.25

A rectangular slab of wood, 4 m in length and 3 m in breadth, is floating on a lake. The wood sinks by 8 cm when 15 persons climb on it. What is the average weight of 15 persons if 1 m³ of water weighs 1000 kg?

Options :

1. ✔ 64 kg

2. ✖ 70 kg

3. ✖ 65 kg

4. ✖ 68 kg

Question Number : 99 Question Id : 5861806805 Question Type : MCQ Option Shuffling : Yes

Correct Marks : 1 Wrong Marks : 0.25

4 m लंबी और 3 m चौड़ी एक आयताकार लकड़ी का तख्ता झील में तैर रहा है। जब 15 व्यक्ति उस पर चढ़ते हैं, तो वो 8 cm डूब जाता है। यदि 1m^3 पानी का वज़न 1000 kg है, तो 15 व्यक्तियों का औसत वज़न कितना होगा?

Options :

1. ✔ 64 kg

2. ✖ 70 kg

3. ✖ 65 kg

4. ✖ 68 kg

Question Number : 100 Question Id : 5861806806 Question Type : MCQ Option Shuffling : Yes

Correct Marks : 1 Wrong Marks : 0.25

The average age of a husband, his wife and their child 4 years ago was 28 years, and that of the wife and the child 7 years ago was 18 years. The present age of the husband is:

Options :

1. ✖ 44 years

2. ✖ 42 years

3. ✔ 46 years

4. ✖ 40 years

Question Number : 100 Question Id : 5861806806 Question Type : MCQ Option Shuffling : Yes
Correct Marks : 1 Wrong Marks : 0.25

4 साल पहले एक पति, उसकी पत्नी और उसके बच्चे की औसत आयु 28 साल थी और 7 साल पहले उसकी पत्नी और उसके बच्चे की औसत आयु 18 साल थी। पति की वर्तमान आयु ज्ञात करें।

Options :

1. ✖ 44 साल

2. ✖ 42 साल

3. ✔ 46 साल

4. ✖ 40 साल

Arithmetic Ability2

Group Number :	6
Group Id :	586180327
Group Maximum Duration :	0
Group Minimum Duration :	0
Show Attended Group? :	No
Edit Attended Group? :	No
Break time:	0
Group Marks:	20
Is this Group for Examiner?:	No
Revisit allowed for group Instructions? :	Yes
Maximum Instruction Time:	0
Minimum Instruction Time:	0

Arithmetic Ability2

Section Id :	586180331
Section Number :	1
Section type :	Online
Mandatory or Optional:	Mandatory
Number of Questions:	20
Number of Questions to be attempted:	20
Section Marks:	20

Sub-Section Number: 1
Sub-Section Id: 586180458
Question Shuffling Allowed : Yes

Question Number : 101 Question Id : 5861806807 Question Type : MCQ Option Shuffling : Yes
Correct Marks : 1 Wrong Marks : 0.25

An umbrella was sold for Rs. 220 at a profit of 10%. At what price should the umbrella be sold to get a profit of 15%?

Options :

1. ✓ Rs. 230

2. ✗ Rs. 240

3. ✗ Rs. 250

4. ✗ Rs. 245

Question Number : 101 Question Id : 5861806807 Question Type : MCQ Option Shuffling : Yes
Correct Marks : 1 Wrong Marks : 0.25

एक छाते को 10% के लाभ पर रुपये 220 में बेचा गया। 15% लाभ कमाने के लिए उस छाते को कितने रुपयों में बेचना होगा?

Options :

1. ✓ रुपये 230

2. ✗ रुपये 240

3. ✗ रुपये 250

4. ✗ रुपये 245

Question Number : 102 Question Id : 5861806808 Question Type : MCQ Option Shuffling : Yes

Correct Marks : 1 Wrong Marks : 0.25

The cost price of an umbrella is 75% of the marked price. If the discount is 10%, find the profit percentage.

Options :

1. ✖ 15%

2. ✖ 22%

3. ✔ 20%

4. ✖ 25%

Question Number : 102 Question Id : 5861806808 Question Type : MCQ Option Shuffling : Yes

Correct Marks : 1 Wrong Marks : 0.25

एक छाते का क्रय मूल्य अंकित मूल्य का 75% है। यदि छूट 10% है, तो लाभ प्रतिशत ज्ञात करें।

Options :

1. ✖ 15%

2. ✖ 22%

3. ✔ 20%

4. ✖ 25%

Question Number : 103 Question Id : 5861806809 Question Type : MCQ Option Shuffling : Yes

Correct Marks : 1 Wrong Marks : 0.25

By reducing the selling price of an article by Rs. 60, a gain of 10% turns into a loss of 5%. Find the original selling price of the article.

Options :

1. ✓ Rs. 440

2. ✗ Rs. 400

3. ✗ Rs. 450

4. ✗ Rs. 340

Question Number : 103 Question Id : 5861806809 Question Type : MCQ Option Shuffling : Yes

Correct Marks : 1 Wrong Marks : 0.25

एक वस्तु का विक्रय मूल्य रुपये 60 से घटाने से 10% का लाभ, 5% नुकसान में बदल जाता है। वस्तु का मूल विक्रय मूल्य ज्ञात करें।

Options :

1. ✓ रुपये 440

2. ✗ रुपये 400

3. ✗ रुपये 450

4. ✗ रुपये 340

Question Number : 104 Question Id : 5861806810 Question Type : MCQ Option Shuffling : Yes

Correct Marks : 1 Wrong Marks : 0.25

When payment is made online, discount offered is 15%. Additional discount of 6% is given to credit card holders. Mohan buys a phone for Rs. 14,000 by paying online through his credit card. How much does he pay?

Options :

1. ✓ Rs. 11,186

2. ✖ Rs. 11,168

3. ✖ Rs. 11,176

4. ✖ Rs. 11,286

Question Number : 104 Question Id : 5861806810 Question Type : MCQ Option Shuffling : Yes

Correct Marks : 1 Wrong Marks : 0.25

ऑनलाइन भुगतान करने पर 15% की छूट दी जाती है। क्रेडिट कार्ड धारकों को अतिरिक्त 6% छूट दी जाती है। मोहन अपने क्रेडिट कार्ड से ऑनलाइन भुगतान करके एक फ़ोन को रुपये 14,000 में खरीदता है। उसने कितना भुगतान किया है?

Options :

1. ✔ रुपये 11,186

2. ✖ रुपये 11,168

3. ✖ रुपये 11,176

4. ✖ रुपये 11,286

Question Number : 105 Question Id : 5861806811 Question Type : MCQ Option Shuffling : Yes

Correct Marks : 1 Wrong Marks : 0.25

Two successive discounts, the first being 15%, were given on an article having a marked price of Rs. 9,600. Finally, it was sold for Rs. 7,344. How much was the second discount?

Options :

1. ✖ 12%

2. ✔ 10%

3. ✖ 9%

4. ✖ 8%

Question Number : 105 Question Id : 5861806811 Question Type : MCQ Option Shuffling : Yes

Correct Marks : 1 Wrong Marks : 0.25

एक वस्तु पर पहली 15% की छूट सहित दो क्रमिक छूट दी जाती हैं, जिसका अंकित मूल्य रुपये 9,600 था। अंत में, वस्तु को रुपये 7,344 में बेच दिया गया। दूसरी छूट कितनी थी?

Options :

1. ✖ 12%

2. ✔ 10%

3. ✖ 9%

4. ✖ 8%

Question Number : 106 Question Id : 5861806812 Question Type : MCQ Option Shuffling : Yes

Correct Marks : 1 Wrong Marks : 0.25

A man invested Rs. 16,000 at a certain rate on simple interest and Rs. 12,000 at a 3% higher rate of interest than the previous one. If the interest amount in both cases is the same after 5 years, find the rate of interest.

Options :

1. ✔ 9%

2. ✖ 8%

3. ✖ 9.5%

4. ✖ 8.5%

Question Number : 106 Question Id : 5861806812 Question Type : MCQ Option Shuffling : Yes

Correct Marks : 1 Wrong Marks : 0.25

एक व्यक्ति ने एक निश्चित साधारण ब्याज दर से रुपये 16,000 और पिछली ब्याज दर से 3% अधिक पर रुपये 12,000 निवेश किए। यदि 5 सालों के बाद दोनों ही मामलों में ब्याज की राशि एक समान है, तो ब्याज दर ज्ञात करें।

Options :

1. ✔ 9%

2. ✖ 8%

3. ✖ 9.5%

4. ✖ 8.5%

Question Number : 107 Question Id : 5861806813 Question Type : MCQ Option Shuffling : Yes

Correct Marks : 1 Wrong Marks : 0.25

A sum of money amounts to Rs. 7,668 after 4 years and Rs. 9,369 after 7 years at the same rate of simple interest. The rate of interest per annum is:

Options :

1. ✖ 10%

2. ✖ 12%

3. ✔ 10.5%

4. ✖ 9%

Question Number : 107 Question Id : 5861806813 Question Type : MCQ Option Shuffling : Yes

Correct Marks : 1 Wrong Marks : 0.25

एक राशि समान साधारण ब्याज पर 4 सालों के बाद रुपये 7,668 और 7 सालों के बाद रुपये 9,369 हो जाती है।
वार्षिक ब्याज दर ज्ञात करें।

Options :

1. ✖ 10%

2. ✖ 12%

3. ✔ 10.5%

4. ✖ 9%

Question Number : 108 Question Id : 5861806814 Question Type : MCQ Option Shuffling : Yes

Correct Marks : 1 Wrong Marks : 0.25

A sum of ₹ 840 is lent in the beginning of a year at a certain rate of interest. After 8 months, an additional sum of ₹ 390 is lent at twice the former rate. At the end of the year, ₹ 93.50 is earned as interest from both the loans. What was the original rate of interest?

Options :

1. ✔ 8.5%

2. ✖ 8%

3. ✖ 9%

4. ✖ 9.5%

Question Number : 108 Question Id : 5861806814 Question Type : MCQ Option Shuffling : Yes

Correct Marks : 1 Wrong Marks : 0.25

साल की शुरुआत में एक निश्चित ब्याज दर से ₹ 840 का ऋण दिया गया। 8 महीनों के बाद, पिछली ब्याज दर के मुकाबले दोगुने ब्याज दर पर ₹ 390 का और ऋण दिया गया। साल के अंत में, दोनों ऋणों से ₹ 93.50 की आमदनी होती है। मूल ब्याज दर ज्ञात करें।

Options :

1. ✓ 8.5%

2. ✗ 8%

3. ✗ 9%

4. ✗ 9.5%

Question Number : 109 Question Id : 5861806815 Question Type : MCQ Option Shuffling : Yes

Correct Marks : 1 Wrong Marks : 0.25

The compound interest on a certain sum of money at 10% p.a. for 2 years is Rs. 1,050. Find its simple interest at the same rate for the same period.

Options :

1. ✓ Rs. 1,000

2. ✗ Rs. 1,020

3. ✗ Rs. 900

4. ✗ Rs. 1,030

Question Number : 109 Question Id : 5861806815 Question Type : MCQ Option Shuffling : Yes

Correct Marks : 1 Wrong Marks : 0.25

एक निश्चित राशि 2 सालों में 10% के वार्षिक चक्रवृद्धि ब्याज की दर से रुपये 1,050 हो जाती है। इसी ब्याज दर पर, इसी अवधि के लिए साधारण ब्याज दर ज्ञात करें।

Options :

1. ✓ रुपये 1,000

2. ✗ रुपये 1,020

3. ✗ रुपये 900

4. ✗ रुपये 1,030

Question Number : 110 Question Id : 5861806816 Question Type : MCQ Option Shuffling : Yes

Correct Marks : 1 Wrong Marks : 0.25

Dubey borrows Rs. 10,000 at 15% p.a. on compound interest. At the end of every year, he pays Rs. 3,000 as a part of repayment. How much does he still owe after two such installments?

Options :

1. ✗ Rs. 6,785

2. ✓ Rs. 6,775

3. ✗ Rs. 6,700

4. ✗ Rs. 6,800

Question Number : 110 Question Id : 5861806816 Question Type : MCQ Option Shuffling : Yes

Correct Marks : 1 Wrong Marks : 0.25

दुबे ने 15% वार्षिक चक्रवृद्धि ब्याज की दर से रुपये 10,000 उधार लिए हैं। वह हर साल के अंत में, कर्ज अदायगी के रूप में रुपये 3,000 लौटाता है। ऐसी दो किश्तें देने के बाद उस पर अभी कितना ऋण बाकी है?

Options :

1. ✗ रुपये 6,785

2. ✓ रुपये 6,775

3. ✗ रुपये 6,700

4. ✗ रुपये 6,800

Question Number : 111 Question Id : 5861806817 Question Type : MCQ Option Shuffling : Yes

Correct Marks : 1 Wrong Marks : 0.25

The ratio of the length to the breadth of a rectangle is 5 : 4. The area of the rectangle is 5780 cm^2 . Find the ratio of the breadth to the area of the rectangle.

Options :

1. ✓ 1 : 85

2. ✗ 2 : 65

3. ✗ 4 : 85

4. ✗ 1 : 75

Question Number : 111 Question Id : 5861806817 Question Type : MCQ Option Shuffling : Yes

Correct Marks : 1 Wrong Marks : 0.25

एक आयत की लंबाई और चौड़ाई का अनुपात 5 : 4 है। आयत का क्षेत्रफल 5780 cm^2 है। आयत के क्षेत्रफल और चौड़ाई का अनुपात ज्ञात करें।

Options :

1. ✓ 1 : 85

2. ✗ 2 : 65

3. ✖ 4 : 85

4. ✖ 1 : 75

Question Number : 112 Question Id : 5861806818 Question Type : MCQ Option Shuffling : Yes

Correct Marks : 1 Wrong Marks : 0.25

The length of a rectangular floor is 150% more than its breadth. If Rs. 2,560 is required for cementing the floor at the rate of Rs. 4 per m^2 , then what is the length of the floor?

Options :

1. ✖ 36 m

2. ✖ 30 m

3. ✖ 16 m

4. ✔ 40 m

Question Number : 112 Question Id : 5861806818 Question Type : MCQ Option Shuffling : Yes

Correct Marks : 1 Wrong Marks : 0.25

एक आयताकार फर्श की लंबाई उसकी चौड़ाई से 150% अधिक है। यदि रुपये 4 प्रति m^2 की दर से फर्श पर सीमेंट चढ़ाने के लिए रुपये 2,560 की जरूरत है, तो फर्श की लंबाई ज्ञात करें।

Options :

1. ✖ 36 m

2. ✖ 30 m

3. ✖ 16 m

4. ✓ 40 m

Question Number : 113 Question Id : 5861806819 Question Type : MCQ Option Shuffling : Yes

Correct Marks : 1 Wrong Marks : 0.25

A wire, in the form of a circle of radius 10.5 cm, is bent in the form of a rectangle, whose length and breadth are in the ratio of 6 : 5. What is the area of the rectangle?

Options :

1. ✗ 260 cm²

2. ✓ 270 cm²

3. ✗ 370 cm²

4. ✗ 240 cm²

Question Number : 113 Question Id : 5861806819 Question Type : MCQ Option Shuffling : Yes

Correct Marks : 1 Wrong Marks : 0.25

एक वृत्ताकार तार, जिसकी त्रिज्या 10.5 cm है, उसे एक आयत के रूप में मोड़ा जाता है, जिसकी लंबाई और चौड़ाई का अनुपात 6 : 5 है। आयत का क्षेत्रफल ज्ञात करें।

Options :

1. ✗ 260 cm²

2. ✓ 270 cm²

3. ✗ 370 cm²

4. ✗ 240 cm²

Question Number : 114 Question Id : 5861806820 Question Type : MCQ Option Shuffling : Yes

Correct Marks : 1 Wrong Marks : 0.25

Adhavan completes a job in 15 days, whereas Arun completes the same job in 30 days. Bhaskar works $1\frac{1}{2}$ times faster than Adhavan. How many days will they take to finish the job working together?

Options :

1. ✓ 5

2. ✗ 6

3. ✗ 7

4. ✗ 8

Question Number : 114 Question Id : 5861806820 Question Type : MCQ Option Shuffling : Yes

Correct Marks : 1 Wrong Marks : 0.25

अधावन एक काम को 15 दिनों में पूरा करता है, वहीं अरुण उसी काम को 30 दिनों में पूरा करता है। भास्कर, अधावन से $1\frac{1}{2}$ तेज़ी से काम करता है। यदि तीनों साथ में मिलकर काम करें, तो उस काम को पूरा करने में कितने दिन लगेंगे?

Options :

1. ✓ 5

2. ✗ 6

3. ✗ 7

4. ✗ 8

Question Number : 115 Question Id : 5861806821 Question Type : MCQ Option Shuffling : Yes

Correct Marks : 1 Wrong Marks : 0.25

The salary for completing a job is Rs. 3,600. A alone can do the job in 10 days. B alone can do the job in 5 days. With the help of C, they will be able to do the job in 2 days. Find the salary of C.

Options :

1. ✖ Rs. 1,420

2. ✖ Rs. 1,450

3. ✔ Rs. 1,440

4. ✖ Rs. 1,400

Question Number : 115 Question Id : 5861806821 Question Type : MCQ Option Shuffling : Yes

Correct Marks : 1 Wrong Marks : 0.25

एक काम को पूरा करने के लिए रुपये 3,600 मिलते हैं। A अकेले इस काम को 10 दिनों में पूरा कर सकता है। B अकेले इस काम को 5 दिनों में पूरा कर सकता है। C की मदद से, वे इस काम को 2 दिनों में पूरा कर सकते हैं। C का वेतन ज्ञात करें।

Options :

1. ✖ रुपये 1,420

2. ✖ रुपये 1,450

3. ✔ रुपये 1,440

4. ✖ रुपये 1,400

Question Number : 116 Question Id : 5861806822 Question Type : MCQ Option Shuffling : Yes

Correct Marks : 1 Wrong Marks : 0.25

A train, 150 m in length, moves at a speed of 30 km/h. It crosses another train, 200 m in length, coming from the opposite direction in 20 seconds. Find the speed of the second train.

Options :

1. ✓ 33 km/h

2. ✗ 32 km/h

3. ✗ 35 km/h

4. ✗ 36 km/h

Question Number : 116 Question Id : 5861806822 Question Type : MCQ Option Shuffling : Yes

Correct Marks : 1 Wrong Marks : 0.25

150 m लंबी रेलगाड़ी 30 km/h गति से चलती है। यह दूसरी दिशा से आ रही 200 m लंबी रेलगाड़ी को 20 सेकंड में पार करती है। दूसरी रेलगाड़ी की गति ज्ञात करें।

Options :

1. ✓ 33 km/h

2. ✗ 32 km/h

3. ✗ 35 km/h

4. ✗ 36 km/h

Question Number : 117 Question Id : 5861806823 Question Type : MCQ Option Shuffling : Yes

Correct Marks : 1 Wrong Marks : 0.25

A man in a moving train observed that he could count 50 telephonic poles in $1\frac{1}{2}$ minutes. If the telephonic poles are 75 m apart, what was the speed of the moving train?

Options :

1. ✗ 174 km/h

2. ✓ 147 km/h

3. ✗ 137 km/h

4. ✗ 144 km/h

Question Number : 117 Question Id : 5861806823 Question Type : MCQ Option Shuffling : Yes

Correct Marks : 1 Wrong Marks : 0.25

एक चलती हुई रेलगाड़ी से एक व्यक्ति ने देखा कि वह $1\frac{1}{2}$ मिनट में 50 टेलीफोन के खंभे गिन सकता है। यदि टेलीफोन के खंभों के बीच की दूरी 75 m है, तो रेलगाड़ी की गति ज्ञात करें।

Options :

1. ✗ 174 km/h

2. ✓ 147 km/h

3. ✗ 137 km/h

4. ✗ 144 km/h

Question Number : 118 Question Id : 5861806824 Question Type : MCQ Option Shuffling : Yes

Correct Marks : 1 Wrong Marks : 0.25

A man undertakes a journey of 1000 km. He takes 11 hours if he travels 600 km by train and 400 km by car. He will take one hour more if he travels 200 km by train and 800 km by car. Find the ratio of the speed of the car to the train.

Options :

1. ✓ 4 : 5

2. ✗ 5 : 4

3. ✖ 3 : 5

4. ✖ 5 : 3

Question Number : 118 Question Id : 5861806824 Question Type : MCQ Option Shuffling : Yes

Correct Marks : 1 Wrong Marks : 0.25

एक व्यक्ति 1000 km का सफर तय करता है। यदि वह 600 km रेलगाड़ी से और 400 km कार से सफर तय करता है, तो उसे 11 घंटे लगते हैं। यदि वह 200 km रेलगाड़ी से और 800 km कार से सफर तय करता है, तो उसे 1 घंटा और ज्यादा लगेगा। रेलगाड़ी और कार की गति का अनुपात ज्ञात करें।

Options :

1. ✔ 4 : 5

2. ✖ 5 : 4

3. ✖ 3 : 5

4. ✖ 5 : 3

Question Number : 119 Question Id : 5861806825 Question Type : MCQ Option Shuffling : Yes

Correct Marks : 1 Wrong Marks : 0.25

Study the given table and answer the following questions.

Number of candidates who appeared (App.) and qualified (Qual.) in a competitive examination from different states over the years.

State	Year									
	1997		1998		1999		2000		2001	
	App.	Qual.	App.	Qual.	App.	Qual.	App.	Qual.	App.	Qual.
A	5200	720	8500	980	7400	850	6800	775	9500	1275
B	7500	840	9200	1050	8450	920	9200	980	8800	1020
C	6400	680	8800	820	7800	820	8750	895	9750	1350
D	8100	950	9500	1240	8700	980	9700	1200	8960	995
E	7800	870	7600	940	9800	1350	7600	945	7990	985

What is the percentage of candidates who have qualified from state C for all the years combined, out of the candidates who have appeared from state C for all the years combined?

Options :

1. ✓ 11%
2. ✗ 10.8%
3. ✗ 12.8%
4. ✗ 11.5%

नीचे दी गई तालिका का अध्ययन करें और निम्न प्रश्नों का उत्तर दें।

दिए गए सालों में अलग - अलग राज्यों के परीक्षार्थी परीक्षा में बैठे थे; परीक्षार्थियों की संख्या (App.) और उत्तीर्ण की संख्या (Qual.) दी गई है:

राज्य	साल									
	1997		1998		1999		2000		2001	
	बैठे	उत्तीर्ण	बैठे	उत्तीर्ण	बैठे	उत्तीर्ण	बैठे	उत्तीर्ण	बैठे	उत्तीर्ण
A	5200	720	8500	980	7400	850	6800	775	9500	1275
B	7500	840	9200	1050	8450	920	9200	980	8800	1020
C	6400	680	8800	820	7800	820	8750	895	9750	1350
D	8100	950	9500	1240	8700	980	9700	1200	8960	995
E	7800	870	7600	940	9800	1350	7600	945	7990	985

सभी सालों के लिए राज्य C से परीक्षा में बैठने वाले परीक्षार्थियों में से, राज्य C से उत्तीर्ण होने वाले परीक्षार्थियों का प्रतिशत ज्ञात करें।

Options :

1. ✓ 11%

2. ✗ 10.8%

3. ✗ 12.8%

4. ✗ 11.5%

Question Number : 120 Question Id : 5861806826 Question Type : MCQ Option Shuffling : Yes
Correct Marks : 1 Wrong Marks : 0.25

Study the given table and answer the following questions.

Number of candidates who appeared (App.) and qualified (Qual.) in a competitive examination from different states over the years.

State	Year									
	1997		1998		1999		2000		2001	
	App.	Qual.	App.	Qual.	App.	Qual.	App.	Qual.	App.	Qual.
A	5200	720	8500	980	7400	850	6800	775	9500	1275
B	7500	840	9200	1050	8450	920	9200	980	8800	1020
C	6400	680	8800	820	7800	820	8750	895	9750	1350
D	8100	950	9500	1240	8700	980	9700	1200	8960	995
E	7800	870	7600	940	9800	1350	7600	945	7990	985

The percentage of the total number of qualified candidates out of the total number of appeared candidates for all the five states in 2001 is:

Options :

1. ✖ 12%

2. ✖ 11.5%

3. ✔ 12.5%

4. ✖ 13%

Question Number : 120 Question Id : 5861806826 Question Type : MCQ Option Shuffling : Yes

Correct Marks : 1 Wrong Marks : 0.25

नीचे दी गई तालिका का अध्ययन करें और निम्न प्रश्नों का उत्तर दें।

दिए गए सालों में अलग-अलग राज्यों के परीक्षार्थी परीक्षा में बैठे थे; परीक्षार्थियों की संख्या (बैठे) और उत्तीर्ण की संख्या (उत्तीर्ण) दी गई है:

राज्य	साल									
	1997		1998		1999		2000		2001	
	बैठे	उत्तीर्ण	बैठे	उत्तीर्ण	बैठे	उत्तीर्ण	बैठे	उत्तीर्ण	बैठे	उत्तीर्ण
A	5200	720	8500	980	7400	850	6800	775	9500	1275
B	7500	840	9200	1050	8450	920	9200	980	8800	1020
C	6400	680	8800	820	7800	820	8750	895	9750	1350
D	8100	950	9500	1240	8700	980	9700	1200	8960	995
E	7800	870	7600	940	9800	1350	7600	945	7990	985

2001 में सभी पाँच राज्यों के लिए परीक्षा में बैठने वाले परीक्षार्थियों की संख्या में से राज्य C से उत्तीर्ण होने वाले परीक्षार्थियों की संख्या का प्रतिशत ज्ञात करें।

Options :

1. ✖ 12%

2. ✖ 11.5%

3. ✔ 12.5%

4. ✖ 13%

General English1

Group Number :7

Group Id :586180328

Group Maximum Duration :0

Group Minimum Duration :0

Show Attended Group? :	No
Edit Attended Group? :	No
Break time:	0
Group Marks:	20
Is this Group for Examiner?:	No
Revisit allowed for group Instructions? :	Yes
Maximum Instruction Time:	0
Minimum Instruction Time:	0

General English1

Section Id :	586180332
Section Number :	1
Section type :	Online
Mandatory or Optional:	Mandatory
Number of Questions:	20
Number of Questions to be attempted:	20
Section Marks:	20

Sub-Section Number:	1
Sub-Section Id:	586180459
Question Shuffling Allowed :	Yes

Question Number : 121 Question Id : 5861806827 Question Type : MCQ Option Shuffling : Yes
Correct Marks : 1 Wrong Marks : 0.25

Choose the option which is the meaning of the underlined idiom.

He is living in a fool’s paradise if he thinks his father will support him.

Options :

- 1. ✖ being a fool to think of a paradise
- 2. ✔ being happy by ignoring a problem
- 3. ✖ being very supportive of someone
- 4. ✖ not being fooled by anyone

Question Number : 121 Question Id : 5861806827 Question Type : MCQ Option Shuffling : Yes
Correct Marks : 1 Wrong Marks : 0.25

Choose the option which is the meaning of the underlined idiom.

He is living in a fool's paradise if he thinks his father will support him.

Options :

1. ✖ being a fool to think of a paradise
2. ✔ being happy by ignoring a problem
3. ✖ being very supportive of someone
4. ✖ not being fooled by anyone

Question Number : 122 Question Id : 5861806828 Question Type : MCQ Option Shuffling : Yes

Correct Marks : 1 Wrong Marks : 0.25

Choose the option which is the meaning of the underlined idiom.

The results are going to be announced tomorrow, I am getting butterflies in my stomach.

Options :

1. ✖ to feel suspicious
2. ✖ to feel confident
3. ✖ to feel disappointed
4. ✔ to feeling nervous

Question Number : 122 Question Id : 5861806828 Question Type : MCQ Option Shuffling : Yes

Correct Marks : 1 Wrong Marks : 0.25

Choose the option which is the meaning of the underlined idiom.

The results are going to be announced tomorrow, I am getting butterflies in my stomach.

Options :

1. ✖ to feel suspicious
2. ✖ to feel confident
3. ✖ to feel disappointed
4. ✔ to feeling nervous

Question Number : 123 Question Id : 5861806829 Question Type : MCQ Option Shuffling : Yes

Correct Marks : 1 Wrong Marks : 0.25

Select the option that will improve the underlined part of the sentence.

In case there is no improvement needed then select 'No improvement' option.

I went a long length to explain the situation to my boss.

Options :

1. ✖ huge length
2. ✖ positive length
3. ✔ great length
4. ✖ no improvement

Question Number : 123 Question Id : 5861806829 Question Type : MCQ Option Shuffling : Yes

Correct Marks : 1 Wrong Marks : 0.25

Select the option that will improve the underlined part of the sentence.

In case there is no improvement needed then select 'No improvement' option.

I went a long length to explain the situation to my boss.

Options :

1. ✖ huge length
2. ✖ positive length
3. ✔ great length
4. ✖ no improvement

Question Number : 124 Question Id : 5861806830 Question Type : MCQ Option Shuffling : Yes

Correct Marks : 1 Wrong Marks : 0.25

Select the option that will improve the underlined part of the sentence. In case there is no improvement needed then select 'No improvement' option.

I am writing to show my dissatisfaction regarding the order I placed last week.

Options :

1. ✖ acknowledge my dissatisfaction
2. ✔ express my dissatisfaction
3. ✖ vent my dissatisfaction
4. ✖ no improvement

Question Number : 124 Question Id : 5861806830 Question Type : MCQ Option Shuffling : Yes

Correct Marks : 1 Wrong Marks : 0.25

Select the option that will improve the underlined part of the sentence. In case there is no improvement needed then select 'No improvement' option.

I am writing to show my dissatisfaction regarding the order I placed last week.

Options :

1. ✖ acknowledge my dissatisfaction
2. ✔ express my dissatisfaction
3. ✖ vent my dissatisfaction
4. ✖ no improvement

Question Number : 125 Question Id : 5861806831 Question Type : MCQ Option Shuffling : Yes

Correct Marks : 1 Wrong Marks : 0.25

Choose the option that is one word substitution for the given phrase.

Apiary

Options :

1. ✔ a place where bees are kept
2. ✖ a bird house
3. ✖ animal museum
4. ✖ special cage for apes

Question Number : 125 Question Id : 5861806831 Question Type : MCQ Option Shuffling : Yes

Correct Marks : 1 Wrong Marks : 0.25

Choose the option that is one word substitution for the given phrase.

Apiary

Options :

1. ✓ a place where bees are kept
2. ✗ a bird house
3. ✗ animal museum
4. ✗ special cage for apes

Question Number : 126 Question Id : 5861806832 Question Type : MCQ Option Shuffling : Yes
Correct Marks : 1 Wrong Marks : 0.25

Choose the correct option to fill in the blanks.

I would love to have _____ ice cream on _____ day like this.
That will make _____ evening so special.

Options :

1. ✗ the, a, the
2. ✗ an, the, the
3. ✓ an, a, the
4. ✗ an, the, an

Question Number : 126 Question Id : 5861806832 Question Type : MCQ Option Shuffling : Yes
Correct Marks : 1 Wrong Marks : 0.25

Choose the correct option to fill in the blanks.

I would love to have _____ ice cream on _____ day like this. That will make _____ evening so special.

Options :

1. ✖ the, a, the
2. ✖ an, the, the
3. ✔ an, a, the
4. ✖ an, the, an

Question Number : 127 Question Id : 5861806833 Question Type : MCQ Option Shuffling : Yes
Correct Marks : 1 Wrong Marks : 0.25

Choose the correct option to fill in the blanks.

Please inform everyone that the meeting will last _____ hour and _____ half and it will be held in _____ conference room.

Options :

1. ✖ a, a, a
2. ✖ a, a, the
3. ✖ a, an, the
4. ✔ an, a, the

Question Number : 127 Question Id : 5861806833 Question Type : MCQ Option Shuffling : Yes
Correct Marks : 1 Wrong Marks : 0.25

Choose the correct option to fill in the blanks.

Please inform everyone that the meeting will last _____ hour and _____ half and it will be held in _____ conference room.

Options :

1. ✖ a, a, a
2. ✖ a, a, the
3. ✖ a, an, the

4. ✓ an, a, the

Question Number : 128 Question Id : 5861806834 Question Type : MCQ Option Shuffling : Yes
Correct Marks : 1 Wrong Marks : 0.25

Choose the correct option to fill in the blanks.

Pour the juice _____ the jug and keep it _____ the fridge _____
sometime _____ you drink it.

Options :

1. ✗ in, in, at, after
2. ✓ into, in, for, before
3. ✗ into, into, before, after
4. ✗ in, into, before, after

Question Number : 128 Question Id : 5861806834 Question Type : MCQ Option Shuffling : Yes
Correct Marks : 1 Wrong Marks : 0.25

Choose the correct option to fill in the blanks.

Pour the juice _____ the jug and keep it _____ the fridge
_____ sometime _____ you drink it.

Options :

1. ✗ in, in, at, after
2. ✓ into, in, for, before
3. ✗ into, into, before, after
4. ✗ in, into, before, after

Question Number : 129 Question Id : 5861806835 Question Type : MCQ Option Shuffling : Yes
Correct Marks : 1 Wrong Marks : 0.25

Choose the correct option to fill in the blanks.

The small boy lay injured _____ the road _____ a fall _____ his bicycle.

Options :

1. ✖ along, with, on
2. ✖ above, in, from
3. ✔ on, after, from
4. ✖ on, at, by

Question Number : 129 Question Id : 5861806835 Question Type : MCQ Option Shuffling : Yes
Correct Marks : 1 Wrong Marks : 0.25

Choose the correct option to fill in the blanks.

The small boy lay injured _____ the road _____ a fall _____ his bicycle.

Options :

1. ✖ along, with, on
2. ✖ above, in, from
3. ✔ on, after, from
4. ✖ on, at, by

Question Number : 130 Question Id : 5861806836 Question Type : MCQ Option Shuffling : Yes
Correct Marks : 1 Wrong Marks : 0.25

Choose the correct option to fill in the blanks.

_____ tragic was her story _____ I could not control my tears.

Options :

1. ✖ Such, therefore

2. ✖ How, that
3. ✔ So, that
4. ✖ Although, hence

Question Number : 130 Question Id : 5861806836 Question Type : MCQ Option Shuffling : Yes
Correct Marks : 1 Wrong Marks : 0.25

Choose the correct option to fill in the blanks.

_____ tragic was her story _____ I could not control my tears.

Options :

1. ✖ such, therefore
2. ✖ how, that
3. ✔ so, that
4. ✖ although, hence

Question Number : 131 Question Id : 5861806837 Question Type : MCQ Option Shuffling : Yes
Correct Marks : 1 Wrong Marks : 0.25

Choose the correct option to fill in the blanks.

When I reached the hotel, _____ Rakesh _____ Mita had left.

Options :

1. ✖ neither, or
2. ✖ as, and
3. ✖ so, and
4. ✔ both, and

Question Number : 131 Question Id : 5861806837 Question Type : MCQ Option Shuffling : Yes
Correct Marks : 1 Wrong Marks : 0.25

Choose the correct option to fill in the blanks.

When I reached the hotel, _____ Rakesh _____ Mita had left.

Options :

1. ✖ neither, or
2. ✖ as, and
3. ✖ so, and
4. ✔ both, and

Question Number : 132 Question Id : 5861806838 Question Type : MCQ Option Shuffling : Yes

Correct Marks : 1 Wrong Marks : 0.25

Choose the correct option to fill in the blanks.

The boys saw something. _____ bend over the ant heap. The downpour has damaged _____. The insects are busily carrying _____ drowned companions.

Options :

1. ✖ It, them, their
2. ✔ They, it, their
3. ✖ We, it, them
4. ✖ Us, them, their

Question Number : 132 Question Id : 5861806838 Question Type : MCQ Option Shuffling : Yes

Correct Marks : 1 Wrong Marks : 0.25

Choose the correct option to fill in the blanks.

The boys saw something. _____ bend over the ant heap.
The downpour has damaged _____. The insects are busily carrying _____ drowned companions.

Options :

1. ✗ it, them, their
2. ✓ they, it, their
3. ✗ we, it, them
4. ✗ us, them, their

Question Number : 133 Question Id : 5861806839 Question Type : MCQ Option Shuffling : Yes
Correct Marks : 1 Wrong Marks : 0.25

Choose the correct option to fill in the blanks.

I said to _____ father, “_____ can handle this _____. please leave _____ alone.

Options :

1. ✓ my, I, myself, me
2. ✗ mine, you, myself, him
3. ✗ my, he, herself, her
4. ✗ his, I, himself, us

Question Number : 133 Question Id : 5861806839 Question Type : MCQ Option Shuffling : Yes
Correct Marks : 1 Wrong Marks : 0.25

Choose the correct option to fill in the blanks.

I said to _____ father, “_____ can handle this _____.
please leave _____ alone.

Options :

1. ✓ my, I, myself, me
2. ✗ mine, you, myself, him
3. ✗ my, he, herself, her
4. ✗ his, I, himself, us

Question Number : 134 Question Id : 5861806840 Question Type : MCQ Option Shuffling : Yes

Correct Marks : 1 Wrong Marks : 0.25

Choose the correct option to fill in the blanks.

Distribute _____ the food we have with us, among these people.
Let _____ leave without food.

Options :

1. ✗ much, all
2. ✓ all, no one
3. ✗ none, none
4. ✗ plenty of, some

Question Number : 134 Question Id : 5861806840 Question Type : MCQ Option Shuffling : Yes

Correct Marks : 1 Wrong Marks : 0.25

Choose the correct option to fill in the blanks.

Distribute _____ the food we have with us, among these
people. Let _____ leave without food.

Options :

1. ✖ much, all
2. ✔ all, no one
3. ✖ none, none
4. ✖ plenty of, some

Question Number : 135 Question Id : 5861806841 Question Type : MCQ Option Shuffling : Yes
Correct Marks : 1 Wrong Marks : 0.25

Choose the correct option to fill in the blanks.

_____ people enjoyed the movie but _____ were disappointed.

Options :

1. ✖ some, the other
2. ✔ a few, many
3. ✖ such, much
4. ✖ some, the few

Question Number : 135 Question Id : 5861806841 Question Type : MCQ Option Shuffling : Yes
Correct Marks : 1 Wrong Marks : 0.25

Choose the correct option to fill in the blanks.

_____ people enjoyed the movie but _____ were disappointed.

Options :

1. ✖ some, the other
2. ✔ a few, many
3. ✖ such, much
4. ✖ some, the few

Question Number : 136 Question Id : 5861806842 Question Type : MCQ Option Shuffling : Yes

Correct Marks : 1 Wrong Marks : 0.25

Choose the option which is the correct passive form of the given sentence:

The mechanic has repaired the brakes.

Options :

1. ✖ The brakes has been repaired by the mechanic.
2. ✖ The brakes have been repair by the mechanic.
3. ✔ The brakes have been repaired by the mechanic.
4. ✖ The brakes had been repaired by the mechanic.

Question Number : 136 Question Id : 5861806842 Question Type : MCQ Option Shuffling : Yes

Correct Marks : 1 Wrong Marks : 0.25

Choose the option which is the correct passive form of the given sentence:

The mechanic has repaired the brakes.

Options :

1. ✖ The brakes has been repaired by the mechanic.
2. ✖ The brakes have been repair by the mechanic.
3. ✔ The brakes have been repaired by the mechanic.
4. ✖ The brakes had been repaired by the mechanic.

Question Number : 137 Question Id : 5861806843 Question Type : MCQ Option Shuffling : Yes

Correct Marks : 1 Wrong Marks : 0.25

Choose the option which is the correct indirect form of the given sentence:

Sunita said to her brother, "Will you be able to join us for the party?"

Options :

1. ✖ Sunita requested her brother if he would be able to join them for the party.
2. ✔ Sunita asked her brother if he would be able to join them for the party.
3. ✖ Sunita asked her brother if he will be able to join us for the party.
4. ✖ Sunita asked her brother if he would join them for the party.

Question Number : 137 Question Id : 5861806843 Question Type : MCQ Option Shuffling : Yes
Correct Marks : 1 Wrong Marks : 0.25

Choose the option which is the correct indirect form of the given sentence:

Sunita said to her brother, "Will you be able to join us for the party?"

Options :

1. ✖ Sunita requested her brother if he would be able to join them for the party.
2. ✔ Sunita asked her brother if he would be able to join them for the party.
3. ✖ Sunita asked her brother if he will be able to join us for the party.
4. ✖ Sunita asked her brother if he would join them for the party.

Question Number : 138 Question Id : 5861806844 Question Type : MCQ Option Shuffling : Yes
Correct Marks : 1 Wrong Marks : 0.25

Choose the option that is the correct order of this jumbled sentence:

at last / band leader / I was a / now

Options :

1. ✖ I was now at last, a band leader!
2. ✖ Band leader now at last, I was a!
3. ✖ I was a at last, band leader now!
4. ✔ Now at last, I was a band leader!

Question Number : 138 Question Id : 5861806844 Question Type : MCQ Option Shuffling : Yes
Correct Marks : 1 Wrong Marks : 0.25

Choose the option that is the correct order of this jumbled sentence:

at last / band leader / I was a / now

Options :

1. ✖ I was now at last, a band leader!
2. ✖ Band leader now at last, I was a!
3. ✖ I was a at last, band leader now!
4. ✔ Now at last, I was a band leader!

Question Number : 139 Question Id : 5861806845 Question Type : MCQ Option Shuffling : Yes
Correct Marks : 1 Wrong Marks : 0.25

Choose the option that is the correct order of this jumbled sentence:

the bag / top rack / bring me / that is / on the

Options :

1. ✔ Bring me the bag that is on the top rack.

2. ✖ The bag that is on the top rack bring me.
3. ✖ Bring me on the top rack the bag that is.
4. ✖ Bring me that the bag is on the top rack.

Question Number : 139 Question Id : 5861806845 Question Type : MCQ Option Shuffling : Yes
Correct Marks : 1 Wrong Marks : 0.25

Choose the option that is the correct order of this jumbled sentence:

the bag / top rack / bring me / that is / on the

Options :

1. ✔ Bring me the bag that is on the top rack.
2. ✖ The bag that is on the top rack bring me.
3. ✖ Bring me on the top rack the bag that is.
4. ✖ Bring me that the bag is on the top rack.

Question Number : 140 Question Id : 5861806846 Question Type : MCQ Option Shuffling : Yes
Correct Marks : 1 Wrong Marks : 0.25

Choose the option that is the correct order of this jumbled sentence:

in the morning / won't you / call me / you will

Options :

1. ✖ Call me you will in the morning, won't you?
2. ✖ You will won't you call me in the morning?
3. ✔ You will call me in the morning, won't you?
4. ✖ Me in the morning you will call, won't you?

Question Number : 140 Question Id : 5861806846 Question Type : MCQ Option Shuffling : Yes
Correct Marks : 1 Wrong Marks : 0.25

Choose the option that is the correct order of this jumbled sentence:

in the morning / won't you / call me / you will

Options :

- 1. ✖ Call me you will in the morning, won't you?
- 2. ✖ You will won't you call me in the morning?
- 3. ✔ You will call me in the morning, won't you?
- 4. ✖ Me in the morning you will call, won't you?

General English2

Group Number :	8
Group Id :	586180329
Group Maximum Duration :	0
Group Minimum Duration :	0
Show Attended Group? :	No
Edit Attended Group? :	No
Break time:	0
Group Marks:	20
Is this Group for Examiner?:	No
Revisit allowed for group Instructions? :	Yes
Maximum Instruction Time:	0
Minimum Instruction Time:	0

General English2

Section Id :	586180333
Section Number :	1
Section type :	Online
Mandatory or Optional:	Mandatory
Number of Questions:	12
Number of Questions to be attempted:	12
Section Marks:	20

Sub-Section Number:	1
Sub-Section Id:	586180460
Question Shuffling Allowed :	Yes

Question Number : 141 Question Id : 5861806847 Question Type : MCQ Option Shuffling : Yes
Correct Marks : 1 Wrong Marks : 0.25

Choose the option that is the synonym of the given word:

dearth

Options :

- 1. ✖ plenty
- 2. ✖ abundance
- 3. ✔ lack
- 4. ✖ surplus

Question Number : 141 Question Id : 5861806847 Question Type : MCQ Option Shuffling : Yes
Correct Marks : 1 Wrong Marks : 0.25

Choose the option that is the synonym of the given word:

dearth

Options :

- 1. ✖ plenty
- 2. ✖ abundance
- 3. ✔ lack
- 4. ✖ surplus

Question Number : 142 Question Id : 5861806848 Question Type : MCQ Option Shuffling : Yes
Correct Marks : 1 Wrong Marks : 0.25

Choose the option that is the synonym of the given word:

culpable

Options :

- 1. ✔ guilty
- 2. ✖ blameless

3. ✖ innocent
4. ✖ unaffected

Question Number : 142 Question Id : 5861806848 Question Type : MCQ Option Shuffling : Yes
Correct Marks : 1 Wrong Marks : 0.25

Choose the option that is the synonym of the given word:

culpable

Options :

1. ✔ guilty
2. ✖ blameless
3. ✖ innocent
4. ✖ unaffected

Question Number : 143 Question Id : 5861806849 Question Type : MCQ Option Shuffling : Yes
Correct Marks : 1 Wrong Marks : 0.25

Choose the option that is the synonym of the given word:

fabricate

Options :

1. ✖ break up
2. ✖ divide
3. ✔ assemble
4. ✖ destroy

Question Number : 143 Question Id : 5861806849 Question Type : MCQ Option Shuffling : Yes
Correct Marks : 1 Wrong Marks : 0.25

Choose the option that is the synonym of the given word:

fabricate

Options :

1. ✖ break up
2. ✖ divide
3. ✔ assemble
4. ✖ destroy

Question Number : 144 Question Id : 5861806850 Question Type : MCQ Option Shuffling : Yes
Correct Marks : 1 Wrong Marks : 0.25

Choose the option that is the synonym of the given word:

innuendo

Options :

1. ✔ hint
2. ✖ interval
3. ✖ proof
4. ✖ evidence

Question Number : 144 Question Id : 5861806850 Question Type : MCQ Option Shuffling : Yes
Correct Marks : 1 Wrong Marks : 0.25

Choose the option that is the synonym of the given word:

innuendo

Options :

1. ✔ hint
2. ✖ interval
3. ✖ proof
4. ✖ evidence

Question Number : 145 Question Id : 5861806851 Question Type : MCQ Option Shuffling : Yes
Correct Marks : 1 Wrong Marks : 0.25

Choose the option that is the synonym of the given word:

lackadaisical

Options :

1. ✖ hard working
2. ✖ energetic
3. ✖ active
4. ✔ laid back

Question Number : 145 Question Id : 5861806851 Question Type : MCQ Option Shuffling : Yes
Correct Marks : 1 Wrong Marks : 0.25

Choose the option that is the synonym of the given word:

lackadaisical

Options :

1. ✖ hard working
2. ✖ energetic
3. ✖ active
4. ✔ laid back

Question Number : 146 Question Id : 5861806852 Question Type : MCQ Option Shuffling : Yes
Correct Marks : 1 Wrong Marks : 0.25

Choose the option that is the antonym of the given word:

jeopardize

Options :

1. ✖ endanger
2. ✔ protect
3. ✖ put at risk

4. ✖ subject to

Question Number : 146 Question Id : 5861806852 Question Type : MCQ Option Shuffling : Yes

Correct Marks : 1 Wrong Marks : 0.25

Choose the option that is the antonym of the given word:

jeopardize

Options :

1. ✖ endanger

2. ✔ protect

3. ✖ put at risk

4. ✖ subject to

Question Number : 147 Question Id : 5861806853 Question Type : MCQ Option Shuffling : Yes

Correct Marks : 1 Wrong Marks : 0.25

Choose the option that is the antonym of the given word:

succinct

Options :

1. ✖ curt

2. ✔ lengthy

3. ✖ brief

4. ✖ concise

Question Number : 147 Question Id : 5861806853 Question Type : MCQ Option Shuffling : Yes

Correct Marks : 1 Wrong Marks : 0.25

Choose the option that is the antonym of the given word:

succinct

Options :

1. ✖ curt
2. ✔ lengthy
3. ✖ brief
4. ✖ concise

Question Number : 148 Question Id : 5861806854 Question Type : MCQ Option Shuffling : Yes
Correct Marks : 1 Wrong Marks : 0.25

Choose the option that is the antonym of the given word:

exotic

Options :

1. ✖ unusual
2. ✖ romantic
3. ✖ foreign
4. ✔ ordinary

Question Number : 148 Question Id : 5861806854 Question Type : MCQ Option Shuffling : Yes
Correct Marks : 1 Wrong Marks : 0.25

Choose the option that is the antonym of the given word:

exotic

Options :

1. ✖ unusual
2. ✖ romantic
3. ✖ foreign
4. ✔ ordinary

Question Number : 149 Question Id : 5861806855 Question Type : MCQ Option Shuffling : Yes
Correct Marks : 1 Wrong Marks : 0.25

Choose the option that is the antonym of the given word:

perpetrate

Options :

1. ✓ prevent
2. ✗ perform
3. ✗ pacify
4. ✗ please

Question Number : 149 Question Id : 5861806855 Question Type : MCQ Option Shuffling : Yes
Correct Marks : 1 Wrong Marks : 0.25

Choose the option that is the antonym of the given word:

perpetrate

Options :

1. ✓ prevent
2. ✗ perform
3. ✗ pacify
4. ✗ please

Question Number : 150 Question Id : 5861806856 Question Type : MCQ Option Shuffling : Yes
Correct Marks : 1 Wrong Marks : 0.25

Choose the option that is the antonym of the given word:

miniscule

Options :

1. ✗ tiny
2. ✗ micro
3. ✓ gigantic

4. ✖ insignificant

Question Number : 150 Question Id : 5861806856 Question Type : MCQ Option Shuffling : Yes
Correct Marks : 1 Wrong Marks : 0.25

Choose the option that is the antonym of the given word:

miniscule

Options :

- 1. ✖ tiny
- 2. ✖ micro
- 3. ✔ gigantic
- 4. ✖ insignificant

Sub-Section Number: 2
Sub-Section Id: 586180461
Question Shuffling Allowed : Yes

Question Id : 5861806857 Question Type : COMPREHENSION Sub Question Shuffling Allowed : Yes Group Comprehension
Questions : No
Question Numbers : (151 to 155)

Question Label : Comprehension

Read the following passage and answer the questions that follow:

Jesse Owens could run. He could run faster and jump longer than anyone in the world. But when he set out to prove this at the Summer Olympics in Berlin in 1936, no one wanted him there. No one wanted him running that race. He wasn't even welcome in the country, let alone the stadium. But Jesse Owens was an expert at overcoming hurdles and blazing his own path forward. He was determined to compete, no matter how many barriers were in his way.

At the 1936 Summer Games, Jesse Owens became the first person ever in Olympic history to win four gold medals in track and field, claiming victory in the long jump, the 100-meter dash, the 200-meter dash, and as a member of the 4×100 meter relay. His feats remained unmatched until the 1984 Summer Olympics.

The 1936 Summer Olympics were the first to be broadcast on television and took place in Berlin, Germany, during a turbulent time. Fascism was spreading across Europe, and Germany's Chancellor, Nazi leader Adolf Hitler, was at the centre of it. International tensions were high. Europe was on the brink of World War II, which officially broke out three years after the Summer Olympics. People were terrified. But the games and the excitement surrounding them continued in spite of the impending war.

Hitler planned to use the Summer Olympics to prove his theories that "Aryans," or white Europeans, were a superior race to all others. Jesse Owens' success at the Olympics undermined this completely, proving that athletes of colour were not in any way inferior to white athletes. Hitler was angered by Owens' success. He stormed out of the stadium and refused to shake Owens' hand. Instead of stories about German successes, the papers were filled with articles about Owens breaking records and Hitler's overblown response to his wins. Both Owens' medals and Hitler's reaction catapulted Jesse Owens into international fame.

Despite his achievements as a national hero, Owens was still a black man in a deeply divided and racially segregated United States. He faced discrimination and aggression when he returned home. Even as a gold-winning Olympic athlete, he wasn't allowed to ride in the front of the bus. He couldn't use the front door to enter public buildings. He couldn't raise his family where he wanted. Jesse Owens wasn't invited to shake hands with Adolf Hitler after his biggest win, but he wasn't invited to shake hands with President Franklin Delano Roosevelt, either.

He eventually set up a public relations and marketing business in Chicago, Illinois, and travelled the country to speak at conventions and other business gatherings. He encouraged individual achievement, regardless of race, class, or creed. His speeches often called back to why he fell in love with running in the first place — it was something he could do himself without having to rely on others to allow him to do it.

Sub questions

Question Number : 151 Question Id : 5861806858 Question Type : MCQ Option Shuffling : Yes
Correct Marks : 1 Wrong Marks : 0.25

‘when he set out to prove this’ what does ‘this’ refer to here?

Options :

1. ✖ that racism did not affect Owens.
2. ✔ that Owens was the best runner and jumper
3. ✖ that he could win four gold medals
4. ✖ that there were no barriers for Owens

Question Number : 152 Question Id : 5861806859 Question Type : MCQ Option Shuffling : Yes
Correct Marks : 1 Wrong Marks : 0.25

How did Owens create history at the Berlin Olympics?

Options :

1. ✔ by winning four gold medals
2. ✖ by being the first black runner in the Olympics
3. ✖ Hitler refused to shake hands with him
4. ✖ He was the only athlete who was a slave’s grandson

Question Number : 153 Question Id : 5861806860 Question Type : MCQ Option Shuffling : Yes
Correct Marks : 1 Wrong Marks : 0.25

‘ _____ during the turbulent time’ what time is being referred to here?

Options :

1. ✖ during the Olympic games
2. ✔ on the brink of World War II
3. ✖ after Owens won four golds
4. ✖ when Owens set up a marketing business

Question Number : 154 Question Id : 5861806861 Question Type : MCQ Option Shuffling : Yes
Correct Marks : 1 Wrong Marks : 0.25

What happened to Owens after the Olympic games?

Options :

1. ✖ He was accepted by the white community.
2. ✖ He went on to win many more medals.
3. ✖ He was welcomed into the political circles.
4. ✔ He was still a target of racism.

Question Number : 155 Question Id : 5861806862 Question Type : MCQ Option Shuffling : Yes
Correct Marks : 1 Wrong Marks : 0.25

Which of these qualities did Owens NOT possess?

Options :

1. ✖ determination
2. ✖ creating his own path
3. ✖ getting hurt by racism
4. ✔ giving up easily

Question Id : 5861806857 Question Type : COMPREHENSION Sub Question Shuffling Allowed : Yes Group Comprehension
Questions : No
Question Numbers : (151 to 155)

Question Label : Comprehension

Read the following passage and answer the questions that follow:

Jesse Owens could run. He could run faster and jump longer than anyone in the world. But when he set out to prove this at the Summer Olympics in Berlin in 1936, no one wanted him there. No one wanted him running that race. He wasn't even welcome in the country, let alone the stadium. But Jesse Owens was an expert at overcoming hurdles and blazing his own path forward. He was determined to compete, no matter how many barriers were in his way.

At the 1936 Summer Games, Jesse Owens became the first person ever in Olympic history to win four gold medals in track and field, claiming victory in the long jump, the 100-meter dash, the 200-meter dash, and as a member of the 4x100 meter relay. His feats remained unmatched until the 1984 Summer Olympics.

The 1936 Summer Olympics were the first to be broadcast on television and took place in Berlin, Germany, during a turbulent time. Fascism was spreading across Europe, and Germany's Chancellor, Nazi leader Adolf Hitler, was at the centre of it. International tensions were high. Europe was on the brink of World War II, which officially broke out three years after the Summer Olympics. People were terrified. But the games and the excitement surrounding them continued in spite of the impending war.

Hitler planned to use the Summer Olympics to prove his theories that "Aryans," or white Europeans, were a superior race to all others. Jesse Owens' success at the Olympics undermined this completely, proving that athletes of colour were not in any way inferior to white athletes. Hitler was angered by Owens' success. He stormed out of the stadium and refused to shake Owens' hand. Instead of stories about German successes, the papers were filled with articles about Owens breaking records and Hitler's overblown response to his wins. Both Owens' medals and Hitler's reaction catapulted Jesse Owens into international fame.

Despite his achievements as a national hero, Owens was still a black man in a deeply divided and racially segregated United States. He faced discrimination and aggression when he returned home. Even as a gold-winning Olympic athlete, he wasn't allowed to ride in the front of the bus. He couldn't use the front door to enter public buildings. He couldn't raise his family where he wanted. Jesse Owens wasn't invited to shake hands with Adolf Hitler after his biggest win, but he wasn't invited to shake hands with President Franklin Delano Roosevelt, either.

He eventually set up a public relations and marketing business in Chicago, Illinois, and travelled the country to speak at conventions and other business gatherings. He encouraged individual achievement, regardless of race, class, or creed. His speeches often called back to why he fell in love with running in the first place – it was something he could do himself without having to rely on others to allow him to do it.

Sub questions

Question Number : 151 Question Id : 5861806858 Question Type : MCQ Option Shuffling : Yes
Correct Marks : 1 Wrong Marks : 0.25

‘when he set out to prove this’ what does ‘this’ refer to here?

Options :

1. ✖ that racism did not affect Owens.
2. ✔ that Owens was the best runner and jumper
3. ✖ that he could win four gold medals
4. ✖ that there were no barriers for Owens

Question Number : 152 Question Id : 5861806859 Question Type : MCQ Option Shuffling : Yes
Correct Marks : 1 Wrong Marks : 0.25

How did Owens create history at the Berlin Olympics?

Options :

1. ✔ by winning four gold medals
2. ✖ by being the first black runner in the Olympics
3. ✖ Hitler refused to shake hands with him
4. ✖ He was the only athlete who was a slave’s grandson

Question Number : 153 Question Id : 5861806860 Question Type : MCQ Option Shuffling : Yes
Correct Marks : 1 Wrong Marks : 0.25

‘ _____ during the turbulent time’ what time is being referred to here?

Options :

1. ✖ during the Olympic games
2. ✔ on the brink of World War II
3. ✖ after Owens won four golds

4. ✖ when Owens set up a marketing business

Question Number : 154 Question Id : 5861806861 Question Type : MCQ Option Shuffling : Yes
Correct Marks : 1 Wrong Marks : 0.25

What happened to Owens after the Olympic games?

Options :

1. ✖ He was accepted by the white community.
2. ✖ He went on to win many more medals.
3. ✖ He was welcomed into the political circles.
4. ✔ He was still a target of racism.

Question Number : 155 Question Id : 5861806862 Question Type : MCQ Option Shuffling : Yes
Correct Marks : 1 Wrong Marks : 0.25

Which of these qualities did Owens NOT possess?

Options :

1. ✖ determination
2. ✖ creating his own path
3. ✖ getting hurt by racism
4. ✔ giving up easily

Sub-Section Number:	3
Sub-Section Id:	586180462
Question Shuffling Allowed :	Yes

Question Id : 5861806863 Question Type : COMPREHENSION Sub Question Shuffling Allowed : Yes Group Comprehension Questions : No
Question Numbers : (156 to 160)

Question Label : Comprehension

Read the following passage and answer the questions that follow:

The dirt under your feet is easy to overlook. But just because it's common doesn't mean it's boring. Some researchers call soil the skin of the earth. "It's the most important part of the planet, because it covers everything," says Lorna Dawson. She's a soil scientist at the James Hutton Institute in Aberdeen, Scotland.

Soil is the complex mix of minerals, carbon-rich matter, water and air that forms Earth's surface layer. It does crucial jobs such as growing our food, cleaning the air and storing water. Soil contains the decomposing remains of plants and animals. And it's alive with countless microbes, such as bacteria and fungi. Deep layers in bogs contain evidence of the activities of ancient peoples. And high in the Arctic, frozen soil holds bacteria that might one day help protect the planet. Janet Jansson studies soil that is permanently frozen. Called permafrost, it covers a large portion of Earth's Arctic surface. It also accounts for almost one-fourth of all land in the Northern Hemisphere.

But scientists worry that some permafrost might not be permanent much longer. Human activities in recent decades have been spewing excess carbon dioxide and other greenhouse gases into the atmosphere. Those gases trap heat close to the planet's surface, driving up temperatures. Not surprisingly, temperatures have been rising all across the globe, especially up north. That could spur big areas of permafrost to melt. Because permafrost performs a really important job, its loss could lead to many problems. Jansson studies dirt in cold places. Others are using dirt to solve cold cases. Soil also holds clues to major unsolved mysteries. Dirt under a shoe or on someone's clothing can help scientists catch criminals.

For nearly two decades, Lorna Dawson studied how different types of soil form. Her career took a turn in 2003, when a police officer came to her lab and asked Dawson to help solve a crime. The officer wondered whether dirt from the bottom of a suspect's boot could help pinpoint the location of buried drugs. Dawson analyzed the soil and compared it to soil samples in her lab. She matched molecules of plant matter from the soil on the boot to a particular forest. That's where the police looked — and found the drugs.

Explains Dawson, "There's soil on most outdoor crime scenes. It contains hidden clues." The work she did for the police switched her scientific focus. Today she is a forensic soil scientist. Her lab at the James Hutton Institute is one of the few in the world to focus on using soil in crime-solving. It helps investigators figure out where a crime took place, and where the perpetrator may have gone before or after committing a crime. Tiny bits of material trapped in soil can provide clues. Those bits may come from plants, clothing, algae — even air pollution.

Dawson says being ready to stand up and testify in court is one of the most rewarding parts of her job. "Soil science," she notes, "is one piece of the investigative jigsaw [puzzle] that can help to bring justice."

Sub questions

Question Number : 156 Question Id : 5861806864 Question Type : MCQ Option Shuffling : Yes
Correct Marks : 1 Wrong Marks : 0.25

Why is dirt called the skin of the earth?

Options :

1. ✖ It is a complex mix of minerals, water and air.
2. ✖ It holds clues to solving criminal cases.
3. ✔ It covers a large portion of the earth.
4. ✖ It is alive with countless microbes and bacteria.

Question Number : 157 Question Id : 5861806865 Question Type : MCQ Option Shuffling : Yes
Correct Marks : 1 Wrong Marks : 0.25

Which of these according to the passage does the soil NOT do?

Options :

1. ✖ clean up the air
2. ✖ helps growing food
3. ✖ decomposes plants
4. ✔ sustains harmful bacteria

Question Number : 158 Question Id : 5861806866 Question Type : MCQ Option Shuffling : Yes
Correct Marks : 1 Wrong Marks : 0.25

What is permafrost?

Options :

1. ✖ The Northern Hemisphere
2. ✖ greenhouse gases
3. ✔ soil that is always frozen
4. ✖ The study of soil of cold region

Question Number : 159 Question Id : 5861806867 Question Type : MCQ Option Shuffling : Yes
Correct Marks : 1 Wrong Marks : 0.25

‘_____’ others are using dirt to solve cold cases’ here ‘cold cases’ means:

Options :

1. ✖ Permafrost
2. ✖ Arctic region
3. ✖ Melting of permafrost
4. ✔ Unsolved crime mysteries

Question Number : 160 Question Id : 5861806868 Question Type : MCQ Option Shuffling : Yes
Correct Marks : 1 Wrong Marks : 0.25

What does a forensic soil scientist do?

Options :

1. ✖ examines all kinds of soil.
2. ✔ uses soil in crime solving.
3. ✖ brings justice to the victims.
4. ✖ uses to solve jigsaw puzzles.

Question Id : 5861806863 Question Type : COMPREHENSION Sub Question Shuffling Allowed : Yes Group Comprehension Questions : No

Question Numbers : (156 to 160)

Question Label : Comprehension

Read the following passage and answer the questions that follow:

The dirt under your feet is easy to overlook. But just because it's common doesn't mean it's boring. Some researchers call soil the skin of the earth. "It's the most important part of the planet, because it covers everything," says Lorna Dawson. She's a soil scientist at the James Hutton Institute in Aberdeen, Scotland.

Soil is the complex mix of minerals, carbon-rich matter, water and air that forms Earth's surface layer. It does crucial jobs such as growing our food, cleaning the air and storing water. Soil contains the decomposing remains of plants and animals. And it's alive with countless microbes, such as bacteria and fungi. Deep layers in bogs contain evidence of the activities of ancient peoples. And high in the Arctic, frozen soil holds bacteria that might one day help protect the planet.

Janet Jansson studies soil that is permanently frozen. Called permafrost, it covers a large portion of Earth's Arctic surface. It also accounts for almost one-fourth of all land in the Northern Hemisphere.

But scientists worry that some permafrost might not be permanent much longer. Human activities in recent decades have been spewing excess carbon dioxide and other greenhouse gases into the atmosphere. Those gases trap heat close to the planet's surface, driving up temperatures. Not surprisingly, temperatures have been rising all across the globe, especially up north. That could spur big areas of permafrost to melt. Because permafrost performs a really important job, its loss could lead to many problems.

Jansson studies dirt in cold places. Others are using dirt to solve cold cases. Soil also holds clues to major unsolved mysteries. Dirt under a shoe or on someone's clothing can help scientists catch criminals.

For nearly two decades, Lorna Dawson studied how different types of soil form. Her career took a turn in 2003, when a police officer came to her lab and asked Dawson to help solve a crime. The officer wondered whether dirt from the bottom of a suspect's boot could help pinpoint the location of buried drugs. Dawson analyzed the soil and compared it to soil samples in her lab. She matched molecules of plant matter from the soil on the boot to a particular forest. That's where the police looked – and found the drugs.

Explains Dawson, "There's soil on most outdoor crime scenes. It contains hidden clues." The work she did for the police switched her scientific focus. Today she is a forensic soil scientist. Her lab at the James Hutton Institute is one of the few in the world to focus on using soil in crime-solving. It helps investigators figure out where a crime took place, and where the perpetrator may have gone before or after committing a crime. Tiny bits of material trapped in soil can provide clues. Those bits may come from plants, clothing, algae – even air pollution.

Dawson says being ready to stand up and testify in court is one of the most rewarding parts of her job. "Soil science," she notes, "is one piece of the investigative jigsaw [puzzle] that can help to bring justice."

Sub questions

Question Number : 156 Question Id : 5861806864 Question Type : MCQ Option Shuffling : Yes
Correct Marks : 1 Wrong Marks : 0.25

Why is dirt called the skin of the earth?

Options :

1. ✖ It is a complex mix of minerals, water and air.
2. ✖ It holds clues to solving criminal cases.
3. ✔ It covers a large portion of the earth.
4. ✖ It is alive with countless microbes and bacteria.

Question Number : 157 Question Id : 5861806865 Question Type : MCQ Option Shuffling : Yes
Correct Marks : 1 Wrong Marks : 0.25

Which of these according to the passage does the soil NOT do?

Options :

1. ✖ clean up the air
2. ✖ helps growing food
3. ✖ decomposes plants
4. ✔ sustains harmful bacteria

Question Number : 158 Question Id : 5861806866 Question Type : MCQ Option Shuffling : Yes
Correct Marks : 1 Wrong Marks : 0.25

What is permafrost?

Options :

1. ✖ The Northern Hemisphere
2. ✖ greenhouse gases
3. ✔ soil that is always frozen
4. ✖ The study of soil of cold region

Question Number : 159 Question Id : 5861806867 Question Type : MCQ Option Shuffling : Yes
Correct Marks : 1 Wrong Marks : 0.25

‘_____’ others are using dirt to solve cold cases’ here ‘cold cases’ means:

Options :

- 1. ✖ Permafrost
- 2. ✖ Arctic region
- 3. ✖ Melting of permafrost
- 4. ✔ Unsolved crime mysteries

Question Number : 160 Question Id : 5861806868 Question Type : MCQ Option Shuffling : Yes
Correct Marks : 1 Wrong Marks : 0.25

What does a forensic soil scientist do?

Options :

- 1. ✖ examines all kinds of soil.
- 2. ✔ uses soil in crime solving.
- 3. ✖ brings justice to the victims.
- 4. ✖ uses to solve jigsaw puzzles.

General Hindi1

Group Number :	9
Group Id :	586180330
Group Maximum Duration :	0
Group Minimum Duration :	0
Show Attended Group? :	No
Edit Attended Group? :	No
Break time:	0
Group Marks:	20
Is this Group for Examiner?:	No
Revisit allowed for group Instructions? :	Yes
Maximum Instruction Time:	0
Minimum Instruction Time:	0

General Hindi1

Section Id :	586180334
Section Number :	1
Section type :	Online
Mandatory or Optional:	Mandatory
Number of Questions:	20
Number of Questions to be attempted:	20
Section Marks:	20

Sub-Section Number:	1
Sub-Section Id:	586180463
Question Shuffling Allowed :	Yes

Question Number : 161 Question Id : 5861806869 Question Type : MCQ Option Shuffling : Yes
Correct Marks : 1 Wrong Marks : 0.25

‘लश्कर’ कैसा शब्द है?

Options :

1. ✖ तद्भव
2. ✖ तत्सम
3. ✔ विदेशी
4. ✖ देशज

Question Number : 161 Question Id : 5861806869 Question Type : MCQ Option Shuffling : Yes
Correct Marks : 1 Wrong Marks : 0.25

‘लश्कर’ कैसा शब्द है?

Options :

1. ✖ तद्भव
2. ✖ तत्सम
3. ✔ विदेशी
4. ✖ देशज

Question Number : 162 Question Id : 5861806870 Question Type : MCQ Option Shuffling : Yes
Correct Marks : 1 Wrong Marks : 0.25

निम्न में से कौन सा शब्द तद्भव है?

Options :

1. ✖ घट

2. ✓ घाव

3. ✗ घृत

4. ✗ घोटक

Question Number : 162 Question Id : 5861806870 Question Type : MCQ Option Shuffling : Yes
Correct Marks : 1 Wrong Marks : 0.25

निम्न में से कौन सा शब्द तद्भव है?

Options :

1. ✗ घट

2. ✓ घाव

3. ✗ घृत

4. ✗ घोटक

Question Number : 163 Question Id : 5861806871 Question Type : MCQ Option Shuffling : Yes
Correct Marks : 1 Wrong Marks : 0.25

निम्न में से कौन सा शब्द तत्सम है?

Options :

1. ✓ नयन

2. ✗ नाक

3. ✗ नाच

4. ✗ नया

Question Number : 163 Question Id : 5861806871 Question Type : MCQ Option Shuffling : Yes
Correct Marks : 1 Wrong Marks : 0.25

निम्न में से कौन सा शब्द तत्सम है?

Options :

1. ✓ नयन

2. ✗ नाक

3. ✗ नाच

4. ✗ नया

Question Number : 164 Question Id : 5861806872 Question Type : MCQ Option Shuffling : Yes
Correct Marks : 1 Wrong Marks : 0.25

निम्न में से शुद्ध वर्तनी वाला शब्द है:

Options :

1. ✖ प्रशीक्षित
2. ✖ प्रशीक्षीत
3. ✖ प्रशिक्षीत
4. ✓ प्रशिक्षित

Question Number : 164 Question Id : 5861806872 Question Type : MCQ Option Shuffling : Yes
Correct Marks : 1 Wrong Marks : 0.25

निम्न में से शुद्ध वर्तनी वाला शब्द है:

Options :

1. ✖ प्रशीक्षित
2. ✖ प्रशीक्षीत
3. ✖ प्रशिक्षीत
4. ✓ प्रशिक्षित

Question Number : 165 Question Id : 5861806873 Question Type : MCQ Option Shuffling : Yes
Correct Marks : 1 Wrong Marks : 0.25

‘अभिराम – अविराम’ शब्द युग्म का सही अर्थ है:

Options :

1. ✓ सुन्दर – निरन्तर
2. ✖ निरन्तर – सुन्दर
3. ✖ अभिवादन – विराम चिह्न
4. ✖ सुन्दर – अवरोध

Question Number : 165 Question Id : 5861806873 Question Type : MCQ Option Shuffling : Yes
Correct Marks : 1 Wrong Marks : 0.25

‘अभिराम – अविराम’ शब्द युग्म का सही अर्थ है:

Options :

1. ✓ सुन्दर – निरन्तर

2. ✖ निरन्तर - सुन्दर
3. ✖ अभिवादन - विराम चिह्न
4. ✖ सुन्दर - अवरोध

Question Number : 166 Question Id : 5861806874 Question Type : MCQ Option Shuffling : Yes
Correct Marks : 1 Wrong Marks : 0.25

‘कठोरता’ किस प्रकार की संज्ञा है?

Options :

1. ✖ व्यक्तिवाचक
2. ✖ जातिवाचक
3. ✔ भाववाचक
4. ✖ पदार्थवाचक

Question Number : 166 Question Id : 5861806874 Question Type : MCQ Option Shuffling : Yes
Correct Marks : 1 Wrong Marks : 0.25

‘कठोरता’ किस प्रकार की संज्ञा है?

Options :

1. ✖ व्यक्तिवाचक
2. ✖ जातिवाचक
3. ✔ भाववाचक
4. ✖ पदार्थवाचक

Question Number : 167 Question Id : 5861806875 Question Type : MCQ Option Shuffling : Yes
Correct Marks : 1 Wrong Marks : 0.25

‘वह’ सर्वनाम का गुणवाचक विशेषण है?

Options :

1. ✖ ऐसा
2. ✔ वैसा
3. ✖ इतना
4. ✖ उतना

Question Number : 167 Question Id : 5861806875 Question Type : MCQ Option Shuffling : Yes

Correct Marks : 1 Wrong Marks : 0.25

‘वह’ सर्वनाम का गुणवाचक विशेषण है?

Options :

1. ✖ ऐसा
2. ✔ वैसा
3. ✖ इतना
4. ✖ उतना

Question Number : 168 Question Id : 5861806876 Question Type : MCQ Option Shuffling : Yes

Correct Marks : 1 Wrong Marks : 0.25

‘भीतरी’ किस प्रकार का विशेषण है?

Options :

1. ✖ संख्यावाचक
2. ✖ परिमाण बोधक
3. ✖ सार्वनामिक
4. ✔ गुणवाचक

Question Number : 168 Question Id : 5861806876 Question Type : MCQ Option Shuffling : Yes

Correct Marks : 1 Wrong Marks : 0.25

‘भीतरी’ किस प्रकार का विशेषण है?

Options :

1. ✖ संख्यावाचक
2. ✖ परिमाण बोधक
3. ✖ सार्वनामिक
4. ✔ गुणवाचक

Question Number : 169 Question Id : 5861806877 Question Type : MCQ Option Shuffling : Yes

Correct Marks : 1 Wrong Marks : 0.25

निम्न में प्रेरणार्थक क्रिया है:

Options :

1. ✖ जागना

2. ✖ डूबना

3. ✔ बुलाना

4. ✖ लेटना

Question Number : 169 Question Id : 5861806877 Question Type : MCQ Option Shuffling : Yes
Correct Marks : 1 Wrong Marks : 0.25

Question Number : 170 Question Id : 5861806878 Question Type : MCQ Option Shuffling : Yes
Correct Marks : 1 Wrong Marks : 0.25

‘मेरे पास कपड़ा भर है।’ वाक्य में क्रिया विशेषण है:

Options :

1. ✖ मेरे पास

2. ✖ कपड़ा

3. ✖ है

4. ✔ भर

Question Number : 170 Question Id : 5861806878 Question Type : MCQ Option Shuffling : Yes
Correct Marks : 1 Wrong Marks : 0.25

‘मेरे पास कपड़ा भर है।’ वाक्य में क्रिया विशेषण है:

Options :

1. ✖ मेरे पास

2. ✖ कपड़ा

3. ✖ है

4. ✔ भर

Question Number : 171 Question Id : 5861806879 Question Type : MCQ Option Shuffling : Yes
Correct Marks : 1 Wrong Marks : 0.25

‘शरच्चंद्र’ का संधि विच्छेद होगा:

Options :

1. ✖ शरत + चंद्र

2. ✔ शरत् + चंद्र

3. ✖ शरच् + चंद्र

4. ✖ शरच + चंद्र

Question Number : 171 Question Id : 5861806879 Question Type : MCQ Option Shuffling : Yes
Correct Marks : 1 Wrong Marks : 0.25

‘शरच्चंद्र’ का संधि विच्छेद होगा:

Options :

1. ✖ शरत + चंद्र
2. ✔ शरत् + चंद्र
3. ✖ शरच् + चंद्र
4. ✖ शरच + चंद्र

Question Number : 172 Question Id : 5861806880 Question Type : MCQ Option Shuffling : Yes
Correct Marks : 1 Wrong Marks : 0.25

‘चन्द्रमुखी’ में कौन सा समास है?

Options :

1. ✔ बहुव्रीहि
2. ✖ द्वंद्व
3. ✖ अव्ययीभाव
4. ✖ तत्पुरुष

Question Number : 172 Question Id : 5861806880 Question Type : MCQ Option Shuffling : Yes
Correct Marks : 1 Wrong Marks : 0.25

‘चन्द्रमुखी’ में कौन सा समास है?

Options :

1. ✔ बहुव्रीहि
2. ✖ द्वंद्व
3. ✖ अव्ययीभाव
4. ✖ तत्पुरुष

Question Number : 173 Question Id : 5861806881 Question Type : MCQ Option Shuffling : Yes
Correct Marks : 1 Wrong Marks : 0.25

‘पर्याप्त’ में किस उपसर्ग का प्रयोग हुआ है?

Options :

1. ✖ त
2. ✖ प
3. ✖ र
4. ✔ परि

Question Number : 173 Question Id : 5861806881 Question Type : MCQ Option Shuffling : Yes
Correct Marks : 1 Wrong Marks : 0.25

‘पर्याप्त’ में किस उपसर्ग का प्रयोग हुआ है?

Options :

1. ✖ त
2. ✖ प
3. ✖ र
4. ✔ परि

Question Number : 174 Question Id : 5861806882 Question Type : MCQ Option Shuffling : Yes
Correct Marks : 1 Wrong Marks : 0.25

‘महिमा’ में किस प्रत्यय का प्रयोग हुआ है?

Options :

1. ✖ म
2. ✖ मा
3. ✔ इमा
4. ✖ आ

Question Number : 174 Question Id : 5861806882 Question Type : MCQ Option Shuffling : Yes
Correct Marks : 1 Wrong Marks : 0.25

‘महिमा’ में किस प्रत्यय का प्रयोग हुआ है?

Options :

1. ✖ म
2. ✖ मा
3. ✔ इमा

4. ✖ आ

Question Number : 175 Question Id : 5861806883 Question Type : MCQ Option Shuffling : Yes
Correct Marks : 1 Wrong Marks : 0.25

निम्न में से कौन सा शब्द स्त्रीलिंग है?

Options :

1. ✔ गन्ध
2. ✖ गोदाम
3. ✖ गुनाह
4. ✖ गोत्र

Question Number : 175 Question Id : 5861806883 Question Type : MCQ Option Shuffling : Yes
Correct Marks : 1 Wrong Marks : 0.25

निम्न में से कौन सा शब्द स्त्रीलिंग है?

Options :

1. ✔ गन्ध
2. ✖ गोदाम
3. ✖ गुनाह
4. ✖ गोत्र

Question Number : 176 Question Id : 5861806884 Question Type : MCQ Option Shuffling : Yes
Correct Marks : 1 Wrong Marks : 0.25

‘भारत के राष्ट्रपति’ किस पदबन्ध का उदाहरण है?

Options :

1. ✖ विशेषण पदबन्ध
2. ✔ संज्ञा पदबन्ध
3. ✖ सर्वनाम पदबन्ध
4. ✖ क्रिया पदबन्ध

Question Number : 176 Question Id : 5861806884 Question Type : MCQ Option Shuffling : Yes
Correct Marks : 1 Wrong Marks : 0.25

‘भारत के राष्ट्रपति’ किस पदबन्ध का उदाहरण है?

Options :

1. ✖ विशेषण पदबन्ध
2. ✔ संज्ञा पदबन्ध
3. ✖ सर्वनाम पदबन्ध
4. ✖ क्रिया पदबन्ध

Question Number : 177 Question Id : 5861806885 Question Type : MCQ Option Shuffling : Yes

Correct Marks : 1 Wrong Marks : 0.25

‘जब बादल गरजता है, तब बिजली चमकती है।’ वाक्य में ‘जब बादल गरजता है’ किस प्रकार का उपवाक्य है?

Options :

1. ✖ संज्ञा उपवाक्य
2. ✖ क्रिया उपवाक्य
3. ✔ क्रिया विशेषण उपवाक्य
4. ✖ विशेषण उपवाक्य

Question Number : 177 Question Id : 5861806885 Question Type : MCQ Option Shuffling : Yes

Correct Marks : 1 Wrong Marks : 0.25

‘जब बादल गरजता है, तब बिजली चमकती है।’ वाक्य में ‘जब बादल गरजता है’ किस प्रकार का उपवाक्य है?

Options :

1. ✖ संज्ञा उपवाक्य
2. ✖ क्रिया उपवाक्य
3. ✔ क्रिया विशेषण उपवाक्य
4. ✖ विशेषण उपवाक्य

Question Number : 178 Question Id : 5861806886 Question Type : MCQ Option Shuffling : Yes

Correct Marks : 1 Wrong Marks : 0.25

‘उसने उस मकान को खरीदा, जो उसके मित्र का था।’ किस प्रकार का वाक्य है?

Options :

1. ✖ सरल वाक्य
2. ✔ मिश्र वाक्य

3. ✖ संयुक्त वाक्य

4. ✖ उपवाक्य

Question Number : 178 Question Id : 5861806886 Question Type : MCQ Option Shuffling : Yes

Correct Marks : 1 Wrong Marks : 0.25

‘उसने उस मकान को खरीदा, जो उसके मित्र का था।’ किस प्रकार का वाक्य है?

Options :

1. ✖ सरल वाक्य

2. ✔ मिश्र वाक्य

3. ✖ संयुक्त वाक्य

4. ✖ उपवाक्य

Question Number : 179 Question Id : 5861806887 Question Type : MCQ Option Shuffling : Yes

Correct Marks : 1 Wrong Marks : 0.25

पदक्रम की दृष्टि से कौन सा वाक्य शुद्ध है?

Options :

1. ✖ तेज चलती है रेलगाड़ी।

2. ✖ चलती है तेज रेलगाड़ी।

3. ✖ रेलगाड़ी चलती है तेज।

4. ✔ रेलगाड़ी तेज चलती है।

Question Number : 179 Question Id : 5861806887 Question Type : MCQ Option Shuffling : Yes

Correct Marks : 1 Wrong Marks : 0.25

पदक्रम की दृष्टि से कौन सा वाक्य शुद्ध है?

Options :

1. ✖ तेज चलती है रेलगाड़ी।

2. ✖ चलती है तेज रेलगाड़ी।

3. ✖ रेलगाड़ी चलती है तेज।

4. ✔ रेलगाड़ी तेज चलती है।

Question Number : 180 Question Id : 5861806888 Question Type : MCQ Option Shuffling : Yes
Correct Marks : 1 Wrong Marks : 0.25

अन्वय की दृष्टि से कौन सा वाक्य शुद्ध है?

Options :

1. ✓ अनूप ने रोटी और पापड़ खाये।
2. ✗ अनूप ने रोटी और पापड़ खाइए।
3. ✗ अनूप ने रोटी और पापड़ खायी।
4. ✗ अनूप ने रोटी और पापड़ खाओ।

Question Number : 180 Question Id : 5861806888 Question Type : MCQ Option Shuffling : Yes
Correct Marks : 1 Wrong Marks : 0.25

अन्वय की दृष्टि से कौन सा वाक्य शुद्ध है?

Options :

1. ✓ अनूप ने रोटी और पापड़ खाये।
2. ✗ अनूप ने रोटी और पापड़ खाइए।
3. ✗ अनूप ने रोटी और पापड़ खायी।
4. ✗ अनूप ने रोटी और पापड़ खाओ।

General Hindi2

Group Number :	10
Group Id :	586180331
Group Maximum Duration :	0
Group Minimum Duration :	120
Show Attended Group? :	No
Edit Attended Group? :	No
Break time:	0
Group Marks:	20
Is this Group for Examiner?:	No
Revisit allowed for group Instructions? :	Yes
Maximum Instruction Time:	0
Minimum Instruction Time:	0

General Hindi2

Section Id :	586180335
Section Number :	1
Section type :	Online

Mandatory or Optional:	Mandatory
Number of Questions:	12
Number of Questions to be attempted:	12
Section Marks:	20

Sub-Section Number:	1
Sub-Section Id:	586180464
Question Shuffling Allowed :	Yes

Question Number : 181 Question Id : 5861806889 Question Type : MCQ Option Shuffling : Yes
Correct Marks : 1 Wrong Marks : 0.25

‘अश्व’ का पर्यायवाची है?

Options :

1. ✓ तुरंग
2. ✗ तुंग
3. ✗ तनुज
4. ✗ द्रुम

Question Number : 181 Question Id : 5861806889 Question Type : MCQ Option Shuffling : Yes
Correct Marks : 1 Wrong Marks : 0.25

‘अश्व’ का पर्यायवाची है?

Options :

1. ✓ तुरंग
2. ✗ तुंग
3. ✗ तनुज
4. ✗ द्रुम

Question Number : 182 Question Id : 5861806890 Question Type : MCQ Option Shuffling : Yes
Correct Marks : 1 Wrong Marks : 0.25

‘पृथ्वी’ का पर्यायवाची नहीं है:

Options :

1. ✗ इला
2. ✓ प्रभा
3. ✗ उर्वी
4. ✗ वसुंधरा

Question Number : 182 Question Id : 5861806890 Question Type : MCQ Option Shuffling : Yes
Correct Marks : 1 Wrong Marks : 0.25

‘पृथ्वी’ का पर्यायवाची नहीं है:

Options :

1. ✖ इला
2. ✔ प्रभा
3. ✖ उर्वी
4. ✖ वसुंधरा

Question Number : 183 Question Id : 5861806891 Question Type : MCQ Option Shuffling : Yes
Correct Marks : 1 Wrong Marks : 0.25

‘कूलंकषा’ किसका पर्यायवाची है?

Options :

1. ✖ बिजली
2. ✖ धरती
3. ✔ नदी
4. ✖ स्त्री

Question Number : 183 Question Id : 5861806891 Question Type : MCQ Option Shuffling : Yes
Correct Marks : 1 Wrong Marks : 0.25

‘कूलंकषा’ किसका पर्यायवाची है?

Options :

1. ✖ बिजली
2. ✖ धरती
3. ✔ नदी
4. ✖ स्त्री

Question Number : 184 Question Id : 5861806892 Question Type : MCQ Option Shuffling : Yes
Correct Marks : 1 Wrong Marks : 0.25

‘स्वयंभू’ किसका पर्यायवाची है?

Options :

1. ✖ इन्द्र
2. ✖ विष्णु
3. ✖ शिव
4. ✔ ब्रह्मा

Question Number : 184 Question Id : 5861806892 Question Type : MCQ Option Shuffling : Yes
Correct Marks : 1 Wrong Marks : 0.25

‘स्वयंभू’ किसका पर्यायवाची है?

Options :

1. ✖ इन्द्र
2. ✖ विष्णु
3. ✖ शिव
4. ✔ ब्रह्मा

Question Number : 185 Question Id : 5861806893 Question Type : MCQ Option Shuffling : Yes
Correct Marks : 1 Wrong Marks : 0.25

‘मित्र’ किसका पर्यायवाची नहीं है?

Options :

1. ✖ दोस्त
2. ✔ धन
3. ✖ सूर्य
4. ✖ प्रिय

Question Number : 185 Question Id : 5861806893 Question Type : MCQ Option Shuffling : Yes
Correct Marks : 1 Wrong Marks : 0.25

‘मित्र’ किसका पर्यायवाची नहीं है?

Options :

1. ✖ दोस्त
2. ✔ धन
3. ✖ सूर्य

4. ✖ प्रिय

Question Number : 186 Question Id : 5861806894 Question Type : MCQ Option Shuffling : Yes
Correct Marks : 1 Wrong Marks : 0.25

‘आदान’ का विलोम शब्द है:

Options :

1. ✖ ग्रहण

2. ✖ त्याग

3. ✖ निर्यात

4. ✔ प्रदान

Question Number : 186 Question Id : 5861806894 Question Type : MCQ Option Shuffling : Yes
Correct Marks : 1 Wrong Marks : 0.25

‘आदान’ का विलोम शब्द है:

Options :

1. ✖ ग्रहण

2. ✖ त्याग

3. ✖ निर्यात

4. ✔ प्रदान

Question Number : 187 Question Id : 5861806895 Question Type : MCQ Option Shuffling : Yes
Correct Marks : 1 Wrong Marks : 0.25

‘अतिवृष्टि’ का विलोम होगा:

Options :

1. ✖ वृष्टि

2. ✖ सृष्टि

3. ✔ अनावृष्टि

4. ✖ दृष्टि

Question Number : 187 Question Id : 5861806895 Question Type : MCQ Option Shuffling : Yes
Correct Marks : 1 Wrong Marks : 0.25

‘अतिवृष्टि’ का विलोम होगा:

Options :

1. ✖ वृष्टि
2. ✖ सृष्टि
3. ✔ अनावृष्टि
4. ✖ दृष्टि

Question Number : 188 Question Id : 5861806896 Question Type : MCQ Option Shuffling : Yes

Correct Marks : 1 Wrong Marks : 0.25

‘परिमित’ किसका विलोम है?

Options :

1. ✔ अमित
2. ✖ सीमित
3. ✖ ज्यामिति
4. ✖ सद्गति

Question Number : 188 Question Id : 5861806896 Question Type : MCQ Option Shuffling : Yes

Correct Marks : 1 Wrong Marks : 0.25

‘परिमित’ किसका विलोम है?

Options :

1. ✔ अमित
2. ✖ सीमित
3. ✖ ज्यामिति
4. ✖ सद्गति

Question Number : 189 Question Id : 5861806897 Question Type : MCQ Option Shuffling : Yes

Correct Marks : 1 Wrong Marks : 0.25

‘धावक मंद् गति से दौड़ रहा है।’ पंक्ति के रेखांकित शब्द का विलोम होगा-

Options :

1. ✖ वेग
2. ✔ द्रुत
3. ✖ मंथर

4. ✖ शीघ्र

Question Number : 189 Question Id : 5861806897 Question Type : MCQ Option Shuffling : Yes

Correct Marks : 1 Wrong Marks : 0.25

‘धावक मंद गति से दौड़ रहा है।’ पंक्ति के रेखांकित शब्द का विलोम होगा:

Options :

1. ✖ वेग

2. ✔ द्रुत

3. ✖ मंथर

4. ✖ शीघ्र

Question Number : 190 Question Id : 5861806898 Question Type : MCQ Option Shuffling : Yes

Correct Marks : 1 Wrong Marks : 0.25

‘बर्बर’ का विलोम है:

Options :

1. ✖ जंगली

2. ✖ कायर

3. ✖ निर्भर

4. ✔ सभ्य

Question Number : 190 Question Id : 5861806898 Question Type : MCQ Option Shuffling : Yes

Correct Marks : 1 Wrong Marks : 0.25

‘बर्बर’ का विलोम है:

Options :

1. ✖ जंगली

2. ✖ कायर

3. ✖ निर्भर

4. ✔ सभ्य

Sub-Section Number: 2
Sub-Section Id: 586180465
Question Shuffling Allowed : Yes

Question Id : 5861806899 Question Type : COMPREHENSION Sub Question Shuffling Allowed : Yes Group Comprehension Questions : No

Question Numbers : (191 to 195)

Question Label : Comprehension

नीचे दिये गए गद्यांश को पढ़कर पूछे गये प्रश्नों के उत्तर दीजिए।
साहित्य में मानवीय संवेदनाओं की गहन व्याख्या होती है। धर्म नैतिक मूल्यों की परीक्षा के साथ कतिपय आदर्श एवं सिद्धांतों का प्रतिपादन करता है। साहित्य में इन मूल्यों तथा आचार संहिता के अनुरूप पात्रों के चरित्र का निर्माण होता है। कथानक चाहें कहीं से भी लिया गया क्यों न हो, परंतु उसका केंद्र बिंदु वही आदर्श होता है। यह आदर्श धर्म के नाम पर मानव समुदाय पर एक प्रकार से नैतिकता के मानदंड के रूप में स्थापित है। यदि मानव समाज ने इन मूल्यों की अवहेलना की, तो उन्हें धर्मच्युत ठहराकर बिरादरी से बहिष्कृत करने की परिपाटी भी रही है। अतः साहित्य की संरचना में उपर्युक्त मूल्यों की रक्षा के साथ-साथ उन आदर्शों का प्रतिपादन भी आवश्यक माना गया। एकरूपता समस्त साहित्य में अंतर्वाहिनी के रूप में परिलक्षित होती है।

Sub questions

Question Number : 191 Question Id : 5861806900 Question Type : MCQ Option Shuffling : Yes
Correct Marks : 1 Wrong Marks : 0.25

गद्यांश का उपयुक्त शीर्षक होगा:

Options :

1. ✖ साहित्य
2. ✖ मूल्य
3. ✓ साहित्य और मूल्य
4. ✖ धर्म

Question Number : 192 Question Id : 5861806901 Question Type : MCQ Option Shuffling : Yes
Correct Marks : 1 Wrong Marks : 0.25

‘कतिपय’ का अर्थ होता है:

Options :

1. ✓ कुछ
2. ✖ अधिक
3. ✖ महत्वपूर्ण

4. ✖ सार्थक

Question Number : 193 Question Id : 5861806902 Question Type : MCQ Option Shuffling : Yes
Correct Marks : 1 Wrong Marks : 0.25

‘अवहेलना’ का अर्थ है:

Options :

1. ✖ संस्कार
2. ✖ सार्थक
3. ✔ तिरस्कार
4. ✖ सम्मान

Question Number : 194 Question Id : 5861806903 Question Type : MCQ Option Shuffling : Yes
Correct Marks : 1 Wrong Marks : 0.25

‘प्रतिपादन’ का अर्थ होता है:

Options :

1. ✖ अनुकरण
2. ✖ समर्थन
3. ✖ प्रतिरोध
4. ✔ निरूपण

Question Number : 195 Question Id : 5861806904 Question Type : MCQ Option Shuffling : Yes
Correct Marks : 1 Wrong Marks : 0.25

‘परिपाटी’ का आशय है:

Options :

1. ✔ प्रथा
2. ✖ कानून
3. ✖ धर्म
4. ✖ आदर्श

Question Id : 5861806899 Question Type : COMPREHENSION Sub Question Shuffling Allowed : Yes Group Comprehension Questions : No
Question Numbers : (191 to 195)

Question Label : Comprehension

नीचे दिये गए गद्यांश को पढ़कर पूछे गये प्रश्नों के उत्तर दीजिए।

साहित्य में मानवीय संवेदनाओं की गहन व्याख्या होती है। धर्म नैतिक मूल्यों की परीक्षा के साथ कतिपय आदर्श एवं सिद्धांतों का प्रतिपादन करता है। साहित्य में इन मूल्यों तथा आचार संहिता के अनुरूप पात्रों के चरित्र का निर्माण होता है। कथानक चाहें कहीं से भी लिया गया क्यों न हो, परंतु उसका केंद्र बिंदु वही आदर्श होता है। यह आदर्श धर्म के नाम पर मानव समुदाय पर एक प्रकार से नैतिकता के मानदंड के रूप में स्थापित है। यदि मानव समाज ने इन मूल्यों की अवहेलना की, तो उन्हें धर्मच्युत ठहराकर बिरादरी से बहिष्कृत करने की परिपाटी भी रही है। अतः साहित्य की संरचना में उपर्युक्त मूल्यों की रक्षा के साथ - साथ उन आदर्शों का प्रतिपादन भी आवश्यक माना गया। एकरूपता समस्त साहित्य में अंतर्वाहिनी के रूप में परिलक्षित होती है।

Sub questions

Question Number : 191 Question Id : 5861806900 Question Type : MCQ Option Shuffling : Yes
Correct Marks : 1 Wrong Marks : 0.25

गद्यांश का उपयुक्त शीर्षक होगा:

Options :

1. ✖ साहित्य
2. ✖ मूल्य
3. ✔ साहित्य और मूल्य
4. ✖ धर्म

Question Number : 192 Question Id : 5861806901 Question Type : MCQ Option Shuffling : Yes
Correct Marks : 1 Wrong Marks : 0.25

‘कतिपय’ का अर्थ होता है:

Options :

1. ✓ कुछ
2. ✗ अधिक
3. ✗ महत्वपूर्ण
4. ✗ सार्थक

Question Number : 193 Question Id : 5861806902 Question Type : MCQ Option Shuffling : Yes
Correct Marks : 1 Wrong Marks : 0.25

‘अवहेलना’ का अर्थ है:

Options :

1. ✗ संस्कार
2. ✗ सार्थक
3. ✓ तिरस्कार
4. ✗ सम्मान

Question Number : 194 Question Id : 5861806903 Question Type : MCQ Option Shuffling : Yes
Correct Marks : 1 Wrong Marks : 0.25

‘प्रतिपादन’ का अर्थ होता है:

Options :

1. ✗ अनुकरण
2. ✗ समर्थन
3. ✗ प्रतिरोध
4. ✓ निरूपण

Question Number : 195 Question Id : 5861806904 Question Type : MCQ Option Shuffling : Yes
Correct Marks : 1 Wrong Marks : 0.25

‘परिपाटी’ का आशय है:

Options :

1. ✓ प्रथा
2. ✗ कानून

3. ✖ धर्म

4. ✖ आदर्श

Sub-Section Number: 3
Sub-Section Id: 586180466
Question Shuffling Allowed : Yes

Question Id : 5861806905 Question Type : COMPREHENSION Sub Question Shuffling Allowed : Yes Group Comprehension Questions : No

Question Numbers : (196 to 200)

Question Label : Comprehension

नीचे दिये गए गद्यांश को पढ़कर पूछे गये प्रश्नों के उत्तर दीजिए।
वस्तुतः भाववादियों ने सौंदर्य को कला और साहित्य के रूप (फार्म) के साथ जोड़ दिया। सौंदर्य को विशुद्ध कलात्मक मूल्यों से जोड़ दिया गया है। यहाँ दुहाई शुद्ध कलात्मक मूल्यों की दी जाती है, लेकिन प्रयोजन बुर्जुआ संस्कृति की सुरक्षा का होता है। जनजीवन के संघर्ष-समर्पित साहित्य और काव्य की पहचान के लिए आवश्यक चेतना का विकास ही नहीं होने दिया जाता है। भाववादी-बुर्जुआ सौंदर्य जनवादी कला और साहित्य की मूल्यवान विरासत से जनता को वंचित करने का षड्यंत्र रचता है।
साधारणतः सौंदर्यशास्त्र के विद्वान जिस सौंदर्य का विवेचन करते हैं, वह साहित्य तथा अन्य ललित कलाओं का सौंदर्य होता है। कला अथवा साहित्य के फार्म में कल्पना, बिंब, प्रतीक, ध्वन्यात्मकता, नाद, रस, अलंकार आदि के माध्यम से उत्पन्न सौंदर्य कला अथवा साहित्य तो तभी सार्थक होगा जब वह जन से, समाज से जुड़े।

Sub questions

Question Number : 196 Question Id : 5861806906 Question Type : MCQ Option Shuffling : Yes

Correct Marks : 1 Wrong Marks : 0.25

गद्यांश का केंद्रीय विषय है:

Options :

1. ✖ भावशास्त्र

2. ✓ सौंदर्यशास्त्र

3. ✖ बुर्जुआ संस्कृति

4. ✖ जन जीवन

Question Number : 197 Question Id : 5861806907 Question Type : MCQ Option Shuffling : Yes

Correct Marks : 1 Wrong Marks : 0.25

‘प्रयोजन’ का अर्थ है:

Options :

1. ✖ षड्यंत्र
2. ✔ अभिप्राय
3. ✖ प्रयास
4. ✖ स्वार्थ

Question Number : 198 Question Id : 5861806908 Question Type : MCQ Option Shuffling : Yes

Correct Marks : 1 Wrong Marks : 0.25

‘विरासत’ का आशय है:

Options :

1. ✖ सत्ता
2. ✖ शासन
3. ✔ उत्तराधिकार
4. ✖ परम्परा

Question Number : 199 Question Id : 5861806909 Question Type : MCQ Option Shuffling : Yes

Correct Marks : 1 Wrong Marks : 0.25

‘वंचित’ का अर्थ होता है:

Options :

1. ✔ ठगा हुआ
2. ✖ समृद्ध
3. ✖ वांछित
4. ✖ प्राप्त

Question Number : 200 Question Id : 5861806910 Question Type : MCQ Option Shuffling : Yes

Correct Marks : 1 Wrong Marks : 0.25

साहित्य की सार्थकता है, जब वह:

Options :

1. ✖ बिम्बों से युक्त हो
2. ✖ प्रतीकों से युक्त हो
3. ✖ कलात्मक हो
4. ✔ समाज से जुड़े

Question Id : 5861806905 Question Type : COMPREHENSION Sub Question Shuffling Allowed : Yes Group Comprehension Questions : No

Question Numbers : (196 to 200)

Question Label : Comprehension

नीचे दिये गए गद्यांश को पढ़कर पूछे गये प्रश्नों के उत्तर दीजिए।

वस्तुतः भाववादियों ने सौंदर्य को कला और साहित्य के रूप (फार्म) के साथ जोड़ दिया। सौंदर्य को विशुद्ध कलात्मक मूल्यों से जोड़ दिया गया है। यहाँ दुहाई शुद्ध कलात्मक मूल्यों की दी जाती है, लेकिन प्रयोजन बुर्जुआ संस्कृति की सुरक्षा का होता है। जनजीवन के संघर्ष - समर्पित साहित्य और काव्य की पहचान के लिए आवश्यक चेतना का विकास ही नहीं होने दिया जाता है। भाववादी - बुर्जुआ सौंदर्य जनवादी कला और साहित्य की मूल्यवान विरासत से जनता को वंचित करने का षड्यंत्र रचता है। साधारणतः सौंदर्यशास्त्र के विद्वान जिस सौंदर्य का विवेचन करते हैं, वह साहित्य तथा अन्य ललित कलाओं का सौंदर्य होता है। कला अथवा साहित्य के फार्म में कल्पना, बिंब, प्रतीक, ध्वन्यात्मकता, नाद, रस, अलंकार आदि के माध्यम से उत्पन्न सौंदर्य कला अथवा साहित्य तो तभी सार्थक होगा जब वह जन से, समाज से जुड़े।

Sub questions

Question Number : 196 Question Id : 5861806906 Question Type : MCQ Option Shuffling : Yes

Correct Marks : 1 Wrong Marks : 0.25

गद्यांश का केंद्रीय विषय है:

Options :

1. ✖ भावशास्त्र
2. ✔ सौंदर्यशास्त्र
3. ✖ बुर्जुआ संस्कृति

4. ✖ जन जीवन

Question Number : 197 Question Id : 5861806907 Question Type : MCQ Option Shuffling : Yes
Correct Marks : 1 Wrong Marks : 0.25

‘प्रयोजन’ का अर्थ है:

Options :

1. ✖ षड्यंत्र
2. ✔ अभिप्राय
3. ✖ प्रयास
4. ✖ स्वार्थ

Question Number : 198 Question Id : 5861806908 Question Type : MCQ Option Shuffling : Yes
Correct Marks : 1 Wrong Marks : 0.25

‘विरासत’ का आशय है:

Options :

1. ✖ सत्ता
2. ✖ शासन
3. ✔ उत्तराधिकार
4. ✖ परम्परा

Question Number : 199 Question Id : 5861806909 Question Type : MCQ Option Shuffling : Yes
Correct Marks : 1 Wrong Marks : 0.25

‘वंचित’ का अर्थ होता है:

Options :

1. ✔ ठगा हुआ
2. ✖ समृद्ध
3. ✖ वांछित
4. ✖ प्राप्त

Question Number : 200 Question Id : 5861806910 Question Type : MCQ Option Shuffling : Yes

Correct Marks : 1 Wrong Marks : 0.25

साहित्य की सार्थकता है, जब वह:

Options :

1. ✖ बिम्बों से युक्त हो
2. ✖ प्रतीकों से युक्त हो
3. ✖ कलात्मक हो
4. ✔ समाज से जुड़े

