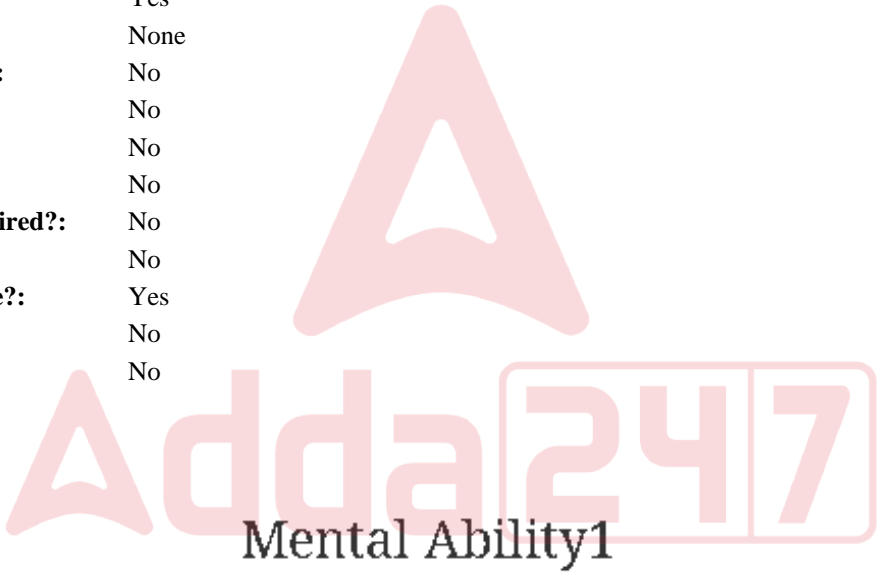


Education Consultant India Ltd.

Notations :

- 1.Options shown in green color and with ✓ icon are correct.
- 2.Options shown in red color and with ✖ icon are incorrect.

Question Paper Name:	GRADE II DASS 23rd July 2019 Shift 2
Subject Name:	GRADE II DASS
Creation Date:	2019-07-23 16:37:12
Duration:	120
Total Marks:	200
Display Marks:	Yes
Share Answer Key With Delivery Engine:	No
Actual Answer Key:	Yes
Calculator:	None
Magnifying Glass Required?:	No
Ruler Required?:	No
Eraser Required?:	No
Scratch Pad Required?:	No
Rough Sketch/Notepad Required?:	No
Protractor Required?:	No
Show Watermark on Console?:	Yes
Highlighter:	No
Auto Save on Console?:	No



Group Number :	1
Group Id :	998367287
Group Maximum Duration :	0
Group Minimum Duration :	0
Show Attended Group? :	No
Edit Attended Group? :	No
Break time:	0
Group Marks:	20
Is this Group for Examiner?:	No
Revisit allowed for group Instructions? :	Yes
Maximum Instruction Time:	0
Minimum Instruction Time:	0

Mental Ability1

Section Id :	998367293
Section Number :	1

Adda247

Test Prime

ALL EXAMS, ONE SUBSCRIPTION



1,00,000+
Mock Tests



**Personalised
Report Card**



**Unlimited
Re-Attempt**



600+
Exam Covered



25,000+ Previous
Year Papers



500%
Refund



ATTEMPT FREE MOCK NOW

Section type :	Online
Mandatory or Optional:	Mandatory
Number of Questions:	20
Number of Questions to be attempted:	20
Section Marks:	20

Sub-Section Number:	1
Sub-Section Id:	998367425
Question Shuffling Allowed :	Yes

Question Number : 1 Question Id : 9983676825 Question Type : MCQ Option Shuffling : Yes

Correct Marks : 1 Wrong Marks : 0.25

There is a certain relationship between two given words on one side of :: and one word is given on another side of :: while another word is to be found from the given alternatives, having the same relation with the word as the words of the given pair.

Choose the correct alternative.

Drone : Bee :: Bullock : ?

Options :

1. ✖ Duck

2. ✖ Witch

3. ✖ Nun

4. ✔ Heifer

Question Number : 1 Question Id : 9983676825 Question Type : MCQ Option Shuffling : Yes

Correct Marks : 1 Wrong Marks : 0.25

:: के एक ओर दिए गए दो शब्दों के बीच एक निश्चित संबंध है, और :: के दूसरी ओर एक शब्द दिया गया है, जबकि दिए गए विकल्पों में से दूसरा शब्द खोजना है जिसका उस शब्द के साथ वही संबंध हो जो दिए गए जोड़े के शब्दों के बीच है।

निम्न में से सही विकल्प चुनें।

नर मधुमक्खी : मधुमक्खी :: बैल : ?

Options :

1. ✖ बत्तख
2. ✖ डायन
3. ✖ मठवासिनी
4. ✔ बछिया

Question Number : 2 Question Id : 9983676826 Question Type : MCQ Option Shuffling : Yes

Correct Marks : 1 Wrong Marks : 0.25

There is a certain relationship between two given numbers on one side of :: and one number is given on another side of :: while another number is to be found from the given alternatives, having the same relation with the number as the number of the given pair.

Choose the correct alternative.

17 : 374 :: 29 : ?

Options :

1. ✖ 242
2. ✖ 224
3. ✖ 338
4. ✔ 986

Question Number : 2 Question Id : 9983676826 Question Type : MCQ Option Shuffling : Yes

Correct Marks : 1 Wrong Marks : 0.25

: : के एक ओर दी दो संख्याओं के बीच एक निश्चित संबंध है, और : : के दूसरी ओर एक संख्या दी गई है, आपको दिए गए विकल्पों में से वह संख्या खोजनी है जिसका उस संख्या से वही संबंध हो जो दिए गए जोड़े की संख्याओं के बीच है।

निम्न में से सही विकल्प चुनें।

17 : 374 :: 29 : ?

Options :

1. ✖ 242

2. ✖ 224

3. ✖ 338

4. ✔ 986

Question Number : 3 Question Id : 9983676827 Question Type : MCQ Option Shuffling : Yes

Correct Marks : 1 Wrong Marks : 0.25

A group of three interrelated word is given. Choose a word from the given alternatives that is similar to the given words and hence belongs to the same group.

Pitch : Gallery : Parlor

Options :

1. ✖ Cricket

2. ✖ Chapter

3. ✔ Casino

4. ✖ Umpire

Question Number : 3 Question Id : 9983676827 Question Type : MCQ Option Shuffling : Yes

Correct Marks : 1 Wrong Marks : 0.25

तीन परस्पर संबंधित शब्दों का एक समूह दिया गया है। दिए गए विकल्पों से वह शब्द चुनें जो दिए गए शब्दों के समान हो और इस प्रकार उसी समूह से संबंधित हो।

पिच : गैलरी : पार्लर

Options :

1. ✖ क्रिकेट

2. ✖ चैंप्टर

3. ✔ कैसिनो

4. ✖ अंपायर

Question Number : 4 Question Id : 9983676828 Question Type : MCQ Option Shuffling : Yes

Correct Marks : 1 Wrong Marks : 0.25

A group of three interrelated numbers is given. Choose a numbers from the given alternatives that is similar to the given numbers and hence belongs to the same group.

137 : 149 : 163

Options :

1. ✖ 180

2. ✖ 135

3. ✓ 179

4. ✗ 189

Question Number : 4 Question Id : 9983676828 Question Type : MCQ Option Shuffling : Yes

Correct Marks : 1 Wrong Marks : 0.25

तीन परस्पर संबंधित संख्याओं का एक समूह दिया गया है। दिए गए विकल्पों से वह संख्या चुनें जो दी गई संख्याओं के समान हो और इस प्रकार उसी समूह से संबंधित हो।

137 : 149 : 163

Options :

1. ✗ 180

2. ✗ 135

3. ✓ 179

4. ✗ 189

Question Number : 5 Question Id : 9983676829 Question Type : MCQ Option Shuffling : Yes

Correct Marks : 1 Wrong Marks : 0.25

Which of the following is the same as **Heart, Liver, and Kidney**?

Options :

1. ✗ Ear

2. ✗ Nose

3. ✗ Toe

4. ✓ Bladder

Question Number : 5 Question Id : 9983676829 Question Type : MCQ Option Shuffling : Yes

Correct Marks : 1 Wrong Marks : 0.25

निम्नलिखित में से क्या हृदय, यकृत और वृक्क से समानता रखता है?

Options :

1. ✗ कान

2. ✗ नाक

3. ✗ पैर का अँगूठा

4. ✓ मूत्राशय

Question Number : 6 Question Id : 9983676830 Question Type : MCQ Option Shuffling : Yes

Correct Marks : 1 Wrong Marks : 0.25

Four pairs of words are given out of which the words in three pairs bear a certain common relationship. Choose the pair in which the words are differently related.

Options :

1. ✗ Brim : Edge

2. ✗ Alight : Descend

3. ✓ Mourn : Rejoice

4. ✗ Fallacy : Illusion

Question Number : 6 Question Id : 9983676830 Question Type : MCQ Option Shuffling : Yes

Correct Marks : 1 Wrong Marks : 0.25

शब्दों के चार जोड़े दिए गए हैं जिनमें से तीन जोड़ों में शब्दों के बीच एक निश्चित समान संबंध है। वह जोड़ा चुनें जिसमें शब्द भिन्न प्रकार से परस्पर संबंधित हैं।

Options :

1. ✖ कगार : किनारा

2. ✖ उतरना : ढलान

3. ✔ शोक : आनंद

4. ✖ झूठा तर्क : भ्रम

Question Number : 7 Question Id : 9983676831 Question Type : MCQ Option Shuffling : Yes

Correct Marks : 1 Wrong Marks : 0.25

Four pairs of numbers are given out of which the numbers in three pairs bear a certain common relationship. Choose the pair in which the numbers are differently related.

Options :

1. ✖ 53 - 132.5

2. ✔ 71 - 213

3. ✖ 83 - 207.5

4. ✖ 42 - 105

Question Number : 7 Question Id : 9983676831 Question Type : MCQ Option Shuffling : Yes

Correct Marks : 1 Wrong Marks : 0.25

नीचे चार संख्याओं के जोड़े दिए गए हैं, जिनमें से तीन जोड़ों में संख्याओं के बीच एक निश्चित समान संबंध है। वह जोड़ा चुनें जिसमें संख्याएँ भिन्न प्रकार से परस्पर संबंधित हैं।

Options :

1. ✖ 53 - 132.5

2. ✔ 71 - 213

3. ✖ 83 - 207.5

4. ✖ 42 - 105

Question Number : 8 Question Id : 9983676832 Question Type : MCQ Option Shuffling : Yes

Correct Marks : 1 Wrong Marks : 0.25

My school is in the East of my house, Temple is North of my house and Market is South of my house. If all are at equal distance from my house, in which direction the Temple is with respect to the Market?

Options :

1. ✖ East

2. ✔ North

3. ✖ South

4. ✖ West

Question Number : 8 Question Id : 9983676832 Question Type : MCQ Option Shuffling : Yes

Correct Marks : 1 Wrong Marks : 0.25

मेरा विद्यालय मेरे घर की पूर्व दिशा में है, मंदिर मेरे घर की उत्तर दिशा में है और बाज़ार मेरे घर की दक्षिण दिशा में है। यदि ये सभी मेरे घर से समान दूरी पर हैं, तो मंदिर, बाज़ार के संबंध में किस दिशा में स्थित है?

Options :

1. ✖ पूर्व

2. ✓ उत्तर

3. ✗ दक्षिण

4. ✗ पश्चिम

Question Number : 9 Question Id : 9983676833 Question Type : MCQ Option Shuffling : Yes

Correct Marks : 1 Wrong Marks : 0.25

Sachin, Sahil, Sandhya, Sani, Sanju, Saurabh, Shweta and Sunil are sitting around a round table in the same order for lunch at equal distance. Their positions are Anti-clockwise. If Sandhya sits facing East, then in which direction Sahil is facing?

Options :

1. ✗ North - East

2. ✗ North - West

3. ✓ South - East

4. ✗ South - West

Question Number : 9 Question Id : 9983676833 Question Type : MCQ Option Shuffling : Yes

Correct Marks : 1 Wrong Marks : 0.25

सचिन, साहिल, संध्या, सनी, संजू, सौरभ, श्वेता और सुनील इसी क्रम में दोपहर के भोजन के लिए एक गोल मेज़ के चारों ओर समान दूरियों पर बैठे हैं। उनकी स्थितियाँ वामावर्त हैं। यदि संध्या पूर्व की ओर मुँह करके बैठी है, तो साहिल का मुँह किस दिशा की ओर है?

Options :

1. ✗ उत्तर - पूर्व

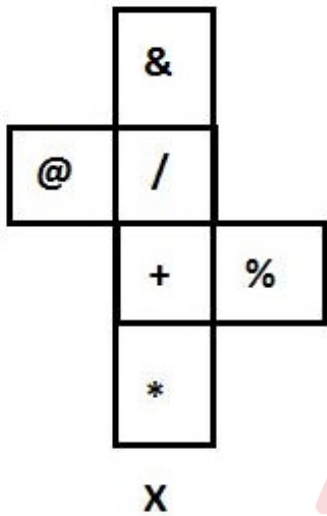
2. ✖ उत्तर - पश्चिम

3. ✔ दक्षिण - पूर्व

4. ✖ दक्षिण - पश्चिम

Question Number : 10 Question Id : 9983676834 Question Type : MCQ Option Shuffling : Yes
Correct Marks : 1 Wrong Marks : 0.25

The sheet of paper in fig X is folded to form a cube. Which will come opposite to face showing &?



Options :

1. ✖ @

2. ✖ *

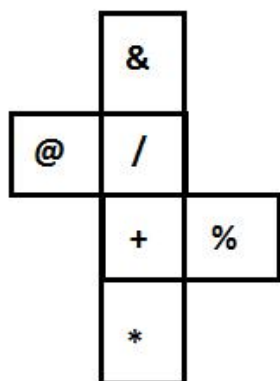
3. ✖ %

4. ✔ +

Question Number : 10 Question Id : 9983676834 Question Type : MCQ Option Shuffling : Yes

Correct Marks : 1 Wrong Marks : 0.25

चित्र X में कागज़ के एक शीट को एक घन बनाने के लिए मोड़ा गया है। & दर्शाने वाले भाग के विरुद्ध क्या होगा?



X

Options :

1. ✖ @

2. ✖ *

3. ✖ %

4. ✔ +

Question Number : 11 Question Id : 9983676835 Question Type : MCQ Option Shuffling : Yes

Correct Marks : 1 Wrong Marks : 0.25

Children A, B, C, D, E, F and G are standing in a line. F is to the left of A and right of B. D is between G and B. E is standing left of C and G is right of C. Who is standing at the right extreme?

Options :

1. ✖ C

2. ✔ A

3. ✖ E

4. ✖ D

Question Number : 11 Question Id : 9983676835 Question Type : MCQ Option Shuffling : Yes

Correct Marks : 1 Wrong Marks : 0.25

बच्चे A, B, C, D, E, F और G एक पंक्ति में खड़े हैं। F, A के बाईं ओर और B के दाईं ओर है। D, G और B के बीच में है। E, C के बाईं ओर खड़ा है और G, C के दाईं ओर खड़ा है। दाईं ओर के अंतिम छोर पर कौन खड़ा है?

Options :

1. ✖ C

2. ✔ A

3. ✖ E

4. ✖ D

Question Number : 12 Question Id : 9983676836 Question Type : MCQ Option Shuffling : Yes

Correct Marks : 1 Wrong Marks : 0.25

S, T, U, V, X, Y and Z are sitting around a round table for group discussion. T is sitting third to the right of S and between U and Z. Z is sitting third to the right of Y. V is sitting right of X. What will be the position of Z?

Options :

1. ✖ Z is sitting second to the left of T.

2. ✔ Z is sitting between T and X.

3. ✖ Z is sitting second to the left of Y.

4. ✖ Z is sitting fourth to the left of S.

Question Number : 12 Question Id : 9983676836 Question Type : MCQ Option Shuffling : Yes

Correct Marks : 1 Wrong Marks : 0.25

S, T, U, V, X, Y और Z समूह चर्चा में भाग लेने के लिए एक गोल मेज़ के चारों ओर बैठे हैं। T, S के दाईं ओर तीसरे स्थान पर तथा U और Z के बीच में बैठा है। Z, Y के दाईं ओर से तीसरे स्थान पर बैठा है। V, X के दाईं ओर बैठा है। Z की स्थिति क्या होगी?

Options :

1. ✖ Z, T के बाईं ओर से दूसरे स्थान पर बैठा है।
2. ✔ Z, T और X के बीच में बैठा है।
3. ✖ Z, Y के बाईं ओर से दूसरे स्थान पर बैठा है।
4. ✖ Z, S के बाईं ओर से चौथे स्थान पर बैठा है।

Question Number : 13 Question Id : 9983676837 Question Type : MCQ Option Shuffling : Yes

Correct Marks : 1 Wrong Marks : 0.25

- I. Doby is sister of John and John is brother of Shreya.
- II. Shreya is daughter of Jones and sister of Jani.
- III. Doby is mother of Shreya and Jani.

If the first two statements are true, the third statement is:

Options :

1. ✖ True
2. ✔ False
3. ✖ May be true

4. ✖ Uncertain

Question Number : 13 Question Id : 9983676837 Question Type : MCQ Option Shuffling : Yes

Correct Marks : 1 Wrong Marks : 0.25

- I. डॉबी, जॉन की बहन है और जॉन, श्रेया का भाई है।
- II. श्रेया, जॉन्स की बेटी और जानी की बहन है।
- III. डॉबी, श्रेया और जानी की माँ है।

यदि प्रथम दोनों कथन सही हैं, तो तीसरा कथन क्या है?

Options :

1. ✖ सत्य है
2. ✔ असत्य है
3. ✖ सत्य हो सकता है
4. ✖ निर्धारित नहीं कर सकते

Question Number : 14 Question Id : 9983676838 Question Type : MCQ Option Shuffling : Yes

Correct Marks : 1 Wrong Marks : 0.25

Anas, Bipin, Chandan, Dev, Easa and Fatima are friends. No two friends are of the same age, but all have birthdays on the same date. The youngest is 23 years old and the oldest is 28 years. Easa is somewhere between Chandan and Anas. Dev is older than Bipin. Fatima is older than Chandan. Anas is oldest and Chandan is youngest among all. If Fatima is younger than Bipin and Bipin is younger than Easa. Then

Which of the following is true?

Options :

1. ✖ Bipin is 24 years old

2. ✖ Easa is 28 years old
3. ✖ Chandan is 25 years old
4. ✔ Fatima is 24 years old

Question Number : 14 Question Id : 9983676838 Question Type : MCQ Option Shuffling : Yes
Correct Marks : 1 Wrong Marks : 0.25

अनस, बिपिन, चंदन, देव, ईसा और फ़ातिमा मित्र हैं। कोई भी दो मित्र समान आयु के नहीं हैं, किंतु सभी का जन्मदिन एक ही तिथि को आता है। इनमें सबसे छोटा व्यक्ति 23 वर्ष का और सबसे बड़ा 28 वर्ष का है। ईसा की आयु, चंदन और अनस के कहीं बीच की है। देव, बिपिन से बड़ा है। फ़ातिमा, चंदन से बड़ी हैं। अनस सबसे बड़ा है और चंदन सबसे छोटा है। यदि फ़ातिमा, बिपिन से छोटी है और बिपिन, ईसा से छोटा है, तो

निम्नलिखित में से कौन सा कथन सत्य है?

Options :

1. ✖ बिपिन की आयु 24 वर्ष है
2. ✖ ईसा की आयु 28 वर्ष है
3. ✖ चंदन की आयु 25 वर्ष है
4. ✔ फ़ातिमा की आयु 24 वर्ष है

Question Number : 15 Question Id : 9983676839 Question Type : MCQ Option Shuffling : Yes
Correct Marks : 1 Wrong Marks : 0.25

What will be the mirror image of?



Options :

1. ✖



2. ✔



3. ✖



4. ✖



Question Number : 15 Question Id : 9983676839 Question Type : MCQ Option Shuffling : Yes

Correct Marks : 1 Wrong Marks : 0.25

दर्शाये गए चित्र का दर्पण प्रतिबिंब निम्न में से कौन सा विकल्प होगा?



Options :

1. ✖ 

2. ✔ 

3. ✖ 

4. ✖ 

Question Number : 16 Question Id : 9983676840 Question Type : MCQ Option Shuffling : Yes
Correct Marks : 1 Wrong Marks : 0.25

Adda247

Following are the criteria to recruit a Teacher in a college:

- I. The Applicant must be science graduate with 75% marks.
- II. Have his/her age in between 25 to 32 years as on 10-05-2019.
- III. Have a PG degree/ 3 years diploma or must have completed B.Ed. with more than 65% marks.
- IV. Have minimum 3 years' experience in Teaching.
- V. Be ready to join 2 year probation.

If a candidate satisfies all the criteria except:

at III above, but is an Arts with Mathematics graduate with minimum 72% marks and has an experience of more than 5 years and more her/his case is to be referred to the Vice President.

at IV above, but master degree's with minimum 60% marks, her/his is to be referred to the President.

A detail of applicant is given below in the questions. On the basis of the following decision which is based on the data given above, mark the answer.

Sunil is a B.Sc. Graduate with 80% marks and has completed PG in Mathematics with 59% marks. He completed 31 years of age in 2016 and has 4 years' experience as a Mathematics Faculty. He is ready to join probation period of 2 year.

Options :

1. ✖ If case is to be referred to President.
2. ✖ If case is to be referred to Vice President.
3. ✖ If candidate is to be selected.
4. ✔ If candidate is not to be selected.

Question Number : 16 Question Id : 9983676840 Question Type : MCQ Option Shuffling : Yes
Correct Marks : 1 Wrong Marks : 0.25

एक महाविद्यालय में एक शिक्षक की भर्ती हेतु मापदंड नीचे दिये गए हैं:

- I. आवेदक का 75% अंकों से विज्ञान में स्नातक होना अनिवार्य है।
- II. 10-05-2019 को उसकी आयु 25 से 32 वर्ष के बीच होनी चाहिए।
- III. स्नातकोत्तर (PG) डिग्री / 3 वर्ष का डिप्लोमा हो अथवा 65% से अधिक अंकों से बी.एड. पूर्ण किया हो।
- IV. शिक्षण में कम से कम 3 वर्ष का अनुभव हो।
- V. 2 वर्ष की परिवीक्षा पर नियुक्त होने के लिए तैयार हो।

यदि एक आवेदक समस्त मापदंड पूर्ण करता है, सिवाए:

उपरोक्त III के अतिरिक्त, किंतु न्यूनतम 72% अंकों से गणित और कला में स्नातक है, और 5 वर्ष से अधिक का अनुभव है, तो उसका मामला उपाध्यक्ष को संदर्भित किया जाएगा।

उपरोक्त IV के अतिरिक्त, किंतु न्यूनतम 60% अंकों से स्नातकोत्तर डिग्री है, तो उसका मामला अध्यक्ष को संदर्भित किया जाएगा।

आवेदक का विवरण नीचे प्रश्नों में दिया गया है। निम्नलिखित निर्णय के आधार पर, जो ऊपर दिये गए डेटा पर आधारित है, उत्तर चिह्नित करें।

सुनील 80% अंकों से बी.एससी. में स्नातक है, और गणित में 59% अंकों से स्नातकोत्तर (PG) पूर्ण किया है। 2016 में उसने 31 वर्ष की आयु पूर्ण कर ली और गणित के प्राध्यापक के रूप में 4 वर्ष का अनुभव है। वह 2 वर्ष की परिवीक्षा पर नियुक्त होने के लिए तैयार है।

Options :

1. ✖ क्या यह मामला अध्यक्ष को संदर्भित किया जाना है।
2. ✖ क्या यह मामला उपाध्यक्ष को संदर्भित किया जाना है।
3. ✖ क्या इस आवेदक को नियुक्त किया जाना है।
4. ✔ क्या इस आवेदक को नियुक्त नहीं किया जाना है।

Following are qualifications for a technical assistant post in company Alpha.

The candidate must:

- I. Be an Engineering Post graduate with atleast 70% marks.
- II. Not less than 23 years and not more than 30 years of age on 1.7.2019.
- III. Have passed the selection test with atleast 60% marks.
- IV. Willing to join immediate for training and ready to pay a deposit of Rs. 20000, to be refunded on completion of training.

However, if a candidate fulfils the above mentined criteria except :

at (I) above, but he has appeared for the last semester examination and obtained an aggregate of 65% marks in previous semester, his/her case may be referred to the V.P. of the company.

at (II) his/her age is less than 23 years but he secured 80% marks in graduation, the case may be referred to the General Manager of the company.

The detail of the candidate is given as regards his/her candidature. You have to read the information provided and decide his/her status based on the conditions given above.

Ravi is an IT engineer passed his graduation with 80% marks. After getting the engineering degree he has done MBA in marketing. He has cleared the selection test with 70% marks.

He is ready to deposit above said amount and want to join immediately. His date of birth is 2.10.1997.

Options :

1. ✖ If the candidate is to be selected.
2. ✔ If the candidate is not selected.
3. ✖ If the case is referred to the V. P.
4. ✖ If the case is referred to the General Manager.

Question Number : 17 Question Id : 9983676841 Question Type : MCQ Option Shuffling : Yes

Correct Marks : 1 Wrong Marks : 0.25

अल्फा कंपनी में एक तकनीकी सहायक के पद हेतु पात्रताएँ नीचे दी गई हैं।

अभ्यर्थी के लिए निम्नलिखित अनिवार्य है:

- I. कम से कम 70% अंकों के साथ इंजीनियरिंग में स्नातकोत्तर हो।
- II. 1-7-2019 को आयु 23 वर्ष से कम और 30 वर्ष से अधिक न हो।
- III. न्यूनतम 60% अंकों से चयन परीक्षा में उत्तीर्ण हो।
- IV. प्रशिक्षण हेतु तत्काल नियुक्त होने का इच्छुक हो और ₹ 20,000 की धन-राशि जमा करने के लिए तैयार हो, जो प्रशिक्षण पूर्ण होने पर वापस कर दी जाएगी।

हालांकि यदि कोई अभ्यर्थी, निम्न के सिवाय उक्तांकित मापदंड पूरे करता है, तो:

उक्त (I) के सिवाय, लेकिन वह पिछले सेमेस्टर की परीक्षा में उपस्थित हुआ हो और पिछले सत्र में कुल 65% अंक प्राप्त किए हों, तो उसका मामला कंपनी के उपाध्यक्ष को संदर्भित किया जा सकता है।

उक्त (II) के सिवाय, लेकिन उसकी आयु 23 वर्ष से कम हो किंतु उसने स्नातक में 80% अंक प्राप्त किए हों, तो उसका मामला कंपनी के महाप्रबंधक को संदर्भित किया जा सकता है।

अभ्यर्थी के अभ्यर्थन के संबंध में विवरण नीचे दिए गए हैं। आपको दी गई सूचना पढ़नी है और ऊपर दी गई शर्तों के आधार पर उसकी स्थिति निर्धारित करनी है।

रवि एक आई.टी. इंजीनियर है जिसने 80% अंकों से स्नातक उत्तीर्ण किया है। इंजीनियरिंग की डिग्री लेने के बाद उसने विपणन में एम.बी.ए. किया। उसने 70% अंकों से चयन परीक्षा उत्तीर्ण की है।

वह ऊपर बताई गई धन-राशि जमा करने के लिए तैयार है और तत्काल नियुक्त होना चाहता है। उसकी जन्मतिथि 2.10.1997 है।

Options :

1. ✖ क्या अभ्यर्थी को चुना जाना है।

2. ✔ क्या अभ्यर्थी को नहीं चुना जाना है।

3. ✖ क्या मामला उपाध्यक्ष को संदर्भित किया जाना है।

4. ✖ क्या मामला महाप्रबंधक को संदर्भित किया जाना है।

Question Number : 18 Question Id : 9983676842 Question Type : MCQ Option Shuffling : Yes

Correct Marks : 1 Wrong Marks : 0.25

The statement given below is followed by two decisions labeled I, and II. You have to assume everything in the statement to be true, and then decide which of the two suggested decisions logically follows for pursuing.

Statement:

Without active cooperation between officers and office staffs of the company, it cannot remain profitable to run business from this office.

Decisions:

- I. Office environment should make friendly for staff.
- II. The office staff should be trained for cooperation.

Options :

1. ✖ Only I follows.

2. ✔ Both I and II follows.

3. ✖ Neither I nor II follows.

4. ✖ Only II follows.

Question Number : 18 Question Id : 9983676842 Question Type : MCQ Option Shuffling : Yes

Correct Marks : 1 Wrong Marks : 0.25

नीचे दिए गए कथन के बाद I और II से अंकित किए हुए दो निर्णय दिए गए हैं। आपको कथन को पूर्णतया सत्य मानना है और फिर निर्धारित करना है कि सुझाये गए दोनों निर्णयों में से कौन सा निर्णय तर्कसंगत रूप से अनुसरण करता है।

कथन:

कंपनी के अधिकारियों और कार्यालय कर्मचारियों के बीच सक्रिय सहयोग के बिना, इस कार्यालय से व्यापार करना लाभकारी नहीं हो सकता।

निर्णय:

- I. कार्यालय का वातावरण कर्मचारियों के अनुकूल होना चाहिए।
- II. कार्यालय के कर्मचारियों को आपसी सहयोग के लिए प्रशिक्षित किया जाना चाहिए।

Options :

1. ✖ केवल निर्णय I अनुसरण करता है।
2. ✔ निर्णय I और II दोनों अनुसरण करते हैं।
3. ✖ न तो निर्णय I और न ही II अनुसरण करते हैं।
4. ✖ केवल निर्णय II अनुसरण करता है।

Question Number : 19 Question Id : 9983676843 Question Type : MCQ Option Shuffling : Yes

Correct Marks : 1 Wrong Marks : 0.25

The statement given below is followed by two decisions labeled I, and II. You have to assume everything in the statement to be true, and then decide which of the two suggested decisions logically follows for pursuing.

Statement:

People living in rural areas are far from education and health awareness.

Decisions:

- I. These people should motivate to come cities for education and health issues.
- II. A mass awareness program must be initiated in these areas.

Options :

1. ✖ Only I follows.

2. ✔ Both I and II follows.

3. ✖ Either I or II follows.

4. ✖ Only II follows.

Question Number : 19 Question Id : 9983676843 Question Type : MCQ Option Shuffling : Yes

Correct Marks : 1 Wrong Marks : 0.25

नीचे दिए गए कथन के बाद I और II से अंकित किए हुए दो निर्णय दिए गए हैं। आपको कथन को पूर्णतया सत्य मानना है और फिर निर्धारित करना है कि सुझाये गए दोनों निर्णयों में से कौन सा निर्णय तर्कसंगत रूप से अनुसरण करता है।

कथन:

ग्रामीण क्षेत्रों में रहने वाले लोग शिक्षा और स्वास्थ्य जागरूकता से वंचित हैं।

निर्णय:

- I. इन लोगों को शिक्षा और स्वास्थ्य समस्याओं के लिए शहरों में आने के लिए प्रेरित करना चाहिए।
- II. इन क्षेत्रों में एक जन जागरूकता अभियान आरंभ किया जाना चाहिए।

Options :

1. ✖ केवल निर्णय I अनुसरण करता है।
2. ✔ निर्णय I और II दोनों अनुसरण करते हैं।
3. ✖ या तो निर्णय I या II अनुसरण करता है।
4. ✖ केवल निर्णय II अनुसरण करता है।

Question Number : 20 Question Id : 9983676844 Question Type : MCQ Option Shuffling : Yes

Correct Marks : 1 Wrong Marks : 0.25

The statement given below is followed by two decisions labeled I, and II. You have to assume everything in the statement to be true, and then decide which of the two suggested decisions logically follows for pursuing.

Statement:

All employees of the office have gone on strike in protest against the privatization of women helpline.

Decisions:

- I. The helpline should be shut down by government.
- II. All the employees should be immediately terminated from job.

Options :

1. ✖ Only I follows.
2. ✖ Both I and II follows.
3. ✔ Neither I nor II follow

4. ✖ Only II follows.

Question Number : 20 Question Id : 9983676844 Question Type : MCQ Option Shuffling : Yes

Correct Marks : 1 Wrong Marks : 0.25

नीचे दिए गए कथन के बाद I और II अंकित किए हुए दो निर्णय दिए गए हैं। आपको कथन को पूर्णतया सत्य मानना है और फिर निर्धारित करना है कि सुझाये गए दोनों निर्णयों में से कौन सा निर्णय तर्कसंगत रूप से अनुसरण करता है।

कथन:

महिला हेल्पलाइन के निजीकरण के विरोध में कार्यालय के सभी कर्मचारी हड़ताल पर चले गए हैं।

निर्णय:

- I. सरकार द्वारा हेल्पलाइन को बंद कर दिया जाना चाहिए।
- II. सभी कर्मचारियों को नौकरी से तुरंत निकाल दिया जाना चाहिए।

Options :

1. ✖ केवल निर्णय I अनुसरण करता है।
2. ✖ निर्णय I और II दोनों अनुसरण करते हैं।
3. ✔ न तो निर्णय I और न ही II अनुसरण करते हैं।
4. ✖ केवल निर्णय II अनुसरण करता है।

Mental Ability2

Group Number :	2
Group Id :	998367288
Group Maximum Duration :	0
Group Minimum Duration :	0
Show Attended Group? :	No
Edit Attended Group? :	No

Break time:	0
Group Marks:	20
Is this Group for Examiner?:	No
Revisit allowed for group Instructions? :	Yes
Maximum Instruction Time:	0
Minimum Instruction Time:	0

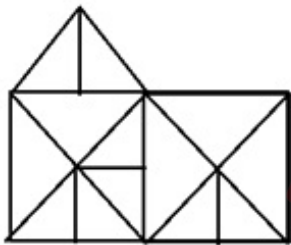
Mental Ability2

Section Id :	998367294
Section Number :	1
Section type :	Online
Mandatory or Optional:	Mandatory
Number of Questions:	20
Number of Questions to be attempted:	20
Section Marks:	20

Sub-Section Number:	1
Sub-Section Id:	998367426
Question Shuffling Allowed :	Yes

Question Number : 21 Question Id : 9983676845 Question Type : MCQ Option Shuffling : Yes
Correct Marks : 1 Wrong Marks : 0.25

How many triangles are in the figure?



Options :

1. ✓ 27

2. ✗ 22

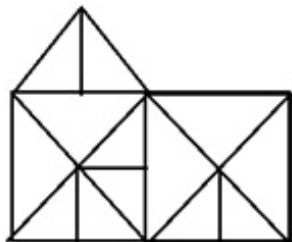
3. ✗ 25

4. ✗ 29

Question Number : 21 Question Id : 9983676845 Question Type : MCQ Option Shuffling : Yes

Correct Marks : 1 Wrong Marks : 0.25

चित्र में कितने त्रिभुज हैं?



Options :

1. ✓ 27

2. ✗ 22

3. ✗ 25

4. ✗ 29

Question Number : 22 Question Id : 9983676846 Question Type : MCQ Option Shuffling : Yes

Correct Marks : 1 Wrong Marks : 0.25

In a certain code language the word FACTOR is written as TORCAF. How will the word PIMPLE be written in that language?

Options :

1. ✓ PLEMIP

2. ✗ PLEMPI

3. ✗ PLEPIM

4. ✖ PLEIMP

Question Number : 22 Question Id : 9983676846 Question Type : MCQ Option Shuffling : Yes

Correct Marks : 1 Wrong Marks : 0.25

एक निश्चित कूट भाषा में FACTOR को TORCAF के रूप में लिखा जाता है। उसी कूट भाषा में PIMPLE को किस रूप में लिखा जाएगा?

Options :

1. ✔ PLEMIP

2. ✖ PLEMPI

3. ✖ PLEPIM

4. ✖ PLEIMP

Question Number : 23 Question Id : 9983676847 Question Type : MCQ Option Shuffling : Yes

Correct Marks : 1 Wrong Marks : 0.25

Four letter clusters are given out of which the three letter clusters bear a certain common relationship. Choose the option in which the letter clusters are differently related.

Options :

1. ✖ EIMQ

2. ✖ DHLP

3. ✔ EJNS

4. ✖ TXBF

Question Number : 23 Question Id : 9983676847 Question Type : MCQ Option Shuffling : Yes

Correct Marks : 1 Wrong Marks : 0.25

नीचे चार अक्षर समूह दिए गए हैं, जिनमें से तीन अक्षर समूहों के बीच आपस में एक निश्चित समान संबंध है। उस विकल्प को चुनें जिसमें अक्षर समूह भिन्न रूप से आपस में संबंधित हों।

Options :

1. ✖ EIMQ

2. ✖ DHL P

3. ✔ EJNS

4. ✖ TXBF

Question Number : 24 Question Id : 9983676848 Question Type : MCQ Option Shuffling : Yes

Correct Marks : 1 Wrong Marks : 0.25

Four numbers are given out of which the three numbers bear a certain common relationship. Choose the number which is different from others.

Options :

1. ✖ 253

2. ✖ 299

3. ✖ 391

4. ✔ 493

Question Number : 24 Question Id : 9983676848 Question Type : MCQ Option Shuffling : Yes

Correct Marks : 1 Wrong Marks : 0.25

चार संख्याएँ दी गई हैं, जिनमें से तीन संख्याओं के बीच एक निश्चित समान संबंध है। उस संख्या को चुनें जो दूसरों से भिन्न है।

Options :

1. ✖ 253

2. ✖ 299

3. ✖ 391

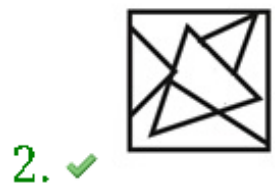
4. ✔ 493

Question Number : 25 Question Id : 9983676849 Question Type : MCQ Option Shuffling : Yes

Correct Marks : 1 Wrong Marks : 0.25

Four figures are given out of which the three figures bear a certain common relationship. Choose the figure which is different from others.

Options :





Question Number : 25 Question Id : 9983676849 Question Type : MCQ Option Shuffling : Yes
Correct Marks : 1 Wrong Marks : 0.25

चार चित्र दिए गए हैं, जिनमें से तीन चित्रों के बीच एक निश्चित समान संबंध है। उस चित्र को चुनें जो दूसरों से भिन्न है।

Options :



Question Number : 26 Question Id : 9983676850 Question Type : MCQ Option Shuffling : Yes
Correct Marks : 1 Wrong Marks : 0.25

Venn diagram that best represents the given set of classes:

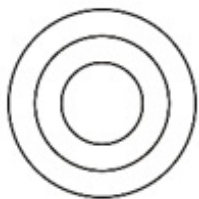
CARNIVORES, LION, HYENA

Options :


1. ✖



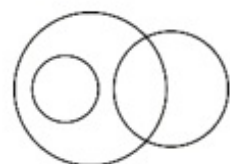
2. ✖



3. ✔



4. ✖



Question Number : 26 Question Id : 9983676850 Question Type : MCQ Option Shuffling : Yes

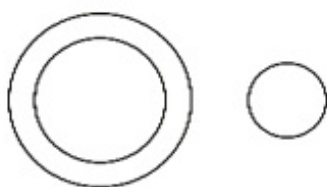
Correct Marks : 1 Wrong Marks : 0.25

निम्न में से कौन सा वेन आरेख, दिए गए वर्गों के सेट का सबसे अच्छा प्रतिनिधित्व करता है:

मांसाहारी, सिंह, लकड़बग्घा


Options :

1. ✖

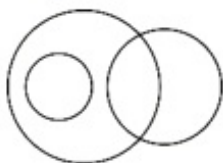




2. ✖



3. ✔



4. ✖

Question Number : 27 Question Id : 9983676851 Question Type : MCQ Option Shuffling : Yes

Correct Marks : 1 Wrong Marks : 0.25

Which of the following words in the given options can be formed from the letters of the word "ARCHITECTURE".

Options :

1. ✖ LECTURE

2. ✔ UREA

3. ✖ CHILDREN

4. ✖ YENT

Question Number : 27 Question Id : 9983676851 Question Type : MCQ Option Shuffling : Yes

Correct Marks : 1 Wrong Marks : 0.25

दिए गए विकल्पों में से कौन सा शब्द "ARCHITECTURE" शब्द के अक्षरों का प्रयोग करके बनाया जा सकता है?

Options :

1. ✖ LECTURE

2. ✔ UREA

3. ✖ CHILDREN

4. ✖ YENT

Question Number : 28 Question Id : 9983676852 Question Type : MCQ Option Shuffling : Yes

Correct Marks : 1 Wrong Marks : 0.25

If 'A - B' means A is mother of B, 'A \$ B', A is sister of B, 'A @ B' means A is father of B and 'A=B' means A is son of B.

If R - S = O = P, then how R is related to P?

Options :

1. ✖ Nephew

2. ✖ Son

3. ✔ Daughter in law

4. ✖ Niece

Question Number : 28 Question Id : 9983676852 Question Type : MCQ Option Shuffling : Yes

Correct Marks : 1 Wrong Marks : 0.25

यदि 'A - B' का अर्थ है कि A, B की माँ है, 'A \$ B' का अर्थ है कि A, B की बहन है, 'A @ B' का अर्थ है कि A, B का पिता है, और 'A = B' का अर्थ है कि A, B का पुत्र है।

यदि R - S = O = P है, तो R, P से किस प्रकार से संबंधित है?

Options :

1. ✖ भतीजा/भांजा

2. ✖ बेटा

3. ✔ बहू

4. ✖ भतीजी/भांजी

Question Number : 29 Question Id : 9983676853 Question Type : MCQ Option Shuffling : Yes

Correct Marks : 1 Wrong Marks : 0.25

Shahini and Mohani are sisters. Dev and Anu are brothers. Dinesh is husband of Manju and son of Jyoti. Dev is son of Jyoti and Jyoti is mother of Shahini. How Mohini's father is related to Anu?

Options :

1. ✖ Son

2. ✖ Brother

3. ✔ Father

4. ✖ Brother in law

Question Number : 29 Question Id : 9983676853 Question Type : MCQ Option Shuffling : Yes

Correct Marks : 1 Wrong Marks : 0.25

शाहिनी और मोहनी बहनें हैं। देव और अनु भाई हैं। दिनेश, मंजू का पति और ज्योति का बेटा है। देव, ज्योति का बेटा है और ज्योति शाहिनी की माँ है। मोहिनी के पिता, अनु से किस प्रकार से संबंधित है?

Options :

1. ✖ बेटा

2. ✖ भाई

3. ✔ पिता

4. ✖ बहनोई/साला

Question Number : 30 Question Id : 9983676854 Question Type : MCQ Option Shuffling : Yes

Correct Marks : 1 Wrong Marks : 0.25

If 'P * Q' means P is father of Q, 'P % Q', P is daughter of Q, 'P # Q' means P is mother of Q and 'P = Q' means Q is son of P.

If M * N % O # R = S, then how R is related to M?

Options :

1. ✖ Daughter

2. ✖ Son

3. ✖ Father

4. ✔ Either son or daughter

Question Number : 30 Question Id : 9983676854 Question Type : MCQ Option Shuffling : Yes

Correct Marks : 1 Wrong Marks : 0.25

यदि 'P * Q' का अर्थ है P, Q का पिता है, 'P % Q' का अर्थ है P, Q की पुत्री है, 'P # Q' का अर्थ है P, Q की माँ है, और 'P = Q' का अर्थ है Q, P का पुत्र है।

यदि M * N % O # R = S, तो R, M से किस प्रकार से संबंधित है?

Options :

1. ✖ बेटा

2. ✖ बेटा

3. ✖ पिता

4. ✔ बेटा या बेटी

Question Number : 31 Question Id : 9983676855 Question Type : MCQ Option Shuffling : Yes

Correct Marks : 1 Wrong Marks : 0.25

In certain code PASTRY is written as Q1TUSZ, How will be RINGS written in that code?

Options :

1. ✖ S9PHT

2. ✖ S9OIT

3. ✖ SJOHT

4. ✔ S9OHT

Question Number : 31 Question Id : 9983676855 Question Type : MCQ Option Shuffling : Yes

Correct Marks : 1 Wrong Marks : 0.25

एक निश्चित कूट में PASTRY को Q1TUSZ के रूप में लिखा जाता है। उसी कूट में RINGS को किस रूप में लिखा जाएगा?

Options :

1. ✖ S9PHT

2. ✖ S9OIT

3. ✖ SJOHT

4. ✔ S9OHT

Question Number : 32 Question Id : 9983676856 Question Type : MCQ Option Shuffling : Yes

Correct Marks : 1 Wrong Marks : 0.25

In certain code PINK is written as 232, How will be GREEN written in that code?

Options :

1. ✖ 200

2. ✖ 350

3. ✖ 245

4. ✔ 430

Question Number : 32 Question Id : 9983676856 Question Type : MCQ Option Shuffling : Yes

Correct Marks : 1 Wrong Marks : 0.25

एक निश्चित कूट में PINK को 232 के रूप में लिखा जाता है। उसी कूट में GREEN को किस रूप में लिखा जाएगा?

Options :

1. ✖ 200

2. ✖ 350

3. ✖ 245

4. ✓ 430

Question Number : 33 Question Id : 9983676857 Question Type : MCQ Option Shuffling : Yes

Correct Marks : 1 Wrong Marks : 0.25

Which of the following pairs of signs, when their positions are interchanged, will correctly solve the given mathematical equation?

$$15 + 5 - 80 \div 20 \times 5 = 76.$$

Options :

1. ✗ \div and \times

2. ✗ \div and $+$

3. ✓ $+$ and \times

4. ✗ $+$ and $-$

Question Number : 33 Question Id : 9983676857 Question Type : MCQ Option Shuffling : Yes

Correct Marks : 1 Wrong Marks : 0.25

निम्नलिखित में से कौन सा चिह्न युग्म, उनकी स्थितियों को परस्पर बदल दिए जाने पर, दिए गए गणितीय समीकरण को सही ढंग से हल करेंगे?

$$15 + 5 - 80 \div 20 \times 5 = 76.$$

Options :

1. ✗ \div और \times

2. ✗ \div और $+$

3. ✓ + और ×

4. ✗ + और -

Question Number : 34 Question Id : 9983676858 Question Type : MCQ Option Shuffling : Yes

Correct Marks : 1 Wrong Marks : 0.25

Select the related word from the given options.

Architect : Building :: Sculptor : ?

Options :

1. ✗ Museum

2. ✗ Stone

3. ✗ Chisel

4. ✓ Statue

Question Number : 34 Question Id : 9983676858 Question Type : MCQ Option Shuffling : Yes

Correct Marks : 1 Wrong Marks : 0.25

दिये गए विकल्पों में से संबंधित शब्द चुनें।

वास्तुकार : भवन :: मूर्तिकार : ?

Options :

1. ✗ संग्रहालय

2. ✗ पत्थर

3. ✖ छेनी

4. ✔ प्रतिमा

Question Number : 35 Question Id : 9983676859 Question Type : MCQ Option Shuffling : Yes

Correct Marks : 1 Wrong Marks : 0.25

Five boys are sitting in a row. Boy A is on the right of B, E is on the left of B, but to the right of C. If A is on the left of D, who is sitting in the middle?

Options :

1. ✖ E

2. ✖ A

3. ✔ B

4. ✖ C

Question Number : 35 Question Id : 9983676859 Question Type : MCQ Option Shuffling : Yes

Correct Marks : 1 Wrong Marks : 0.25

पाँच लड़के एक पंक्ति में बैठे हैं। लड़का A, B के दाईं ओर है, E, B के बाईं ओर है किंतु C के दाईं ओर है। यदि A, D के बाईं ओर है, तो बीच में कौन बैठा है?

Options :

1. ✖ E

2. ✖ A

3. ✔ B

4. ✖ C

Question Number : 36 Question Id : 9983676860 Question Type : MCQ Option Shuffling : Yes

Correct Marks : 1 Wrong Marks : 0.25

Four words have been given out of which three are alike in some manner, while the fourth one is different. Choose out the odd one.

Options :

1. ✖ Insect

2. ✖ Reptiles

3. ✖ Rodent

4. ✔ Owl

Question Number : 36 Question Id : 9983676860 Question Type : MCQ Option Shuffling : Yes

Correct Marks : 1 Wrong Marks : 0.25

चार शब्द दिए गए हैं जिनमें से तीन कुछ मामलों में समान हैं, जबकि चौथा शब्द अलग है। विषम शब्द चुनें।

Options :

1. ✖ कीट

2. ✖ सरीसृप

3. ✖ कृतक

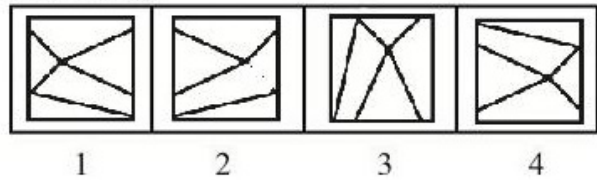
4. ✔ उल्लू

Question Number : 37 Question Id : 9983676861 Question Type : MCQ Option Shuffling : Yes

Correct Marks : 1 Wrong Marks : 0.25

In problem, out of four figures marked 1, 2, 3 and 4, three are similar in a certain manner. However one figure is not like the other three. Choose the figure which is different from the rest.

Answer Fig.



Options :

1. ✖ 1

2. ✔ 2

3. ✖ 3

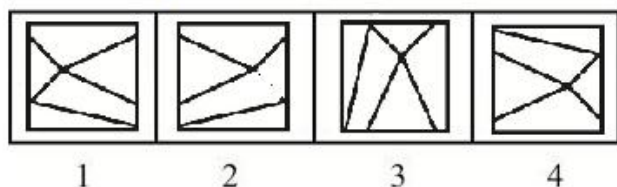
4. ✖ 4

Question Number : 37 Question Id : 9983676861 Question Type : MCQ Option Shuffling : Yes

Correct Marks : 1 Wrong Marks : 0.25

प्रश्न में, 1, 2, 3 और 4 द्वारा चिह्नित चार चित्रों में से तीन कुछ मामलों में समान हैं। हालांकि एक चित्र, अन्य तीन के समान नहीं है। वह चित्र चुनें जो शेष से भिन्न है।

उत्तर आकृति



Options :

1. ✖ 1

2. ✔ 2

3. ✖ 3

4. ✖ 4

Question Number : 38 Question Id : 9983676862 Question Type : MCQ Option Shuffling : Yes
Correct Marks : 1 Wrong Marks : 0.25

Select the option that will correctly replace the question mark (?) in the series.

3, 6, 18, 90, 630, ?

Options :

1. ✖ 5560

2. ✖ 6060

3. ✔ 6930

4. ✖ 7860



Question Number : 38 Question Id : 9983676862 Question Type : MCQ Option Shuffling : Yes
Correct Marks : 1 Wrong Marks : 0.25

वह विकल्प चुनें जो श्रृंखला में प्रश्न चिह्न (?) को सही ढंग से प्रतिस्थापित करेगा।

3, 6, 18, 90, 630, ?

Options :

1. ✖ 5560

2. ✖ 6060

3. ✓ 6930

4. ✗ 7860

Question Number : 39 Question Id : 9983676863 Question Type : MCQ Option Shuffling : Yes

Correct Marks : 1 Wrong Marks : 0.25

Select the option that will correctly replace the question mark (?) in the series.

21, 38, 57, 80, 109, ?

Options :

1. ✗ 120

2. ✗ 145

3. ✓ 146

4. ✗ 149



Question Number : 39 Question Id : 9983676863 Question Type : MCQ Option Shuffling : Yes

Correct Marks : 1 Wrong Marks : 0.25

वह विकल्प चुनें जो श्रृंखला में प्रश्न चिह्न (?) को सही ढंग से प्रतिस्थापित करेगा।

21, 38, 57, 80, 109, ?

Options :

1. ✗ 120

2. ✗ 145

3. ✓ 146

4. ✗ 149

Question Number : 40 Question Id : 9983676864 Question Type : MCQ Option Shuffling : Yes
Correct Marks : 1 Wrong Marks : 0.25

One term in the number series is wrong. Find out the wrong term.

14, 22, 30, 42, 52, 70, ?

Options :

1. ✗ 22

2. ✗ 30

3. ✓ 52

4. ✗ 70

Question Number : 40 Question Id : 9983676864 Question Type : MCQ Option Shuffling : Yes
Correct Marks : 1 Wrong Marks : 0.25

दी गई संख्या श्रृंखला में एक संख्या ग़लत है। ग़लत संख्या ज्ञात करें।

14, 22, 30, 42, 52, 70, ?

Options :

1. ✗ 22

2. ✗ 30

3. ✓ 52

4. ✖ 70

General Awareness1

Group Number :	3
Group Id :	998367289
Group Maximum Duration :	0
Group Minimum Duration :	0
Show Attended Group? :	No
Edit Attended Group? :	No
Break time:	0
Group Marks:	20
Is this Group for Examiner?:	No
Revisit allowed for group Instructions? :	Yes
Maximum Instruction Time:	0
Minimum Instruction Time:	0

General Awareness1

Section Id :	998367295
Section Number :	1
Section type :	Online
Mandatory or Optional:	Mandatory
Number of Questions:	20
Number of Questions to be attempted:	20
Section Marks:	20

Sub-Section Number:	1
Sub-Section Id:	998367427
Question Shuffling Allowed :	Yes

Question Number : 41 Question Id : 9983676865 Question Type : MCQ Option Shuffling : Yes
Correct Marks : 1 Wrong Marks : 0.25

The mark that we have on our planet as a result of our daily activities and usage or emissions of Carbon dioxide is known as:

Options :

1. ✖ Carbon Sink
2. ✔ Carbon Footprint
3. ✖ Carbon Credit
4. ✖ Carbon Trading

Question Number : 41 Question Id : 9983676865 Question Type : MCQ Option Shuffling : Yes
Correct Marks : 1 Wrong Marks : 0.25

हमारी दैनिक गतिविधियों, तथा कार्बन डाइऑक्साइड के उपयोग या उत्सर्जनों के परिणामस्वरूप हमारे द्वारा अपने ग्रह पर डाला जाने वाला चिह्न _____ कहलाता है।

Options :

1. ✖ कार्बन सिंक
2. ✔ कार्बन फुटप्रिंट
3. ✖ कार्बन क्रेडिट
4. ✖ कार्बन ट्रेडिंग

Question Number : 42 Question Id : 9983676866 Question Type : MCQ Option Shuffling : Yes
Correct Marks : 1 Wrong Marks : 0.25

Apiculture is the practice of _____.

Options :

1. ✔ Honeybee keeping
2. ✖ Emu Keeping
3. ✖ Silk worm Keeping
4. ✖ Earthworm Keeping

Question Number : 42 Question Id : 9983676866 Question Type : MCQ Option Shuffling : Yes
Correct Marks : 1 Wrong Marks : 0.25

एपीकल्चर _____ का व्यवसाय है।

Options :

1. ✔ मधुमक्खी पालन

2. ✖ इम्यु पालन
3. ✖ रेशम कीट पालन
4. ✖ कैचुआ पालन

Question Number : 43 Question Id : 9983676867 Question Type : MCQ Option Shuffling : Yes
Correct Marks : 1 Wrong Marks : 0.25

In Agenda 21 of Earth Summit 1992, what does 21 refer to?

Options :

1. ✖ 21 Ministries
2. ✖ 21 Agendas
3. ✖ 21 Countries
4. ✔ 21st Century

Question Number : 43 Question Id : 9983676867 Question Type : MCQ Option Shuffling : Yes
Correct Marks : 1 Wrong Marks : 0.25

पृथ्वी सम्मेलन 1992 की कार्यसूची (एजेंडा) 21 में 21 का क्या अर्थ है?

Options :

1. ✖ 21 मंत्रालय
2. ✖ 21 कार्यसूचियाँ
3. ✖ 21 देश
4. ✔ 21वीं शताब्दी

Question Number : 44 Question Id : 9983676868 Question Type : MCQ Option Shuffling : Yes
Correct Marks : 1 Wrong Marks : 0.25

Which one of the followings is NOT a part of Millennium Development Goals?

Options :

1. ✖ To improve maternal health
2. ✖ To reduce child mortality
3. ✖ To ensure environmental Sustainability

4. ✓ To ensure the protection of Heritage Building

Question Number : 44 Question Id : 9983676868 Question Type : MCQ Option Shuffling : Yes
Correct Marks : 1 Wrong Marks : 0.25

निम्नलिखित में से क्या सहस्राब्दि विकास लक्ष्यों का एक भाग नहीं है?

Options :

1. ✖ मातृत्व स्वास्थ्य में सुधार करना
2. ✖ बाल मृत्यु दर में कमी लाना
3. ✖ पर्यावरणीय धारणीयता सुनिश्चित करना
4. ✓ ऐतिहासिक स्मारकों का संरक्षण सुनिश्चित करना

Question Number : 45 Question Id : 9983676869 Question Type : MCQ Option Shuffling : Yes
Correct Marks : 1 Wrong Marks : 0.25

India and Bangladesh agreed to jointly produce the film based on life and works of _____.

Options :

1. ✓ Mujibur Rahman
2. ✖ Narendra Modi
3. ✖ Sheikh Hasina
4. ✖ Indira Gandhi

Question Number : 45 Question Id : 9983676869 Question Type : MCQ Option Shuffling : Yes
Correct Marks : 1 Wrong Marks : 0.25

भारत और बांग्लादेश _____ के जीवन और कार्यों पर आधारित फिल्म के संयुक्त निर्माण हेतु सहमत हुए हैं।

Options :

1. ✓ मुजीबुर रहमान
2. ✖ नरेंद्र मोदी
3. ✖ शेख हसीना
4. ✖ इंदिरा गांधी

Question Number : 46 Question Id : 9983676870 Question Type : MCQ Option Shuffling : Yes
Correct Marks : 1 Wrong Marks : 0.25

Which of the followings has successfully launched a Dragon Spacecraft on a cargo mission for NASA to international Space Station?

Options :

1. ✓ SpaceX
2. ✗ ISRO
3. ✗ CNES
4. ✗ JAXA

Question Number : 46 Question Id : 9983676870 Question Type : MCQ Option Shuffling : Yes
Correct Marks : 1 Wrong Marks : 0.25

निम्नलिखित में से किसने नासा हेतु कार्गो मिशन पर अंतरराष्ट्रीय अंतरिक्ष स्टेशन के लिए एक ड्रैगन अंतरिक्षयान सफलतापूर्वक प्रक्षेपित किया?

Options :

1. ✓ स्पेसX (SpaceX)
2. ✗ इसरो (ISRO)
3. ✗ सी.एन.ई.एस. (CNES)
4. ✗ जे.ए.एक्स.ए.(JAXA)

Question Number : 47 Question Id : 9983676871 Question Type : MCQ Option Shuffling : Yes
Correct Marks : 1 Wrong Marks : 0.25

The name of Cyclonic Storm 'FANI' was suggested by which country?

Options :

1. ✗ Pakistan
2. ✗ India
3. ✓ Bangladesh

4. ✖ Oman

Question Number : 47 Question Id : 9983676871 Question Type : MCQ Option Shuffling : Yes
Correct Marks : 1 Wrong Marks : 0.25

चक्रवातीय तूफ़ान का 'फ़ानी' नाम किस देश द्वारा सुझाया गया था?

Options :

1. ✖ पाकिस्तान
2. ✖ भारत
3. ✔ बांग्लादेश
4. ✖ ओमान

Question Number : 48 Question Id : 9983676872 Question Type : MCQ Option Shuffling : Yes
Correct Marks : 1 Wrong Marks : 0.25

The Naval exercise 'Varuna', is the joint venture between :

Options :

1. ✖ India- USA
2. ✔ India- France
3. ✖ India- Japan
4. ✖ India- South Korea

Question Number : 48 Question Id : 9983676872 Question Type : MCQ Option Shuffling : Yes
Correct Marks : 1 Wrong Marks : 0.25

नौसैन्य अभ्यास 'वरुणा' _____ के बीच संयुक्त अभ्यास है।

Options :

1. ✖ भारत - यूएसए
2. ✔ भारत - फ़्रांस
3. ✖ भारत - जापान
4. ✖ भारत - दक्षिण कोरिया

Question Number : 49 Question Id : 9983676873 Question Type : MCQ Option Shuffling : Yes
Correct Marks : 1 Wrong Marks : 0.25

The famous book Kitab-ul-Hind was written in:

Options :

1. ✖ Persian
2. ✖ Urdu
3. ✖ Turkish
4. ✔ Arabic

Question Number : 49 Question Id : 9983676873 Question Type : MCQ Option Shuffling : Yes

Correct Marks : 1 Wrong Marks : 0.25

प्रसिद्ध पुस्तक किताब-उल-हिंद _____ में लिखी गई थी।

Options :

1. ✖ फ़ारसी
2. ✖ उर्दू
3. ✖ तुर्की
4. ✔ अरबी

Question Number : 50 Question Id : 9983676874 Question Type : MCQ Option Shuffling : Yes

Correct Marks : 1 Wrong Marks : 0.25

There is a mysteriously old and surviving pillar housed in the Qutb Minar complex in New Delhi. The pillar is close to 1600 years old. What material is it made of?

Options :

1. ✖ Steel
2. ✖ Copper
3. ✖ Bronze
4. ✔ Iron

Question Number : 50 Question Id : 9983676874 Question Type : MCQ Option Shuffling : Yes

Correct Marks : 1 Wrong Marks : 0.25

नयी दिल्ली में कुतुब मीनार परिसर में एक रहस्यमयी रूप से प्राचीन और जीवंत स्तंभ विद्यमान है। यह स्तंभ लगभग 1600 वर्ष प्राचीन है। यह किस पदार्थ से बना है?

Options :

1. ✖ इस्पात
2. ✖ तांबा
3. ✖ पीतल
4. ✔ लोहा

Question Number : 51 Question Id : 9983676875 Question Type : MCQ Option Shuffling : Yes

Correct Marks : 1 Wrong Marks : 0.25

The ritualistic significance of 'Mahanavmi Dibba' was associated to which of the following kingdoms of India?

Options :

1. ✖ Chola
2. ✔ Vijayanagara
3. ✖ Pandya
4. ✖ Cheras

Question Number : 51 Question Id : 9983676875 Question Type : MCQ Option Shuffling : Yes

Correct Marks : 1 Wrong Marks : 0.25

'महानवमी डिब्बा' का प्रथागत महत्त्व निम्न में से किस भारतीय साम्राज्य से संबंधित था?

Options :

1. ✖ चोल
2. ✔ विजयनगर
3. ✖ पंड्या
4. ✖ चेर

Question Number : 52 Question Id : 9983676876 Question Type : MCQ Option Shuffling : Yes
Correct Marks : 1 Wrong Marks : 0.25

The 'Prayag Prashasti' was composed in praise of:

Options :

1. ✖ Chandragupta Maurya
2. ✖ Pushyamitra Sunga
3. ✔ Samudragupta
4. ✖ Bindusara

Question Number : 52 Question Id : 9983676876 Question Type : MCQ Option Shuffling : Yes
Correct Marks : 1 Wrong Marks : 0.25

'प्रयाग प्रशस्ति' _____ की प्रशंसा में लिखी गई।

Options :

1. ✖ चंद्रगुप्त मौर्य
2. ✖ पुष्यमित्र शुंग
3. ✔ समुद्रगुप्त
4. ✖ बिन्दुसार

Question Number : 53 Question Id : 9983676877 Question Type : MCQ Option Shuffling : Yes
Correct Marks : 1 Wrong Marks : 0.25

Department of Atomic Energy comes under _____.

Options :

1. ✔ Prime Minister's office
2. ✖ Home Ministry
3. ✖ Ministry of Science and Technology
4. ✖ Department of Space

Question Number : 53 Question Id : 9983676877 Question Type : MCQ Option Shuffling : Yes
Correct Marks : 1 Wrong Marks : 0.25

परमाणु ऊर्जा विभाग _____ के अंतर्गत कार्य करता है।

Options :

1. ✔ प्रधानमंत्री कार्यालय

2. ✖ गृह मंत्रालय
3. ✖ विज्ञान एवं प्रौद्योगिकी मंत्रालय
4. ✖ अंतरिक्ष विभाग

Question Number : 54 Question Id : 9983676878 Question Type : MCQ Option Shuffling : Yes
Correct Marks : 1 Wrong Marks : 0.25

Which article of the Constitution abolishes Untouchability?

Options :

1. ✔ Article 17
2. ✖ Article 23
3. ✖ Article 29
4. ✖ Article 18

Question Number : 54 Question Id : 9983676878 Question Type : MCQ Option Shuffling : Yes
Correct Marks : 1 Wrong Marks : 0.25

संविधान का कौन सा अनुच्छेद, अस्पृश्यता का उन्मूलन करता है?

Options :

1. ✔ अनुच्छेद 17
2. ✖ अनुच्छेद 23
3. ✖ अनुच्छेद 29
4. ✖ अनुच्छेद 18

Question Number : 55 Question Id : 9983676879 Question Type : MCQ Option Shuffling : Yes
Correct Marks : 1 Wrong Marks : 0.25

Who among the followings is the Governor of Odisha?

Options :

1. ✖ Mridula Sinha
2. ✔ Ganeshi Lal
3. ✖ Lalji Tondon
4. ✖ Jagdish Mukhi

Question Number : 55 Question Id : 9983676879 Question Type : MCQ Option Shuffling : Yes
Correct Marks : 1 Wrong Marks : 0.25

निम्न में से कौन, ओडिशा का राज्यपाल है?

Options :

1. ✖ मृदुला सिन्हा
2. ✔ गणेशी लाल
3. ✖ लालजी टंडन
4. ✖ जगदीश मुखी

Question Number : 56 Question Id : 9983676880 Question Type : MCQ Option Shuffling : Yes
Correct Marks : 1 Wrong Marks : 0.25

Who amongst the following is the third president of India?

Options :

1. ✖ Sarvepalli Radhakrishnan
2. ✔ Zakir Hussain
3. ✖ Fakhruddin Ali Ahmed
4. ✖ R. Venkataraman

Question Number : 56 Question Id : 9983676880 Question Type : MCQ Option Shuffling : Yes
Correct Marks : 1 Wrong Marks : 0.25

निम्न में से कौन, भारत के तीसरे राष्ट्रपति रहे?

Options :

1. ✖ सर्वपल्ली राधाकृष्णन
2. ✔ जाकिर हुसैन
3. ✖ फखरुद्दीन अली अहमद
4. ✖ आर. वेंकटरामन

Question Number : 57 Question Id : 9983676881 Question Type : MCQ Option Shuffling : Yes
Correct Marks : 1 Wrong Marks : 0.25

Who became the acting prime minister of India after the death of Lal Bahadur Shastri?

Options :

1. ✖ Indira Gandhi
2. ✔ Gulzarilal Nanda
3. ✖ Charan Singh
4. ✖ Morarji Desai

Question Number : 57 Question Id : 9983676881 Question Type : MCQ Option Shuffling : Yes
Correct Marks : 1 Wrong Marks : 0.25

लाल बहादुर शास्त्री की मृत्यु के पश्चात भारत के कार्यवाहक प्रधानमंत्री कौन बने या बनी?

Options :

1. ✖ इंदिरा गांधी
2. ✔ गुलजारीलाल नंदा
3. ✖ चरण सिंह
4. ✖ मोरारजी देसाई

Question Number : 58 Question Id : 9983676882 Question Type : MCQ Option Shuffling : Yes
Correct Marks : 1 Wrong Marks : 0.25

The Ex-officio Chairman of Rajya Sabha is _____.

Options :

1. ✖ Speaker
2. ✖ Prime Minister
3. ✖ Opposition Leader
4. ✔ Vice president

Question Number : 58 Question Id : 9983676882 Question Type : MCQ Option Shuffling : Yes
Correct Marks : 1 Wrong Marks : 0.25

राज्यसभा का पदेन सभापति _____ होता है।

Options :

1. ✖ अध्यक्ष (स्पीकर)
2. ✖ प्रधानमंत्री

3. ✖ नेता प्रतिपक्ष

4. ✔ उप राष्ट्रपति

Question Number : 59 Question Id : 9983676883 Question Type : MCQ Option Shuffling : Yes

Correct Marks : 1 Wrong Marks : 0.25

The distinguished Tennis player Novak Djokovic belongs to which country?

Options :

1. ✖ France

2. ✔ Serbia

3. ✖ Bulgaria

4. ✖ Slovakia

Question Number : 59 Question Id : 9983676883 Question Type : MCQ Option Shuffling : Yes

Correct Marks : 1 Wrong Marks : 0.25

प्रतिष्ठित टेनिस खिलाड़ी नोवाक जोकोविच किस देश से संबंधित हैं?

Options :

1. ✖ फ्रांस

2. ✔ सर्बिया

3. ✖ बुल्गारिया

4. ✖ स्लोवाकिया

Question Number : 60 Question Id : 9983676884 Question Type : MCQ Option Shuffling : Yes

Correct Marks : 1 Wrong Marks : 0.25

The IPL team Delhi Daredevils renamed as:

Options :

1. ✖ Delhi NCR

2. ✖ Delhi Thunderstoms

3. ✔ Delhi Capitals

4. ✖ Delhi Belly

Question Number : 60 Question Id : 9983676884 Question Type : MCQ Option Shuffling : Yes
Correct Marks : 1 Wrong Marks : 0.25

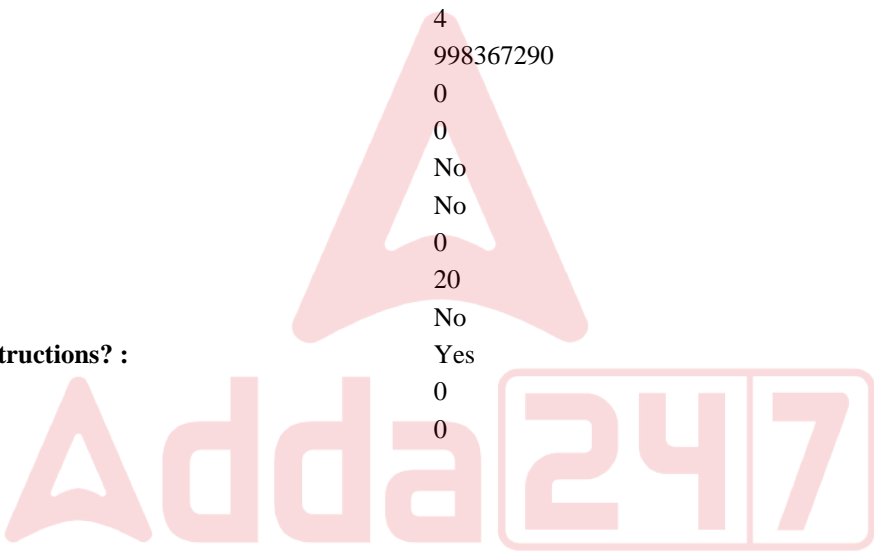
आईपीएल टीम दिल्ली डेयरडेविल्स का नया नाम _____ है।

Options :

- 1. ✖ दिल्ली एनसीआर
- 2. ✖ दिल्ली थंडरस्ट्रॉम्स
- 3. ✔ दिल्ली कैपिटल्स
- 4. ✖ दिल्ली बेली

General Awareness2

Group Number :	4
Group Id :	998367290
Group Maximum Duration :	0
Group Minimum Duration :	0
Show Attended Group? :	No
Edit Attended Group? :	No
Break time:	0
Group Marks:	20
Is this Group for Examiner?:	No
Revisit allowed for group Instructions? :	Yes
Maximum Instruction Time:	0
Minimum Instruction Time:	0



General Awareness2

Section Id :	998367296
Section Number :	1
Section type :	Online
Mandatory or Optional:	Mandatory
Number of Questions:	20
Number of Questions to be attempted:	20
Section Marks:	20

Sub-Section Number:	1
Sub-Section Id:	998367428
Question Shuffling Allowed :	Yes

Question Number : 61 Question Id : 9983676885 Question Type : MCQ Option Shuffling : Yes
Correct Marks : 1 Wrong Marks : 0.25

The famous Barabati Stadium is located in:

Options :

1. ✖ Gujarat
2. ✖ Harayana
3. ✖ Assam
4. ✔ Odisha

Question Number : 61 Question Id : 9983676885 Question Type : MCQ Option Shuffling : Yes

Correct Marks : 1 Wrong Marks : 0.25

प्रसिद्ध बाराबती स्टेडियम _____ में स्थित है।

Options :

1. ✖ गुजरात
2. ✖ हरियाणा
3. ✖ असम
4. ✔ ओडिशा

Question Number : 62 Question Id : 9983676886 Question Type : MCQ Option Shuffling : Yes

Correct Marks : 1 Wrong Marks : 0.25

In Ancient India, the first ever theory of smallest indivisible particle known as 'Parmanu' appeared in which of the following texts?

Options :

1. ✔ Vaiseshika Sutra
2. ✖ Sushrut Samhita
3. ✖ Brihad Samhita
4. ✖ Rasratnakar

Question Number : 62 Question Id : 9983676886 Question Type : MCQ Option Shuffling : Yes

Correct Marks : 1 Wrong Marks : 0.25

प्राचीन भारत में 'परमाणु' के नाम से ज्ञात सबसे छोटे अविभाज्य कण का सर्वप्रथम सिद्धांत निम्न में से किस पुस्तक में वर्णित है?

Options :

1. ✓ वैशेषिक सूत्र
2. ✗ सुश्रुत संहिता
3. ✗ बृहत् संहिता
4. ✗ रसरत्नाकर

Question Number : 63 Question Id : 9983676887 Question Type : MCQ Option Shuffling : Yes
Correct Marks : 1 Wrong Marks : 0.25

Which of the following Pairs is correctly matched?

Options :

1. ✗ Tawang Monastery- Himachal Pradesh
2. ✓ Rumtek Monastery- Sikkim
3. ✗ Tabo Monastery- Jammu and Kashmir
4. ✗ Thiksey Monastery- Nagaland

Question Number : 63 Question Id : 9983676887 Question Type : MCQ Option Shuffling : Yes
Correct Marks : 1 Wrong Marks : 0.25

निम्न में से किस जोड़े का मिलान सही है?

Options :

1. ✗ तवांग मठ - हिमाचल प्रदेश
2. ✓ रूमटेक मठ - सिक्किम
3. ✗ ताबो मठ - जम्मू और कश्मीर
4. ✗ थिकसे मठ - नागालैंड

Question Number : 64 Question Id : 9983676888 Question Type : MCQ Option Shuffling : Yes
Correct Marks : 1 Wrong Marks : 0.25

‘Toda Tribe’ is endemic to which of the following places of India?

Options :

1. ✗ Odisha
2. ✓ Nilgiris

3. ✖ Andamans

4. ✖ Jharkhand

Question Number : 64 Question Id : 9983676888 Question Type : MCQ Option Shuffling : Yes
Correct Marks : 1 Wrong Marks : 0.25

'टोडा जनजाति' भारत के निम्न में से किस स्थान पर पाई जाती है?

Options :

1. ✖ ओडिशा

2. ✔ नीलगिरी

3. ✖ अंडमान

4. ✖ झारखंड

Question Number : 65 Question Id : 9983676889 Question Type : MCQ Option Shuffling : Yes
Correct Marks : 1 Wrong Marks : 0.25

From the following options which one is the capital of Argentina?

Options :

1. ✖ Luanda

2. ✔ Buenos Aires

3. ✖ Oslo

4. ✖ Hanoi

Question Number : 65 Question Id : 9983676889 Question Type : MCQ Option Shuffling : Yes
Correct Marks : 1 Wrong Marks : 0.25

निम्न विकल्पों में से, अर्जेन्टीना की राजधानी कौन सी है?

Options :

1. ✖ लुआंडा

2. ✔ ब्यूनस आयर्स

3. ✖ ओस्लो

4. ✖ हनोई

Question Number : 66 Question Id : 9983676890 Question Type : MCQ Option Shuffling : Yes
Correct Marks : 1 Wrong Marks : 0.25

The Manikaran Geothermal Plant is located in:

Options :

1. ✓ Himachal Pradesh
2. ✗ Uttarakhand
3. ✗ Punjab
4. ✗ West Bengal

Question Number : 66 Question Id : 9983676890 Question Type : MCQ Option Shuffling : Yes
Correct Marks : 1 Wrong Marks : 0.25

मणिकर्ण भू-तापीय संयंत्र _____ में स्थित है।

Options :

1. ✓ हिमाचल प्रदेश
2. ✗ उत्तराखंड
3. ✗ पंजाब
4. ✗ पश्चिम बंगाल

Question Number : 67 Question Id : 9983676891 Question Type : MCQ Option Shuffling : Yes
Correct Marks : 1 Wrong Marks : 0.25

The terms Eye, Landfall and Centre are related to which of the geographical phenomena?

Options :

1. ✗ Tsunami
2. ✗ Earthquake
3. ✓ Cyclone
4. ✗ Volcanic Eruption

Question Number : 67 Question Id : 9983676891 Question Type : MCQ Option Shuffling : Yes
Correct Marks : 1 Wrong Marks : 0.25

आई, लैंडफाल और सेंटर शब्द किस भौगोलिक परिघटना से संबंधित हैं?

Options :

1. ✖ सुनामी
2. ✖ भूकंप
3. ✔ चक्रवात
4. ✖ ज्वालामुखी विस्फोट

Question Number : 68 Question Id : 9983676892 Question Type : MCQ Option Shuffling : Yes
Correct Marks : 1 Wrong Marks : 0.25

‘Robusta’ Variety is associated to _____.

Options :

1. ✖ Tea
2. ✖ Wheat
3. ✖ Malt
4. ✔ Coffee

Question Number : 68 Question Id : 9983676892 Question Type : MCQ Option Shuffling : Yes
Correct Marks : 1 Wrong Marks : 0.25

रोबस्टा' _____ की किस्म से संबंधित है।

Options :

1. ✖ चाय
2. ✖ गेहूँ
3. ✖ माल्ट
4. ✔ कॉफी

Question Number : 69 Question Id : 9983676893 Question Type : MCQ Option Shuffling : Yes
Correct Marks : 1 Wrong Marks : 0.25

The Appiko Movement is associated to _____.

Options :

1. ✖ Expansion of Postal Network
2. ✖ Tax free campaign of liquor
3. ✔ Forest Conservation

4. ✖ Establishment of Model schools in Jammu and Kashmir

Question Number : 69 Question Id : 9983676893 Question Type : MCQ Option Shuffling : Yes
Correct Marks : 1 Wrong Marks : 0.25

अप्पिको आंदोलन _____ से संबंधित है।

Options :

1. ✖ डाक नेटवर्क का प्रसार
2. ✖ करमुक्त शराब अभियान
3. ✔ वन संरक्षण
4. ✖ जम्मू और कश्मीर में मॉडल स्कूलों की स्थापना

Question Number : 70 Question Id : 9983676894 Question Type : MCQ Option Shuffling : Yes
Correct Marks : 1 Wrong Marks : 0.25

_____ is a situation where the expenditure of the government exceeds its revenue.

Options :

1. ✔ Deficit Financing
2. ✖ Zero Financing
3. ✖ Devalued Financing
4. ✖ Equities

Question Number : 70 Question Id : 9983676894 Question Type : MCQ Option Shuffling : Yes
Correct Marks : 1 Wrong Marks : 0.25

_____ वह स्थिति है जिसमें सरकार का व्यय, इसके राजस्व से अधिक होता है।

Options :

1. ✔ घाटा वित्तपोषण
2. ✖ शून्य वित्तपोषण
3. ✖ अवमूल्यित वित्तपोषण
4. ✖ इक्विटी

Question Number : 71 Question Id : 9983676895 Question Type : MCQ Option Shuffling : Yes
Correct Marks : 1 Wrong Marks : 0.25

Blood is a_____.

Options :

1. ✓ Heterogenous Mixture
2. ✖ Homogenous Mixture
3. ✖ Elements
4. ✖ Homogenous Matter

Question Number : 71 Question Id : 9983676895 Question Type : MCQ Option Shuffling : Yes
Correct Marks : 1 Wrong Marks : 0.25

रक्त _____ होता है।

Options :

1. ✓ विषमांगी मिश्रण
2. ✖ समांगी मिश्रण
3. ✖ तत्व
4. ✖ समांगी पदार्थ

Question Number : 72 Question Id : 9983676896 Question Type : MCQ Option Shuffling : Yes
Correct Marks : 1 Wrong Marks : 0.25

Which is the World's largest airborne observatory?

Options :

1. ✓ SOFIA
2. ✖ LILY
3. ✖ KATRINA
4. ✖ JASMINE

Question Number : 72 Question Id : 9983676896 Question Type : MCQ Option Shuffling : Yes
Correct Marks : 1 Wrong Marks : 0.25

विश्व की सबसे बड़ी एयरबोर्न वेधशाला कौन सी है?

Options :

1. ✓ सोफिया (SOFIA)
2. ✗ लिली (LILY)
3. ✗ कैटरीना (KATRINA)
4. ✗ जैस्मिन (JASMINE)

Question Number : 73 Question Id : 9983676897 Question Type : MCQ Option Shuffling : Yes
Correct Marks : 1 Wrong Marks : 0.25

In which country the first Malaria Vaccine has been launched?

Options :

1. ✗ Brazil
2. ✓ Malawi
3. ✗ Malaysia
4. ✗ Sri Lanka

Question Number : 73 Question Id : 9983676897 Question Type : MCQ Option Shuffling : Yes
Correct Marks : 1 Wrong Marks : 0.25

मलेरिया का टीका पहली बार किस देश में लॉन्च किया गया?

Options :

1. ✗ ब्राज़ील
2. ✓ मलावी
3. ✗ मलेशिया
4. ✗ श्रीलंका

Question Number : 74 Question Id : 9983676898 Question Type : MCQ Option Shuffling : Yes
Correct Marks : 1 Wrong Marks : 0.25

Which layer of the atmosphere contains the Ozone Gas?

Options :

1. ✓ Stratosphere
2. ✗ Ionosphere
3. ✗ Thermosphere

4. ✖ Troposphere

Question Number : 74 Question Id : 9983676898 Question Type : MCQ Option Shuffling : Yes
Correct Marks : 1 Wrong Marks : 0.25

वायुमंडल की किस परत में ओजोन गैस होती है?

Options :

1. ✔ समताप मंडल
2. ✖ आयनमंडल
3. ✖ तापमंडल
4. ✖ क्षोभमंडल

Question Number : 75 Question Id : 9983676899 Question Type : MCQ Option Shuffling : Yes
Correct Marks : 1 Wrong Marks : 0.25

From which launch pad will Chandrayaan-2 be launched by ISRO?

Options :

1. ✖ Chandipur
2. ✔ Sriharikota
3. ✖ Thiruvantapuram
4. ✖ Port Blair

Question Number : 75 Question Id : 9983676899 Question Type : MCQ Option Shuffling : Yes
Correct Marks : 1 Wrong Marks : 0.25

इसरो (ISRO) द्वारा चंद्रयान-2 को किस प्रक्षेपण केंद्र से प्रक्षेपित किया जाएगा?

Options :

1. ✖ चांदीपुर
2. ✔ श्रीहरिकोटा
3. ✖ तिरुवनंतपुरम
4. ✖ पोर्ट ब्लेयर

Question Number : 76 Question Id : 9983676900 Question Type : MCQ Option Shuffling : Yes
Correct Marks : 1 Wrong Marks : 0.25

Which is the India's first indigenously developed vaccine for Rotavirus Infections?

Options :

1. ✓ Rotovac
2. ✗ Rotatores
3. ✗ Rotavator
4. ✗ Rotatoria

Question Number : 76 Question Id : 9983676900 Question Type : MCQ Option Shuffling : Yes
Correct Marks : 1 Wrong Marks : 0.25

रोटावायरस संक्रमणों के लिए निम्न में से कौन भारत की प्रथम स्वदेशी विकसित टीका है?

Options :

1. ✓ रोटोवैक
2. ✗ रोटोरेस
3. ✗ रोटोवेटर
4. ✗ रोटोरिया

Question Number : 77 Question Id : 9983676901 Question Type : MCQ Option Shuffling : Yes
Correct Marks : 1 Wrong Marks : 0.25

Who among the following is credited to co-discover the elements with atomic number 95-106 in of the periodic table?

Options :

1. ✗ Wilhelm Rontgen
2. ✓ Albert Ghiorso
3. ✗ Arnest O Lawrence
4. ✗ Ernest Rutherford

Question Number : 77 Question Id : 9983676901 Question Type : MCQ Option Shuffling : Yes

Correct Marks : 1 Wrong Marks : 0.25

आवर्त सारणी में परमाणु संख्या 95-106 वाले तत्वों की सह-खोज का श्रेय निम्न में से किसे दिया जाता है?

Options :

1. ✖ विलहम रॉटजन
2. ✔ अल्बर्ट घिरसो
3. ✖ अर्नेस्ट ओ लॉरेंस
4. ✖ अर्नेस्ट रदरफोर्ड

Question Number : 78 Question Id : 9983676902 Question Type : MCQ Option Shuffling : Yes

Correct Marks : 1 Wrong Marks : 0.25

In the context of Indian Army, which of the following pairs is NOT correct?

Options :

1. ✔ Western Command- Jaipur
2. ✖ Eastern Command- Kolkata
3. ✖ Central Command- Lucknow
4. ✖ Southern Command- Pune

Question Number : 78 Question Id : 9983676902 Question Type : MCQ Option Shuffling : Yes

Correct Marks : 1 Wrong Marks : 0.25

भारतीय सेना के संदर्भ में, निम्न में से कौन सा जोड़ा सही नहीं है?

Options :

1. ✔ पश्चिमी कमान - जयपुर
2. ✖ पूर्वी कमान - कोलकाता
3. ✖ मध्य कमान - लखनऊ
4. ✖ दक्षिणी कमान - पुणे

Question Number : 79 Question Id : 9983676903 Question Type : MCQ Option Shuffling : Yes

Correct Marks : 1 Wrong Marks : 0.25

The full form of INTACH is:

Options :

1. ✓ Indian National Trust for Art and Cultural Heritage
2. ✗ Indian National Trust for Artist and Cinematic Heritage
3. ✗ Indian National Archive and Citation Heritage
4. ✗ Indian National Audience and Critics Heritage

Question Number : 79 Question Id : 9983676903 Question Type : MCQ Option Shuffling : Yes

Correct Marks : 1 Wrong Marks : 0.25

INTACH (आईएनटीएसीएच) का पूरा नाम _____ है।

Options :

1. ✓ Indian National Trust for Art and Cultural Heritage
(इंडियन नेशनल ट्रस्ट फॉर आर्ट एंड कल्चरल हेरिटेज)
2. ✗ Indian National Trust for Artist and Cinematic Heritage
(इंडियन नेशनल ट्रस्ट फॉर आर्टिस्ट एंड सिनेमेटिक हेरिटेज)
3. ✗ Indian National Archive and Citation Heritage (इंडियन नेशनल आर्काइव एंड साइटेशन हेरिटेज)
4. ✗ Indian National Audience and Critics Heritage (इंडियन नेशनल ऑडियंस एंड क्रिटिक्स हेरिटेज)

Question Number : 80 Question Id : 9983676904 Question Type : MCQ Option Shuffling : Yes

Correct Marks : 1 Wrong Marks : 0.25

The headquarters of Food and Agriculture Organization of the United Nations (FAO) is situated at:

Options :

1. ✗ Madrid
2. ✓ Rome
3. ✗ Bonn
4. ✗ Bratislava

Question Number : 80 Question Id : 9983676904 Question Type : MCQ Option Shuffling : Yes
Correct Marks : 1 Wrong Marks : 0.25

संयुक्त राष्ट्र के खाद्य एवं कृषि संगठन {Food and Agriculture Organization (FAO)} का मुख्यालय _____ में स्थित है।

Options :

- 1. ✖ मैड्रिड
- 2. ✔ रोम
- 3. ✖ बॉन
- 4. ✖ ब्रातिस्लावा

Arithmetic Ability1

Group Number :	5
Group Id :	998367291
Group Maximum Duration :	0
Group Minimum Duration :	0
Show Attended Group? :	No
Edit Attended Group? :	No
Break time:	0
Group Marks:	20
Is this Group for Examiner?:	No
Revisit allowed for group Instructions? :	Yes
Maximum Instruction Time:	0
Minimum Instruction Time:	0

Arithmetic Ability1

Section Id :	998367297
Section Number :	1
Section type :	Online
Mandatory or Optional:	Mandatory
Number of Questions:	20
Number of Questions to be attempted:	20
Section Marks:	20

Sub-Section Number:	1
Sub-Section Id:	998367429
Question Shuffling Allowed :	Yes

Question Number : 81 Question Id : 9983676905 Question Type : MCQ Option Shuffling : Yes

Correct Marks : 1 Wrong Marks : 0.25

If $a + b = 28$ and $a^2 + b^2 = 632$, then find the value of ab .

Options :

1. ✓ 76

2. ✗ 66

3. ✗ 56

4. ✗ 78

Question Number : 81 Question Id : 9983676905 Question Type : MCQ Option Shuffling : Yes

Correct Marks : 1 Wrong Marks : 0.25

यदि $a + b = 28$ और $a^2 + b^2 = 632$ है, तो ab का मान ज्ञात करें।

Options :

1. ✓ 76

2. ✗ 66

3. ✗ 56

4. ✗ 78

Question Number : 82 Question Id : 9983676906 Question Type : MCQ Option Shuffling : Yes

Correct Marks : 1 Wrong Marks : 0.25

The population of city A is 84000, which decreases at the rate of 1400 per year. Population of city B is 38000, which increases at the rate of 900 per year. In how many years will the population of cities A and B be equal?

Options :

1. ✖ 16

2. ✖ 18

3. ✖ 15

4. ✔ 20

Question Number : 82 Question Id : 9983676906 Question Type : MCQ Option Shuffling : Yes

Correct Marks : 1 Wrong Marks : 0.25

शहर A की आबादी 84000 है, जो प्रति वर्ष 1400 की दर से घटती है। शहर B की आबादी 38000 है, जो प्रति वर्ष 900 की दर से बढ़ती है। कितने वर्षों में शहर A की आबादी B के बराबर हो जाएगी?

Options :

1. ✖ 16

2. ✖ 18

3. ✖ 15

4. ✔ 20

Question Number : 83 Question Id : 9983676907 Question Type : MCQ Option Shuffling : Yes

Correct Marks : 1 Wrong Marks : 0.25

In a regular week, there are 6 working days, and each day has 9 working hours. A man gets ₹ 3.50 per hour for regular work and ₹ 7.50 per hour for overtime. If he earns ₹ 786 in 4 weeks, then for how many hours does he work?

Options :

1. ✖ 215

2. ✓ 220

3. ✗ 216

4. ✗ 230

Question Number : 83 Question Id : 9983676907 Question Type : MCQ Option Shuffling : Yes

Correct Marks : 1 Wrong Marks : 0.25

एक सामान्य सप्ताह में 6 कार्यदिवस और प्रत्येक दिन में 9 घंटे का कार्यकाल होता है। एक पुरुष को नियमित कार्य के लिए ₹ 3.50 प्रति घंटा और ओवरटाइम के लिए ₹ 7.50 प्रति घंटा मिलते हैं। यदि वह 4 सप्ताहों में ₹ 786 कमाता है, तो वह कितने घंटे काम करता है?

Options :

1. ✗ 215

2. ✓ 220

3. ✗ 216

4. ✗ 230

Question Number : 84 Question Id : 9983676908 Question Type : MCQ Option Shuffling : Yes

Correct Marks : 1 Wrong Marks : 0.25

Two-third of David's savings in National Savings Certificate is equal to three-fourth of his savings in Public Provident Fund. If he has ₹ 3,40,000 as total savings, then how much has he saved in Public Provident Fund?

Options :

1. ✗ ₹ 1,80,000

2. ✗ ₹ 1,70,000

3. ✓ ₹ 1,60,000

4. ✗ ₹ 2,60,000

Question Number : 84 Question Id : 9983676908 Question Type : MCQ Option Shuffling : Yes

Correct Marks : 1 Wrong Marks : 0.25

राष्ट्रीय बचत प्रमाणपत्र में डेविड की दो-तिहाई बचत उसकी लोक भविष्य निधि में तीन-चौथाई बचत के बराबर है। यदि उसकी कुल बचत ₹ 3,40,000 है, तो उसने लोक भविष्य निधि में कितनी बचत की है?

Options :

1. ✗ ₹ 1,80,000

2. ✗ ₹ 1,70,000

3. ✓ ₹ 1,60,000

4. ✗ ₹ 2,60,000

Question Number : 85 Question Id : 9983676909 Question Type : MCQ Option Shuffling : Yes

Correct Marks : 1 Wrong Marks : 0.25

The expression $(33.75 \times 33.75 - 33.75_y + 4.13 \times 4.13)$ will be a perfect square for which of the following values of y ?

Options :

1. ✓ 8.26

2. ✗ 4.13

3. ✗ 6.26

4. ✖ 8.13

Question Number : 85 Question Id : 9983676909 Question Type : MCQ Option Shuffling : Yes

Correct Marks : 1 Wrong Marks : 0.25

y के किस मान के लिए समीकरण $(33.75 \times 33.75 - 33.75y + 4.13 \times 4.13)$ एक पूर्ण वर्ग होगा?

Options :

1. ✔ 8.26

2. ✖ 4.13

3. ✖ 6.26

4. ✖ 8.13

Question Number : 86 Question Id : 9983676910 Question Type : MCQ Option Shuffling : Yes

Correct Marks : 1 Wrong Marks : 0.25

If $17.5x = 5.25y$, then the value of $\frac{5y - 2x}{3y + 2x}$ is:

Options :

1. ✖ 4.12

2. ✖ 3.12

3. ✖ 2.22

4. ✔ 1.22

Question Number : 86 Question Id : 9983676910 Question Type : MCQ Option Shuffling : Yes

Correct Marks : 1 Wrong Marks : 0.25

यदि $17.5x = 5.25y$ है, तो $\frac{5y - 2x}{3y + 2x}$ का मान क्या होगा:

Options :

1. ✖ 4.12

2. ✖ 3.12

3. ✖ 2.22

4. ✔ 1.22

Question Number : 87 Question Id : 9983676911 Question Type : MCQ Option Shuffling : Yes

Correct Marks : 1 Wrong Marks : 0.25

If the difference between two positive numbers is 5 and their product is 93.75, then find the greater number.

Options :

1. ✔ 12.5

2. ✖ 11.5

3. ✖ 13.5

4. ✖ 14.5

Question Number : 87 Question Id : 9983676911 Question Type : MCQ Option Shuffling : Yes

Correct Marks : 1 Wrong Marks : 0.25

यदि दो धनात्मक संख्याओं का अंतर 5 है और उनके गुणनफल का अंतर 93.75 है, तो बड़ी संख्या ज्ञात करें।

Options :

1. ✓ 12.5

2. ✗ 11.5

3. ✗ 13.5

4. ✗ 14.5

Question Number : 88 Question Id : 9983676912 Question Type : MCQ Option Shuffling : Yes

Correct Marks : 1 Wrong Marks : 0.25

I read $\frac{5}{8}$ of a book on one day and $\frac{6}{7}$ of the remainder on another day. If 21 pages remained unread, how many pages did the book contain?

Options :

1. ✗ 382

2. ✓ 392

3. ✗ 329

4. ✗ 362

Question Number : 88 Question Id : 9983676912 Question Type : MCQ Option Shuffling : Yes

Correct Marks : 1 Wrong Marks : 0.25

मैंने एक किताब का $\frac{5}{8}$ हिस्सा एक दिन पढ़ा और बाकी का $\frac{6}{7}$ हिस्सा किसी और दिन पढ़ा। यदि 21 पन्ने अभी पढ़ने बाकी हैं, तो किताब में कुल कितने पन्ने थे?

Options :

1. ✗ 382

2. ✓ 392

3. ✗ 329

4. ✗ 362

Question Number : 89 Question Id : 9983676913 Question Type : MCQ Option Shuffling : Yes

Correct Marks : 1 Wrong Marks : 0.25

Find the smallest fraction that should be added to the sum of $4\frac{1}{5} + 7\frac{2}{3} + 8\frac{5}{6}$ to make the result a whole number.

Options :

1. ✗ $\frac{3}{8}$

2. ✓ $\frac{3}{10}$

3. ✗ $\frac{2}{5}$

4. ✗ $\frac{1}{10}$

Question Number : 89 Question Id : 9983676913 Question Type : MCQ Option Shuffling : Yes

Correct Marks : 1 Wrong Marks : 0.25

वह सबसे छोटा भिन्न ज्ञात करें जिसे परिणाम को एक पूर्ण संख्या बनाने के लिए $4\frac{1}{5} + 7\frac{2}{3} + 8\frac{5}{6}$ के योग में जोड़ा जा सकता है?

Options :

1. ✗ $\frac{3}{8}$

2. ✓ $\frac{3}{10}$

3. ✗ $\frac{2}{5}$

4. ✗ $\frac{1}{10}$

Question Number : 90 Question Id : 9983676914 Question Type : MCQ Option Shuffling : Yes

Correct Marks : 1 Wrong Marks : 0.25

Find the value of $\frac{2}{15} + \frac{2}{35} + \frac{2}{63} + \frac{2}{99} + \frac{2}{143}$.

Options :

1. ✗ $\frac{8}{39}$

2. ✗ $\frac{10}{29}$

3. ✓ $\frac{10}{39}$

4. ✗ $\frac{2}{39}$

Question Number : 90 Question Id : 9983676914 Question Type : MCQ Option Shuffling : Yes

Correct Marks : 1 Wrong Marks : 0.25

$\frac{2}{15} + \frac{2}{35} + \frac{2}{63} + \frac{2}{99} + \frac{2}{143}$ का मान ज्ञात करें।

Options :

1. ✗ $\frac{8}{39}$

2. ✖ $\frac{10}{29}$

3. ✔ $\frac{10}{39}$

4. ✖ $\frac{2}{39}$

Question Number : 91 Question Id : 9983676915 Question Type : MCQ Option Shuffling : Yes

Correct Marks : 1 Wrong Marks : 0.25

Find the sum of all such numbers between 500 and 600 that are divisible by 9, 12 and 18, leaving no remainder.

Options :

1. ✔ 1620

2. ✖ 1260

3. ✖ 1640

4. ✖ 1680

Question Number : 91 Question Id : 9983676915 Question Type : MCQ Option Shuffling : Yes

Correct Marks : 1 Wrong Marks : 0.25

500 और 600 के बीच की ऐसी सभी संख्याओं का योग ज्ञात करें, जो 9, 12 और 18 से भाज्य हैं और कोई शेष नहीं छोड़ती हैं।

Options :

1. ✔ 1620

2. ✖ 1260

3. ✖ 1640

4. ✖ 1680

Question Number : 92 Question Id : 9983676916 Question Type : MCQ Option Shuffling : Yes

Correct Marks : 1 Wrong Marks : 0.25

There are two numbers that are greater than 32, and have their HCF and LCM as 32 and 5984, respectively. Find the sum of the two numbers.

Options :

1. ✖ 678

2. ✖ 778

3. ✔ 896

4. ✖ 786

Question Number : 92 Question Id : 9983676916 Question Type : MCQ Option Shuffling : Yes

Correct Marks : 1 Wrong Marks : 0.25

ऐसी दो संख्याएँ हैं जो 32 से बड़ी हैं और उनका महत्तम समापवर्तक और लघुत्तम समापवर्तक क्रमशः 32 और 5984 हैं। उन दो संख्याओं का योग ज्ञात करें।

Options :

1. ✖ 678

2. ✖ 778

3. ✔ 896

4. ✖ 786

Question Number : 93 Question Id : 9983676917 Question Type : MCQ Option Shuffling : Yes

Correct Marks : 1 Wrong Marks : 0.25

Find the greatest five-digit number that on being divided by 8, 12 and 15 leaves 5, 9 and 12 as remainders, respectively.

Options :

1. ✔ 99957

2. ✖ 99975

3. ✖ 99967

4. ✖ 99947

Question Number : 93 Question Id : 9983676917 Question Type : MCQ Option Shuffling : Yes

Correct Marks : 1 Wrong Marks : 0.25

ऐसी सबसे बड़ी पाँच-अंकों की संख्या ज्ञात करें, जिसे 8, 12 और 15 से विभाजित करने पर क्रमशः 5, 9 और 12 शेषफल आएगा।

Options :

1. ✔ 99957

2. ✖ 99975

3. ✖ 99967

4. ✖ 99947

Question Number : 94 Question Id : 9983676918 Question Type : MCQ Option Shuffling : Yes

Correct Marks : 1 Wrong Marks : 0.25

A and B invested ₹ 40,000 and ₹ 60,000, respectively, in a business for 1 year and received a profit of ₹ 30,000. A, being an active partner, received a salary of 20% and 10% of remaining was paid towards rent. If the remaining profit was divided between A and B, how much was B's dividend?

Options :

1. ✓ ₹ 12,960

2. ✗ ₹ 12,900

3. ✗ ₹ 10,950

4. ✗ ₹ 11,800

Question Number : 94 Question Id : 9983676918 Question Type : MCQ Option Shuffling : Yes

Correct Marks : 1 Wrong Marks : 0.25

A और B ने 1 साल के लिए एक कारोबार में क्रमशः रूप से ₹ 40,000 और ₹ 60,000 निवेश किए और उन्हें ₹ 30,000 का लाभ हुआ। सक्रिय भागीदार होने के नाते A को 20% वेतन मिला और बाकी का 10% किराए में दिया गया। यदि बाकी बचा लाभ A और B के बीच बाँट दिया गया, तो B का लाभांश कितना था?

Options :

1. ✓ ₹ 12,960

2. ✗ ₹ 12,900

3. ✗ ₹ 10,950

4. ✗ ₹ 11,800

Question Number : 95 Question Id : 9983676919 Question Type : MCQ Option Shuffling : Yes

Correct Marks : 1 Wrong Marks : 0.25

Three numbers are in the ratio of 2 : 3 : 5. If the sum of their squares is 5472, then find the sum of all the three numbers.

Options :

1. ✓ 120

2. ✗ 140

3. ✗ 125

4. ✗ 130

Question Number : 95 Question Id : 9983676919 Question Type : MCQ Option Shuffling : Yes

Correct Marks : 1 Wrong Marks : 0.25

तीन संख्याएँ 2 : 3 : 5 के अनुपात में हैं। यदि उनके वर्ग का योग 5472 है, तो तीनों संख्याओं का योग ज्ञात करें।

Options :

1. ✓ 120

2. ✗ 140

3. ✗ 125

4. ✗ 130

Question Number : 96 Question Id : 9983676920 Question Type : MCQ Option Shuffling : Yes

Correct Marks : 1 Wrong Marks : 0.25

There are cows, buffaloes and horses on a farm. The owner sells 70% of these animals and still has 90 animals left with him/her. Find the number of horses on the farm if the animals are in the ratio of 1 : 2 : 3.

Options :

1. ✗ 250

2. ✓ 150

3. ✗ 100

4. ✗ 120

Question Number : 96 Question Id : 9983676920 Question Type : MCQ Option Shuffling : Yes

Correct Marks : 1 Wrong Marks : 0.25

एक खेत में गाय, भैंस और घोड़े हैं। खेत का मालिक इन जानवरों में से 70% बेच देता है और फिर भी उसके पास 90 जानवर बच जाते हैं। यदि जानवरों का अनुपात 1 : 2 : 3 है, तो खेत में घोड़ों की संख्या ज्ञात करें।

Options :

1. ✗ 250

2. ✓ 150

3. ✗ 100

4. ✗ 120

Question Number : 97 Question Id : 9983676921 Question Type : MCQ Option Shuffling : Yes

Correct Marks : 1 Wrong Marks : 0.25

A के अंक, B के अंकों से पाँच गुना है। A के अंक, C के अंकों से भी चार गुना है। C के अंक, B के अंकों से कितने प्रतिशत अधिक हैं?

Options :

1. ✓ 25%

2. ✖ 20%

3. ✖ 24%

4. ✖ 30%

Question Number : 97 Question Id : 9983676921 Question Type : MCQ Option Shuffling : Yes

Correct Marks : 1 Wrong Marks : 0.25

A's marks are five times that of B's marks. A's marks are also four times that of C's marks. By what percentage are the marks of C greater than those of B?

Options :

1. ✔ 25%

2. ✖ 20%

3. ✖ 24%

4. ✖ 30%

Question Number : 98 Question Id : 9983676922 Question Type : MCQ Option Shuffling : Yes

Correct Marks : 1 Wrong Marks : 0.25

Manoj spent 20% of his salary on clothes and 25% of the remaining on food. After spending on clothes and food, he spent 8% of the remaining on miscellaneous expenditure. If he is left with ₹ 11,040, then what is his salary?

Options :

1. ✖ ₹ 25,000

2. ✖ ₹ 15,000

3. ✖ ₹ 24,000

4. ✔ ₹ 20,000

Question Number : 98 Question Id : 9983676922 Question Type : MCQ Option Shuffling : Yes

Correct Marks : 1 Wrong Marks : 0.25

मनोज ने अपने वेतन का 20% कपड़ों पर और बाकी का 25% भोजन पर खर्च किया, उसने बाकी का 8% फुटकर व्यय पर खर्च किया। यदि उसके पास ₹ 11,040 बचे हैं, तो उसका वेतन क्या था?

Options :

1. ✖ ₹ 25,000

2. ✖ ₹ 15,000

3. ✖ ₹ 24,000

4. ✔ ₹ 20,000

Question Number : 99 Question Id : 9983676923 Question Type : MCQ Option Shuffling : Yes

Correct Marks : 1 Wrong Marks : 0.25

The average of 50 observations is 60. If 10 is added to each of the observations and each of them is multiplied by 2, what will be the new average?

Options :

1. ✔ 140

2. ✖ 120

3. ✖ 130

4. ✖ 150

Question Number : 99 Question Id : 9983676923 Question Type : MCQ Option Shuffling : Yes

Correct Marks : 1 Wrong Marks : 0.25

50 अवलोकनों की औसत 60 है। यदि प्रत्येक अवलोकन में 10 जोड़ दिया जाए और प्रत्येक को 2 से गुणा किया जाए, तो नई औसत क्या होगी?

Options :

1. ✔ 140

2. ✖ 120

3. ✖ 130

4. ✖ 150

Question Number : 100 Question Id : 9983676924 Question Type : MCQ Option Shuffling : Yes

Correct Marks : 1 Wrong Marks : 0.25

A is 50% of B, C is twice of B and D is 3 times of A. If the average of all the four is 60, then the difference between the greatest and the smallest number in the group is:

Options :

1. ✖ 70

2. ✖ 75

3. ✖ 74

4. ✔ 72

Question Number : 100 Question Id : 9983676924 Question Type : MCQ Option Shuffling : Yes
Correct Marks : 1 Wrong Marks : 0.25

A, B का 50% है, C, B का दोगुना है और D, A का 3 तीन गुना है। यदि सभी चारों की औसत 60 है, तो समूह की सबसे बड़ी और सबसे छोटी संख्या के बीच अंतर ज्ञात करें।

Options :

1. ✖ 70

2. ✖ 75

3. ✖ 74

4. ✔ 72

Arithmetic Ability2

Group Number :	6
Group Id :	998367292
Group Maximum Duration :	0
Group Minimum Duration :	0
Show Attended Group? :	No
Edit Attended Group? :	No
Break time:	0
Group Marks:	20
Is this Group for Examiner?:	No
Revisit allowed for group Instructions? :	Yes
Maximum Instruction Time:	0
Minimum Instruction Time:	0

Arithmetic Ability2

Section Id :	998367298
Section Number :	1
Section type :	Online
Mandatory or Optional:	Mandatory
Number of Questions:	20
Number of Questions to be attempted:	20
Section Marks:	20

Sub-Section Number: 1
Sub-Section Id: 998367430
Question Shuffling Allowed : Yes

Question Number : 101 Question Id : 9983676925 Question Type : MCQ Option Shuffling : Yes
Correct Marks : 1 Wrong Marks : 0.25

By selling an article for ₹ 2,400, a person incurred a loss of 20%. How much should he sell it for to make a profit of 20%?

Options :

1. ✓ ₹ 3,600

2. ✗ ₹ 3,500

3. ✗ ₹ 3,000

4. ✗ ₹ 4,600

Question Number : 101 Question Id : 9983676925 Question Type : MCQ Option Shuffling : Yes
Correct Marks : 1 Wrong Marks : 0.25

एक वस्तु को ₹ 2,400 में बेचने से एक व्यक्ति को 20% का नुकसान होता है। 20% मुनाफा कमाने के लिए उसे वस्तु को कितने में बेचना होगा?

Options :

1. ✓ ₹ 3,600

2. ✗ ₹ 3,500

3. ✗ ₹ 3,000

4. ✖ ₹ 4,600

Question Number : 102 Question Id : 9983676926 Question Type : MCQ Option Shuffling : Yes

Correct Marks : 1 Wrong Marks : 0.25

A man sold two articles for ₹ 10,000 each, neither losing nor gaining in the deal. He sold one at a 25% profit and the other at a loss. Find the loss percentage.

Options :

1. ✔ $16\frac{2}{3}\%$

2. ✖ 12%

3. ✖ 11.5%

4. ✖ 10%

Question Number : 102 Question Id : 9983676926 Question Type : MCQ Option Shuffling : Yes

Correct Marks : 1 Wrong Marks : 0.25

एक व्यक्ति दो वस्तुओं में से हर एक को ₹ 10,000 में बेचता है, इस सौदे में उसे न तो कोई नुकसान हुआ और न ही कोई मुनाफा हुआ। उसने एक 25% मुनाफे पर और दूसरी नुकसान के साथ बेच दी। हानि प्रतिशत ज्ञात करें।

Options :

1. ✔ $16\frac{2}{3}\%$

2. ✖ 12%

3. ✖ 11.5%

4. ✖ 10%

Question Number : 103 Question Id : 9983676927 Question Type : MCQ Option Shuffling : Yes

Correct Marks : 1 Wrong Marks : 0.25

Manohar sold a cooker to Shivani at a profit of 8%. Then, Shivani sold it to Virat at a profit of 7%. If Virat has paid ₹ 1,155.60, find the cost price of the cooker.

Options :

1. ✖ ₹ 1,200

2. ✔ ₹ 1,000

3. ✖ ₹ 1,500

4. ✖ ₹ 1,300

Question Number : 103 Question Id : 9983676927 Question Type : MCQ Option Shuffling : Yes

Correct Marks : 1 Wrong Marks : 0.25

मनोहर ने 8% मुनाफे के साथ शिवानी को एक कुकर बेचा। फिर शिवानी ने उसे विराट को 7% मुनाफे के साथ बेच दिया। यदि विराट ने ₹ 1,155.60 का भुगतान किया, तो कुकर का लागत मूल्य ज्ञात करें।

Options :

1. ✖ ₹ 1,200

2. ✔ ₹ 1,000

3. ✖ ₹ 1,500

4. ✖ ₹ 1,300

Question Number : 104 Question Id : 9983676928 Question Type : MCQ Option Shuffling : Yes

Correct Marks : 1 Wrong Marks : 0.25

Arman purchased a motor cycle whose marked price is ₹ 1,50,000 at a discount of 10%. If sales tax of 8% is added to the bill, find the selling price of the motor cycle.

Options :

1. ✓ ₹ 1,45,800

2. ✗ ₹ 1,40,500

3. ✗ ₹ 1,40,800

4. ✗ ₹ 1,35,500

Question Number : 104 Question Id : 9983676928 Question Type : MCQ Option Shuffling : Yes

Correct Marks : 1 Wrong Marks : 0.25

अरमान ने 10% छूट के साथ मोटर साइकिल खरीदी जिसका अंकित मूल्य ₹ 1,50,000 है। यदि बिल में 8% विक्रय कर जोड़ दिया जाए, तो मोटर साइकिल का विक्रय मूल्य ज्ञात करें।

Options :

1. ✓ ₹ 1,45,800

2. ✗ ₹ 1,40,500

3. ✗ ₹ 1,40,800

4. ✗ ₹ 1,35,500

Question Number : 105 Question Id : 9983676929 Question Type : MCQ Option Shuffling : Yes

Correct Marks : 1 Wrong Marks : 0.25

Sudeep visits an AC showroom and selects an AC for ₹ 44,000. The rate of sales tax is 10%. However, Sudeep insists that the shopkeeper reduce the price of the AC to such an extent that he has to pay ₹ 44,000 inclusive of sales tax. Find the reduction needed in the price of the AC.

Options :

1. ✖ ₹ 5,000

2. ✖ ₹ 4,500

3. ✔ ₹ 4,000

4. ✖ ₹ 5,500

Question Number : 105 Question Id : 9983676929 Question Type : MCQ Option Shuffling : Yes

Correct Marks : 1 Wrong Marks : 0.25

सुदीप AC के शोरूम में जाता है और ₹ 44,000 में एक AC चुनता है। विक्रय कर की दर 10% है। हालाँकि, सुदीप दुकानदार से आग्रह कर रहा है कि वो उसे इतनी छूट दे दे की उसे विक्रय कर सहित ₹ 44,000 ही देने पड़ें। AC की कीमत में कितनी कमी करनी होगी।

Options :

1. ✖ ₹ 5,000

2. ✖ ₹ 4,500

3. ✔ ₹ 4,000

4. ✖ ₹ 5,500

Question Number : 106 Question Id : 9983676930 Question Type : MCQ Option Shuffling : Yes

Correct Marks : 1 Wrong Marks : 0.25

Siva borrows ₹ 12,000 for 5 years at 8% p.a. simple interest. He immediately lends this amount to another person for 5 years at 10% p.a. Find his gain percentage in this transaction.

Note: For this question, discrepancy is found in question/answer. So, this question is ignored for all candidates.

Options :

1. 25%

2. 20%

3. 22%

4. 15%

Question Number : 106 Question Id : 9983676930 Question Type : MCQ Option Shuffling : Yes

Correct Marks : 1 Wrong Marks : 0.25

शिवा 8% वार्षिक साधारण ब्याज दर पर 5 सालों के लिए ₹ 12,000 उधार लेता है। उसने तुरंत ही राशि किसी और व्यक्ति को 5 सालों के लिए 10% वार्षिक साधारण ब्याज दर पर दे दी। इस लेनदेन में लाभ प्रतिशत ज्ञात करें।

Note: For this question, discrepancy is found in question/answer. So, this question is ignored for all candidates.

Options :

1. 25%

2. 20%

3. 22%

4. 15%

Question Number : 107 Question Id : 9983676931 Question Type : MCQ Option Shuffling : Yes

Correct Marks : 1 Wrong Marks : 0.25

A person invested ₹ 5,000 each in two schemes with rates of interest in the ratio of 2 : 3. If the total interest received after 10 years is ₹ 5,000, the rate of interest in the first scheme is:

Options :

1. ✖ 3%

2. ✖ 6%

3. ✖ 5%

4. ✔ 4%

Question Number : 107 Question Id : 9983676931 Question Type : MCQ Option Shuffling : Yes

Correct Marks : 1 Wrong Marks : 0.25

एक व्यक्ति ने दो योजनाओं में से हर एक में ₹ 5,000 निवेश किए जिनकी ब्याज दर का अनुपात 2 : 3 है। यदि 10 सालों के बाद कुल ₹ 5,000 ब्याज मिलता है, तो पहली योजना की ब्याज दर क्या है?

Options :

1. ✖ 3%

2. ✖ 6%

3. ✖ 5%

4. ✔ 4%

Question Number : 108 Question Id : 9983676932 Question Type : MCQ Option Shuffling : Yes

Correct Marks : 1 Wrong Marks : 0.25

The difference between the simple interest and compound interest on a certain sum of money at 10% p.a. for 2 years is ₹ 600. What is the principal?

Options :

1. ✔ ₹ 60,000

2. ✖ ₹ 50,000

3. ✖ ₹ 65,000

4. ✖ ₹ 70,000

Question Number : 108 Question Id : 9983676932 Question Type : MCQ Option Shuffling : Yes

Correct Marks : 1 Wrong Marks : 0.25

एक निश्चित राशि पर 10% वार्षिक दर से 2 सालों के लिए साधारण ब्याज और चक्रवृद्धि ब्याज में अंतर ₹ 600 है। मूलधन कितना है?

Options :

1. ✔ ₹ 60,000

2. ✖ ₹ 50,000

3. ✖ ₹ 65,000

4. ✖ ₹ 70,000

Question Number : 109 Question Id : 9983676933 Question Type : MCQ Option Shuffling : Yes

Correct Marks : 1 Wrong Marks : 0.25

In a factory, the production of scooters went up to 108900 from 90000 in 2 years. The rate of growth per annum is:

Options :

1. ✔ 10%

2. ✖ 12%

3. ✖ 9%

4. ✖ 15%

Question Number : 109 Question Id : 9983676933 Question Type : MCQ Option Shuffling : Yes

Correct Marks : 1 Wrong Marks : 0.25

एक फैक्ट्री में 2 सालों में स्कूटर का उत्पादन 90000 से बढ़कर 108900 हो गया। वार्षिक विकास दर ज्ञात करें।

Options :

1. ✔ 10%

2. ✖ 12%

3. ✖ 9%

4. ✖ 15%

Question Number : 110 Question Id : 9983676934 Question Type : MCQ Option Shuffling : Yes

Correct Marks : 1 Wrong Marks : 0.25

The present population of Ratlam city is 2,77,830. What was its population 3 years ago if the present population has increased since then by 5% p.a.?

Options :

1. ✖ 2,30,000

2. ✔ 2,40,000

3. ✖ 2,50,000

4. ✖ 2,45,000

Question Number : 110 Question Id : 9983676934 Question Type : MCQ Option Shuffling : Yes

Correct Marks : 1 Wrong Marks : 0.25

रतलाम शहर की वर्तमान आबादी 2,77,830 है। 3 साल पहले इस शहर की आबादी कितनी थी, यदि इसकी वर्तमान आबादी तब से अब तक 5% वार्षिक दर से बढ़ी है।

Options :

1. ✖ 2,30,000

2. ✔ 2,40,000

3. ✖ 2,50,000

4. ✖ 2,45,000

Question Number : 111 Question Id : 9983676935 Question Type : MCQ Option Shuffling : Yes

Correct Marks : 1 Wrong Marks : 0.25

The length of the base of a right triangle is 2 cm more than that of its altitude. If its area is 24 cm^2 , find the length of its hypotenuse.

Options :

1. ✔ 10 cm

2. ✖ 8 cm

3. ✖ 12 cm

4. ✖ 13 cm

Question Number : 111 Question Id : 9983676935 Question Type : MCQ Option Shuffling : Yes

Correct Marks : 1 Wrong Marks : 0.25

एक समकोण त्रिभुज की आधार-रेखा की लंबाई उसके शीर्षलंब से 2 cm ज्यादा है। यदि इसका क्षेत्रफल 24 cm^2 है, तो इसकी कर्ण-रेखा की लंबाई ज्ञात करें।

Options :

1. ✓ 10 cm

2. ✗ 8 cm

3. ✗ 12 cm

4. ✗ 13 cm

Question Number : 112 Question Id : 9983676936 Question Type : MCQ Option Shuffling : Yes

Correct Marks : 1 Wrong Marks : 0.25

The length of a rectangle is $1\frac{1}{2}$ times the side of a square, and its breadth is 4 cm more than 50% of the side of the square. If the area of the square is 576 cm^2 , find the perimeter of the rectangle.

Options :

1. ✓ 104 cm

2. ✗ 140 cm

3. ✗ 120 cm

4. ✗ 124 cm

Question Number : 112 Question Id : 9983676936 Question Type : MCQ Option Shuffling : Yes

Correct Marks : 1 Wrong Marks : 0.25

एक आयत की लंबाई, एक वर्ग की भुजा से $1\frac{1}{2}$ गुना है और इसकी चौड़ाई वर्ग की भुजा के 50% से 4 cm ज्यादा है। यदि वर्ग का क्षेत्रफल 576 cm^2 है, तो आयत का परिमाण ज्ञात करें।

Options :

1. ✓ 104 cm

2. ✗ 140 cm

3. ✗ 120 cm

4. ✗ 124 cm

Question Number : 113 Question Id : 9983676937 Question Type : MCQ Option Shuffling : Yes

Correct Marks : 1 Wrong Marks : 0.25

Nine circles of maximum possible size are drawn on a square paper with an area of 1764 cm^2 . Find the circumference of one circle.

Options :

1. ✗ 48 cm

2. ✓ 44 cm

3. ✗ 84 cm

4. ✗ 64 cm

Question Number : 113 Question Id : 9983676937 Question Type : MCQ Option Shuffling : Yes

Correct Marks : 1 Wrong Marks : 0.25

1764 cm^2 क्षेत्रफल के एक वर्गाकार कागज़ पर अधिकतम संभव आकार के नौ वृत्त बनाए जाते हैं। एक वृत्त की परिधि ज्ञात करें।

Options :

1. ✗ 48 cm

2. ✓ 44 cm

3. ✗ 84 cm

4. ✗ 64 cm

Question Number : 114 Question Id : 9983676938 Question Type : MCQ Option Shuffling : Yes

Correct Marks : 1 Wrong Marks : 0.25

Soham and Karthik together can do a job in 20 hours. Soham alone can complete 40% of the job in 12 hours. If they receive a total payment of ₹ 1,110, then Soham's salary is:

Options :

1. ✓ ₹ 740

2. ✗ ₹ 760

3. ✗ ₹ 840

4. ✗ ₹ 860

Question Number : 114 Question Id : 9983676938 Question Type : MCQ Option Shuffling : Yes

Correct Marks : 1 Wrong Marks : 0.25

सोहम और कार्तिक दोनों मिलकर एक काम को 20 घंटों में पूरा कर सकते हैं। सोहम अकेले ही उस काम का 40%, 12 घंटों में पूरा कर सकता है। यदि दोनों को कुल ₹ 1,110 का भुगतान किया गया है, तो सोहम का वेतन ज्ञात करें।

Options :

1. ✓ ₹ 740

2. ✖ ₹ 760

3. ✖ ₹ 840

4. ✖ ₹ 860

Question Number : 115 Question Id : 9983676939 Question Type : MCQ Option Shuffling : Yes

Correct Marks : 1 Wrong Marks : 0.25

A, B and C accepted a job for ₹ 3,400. A and B together finished $\frac{12}{17}$ of the job. B and C together finished $\frac{8}{17}$ of the job. How much salary does B get?

Options :

1. ✖ ₹ 500

2. ✖ ₹ 800

3. ✔ ₹ 600

4. ✖ ₹ 900

Question Number : 115 Question Id : 9983676939 Question Type : MCQ Option Shuffling : Yes

Correct Marks : 1 Wrong Marks : 0.25

A, B और C ने ₹ 3,400 के लिए एक काम पकड़ लिया। A और B दोनों ने मिलकर काम का $\frac{12}{17}$ भाग पूरा कर दिया। B और C ने मिलकर काम का $\frac{8}{17}$ भाग पूरा कर दिया। B को कितना वेतन मिलता है?

Options :

1. ✖ ₹ 500

2. ✖ ₹ 800

3. ✔ ₹ 600

4. ✖ ₹ 900

Question Number : 116 Question Id : 9983676940 Question Type : MCQ Option Shuffling : Yes

Correct Marks : 1 Wrong Marks : 0.25

A man drives his car at $\frac{3}{4}$ of his original speed and reaches his destination 1 hour later than the usual time. Find the usual time he takes to reach his destination.

Options :

1. ✔ 3 hours

2. ✖ 2 hours

3. ✖ 5 hours

4. ✖ 4 hours

Question Number : 116 Question Id : 9983676940 Question Type : MCQ Option Shuffling : Yes

Correct Marks : 1 Wrong Marks : 0.25

एक व्यक्ति गाड़ी की वास्तविक गति से $\frac{3}{4}$ गति पर गाड़ी चलाता है और अपनी मंज़िल पर सामान्य से 1 घंटा देरी से पहुँचता है। ज्ञात करें उसे अपनी मंज़िल तक पहुँचने में सामान्य कितना समय लगता है?

Options :

1. ✔ 3 घंटे

2. ✖ 2 घंटे

3. ✖ 5 घंटे

4. ✖ 4 घंटे

Question Number : 117 Question Id : 9983676941 Question Type : MCQ Option Shuffling : Yes

Correct Marks : 1 Wrong Marks : 0.25

In a flight of 800 km, an aircraft was slowed down due to bad weather. Its average speed for the journey was reduced by 100 km/h, due to which the time of flight got increased by 24 minutes. The duration of the flight was:

Options :

1. ✖ 2 hours

2. ✔ 1 hour 36 minutes

3. ✖ 1 hour 45 minutes

4. ✖ 1 hour 20 minutes

Question Number : 117 Question Id : 9983676941 Question Type : MCQ Option Shuffling : Yes

Correct Marks : 1 Wrong Marks : 0.25

800 km के सफर में, खराब मौसम की वजह से एक हवाईजहाज की रफ्तार धीमी की गई। सफर की उसकी औसत गति 100 km/h कम हो गई, जिसकी वजह से सफर 24 मिनट और लंबा हो गया। सफर की अवधि ज्ञात करें।

Options :

1. ✖ 2 घंटे

2. ✔ 1 घंटा 36 मिनट

3. ✖ 1 घंटा 45 मिनट

4. ✖ 1 घंटा 20 मिनट

Question Number : 118 Question Id : 9983676942 Question Type : MCQ Option Shuffling : Yes

Correct Marks : 1 Wrong Marks : 0.25

A man walking at the rate of 5 m/s takes 70 minutes to reach his destination. How much time will he take to travel the same distance if he runs at the rate of 30 km/h?

Options :

1. ✔ 42 minutes

2. ✖ 40 minutes

3. ✖ 30 minutes

4. ✖ 1 hour

Question Number : 118 Question Id : 9983676942 Question Type : MCQ Option Shuffling : Yes

Correct Marks : 1 Wrong Marks : 0.25

एक व्यक्ति को 5 m/s की दर से चलते हुए अपनी मंज़िल तक पहुँचने में 70 मिनट लगते हैं। यदि वह 30 km/h की दर से दौड़ता है, तो उसे वही दूरी तय करने में कितना समय लगेगा?

Options :

1. ✔ 42 मिनट

2. ✖ 40 मिनट

3. ✖ 30 मिनट

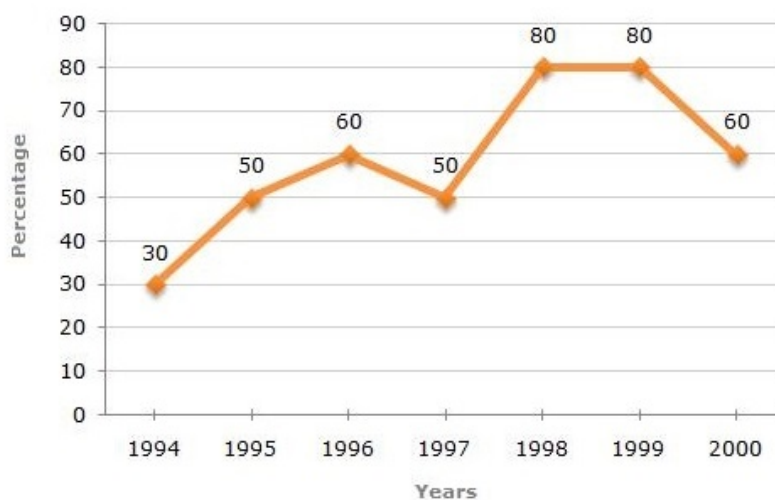
4. ✖ 1 घंटा

Question Number : 119 Question Id : 9983676943 Question Type : MCQ Option Shuffling : Yes

Correct Marks : 1 Wrong Marks : 0.25

The following line graph gives the percentage of the number of candidates who passed an examination out of the total number of candidates who appeared for the examination over a period of 7 years from 1994 to 2000.

Percentage of candidates who passed out of those who appeared in the examination over the years



The total number of candidates who passed in 1997 and 1998 combined was 28600, and the number of candidates who appeared in 1998 was 24500. How many candidates appeared for the examination in 1997?

Options :

1. ✓ 18,000

2. ✗ 16,000

3. ✗ 18,500

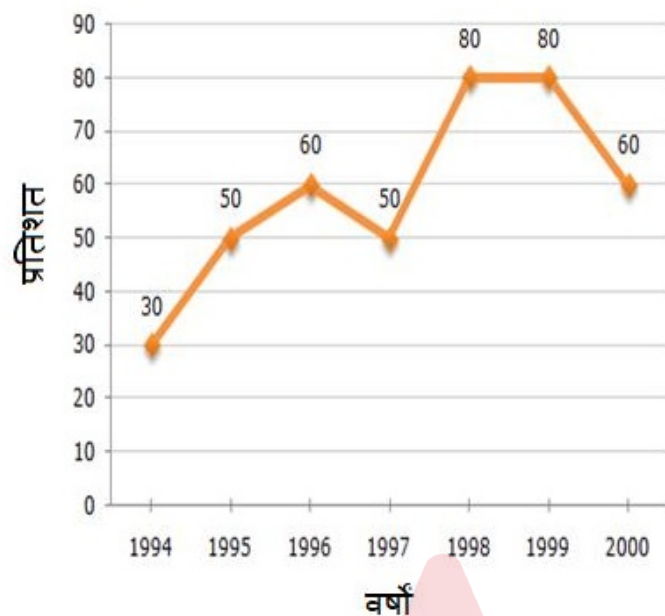
4. ✗ 16,500

Question Number : 119 Question Id : 9983676943 Question Type : MCQ Option Shuffling : Yes

Correct Marks : 1 Wrong Marks : 0.25

निम्न रेखा ग्राफ 1994 से 2000 तक 7 सालों की अवधि के बीच परीक्षा में बैठे कुल परीक्षार्थियों में से परीक्षा में उत्तीर्ण हुए परीक्षार्थियों की संख्या का प्रतिशत दर्शाता है।

दिए गए वर्षों में, परीक्षा में बैठे और उत्तीर्ण हुए परीक्षार्थियों का प्रतिशत



1997 और 1998 दोनों सालों को मिलाकर कुल 28600 परीक्षार्थी उत्तीर्ण हुए थे और 1998 में परीक्षा में बैठे परीक्षार्थियों की संख्या 24500 थी। 1997 में कितने परीक्षार्थी, परीक्षा में बैठे थे?

Options :

1. ✓ 18,000

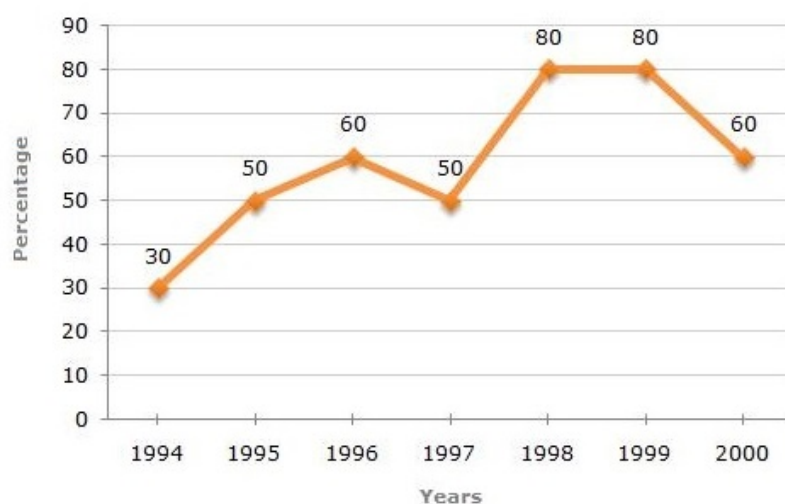
2. ✗ 16,000

3. ✗ 18,500

4. ✗ 16,500

The following line graph gives the percentage of the number of candidates who passed an examination out of the total number of candidates who appeared for the examination over a period of 7 years from 1994 to 2000.

Percentage of candidates who passed out of those who appeared in the examination over the years



If the number of candidates who appeared in 1996 was 32800 and in 1995 was 26400, then how many more candidates passed in 1996 than in 1995?

Options :

1. ✗ 6840

2. ✓ 6480

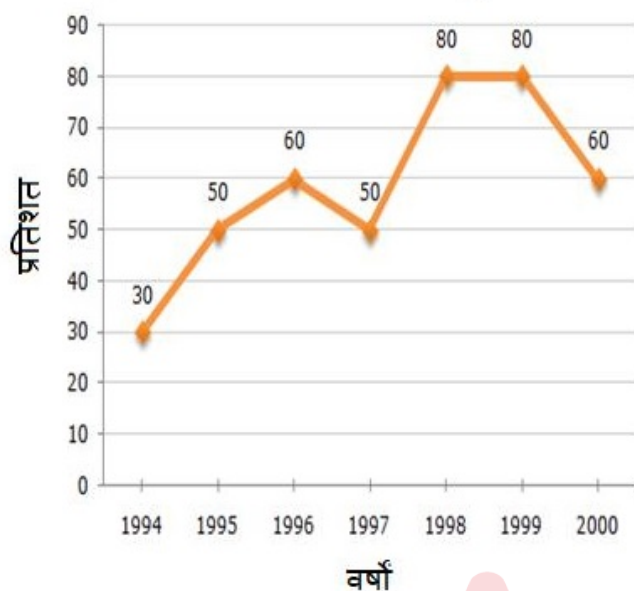
3. ✗ 6580

4. ✗ 6550

Question Number : 120 Question Id : 9983676944 Question Type : MCQ Option Shuffling : Yes
Correct Marks : 1 Wrong Marks : 0.25

निम्न रेखा ग्राफ 1994 से 2000 तक 7 सालों की अवधि के बीच परीक्षा में बैठे कुल परीक्षार्थियों में से परीक्षा में उत्तीर्ण हुए परीक्षार्थियों की संख्या का प्रतिशत दर्शाता है।

दिए गए वर्षों में, परीक्षा में बैठे और उत्तीर्ण हुए परीक्षार्थियों का प्रतिशत



यदि 1996 में परीक्षा में बैठने वाले परीक्षार्थियों की संख्या 32800 थी और 1995 में 26400 थी, तो 1995 की तुलना में 1996 में कितने परीक्षार्थी उत्तीर्ण हुए?

Options :

1. ✗ 6840

2. ✓ 6480

3. ✗ 6580

4. ✗ 6550

General English1

Group Number :

7

Group Id :

998367293

Group Maximum Duration :

0

Group Minimum Duration :

0

Show Attended Group? :	No
Edit Attended Group? :	No
Break time:	0
Group Marks:	20
Is this Group for Examiner?:	No
Revisit allowed for group Instructions? :	Yes
Maximum Instruction Time:	0
Minimum Instruction Time:	0

General English1

Section Id :	998367299
Section Number :	1
Section type :	Online
Mandatory or Optional:	Mandatory
Number of Questions:	20
Number of Questions to be attempted:	20
Section Marks:	20

Sub-Section Number:	1
Sub-Section Id:	998367431
Question Shuffling Allowed :	Yes

Question Number : 121 Question Id : 9983676945 Question Type : MCQ Option Shuffling : Yes
Correct Marks : 1 Wrong Marks : 0.25

Fill in the blank with the most appropriate option.

_____ her son nor her grandson believed her when she told them her story.

Options :

- 1. ✖ So
- 2. ✖ Both
- 3. ✖ Either
- 4. ✔ Neither

Question Number : 121 Question Id : 9983676945 Question Type : MCQ Option Shuffling : Yes
Correct Marks : 1 Wrong Marks : 0.25

Fill in the blank with the most appropriate option.

_____ her son nor her grandson believed her when she told them her story.

Options :

1. ✖ So
2. ✖ Both
3. ✖ Either
4. ✔ Neither

Question Number : 122 Question Id : 9983676946 Question Type : MCQ Option Shuffling : Yes

Correct Marks : 1 Wrong Marks : 0.25

Fill in the blank with the most appropriate option.

We enjoyed the gondola ride _____ the long waiting time for tickets.

Options :

1. ✖ even though
2. ✖ although
3. ✔ despite
4. ✖ however

Question Number : 122 Question Id : 9983676946 Question Type : MCQ Option Shuffling : Yes

Correct Marks : 1 Wrong Marks : 0.25

Fill in the blank with the most appropriate option.

We enjoyed the gondola ride _____ the long waiting time for tickets.

Options :

1. ✖ even though
2. ✖ although
3. ✔ despite
4. ✖ however

Question Number : 123 Question Id : 9983676947 Question Type : MCQ Option Shuffling : Yes
Correct Marks : 1 Wrong Marks : 0.25

Fill in the blank with the most appropriate phrase.

The young actor's lung cancer was _____ by many years of smoking.

Options :

1. ✔ brought on
2. ✖ brought up
3. ✖ brought out
4. ✖ brought off

Question Number : 123 Question Id : 9983676947 Question Type : MCQ Option Shuffling : Yes
Correct Marks : 1 Wrong Marks : 0.25

Fill in the blank with the most appropriate phrase.

The young actor's lung cancer was _____ by many years of smoking.

Options :

1. ✔ brought on
2. ✖ brought up
3. ✖ brought out
4. ✖ brought off

Question Number : 124 Question Id : 9983676948 Question Type : MCQ Option Shuffling : Yes
Correct Marks : 1 Wrong Marks : 0.25

Fill in the blank with the most appropriate phrase.

My best friend and I went to college in different cities and slowly found ourselves _____ though I tried to get close to him again.

Options :

1. ✖ feeling apart
2. ✔ drifting apart
3. ✖ being apart
4. ✖ walking apart

Question Number : 124 Question Id : 9983676948 Question Type : MCQ Option Shuffling : Yes
Correct Marks : 1 Wrong Marks : 0.25

Fill in the blank with the most appropriate phrase.

My best friend and I went to college in different cities and slowly found ourselves _____ though I tried to get close to him again.

Options :

1. ✖ feeling apart
2. ✔ drifting apart
3. ✖ being apart
4. ✖ walking apart

Question Number : 125 Question Id : 9983676949 Question Type : MCQ Option Shuffling : Yes
Correct Marks : 1 Wrong Marks : 0.25

Fill in the blank with the most appropriate idiom.

Rashmi was quite distraught after the tragic accident. I tried my best to get her to _____.

Options :

1. ✖ break the ice
2. ✔ pull herself together
3. ✖ throw caution to the wind
4. ✖ let sleeping dogs lie

Question Number : 125 Question Id : 9983676949 Question Type : MCQ Option Shuffling : Yes
Correct Marks : 1 Wrong Marks : 0.25

Fill in the blank with the most appropriate idiom.

Rashmi was quite distraught after the tragic accident. I tried my best to get her to _____.

Options :

1. ✖ break the ice
2. ✔ pull herself together
3. ✖ throw caution to the wind
4. ✖ let sleeping dogs lie

Question Number : 126 Question Id : 9983676950 Question Type : MCQ Option Shuffling : Yes
Correct Marks : 1 Wrong Marks : 0.25

Fill in the blank with the most appropriate option.

A young woman _____ in a black silk saree was waiting near the gate for us.

Options :

1. ✖ had dressed

2. ✖ dressing

3. ✖ dresses

4. ✔ dressed

Question Number : 126 Question Id : 9983676950 Question Type : MCQ Option Shuffling : Yes
Correct Marks : 1 Wrong Marks : 0.25

Fill in the blank with the most appropriate option.

A young woman _____ in a black silk saree was waiting near the gate for us.

Options :

1. ✖ had dressed

2. ✖ dressing

3. ✖ dresses

4. ✔ dressed

Question Number : 127 Question Id : 9983676951 Question Type : MCQ Option Shuffling : Yes
Correct Marks : 1 Wrong Marks : 0.25

Fill in the blank with the most appropriate option.

My daughter _____ outside while the optician was testing my eyes.

Options :

1. ✔ waited

2. ✖ is waiting

3. ✖ has waited

4. ✖ has been waiting

Question Number : 127 Question Id : 9983676951 Question Type : MCQ Option Shuffling : Yes
Correct Marks : 1 Wrong Marks : 0.25

Fill in the blank with the most appropriate option.

My daughter _____ outside while the optician was testing my eyes.

Options :

1. ✓ waited
2. ✗ is waiting
3. ✗ has waited
4. ✗ has been waiting

Question Number : 128 Question Id : 9983676952 Question Type : MCQ Option Shuffling : Yes
Correct Marks : 1 Wrong Marks : 0.25

Fill in the blank with the most appropriate option.

Since 2017, my sister and I _____ to make a trip to Eastern Europe.

Options :

1. ✗ is being planned
2. ✗ has planned
3. ✗ are planned
4. ✓ have been planning

Question Number : 128 Question Id : 9983676952 Question Type : MCQ Option Shuffling : Yes
Correct Marks : 1 Wrong Marks : 0.25

Fill in the blank with the most appropriate option.

Since 2017, my sister and I _____ to make a trip to Eastern Europe.

Options :

1. ✖ is being planned
2. ✖ has planned
3. ✖ are planned
4. ✔ have been planning

Question Number : 129 Question Id : 9983676953 Question Type : MCQ Option Shuffling : Yes
Correct Marks : 1 Wrong Marks : 0.25

Fill in the blank with the most appropriate word.

You cannot join us as a teacher _____ you sign a contract.

Options :

1. ✖ if
2. ✔ unless
3. ✖ because
4. ✖ however

Question Number : 129 Question Id : 9983676953 Question Type : MCQ Option Shuffling : Yes
Correct Marks : 1 Wrong Marks : 0.25

Fill in the blank with the most appropriate word.

You cannot join us as a teacher _____ you sign a contract.

Options :

1. ✖ if
2. ✔ unless
3. ✖ because
4. ✖ however

Question Number : 130 Question Id : 9983676954 Question Type : MCQ Option Shuffling : Yes
Correct Marks : 1 Wrong Marks : 0.25

Fill in the blank with the most appropriate option.

The person _____ I am working on this project is a very senior colleague.

Options :

1. ✖ for who
2. ✖ with them
3. ✔ with whom
4. ✖ to whom

Question Number : 130 Question Id : 9983676954 Question Type : MCQ Option Shuffling : Yes
Correct Marks : 1 Wrong Marks : 0.25

Fill in the blank with the most appropriate option.

The person _____ I am working on this project is a very senior colleague.

Options :

1. ✖ for who
2. ✖ with them
3. ✔ with whom
4. ✖ to whom

Question Number : 131 Question Id : 9983676955 Question Type : MCQ Option Shuffling : Yes
Correct Marks : 1 Wrong Marks : 0.25

Select the option that expresses the given sentence in reported speech.

The minister, who was late, said, “I’m really sorry to have kept you waiting. Bad weather delayed my flight.”

Options :

1. ✓ The minister, who was late, apologised for having kept us waiting. He explained that bad weather had delayed his flight.
2. ✖ The minister apologised for being late, and said he was really sorry to have kept us waiting. It is bad weather that would delay his flight.
3. ✖ The minister, who was late, was apologised for having kept us waiting. He told us that it was bad weather that had delayed his flight.
4. ✖ The minister, who was late, said that he is really sorry to have kept us waiting. Bad weather delayed his flight.

Question Number : 131 Question Id : 9983676955 Question Type : MCQ Option Shuffling : Yes

Correct Marks : 1 Wrong Marks : 0.25

Select the option that expresses the given sentence in reported speech.

The minister, who was late, said, "I'm really sorry to have kept you waiting. Bad weather delayed my flight."

Options :

1. ✓ The minister, who was late, apologised for having kept us waiting. He explained that bad weather had delayed his flight.
2. ✖ The minister apologised for being late, and said he was really sorry to have kept us waiting. It is bad weather that would delay his flight.

3. ✖ The minister, who was late, was apologised for having kept us waiting. He told us that it was bad weather that had delayed his flight.
4. ✖ The minister, who was late, said that he is really sorry to have kept us waiting. Bad weather delayed his flight.

Question Number : 132 Question Id : 9983676956 Question Type : MCQ Option Shuffling : Yes
Correct Marks : 1 Wrong Marks : 0.25

Select the option that expresses the given sentence in reported speech.

Rohit said, "Are you not being hasty in taking the decision to give up your job? If I were you I would think carefully before quitting."

Options :

1. ✖ Rohit said to me if I was not being hasty in taking the decision to give up my job. He further says that if he were in my place he will have thought carefully before quitting.
2. ✖ Rohit asked me not to be hasty in taking the decision to give up my job. He also remarked that if I were in your place I would have thought carefully before quitting.
3. ✔ Rohit asked me if I was not being hasty in taking the decision to give up my job. He further remarked that if he were in my place he would have thought carefully before quitting.
4. ✖ Rohit questions me if I was not being hasty in taking the decision to give up my job. He further said that if he were in my place he would have thought carefully before quitting.

Question Number : 132 Question Id : 9983676956 Question Type : MCQ Option Shuffling : Yes

Correct Marks : 1 Wrong Marks : 0.25

Select the option that expresses the given sentence in reported speech.

Rohit said, "Are you not being hasty in taking the decision to give up your job? If I were you I would think carefully before quitting."

Options :

1. ✖ Rohit said to me if I was not being hasty in taking the decision to give up my job. He further says that if he were in my place he will have thought carefully before quitting.
2. ✖ Rohit asked me not to be hasty in taking the decision to give up my job. He also remarked that if I were in your place I would have thought carefully before quitting.
3. ✔ Rohit asked me if I was not being hasty in taking the decision to give up my job. He further remarked that if he were in my place he would have thought carefully before quitting.
4. ✖ Rohit questions me if I was not being hasty in taking the decision to give up my job. He further said that if he were in my place he would have thought carefully before quitting.

Question Number : 133 Question Id : 9983676957 Question Type : MCQ Option Shuffling : Yes

Correct Marks : 1 Wrong Marks : 0.25

Fill in the blank with the most appropriate option.

Rama doesn't work in a multinational company, _____?

Options :

1. ✓ does she
2. ✗ doesn't she
3. ✗ isn't she
4. ✗ is she

Question Number : 133 Question Id : 9983676957 Question Type : MCQ Option Shuffling : Yes
Correct Marks : 1 Wrong Marks : 0.25

Fill in the blank with the most appropriate option.

Rama doesn't work in a multinational company, _____?

Options :

1. ✓ does she
2. ✗ doesn't she
3. ✗ isn't she
4. ✗ is she

Question Number : 134 Question Id : 9983676958 Question Type : MCQ Option Shuffling : Yes
Correct Marks : 1 Wrong Marks : 0.25

Select the option that expresses the given sentence in passive voice.

The junior cricket team had planned to participate in the coaching camp but had to drop the plan due to clash in dates.

Options :

1. ✗ The junior cricket team was planning to participate in the coaching camp but had to be dropped due to clash in dates.

2. ✓ It had been planned by the junior cricket team that they would participate in the coaching camp but the plan had to be dropped due to clash in dates.

3. ✖ The junior cricket team had been planning to participate in the coaching camp but had dropped the plan due to clash in dates.

4. ✖ The junior cricket team was planning to participate in the coaching camp but had to drop it due to clash in dates.

Question Number : 134 Question Id : 9983676958 Question Type : MCQ Option Shuffling : Yes
Correct Marks : 1 Wrong Marks : 0.25

Select the option that expresses the given sentence in passive voice.

The junior cricket team had planned to participate in the coaching camp but had to drop the plan due to clash in dates.

Options :

1. ✖ The junior cricket team was planning to participate in the coaching camp but had to be dropped due to clash in dates.

2. ✓ It had been planned by the junior cricket team that they would participate in the coaching camp but the plan had to be dropped due to clash in dates.

3. ✖ The junior cricket team had been planning to participate in the coaching camp but had dropped the plan due to clash in dates.

4. ✖ The junior cricket team was planning to participate in the coaching camp but had to drop it due to clash in dates.

Question Number : 135 Question Id : 9983676959 Question Type : MCQ Option Shuffling : Yes

Correct Marks : 1 Wrong Marks : 0.25

Select the option that expresses the given sentence in passive voice.

I would have helped you if I had seen some politeness in your request instead of this rude behavior.

Options :

1. ✖ You had been helped if I had seen some politeness in your request instead of this rude behavior.
2. ✖ I would have been helped by you if I had seen some politeness in your request instead of this rude behavior.
3. ✖ I would be helping you if I had seen some politeness in your request instead of this rude behavior.
4. ✔ You would have been helped if some politeness had been seen in your request, instead of this rude behavior.

Question Number : 135 Question Id : 9983676959 Question Type : MCQ Option Shuffling : Yes

Correct Marks : 1 Wrong Marks : 0.25

Select the option that expresses the given sentence in passive voice.

I would have helped you if I had seen some politeness in your request instead of this rude behavior.

Options :

1. ✖ You had been helped if I had seen some politeness in your request instead of this rude behavior.

2. ✖ I would have been helped by you if I had seen some politeness in your request instead of this rude behavior.
3. ✖ I would be helping you if I had seen some politeness in your request instead of this rude behavior.
4. ✔ You would have been helped if some politeness had been seen in your request, instead of this rude behavior.

Question Number : 136 Question Id : 9983676960 Question Type : MCQ Option Shuffling : Yes
Correct Marks : 1 Wrong Marks : 0.25

In the sentence given below, four words/phrases have been underlined. Select the words/phrase that contains an error.

It was a great day for the Indian Military then the foundation stone for the National Defence Academy was laid on 6 October 1949 by the then Prime Minister of India, Jawaharlal Nehru.

Options :

1. ✖ It was a great day
2. ✔ then the foundation stone
3. ✖ for the National Defence Academy was laid on
4. ✖ by the then Prime Minister

Question Number : 136 Question Id : 9983676960 Question Type : MCQ Option Shuffling : Yes
Correct Marks : 1 Wrong Marks : 0.25

In the sentence given below, four words/phrases have been underlined. Select the words/phrase that contains an error.

It was a great day for the Indian Military then the foundation stone for the National Defence Academy was laid on 6 October 1949 by the then Prime Minister of India, Jawaharlal Nehru.

Options :

1. ✖ It was a great day
2. ✔ then the foundation stone
3. ✖ for the National Defence Academy was laid on
4. ✖ by the then Prime Minister

Question Number : 137 Question Id : 9983676961 Question Type : MCQ Option Shuffling : Yes

Correct Marks : 1 Wrong Marks : 0.25

In the sentence given below, four words/phrases have been underlined. Select the words/phrase that contains an error.

He went to Shimla again there because he wanted to relive memories of his stay.

Options :

1. ✖ went to Shimla
2. ✔ again there because
3. ✖ to relive memories
4. ✖ of his stay

Question Number : 137 Question Id : 9983676961 Question Type : MCQ Option Shuffling : Yes

Correct Marks : 1 Wrong Marks : 0.25

In the sentence given below, four words/phrases have been underlined. Select the words/phrase that contains an error.

He went to Shimla again there because he wanted to relive memories of his stay.

Options :

1. ✖ went to Shimla
2. ✔ again there because
3. ✖ to relive memories
4. ✖ of his stay

Question Number : 138 Question Id : 9983676962 Question Type : MCQ Option Shuffling : Yes
Correct Marks : 1 Wrong Marks : 0.25

In the sentence given below, four words/phrases have been underlined. Select the words/phrase that contains an error.

After I saw the movie I was so impressed by the characters portrayed in it, I decided that to buy the book.

Options :

1. ✖ saw the movie
2. ✖ was so impressed
3. ✖ I decided
4. ✔ that to buy

Question Number : 138 Question Id : 9983676962 Question Type : MCQ Option Shuffling : Yes
Correct Marks : 1 Wrong Marks : 0.25

In the sentence given below, four words/phrases have been underlined. Select the words/phrase that contains an error.

After I saw the movie I was so impressed by the characters portrayed in it, I decided that to buy the book.

Options :

1. ✖ saw the movie
2. ✖ was so impressed
3. ✖ I decided
4. ✔ that to buy

Question Number : 139 Question Id : 9983676963 Question Type : MCQ Option Shuffling : Yes

Correct Marks : 1 Wrong Marks : 0.25

Identify the best way to improve the underlined part of the given sentence. If there is no improvement required, select 'no improvement required'.

Even though I says I'm unable to accompany her to the market, Aanya insisted I should go with her.

Options :

1. ✖ said my inability
2. ✔ expressed my inability
3. ✖ was expressing to be unable
4. ✖ No improvement required

Question Number : 139 Question Id : 9983676963 Question Type : MCQ Option Shuffling : Yes

Correct Marks : 1 Wrong Marks : 0.25

Identify the best way to improve the underlined part of the given sentence. If there is no improvement required, select 'no improvement required'.

Even though I says I'm unable to accompany her to the market, Aanya insisted I should go with her.

Options :

1. ✖ said my inability
2. ✔ expressed my inability
3. ✖ was expressing to be unable
4. ✖ No improvement required

Question Number : 140 Question Id : 9983676964 Question Type : MCQ Option Shuffling : Yes
Correct Marks : 1 Wrong Marks : 0.25

Identify the best way to improve the underlined part of the given sentence. If there is no improvement required, select 'no improvement is required'.

My university exams are beginning on 15th May, so I cannot afford to waste time now.

Options :

1. ✖ would not afford
2. ✖ am not affording
3. ✖ will not affords
4. ✔ No improvement is required

Question Number : 140 Question Id : 9983676964 Question Type : MCQ Option Shuffling : Yes
Correct Marks : 1 Wrong Marks : 0.25

Identify the best way to improve the underlined part of the given sentence. If there is no improvement required, select ‘no improvement is required’.

My university exams are beginning on 15th May, so I cannot afford to waste time now.

Options :

- 1. ✖ would not afford
- 2. ✖ am not affording
- 3. ✖ will not affords
- 4. ✔ No improvement is required

General English2

Group Number :	8
Group Id :	998367294
Group Maximum Duration :	0
Group Minimum Duration :	0
Show Attended Group? :	No
Edit Attended Group? :	No
Break time:	0
Group Marks:	20
Is this Group for Examiner?:	No
Revisit allowed for group Instructions? :	Yes
Maximum Instruction Time:	0
Minimum Instruction Time:	0

General English2

Section Id :	998367300
Section Number :	1
Section type :	Online
Mandatory or Optional:	Mandatory
Number of Questions:	12
Number of Questions to be attempted:	12
Section Marks:	20

Sub-Section Number:	1
---------------------	---

Sub-Section Id: 998367432
Question Shuffling Allowed : Yes

Question Number : 141 Question Id : 9983676965 Question Type : MCQ Option Shuffling : Yes
Correct Marks : 1 Wrong Marks : 0.25

Identify the most appropriate synonym of the underlined word.

Listening to recordings a few times is a method that works best for people who memorise audio information better.

Options :

1. ✖ understand
2. ✖ forget
3. ✔ retain
4. ✖ categorise

Question Number : 141 Question Id : 9983676965 Question Type : MCQ Option Shuffling : Yes
Correct Marks : 1 Wrong Marks : 0.25

Identify the most appropriate synonym of the underlined word.

Listening to recordings a few times is a method that works best for people who memorise audio information better.

Options :

1. ✖ understand
2. ✖ forget
3. ✔ retain
4. ✖ categorise

Question Number : 142 Question Id : 9983676966 Question Type : MCQ Option Shuffling : Yes
Correct Marks : 1 Wrong Marks : 0.25

Identify the most appropriate synonym of the underlined word.

Changing your Wi-Fi password frequently resets your router's security, keeping away malicious hackers.

Options :

1. ✓ wicked
2. ✗ harmless
3. ✗ envious
4. ✗ obvious

Question Number : 142 Question Id : 9983676966 Question Type : MCQ Option Shuffling : Yes

Correct Marks : 1 Wrong Marks : 0.25

Identify the most appropriate synonym of the underlined word.

Changing your Wi-Fi password frequently resets your router's security, keeping away malicious hackers.

Options :

1. ✓ wicked
2. ✗ harmless
3. ✗ envious
4. ✗ obvious

Question Number : 143 Question Id : 9983676967 Question Type : MCQ Option Shuffling : Yes

Correct Marks : 1 Wrong Marks : 0.25

Identify the most appropriate synonym of the underlined word.

The diminutive and weak-looking speaker attracted listeners with her powerful speech.

Options :

1. ✖ sick
2. ✖ agile
3. ✔ small
4. ✖ nervous

Question Number : 143 Question Id : 9983676967 Question Type : MCQ Option Shuffling : Yes

Correct Marks : 1 Wrong Marks : 0.25

Identify the most appropriate synonym of the underlined word.

The diminutive and weak-looking speaker attracted listeners with her powerful speech.

Options :

1. ✖ sick
2. ✖ agile
3. ✔ small
4. ✖ nervous

Question Number : 144 Question Id : 9983676968 Question Type : MCQ Option Shuffling : Yes

Correct Marks : 1 Wrong Marks : 0.25

Identify the most appropriate synonym of the underlined word.

The snail lodged itself in a crevice among the boulders and stayed there throughout the night.

Options :

1. ✖ corner
2. ✔ crack
3. ✖ side
4. ✖ gash

Question Number : 144 Question Id : 9983676968 Question Type : MCQ Option Shuffling : Yes

Correct Marks : 1 Wrong Marks : 0.25

Identify the most appropriate synonym of the underlined word.

The snail lodged itself in a crevice among the boulders and stayed there throughout the night.

Options :

1. ✖ corner
2. ✔ crack
3. ✖ side
4. ✖ gash

Question Number : 145 Question Id : 9983676969 Question Type : MCQ Option Shuffling : Yes

Correct Marks : 1 Wrong Marks : 0.25

Identify the most appropriate synonym of the underlined word.

The earthquake in Nepal caused extensive damage and devastation.

Options :

1. ✓ destruction
2. ✗ slaughter
3. ✗ conservation
4. ✗ diversion

Question Number : 145 Question Id : 9983676969 Question Type : MCQ Option Shuffling : Yes
Correct Marks : 1 Wrong Marks : 0.25

Identify the most appropriate synonym of the underlined word.

The earthquake in Nepal caused extensive damage and devastation.

Options :

1. ✓ destruction
2. ✗ slaughter
3. ✗ conservation
4. ✗ diversion

Question Number : 146 Question Id : 9983676970 Question Type : MCQ Option Shuffling : Yes
Correct Marks : 1 Wrong Marks : 0.25

Identify the most appropriate ANTONYM of the underlined word.

The candidate could not win over people as his speech was eloquent.

Options :

1. ✗ amiable
2. ✗ charming
3. ✗ perfect

4. ✓ ineffective

Question Number : 146 Question Id : 9983676970 Question Type : MCQ Option Shuffling : Yes

Correct Marks : 1 Wrong Marks : 0.25

Identify the most appropriate ANTONYM of the underlined word.

The candidate could not win over people as his speech was eloquent.

Options :

1. ✗ amiable

2. ✗ charming

3. ✗ perfect

4. ✓ ineffective

Question Number : 147 Question Id : 9983676971 Question Type : MCQ Option Shuffling : Yes

Correct Marks : 1 Wrong Marks : 0.25

Identify the most appropriate ANTONYM of the underlined word.

Because of his odious behavior, he could not make friends.

Options :

1. ✗ confusing

2. ✓ delightful

3. ✗ abhorrent

4. ✗ detestable

Question Number : 147 Question Id : 9983676971 Question Type : MCQ Option Shuffling : Yes

Correct Marks : 1 Wrong Marks : 0.25

Identify the most appropriate ANTONYM of the underlined word.

Because of his odious behavior, he could not make friends.

Options :

1. ✖ confusing
2. ✔ delightful
3. ✖ abhorrent
4. ✖ detestable

Question Number : 148 Question Id : 9983676972 Question Type : MCQ Option Shuffling : Yes
Correct Marks : 1 Wrong Marks : 0.25

Identify the most appropriate ANTONYM of the underlined word.

The romantic setting was just right for shooting the scene.

Options :

1. ✖ pensive
2. ✖ beautiful
3. ✖ mysterious
4. ✔ realistic

Question Number : 148 Question Id : 9983676972 Question Type : MCQ Option Shuffling : Yes
Correct Marks : 1 Wrong Marks : 0.25

Identify the most appropriate ANTONYM of the underlined word.

The romantic setting was just right for shooting the scene.

Options :

1. ✖ pensive
2. ✖ beautiful
3. ✖ mysterious
4. ✔ realistic

Question Number : 149 Question Id : 9983676973 Question Type : MCQ Option Shuffling : Yes
Correct Marks : 1 Wrong Marks : 0.25

Identify the most appropriate ANTONYM of the underlined word.

The amateurish handling of the project by the team of managers really surprised me.

Options :

1. ✖ inept
2. ✔ competent
3. ✖ prompt
4. ✖ remarkable

Question Number : 149 Question Id : 9983676973 Question Type : MCQ Option Shuffling : Yes
Correct Marks : 1 Wrong Marks : 0.25

Identify the most appropriate ANTONYM of the underlined word.

The amateurish handling of the project by the team of managers really surprised me.

Options :

1. ✖ inept
2. ✔ competent

3. ✖ prompt

4. ✖ remarkable

Question Number : 150 Question Id : 9983676974 Question Type : MCQ Option Shuffling : Yes
Correct Marks : 1 Wrong Marks : 0.25

Select the most appropriate phrase to fill in the blank.

The farmers are determined to _____ for their rights.

Options :

1. ✖ stand over

2. ✖ stand by

3. ✖ stand out

4. ✔ stand up

Question Number : 150 Question Id : 9983676974 Question Type : MCQ Option Shuffling : Yes
Correct Marks : 1 Wrong Marks : 0.25

Select the most appropriate phrase to fill in the blank.

The farmers are determined to _____ for their rights.

Options :

1. ✖ stand over

2. ✖ stand by

3. ✖ stand out

4. ✔ stand up

Sub-Section Number: 2
Sub-Section Id: 998367433
Question Shuffling Allowed : Yes

Question Id : 9983676975 Question Type : COMPREHENSION Sub Question Shuffling Allowed : Yes Group Comprehension
Questions : No
Question Numbers : (151 to 155)

Question Label : Comprehension



Read the passage and answer the questions that follow.

No standardised tests, no private schools, no stress. Finland's education system is consistently ranked best in the world. Why isn't America copying it? Time and time again, American students continually rank near the middle or bottom among industrialised nations when it comes to performance in math and science. The Program for International Student Assessment (PISA) which in conjunction with the Organization for Economic Cooperation and Development (OECD) routinely releases data which shows that Americans are seriously lagging behind in a number of educational performance assessments.

Despite calls for education reform and a continual lacklustre performance on the international scale, not a lot is being done or changing within the educational system. Many private and public schools run on the same antiquated systems and schedules that were once conducive to an agrarian society. The mechanisation and rigid assembly-line methods we use today are spitting out ill-prepared worker clones, rudderless adults and an uninformed populace. But no amount of pontificating will change what we already know. The American education system needs to be completely revamped – from the first grade to the Ph.D. It's going to take a lot more than a well-meaning celebrity project to do that.

Many people are familiar with the stereotype of the hard-working, rote memorisation, myopic tunnel vision of Eastern Asian study and work ethics. Many of these countries, like China, Singapore, and Japan amongst others routinely rank in the number one spots in both, math and science.

Some pundits point towards this model of exhaustive brain draining as something Americans should aspire to become. Work more! Study harder! Live less. The facts and figures don't lie – these countries are outperforming us, but there might be a better and healthier way to go about this.

Finland is the answer – a country rich in intellectual and educational reform has initiated over the years a number of novel and simple changes that have completely revolutionised their educational system. They outrank the United States and are gaining on Eastern Asian countries.

Are they cramming in dimly-lit rooms on robotic schedules? Nope. Stressing over standardised tests enacted by the government? No way. Finland is leading the way because of common-sense practices and a holistic teaching environment that strives for equity over excellence. Staying in line with our print-minded sensibilities, standardised testing is the blanket way we test for subject comprehension. Filling in little bubbles on a scantron and answering pre-scanned questions is somehow supposed to be a way to determine mastery or at least competence of a subject. Students often learn to cram just to pass a test and teachers teach with the sole purpose of students passing a test. Learning has been thrown out of the equation.

Finland has no standardised tests. All children throughout Finland are graded on an individualised basis and grading system set by their teacher and take a voluntary test at the end of upper-secondary school.

Sub questions

Question Number : 151 Question Id : 9983676976 Question Type : MCQ Option Shuffling : Yes
Correct Marks : 1 Wrong Marks : 0.25

What is wrong with the education system of the US?

Options :

1. ✖ There are no tests to measure how students are performing
2. ✖ Students are getting individualised lessons as per their needs
3. ✖ Students pass tests that determine how well they have learnt concepts
4. ✔ The mechanisation and rigid method of treating students as if they are in an assembly line

Question Number : 152 Question Id : 9983676977 Question Type : MCQ Option Shuffling : Yes
Correct Marks : 1 Wrong Marks : 0.25

What is the writer's appeal?

Options :

1. ✖ Copy methods used by Finland
2. ✖ Learn from East Asian countries
3. ✔ Revamp the education system of USA
4. ✖ Visit these countries to learn about their system

Question Number : 153 Question Id : 9983676978 Question Type : MCQ Option Shuffling : Yes
Correct Marks : 1 Wrong Marks : 0.25

What do countries like Japan and Singapore NOT do?

Options :

1. ✖ Make students work hard and outperform others
2. ✖ Stress on memorising lessons
3. ✖ Prescribe too many standardized tests
4. ✔ Have a single-minded focus on studies

Question Number : 154 Question Id : 9983676979 Question Type : MCQ Option Shuffling : Yes
Correct Marks : 1 Wrong Marks : 0.25

Which of the following is NOT an educational practice followed by Finland?

Options :

1. ✖ Using common-sense practices that are useful in helping learners learn.
2. ✖ A teaching environment that stresses on whole student development and equal opportunity to all learners.
3. ✔ Getting students to answer lots of MCQs on a scantron to achieve high scores.
4. ✖ Teaching students to answer questions to show real mastery or knowledge of a subject.

Question Number : 155 Question Id : 9983676980 Question Type : MCQ Option Shuffling : Yes
Correct Marks : 1 Wrong Marks : 0.25

When the writer says, 'learning has been thrown out of the equation' she means that _____.

Options :

1. ✔ the focus of schools is not on real learning
2. ✖ the system is providing equal opportunities to all learners
3. ✖ there is stress on good teaching methods instead of students' learning
4. ✖ stress is more on building an environment that is good for learning

Question Id : 9983676975 Question Type : COMPREHENSION Sub Question Shuffling Allowed : Yes Group Comprehension Questions : No
Question Numbers : (151 to 155)

Question Label : Comprehension

Read the passage and answer the questions that follow.

No standardised tests, no private schools, no stress. Finland's education system is consistently ranked best in the world. Why isn't America copying it? Time and time again, American students continually rank near the middle or bottom among industrialised nations when it comes to performance in math and science. The Program for International Student Assessment (PISA) which in conjunction with the Organization for Economic Cooperation and Development (OECD) routinely releases data which shows that Americans are seriously lagging behind in a number of educational performance assessments. Despite calls for education reform and a continual lacklustre performance on the international scale, not a lot is being done or changing within the educational system. Many private and public schools run on the same antiquated systems and schedules that were once conducive to an agrarian society. The mechanisation and rigid assembly-line methods we use today are spitting out ill-prepared worker clones, rudderless adults and an uninformed populace. But no amount of pontificating will change what we already know. The American education system needs to be completely revamped - from the first grade to the Ph.D. It's going to take a lot more than a well-meaning celebrity project to do that.

Many people are familiar with the stereotype of the hard-working, rote memorisation, myopic tunnel vision of Eastern Asian study and work ethics. Many of these countries, like China, Singapore, and Japan amongst others routinely rank in the number one spots in both, math and science.

Some pundits point towards this model of exhaustive brain draining as something Americans should aspire to become. Work more! Study harder! Live less. The facts and figures don't lie - these countries are outperforming us, but there might be a better and healthier way to go about this.

Finland is the answer - a country rich in intellectual and educational reform has initiated over the years a number of novel and simple changes that have completely revolutionised their educational system. They outrank the United States and are gaining on Eastern Asian countries.

Are they cramming in dimly-lit rooms on robotic schedules? Nope. Stressing over standardised tests enacted by the government? No way. Finland is leading the way because of common-sense practices and a holistic teaching environment that strives for equity over excellence. Staying in line with our print-minded sensibilities, standardised testing is the blanket way we test for subject comprehension. Filling in little bubbles on a scantron and answering pre-scanned questions is somehow supposed to be a way to determine mastery or at least competence of a subject. Students often learn to cram just to pass a test and teachers teach with the sole purpose of students passing a test. Learning has been thrown out of the equation.

Finland has no standardised tests. All children throughout Finland are graded on an individualised basis and grading system set by their teacher and take a voluntary test at the end of upper-secondary school.

Sub questions

Question Number : 151 Question Id : 9983676976 Question Type : MCQ Option Shuffling : Yes
Correct Marks : 1 Wrong Marks : 0.25

What is wrong with the education system of the US?

Options :

1. ✖ There are no tests to measure how students are performing
2. ✖ Students are getting individualised lessons as per their needs
3. ✖ Students pass tests that determine how well they have learnt concepts
4. ✔ The mechanisation and rigid method of treating students as if they are in an assembly line

Question Number : 152 Question Id : 9983676977 Question Type : MCQ Option Shuffling : Yes
Correct Marks : 1 Wrong Marks : 0.25

What is the writer's appeal?

Options :

1. ✖ Copy methods used by Finland
2. ✖ Learn from East Asian countries
3. ✔ Revamp the education system of USA
4. ✖ Visit these countries to learn about their system

Question Number : 153 Question Id : 9983676978 Question Type : MCQ Option Shuffling : Yes
Correct Marks : 1 Wrong Marks : 0.25

What do countries like Japan and Singapore NOT do?

Options :

1. ✖ Make students work hard and outperform others

2. ✖ Stress on memorising lessons
3. ✖ Prescribe too many standardized tests
4. ✔ Have a single-minded focus on studies

Question Number : 154 Question Id : 9983676979 Question Type : MCQ Option Shuffling : Yes
Correct Marks : 1 Wrong Marks : 0.25

Which of the following is NOT an educational practice followed by Finland?

Options :

1. ✖ Using common-sense practices that are useful in helping learners learn.
2. ✖ A teaching environment that stresses on whole student development and equal opportunity to all learners.
3. ✔ Getting students to answer lots of MCQs on a scantron to achieve high scores.
4. ✖ Teaching students to answer questions to show real mastery or knowledge of a subject.

Question Number : 155 Question Id : 9983676980 Question Type : MCQ Option Shuffling : Yes
Correct Marks : 1 Wrong Marks : 0.25

When the writer says, 'learning has been thrown out of the equation' she means that _____.

Options :

1. ✔ the focus of schools is not on real learning
2. ✖ the system is providing equal opportunities to all learners

3. ✖ there is stress on good teaching methods instead of students' learning
4. ✖ stress is more on building an environment that is good for learning

Sub-Section Number:	3
Sub-Section Id:	998367434
Question Shuffling Allowed :	Yes

Question Id : 9983676981 Question Type : COMPREHENSION Sub Question Shuffling Allowed : Yes Group Comprehension Questions : No

Question Numbers : (156 to 160)

Question Label : Comprehension



Read the following passage and answer the questions that follow.

Bhikaji Cama was born on 24 September 1861 into a large, affluent Parsi family. Her father, Sorabji Framji Patel, was a famous merchant and philanthropist in the city of Bombay and Madam Bhikaji Cama herself became an active social worker. Influenced by an environment in which the Indian nationalist movement was taking root, Bhikaji was drawn toward political issues from a very early age.

During the epidemic of bubonic plague that hit Mumbai in 1896, she herself got infected with the disease while providing aid to the others and she was sent to Britain for her treatment. In 1902, Bhikaji left India for London which was to become her home for the rest of life. She was advised to go to Europe for rest and recuperation.

Throughout her life, she struggled for Indian Independence from abroad. On 22nd August 1907, she unfurled the Indian flag (Flag of Indian Independence) in Stuttgart, Germany while attending the International Socialist Conference. There she raised her voice for human rights and equality in India.

The fiery lady then announced, “This is the flag of independent India. I appeal to all gentlemen to stand and salute the flag.” Surprised by the dramatic incident, all the representatives at the conference stood up and saluted the first flag of independent Hindustan. Madam Cama had wanted to bring the poverty, starvation and oppression under the British Raj, as also India’s thirst for freedom to the attention of the international community and she had succeeded.

This was no mean achievement. Indian independence was 40 years away, and the world was still unaware of the burning patriotism of the thousands of young Indians who were ready to lay down their lives to free their country from colonial rule. During her stay in London, she got a message from the British that her return to India would be prohibited unless she would sign a statement promising not to participate in nationalist activities. She refused to make such a promise and remained in exile in Europe.

After Stuttgart, Bhikaji went to United States where she travelled a lot, informing Americans about India’s struggle for independence. She also fought for the cause of women and often stressed on the role of women in building a nation. Speaking at National Conference at Cairo, Egypt in 1910, she asked, “Where is the other half of Egypt? I see only men who represent half the country! Where are the mothers? Where are the sisters? You must not forget that the hands that rock cradles also build persons.”

Cama remained in exile in Europe until 1935, when, gravely ill and paralysed by a stroke that she had suffered earlier that year, she petitioned the British government to be allowed to return home. Knowing that she was not in a condition to participate in the freedom struggle, she was granted permission to return to India after 33 long years.

In November 1935, 74-year-old Bhikaji finally returned to Mumbai, but did not live for long. Having fulfilled her desire of seeing her motherland once again, she breathed her last on 13 August 1936.

Sub questions

Question Number : 156 Question Id : 9983676982 Question Type : MCQ Option Shuffling : Yes
Correct Marks : 1 Wrong Marks : 0.25

Bhikaji left for Britain in order to:

Options :

- 1. ✖ raise awareness about India’s struggle for independence
- 2. ✔ recover from the plague
- 3. ✖ unfurl the Indian flag abroad
- 4. ✖ escape punishment from the Britishers

Question Number : 157 Question Id : 9983676983 Question Type : MCQ Option Shuffling : Yes
Correct Marks : 1 Wrong Marks : 0.25

What was Bhikaji Cama’s significant achievement at Stuttgart?

Options :

- 1. ✖ She attended the International Socialist Conference despite being a woman
- 2. ✔ She unfurled India’s flag and got all the delegates to salute it
- 3. ✖ She fought there for the cause of women
- 4. ✖ She recovered her health there

Question Number : 158 Question Id : 9983676984 Question Type : MCQ Option Shuffling : Yes
Correct Marks : 1 Wrong Marks : 0.25

Match the dates with events:

a) When she was 41 years	1) Went to Egypt and raised awareness that women should participate in all causes
b) In the year 1907	2) Remained away from the country
c) When she was 49 years old	3) Left India
d) For 33 years of her life	4) Raised the national flag and her voice for human rights in India

Options :

- 1. ✖ a-4; b-3; c-1; d-2

2. ✖ a-3; b-1; c-2; d-4

3. ✖ a-4; b-3; c-2; d-1

4. ✔ a-3; b-4; c-1; d-2

Question Number : 159 Question Id : 9983676985 Question Type : MCQ Option Shuffling : Yes

Correct Marks : 1 Wrong Marks : 0.25

Which of the following statements is NOT true according to the passage?

Options :

1. ✖ Cama did not give in under British pressure for submission

2. ✖ Cama fought keenly for women's rights and opportunities

3. ✖ Cama was bold enough to draw attention to the atrocities of Britishers in India

4. ✔ Cama signed a statement that she would not participate in nationalist activities.

Question Number : 160 Question Id : 9983676986 Question Type : MCQ Option Shuffling : Yes

Correct Marks : 1 Wrong Marks : 0.25

Madam Bhikaji's life is an inspiration for:

Options :

1. ✔ all women and freedom fighters

2. ✖ the international community

3. ✖ representatives at the conference in Cairo

4. ✖ social workers

Question Id : 9983676981 Question Type : COMPREHENSION Sub Question Shuffling Allowed : Yes Group Comprehension

Questions : No

Question Numbers : (156 to 160)

Question Label : Comprehension

Read the following passage and answer the questions that follow.

Bhikaji Cama was born on 24 September 1861 into a large, affluent Parsi family. Her father, Sorabji Framji Patel, was a famous merchant and philanthropist in the city of Bombay and Madam Bhikaji Cama herself became an active social worker. Influenced by an environment in which the Indian nationalist movement was taking root, Bhikaji was drawn toward political issues from a very early age.

During the epidemic of bubonic plague that hit Mumbai in 1896, she herself got infected with the disease while providing aid to the others and she was sent to Britain for her treatment. In 1902, Bhikaji left India for London which was to become her home for the rest of life. She was advised to go to Europe for rest and recuperation.

Throughout her life, she struggled for Indian Independence from abroad. On 22nd August 1907, she unfurled the Indian flag (Flag of Indian Independence) in Stuttgart, Germany while attending the International Socialist Conference. There she raised her voice for human rights and equality in India.

The fiery lady then announced, “This is the flag of independent India. I appeal to all gentlemen to stand and salute the flag.” Surprised by the dramatic incident, all the representatives at the conference stood up and saluted the first flag of independent Hindustan. Madam Cama had wanted to bring the poverty, starvation and oppression under the British Raj, as also India’s thirst for freedom to the attention of the international community and she had succeeded.

This was no mean achievement. Indian independence was 40 years away, and the world was still unaware of the burning patriotism of the thousands of young Indians who were ready to lay down their lives to free their country from colonial rule. During her stay in London, she got a message from the British that her return to India would be prohibited unless she would sign a statement promising not to participate in nationalist activities. She refused to make such a promise and remained in exile in Europe.

After Stuttgart, Bhikaji went to United States where she travelled a lot, informing Americans about India’s struggle for independence. She also fought for the cause of women and often stressed on the role of women in building a nation. Speaking at National Conference at Cairo, Egypt in 1910, she asked, “Where is the other half of Egypt? I see only men who represent half the country! Where are the mothers? Where are the sisters? You must not forget that the hands that rock cradles also build persons.”

Cama remained in exile in Europe until 1935, when, gravely ill and paralysed by a stroke that she had suffered earlier that year, she petitioned the British government to be allowed to return home. Knowing that she was not in a condition to participate in the freedom struggle, she was granted permission to return to India after 33 long years.

In November 1935, 74-year-old Bhikaji finally returned to Mumbai, but did not live for long. Having fulfilled her desire of seeing her motherland once again, she breathed her last on 13 August 1936.

Sub questions

Question Number : 156 Question Id : 9983676982 Question Type : MCQ Option Shuffling : Yes
Correct Marks : 1 Wrong Marks : 0.25

Bhikaji left for Britain in order to:

Options :

1. ✖ raise awareness about India's struggle for independence
2. ✔ recover from the plague
3. ✖ unfurl the Indian flag abroad
4. ✖ escape punishment from the Britishers

Question Number : 157 Question Id : 9983676983 Question Type : MCQ Option Shuffling : Yes
Correct Marks : 1 Wrong Marks : 0.25

What was Bhikaji Cama's significant achievement at Stuttgart?

Options :

1. ✖ She attended the International Socialist Conference despite being a woman
2. ✔ She unfurled India's flag and got all the delegates to salute it
3. ✖ She fought there for the cause of women
4. ✖ She recovered her health there

Question Number : 158 Question Id : 9983676984 Question Type : MCQ Option Shuffling : Yes
Correct Marks : 1 Wrong Marks : 0.25

Match the dates with events:

a) When she was 41 years	1) Went to Egypt and raised awareness that women should participate in all causes
b) In the year 1907	2) Remained away from the country
c) When she was 49 years old	3) Left India
d) For 33 years of her life	4) Raised the national flag and her voice for human rights in India

Options :

- 1. ✖ a-4; b-3; c-1; d-2
- 2. ✖ a-3; b-1; c-2; d-4
- 3. ✖ a-4; b-3; c-2; d-1
- 4. ✔ a-3; b-4; c-1; d-2

Question Number : 159 Question Id : 9983676985 Question Type : MCQ Option Shuffling : Yes
Correct Marks : 1 Wrong Marks : 0.25

Which of the following statements is NOT true according to the passage?

Options :

- 1. ✖ Cama did not give in under British pressure for submission
- 2. ✖ Cama fought keenly for women’s rights and opportunities
- 3. ✖ Cama was bold enough to draw attention to the atrocities of Britishers in India
- 4. ✔ Cama signed a statement that she would not participate in nationalist activities.

Question Number : 160 Question Id : 9983676986 Question Type : MCQ Option Shuffling : Yes
Correct Marks : 1 Wrong Marks : 0.25

Madam Bhikaji’s life is an inspiration for:

Options :

- 1. ✓ all women and freedom fighters
- 2. ✗ the international community
- 3. ✗ representatives at the conference in Cairo
- 4. ✗ social workers

General Hindi1

Group Number :	9
Group Id :	998367295
Group Maximum Duration :	0
Group Minimum Duration :	0
Show Attended Group? :	No
Edit Attended Group? :	No
Break time:	0
Group Marks:	20
Is this Group for Examiner?:	No
Revisit allowed for group Instructions? :	Yes
Maximum Instruction Time:	0
Minimum Instruction Time:	0



General Hindi1

Section Id :	998367301
Section Number :	1
Section type :	Online
Mandatory or Optional:	Mandatory
Number of Questions:	20
Number of Questions to be attempted:	20
Section Marks:	20

Sub-Section Number:	1
Sub-Section Id:	998367435
Question Shuffling Allowed :	Yes

Question Number : 161 Question Id : 9983676987 Question Type : MCQ Option Shuffling : Yes
Correct Marks : 1 Wrong Marks : 0.25

‘जागीर’ कैसा शब्द है?

Options :

1. ✖ तद्भव
2. ✖ तत्सम
3. ✖ देशज
4. ✔ विदेशी

Question Number : 161 Question Id : 9983676987 Question Type : MCQ Option Shuffling : Yes
Correct Marks : 1 Wrong Marks : 0.25

‘जागीर’ कैसा शब्द है?

Options :

1. ✖ तद्भव
2. ✖ तत्सम
3. ✖ देशज
4. ✔ विदेशी

Question Number : 162 Question Id : 9983676988 Question Type : MCQ Option Shuffling : Yes
Correct Marks : 1 Wrong Marks : 0.25

निम्न में से कौन सा शब्द तद्भव है?

Options :

1. ✔ ग्यारह
2. ✖ ग्रंथि
3. ✖ गो
4. ✖ गमन

Question Number : 162 Question Id : 9983676988 Question Type : MCQ Option Shuffling : Yes
Correct Marks : 1 Wrong Marks : 0.25

निम्न में से कौन सा शब्द तद्भव है?

Options :

1. ✔ ग्यारह
2. ✖ ग्रंथि
3. ✖ गो

4. ✖ गमन

Question Number : 163 Question Id : 9983676989 Question Type : MCQ Option Shuffling : Yes

Correct Marks : 1 Wrong Marks : 0.25

निम्न में से कौन सा शब्द तत्सम है?

Options :

1. ✖ धान

2. ✖ धीरज

3. ✔ धूम

4. ✖ धूल

Question Number : 163 Question Id : 9983676989 Question Type : MCQ Option Shuffling : Yes

Correct Marks : 1 Wrong Marks : 0.25

निम्न में से कौन सा शब्द तत्सम है?

Options :

1. ✖ धान

2. ✖ धीरज

3. ✔ धूम

4. ✖ धूल

Question Number : 164 Question Id : 9983676990 Question Type : MCQ Option Shuffling : Yes

Correct Marks : 1 Wrong Marks : 0.25

निम्न में से शुद्ध वर्तनी वाला शब्द है:

Options :

1. ✖ प्रामाणीक

2. ✔ प्रामाणिक

3. ✖ प्रमाणीक

4. ✖ प्रामणिक

Question Number : 164 Question Id : 9983676990 Question Type : MCQ Option Shuffling : Yes

Correct Marks : 1 Wrong Marks : 0.25

निम्न में से शुद्ध वर्तनी वाला शब्द है:

Options :

1. ✖ प्रामाणीक
2. ✔ प्रामाणिक
3. ✖ प्रमाणीक
4. ✖ प्रामणिक

Question Number : 165 Question Id : 9983676991 Question Type : MCQ Option Shuffling : Yes
Correct Marks : 1 Wrong Marks : 0.25

‘अवलम्ब – अविलम्ब’ शब्द युग्म का सही अर्थ है:

Options :

1. ✖ शीघ्र – सहारा
2. ✔ सहारा – शीघ्र
3. ✖ शीघ्र – देर
4. ✖ अवरोध – सहारा

Question Number : 165 Question Id : 9983676991 Question Type : MCQ Option Shuffling : Yes
Correct Marks : 1 Wrong Marks : 0.25

‘अवलम्ब – अविलम्ब’ शब्द युग्म का सही अर्थ है:

Options :

1. ✖ शीघ्र - सहारा
2. ✔ सहारा - शीघ्र
3. ✖ शीघ्र - देर
4. ✖ अवरोध - सहारा

Question Number : 166 Question Id : 9983676992 Question Type : MCQ Option Shuffling : Yes
Correct Marks : 1 Wrong Marks : 0.25

‘मिठास’ किस प्रकार की संज्ञा है?

Options :

1. ✖ जातिवाचक
2. ✖ व्यक्तिवाचक
3. ✖ पदार्थवाचक

4. ✓ भाववाचक

Question Number : 166 Question Id : 9983676992 Question Type : MCQ Option Shuffling : Yes
Correct Marks : 1 Wrong Marks : 0.25

‘मिठास’ किस प्रकार की संज्ञा है?

Options :

1. ✖ जातिवाचक
2. ✖ व्यक्तिवाचक
3. ✖ पदार्थवाचक
4. ✓ भाववाचक

Question Number : 167 Question Id : 9983676993 Question Type : MCQ Option Shuffling : Yes
Correct Marks : 1 Wrong Marks : 0.25

‘सो’ सर्वनाम का परिमाणवाचक विशेषण है:

Options :

1. ✖ इतना
2. ✖ उतना
3. ✓ तितना
4. ✖ जितना

Question Number : 167 Question Id : 9983676993 Question Type : MCQ Option Shuffling : Yes
Correct Marks : 1 Wrong Marks : 0.25

‘सो’ सर्वनाम का परिमाणवाचक विशेषण है:

Options :

1. ✖ इतना
2. ✖ उतना
3. ✓ तितना
4. ✖ जितना

Question Number : 168 Question Id : 9983676994 Question Type : MCQ Option Shuffling : Yes
Correct Marks : 1 Wrong Marks : 0.25

‘बाहरी’ किस प्रकार का विशेषण है?

Options :

1. ✓ गुणवाचक
2. ✗ संख्यावाचक
3. ✗ परिमाण बोधक
4. ✗ सार्वनामिक

Question Number : 168 Question Id : 9983676994 Question Type : MCQ Option Shuffling : Yes
Correct Marks : 1 Wrong Marks : 0.25

‘बाहरी’ किस प्रकार का विशेषण है?

Options :

1. ✓ गुणवाचक
2. ✗ संख्यावाचक
3. ✗ परिमाण बोधक
4. ✗ सार्वनामिक

Question Number : 169 Question Id : 9983676995 Question Type : MCQ Option Shuffling : Yes
Correct Marks : 1 Wrong Marks : 0.25

निम्न में अकर्मक धातु है:

Options :

1. ✗ तोड़ना
2. ✓ फटना
3. ✗ छोड़ना
4. ✗ फोड़ना

Question Number : 169 Question Id : 9983676995 Question Type : MCQ Option Shuffling : Yes
Correct Marks : 1 Wrong Marks : 0.25

निम्न में अकर्मक धातु है:

Options :

1. ✗ तोड़ना
2. ✓ फटना
3. ✗ छोड़ना

4. ✖ फोड़ना

Question Number : 170 Question Id : 9983676996 Question Type : MCQ Option Shuffling : Yes
Correct Marks : 1 Wrong Marks : 0.25

‘एक लज्जा मात्र बची है’ वाक्य में क्रिया विशेषण है:

Options :

1. ✖ एक
2. ✖ लज्जा
3. ✔ मात्र
4. ✖ बची है

Question Number : 170 Question Id : 9983676996 Question Type : MCQ Option Shuffling : Yes
Correct Marks : 1 Wrong Marks : 0.25

‘एक लज्जा मात्र बची है’ वाक्य में क्रिया विशेषण है:

Options :

1. ✖ एक
2. ✖ लज्जा
3. ✔ मात्र
4. ✖ बची है

Question Number : 171 Question Id : 9983676997 Question Type : MCQ Option Shuffling : Yes
Correct Marks : 1 Wrong Marks : 0.25

‘षडानन’ का संधि विच्छेद होगा:

Options :

1. ✔ षट् + आनन
2. ✖ षट् + अनन
3. ✖ षड् + आनन
4. ✖ षड् + अनन

Question Number : 171 Question Id : 9983676997 Question Type : MCQ Option Shuffling : Yes
Correct Marks : 1 Wrong Marks : 0.25

‘षडानन’ का संधि विच्छेद होगा:

Options :

1. ✓ षट् + आनन
2. ✖ षट् + अनन
3. ✖ षड् + आनन
4. ✖ षड् + अनन

Question Number : 172 Question Id : 9983676998 Question Type : MCQ Option Shuffling : Yes
Correct Marks : 1 Wrong Marks : 0.25

‘राजीवलोचन’ में कौन सा समास है?

Options :

1. ✖ तत्पुरुष
2. ✖ द्वंद्व
3. ✖ अव्ययीभाव
4. ✓ बहुव्रीहि

Question Number : 172 Question Id : 9983676998 Question Type : MCQ Option Shuffling : Yes
Correct Marks : 1 Wrong Marks : 0.25

‘राजीवलोचन’ में कौन सा समास है?

Options :

1. ✖ तत्पुरुष
2. ✖ द्वंद्व
3. ✖ अव्ययीभाव
4. ✓ बहुव्रीहि

Question Number : 173 Question Id : 9983676999 Question Type : MCQ Option Shuffling : Yes
Correct Marks : 1 Wrong Marks : 0.25

‘प्रत्यक्ष’ में किस उपसर्ग का प्रयोग हुआ है?

Options :

1. ✖ प
2. ✖ प्र
3. ✓ प्रति

4. ✖ अक्ष

Question Number : 173 Question Id : 9983676999 Question Type : MCQ Option Shuffling : Yes
Correct Marks : 1 Wrong Marks : 0.25

‘प्रत्यक्ष’ में किस उपसर्ग का प्रयोग हुआ है?

Options :

1. ✖ प

2. ✖ प्र

3. ✔ प्रति

4. ✖ अक्ष

Question Number : 174 Question Id : 9983677000 Question Type : MCQ Option Shuffling : Yes
Correct Marks : 1 Wrong Marks : 0.25

‘गरिमा’ में किस प्रत्यय का प्रयोग हुआ है?

Options :

1. ✖ म

2. ✖ मा

3. ✖ आ

4. ✔ इमा

Question Number : 174 Question Id : 9983677000 Question Type : MCQ Option Shuffling : Yes
Correct Marks : 1 Wrong Marks : 0.25

‘गरिमा’ में किस प्रत्यय का प्रयोग हुआ है?

Options :

1. ✖ म

2. ✖ मा

3. ✖ आ

4. ✔ इमा

Question Number : 175 Question Id : 9983677001 Question Type : MCQ Option Shuffling : Yes
Correct Marks : 1 Wrong Marks : 0.25

निम्न में से कौन सा शब्द स्त्रीलिंग है?

Options :

1. ✖ घड़ा
2. ✔ घास
3. ✖ घाव
4. ✖ घी

Question Number : 175 Question Id : 9983677001 Question Type : MCQ Option Shuffling : Yes
Correct Marks : 1 Wrong Marks : 0.25

निम्न में से कौन सा शब्द स्त्रीलिंग है?

Options :

1. ✖ घड़ा
2. ✔ घास
3. ✖ घाव
4. ✖ घी

Question Number : 176 Question Id : 9983677002 Question Type : MCQ Option Shuffling : Yes
Correct Marks : 1 Wrong Marks : 0.25

‘उच्चतम न्यायालय के न्यायाधीश’ किस पदबन्ध का उदाहरण है?

Options :

1. ✔ संज्ञा पदबन्ध
2. ✖ सर्वनाम पदबन्ध
3. ✖ विशेषण पदबन्ध
4. ✖ क्रिया पदबन्ध

Question Number : 176 Question Id : 9983677002 Question Type : MCQ Option Shuffling : Yes
Correct Marks : 1 Wrong Marks : 0.25

‘उच्चतम न्यायालय के न्यायाधीश’ किस पदबन्ध का उदाहरण है?

Options :

1. ✔ संज्ञा पदबन्ध
2. ✖ सर्वनाम पदबन्ध
3. ✖ विशेषण पदबन्ध

4. ✖ क्रिया पदबन्ध

Question Number : 177 Question Id : 9983677003 Question Type : MCQ Option Shuffling : Yes
Correct Marks : 1 Wrong Marks : 0.25

‘जब पानी बरसता है, तब बाढ़ आती है।’ वाक्य में ‘जब पानी बरसता है’ किस प्रकार का उपवाक्य है?

Options :

1. ✖ संज्ञा उपवाक्य
2. ✖ विशेषण उपवाक्य
3. ✖ क्रिया उपवाक्य
4. ✔ क्रिया विशेषण उपवाक्य

Question Number : 177 Question Id : 9983677003 Question Type : MCQ Option Shuffling : Yes
Correct Marks : 1 Wrong Marks : 0.25

‘जब पानी बरसता है, तब बाढ़ आती है।’ वाक्य में ‘जब पानी बरसता है’ किस प्रकार का उपवाक्य है?

Options :

1. ✖ संज्ञा उपवाक्य
2. ✖ विशेषण उपवाक्य
3. ✖ क्रिया उपवाक्य
4. ✔ क्रिया विशेषण उपवाक्य

Question Number : 178 Question Id : 9983677004 Question Type : MCQ Option Shuffling : Yes
Correct Marks : 1 Wrong Marks : 0.25

‘जो विद्यार्थी परिश्रम करेंगे, उन्हें सफलता अवश्य मिलेगी।’ किस प्रकार का वाक्य है?

Options :

1. ✖ सरल वाक्य
2. ✖ संयुक्त वाक्य
3. ✔ मिश्र वाक्य
4. ✖ उपवाक्य

Question Number : 178 Question Id : 9983677004 Question Type : MCQ Option Shuffling : Yes
Correct Marks : 1 Wrong Marks : 0.25

‘जो विद्यार्थी परिश्रम करेंगे, उन्हें सफलता अवश्य मिलेगी।’ किस प्रकार का वाक्य है?

Options :

1. ✖ सरल वाक्य
2. ✖ संयुक्त वाक्य
3. ✔ मिश्र वाक्य
4. ✖ उपवाक्य

Question Number : 179 Question Id : 9983677005 Question Type : MCQ Option Shuffling : Yes
Correct Marks : 1 Wrong Marks : 0.25

पदक्रम की दृष्टि से कौन सा वाक्य शुद्ध है?

Options :

1. ✖ क्या आ रही है सरिता?
2. ✔ क्या सरिता आ रही है?
3. ✖ आ रही है क्या सरिता?
4. ✖ सरिता आ रही है क्या?

Question Number : 179 Question Id : 9983677005 Question Type : MCQ Option Shuffling : Yes
Correct Marks : 1 Wrong Marks : 0.25

पदक्रम की दृष्टि से कौन सा वाक्य शुद्ध है?

Options :

1. ✖ क्या आ रही है सरिता?
2. ✔ क्या सरिता आ रही है?
3. ✖ आ रही है क्या सरिता?
4. ✖ सरिता आ रही है क्या?

Question Number : 180 Question Id : 9983677006 Question Type : MCQ Option Shuffling : Yes
Correct Marks : 1 Wrong Marks : 0.25

अन्वय की दृष्टि से कौन सा वाक्य शुद्ध है?

Options :

1. ✔ मनोहर ने एक घोड़ा और एक हाथी बेचा।

2. ✖ मनोहर ने एक घोड़ा और एक हाथी बेची।
3. ✖ मनोहर ने एक घोड़ा और एक हाथी बेचे।
4. ✖ मनोहर ने एक घोड़ा और एक हाथी बेचो।

Question Number : 180 Question Id : 9983677006 Question Type : MCQ Option Shuffling : Yes
Correct Marks : 1 Wrong Marks : 0.25

अन्वय की दृष्टि से कौन सा वाक्य शुद्ध है?

Options :

1. ✔ मनोहर ने एक घोड़ा और एक हाथी बेचा।
2. ✖ मनोहर ने एक घोड़ा और एक हाथी बेची।
3. ✖ मनोहर ने एक घोड़ा और एक हाथी बेचे।
4. ✖ मनोहर ने एक घोड़ा और एक हाथी बेचो।

General Hindi2

Group Number :	10
Group Id :	998367296
Group Maximum Duration :	0
Group Minimum Duration :	120
Show Attended Group? :	No
Edit Attended Group? :	No
Break time:	0
Group Marks:	20
Is this Group for Examiner?:	No
Revisit allowed for group Instructions? :	Yes
Maximum Instruction Time:	0
Minimum Instruction Time:	0

General Hindi2

Section Id :	998367302
Section Number :	1
Section type :	Online
Mandatory or Optional:	Mandatory
Number of Questions:	12
Number of Questions to be attempted:	12
Section Marks:	20

Sub-Section Number: 1
Sub-Section Id: 9983677436
Question Shuffling Allowed : Yes

Question Number : 181 Question Id : 9983677007 Question Type : MCQ Option Shuffling : Yes
Correct Marks : 1 Wrong Marks : 0.25

‘आँख’ का पर्यायवाची है:

Options :

1. ✖ अरविंद
2. ✖ कलत्र
3. ✖ इला
4. ✔ चक्षु

Question Number : 181 Question Id : 9983677007 Question Type : MCQ Option Shuffling : Yes
Correct Marks : 1 Wrong Marks : 0.25

‘आँख’ का पर्यायवाची है:

Options :

1. ✖ अरविंद
2. ✖ कलत्र
3. ✖ इला
4. ✔ चक्षु

Question Number : 182 Question Id : 9983677008 Question Type : MCQ Option Shuffling : Yes
Correct Marks : 1 Wrong Marks : 0.25

‘पुष्प’ का पर्यायवाची नहीं है:

Options :

1. ✔ विशिख
2. ✖ सुमन
3. ✖ कुसुम
4. ✖ प्रसून

Question Number : 182 Question Id : 9983677008 Question Type : MCQ Option Shuffling : Yes
Correct Marks : 1 Wrong Marks : 0.25

‘पुष्प’ का पर्यायवाची नहीं है:

Options :

1. ✓ विशिख
2. ✗ सुमन
3. ✗ कुसुम
4. ✗ प्रसून

Question Number : 183 Question Id : 9983677009 Question Type : MCQ Option Shuffling : Yes
Correct Marks : 1 Wrong Marks : 0.25

‘विशिख’ किसका पर्यायवाची है?

Options :

1. ✗ किरण
2. ✓ बाण
3. ✗ स्वर्ण
4. ✗ असुर

Question Number : 183 Question Id : 9983677009 Question Type : MCQ Option Shuffling : Yes
Correct Marks : 1 Wrong Marks : 0.25

‘विशिख’ किसका पर्यायवाची है?

Options :

1. ✗ किरण
2. ✓ बाण
3. ✗ स्वर्ण
4. ✗ असुर

Question Number : 184 Question Id : 9983677010 Question Type : MCQ Option Shuffling : Yes
Correct Marks : 1 Wrong Marks : 0.25

‘अम्बुद’ किसका पर्यायवाची है?

Options :

1. ✗ कमल
2. ✗ समुद्र
3. ✓ बादल

4. ✖ पर्वत

Question Number : 184 Question Id : 9983677010 Question Type : MCQ Option Shuffling : Yes

Correct Marks : 1 Wrong Marks : 0.25

‘अम्बुद’ किसका पर्यायवाची है?

Options :

1. ✖ कमल

2. ✖ समुद्र

3. ✔ बादल

4. ✖ पर्वत

Question Number : 185 Question Id : 9983677011 Question Type : MCQ Option Shuffling : Yes

Correct Marks : 1 Wrong Marks : 0.25

‘मधु’ किसका पर्यायवाची नहीं है?

Options :

1. ✖ शहद

2. ✖ शराब

3. ✖ वसंतऋतु

4. ✔ सुन्दर

Question Number : 185 Question Id : 9983677011 Question Type : MCQ Option Shuffling : Yes

Correct Marks : 1 Wrong Marks : 0.25

‘मधु’ किसका पर्यायवाची नहीं है?

Options :

1. ✖ शहद

2. ✖ शराब

3. ✖ वसंतऋतु

4. ✔ सुन्दर

Question Number : 186 Question Id : 9983677012 Question Type : MCQ Option Shuffling : Yes

Correct Marks : 1 Wrong Marks : 0.25

‘आग्रह’ का विलोम शब्द है:

Options :

1. ✖ साग्रह
2. ✔ दुराग्रह
3. ✖ निवेदन
4. ✖ आदेश

Question Number : 186 Question Id : 9983677012 Question Type : MCQ Option Shuffling : Yes
Correct Marks : 1 Wrong Marks : 0.25

‘आग्रह’ का विलोम शब्द है:

Options :

1. ✖ साग्रह
2. ✔ दुराग्रह
3. ✖ निवेदन
4. ✖ आदेश

Question Number : 187 Question Id : 9983677013 Question Type : MCQ Option Shuffling : Yes
Correct Marks : 1 Wrong Marks : 0.25

‘अथ’ का विलोम होगा:

Options :

1. ✔ इति
2. ✖ श्रुति
3. ✖ आदि
4. ✖ मध्य

Question Number : 187 Question Id : 9983677013 Question Type : MCQ Option Shuffling : Yes
Correct Marks : 1 Wrong Marks : 0.25

‘अथ’ का विलोम होगा:

Options :

1. ✔ इति
2. ✖ श्रुति
3. ✖ आदि

4. ✖ मध्य

Question Number : 188 Question Id : 9983677014 Question Type : MCQ Option Shuffling : Yes
Correct Marks : 1 Wrong Marks : 0.25

‘मर्त्य’ किसका विलोम है?

Options :

1. ✖ स्वर्ग

2. ✖ अजर

3. ✔ अमर

4. ✖ नरक

Question Number : 188 Question Id : 9983677014 Question Type : MCQ Option Shuffling : Yes
Correct Marks : 1 Wrong Marks : 0.25

‘मर्त्य’ किसका विलोम है?

Options :

1. ✖ स्वर्ग

2. ✖ अजर

3. ✔ अमर

4. ✖ नरक

Question Number : 189 Question Id : 9983677015 Question Type : MCQ Option Shuffling : Yes
Correct Marks : 1 Wrong Marks : 0.25

‘यह बृहत् शोध प्रबंध है।’ पंक्ति के रेखांकित शब्द का विलोम होगा:

Options :

1. ✖ दीर्घ

2. ✖ विशाल

3. ✔ लघु

4. ✖ क्षुद्र

Question Number : 189 Question Id : 9983677015 Question Type : MCQ Option Shuffling : Yes
Correct Marks : 1 Wrong Marks : 0.25

‘यह बृहत् शोध प्रबंध है।’ पंक्ति के रेखांकित शब्द का विलोम होगा:

Options :

1. ✖ दीर्घ
2. ✖ विशाल
3. ✔ लघु
4. ✖ क्षुद्र

Question Number : 190 Question Id : 9983677016 Question Type : MCQ Option Shuffling : Yes
Correct Marks : 1 Wrong Marks : 0.25

‘मिथ्या’ का विलोम है:

Options :

1. ✖ तथ्य
2. ✔ सत्य
3. ✖ जगत
4. ✖ प्रमाण

Question Number : 190 Question Id : 9983677016 Question Type : MCQ Option Shuffling : Yes
Correct Marks : 1 Wrong Marks : 0.25

‘मिथ्या’ का विलोम है:

Options :

1. ✖ तथ्य
2. ✔ सत्य
3. ✖ जगत
4. ✖ प्रमाण

Sub-Section Number: 2
Sub-Section Id: 998367437
Question Shuffling Allowed : Yes

Question Id : 9983677017 Question Type : COMPREHENSION Sub Question Shuffling Allowed : Yes Group Comprehension Questions : No

Question Numbers : (191 to 195)

Question Label : Comprehension

नीचे दिए गए गद्यांश को पढ़कर पूछे गए प्रश्नों के उत्तर दीजिए।

मीरा का साहस आज वर्तमान में उपभोग की वस्तु एवं बाजारवाद की शिकार स्त्री के लिए अत्यंत महत्वपूर्ण है। मीरा स्वतंत्रता एवं शक्ति का प्रतीक लगने लगती हैं। मीरा मनुष्य को प्रेम करने की स्वतंत्रता पर बल देती हैं। प्रेम मनुष्य हृदय का विस्तार करता है और विरोध की शक्ति पैदा करता है। मीरा ने स्त्री के उस स्वर को वाणी दी जो सामंतवादी व्यवस्था एवं पितृसत्ता ने दबा रखी थी। मीरा ने समाज से लड़ने के पूर्व परिवार में संघर्ष किया। समाज से पहले अपनों के दमन को झेला। अंततः मीरा द्वारका पहुँचती हैं। मीरा की मृत्यु को लेकर रहस्य है। किवदंती है कि मीरा कृष्ण की मूर्ति में समा गईं। मूर्ति में समाना वैसे ही है जैसे अगस्त जी का घड़े से उत्पन्न होना। मीरा आत्महत्या नहीं कर सकतीं। आत्महत्या करने वाला व्यक्ति संघर्ष करने से डरता है। प्रमाण न होने से किवदंतियों का निर्माण हुआ। मीरा और अधिक समय रह जातीं तो सत्ता को हानि ही थी। वैसे भी संप्रदाय वाले संत भी मीरा से खुश नहीं थे। मीरा ने विरोध का स्वर गाया और दासता स्वीकार नहीं की, न राणा की न ही किसी संप्रदाय की। मीरा जीवन एवं संसार का सत्य जान चुकी थीं। मीरा ने स्वतंत्रता का रस चख लिया तो दुबारा नहीं बांधी जा सकीं।

Sub questions

Question Number : 191 Question Id : 9983677018 Question Type : MCQ Option Shuffling : Yes

Correct Marks : 1 Wrong Marks : 0.25

गद्यांश में किसका उल्लेख है?

Options :

1. ✓ मीरा
2. ✗ महादेवी
3. ✗ लक्ष्मीबाई
4. ✗ आण्डाल

Question Number : 192 Question Id : 9983677019 Question Type : MCQ Option Shuffling : Yes

Correct Marks : 1 Wrong Marks : 0.25

गद्यांश में 'दमन' का आशय है:

Options :

1. ✗ समर्थन
2. ✗ उपेक्षा

3. ✖ परिहास

4. ✔ अत्याचार

Question Number : 193 Question Id : 9983677020 Question Type : MCQ Option Shuffling : Yes

Correct Marks : 1 Wrong Marks : 0.25

‘किंवदंती’ का अर्थ है:

Options :

1. ✖ इतिहास

2. ✖ यथार्थ

3. ✖ कल्पना

4. ✔ लोकापवाद

Question Number : 194 Question Id : 9983677021 Question Type : MCQ Option Shuffling : Yes

Correct Marks : 1 Wrong Marks : 0.25

मनुष्य के हृदय का विस्तार कौन करता है?

Options :

1. ✖ साहस

2. ✖ सत्य

3. ✔ प्रेम

4. ✖ प्रतिरोध

Question Number : 195 Question Id : 9983677022 Question Type : MCQ Option Shuffling : Yes

Correct Marks : 1 Wrong Marks : 0.25

‘पितृसत्ता’ का आशय है:

Options :

1. ✔ पितृ प्रधान राज्य

2. ✖ मातृ प्रधान राज्य

3. ✖ धर्म प्रधान राज्य

4. ✖ प्रेम प्रधान राज्य

Question Id : 9983677017 Question Type : COMPREHENSION Sub Question Shuffling Allowed : Yes Group Comprehension Questions : No

Question Numbers : (191 to 195)

Question Label : Comprehension

नीचे दिए गए गद्यांश को पढ़कर पूछे गए प्रश्नों के उत्तर दीजिए।

मीरा का साहस आज वर्तमान में उपभोग की वस्तु एवं बाजारवाद की शिकार स्त्री के लिए अत्यंत महत्वपूर्ण है। मीरा स्वतंत्रता एवं शक्ति का प्रतीक लगने लगती हैं। मीरा मनुष्य को प्रेम करने की स्वतंत्रता पर बल देती हैं। प्रेम मनुष्य हृदय का विस्तार करता है और विरोध की शक्ति पैदा करता है। मीरा ने स्त्री के उस स्वर को वाणी दी जो सामंतवादी व्यवस्था एवं पितृसत्ता ने दबा रखी थी। मीरा ने समाज से लड़ने के पूर्व परिवार में संघर्ष किया। समाज से पहले अपनों के दमन को झेला। अंततः मीरा द्वारका पहुँचती हैं। मीरा की मृत्यु को लेकर रहस्य है। किवदंती है कि मीरा कृष्ण की मूर्ति में समा गईं। मूर्ति में समाना वैसे ही है जैसे अगस्त जी का घड़े से उत्पन्न होना। मीरा आत्महत्या नहीं कर सकतीं। आत्महत्या करने वाला व्यक्ति संघर्ष करने से डरता है। प्रमाण न होने से किवदंतियों का निर्माण हुआ। मीरा और अधिक समय रह जातीं तो सत्ता को हानि ही थी। वैसे भी संप्रदाय वाले संत भी मीरा से खुश नहीं थे। मीरा ने विरोध का स्वर गाया और दासता स्वीकार नहीं की, न राणा की न ही किसी संप्रदाय की। मीरा जीवन एवं संसार का सत्य जान चुकी थीं। मीरा ने स्वतंत्रता का रस चख लिया तो दुबारा नहीं बांधी जा सकीं।

Sub questions

Question Number : 191 Question Id : 9983677018 Question Type : MCQ Option Shuffling : Yes
Correct Marks : 1 Wrong Marks : 0.25

गद्यांश में किसका उल्लेख है?

Options :

1. ✓ मीरा
2. ✗ महादेवी

3. ✖ लक्ष्मीबाई

4. ✖ आण्डाल

Question Number : 192 Question Id : 9983677019 Question Type : MCQ Option Shuffling : Yes
Correct Marks : 1 Wrong Marks : 0.25

गद्यांश में 'दमन' का आशय है:

Options :

1. ✖ समर्थन

2. ✖ उपेक्षा

3. ✖ परिहास

4. ✔ अत्याचार

Question Number : 193 Question Id : 9983677020 Question Type : MCQ Option Shuffling : Yes
Correct Marks : 1 Wrong Marks : 0.25

'किंवदंती' का अर्थ है:

Options :

1. ✖ इतिहास

2. ✖ यथार्थ

3. ✖ कल्पना

4. ✔ लोकापवाद

Question Number : 194 Question Id : 9983677021 Question Type : MCQ Option Shuffling : Yes
Correct Marks : 1 Wrong Marks : 0.25

मनुष्य के हृदय का विस्तार कौन करता है?

Options :

1. ✖ साहस

2. ✖ सत्य

3. ✔ प्रेम

4. ✖ प्रतिरोध

Question Number : 195 Question Id : 9983677022 Question Type : MCQ Option Shuffling : Yes
Correct Marks : 1 Wrong Marks : 0.25

‘पितृसत्ता’ का आशय है:

Options :

1. ✓ पितृ प्रधान राज्य
2. ✖ मातृ प्रधान राज्य
3. ✖ धर्म प्रधान राज्य
4. ✖ प्रेम प्रधान राज्य

Sub-Section Number: 3
Sub-Section Id: 998367438
Question Shuffling Allowed : Yes

Question Id : 9983677023 Question Type : COMPREHENSION Sub Question Shuffling Allowed : Yes Group Comprehension
Questions : No
Question Numbers : (196 to 200)

Question Label : Comprehension

नीचे दिए गए गद्यांश को पढ़कर पूछे गए प्रश्नों के उत्तर दीजिए।

सौंदर्य के संबंध में विचारकों का एक वर्ग सौंदर्य के वस्तुगत आधार की बात करता है। इस वर्ग के अनुसार सौंदर्य बोध का भौतिक आधार होता है। भौतिक आधार में सामाजिक, ऐतिहासिक तथा वर्ग-स्थिति की बात आती है। यहीं विचारधारा और यथार्थवाद की बात भी उठती है। मार्क्स ने कला और साहित्य के प्रसंग में सौंदर्यबोध, सौंदर्यानुभूति के सामाजिक स्वरूप, विचारधारात्मक अधिरचना में कला, कला का यथार्थ से सौंदर्यशास्त्रीय रिश्ता आदि विषयों पर विचार किया है। मार्क्स के विचारों का विकास बाद में अनेक मार्क्सवादियों ने किया है। यह अनंत स्वरूप रूपात्मक जगत अपने सारे आकर्षण को लिए हुए अनादिकाल से मनुष्य को अपनी ओर आकर्षित करता रहा है। मार्क्सवादी सौंदर्यशास्त्रीय आलोचकों का रचनाकारों से आग्रह रहा है कि वे लोकजीवन की गहराइयों में उतरें, सौंदर्य के इस अक्षय स्रोत का साक्षात्कार कर उससे अपनी सर्जना को स्थायी महत्व एवं प्राणवत्ता प्रदान करें। मार्क्सवाद मानता है कि प्रकृति और उसके अन्य उपकरण अपने आप में न सुंदर हो सकते हैं और न असुंदरा। सौंदर्य की भावना तो मनुष्य में ऐतिहासिक परिस्थितियों के परिणामस्वरूप पैदा होती है। उदाहरण के लिए जो एक देश के लोगों के लिए सुंदर हो सकता है, वह दूसरे के लिए नहीं भी हो सकता है। एक ही देश में सौंदर्य बोध पीढ़ी-दर-पीढ़ी बदलता रहता है।

Sub questions

Question Number : 196 Question Id : 9983677024 Question Type : MCQ Option Shuffling : Yes
Correct Marks : 1 Wrong Marks : 0.25

गद्यांश का वर्ण्य विषय है:

Options :

1. ✖ मार्क्सवाद
2. ✖ सौंदर्यशास्त्र
3. ✔ मार्क्सवादी सौंदर्यशास्त्र
4. ✖ लोक जीवन

Question Number : 197 Question Id : 9983677025 Question Type : MCQ Option Shuffling : Yes
Correct Marks : 1 Wrong Marks : 0.25

‘अक्षय’ का अर्थ है:

Options :

1. ✖ विनाशी

2. ✓ अविनाशी

3. ✗ असीम

4. ✗ सामर्थ्य

Question Number : 198 Question Id : 9983677026 Question Type : MCQ Option Shuffling : Yes

Correct Marks : 1 Wrong Marks : 0.25

‘अनन्त’ का अर्थ है:

Options :

1. ✓ असीम

2. ✗ ससीम

3. ✗ रहस्य

4. ✗ कल्पना

Question Number : 199 Question Id : 9983677027 Question Type : MCQ Option Shuffling : Yes

Correct Marks : 1 Wrong Marks : 0.25

‘उपकरण’ का अर्थ है:

Options :

1. ✗ साध्य

2. ✓ साधन

3. ✗ प्रयोजन

4. ✗ अनुकरण

Question Number : 200 Question Id : 9983677028 Question Type : MCQ Option Shuffling : Yes

Correct Marks : 1 Wrong Marks : 0.25

माक्सवाद् के अनुसार सौंदर्य का आधार क्या है?

Options :

1. ✗ विचारधारा

2. ✗ कल्पना

3. ✗ प्रकृति

4. ✓ लोक जीवन

Question Id : 9983677023 Question Type : COMPREHENSION Sub Question Shuffling Allowed : Yes Group Comprehension Questions : No

Question Numbers : (196 to 200)

Question Label : Comprehension

नीचे दिए गए गद्यांश को पढ़कर पूछे गए प्रश्नों के उत्तर दीजिए।

सौंदर्य के संबंध में विचारकों का एक वर्ग सौंदर्य के वस्तुगत आधार की बात करता है। इस वर्ग के अनुसार सौंदर्य बोध का भौतिक आधार होता है। भौतिक आधार में सामाजिक, ऐतिहासिक तथा वर्ग-स्थिति की बात आती है। यहीं विचारधारा और यथार्थवाद की बात भी उठती है। मार्क्स ने कला और साहित्य के प्रसंग में सौंदर्यबोध, सौंदर्यानुभूति के सामाजिक स्वरूप, विचारधारात्मक अधिरचना में कला, कला का यथार्थ से सौंदर्यशास्त्रीय रिश्ता आदि विषयों पर विचार किया है। मार्क्स के विचारों का विकास बाद में अनेक मार्क्सवादियों ने किया है। यह अनंत स्वरूप रूपात्मक जगत अपने सारे आकर्षण को लिए हुए अनादिकाल से मनुष्य को अपनी ओर आकर्षित करता रहा है। मार्क्सवादी सौंदर्यशास्त्रीय आलोचकों का रचनाकारों से आग्रह रहा है कि वे लोकजीवन की गहराइयों में उतरें, सौंदर्य के इस अक्षय स्रोत का साक्षात्कार कर उससे अपनी सर्जना को स्थायी महत्व एवं प्राणवत्ता प्रदान करें। मार्क्सवाद मानता है कि प्रकृति और उसके अन्य उपकरण अपने आप में न सुंदर हो सकते हैं और न असुंदर। सौंदर्य की भावना तो मनुष्य में ऐतिहासिक परिस्थितियों के परिणामस्वरूप पैदा होती है। उदाहरण के लिए जो एक देश के लोगों के लिए सुंदर हो सकता है, वह दूसरे के लिए नहीं भी हो सकता है। एक ही देश में सौंदर्य बोध पीढ़ी-दर-पीढ़ी बदलता रहता है।

Sub questions

Question Number : 196 Question Id : 9983677024 Question Type : MCQ Option Shuffling : Yes

Correct Marks : 1 Wrong Marks : 0.25

गद्यांश का वर्ण्य विषय है:

Options :

1. ✖ माक्सवाद
2. ✖ सौंदर्यशास्त्र
3. ✔ माक्सवादी सौंदर्यशास्त्र
4. ✖ लोक जीवन

Question Number : 197 Question Id : 9983677025 Question Type : MCQ Option Shuffling : Yes
Correct Marks : 1 Wrong Marks : 0.25

‘अक्षय’ का अर्थ है:

Options :

1. ✖ विनाशी
2. ✔ अविनाशी
3. ✖ असीम
4. ✖ सामर्थ्य

Question Number : 198 Question Id : 9983677026 Question Type : MCQ Option Shuffling : Yes
Correct Marks : 1 Wrong Marks : 0.25

‘अनन्त’ का अर्थ है:

Options :

1. ✔ असीम
2. ✖ ससीम
3. ✖ रहस्य
4. ✖ कल्पना

Question Number : 199 Question Id : 9983677027 Question Type : MCQ Option Shuffling : Yes
Correct Marks : 1 Wrong Marks : 0.25

‘उपकरण’ का अर्थ है:

Options :

1. ✖ साध्य
2. ✔ साधन
3. ✖ प्रयोजन
4. ✖ अनुकरण

Question Number : 200 Question Id : 9983677028 Question Type : MCQ Option Shuffling : Yes
Correct Marks : 1 Wrong Marks : 0.25

मार्क्सवाद के अनुसार सौंदर्य का आधार क्या है?

Options :

1. ✖ विचारधारा
2. ✖ कल्पना
3. ✖ प्रकृति
4. ✔ लोक जीवन

