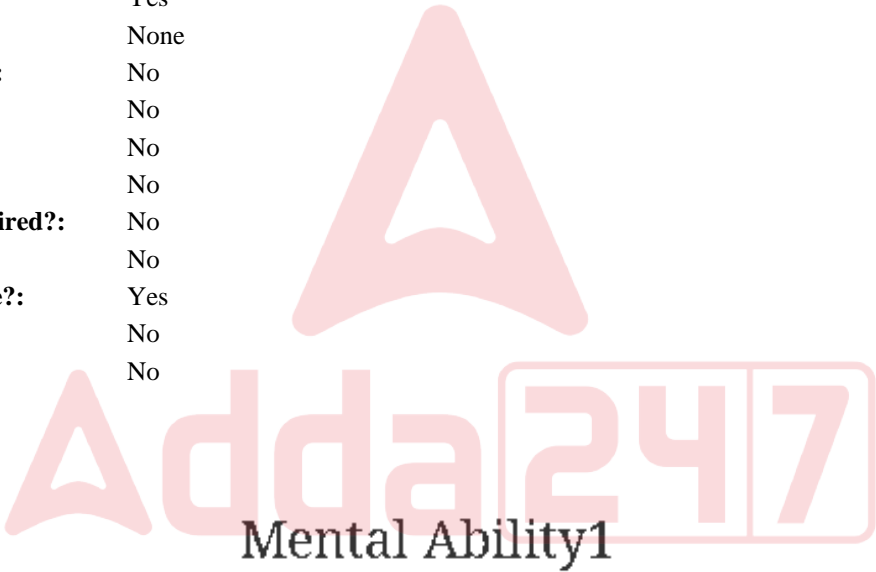


Education Consultant India Ltd.

Notations :

- 1.Options shown in green color and with ✓ icon are correct.
- 2.Options shown in red color and with ✖ icon are incorrect.

Question Paper Name:	GRADE II DASS 22nd July 2019 Shift 3
Subject Name:	GRADE II DASS
Creation Date:	2019-07-22 19:39:51
Duration:	120
Total Marks:	200
Display Marks:	Yes
Share Answer Key With Delivery Engine:	No
Actual Answer Key:	Yes
Calculator:	None
Magnifying Glass Required?:	No
Ruler Required?:	No
Eraser Required?:	No
Scratch Pad Required?:	No
Rough Sketch/Notepad Required?:	No
Protractor Required?:	No
Show Watermark on Console?:	Yes
Highlighter:	No
Auto Save on Console?:	No



Group Number :	1
Group Id :	586180282
Group Maximum Duration :	0
Group Minimum Duration :	0
Show Attended Group? :	No
Edit Attended Group? :	No
Break time:	0
Group Marks:	20
Is this Group for Examiner?:	No
Revisit allowed for group Instructions? :	Yes
Maximum Instruction Time:	0
Minimum Instruction Time:	0

Mental Ability1

Section Id :	586180286
Section Number :	1

Adda247

# Test Prime

**ALL EXAMS, ONE SUBSCRIPTION**



**1,00,000+**  
Mock Tests



**Personalised  
Report Card**



**Unlimited  
Re-Attempt**



**600+**  
Exam Covered



**25,000+** Previous  
Year Papers



**500%**  
Refund



**ATTEMPT FREE MOCK NOW**

Section type :	Online
Mandatory or Optional:	Mandatory
Number of Questions:	20
Number of Questions to be attempted:	20
Section Marks:	20

Sub-Section Number:	1
Sub-Section Id:	586180397
Question Shuffling Allowed :	Yes

Question Number : 1 Question Id : 5861805891 Question Type : MCQ Option Shuffling : Yes  
Correct Marks : 1 Wrong Marks : 0.25

Select the letter cluster which is related to third letter cluster in the same way as the second letter cluster is related to first letter cluster.

COBRA : ZKYOW : : HUMOUR : ?

Options :

1. ✓ EQJKQO

2. ✗ EQJKQP

3. ✗ ERJKRO

4. ✗ FQJKQO



Question Number : 1 Question Id : 5861805891 Question Type : MCQ Option Shuffling : Yes  
Correct Marks : 1 Wrong Marks : 0.25

वह वर्ण समूह चुनें जो तीसरे वर्ण समूह से उसी तरह से संबंधित है, जिस तरह से दूसरा वर्ण समूह पहले वर्ण समूह से संबंधित है।

COBRA : ZKYOW : : HUMOUR : ?

Options :

1. ✓ EQJKQO

2. ✖ EQJKQP

3. ✖ ERJKRO

4. ✖ FQJKQO

Question Number : 2 Question Id : 5861805892 Question Type : MCQ Option Shuffling : Yes

Correct Marks : 1 Wrong Marks : 0.25

Select the number which is related to third number in the same way as the second number is related to first number.

2704 : 52 :: 5184 : ?

Options :

1. ✖ 75

2. ✖ 64

3. ✖ 68

4. ✔ 72

Question Number : 2 Question Id : 5861805892 Question Type : MCQ Option Shuffling : Yes

Correct Marks : 1 Wrong Marks : 0.25

वह संख्या चुनें जो तीसरी संख्या से उसी तरह से संबंधित है, जिस तरह से दूसरी संख्या पहली संख्या से संबंधित है।

2704 : 52 :: 5184 : ?

Options :

1. ✖ 75



2. ✖ 64

3. ✖ 68

4. ✔ 72

Question Number : 3 Question Id : 5861805893 Question Type : MCQ Option Shuffling : Yes

Correct Marks : 1 Wrong Marks : 0.25

Three of the given four number pairs are similar in a certain manner while one is different. Choose the odd one out.

Options :

1. ✖ 552 : 143

2. ✖ 664 : 255

3. ✖ 567 : 323

4. ✔ 711 : 97

Question Number : 3 Question Id : 5861805893 Question Type : MCQ Option Shuffling : Yes

Correct Marks : 1 Wrong Marks : 0.25

चार प्रदत्त संख्या युग्मों में से तीन एक तरीके से समान हैं, जबकि उनमें से एक अलग है। इनमें से विषम चुनें।

Options :

1. ✖ 552 : 143

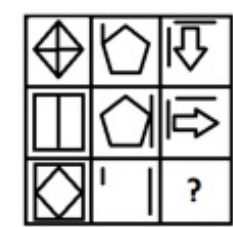
2. ✖ 664 : 255

3. ✖ 567 : 323

4. ✔ 711 : 97

Question Number : 4 Question Id : 5861805894 Question Type : MCQ Option Shuffling : Yes  
Correct Marks : 1 Wrong Marks : 0.25

Select a figure from the options figures that would complete the figure matrix.



Note: For this question, discrepancy is found in question/answer. So, this question is ignored for all candidates.

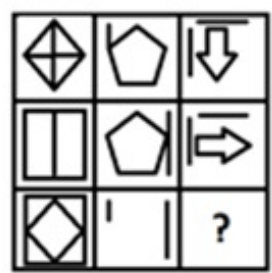
Options :



Question Number : 4 Question Id : 5861805894 Question Type : MCQ Option Shuffling : Yes

Correct Marks : 1 Wrong Marks : 0.25

इन वैकल्पिक आकृतियों में से वह आकृति चुनें जो इस आकृति आव्यूह को पूरा करती है?



Note: For this question, discrepancy is found in question/answer. So, this question is ignored for all candidates.

Options :

1.
2.
3.
4.



Question Number : 5 Question Id : 5861805895 Question Type : MCQ Option Shuffling : Yes

Correct Marks : 1 Wrong Marks : 0.25

Three of the given four letter cluster pairs are similar in a certain manner while one is different. Choose the odd one out.

Options :

1. ✖ SYST : RQWQ

2. ✖ PACK : IAYN

3. ✔ JACU : SAVH

4. ✖ FABR : PZYD

Question Number : 5 Question Id : 5861805895 Question Type : MCQ Option Shuffling : Yes  
Correct Marks : 1 Wrong Marks : 0.25

चार प्रदत्त शब्द युग्मों में से तीन एक तरीके से समान हैं, जबकि उनमें से एक अलग है। इनमें से विषम चुनें।

Options :

1. ✖ SYST : RQWQ

2. ✖ PACK : IAYN

3. ✔ JACU : SAVH

4. ✖ FABR : PZYD

Question Number : 6 Question Id : 5861805896 Question Type : MCQ Option Shuffling : Yes  
Correct Marks : 1 Wrong Marks : 0.25


Select the figure amongst the option figures which has the same characteristics as the two Problem figures.



Problem Figures

Options :

1. ✖



2. ✖



3. ✔



4. ✖




Question Number : 6 Question Id : 5861805896 Question Type : MCQ Option Shuffling : Yes  
Correct Marks : 1 Wrong Marks : 0.25

इन वैकल्पिक आकृतियों में से वह आकृति चुनें जिसके अभिलक्षण प्रश्न में दी गई दो आकृतियों के समान हैं।  
उत्तर आकृति



Problem Figures

Options :



1. ✖



2. ✖



3. ✔



4. ✖

Question Number : 7 Question Id : 5861805897 Question Type : MCQ Option Shuffling : Yes

Correct Marks : 1 Wrong Marks : 0.25

Three of the given four word pairs are similar in a certain manner while one is different. Choose the odd one out:

Options :

1. ✖ Microbiology

2. ✔ Chronology

3. ✖ Biochemistry



4. ✖ Physics

Question Number : 7 Question Id : 5861805897 Question Type : MCQ Option Shuffling : Yes

Correct Marks : 1 Wrong Marks : 0.25

चार प्रदत्त शब्द युग्मों में से तीन एक तरीके से समान हैं, जबकि उनमें से एक अलग है। इनमें से विषम चुनें।

Options :

1. ✖ सूक्ष्मजीव-विज्ञान

2. ✔ कालक्रम विज्ञान

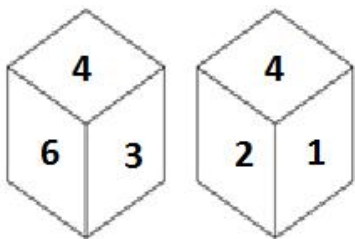
3. ✖ जीव रसायन

4. ✖ भौतिक विज्ञान

Question Number : 8 Question Id : 5861805898 Question Type : MCQ Option Shuffling : Yes

Correct Marks : 1 Wrong Marks : 0.25

Two different positions of the same dice, the faces of which show number 1 to 6, are shown below. Which number is on the face opposite the face showing 1?



Options :

1. ✖ 2

2. ✔ 3

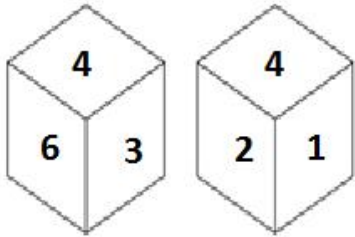
3. ✖ 5

4. ✖ 6

Question Number : 8 Question Id : 5861805898 Question Type : MCQ Option Shuffling : Yes

Correct Marks : 1 Wrong Marks : 0.25

नीचे एक ही डाइस (पासे) की दो अलग-अलग स्थितियाँ दी गई हैं, जिनके फलक पर 1 से 6 तक की संख्याएँ दी हुई हैं। 1 दिखा रहे फलक के सामने वाले फलक पर कौन सी संख्या है?



Options :

1. ✖ 2

2. ✔ 3

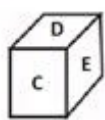
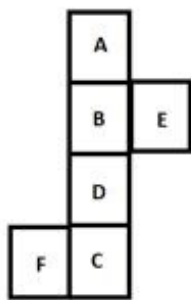
3. ✖ 5

4. ✖ 6

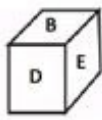
Question Number : 9 Question Id : 5861805899 Question Type : MCQ Option Shuffling : Yes

Correct Marks : 1 Wrong Marks : 0.25

Which of the following patterns of the dices can be formed when the sheet given below is folded?



1



2



3



4

Options :

1. ✖ Only 1 and 2

2. ✖ Only 2 and 4

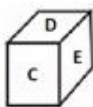
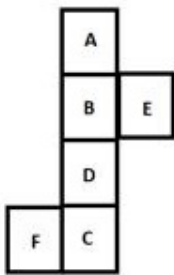
3. ✔ Only 1, 2 and 4

4. ✖ Only 2, 3 and 4

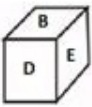
Question Number : 9 Question Id : 5861805899 Question Type : MCQ Option Shuffling : Yes

Correct Marks : 1 Wrong Marks : 0.25

जब प्रदत्त शीट को फ़ोल्ड किया जाता है, तब डाइस (पासे) के पैटर्न्स में से कौन सा पैटर्न बन सकता है?



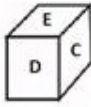
1



2



3



4

Options :

1. ✖ केवल 1 और 2

2. ✖ केवल 2 और 4

3. ✔ केवल 1, 2 और 4

4. ✖ केवल 2, 3 और 4

Question Number : 10 Question Id : 5861805900 Question Type : MCQ Option Shuffling : Yes

Correct Marks : 1 Wrong Marks : 0.25

Himangini started walking from her home and went 38 m towards East. Then she took a left turn and walked 57 m to reach a bank. From the bank she goes 17 m towards East. After that she took a right turn and went 17 m. She finally took a right turn and went 25 m to reach her shop. What is the shortest distance between her home and her shop?

Options :

1. ✖ 40 m

2. ✖ 45 m

3. ✓ 50 m

4. ✗ 55 m

Question Number : 10 Question Id : 5861805900 Question Type : MCQ Option Shuffling : Yes

Correct Marks : 1 Wrong Marks : 0.25

हिमंगिनी अपने घर से चलना शुरू करती है और 38 m पूर्व की ओर चलती है। वहाँ से वह बाईं ओर मुड़ती है और बैंक पर पहुँचने के लिए 57 m चलती है। वह बैंक से 17 m पूर्व की ओर चलती है। उसके बाद वह दाईं ओर मुड़ती है और 17 m चलती है। अंत में वह दाईं ओर मुड़ती है और अपनी दुकान पर पहुँचने के लिए 25 m चलती है। उसके घर और उसकी दुकान के बीच की अल्पतम दूरी पता करें।

Options :

1. ✗ 40 m

2. ✗ 45 m

3. ✓ 50 m

4. ✗ 55 m

Question Number : 11 Question Id : 5861805901 Question Type : MCQ Option Shuffling : Yes

Correct Marks : 1 Wrong Marks : 0.25

Which number will replace the question mark in the given matrix?

8	6	2	68
7	5	6	48
6	4	5	?

Options :

1. ✗ 38

2. ✓ 35

3. ✗ 32

4. ✗ 41

Question Number : 11 Question Id : 5861805901 Question Type : MCQ Option Shuffling : Yes  
Correct Marks : 1 Wrong Marks : 0.25

प्रदत्त आव्यूह में प्रश्न चिह्न के स्थान पर कौन सी संख्या आएगी?

8	6	2	68
7	5	6	48
6	4	5	?

Options :

1. ✗ 38

2. ✓ 35

3. ✗ 32

4. ✗ 41

Question Number : 12 Question Id : 5861805902 Question Type : MCQ Option Shuffling : Yes  
Correct Marks : 1 Wrong Marks : 0.25

Eight friends A, B, C and D, E, F, G and H are sitting around a round table facing the centre and at equal distance from each other. G is third to the right of D. H is at equal distance from A from both right and left ends. F is second to the right of H. A is third to the right of E. C is second to the right of B. Which of the following statement is NOT correct?

Options :



1. ✖ C is sitting between G and H.
2. ✖ C and D are facing each other.
3. ✔ F is second to the left of B.
4. ✖ B and E are facing each other.

Question Number : 12 Question Id : 5861805902 Question Type : MCQ Option Shuffling : Yes  
Correct Marks : 1 Wrong Marks : 0.25

आठ दोस्त A, B, C और D, E, F, G और H एक गोल मेज़ के इर्द-गिर्द केंद्र की तरफ देखते हुए एक दूसरे से समान दूरी पर बैठे हैं। G, D के दाईं ओर तीसरे स्थान पर है। H, A से दाईं और बाईं दोनों तरफ से समान दूरी पर है। F, H के दाईं ओर दूसरे स्थान पर है। A, E के दाईं ओर तीसरे स्थान पर है। C, B के दाईं ओर दूसरे स्थान पर है।

इनमें से कौन सा कथन सही नहीं है?

Options :

1. ✖ C, G और H के बीच में बैठा है।
2. ✖ C और D एक दूसरे के सामने बैठे हैं।
3. ✔ F, B के बाईं ओर दूसरे स्थान पर है।
4. ✖ B और E एक दूसरे के सामने बैठे हैं।

Question Number : 13 Question Id : 5861805903 Question Type : MCQ Option Shuffling : Yes  
Correct Marks : 1 Wrong Marks : 0.25

Eight persons P, Q, R, S, T, U, V and W are sitting around a circular table at equal distance from each other facing the centre. If V is sitting in South-east then which direction is T facing?

Note: For this question, discrepancy is found in question/answer. So, this question is ignored for all candidates.

Options :

1. South-west

2. South

3. West

4. North-east

Question Number : 13 Question Id : 5861805903 Question Type : MCQ Option Shuffling : Yes

Correct Marks : 1 Wrong Marks : 0.25

आठ व्यक्ति P, Q, R, S, T, U, V और W एक गोल मेज़ के इर्द-गिर्द केंद्र की तरफ देखते हुए एक दूसरे से समान दूरी पर बैठे हैं। यदि V दक्षिण-पूर्व दिशा में है, तो T किस दिशा में है?

Note: For this question, discrepancy is found in question/answer. So, this question is ignored for all candidates.

Options :

1. दक्षिण-पश्चिम

2. दक्षिण

3. पश्चिम

4. उत्तर-पूर्व

Question Number : 14 Question Id : 5861805904 Question Type : MCQ Option Shuffling : Yes

Correct Marks : 1 Wrong Marks : 0.25

Five students Akshita, Anusuya, Madhuri, Sneha and Sripada are plays one of five games team i.e. Football, Volleyball, Cricket, Hockey and Kabaddi. Sneha does not play hockey and cricket. Akshita does not play football and hockey. Madhuri plays Volleyball. Anusuya does not play hockey and cricket. Which game is played by Sripada?

Options :

1. ✖ Kabaddi

2. ✖ Cricket

3. ✔ Hockey

4. ✖ Football

Question Number : 14 Question Id : 5861805904 Question Type : MCQ Option Shuffling : Yes

Correct Marks : 1 Wrong Marks : 0.25

पाँच छात्राएँ अक्षिता, अनुसूया, माधुरी, स्नेहा और श्रीपदा पाँच खेलों फुटबाल, वॉलीबॉल, क्रिकेट, हॉकी और कबड्डी में से एक खेल खेलती हैं। स्नेहा हॉकी और क्रिकेट नहीं खेलती है। अक्षिता फुटबाल और हॉकी नहीं खेलती है। माधुरी वॉलीबॉल खेलती है। अनुसूया हॉकी और क्रिकेट नहीं खेलती है। श्रीपदा कौन सा खेल खेलती है?

Options :

1. ✖ कबड्डी

2. ✖ क्रिकेट

3. ✔ हॉकी

4. ✖ फुटबॉल

Question Number : 15 Question Id : 5861805905 Question Type : MCQ Option Shuffling : Yes

Correct Marks : 1 Wrong Marks : 0.25

Select the option that represents the correct water image of the following combination?

## PRACTICAL

Note: For this question, discrepancy is found in question/answer. So, this question is ignored for all candidates.

Options :

- 1. PRACTICAL
- 2. PRACTICAL
- 3. PRACTICAL
- 4. PRACTICAL

Question Number : 15 Question Id : 5861805905 Question Type : MCQ Option Shuffling : Yes  
Correct Marks : 1 Wrong Marks : 0.25

इन आकृतियों में से कौन सी आकृति प्रदत्त आकृति की दर्पण छवि दर्शाती है?

PRACTICAL

Note: For this question, discrepancy is found in question/answer. So, this question is ignored for all candidates.

Options :

- 1. PRACTICAL
- 2. PRACTICAL
- 3. PRACTICAL
- 4. PRACTICAL

Question Number : 16 Question Id : 5861805906 Question Type : MCQ Option Shuffling : Yes  
Correct Marks : 1 Wrong Marks : 0.25

Four statements are given, followed by three conclusions. The symbols used in them have meanings as follows:

$P @ Q$  means  $P$  is neither smaller than nor greater than  $Q$ .

$P \& Q$  means  $P$  is neither greater than nor equal to  $Q$ .

$P \# Q$  means  $P$  is neither smaller than nor equal to  $Q$ .

$P \% Q$  means  $P$  is not greater than  $Q$ .

$P \$ Q$  means  $P$  is not smaller than  $Q$ .

Now read the following statements and decide which of the conclusions is/are true.

**Statements:**

I.  $H \# Q$

II.  $Q @ Z$

III.  $Z \# L$

IV.  $L \& Y$

**Conclusions:**

I.  $H \# L$

II.  $Z \# H$

III.  $Q \& Z$

**Options :**

1. ✓ Only conclusion I is true.

2. ✗ Only conclusions I and II are true.

3. ✗ Only conclusions I and III are true.

4. ✗ Only conclusions II and III are true.

Question Number : 16 Question Id : 5861805906 Question Type : MCQ Option Shuffling : Yes

Correct Marks : 1 Wrong Marks : 0.25



चार कथन दिए गए हैं और उनके बाद तीन निष्कर्ष भी दिए गए हैं। इनमें प्रयुक्त प्रतीकों का अर्थ निम्नानुसार है:

$P @ Q$  का अर्थ है कि  $P$  न तो  $Q$  से छोटा है और न बड़ा है।

$P \& Q$  का अर्थ है कि  $P$  न तो  $Q$  से बड़ा है और न बराबर है।

$P \# Q$  का अर्थ है कि  $P$  न तो  $Q$  से छोटा है और न बराबर है।

$P \% Q$  का अर्थ है कि  $P$ ,  $Q$  से बड़ा नहीं है।

$P \$ Q$  का अर्थ है कि  $P$ ,  $Q$  से छोटा नहीं है।

अब निम्न कथनों को पढ़ें और तय करें कि इनमें से कौन सा/से निष्कर्ष सही है/हैं।

कथन:

I.  $H \# Q$

II.  $Q @ Z$

III.  $Z \# L$

IV.  $L \& Y$

निष्कर्ष:

I.  $H \# L$

II.  $Z \# H$

III.  $Q \& Z$

Options :

1. ✓ केवल निष्कर्ष I सही है।

2. ✗ केवल निष्कर्ष I और II सही है।

3. ✗ केवल निष्कर्ष I और III सही है।

4. ✗ केवल निष्कर्ष II और III सही है।

Question Number : 17 Question Id : 5861805907 Question Type : MCQ Option Shuffling : Yes

Correct Marks : 1 Wrong Marks : 0.25



Three statements are given, followed by four conclusions numbered I to IV. Assuming the statements to be true even if they seem to be at variance with commonly known facts, decide which of the conclusions logically follow(s) from the given statements.

**Statements:**

All pen-drives are chargers.

Some pen-drives are televisions.

Some televisions are radios.

**Conclusions:**

I. Some chargers are televisions.

II. Some radios are pen-drives.

III. No radio is pen-drive.

IV. No charger is television.

**Options :**

1. ✖ Only conclusion I and II follow.

2. ✖ Either conclusion II or III follow.

3. ✔ Only conclusion I and either II or III follow.

4. ✖ All conclusion follows.

Question Number : 17 Question Id : 5861805907 Question Type : MCQ Option Shuffling : Yes

Correct Marks : 1 Wrong Marks : 0.25

तीन कथन दिए गए हैं और उसके बाद I से IV अंकित चार निष्कर्ष भी दिए गए हैं। मान लें कि ये कथन सही हैं, भले ही ये वास्तविक तथ्यों से परे हैं, तब भी यह तय करें कि नीचे दिया गया कौन सा निष्कर्ष तार्किक रूप से निम्नलिखित कथन का अनुसरण करता है।

**कथन:**

सभी पेन-ड्राइव चार्जर हैं।

कुछ पेन-ड्राइव टेलिविज़न हैं।

कुछ टेलिविज़न रेडियो हैं।

**निष्कर्ष:**

I. कुछ चार्जर टेलिविज़न हैं।

II. कुछ रेडियो पेन-ड्राइव हैं।

III. कोई भी रेडियो पेन-ड्राइव नहीं है।

IV. कोई भी चार्जर टेलिविज़न नहीं है।

**Options :**

1. ✗ केवल निष्कर्ष I और II अनुसरण करते हैं।

2. ✗ निष्कर्ष II और III में से कोई अनुसरण करता है।

3. ✓ निष्कर्ष I और II या III में से केवल एक अनुसरण करता है।

4. ✗ सभी निष्कर्ष अनुसरण करते हैं।

Question Number : 18 Question Id : 5861805908 Question Type : MCQ Option Shuffling : Yes

Correct Marks : 1 Wrong Marks : 0.25

A team of six persons is to be selected from among five doctors, A, B, C, D and E, and five engineers, P, Q, R, S and T, such that there are at least four doctors in the team and it meets the following criteria:

- i. C and S cannot go together.
- ii. A and R must go together.
- iii. C and Q must be together.
- iv. D and T cannot go together.
- v. C and D must go together.

Which of the following teams can be formed?

1. BSQCTD
2. EDRQBC
3. BTDECQ
4. CAQRBD

Options :

1. ✓ Only 4

2. ✗ 1 and 2

3. ✗ 3 and 4

4. ✗ 2 and 4

Question Number : 18 Question Id : 5861805908 Question Type : MCQ Option Shuffling : Yes  
Correct Marks : 1 Wrong Marks : 0.25

पाँच डॉक्टरों A, B, C, D और E और पाँच इंजीनियरों P, Q, R, S और T में से छः टीम को इस प्रकार से चुना जाना है कि टीम में कम से कम चार डॉक्टर हों और निम्नलिखित मानदंड पूरे करते हों:

- C और S एक साथ नहीं हो सकते।
- A और R एक साथ होने चाहिए।
- C और Q एक साथ होने चाहिए।
- D और T एक साथ नहीं हो सकते।
- C और D एक साथ होने चाहिए।

इनमें से कौन सा विकल्प एक टीम बन सकती है?

- BSQCTD
- EDRQBC
- BTDECQ
- CAQRBD

Options :

1. ✓ केवल 4

2. ✗ 1 और 2

3. ✗ 3 और 4

4. ✗ 2 और 4

Question Number : 19 Question Id : 5861805909 Question Type : MCQ Option Shuffling : Yes

Correct Marks : 1 Wrong Marks : 0.25

In a class, Sanjay is ranked 11<sup>th</sup> from the top and 27<sup>th</sup> from the bottom. Can you tell how many students are there in the class?

Options :

1. ✗ 32

2. ✖ 35

3. ✔ 37

4. ✖ 40

Question Number : 19 Question Id : 5861805909 Question Type : MCQ Option Shuffling : Yes

Correct Marks : 1 Wrong Marks : 0.25

एक कक्षा में, संजय ऊपर से 11वे और नीचे से 27वे स्थान पर है। तो ज्ञात करें कि कक्षा में कितने छात्र हैं?

Options :

1. ✖ 32

2. ✖ 35

3. ✔ 37

4. ✖ 40

Question Number : 20 Question Id : 5861805910 Question Type : MCQ Option Shuffling : Yes

Correct Marks : 1 Wrong Marks : 0.25

Anand is the paternal uncle of Babeeta, who is the daughter of Champa. Champa on the other hand is the daughter-in-law of Pramod. How is Anand related to Pramod?

Options :

1. ✖ Father

2. ✔ Son

3. ✖ Brother

4. ✖ Grandson

Question Number : 20 Question Id : 5861805910 Question Type : MCQ Option Shuffling : Yes  
Correct Marks : 1 Wrong Marks : 0.25

आनंद बबीता का चाचा है, जो चंपा की बेटी है। दूसरी ओर चंपा प्रमोद की बहू है। आनंद और प्रमोद का रिश्ता पता करें?

Options :

1. ✖ पिता

2. ✔ बेटा

3. ✖ भाई

4. ✖ पोता



## Mental Ability2

Group Number :	2
Group Id :	586180283
Group Maximum Duration :	0
Group Minimum Duration :	0
Show Attended Group? :	No
Edit Attended Group? :	No
Break time:	0
Group Marks:	20
Is this Group for Examiner?:	No
Revisit allowed for group Instructions? :	Yes
Maximum Instruction Time:	0
Minimum Instruction Time:	0



Mental Ability2

Section Id :	586180287
Section Number :	1
Section type :	Online
Mandatory or Optional:	Mandatory
Number of Questions:	20
Number of Questions to be attempted:	20
Section Marks:	20

Sub-Section Number:	1
Sub-Section Id:	586180398
Question Shuffling Allowed :	Yes

Question Number : 21 Question Id : 5861805911 Question Type : MCQ Option Shuffling : Yes  
Correct Marks : 1 Wrong Marks : 0.25

Which of the option figures represents the correct water image of the figure given below?



Options :





Question Number : 21 Question Id : 5861805911 Question Type : MCQ Option Shuffling : Yes  
Correct Marks : 1 Wrong Marks : 0.25

इन आकृतियों में से कौन सी आकृति प्रदत्त आकृति की दर्पण छवि दर्शाती है?



Options :



Question Number : 22 Question Id : 5861805912 Question Type : MCQ Option Shuffling : Yes  
Correct Marks : 1 Wrong Marks : 0.25

Select the correct mirror image of the given cluster when a vertical mirror is placed on the right of the word.

CDSE54ft34p2

Options :

1. ✖ Sq7E34ft34p2

2. ✖ Sq4E34ft34p2

3. ✖ 7q4E34ft34p2

4. ✔ Sq4E34ft34p2

Question Number : 22 Question Id : 5861805912 Question Type : MCQ Option Shuffling : Yes  
Correct Marks : 1 Wrong Marks : 0.25

प्रदत्त समूह की सही दर्पण छवि चुनें, अगर शब्द के दाहिने ओर एक ऊर्ध्वाधर दर्पण रखा जाता है।

CDSE54ft34p2

Options :

1. ✖ Sq7E34ft34p2

2. ✖ Sq4E34ft34p2

3. ✖ 7q4E34ft34p2

4. ✔ Sq4E34ft34p2

Question Number : 23 Question Id : 5861805913 Question Type : MCQ Option Shuffling : Yes

Correct Marks : 1 Wrong Marks : 0.25

Eight symbol-number clusters are given below three of which are same. Find the three clusters that are exactly same.

(A) % 6 & 3 4 # @ 3 % \$ # @ \* & ^ #

(B) % 6 & 3 4 # @ 4 % \$ \$ @ \* & ^ #

(C) % 6 @ 3 4 # @ 4 % \$ # @ \* & ^ #

(D) % 6 & 3 4 # @ 4 % \$ # @ \* & ^ #

(E) % 6 & 8 4 # @ 4 % \$ # @ \* & ^ #

(F) % 6 & 3 4 # @ 4 % \$ # @ \* & ^ #

(G) % 6 & 3 4 # @ 4 % \$ # @ \* & ^ #

(H) % 6 & 3 4 # @ 4 & \$ # @ \* & ^ #

Options :

1. ✖ B, C and E

2. ✖ A, C and D

3. ✖ B, F and H

4. ✔ D, F and G

Question Number : 23 Question Id : 5861805913 Question Type : MCQ Option Shuffling : Yes

Correct Marks : 1 Wrong Marks : 0.25

नीचे आठ प्रतीक-संख्या के समूह दिए गए हैं, इनमें से तीन एक समान हैं। बिल्कुल समान तीन समूह पता करें।

(A) % 6 & 3 4 # @ 3 % \$ # @ \* & ^ #

(B) % 6 & 3 4 # @ 4 % \$ \$ @ \* & ^ #

(C) % 6 @ 3 4 # @ 4 % \$ # @ \* & ^ #

(D) % 6 & 3 4 # @ 4 % \$ # @ \* & ^ #

(E) % 6 & 8 4 # @ 4 % \$ # @ \* & ^ #

(F) % 6 & 3 4 # @ 4 % \$ # @ \* & ^ #

(G) % 6 & 3 4 # @ 4 % \$ # @ \* & ^ #

(H) % 6 & 3 4 # @ 4 & \$ # @ \* & ^ #

Options :

1. ✖ B, C और E

2. ✖ A, C और D

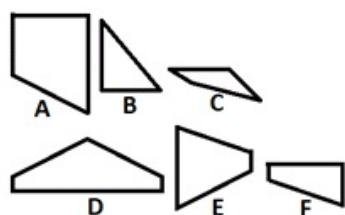
3. ✖ B, F और H

4. ✔ D, F और G

Question Number : 24 Question Id : 5861805914 Question Type : MCQ Option Shuffling : Yes

Correct Marks : 1 Wrong Marks : 0.25

Which of the given figures, when fitted into each other would form a hexagon? Select an appropriate combination from the given options.



Options :

1. ✖ ABCD

2. ✖ ABDE

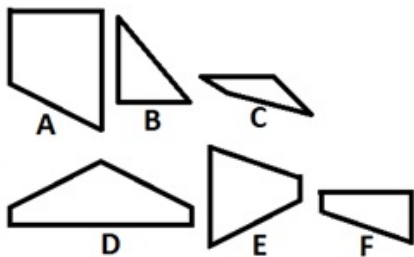
3. ✖ CDEF

4. ✔ ADEF

Question Number : 24 Question Id : 5861805914 Question Type : MCQ Option Shuffling : Yes

Correct Marks : 1 Wrong Marks : 0.25

इनमें से किस आकृति को एक दूसरे में फिट करने पर एक षट्कोण बनेगा? प्रदत्त विकल्पों में से समुचित संयोजन चुनें।



Options :

1. ✖ ABCD

2. ✖ ABDE

3. ✖ CDEF

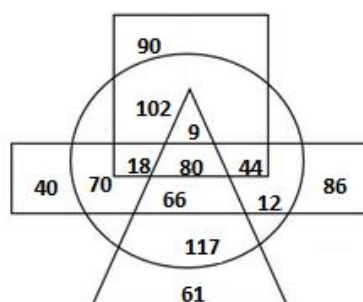
4. ✔ ADEF

Question Number : 25 Question Id : 5861805915 Question Type : MCQ Option Shuffling : Yes

Correct Marks : 1 Wrong Marks : 0.25



In the diagram given below, the circle stands for 'Boys', the triangle stands for 'Students', the rectangle stands for 'Part time workers', and the square stands for 'Hostellers'. The numbers in different segments represent the number of persons.



Which of following statement is NOT correct?

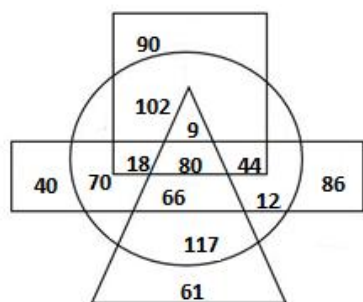
Options :

1. ✖ The number of boys who are students and hostellers but are not part time workers is 9.
2. ✖ The number of boys who are students and hostellers and part time workers is 80.
3. ✔ The number of boys who are part time workers but are neither students nor hostellers is 70.
4. ✖ The number of boys students who are part time workers but are not hostellers is 66.

Question Number : 25 Question Id : 5861805915 Question Type : MCQ Option Shuffling : Yes

Correct Marks : 1 Wrong Marks : 0.25

नीचे प्रदत्त आरेख में, वृत्त 'लड़कों' को दर्शाता है, त्रिभुज 'छात्र' को दर्शाता है, आयत 'अंशकालिक कर्मचारी' को दर्शाता है और वर्ग 'छात्रावास में रहनेवालों' को दर्शाता है। अलग-अलग खंडों की दी गई संख्याएँ व्यक्तियों की संख्या को दर्शाती हैं।



इनमें से कौन सा कथन सही नहीं है?

Options :

1. ✖

ऐसे लड़कों की संख्या 9 है जो छात्र हैं और छात्रावास में रहते हैं लेकिन अंशकालिक कर्मचारी नहीं हैं।

2. ✖

ऐसे लड़कों की संख्या 80 है जो छात्र हैं और छात्रावास में रहते हैं और अंशकालिक कर्मचारी हैं।

3. ✔

ऐसे लड़कों की संख्या 70 है जो अंशकालिक कर्मचारी हैं लेकिन वह न तो छात्र हैं और न ही छात्रावास में रहते हैं।

4. ✖

ऐसे लड़कों की संख्या 66 है जो छात्र हैं और अंशकालिक कर्मचारी भी हैं लेकिन वे छात्रावास में नहीं रहते हैं।

Question Number : 26 Question Id : 5861805916 Question Type : MCQ Option Shuffling : Yes

Correct Marks : 1 Wrong Marks : 0.25

Select the option figure which contains figure X embedded in it as its part.


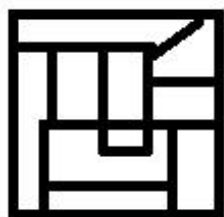
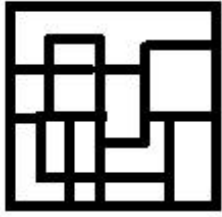


Figure-X

Options :



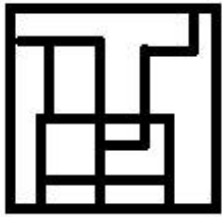
1. ✖



2. ✖



### 3. ×



4. ✓

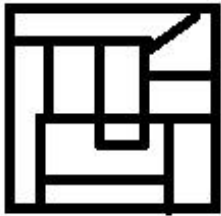
**Question Number : 26 Question Id : 5861805916 Question Type : MCQ Option Shuffling : Yes**  
**Correct Marks : 1 Wrong Marks : 0.25**

इनमें से वह आकृति चुनें जो आकृति X में अंतःस्थापित है।

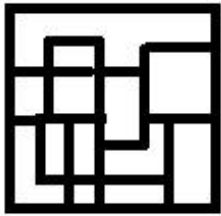


आकृति X

**Options :**



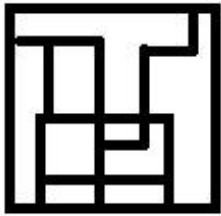
1. ➤



2. ✖



3. ✖



4. ✔

Question Number : 27 Question Id : 5861805917 Question Type : MCQ Option Shuffling : Yes  
Correct Marks : 1 Wrong Marks : 0.25

Which of the following option figure will complete the pattern in the figure given below?



Options :



1. ✔



2. ✖

3. ✖ 

4. ✖ 

Question Number : 27 Question Id : 5861805917 Question Type : MCQ Option Shuffling : Yes

Correct Marks : 1 Wrong Marks : 0.25

इनमें से कौन सी आकृति नीचे नीचे दी गई आकृति पैटर्न को पूरा करेगी?



Options :

1. ✔ 

2. ✖ 

3. ✖ 

4. ✖ 

Question Number : 28 Question Id : 5861805918 Question Type : MCQ Option Shuffling : Yes

Correct Marks : 1 Wrong Marks : 0.25

What will be the value of the following equation if '÷' means 'addition', '+' means 'subtraction', '-' means 'multiplication' and '×' means 'division'?

$$28 \times 4 - 9 + 11 \div 2 = ?$$

Options :

1. ✖ 52

2. ✔ 54

3. ✖ 56

4. ✖ 58

Question Number : 28 Question Id : 5861805918 Question Type : MCQ Option Shuffling : Yes

Correct Marks : 1 Wrong Marks : 0.25

इस समीकरण का मान पता करें यदि '÷' का अर्थ 'जोड़' है, '+' का अर्थ 'घटाव' है, '-' का अर्थ 'गुणन' है और '×' का अर्थ 'भाग करना' है?

$$28 \times 4 - 9 + 11 \div 2 = ?$$

Options :

1. ✖ 52

2. ✔ 54

3. ✖ 56

4. ✖ 58

Question Number : 29 Question Id : 5861805919 Question Type : MCQ Option Shuffling : Yes

Correct Marks : 1 Wrong Marks : 0.25



$A + B$  means 'A is brother of B'

$A - B$  means 'A is mother of B'

$A \times B$  means 'A is husband of B'

$A \div B$  means 'A is father of B'

$A \$ B$  means 'A is brother of B'

If  $X + J \div Q \times V - L$ , then which of the following statement is correct?

Options :

1. ✖ J is father of V.

2. ✖ L is mother of Q.

3. ✖ X is grandmother of L.

4. ✔ J is paternal grandfather of L.

Question Number : 29 Question Id : 5861805919 Question Type : MCQ Option Shuffling : Yes

Correct Marks : 1 Wrong Marks : 0.25

$A + B$  का अर्थ है 'A, B का भाई है'

$A - B$  का अर्थ है 'A, B की माता है'

$A \times B$  का अर्थ है 'A, B का पति है'

$A \div B$  का अर्थ है 'A B का पिता है'

$A \$ B$  का अर्थ है 'A, B का भाई है'

यदि  $X + J \div Q \times V - L$  है, तो इनमें से कौन सा कथन सही है?

Options :

1. ✖ J, V का पिता है।

2. ✖ L, Q की माता है।

3. ✖ X, L की दादी है।

4. ✔ J, L का दादा है।

Question Number : 30 Question Id : 5861805920 Question Type : MCQ Option Shuffling : Yes

Correct Marks : 1 Wrong Marks : 0.25

A question is given, followed by four statements labelled I, II, III and IV, each containing some information. Decide which of the statements is/are sufficient/necessary to answer the question.

**Question:**

How is L related to K?

**Statements**

- I. R is wife of Q.
- II. L is maternal grandfather of O.
- III. Q is K's father.
- IV. O is brother of K.

**Options :**

1. ✖ Statement II and III together are sufficient.

2. ✔ Statement II and IV together are sufficient.

3. ✖ Statement II, III and IV together are sufficient.

4. ✖ All the statements together are necessary.

Question Number : 30 Question Id : 5861805920 Question Type : MCQ Option Shuffling : Yes

Correct Marks : 1 Wrong Marks : 0.25

दिए गए प्रश्नमें I, II, III और IV लेबल के तहत चार कथन दिए गए हैं, प्रत्येक में कुछ न कुछ जानकारी दी गई है। तय करें कि प्रश्न का उत्तर देने के लिए इनमें से कौन सा/से कथन पर्याप्त/ज़रूरी है/हैं।

प्रश्न:

L, K से कैसे सम्बंधित है?

कथन:

- I. R, Q की पत्नी है
- II. L, O के नाना हैं
- III. Q, K के पिता हैं
- IV. O, K का भाई है

Options :

1. ✖ कथन II और III एकसाथ पर्याप्त हैं।

2. ✔ कथन II और IV एकसाथ पर्याप्त हैं।

3. ✖ कथन II, III और IV एकसाथ पर्याप्त हैं।

4. ✖ सभी कथन एकसाथ पर्याप्त हैं।

Question Number : 31 Question Id : 5861805921 Question Type : MCQ Option Shuffling : Yes

Correct Marks : 1 Wrong Marks : 0.25

If 'PASCAL' is coded as 102 in a code language, how would 'MANUAL' be coded in the same code language?

Options :

1. ✔ 97

2. ✖ 98

3. ✖ 99

4. ✖ 100

Question Number : 31 Question Id : 5861805921 Question Type : MCQ Option Shuffling : Yes

Correct Marks : 1 Wrong Marks : 0.25

यदि किसी कोड भाषा में 'PASCAL' को 102 कोड किया गया है, तो उसी कोड भाषा में 'MANUAL' को क्या कोड किया जाएगा?

Options :

1. ✔ 97

2. ✖ 98

3. ✖ 99

4. ✖ 100

Question Number : 32 Question Id : 5861805922 Question Type : MCQ Option Shuffling : Yes

Correct Marks : 1 Wrong Marks : 0.25

Which of the following pairs of numbers and signs, when their positions are interchanged, will correctly solve the given mathematical equation?

$$238 \div 119 + 14 \times 17 - 208 = 107$$

Options :

1. ✖ 208 and 119, + and -

2. ✖ 208 and 14, - and  $\times$

3. ✔ 119 and 17, + and  $\times$

4. ✖ 119 and 14, + and ×

Question Number : 32 Question Id : 5861805922 Question Type : MCQ Option Shuffling : Yes

Correct Marks : 1 Wrong Marks : 0.25

संख्याओं और चिह्नों के इन युग्मों में से कौन से युग्म में उनके स्थानको आपस में बदलने पर नीचे दिए गए गणितीय समीकरण को सही से हल करेगा?

$$238 \div 119 + 14 \times 17 - 208 = 107$$

Options :

1. ✖ 208 और 119, + और -

2. ✖ 208 और 14, - और ×

3. ✔ 119 और 17, + और ×

4. ✖ 119 और 14, + और ×

Question Number : 33 Question Id : 5861805923 Question Type : MCQ Option Shuffling : Yes

Correct Marks : 1 Wrong Marks : 0.25

A total of 640 students like three different fruits i.e. Mango, Pineapple and Grapes. Only 20% like all three fruits. The number of students who like any two and only two fruits is 25% of the total students. The number of students who like Pineapple alone is 127. What is the total number of students who like Mango alone or Grapes alone?

Options :

1. ✖ 215

2. ✖ 220

3. ✔ 225



4. ✖ 235

Question Number : 33 Question Id : 5861805923 Question Type : MCQ Option Shuffling : Yes

Correct Marks : 1 Wrong Marks : 0.25

कुल 640 छात्रों को आम, अनानास, अंगूर के फल पसंद हैं। केवल 20% को सभी फल पसंद हैं। किन्हीं दो या केवल दो फलों को पसंद करने वाले छात्रों की संख्या कुल संख्या का 25% है। केवल अनानास पसंद करने वालों की संख्या 127 है। केवल आम, या केवल अंगूर पसंद करने वाले छात्रों की संख्या ज्ञात करें?

Options :

1. ✖ 215

2. ✖ 220

3. ✔ 225

4. ✖ 235

Question Number : 34 Question Id : 5861805924 Question Type : MCQ Option Shuffling : Yes

Correct Marks : 1 Wrong Marks : 0.25

Among five objects K, L, M, N and O; K is nine times heavier than L; M is eight times heavier than N; O is three times heavier than L. O is two and a half times as heavy as M. Which of the following the statements is NOT correct?

Options :

1. ✖ O is 20 times heavier than N.

2. ✖ L is lighter than O.

3. ✔ O is lighter than M

4. ✖ K is 3 times heavier than O.



Question Number : 34 Question Id : 5861805924 Question Type : MCQ Option Shuffling : Yes

Correct Marks : 1 Wrong Marks : 0.25

पाँच वस्तुओं K, L, M, N और O में से; K, L से नौ गुना भारी है; M, N से आठ गुना भारी है; O, L से तीन गुना भारी है। O, M से ढाई गुना भारी है। इनमें से कौन सा कथन सही नहीं है?

Options :

1. ✖ O, N से 20 गुना भारी है।

2. ✖ L, O से हल्का है।

3. ✔ O, M से हल्का है।

4. ✖ K, O से 3 गुना भारी है।

Question Number : 35 Question Id : 5861805925 Question Type : MCQ Option Shuffling : Yes

Correct Marks : 1 Wrong Marks : 0.25

Four persons A, B, C and D have different amount of rupees with them. A says to C, 'If I give you 14 rupees, I will have equal amount of money as B have.' B says to C, 'If I give you 14 rupees, we both will have equal amount of rupees with us.' C says to A, 'If you give me 12 rupees, I will have equal amount of rupees as D have.' If A and C together have total 214 rupees, how many rupees does C have?

Options :

1. ✖ 84

2. ✔ 86

3. ✖ 88

4. ✖ 90

Question Number : 35 Question Id : 5861805925 Question Type : MCQ Option Shuffling : Yes

Correct Marks : 1 Wrong Marks : 0.25

चार व्यक्ति A, B, C और D के पास रुपये में अलग-अलग धनराशि हैं। A, C से कहता है, “अगर मैं तुम्हें 14 रुपये दे दूँ, तो मेरे पास B जितने रुपये हो जाएँगे।” B, C से कहता है, “अगर मैं तुम्हें 14 रुपये दे दूँ, तो हमारे पास बराबर रुपये हो जाएँगे।” C, A से कहता है, “अगर तुम मुझे 12 रुपये दे दो, तो मेरे पास D जितने रुपये हो जाएँगे।” यदि A और C दोनों के पास कुल 214 रुपये हैं, तो C के पास कितने रुपये हैं?

Options :

1. ✖ 84

2. ✔ 86

3. ✖ 88

4. ✖ 90

Question Number : 36 Question Id : 5861805926 Question Type : MCQ Option Shuffling : Yes

Correct Marks : 1 Wrong Marks : 0.25

Three of the given four words are similar in a certain manner while one is different. Choose the odd one out:

Options :

1. ✖ Lethargy

2. ✖ Inertia

3. ✔ Exuberance

4. ✖ Drowsiness

Question Number : 36 Question Id : 5861805926 Question Type : MCQ Option Shuffling : Yes

Correct Marks : 1 Wrong Marks : 0.25

प्रदत्त चार शब्दों में से तीन एक तरह से समान हैं, जबकि एक अलग है। इनमें से विषम चुनें।

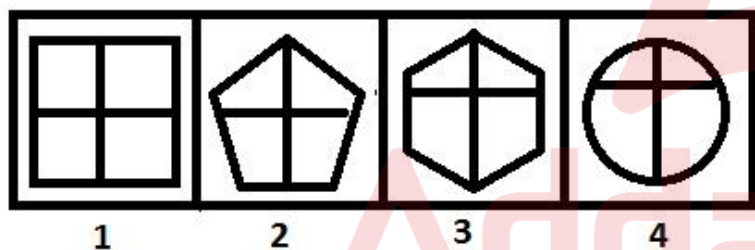
Options :

1. ✖ सुस्ती (Lethargy)
2. ✖ जड़ता (Inertia)
3. ✔ अधिकता (Exuberance)
4. ✖ उनीदापन (Drowsiness)

Question Number : 37 Question Id : 5861805927 Question Type : MCQ Option Shuffling : Yes

Correct Marks : 1 Wrong Marks : 0.25

Three of the given four figures are similar in a certain manner while one is different. Choose the odd one out:



1

2

3

4

Options :

1. ✖ 1

2. ✖ 2

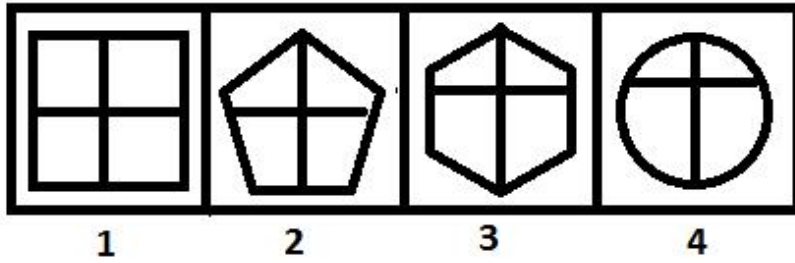
3. ✖ 3

4. ✔ 4

Question Number : 37 Question Id : 5861805927 Question Type : MCQ Option Shuffling : Yes

Correct Marks : 1 Wrong Marks : 0.25

दी गई चार आकृतियों में से तीन एक तरीके से समान हैं, जबकि एक अलग है। इनमें से विषम चुनें।



Options :

1. ✖ 1

2. ✖ 2

3. ✖ 3

4. ✔ 4

Question Number : 38 Question Id : 5861805928 Question Type : MCQ Option Shuffling : Yes

Correct Marks : 1 Wrong Marks : 0.25

Which number will replace the question mark (?) in the following series?

37, 38, 38, 40, ?, 83

Options :

1. ✖ 56

2. ✖ 70

3. ✖ 76

4. ✔ 80

Question Number : 38 Question Id : 5861805928 Question Type : MCQ Option Shuffling : Yes

Correct Marks : 1 Wrong Marks : 0.25

वह विकल्प चुनें जो श्रृंखला में प्रश्न चिन्ह (?) को सही प्रतिस्थापित करेगा।

37, 38, 38, 40, ?, 83

Options :

1. ✖ 56

2. ✖ 70

3. ✖ 76

4. ✔ 80

Question Number : 39 Question Id : 5861805929 Question Type : MCQ Option Shuffling : Yes

Correct Marks : 1 Wrong Marks : 0.25

Which number will replace the question mark (?) in the following series?

61, 65, 76, 106, ?

Options :

1. ✖ 171

2. ✖ 172

3. ✔ 173

4. ✖ 174

Question Number : 39 Question Id : 5861805929 Question Type : MCQ Option Shuffling : Yes

Correct Marks : 1 Wrong Marks : 0.25

वह विकल्प चुनें जो श्रृंखला में प्रश्न चिन्ह (?) को सही प्रतिस्थापित करेगा।

61, 65, 76, 106, ?

Options :

1. ✖ 171

2. ✖ 172

3. ✔ 173

4. ✖ 174

Question Number : 40 Question Id : 5861805930 Question Type : MCQ Option Shuffling : Yes

Correct Marks : 1 Wrong Marks : 0.25

Which number will replace the question mark (?) in the following series?

86, 98, 127, 179, 261, ?

Options :

1. ✔ 381

2. ✖ 382

3. ✖ 383

4. ✖ 384

Question Number : 40 Question Id : 5861805930 Question Type : MCQ Option Shuffling : Yes

Correct Marks : 1 Wrong Marks : 0.25

वह विकल्प चुनें जो श्रृंखला में प्रश्न चिन्ह (?) को सही प्रतिस्थापित करेगा।

86, 98, 127, 179, 261, ?



Options :

1. ✓ 381

2. ✗ 382

3. ✗ 383

4. ✗ 384

General Awareness1

Group Number :	3
Group Id :	586180284
Group Maximum Duration :	0
Group Minimum Duration :	0
Show Attended Group? :	No
Edit Attended Group? :	No
Break time:	0
Group Marks:	20
Is this Group for Examiner?:	No
Revisit allowed for group Instructions? :	Yes
Maximum Instruction Time:	0
Minimum Instruction Time:	0

General Awareness1

Section Id :	586180288
Section Number :	1
Section type :	Online
Mandatory or Optional:	Mandatory
Number of Questions:	20
Number of Questions to be attempted:	20
Section Marks:	20

Sub-Section Number:	1
Sub-Section Id:	586180399
Question Shuffling Allowed :	Yes

Question Number : 41 Question Id : 5861805931 Question Type : MCQ Option Shuffling : Yes  
Correct Marks : 1 Wrong Marks : 0.25

Which biome has permafrost as its defining feature?

Options :

1. ✓ Tundra
2. ✗ Savannah
3. ✗ Deciduous forest
4. ✗ Mangroves

Question Number : 41 Question Id : 5861805931 Question Type : MCQ Option Shuffling : Yes  
Correct Marks : 1 Wrong Marks : 0.25

स्थायी हिम, किस जैवक्षेत्र (biome) की खास विशेषता है?

Options :

1. ✓ टुंड्रा
2. ✗ सवाना
3. ✗ पर्णपाती वन
4. ✗ मैन्ग्रोव

Question Number : 42 Question Id : 5861805932 Question Type : MCQ Option Shuffling : Yes  
Correct Marks : 1 Wrong Marks : 0.25

Lion-tailed Macaque is the key faunal species of the \_\_\_\_\_ Biosphere Reserve.

Options :

1. ✗ Dehang-Debang
2. ✗ Sundarbans
3. ✓ Nilgiri
4. ✗ Manas

Question Number : 42 Question Id : 5861805932 Question Type : MCQ Option Shuffling : Yes  
Correct Marks : 1 Wrong Marks : 0.25

शेर जैसी पूंछ वाला मकाक, \_\_\_\_\_ जैव आरक्षित क्षेत्र की प्रमुख वन्य प्रजाति है।

Options :

1. ✖ देहांग-देबांग
2. ✖ सुंदरबन
3. ✔ नीलगिरी
4. ✖ मानस

Question Number : 43 Question Id : 5861805933 Question Type : MCQ Option Shuffling : Yes  
Correct Marks : 1 Wrong Marks : 0.25

As per the India State of Forest Report, 2017, in terms of area under forests and tree cover, India is ranked \_\_\_\_\_ in the world.

Options :

1. ✔ 10th
2. ✖ 12th
3. ✖ 14th
4. ✖ 15th

Question Number : 43 Question Id : 5861805933 Question Type : MCQ Option Shuffling : Yes  
Correct Marks : 1 Wrong Marks : 0.25

भारतीय वन स्थिति रिपोर्ट 2017 के अनुसार, वन और वृक्ष आच्छादित क्षेत्र के संदर्भ में विश्व में भारत का स्थान \_\_\_\_\_ है।

Options :

1. ✔ 10वां
2. ✖ 12वां
3. ✖ 14वां
4. ✖ 15वां

Question Number : 44 Question Id : 5861805934 Question Type : MCQ Option Shuffling : Yes

Correct Marks : 1 Wrong Marks : 0.25

Which of the following organizations prepares Red List Index (RLI) which 'provides a clearer view of real trends within different taxonomic groups, and for biodiversity as a whole'?

Options :

1. ✓ IUCN
2. ✗ United Nations Environment Programme
3. ✗ Global Environment Facility
4. ✗ International Union for the Protection of Nature

Question Number : 44 Question Id : 5861805934 Question Type : MCQ Option Shuffling : Yes

Correct Marks : 1 Wrong Marks : 0.25

निम्न में से कौन सा संगठन रेड लिस्ट इंडेक्स (RLI) तैयार करता है, जो विभिन्न नामावली समूहों में वास्तविक रुझानों और समग्र रूप में जैवविविधता के लिए एक स्पष्ट दृश्य प्रदान करती है?

Options :

1. ✓ आईयूसीएन
2. ✗ संयुक्त राष्ट्र पर्यावरण कार्यक्रम
3. ✗ वैश्विक पर्यावरण इकाई
4. ✗ प्रकृति के संरक्षण हेतु अंतर्राष्ट्रीय संघ

Question Number : 45 Question Id : 5861805935 Question Type : MCQ Option Shuffling : Yes

Correct Marks : 1 Wrong Marks : 0.25

With an aim for making the learning as well as the teaching process interactive and popularize flipped learning as a pedagogical approach, the Union Ministry of Human Resource Development recently launched:

Options :

1. ✗ e-Pathshala.
2. ✓ Operation Digital Board.

3. ✖ Operation e-Classroom.

4. ✖ DIKSHA.

Question Number : 45 Question Id : 5861805935 Question Type : MCQ Option Shuffling : Yes  
Correct Marks : 1 Wrong Marks : 0.25

अधिगम तथा शिक्षण प्रक्रियाओं को अंतर्क्रियात्मक बनाने, तथा फ्लिप्लड लर्निंग को शिक्षा शास्त्रीय विधि के रूप में लोकप्रिय बनाने के उद्देश्य से केंद्रीय मानव संसाधन विकास मंत्रालय ने हाल ही में \_\_\_\_\_ को लांच किया।

Options :

1. ✖ ई-पाठशाला

2. ✔ ऑपरेशन डिजिटल बोर्ड

3. ✖ ऑपरेशन ई-क्लासरूम

4. ✖ दीक्षा

Question Number : 46 Question Id : 5861805936 Question Type : MCQ Option Shuffling : Yes  
Correct Marks : 1 Wrong Marks : 0.25

Traditional Bagru block printing technique belongs to the Bangru village in:

Options :

1. ✔ Rajasthan

2. ✖ Gujarat

3. ✖ Odisha

4. ✖ Chhattisgarh

Question Number : 46 Question Id : 5861805936 Question Type : MCQ Option Shuffling : Yes  
Correct Marks : 1 Wrong Marks : 0.25

पारंपरिक बागरू ठप्पा छपाई तकनीक, \_\_\_\_\_ में बांगरू गांव से संबंधित है।

Options :

1. ✓ राजस्थान
2. ✗ गुजरात
3. ✗ ओड़िशा
4. ✗ छत्तीसगढ़

Question Number : 47 Question Id : 5861805937 Question Type : MCQ Option Shuffling : Yes

Correct Marks : 1 Wrong Marks : 0.25

The state of \_\_\_\_\_ has launched 'Café Scientifique', an initiative to promote science among public in the year 2019.

Options :

1. ✗ Goa
2. ✓ Kerala
3. ✗ Maharashtra
4. ✗ Karnataka

Question Number : 47 Question Id : 5861805937 Question Type : MCQ Option Shuffling : Yes

Correct Marks : 1 Wrong Marks : 0.25

जनता के बीच विज्ञान को लोकप्रिय बनाने के लिए \_\_\_\_\_ राज्य ने 2019 में 'कैफे साइंटिफिक' नामक पहल को आरंभ किया।

Options :

1. ✗ गोवा
2. ✓ केरल
3. ✗ महाराष्ट्र
4. ✗ कर्नाटक

Question Number : 48 Question Id : 5861805938 Question Type : MCQ Option Shuffling : Yes

Correct Marks : 1 Wrong Marks : 0.25

Darwaza Band -Part 2, a campaign recently launched by the Union Government, is aimed at:

Options :



1. ✖ creating awareness about cyber security.
2. ✖ improving law and order conditions in the villages across the country.
3. ✔ sustaining the open defecation free status of villages across the country.
4. ✖ promoting awareness about communicable diseases.

Question Number : 48 Question Id : 5861805938 Question Type : MCQ Option Shuffling : Yes  
Correct Marks : 1 Wrong Marks : 0.25

केंद्र सरकार द्वारा हाल ही में शुरू किए गए एक अभियान दरवाजा बंद-भाग 2, का ध्येय \_\_\_\_\_ है।

Options :

1. ✖ साइबर सुरक्षा के बारे में जागरूकता सृजन करना
2. ✖ देश भर में गांवों में कानून व्यवस्था की स्थितियों में सुधार करना
3. ✔ देश भर में गांवों की खुले में शौच मुक्त स्थिति को बहाल रखना
4. ✖ संचारी रोगों के बारे में जागरूकता प्रसार करना

Question Number : 49 Question Id : 5861805939 Question Type : MCQ Option Shuffling : Yes  
Correct Marks : 1 Wrong Marks : 0.25

In the context of Mughal administration, what did abwab stand for?

Options :

1. ✔ Miscellaneous cesses
2. ✖ A noble
3. ✖ A revenue collector
4. ✖ A clerk

Question Number : 49 Question Id : 5861805939 Question Type : MCQ Option Shuffling : Yes  
Correct Marks : 1 Wrong Marks : 0.25

मुगल प्रशासन के संदर्भ में, अबवाब का क्या अर्थ है?

Options :

1. ✓ विविध उपकर
2. ✗ एक कुलीन
3. ✗ एक राजस्व अधिकारी
4. ✗ एक लिपिक

Question Number : 50 Question Id : 5861805940 Question Type : MCQ Option Shuffling : Yes  
Correct Marks : 1 Wrong Marks : 0.25

Which of the following pairs is correctly matched?

Options :

1. ✓ Mimamsa sutra – Jaimini
2. ✗ Brahma sutra – Uluk Kanad
3. ✗ Vaisheshik sutra - Badarayan
4. ✗ Samkhyakarika - Shankara

Question Number : 50 Question Id : 5861805940 Question Type : MCQ Option Shuffling : Yes  
Correct Marks : 1 Wrong Marks : 0.25

निम्न में से किस जोड़े का सही मिलान किया गया है?

Options :

1. ✓ मीमांसा सूत्र-जैमिनी
2. ✗ ब्रह्म सूत्र-उलूक कणाद
3. ✗ वैशेषिक सूत्र-बादरायण
4. ✗ सांख्यकारिका-शंकर

Question Number : 51 Question Id : 5861805941 Question Type : MCQ Option Shuffling : Yes  
Correct Marks : 1 Wrong Marks : 0.25

Which of the following statements is correct about Ilbert Act?

Options :

1. ✗ It enhanced the age limit for Indians to appear for Indian Civil Services exam.

2. ✖ It ended the discrimination against the Indians in military offices.
3. ✔ It enabled the Indian magistrates to try Europeans.
4. ✖ It relaxed restrictions on the Indian press.

Question Number : 51 Question Id : 5861805941 Question Type : MCQ Option Shuffling : Yes  
Correct Marks : 1 Wrong Marks : 0.25

इलबर्ट अधिनियम के संदर्भ में, निम्न में से कौन सा कथन सही है?

Options :

1. ✖ इसने भारतीय लोक सेवा परीक्षा में भारतीयों के भाग लेने हेतु आयु सीमा में वृद्धि की।
2. ✖ इसने सैन्य पदों पर भारतीयों से किया जाने वाला भेदभाव समाप्त किया।
3. ✔ इसने भारतीय मजिस्ट्रेटों को यूरोपियों के मुकदमे सुनने के अधिकार दिए।
4. ✖ इसने भारतीय प्रेस पर प्रतिबंधों को शिथिल बनाया।

Question Number : 52 Question Id : 5861805942 Question Type : MCQ Option Shuffling : Yes  
Correct Marks : 1 Wrong Marks : 0.25

The creation of Tilak Swarajya Fund is associated with which of the following movements?

Options :

1. ✖ Baradoli Satyagrah
2. ✔ Non-Cooperation Movement
3. ✖ Civil disobedience Movement
4. ✖ Quit India Movement

Question Number : 52 Question Id : 5861805942 Question Type : MCQ Option Shuffling : Yes  
Correct Marks : 1 Wrong Marks : 0.25

तिलक स्वराज्य कोष का गठन निम्न में से किस आंदोलन से संबंधित है?

Options :

1. ✖ बारडोली सत्याग्रह
2. ✔ असहयोग आंदोलन
3. ✖ सविनय अवज्ञा आंदोलन
4. ✖ भारत छोड़ो आंदोलन

Question Number : 53 Question Id : 5861805943 Question Type : MCQ Option Shuffling : Yes  
Correct Marks : 1 Wrong Marks : 0.25

Who among the followings headed the Lokpal Search Committee?

Options :

1. ✖ A.S. Kiran Kumar
2. ✖ Dinesh Kumar Jainare
3. ✔ Ranjana Prakash Desai
4. ✖ Arundhati Bhattacharya

Question Number : 53 Question Id : 5861805943 Question Type : MCQ Option Shuffling : Yes  
Correct Marks : 1 Wrong Marks : 0.25

निम्न में से किसने लोकपाल खोज समिति की अध्यक्षता की?

Options :

1. ✖ ए.एस. किरण कुमार
2. ✖ दिनेश कुमार जैनरे
3. ✔ रंजना प्रकाश देसाई
4. ✖ अरुंधति भट्टाचार्य

Question Number : 54 Question Id : 5861805944 Question Type : MCQ Option Shuffling : Yes  
Correct Marks : 1 Wrong Marks : 0.25

Which of the following panels submitted its report on data protection in 2018?

Options :

1. ✓ Justice Srikrishna committee
2. ✗ Justice Ramakrishna Committee
3. ✗ Justice Aiyar Committee
4. ✗ Justice Nagarajan Committee

Question Number : 54 Question Id : 5861805944 Question Type : MCQ Option Shuffling : Yes  
Correct Marks : 1 Wrong Marks : 0.25

निम्न में से किस पैनल ने डाटा संरक्षण पर 2018 में अपनी रिपोर्ट प्रस्तुत की?

Options :

1. ✓ न्यायमूर्ति श्रीकृष्ण समिति
2. ✗ न्यायमूर्ति रामकृष्ण समिति
3. ✗ न्यायमूर्ति अय्यर समिति
4. ✗ न्यायमूर्ति नागराजन समिति

Question Number : 55 Question Id : 5861805945 Question Type : MCQ Option Shuffling : Yes  
Correct Marks : 1 Wrong Marks : 0.25

By April, 2019, how many Indian states had bicameral legislatures?

Options :

1. ✗ 5
2. ✗ 6
3. ✓ 7
4. ✗ 9

Question Number : 55 Question Id : 5861805945 Question Type : MCQ Option Shuffling : Yes  
Correct Marks : 1 Wrong Marks : 0.25

अप्रैल 2019 तक कितने भारतीय राज्यों में द्विसदनीय विधायिकाएं थीं?

Options :

1. ✖ 5
2. ✖ 6
3. ✔ 7
4. ✖ 9

Question Number : 56 Question Id : 5861805946 Question Type : MCQ Option Shuffling : Yes  
Correct Marks : 1 Wrong Marks : 0.25

Which of the following articles of the constitution empowers the Parliament to create or abolish the second chamber in a State?

Options :

1. ✔ Article 169
2. ✖ Article 170
3. ✖ Article 171
4. ✖ Article 172

Question Number : 56 Question Id : 5861805946 Question Type : MCQ Option Shuffling : Yes  
Correct Marks : 1 Wrong Marks : 0.25

संविधान का निम्न में से कौन सा अनुच्छेद संसद को किसी राज्य में द्वितीय सदन स्थापित या समाप्त करने की शक्ति प्रदान करता है?

Options :

1. ✔ अनुच्छेद 169
2. ✖ अनुच्छेद 170
3. ✖ अनुच्छेद 171
4. ✖ अनुच्छेद 172

Question Number : 57 Question Id : 5861805947 Question Type : MCQ Option Shuffling : Yes  
Correct Marks : 1 Wrong Marks : 0.25



Which of the following articles empowers the Union Government to declare national emergency on the ground of war or external aggression or armed rebellion?

Options :

1. ✓ Article 352
2. ✗ Article 356
3. ✗ Article 360
4. ✗ Article 365

Question Number : 57 Question Id : 5861805947 Question Type : MCQ Option Shuffling : Yes  
Correct Marks : 1 Wrong Marks : 0.25

निम्न में से कौन सा अनुच्छेद, केंद्र सरकार को युद्ध या वाह्य आक्रमण या सशस्त्र विद्रोह की स्थिति में राष्ट्रीय आपातकाल घोषित करने की शक्ति प्रदान करता है?

Options :

1. ✓ अनुच्छेद 352
2. ✗ अनुच्छेद 356
3. ✗ अनुच्छेद 360
4. ✗ अनुच्छेद 365

Question Number : 58 Question Id : 5861805948 Question Type : MCQ Option Shuffling : Yes  
Correct Marks : 1 Wrong Marks : 0.25

Which of the following articles declares the equality of opportunity in matters of public employment a fundamental right?

Options :

1. ✗ Article 14
2. ✓ Article 16
3. ✗ Article 17

## 4. ✖ Article 19

Question Number : 58 Question Id : 5861805948 Question Type : MCQ Option Shuffling : Yes

Correct Marks : 1 Wrong Marks : 0.25

निम्न में से कौन सा अनुच्छेद, सार्वजनिक नियोजन के मामलों में अवसरों की समानता को एक मौलिक अधिकार घोषित करता है?

Options :

1. ✖ अनुच्छेद 14
2. ✔ अनुच्छेद 16
3. ✖ अनुच्छेद 17
4. ✖ अनुच्छेद 19

Question Number : 59 Question Id : 5861805949 Question Type : MCQ Option Shuffling : Yes

Correct Marks : 1 Wrong Marks : 0.25

Tiger Woods, who was recently conferred the US Presidential Medal of Freedom, belongs to:

Options :

1. ✔ golf
2. ✖ football
3. ✖ snooker
4. ✖ baseball

Question Number : 59 Question Id : 5861805949 Question Type : MCQ Option Shuffling : Yes

Correct Marks : 1 Wrong Marks : 0.25

हाल ही में अमेरिकी राष्ट्रपति से स्वतंत्रता पदक प्राप्त करने वाले टाइगर वुड्स \_\_\_\_\_ से संबंधित हैं।

Options :

1. ✔ गोल्फ़
2. ✖ फ़ुटबॉल
3. ✖ स्नूकर

#### 4. ✖ बेसबॉल

Question Number : 60 Question Id : 5861805950 Question Type : MCQ Option Shuffling : Yes  
Correct Marks : 1 Wrong Marks : 0.25

In the month of January, 2019, the distinction of becoming India's youngest Grand Master was earned by:

Options :

1. ✖ Dinesh Sharma
2. ✖ Praggnanandhaa
3. ✔ D. Gukesh
4. ✖ Parimarjan Negi

Question Number : 60 Question Id : 5861805950 Question Type : MCQ Option Shuffling : Yes  
Correct Marks : 1 Wrong Marks : 0.25

माह जनवरी 2019 में \_\_\_\_\_ द्वारा भारत के सबसे युवा ग्रैंडमास्टर का खिताब प्राप्त किया गया।

Options :

1. ✖ दिनेश शर्मा
2. ✖ प्रगनंदा
3. ✔ डी. गुकेश
4. ✖ परिमार्जन नेगी

## General Awareness2

Group Number :	4
Group Id :	586180285
Group Maximum Duration :	0
Group Minimum Duration :	0
Show Attended Group? :	No
Edit Attended Group? :	No
Break time:	0
Group Marks:	20
Is this Group for Examiner?:	No
Revisit allowed for group Instructions? :	Yes
Maximum Instruction Time:	0
Minimum Instruction Time:	0

## General Awareness2

Section Id :	586180289
Section Number :	1
Section type :	Online
Mandatory or Optional:	Mandatory
Number of Questions:	20
Number of Questions to be attempted:	20
Section Marks:	20

Sub-Section Number:	1
Sub-Section Id:	586180400
Question Shuffling Allowed :	Yes

Question Number : 61 Question Id : 5861805951 Question Type : MCQ Option Shuffling : Yes  
Correct Marks : 1 Wrong Marks : 0.25

In the final match of Sultan Azlan Shah Cup hockey, 2019 India was defeated by:

Options :

1. ✖ Malaysia
2. ✔ South Korea
3. ✖ Canada
4. ✖ Poland

Question Number : 61 Question Id : 5861805951 Question Type : MCQ Option Shuffling : Yes  
Correct Marks : 1 Wrong Marks : 0.25

सुल्तान अजलन शाह कप हॉकी 2019 के फाइनल मैच में भारत को \_\_\_\_\_ ने पराजित किया।

Options :

1. ✖ मलेशिया
2. ✔ दक्षिण कोरिया
3. ✖ कनाडा
4. ✖ पोलैंड

Question Number : 62 Question Id : 5861805952 Question Type : MCQ Option Shuffling : Yes  
Correct Marks : 1 Wrong Marks : 0.25

Recently Prayagraj Kumbha Mela, 2019 found a place in the Guinness World Records in three sectors. Identify the sector in which was NOT included in it.

Options :

1. ✖ Largest traffic and crowd management plan
2. ✖ The biggest painting exercise of public sites under paint my city scheme
3. ✖ Biggest sanitation and waste disposal mechanism
4. ✔ Construction of the largest number of temporary structures

Question Number : 62 Question Id : 5861805952 Question Type : MCQ Option Shuffling : Yes  
Correct Marks : 1 Wrong Marks : 0.25

हाल ही में आयोजित प्रयागराज कुंभ मेला 2019 ने तीन क्षेत्रों में गिनीज विश्व रिकार्ड बनाए। उस क्षेत्र को चिन्हित करें जो इसमें सम्मिलित नहीं है।

Options :

1. ✖ सबसे विशाल यातायात एवं भीड़ प्रबंधन योजना
2. ✖ पेंट माय सिटी योजना के अंतर्गत सार्वजनिक स्थलों पर सबसे बड़ा पेंटिंग कार्य
3. ✖ सबसे बड़ी स्वच्छता और अपशिष्ट निपटान प्रणाली
4. ✔ सर्वाधिक संख्या में अस्थायी संरचनाओं का निर्माण

Question Number : 63 Question Id : 5861805953 Question Type : MCQ Option Shuffling : Yes  
Correct Marks : 1 Wrong Marks : 0.25

Krishnattam is a folk theatre form in the state of \_\_\_\_\_.

Options :

1. ✔ Kerala
2. ✖ Andhra Pradesh

3. ✖ Tamil Nadu

4. ✖ Goa

Question Number : 63 Question Id : 5861805953 Question Type : MCQ Option Shuffling : Yes  
Correct Marks : 1 Wrong Marks : 0.25

कृष्णअट्टम, \_\_\_\_\_ राज्य का लोक नाट्य रूप है।

Options :

1. ✔ केरल

2. ✖ आंध्र प्रदेश

3. ✖ तमिलनाडु

4. ✖ गोवा

Question Number : 64 Question Id : 5861805954 Question Type : MCQ Option Shuffling : Yes  
Correct Marks : 1 Wrong Marks : 0.25

The famous painting entitled, 'Lady in The Moon Light', was painted by \_\_\_\_\_.

Options :

1. ✔ Raja Ravi Verma

2. ✖ Amrita Sheragil

3. ✖ Abanindranath Tagore

4. ✖ M.F. Hussain

Question Number : 64 Question Id : 5861805954 Question Type : MCQ Option Shuffling : Yes  
Correct Marks : 1 Wrong Marks : 0.25

प्रसिद्ध पेंटिंग 'लेडी इन दि मूनलाइट' को \_\_\_\_\_ द्वारा निर्मित किया गया।

Options :

1. ✔ राजा रवि वर्मा

2. ✖ अमृता शेरगिल

3. ✖ अबनिंद्रनाथ टैगोर



4. ✖ एम.एफ. हुसैन

Question Number : 65 Question Id : 5861805955 Question Type : MCQ Option Shuffling : Yes  
Correct Marks : 1 Wrong Marks : 0.25

Which of the following water body separates Sicily from Italy?

Options :

1. ✖ Strait of Gibraltar
2. ✖ Strait of Bonifacio
3. ✔ Strait of Messina
4. ✖ Strait of Bosphorus

Question Number : 65 Question Id : 5861805955 Question Type : MCQ Option Shuffling : Yes  
Correct Marks : 1 Wrong Marks : 0.25

निम्न में से कौन सा जल निकाय, सिसिली को इटली से पृथक करता है?

Options :

1. ✖ जिब्राल्टर जलसंधि
2. ✖ बोनिफेसियो जलसंधि
3. ✔ मेसिना जलसंधि
4. ✖ बोसपोरस जलसंधि

Question Number : 66 Question Id : 5861805956 Question Type : MCQ Option Shuffling : Yes  
Correct Marks : 1 Wrong Marks : 0.25

In the context of tropical deciduous forests in India, which of the following statements is NOT correct?

Options :

1. ✖ These are also known as the monsoon forests.
2. ✖ These are found in the region with average annual rainfall range between 70-200 cm.
3. ✔ These forests are also called Shola forests.

4. \* Tendu, palas, amaltas, bel, khair are some of the common trees of these forests.

Question Number : 66 Question Id : 5861805956 Question Type : MCQ Option Shuffling : Yes

Correct Marks : 1 Wrong Marks : 0.25

भारत में उष्णकटिबंधीय पर्णपाती वनों के संदर्भ में, निम्न में से कौन सा कथन सही नहीं है?

Options :

1. \* इनको मानसूनी वनों के रूप में भी जाना जाता है।
2. \* ये 70-200 cm औसत वार्षिक वर्षा वाले क्षेत्रों में पाए जाते हैं।
3. ✓ इन्हें शोला वन भी कहलाते हैं।
4. \* तेंदू, पलाश, अमलताश, बेल, खैर, इन वनों में पाए जाने वाले कुछ प्रमुख पेड़ हैं।

Question Number : 67 Question Id : 5861805957 Question Type : MCQ Option Shuffling : Yes

Correct Marks : 1 Wrong Marks : 0.25

Which of the following cities houses Head office of the Central Arid Zone Research Institute (CAZRI)?

Options :

1. ✓ Jodhpur
2. \* Sambhalpur
3. \* Udaipur
4. \* Shri Madhopur

Question Number : 67 Question Id : 5861805957 Question Type : MCQ Option Shuffling : Yes

Correct Marks : 1 Wrong Marks : 0.25

निम्न में से किस शहर में केंद्रीय शुष्क परिक्षेत्र अनुसंधान संस्थान (CAZRI) स्थित है?

Options :

1. ✓ जोधपुर

2. ✖ संभलपुर
3. ✖ उदयपुर
4. ✖ श्री माधोपुर

Question Number : 68 Question Id : 5861805958 Question Type : MCQ Option Shuffling : Yes  
Correct Marks : 1 Wrong Marks : 0.25

रवनीत गिल ने हाल ही में \_\_\_\_\_ के सीईओ का पद संभाला।

Options :

1. ✖ ऐक्सिस बैंक
2. ✔ यस बैंक
3. ✖ एचडीएफसी बैंक
4. ✖ आईसीआईसीआई बैंक

Question Number : 68 Question Id : 5861805958 Question Type : MCQ Option Shuffling : Yes  
Correct Marks : 1 Wrong Marks : 0.25

Ravneet Gill recently assumed the office of the CEO of:

Options :

1. ✖ Axis Bank
2. ✔ Yes Bank
3. ✖ HDFC Bank
4. ✖ ICICI Bank

Question Number : 69 Question Id : 5861805959 Question Type : MCQ Option Shuffling : Yes  
Correct Marks : 1 Wrong Marks : 0.25

Which of the following committee was set up for faster resolution of stressed assets?

Options :

1. ✔ Sunil Mehta Committee
2. ✖ Baba Kalyani Committee
3. ✖ Amitabh Kant Committee

#### 4. ✖ N. Chandrasekharan Committee

Question Number : 69 Question Id : 5861805959 Question Type : MCQ Option Shuffling : Yes

Correct Marks : 1 Wrong Marks : 0.25

तनावग्रस्त परिसंपत्तियों के त्वरित समाधान हेतु निम्न में से कौन सी समिति स्थापित की गई?

Options :

1. ✔ सुनील मेहता समिति
2. ✖ बाबा कल्याणी समिति
3. ✖ अमिताभ कांत समिति
4. ✖ एन. चंद्रशेखरन समिति

Question Number : 70 Question Id : 5861805960 Question Type : MCQ Option Shuffling : Yes

Correct Marks : 1 Wrong Marks : 0.25

Which of the following schemes is a pension scheme for the labour class people who are associated with the unorganized sector?

Options :

1. ✖ Pradhan Mantri Shram Samman Yojna
2. ✔ Pradhan Mantri Shram Yogi Yojana
3. ✖ Pradhan Mantri Shram Abhar Yojna
4. ✖ Pradhan Mantri Shram Yojna

Question Number : 70 Question Id : 5861805960 Question Type : MCQ Option Shuffling : Yes

Correct Marks : 1 Wrong Marks : 0.25

निम्न में से कौन सी योजना, असंगठित क्षेत्र से संबंधित श्रमिक वर्ग के लोगों के लिए पेंशन योजना है?

Options :

1. ✖ प्रधानमंत्री श्रम सम्मान योजना
2. ✔ प्रधानमंत्री श्रम योगी योजना

3. ✖ प्रधानमंत्री श्रम आभार योजना

4. ✖ प्रधानमंत्री श्रम योजना

Question Number : 71 Question Id : 5861805961 Question Type : MCQ Option Shuffling : Yes

Correct Marks : 1 Wrong Marks : 0.25

Physiologic fuel value of 1 gm of carbohydrates is:

Options :

1. ✔ 4 kcal

2. ✖ 5 kcal

3. ✖ 6 kcal

4. ✖ 7 kcal

Question Number : 71 Question Id : 5861805961 Question Type : MCQ Option Shuffling : Yes

Correct Marks : 1 Wrong Marks : 0.25

1 gm कार्बोहाइड्रेट का शारीरिक ईंधन मान \_\_\_\_\_ है।

Options :

1. ✔ 4 kcal

2. ✖ 5 kcal

3. ✖ 6 kcal

4. ✖ 7 kcal

Question Number : 72 Question Id : 5861805962 Question Type : MCQ Option Shuffling : Yes

Correct Marks : 1 Wrong Marks : 0.25

In the context of digestive system, which of the following statement is NOT true?

Options :

1. ✖ The enzyme called pepsin digests protein.

2. ✖ The enzyme called rennin curdles milk.

3. ✔ There are 2 types of gastric glands.

4. ✖ Hydrochloric acid activates other enzymes.

Question Number : 72 Question Id : 5861805962 Question Type : MCQ Option Shuffling : Yes  
Correct Marks : 1 Wrong Marks : 0.25

पाचन तंत्र के संदर्भ में निम्न में से कौन सा कथन सही नहीं है?

Options :

1. ✖ पेप्सिन कहलाने वाला एंजाइम, प्रोटीन का पाचन करता है।
2. ✖ रेनिन कहलाने वाला एंजाइम, दूध से दही बनाता है।
3. ✔ 2 प्रकार की जठर ग्रंथियां होती हैं।
4. ✖ हाइड्रोक्लोरिक अम्ल, अन्य एंजाइमों को सक्रिय करता है।

Question Number : 73 Question Id : 5861805963 Question Type : MCQ Option Shuffling : Yes  
Correct Marks : 1 Wrong Marks : 0.25

Brass is an alloy of:

Options :

1. ✖ copper and iron.
2. ✔ zinc and copper.
3. ✖ zinc and carbon.
4. ✖ copper and carbon.

Question Number : 73 Question Id : 5861805963 Question Type : MCQ Option Shuffling : Yes  
Correct Marks : 1 Wrong Marks : 0.25

पीतल, \_\_\_\_\_ का मिश्रधातु है।

Options :

1. ✖ तांबा और लोहा
2. ✔ जस्ता और तांबा
3. ✖ जस्ता और कार्बन
4. ✖ तांबा और कार्बन

Question Number : 74 Question Id : 5861805964 Question Type : MCQ Option Shuffling : Yes  
Correct Marks : 1 Wrong Marks : 0.25

Solder, used for welding electrical wires together, is an alloy of:

Options :



1. ✖ lead and zinc.
2. ✔ lead and tin.
3. ✖ tin and zinc.
4. ✖ zinc and silver.

Question Number : 74 Question Id : 5861805964 Question Type : MCQ Option Shuffling : Yes  
Correct Marks : 1 Wrong Marks : 0.25

विद्युत तारों को परस्पर वेल्ड करने के लिए प्रयुक्त सोल्डर, \_\_\_\_\_ का मिश्रधातु है।

Options :

1. ✖ सीसा और जस्ता
2. ✔ सीसा और टिन
3. ✖ टिन और जस्ता
4. ✖ जस्ता और चांदी

Question Number : 75 Question Id : 5861805965 Question Type : MCQ Option Shuffling : Yes  
Correct Marks : 1 Wrong Marks : 0.25

निम्न में से कौन, नेपच्यून का सबसे बड़ा चंद्रमा है?

Options :

1. ✔ ट्राइटन
2. ✖ कैसिनी
3. ✖ टाइटन
4. ✖ गैनीमेड

Question Number : 75 Question Id : 5861805965 Question Type : MCQ Option Shuffling : Yes  
Correct Marks : 1 Wrong Marks : 0.25

Which of the followings the largest moon of Neptune?

Options :

1. ✔ Triton
2. ✖ Cassini

3. ✖ Titan
4. ✖ Ganymede

Question Number : 76 Question Id : 5861805966 Question Type : MCQ Option Shuffling : Yes  
Correct Marks : 1 Wrong Marks : 0.25

Recently a Japanese space probe landed on an asteroid named Ryugu. What was the name of the spacecraft?

Options :

1. ✔ Hayabusa 2
2. ✖ Akatsuki
3. ✖ SELENE
4. ✖ IKAROS

Question Number : 76 Question Id : 5861805966 Question Type : MCQ Option Shuffling : Yes  
Correct Marks : 1 Wrong Marks : 0.25

हाल ही में एक जापानी अंतरिक्ष खोजी यान रयूगू नामक एक क्षुद्रग्रह पर उतरा। इस अंतरिक्षयान का नाम क्या था?

Options :

1. ✔ हायाबूसा 2
2. ✖ अकाटसुकी
3. ✖ सेलीन
4. ✖ इकरोस

Question Number : 77 Question Id : 5861805967 Question Type : MCQ Option Shuffling : Yes  
Correct Marks : 1 Wrong Marks : 0.25

Central rice research institute is located in \_\_\_\_\_.

Options :

1. ✔ Cuttack
2. ✖ Himachal Pradesh
3. ✖ Kanpur
4. ✖ Goa

Question Number : 77 Question Id : 5861805967 Question Type : MCQ Option Shuffling : Yes  
Correct Marks : 1 Wrong Marks : 0.25

केंद्रीय चावल अनुसंधान संस्थान \_\_\_\_\_ में स्थित है।

Options :

1. ✓ कटक
2. ✗ हिमाचल प्रदेश
3. ✗ कानपुर
4. ✗ गोवा

Question Number : 78 Question Id : 5861805968 Question Type : MCQ Option Shuffling : Yes  
Correct Marks : 1 Wrong Marks : 0.25

In the context of national space agencies, which of the followings is NOT correctly matched?

Options :

1. ✗ Japan – JAXA
2. ✗ Russia – Roscosmos
3. ✗ European Union – ESA
4. ✓ China – CNES

Question Number : 78 Question Id : 5861805968 Question Type : MCQ Option Shuffling : Yes  
Correct Marks : 1 Wrong Marks : 0.25

राष्ट्रीय अंतरिक्ष एजेंसियों के संदर्भ में, निम्न में से किसका मिलान सही नहीं है?

Options :

1. ✗ जापान - जेएक्सए (JAXA)
2. ✗ रूस-रोसकोसमोस (Roscosmos)
3. ✗ यूरोपीय संघ - ईएसए (ESA)
4. ✓ चीन- सीएनईएस (CNES)

Question Number : 79 Question Id : 5861805969 Question Type : MCQ Option Shuffling : Yes

Correct Marks : 1 Wrong Marks : 0.25

Energy Efficiency Services Limited (EESL) is a joint venture of four national Public Sector Undertakings (PSUs). Which of the following PSUs is NOT one of these four?

Options :

1. ✖ NTPC Limited
2. ✖ Power Finance Corporation Limited
3. ✔ BHEL
4. ✖ Rural Electrification Corporation Limited

Question Number : 79 Question Id : 5861805969 Question Type : MCQ Option Shuffling : Yes

Correct Marks : 1 Wrong Marks : 0.25

एनर्जी एफिशिएंसी सर्विसेज लिमिटेड (EESL) चार राष्ट्रीय सार्वजनिक उपक्रमों (पीएसयू) का संयुक्त उपक्रम है। निम्न में से कौन सा पीएसयू इन चार में नहीं है?

Options :

1. ✖ एनटीपीसी लिमिटेड
2. ✖ पावर फाइनेंस कॉर्पोरेशन लिमिटेड
3. ✔ बीएचईएल
4. ✖ ग्रामीण विद्युतीकरण कॉर्पोरेशन लिमिटेड

Question Number : 80 Question Id : 5861805970 Question Type : MCQ Option Shuffling : Yes

Correct Marks : 1 Wrong Marks : 0.25

The Department of Atomic Energy works under the administrative control of:

Options :

1. ✖ Ministry of Power.
2. ✖ Ministry of Science and Technology.
3. ✔ Prime Minister Office.
4. ✖ Ministry of Defence.

Question Number : 80 Question Id : 5861805970 Question Type : MCQ Option Shuffling : Yes  
Correct Marks : 1 Wrong Marks : 0.25

परमाणु ऊर्जा विभाग, \_\_\_\_\_ के प्रशासनिक नियंत्रण में कार्य करता है।

Options :

- 1. ✖ विद्युत मंत्रालय
- 2. ✖ विज्ञान एवं प्रौद्योगिकी मंत्रालय
- 3. ✔ प्रधानमंत्री कार्यालय
- 4. ✖ रक्षा मंत्रालय

Arithmetic Ability1

Group Number :	5
Group Id :	586180286
Group Maximum Duration :	0
Group Minimum Duration :	0
Show Attended Group? :	No
Edit Attended Group? :	No
Break time:	0
Group Marks:	20
Is this Group for Examiner?:	No
Revisit allowed for group Instructions? :	Yes
Maximum Instruction Time:	0
Minimum Instruction Time:	0

Arithmetic Ability1

Section Id :	586180290
Section Number :	1
Section type :	Online
Mandatory or Optional:	Mandatory
Number of Questions:	20
Number of Questions to be attempted:	20
Section Marks:	20

Sub-Section Number:	1
Sub-Section Id:	586180401
Question Shuffling Allowed :	Yes

Question Number : 81 Question Id : 5861805971 Question Type : MCQ Option Shuffling : Yes  
Correct Marks : 1 Wrong Marks : 0.25

If  $a - b = 17$  and  $a^2 + b^2 = 315$ , then the value of  $ab$  is:

Options :

1. ✓ 13

2. ✗ 26

3. ✗ 12

4. ✗ 14

Question Number : 81 Question Id : 5861805971 Question Type : MCQ Option Shuffling : Yes  
Correct Marks : 1 Wrong Marks : 0.25

यदि  $a - b = 17$  और  $a^2 + b^2 = 315$  है, तो  $ab$  का मान होगा:

Options :

1. ✓ 13

2. ✗ 26

3. ✗ 12

4. ✗ 14

Question Number : 82 Question Id : 5861805972 Question Type : MCQ Option Shuffling : Yes  
Correct Marks : 1 Wrong Marks : 0.25

There are two examination rooms A and B. If 12 students are sent from room A to room B, then the number of students in each room is the same. If 24 students are sent from room B to room A, then the number of students in room A is three times the number of students in room B. The number of students in room A is:

Options :

1. ✗ 86

2. ✖ 74

3. ✖ 60

4. ✔ 84

Question Number : 82 Question Id : 5861805972 Question Type : MCQ Option Shuffling : Yes

Correct Marks : 1 Wrong Marks : 0.25

A और B नाम के दो परीक्षा कक्ष हैं। यदि 12 छात्रों को कक्ष A से कक्ष B में भेजा जाता है, तो प्रत्येक कक्ष में छात्रों की संख्या समान हो जाती है। यदि 24 छात्रों को कक्ष B से कक्ष A में भेजा जाता है, तो कक्ष A में छात्रों की संख्या कक्ष B में छात्रों की संख्या से तीन गुना हो जाती है। कक्ष A में छात्रों की संख्या है:

Options :

1. ✖ 86

2. ✖ 74

3. ✖ 60

4. ✔ 84

Question Number : 83 Question Id : 5861805973 Question Type : MCQ Option Shuffling : Yes

Correct Marks : 1 Wrong Marks : 0.25

A man has some hens and cows. If the number of heads among them is 36 and the total number of feet equals 120, then how many hens does the man have?

Options :

1. ✖ 24

2. ✔ 12



3. ✖ 16

4. ✖ 18

Question Number : 83 Question Id : 5861805973 Question Type : MCQ Option Shuffling : Yes

Correct Marks : 1 Wrong Marks : 0.25

एक आदमी के पास कुछ मुर्गियां और गायें हैं। यदि इनके सिरों की कुल संख्या 36 है और पैरों की कुल संख्या 120 है, तो इस आदमी के पास कुल कितनी मुर्गियां हैं?

Options :

1. ✖ 24

2. ✔ 12

3. ✖ 16

4. ✖ 18

Question Number : 84 Question Id : 5861805974 Question Type : MCQ Option Shuffling : Yes

Correct Marks : 1 Wrong Marks : 0.25

Free notebooks were distributed equally among children of a class. The number of notebooks each child got was one-fifth of the number of children. Had the number of children been half, each child would have got 24 notebooks. How many notebooks were distributed in all?

Options :

1. ✔ 720

2. ✖ 640

3. ✖ 680

4. ✖ 740

Question Number : 84 Question Id : 5861805974 Question Type : MCQ Option Shuffling : Yes

Correct Marks : 1 Wrong Marks : 0.25

एक कक्षा के बच्चों के बीच मुफ्त पुस्तकें वितरित की गईं। प्रत्येक बच्चे को मिलने वाली पुस्तकों की संख्या बच्चों की संख्या का पांचवां हिस्सा थी। अगर बच्चों की संख्या आधी होती, तो प्रत्येक बच्चे को 24 पुस्तकें मिलती। कुल कितनी पुस्तकें वितरित की गई थीं?

Options :

1. ✔ 720

2. ✖ 640

3. ✖ 680

4. ✖ 740

Question Number : 85 Question Id : 5861805975 Question Type : MCQ Option Shuffling : Yes

Correct Marks : 1 Wrong Marks : 0.25

Solve the following:

$$\frac{(0.74)^3 - (0.2)^3}{(0.74)^2 + (0.2)^2 + 0.148} = ?$$

Options :

1. ✖ 0.94

2. ✔ 0.54

3. ✖ 0.64

4. ✖ 0.72

Question Number : 85 Question Id : 5861805975 Question Type : MCQ Option Shuffling : Yes

Correct Marks : 1 Wrong Marks : 0.25

निम्नलिखित को हल करें:

$$\frac{(0.74)^3 - (0.2)^3}{(0.74)^2 + (0.2)^2 + 0.148} = ?$$

Options :

1. ✖ 0.94

2. ✔ 0.54

3. ✖ 0.64

4. ✖ 0.72

Question Number : 86 Question Id : 5861805976 Question Type : MCQ Option Shuffling : Yes

Correct Marks : 1 Wrong Marks : 0.25

The price of commodity X increases by 60 paise every year, while the price of commodity Y increases by 35 paise every year. If in 2002, the price of commodity X was ₹ 6.40 and that of commodity Y was ₹ 8.90, in which year will commodity X cost 75 paise more than commodity Y?

Options :

1. ✖ 2013

2. ✖ 2014

3. ✔ 2015

4. ✖ 2012

Question Number : 86 Question Id : 5861805976 Question Type : MCQ Option Shuffling : Yes

Correct Marks : 1 Wrong Marks : 0.25

वस्तु X की कीमत में हर साल 60 पैसे की बढ़ोतरी होती है, जबकि वस्तु Y की कीमत में हर साल 35 पैसे की बढ़ोतरी होती है। यदि 2002 में, वस्तु X की कीमत ₹ 6.40 थी और वस्तु Y की कीमत ₹ 8.90 थी, तो किस वर्ष में वस्तु X की कीमत वस्तु Y की कीमत से 75 पैसे अधिक होगी?

Options :

1. ✖ 2013

2. ✖ 2014

3. ✔ 2015

4. ✖ 2012

Question Number : 87 Question Id : 5861805977 Question Type : MCQ Option Shuffling : Yes

Correct Marks : 1 Wrong Marks : 0.25

If  $3.6x = 1.08y$ , find the value of  $\frac{y-x}{y+x}$

Options :

1. ✔ 0.5385

2. ✖ 0.5485

3. ✖ 1.53

4. ✖ 0.4585

Question Number : 87 Question Id : 5861805977 Question Type : MCQ Option Shuffling : Yes  
Correct Marks : 1 Wrong Marks : 0.25

यदि  $3.6x = 1.08y$  है, तो  $\frac{y-x}{y+x}$  का मान होगा?

Options :

1. ✓ 0.5385

2. ✗ 0.5485

3. ✗ 1.53

4. ✗ 0.4585

Question Number : 88 Question Id : 5861805978 Question Type : MCQ Option Shuffling : Yes  
Correct Marks : 1 Wrong Marks : 0.25

A student was asked to multiply a number by  $\frac{7}{9}$ . But he divided the number by  $\frac{7}{9}$ . If the difference between the two results is 96, then the number is:

Options :

1. ✗ 198

2. ✓ 189

3. ✗ 169

4. ✗ 196

Question Number : 88 Question Id : 5861805978 Question Type : MCQ Option Shuffling : Yes  
Correct Marks : 1 Wrong Marks : 0.25

एक छात्र को किसी संख्या को  $\frac{7}{9}$  से गुणा करने के लिए कहा गया था लेकिन उसने उस संख्या को  $\frac{7}{9}$  से विभाजित कर दिया। यदि दोनों परिणामों के बीच का अंतर 96 है, तो संख्या है:

Options :

1. ✖ 198

2. ✔ 189

3. ✖ 169

4. ✖ 196

Question Number : 89 Question Id : 5861805979 Question Type : MCQ Option Shuffling : Yes

Correct Marks : 1 Wrong Marks : 0.25

Solve the following:

$$\frac{1}{12} + \frac{1}{20} + \frac{1}{30} + \frac{1}{42} + \frac{1}{56}$$

Options :

1. ✖  $\frac{4}{7}$

2. ✖  $\frac{3}{8}$

3. ✖  $\frac{24}{5}$

4. ✔  $\frac{5}{24}$

Question Number : 89 Question Id : 5861805979 Question Type : MCQ Option Shuffling : Yes

Correct Marks : 1 Wrong Marks : 0.25

निम्नलिखित को हल करें:

$$\frac{1}{12} + \frac{1}{20} + \frac{1}{30} + \frac{1}{42} + \frac{1}{56}$$

Options :

1. ✗  $\frac{4}{7}$

2. ✗  $\frac{3}{8}$

3. ✗  $\frac{24}{5}$

4. ✓  $\frac{5}{24}$

Question Number : 90 Question Id : 5861805980 Question Type : MCQ Option Shuffling : Yes

Correct Marks : 1 Wrong Marks : 0.25

The smallest fraction that should be added to the sum of  $3\frac{2}{3} + 5\frac{1}{8} + 7\frac{5}{6}$  to make the result a whole number is:

Options :

1. ✓  $\frac{3}{8}$

2. ✗  $\frac{1}{24}$

3. ✗  $\frac{5}{24}$



4. ✖  $\frac{7}{12}$

Question Number : 90 Question Id : 5861805980 Question Type : MCQ Option Shuffling : Yes

Correct Marks : 1 Wrong Marks : 0.25

$3\frac{2}{3} + 5\frac{1}{8} + 7\frac{5}{6}$  के योग में ऐसी कौन सी छोटे से छोटा अपूर्णाक जोड़ा जाए, जिससे परिणाम एक पूर्ण संख्या हो जाए:

Options :

1. ✔  $\frac{3}{8}$

2. ✖  $\frac{1}{24}$

3. ✖  $\frac{5}{24}$

4. ✖  $\frac{7}{12}$

Question Number : 91 Question Id : 5861805981 Question Type : MCQ Option Shuffling : Yes

Correct Marks : 1 Wrong Marks : 0.25

The least multiple of 5 which leaves a remainder 7 when divided by 6, 8, 12 and 18 is:

Options :

1. ✖ 525

2. ✖ 595

3. ✖ 925

4. ✓ 295

Question Number : 91 Question Id : 5861805981 Question Type : MCQ Option Shuffling : Yes

Correct Marks : 1 Wrong Marks : 0.25

5 का छोटे से छोटा गुणक कौन सा है, जिसे 6, 8, 12 और 18 से विभाजित करने पर 7 शेष बचता है:

Options :

1. ✗ 525

2. ✗ 595

3. ✗ 925

4. ✓ 295

Question Number : 92 Question Id : 5861805982 Question Type : MCQ Option Shuffling : Yes

Correct Marks : 1 Wrong Marks : 0.25

Let N be the greatest number that will divide 2345, 4585 and 7465 leaving the same remainder in each case. Then the sum of the digits in N is:

Options :

1. ✓ 5

2. ✗ 6

3. ✗ 7

4. ✗ 8

Question Number : 92 Question Id : 5861805982 Question Type : MCQ Option Shuffling : Yes

Correct Marks : 1 Wrong Marks : 0.25

मान लीजिए कि  $N$  वह सबसे बड़ी संख्या है जो 2345, 4585 और 7465 को विभाजित करती है और हर विभाजन में एक समान शेष बचता है। तो  $N$  में मौजूद अंकों का योग होगा:

Options :

1. ✓ 5

2. ✗ 6

3. ✗ 7

4. ✗ 8

Question Number : 93 Question Id : 5861805983 Question Type : MCQ Option Shuffling : Yes

Correct Marks : 1 Wrong Marks : 0.25

Three numbers are in the ratio 4 : 5 : 9 and their LCM is 8280. Their HCF is:

Options :

1. ✓ 46

2. ✗ 44

3. ✗ 48

4. ✗ 45

Question Number : 93 Question Id : 5861805983 Question Type : MCQ Option Shuffling : Yes

Correct Marks : 1 Wrong Marks : 0.25

तीन संख्याएं 4 : 5 : 9 के अनुपात में हैं और उनका लघुत्तम समापवर्तक 8280 है। उनका महत्तम समापवर्तक होगा:

Options :

1. ✓ 46

2. ✗ 44

3. ✗ 48

4. ✗ 45

Question Number : 94 Question Id : 5861805984 Question Type : MCQ Option Shuffling : Yes

Correct Marks : 1 Wrong Marks : 0.25

The ratio of the ages of Sachin to Raghu is 1 : 4. After 10 years, the ratio will change to 2 : 5. Find the present age of Raghu.

Options :

1. ✓ 40 years

2. ✗ 42 years

3. ✗ 44 years

4. ✗ 38 years

Question Number : 94 Question Id : 5861805984 Question Type : MCQ Option Shuffling : Yes

Correct Marks : 1 Wrong Marks : 0.25

सचिन से रघु तक की आयु का अनुपात 1 : 4 है। 10 वर्षों के बाद यह अनुपात 2 : 5 हो जाएगा। रघु की वर्तमान आयु ज्ञात कीजिए।

Options :

1. ✓ 40 साल

2. ✖ 42 साल

3. ✖ 44 साल

4. ✖ 38 साल

Question Number : 95 Question Id : 5861805985 Question Type : MCQ Option Shuffling : Yes

Correct Marks : 1 Wrong Marks : 0.25

The ratio of monthly incomes of two persons is 12 : 11 and the ratio of their expenditures is 4 : 3. If each of them saves ₹ 8,000 per month, the sum of their monthly incomes is:

Options :

1. ✖ ₹ 34,500

2. ✖ ₹ 46,000

3. ✔ ₹ 23,000

4. ✖ ₹ 25,000

Question Number : 95 Question Id : 5861805985 Question Type : MCQ Option Shuffling : Yes

Correct Marks : 1 Wrong Marks : 0.25

दो व्यक्तियों की मासिक आय का अनुपात 12 : 11 है और उनके व्यय का अनुपात 4 : 3 है। यदि वे दोनों हर माह ₹ 8,000 की बचत करते हैं, तो उनकी कुल मासिक आय कितनी होगी:

Options :

1. ✖ ₹ 34,500

2. ✖ ₹ 46,000

3. ✓ ₹ 23,000

4. ✗ ₹ 25,000

Question Number : 96 Question Id : 5861805986 Question Type : MCQ Option Shuffling : Yes

Correct Marks : 1 Wrong Marks : 0.25

A bank manager multiplied a number by 6 instead of 8. Later on this error was rectified. Find the percentage error.

Options :

1. ✗ 20%

2. ✗ 33%

3. ✓ 25%

4. ✗ 24%

Question Number : 96 Question Id : 5861805986 Question Type : MCQ Option Shuffling : Yes

Correct Marks : 1 Wrong Marks : 0.25

एक बैंक मैनेजर ने किसी संख्या को 8 की बजाय 6 से गुणा कर दिया। बाद में इस त्रुटि को सुधार लिया गया। प्रतिशत त्रुटि ज्ञात करें।

Options :

1. ✗ 20%

2. ✗ 33%

3. ✓ 25%

4. ✖ 24%

Question Number : 97 Question Id : 5861805987 Question Type : MCQ Option Shuffling : Yes

Correct Marks : 1 Wrong Marks : 0.25

In an examination, a boy scored 30% of marks and failed by 6 marks. Another boy got 40% marks and got 14 more than the pass mark. Find the total marks of the examination.

Options :

1. ✖ 250

2. ✖ 300

3. ✖ 400

4. ✔ 200

Question Number : 97 Question Id : 5861805987 Question Type : MCQ Option Shuffling : Yes

Correct Marks : 1 Wrong Marks : 0.25

एक परीक्षा में, एक लड़के ने 30% अंक प्राप्त किए और वह 6 अंकों से अनुत्तीर्ण हो गया। एक दूसरे लड़के ने 40% अंक प्राप्त किए और उसके अंक, उत्तीर्ण होने के लिए आवश्यक अंकों से 14 अधिक थे। ज्ञात करें कि परीक्षा कुल कितने अंकों की थी।

Options :

1. ✖ 250

2. ✖ 300

3. ✖ 400

4. ✔ 200



Question Number : 98 Question Id : 5861805988 Question Type : MCQ Option Shuffling : Yes

Correct Marks : 1 Wrong Marks : 0.25

The sum of 10% of Mithran's age and 6% of Srivatsan's age is  $\frac{7}{2}$  of the difference between 30% of Mithran's age and 20% of Srivatsan's age. Find the ratio of Mithran's age to Srivatsan's age.

Options :

1. ✓ 4 : 5

2. ✗ 5 : 4

3. ✗ 3 : 5

4. ✗ 5 : 3

Question Number : 98 Question Id : 5861805988 Question Type : MCQ Option Shuffling : Yes

Correct Marks : 1 Wrong Marks : 0.25

मिथरन की आयु के 10% और श्रीवत्सन की आयु के 6% का योग, मिथरन की आयु के 30% और श्रीवत्सन की आयु के 20% के बीच के अंतर का  $\frac{7}{2}$  है। मिथरन की आयु और श्रीवत्सन की आयु का अनुपात ज्ञात कीजिए।

Options :

1. ✓ 4 : 5

2. ✗ 5 : 4

3. ✗ 3 : 5

4. ✗ 5 : 3

Question Number : 99 Question Id : 5861805989 Question Type : MCQ Option Shuffling : Yes

Correct Marks : 1 Wrong Marks : 0.25

The average salary of men and woman in a company is ₹ 71,000 and ₹ 73,000, respectively. The average salary of all the employees in the company is ₹ 71,800. Find the ratio of men's salary to that of women's salary.

Options :

1. ✖ 2 : 3

2. ✔ 3 : 2

3. ✖ 3 : 4

4. ✖ 4 : 3

Question Number : 99 Question Id : 5861805989 Question Type : MCQ Option Shuffling : Yes

Correct Marks : 1 Wrong Marks : 0.25

किसी कंपनी में पुरुषों और महिलाओं का औसत वेतन क्रमशः ₹ 71,000 और ₹ 73,000 है। कंपनी के सभी कर्मचारियों का औसत वेतन ₹ 71,800 है। पुरुषों और महिलाओं के वेतन का अनुपात ज्ञात कीजिए।

Options :

1. ✖ 2 : 3

2. ✔ 3 : 2

3. ✖ 3 : 4

4. ✖ 4 : 3

Question Number : 100 Question Id : 5861805990 Question Type : MCQ Option Shuffling : Yes

Correct Marks : 1 Wrong Marks : 0.25

A doppler radar system recorded the speed of 10 cars entering a company's main gate as 87, 99, 80, 73, 64, 86, 98, 60, 88 and 92 (in km/h). Later on, an error in the system was detected. Find the new average speed of cars if the doppler radar system recorded 10 m/sec less in each case.

Options :

1. ✓ 46.7 km/h

2. ✗ 40.5 km/h

3. ✗ 42.5 km/h

4. ✗ 42 km/h

Question Number : 100 Question Id : 5861805990 Question Type : MCQ Option Shuffling : Yes

Correct Marks : 1 Wrong Marks : 0.25

एक डॉप्लर रडार प्रणाली ने एक कंपनी के मुख्य द्वार पर 10 कारों की गति 87, 99, 80, 73, 64, 86, 98, 60, 88 और 92 (km/h में) दर्ज की। बाद में, इस प्रणाली में एक त्रुटि का पता चला। यदि डॉप्लर रडार प्रणाली ने प्रत्येक मामले में गति 10 m/sec कम की है, तो कारों की नई औसत गति ज्ञात करें।

Options :

1. ✓ 46.7 km/h

2. ✗ 40.5 km/h

3. ✗ 42.5 km/h

4. ✗ 42 km/h

## Arithmetic Ability2

Group Number :

6

Group Id :

586180287

Group Maximum Duration :

0

Group Minimum Duration :

0

Show Attended Group? :

No

Edit Attended Group? :

No

Break time:	0
Group Marks:	20
Is this Group for Examiner?:	No
Revisit allowed for group Instructions? :	Yes
Maximum Instruction Time:	0
Minimum Instruction Time:	0

Arithmetic Ability2

Section Id :	586180291
Section Number :	1
Section type :	Online
Mandatory or Optional:	Mandatory
Number of Questions:	20
Number of Questions to be attempted:	20
Section Marks:	20

Sub-Section Number:	1
Sub-Section Id:	586180402
Question Shuffling Allowed :	Yes

Question Number : 101 Question Id : 5861805991 Question Type : MCQ Option Shuffling : Yes  
Correct Marks : 1 Wrong Marks : 0.25

Ashutosh sold a radio for ₹ 960 and incurred a loss of 20%. At what price should he have sold the radio to make a profit of 25%?

Options :

1. ✖ ₹ 1,400
2. ✖ ₹ 1,200
3. ✖ ₹ 1,300
4. ✔ ₹ 1,500

Question Number : 101 Question Id : 5861805991 Question Type : MCQ Option Shuffling : Yes  
Correct Marks : 1 Wrong Marks : 0.25

आशुतोष ने एक रेडियो को ₹ 960 में बेचा और इस सौदे में उसे 20% की हानि हुई। 25% का लाभ कमाने के लिए उसे रेडियो को किस कीमत पर बेचना चाहिए था?

Options :

1. ✖ ₹ 1,400

2. ✖ ₹ 1,200

3. ✖ ₹ 1,300

4. ✔ ₹ 1,500

Question Number : 102 Question Id : 5861805992 Question Type : MCQ Option Shuffling : Yes

Correct Marks : 1 Wrong Marks : 0.25

The profit percentage earned by selling an article for ₹ 9,600 is equal to the percentage loss incurred by selling the same article for ₹ 6,400. Find the cost price of the article.

Options :

1. ✔ ₹ 8,000

2. ✖ ₹ 8,500

3. ✖ ₹ 9,000

4. ✖ ₹ 7,500

Question Number : 102 Question Id : 5861805992 Question Type : MCQ Option Shuffling : Yes

Correct Marks : 1 Wrong Marks : 0.25

किसी वस्तु को ₹ 9,600 में बेचने पर अर्जित लाभ प्रतिशत उसी वस्तु को ₹ 6,400 में बेचने पर होने वाली हानि प्रतिशत के बराबर होता है। वस्तु का लागत मूल्य ज्ञात कीजिए।

Options :

1. ✔ ₹ 8,000

2. ✖ ₹ 8,500

3. ✖ ₹ 9,000

4. ✖ ₹ 7,500

Question Number : 103 Question Id : 5861805993 Question Type : MCQ Option Shuffling : Yes

Correct Marks : 1 Wrong Marks : 0.25

Shyam purchased oranges for ₹ 1200. He sold  $\frac{1}{3}$  of them at a loss of 10% and the remaining at a profit of 20%. Find the overall profit or loss percentage.

Options :

1. ✖ Profit 15%

2. ✖ Loss 15%

3. ✔ Profit 10%

4. ✖ Loss 10%

Question Number : 103 Question Id : 5861805993 Question Type : MCQ Option Shuffling : Yes

Correct Marks : 1 Wrong Marks : 0.25

श्याम ने ₹1200 के संतरे खरीदे। उसने इनका  $\frac{1}{3}$  हिस्सा 10% की हानि पर और शेष हिस्सा 20% के लाभ पर बेच दिया। कुल लाभ या हानि प्रतिशत की गणना कीजिए।

Options :

1. ✖ 15% लाभ

2. ✖ 15% हानि



3. ✓ 10% लाभ

4. ✗ 10% हानि

Question Number : 104 Question Id : 5861805994 Question Type : MCQ Option Shuffling : Yes

Correct Marks : 1 Wrong Marks : 0.25

The list price of an article is ₹ 2000. It is sold at two successive discounts of 12% and  $x\%$ . If the selling price of the article is the product of 8 and 209, find  $x\%$ .

Options :

1. ✓ 5%

2. ✗ 6%

3. ✗ 8%

4. ✗ 9%

Question Number : 104 Question Id : 5861805994 Question Type : MCQ Option Shuffling : Yes

Correct Marks : 1 Wrong Marks : 0.25

किसी वस्तु का अंकित मूल्य ₹ 2000 है। इसे 12% और  $x\%$  की दो क्रमिक छूटों पर बेचा जाता है। यदि वस्तु का विक्रय मूल्य 8 और 209 के गुणनफल के बराबर है, तो  $x\%$  का मान ज्ञात कीजिए।

Options :

1. ✓ 5%

2. ✗ 6%

3. ✗ 8%



4. ✖ 9%

Question Number : 105 Question Id : 5861805995 Question Type : MCQ Option Shuffling : Yes

Correct Marks : 1 Wrong Marks : 0.25

Bhoomika purchased a TV set for ₹ 34,200 and fixed its marked price in such a way that by allowing a discount of 10% and 5%, she earns a profit of 25%. Find the marked price.

Options :

1. ✖ ₹ 40,000

2. ✖ ₹ 30,000

3. ✔ ₹ 50,000

4. ✖ ₹ 45,000

Question Number : 105 Question Id : 5861805995 Question Type : MCQ Option Shuffling : Yes

Correct Marks : 1 Wrong Marks : 0.25

भूमिका ने एक टीवी सेट ₹ 34,200 में खरीदा और इसका अंकित मूल्य इस हिसाब से तय किया कि 10% और 5% की दो छूटें देने के बाद भी उसे 25% का लाभ मिले। अंकित मूल्य ज्ञात कीजिए।

Options :

1. ✖ ₹ 40,000

2. ✖ ₹ 30,000

3. ✔ ₹ 50,000

4. ✖ ₹ 45,000

Question Number : 106 Question Id : 5861805996 Question Type : MCQ Option Shuffling : Yes

Correct Marks : 1 Wrong Marks : 0.25

Gurmeet wants to buy a car worth ₹ 5,00,000. When he approached his bank for a loan, the manager was ready to provide 90% of the car's cost as the loan. The amount was sanctioned at 10% simple interest for three years. How much money did he return to the bank after three years?

Options :

1. ✓ ₹ 5,85,000

2. ✗ ₹ 5,80,000

3. ✗ ₹ 4,85,000

4. ✗ ₹ 4,80,000

Question Number : 106 Question Id : 5861805996 Question Type : MCQ Option Shuffling : Yes

Correct Marks : 1 Wrong Marks : 0.25

गुरमीत ₹ 5,00,000 की कीमत की एक कार खरीदना चाहता है। जब उसने अपने बैंक से ऋण के लिए संपर्क किया, तो प्रबंधक कार की लागत का 90% ऋण देने के लिए तैयार था। यह राशि तीन साल के लिए 10% साधारण ब्याज पर मंजूर की गई। तीन साल बाद उसने बैंक को कुल कितने रुपये लौटाया?

Options :

1. ✓ ₹ 5,85,000

2. ✗ ₹ 5,80,000

3. ✗ ₹ 4,85,000

4. ✗ ₹ 4,80,000

Question Number : 107 Question Id : 5861805997 Question Type : MCQ Option Shuffling : Yes

Correct Marks : 1 Wrong Marks : 0.25

Babu invested a certain amount of money on simple interest at 3% p.a. for five years. Arun invested 80% of what Babu invested at 10% p.a. for six years. He received an interest that was ₹ 12 more than three times of what Babu got as interest. What was the amount invested by Babu?

Options :

1. ✖ ₹ 500

2. ✔ ₹ 400

3. ✖ ₹ 600

4. ✖ ₹ 800

Question Number : 107 Question Id : 5861805997 Question Type : MCQ Option Shuffling : Yes

Correct Marks : 1 Wrong Marks : 0.25

बाबू ने पांच साल के लिए 3% प्रतिवर्ष की दर से साधारण ब्याज पर एक निश्चित राशि का निवेश किया। अरुण ने बाबू द्वारा निवेशित राशि का 80% छः साल के लिए 10% प्रतिवर्ष की दर से निवेश किया। उसे ब्याज के रूप में जो राशि मिली, वह बाबू को ब्याज के रूप में मिली राशि के तीन गुने से ₹ 12 अधिक थी। बाबू ने कुल कितनी राशि का निवेश किया था?

Options :

1. ✖ ₹ 500

2. ✔ ₹ 400

3. ✖ ₹ 600

4. ✖ ₹ 800

Question Number : 108 Question Id : 5861805998 Question Type : MCQ Option Shuffling : Yes

Correct Marks : 1 Wrong Marks : 0.25

The simple interest on a certain sum for five years at 10% p.a. is ₹ 96 less than the simple interest on the same sum for seven years at 8% p.a. Find the sum.

Options :

1. ✖ ₹ 1,500

2. ✖ ₹ 1,800

3. ✖ ₹ 1,400

4. ✔ ₹ 1,600

Question Number : 108 Question Id : 5861805998 Question Type : MCQ Option Shuffling : Yes

Correct Marks : 1 Wrong Marks : 0.25

10% प्रतिवर्ष की ब्याज दर से एक निश्चित राशि पर पांच साल का साधारण ब्याज इसी राशि पर 8% प्रतिवर्ष की ब्याज दर पर सात साल के साधारण ब्याज से ₹ 96 कम होता है। मूल राशि कि गणना कीजिए।

Options :

1. ✖ ₹ 1,500

2. ✖ ₹ 1,800

3. ✖ ₹ 1,400

4. ✔ ₹ 1,600

Question Number : 109 Question Id : 5861805999 Question Type : MCQ Option Shuffling : Yes

Correct Marks : 1 Wrong Marks : 0.25

An IT company was started with 1,60,000 employees. The number of employees increased every three months at the rate of 20% p.a. After how long did the total number of employees become 1,94,481?

Options :

1. ✓ 1 year
2. ✗ 2 years
3. ✗ 1 ½ years
4. ✗ 2 ½ years

Question Number : 109 Question Id : 5861805999 Question Type : MCQ Option Shuffling : Yes  
Correct Marks : 1 Wrong Marks : 0.25

एक आईटी कंपनी 1,60,000 कर्मचारियों के साथ शुरू की गई थी। कर्मचारियों की संख्या हर तीन महीनों में 20% प्रतिवर्ष की दर से बढ़ी। गणना करें कि कर्मचारियों की कुल संख्या 1,94,481 कब तक हो जाएगी?

Options :

1. ✓ 1 साल
2. ✗ 2 साल
3. ✗ 1 ½ साल
4. ✗ 2 ½ साल

Question Number : 110 Question Id : 5861806000 Question Type : MCQ Option Shuffling : Yes  
Correct Marks : 1 Wrong Marks : 0.25

4000 IT professionals are assigned to complete a project. At the end of the first year, 20% are retrenched and at the end of the second year 10% are retrenched. However, to complete the project in time, the number of professionals was increased by 10% at the end of the third year. Find the number of project officials working during the fourth year.

Options :

1. ✗ 3268



2. ✓ 3168

3. ✗ 3368

4. ✗ 3618

Question Number : 110 Question Id : 5861806000 Question Type : MCQ Option Shuffling : Yes

Correct Marks : 1 Wrong Marks : 0.25

एक परियोजना को पूरा करने के लिए 4000 पेशेवरों को नियुक्त किया गया। पहले वर्ष के अंत में 20% और दूसरे वर्ष के अंत में 10% पेशेवरों को परियोजना से निकाला गया। हालांकि, परियोजना को समय पर पूरा करने के लिए, तीसरे वर्ष के अंत में पेशेवरों की संख्या में 10% की वृद्धि की गई। गणना करें कि चौथे वर्ष के दौरान इस परियोजना में कितने पेशेवर कर्मचारी काम कर रहे हैं।

Options :

1. ✗ 3268

2. ✓ 3168

3. ✗ 3368

4. ✗ 3618

Question Number : 111 Question Id : 5861806001 Question Type : MCQ Option Shuffling : Yes

Correct Marks : 1 Wrong Marks : 0.25

A conical tent is made to accommodate 25 soldiers. Each person must occupy  $10 \text{ m}^2$  of space and have  $25 \text{ m}^3$  of air to breathe. Find the height of the tent.

Options :

1. ✗ 6.5 m

2. ✖ 5.5 m

3. ✖ 7 m

4. ✔ 7.5 m

Question Number : 111 Question Id : 5861806001 Question Type : MCQ Option Shuffling : Yes

Correct Marks : 1 Wrong Marks : 0.25

25 सैनिकों को समायोजित करने के लिए एक शंक्वाकार तम्बू बनाया गया है। प्रत्येक व्यक्ति को  $10 \text{ m}^2$  का स्थान और सांस लेने के लिए  $25 \text{ m}^3$  हवा की आवश्यकता होती है। तम्बू की उंचाई ज्ञात कीजिए।

Options :

1. ✖ 6.5 m

2. ✖ 5.5 m

3. ✖ 7 m

4. ✔ 7.5 m

Question Number : 112 Question Id : 5861806002 Question Type : MCQ Option Shuffling : Yes

Correct Marks : 1 Wrong Marks : 0.25

A standard rain gauge measured rainfall in a village as 25 cm. How many litres of water fell on an agricultural field of length 80 m and breadth 60 m.

Options :

1. ✔ 1,20,00,00 litres

2. ✖ 1,30,00,00 litres



3. ✖ 1,20,000 litres

4. ✖ 1,25,00,00 litres

Question Number : 112 Question Id : 5861806002 Question Type : MCQ Option Shuffling : Yes

Correct Marks : 1 Wrong Marks : 0.25

एक मानक वर्षामापी के अनुसार किसी गांव में 25 cm वर्षा दर्ज की गई। गणना करें कि 80 m लंबे और 60 m चौड़े किसी खेत में कुल कितने लीटर पानी गिरा।

Options :

1. ✔ 1,20,00,00 लीटर

2. ✖ 1,30,00,00 लीटर

3. ✖ 1,20,000 लीटर

4. ✖ 1,25,00,00 लीटर

Question Number : 113 Question Id : 5861806003 Question Type : MCQ Option Shuffling : Yes

Correct Marks : 1 Wrong Marks : 0.25

The sum of length, breadth and height of a cuboid is 26 m and length of its diagonal is 18 m. Find the surface area of the cuboid.

Options :

1. ✖  $325 \text{ m}^2$

2. ✔  $352 \text{ m}^2$

3. ✖  $452 \text{ m}^2$

4. ✖  $362 \text{ m}^2$

Question Number : 113 Question Id : 5861806003 Question Type : MCQ Option Shuffling : Yes

Correct Marks : 1 Wrong Marks : 0.25

एक घनाभ की लंबाई, चौड़ाई और ऊंचाई का योग 26 m है और इसके विकर्ण की लंबाई 18 m है। घनाभ (cuboid) का पृष्ठीय क्षेत्रफल ज्ञात कीजिए।

Options :

1. ✖  $325 \text{ m}^2$

2. ✔  $352 \text{ m}^2$

3. ✖  $452 \text{ m}^2$

4. ✖  $362 \text{ m}^2$

Question Number : 114 Question Id : 5861806004 Question Type : MCQ Option Shuffling : Yes

Correct Marks : 1 Wrong Marks : 0.25

Arun and Bhola begin to work on a task. Arun is four times as good a workman as Bhola and therefore is able to finish the task in 60 days less than Bhola. In how many days will they finish working on the task together?

Options :

1. ✖ 18 days

2. ✖ 15 days

3. ✔ 16 days

4. ✖ 14 days

Question Number : 114 Question Id : 5861806004 Question Type : MCQ Option Shuffling : Yes

Correct Marks : 1 Wrong Marks : 0.25

अरुण और भोला एक काम को एक साथ करना शुरू करते हैं। अरुण भोला से चार गुना अच्छा कामगार है और इसलिए भोला से 60 दिन पहले काम पूरा करने में सक्षम है। अगर वे दोनों एक साथ मिलकर काम करते हैं, तो वे इस काम को कितने दिनों में खत्म कर पाएंगे?

Options :

1. ✖ 18 दिन

2. ✖ 15 दिन

3. ✔ 16 दिन

4. ✖ 14 दिन

Question Number : 115 Question Id : 5861806005 Question Type : MCQ Option Shuffling : Yes

Correct Marks : 1 Wrong Marks : 0.25

18 people can complete  $\frac{3}{8}$  of a work in four days. Find the number of people required to complete  $\frac{5}{8}$  of the work in 24 days.

Options :

1. ✖ 4

2. ✔ 5

3. ✖ 6

4. ✖ 8

Question Number : 115 Question Id : 5861806005 Question Type : MCQ Option Shuffling : Yes

Correct Marks : 1 Wrong Marks : 0.25

18 लोग मिलकर किसी काम के  $\frac{3}{8}$  भाग को चार दिनों में पूरा कर सकते हैं। काम के  $\frac{5}{8}$  भाग को 24 दिनों में पूरा करने के लिए आवश्यक कामगारों की संख्या ज्ञात कीजिए।

Options :

1. ✖ 4

2. ✔ 5

3. ✖ 6

4. ✖ 8

Question Number : 116 Question Id : 5861806006 Question Type : MCQ Option Shuffling : Yes

Correct Marks : 1 Wrong Marks : 0.25

The speed of a train is  $2\frac{3}{8}$  times the average speed of a car. The car covers 240 km in five hours. How much distance will the train cover in five hours?

Options :

1. ✖ 650 km

2. ✔ 570 km

3. ✖ 460 km

4. ✖ 580 km

Question Number : 116 Question Id : 5861806006 Question Type : MCQ Option Shuffling : Yes

Correct Marks : 1 Wrong Marks : 0.25

एक ट्रेन की गति एक कार की औसत गति की  $2\frac{3}{8}$  है। कार पांच घंटे में 240 km की दूरी तय करती है। ट्रेन पांच घंटे में कितनी दूरी तय करेगी?

Options :

1. ✖ 650 km

2. ✔ 570 km

3. ✖ 460 km

4. ✖ 580 km

Question Number : 117 Question Id : 5861806007 Question Type : MCQ Option Shuffling : Yes

Correct Marks : 1 Wrong Marks : 0.25

A car travels from Kalyan to Dadar at a speed of 60 km/h and returns back to Kalyan at 80 km/h. If the total time taken by the car is 2 hours and 55 minutes, find the distance between Kalyan and Dadar.

Options :

1. ✔ 100 km

2. ✖ 120 km

3. ✖ 110 km

4. ✖ 90 km

Question Number : 117 Question Id : 5861806007 Question Type : MCQ Option Shuffling : Yes

Correct Marks : 1 Wrong Marks : 0.25

एक कार कल्याण से दादर तक 60 km/h की गति से यात्रा करती है और 80 km/h की गति से कल्याण वापस लौटती है। यदि कार द्वारा लिया गया कुल समय 2 घंटे और 55 मिनट है, तो कल्याण और दादर के बीच की दूरी ज्ञात करें।

Options :

1. ✔ 100 km

2. ✖ 120 km

3. ✖ 110 km

4. ✖ 90 km

Question Number : 118 Question Id : 5861806008 Question Type : MCQ Option Shuffling : Yes

Correct Marks : 1 Wrong Marks : 0.25

The ratio between the speed of a car to that of a bus is 7 : 4. The train covered 616 km in eight hours. The speed of the train is  $\frac{11}{14}$  the speed of the car. How much distance will the bus cover in three hours?

Options :

1. ✖ 186 km

2. ✖ 178 km

3. ✔ 168 km

4. ✖ 158 km

Question Number : 118 Question Id : 5861806008 Question Type : MCQ Option Shuffling : Yes

Correct Marks : 1 Wrong Marks : 0.25

एक बस की गति और कार की गति के बीच का अनुपात 7 : 4 है। ट्रेन ने 8 घंटे में 616 km की दूरी तय की। ट्रेन की गति कार की गति की  $\frac{11}{14}$  है। बस तीन घंटों में कितनी दूरी तय करेगी?

Options :

1. ✖ 186 km



2. ✖ 178 km

3. ✔ 168 km

4. ✖ 158 km

Question Number : 119 Question Id : 5861806009 Question Type : MCQ Option Shuffling : Yes  
Correct Marks : 1 Wrong Marks : 0.25

The following table gives the percentage of marks obtained by seven students in six different subjects in an examination. The numbers in the brackets are the maximum marks in each subject.

Student	Subject (Max. Marks)					
	English	Maths	Physics	Chemistry	Biology	Computer Science
	(120)	(130)	(120)	(100)	(80)	(50)
David	80	40	85	60	75	90
Arun	85	100	65	50	90	60
Rohit	90	80	70	72	80	60
Salma	80	50	55	80	70	70
Janani	85	60	75	95	60	80
Tarun	70	75	65	85	40	60

What was the aggregate of marks obtained by Janani in all the six subjects?

Options :

1. ✔ 453

2. ✖ 435



3. ✖ 425

4. ✖ 434

Question Number : 119 Question Id : 5861806009 Question Type : MCQ Option Shuffling : Yes  
Correct Marks : 1 Wrong Marks : 0.25  
निम्नलिखित तालिका में एक परीक्षा में छः अलग-अलग विषयों में सात छात्रों द्वारा प्राप्त अंकों का प्रतिशत दिया गया है। कोष्ठक में दी गई संख्या प्रत्येक विषय में प्राप्त अधिकतम अंक है।

छात्र	विषय (अधिकतम अंक)					
	अंग्रेज़ी	गणित	भौतिक विज्ञान	रसायन विज्ञान	जीव विज्ञान	कंप्यूटर विज्ञान
	(120)	(130)	(120)	(100)	(80)	(50)
डेविड	80	40	85	60	75	90
अरुण	85	100	65	50	90	60
रोहित	90	80	70	72	80	60
सलमा	80	50	55	80	70	70
जननी	85	60	75	95	60	80
तरुण	70	75	65	85	40	60

जननी को सभी छः विषयों में प्राप्त कुल अंकों की गणना करें?

Options :

1. ✔ 453

2. ✖ 435

3. ✖ 425

4. ✖ 434

Question Number : 120 Question Id : 5861806010 Question Type : MCQ Option Shuffling : Yes  
Correct Marks : 1 Wrong Marks : 0.25

The following table gives the percentage of marks obtained by seven students in six different subjects in an examination. The numbers in the brackets are the maximum marks in each subject.

Student	Subject (Max. Marks)					
	English	Maths	Physics	Chemistry	Biology	Computer Science
	(120)	(130)	(120)	(100)	(80)	(50)
David	80	40	85	60	75	90
Arun	85	100	65	50	90	60
Rohit	90	80	70	72	80	60
Salma	80	50	55	80	70	70
Janani	85	60	75	95	60	80
Tarun	70	75	65	85	40	60

What is Rohit’s overall percentage?

Options :

1. ✖ 75%
2. ✔ 77%
3. ✖ 70%
4. ✖ 78%

निम्नलिखित तालिका में एक परीक्षा में छः अलग-अलग विषयों में सात छात्रों द्वारा प्राप्त अंकों का प्रतिशत दिया गया है। कोष्ठक में दी गई संख्या प्रत्येक विषय में प्राप्त अधिकतम अंक है।

छात्र	विषय (अधिकतम अंक)					
	अंग्रेज़ी	गणित	भौतिक विज्ञान	रसायन विज्ञान	जीव विज्ञान	कंप्यूटर विज्ञान
	(120)	(130)	(120)	(100)	(80)	(50)
डेविड	80	40	85	60	75	90
अरुण	85	100	65	50	90	60
रोहित	90	80	70	72	80	60
सलमा	80	50	55	80	70	70
जननी	85	60	75	95	60	80
तरुण	70	75	65	85	40	60

रोहित को मिले कुल प्रतिशत की गणना करें?

Options :

1. ✖ 75%
2. ✔ 77%
3. ✖ 70%
4. ✖ 78%



General English1

Group Number :	7
Group Id :	586180288
Group Maximum Duration :	0
Group Minimum Duration :	0
Show Attended Group? :	No
Edit Attended Group? :	No
Break time:	0
Group Marks:	20

Is this Group for Examiner?:	No
Revisit allowed for group Instructions? :	Yes
Maximum Instruction Time:	0
Minimum Instruction Time:	0

General English1

Section Id :	586180292
Section Number :	1
Section type :	Online
Mandatory or Optional:	Mandatory
Number of Questions:	20
Number of Questions to be attempted:	20
Section Marks:	20

Sub-Section Number:	1
Sub-Section Id:	586180403
Question Shuffling Allowed :	Yes

Question Number : 121 Question Id : 5861806011 Question Type : MCQ Option Shuffling : Yes  
Correct Marks : 1 Wrong Marks : 0.25

Choose the option that conveys the meaning of the underlined idiom.

We all wanted to keep the party a secret, but my brother spilled the beans.

Options :

- 1. ✖ spoil the party
- 2. ✖ scatter the beans on the floor
- 3. ✔ reveal information
- 4. ✖ not being a part of something

Question Number : 121 Question Id : 5861806011 Question Type : MCQ Option Shuffling : Yes  
Correct Marks : 1 Wrong Marks : 0.25

Choose the option that conveys the meaning of the underlined idiom.

We all wanted to keep the party a secret, but my brother spilled the beans.

Options :

1. ✖ spoil the party
2. ✖ scatter the beans on the floor
3. ✔ reveal information
4. ✖ not being a part of something

Question Number : 122 Question Id : 5861806012 Question Type : MCQ Option Shuffling : Yes

Correct Marks : 1 Wrong Marks : 0.25

Choose the option that conveys the meaning of the underlined idiom.

I don't know how I will convince my mother, I guess, I will play it by the ear.

Options :

1. ✖ to listen very carefully
2. ✔ letting things happen naturally.
3. ✖ to want things to happen fast
4. ✖ to persuade some one

Question Number : 122 Question Id : 5861806012 Question Type : MCQ Option Shuffling : Yes

Correct Marks : 1 Wrong Marks : 0.25

Choose the option that conveys the meaning of the underlined idiom.

I don't know how I will convince my mother, I guess, I will play it by the ear.

Options :

1. ✖ to listen very carefully
2. ✔ letting things happen naturally.
3. ✖ to want things to happen fast
4. ✖ to persuade some one

Question Number : 123 Question Id : 5861806013 Question Type : MCQ Option Shuffling : Yes  
Correct Marks : 1 Wrong Marks : 0.25

Select the option that will improve the underlined part of the sentence. In case there is no improvement needed then select 'No improvement' option.

I went down from 80kgs to 60 kgs in weight. That is a large accomplishment.

Options :

1. ✖ suitable accomplishment
2. ✔ big accomplishment
3. ✖ heavy accomplishment
4. ✖ no improvement

Question Number : 123 Question Id : 5861806013 Question Type : MCQ Option Shuffling : Yes  
Correct Marks : 1 Wrong Marks : 0.25

Select the option that will improve the underlined part of the sentence. In case there is no improvement needed then select 'No improvement' option.

I went down from 80kgs to 60 kgs in weight. That is a large accomplishment.

Options :

1. ✖ suitable accomplishment
2. ✔ big accomplishment
3. ✖ heavy accomplishment
4. ✖ no improvement

Question Number : 124 Question Id : 5861806014 Question Type : MCQ Option Shuffling : Yes  
Correct Marks : 1 Wrong Marks : 0.25

Select the option that will improve the underlined part of the sentence. In case there is no improvement needed then select 'No improvement' option.

No opinion poll can predict the overview of this election.

Options :

1. ✖ inclination
2. ✔ outcome
3. ✖ estimation
4. ✖ no improvement

Question Number : 124 Question Id : 5861806014 Question Type : MCQ Option Shuffling : Yes  
Correct Marks : 1 Wrong Marks : 0.25



Select the option that will improve the underlined part of the sentence. In case there is no improvement needed then select 'No improvement' option.

No opinion poll can predict the overview of this election.

Options :

1. ✖ inclination
2. ✔ outcome
3. ✖ estimation
4. ✖ no improvement

Question Number : 125 Question Id : 5861806015 Question Type : MCQ Option Shuffling : Yes  
Correct Marks : 1 Wrong Marks : 0.25

Choose the option that is one word substitution for the given phrase.

inscription on a tombstone

Options :

1. ✖ epigram
2. ✖ epic
3. ✔ epitaph
4. ✖ epistle

Question Number : 125 Question Id : 5861806015 Question Type : MCQ Option Shuffling : Yes  
Correct Marks : 1 Wrong Marks : 0.25

Choose the option that is one word substitution for the given phrase.

inscription on a tombstone

Options :

1. ✖ epigram
2. ✖ epic
3. ✔ epitaph
4. ✖ epistle

Question Number : 126 Question Id : 5861806016 Question Type : MCQ Option Shuffling : Yes  
Correct Marks : 1 Wrong Marks : 0.25

Choose the correct option to fill in the blanks.

Now \_\_\_\_\_ minister made \_\_\_\_\_ decision that would prove to be \_\_\_\_\_ most important decision of his life.

Options :

1. ✖ a, the, an
2. ✖ a, an, the
3. ✖ the, a, a
4. ✔ the, a, the

Question Number : 126 Question Id : 5861806016 Question Type : MCQ Option Shuffling : Yes  
Correct Marks : 1 Wrong Marks : 0.25

Choose the correct option to fill in the blanks.

Now \_\_\_\_\_ minister made \_\_\_\_\_ decision that would prove to be \_\_\_\_\_ most important decision of his life.

Options :

1. ✖ a, the, an
2. ✖ a, an, the
3. ✖ the, a, a
4. ✔ the, a, the

Question Number : 127 Question Id : 5861806017 Question Type : MCQ Option Shuffling : Yes  
Correct Marks : 1 Wrong Marks : 0.25

Choose the correct option to fill in the blanks.

My friend went to \_\_\_\_\_ university in America and got \_\_\_\_\_ MBA degree.

Options :

1. ✖ an, a
2. ✔ a, an
3. ✖ the, a
4. ✖ the, an

Question Number : 127 Question Id : 5861806017 Question Type : MCQ Option Shuffling : Yes  
Correct Marks : 1 Wrong Marks : 0.25

Choose the correct option to fill in the blanks.

My friend went to \_\_\_\_\_ university in America and got \_\_\_\_\_ MBA degree.

Options :

1. ✖ an, a
2. ✔ a, an
3. ✖ the, a
4. ✖ the, an

Question Number : 128 Question Id : 5861806018 Question Type : MCQ Option Shuffling : Yes  
Correct Marks : 1 Wrong Marks : 0.25

Choose the correct option to fill in the blanks.

“You are busy,” I said, “Perhaps \_\_\_\_\_ disturbing \_\_\_\_\_. \_\_\_\_\_ can come later.”

Options :

1. ✖ I am, him, he
2. ✖ you are, him, he
3. ✔ I am, you, I
4. ✖ you are, you, I

Question Number : 128 Question Id : 5861806018 Question Type : MCQ Option Shuffling : Yes  
Correct Marks : 1 Wrong Marks : 0.25

Choose the correct option to fill in the blanks.

“You are busy,” I said, “Perhaps \_\_\_\_\_ disturbing \_\_\_\_\_. \_\_\_\_\_ can come later.”

Options :

1. ✖ I am, him, he
2. ✖ you are, him, he
3. ✔ I am, you, I
4. ✖ you are, you, I

Question Number : 129 Question Id : 5861806019 Question Type : MCQ Option Shuffling : Yes  
Correct Marks : 1 Wrong Marks : 0.25

Choose the correct option to fill in the blanks.

I went to the wrong class \_\_\_\_\_ mistake. A teacher then took me \_\_\_\_\_ the right classroom \_\_\_\_\_ the first floor.

Options :

1. ✖ in, for, on
2. ✖ by, in, on
3. ✖ on, in, on
4. ✔ by, to, on

Question Number : 129 Question Id : 5861806019 Question Type : MCQ Option Shuffling : Yes  
Correct Marks : 1 Wrong Marks : 0.25

Choose the correct option to fill in the blanks.

I went to the wrong class \_\_\_\_\_ mistake. A teacher then took me \_\_\_\_\_ the right classroom \_\_\_\_\_ the first floor.

Options :

1. ✖ in, for, on
2. ✖ by, in, on
3. ✖ on, in, on
4. ✔ by, to, on

Question Number : 130 Question Id : 5861806020 Question Type : MCQ Option Shuffling : Yes  
Correct Marks : 1 Wrong Marks : 0.25

Choose the correct option to fill in the blanks.

\_\_\_\_\_ was suddenly ashamed of \_\_\_\_\_ for the abrupt way \_\_\_\_\_ had been speaking to \_\_\_\_\_.

Options :

1. ✖ I, me, I, his
2. ✔ I, myself, I, him
3. ✖ he, myself, I, me
4. ✖ they, himself, I, him

Question Number : 130 Question Id : 5861806020 Question Type : MCQ Option Shuffling : Yes  
Correct Marks : 1 Wrong Marks : 0.25

Choose the correct option to fill in the blanks.

\_\_\_\_\_ was suddenly ashamed of \_\_\_\_\_ for the abrupt way \_\_\_\_\_ had been speaking to \_\_\_\_\_.

Options :

1. ✖ I, me, I, his
2. ✔ I, myself, I, him
3. ✖ he, myself, I, me
4. ✖ they, himself, I, him

Question Number : 131 Question Id : 5861806021 Question Type : MCQ Option Shuffling : Yes  
Correct Marks : 1 Wrong Marks : 0.25

Choose the correct option to fill in the blanks.

My uncle has taken \_\_\_\_\_ phone. Can \_\_\_\_\_ please let me make a call from \_\_\_\_\_.

Options :

1. ✖ ours, I, his
2. ✖ mine, you, your
3. ✔ my, you, yours
4. ✖ my, I, you

Question Number : 131 Question Id : 5861806021 Question Type : MCQ Option Shuffling : Yes  
Correct Marks : 1 Wrong Marks : 0.25

Choose the correct option to fill in the blanks.

My uncle has taken \_\_\_\_\_ phone. Can \_\_\_\_\_ please let me make a call from \_\_\_\_\_.

Options :

1. ✖ ours, I, his
2. ✖ mine, you, your
3. ✔ my, you, yours
4. ✖ my, I, you

Question Number : 132 Question Id : 5861806022 Question Type : MCQ Option Shuffling : Yes

Correct Marks : 1 Wrong Marks : 0.25

Choose the correct option to fill in the blanks.

\_\_\_\_\_ I have only salad for dinner \_\_\_\_\_ I can have the dessert.

Options :

1. ✔ If, then
2. ✖ whether, then
3. ✖ Though, then
4. ✖ although, however

Question Number : 132 Question Id : 5861806022 Question Type : MCQ Option Shuffling : Yes

Correct Marks : 1 Wrong Marks : 0.25

Choose the correct option to fill in the blanks.

\_\_\_\_\_ I have only salad for dinner \_\_\_\_\_ I can have the dessert.

Options :

1. ✔ If, then



2. ✖ whether, then
3. ✖ Though, then
4. ✖ although, however

Question Number : 133 Question Id : 5861806023 Question Type : MCQ Option Shuffling : Yes  
Correct Marks : 1 Wrong Marks : 0.25

Choose the correct option to fill in the blanks.

A violation of law \_\_\_\_\_ small, is a punishable offense.

Options :

1. ✖ and
2. ✖ nevertheless
3. ✔ however
4. ✖ so

Question Number : 133 Question Id : 5861806023 Question Type : MCQ Option Shuffling : Yes  
Correct Marks : 1 Wrong Marks : 0.25

Choose the correct option to fill in the blanks.

A violation of law \_\_\_\_\_ small, is a punishable offense.

Options :

1. ✖ and
2. ✖ nevertheless
3. ✔ however
4. ✖ so

Question Number : 134 Question Id : 5861806024 Question Type : MCQ Option Shuffling : Yes  
Correct Marks : 1 Wrong Marks : 0.25

Choose the correct option to fill in the blanks.

\_\_\_\_\_ spectators continued to watch the game despite the rain.

Options :

1. ✖ The few
2. ✔ Several
3. ✖ Any
4. ✖ Every

Question Number : 134 Question Id : 5861806024 Question Type : MCQ Option Shuffling : Yes  
Correct Marks : 1 Wrong Marks : 0.25

Choose the correct option to fill in the blanks.

\_\_\_\_\_ spectators continued to watch the game despite the rain.

Options :

1. ✖ The few
2. ✔ Several
3. ✖ Any
4. ✖ Every

Question Number : 135 Question Id : 5861806025 Question Type : MCQ Option Shuffling : Yes  
Correct Marks : 1 Wrong Marks : 0.25

Choose the correct option to fill in the blanks.

\_\_\_\_\_ my mother \_\_\_\_\_ my father can play tennis.

Options :

1. ✖ either, or
2. ✖ none, or

3. ✖ both, but

4. ✔ neither, nor

Question Number : 135 Question Id : 5861806025 Question Type : MCQ Option Shuffling : Yes  
Correct Marks : 1 Wrong Marks : 0.25

Choose the correct option to fill in the blanks.

\_\_\_\_\_ my mother \_\_\_\_\_ my father can play tennis.

Options :

1. ✖ either, or

2. ✖ none, or

3. ✖ both, but

4. ✔ neither, nor

Question Number : 136 Question Id : 5861806026 Question Type : MCQ Option Shuffling : Yes  
Correct Marks : 1 Wrong Marks : 0.25

Choose the option which is the correct passive form of the given sentence.

Why did no one question her for her bad conduct?

Options :

1. ✖ Why is she not questioned by anyone for her bad conduct?

2. ✔ Why was she not questioned by anyone for her bad conduct?

3. ✖ Why is she not being questioned by anyone for her bad conduct?

4. ✖ Why has she not been questioned by anyone for her bad conduct?

Question Number : 136 Question Id : 5861806026 Question Type : MCQ Option Shuffling : Yes  
Correct Marks : 1 Wrong Marks : 0.25

Choose the option which is the correct passive form of the given sentence.

Why did no one question her for her bad conduct?

Options :

1. ✖ Why is she not questioned by anyone for her bad conduct?
2. ✔ Why was she not questioned by anyone for her bad conduct?
3. ✖ Why is she not being questioned by anyone for her bad conduct?
4. ✖ Why has she not been questioned by anyone for her bad conduct?

Question Number : 137 Question Id : 5861806027 Question Type : MCQ Option Shuffling : Yes  
Correct Marks : 1 Wrong Marks : 0.25

Choose the option which is the correct indirect form of the given sentence.

Gayatri said to her father, "Please let me go out with my friends."

Options :

1. ✔ Gayatri requested her father to let her go out with her friends.
2. ✖ Gayatri requested her father to let him go out with her friends.

3. ✖ Gayatri requested her father to let him go out with his friends.
4. ✖ Gayatri questioned her father to let her go out with her friends.

Question Number : 137 Question Id : 5861806027 Question Type : MCQ Option Shuffling : Yes  
Correct Marks : 1 Wrong Marks : 0.25

Choose the option which is the correct indirect form of the given sentence.

Gayatri said to her father, "Please let me go out with my friends."

Options :

1. ✔ Gayatri requested her father to let her go out with her friends.
2. ✖ Gayatri requested her father to let him go out with her friends.
3. ✖ Gayatri requested her father to let him go out with his friends.
4. ✖ Gayatri questioned her father to let her go out with her friends.

Question Number : 138 Question Id : 5861806028 Question Type : MCQ Option Shuffling : Yes  
Correct Marks : 1 Wrong Marks : 0.25

Choose the option that is the correct order of this jumbled sentence.

anytime/ family/ the bridegroom's/is expected

Options :

1. ✖ The family is expected anytime the bridegroom's.
2. ✔ The bridegroom's family is expected anytime.
3. ✖ The bridegroom's family is anytime expected.
4. ✖ Is expected the bridegroom's family anytime.

Question Number : 138 Question Id : 5861806028 Question Type : MCQ Option Shuffling : Yes  
Correct Marks : 1 Wrong Marks : 0.25

Choose the option that is the correct order of this jumbled sentence.

anytime/ family/ the bridegroom's/is expected

Options :

1. ✖ The family is expected anytime the bridegroom's.
2. ✔ The bridegroom's family is expected anytime.
3. ✖ The bridegroom's family is anytime expected.
4. ✖ Is expected the bridegroom's family anytime.

Question Number : 139 Question Id : 5861806029 Question Type : MCQ Option Shuffling : Yes  
Correct Marks : 1 Wrong Marks : 0.25

Choose the option that is the correct order of this jumbled sentence.

be careful/ the footprints/we must/not to disturb

Options :

1. ✖ Careful not to disturb the footprints we must be.
2. ✖ We must be careful the footprints not to disturb
3. ✖ The footprints we must not to disturb be careful.
4. ✔ We must be careful not to disturb the footprints.

Question Number : 139 Question Id : 5861806029 Question Type : MCQ Option Shuffling : Yes

Correct Marks : 1 Wrong Marks : 0.25

Choose the option that is the correct order of this jumbled sentence.

be careful/ the footprints/we must/not to disturb

Options :

1. ✖ Careful not to disturb the footprints we must be.
2. ✖ We must be careful the footprints not to disturb
3. ✖ The footprints we must not to disturb be careful.
4. ✔ We must be careful not to disturb the footprints.

Question Number : 140 Question Id : 5861806030 Question Type : MCQ Option Shuffling : Yes

Correct Marks : 1 Wrong Marks : 0.25

Choose the option that is the correct order of this jumbled sentence.

have dinner/you may/go to/the cinema/or

Options :

1. ✖ Go to the cinema or have dinner you may.
2. ✔ You may go to the cinema or have dinner.
3. ✖ May you go to the cinema or have dinner.
4. ✖ Have you may dinner or go to the cinema.

Question Number : 140 Question Id : 5861806030 Question Type : MCQ Option Shuffling : Yes

Correct Marks : 1 Wrong Marks : 0.25

Choose the option that is the correct order of this jumbled sentence.

have dinner/you may/go to/the cinema/or



Options :

- 1. ✖ Go to the cinema or have dinner you may.
- 2. ✔ You may go to the cinema or have dinner.
- 3. ✖ May you go to the cinema or have dinner.
- 4. ✖ Have you may dinner or go to the cinema.

General English2

Group Number :	8
Group Id :	586180289
Group Maximum Duration :	0
Group Minimum Duration :	0
Show Attended Group? :	No
Edit Attended Group? :	No
Break time:	0
Group Marks:	20
Is this Group for Examiner?:	No
Revisit allowed for group Instructions? :	Yes
Maximum Instruction Time:	0
Minimum Instruction Time:	0

General English2

Section Id :	586180293
Section Number :	1
Section type :	Online
Mandatory or Optional:	Mandatory
Number of Questions:	12
Number of Questions to be attempted:	12
Section Marks:	20

Sub-Section Number:	1
Sub-Section Id:	586180404
Question Shuffling Allowed :	Yes

Question Number : 141 Question Id : 5861806031 Question Type : MCQ Option Shuffling : Yes  
Correct Marks : 1 Wrong Marks : 0.25

Choose the option that is the correct synonym for the given word.

AUGMENT

Options :

1. ✖ undermine
2. ✔ enhance
3. ✖ weaken
4. ✖ reduce

Question Number : 141 Question Id : 5861806031 Question Type : MCQ Option Shuffling : Yes  
Correct Marks : 1 Wrong Marks : 0.25

Choose the option that is the correct synonym for the given word.

AUGMENT

Options :

1. ✖ undermine
2. ✔ enhance
3. ✖ weaken
4. ✖ reduce

Question Number : 142 Question Id : 5861806032 Question Type : MCQ Option Shuffling : Yes  
Correct Marks : 1 Wrong Marks : 0.25

Choose the option that is the correct synonym for the given word.

MEAGRE

Options :

1. ✓ insufficient
2. ✗ ample
3. ✗ surplus
4. ✗ generous

Question Number : 142 Question Id : 5861806032 Question Type : MCQ Option Shuffling : Yes  
Correct Marks : 1 Wrong Marks : 0.25

Choose the option that is the correct synonym for the given word.

MEAGRE

Options :

1. ✓ insufficient
2. ✗ ample
3. ✗ surplus
4. ✗ generous

Question Number : 143 Question Id : 5861806033 Question Type : MCQ Option Shuffling : Yes  
Correct Marks : 1 Wrong Marks : 0.25

Choose the option that is the correct synonym for the given word.

IRIDESCENT

Options :

1. ✗ pale
2. ✗ colorless
3. ✗ dull
4. ✓ lustrous

Question Number : 143 Question Id : 5861806033 Question Type : MCQ Option Shuffling : Yes  
Correct Marks : 1 Wrong Marks : 0.25

Choose the option that is the correct synonym for the given word.

IRIDESCENT

Options :

1. ✖ pale
2. ✖ colorless
3. ✖ dull
4. ✔ lustrous

Question Number : 144 Question Id : 5861806034 Question Type : MCQ Option Shuffling : Yes

Correct Marks : 1 Wrong Marks : 0.25

Choose the option that is the correct synonym for the given word.

MAGNANIMOUS

Options :

1. ✖ selfish
2. ✔ large hearted
3. ✖ broken hearted
4. ✖ uncharitable

Question Number : 144 Question Id : 5861806034 Question Type : MCQ Option Shuffling : Yes

Correct Marks : 1 Wrong Marks : 0.25

Choose the option that is the correct synonym for the given word.

MAGNANIMOUS

Options :

1. ✖ selfish
2. ✔ large hearted
3. ✖ broken hearted
4. ✖ uncharitable

Question Number : 145 Question Id : 5861806035 Question Type : MCQ Option Shuffling : Yes  
Correct Marks : 1 Wrong Marks : 0.25

Choose the option that is the correct synonym for the given word.

RUSTIC

Options :

1. ✔ artless
2. ✖ cultured
3. ✖ urban
4. ✖ sophisticated

Question Number : 145 Question Id : 5861806035 Question Type : MCQ Option Shuffling : Yes  
Correct Marks : 1 Wrong Marks : 0.25

Choose the option that is the correct synonym for the given word.

RUSTIC

Options :

1. ✔ artless
2. ✖ cultured
3. ✖ urban
4. ✖ sophisticated

Question Number : 146 Question Id : 5861806036 Question Type : MCQ Option Shuffling : Yes  
Correct Marks : 1 Wrong Marks : 0.25

Choose the option that is the correct antonym for the given word.

INFALLIBLE

Options :

1. ✖ correct
2. ✖ unerring
3. ✔ unreliable
4. ✖ foolproof

Question Number : 146 Question Id : 5861806036 Question Type : MCQ Option Shuffling : Yes  
Correct Marks : 1 Wrong Marks : 0.25

Choose the option that is the correct antonym for the given word.

INFALLIBLE

Options :

1. ✖ correct
2. ✖ unerring
3. ✔ unreliable
4. ✖ foolproof

Question Number : 147 Question Id : 5861806037 Question Type : MCQ Option Shuffling : Yes  
Correct Marks : 1 Wrong Marks : 0.25

Choose the option that is the correct antonym for the given word.

PRISTINE

Options :

1. ✖ earliest
2. ✖ spotless
3. ✔ dirty
4. ✖ pure

Question Number : 147 Question Id : 5861806037 Question Type : MCQ Option Shuffling : Yes  
Correct Marks : 1 Wrong Marks : 0.25

Choose the option that is the correct antonym for the given word.

PRISTINE

Options :

1. ✖ earliest
2. ✖ spotless
3. ✔ dirty
4. ✖ pure

Question Number : 148 Question Id : 5861806038 Question Type : MCQ Option Shuffling : Yes  
Correct Marks : 1 Wrong Marks : 0.25

Choose the option that is the correct antonym for the given word.

SEDENTARY

Options :

1. ✔ moving
2. ✖ inactive
3. ✖ seated
4. ✖ practical



Question Number : 148 Question Id : 5861806038 Question Type : MCQ Option Shuffling : Yes  
Correct Marks : 1 Wrong Marks : 0.25

Choose the option that is the correct antonym for the given word.

SEEDENTARY

Options :

1. ✓ moving
2. ✗ inactive
3. ✗ seated
4. ✗ practical

Question Number : 149 Question Id : 5861806039 Question Type : MCQ Option Shuffling : Yes  
Correct Marks : 1 Wrong Marks : 0.25

Choose the option that is the correct antonym for the given word.

SUAVE

Options :

1. ✗ smooth
2. ✗ civilized
3. ✗ soft
4. ✓ awkward

Question Number : 149 Question Id : 5861806039 Question Type : MCQ Option Shuffling : Yes  
Correct Marks : 1 Wrong Marks : 0.25

Choose the option that is the correct antonym for the given word.

SUAVE

Options :

1. ✖ smooth
2. ✖ civilized
3. ✖ soft
4. ✔ awkward

Question Number : 150 Question Id : 5861806040 Question Type : MCQ Option Shuffling : Yes

Correct Marks : 1 Wrong Marks : 0.25

Choose the option that is the correct antonym for the given word.

MEANDER

Options :

1. ✔ straight
2. ✖ zigzag
3. ✖ curly
4. ✖ rambling

Question Number : 150 Question Id : 5861806040 Question Type : MCQ Option Shuffling : Yes

Correct Marks : 1 Wrong Marks : 0.25

Choose the option that is the correct antonym for the given word.

MEANDER

Options :

1. ✓ straight
2. ✗ zigzag
3. ✗ curly
4. ✗ rambling

Sub-Section Number:	2
Sub-Section Id:	586180405
Question Shuffling Allowed :	Yes

Question Id : 5861806041 Question Type : COMPREHENSION Sub Question Shuffling Allowed : Yes Group Comprehension Questions : No

Question Numbers : (151 to 155)

Question Label : Comprehension



Read the passage to answer the questions that follow.

It is often said that a sports star will die twice, the first time at retirement. For elite athletes who have dedicated their lives to sport, what happens when your time comes to an end? If you aren't an athlete, then who are you?

Elite athletes train extensively for years, in many cases, consuming the majority of their young lives, often making extensive personal sacrifices in order to pursue their dreams of glory. These may include making huge financial sacrifices, moving away from family to train full-time in academies, calling time on their academic studies and sacrificing personal or romantic relationships. For many athletes, retirement is a concept that they do not wish to think about in great detail. However, whether they have achieved Olympic glory or failed to reach the pinnacle in their sport that they had aspired to, all athletes' careers will eventually come to a close, whether this is through age, injury or exhaustion.

However, what happens to these athletes once they leave the days filled with rigorous training, the extensive time spent travelling and the buzz and adrenaline of competing? This is the time in their lives where they may be susceptible to depression. Olympic Champion cyclist, Victoria Pendleton, expressed her extreme relief of retirement after the London Games, citing that she couldn't wait to go on to new ventures in her life and was much happier now that the pressure of competing was no longer a burden. However, not all athletes will enter retirement with such ease and willingness; many will struggle with adapting to a "regular life" where they are no longer in the limelight and perhaps, in their eyes, become forgotten members of society.

Sport career termination induces dramatic changes in athletes' personal, social and occupational lives, this can in turn potentially affect individuals cognitively, emotionally and behaviorally. The social and professional changes induced by retirement from sport can in effect cause distressful reactions. These retired athletes express a feeling of emptiness in their lives and one of the main stakes of this transition is to therefore reconstruct and adjust themselves on the basis of a new lifestyle.

Athletes by nature are mentally tough individuals and are often perceived by the public to be fitter, healthier and happier than others. It is this attitude and stereotyping that can make it more difficult for them to approach someone for help. Therefore it is highly important for close family, friends, team mates and coaches to understand that depression cannot always be seen and the athlete may indeed never admit to how they feel for fear of shame and embarrassment. The most important message is to understand that despite their incredible success in their hard-fought and dedicated careers, the process of retirement is a difficult one and it is in this time that social support and communication is of vital importance if the athlete is to avoid the dreaded post-retirement blues.

Sub questions

Question Number : 151 Question Id : 5861806042 Question Type : MCQ Option Shuffling : Yes  
Correct Marks : 1 Wrong Marks : 0.25

Which of the following is NOT a reason for the end of an athlete's sporting life?

Options :

1. ✖ aging
2. ✖ getting injured
3. ✔ family commitments
4. ✖ exhaustion

Question Number : 152 Question Id : 5861806043 Question Type : MCQ Option Shuffling : Yes  
Correct Marks : 1 Wrong Marks : 0.25

The possibility of depression in an athlete occurs when he/she:

Options :

1. ✖ does not get medals
2. ✖ does not perform well
3. ✖ there is no competition
4. ✔ retires from active sports

Question Number : 153 Question Id : 5861806044 Question Type : MCQ Option Shuffling : Yes  
Correct Marks : 1 Wrong Marks : 0.25

In what context does the writer mention Victoria Pendleton?

Options :

1. ✖ An Olympic champion
2. ✖ Being a champion cyclist
3. ✔ an athlete who looked forward to retirement.
4. ✖ an athlete who could not handle retirement

Question Number : 154 Question Id : 5861806045 Question Type : MCQ Option Shuffling : Yes  
Correct Marks : 1 Wrong Marks : 0.25

Why do athletes find it difficult to ask for help?

Options :

1. ✓ They are perceived as being tough people.
2. ✖ They are arrogant about their abilities.
3. ✖ They have won a lot of medals.
4. ✖ The public knows them well.

Question Number : 155 Question Id : 5861806046 Question Type : MCQ Option Shuffling : Yes  
Correct Marks : 1 Wrong Marks : 0.25

According to the writer, which of these is important for an athlete who has retired?

Options :

1. ✖ continued fame and recognition
2. ✓ family and community support
3. ✖ all the past achievements
4. ✖ financial support from the govt.

Question Id : 5861806041 Question Type : COMPREHENSION Sub Question Shuffling Allowed : Yes Group Comprehension Questions : No  
Question Numbers : (151 to 155)

Question Label : Comprehension

Read the passage to answer the questions that follow.

It is often said that a sports star will die twice, the first time at retirement. For elite athletes who have dedicated their lives to sport, what happens when your time comes to an end? If you aren't an athlete, then who are you?

Elite athletes train extensively for years, in many cases, consuming the majority of their young lives, often making extensive personal sacrifices in order to pursue their dreams of glory. These may include making huge financial sacrifices, moving away from family to train full-time in academies, calling time on their academic studies and sacrificing personal or romantic relationships. For many athletes, retirement is a concept that they do not wish to think about in great detail. However, whether they have achieved Olympic glory or failed to reach the pinnacle in their sport that they had aspired to, all athletes' careers will eventually come to a close, whether this is through age, injury or exhaustion.

However, what happens to these athletes once they leave the days filled with rigorous training, the extensive time spent travelling and the buzz and adrenaline of competing? This is the time in their lives where they may be susceptible to depression. Olympic Champion cyclist, Victoria Pendleton, expressed her extreme relief of retirement after the London Games, citing that she couldn't wait to go on to new ventures in her life and was much happier now that the pressure of competing was no longer a burden. However, not all athletes will enter retirement with such ease and willingness; many will struggle with adapting to a "regular life" where they are no longer in the limelight and perhaps, in their eyes, become forgotten members of society.

Sport career termination induces dramatic changes in athletes' personal, social and occupational lives, this can in turn potentially affect individuals cognitively, emotionally and behaviorally. The social and professional changes induced by retirement from sport can in effect cause distressful reactions. These retired athletes express a feeling of emptiness in their lives and one of the main stakes of this transition is to therefore reconstruct and adjust themselves on the basis of a new lifestyle.

Athletes by nature are mentally tough individuals and are often perceived by the public to be fitter, healthier and happier than others. It is this attitude and stereotyping that can make it more difficult for them to approach someone for help. Therefore it is highly important for close family, friends, team mates and coaches to understand that depression cannot always be seen and the athlete may indeed never admit to how they feel for fear of shame and embarrassment. The most important message is to understand that despite their incredible success in their hard-fought and dedicated careers, the process of retirement is a difficult one and it is in this time that social support and communication is of vital importance if the athlete is to avoid the dreaded post-retirement blues.



Sub questions

Question Number : 151 Question Id : 5861806042 Question Type : MCQ Option Shuffling : Yes  
Correct Marks : 1 Wrong Marks : 0.25

Which of the following is NOT a reason for the end of an athlete's sporting life?

Options :

1. ✖ aging
2. ✖ getting injured
3. ✔ family commitments
4. ✖ exhaustion

Question Number : 152 Question Id : 5861806043 Question Type : MCQ Option Shuffling : Yes  
Correct Marks : 1 Wrong Marks : 0.25

The possibility of depression in an athlete occurs when he/she:

Options :

1. ✖ does not get medals
2. ✖ does not perform well
3. ✖ there is no competition
4. ✔ retires from active sports

Question Number : 153 Question Id : 5861806044 Question Type : MCQ Option Shuffling : Yes  
Correct Marks : 1 Wrong Marks : 0.25

In what context does the writer mention Victoria Pendleton?

Options :

1. ✖ An Olympic champion
2. ✖ Being a champion cyclist
3. ✔ an athlete who looked forward to retirement.

4. ✖ an athlete who could not handle retirement

Question Number : 154 Question Id : 5861806045 Question Type : MCQ Option Shuffling : Yes  
Correct Marks : 1 Wrong Marks : 0.25

Why do athletes find it difficult to ask for help?

Options :

1. ✔ They are perceived as being tough people.
2. ✖ They are arrogant about their abilities.
3. ✖ They have won a lot of medals.
4. ✖ The public knows them well.

Question Number : 155 Question Id : 5861806046 Question Type : MCQ Option Shuffling : Yes  
Correct Marks : 1 Wrong Marks : 0.25

According to the writer, which of these is important for an athlete who has retired?

Options :

1. ✖ continued fame and recognition
2. ✔ family and community support
3. ✖ all the past achievements
4. ✖ financial support from the govt.

Sub-Section Number: 3  
Sub-Section Id: 586180406  
Question Shuffling Allowed : Yes

Question Id : 5861806047 Question Type : COMPREHENSION Sub Question Shuffling Allowed : Yes Group Comprehension Questions : No  
Question Numbers : (156 to 160)

Question Label : Comprehension

Read the passage to answer the questions that follow.

Conformity, or acting the way most other people in one's social group act, often grows out of a person's desire for security and belonging in a group – usually a group of similar age, culture, religion, or educational background. Acting differently from the group carries the risk of social rejection, a deep fear that many people have. The drive to conform is often particularly powerful for adolescents, for whom acceptance by peers can be a primary goal, but it also affects people of all ages. Some studies suggest that conformity decreases with age.

Although the word often has a negative connotation, conformity is not necessarily a bad thing. The tendency of people to conform helps society to function smoothly in many ways. Following rules for driving, for example, enables safe transportation. The tendency of people to follow norms of interpersonal interaction enables effective communication and collaboration.

Psychologist Herbert Kelman identified and labeled three major types of conformity. The first, compliance, occurs when a person conforms publicly, but privately keeps his or her own original beliefs. People comply because of a need for approval from others and fear of rejection. The second, identification, is conforming to a particular person who is well liked and respected, such as a friend or a family member. Identification is usually motivated by the perceived role model's attractiveness or success. Internalization is when people have actually internalized a group's belief system and see it as truly their own, both publicly and privately. This is the most profound form of conformity and is likely to stay with people for a long time.

The strong force of conformity is well documented in psychological research. A researcher named Muzafer Sherif, for example, wanted to know how many people would change their opinions about something because of the desire to conform to a larger group. He conducted an experiment in which people were positioned in a dark room and asked to stare at a small dot of light 15 feet away. They were then asked to guess the amount by which the light moved (the dot actually was not moving at all). On the first day, each person saw different degrees of movement; but from the second to the fourth day, the same estimate was agreed on and the members of the group conformed their opinions to this estimate. Sherif believed this experiment demonstrated the way a norm develops in a society, and how people tend to fit their personal beliefs to that norm. Few people desire to be an "outlier" whose opinion differs widely from what is typical in the group.

The "dark side" of conformity has often been explored as well. The need to be accepted and the fear of punishment for deviating from group norms can in many cases impel people to unthinkingly adopt negative attitudes or behaviors. A phenomenon called the "spiral of silence" can occur when one opinion becomes entirely socially dominant because those people who have different opinions are afraid to speak or act on them. History is rife with examples of mass conformity to group norms and ideas that were destructive.

### Sub questions

Question Number : 156 Question Id : 5861806048 Question Type : MCQ Option Shuffling : Yes  
Correct Marks : 1 Wrong Marks : 0.25

Which of these is NOT true about ‘conformity’?

Options :

1. ✖ behaving like others in the group
2. ✖ need to be part of the group
3. ✔ increases the risk of social isolation
4. ✖ fulfils the desire for security

Question Number : 157 Question Id : 5861806049 Question Type : MCQ Option Shuffling : Yes  
Correct Marks : 1 Wrong Marks : 0.25

In what context is ‘rules for driving’ referred to?

Options :

1. ✔ as an advantage of conformity
2. ✖ as a danger of rash driving
3. ✖ as an example of feeling of security
4. ✖ as a primary goal of conformity

Question Number : 158 Question Id : 5861806050 Question Type : MCQ Option Shuffling : Yes  
Correct Marks : 1 Wrong Marks : 0.25

The most intense form of conformity is conformity arising out of:

Options :

1. ✖ peer pressure
2. ✖ identifying with a well- known figure
3. ✖ fear of rejection
4. ✔ holding on to one’s beliefs

Question Number : 159 Question Id : 5861806051 Question Type : MCQ Option Shuffling : Yes  
Correct Marks : 1 Wrong Marks : 0.25

Sherif’s experiment shows how:

Options :

1. ✓ a norm gets established in society
2. ✗ people continue to have faith in their beliefs
3. ✗ strong people do not conform to society
4. ✗ people react differently to the same situation

Question Number : 160 Question Id : 5861806052 Question Type : MCQ Option Shuffling : Yes  
Correct Marks : 1 Wrong Marks : 0.25

‘spiral of silence’ means:

Options :

1. ✗ when all in a group become silent
2. ✓ when one opinion is allowed to dominate in society
3. ✗ when a group develops negative attitudes
4. ✗ examples from history about group conformity

Question Id : 5861806047 Question Type : COMPREHENSION Sub Question Shuffling Allowed : Yes Group Comprehension Questions : No  
Question Numbers : (156 to 160)

Question Label : Comprehension

Read the passage to answer the questions that follow.

Conformity, or acting the way most other people in one’s social group act, often grows out of a person’s desire for security and belonging in a group - usually a group of similar age, culture, religion, or educational background. Acting differently from the group carries the risk of social rejection, a deep fear that many people have. The drive to conform is often particularly powerful for adolescents, for whom acceptance by peers can be a primary goal, but it also affects people of all ages. Some studies suggest that conformity decreases with age.

Although the word often has a negative connotation, conformity is not necessarily a bad thing. The tendency of people to conform helps society to function smoothly in many ways. Following rules for driving, for example, enables safe transportation. The tendency of people to follow norms of interpersonal interaction enables effective communication and collaboration.

Psychologist Herbert Kelman identified and labeled three major types of conformity. The first, compliance, occurs when a person conforms publicly, but privately keeps his or her own original beliefs. People comply because of a need for approval from others and fear of rejection. The second, identification, is conforming to a particular person who is well liked and respected, such as a friend or a family member. Identification is usually motivated by the perceived role model’s attractiveness or success. Internalization is when people have actually internalized a group’s belief system and see it as truly their own, both publicly and privately. This is the most profound form of conformity and is likely to stay with people for a long time.

The strong force of conformity is well documented in psychological research. A researcher named Muzafer Sherif, for example, wanted to know how many people would change their opinions about something because of the desire to conform to a larger group. He conducted an experiment in which people were positioned in a dark room and asked to stare at a small dot of light 15 feet away. They were then asked to guess the amount by which the light moved (the dot actually was not moving at all). On the first day, each person saw different degrees of movement; but from the second to the fourth day, the same estimate was agreed on and the members of the group conformed their opinions to this estimate. Sherif believed this experiment demonstrated the way a norm develops in a society, and how people tend to fit their personal beliefs to that norm. Few people desire to be an “outlier” whose opinion differs widely from what is typical in the group. The “dark side” of conformity has often been explored as well. The need to be accepted and the fear of punishment for deviating from group norms can in many cases impel people to unthinkingly adopt negative attitudes or behaviors. A phenomenon called the “spiral of silence” can occur when one opinion becomes entirely socially dominant because those people who have different opinions are afraid to speak or act on them. History is rife with examples of mass conformity to group norms and ideas that were destructive.

Sub questions

Question Number : 156 Question Id : 5861806048 Question Type : MCQ Option Shuffling : Yes  
Correct Marks : 1 Wrong Marks : 0.25

Which of these is NOT true about 'conformity'?

Options :

1. ✖ behaving like others in the group
2. ✖ need to be part of the group
3. ✔ increases the risk of social isolation
4. ✖ fulfils the desire for security

Question Number : 157 Question Id : 5861806049 Question Type : MCQ Option Shuffling : Yes  
Correct Marks : 1 Wrong Marks : 0.25

In what context is 'rules for driving' referred to?

Options :

1. ✔ as an advantage of conformity
2. ✖ as a danger of rash driving
3. ✖ as an example of feeling of security
4. ✖ as a primary goal of conformity

Question Number : 158 Question Id : 5861806050 Question Type : MCQ Option Shuffling : Yes  
Correct Marks : 1 Wrong Marks : 0.25

The most intense form of conformity is conformity arising out of:

Options :

1. ✖ peer pressure
2. ✖ identifying with a well- known figure
3. ✖ fear of rejection
4. ✔ holding on to one's beliefs



Question Number : 159 Question Id : 5861806051 Question Type : MCQ Option Shuffling : Yes  
Correct Marks : 1 Wrong Marks : 0.25

Sherif's experiment shows how:

Options :

- 1. ✓ a norm gets established in society
- 2. ✗ people continue to have faith in their beliefs
- 3. ✗ strong people do not conform to society
- 4. ✗ people react differently to the same situation

Question Number : 160 Question Id : 5861806052 Question Type : MCQ Option Shuffling : Yes  
Correct Marks : 1 Wrong Marks : 0.25

'spiral of silence' means:

Options :

- 1. ✗ when all in a group become silent
- 2. ✓ when one opinion is allowed to dominate in society
- 3. ✗ when a group develops negative attitudes
- 4. ✗ examples from history about group conformity

General Hindi1

Group Number :	9
Group Id :	586180290
Group Maximum Duration :	0
Group Minimum Duration :	0
Show Attended Group? :	No
Edit Attended Group? :	No
Break time:	0
Group Marks:	20
Is this Group for Examiner?:	No
Revisit allowed for group Instructions? :	Yes
Maximum Instruction Time:	0
Minimum Instruction Time:	0

General Hindi1

Section Id : 586180294  
 Section Number : 1  
 Section type : Online  
 Mandatory or Optional: Mandatory  
 Number of Questions: 20  
 Number of Questions to be attempted: 20  
 Section Marks: 20

Sub-Section Number: 1  
 Sub-Section Id: 586180407  
 Question Shuffling Allowed : Yes

Question Number : 161 Question Id : 5861806053 Question Type : MCQ Option Shuffling : Yes  
 Correct Marks : 1 Wrong Marks : 0.25

‘डिबिया’ कैसा शब्द है?

Options :

1. ✖ तत्सम
2. ✖ तद्भव
3. ✖ विदेशी
4. ✔ देशज

Question Number : 161 Question Id : 5861806053 Question Type : MCQ Option Shuffling : Yes  
 Correct Marks : 1 Wrong Marks : 0.25

‘डिबिया’ कैसा शब्द है?

Options :

1. ✖ तत्सम
2. ✖ तद्भव
3. ✖ विदेशी
4. ✔ देशज

Question Number : 162 Question Id : 5861806054 Question Type : MCQ Option Shuffling : Yes  
 Correct Marks : 1 Wrong Marks : 0.25

निम्न में से कौन सा शब्द तद्भव है?

Options :

1. ✖ गौर
2. ✔ गुफा

3. ✖ ग्राम

4. ✖ ग्राहक

Question Number : 162 Question Id : 5861806054 Question Type : MCQ Option Shuffling : Yes  
Correct Marks : 1 Wrong Marks : 0.25

निम्न में से कौन सा शब्द तद्भव है?

Options :

1. ✖ गौर

2. ✔ गुफा

3. ✖ ग्राम

4. ✖ ग्राहक

Question Number : 163 Question Id : 5861806055 Question Type : MCQ Option Shuffling : Yes  
Correct Marks : 1 Wrong Marks : 0.25

निम्न में से कौन सा शब्द तत्सम है?

Options :

1. ✔ दन्त

2. ✖ दही

3. ✖ दामाद

4. ✖ दूध

Question Number : 163 Question Id : 5861806055 Question Type : MCQ Option Shuffling : Yes  
Correct Marks : 1 Wrong Marks : 0.25

निम्न में से कौन सा शब्द तत्सम है?

Options :

1. ✔ दन्त

2. ✖ दही

3. ✖ दामाद

4. ✖ दूध

Question Number : 164 Question Id : 5861806056 Question Type : MCQ Option Shuffling : Yes  
Correct Marks : 1 Wrong Marks : 0.25

निम्न में से शुद्ध वर्तनी वाला शब्द है:

Options :

1. ✖ प्रदुर्भाव
2. ✖ प्रदूर्भाव
3. ✓ प्रादुर्भाव
4. ✖ प्रादूर्भाव

Question Number : 164 Question Id : 5861806056 Question Type : MCQ Option Shuffling : Yes

Correct Marks : 1 Wrong Marks : 0.25

निम्न में से शुद्ध वर्तनी वाला शब्द है:

Options :

1. ✖ प्रदुर्भाव
2. ✖ प्रदूर्भाव
3. ✓ प्रादुर्भाव
4. ✖ प्रादूर्भाव

Question Number : 165 Question Id : 5861806057 Question Type : MCQ Option Shuffling : Yes

Correct Marks : 1 Wrong Marks : 0.25

‘अब्ज – अब्द’ शब्द युग्म का सही अर्थ है:

Options :

1. ✖ पानी – शब्द
2. ✖ बादल – कमल
3. ✓ कमल – बादल
4. ✖ सागर – बादल

Question Number : 165 Question Id : 5861806057 Question Type : MCQ Option Shuffling : Yes

Correct Marks : 1 Wrong Marks : 0.25

‘अब्ज – अब्द’ शब्द युग्म का सही अर्थ है:

Options :

1. ✖ पानी – शब्द
2. ✖ बादल – कमल

3. ✓ कमल - बादल

4. ✗ सागर - बादल

Question Number : 166 Question Id : 5861806058 Question Type : MCQ Option Shuffling : Yes

Correct Marks : 1 Wrong Marks : 0.25

‘घबराहट’ किस प्रकार की संज्ञा है?

Options :

1. ✗ पदार्थवाचक

2. ✓ भाववाचक

3. ✗ जातिवाचक

4. ✗ व्यक्तिवाचक

Question Number : 166 Question Id : 5861806058 Question Type : MCQ Option Shuffling : Yes

Correct Marks : 1 Wrong Marks : 0.25

‘घबराहट’ किस प्रकार की संज्ञा है?

Options :

1. ✗ पदार्थवाचक

2. ✓ भाववाचक

3. ✗ जातिवाचक

4. ✗ व्यक्तिवाचक

Question Number : 167 Question Id : 5861806059 Question Type : MCQ Option Shuffling : Yes

Correct Marks : 1 Wrong Marks : 0.25

‘जो’ सर्वनाम का परिमाणवाचक विशेषण है?

Options :

1. ✗ इतना

2. ✗ उतना

3. ✗ तितना

4. ✓ जितना

Question Number : 167 Question Id : 5861806059 Question Type : MCQ Option Shuffling : Yes

Correct Marks : 1 Wrong Marks : 0.25

‘जो’ सर्वनाम का परिमाणवाचक विशेषण है?

Options :

1. ✖ इतना
2. ✖ उतना
3. ✖ तितना
4. ✔ जितना

Question Number : 168 Question Id : 5861806060 Question Type : MCQ Option Shuffling : Yes  
Correct Marks : 1 Wrong Marks : 0.25

‘सुडौल’ किस प्रकार का विशेषण है?

Options :

1. ✔ गुणवाचक
2. ✖ परिमाण बोधक
3. ✖ सार्वनामिक
4. ✖ संख्यावाचक

Question Number : 168 Question Id : 5861806060 Question Type : MCQ Option Shuffling : Yes  
Correct Marks : 1 Wrong Marks : 0.25

‘सुडौल’ किस प्रकार का विशेषण है?

Options :

1. ✔ गुणवाचक
2. ✖ परिमाण बोधक
3. ✖ सार्वनामिक
4. ✖ संख्यावाचक

Question Number : 169 Question Id : 5861806061 Question Type : MCQ Option Shuffling : Yes  
Correct Marks : 1 Wrong Marks : 0.25

निम्न में अकर्मक धातु है:

Options :

1. ✖ बिगाड़ना
2. ✖ फेरना

3. ✓ दिखना

4. ✗ खोलना

Question Number : 169 Question Id : 5861806061 Question Type : MCQ Option Shuffling : Yes

Correct Marks : 1 Wrong Marks : 0.25

निम्न में अकर्मक धातु है:

Options :

1. ✗ बिगाड़ना

2. ✗ फेरना

3. ✓ दिखना

4. ✗ खोलना

Question Number : 170 Question Id : 5861806062 Question Type : MCQ Option Shuffling : Yes

Correct Marks : 1 Wrong Marks : 0.25

‘लड़का केवल चिल्लाता है।’ वाक्य में क्रिया विशेषण है:

Options :

1. ✗ लड़का

2. ✓ केवल

3. ✗ चिल्लाता

4. ✗ है।

Question Number : 170 Question Id : 5861806062 Question Type : MCQ Option Shuffling : Yes

Correct Marks : 1 Wrong Marks : 0.25

‘लड़का केवल चिल्लाता है।’ वाक्य में क्रिया विशेषण है:

Options :

1. ✗ लड़का

2. ✓ केवल

3. ✗ चिल्लाता

4. ✗ है।

Question Number : 171 Question Id : 5861806063 Question Type : MCQ Option Shuffling : Yes

Correct Marks : 1 Wrong Marks : 0.25



‘इत्यादि’ का संधि विच्छेद होगा:

Options :

1. ✓ इति + आदि
2. ✗ इति + आदी
3. ✗ इती + आदि
4. ✗ इती + आदी

Question Number : 171 Question Id : 5861806063 Question Type : MCQ Option Shuffling : Yes

Correct Marks : 1 Wrong Marks : 0.25

‘इत्यादि’ का संधि विच्छेद होगा:

Options :

1. ✓ इति + आदि
2. ✗ इति + आदी
3. ✗ इती + आदि
4. ✗ इती + आदी

Question Number : 172 Question Id : 5861806064 Question Type : MCQ Option Shuffling : Yes

Correct Marks : 1 Wrong Marks : 0.25

‘अनमोल’ में कौन सा समास है?

Options :

1. ✗ तत्पुरुष
2. ✗ द्वंद्व
3. ✗ द्विगु
4. ✓ बहुव्रीहि

Question Number : 172 Question Id : 5861806064 Question Type : MCQ Option Shuffling : Yes

Correct Marks : 1 Wrong Marks : 0.25

‘अनमोल’ में कौन सा समास है?

Options :

1. ✗ तत्पुरुष
2. ✗ द्वंद्व

3. ✖ दिवगु

4. ✔ बहुव्रीहि

Question Number : 173 Question Id : 5861806065 Question Type : MCQ Option Shuffling : Yes

Correct Marks : 1 Wrong Marks : 0.25

‘संग्रह’ में किस उपसर्ग का प्रयोग हुआ है?

Options :

1. ✖ स

2. ✔ सम्

3. ✖ सम

4. ✖ ग्रह

Question Number : 173 Question Id : 5861806065 Question Type : MCQ Option Shuffling : Yes

Correct Marks : 1 Wrong Marks : 0.25

‘संग्रह’ में किस उपसर्ग का प्रयोग हुआ है?

Options :

1. ✖ स

2. ✔ सम्

3. ✖ सम

4. ✖ ग्रह

Question Number : 174 Question Id : 5861806066 Question Type : MCQ Option Shuffling : Yes

Correct Marks : 1 Wrong Marks : 0.25

‘नीलिमा’ में किस प्रत्यय का प्रयोग हुआ है?

Options :

1. ✖ म

2. ✖ मा

3. ✔ इमा

4. ✖ नी

Question Number : 174 Question Id : 5861806066 Question Type : MCQ Option Shuffling : Yes

Correct Marks : 1 Wrong Marks : 0.25

‘नीलिमा’ में किस प्रत्यय का प्रयोग हुआ है?

Options :

1. ✖ म
2. ✖ मा
3. ✔ इमा
4. ✖ नी

Question Number : 175 Question Id : 5861806067 Question Type : MCQ Option Shuffling : Yes

Correct Marks : 1 Wrong Marks : 0.25

निम्न में से कौन सा शब्द स्त्रीलिंग है?

Options :

1. ✖ छन्द
2. ✖ छिद्र
3. ✖ छोर
4. ✔ छवि

Question Number : 175 Question Id : 5861806067 Question Type : MCQ Option Shuffling : Yes

Correct Marks : 1 Wrong Marks : 0.25

निम्न में से कौन सा शब्द स्त्रीलिंग है?

Options :

1. ✖ छन्द
2. ✖ छिद्र
3. ✖ छोर
4. ✔ छवि

Question Number : 176 Question Id : 5861806068 Question Type : MCQ Option Shuffling : Yes

Correct Marks : 1 Wrong Marks : 0.25

‘गोली से घायल सैनिक’ किस पदबन्ध का उदाहरण है?

Options :

1. ✔ संज्ञा पदबन्ध
2. ✖ सर्वनाम पदबन्ध

3. ✖ विशेषण पदबन्ध

4. ✖ क्रिया पदबन्ध

Question Number : 176 Question Id : 5861806068 Question Type : MCQ Option Shuffling : Yes  
Correct Marks : 1 Wrong Marks : 0.25

‘गोली से घायल सैनिक’ किस पदबन्ध का उदाहरण है?

Options :

1. ✔ संज्ञा पदबन्ध

2. ✖ सर्वनाम पदबन्ध

3. ✖ विशेषण पदबन्ध

4. ✖ क्रिया पदबन्ध

Question Number : 177 Question Id : 5861806069 Question Type : MCQ Option Shuffling : Yes  
Correct Marks : 1 Wrong Marks : 0.25

‘वह फूल, जितना सुन्दर था, यह फूल भी उतना सुन्दर है।’ वाक्य में ‘जितना सुन्दर था’ किस प्रकार का उपवाक्य है?

Options :

1. ✖ संज्ञा उपवाक्य

2. ✖ क्रिया उपवाक्य

3. ✔ विशेषण उपवाक्य

4. ✖ क्रिया विशेषण उपवाक्य

Question Number : 177 Question Id : 5861806069 Question Type : MCQ Option Shuffling : Yes  
Correct Marks : 1 Wrong Marks : 0.25

‘वह फूल, जितना सुन्दर था, यह फूल भी उतना सुन्दर है।’ वाक्य में ‘जितना सुन्दर था’ किस प्रकार का उपवाक्य है?

Options :

1. ✖ संज्ञा उपवाक्य

2. ✖ क्रिया उपवाक्य

3. ✔ विशेषण उपवाक्य

#### 4. ✖ क्रिया विशेषण उपवाक्य

Question Number : 178 Question Id : 5861806070 Question Type : MCQ Option Shuffling : Yes  
Correct Marks : 1 Wrong Marks : 0.25

‘मैं गाना गा चुका, तब वह आया।’ किस प्रकार का वाक्य है?

Options :

1. ✖ उप वाक्य
2. ✖ सरल वाक्य
3. ✖ संयुक्त वाक्य
4. ✔ मिश्र वाक्य

Question Number : 178 Question Id : 5861806070 Question Type : MCQ Option Shuffling : Yes  
Correct Marks : 1 Wrong Marks : 0.25

‘मैं गाना गा चुका, तब वह आया।’ किस प्रकार का वाक्य है?

Options :

1. ✖ उप वाक्य
2. ✖ सरल वाक्य
3. ✖ संयुक्त वाक्य
4. ✔ मिश्र वाक्य

Question Number : 179 Question Id : 5861806071 Question Type : MCQ Option Shuffling : Yes  
Correct Marks : 1 Wrong Marks : 0.25

पदक्रम की दृष्टि से कौन सा वाक्य शुद्ध है?

Options :

1. ✔ क्या सीता सो रही है?
2. ✖ क्या सो रही है सीता?
3. ✖ सीता क्या सो रही है?
4. ✖ सो रही है क्या सीता?

Question Number : 179 Question Id : 5861806071 Question Type : MCQ Option Shuffling : Yes  
Correct Marks : 1 Wrong Marks : 0.25

पदक्रम की दृष्टि से कौन सा वाक्य शुद्ध है?

Options :

1. ✓ क्या सीता सो रही है?
2. ✖ क्या सो रही है सीता?
3. ✖ सीता क्या सो रही है?
4. ✖ सो रही है क्या सीता?

Question Number : 180 Question Id : 5861806072 Question Type : MCQ Option Shuffling : Yes  
Correct Marks : 1 Wrong Marks : 0.25

अन्वय की दृष्टि से कौन सा वाक्य शुद्ध है?

Options :

1. ✖ दीपक ने गाय और भैंस मोल लिया।
2. ✓ दीपक ने गाय और भैंस मोल ली।
3. ✖ दीपक ने गाय और भैंस मोल लिए।
4. ✖ दीपक ने गाय और भैंस मोल लो।

Question Number : 180 Question Id : 5861806072 Question Type : MCQ Option Shuffling : Yes  
Correct Marks : 1 Wrong Marks : 0.25

अन्वय की दृष्टि से कौन सा वाक्य शुद्ध है?

Options :

1. ✖ दीपक ने गाय और भैंस मोल लिया।
2. ✓ दीपक ने गाय और भैंस मोल ली।
3. ✖ दीपक ने गाय और भैंस मोल लिए।
4. ✖ दीपक ने गाय और भैंस मोल लो।

## General Hindi2

Group Number :	10
Group Id :	586180291
Group Maximum Duration :	0
Group Minimum Duration :	120
Show Attended Group? :	No
Edit Attended Group? :	No
Break time:	0
Group Marks:	20
Is this Group for Examiner?:	No

Revisit allowed for group Instructions? :	Yes
Maximum Instruction Time:	0
Minimum Instruction Time:	0

General Hindi2

Section Id :	586180295
Section Number :	1
Section type :	Online
Mandatory or Optional:	Mandatory
Number of Questions:	12
Number of Questions to be attempted:	12
Section Marks:	20

Sub-Section Number:	1
Sub-Section Id:	586180408
Question Shuffling Allowed :	Yes

Question Number : 181 Question Id : 5861806073 Question Type : MCQ Option Shuffling : Yes  
Correct Marks : 1 Wrong Marks : 0.25

‘कपड़ा’ का पर्यायवाची है:

Options :

- 1. ✖ नीर
- 2. ✔ चीर
- 3. ✖ विटप
- 4. ✖ पय

Question Number : 181 Question Id : 5861806073 Question Type : MCQ Option Shuffling : Yes  
Correct Marks : 1 Wrong Marks : 0.25

‘कपड़ा’ का पर्यायवाची है:

Options :

- 1. ✖ नीर
- 2. ✔ चीर
- 3. ✖ विटप
- 4. ✖ पय

Question Number : 182 Question Id : 5861806074 Question Type : MCQ Option Shuffling : Yes  
Correct Marks : 1 Wrong Marks : 0.25



‘बिजली’ का पर्यायवाची नहीं है:

Options :

1. ✖ दामिनी
2. ✖ तड़ित
3. ✔ रश्मि
4. ✖ क्षणप्रभा

Question Number : 182 Question Id : 5861806074 Question Type : MCQ Option Shuffling : Yes

Correct Marks : 1 Wrong Marks : 0.25

‘बिजली’ का पर्यायवाची नहीं है:

Options :

1. ✖ दामिनी
2. ✖ तड़ित
3. ✔ रश्मि
4. ✖ क्षणप्रभा

Question Number : 183 Question Id : 5861806075 Question Type : MCQ Option Shuffling : Yes

Correct Marks : 1 Wrong Marks : 0.25

‘आशुग’ किसका पर्यायवाची है?

Options :

1. ✔ बाण
2. ✖ किरण
3. ✖ पर्वत
4. ✖ तालाब

Question Number : 183 Question Id : 5861806075 Question Type : MCQ Option Shuffling : Yes

Correct Marks : 1 Wrong Marks : 0.25

‘आशुग’ किसका पर्यायवाची है?

Options :

1. ✔ बाण
2. ✖ किरण

3. ✖ पर्वत

4. ✖ तालाब

Question Number : 184 Question Id : 5861806076 Question Type : MCQ Option Shuffling : Yes

Correct Marks : 1 Wrong Marks : 0.25

‘अर्णव’ किसका पर्यायवाची है?

Options :

1. ✖ पुष्प

2. ✖ पर्वत

3. ✖ बादल

4. ✔ समुद्र

Question Number : 184 Question Id : 5861806076 Question Type : MCQ Option Shuffling : Yes

Correct Marks : 1 Wrong Marks : 0.25

‘अर्णव’ किसका पर्यायवाची है?

Options :

1. ✖ पुष्प

2. ✖ पर्वत

3. ✖ बादल

4. ✔ समुद्र

Question Number : 185 Question Id : 5861806077 Question Type : MCQ Option Shuffling : Yes

Correct Marks : 1 Wrong Marks : 0.25

‘गुरु’ किसका पर्यायवाची नहीं है?

Options :

1. ✖ शिक्षक

2. ✖ श्रेष्ठ

3. ✖ भार

4. ✔ गर्व

Question Number : 185 Question Id : 5861806077 Question Type : MCQ Option Shuffling : Yes

Correct Marks : 1 Wrong Marks : 0.25

‘गुरु’ किसका पर्यायवाची नहीं है?

Options :

1. ✖ शिक्षक
2. ✖ श्रेष्ठ
3. ✖ भार
4. ✔ गर्व

Question Number : 186 Question Id : 5861806078 Question Type : MCQ Option Shuffling : Yes

Correct Marks : 1 Wrong Marks : 0.25

‘उदय’ का विलोम शब्द है:

Options :

1. ✖ सदय
2. ✖ निर्दय
3. ✔ अस्त
4. ✖ अनुदार

Question Number : 186 Question Id : 5861806078 Question Type : MCQ Option Shuffling : Yes

Correct Marks : 1 Wrong Marks : 0.25

‘उदय’ का विलोम शब्द है:

Options :

1. ✖ सदय
2. ✖ निर्दय
3. ✔ अस्त
4. ✖ अनुदार

Question Number : 187 Question Id : 5861806079 Question Type : MCQ Option Shuffling : Yes

Correct Marks : 1 Wrong Marks : 0.25

‘अधिमूल्यन’ का विलोम होगा:

Options :

1. ✔ अवमूल्यन
2. ✖ स्खलन

3. ✖ प्रकीर्णन

4. ✖ मुद्रास्फीति

Question Number : 187 Question Id : 5861806079 Question Type : MCQ Option Shuffling : Yes

Correct Marks : 1 Wrong Marks : 0.25

‘अधिमूल्यन’ का विलोम होगा:

Options :

1. ✔ अवमूल्यन

2. ✖ स्खलन

3. ✖ प्रकीर्णन

4. ✖ मुद्रास्फीति

Question Number : 188 Question Id : 5861806080 Question Type : MCQ Option Shuffling : Yes

Correct Marks : 1 Wrong Marks : 0.25

‘निकृष्ट’ किसका विलोम है?

Options :

1. ✖ उत्कर्ष

2. ✔ उत्कृष्ट

3. ✖ अधम

4. ✖ अभीष्ट

Question Number : 188 Question Id : 5861806080 Question Type : MCQ Option Shuffling : Yes

Correct Marks : 1 Wrong Marks : 0.25

‘निकृष्ट’ किसका विलोम है?

Options :

1. ✖ उत्कर्ष

2. ✔ उत्कृष्ट

3. ✖ अधम

4. ✖ अभीष्ट

Question Number : 189 Question Id : 5861806081 Question Type : MCQ Option Shuffling : Yes

Correct Marks : 1 Wrong Marks : 0.25

‘मुक्त कामी चेतना जीवंतता का प्रमाण है।’ पंक्ति के रेखांकित शब्द का विलोम होगा:

Options :

1. ✓ बद्ध
2. ✖ संबद्ध
3. ✖ स्वप्निल
4. ✖ प्रतिबद्ध

Question Number : 189 Question Id : 5861806081 Question Type : MCQ Option Shuffling : Yes

Correct Marks : 1 Wrong Marks : 0.25

‘मुक्त कामी चेतना जीवंतता का प्रमाण है।’ पंक्ति के रेखांकित शब्द का विलोम होगा:

Options :

1. ✓ बद्ध
2. ✖ संबद्ध
3. ✖ स्वप्निल
4. ✖ प्रतिबद्ध

Question Number : 190 Question Id : 5861806082 Question Type : MCQ Option Shuffling : Yes

Correct Marks : 1 Wrong Marks : 0.25

‘यौवन’ का विलोम है:

Options :

1. ✖ शैशव
2. ✖ किशोर
3. ✖ प्रौढ़
4. ✓ वार्धक्य

Question Number : 190 Question Id : 5861806082 Question Type : MCQ Option Shuffling : Yes

Correct Marks : 1 Wrong Marks : 0.25

‘यौवन’ का विलोम है:

Options :

1. ✖ शैशव

2. ✖ किशोर
3. ✖ प्रौढ़
4. ✔ वार्धक्य

Sub-Section Number: 2  
Sub-Section Id: 586180409  
Question Shuffling Allowed : Yes

Question Id : 5861806083 Question Type : COMPREHENSION Sub Question Shuffling Allowed : Yes Group Comprehension Questions : No

Question Numbers : (191 to 195)

Question Label : Comprehension

नीचे दिये गए गद्यांश को पढ़कर पूछे गये प्रश्नों के उत्तर दीजिए।

भारतीय मध्यकालीन समाज में जहाँ स्त्री दासी, चेरी एवं वस्तु के अतिरिक्त और कुछ न थी वहाँ पति परित्यक्त एवं विधवाओं की स्थिति अत्यंत दयनीय थी। उनके लिए समाज में कोई जगह नहीं थी और वे अपशकुन मानी जाती थीं। सामंतवाद ऐसी स्त्रियों का जीवन अमानवीय एवं घृणित बना देता था। श्रृंगार, भोजन, रहन-सहन एवं जीवन की सहज क्रियाओं पर इसका कठोर प्रतिबंध था। मीरा ऐसा जीवन नहीं जीतीं। वे राणा एवं उनकी व्यवस्था का विरोध करती हैं। मीरा सामंतवादी रूढ़ियों को तोड़ने के लिए रनिवास से बाहर निकल आईं, एक प्रकार से एक विशाल जनांदोलन में बहुत बड़ा जोखिम उठाकर कूद पड़ीं। यह जोखिम था सामाजिक प्रतिष्ठा खोने का। मीरा एकांतिक भक्ति न करके साधु-संतों के बीच आकर कृष्ण से माधुर्यभावना जोड़कर प्रीति की भक्ति करती हैं। विधवाएँ अपना आगे का जीवन भक्ति में लीन रहकर, कोने में बैठ जाप करके काटती थीं। राणा को मीरा की भक्ति भावना से समस्या नहीं थी, बल्कि मीरा का इस प्रकार रनिवास से बाहर निकलना साधु-समाज के बीच जाना अच्छा नहीं लगा। मीरा कुल की मर्यादा के विरुद्ध आचरण कर रही थीं। राणा की लोकनिंदा हो रही थी। राणा एवं सामंतवादी मनोवृत्ति का समाज मीरा के प्रतिकूल था। तब मीरा का दमन प्रारंभ होता है और मीरा पर प्रतिबंध लगाए जाते हैं, यहाँ तक कि उनकी हत्या तक का प्रयास किया जाता है।

Sub questions

Question Number : 191 Question Id : 5861806084 Question Type : MCQ Option Shuffling : Yes

Correct Marks : 1 Wrong Marks : 0.25

‘मीरा’ का समय है:

Options :

1. ✖ आदिकाल
2. ✔ भक्तिकाल
3. ✖ रीतिकाल
4. ✖ आधुनिककाल

Question Number : 192 Question Id : 5861806085 Question Type : MCQ Option Shuffling : Yes

Correct Marks : 1 Wrong Marks : 0.25

‘चेरी’ का अर्थ है:

Options :

1. ✖ रानी
2. ✖ मालकिन
3. ✔ सेविका
4. ✖ वेश्या

Question Number : 193 Question Id : 5861806086 Question Type : MCQ Option Shuffling : Yes

Correct Marks : 1 Wrong Marks : 0.25

गद्यांश में प्रयुक्त ‘कुल’ का अर्थ है:

Options :

1. ✔ खानदान
2. ✖ सम्पूर्ण
3. ✖ समाज
4. ✖ देश

Question Number : 194 Question Id : 5861806087 Question Type : MCQ Option Shuffling : Yes

Correct Marks : 1 Wrong Marks : 0.25

‘रनिवास’ का अर्थ है:

Options :

1. ✖ रेगिस्तान
2. ✖ दरबार
3. ✔ अंतःपुर



## 4. ✖ अंधकार

Question Number : 195 Question Id : 5861806088 Question Type : MCQ Option Shuffling : Yes

Correct Marks : 1 Wrong Marks : 0.25

‘जोखिम’ का आशय है:

Options :

1. ✖ साहस

2. ✔ खतरा

3. ✖ हथियार

4. ✖ फायदा

Question Id : 5861806083 Question Type : COMPREHENSION Sub Question Shuffling Allowed : Yes Group Comprehension Questions : No

Question Numbers : (191 to 195)

Question Label : Comprehension



नीचे दिये गए गद्यांश को पढ़कर पूछे गये प्रश्नों के उत्तर दीजिए।

भारतीय मध्यकालीन समाज में जहाँ स्त्री दासी, चेरी एवं वस्तु के अतिरिक्त और कुछ न थी वहाँ पति परित्यक्त एवं विधवाओं की स्थिति अत्यंत दयनीय थी। उनके लिए समाज में कोई जगह नहीं थी और वे अपशकुन मानी जाती थीं। सामंतवाद ऐसी स्त्रियों का जीवन अमानवीय एवं घृणित बना देता था। श्रृंगार, भोजन, रहन-सहन एवं जीवन की सहज क्रियाओं पर इसका कठोर प्रतिबंध था। मीरा ऐसा जीवन नहीं जीतीं। वे राणा एवं उनकी व्यवस्था का विरोध करती हैं। मीरा सामंतवादी रूढ़ियों को तोड़ने के लिए रनिवास से बाहर निकल आईं, एक प्रकार से एक विशाल जनांदोलन में बहुत बड़ा जोखिम उठाकर कूद पड़ीं। यह जोखिम था सामाजिक प्रतिष्ठा खोने का। मीरा एकांतिक भक्ति न करके साधु-संतों के बीच आकर कृष्ण से माधुर्यभावना जोड़कर प्रीति की भक्ति करती हैं। विधवाएँ अपना आगे का जीवन भक्ति में लीन रहकर, कोने में बैठ जाप करके काटती थीं। राणा को मीरा की भक्ति भावना से समस्या नहीं थी, बल्कि मीरा का इस प्रकार रनिवास से बाहर निकलना साधु-समाज के बीच जाना अच्छा नहीं लगा। मीरा कुल की मर्यादा के विरुद्ध आचरण कर रही थीं। राणा की लोकनिंदा हो रही थी। राणा एवं सामंतवादी मनोवृत्ति का समाज मीरा के प्रतिकूल था। तब मीरा का दमन प्रारंभ होता है और मीरा पर प्रतिबंध लगाए जाते हैं, यहाँ तक कि उनकी हत्या तक का प्रयास किया जाता है।

Sub questions

Question Number : 191 Question Id : 5861806084 Question Type : MCQ Option Shuffling : Yes

Correct Marks : 1 Wrong Marks : 0.25

‘मीरा’ का समय है:

Options :

1. ✖ आदिकाल
2. ✔ भक्तिकाल
3. ✖ रीतिकाल
4. ✖ आधुनिककाल

Question Number : 192 Question Id : 5861806085 Question Type : MCQ Option Shuffling : Yes  
Correct Marks : 1 Wrong Marks : 0.25

‘चेरी’ का अर्थ है:

Options :

1. ✖ रानी
2. ✖ मालकिन
3. ✔ सेविका
4. ✖ वेश्या

Question Number : 193 Question Id : 5861806086 Question Type : MCQ Option Shuffling : Yes  
Correct Marks : 1 Wrong Marks : 0.25

गद्यांश में प्रयुक्त ‘कुल’ का अर्थ है:

Options :

1. ✔ खानदान
2. ✖ सम्पूर्ण
3. ✖ समाज
4. ✖ देश

Question Number : 194 Question Id : 5861806087 Question Type : MCQ Option Shuffling : Yes  
Correct Marks : 1 Wrong Marks : 0.25

‘रनिवास’ का अर्थ है:

Options :

1. ✖ रेगिस्तान

2. ✖ दरबार
3. ✔ अंतःपुर
4. ✖ अंधकार

Question Number : 195 Question Id : 5861806088 Question Type : MCQ Option Shuffling : Yes  
Correct Marks : 1 Wrong Marks : 0.25

‘जोखिम’ का आशय है:

Options :

1. ✖ साहस
2. ✔ खतरा
3. ✖ हथियार
4. ✖ फायदा

Sub-Section Number: 3  
Sub-Section Id: 586180410  
Question Shuffling Allowed : Yes

Question Id : 5861806089 Question Type : COMPREHENSION Sub Question Shuffling Allowed : Yes Group Comprehension Questions : No  
Question Numbers : (196 to 200)

Question Label : Comprehension

नीचे दिये गए गद्यांश को पढ़कर पूछे गये प्रश्नों के उत्तर दीजिए।

द्विवेदी युग की एक खास बात यह रही कि इस समय तुलनात्मक आलोचना की परिपाटी चली जिसकी प्रतिपत्ति आधुनिक साहित्य जगत में होती है। द्विवेदी युग में तुलनात्मक आलोचना का आधार निर्णयात्मक था और वह किसी साहित्यकार को श्रेष्ठ या किसी से कमतर साबित करना कुछ इस प्रकार की प्रवृत्ति वाली थी। यह आलोचना एक प्रमुख साहित्यिक विवाद की पृष्ठभूमि आलोचना में तैयार करती है। प्रथमतः 1907 ई० में पद्म सिंह शर्मा ने 'बिहारी' और फारसी कवि 'सादी' की तुलना की। 1910 ई० में मिश्र बंधुओं ने अपने प्रसिद्ध आलोचना ग्रंथ हिन्दी नवरत्न में हिन्दी के नौ बड़े कवियों को शामिल किया। उनके चयन का आधार किस प्रकार तय किया गया इसका कारण उन्होंने नहीं दिया तथा तुलसीदास और सूरदास को महात्मा कहकर उनकी तुलना किसी भी कवि से नहीं की। इसी क्रम में शेष बचे कवियों में ज्यादा ध्यान उनका देव और बिहारी पर था और देव के श्रेष्ठ पदबन्धों के कारण देव को उन्होंने बिहारी से बड़ा कवि घोषित किया। इसके प्रतिक्रिया स्वरूप पद्म सिंह शर्मा ने 'बिहारी सतसई' की तुलना आर्या सप्तशती, गाथा सप्तशती और अमरूक शतक से करके बिहारी को श्रृंगार रस का सर्वश्रेष्ठ कवि घोषित किया। संभवतः इसी की प्रतिक्रिया में कृष्ण बिहारी मिश्र ने 'देव' और 'बिहारी' लिखकर देव को बिहारी से बड़ा कवि बनाया।

Sub questions

Question Number : 196 Question Id : 5861806090 Question Type : MCQ Option Shuffling : Yes

Correct Marks : 1 Wrong Marks : 0.25

गद्यांश का वर्ण्य विषय है:

Options :

1. ✖ भक्तिकाल
2. ✖ रीतिकाल
3. ✖ भारतेन्दु युग
4. ✓ द्विवेदी युग

Question Number : 197 Question Id : 5861806091 Question Type : MCQ Option Shuffling : Yes

Correct Marks : 1 Wrong Marks : 0.25

'परिपाटी' का अर्थ नहीं है:

Options :

1. ✖ प्रथा

2. ✖ ढंग
3. ✖ शैली
4. ✔ प्रयोग

Question Number : 198 Question Id : 5861806092 Question Type : MCQ Option Shuffling : Yes  
Correct Marks : 1 Wrong Marks : 0.25

‘प्रतिपत्ति’ का अर्थ नहीं होता:

Options :

1. ✖ ग्रहण
2. ✖ स्वीकार
3. ✔ निषेध
4. ✖ प्राप्ति

Question Number : 199 Question Id : 5861806093 Question Type : MCQ Option Shuffling : Yes  
Correct Marks : 1 Wrong Marks : 0.25

पद्म सिंह शर्मा ने शृंगार रस का सर्वश्रेष्ठ कवि किसे घोषित किया?

Options :

1. ✖ देव
2. ✔ बिहारी
3. ✖ तुलसीदास
4. ✖ सूरदास

Question Number : 200 Question Id : 5861806094 Question Type : MCQ Option Shuffling : Yes  
Correct Marks : 1 Wrong Marks : 0.25

गद्यांश के संदर्भ में कौन सा कथन गलत है?

Options :

1. ✔ कृष्ण बिहारी मिश्र ने बिहारी की तुलना ‘सादी’ से की।
2. ✖ हिन्दी नवरत्न में नौ कवियों को शामिल किया गया।
3. ✖ मिश्र बंधुओं ने सूरदास और तुलसीदास की तुलना दूसरे कवियों से नहीं की।
4. ✖ द्विवेदी युग में तुलनात्मक आलोचना का विकास हुआ।

Question Id : 5861806089 Question Type : COMPREHENSION Sub Question Shuffling Allowed : Yes Group Comprehension  
Questions : No  
Question Numbers : (196 to 200)

Question Label : Comprehension

नीचे दिये गए गद्यांश को पढ़कर पूछे गये प्रश्नों के उत्तर दीजिए।

दिवेदी युग की एक खास बात यह रही कि इस समय तुलनात्मक आलोचना की परिपाटी चली जिसकी प्रतिपत्ति आधुनिक साहित्य जगत में होती है। दिवेदी युग में तुलनात्मक आलोचना का आधार निर्णयात्मक था और वह किसी साहित्यकार को श्रेष्ठ या किसी से कमतर साबित करना कुछ इस प्रकार की प्रवृत्ति वाली थी। यह आलोचना एक प्रमुख साहित्यिक विवाद की पृष्ठभूमि आलोचना में तैयार करती है। प्रथमतः 1907 ई० में पद्म सिंह शर्मा ने 'बिहारी' और फारसी कवि 'सादी' की तुलना की। 1910 ई० में मिश्र बंधुओं ने अपने प्रसिद्ध आलोचना ग्रंथ हिन्दी नवरत्न में हिन्दी के नौ बड़े कवियों को शामिल किया। उनके चयन का आधार किस प्रकार तय किया गया इसका कारण उन्होंने नहीं दिया तथा तुलसीदास और सूरदास को महात्मा कहकर उनकी तुलना किसी भी कवि से नहीं की। इसी क्रम में शेष बचे कवियों में ज्यादा ध्यान उनका देव और बिहारी पर था और देव के श्रेष्ठ पदबन्धों के कारण देव को उन्होंने बिहारी से बड़ा कवि घोषित किया। इसके प्रतिक्रिया स्वरूप पद्म सिंह शर्मा ने 'बिहारी सतसई' की तुलना आर्या सप्तशती, गाथा सप्तशती और अमरूक शतक से करके बिहारी को श्रृंगार रस का सर्वश्रेष्ठ कवि घोषित किया। संभवतः इसी की प्रतिक्रिया में कृष्ण बिहारी मिश्र ने 'देव' और 'बिहारी' लिखकर देव को बिहारी से बड़ा कवि बनाया।

Sub questions

Question Number : 196 Question Id : 5861806090 Question Type : MCQ Option Shuffling : Yes

Correct Marks : 1 Wrong Marks : 0.25



गद्यांश का वर्ण्य विषय है:

Options :

1. ✖ भक्तिकाल
2. ✖ रीतिकाल
3. ✖ भारतेन्दु युग
4. ✔ दिववेदी युग

Question Number : 197 Question Id : 5861806091 Question Type : MCQ Option Shuffling : Yes  
Correct Marks : 1 Wrong Marks : 0.25

‘परिपाटी’ का अर्थ नहीं है:

Options :

1. ✖ प्रथा
2. ✖ ढंग
3. ✖ शैली
4. ✔ प्रयोग

Question Number : 198 Question Id : 5861806092 Question Type : MCQ Option Shuffling : Yes  
Correct Marks : 1 Wrong Marks : 0.25

‘प्रतिपत्ति’ का अर्थ नहीं होता:

Options :

1. ✖ ग्रहण
2. ✖ स्वीकार
3. ✔ निषेध
4. ✖ प्राप्ति

Question Number : 199 Question Id : 5861806093 Question Type : MCQ Option Shuffling : Yes  
Correct Marks : 1 Wrong Marks : 0.25

पद्म सिंह शर्मा ने शृंगार रस का सर्वश्रेष्ठ कवि किसे घोषित किया?

Options :

1. ✖ देव
2. ✔ बिहारी
3. ✖ तुलसीदास
4. ✖ सूरदास

Question Number : 200 Question Id : 5861806094 Question Type : MCQ Option Shuffling : Yes

Correct Marks : 1 Wrong Marks : 0.25

गद्यांश के संदर्भ में कौन सा कथन गलत है?

Options :

1. ✔ कृष्ण बिहारी मिश्र ने बिहारी की तुलना 'सादी' से की।
2. ✖ हिन्दी नवरत्न में नौ कवियों को शामिल किया गया।
3. ✖ मिश्र बंधुओं ने सूरदास और तुलसीदास की तुलना दूसरे कवियों से नहीं की।
4. ✖ दिववेदी युग में तुलनात्मक आलोचना का विकास हुआ।