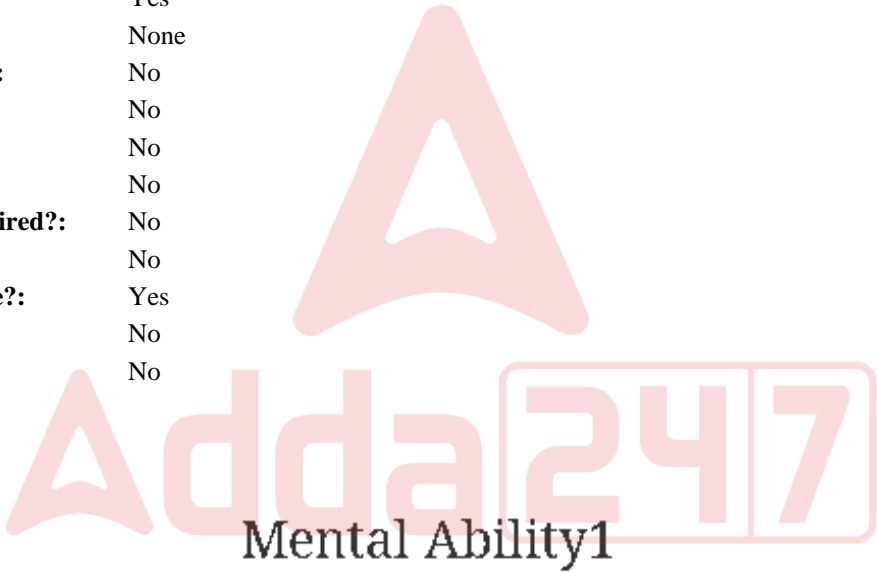


Education Consultant India Ltd.

Notations :

- 1.Options shown in green color and with ✓ icon are correct.
- 2.Options shown in red color and with ✖ icon are incorrect.

Question Paper Name:	GRADE II DASS 22nd July 2019 Shift 2
Subject Name:	GRADE II DASS
Creation Date:	2019-07-22 15:48:23
Duration:	120
Total Marks:	200
Display Marks:	Yes
Share Answer Key With Delivery Engine:	No
Actual Answer Key:	Yes
Calculator:	None
Magnifying Glass Required?:	No
Ruler Required?:	No
Eraser Required?:	No
Scratch Pad Required?:	No
Rough Sketch/Notepad Required?:	No
Protractor Required?:	No
Show Watermark on Console?:	Yes
Highlighter:	No
Auto Save on Console?:	No



Group Number :	1
Group Id :	998367267
Group Maximum Duration :	0
Group Minimum Duration :	0
Show Attended Group? :	No
Edit Attended Group? :	No
Break time:	0
Group Marks:	20
Is this Group for Examiner?:	No
Revisit allowed for group Instructions? :	Yes
Maximum Instruction Time:	0
Minimum Instruction Time:	0

Mental Ability1

Section Id :	998367273
Section Number :	1

Adda247

Test Prime

ALL EXAMS, ONE SUBSCRIPTION



1,00,000+
Mock Tests



**Personalised
Report Card**



**Unlimited
Re-Attempt**



600+
Exam Covered



25,000+ Previous
Year Papers



500%
Refund



ATTEMPT FREE MOCK NOW

Section type :	Online
Mandatory or Optional:	Mandatory
Number of Questions:	20
Number of Questions to be attempted:	20
Section Marks:	20

Sub-Section Number:	1
Sub-Section Id:	998367397
Question Shuffling Allowed :	Yes

Question Number : 1 Question Id : 9983676417 Question Type : MCQ Option Shuffling : Yes
Correct Marks : 1 Wrong Marks : 0.25

वह वर्ण समूह चुनें जो तीसरे वर्ण समूह से उसी तरह से संबंधित है, जिस तरह से दूसरा वर्ण समूह पहले वर्ण समूह से संबंधित है।

LAUGH : HYSCD : : COURSE : ?

Options :

- 1. ✖ YNSNOC
- 2. ✖ ZMSNOC
- 3. ✖ YMSNOA
- 4. ✔ YMSNOC



Question Number : 1 Question Id : 9983676417 Question Type : MCQ Option Shuffling : Yes
Correct Marks : 1 Wrong Marks : 0.25

Select the letter cluster which is related to third letter cluster in the same way as the second letter cluster is related to first letter cluster.

LAUGH : HYSCD : : COURSE : ?

Options :

- 1. ✖ YNSNOC

2. ✖ ZMSNOC

3. ✖ YMSNOA

4. ✔ YMSNOC

Question Number : 2 Question Id : 9983676418 Question Type : MCQ Option Shuffling : Yes

Correct Marks : 1 Wrong Marks : 0.25

Select the number which is related to third number in the same way as the second number is related to first number.

3212 : 36 :: 1836 : ?

Options :

1. ✖ 218

2. ✔ 220

3. ✖ 222

4. ✖ 224



Question Number : 2 Question Id : 9983676418 Question Type : MCQ Option Shuffling : Yes

Correct Marks : 1 Wrong Marks : 0.25

वह संख्या चुनें जो तीसरी संख्या से उसी तरह से संबंधित है, जिस तरह से दूसरी संख्या पहली संख्या से संबंधित है।

3212 : 36 :: 1836 : ?

Options :

1. ✖ 218

2. ✔ 220

3. ✖ 222

4. ✖ 224

Question Number : 3 Question Id : 9983676419 Question Type : MCQ Option Shuffling : Yes

Correct Marks : 1 Wrong Marks : 0.25

Three of the given four number pairs are similar in a certain manner while one is different. Choose the odd one out.

Options :

1. ✖ 224 : 65

2. ✖ 115 : 50

3. ✖ 225 : 82

4. ✔ 116 : 66

Question Number : 3 Question Id : 9983676419 Question Type : MCQ Option Shuffling : Yes

Correct Marks : 1 Wrong Marks : 0.25

दिए गए चार संख्या युग्मों में से तीन एक तरीके से समान हैं, जबकि उनमें से एक अलग है। इनमें से विषम चुनें।

Options :

1. ✖ 224 : 65


2. ✖ 115 : 50

3. ✖ 225 : 82

4. ✓ 116 : 66

Question Number : 4 Question Id : 9983676420 Question Type : MCQ Option Shuffling : Yes
Correct Marks : 1 Wrong Marks : 0.25

Select a figure from the options figures that would complete the figure matrix.




Options :



Question Number : 4 Question Id : 9983676420 Question Type : MCQ Option Shuffling : Yes
Correct Marks : 1 Wrong Marks : 0.25

इन वैकल्पिक आकृतियों में से वह आकृति चुनें जो इस आकृति आव्यूह को पूरा करती है?



Options :



Question Number : 5 Question Id : 9983676421 Question Type : MCQ Option Shuffling : Yes
Correct Marks : 1 Wrong Marks : 0.25
Three of the given four letter cluster pairs are similar in a certain manner while one is different. Choose the odd one out.
Options :
1. ✖ ANGELIC : JQDBFLO

2. ✓ BENZENE : QHJVHQB

3. ✗ CRUCIAL : XUFZODL

4. ✗ DECENCY : FHGBBFQ

Question Number : 5 Question Id : 9983676421 Question Type : MCQ Option Shuffling : Yes

Correct Marks : 1 Wrong Marks : 0.25

दिए गए चार शब्द युग्मों में से तीन एक तरीके से समान हैं, जबकि उनमें से एक अलग है। इनमें से विषम चुनें।

Options :

1. ✗ ANGELIC : JQDBFLO

2. ✓ BENZENE : QHJVHQB

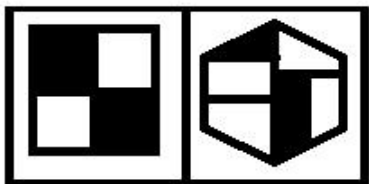
3. ✗ CRUCIAL : XUFZODL

4. ✗ DECENCY : FHGBBFQ

Question Number : 6 Question Id : 9983676422 Question Type : MCQ Option Shuffling : Yes

Correct Marks : 1 Wrong Marks : 0.25

Select the figure amongst the option figures which has the same characteristics as the two Problem figures have.



Problem Figures

Options :

1. ✖



2. ✖



3. ✖



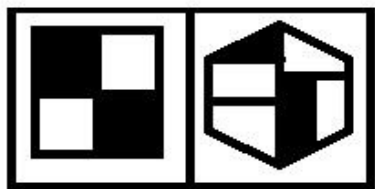
4. ✔



Question Number : 6 Question Id : 9983676422 Question Type : MCQ Option Shuffling : Yes

Correct Marks : 1 Wrong Marks : 0.25

इन वैकल्पिक आकृतियों में से वह आकृति चुनें जिसके अभिलक्षण दो प्रश्न में दी गई आकृतियों के समान है:



प्रश्न आकृति

Options :



1. ✖



2. ✖



3. ✖



4. ✔



Question Number : 7 Question Id : 9983676423 Question Type : MCQ Option Shuffling : Yes

Correct Marks : 1 Wrong Marks : 0.25

Three of the given four word pairs are similar in a certain manner while one is different. Choose the odd one out.

Options :

1. ✖ Circulation : Blood

2. ✖ Digestion : Food

3. ✖ Excretion : Urine

4. ✓ Respiration : Lungs

Question Number : 7 Question Id : 9983676423 Question Type : MCQ Option Shuffling : Yes

Correct Marks : 1 Wrong Marks : 0.25

दिए गए चार शब्द युग्मों में से तीन एक तरीके से समान हैं, जबकि उनमें से एक अलग है। इनमें से विषम चुनें।

Options :

1. ✗ रक्तसंचार : रक्त

2. ✗ पाचन : भोजन

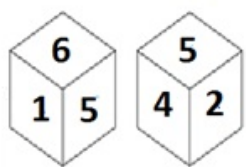
3. ✗ उत्सर्जन : मूत्र

4. ✓ श्वसन : फेफड़े

Question Number : 8 Question Id : 9983676424 Question Type : MCQ Option Shuffling : Yes

Correct Marks : 1 Wrong Marks : 0.25

The six faces of a dice are numbered 1 to 6. Two different positions of the same dice are shown below. Which number is on the face opposite the face showing '6'?



Options :

1. ✗ 1

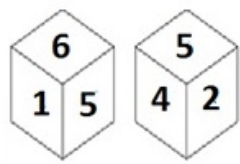
2. ✗ 2

3. ✓ 4

4. ✖ 5

Question Number : 8 Question Id : 9983676424 Question Type : MCQ Option Shuffling : Yes
Correct Marks : 1 Wrong Marks : 0.25

एक ही डाइस (पासे) की दो विभिन्न स्थितियाँ, जिनके फलक को 1 से 6 तक अंकित किया गया है, नीचे दिखाई गई हैं। संख्या '6' दिखाने वाले फलक के विरुद्ध वाले फलक पर कौन सी संख्या होगी।



Options :

1. ✖ 1

2. ✖ 2

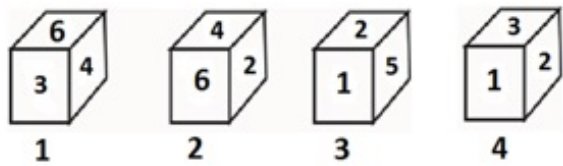
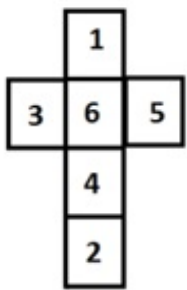
3. ✔ 4

4. ✖ 5



Question Number : 9 Question Id : 9983676425 Question Type : MCQ Option Shuffling : Yes
Correct Marks : 1 Wrong Marks : 0.25

Which of the following patterns of the dices can be formed when the sheet given below is folded?



Options :

1. ✖ Only 1 and 3

2. ✖ Only 3 and 4

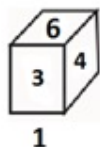
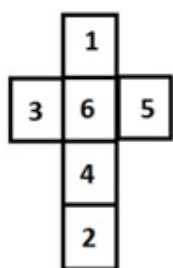
3. ✔ Only 1, 3 and 4

4. ✖ Only 2, 3 and 4

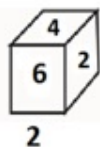
Question Number : 9 Question Id : 9983676425 Question Type : MCQ Option Shuffling : Yes

Correct Marks : 1 Wrong Marks : 0.25

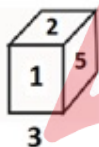
जब दी गई शीट को फ़ोल्ड किया जाता है, तब डाइस (पासे) के पैटर्नों में से कौन सा पैटर्न बन सकता है?



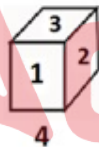
1



2



3



4

Options :

1. ✖ केवल 1 और 3

2. ✖ केवल 3 और 4

3. ✔ केवल 1, 3 और 4

4. ✖ केवल 2, 3 और 4

Question Number : 10 Question Id : 9983676426 Question Type : MCQ Option Shuffling : Yes

Correct Marks : 1 Wrong Marks : 0.25

Pratiksha leaves from her home for her college. She walks 48 m towards West. After that, she turns towards North and walks 32 m. Then she turns right and walks 54 m. Then she goes 40 m toward the South and reaches her college. What is the shortest distance between her home and the college?

Options :

1. ✖ 15 m

2. ✖ 20 m

3. ✖ 9 m

4. ✔ 10 m

Question Number : 10 Question Id : 9983676426 Question Type : MCQ Option Shuffling : Yes

Correct Marks : 1 Wrong Marks : 0.25

प्रतीक्षा अपने घर से कॉलेज के लिए निकलती है। वह पश्चिम की ओर 48 m चलती है। उसके बाद वह उत्तर की ओर मुड़कर 32 m चलती है। फिर वह दाईं ओर मुड़कर 54 m चलती है। फिर वह दक्षिण की ओर 40 m चलती है और अपने कॉलेज पहुँच जाती है। उसके घर और कॉलेज के बीच की अल्पतम दूरी पता करें।

Options :

1. ✖ 15 m

2. ✖ 20 m

3. ✖ 9 m

4. ✓ 10 m

Question Number : 11 Question Id : 9983676427 Question Type : MCQ Option Shuffling : Yes
Correct Marks : 1 Wrong Marks : 0.25

Which number will replace the question mark (?) in the given matrix?

37	4	2	61
24	2	4	92
40	3	5	?

Options :

1. ✗ 116

2. ✓ 174

3. ✗ 186

4. ✗ 156

Question Number : 11 Question Id : 9983676427 Question Type : MCQ Option Shuffling : Yes
Correct Marks : 1 Wrong Marks : 0.25

दिए गए आव्यूह में प्रश्न चिह्न (?) के स्थान पर कौन सी संख्या आएगी?

37	4	2	61
24	2	4	92
40	3	5	?

Options :

1. ✗ 116

2. ✓ 174

3. ✗ 186

4. ✗ 156

Question Number : 12 Question Id : 9983676428 Question Type : MCQ Option Shuffling : Yes

Correct Marks : 1 Wrong Marks : 0.25

Five doctors A, B, C, D and E and five teachers P, Q, R, S and T reside in a colony. Their houses are located in two rows of five houses facing each other. A's house is at one of the four corners. Q's house is between E and P. P's house is not facing teacher's house. C's house is between R and B's houses. P's house is to the immediate left of D's house. E's house is at the corner and faces S's house. R's house is also at one of the corners. Which of the following statements is not correct?

Options :

1. ✗ D's house is between P's and A's houses.

2. ✗ Q's house is facing T's house.

3. ✗ C's house is diagonally located to A's house.

4. ✓ B's house is between C's and S's houses.

Question Number : 12 Question Id : 9983676428 Question Type : MCQ Option Shuffling : Yes

Correct Marks : 1 Wrong Marks : 0.25

पाँच डॉक्टर A, B, C, D और E और पाँच शिक्षक P, Q, R, S और T एक कॉलोनी में रहते हैं। उनके घर एक दूसरे के सामने दो पंक्तियों में बने हुए हैं, जिसमें प्रत्येक पंक्ति में पाँच घर हैं। A का घर चार कोनों में से एक कोने में है। Q का घर E और P के बीच में है। P का घर शिक्षक के घर के सामने नहीं है। C का घर R और B के घर के बीच में है। P का घर D के घर की ठीक बाईं ओर है। E का घर कोने पर है और S के घर के सामने है। R का घर भी किसी एक कोने पर है। निम्नलिखित में से कौन सा कथन सही नहीं है?

Options :

1. ✖ D का घर P और A के घर के बीच है।
2. ✖ Q का घर T के घर के सामने है।
3. ✖ C का घर A के घर से तिरछी ओर स्थित है।
4. ✔ B का घर C और S के घर के बीच है।

Question Number : 13 Question Id : 9983676429 Question Type : MCQ Option Shuffling : Yes

Correct Marks : 1 Wrong Marks : 0.25

Eight persons P, Q, R, S, T, U, V and W are sitting around a circular table at equal distance from each other facing the centre. Then S and T interchange their positions. Now, if V is sitting in South-west direction then which direction is T facing?

Note: For this question, discrepancy is found in question/answer. So, this question is ignored for all candidates.

Options :

1. North
2. South
3. West
4. South-east

Question Number : 13 Question Id : 9983676429 Question Type : MCQ Option Shuffling : Yes

Correct Marks : 1 Wrong Marks : 0.25

आठ व्यक्ति P, Q, R, S, T, U, V और W एक गोल मेज़ के इर्द-गिर्द केन्द्र का सामना करते हुए एक दूसरे से समान दूरी पर बैठे हैं। फिर S और T अपने स्थान आपस में बदल लेते हैं। अब, यदि V दक्षिण-पश्चिम दिशा में बैठा है, तो T की दिशा पता करें?

Note: For this question, discrepancy is found in question/answer. So, this question is ignored for all candidates.

Options :

1. उत्तर
2. दक्षिण
3. पश्चिम
4. दक्षिण-पूर्व

Question Number : 14 Question Id : 9983676430 Question Type : MCQ Option Shuffling : Yes

Correct Marks : 1 Wrong Marks : 0.25

Find the ODD one out:

Shirt, Kurta, Coat, Dhoti

Options :

1. ✖ Shirt
2. ✖ Kurta
3. ✖ Coat
4. ✔ Dhoti

Question Number : 14 Question Id : 9983676430 Question Type : MCQ Option Shuffling : Yes

Correct Marks : 1 Wrong Marks : 0.25

इनमें से विषम पता करें।

शर्ट, कुर्ता, कोट, धोती

Options :

1. ✖ शर्ट

2. ✖ कुर्ता

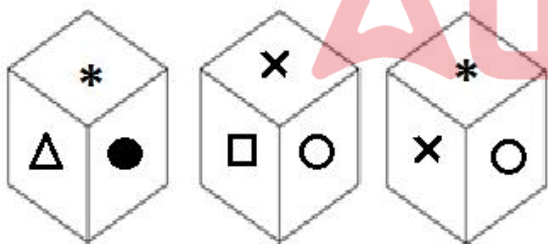
3. ✖ कोट

4. ✔ धोती

Question Number : 15 Question Id : 9983676431 Question Type : MCQ Option Shuffling : Yes

Correct Marks : 1 Wrong Marks : 0.25

Three different positions of the same dice are shown. Which symbol will be on the face opposite to the one having '*'?



Options :

1. ✖ Δ

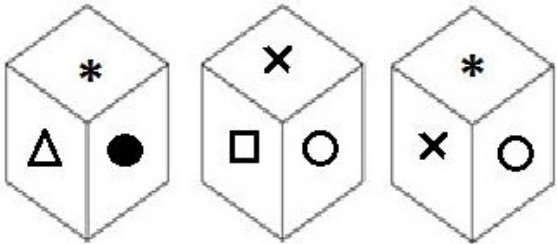
2. ✔ □

3. ✖ ○

4. ✖ ✖

Question Number : 15 Question Id : 9983676431 Question Type : MCQ Option Shuffling : Yes
Correct Marks : 1 Wrong Marks : 0.25

एक ही डाइस की तीन अलग-अलग स्थितियाँ नीचे दिखाई गई हैं। ‘*’ दिखा रहे फलक के विरुद्ध वाले फलक पर चिह्नित प्रतीक पता करें।



Options :

1. ✖ Δ

2. ✔ □

3. ✖ ○

4. ✖ ✖



Question Number : 16 Question Id : 9983676432 Question Type : MCQ Option Shuffling : Yes
Correct Marks : 1 Wrong Marks : 0.25

Four statements are given, followed by three conclusions. The symbols used in them have meanings as follows:

$P \& Q$ means P is neither smaller than nor greater than Q .

$P \# Q$ means P is neither greater than nor equal to Q .

$P @ Q$ means P is neither smaller than nor equal to Q .

$P \% Q$ means P is not greater than Q .

$P \$ Q$ means P is not smaller than Q .

Now read the following statements and decide which of the conclusions is/are true.

Statements :

$C \& D$

$A \# M$

$C @ T$

$T @ A$

Conclusions :

I. $C @ A$

II. $D @ A$

III. $M \& T$

Options :

1. ✓ Only conclusion I and II is true.

2. ✗ Only conclusion II and III is true.

3. ✗ Only conclusion I and III is true.

4. ✗ All conclusions I, II and III are true.

Question Number : 16 Question Id : 9983676432 Question Type : MCQ Option Shuffling : Yes

Correct Marks : 1 Wrong Marks : 0.25

चार कथन दिए गए हैं और उनके बाद तीन निष्कर्ष भी दिए गए हैं। इनमें प्रयुक्त प्रतीकों का अर्थ निम्नानुसार है:

$P \& Q$ का अर्थ है कि P न तो Q से छोटा है और न बड़ा है।

$P \# Q$ का अर्थ है कि P न तो Q से बड़ा है और न बराबर है।

$P @ Q$ का अर्थ है कि P न तो Q से छोटा है और न बराबर है।

$P \% Q$ का अर्थ है कि P , Q से बड़ा नहीं है।

$P \$ Q$ का अर्थ है कि P , Q से छोटा नहीं है।

अब निम्नलिखित कथनों को पढ़ें और तय करें कि इनमें से कौन सा/से निष्कर्ष सत्य है/हैं।

कथन :

$C \& D$

$A \# M$

$C @ T$

$T @ A$

निष्कर्ष :

I. $C @ A$

II. $D @ A$

III. $M \& T$

Options :

1. ✓ केवल निष्कर्ष I और II सत्य हैं।

2. ✗ केवल निष्कर्ष II और III सत्य हैं।

3. ✗ केवल निष्कर्ष I और III सत्य हैं।

4. ✗ सभी निष्कर्ष I, II और III सत्य हैं।

Three statements are given, followed by four conclusions numbered I to IV. Assuming the statements to be true even if they seem to be at variance with commonly known facts, decide which of the conclusions logically follow(s) from the given statements.

Statements :

All copies are books.

Some books are magazines.

All magazines are newspapers.

Conclusions :

I. Some magazines are copies.

II. Some magazines are books.

III. Some newspapers are magazines.

IV. No magazine is copy.

Options :

1. ✖ Only conclusion I and III follow.

2. ✖ Either conclusion I or IV follows.

3. ✖ Conclusion II and either I or IV follows.

4. ✔ Conclusion II and III and either I or IV follows.

Question Number : 17 Question Id : 9983676433 Question Type : MCQ Option Shuffling : Yes
Correct Marks : 1 Wrong Marks : 0.25

तीन कथन दिए गए हैं और उसके बाद I से IV अंकित चार निष्कर्ष भी दिए गए हैं। कथनों को सत्य मानते हुए भले ही वे सामान्यतः ज्ञात तथ्यों से भिन्न लगते हों, तय करें कि कौन सा निष्कर्ष तार्किक रूप से दिए गए कथन का अनुसरण करता है।

कथन :

सभी कॉपियाँ, किताबें हैं।

कुछ किताबें, पत्रिकाएँ हैं।

सभी पत्रिकाएँ, अखबार हैं।

निष्कर्ष :

- I. कुछ पत्रिकाएँ, कॉपियाँ हैं।
- II. कुछ पत्रिकाएँ, किताबें हैं।
- III. कुछ अखबार, पत्रिकाएँ हैं।
- IV. कोई पत्रिका, कॉपी नहीं है।

Options :

1. ✖ केवल निष्कर्ष I और III अनुसरण करते हैं।
2. ✖ या तो निष्कर्ष I या IV अनुसरण करता है।
3. ✖ निष्कर्ष II और या तो I या IV अनुसरण करते हैं।
4. ✔ निष्कर्ष II और III और या तो I या IV अनुसरण करते हैं।

A team of six persons is to be selected from among five lawyers K, L, M, N and O, and five judges, P, Q, R, S and T, such that there are at least three judges in the team and it meets the following criteria:

- i. Q and T cannot go together.
- ii. M and O must be together.
- iii. K and M cannot be together.
- iv. M and Q must be together.
- v. P and K must be together.

Which of the following teams can be formed?

1. MPROQS
2. SRLQMO
3. KTSRLP
4. SKMRQO

Options :

1. ✖ 1 2, and 3

2. ✖ 1, 2 and 4

3. ✖ 3 and 4

4. ✔ 2 and 3



Question Number : 18 Question Id : 9983676434 Question Type : MCQ Option Shuffling : Yes

Correct Marks : 1 Wrong Marks : 0.25

पाँच वकीलों K, L, M, N और O, और पाँच जजों P, Q, R, S और T में से कुछ इस प्रकार से छह की टीम चुनी जानी है कि टीम में कम से कम तीन जज हों और टीम निम्नलिखित मानदंड पूरे करती हो:

- i. Q और T एक साथ नहीं हो सकते।
- ii. M और O एक साथ होने चाहिए।
- iii. K और M एक साथ नहीं हो सकते।
- iv. M और Q एक साथ होने चाहिए।
- v. P और K एक साथ होने चाहिए।

इनमें से कौन से विकल्प से एक टीम बन सकती है?

1. MPROQS
2. SRLQMO
3. KTSRLP
4. SKMRQO

Options :

1. ✗ 1 2, और 3

2. ✗ 1, 2 और 4

3. ✗ 3 और 4

4. ✓ 2 और 3

The criteria for selecting a candidate for the post of 'Marketing Manager' are as follow.

The candidate:

1. must have completed MBA with an specialization in Marketing and obtained more than 70% marks.
2. must have secured more than 75% marks in the skill test and more than 70% in the interview.
3. must have secured at least 80% marks in the Marketing paper of MBA examination.

However, if a candidate fulfils all the above criteria EXCEPT:

- a. no. 2, but has got more than two years experience of working as a Marketing Executive, his/her case is to be referred to the Assistant Marketing Manager.
- b. no. 3, but has obtained more than 80% marks in MBA, his/her case is to be referred to the DGM (Marketing).

Based on the criteria given and without assuming any additional information, you have to a take a decision for the following candidate.

Kushagra has completed MBA in Marketing with 81% marks. He has obtained 76% marks in Marketing paper during MBA. He has obtained 76% marks in both skill test and interview.

Options :

1. ✖ The candidate is to be selected.
2. ✖ The candidate is not to be selected.
3. ✖ The candidate's case is to be referred to the Assistant Marketing Manager.
4. ✔ The candidate's case is to be referred to DGM (Marketing).

‘विपणन प्रबंधक’ (मार्केटिंग मैनेजर) के पद के लिए उम्मीदवार चुनने के लिए मानदंड निम्नानुसार हैं:

उम्मीदवार:

1. विपणन में विशिष्टता के साथ एम.बी.ए. होना चाहिए और 70% से अधिक अंक होने चाहिए।
2. कौशल परीक्षण में अंक 75% से अधिक होने चाहिए और साक्षात्कार में 70% से अधिक होने चाहिए।
3. एम.बी.ए. की परीक्षा के विपणन के पेपर में कम से कम 80% अंक होने चाहिए।

हालाँकि, यदि उम्मीदवार उक्त सभी मानदंड पूरे करता है, सिवाए:

- a. नं. 2, लेकिन विपणन कार्यकारी के रूप में काम करने का दो साल से अधिक का अनुभव है, तो उसका मामला सहायक विपणन प्रबंधक को भेजा जाएगा।
- b. नं. 3, लेकिन एम.बी.ए. में 80% से अधिक अंक मिले हैं, तो उसका मामला डी.जी.एम. (विपणन) को भेजा जाएगा।

दिए गए मानदंडों के आधार पर और किसी भी अतिरिक्त जानकारी पर गौर किए बिना, आपको निम्नलिखित उम्मीदवार के लिए फैसला लेना है।

कुशाग्र ने 81% अंकों के साथ विपणन में एम.बी.ए. पूरा किया है। उसने एम.बी.ए. के दौरान विपणन के पेपर में 76% अंक हासिल किए हैं। उसने कौशल परीक्षण और साक्षात्कार दोनों में 76% प्राप्त किए हैं।

Options :

1. ✗ उम्मीदवार चुना जाना चाहिए।
2. ✗ उम्मीदवार को नहीं चुना जाना चाहिए।
3. ✗ उम्मीदवार के मामले को सहायक विपणन प्रबंधक के पास भेज दिया जाएगा।
4. ✓ उम्मीदवार के मामले को डी.जी.एम. (विपणन) के पास भेज दिया जाएगा।

Question Number : 20 Question Id : 9983676436 Question Type : MCQ Option Shuffling : Yes

Correct Marks : 1 Wrong Marks : 0.25

The criteria for selecting a candidate for the post of 'Kathak dance trainer' are as follow.

The candidate:

1. must have completed Kathak course from a recognized institute.
2. must not be less than 25 years and not more than 35 years of age as on 1 January 2019.
3. must have at least two years' experience of working as Kathak dance trainer.

However, if a candidate fulfils all the above criteria EXCEPT:

- a. no. 2, but gets an approval from the selection board after seeing the performance, his/her case is to be referred to the Institute Director.
- b. no. 3, but have won state level awards in Kathak performance, his/her case is to be referred to the Principal.

Based on the criteria given and without assuming any additional information, you have to take a decision for the following candidate.

Vaishali has completed Kathak course from a recognized institute. She was born on 29th November 1993. She has worked as Kathak dance trainer for two years.

Options :

1. ✓ The candidate is to be selected.
2. ✗ The candidate is not to be selected.
3. ✗ The candidate's case is to be referred to the Institute Director.
4. ✗ The candidate's case is to be referred to the Principal.

Question Number : 20 Question Id : 9983676436 Question Type : MCQ Option Shuffling : Yes

Correct Marks : 1 Wrong Marks : 0.25

‘कथक नृत्य प्रशिक्षक’ के पद के लिए उम्मीदवार चुनने के लिए मानदंड निम्नानुसार हैं:

उम्मीदवार:

1. मान्यता प्राप्त संस्थान से कथक कोर्स किया होना चाहिए।
2. 1 जनवरी 2019 तक उसकी उम्र 25 साल से कम और 35 साल से अधिक नहीं होनी चाहिए।
3. कथक नृत्य प्रशिक्षक के रूप में काम करने का कम से कम दो सालों का अनुभव होना चाहिए।

हालाँकि, यदि उम्मीदवार उक्त सभी मानदंड पूरे करता है, सिवाए:

- a. नं. 2, लेकिन चयन मंडल द्वारा प्रदर्शन देखने के बाद अनुमोदन मिल गया है, तो उसका मामला संस्थान निदेशक को भेजा जाएगा।
- b. नं. 3, लेकिन कथक प्रदर्शन में राज्य स्तरीय पुरस्कार जीता है, तो उसका मामला प्रधानाचार्य को भेजा जाएगा।

दिए गए मानदंडों के आधार पर और किसी भी अतिरिक्त जानकारी पर गौर किए बिना, आपको निम्नलिखित उम्मीदवार के लिए फैसला लेना है।

वैशाली ने एक मान्यता प्राप्त संस्थान से कथक का कोर्स किया है। उसका जन्म 29 नवंबर 1993 को हुआ था। उसने कथक नृत्य प्रशिक्षक के तौर पर दो सालों तक काम किया है।

Options :

1. ✓ उम्मीदवार चुना जाना चाहिए।
2. ✗ उम्मीदवार को नहीं चुना जाना चाहिए।
3. ✗ उम्मीदवार के मामले को संस्था निदेशक के पास भेज दिया जाएगा।
4. ✗ उम्मीदवार के मामले को प्रधानाचार्य के पास भेज दिया जाएगा।

Mental Ability2

Group Number :	2
Group Id :	998367268
Group Maximum Duration :	0
Group Minimum Duration :	0
Show Attended Group? :	No
Edit Attended Group? :	No
Break time:	0
Group Marks:	20
Is this Group for Examiner?:	No

Revisit allowed for group Instructions? :

Maximum Instruction Time:

Minimum Instruction Time:

Yes

0

0

Mental Ability2

Section Id :

Section Number :

Section type :

Mandatory or Optional:

Number of Questions:

Number of Questions to be attempted:

Section Marks:

998367274

1

Online

Mandatory

20

20

20

Sub-Section Number:

Sub-Section Id:

Question Shuffling Allowed :

1

998367398

Yes

Question Number : 21 Question Id : 9983676437 Question Type : MCQ Option Shuffling : Yes
Correct Marks : 1 Wrong Marks : 0.25

Which of the option figures represents the correct water image of the figure given below?



Options :



1. ✓



2. ✗



3. ✗



Question Number : 21 Question Id : 9983676437 Question Type : MCQ Option Shuffling : Yes
Correct Marks : 1 Wrong Marks : 0.25

इन आकृतियों में से कौन सी आकृति दि गई आकृति की जल प्रतिबिंब दर्शाती है?



Options :



Question Number : 22 Question Id : 9983676438 Question Type : MCQ Option Shuffling : Yes
Correct Marks : 1 Wrong Marks : 0.25

Select the correct mirror image of the given cluster when a vertical mirror is placed on the right of the word.

YH65DfG4weftvbm

Options :

1. ✖ **mdvtt9w4GfDz9HY**
2. ✔ **mdvtt9w4GfDz9HY**
3. ✖ **md\tt9w4GfDz9HY**
4. ✖ **mdvtt9w4GfDz9HY**

Question Number : 22 Question Id : 9983676438 Question Type : MCQ Option Shuffling : Yes

Correct Marks : 1 Wrong Marks : 0.25

दिए गए समूह की सही दर्पण छवि चुनें, अगर शब्द के दाहिने ओर एक ऊर्ध्वाधर दर्पण रखा जाता है।

YH65DfG4weftvbm

Options :

1. ✖ **mdvtt9w4GfDz9HY**
2. ✔ **mdvtt9w4GfDz9HY**
3. ✖ **md\tt9w4GfDz9HY**

4. ✖ YH2DfG4wefvpm

Question Number : 23 Question Id : 9983676439 Question Type : MCQ Option Shuffling : Yes
Correct Marks : 1 Wrong Marks : 0.25

Eight symbol-number clusters are given below three of which are same. Find the three clusters that are exactly same.

- A. # @ 6 7 % f g \$ 6 7 % 3 4 \$ # @ & \$
- B. # @ 6 7 % f g \$ 8 7 % 3 4 \$ # @ & \$
- C. # @ 6 7 % f g \$ 8 7 % 5 4 \$ # @ & \$
- D. # @ 6 7 % f g \$ 8 7 % 3 4 \$ # @ # \$
- E. # @ 6 7 % f g \$ 8 7 % 3 4 \$ # @ & \$
- F. # @ 6 7 % f g \$ 8 7 % 3 4 # # @ & \$
- G. # @ 6 7 % f g \$ 8 7 & 3 4 \$ # @ & \$
- H. # @ 6 7 % f g \$ 8 7 % 3 4 \$ # @ & \$

Options :

- 1. ✖ A, C and E
- 2. ✔ B, E and H
- 3. ✖ C, F and H
- 4. ✖ D, E and G

Question Number : 23 Question Id : 9983676439 Question Type : MCQ Option Shuffling : Yes
Correct Marks : 1 Wrong Marks : 0.25

नीचे आठ प्रतीक-संख्या के समूह दिए गए हैं, इनमें से तीन एक समान हैं। बिलकुल समान तीन समूह पता करें।

A. # @ 6 7 % f g \$ 6 7 % 3 4 \$ # @ & \$

B. # @ 6 7 % f g \$ 8 7 % 3 4 \$ # @ & \$

C. # @ 6 7 % f g \$ 8 7 % 5 4 \$ # @ & \$

D. # @ 6 7 % f g \$ 8 7 % 3 4 \$ # @ # \$

E. # @ 6 7 % f g \$ 8 7 % 3 4 \$ # @ & \$

F. # @ 6 7 % f g \$ 8 7 % 3 4 # # @ & \$

G. # @ 6 7 % f g \$ 8 7 & 3 4 \$ # @ & \$

H. # @ 6 7 % f g \$ 8 7 % 3 4 \$ # @ & \$

Options :

1. ✗ A, C और E

2. ✓ B, E और H

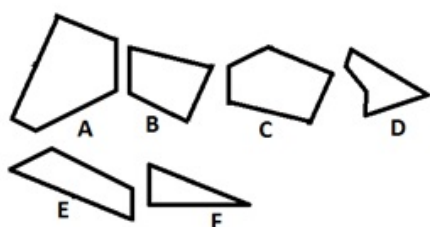
3. ✗ C, F और H

4. ✗ D, E और G

Question Number : 24 Question Id : 9983676440 Question Type : MCQ Option Shuffling : Yes

Correct Marks : 1 Wrong Marks : 0.25

Which of the given figures, when fitted into each other would form a hexagon? Select an appropriate combination from the given options.



Options :

1. ✓ ABCE

2. ✗ ACDE

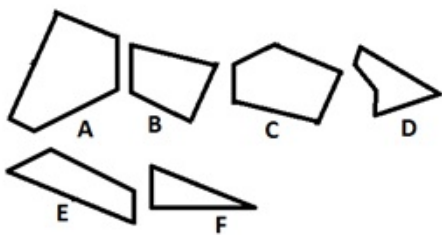
3. ✗ BCEF

4. ✗ BCDE

Question Number : 24 Question Id : 9983676440 Question Type : MCQ Option Shuffling : Yes

Correct Marks : 1 Wrong Marks : 0.25

इनमें से किस आकृति को जब एक दूसरे में फिट किया जाता है, तो एक षट्कोण बनेगा? दिए गए विकल्पों में से समुचित संयोजन चुनें।



Options :

1. ✓ ABCE

2. ✗ ACDE

3. ✗ BCEF

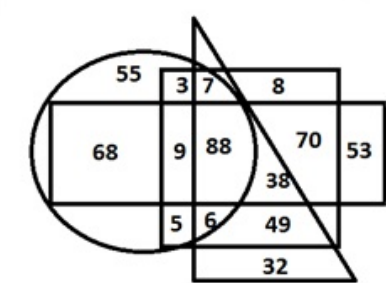
4. ✗ BCDE

Question Number : 25 Question Id : 9983676441 Question Type : MCQ Option Shuffling : Yes

Correct Marks : 1 Wrong Marks : 0.25

In the diagram given below, the circle stands for ‘Lawyers’, the triangle stands for ‘Males’, the rectangle stands for ‘Tea lovers’, and the square stands for ‘Social servants’.

The numbers in different segments represent the number of persons.

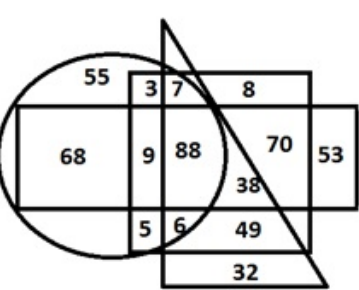


Which of following statement is NOT correct?

Options :

- 1. ✖ The number of Male lawyers who are social servants but are not tea lovers is 13.
- 2. ✖ The number of Male persons who are tea lovers and social servants but are not lawyers is 38.
- 3. ✔ The number of persons who are lawyers, tea lovers and social servants but are not males is 14.
- 4. ✖ The number of Male lawyers who are social servants and tea lovers also is 88.

Question Number : 25 Question Id : 9983676441 Question Type : MCQ Option Shuffling : Yes
Correct Marks : 1 Wrong Marks : 0.25
दिए गए आरेख में, वृत्त ‘वकीलों’ को दर्शाता है, त्रिभुज ‘पुरुषों’ को दर्शाता है, आयत ‘चाय प्रेमियों’ को दर्शाता है और वर्ग ‘समाज सेवक’ को दर्शाता है। अलग-अलग खंडों में दी गई संख्याएँ व्यक्तियों की संख्या को दर्शाती हैं।



इनमें से कौन सा कथन सही नहीं है?

Options :

1. ✖

ऐसे पुरुष वकीलों की संख्या 13 है, जो समाज सेवक तो हैं, लेकिन उन्हें चाय पसंद नहीं है।

2. ✖

ऐसे पुरुष व्यक्तियों की संख्या 38 है, जो समाज सेवक हैं और उन्हें चाय पसंद है, लेकिन वे वकील नहीं हैं।

3. ✔

ऐसे व्यक्तियों की संख्या 14 है, जो वकील हैं, चाय पसंद करते हैं और समाज सेवक हैं, लेकिन पुरुष नहीं हैं।

4. ✖

ऐसे पुरुष वकीलों की संख्या 88 है, जो समाज सेवक हैं और उन्हें चाय भी पसंद है।

Question Number : 26 Question Id : 9983676442 Question Type : MCQ Option Shuffling : Yes

Correct Marks : 1 Wrong Marks : 0.25

Select the option figure which contains figure X embedded in it as its part.



Figure-X

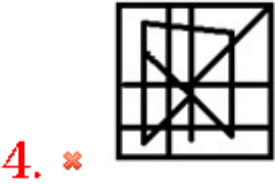
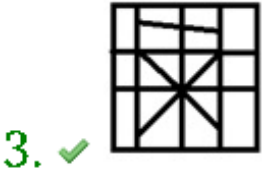
Options :

1. ✖



2. ✖



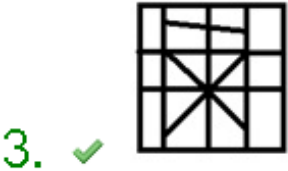
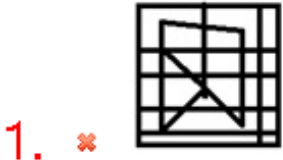


Question Number : 26 Question Id : 9983676442 Question Type : MCQ Option Shuffling : Yes
Correct Marks : 1 Wrong Marks : 0.25

इनमें से वह आकृति चुनें जिसकी आकृति X एक भाग है।



Options :





4. ✖

Question Number : 27 Question Id : 9983676443 Question Type : MCQ Option Shuffling : Yes
Correct Marks : 1 Wrong Marks : 0.25

Which of the following option figure will complete the pattern in the figure given below?

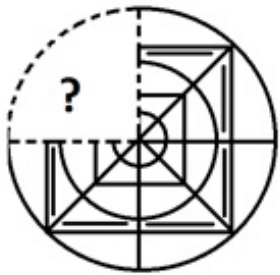


Options :



Question Number : 27 Question Id : 9983676443 Question Type : MCQ Option Shuffling : Yes
Correct Marks : 1 Wrong Marks : 0.25

इनमें से कौन सी आकृति नीचे दिए गए आकृति पैटर्न को पूरा करेगी?



Options :



Question Number : 28 Question Id : 9983676444 Question Type : MCQ Option Shuffling : Yes

Correct Marks : 1 Wrong Marks : 0.25

Ritika is daughter of Sujata. Vishal is son of Manav. Pratham is paternal grandfather of Ujjawala. Ujjawala and Ritika are sisters. Manav is married to Sujata. Vishal's father is son of Krishna.

How is Pratham related to Krishna?

Options :



2. ✓ Husband

3. ✗ Paternal Grandfather

4. ✗ Father

Question Number : 28 Question Id : 9983676444 Question Type : MCQ Option Shuffling : Yes

Correct Marks : 1 Wrong Marks : 0.25

रितिका सुजाता की बेटी है। विशाल मानव का बेटा है। प्रथम उज्ज्वला का दादाजी है। उज्ज्वला और रितिका बहनें हैं। मानव की शादी सुजाता से हुई है। विशाल के पिता कृष्ण के बेटे हैं।

प्रथम कृष्ण से कैसे संबंधित है?

Options :

1. ✗ बेटा

2. ✓ पति

3. ✗ दादाजी

4. ✗ पिता

Question Number : 29 Question Id : 9983676445 Question Type : MCQ Option Shuffling : Yes

Correct Marks : 1 Wrong Marks : 0.25

$A + B$ means 'A is son of B'

$A - B$ means 'A is husband of B'

$A \times B$ means 'A is father of B'

$A \div B$ means 'A is mother of B'

$A \% B$ means 'A is brother of B'

If $Z \% Q + M - R \div H \div C \times D - E \div K$, then which of the following statement is NOT correct?

Note: For this question, discrepancy is found in question/answer. So, this question is ignored for all candidates.

Options :

1. H is paternal grandmother of K.

2. R is maternal grandmother of C.

3. Z is son of R.

4. Z is brother of C.

Question Number : 29 Question Id : 9983676445 Question Type : MCQ Option Shuffling : Yes

Correct Marks : 1 Wrong Marks : 0.25

$A + B$ का अर्थ है 'A, B का बेटा है'

$A - B$ का अर्थ है 'A, B का पति है'

$A \times B$ का अर्थ है 'A, B का पिता है'

$A \div B$ का अर्थ है 'A, B की माता है'

$A \% B$ का अर्थ है 'A, B का भाई है'

यदि $Z \% Q + M - R \div H \div C \times D - E \div K$ है, तो इनमें से कौन सा कथन सही नहीं है?

Note: For this question, discrepancy is found in question/answer. So, this question is ignored for all candidates.

Options :

1. H, K का दादाजी है।

2. R, C की नानी है।

3. Z, R का बेटा है।

4. Z, C का भाई है।

Question Number : 30 Question Id : 9983676446 Question Type : MCQ Option Shuffling : Yes

Correct Marks : 1 Wrong Marks : 0.25

A question is given, followed by four statements labelled I, II, III and IV, each containing some information. Decide which of the statements is/are sufficient/ necessary to answer the question.

Question :

How is M related to C?

Statements :

- I. M is father of K.
- II. J is daughter of L.
- III. K is husband of L.
- IV. C is the brother of J.

Options :

1. ✖ Statement I, II and III together are sufficient.

2. ✖ Statement II, III and IV together are sufficient.

3. ✖ Statement I, III and IV together are sufficient.

4. ✔ All the statements together are necessary.

Question Number : 30 Question Id : 9983676446 Question Type : MCQ Option Shuffling : Yes

Correct Marks : 1 Wrong Marks : 0.25

एक प्रश्न के बाद I, II, III और IV लेबल के तहत चार कथन दिए गए हैं, प्रत्येक में कुछ न कुछ जानकारी दी गई है। तय करें कि प्रश्न का उत्तर देने के लिए इनमें से कौन सा/से कथन पर्याप्त/ज़रूरी है/हैं।

प्रश्न :

M, C से कैसे सम्बंधित है?

कथन :

- I. M, K का पिता है।
- II. J, L की पुत्री है।
- III. K, L का पति है।
- IV. C, J का भाई है।

Options :

1. ✖ कथन I, II और III एकसाथ पर्याप्त हैं।
2. ✖ कथन II, III और IV एकसाथ पर्याप्त हैं।
3. ✖ कथन I, III और IV एकसाथ पर्याप्त हैं।
4. ✔ सभी कथन एकसाथ पर्याप्त हैं।

Question Number : 31 Question Id : 9983676447 Question Type : MCQ Option Shuffling : Yes

Correct Marks : 1 Wrong Marks : 0.25

If 'CONCISE' is coded as 91 in a code language, how would 'IDEALISM' be coded in the same code language?

Options :

1. ✖ 130
2. ✖ 131
3. ✔ 132

4. ✖ 140

Question Number : 31 Question Id : 9983676447 Question Type : MCQ Option Shuffling : Yes

Correct Marks : 1 Wrong Marks : 0.25

यदि किसी कोड भाषा में 'CONCISE' को 91 कोड किया गया है, तो उसी कोड भाषा में 'IDEALISM' को क्या कोड किया जाएगा?

Options :

1. ✖ 130

2. ✖ 131

3. ✔ 132

4. ✖ 140

Question Number : 32 Question Id : 9983676448 Question Type : MCQ Option Shuffling : Yes

Correct Marks : 1 Wrong Marks : 0.25

Which of the following pairs of numbers and signs, when their positions are interchanged, will correctly solve the given mathematical equation?

$$469 \div 67 \times 192 - 238 + 12 = 130$$

Options :

1. ✖ 12 and 238, \times and \div

2. ✖ 192 and 238, $+$ and \div

3. ✔ 12 and 192, $+$ and $-$

4. ✖ 12 and 192, + and ÷

Question Number : 32 Question Id : 9983676448 Question Type : MCQ Option Shuffling : Yes

Correct Marks : 1 Wrong Marks : 0.25

संख्याओं और चिह्नों के इन युग्मों में से कौन सा युग्म उनकी स्थिति आपस में बदलने पर दिए गए गणितीय समीकरण को सही से हल करेगा?

$$469 \div 67 \times 192 - 238 + 12 = 130$$

Options :

1. ✖ 12 और 238, × और ÷

2. ✖ 192 और 238, + और ÷

3. ✔ 12 और 192, + और -

4. ✖ 12 और 192, + और ÷

Question Number : 33 Question Id : 9983676449 Question Type : MCQ Option Shuffling : Yes

Correct Marks : 1 Wrong Marks : 0.25

A total of 400 students participate in one of three games chess, long jump and high jump. Only 27% participate in all three games. The number of students who participate in any two and only two games is 31% of the total students. The number of students who participate in high jump alone is 77. What is the total number of students who participate in chess alone or long jump alone?

Options :

1. ✖ 81

2. ✔ 91

3. ✖ 97

4. ✖ 111

Question Number : 33 Question Id : 9983676449 Question Type : MCQ Option Shuffling : Yes

Correct Marks : 1 Wrong Marks : 0.25

कुल 400 छात्र शतरंज, लंबी कूद और ऊंची कूद तीन खेलों में भाग लेते हैं। केवल 27% ही सभी तीन खेलों में भाग लेते हैं। किन्हीं दो या केवल दो खेलों में भाग लेने वाले छात्रों की संख्या कुल संख्या की 31% है। केवल ऊंची कूद में भाग लेने वाले छात्रों की संख्या 77 है। केवल शतरंज या केवल लंबी कूद में भाग लेने वाले छात्रों की संख्या पता करें?

Options :

1. ✖ 81

2. ✔ 91

3. ✖ 97

4. ✖ 111



Question Number : 34 Question Id : 9983676450 Question Type : MCQ Option Shuffling : Yes

Correct Marks : 1 Wrong Marks : 0.25

Among five objects U, L, C, J and K; U is three and a half times as heavy as K; L is four and a half times heavier than C; C is twice heavier than J. J is one and a half times heavier than U.

Which of the following the statements is NOT correct?

Options :

1. ✖ C is three times heavier than U.

2. ✔ C is lighter than K.

3. ✖ J is 5.25 times heavier than K.

4. ✖ L is heavier than U.

Question Number : 34 Question Id : 9983676450 Question Type : MCQ Option Shuffling : Yes

Correct Marks : 1 Wrong Marks : 0.25

पाँच वस्तुओं U, L, C, J और K में से; U, K से साढ़े तीन गुना भारी है; L, C से साढ़े चार गुना भारी है; C, J से दोगुना भारी है। J, U से डेढ़ गुना भारी है।

इनमें से कौन सा कथन सत्य नहीं है?

Options :

1. ✖ C, U से तीन गुना भारी है।

2. ✔ C, K से हल्की है।

3. ✖ J, K से 5.25 गुना भारी है।

4. ✖ L, U से भारी है।

Question Number : 35 Question Id : 9983676451 Question Type : MCQ Option Shuffling : Yes

Correct Marks : 1 Wrong Marks : 0.25

Four persons A, B, C and D have different amount of rupees with them. A says to B, 'If I give you 8 rupees, I will have four rupees more than C'. B says to C, 'If you give me 7 rupees, I will have equal amount of rupees as D'. C says to A, 'If you give me 13 rupees, I will have 8 rupees less than B'. If B and C together have total 75 rupees, how many rupees does D have?

Options :

1. ✔ 55

2. ✖ 57

3. ✖ 59

4. ✖ 60

Question Number : 35 Question Id : 9983676451 Question Type : MCQ Option Shuffling : Yes

Correct Marks : 1 Wrong Marks : 0.25

चार व्यक्तियों A, B, C और D के पास रुपये की विभिन्न राशियाँ हैं। A, B से कहता है, "अगर मैं तुम्हें 8 रुपये दे दूँ, तो मेरे पास C से चार रुपये ज़्यादा होंगे।" B, C से कहता है, "अगर तुम मुझे 7 रुपये दे दो, तो मेरे पास D जितने रुपये हो जाएँगे।" C, A से कहता है, "अगर तुम मुझे 13 रुपये दे दो, तो मेरे पास B से 8 रुपये कम होंगे।" यदि B और C दोनों के पास कुल 75 रुपये हैं, तो D के पास कितने रुपये हैं?

Options :

1. ✔ 55

2. ✖ 57

3. ✖ 59

4. ✖ 60



Question Number : 36 Question Id : 9983676452 Question Type : MCQ Option Shuffling : Yes

Correct Marks : 1 Wrong Marks : 0.25

Three of the given four words are similar in a certain manner while one is different. Choose the odd one out.

Options :

1. ✖ Lavender

2. ✖ Orchids

3. ✖ Daffodil

4. ✔ Aroma

Question Number : 36 Question Id : 9983676452 Question Type : MCQ Option Shuffling : Yes

Correct Marks : 1 Wrong Marks : 0.25

दिए गए चार शब्दों में से तीन एक तरीके से समान हैं, जबकि एक अलग है। इनमें से विषम चुनें।

Options :

1. ✖ लैवेंडर

2. ✖ ऑर्किड

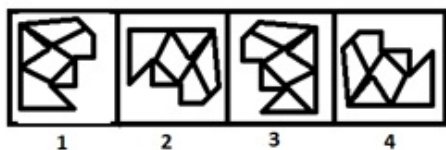
3. ✖ डैफोडिल

4. ✔ एरोमा

Question Number : 37 Question Id : 9983676453 Question Type : MCQ Option Shuffling : Yes

Correct Marks : 1 Wrong Marks : 0.25

Three of the given four figures are similar in a certain manner while one is different. Choose the odd one out.



Options :

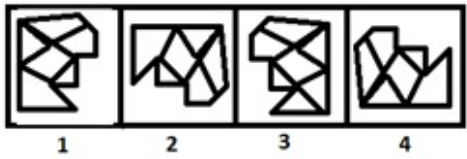
1. ✖ 1

2. ✖ 2

3. ✓ 3

4. ✗ 4

Question Number : 37 Question Id : 9983676453 Question Type : MCQ Option Shuffling : Yes
Correct Marks : 1 Wrong Marks : 0.25
दिए गए चार आकृतियों में से तीन एक तरीके से समान हैं, जबकि एक अलग है। इनमें से विषम चुनें।



Options :

1. ✗ 1

2. ✗ 2

3. ✓ 3

4. ✗ 4



Question Number : 38 Question Id : 9983676454 Question Type : MCQ Option Shuffling : Yes
Correct Marks : 1 Wrong Marks : 0.25
Which number will replace the question mark (?) in the following series?

17, 18, 18, 20, ?, 43

Options :

1. ✗ 24

2. ✗ 32

3. ✖ 36

4. ✔ 40

Question Number : 38 Question Id : 9983676454 Question Type : MCQ Option Shuffling : Yes

Correct Marks : 1 Wrong Marks : 0.25

वह विकल्प चुनें जो श्रृंखला में प्रश्न चिन्ह (?) को सही प्रतिस्थापित करेगा।

17, 18, 18, 20, ?, 43

Options :

1. ✖ 24

2. ✖ 32

3. ✖ 36

4. ✔ 40



Question Number : 39 Question Id : 9983676455 Question Type : MCQ Option Shuffling : Yes

Correct Marks : 1 Wrong Marks : 0.25

Which number will replace the question mark (?) in the following series?

87, 91, 102, 132, ?

Options :

1. ✔ 199

2. ✖ 200

3. ✖ 201

4. ✖ 202

Question Number : 39 Question Id : 9983676455 Question Type : MCQ Option Shuffling : Yes
Correct Marks : 1 Wrong Marks : 0.25

वह विकल्प चुनें जो श्रृंखला में प्रश्न चिन्ह (?) को सही प्रतिस्थापित करेगा।

87, 91, 102, 132, ?

Options :

1. ✔ 199

2. ✖ 200

3. ✖ 201

4. ✖ 202



Question Number : 40 Question Id : 9983676456 Question Type : MCQ Option Shuffling : Yes
Correct Marks : 1 Wrong Marks : 0.25

Which number will replace the question mark (?) in the following series?

41, 78, 140, 236, 373, ?

Options :

1. ✔ 556

2. ✖ 559

3. ✖ 563

4. ✖ 567

Question Number : 40 Question Id : 9983676456 Question Type : MCQ Option Shuffling : Yes
Correct Marks : 1 Wrong Marks : 0.25

वह विकल्प चुनें जो श्रृंखला में प्रश्न चिन्ह (?) को सही प्रतिस्थापित करेगा।

41, 78, 140, 236, 373,?

Options :

1. ✔ 556

2. ✖ 559

3. ✖ 563

4. ✖ 567



General Awareness1

Group Number :	3
Group Id :	998367269
Group Maximum Duration :	0
Group Minimum Duration :	0
Show Attended Group? :	No
Edit Attended Group? :	No
Break time:	0
Group Marks:	20
Is this Group for Examiner?:	No
Revisit allowed for group Instructions? :	Yes
Maximum Instruction Time:	0
Minimum Instruction Time:	0

General Awareness1

Section Id :	998367275
Section Number :	1
Section type :	Online
Mandatory or Optional:	Mandatory
Number of Questions:	20
Number of Questions to be attempted:	20
Section Marks:	20

Sub-Section Number:	1
Sub-Section Id:	998367399
Question Shuffling Allowed :	Yes

Question Number : 41 Question Id : 9983676457 Question Type : MCQ Option Shuffling : Yes
Correct Marks : 1 Wrong Marks : 0.25

India's first digital investigation centre was established in _____.

Options :

1. ✖ Kolkata
2. ✖ Ahmedabad
3. ✖ Pune
4. ✔ Gurugram

Question Number : 41 Question Id : 9983676457 Question Type : MCQ Option Shuffling : Yes
Correct Marks : 1 Wrong Marks : 0.25

भारत का पहला डिजिटल जांच केंद्र _____ में स्थापित किया गया था ।

Options :

1. ✖ कोलकाता
2. ✖ अहमदाबाद
3. ✖ पुणे
4. ✔ गुरुग्राम

Question Number : 42 Question Id : 9983676458 Question Type : MCQ Option Shuffling : Yes
Correct Marks : 1 Wrong Marks : 0.25

As per the India State of Forest Report, 2017, which of the following states has been the biggest loser in terms of area under forest?

Options :

1. ✓ Mizoram
2. ✗ Arunachal Pradesh
3. ✗ Assam
4. ✗ Tripura

Question Number : 42 Question Id : 9983676458 Question Type : MCQ Option Shuffling : Yes
Correct Marks : 1 Wrong Marks : 0.25

भारतीय वन स्थिति रिपोर्ट 2017 के अनुसार, निम्नलिखित में से किस राज्य का वनाच्छादित क्षेत्र सर्वाधिक कम हुआ है?

Options :

1. ✓ मिज़ोरम
2. ✗ अरुणाचल प्रदेश
3. ✗ असम
4. ✗ त्रिपुरा

Question Number : 43 Question Id : 9983676459 Question Type : MCQ Option Shuffling : Yes
Correct Marks : 1 Wrong Marks : 0.25

Red List Index (RLI), which 'provides a clearer view of real trends within different taxonomic groups, and for biodiversity as a whole', is not available for:

Options :

1. ✗ Birds
2. ✗ Corals
3. ✗ Mammals
4. ✓ Fishes

Question Number : 43 Question Id : 9983676459 Question Type : MCQ Option Shuffling : Yes
Correct Marks : 1 Wrong Marks : 0.25

रेड लिस्ट इंडेक्स (RLI) जो विभिन्न वर्गों की समूहों में वास्तविक
रुझानों और समग्र रूप में जैवविविधता के लिए एक स्पष्ट दृश्य प्रदान
करती है, _____ के लिए उपलब्ध नहीं है।

Options :

1. ✖ पक्षी
2. ✖ मूँगा (कोरल)
3. ✖ स्तनधारियों
4. ✔ मछलियों

Question Number : 44 Question Id : 9983676460 Question Type : MCQ Option Shuffling : Yes
Correct Marks : 1 Wrong Marks : 0.25

Nalabana Bird Sanctuary is located in:

Options :

1. ✖ West Bengal
2. ✔ Orissa
3. ✖ Assam
4. ✖ Tripura

Question Number : 44 Question Id : 9983676460 Question Type : MCQ Option Shuffling : Yes
Correct Marks : 1 Wrong Marks : 0.25

नलबाण पक्षी अभ्यारण्य _____ में स्थित है।

Options :

1. ✖ पश्चिम बंगाल
2. ✔ ओडिशा
3. ✖ असम
4. ✖ त्रिपुरा

Question Number : 45 Question Id : 9983676461 Question Type : MCQ Option Shuffling : Yes

Correct Marks : 1 Wrong Marks : 0.25

The theme of World Autism Day 2019 was:

Options :

1. ✓ Assistive Technologies, Active Participation.
2. ✗ No Development Without Inclusion.
3. ✗ Different Abilities Same Development.
4. ✗ Empowering Women and Girls with Autism.

Question Number : 45 Question Id : 9983676461 Question Type : MCQ Option Shuffling : Yes

Correct Marks : 1 Wrong Marks : 0.25

विश्व स्वपरायणता (ऑटिज्म) दिवस 2019 का विषय _____ था।

Options :

1. ✓ सहायक प्रौद्योगिकी, सक्रिय भागीदारी
2. ✗ समावेश के बिना कोई विकास नहीं
3. ✗ विभिन्न योग्यताएं समान विकास
4. ✗ ऑटिज्म से ग्रस्त महिलाओं और बालिकाओं का सशक्तिकरण

Question Number : 46 Question Id : 9983676462 Question Type : MCQ Option Shuffling : Yes

Correct Marks : 1 Wrong Marks : 0.25

Which of the following products, produced in the Marayoor and Kanthalloor regions of Kerala, recently received Geographical Indication tagging?

Options :

1. ✗ Groundnuts
2. ✗ Pickle
3. ✓ Jaggery
4. ✗ Dari

Question Number : 46 Question Id : 9983676462 Question Type : MCQ Option Shuffling : Yes

Correct Marks : 1 Wrong Marks : 0.25

निम्नलिखित में से किस उत्पाद ने, जो केरल के मरायूर और कंठललोर क्षेत्रों में उत्पादित किया है, हाल ही में भौगोलिक उपदर्शन (जियोग्राफिकल इंडिकेशन) टैग प्राप्त किया?

Options :

1. ✖ मूँगफली
2. ✖ अचार
3. ✔ गुड़
4. ✖ दारी

Question Number : 47 Question Id : 9983676463 Question Type : MCQ Option Shuffling : Yes

Correct Marks : 1 Wrong Marks : 0.25

Which of the following organizations confer prestigious Carnot Prize in recognition of distinguished contributions to energy policy through scholarship or practice?

Options :

1. ✔ Kleinman Center for Energy Policy
2. ✖ Centre for Renewable Energy Systems Technology (CREST), Loughborough University
3. ✖ UK Energy Research Centre
4. ✖ Massachusetts Institute of Technology

Question Number : 47 Question Id : 9983676463 Question Type : MCQ Option Shuffling : Yes

Correct Marks : 1 Wrong Marks : 0.25

छात्रवृत्ति या प्रैक्टिस द्वारा ऊर्जा नीति में विशिष्ट योगदान करने के कारण निम्नलिखित में से किस संगठन को प्रतिष्ठित कार्नोट पुरस्कार प्रदान किया गया?

Options :

1. ✔ क्लेमेन सेंटर फॉर एनर्जी पॉलिसी

2. ✖ सेंटर फॉर रिन्युएबल एनर्जी सिस्टम्स टेक्नोलॉजी (क्रेस्ट), लॉफबोरो यूनिवर्सिटी
3. ✖ यूके एनर्जी रिसर्च सेंटर
4. ✖ मैसाचुसेट्स इंस्टीट्यूट ऑफ टेक्नोलॉजी

Question Number : 48 Question Id : 9983676464 Question Type : MCQ Option Shuffling : Yes
Correct Marks : 1 Wrong Marks : 0.25

Tagore Award for Cultural Harmony 2016 was awarded to:

- Options :
1. ✖ Rajkumar Singhajit Singh.
 2. ✔ Ram Sutar Vanji.
 3. ✖ Chhayanaut (a cultural organization of Bangladesh).
 4. ✖ INTACH

Question Number : 48 Question Id : 9983676464 Question Type : MCQ Option Shuffling : Yes
Correct Marks : 1 Wrong Marks : 0.25

सांस्कृतिक एकता का टैगोर पुरस्कार 2016 _____ को दिया गया था।

- Options :
1. ✖ राजकुमार सिंघजीत सिंह
 2. ✔ राम सुतार वनजी
 3. ✖ छायानट (बांग्लादेश का एक सांस्कृतिक संगठन)
 4. ✖ इंटक (INTACH)

Question Number : 49 Question Id : 9983676465 Question Type : MCQ Option Shuffling : Yes
Correct Marks : 1 Wrong Marks : 0.25

Which of the following emperors built the famous Jama Masjid of Delhi?

- Options :
1. ✖ Aurangzeb

2. ✖ Sher Shah Suri

3. ✔ Shah Jahan

4. ✖ Humayun

Question Number : 49 Question Id : 9983676465 Question Type : MCQ Option Shuffling : Yes
Correct Marks : 1 Wrong Marks : 0.25

निम्नलिखित लिखित में से किस सम्राट ने दिल्ली की प्रसिद्ध जामा मस्जिद का निर्माण कराया था?

Options :

1. ✖ औरंगजेब

2. ✖ शेर शाह सूरी

3. ✔ शाह जहाँ

4. ✖ हुमायूँ

Question Number : 50 Question Id : 9983676466 Question Type : MCQ Option Shuffling : Yes
Correct Marks : 1 Wrong Marks : 0.25

Which of the following texts was NOT composed by Ashvaghosha?

Options :

1. ✖ Sariputra prakaran

2. ✖ Saundarananda

3. ✖ Buddhacharita

4. ✔ Ashokavadana

Question Number : 50 Question Id : 9983676466 Question Type : MCQ Option Shuffling : Yes
Correct Marks : 1 Wrong Marks : 0.25

निम्नलिखित में से कौन सा ग्रन्थ अश्वघोष द्वारा रचित नहीं है?

Options :

1. ✖ शारिपुत्र प्रकरण

2. ✖ सौन्दरनन्दं

3. ✖ बुद्धचरित

4. ✔ अशोकावदान

Question Number : 51 Question Id : 9983676467 Question Type : MCQ Option Shuffling : Yes

Correct Marks : 1 Wrong Marks : 0.25

The greatest development in the Kushana period was in the field of:

Options :

1. ✔ Art

2. ✖ Medical

3. ✖ Religion

4. ✖ Literature

Question Number : 51 Question Id : 9983676467 Question Type : MCQ Option Shuffling : Yes

Correct Marks : 1 Wrong Marks : 0.25

कुषाण काल में सबसे बड़ा विकास _____ के क्षेत्र में हुआ।

Options :

1. ✔ कला

2. ✖ चिकित्सा

3. ✖ धर्म

4. ✖ साहित्य

Question Number : 52 Question Id : 9983676468 Question Type : MCQ Option Shuffling : Yes

Correct Marks : 1 Wrong Marks : 0.25

Who was the temporary chairman of the Constituent Assembly?

Options :

1. ✖ N. G. Ranga

2. ✖ Sardar Patel

3. ✖ Justice S.K. Dar

4. ✔ Sachchidanand Sinha

Question Number : 52 Question Id : 9983676468 Question Type : MCQ Option Shuffling : Yes
Correct Marks : 1 Wrong Marks : 0.25

संविधान सभा का अस्थायी अध्यक्ष कौन था?

Options :

1. ✖ एन जी रंगा
2. ✖ सरदार पटेल
3. ✖ न्यायमूर्ति एस के दर
4. ✔ सच्चिदानंद सिन्हा

Question Number : 53 Question Id : 9983676469 Question Type : MCQ Option Shuffling : Yes
Correct Marks : 1 Wrong Marks : 0.25

What is the name of Chatbot of the Indian Railway Catering and Tourism Corporation Limited (IRCTC)?

Options :

1. ✔ Ask Disha
2. ✖ Ask Shiksha
3. ✖ Ask Pragya
4. ✖ Ask Gamini

Question Number : 53 Question Id : 9983676469 Question Type : MCQ Option Shuffling : Yes
Correct Marks : 1 Wrong Marks : 0.25

भारतीय रेलवे कैटरिंग एंड टूरिज्म कॉर्पोरेशन लिमिटेड (IRCTC) के चैटबॉट का क्या नाम है?

Options :

1. ✔ आस्क दिशा
2. ✖ आस्क शिक्षा
3. ✖ आस्क प्रज्ञा
4. ✖ आस्क गामिनी

Question Number : 54 Question Id : 9983676470 Question Type : MCQ Option Shuffling : Yes
Correct Marks : 1 Wrong Marks : 0.25

Which of the following states does not have a Legislative Council?

Options :

1. ✖ Andhra Pradesh
2. ✖ Karnataka
3. ✖ Maharashtra
4. ✔ Madhya Pradesh

Question Number : 54 Question Id : 9983676470 Question Type : MCQ Option Shuffling : Yes
Correct Marks : 1 Wrong Marks : 0.25

निम्नलिखित में से किस राज्य में विधान परिषद नहीं है?

Options :

1. ✖ आंध्र प्रदेश
2. ✖ कर्नाटक
3. ✖ महाराष्ट्र
4. ✔ मध्य प्रदेश

Question Number : 55 Question Id : 9983676471 Question Type : MCQ Option Shuffling : Yes
Correct Marks : 1 Wrong Marks : 0.25

Which of the following state legislative assemblies in 2018 passed a resolution seeking creation of a Legislative Council?

Options :

1. ✖ Telangana
2. ✖ Haryana
3. ✔ Orisha
4. ✖ Sikkim

Question Number : 55 Question Id : 9983676471 Question Type : MCQ Option Shuffling : Yes
Correct Marks : 1 Wrong Marks : 0.25

निम्नलिखित में से किस राज्य की विधानसभा ने 2018 में विधान परिषद के गठन हेतु एक प्रस्ताव पारित किया?

Options :

1. ✖ तेलंगाना
2. ✖ हरियाणा
3. ✔ ओडिशा
4. ✖ सिक्किम

Question Number : 56 Question Id : 9983676472 Question Type : MCQ Option Shuffling : Yes
Correct Marks : 1 Wrong Marks : 0.25

Which of the following articles of the Constitution grants special status to the state of Jammu and Kashmir?

Options :

1. ✔ Article 370
2. ✖ Article 356
3. ✖ Article 349
4. ✖ Article 345

Question Number : 56 Question Id : 9983676472 Question Type : MCQ Option Shuffling : Yes
Correct Marks : 1 Wrong Marks : 0.25

संविधान का निम्नलिखित में से कौन सा अनुच्छेद, जम्मू एवं कश्मीर को विशेष दर्जा प्रदान करता है?

Options :

1. ✔ अनुच्छेद 370
2. ✖ अनुच्छेद 356
3. ✖ अनुच्छेद 349
4. ✖ अनुच्छेद 345

Question Number : 57 Question Id : 9983676473 Question Type : MCQ Option Shuffling : Yes
Correct Marks : 1 Wrong Marks : 0.25

Article _____ enables the Union Government to impose financial emergency.

Options :

1. ✖ 352

2. ✖ 354

3. ✖ 358

4. ✔ 360

Question Number : 57 Question Id : 9983676473 Question Type : MCQ Option Shuffling : Yes
Correct Marks : 1 Wrong Marks : 0.25

अनुच्छेद _____, केन्द्र सरकार को वित्तीय आपातकाल लगाने की शक्ति प्रदान करता है।

Options :

1. ✖ 352

2. ✖ 354

3. ✖ 358

4. ✔ 360

Question Number : 58 Question Id : 9983676474 Question Type : MCQ Option Shuffling : Yes
Correct Marks : 1 Wrong Marks : 0.25

Which of the following constitutional amendment mandated the State to provide free and compulsory elementary education to all children?

Options :

1. ✔ 86th

2. ✖ 87th

3. ✖ 88th

4. ✖ 89th

Question Number : 58 Question Id : 9983676474 Question Type : MCQ Option Shuffling : Yes
Correct Marks : 1 Wrong Marks : 0.25

निम्नलिखित में से कौन सा संवैधानिक संशोधन, राज्यों को सभी बच्चों हेतु निःशुल्क और अनिवार्य शिक्षा प्रदान करने के लिए निर्देशित करता है?

Options :

1. ✓ 86वां
2. ✗ 87वां
3. ✗ 88वां
4. ✗ 89वां

Question Number : 59 Question Id : 9983676475 Question Type : MCQ Option Shuffling : Yes

Correct Marks : 1 Wrong Marks : 0.25

Which of the following cricketers became the first to take 100 IPL catches?

Options :

1. ✗ Virat Kohli
2. ✓ Suresh Raina
3. ✗ AB de Villiers
4. ✗ Rohit Sharma

Question Number : 59 Question Id : 9983676475 Question Type : MCQ Option Shuffling : Yes

Correct Marks : 1 Wrong Marks : 0.25

निम्नलिखित लिखित में से कौन सा क्रिकेट खिलाड़ी 100 IPL कैच लेने वाला पहला खिलाड़ी बना?

Options :

1. ✗ विराट कोहली
2. ✓ सुरेश रैना
3. ✗ ए बी डिविलियर्स
4. ✗ रोहित शर्मा

Question Number : 60 Question Id : 9983676476 Question Type : MCQ Option Shuffling : Yes
Correct Marks : 1 Wrong Marks : 0.25

In the rankings released by the United World Wrestling in 2019, the second place in men’s 65 kg freestyle category was begged by:

Options :

- 1. ✓ Takuto Otaguro
- 2. ✗ Selahattin Kilicsallayan
- 3. ✗ Akhmed Chakaev
- 4. ✗ Nachyn Kuular

Question Number : 60 Question Id : 9983676476 Question Type : MCQ Option Shuffling : Yes
Correct Marks : 1 Wrong Marks : 0.25

यूनाइटेड वर्ल्ड रेसलिंग द्वारा 2019 में जारी रैंकिंग में, पुरुषों की 65 kg फ्रीस्टाइल श्रेणी में दूसरा स्थान _____ को प्रदान किया गया।

Options :

- 1. ✓ ताकोतो ओटोगुरो (Takuto Otaguro)
- 2. ✗ सेलाहटीन किलिक्सल्लायन (Selahattin Kilicsallayan)
- 3. ✗ अख्मद चकेव (Akhmed Chakaev)
- 4. ✗ नाचिन कुयुलर (Nachyn Kuular)

General Awareness2

Group Number :	4
Group Id :	998367270
Group Maximum Duration :	0
Group Minimum Duration :	0
Show Attended Group? :	No
Edit Attended Group? :	No
Break time:	0
Group Marks:	20
Is this Group for Examiner?:	No
Revisit allowed for group Instructions? :	Yes
Maximum Instruction Time:	0
Minimum Instruction Time:	0

General Awareness2

Section Id :	998367276
Section Number :	1
Section type :	Online
Mandatory or Optional:	Mandatory
Number of Questions:	20
Number of Questions to be attempted:	20
Section Marks:	20

Sub-Section Number:	1
Sub-Section Id:	998367400
Question Shuffling Allowed :	Yes

Question Number : 61 Question Id : 9983676477 Question Type : MCQ Option Shuffling : Yes
Correct Marks : 1 Wrong Marks : 0.25

Arpinder Singh who won Gold medal in the Asian Games 2018 belongs to this sport:

Options :

1. ✖ javelin throw
2. ✖ shot put
3. ✔ triple Jump
4. ✖ quadruple sculls

Question Number : 61 Question Id : 9983676477 Question Type : MCQ Option Shuffling : Yes
Correct Marks : 1 Wrong Marks : 0.25

एशियाई खेल 2018 में स्वर्ण पदक जीतने वाले अरपिंदर सिंह _____ खेल से संबंधित है।

Options :

1. ✖ भाला फेंक (जैवलिन थ्रो)
2. ✖ गोला फेंक (शॉट पुट)
3. ✔ ट्रिपल जंप
4. ✖ क्वाड्रपल स्कल्स

Question Number : 62 Question Id : 9983676478 Question Type : MCQ Option Shuffling : Yes
Correct Marks : 1 Wrong Marks : 0.25

Which of the following statements regarding Kalbelia dance and folk songs is NOT correct?

Options :

1. ✖ It is inscribed on the Representative List of the Intangible Cultural Heritage of Humanity.
2. ✖ These are an expression of the Kalbelia community's traditional way of life.
3. ✔ The Kalbelia community is a traditional monkey-catcher community.
4. ✖ Khanjari and pungli are two musical instruments used in the performance of this dance and songs.

Question Number : 62 Question Id : 9983676478 Question Type : MCQ Option Shuffling : Yes

Correct Marks : 1 Wrong Marks : 0.25

कालबेलिया नृत्य और लोकगीत के विषय में निम्नलिखित में से कौन सा कथन सही नहीं है?

Options :

1. ✖ निम्नलिखित में से कौन, मानवता की अमूर्त सांस्कृतिक विरासत की प्रतिनिधि सूची में वर्णित है।
2. ✖ यह कालबेलिया समुदाय की पारंपरिक जीवनशैली की एक अभिव्यक्ति है।
3. ✔ कालबेलिया समुदाय, पारंपरिक रूप से बंदर पकड़ने वाला समुदाय है।
4. ✖ खंजरी और पुंगी दो वाद्य यंत्र हैं जो इस नृत्य और गीत के प्रदर्शन में उपयोग किए जाते हैं।

Question Number : 63 Question Id : 9983676479 Question Type : MCQ Option Shuffling : Yes

Correct Marks : 1 Wrong Marks : 0.25

Maach is a traditional theatre form of the state of _____.

Options :

1. ✓ Madhya Pradesh
2. ✗ Orisha
3. ✗ Kerala
4. ✗ Tamil Nadu

Question Number : 63 Question Id : 9983676479 Question Type : MCQ Option Shuffling : Yes
Correct Marks : 1 Wrong Marks : 0.25

माच _____ राज्य का एक पारंपरिक नाट्य रूप है।

Options :

1. ✓ मध्य प्रदेश
2. ✗ ओडिशा
3. ✗ केरल
4. ✗ तमिलनाडु

Question Number : 64 Question Id : 9983676480 Question Type : MCQ Option Shuffling : Yes
Correct Marks : 1 Wrong Marks : 0.25

The famous painting entitled 'Three Girls' was painted by _____.

Options :

1. ✗ Raja Ravi Verma
2. ✓ Amrita Sher-Gil
3. ✗ Abanindranath Tagore
4. ✗ Radha Kumar

Question Number : 64 Question Id : 9983676480 Question Type : MCQ Option Shuffling : Yes
Correct Marks : 1 Wrong Marks : 0.25

'श्री गर्ल्स' नामक प्रसिद्ध पेंटिंग _____ द्वारा बनाई गई।

Options :

1. ✗ राजा रवि वर्मा
2. ✓ अमृता शेरगिल

3. ✖ अवनींद्रनाथ टैगोर

4. ✖ राधा कुमार

Question Number : 65 Question Id : 9983676481 Question Type : MCQ Option Shuffling : Yes

Correct Marks : 1 Wrong Marks : 0.25

Which is the world's largest desert?

Options :

1. ✔ Sahara

2. ✖ Namib

3. ✖ Kalahari

4. ✖ Sonoran

Question Number : 65 Question Id : 9983676481 Question Type : MCQ Option Shuffling : Yes

Correct Marks : 1 Wrong Marks : 0.25

विश्व का सबसे बड़ा मरुस्थल कौन सा है?

Options :

1. ✔ सहारा

2. ✖ नामीब

3. ✖ कालाहारी

4. ✖ सोनोरान

Question Number : 66 Question Id : 9983676482 Question Type : MCQ Option Shuffling : Yes

Correct Marks : 1 Wrong Marks : 0.25

Which of the following conditions is NOT must for the origin of tropical cyclones?

Options :

1. ✖ Large sea surface with temperature higher than 27°C

2. ✖ Presence of the Coriolis force

3. ✖ Small variations in the vertical wind speed

4. ✔ A pre-existing strong high-pressure area

Question Number : 66 Question Id : 9983676482 Question Type : MCQ Option Shuffling : Yes
Correct Marks : 1 Wrong Marks : 0.25

उष्णकटिबंधीय चक्रवातों के उत्पन्न होने के लिए निम्नलिखित में से कौन सी दशा अनिवार्य नहीं है?

Options :

1. ✖ वृहद सामुद्रिक सतह का तापमान 27° C से अधिक होना
2. ✖ कॉरिऑलिस बल की उपस्थिति
3. ✖ ऊर्ध्व पवन चाल में मामूली परिवर्तन
4. ✔ पहले से उपस्थित प्रबल उच्च-दबाव क्षेत्र

Question Number : 67 Question Id : 9983676483 Question Type : MCQ Option Shuffling : Yes
Correct Marks : 1 Wrong Marks : 0.25

Which of the following seas are connected through the Strait of Kerch?

Options :

1. ✖ Black Sea and Aegean Sea
2. ✔ Black Sea and Sea of Azov
3. ✖ Black Sea and Caspian Sea
4. ✖ Mediterranean Sea and Red Sea

Question Number : 67 Question Id : 9983676483 Question Type : MCQ Option Shuffling : Yes
Correct Marks : 1 Wrong Marks : 0.25

निम्नलिखित में से कौन-से समुद्र, कर्च जलसंधि से जुड़े हैं?

Options :

1. ✖ काला सागर और ऐजियन सागर
2. ✔ काला सागर और अजोव सागर
3. ✖ काला सागर और कैस्पियन सागर
4. ✖ भूमध्य सागर और लाल सागर

Question Number : 68 Question Id : 9983676484 Question Type : MCQ Option Shuffling : Yes
Correct Marks : 1 Wrong Marks : 0.25

Which of the following banks is fully owned by the Government of India?

Options :

1. ✓ India Post Payments Bank
2. ✗ State Bank of India
3. ✗ Industrial Development Bank of India
4. ✗ Federal Bank of India

Question Number : 68 Question Id : 9983676484 Question Type : MCQ Option Shuffling : Yes
Correct Marks : 1 Wrong Marks : 0.25

निम्नलिखित में से कौन सी बैंक, भारत सरकार के पूर्ण स्वामित्व में है?

Options :

1. ✓ इंडिया पोस्ट पेमेंट्स बैंक
2. ✗ भारतीय स्टेट बैंक
3. ✗ भारतीय औद्योगिक विकास बैंक (इंडस्ट्रियल डेवलपमेंट बैंक ऑफ इंडिया)
4. ✗ फेडरल बैंक ऑफ इंडिया

Question Number : 69 Question Id : 9983676485 Question Type : MCQ Option Shuffling : Yes
Correct Marks : 1 Wrong Marks : 0.25

Which of the following is NOT a fundamental right as per the Constitution of India?

Options :

1. ✗ Right to equality
2. ✗ Right against exploitation
3. ✗ Right to freedom of religion
4. ✓ Right to property

Question Number : 69 Question Id : 9983676485 Question Type : MCQ Option Shuffling : Yes
Correct Marks : 1 Wrong Marks : 0.25

निम्नलिखित में से कौन सा, भारत के संविधान के अनुसार एक मौलिक अधिकार नहीं है?

Options :

1. ✖ समानता का अधिकार
2. ✖ शोषण के विरुद्ध अधिकार
3. ✖ धार्मिक स्वतंत्रता का अधिकार
4. ✔ संपत्ति का अधिकार

Question Number : 70 Question Id : 9983676486 Question Type : MCQ Option Shuffling : Yes
Correct Marks : 1 Wrong Marks : 0.25

Which country launched the World's first Sovereign Blue bond in 2018?

Options :

1. ✖ New Zealand
2. ✔ Seychelles
3. ✖ France
4. ✖ Austria

Question Number : 70 Question Id : 9983676486 Question Type : MCQ Option Shuffling : Yes
Correct Marks : 1 Wrong Marks : 0.25

किस देश ने विश्व का प्रथम सोवरेन ब्ल्यू बांड 2018 में लांच किया?

Options :

1. ✖ न्यूजीलैंड
2. ✔ सेशेल्स
3. ✖ फ्रांस
4. ✖ ऑस्ट्रिया

Question Number : 71 Question Id : 9983676487 Question Type : MCQ Option Shuffling : Yes
Correct Marks : 1 Wrong Marks : 0.25

In human body, the enzyme named Pepsin is produced by:

Options :

1. ✖ salivary gland
2. ✔ gastric gland
3. ✖ pancreas
4. ✖ intestinal gland

Question Number : 71 Question Id : 9983676487 Question Type : MCQ Option Shuffling : Yes
Correct Marks : 1 Wrong Marks : 0.25

मानव शरीर में पेप्सिन एंजाइम _____ द्वारा उत्पन्न किया जाता है?

Options :

1. ✖ लार ग्रंथि
2. ✔ जठर ग्रंथि
3. ✖ अग्न्याशय
4. ✖ आंत ग्रंथि

Question Number : 72 Question Id : 9983676488 Question Type : MCQ Option Shuffling : Yes
Correct Marks : 1 Wrong Marks : 0.25

Haemoglobin is an important constituent of:

Options :

1. ✔ Red blood cells
2. ✖ White blood cells
3. ✖ Plasma
4. ✖ Platelets

Question Number : 72 Question Id : 9983676488 Question Type : MCQ Option Shuffling : Yes
Correct Marks : 1 Wrong Marks : 0.25

हीमोग्लोबिन _____ का एक महत्वपूर्ण निर्माणक है।

Options :

1. ✔ लाल रक्त कणिकाएं (RBC)
2. ✖ श्वेत रक्त कणिकाएं (WBC)

3. ✖ प्लाज्मा

4. ✖ प्लेटलेट्स

Question Number : 73 Question Id : 9983676489 Question Type : MCQ Option Shuffling : Yes

Correct Marks : 1 Wrong Marks : 0.25

Human beings occupy the _____ level in any food chain.

Options :

1. ✖ bottom

2. ✖ 2nd

3. ✖ 3rd

4. ✓ top

Question Number : 73 Question Id : 9983676489 Question Type : MCQ Option Shuffling : Yes

Correct Marks : 1 Wrong Marks : 0.25

मानव किसी खाद्य श्रृंखला में _____ स्तर ग्रहण करता है।

Options :

1. ✖ निचला

2. ✖ द्वितीय

3. ✖ तृतीय

4. ✓ शीर्ष

Question Number : 74 Question Id : 9983676490 Question Type : MCQ Option Shuffling : Yes

Correct Marks : 1 Wrong Marks : 0.25

In January 2018, _____ purchased the Indian government's 51.11% stake in Hindustan Petroleum Corporation (HPCL) for Rs. 36,915 crore.

Options :

1. ✖ IGL

2. ✓ ONGC

3. ✖ GAIL

4. ✖ NTPC

Question Number : 74 Question Id : 9983676490 Question Type : MCQ Option Shuffling : Yes
Correct Marks : 1 Wrong Marks : 0.25

जनवरी 2018 में, _____ ने हिंदुस्तान पेट्रोलियम कार्पोरेशन (एचपीसीएल) में भारत सरकार की 51.11% हिस्सेदारी रुपये 36,915 करोड़ में खरीदी।

Options :

1. ✖ आईजीएल
2. ✔ ओएनजीसी
3. ✖ गेल
4. ✖ एनटीपीसी

Question Number : 75 Question Id : 9983676491 Question Type : MCQ Option Shuffling : Yes
Correct Marks : 1 Wrong Marks : 0.25

Remove Debris Mission which aims to de-risk and verify technologies needed for future ADR (Active Debris Removal) missions, is a research project of:

Options :

1. ✔ European Union.
2. ✖ NASA, United States of America.
3. ✖ CNES, France.
4. ✖ Roscosmos, Russia.

Question Number : 75 Question Id : 9983676491 Question Type : MCQ Option Shuffling : Yes
Correct Marks : 1 Wrong Marks : 0.25

कचरा हटाने का मिशन, जो भावी एडीआर (एक्टिव डेब्रिस रिमूवल) मिशनों के लिए आवश्यक तकनीकों को जोखिम रहित और सत्यापित करने के लिए है, _____ की अनुसंधान परियोजना है।

Options :

1. ✔ यूरोपीय संघ

2. ✖ नासा, संयुक्त राज्य अमेरिका
3. ✖ सीएनईएस, फ्रांस
4. ✖ रोस्कोसमोस, रूस

Question Number : 76 Question Id : 9983676492 Question Type : MCQ Option Shuffling : Yes
Correct Marks : 1 Wrong Marks : 0.25

Hippocamp is the name of the newly discovered moon of:

Options :

1. ✖ Saturn
2. ✖ Mars
3. ✔ Neptune
4. ✖ Venus

Question Number : 76 Question Id : 9983676492 Question Type : MCQ Option Shuffling : Yes
Correct Marks : 1 Wrong Marks : 0.25

हिप्पोकैम्प, _____ के नए खोजे गए चंद्रमा का नाम है।

Options :

1. ✖ शनि
2. ✖ मंगल
3. ✔ वरुण
4. ✖ शुक्र

Question Number : 77 Question Id : 9983676493 Question Type : MCQ Option Shuffling : Yes
Correct Marks : 1 Wrong Marks : 0.25

Indian Institute of Technology (IIT), Banaras Hindu University (BHU) recently developed a Supercomputer of 833 teraflop capacity. The Supercomputer has been named as:

Options :

1. ✖ Param II
2. ✔ Param Shivay

3. ✖ Param Shakti

4. ✖ Param Yuva II

Question Number : 77 Question Id : 9983676493 Question Type : MCQ Option Shuffling : Yes
Correct Marks : 1 Wrong Marks : 0.25

भारतीय प्रौद्योगिकी संस्थान (IIT), बनारस हिंदू विश्वविद्यालय (BHU) ने हाल ही में 833 टेराफ्लॉप क्षमता का एक सुपरकम्प्यूटर विकसित किया है। इस सुपरकम्प्यूटर को _____ नाम दिया गया है।

Options :

1. ✖ परम II

2. ✔ परम शिवाय

3. ✖ परम शक्ति

4. ✖ परम युवा II

Question Number : 78 Question Id : 9983676494 Question Type : MCQ Option Shuffling : Yes
Correct Marks : 1 Wrong Marks : 0.25

संयुक्त राष्ट्र की एक विशिष्ट एजेंसी अंतर्राष्ट्रीय दूरसंचार संघ (ITU) का मुख्यालय _____ में स्थित है।

Options :

1. ✔ जिनेवा

2. ✖ ओंटारियो

3. ✖ मॉन्ट्रियल

4. ✖ न्यूयॉर्क

Question Number : 78 Question Id : 9983676494 Question Type : MCQ Option Shuffling : Yes
Correct Marks : 1 Wrong Marks : 0.25

The International Telecommunication Union (ITU), a specialized agency of the United Nations, is headquartered at:

Options :

1. ✔ Geneva

2. ✖ Ontario
3. ✖ Montreal
4. ✖ New York

Question Number : 79 Question Id : 9983676495 Question Type : MCQ Option Shuffling : Yes
Correct Marks : 1 Wrong Marks : 0.25

The Eastern Zonal Bench of National Green Tribunal is located at:

Options :

1. ✖ Assam
2. ✔ Kolkata
3. ✖ Bhubaneswar
4. ✖ Ranchi

Question Number : 79 Question Id : 9983676495 Question Type : MCQ Option Shuffling : Yes
Correct Marks : 1 Wrong Marks : 0.25

नेशनल ग्रीन ट्रिब्यूनल की पूर्वी क्षेत्रीय पीठ _____ में स्थित है।

Options :

1. ✖ असम
2. ✔ कोलकाता
3. ✖ भुवनेश्वर
4. ✖ रांची

Question Number : 80 Question Id : 9983676496 Question Type : MCQ Option Shuffling : Yes
Correct Marks : 1 Wrong Marks : 0.25

In which of the following places, the Centre for Disability Sports is proposed to be set up?

Options :

1. ✖ Imphal
2. ✖ Vadodara
3. ✔ Gwalior

4. ✖ Gandhinagar

Question Number : 80 Question Id : 9983676496 Question Type : MCQ Option Shuffling : Yes
Correct Marks : 1 Wrong Marks : 0.25

निम्नलिखित में से किस स्थान पर विकलांगता खेलकूद केंद्र स्थापित किया जाना प्रस्तावित है?

Options :

- 1. ✖ इंफाल
- 2. ✖ वड़ोदरा
- 3. ✔ ग्वालियर
- 4. ✖ गांधीनगर

Arithmetic Ability1

Group Number :	5
Group Id :	998367271
Group Maximum Duration :	0
Group Minimum Duration :	0
Show Attended Group? :	No
Edit Attended Group? :	No
Break time:	0
Group Marks:	20
Is this Group for Examiner?:	No
Revisit allowed for group Instructions? :	Yes
Maximum Instruction Time:	0
Minimum Instruction Time:	0

Arithmetic Ability1

Section Id :	998367277
Section Number :	1
Section type :	Online
Mandatory or Optional:	Mandatory
Number of Questions:	20
Number of Questions to be attempted:	20
Section Marks:	20

Sub-Section Number:	1
Sub-Section Id:	998367401

Question Shuffling Allowed :

Yes

Question Number : 81 Question Id : 9983676497 Question Type : MCQ Option Shuffling : Yes

Correct Marks : 1 Wrong Marks : 0.25

To fill a tank, 27 buckets of water are required. How many buckets of water will be required to fill the same tank if the capacity of the bucket is reduced to three-fourth of its present capacity?

Options :

1. ✓ 36

2. ✗ 32

3. ✗ 35

4. ✗ 33

Question Number : 81 Question Id : 9983676497 Question Type : MCQ Option Shuffling : Yes

Correct Marks : 1 Wrong Marks : 0.25

किसी टंकी को पूरा भरने के लिए 27 बाल्टी पानी की आवश्यकता होती है। यदि बाल्टी की क्षमता को उसकी वर्तमान क्षमता के तीन-चौथाई तक कम कर दिया जाए तो इसी टंकी को पूरा भरने के लिए पानी की कितनी बाल्टियों की आवश्यकता होगी?

Options :

1. ✓ 36

2. ✗ 32

3. ✗ 35

4. ✗ 33

Question Number : 82 Question Id : 9983676498 Question Type : MCQ Option Shuffling : Yes

Correct Marks : 1 Wrong Marks : 0.25

The price of 14 chairs is equal to that of 8 tables. The price of 21 chairs and 5 tables is ₹ 11,900. The total price of 12 chairs and 8 tables is:

Options :

1. ✖ ₹ 10,200

2. ✖ ₹ 11,400

3. ✔ ₹ 10,400

4. ✖ ₹ 12,400

Question Number : 82 Question Id : 9983676498 Question Type : MCQ Option Shuffling : Yes

Correct Marks : 1 Wrong Marks : 0.25

14 कुर्सियों की कीमत 8 टेबलों की कीमत के बराबर है। 21 कुर्सियों और 5 टेबलों की कीमत ₹ 11,900 है। 12 कुर्सियों और 8 टेबलों की कुल कीमत होगी:

Options :

1. ✖ ₹ 10,200

2. ✖ ₹ 11,400

3. ✔ ₹ 10,400

4. ✖ ₹ 12,400

Question Number : 83 Question Id : 9983676499 Question Type : MCQ Option Shuffling : Yes

Correct Marks : 1 Wrong Marks : 0.25

A and B aim for birds. A fires 7 shots to B's 5 but A kills only once in 3 shots while B kills once in 2 shots. When B missed 30 times, A has killed:

Options :

1. ✖ 26 birds

2. ✔ 28 birds

3. ✖ 25 birds

4. ✖ 30 birds

Question Number : 83 Question Id : 9983676499 Question Type : MCQ Option Shuffling : Yes

Correct Marks : 1 Wrong Marks : 0.25

A और B पक्षियों पर निशाना लगा रहे हैं। B के 5 निशाने लगाने तक A, 7 निशाने लगा लेता है लेकिन A के हर तीन निशानों में से केवल एक ही निशाना पक्षी को मार पाता है, वहीं B के हर दो निशानों में से एक पक्षी पर लगता है। ज्ञात करें कि जब B के 30 निशाने चूक चुके होंगे, तब तक A ने कितने पक्षियों को मार दिया होगा:

Options :

1. ✖ 26 पक्षी

2. ✔ 28 पक्षी

3. ✖ 25 पक्षी

4. ✖ 30 पक्षी

Question Number : 84 Question Id : 9983676500 Question Type : MCQ Option Shuffling : Yes

Correct Marks : 1 Wrong Marks : 0.25

If $3x + 7y = 255$ and $\frac{x-y}{y} = \frac{7}{3}$, then the value of $(2x - 5y)$ is:

Options :

1. ✖ 45

2. ✖ 52

3. ✖ 35

4. ✔ 25

Question Number : 84 Question Id : 9983676500 Question Type : MCQ Option Shuffling : Yes

Correct Marks : 1 Wrong Marks : 0.25

यदि $3x + 7y = 255$ और $\frac{x-y}{y} = \frac{7}{3}$, हो $(2x - 5y)$ तो का मान क्या होगा:

Options :

1. ✖ 45

2. ✖ 52

3. ✖ 35

4. ✔ 25



Question Number : 85 Question Id : 9983676501 Question Type : MCQ Option Shuffling : Yes

Correct Marks : 1 Wrong Marks : 0.25

अभिव्यक्ति $(23.68 \times 23.68 + 23.68y + 1.04 \times 1.04)$ एक पूर्ण वर्ग होगी यदि y निम्नलिखित बराबर है:

Options :

1. ✔ 2.08

2. ✖ 1.08

3. ✖ 2.04

4. ✖ 3.08

Question Number : 85 Question Id : 9983676501 Question Type : MCQ Option Shuffling : Yes

Correct Marks : 1 Wrong Marks : 0.25

The expression $(23.68 \times 23.68 + 23.68y + 1.04 \times 1.04)$ will be a perfect square if y is equal to:

Options :

1. ✔ 2.08

2. ✖ 1.08

3. ✖ 2.04

4. ✖ 3.08

Question Number : 86 Question Id : 9983676502 Question Type : MCQ Option Shuffling : Yes

Correct Marks : 1 Wrong Marks : 0.25

If the difference between two positive numbers is 7 and their product is 23.75, find the smaller number.

Options :

1. ✖ 3.5

2. ✔ 2.5

3. ✖ 9.5

4. ✖ 4.5

Question Number : 86 Question Id : 9983676502 Question Type : MCQ Option Shuffling : Yes

Correct Marks : 1 Wrong Marks : 0.25

यदि दो धनात्मक संख्याओं का अंतर 7 है और उनका गुणनफल 23.75 है, तो इनमे से छोटी संख्या ज्ञात कीजिए।

Options :

1. ✖ 3.5

2. ✔ 2.5

3. ✖ 9.5

4. ✖ 4.5

Question Number : 87 Question Id : 9983676503 Question Type : MCQ Option Shuffling : Yes

Correct Marks : 1 Wrong Marks : 0.25

If $7.9x = 3.16y$, then the value of $\frac{2y - 3x}{3y + 2x}$ is:

Options :

1. ✖ 0.2510

2. ✖ 0.3105

3. ✔ 0.2105

4. ✖ 0.3510

Question Number : 87 Question Id : 9983676503 Question Type : MCQ Option Shuffling : Yes

Correct Marks : 1 Wrong Marks : 0.25

यदि $7.9x = 3.16y$ है, तो $\frac{2y - 3x}{3y + 2x}$ का मान ज्ञात करें:

Options :

1. ✖ 0.2510

2. ✖ 0.3105

3. ✔ 0.2105

4. ✖ 0.3510

Question Number : 88 Question Id : 9983676504 Question Type : MCQ Option Shuffling : Yes

Correct Marks : 1 Wrong Marks : 0.25

The value of $\frac{2}{35} + \frac{2}{63} + \frac{2}{99} + \frac{2}{143} + \frac{2}{195} =$ _____.

Options :

1. ✔ $\frac{2}{15}$

2. ✖ $\frac{2}{5}$

3. ✖ $\frac{4}{15}$

4. ✖ $\frac{7}{15}$

Question Number : 88 Question Id : 9983676504 Question Type : MCQ Option Shuffling : Yes

Correct Marks : 1 Wrong Marks : 0.25

$\frac{2}{35} + \frac{2}{63} + \frac{2}{99} + \frac{2}{143} + \frac{2}{195}$ का मान = _____।

Options :

1. ✓ $\frac{2}{15}$

2. ✗ $\frac{2}{5}$

3. ✗ $\frac{4}{15}$

4. ✗ $\frac{7}{15}$

Question Number : 89 Question Id : 9983676505 Question Type : MCQ Option Shuffling : Yes
Correct Marks : 1 Wrong Marks : 0.25

The value $\frac{7}{8}$ of a number exceeds $\frac{3}{7}$ of that number by 75. What is the number?

Options :

1. ✗ 286

2. ✗ 268

3. ✗ 186

4. ✓ 168

Question Number : 89 Question Id : 9983676505 Question Type : MCQ Option Shuffling : Yes
Correct Marks : 1 Wrong Marks : 0.25

किसी संख्या का $\frac{7}{8}$ उस संख्या के $\frac{3}{7}$ से 75 अधिक है। वह संख्या है?

Options :

1. ✖ 286

2. ✖ 268

3. ✖ 186

4. ✔ 168

Question Number : 90 Question Id : 9983676506 Question Type : MCQ Option Shuffling : Yes

Correct Marks : 1 Wrong Marks : 0.25

A man divided a piece of land among his three sons. He gave $25\frac{1}{4}$ sq km to the first and $\frac{3}{8}$ of the whole to the second. To the third son, he gave as much as land as he gave the first two together. The share of the third son is _____.

Options :

1. ✖ 112 sq km

2. ✖ 110 sq km

3. ✔ 101 sq km

4. ✖ 202 sq km

Question Number : 90 Question Id : 9983676506 Question Type : MCQ Option Shuffling : Yes

Correct Marks : 1 Wrong Marks : 0.25

एक आदमी ने अपनी जमीन का बंटवारा अपने तीनों बेटों में कर दिया। उसने पहले बेटे को $25\frac{1}{4}$ sq km जमीन और दूसरे बेटे को कुल जमीन का $\frac{3}{8}$ हिस्सा दिया। तीसरे बेटे को उसने पहले दो बेटों को दी गई कुल जमीन के बराबर जमीन दी। तीसरे बेटे का हिस्सा _____ है।

Options :

1. ✖ 112 sq km

2. ✖ 110 sq km

3. ✔ 101 sq km

4. ✖ 202 sq km

Question Number : 91 Question Id : 9983676507 Question Type : MCQ Option Shuffling : Yes

Correct Marks : 1 Wrong Marks : 0.25

What will be the least number which when doubled will be exactly divisible by 14, 18, 24 and 32?

Options :

1. ✔ 1008

2. ✖ 1018

3. ✖ 1080

4. ✖ 1028

Question Number : 91 Question Id : 9983676507 Question Type : MCQ Option Shuffling : Yes

Correct Marks : 1 Wrong Marks : 0.25

वह छोटी से छोटी संख्या कौन सी होगी जिसे दोगुना किए जाने पर वह 14, 18, 24 और 32 से पूर्ण विभाज्य हो जाएगी?

Options :

1. ✔ 1008

2. ✖ 1018

3. ✖ 1080

4. ✖ 1028

Question Number : 92 Question Id : 9983676508 Question Type : MCQ Option Shuffling : Yes

Correct Marks : 1 Wrong Marks : 0.25

Three co-prime numbers are such that the product of the first two is 527 and that of the last two is 1147. The sum of the three numbers is:

Options :

1. ✖ 75

2. ✔ 85

3. ✖ 58

4. ✖ 68



Question Number : 92 Question Id : 9983676508 Question Type : MCQ Option Shuffling : Yes

Correct Marks : 1 Wrong Marks : 0.25

तीन सह-अभाज्य संख्याएं ऐसी हैं, जिनमें से पहली दो का गुणनफल 527 है और अंतिम दो का गुणनफल 1147 है। तीनों संख्याओं का योग है:

Options :

1. ✖ 75

2. ✔ 85

3. ✖ 58

4. ✖ 68

Question Number : 93 Question Id : 9983676509 Question Type : MCQ Option Shuffling : Yes

Correct Marks : 1 Wrong Marks : 0.25

The product of two numbers is 6348 and their HCF is 23. How many such pairs of numbers can be formed?

Options :

1. ✖ 1

2. ✔ 2

3. ✖ 3

4. ✖ 4

Question Number : 93 Question Id : 9983676509 Question Type : MCQ Option Shuffling : Yes

Correct Marks : 1 Wrong Marks : 0.25

दो संख्याओं का गुणनफल 6348 है और इनका महत्तम समापवर्तक (म.स.) 23 है। ऐसी संख्याओं के कितने जोड़े बनाए जा सकते हैं?

Options :

1. ✖ 1

2. ✔ 2

3. ✖ 3

4. ✖ 4

Question Number : 94 Question Id : 9983676510 Question Type : MCQ Option Shuffling : Yes

Correct Marks : 1 Wrong Marks : 0.25

Three numbers are in the ratio $\frac{1}{5} : \frac{3}{10} : \frac{4}{5}$. The difference between the greatest and smallest number is 96. The sum of the numbers is:

Options :

1. ✔ 208

2. ✖ 218

3. ✖ 228

4. ✖ 308

Question Number : 94 Question Id : 9983676510 Question Type : MCQ Option Shuffling : Yes

Correct Marks : 1 Wrong Marks : 0.25

तीन संख्याएं $\frac{1}{5} : \frac{3}{10} : \frac{4}{5}$ के अनुपात में हैं। इनमें सबसे बड़ी और सबसे छोटी संख्या के बीच का अंतर 96 है। इन संख्याओं का योग है:

Options :

1. ✔ 208

2. ✖ 218

3. ✖ 228

4. ✖ 308

Question Number : 95 Question Id : 9983676511 Question Type : MCQ Option Shuffling : Yes
Correct Marks : 1 Wrong Marks : 0.25

If 40% of a number A is subtracted from another number B, then the resultant is equal to $\frac{2}{5}$ of the second number B. The ratio A : B is:

Options :

1. ✖ 3 : 4

2. ✔ 3 : 2

3. ✖ 2 : 3

4. ✖ 4 : 3

Question Number : 95 Question Id : 9983676511 Question Type : MCQ Option Shuffling : Yes
Correct Marks : 1 Wrong Marks : 0.25

यदि संख्या A का 40% किसी अन्य संख्या B में से घटाया जाता है, तो परिणाम दूसरी संख्या B के $\frac{2}{5}$ के बराबर होता है। A : B है:

Options :

1. ✖ 3 : 4

2. ✔ 3 : 2

3. ✖ 2 : 3

4. ✖ 4 : 3

Question Number : 96 Question Id : 9983676512 Question Type : MCQ Option Shuffling : Yes
Correct Marks : 1 Wrong Marks : 0.25

If 20% of a number is subtracted from $\frac{3}{5}$ of that number, we get 2400. What will 70% of that number be?

Options :

1. ✓ 4200

2. ✗ 4400

3. ✗ 3200

4. ✗ 4600

Question Number : 96 Question Id : 9983676512 Question Type : MCQ Option Shuffling : Yes

Correct Marks : 1 Wrong Marks : 0.25

किसी संख्या के 20% को इस संख्या के $\frac{3}{5}$ में से घटाने पर परिणाम 2400 प्राप्त होता है। इस संख्या का 70% क्या होगा?

Options :

1. ✓ 4200

2. ✗ 4400

3. ✗ 3200

4. ✗ 4600

Question Number : 97 Question Id : 9983676513 Question Type : MCQ Option Shuffling : Yes

Correct Marks : 1 Wrong Marks : 0.25

When the numerator and denominator of a fraction are increased by 50% and 100% respectively, it becomes $\frac{48}{90}$. Find the original fraction.

Options :

1. ✗ $\frac{32}{43}$

2. ✓ $\frac{32}{45}$

3. ✗ $\frac{22}{45}$

4. ✗ $\frac{13}{25}$

Question Number : 97 Question Id : 9983676513 Question Type : MCQ Option Shuffling : Yes

Correct Marks : 1 Wrong Marks : 0.25

जब किसी भिन्न के अंश और हर को क्रमशः 50% और 100% बढ़ा दिया जाता है, तो यह भिन्न $\frac{48}{90}$ हो जाती है। मूल भिन्न ज्ञात कीजिए।

Options :

1. ✗ $\frac{32}{43}$

2. ✓ $\frac{32}{45}$

3. ✗ $\frac{22}{45}$

4. ✗ $\frac{13}{25}$

Question Number : 98 Question Id : 9983676514 Question Type : MCQ Option Shuffling : Yes

Correct Marks : 1 Wrong Marks : 0.25

In an election, the winning candidate got 60% of total votes polled and won the election by 8000 votes. The total votes polled were:

Options :

1. ✗ 45000

2. ✖ 42000

3. ✔ 40000

4. ✖ 44000

Question Number : 98 Question Id : 9983676514 Question Type : MCQ Option Shuffling : Yes

Correct Marks : 1 Wrong Marks : 0.25

एक चुनाव में, जीतने वाले उम्मीदवार को कुल मतों का 60% हिस्सा मिला और वह 8000 मतों से चुनाव जीत गया। मतदान प्रक्रिया में डाले गए कुल मतों की संख्या थी:

Options :

1. ✖ 45000

2. ✖ 42000

3. ✔ 40000

4. ✖ 44000



Question Number : 99 Question Id : 9983676515 Question Type : MCQ Option Shuffling : Yes

Correct Marks : 1 Wrong Marks : 0.25

The mean of five observations m , $m + 5$, $m + 10$, $m + 15$ and $m + 20$ is 20. The mean of the first four observations is:

Options :

1. ✖ 15.5

2. ✖ 16.5

3. ✖ 16

4. ✔ 17.5

Question Number : 99 Question Id : 9983676515 Question Type : MCQ Option Shuffling : Yes

Correct Marks : 1 Wrong Marks : 0.25

पांच प्रेक्षकों m , $m + 5$, $m + 10$, $m + 15$ और $m + 20$ का माध्य 20 है। पहले चार प्रेक्षकों का माध्य ज्ञात करें:

Options :

1. ✖ 15.5

2. ✖ 16.5

3. ✖ 16

4. ✔ 17.5

Question Number : 100 Question Id : 9983676516 Question Type : MCQ Option Shuffling : Yes

Correct Marks : 1 Wrong Marks : 0.25

A cyclist travels 140 m, 160 m, 160 m, 150 m and 90 m in five successive minutes and for the next ten minutes maintains the average speed of 12 km/h. Find the average speed of the cyclist (in m/sec).

Options :

1. ✔ 3 m/sec

2. ✖ 5 m/sec

3. ✖ 4 m/sec

4. ✖ 4.5 m/sec

Question Number : 100 Question Id : 9983676516 Question Type : MCQ Option Shuffling : Yes
Correct Marks : 1 Wrong Marks : 0.25

एक साइकिल चालक पांच अनुक्रमिक मिनटों में क्रमशः 140 m, 160 m, 160 m, 150 m और 90 m की दूरी तय करता है और अगले दस मिनट के लिए 12 km/h की औसत गति से चलता रहता है। साइकिल सवार की औसत गति की गणना करें (m/sec में)।

Options :

1. ✔ 3 m/sec

2. ✖ 5 m/sec

3. ✖ 4 m/sec

4. ✖ 4.5 m/sec



Group Number :	6
Group Id :	998367272
Group Maximum Duration :	0
Group Minimum Duration :	0
Show Attended Group? :	No
Edit Attended Group? :	No
Break time:	0
Group Marks:	20
Is this Group for Examiner?:	No
Revisit allowed for group Instructions? :	Yes
Maximum Instruction Time:	0
Minimum Instruction Time:	0

Arithmetic Ability2

Section Id : 998367278

Section Number :	1
Section type :	Online
Mandatory or Optional:	Mandatory
Number of Questions:	20
Number of Questions to be attempted:	20
Section Marks:	20

Sub-Section Number:	1
Sub-Section Id:	998367402
Question Shuffling Allowed :	Yes

Question Number : 101 Question Id : 9983676517 Question Type : MCQ Option Shuffling : Yes

Correct Marks : 1 Wrong Marks : 0.25

Anita sold an article to Belicia at 10% gain. Belicia sold the same article to Caitlin at 20% gain and Caitlin sold it to Dana at 15% gain. If Dana paid ₹ 15,180 for the article, how much did Anita pay for it?

Options :

1. ✖ ₹ 12,000

2. ✖ ₹ 9,000

3. ✖ ₹ 10,500

4. ✔ ₹ 10,000



Question Number : 101 Question Id : 9983676517 Question Type : MCQ Option Shuffling : Yes

Correct Marks : 1 Wrong Marks : 0.25

अनीता ने किसी वस्तु को 10% का लाभ लेकर बेलिसिया को बेच दिया। बेलिसिया ने उसी वस्तु को केटलीन को 20% लाभ पर बेचा और केटलीन ने इसे दाना को 15% लाभ पर बेचा। यदि दाना ने इस वस्तु के लिए ₹ 15,180 का भुगतान किया, तो अनीता ने इसके लिए कितना भुगतान किया था?

Options :

1. ✖ ₹ 12,000

2. ✖ ₹ 9,000

3. ✖ ₹ 10,500

4. ✔ ₹ 10,000

Question Number : 102 Question Id : 9983676518 Question Type : MCQ Option Shuffling : Yes

Correct Marks : 1 Wrong Marks : 0.25

A shopkeeper sold two TV sets for ₹ 12,000 each. On one, he makes a profit of 20% and on the other, he incurs a loss of 20%. Find the shopkeeper's profit percentage or loss percentage in the whole transaction.

Options :

1. ✔ 4% loss

2. ✖ 4% profit

3. ✖ 3% profit

4. ✖ 3% loss

Question Number : 102 Question Id : 9983676518 Question Type : MCQ Option Shuffling : Yes

Correct Marks : 1 Wrong Marks : 0.25

एक दुकानदार ने दो टीवी सेट प्रति सेट ₹ 12,000 की कीमत पर बेचे। इनमें से एक पर उसने 20% का लाभ कमाया जबकि दूसरे पर 20% की हानि रही। पूरे लेन-देन में दुकानदार के लाभ प्रतिशत या हानि प्रतिशत की गणना करें।

Options :

1. ✔ 4% हानि

2. ✖ 4% लाभ

3. ✖ 3% लाभ

4. ✖ 3% हानि

Question Number : 103 Question Id : 9983676519 Question Type : MCQ Option Shuffling : Yes

Correct Marks : 1 Wrong Marks : 0.25

A man sold 150 oranges at ₹ 1 per piece and incurs a loss of 20%. How many oranges must he sell for ₹ 7 to make a profit of 40%.

Options :

1. ✔ 4

2. ✖ 5

3. ✖ 6

4. ✖ 8

Question Number : 103 Question Id : 9983676519 Question Type : MCQ Option Shuffling : Yes

Correct Marks : 1 Wrong Marks : 0.25

एक आदमी ने 150 संतरे ₹ 1 प्रति संतरा की दर पर बेचे और 20% का नुकसान उठाया। 40% का लाभ कमाने के लिए उसे ₹ 7 में कितने संतरे बेचने चाहिए।

Options :

1. ✔ 4

2. ✖ 5

3. ✖ 6

4. ✖ 8

Question Number : 104 Question Id : 9983676520 Question Type : MCQ Option Shuffling : Yes

Correct Marks : 1 Wrong Marks : 0.25

The list price of a book is ₹ 840. It is sold at 15% discount. Further, it is sold for ₹ 678.30 after allowing one more discount. Find the rate of the second discount.

Options :

1. ✖ 4%

2. ✖ 3%

3. ✔ 5%

4. ✖ 6%

Question Number : 104 Question Id : 9983676520 Question Type : MCQ Option Shuffling : Yes

Correct Marks : 1 Wrong Marks : 0.25

एक पुस्तक का अंकित मूल्य ₹ 840 है। इसे 15% छूट पर बेचा जाता है। आगे इस पर एक बार फिर से एक छूट दी जाती है और इसे ₹ 678.30 में बेचा जाता है। दूसरी छूट की दर ज्ञात कीजिए।

Options :

1. ✖ 4%

2. ✖ 3%

3. ✔ 5%

4. ✖ 6%

Question Number : 105 Question Id : 9983676521 Question Type : MCQ Option Shuffling : Yes

Correct Marks : 1 Wrong Marks : 0.25

A man sold an article for ₹ 5760 after allowing two discounts 10% and 20% on its marked price. He incurs a loss of 10%. Find the difference between the marked price and the cost price.

Options :

1. ✓ ₹ 1600

2. ✗ ₹ 1500

3. ✗ ₹ 2600

4. ✗ ₹ 1800

Question Number : 105 Question Id : 9983676521 Question Type : MCQ Option Shuffling : Yes

Correct Marks : 1 Wrong Marks : 0.25

एक व्यक्ति ने किसी वस्तु को उसके अंकित मूल्य पर 10% और 20% की दो छूटों के बाद ₹ 5760 में बेचा। इस सौदे में उसे 10% की हानि हुई। अंकित मूल्य और लागत मूल्य के बीच का अंतर ज्ञात करें।

Options :

1. ✓ ₹ 1600

2. ✗ ₹ 1500

3. ✗ ₹ 2600

4. ✗ ₹ 1800

Question Number : 106 Question Id : 9983676522 Question Type : MCQ Option Shuffling : Yes

Correct Marks : 1 Wrong Marks : 0.25

A man invested ₹ 10,000 at some rate on simple interest and ₹ 8,000 at 2% higher rate of interest than the previous one. If the interest in both cases is same after four years, find the rate of interest.

Options :

1. ✗ 6%

2. ✖ 10%

3. ✖ 9%

4. ✔ 8%

Question Number : 106 Question Id : 9983676522 Question Type : MCQ Option Shuffling : Yes

Correct Marks : 1 Wrong Marks : 0.25

एक व्यक्ति ने किसी साधारण ब्याज दर पर ₹ 10,000 और उस दर से 2% उच्च दर पर ₹ 8,000 का निवेश किया। चार साल बाद दोनों निवेशों से मिले ब्याज की रकम एक समान है, तो ब्याज की दर ज्ञात करें।

Options :

1. ✖ 6%

2. ✖ 10%

3. ✖ 9%

4. ✔ 8%



Question Number : 107 Question Id : 9983676523 Question Type : MCQ Option Shuffling : Yes

Correct Marks : 1 Wrong Marks : 0.25

Arvind divided his savings between his daughters Kothai and Urmila in such a way that the interest received by Kothai at 10% p.a. on simple interest for four years was double the interest received by Urmila at 8% p.a. for six years. Find the ratio in which the amount was divided.

Options :

1. ✖ 5 : 12

2. ✔ 12 : 5

3. ✖ 6 : 11

4. ✖ 11 : 6

Question Number : 107 Question Id : 9983676523 Question Type : MCQ Option Shuffling : Yes

Correct Marks : 1 Wrong Marks : 0.25

अरविंद ने अपनी बेटियों कोथई और उर्मिला के बीच अपनी बचत को इस तरह से विभाजित किया कि 10% प्रतिवर्ष की साधारण ब्याज दर पर चार साल में कोथई को मिलने वाला ब्याज 8% प्रतिवर्ष की दर से उर्मिला को छह साल में मिलने वाले ब्याज से दुगुना था। यह राशि किस अनुपात में विभाजित की गई थी।

Options :

1. ✖ 5 : 12

2. ✔ 12 : 5

3. ✖ 6 : 11

4. ✖ 11 : 6



Question Number : 108 Question Id : 9983676524 Question Type : MCQ Option Shuffling : Yes

Correct Marks : 1 Wrong Marks : 0.25

माया ने साधारण ब्याज पर पहले तीन वर्षों के लिए 10% प्रतिवर्ष, अगले पांच वर्षों के लिए 12% प्रतिवर्ष और अगले दो वर्षों के लिए 15% प्रतिवर्ष की दर से कुछ धनराशि उधार ली। यदि 10 वर्षों के अंत में उसके द्वारा चुकाया गया कुल ब्याज ₹ 36,000 था, तो उसने कितना उधार लिया था?

Options :

1. ✔ ₹ 30,000

2. ✖ ₹ 35,000

3. ✖ ₹ 40,000

4. ✖ ₹ 36,000

Question Number : 108 Question Id : 9983676524 Question Type : MCQ Option Shuffling : Yes

Correct Marks : 1 Wrong Marks : 0.25

Maya borrowed some money at 10% p.a. on simple interest for the first three years, 12% p.a. for the next five years and 15% p.a. for the next two years. If the total interest paid by her at the end of 10 years is ₹ 36,000, then how much did she borrow?

Options :

1. ✔ ₹ 30,000

2. ✖ ₹ 35,000

3. ✖ ₹ 40,000

4. ✖ ₹ 36,000

Question Number : 109 Question Id : 9983676525 Question Type : MCQ Option Shuffling : Yes

Correct Marks : 1 Wrong Marks : 0.25

The compound interest on a certain sum of money at 10% p.a. for two years is ₹ 2100. For how many years should the same amount be invested on simple interest at 6% p.a. to get the same interest?

Options :

1. ✔ 3 years 6 months

2. ✖ 3 years

3. ✖ 4 years 5 months

4. ✖ 3 years 8 months

Question Number : 109 Question Id : 9983676525 Question Type : MCQ Option Shuffling : Yes

Correct Marks : 1 Wrong Marks : 0.25

10% प्रतिवर्ष की दर से किसी निश्चित राशि पर दो वर्षों में ₹ 2100 चक्रवृद्धि ब्याज बनता है। समान ब्याज पाने के लिए समान राशि को 6% प्रतिवर्ष की दर से साधारण ब्याज पर कितने वर्षों के लिए निवेशित करना होगा?

Options :

1. ✔ 3 साल 6 महीने

2. ✖ 3 साल

3. ✖ 4 साल 5 महीने

4. ✖ 3 साल 8 महीने

Question Number : 110 Question Id : 9983676526 Question Type : MCQ Option Shuffling : Yes

Correct Marks : 1 Wrong Marks : 0.25

A certain sum of money is invested on simple interest at 10% p.a. for three years and at 20% p.a. for two years on compound interest. Find the ratio of simple interest to compound interest.

Options :

1. ✖ 22 : 15

2. ✔ 15 : 22

3. ✖ 13 : 20

4. ✖ 20 : 13

Question Number : 110 Question Id : 9983676526 Question Type : MCQ Option Shuffling : Yes

Correct Marks : 1 Wrong Marks : 0.25

एक निश्चित धनराशि को साधारण ब्याज पर तीन वर्षों के लिए 10% प्रति वर्ष और चक्रवृद्धि ब्याज पर दो वर्षों के लिए 20% प्रति वर्ष की दर पर निवेश किया जाता है। साधारण ब्याज का चक्रवृद्धि ब्याज से अनुपात ज्ञात कीजिए।

Options :

1. ✖ 22 : 15

2. ✔ 15 : 22

3. ✖ 13 : 20

4. ✖ 20 : 13

Question Number : 111 Question Id : 9983676527 Question Type : MCQ Option Shuffling : Yes

Correct Marks : 1 Wrong Marks : 0.25

A canteen in an IT company has a large cylindrical vessel of base radius 21 cm. The vessel holds orange juice that is filled up to a height of 48 cm. The juice is served in a cylindrical glass whose radius is 3 cm and height is 8 cm. Each glass is sold for ₹ 20. How much was all the orange juice sold for?

Options :

1. ✖ ₹ 5780

2. ✖ ₹ 5680

3. ✔ ₹ 5880

4. ✖ ₹ 8580

Question Number : 111 Question Id : 9983676527 Question Type : MCQ Option Shuffling : Yes

Correct Marks : 1 Wrong Marks : 0.25

एक आईटी कंपनी की कैंटीन में आधार त्रिज्या 21 cm का एक बड़ा बेलनाकार पात्र रखा है। इस पात्र में संतरे का रस रखा जाता है जिसे 48 cm की ऊंचाई तक भरा जाता है। इस रस को एक बेलनाकार गिलास में परोसा जाता है जिसकी त्रिज्या 3 cm और ऊंचाई 8 cm है। रस का प्रत्येक गिलास ₹ 20 में बेचा जाता है। संतरे का सारा रस कितने में बेचा गया?

Options :

1. ✖ ₹ 5780

2. ✖ ₹ 5680

3. ✔ ₹ 5880

4. ✖ ₹ 8580

Question Number : 112 Question Id : 9983676528 Question Type : MCQ Option Shuffling : Yes

Correct Marks : 1 Wrong Marks : 0.25

The length of a hall is $\frac{3}{5}$ of its height and its breadth is $\frac{2}{3}$ of its length. The cost of whitewashing the four walls at the rate of ₹ 11 per sq m is ₹ 4950. Find the cost of polishing the floor at the rate of ₹ 10 per sq m.

Options :

1. ✖ ₹ 450

2. ✔ ₹ 540

3. ✖ ₹ 520

4. ✖ ₹ 560

Question Number : 112 Question Id : 9983676528 Question Type : MCQ Option Shuffling : Yes

Correct Marks : 1 Wrong Marks : 0.25

एक हॉल की लंबाई इसकी उंचाई की $\frac{3}{5}$ और इसकी चौड़ाई इसकी लंबाई की $\frac{2}{3}$ है। ₹ 11 प्रति वर्ग मीटर की दर से चारदीवारी पर सफेदी करने की लागत ₹ 4950 है। ₹ 10 प्रति वर्ग मीटर की दर से फर्श को पॉलिश करने की लागत ज्ञात कीजिए।

Options :

1. ✖ ₹ 450

2. ✔ ₹ 540

3. ✖ ₹ 520

4. ✖ ₹ 560

Question Number : 113 Question Id : 9983676529 Question Type : MCQ Option Shuffling : Yes

Correct Marks : 1 Wrong Marks : 0.25

The base of a triangular field is five times of its altitude. The cost of cultivating the field at the rate of ₹ 12 per hectare is ₹ 480. Find its height.

Options :

1. ✔ 400 m

2. ✖ 420 m

3. ✖ 300 m

4. ✖ 350 m

Question Number : 113 Question Id : 9983676529 Question Type : MCQ Option Shuffling : Yes

Correct Marks : 1 Wrong Marks : 0.25

एक त्रिभुजाकार खेत का आधार इसकी उंचाई का पांच गुना है। ₹ 12 प्रति हेक्टेयर की दर से इस खेत को जोतने की कुल लागत ₹ 480 है। इसकी उंचाई ज्ञात कीजिए।

Options :

1. ✓ 400 m

2. ✗ 420 m

3. ✗ 300 m

4. ✗ 350 m

Question Number : 114 Question Id : 9983676530 Question Type : MCQ Option Shuffling : Yes

Correct Marks : 1 Wrong Marks : 0.25

Anubhav can complete a piece of work in 20 days and Bhavna can do the same work in 15 days. Anubhav and Bhavna worked together for five days and the rest of the work was done by Chitra in two days. If Anubhav and Bhavna received a salary of ₹ 780, what was Chitra's share?

Note: For this question, discrepancy is found in question/answer. So, this question is ignored for all candidates.

Options :

1. ₹ 550

2. ₹ 580

3. ₹ 500

4. ₹ 450

Question Number : 114 Question Id : 9983676530 Question Type : MCQ Option Shuffling : Yes

Correct Marks : 1 Wrong Marks : 0.25

अनुभव किसी काम को 20 दिनों में पूरा कर सकता है और भावना वही काम 15 दिनों में कर सकती है। अनुभव और भावना ने पांच दिनों तक एक साथ काम किया और बाकी का काम चित्रा ने दो दिनों में किया। अगर अनुभव और भावना को इसके लिए ₹ 780 का वेतन मिला तो चित्रा के हिस्से की गणना कीजिए?

Note: For this question, discrepancy is found in question/answer. So, this question is ignored for all candidates.

Options :

1. ₹ 550

2. ₹ 580

3. ₹ 500

4. ₹ 450

Question Number : 115 Question Id : 9983676531 Question Type : MCQ Option Shuffling : Yes

Correct Marks : 1 Wrong Marks : 0.25

Arjuna does $\frac{1}{3}$ of a work in a week. Bhola finishes the entire work in a fortnight. Bhola starts the work and works only for five days. Thereafter, Arjuna completes the job. How long did Arjuna take to finish the job?

Options :

1. ✗ 15 days

2. ✗ 13 days

3. ✗ 12 days

4. ✓ 14 days

Question Number : 115 Question Id : 9983676531 Question Type : MCQ Option Shuffling : Yes

Correct Marks : 1 Wrong Marks : 0.25

अर्जुन एक काम के $\frac{1}{3}$ को एक सप्ताह में कर देता है। भोला को इस काम को पूरा करने में एक पखवाड़ा लग जाता है। भोला काम शुरू करता है और केवल पांच दिनों के लिए काम करता है। इसके बाद, अर्जुन काम पूरा करता है। अर्जुन को काम खत्म करने में कितना समय लगा?

Options :

1. ✖ 15 दिन

2. ✖ 13 दिन

3. ✖ 12 दिन

4. ✔ 14 दिन

Question Number : 116 Question Id : 9983676532 Question Type : MCQ Option Shuffling : Yes

Correct Marks : 1 Wrong Marks : 0.25

A 350 m long train crossed a 750 m long platform in 45 seconds. Find the speed of the train.

Options :

1. ✔ 88 km/h

2. ✖ 80 km/h

3. ✖ 85 km/h

4. ✖ 90 km/h

Question Number : 116 Question Id : 9983676532 Question Type : MCQ Option Shuffling : Yes

Correct Marks : 1 Wrong Marks : 0.25

350 m लंबी ट्रेन ने 45 सेकंड में 750 m लंबा प्लेटफार्म पार किया। ट्रेन की गति ज्ञात कीजिये।

Options :

1. ✔ 88 km/h

2. ✖ 80 km/h

3. ✖ 85 km/h

4. ✖ 90 km/h

Question Number : 117 Question Id : 9983676533 Question Type : MCQ Option Shuffling : Yes

Correct Marks : 1 Wrong Marks : 0.25

Two places A and B are 160 km apart. One car starts from A and another car starts from B at the same time. If they travel in the same direction, they meet in four hours. If they travel in the opposite direction, they will meet in two hours. What will be the speed of the car that starts from A?

Options :

1. ✖ 80 km/h

2. ✔ 60 km/h

3. ✖ 20 km/h

4. ✖ 70 km/h

Question Number : 117 Question Id : 9983676533 Question Type : MCQ Option Shuffling : Yes

Correct Marks : 1 Wrong Marks : 0.25

दो स्थान A और B 160 km की दूरी पर स्थित हैं। एक कार A से चलना शुरू होती है और उसी समय पर दूसरी कार B से चलना शुरू होती है। यदि वे एक ही दिशा में चलती हैं, तो वे चार घंटे में आपस में मिलेंगी। यदि वे विपरीत दिशा में चलेंगे, तो वे दो घंटे में आपस में मिलेंगी। A से शुरू होने वाली कार की गति क्या होगी?

Options :

1. ✖ 80 km/h

2. ✓ 60 km/h

3. ✗ 20 km/h

4. ✗ 70 km/h

Question Number : 118 Question Id : 9983676534 Question Type : MCQ Option Shuffling : Yes

Correct Marks : 1 Wrong Marks : 0.25

Hari drove his car at a speed of 60 km/h and reached his destination in five hours. Sunil covered the same distance in four hours. If Hari increases his speed by 40 km/h and Sunil decreases his speed by 15 km/h, what will be the difference in time taken by them to reach the destination?

Options :

1. ✓ 2 hours

2. ✗ 3 hours

3. ✗ $2\frac{1}{2}$ hours

4. ✗ $3\frac{1}{2}$ hours



Question Number : 118 Question Id : 9983676534 Question Type : MCQ Option Shuffling : Yes

Correct Marks : 1 Wrong Marks : 0.25

हरि ने अपनी कार 60 km/h की गति से चलाई और पांच घंटे में अपने गंतव्य तक पहुंच गया। सुनील ने यही दूरी चार घंटे में तय कर ली। अगर हरि अपनी गति को 40 km/h बढ़ाता है और सुनील अपनी गति को 15 km/h घटाता है, तो गंतव्य तक पहुंचने में उनको लगने वाले समय में कितना अंतर होगा?

Options :

1. ✓ 2 घंटे

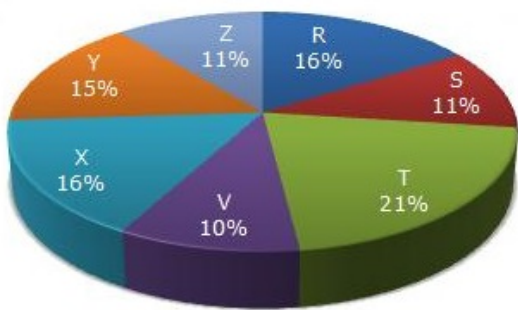
2. ✖ 3 घंटे

3. ✖ 2½ घंटे

4. ✖ 3½ घंटे

Question Number : 119 Question Id : 9983676535 Question Type : MCQ Option Shuffling : Yes
Correct Marks : 1 Wrong Marks : 0.25
Study the following pie chart and the table and answer the questions based on them.

Proportion of Population of Seven Villages in 2002



Village	% Population Below Poverty Line
X	38
Y	52
Z	42
R	51
S	49
T	46
V	58

If the population of village T in 2002 is 42000, then what will be the population of village Z living below the poverty line in that year?

Options :

1. ✔ 9240

2. ✖ 9200

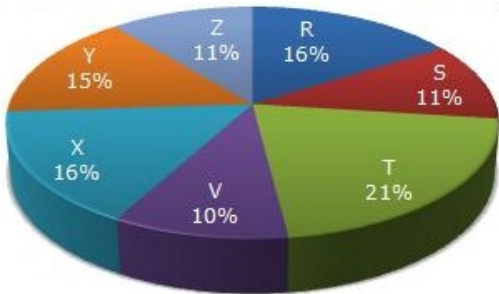
3. ✖ 8240

4. ✖ 8500

Question Number : 119 Question Id : 9983676535 Question Type : MCQ Option Shuffling : Yes
Correct Marks : 1 Wrong Marks : 0.25

निम्नलिखित लिखित पाई चार्ट और टेबल का अध्ययन करें और उसके आधार पर प्रश्नों का उत्तर दें।

2002 में सात गांवों की जनसंख्या का समानुपात



गांव	गरीबी रेखा के नीचे जनसंख्या (% में)
X	38
Y	52
Z	42
R	51
S	49
T	46
V	58

यदि 2002 में गांव T की जनसंख्या 42000 है, तो उस वर्ष गांव Z की गरीबी रेखा से नीचे रहने वाली जनसंख्या क्या होगी?

Options :

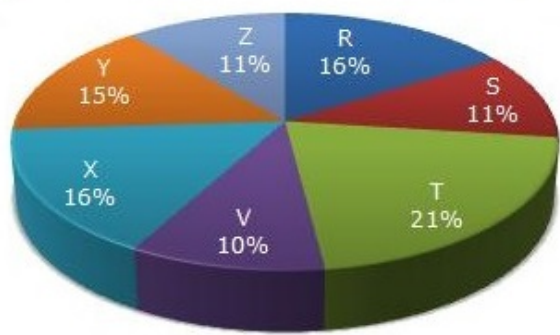
1. ✔ 9240

2. ✖ 9200

3. ✖ 8240

4. ✖ 8500

Question Number : 120 Question Id : 9983676536 Question Type : MCQ Option Shuffling : Yes
Correct Marks : 1 Wrong Marks : 0.25
Study the following pie chart and the table and answer the questions based on them.
Proportion of Population of Seven Villages in 2002



Village	% Population Below Poverty Line
X	38
Y	52
Z	42
R	51
S	49
T	46
V	58

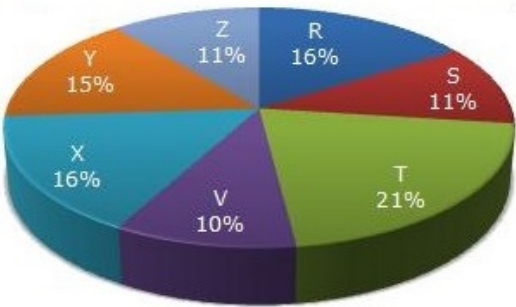
Find the population of village V if the population of village R living below the poverty line in 2002 is 11220.
Options :

- 1. ✖ 12750
- 2. ✔ 13750
- 3. ✖ 13000
- 4. ✖ 12000

Question Number : 120 Question Id : 9983676536 Question Type : MCQ Option Shuffling : Yes
Correct Marks : 1 Wrong Marks : 0.25

निम्नलिखित लिखित पाई चार्ट और टेबल का अध्ययन करें और उसके आधार पर प्रश्नों का उत्तर दें।

2002 में सात गांवों की जनसंख्या का समानुपात



गांव	गरीबी रेखा के नीचे जनसंख्या (% में)
X	38
Y	52
Z	42
R	51
S	49
T	46
V	58

यदि 2002 में गांव R की गरीबी रेखा से नीचे रहने वाली जनसंख्या 11220 है तो गांव V की जनसंख्या ज्ञात करें।

Options :

1. ✖ 12750
2. ✔ 13750
3. ✖ 13000
4. ✖ 12000

General English1

Group Number :	7
Group Id :	998367273
Group Maximum Duration :	0
Group Minimum Duration :	0
Show Attended Group? :	No

Edit Attended Group? :	No
Break time:	0
Group Marks:	20
Is this Group for Examiner?:	No
Revisit allowed for group Instructions? :	Yes
Maximum Instruction Time:	0
Minimum Instruction Time:	0

General English1

Section Id :	998367279
Section Number :	1
Section type :	Online
Mandatory or Optional:	Mandatory
Number of Questions:	20
Number of Questions to be attempted:	20
Section Marks:	20

Sub-Section Number:	1
Sub-Section Id:	998367403
Question Shuffling Allowed :	Yes
Question Number : 121 Question Id : 9983676537 Question Type : MCQ Option Shuffling : Yes	
Correct Marks : 1 Wrong Marks : 0.25	

Choose then option that conveys the meaning of the underlined idiom.

The constant screaming by the kids drives me up the wall.

Options :

- 1. ✖ to feel like climbing the wall
- 2. ✖ making the kids climb the wall
- 3. ✔ to feel great annoyance
- 4. ✖ kids screaming loudly

Question Number : 121 Question Id : 9983676537 Question Type : MCQ Option Shuffling : Yes	
Correct Marks : 1 Wrong Marks : 0.25	

Choose then option that conveys the meaning of the underlined idiom.

The constant screaming by the kids drives me up the wall.

Options :

1. ✖ to feel like climbing the wall
2. ✖ making the kids climb the wall
3. ✔ to feel great annoyance
4. ✖ kids screaming loudly

Question Number : 122 Question Id : 9983676538 Question Type : MCQ Option Shuffling : Yes

Correct Marks : 1 Wrong Marks : 0.25

Choose then option that conveys the meaning of the underlined idiom.

I realized my mistake and extended an olive branch to my friend.

Options :

1. ✔ Taking steps towards achieving peace.
2. ✖ a sign of defeat in an argument
3. ✖ steps towards better environment
4. ✖ cutting off branches from an olive tree

Question Number : 122 Question Id : 9983676538 Question Type : MCQ Option Shuffling : Yes

Correct Marks : 1 Wrong Marks : 0.25

Choose then option that conveys the meaning of the underlined idiom.

I realized my mistake and extended an olive branch to my friend.

Options :

1. ✓ Taking steps towards achieving peace.
2. ✗ a sign of defeat in an argument
3. ✗ steps towards better environment
4. ✗ cutting off branches from an olive tree

Question Number : 123 Question Id : 9983676539 Question Type : MCQ Option Shuffling : Yes
Correct Marks : 1 Wrong Marks : 0.25

Select the option that will improve the underlined part of the sentence. In case there is no improvement needed then select 'No improvement' option.

My father was a strong smoker.

Options :

1. ✗ deep
2. ✓ heavy
3. ✗ large
4. ✗ no improvement

Question Number : 123 Question Id : 9983676539 Question Type : MCQ Option Shuffling : Yes
Correct Marks : 1 Wrong Marks : 0.25

Select the option that will improve the underlined part of the sentence. In case there is no improvement needed then select 'No improvement' option.

My father was a strong smoker.

Options :

1. ✖ deep
2. ✔ heavy
3. ✖ large
4. ✖ no improvement

Question Number : 124 Question Id : 9983676540 Question Type : MCQ Option Shuffling : Yes
Correct Marks : 1 Wrong Marks : 0.25

Select the option that will improve the underlined part of the sentence. In case there is no improvement needed then select 'No improvement' option.

You can look the movie on Netflix.

Options :

1. ✔ watch
2. ✖ observe
3. ✖ witness
4. ✖ no improvement

Question Number : 124 Question Id : 9983676540 Question Type : MCQ Option Shuffling : Yes
Correct Marks : 1 Wrong Marks : 0.25

Select the option that will improve the underlined part of the sentence. In case there is no improvement needed then select 'No improvement' option.

You can look the movie on Netflix.

Options :

1. ✓ watch
2. ✗ observe
3. ✗ witness
4. ✗ no improvement

Question Number : 125 Question Id : 9983676541 Question Type : MCQ Option Shuffling : Yes
Correct Marks : 1 Wrong Marks : 0.25

Choose the option that is one word substitution for the given phrase.

anything that leads to death.

Options :

1. ✗ deadly
2. ✗ trivial
3. ✗ inevitable
4. ✓ fatal

Question Number : 125 Question Id : 9983676541 Question Type : MCQ Option Shuffling : Yes
Correct Marks : 1 Wrong Marks : 0.25

Choose the option that is one word substitution for the given phrase.

anything that leads to death.

Options :

1. ✖ deadly
2. ✖ trivial
3. ✖ inevitable
4. ✔ fatal

Question Number : 126 Question Id : 9983676542 Question Type : MCQ Option Shuffling : Yes
Correct Marks : 1 Wrong Marks : 0.25

Choose the correct option to fill in the blanks.

There was _____ collision between _____ car and _____ autorickshaw. _____ auto driver sustained some injuries.

Options :

1. ✖ a, the, an, the
2. ✖ an, a, the, the
3. ✔ a, a, an, the
4. ✖ a, a, an, an

Question Number : 126 Question Id : 9983676542 Question Type : MCQ Option Shuffling : Yes
Correct Marks : 1 Wrong Marks : 0.25

Choose the correct option to fill in the blanks.

There was _____ collision between _____ car and _____ autorickshaw. _____ auto driver sustained some injuries.

Options :

1. ✗ a, the, an, the
2. ✗ an, a, the, the
3. ✓ a, a, an, the
4. ✗ a, a, an, an

Question Number : 127 Question Id : 9983676543 Question Type : MCQ Option Shuffling : Yes
Correct Marks : 1 Wrong Marks : 0.25

Choose the correct option to fill in the blanks.

Take _____ left turn from _____ gate, walk till you come to _____ tea shop, turn right and _____ second bungalow is ours.

Options :

1. ✓ the, the, a, the
2. ✗ a, a, the, the
3. ✗ a, the, a, an
4. ✗ the, a, the, a

Question Number : 127 Question Id : 9983676543 Question Type : MCQ Option Shuffling : Yes
Correct Marks : 1 Wrong Marks : 0.25

Choose the correct option to fill in the blanks.

Take _____ left turn from _____ gate, walk till you come to _____ tea shop, turn right and _____ second bungalow is ours.

Options :

1. ✓ the, the, a, the
2. ✗ a, a, the, the
3. ✗ a, the, a, an
4. ✗ the, a, the, a

Question Number : 128 Question Id : 9983676544 Question Type : MCQ Option Shuffling : Yes
Correct Marks : 1 Wrong Marks : 0.25

Choose the correct option to fill in the blanks.

It was nearly dark _____ now and the rain was still coming _____, pattering _____ the windows.

Options :

1. ✗ in, up, in
2. ✗ about, off, down
3. ✓ outside, down, against
4. ✗ beside, in, with

Question Number : 128 Question Id : 9983676544 Question Type : MCQ Option Shuffling : Yes
Correct Marks : 1 Wrong Marks : 0.25

Choose the correct option to fill in the blanks.

It was nearly dark _____ now and the rain was still coming _____, pattering _____ the windows.

Options :

1. ✖ in, up, in
2. ✖ about, off, down
3. ✔ outside, down, against
4. ✖ beside, in, with

Question Number : 129 Question Id : 9983676545 Question Type : MCQ Option Shuffling : Yes

Correct Marks : 1 Wrong Marks : 0.25

Choose the correct option to fill in the blanks.

Satish is, _____ a doubt, the best student _____ the class.

Options :

1. ✔ without, in
2. ✖ with, of
3. ✖ besides, in
4. ✖ although, of

Question Number : 129 Question Id : 9983676545 Question Type : MCQ Option Shuffling : Yes

Correct Marks : 1 Wrong Marks : 0.25

Choose the correct option to fill in the blanks.

Satish is, _____ a doubt, the best student _____ the class.

Options :

1. ✔ without, in

2. ✖ with, of
3. ✖ besides, in
4. ✖ although, of

Question Number : 130 Question Id : 9983676546 Question Type : MCQ Option Shuffling : Yes
Correct Marks : 1 Wrong Marks : 0.25

Choose the correct option to fill in the blanks.

Oliver, _____ could hardly stand, tried to raise _____ on _____ feet.

Options :

1. ✖ he, him, her
2. ✖ whom, herself, his
3. ✖ we, him, his
4. ✔ who, himself, his

Question Number : 130 Question Id : 9983676546 Question Type : MCQ Option Shuffling : Yes
Correct Marks : 1 Wrong Marks : 0.25

Choose the correct option to fill in the blanks.

Oliver, _____ could hardly stand, tried to raise _____ on _____ feet.

Options :

1. ✖ he, him, her
2. ✖ whom, herself, his
3. ✖ we, him, his
4. ✔ who, himself, his

Question Number : 131 Question Id : 9983676547 Question Type : MCQ Option Shuffling : Yes
Correct Marks : 1 Wrong Marks : 0.25

Choose the correct option to fill in the blanks.

_____ all went to the Municipal school, _____ was an elegant school, not the kind _____ have these days.

Options :

1. ✖ them, it, we

2. ✔ we, it, we

3. ✖ us, it, us

4. ✖ us, who, we

Question Number : 131 Question Id : 9983676547 Question Type : MCQ Option Shuffling : Yes
Correct Marks : 1 Wrong Marks : 0.25

Choose the correct option to fill in the blanks.

_____ all went to the Municipal school, _____ was an elegant school, not the kind _____ have these days.

Options :

1. ✖ them, it, we

2. ✔ we, it, we

3. ✖ us, it, us

4. ✖ us, who, we

Question Number : 132 Question Id : 9983676548 Question Type : MCQ Option Shuffling : Yes
Correct Marks : 1 Wrong Marks : 0.25

Choose the correct option to fill in the blanks.

_____ had I taken off my shoes at the temple, _____ I had to wear them again as the temple was closed.

Options :

1. ✖ when, therefore

2. ✖ after, than
3. ✔ no sooner, than
4. ✖ whenever, after

Question Number : 132 Question Id : 9983676548 Question Type : MCQ Option Shuffling : Yes
Correct Marks : 1 Wrong Marks : 0.25

Choose the correct option to fill in the blanks.

_____ had I taken off my shoes at the temple, _____ I had to wear them again as the temple was closed.

Options :

1. ✖ when, therefore
2. ✖ after, than
3. ✔ no sooner, than
4. ✖ whenever, after

Question Number : 133 Question Id : 9983676549 Question Type : MCQ Option Shuffling : Yes
Correct Marks : 1 Wrong Marks : 0.25

Choose the correct option to fill in the blanks.

Preparing for these exams is _____ difficult _____ very boring.

Options :

1. ✔ not only, but also
2. ✖ so, but
3. ✖ though, and
4. ✖ so, that

Question Number : 133 Question Id : 9983676549 Question Type : MCQ Option Shuffling : Yes
Correct Marks : 1 Wrong Marks : 0.25

Choose the correct option to fill in the blanks.

Preparing for these exams is _____ difficult _____ very boring.

Options :

1. ✓ not only, but also
2. ✗ so, but
3. ✗ though, and
4. ✗ so, that

Question Number : 134 Question Id : 9983676550 Question Type : MCQ Option Shuffling : Yes
Correct Marks : 1 Wrong Marks : 0.25

Choose the correct option to fill in the blanks.

We have _____ eggs in the fridge but there are _____ of fruits in the basket.

Options :

1. ✗ little, many
2. ✗ the few, much
3. ✓ a few, plenty
4. ✗ a little, some

Question Number : 134 Question Id : 9983676550 Question Type : MCQ Option Shuffling : Yes
Correct Marks : 1 Wrong Marks : 0.25

Choose the correct option to fill in the blanks.

We have _____ eggs in the fridge but there are _____ of fruits in the basket.

Options :

1. ✖ little, many
2. ✖ the few, much
3. ✔ a few, plenty
4. ✖ a little, some

Question Number : 135 Question Id : 9983676551 Question Type : MCQ Option Shuffling : Yes
Correct Marks : 1 Wrong Marks : 0.25

Choose the correct option to fill in the blanks.

In our school _____ of the teachers work hard but _____ are lazy.

Options :

1. ✖ more, much
2. ✖ much, some
3. ✖ the few, none
4. ✔ most, some

Question Number : 135 Question Id : 9983676551 Question Type : MCQ Option Shuffling : Yes
Correct Marks : 1 Wrong Marks : 0.25

Choose the correct option to fill in the blanks.

In our school _____ of the teachers work hard but _____ are lazy.

Options :

1. ✖ more, much
2. ✖ much, some
3. ✖ the few, none
4. ✔ most, some

Question Number : 136 Question Id : 9983676552 Question Type : MCQ Option Shuffling : Yes
Correct Marks : 1 Wrong Marks : 0.25

Select the option that expresses the given sentence in passive voice.

He discovered a large pit containing a variety of snakes.

Options :

1. ✖ A large pit containing a variety of snakes has been discovered by him.
2. ✖ A large pit containing a variety of snakes was being discovered by him.
3. ✔ A large pit containing a variety of snakes was discovered by him.
4. ✖ A variety of snakes containing a large pit was discovered by him.

Question Number : 136 Question Id : 9983676552 Question Type : MCQ Option Shuffling : Yes
Correct Marks : 1 Wrong Marks : 0.25

Select the option that expresses the given sentence in passive voice.

He discovered a large pit containing a variety of snakes.

Options :

1. ✖ A large pit containing a variety of snakes has been discovered by him.
2. ✖ A large pit containing a variety of snakes was being discovered by him.

3. ✓ A large pit containing a variety of snakes was discovered by him.

4. ✗ A variety of snakes containing a large pit was discovered by him.

Question Number : 137 Question Id : 9983676553 Question Type : MCQ Option Shuffling : Yes
Correct Marks : 1 Wrong Marks : 0.25

Choose the option which is the correct indirect form of the given sentence.

Manish said to me, "I arrived here yesterday."

Options :

1. ✗ Manish told me that he arrived there the previous day.

2. ✓ Manish told me that he had arrived there the previous day.

3. ✗ Manish told me that he would arrive here the previous day.

4. ✗ Manish told me that he had arrived there the yesterday.

Question Number : 137 Question Id : 9983676553 Question Type : MCQ Option Shuffling : Yes
Correct Marks : 1 Wrong Marks : 0.25

Choose the option which is the correct indirect form of the given sentence.

Manish said to me, "I arrived here yesterday."

Options :

1. ✗ Manish told me that he arrived there the previous day.

2. ✓ Manish told me that he had arrived there the previous day.

3. ✖ Manish told me that he would arrive here the previous day.
4. ✖ Manish told me that he had arrived there the yesterday.

Question Number : 138 Question Id : 9983676554 Question Type : MCQ Option Shuffling : Yes
Correct Marks : 1 Wrong Marks : 0.25

Choose the option that is the correct order of this jumbled sentence.

he lost / duped by /all his savings /the local thug

Options :

1. ✔ Duped by the local thug, he lost all his savings.
2. ✖ He lost all his savings duped by the local thug.
3. ✖ He lost duped by the local thug all his savings.
4. ✖ All his savings duped by the local thug he lost.

Question Number : 138 Question Id : 9983676554 Question Type : MCQ Option Shuffling : Yes
Correct Marks : 1 Wrong Marks : 0.25

Choose the option that is the correct order of this jumbled sentence.

he lost / duped by /all his savings /the local thug

Options :

1. ✔ Duped by the local thug, he lost all his savings.
2. ✖ He lost all his savings duped by the local thug.
3. ✖ He lost duped by the local thug all his savings.
4. ✖ All his savings duped by the local thug he lost.

Question Number : 139 Question Id : 9983676555 Question Type : MCQ Option Shuffling : Yes
Correct Marks : 1 Wrong Marks : 0.25

Choose the option that is the correct order of this jumbled sentence.

not afraid of / Raman is /the truth / speaking

Options :

1. ✖ Not afraid of speaking the truth is Raman.
2. ✖ Of speaking the truth is Raman not afraid.
3. ✔ Raman is not afraid of speaking the truth.
4. ✖ Not afraid of speaking is Raman the truth.

Question Number : 139 Question Id : 9983676555 Question Type : MCQ Option Shuffling : Yes
Correct Marks : 1 Wrong Marks : 0.25

Choose the option that is the correct order of this jumbled sentence.

not afraid of / Raman is /the truth / speaking

Options :

1. ✖ Not afraid of speaking the truth is Raman.
2. ✖ Of speaking the truth is Raman not afraid.
3. ✔ Raman is not afraid of speaking the truth.
4. ✖ Not afraid of speaking is Raman the truth.

Question Number : 140 Question Id : 9983676556 Question Type : MCQ Option Shuffling : Yes
Correct Marks : 1 Wrong Marks : 0.25

Choose the option that is the correct order of this jumbled sentence.

on earth's / with you all? /what /is the matter

Options :

1. ✖ What on earth's with you all the matter?

- 2. ✓ What on earth’s the matter with you all?
- 3. ✖ The matter what on earth’s with you all?
- 4. ✖ On earth’s the matter with you all what?

Question Number : 140 Question Id : 9983676556 Question Type : MCQ Option Shuffling : Yes
Correct Marks : 1 Wrong Marks : 0.25

Choose the option that is the correct order of this jumbled sentence.

on earth’s / with you all? /what /is the matter

Options :

- 1. ✖ What on earth’s with you all the matter?
- 2. ✓ What on earth’s the matter with you all?
- 3. ✖ The matter what on earth’s with you all?
- 4. ✖ On earth’s the matter with you all what?



Group Number :	8
Group Id :	998367274
Group Maximum Duration :	0
Group Minimum Duration :	0
Show Attended Group? :	No
Edit Attended Group? :	No
Break time:	0
Group Marks:	20
Is this Group for Examiner?:	No
Revisit allowed for group Instructions? :	Yes
Maximum Instruction Time:	0
Minimum Instruction Time:	0

General English2

Section Id :	998367280
Section Number :	1
Section type :	Online

Mandatory or Optional:	Mandatory
Number of Questions:	12
Number of Questions to be attempted:	12
Section Marks:	20

Sub-Section Number:	1
Sub-Section Id:	998367404
Question Shuffling Allowed :	Yes

Question Number : 141 Question Id : 9983676557 Question Type : MCQ Option Shuffling : Yes
Correct Marks : 1 Wrong Marks : 0.25

Choose the option that is the correct synonym for the given word.

RELEGATE

Options :

- 1. ✖ distrust
- 2. ✖ remove
- 3. ✔ entrust
- 4. ✖ assume

Question Number : 141 Question Id : 9983676557 Question Type : MCQ Option Shuffling : Yes
Correct Marks : 1 Wrong Marks : 0.25

Choose the option that is the correct synonym for the given word.

RELEGATE

Options :

- 1. ✖ distrust
- 2. ✖ remove
- 3. ✔ entrust
- 4. ✖ assume

Question Number : 142 Question Id : 9983676558 Question Type : MCQ Option Shuffling : Yes
Correct Marks : 1 Wrong Marks : 0.25

Choose the option that is the correct synonym for the given word.

VICIOUS

Options :

1. ✓ wicked
2. ✗ vivacious
3. ✗ friendly
4. ✗ gentle

Question Number : 142 Question Id : 9983676558 Question Type : MCQ Option Shuffling : Yes
Correct Marks : 1 Wrong Marks : 0.25

Choose the option that is the correct synonym for the given word.

VICIOUS

Options :

1. ✓ wicked
2. ✗ vivacious
3. ✗ friendly
4. ✗ gentle

Question Number : 143 Question Id : 9983676559 Question Type : MCQ Option Shuffling : Yes
Correct Marks : 1 Wrong Marks : 0.25

Choose the option that is the correct synonym for the given word.

DISDAIN

Options :

1. ✖ disregard
2. ✖ love
3. ✔ scorn
4. ✖ approval

Question Number : 143 Question Id : 9983676559 Question Type : MCQ Option Shuffling : Yes
Correct Marks : 1 Wrong Marks : 0.25

Choose the option that is the correct synonym for the given word.

DISDAIN

Options :

1. ✖ disregard
2. ✖ love
3. ✔ scorn
4. ✖ approval

Question Number : 144 Question Id : 9983676560 Question Type : MCQ Option Shuffling : Yes
Correct Marks : 1 Wrong Marks : 0.25

Choose the option that is the correct synonym for the given word.

EQUIVOCATE

Options :

1. ✖ confront
2. ✖ face
3. ✖ accept
4. ✔ evade

Question Number : 144 Question Id : 9983676560 Question Type : MCQ Option Shuffling : Yes

Correct Marks : 1 Wrong Marks : 0.25

Choose the option that is the correct synonym for the given word.

EQUIVOCATE

Options :

1. ✖ confront
2. ✖ face
3. ✖ accept
4. ✔ evade

Question Number : 145 Question Id : 9983676561 Question Type : MCQ Option Shuffling : Yes

Correct Marks : 1 Wrong Marks : 0.25

Choose the option that is the correct synonym for the given word.

NOCTURNAL

Options :

1. ✖ daily
2. ✔ nightly
3. ✖ diurnal
4. ✖ perpetual

Question Number : 145 Question Id : 9983676561 Question Type : MCQ Option Shuffling : Yes

Correct Marks : 1 Wrong Marks : 0.25

Choose the option that is the correct synonym for the given word.

NOCTURNAL

Options :

1. ✖ daily
2. ✔ nightly
3. ✖ diurnal
4. ✖ perpetual

Question Number : 146 Question Id : 9983676562 Question Type : MCQ Option Shuffling : Yes
Correct Marks : 1 Wrong Marks : 0.25

Choose the option that is the correct antonym for the given word.

ACCELERATE

Options :

1. ✔ impede
2. ✖ quicken
3. ✖ speedup
4. ✖ hasten

Question Number : 146 Question Id : 9983676562 Question Type : MCQ Option Shuffling : Yes
Correct Marks : 1 Wrong Marks : 0.25

Choose the option that is the correct antonym for the given word.

ACCELERATE

Options :

1. ✔ impede
2. ✖ quicken
3. ✖ speedup

4. ✖ hasten

Question Number : 147 Question Id : 9983676563 Question Type : MCQ Option Shuffling : Yes
Correct Marks : 1 Wrong Marks : 0.25

Choose the option that is the correct antonym for the given word.

NEFARIOUS

Options :

1. ✖ disloyal

2. ✖ disreputable

3. ✔ respectable

4. ✖ shameful

Question Number : 147 Question Id : 9983676563 Question Type : MCQ Option Shuffling : Yes
Correct Marks : 1 Wrong Marks : 0.25

Choose the option that is the correct antonym for the given word.

NEFARIOUS

Options :

1. ✖ disloyal

2. ✖ disreputable

3. ✔ respectable

4. ✖ shameful

Question Number : 148 Question Id : 9983676564 Question Type : MCQ Option Shuffling : Yes
Correct Marks : 1 Wrong Marks : 0.25

Choose the option that is the correct antonym for the given word.

STEREOTYPE

Options :

1. ✖ typical
2. ✔ unconventional
3. ✖ run of the mill
4. ✖ standard

Question Number : 148 Question Id : 9983676564 Question Type : MCQ Option Shuffling : Yes
Correct Marks : 1 Wrong Marks : 0.25

Choose the option that is the correct antonym for the given word.

STEREOTYPE

Options :

1. ✖ typical
2. ✔ unconventional
3. ✖ run of the mill
4. ✖ standard

Question Number : 149 Question Id : 9983676565 Question Type : MCQ Option Shuffling : Yes
Correct Marks : 1 Wrong Marks : 0.25

Choose the option that is the correct antonym for the given word.

ANOMALY

Options :

1. ✖ deprivation

2. ✓ sameness
3. ✗ deviation
4. ✗ simplification

Question Number : 149 Question Id : 9983676565 Question Type : MCQ Option Shuffling : Yes
Correct Marks : 1 Wrong Marks : 0.25

Choose the option that is the correct antonym for the given word.

ANOMALY

Options :

1. ✗ deprivation
2. ✓ sameness
3. ✗ deviation
4. ✗ simplification

Question Number : 150 Question Id : 9983676566 Question Type : MCQ Option Shuffling : Yes
Correct Marks : 1 Wrong Marks : 0.25

Choose the option that is the correct antonym for the given word.

ENTHRALL

Options :

1. ✗ spellbind
2. ✗ enchant
3. ✗ mesmerize
4. ✓ bore

Question Number : 150 Question Id : 9983676566 Question Type : MCQ Option Shuffling : Yes
Correct Marks : 1 Wrong Marks : 0.25

Choose the option that is the correct antonym for the given word.

ENTHRALL

Options :

1. ✖ spellbind
2. ✖ enchant
3. ✖ mesmerize
4. ✔ bore

Sub-Section Number:

2

Sub-Section Id:

998367405

Question Shuffling Allowed :

Yes

Question Id : 9983676567 Question Type : COMPREHENSION Sub Question Shuffling Allowed : Yes Group Comprehension Questions : No

Question Numbers : (151 to 155)

Question Label : Comprehension

Read the passage and answer the questions given below it.

Air pollution tends to pose the biggest risk to the very old, to the very young and to people already suffering from some chronic ailments? Asthma and heart disease are two major conditions that put people at risk. Scientists are learning that air pollution can pose serious risks to anyone. You don't have to be old or sick. You don't have to suck in horrible fumes or air so full of pollutants that you can see and taste them. Indeed, emerging data show that even pollutants too small to see with the naked eye can harm healthy children and teens.

That pollution can alter how their brains function. It can make it hard for kids to concentrate. It also can throw out of whack hormones — chemical messengers that direct the body's activities. In short, it can seriously damage young minds and bodies. Lilian Calderón- is a doctor who looks at the body's tissues to diagnose disease. She looks for disease caused by pollutant particles that are small — often way too tiny to see. Scientists call these tiny specks particulates. They come from many sources. Power plants, factories, homes and cars — all spew particulates. So can forest fires.

Once inhaled, these particles can move deep into the lungs. The oxygen you breathe passes from the lungs through a thin membrane. From there it enters the blood. Many particulates are small enough to cross that membrane into the blood, too. They're known as nanoparticulates. They can trigger inflammation wherever they travel. And the blood can carry them everywhere, even to the brain. Inflammation can be a good thing. The body uses it to kill off damaged cells and harmful germs. But inflammation in the brain is dangerous. It can destroy sensitive cells, causing memory problems.

Another reason to control air pollution: It can stress out the body.

Imagine you're trapped in a room that's filling with smoke. Your heart is racing. You jump into action. In just seconds, you open the window and climb out the burning building to reach safety. The body's quick reaction to such an emergency is called the fight-or-flight response.

Scary events, such as a fire, aren't the only things that can activate that fight-or-flight response. Air pollution can too, new data show. It does so through hormones.

Hormones are the body's chemical messengers. They control many important activities. Stress hormones help people react quickly to life-threatening situations. When we're faced with a fearful situation, the body ramps up production of certain hormones, such as adrenaline. Breathing polluted air can trigger a similar response. In an emergency, stress hormones and the fight-or-flight response can be helpful. But when the body ups their production too often or for too long, those hormones can harm the heart and blood vessels.

Sub questions

Question Number : 151 Question Id : 9983676568 Question Type : MCQ Option Shuffling : Yes
Correct Marks : 1 Wrong Marks : 0.25

Which of these is NOT a health hazard due to pollution?

Options :

1. ✖ lack of concentration
2. ✖ affect body activities
3. ✖ damage brains
4. ✔ affect eyesight

Question Number : 152 Question Id : 9983676569 Question Type : MCQ Option Shuffling : Yes
Correct Marks : 1 Wrong Marks : 0.25

What are nanoparticulates?

Options :

1. ✖ plastic particles that pollute water and air
2. ✔ pollution particles that can enter the blood stream
3. ✖ small particles of any matter
4. ✖ particles that promote health

Question Number : 153 Question Id : 9983676570 Question Type : MCQ Option Shuffling : Yes
Correct Marks : 1 Wrong Marks : 0.25

A fight-or-flight response happens when:

Options :

1. ✔ there is an emergency of any kind
2. ✖ the mind is adequately rested
3. ✖ small particles of thin membranes
4. ✖ one wants to fight and not run away

Question Number : 154 Question Id : 9983676571 Question Type : MCQ Option Shuffling : Yes
Correct Marks : 1 Wrong Marks : 0.25

What is common between a scary situation and pollution?

Options :

1. ✖ both can be controlled

2. ✖ both affect the atmosphere
3. ✔ both trigger the fight-or-flight response
4. ✖ there is nothing common between them

Question Number : 155 Question Id : 9983676572 Question Type : MCQ Option Shuffling : Yes
Correct Marks : 1 Wrong Marks : 0.25

Under what circumstances do the stress hormones become dangerous?

Options :

1. ✖ They are always beneficial to the body.
2. ✖ They are never beneficial to the body
3. ✖ When one faces a dangerous situation
4. ✔ When they are activated again and again

Question Id : 9983676567 Question Type : COMPREHENSION Sub Question Shuffling Allowed : Yes Group Comprehension Questions : No

Question Numbers : (151 to 155)

Question Label : Comprehension

Read the passage and answer the questions given below it.

Air pollution tends to pose the biggest risk to the very old, to the very young and to people already suffering from some chronic ailments? Asthma and heart disease are two major conditions that put people at risk. Scientists are learning that air pollution can pose serious risks to anyone. You don't have to be old or sick. You don't have to suck in horrible fumes or air so full of pollutants that you can see and taste them. Indeed, emerging data show that even pollutants too small to see with the naked eye can harm healthy children and teens.

That pollution can alter how their brains function. It can make it hard for kids to concentrate. It also can throw out of whack hormones – chemical messengers that direct the body's activities. In short, it can seriously damage young minds and bodies. Lilian Calderón- is a doctor who looks at the body's tissues to diagnose disease. She looks for disease caused by pollutant particles that are small – often way too tiny to see. Scientists call these tiny specks particulates. They come from many sources. Power plants, factories, homes and cars – all spew particulates. So can forest fires.

Once inhaled, these particles can move deep into the lungs. The oxygen you breathe passes from the lungs through a thin membrane. From there it enters the blood. Many particulates are small enough to cross that membrane into the blood, too. They're known as nanoparticulates. They can trigger inflammation wherever they travel. And the blood can carry them everywhere, even to the brain. Inflammation can be a good thing. The body uses it to kill off damaged cells and harmful germs. But inflammation in the brain is dangerous. It can destroy sensitive cells, causing memory problems.

Another reason to control air pollution: It can stress out the body. Imagine you're trapped in a room that's filling with smoke. Your heart is racing. You jump into action. In just seconds, you open the window and climb out the burning building to reach safety. The body's quick reaction to such an emergency is called the fight-or-flight response. Scary events, such as a fire, aren't the only things that can activate that fight-or-flight response. Air pollution can too, new data show. It does so through hormones.

Hormones are the body's chemical messengers. They control many important activities. Stress hormones help people react quickly to life-threatening situations. When we're faced with a fearful situation, the body ramps up production of certain hormones, such as adrenaline. Breathing polluted air can trigger a similar response. In an emergency, stress hormones and the fight-or-flight response can be helpful. But when the body ups their production too often or for too long, those hormones can harm the heart and blood vessels.

Sub questions

Question Number : 151 Question Id : 9983676568 Question Type : MCQ Option Shuffling : Yes
Correct Marks : 1 Wrong Marks : 0.25

Which of these is NOT a health hazard due to pollution?

Options :

1. ✖ lack of concentration
2. ✖ affect body activities
3. ✖ damage brains
4. ✔ affect eyesight

Question Number : 152 Question Id : 9983676569 Question Type : MCQ Option Shuffling : Yes
Correct Marks : 1 Wrong Marks : 0.25

What are nanoparticulates?

Options :

1. ✖ plastic particles that pollute water and air
2. ✔ pollution particles that can enter the blood stream
3. ✖ small particles of any matter
4. ✖ particles that promote health

Question Number : 153 Question Id : 9983676570 Question Type : MCQ Option Shuffling : Yes
Correct Marks : 1 Wrong Marks : 0.25

A fight-or-flight response happens when:

Options :

1. ✔ there is an emergency of any kind
2. ✖ the mind is adequately rested
3. ✖ small particles of thin membranes
4. ✖ one wants to fight and not run away

Question Number : 154 Question Id : 9983676571 Question Type : MCQ Option Shuffling : Yes
Correct Marks : 1 Wrong Marks : 0.25

What is common between a scary situation and pollution?

Options :

1. ✖ both can be controlled
2. ✖ both affect the atmosphere
3. ✔ both trigger the fight-or-flight response
4. ✖ there is nothing common between them

Question Number : 155 Question Id : 9983676572 Question Type : MCQ Option Shuffling : Yes
Correct Marks : 1 Wrong Marks : 0.25

Under what circumstances do the stress hormones become dangerous?

Options :

1. ✖ They are always beneficial to the body.
2. ✖ They are never beneficial to the body
3. ✖ When one faces a dangerous situation
4. ✔ When they are activated again and again

Sub-Section Number: 3
Sub-Section Id: 998367406
Question Shuffling Allowed : Yes

Question Id : 9983676573 Question Type : COMPREHENSION Sub Question Shuffling Allowed : Yes Group Comprehension Questions : No
Question Numbers : (156 to 160)

Question Label : Comprehension

Read the passage and answer the following questions:

In childhood I honestly believed that if I could “just be like everyone else,” everything would be fine. It brought back memories of frustration with a body that never seemed to do what I wanted it to do, and feeling so desperately like I wanted to fit in but thinking I was the problem. Feeling like being able to walk was the magical cure that would solve all my problems, and that if I just had a “normal” body like my sister, everything would be perfect.

Thankfully, times have changed, and I am not that little girl anymore. It took a long time, but I have learned to love my body, and I no longer see walking as the magical cure that will solve all my problems. Instead, I have learned to embrace my wheelchair as the amazing tool it is. The tool that allows me to see the world and live my life on my own terms.

Slowly, I have learned I am not the problem and never have been. I have learned that cerebral palsy is not something to be battled with, overcome or conquered. It is a part of me — a complicated part for sure, but a beautiful one, and I wouldn’t change it for anything. It has shaped my life and the way I view the world around me, and it’s given me so many great relationships and experiences for which I will be forever grateful.

I will never say I fight my disability because doing that would be fighting a war against myself, and a very important part of me. I will never say I fight cerebral palsy because disability, and cerebral palsy, are not problems to be battled.

I will say I fight prejudice. I will say I fight lack of access, stigma and ignorance. I will say I fight discrimination. I will say I fight these things, because I do. These are battles to fight, and win. It is prejudice, lack of access, stigma, ignorance and discrimination that prevent me from having the same opportunities in life as my able-bodied brother and sister, not my cerebral palsy, my wheelchair or my inability to walk.

I will fight to make this world a better place for future generations of kids just like me. I will fight to make sure they are never told or led to believe their bodies are a problem or something they must do battle against on a daily basis just to fit in. I will fight to make sure those kids have the same opportunities as everybody else, and never believe everything would be better if they could just change who they are.

I will fight for a world where the mere presence of disability does not make you extraordinary. Where disabled children are taught to aspire to more than just existing, and where being disabled doesn’t mean you have to be 10 times better than everyone else just to be good enough.

I will fight for a world where we talk about living with and owning our disabled bodies rather than overcoming them. I will fight for a better world, and a better future, because those things are worth fighting for, but I will not fight a war against myself.

Sub questions

Question Number : 156 Question Id : 9983676574 Question Type : MCQ Option Shuffling : Yes
Correct Marks : 1 Wrong Marks : 0.25

During childhood what did the writer believe about herself?

Options :

1. ✓ That everything would be perfect if she became like all the others.
2. ✖ That she would never be able to be like others.
3. ✖ She accepted her/his body as it was.
4. ✖ That she would grow to be a healthy person.

Question Number : 157 Question Id : 9983676575 Question Type : MCQ Option Shuffling : Yes
Correct Marks : 1 Wrong Marks : 0.25

Times have changed... refers to:

Options :

1. ✖ She has become like others.
2. ✖ She has become a frustrated person now.
3. ✓ Her perception about herself has changed.
4. ✖ She has been accepted by everyone.

Question Number : 158 Question Id : 9983676576 Question Type : MCQ Option Shuffling : Yes
Correct Marks : 1 Wrong Marks : 0.25

The writer's message to the kids with disabilities is:

Options :

1. ✖ to accept their being disabled
2. ✓ to have aspirations for themselves
3. ✖ to get proper medical aid
4. ✖ to love their wheel chairs

Question Number : 159 Question Id : 9983676577 Question Type : MCQ Option Shuffling : Yes
Correct Marks : 1 Wrong Marks : 0.25

What does the writer NOT mean when she says, "living with and owning our disabled bodies"?

Options :

1. ✖ not being frustrated with the body
2. ✖ not trying to overcome the disability
3. ✔ To fight and overcome the disability.
4. ✖ accepting the body with its disabilities

Question Number : 160 Question Id : 9983676578 Question Type : MCQ Option Shuffling : Yes
Correct Marks : 1 Wrong Marks : 0.25

What can be concluded from the passage?

Options :

1. ✔ The physically disabled don't need to work harder than others to prove themselves.
2. ✖ The disabled will never be able to make a difference in society.
3. ✖ Society will always discriminate against the disabled.
4. ✖ being physically able is the greatest boon of life.

Question Id : 9983676573 Question Type : COMPREHENSION Sub Question Shuffling Allowed : Yes Group Comprehension Questions : No

Question Numbers : (156 to 160)

Question Label : Comprehension

Read the passage and answer the following questions:

In childhood I honestly believed that if I could “just be like everyone else,” everything would be fine. It brought back memories of frustration with a body that never seemed to do what I wanted it to do, and feeling so desperately like I wanted to fit in but thinking I was the problem. Feeling like being able to walk was the magical cure that would solve all my problems, and that if I just had a “normal” body like my sister, everything would be perfect.

Thankfully, times have changed, and I am not that little girl anymore. It took a long time, but I have learned to love my body, and I no longer see walking as the magical cure that will solve all my problems. Instead, I have learned to embrace my wheelchair as the amazing tool it is. The tool that allows me to see the world and live my life on my own terms. Slowly, I have learned I am not the problem and never have been. I have learned that cerebral palsy is not something to be battled with, overcome or conquered. It is a part of me – a complicated part for sure, but a beautiful one, and I wouldn’t change it for anything. It has shaped my life and the way I view the world around me, and it’s given me so many great relationships and experiences for which I will be forever grateful.

I will never say I fight my disability because doing that would be fighting a war against myself, and a very important part of me. I will never say I fight cerebral palsy because disability, and cerebral palsy, are not problems to be battled.

I will say I fight prejudice. I will say I fight lack of access, stigma and ignorance. I will say I fight discrimination. I will say I fight these things, because I do. These are battles to fight, and win. It is prejudice, lack of access, stigma, ignorance and discrimination that prevent me from having the same opportunities in life as my able-bodied brother and sister, not my cerebral palsy, my wheelchair or my inability to walk.

I will fight to make this world a better place for future generations of kids just like me. I will fight to make sure they are never told or led to believe their bodies are a problem or something they must do battle against on a daily basis just to fit in. I will fight to make sure those kids have the same opportunities as everybody else, and never believe everything would be better if they could just change who they are.

I will fight for a world where the mere presence of disability does not make you extraordinary. Where disabled children are taught to aspire to more than just existing, and where being disabled doesn’t mean you have to be 10 times better than everyone else just to be good enough.

I will fight for a world where we talk about living with and owning our disabled bodies rather than overcoming them. I will fight for a better world, and a better future, because those things are worth fighting for, but I will not fight a war against myself.

Sub questions

Question Number : 156 Question Id : 9983676574 Question Type : MCQ Option Shuffling : Yes
Correct Marks : 1 Wrong Marks : 0.25

During childhood what did the writer believe about herself?

Options :

1. ✓ That everything would be perfect if she became like all the others.
2. ✗ That she would never be able to be like others.
3. ✗ She accepted her/his body as it was.
4. ✗ That she would grow to be a healthy person.

Question Number : 157 Question Id : 9983676575 Question Type : MCQ Option Shuffling : Yes
Correct Marks : 1 Wrong Marks : 0.25

Times have changed... refers to:

Options :

1. ✗ She has become like others.
2. ✗ She has become a frustrated person now.
3. ✓ Her perception about herself has changed.
4. ✗ She has been accepted by everyone.

Question Number : 158 Question Id : 9983676576 Question Type : MCQ Option Shuffling : Yes
Correct Marks : 1 Wrong Marks : 0.25

The writer's message to the kids with disabilities is:

Options :

1. ✗ to accept their being disabled
2. ✓ to have aspirations for themselves
3. ✗ to get proper medical aid
4. ✗ to love their wheel chairs

Question Number : 159 Question Id : 9983676577 Question Type : MCQ Option Shuffling : Yes
Correct Marks : 1 Wrong Marks : 0.25

What does the writer NOT mean when she says, “living with and owning our disabled bodies”?

Options :

- 1. ✖ not being frustrated with the body
- 2. ✖ not trying to overcome the disability
- 3. ✔ To fight and overcome the disability.
- 4. ✖ accepting the body with its disabilities

Question Number : 160 Question Id : 9983676578 Question Type : MCQ Option Shuffling : Yes
Correct Marks : 1 Wrong Marks : 0.25

What can be concluded from the passage?

Options :

- 1. ✔ The physically disabled don’t need to work harder than others to prove themselves.
- 2. ✖ The disabled will never be able to make a difference in society.
- 3. ✖ Society will always discriminate against the disabled.
- 4. ✖ being physically able is the greatest boon of life.

General Hindi1

Group Number :	9
Group Id :	998367275
Group Maximum Duration :	0
Group Minimum Duration :	0
Show Attended Group? :	No
Edit Attended Group? :	No
Break time:	0
Group Marks:	20
Is this Group for Examiner?:	No
Revisit allowed for group Instructions? :	Yes
Maximum Instruction Time:	0

Minimum Instruction Time:

0

General Hindi1

Section Id :	998367281
Section Number :	1
Section type :	Online
Mandatory or Optional:	Mandatory
Number of Questions:	20
Number of Questions to be attempted:	20
Section Marks:	20

Sub-Section Number:	1
Sub-Section Id:	998367407
Question Shuffling Allowed :	Yes

Question Number : 161 Question Id : 9983676579 Question Type : MCQ Option Shuffling : Yes
Correct Marks : 1 Wrong Marks : 0.25

‘लोटा’ कैसा शब्द है?

Options :

1. ✖ विदेशी
2. ✔ देशज
3. ✖ तद्भव
4. ✖ तत्सम

Question Number : 161 Question Id : 9983676579 Question Type : MCQ Option Shuffling : Yes
Correct Marks : 1 Wrong Marks : 0.25

‘लोटा’ कैसा शब्द है?

Options :

1. ✖ विदेशी
2. ✔ देशज
3. ✖ तद्भव
4. ✖ तत्सम

Question Number : 162 Question Id : 9983676580 Question Type : MCQ Option Shuffling : Yes
Correct Marks : 1 Wrong Marks : 0.25

निम्नलिखित में से कौन सा शब्द तद्भव है?

Options :

1. ✖ खर्पर
2. ✖ खनि
3. ✔ खेत
4. ✖ खर्जूर

Question Number : 162 Question Id : 9983676580 Question Type : MCQ Option Shuffling : Yes
Correct Marks : 1 Wrong Marks : 0.25

निम्नलिखित में से कौन सा शब्द तद्भव है?

Options :

1. ✖ खर्पर
2. ✖ खनि
3. ✔ खेत
4. ✖ खर्जूर

Question Number : 163 Question Id : 9983676581 Question Type : MCQ Option Shuffling : Yes
Correct Marks : 1 Wrong Marks : 0.25

निम्नलिखित में से कौन सा शब्द तत्सम है?

Options :

1. ✖ सच
2. ✖ सेज
3. ✖ थल
4. ✔ स्थान

Question Number : 163 Question Id : 9983676581 Question Type : MCQ Option Shuffling : Yes
Correct Marks : 1 Wrong Marks : 0.25

निम्नलिखित में से कौन सा शब्द तत्सम है?

Options :

1. ✖ सच
2. ✖ सेज
3. ✖ थल

4. ✓ स्थान

Question Number : 164 Question Id : 9983676582 Question Type : MCQ Option Shuffling : Yes
Correct Marks : 1 Wrong Marks : 0.25

निम्नलिखित में से शुद्ध वर्तनी वाला शब्द है:

Options :

1. ✓ प्रमीलित
2. ✗ प्रमीलीत
3. ✗ प्रमिलित
4. ✗ प्रमिलीत

Question Number : 164 Question Id : 9983676582 Question Type : MCQ Option Shuffling : Yes
Correct Marks : 1 Wrong Marks : 0.25

निम्नलिखित में से शुद्ध वर्तनी वाला शब्द है:

Options :

1. ✓ प्रमीलित
2. ✗ प्रमीलीत
3. ✗ प्रमिलित
4. ✗ प्रमिलीत

Question Number : 165 Question Id : 9983676583 Question Type : MCQ Option Shuffling : Yes
Correct Marks : 1 Wrong Marks : 0.25

‘अभिज्ञ – अनभिज्ञ’ शब्द युग्म का सही अर्थ है:

Options :

1. ✗ अनजान – मूर्ख
2. ✗ मूर्ख – अनजान
3. ✗ अनजान – जानने वाला
4. ✓ जानने वाला – अनजान

Question Number : 165 Question Id : 9983676583 Question Type : MCQ Option Shuffling : Yes
Correct Marks : 1 Wrong Marks : 0.25

‘अभिज्ञ – अनभिज्ञ’ शब्द युग्म का सही अर्थ है:

Options :

1. ✖ अनजान - मूर्ख
2. ✖ मूर्ख - अनजान
3. ✖ अनजान - जानने वाला
4. ✔ जानने वाला - अनजान

Question Number : 166 Question Id : 9983676584 Question Type : MCQ Option Shuffling : Yes

Correct Marks : 1 Wrong Marks : 0.25

‘चढ़ाई’ किस प्रकार की संज्ञा है?

Options :

1. ✖ व्यक्तिवाचक
2. ✖ जातिवाचक
3. ✔ भाववाचक
4. ✖ पदार्थवाचक

Question Number : 166 Question Id : 9983676584 Question Type : MCQ Option Shuffling : Yes

Correct Marks : 1 Wrong Marks : 0.25

‘चढ़ाई’ किस प्रकार की संज्ञा है?

Options :

1. ✖ व्यक्तिवाचक
2. ✖ जातिवाचक
3. ✔ भाववाचक
4. ✖ पदार्थवाचक

Question Number : 167 Question Id : 9983676585 Question Type : MCQ Option Shuffling : Yes

Correct Marks : 1 Wrong Marks : 0.25

‘जो’ सर्वनाम का गुणवाचक विशेषण है:

Options :

1. ✖ तैसा
2. ✔ जैसा
3. ✖ ऐसा

4. ✖ वैसा

Question Number : 167 Question Id : 9983676585 Question Type : MCQ Option Shuffling : Yes
Correct Marks : 1 Wrong Marks : 0.25

‘जो’ सर्वनाम का गुणवाचक विशेषण है:

Options :

1. ✖ तैसा

2. ✔ जैसा

3. ✖ ऐसा

4. ✖ वैसा

Question Number : 168 Question Id : 9983676586 Question Type : MCQ Option Shuffling : Yes
Correct Marks : 1 Wrong Marks : 0.25

‘नुकीला’ किस प्रकार का विशेषण है?

Options :

1. ✔ गुणवाचक

2. ✖ परिमाण बोधक

3. ✖ संख्यावाचक

4. ✖ सार्वनामिक

Question Number : 168 Question Id : 9983676586 Question Type : MCQ Option Shuffling : Yes
Correct Marks : 1 Wrong Marks : 0.25

‘नुकीला’ किस प्रकार का विशेषण है?

Options :

1. ✔ गुणवाचक

2. ✖ परिमाण बोधक

3. ✖ संख्यावाचक

4. ✖ सार्वनामिक

Question Number : 169 Question Id : 9983676587 Question Type : MCQ Option Shuffling : Yes
Correct Marks : 1 Wrong Marks : 0.25

निम्नलिखित में अकर्मक धातु है:

Options :

1. ✓ सिलना
2. ✗ निकालना
3. ✗ उखाड़ना
4. ✗ सम्हालना

Question Number : 169 Question Id : 9983676587 Question Type : MCQ Option Shuffling : Yes
Correct Marks : 1 Wrong Marks : 0.25

निम्नलिखित में अकर्मक धातु है:

Options :

1. ✓ सिलना
2. ✗ निकालना
3. ✗ उखाड़ना
4. ✗ सम्हालना

Question Number : 170 Question Id : 9983676588 Question Type : MCQ Option Shuffling : Yes
Correct Marks : 1 Wrong Marks : 0.25

‘वह इसलिए नहाता है कि ग्रहण लगा है।’ वाक्य में क्रिया विशेषण है:

Options :

1. ✗ वह
2. ✓ इसलिए
3. ✗ नहाता है
4. ✗ कि ग्रहण लगा है।

Question Number : 170 Question Id : 9983676588 Question Type : MCQ Option Shuffling : Yes
Correct Marks : 1 Wrong Marks : 0.25

‘वह इसलिए नहाता है कि ग्रहण लगा है।’ वाक्य में क्रिया विशेषण है:

Options :

1. ✗ वह
2. ✓ इसलिए
3. ✗ नहाता है

4. ✖ कि ग्रहण लगा है।

Question Number : 171 Question Id : 9983676589 Question Type : MCQ Option Shuffling : Yes
Correct Marks : 1 Wrong Marks : 0.25

‘प्रत्युपकार’ का संधि विच्छेद होगा:

Options :

1. ✖ प्रती + उपकार
2. ✖ प्रती + अपकार
3. ✖ प्रति + अपकार
4. ✔ प्रति + उपकार

Question Number : 171 Question Id : 9983676589 Question Type : MCQ Option Shuffling : Yes
Correct Marks : 1 Wrong Marks : 0.25

‘प्रत्युपकार’ का संधि विच्छेद होगा:

Options :

1. ✖ प्रती + उपकार
2. ✖ प्रती + अपकार
3. ✖ प्रति + अपकार
4. ✔ प्रति + उपकार

Question Number : 172 Question Id : 9983676590 Question Type : MCQ Option Shuffling : Yes
Correct Marks : 1 Wrong Marks : 0.25

‘बारहसिंगा’ में कौन सा समास है?

Options :

1. ✖ तत्पुरुष
2. ✖ द्वंद्व
3. ✔ बहुब्रीहि
4. ✖ अव्ययीभाव

Question Number : 172 Question Id : 9983676590 Question Type : MCQ Option Shuffling : Yes
Correct Marks : 1 Wrong Marks : 0.25

‘बारहसिंगा’ में कौन सा समास है?

Options :

1. ✖ तत्पुरुष
2. ✖ द्वंद्व
3. ✔ बहुब्रीहि
4. ✖ अव्ययीभाव

Question Number : 173 Question Id : 9983676591 Question Type : MCQ Option Shuffling : Yes
Correct Marks : 1 Wrong Marks : 0.25

‘संन्यास’ में किस उपसर्ग का प्रयोग हुआ है?

Options :

1. ✖ स
2. ✖ सन्
3. ✔ सम्
4. ✖ न्यास

Question Number : 173 Question Id : 9983676591 Question Type : MCQ Option Shuffling : Yes
Correct Marks : 1 Wrong Marks : 0.25

‘संन्यास’ में किस उपसर्ग का प्रयोग हुआ है?

Options :

1. ✖ स
2. ✖ सन्
3. ✔ सम्
4. ✖ न्यास

Question Number : 174 Question Id : 9983676592 Question Type : MCQ Option Shuffling : Yes
Correct Marks : 1 Wrong Marks : 0.25

‘जटिल’ में किस प्रत्यय का प्रयोग हुआ है?

Options :

1. ✖ ल
2. ✔ इल
3. ✖ टिल

4. ✖ ज

Question Number : 174 Question Id : 9983676592 Question Type : MCQ Option Shuffling : Yes
Correct Marks : 1 Wrong Marks : 0.25

‘जटिल’ में किस प्रत्यय का प्रयोग हुआ है?

Options :

1. ✖ ल

2. ✔ इल

3. ✖ टिल

4. ✖ ज

Question Number : 175 Question Id : 9983676593 Question Type : MCQ Option Shuffling : Yes
Correct Marks : 1 Wrong Marks : 0.25

निम्नलिखित में कौन सा शब्द स्त्रीलिंग है?

Options :

1. ✔ जलवायु

2. ✖ जख्म

3. ✖ जहाज

4. ✖ जुलूस

Question Number : 175 Question Id : 9983676593 Question Type : MCQ Option Shuffling : Yes
Correct Marks : 1 Wrong Marks : 0.25

निम्नलिखित में कौन सा शब्द स्त्रीलिंग है?

Options :

1. ✔ जलवायु

2. ✖ जख्म

3. ✖ जहाज

4. ✖ जुलूस

Question Number : 176 Question Id : 9983676594 Question Type : MCQ Option Shuffling : Yes
Correct Marks : 1 Wrong Marks : 0.25

‘आकर कहने लगा’ किस पदबन्ध का उदाहरण है?

Options :

1. ✖ संज्ञा पदबन्ध
2. ✖ सर्वनाम पदबन्ध
3. ✖ विशेषण पदबन्ध
4. ✔ क्रिया पदबन्ध

Question Number : 176 Question Id : 9983676594 Question Type : MCQ Option Shuffling : Yes
Correct Marks : 1 Wrong Marks : 0.25

‘आकर कहने लगा’ किस पदबन्ध का उदाहरण है?

Options :

1. ✖ संज्ञा पदबन्ध
2. ✖ सर्वनाम पदबन्ध
3. ✖ विशेषण पदबन्ध
4. ✔ क्रिया पदबन्ध

Question Number : 177 Question Id : 9983676595 Question Type : MCQ Option Shuffling : Yes
Correct Marks : 1 Wrong Marks : 0.25

‘वह लड़की, जो कल गयी थी, आज भी गयी है।’ वाक्य में ‘जो कल गयी थी’ किस प्रकार का उपवाक्य है?

Options :

1. ✖ क्रिया उपवाक्य
2. ✖ क्रिया विशेषण उपवाक्य
3. ✔ विशेषण उपवाक्य
4. ✖ संज्ञा उपवाक्य

Question Number : 177 Question Id : 9983676595 Question Type : MCQ Option Shuffling : Yes
Correct Marks : 1 Wrong Marks : 0.25

‘वह लड़की, जो कल गयी थी, आज भी गयी है।’ वाक्य में ‘जो कल गयी थी’ किस प्रकार का उपवाक्य है?

Options :

1. ✖ क्रिया उपवाक्य

2. ✖ क्रिया विशेषण उपवाक्य

3. ✔ विशेषण उपवाक्य

4. ✖ संज्ञा उपवाक्य

Question Number : 178 Question Id : 9983676596 Question Type : MCQ Option Shuffling : Yes
Correct Marks : 1 Wrong Marks : 0.25

‘मैं खेल चुका, तब वह आया।’ किस प्रकार का वाक्य है?

Options :

1. ✖ सरल वाक्य

2. ✔ मिश्र वाक्य

3. ✖ संयुक्त वाक्य

4. ✖ उपवाक्य

Question Number : 178 Question Id : 9983676596 Question Type : MCQ Option Shuffling : Yes
Correct Marks : 1 Wrong Marks : 0.25

‘मैं खेल चुका, तब वह आया।’ किस प्रकार का वाक्य है?

Options :

1. ✖ सरल वाक्य

2. ✔ मिश्र वाक्य

3. ✖ संयुक्त वाक्य

4. ✖ उपवाक्य

Question Number : 179 Question Id : 9983676597 Question Type : MCQ Option Shuffling : Yes
Correct Marks : 1 Wrong Marks : 0.25

पदक्रम की दृष्टि से कौन सा वाक्य शुद्ध है?

Options :

1. ✔ क्या मोहन सो रहा है?

2. ✖ क्या सो रहा है मोहन?

3. ✖ मोहन क्या सो रहा है?

4. ✖ सो रहा है क्या मोहन?

Question Number : 179 Question Id : 9983676597 Question Type : MCQ Option Shuffling : Yes

Correct Marks : 1 Wrong Marks : 0.25

पदक्रम की दृष्टि से कौन सा वाक्य शुद्ध है?

Options :

1. ✓ क्या मोहन सो रहा है?
2. ✗ क्या सो रहा है मोहन?
3. ✗ मोहन क्या सो रहा है?
4. ✗ सो रहा है क्या मोहन?

Question Number : 180 Question Id : 9983676598 Question Type : MCQ Option Shuffling : Yes

Correct Marks : 1 Wrong Marks : 0.25

अन्वय की दृष्टि से कौन सा वाक्य शुद्ध है?

Options :

1. ✗ श्याम ने बैल और घोड़ा मोल लो।
2. ✗ श्याम ने बैल और घोड़ा मोल ली।
3. ✗ श्याम ने बैल और घोड़ा मोल लिया।
4. ✓ श्याम ने बैल और घोड़ा मोल लिए।

Question Number : 180 Question Id : 9983676598 Question Type : MCQ Option Shuffling : Yes

Correct Marks : 1 Wrong Marks : 0.25

अन्वय की दृष्टि से कौन सा वाक्य शुद्ध है?

Options :

1. ✗ श्याम ने बैल और घोड़ा मोल लो।
2. ✗ श्याम ने बैल और घोड़ा मोल ली।
3. ✗ श्याम ने बैल और घोड़ा मोल लिया।
4. ✓ श्याम ने बैल और घोड़ा मोल लिए।

General Hindi2

Group Number :

10

Group Id :

998367276

Group Maximum Duration :

0

Group Minimum Duration :

120

Show Attended Group? :	No
Edit Attended Group? :	No
Break time:	0
Group Marks:	20
Is this Group for Examiner?:	No
Revisit allowed for group Instructions? :	Yes
Maximum Instruction Time:	0
Minimum Instruction Time:	0

General Hindi2

Section Id :	998367282
Section Number :	1
Section type :	Online
Mandatory or Optional:	Mandatory
Number of Questions:	12
Number of Questions to be attempted:	12
Section Marks:	20

Sub-Section Number:	1
Sub-Section Id:	998367408
Question Shuffling Allowed :	Yes

Question Number : 181 Question Id : 9983676599 Question Type : MCQ Option Shuffling : Yes
Correct Marks : 1 Wrong Marks : 0.25

‘कमल’ का पर्यायवाची है?

Options :

- 1. ✖ जलद
- 2. ✖ जलधि
- 3. ✔ जलज
- 4. ✖ कनक

Question Number : 181 Question Id : 9983676599 Question Type : MCQ Option Shuffling : Yes
Correct Marks : 1 Wrong Marks : 0.25

‘कमल’ का पर्यायवाची है?

Options :

- 1. ✖ जलद
- 2. ✖ जलधि
- 3. ✔ जलज

4. ✖ कनक

Question Number : 182 Question Id : 9983676600 Question Type : MCQ Option Shuffling : Yes
Correct Marks : 1 Wrong Marks : 0.25

‘वृक्ष’ का पर्यायवाची नहीं है:

Options :

1. ✖ तरु

2. ✖ द्रुम

3. ✖ पादप

4. ✔ पट

Question Number : 182 Question Id : 9983676600 Question Type : MCQ Option Shuffling : Yes
Correct Marks : 1 Wrong Marks : 0.25

‘वृक्ष’ का पर्यायवाची नहीं है:

Options :

1. ✖ तरु

2. ✖ द्रुम

3. ✖ पादप

4. ✔ पट

Question Number : 183 Question Id : 9983676601 Question Type : MCQ Option Shuffling : Yes
Correct Marks : 1 Wrong Marks : 0.25

‘नाराच’ किसका पर्यायवाची है?

Options :

1. ✖ राक्षस

2. ✔ बाण

3. ✖ पर्वत

4. ✖ वृक्ष

Question Number : 183 Question Id : 9983676601 Question Type : MCQ Option Shuffling : Yes
Correct Marks : 1 Wrong Marks : 0.25

‘नाराच’ किसका पर्यायवाची है?

Options :

1. ✖ राक्षस
2. ✔ बाण
3. ✖ पर्वत
4. ✖ वृक्ष

Question Number : 184 Question Id : 9983676602 Question Type : MCQ Option Shuffling : Yes
Correct Marks : 1 Wrong Marks : 0.25

‘अब्धि’ किसका पर्यायवाची है?

Options :

1. ✔ समुद्र
2. ✖ धरती
3. ✖ पर्वत
4. ✖ तालाब

Question Number : 184 Question Id : 9983676602 Question Type : MCQ Option Shuffling : Yes
Correct Marks : 1 Wrong Marks : 0.25

‘अब्धि’ किसका पर्यायवाची है?

Options :

1. ✔ समुद्र
2. ✖ धरती
3. ✖ पर्वत
4. ✖ तालाब

Question Number : 185 Question Id : 9983676603 Question Type : MCQ Option Shuffling : Yes
Correct Marks : 1 Wrong Marks : 0.25

‘गो’ किसका पर्यायवाची नहीं है?

Options :

1. ✖ आँख
2. ✖ स्वर्ग
3. ✔ नदी

4. ✖ सूर्य

Question Number : 185 Question Id : 9983676603 Question Type : MCQ Option Shuffling : Yes
Correct Marks : 1 Wrong Marks : 0.25

‘गो’ किसका पर्यायवाची नहीं है?

Options :

1. ✖ आँख

2. ✖ स्वर्ग

3. ✔ नदी

4. ✖ सूर्य

Question Number : 186 Question Id : 9983676604 Question Type : MCQ Option Shuffling : Yes
Correct Marks : 1 Wrong Marks : 0.25

‘उन्नत’ का विलोम शब्द है:

Options :

1. ✔ अवनत

2. ✖ उत्कर्ष

3. ✖ प्रकर्ष

4. ✖ दुर्गति

Question Number : 186 Question Id : 9983676604 Question Type : MCQ Option Shuffling : Yes
Correct Marks : 1 Wrong Marks : 0.25

‘उन्नत’ का विलोम शब्द है:

Options :

1. ✔ अवनत

2. ✖ उत्कर्ष

3. ✖ प्रकर्ष

4. ✖ दुर्गति

Question Number : 187 Question Id : 9983676605 Question Type : MCQ Option Shuffling : Yes
Correct Marks : 1 Wrong Marks : 0.25

‘अनिवार्य’ का विलोम होगा:

Options :

1. ✖ विकल्प
2. ✖ निर्यात
3. ✖ प्रकार्य
4. ✔ निवार्य

Question Number : 187 Question Id : 9983676605 Question Type : MCQ Option Shuffling : Yes
Correct Marks : 1 Wrong Marks : 0.25

‘अनिवार्य’ का विलोम होगा:

Options :

1. ✖ विकल्प
2. ✖ निर्यात
3. ✖ प्रकार्य
4. ✔ निवार्य

Question Number : 188 Question Id : 9983676606 Question Type : MCQ Option Shuffling : Yes
Correct Marks : 1 Wrong Marks : 0.25

‘उग्र’ किसका विलोम है?

Options :

1. ✖ सदय
2. ✔ सौम्य
3. ✖ निर्दय
4. ✖ कृपण

Question Number : 188 Question Id : 9983676606 Question Type : MCQ Option Shuffling : Yes
Correct Marks : 1 Wrong Marks : 0.25

‘उग्र’ किसका विलोम है?

Options :

1. ✖ सदय
2. ✔ सौम्य
3. ✖ निर्दय

4. ✖ कृपण

Question Number : 189 Question Id : 9983676607 Question Type : MCQ Option Shuffling : Yes
Correct Marks : 1 Wrong Marks : 0.25

‘सम्राट अशोक के काल में राजतंत्र था।’ पंक्ति के रेखांकित शब्द का विलोम होगा:

Options :

1. ✖ कुलीनतंत्र
2. ✔ जनतंत्र
3. ✖ भीड़तंत्र
4. ✖ एकतंत्र

Question Number : 189 Question Id : 9983676607 Question Type : MCQ Option Shuffling : Yes
Correct Marks : 1 Wrong Marks : 0.25

‘सम्राट अशोक के काल में राजतंत्र था।’ पंक्ति के रेखांकित शब्द का विलोम होगा:

Options :

1. ✖ कुलीनतंत्र
2. ✔ जनतंत्र
3. ✖ भीड़तंत्र
4. ✖ एकतंत्र

Question Number : 190 Question Id : 9983676608 Question Type : MCQ Option Shuffling : Yes
Correct Marks : 1 Wrong Marks : 0.25

‘मुख’ का विलोम है:

Options :

1. ✖ आमुख
2. ✖ गौण
3. ✖ पैर
4. ✔ पृष्ठ

Question Number : 190 Question Id : 9983676608 Question Type : MCQ Option Shuffling : Yes
Correct Marks : 1 Wrong Marks : 0.25

‘मुख’ का विलोम है:

Options :

1. ✖ आमुख
2. ✖ गौण
3. ✖ पैर
4. ✔ पृष्ठ

Sub-Section Number: 2
Sub-Section Id: 998367409
Question Shuffling Allowed : Yes

Question Id : 9983676609 Question Type : COMPREHENSION Sub Question Shuffling Allowed : Yes Group Comprehension Questions : No

Question Numbers : (191 to 195)

Question Label : Comprehension

नीचे दिये गए गद्यांश को पढ़कर पूछे गये प्रश्नों के उत्तर दीजिए।

पंजाब प्रान्त में गुरु नानक साहब ने सिख संप्रदाय की स्थापना की। नानक से लेकर गुरुगोविंद सिंह तक संतों की लंबी परंपरा है जिन्होंने समाज को संगठित करने की महत्वपूर्ण भूमिका निभाई। भक्ति आंदोलन की सबसे बड़ी उपलब्धि यह मानी जाती है कि उसने संपूर्ण भारत को एक सांस्कृतिक सूत्र में जोड़ दिया। इस आंदोलन को एकांगी दृष्टि से नहीं समझा जा सकता है। क्योंकि इसका प्रभाव बहुमुखी है। इस आंदोलन में अवर्ण से लेकर सवर्ण तक महिला से लेकर पुरुष तक शिक्षित से लेकर अशिक्षित तक और हिंदू से लेकर मुसलमान तक सभी शामिल थे। अतः यह आंदोलन अपने स्वभाव में जनतांत्रिक था। वास्तव में कबीर देश के सांस्कृतिक नवजागरण के अग्रदूत थे। कबीर अहंकार से मुक्ति में मानव-जीवन की वृहत्तर सार्थकता देखते हैं। अहं से मुक्ति उनकी प्रखर विचारधारा से जुड़ा प्रश्न है। मध्यकालीन समाज अहं से परिचालित था, वर्ग-भेद आधारित था जहाँ अमीर-गरीब का अंतर है, धर्म और जाति का अंतर है। इसलिए कबीर इन सबसे परे होकर उच्चतर मानव मूल्यों की प्रतिष्ठा करते हैं।

Sub questions

Question Number : 191 Question Id : 9983676610 Question Type : MCQ Option Shuffling : Yes
Correct Marks : 1 Wrong Marks : 0.25

देश के सांस्कृतिक नवजागरण के अग्रदूत कौन थे?

Options :

1. ✖ नानक
2. ✖ गुरु गोविंद सिंह
3. ✔ कबीर
4. ✖ तुलसीदास

Question Number : 192 Question Id : 9983676611 Question Type : MCQ Option Shuffling : Yes

Correct Marks : 1 Wrong Marks : 0.25

‘एकांगी’ का अर्थ है:

Options :

1. ✔ एकपक्षीय
2. ✖ द्विपक्षीय
3. ✖ बहुपक्षीय
4. ✖ निष्पक्ष

Question Number : 193 Question Id : 9983676612 Question Type : MCQ Option Shuffling : Yes

Correct Marks : 1 Wrong Marks : 0.25

‘वृहत्तर’ का अर्थ है:

Options :

1. ✔ विशाल
2. ✖ न्यून
3. ✖ क्षीण
4. ✖ लघु

Question Number : 194 Question Id : 9983676613 Question Type : MCQ Option Shuffling : Yes

Correct Marks : 1 Wrong Marks : 0.25

‘प्रखर’ का अर्थ है:

Options :

1. ✖ हीन
2. ✖ शिथिल
3. ✔ तीक्ष्ण
4. ✖ प्रभुत्व

Question Number : 195 Question Id : 9983676614 Question Type : MCQ Option Shuffling : Yes
Correct Marks : 1 Wrong Marks : 0.25

भक्ति आंदोलन का स्वरूप कैसा था?

Options :

1. ✖ व्यक्तिवादी
2. ✔ जनतांत्रिक
3. ✖ सामंती
4. ✖ तानाशाही

Question Id : 9983676609 Question Type : COMPREHENSION Sub Question Shuffling Allowed : Yes Group Comprehension
Questions : No

Question Numbers : (191 to 195)

Question Label : Comprehension



नीचे दिये गए गद्यांश को पढ़कर पूछे गये प्रश्नों के उत्तर दीजिए।

पंजाब प्रान्त में गुरु नानक साहब ने सिख संप्रदाय की स्थापना की। नानक से लेकर गुरुगोविंद सिंह तक संतों की लंबी परंपरा है जिन्होंने समाज को संगठित करने की महत्वपूर्ण भूमिका निभाई। भक्ति आंदोलन की सबसे बड़ी उपलब्धि यह मानी जाती है कि उसने संपूर्ण भारत को एक सांस्कृतिक सूत्र में जोड़ दिया। इस आंदोलन को एकांगी दृष्टि से नहीं समझा जा सकता है। क्योंकि इसका प्रभाव बहुमुखी है। इस आंदोलन में अवर्ण से लेकर सवर्ण तक महिला से लेकर पुरुष तक शिक्षित से लेकर अशिक्षित तक और हिंदू से लेकर मुसलमान तक सभी शामिल थे। अतः यह आंदोलन अपने स्वभाव में जनतांत्रिक था। वास्तव में कबीर देश के सांस्कृतिक नवजागरण के अग्रदूत थे। कबीर अहंकार से मुक्ति में मानव-जीवन की वृहत्तर सार्थकता देखते हैं। अहं से मुक्ति उनकी प्रखर विचारधारा से जुड़ा प्रश्न है। मध्यकालीन समाज अहं से परिचालित था, वर्ग-भेद आधारित था जहाँ अमीर-गरीब का अंतर है, धर्म और जाति का अंतर है। इसलिए कबीर इन सबसे परे होकर उच्चतर मानव मूल्यों की प्रतिष्ठा करते हैं।

Sub questions

Question Number : 191 Question Id : 9983676610 Question Type : MCQ Option Shuffling : Yes
Correct Marks : 1 Wrong Marks : 0.25

देश के सांस्कृतिक नवजागरण के अग्रदूत कौन थे?

Options :

1. ✖ नानक
2. ✖ गुरु गोविंद सिंह
3. ✔ कबीर

4. ✖ तुलसीदास

Question Number : 192 Question Id : 9983676611 Question Type : MCQ Option Shuffling : Yes
Correct Marks : 1 Wrong Marks : 0.25

‘एकांगी’ का अर्थ है:

Options :

1. ✔ एकपक्षीय
2. ✖ द्विपक्षीय
3. ✖ बहुपक्षीय
4. ✖ निष्पक्ष

Question Number : 193 Question Id : 9983676612 Question Type : MCQ Option Shuffling : Yes
Correct Marks : 1 Wrong Marks : 0.25

‘वृहत्तर’ का अर्थ है:

Options :

1. ✔ विशाल
2. ✖ न्यून
3. ✖ क्षीण
4. ✖ लघु

Question Number : 194 Question Id : 9983676613 Question Type : MCQ Option Shuffling : Yes
Correct Marks : 1 Wrong Marks : 0.25

‘प्रखर’ का अर्थ है:

Options :

1. ✖ हीन
2. ✖ शिथिल
3. ✔ तीक्ष्ण
4. ✖ प्रभुत्व

Question Number : 195 Question Id : 9983676614 Question Type : MCQ Option Shuffling : Yes

Correct Marks : 1 Wrong Marks : 0.25

भक्ति आंदोलन का स्वरूप कैसा था?

Options :

1. ✖ व्यक्तिवादी
2. ✔ जनतांत्रिक
3. ✖ सामंती
4. ✖ तानाशाही

Sub-Section Number: 3
Sub-Section Id: 998367410
Question Shuffling Allowed : Yes

Question Id : 9983676615 Question Type : COMPREHENSION Sub Question Shuffling Allowed : Yes Group Comprehension Questions : No

Question Numbers : (196 to 200)

Question Label : Comprehension

नीचे दिये गए गद्यांश को पढ़कर पूछे गये प्रश्नों के उत्तर दीजिए।

भारतेन्दु युग के पश्चात् द्विवेदी युग का आगमन होता है। इस काल का नाम हिन्दी के प्रवर आचार्य महावीर प्रसाद द्विवेदी के नाम पर पड़ा। हिन्दी आलोचना के क्षेत्र में द्विवेदी युग में कई महत्वपूर्ण मोड़ आए और आलोचना नदी के समान धाराओं में विभक्त होकर साहित्य के हर पृष्ठ तक पहुँचने का प्रयास करती है। आलोचना का यह प्रयास हिन्दी आलोचना के जगत को समृद्ध करता है। आलोचना की उत्तरोत्तर वृद्धि द्विवेदी युग में होती है। इसका प्रमुख कारण आलोचकों की आलोचना समझ बन जाने के कारण हुआ और दूसरा महत्वपूर्ण कारण यह रहा कि भारतीय अध्येता विश्वसाहित्य खासकर अंग्रेजी साहित्य के निकट आए और रचना प्रक्रिया की वैश्विक दृष्टि उनमें बन पायी। इधर हिन्दी में गद्य की अभिव्यक्ति क्षमता में वृद्धि हो गयी थी और हिन्दी में गंभीर विषय पर बात होने लगी थी तथा साहित्य में सुधार की प्रवृत्ति विकसित हो रही थी। जिसके नेतृत्वकर्ता आचार्य द्विवेदी जी थे। द्विवेदी युग में आलोचना की कई पद्धतियाँ विकसित हुईं जिनमें प्रमुखतः रीतिकालीन लक्षण ग्रंथों की परंपरा में काव्यांग विवेचन, तुलनात्मक मूल्यांकन, टीकाओं तथा नवीन व्यावहारिक पद्धतियों का विकास हुआ।

Sub questions

Question Number : 196 Question Id : 9983676616 Question Type : MCQ Option Shuffling : Yes
Correct Marks : 1 Wrong Marks : 0.25

गद्यांश का उल्लेख्य युग है:

Options :

1. ✖ भारतेन्दु युग
2. ✔ द्विवेदी युग
3. ✖ शुक्ल युग
4. ✖ प्रसाद युग

Question Number : 197 Question Id : 9983676617 Question Type : MCQ Option Shuffling : Yes
Correct Marks : 1 Wrong Marks : 0.25

‘प्रवर’ का अर्थ है:

Options :

1. ✔ श्रेष्ठ
2. ✖ गौण
3. ✖ सहायक
4. ✖ पुष्ट

Question Number : 198 Question Id : 9983676618 Question Type : MCQ Option Shuffling : Yes
Correct Marks : 1 Wrong Marks : 0.25

‘अध्येता’ का अर्थ है:

Options :

1. ✖ दर्शक
2. ✖ श्रोता
3. ✖ अध्यापक
4. ✔ पाठक

Question Number : 199 Question Id : 9983676619 Question Type : MCQ Option Shuffling : Yes
Correct Marks : 1 Wrong Marks : 0.25

‘पद्धति’ का अर्थ नहीं है:

Options :

1. ✖ प्रणाली
2. ✖ ढंग

3. ✓ अनुकरण

4. ✗ परिपाटी

Question Number : 200 Question Id : 9983676620 Question Type : MCQ Option Shuffling : Yes

Correct Marks : 1 Wrong Marks : 0.25

गद्यांश के अनुसार द्विवेदी युग के बारे में कौन सा कथन गलत है?

Options :

1. ✗ आलोचना की वृद्धि होती है।

2. ✓ गद्य की अभिव्यक्ति क्षमता में हास हुआ।


3. ✗ रचना प्रक्रिया की वैश्विक दृष्टि बनी।

4. ✗ आलोचना की कई पद्धतियाँ विकसित हुईं।

Question Id : 9983676615 Question Type : COMPREHENSION Sub Question Shuffling Allowed : Yes Group Comprehension Questions : No

Question Numbers : (196 to 200)

Question Label : Comprehension



नीचे दिये गए गद्यांश को पढ़कर पूछे गये प्रश्नों के उत्तर दीजिए।

भारतेन्दु युग के पश्चात् दिवेदी युग का आगमन होता है। इस काल का नाम हिन्दी के प्रवर आचार्य महावीर प्रसाद दिवेदी के नाम पर पड़ा। हिन्दी आलोचना के क्षेत्र में दिवेदी युग में कई महत्वपूर्ण मोड़ आए और आलोचना नदी के समान धाराओं में विभक्त होकर साहित्य के हर पृष्ठ तक पहुँचने का प्रयास करती है। आलोचना का यह प्रयास हिन्दी आलोचना के जगत को समृद्ध करता है। आलोचना की उत्तरोत्तर वृद्धि दिवेदी युग में होती है। इसका प्रमुख कारण आलोचकों की आलोचना समझ बन जाने के कारण हुआ और दूसरा महत्वपूर्ण कारण यह रहा कि भारतीय अध्येता विश्वसाहित्य खासकर अंग्रेजी साहित्य के निकट आए और रचना प्रक्रिया की वैश्विक दृष्टि उनमें बन पायी। इधर हिन्दी में गद्य की अभिव्यक्ति क्षमता में वृद्धि हो गयी थी और हिन्दी में गंभीर विषय पर बात होने लगी थी तथा साहित्य में सुधार की प्रवृत्ति विकसित हो रही थी। जिसके नेतृत्वकर्ता आचार्य दिवेदी जी थे। दिवेदी युग में आलोचना की कई पद्धतियाँ विकसित हुईं जिनमें प्रमुखतः रीतिकालीन लक्षण ग्रंथों की परंपरा में काव्यांग विवेचन, तुलनात्मक मूल्यांकन, टीकाओं तथा नवीन व्यावहारिक पद्धतियों का विकास हुआ।

Sub questions

Question Number : 196 Question Id : 9983676616 Question Type : MCQ Option Shuffling : Yes
Correct Marks : 1 Wrong Marks : 0.25

गद्यांश का उल्लेख्य युग है:

Options :

1. ✖ भारतेन्दु युग
2. ✔ दिवेदी युग

3. ✖ शुक्ल युग

4. ✖ प्रसाद युग

Question Number : 197 Question Id : 9983676617 Question Type : MCQ Option Shuffling : Yes

Correct Marks : 1 Wrong Marks : 0.25

‘प्रवर’ का अर्थ है:

Options :

1. ✔ श्रेष्ठ

2. ✖ गौण

3. ✖ सहायक

4. ✖ पुष्ट

Question Number : 198 Question Id : 9983676618 Question Type : MCQ Option Shuffling : Yes

Correct Marks : 1 Wrong Marks : 0.25

‘अध्येता’ का अर्थ है:

Options :

1. ✖ दर्शक

2. ✖ श्रोता

3. ✖ अध्यापक

4. ✔ पाठक

Question Number : 199 Question Id : 9983676619 Question Type : MCQ Option Shuffling : Yes

Correct Marks : 1 Wrong Marks : 0.25

‘पद्धति’ का अर्थ नहीं है:

Options :

1. ✖ प्रणाली

2. ✖ ढंग

3. ✔ अनुकरण

4. ✖ परिपाटी

Question Number : 200 Question Id : 9983676620 Question Type : MCQ Option Shuffling : Yes

Correct Marks : 1 Wrong Marks : 0.25

गद्यांश के अनुसार दिववेदी युग के बारे में कौन सा कथन गलत है?

Options :

1. ✖ आलोचना की वृद्धि होती है।
2. ✔ गद्य की अभिव्यक्ति क्षमता में हास हुआ।
3. ✖ रचना प्रक्रिया की वैश्विक दृष्टि बनी।
4. ✖ आलोचना की कई पद्धतियाँ विकसित हुईं।

