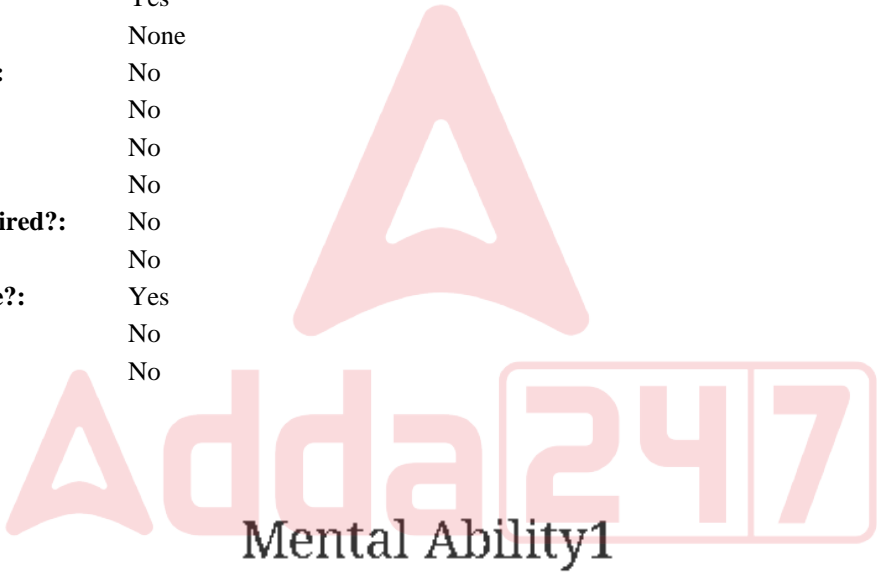


Education Consultant India Ltd.

Notations :

- 1.Options shown in green color and with ✓ icon are correct.
- 2.Options shown in red color and with ✖ icon are incorrect.

Question Paper Name:	GRADE II DASS 22nd July 2019 Shift 1
Subject Name:	GRADE II DASS
Creation Date:	2019-07-22 11:57:58
Duration:	120
Total Marks:	200
Display Marks:	Yes
Share Answer Key With Delivery Engine:	No
Actual Answer Key:	Yes
Calculator:	None
Magnifying Glass Required?:	No
Ruler Required?:	No
Eraser Required?:	No
Scratch Pad Required?:	No
Rough Sketch/Notepad Required?:	No
Protractor Required?:	No
Show Watermark on Console?:	Yes
Highlighter:	No
Auto Save on Console?:	No



Group Number :	1
Group Id :	586180222
Group Maximum Duration :	0
Group Minimum Duration :	0
Show Attended Group? :	No
Edit Attended Group? :	No
Break time:	0
Group Marks:	20
Is this Group for Examiner?:	No
Revisit allowed for group Instructions? :	Yes
Maximum Instruction Time:	0
Minimum Instruction Time:	0

Mental Ability1

Section Id :	586180226
Section Number :	1

Adda247
Test Prime

ALL EXAMS, ONE SUBSCRIPTION



1,00,000+
Mock Tests



**Personalised
Report Card**



**Unlimited
Re-Attempt**



600+
Exam Covered



25,000+ Previous
Year Papers



500%
Refund



ATTEMPT FREE MOCK NOW

Section type :	Online
Mandatory or Optional:	Mandatory
Number of Questions:	20
Number of Questions to be attempted:	20
Section Marks:	20

Sub-Section Number:	1
Sub-Section Id:	586180313
Question Shuffling Allowed :	Yes

Question Number : 1 Question Id : 5861804667 Question Type : MCQ Option Shuffling : Yes
Correct Marks : 1 Wrong Marks : 0.25

Select the letter cluster which is related to third letter cluster in the same way as the second letter cluster is related to first letter cluster.

ADMIT : YZIGP :: COLONY : ?

Options :

1. ✓ YMHMJU

2. ✗ YLHMJU

3. ✗ YNHNJU

4. ✗ ZMHMJU



Question Number : 1 Question Id : 5861804667 Question Type : MCQ Option Shuffling : Yes
Correct Marks : 1 Wrong Marks : 0.25

वह अक्षर समूह चुनें जो तीसरे अक्षर समूह से उसी तरह से संबंधित है, जिस तरह से दूसरा अक्षर समूह पहले अक्षर समूह से संबंधित है।

ADMIT : YZIGP :: COLONY : ?

Options :

1. ✓ YMHMJU

2. ✖ YLHMJU

3. ✖ YNHNJU

4. ✖ ZMHMJU

Question Number : 2 Question Id : 5861804668 Question Type : MCQ Option Shuffling : Yes

Correct Marks : 1 Wrong Marks : 0.25

Select the number which is related to third number in the same way as the second number is related to first number.

2162 : 90 :: 6222 : ?

Options :

1. ✖ 91

2. ✖ 93

3. ✔ 96

4. ✖ 98



Question Number : 2 Question Id : 5861804668 Question Type : MCQ Option Shuffling : Yes

Correct Marks : 1 Wrong Marks : 0.25

वह संख्या चुनें जो तीसरी संख्या से उसी तरह से संबंधित है, जिस तरह से दूसरी संख्या पहली संख्या से संबंधित है।

2162 : 90 :: 6222 : ?

Options :

1. ✖ 91

2. ✖ 93

3. ✔ 96

4. ✖ 98

Question Number : 3 Question Id : 5861804669 Question Type : MCQ Option Shuffling : Yes

Correct Marks : 1 Wrong Marks : 0.25

Three of the given four number pairs are similar in a certain manner while one is different. Choose the odd one out.

Options :

1. ✖ 624 : 64

2. ✖ 252 : 92

3. ✖ 446 : 74

4. ✔ 426 : 58

Question Number : 3 Question Id : 5861804669 Question Type : MCQ Option Shuffling : Yes

Correct Marks : 1 Wrong Marks : 0.25

चार प्रदत्त संख्या युग्मों में से तीन एक तरीके से समान हैं, जबकि उनमें से एक अलग है। इनमें से विषम चुनें।

Options :

1. ✖ 624 : 64

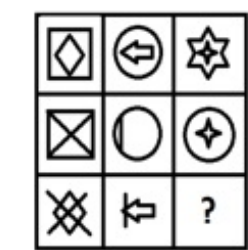
2. ✖ 252 : 92

3. ✖ 446 : 74

4. ✔ 426 : 58

Question Number : 4 Question Id : 5861804670 Question Type : MCQ Option Shuffling : Yes
Correct Marks : 1 Wrong Marks : 0.25

Select a figure from the options figures that would complete the figure matrix.



Options :

1. ✔

2. ✖

3. ✖

4. ✖

Question Number : 4 Question Id : 5861804670 Question Type : MCQ Option Shuffling : Yes
Correct Marks : 1 Wrong Marks : 0.25

इन वैकल्पिक आकृतियों में से वह आकृति चुनें जो इस आकृति आव्यूह को पूरा करती है?

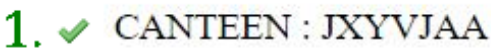


Options :



Question Number : 5 Question Id : 5861804671 Question Type : MCQ Option Shuffling : Yes
Correct Marks : 1 Wrong Marks : 0.25
Three of the given four letter cluster pairs are similar in a certain manner while one is different. Choose the odd one out.

Options :



3. ✖ UTILITY : EPQNUPE

4. ✖ ABANDON : WXWPKZ

Question Number : 5 Question Id : 5861804671 Question Type : MCQ Option Shuffling : Yes

Correct Marks : 1 Wrong Marks : 0.25

चार प्रदत्त शब्द युग्मों में से तीन एक तरीके से समान हैं, जबकि उनमें से एक अलग है। इनमें से विषम चुनें।

Options :

1. ✔ CANTEEN : JXYVJAA

2. ✖ BICYCLE : YEXAAHY

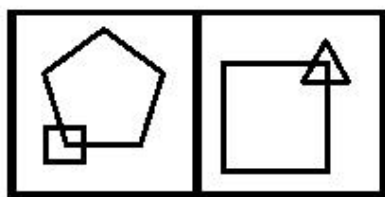
3. ✖ UTILITY : EPQNUPE

4. ✖ ABANDON : WXWPKZ

Question Number : 6 Question Id : 5861804672 Question Type : MCQ Option Shuffling : Yes

Correct Marks : 1 Wrong Marks : 0.25

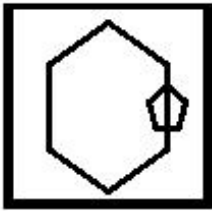
Select the figure amongst the option figures which has the same characteristics as the two Problem figures.



Problem Figures

Options :

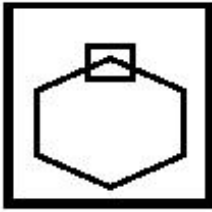
1. ✖



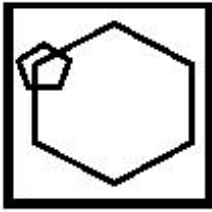
2. ✖



3. ✖

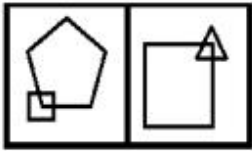


4. ✔



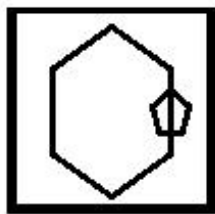
Question Number : 6 Question Id : 5861804672 Question Type : MCQ Option Shuffling : Yes
Correct Marks : 1 Wrong Marks : 0.25

इन वैकल्पिक आकृतियों में से वह आकृति चुनें जिसके अभिलक्षण दो समस्या आकृतियों के समान हैं।



समस्या आकृतियां

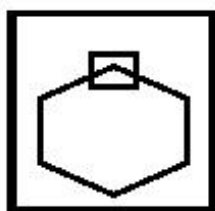
Options :



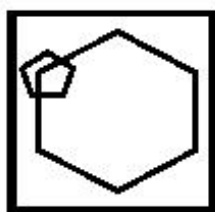
1. ✖



2. ✖



3. ✖



4. ✔

Question Number : 7 Question Id : 5861804673 Question Type : MCQ Option Shuffling : Yes

Correct Marks : 1 Wrong Marks : 0.25

Three of the given four word pairs are similar in a certain manner while one is different. Choose the odd one out.

Options :

1. ✖ Clock : Time

2. ✖ Thermometer : Temperature

3. ✔ Ammeter : Ampere

4. ✖ Anemometer : Wind Speed

Question Number : 7 Question Id : 5861804673 Question Type : MCQ Option Shuffling : Yes

Correct Marks : 1 Wrong Marks : 0.25

चार प्रदत्त शब्द युग्मों में से तीन एक तरीके से समान हैं, जबकि उनमें से एक अलग है। इनमें से विषम चुनें।

Options :

1. ✖ घड़ी : समय

2. ✖ थर्मामीटर : तापमान

3. ✔ एममीटर : एम्पेयर

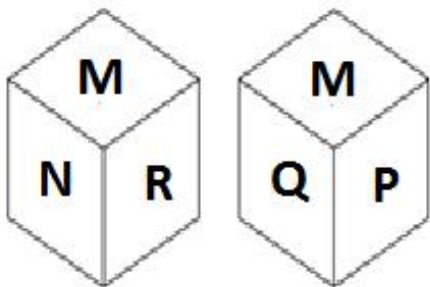
4. ✖ एनेमोमीटर : वायु गति

Question Number : 8 Question Id : 5861804674 Question Type : MCQ Option Shuffling : Yes

Correct Marks : 1 Wrong Marks : 0.25

Two different positions of the same dice, the faces of which show some letters, are shown below.

Which letter is on the face opposite the face showing R?



Options :

1. ✖ M

2. ✖ N

3. ✓ P

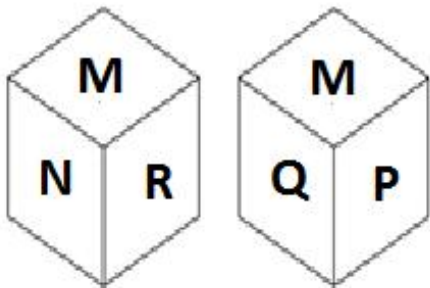
4. ✗ Q

Question Number : 8 Question Id : 5861804674 Question Type : MCQ Option Shuffling : Yes

Correct Marks : 1 Wrong Marks : 0.25

एक ही पांसे के दो अलग-अलग पहलू हैं, जिनके फलक कुछ अक्षर नीचे दिखाए गए हैं।

R को दिखाने वाले फलक के सामने वाले फलक पर कौन सा अक्षर है?



Options :

1. ✗ M

2. ✗ N

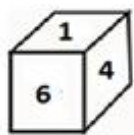
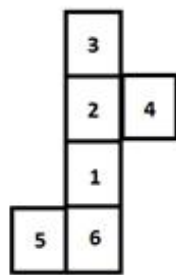
3. ✓ P

4. ✗ Q

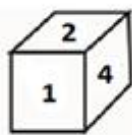
Question Number : 9 Question Id : 5861804675 Question Type : MCQ Option Shuffling : Yes

Correct Marks : 1 Wrong Marks : 0.25

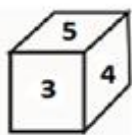
Which of the following patterns of the dices can be formed when the sheet given below is folded?



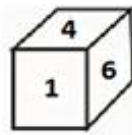
(1)



(2)



(3)



(4)

Options :

1. ✖ Only 1, 2 and 3

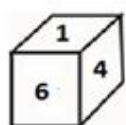
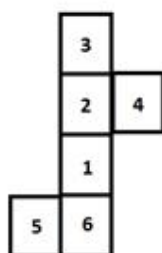
2. ✖ Only 2, 3 and 4

3. ✖ Only 2 and 4

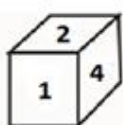
4. ✔ Only 1, 2 and 4

Question Number : 9 Question Id : 5861804675 Question Type : MCQ Option Shuffling : Yes
Correct Marks : 1 Wrong Marks : 0.25

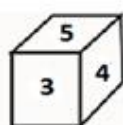
जब प्रदत्त शीट को फ़ोल्ड किया जाता है, तब डाइस (पासे) के पैटर्नों में से कौन सा पैटर्न बन सकता है?



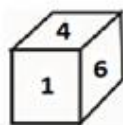
(1)



(2)



(3)



(4)

Options :

1. ✖ केवल 1, 2 और 3

2. ✖ केवल 2, 3 और 4

3. ✖ केवल 2 और 4

4. ✔ केवल 1, 2 और 4

Question Number : 10 Question Id : 5861804676 Question Type : MCQ Option Shuffling : Yes

Correct Marks : 1 Wrong Marks : 0.25

Asmita travelled 2 km towards East, took a right turn and went 4 km. After that, she took left turn and went 5 km. Then she took a right turn and went 5 km. Then she took a left turn and walked 5 km.

At what shortest distance is she from the starting point and in which direction?

Options :

1. ✖ 21 km, South – East

2. ✖ 12 km, South – West

3. ✖ 12 km, South – East

4. ✔ 15 km, South – East

Question Number : 10 Question Id : 5861804676 Question Type : MCQ Option Shuffling : Yes

Correct Marks : 1 Wrong Marks : 0.25

अस्मिता पूर्व की ओर 2 km चलती है, दाईं ओर मुड़कर 4 km चलती है। उसके बाद वह बाईं ओर मुड़कर 5 km चलती है। फिर वह दाईं ओर मुड़कर 5 km चलती है। फिर वह बाईं ओर मुड़कर 5 km चलती है।

वह अपने प्रारंभ बिंदु से कितनी अल्पतम दूरी पर है और किस दिशा में है?

Options :

1. ✖ 21 km, दक्षिण-पूर्व

2. ✖ 12 km, दक्षिण-पश्चिम

3. ✖ 12 km, दक्षिण-पूर्व

4. ✔ 15 km, दक्षिण-पूर्व

Question Number : 11 Question Id : 5861804677 Question Type : MCQ Option Shuffling : Yes

Correct Marks : 1 Wrong Marks : 0.25

Which number will replace the question mark in the given matrix?

66	335	8	111
42	106	6	68
77	83	7	?

Options :

1. ✖ 181

2. ✓ 183

3. ✗ 185

4. ✗ 187

Question Number : 11 Question Id : 5861804677 Question Type : MCQ Option Shuffling : Yes
Correct Marks : 1 Wrong Marks : 0.25

प्रदत्त आव्यूह में प्रश्न चिह्न के स्थान पर कौन सी संख्या आएगी?

66	335	8	111
42	106	6	68
77	83	7	?

Options :

1. ✗ 181

2. ✓ 183

3. ✗ 185

4. ✗ 187

Question Number : 12 Question Id : 5861804678 Question Type : MCQ Option Shuffling : Yes
Correct Marks : 1 Wrong Marks : 0.25

Eight friends A, B, C and D, E, F, G and H are sitting around a round table facing the centre and at equal distance from each other. H is not the neighbour of E and D. G is neighbour of E. C is between E and F. F is on the immediate right of B. H is on the immediate left of A. Which of the following statement is NOT correct?

Options :

1. ✗ D is at equal distance from E from both left and right ends.

2. ✓ D is sitting at second place to the left of C.

3. ✗ H is third to the left of B.

4. ✗ F is sitting between C and B.

Question Number : 12 Question Id : 5861804678 Question Type : MCQ Option Shuffling : Yes

Correct Marks : 1 Wrong Marks : 0.25

आठ दोस्त A, B, C और D, E, F, G और H एक गोल मेज़ के इर्द-गिर्द सामने की ओर देखते हुए एक दूसरे से समान दूरी पर बैठे हैं। H, E और D का पड़ोसी नहीं है। G, E का पड़ोसी है। C, E और F के बीच में है। F ठीक B की दाईं ओर है। H ठीक A की बाईं ओर है। इनमें से कौन सा कथन सही नहीं है?

Options :

1. ✗ D बाईं और दाईं दोनों तरफ से E से समान दूरी पर है।

2. ✓ D, C की बाईं ओर से दूसरे स्थान पर है।

3. ✗ H, B की बाईं ओर से तीसरे स्थान पर है।

4. ✗ F, C और B के बीच है।

Question Number : 13 Question Id : 5861804679 Question Type : MCQ Option Shuffling : Yes

Correct Marks : 1 Wrong Marks : 0.25

Anurag and Vijeta are sitting facing each other on a sunny morning. If the shadow of Vijeta falls to the left of Anurag, which direction is Anurag facing?

Options :

1. ✗ East

2. ✗ West

3. ✓ North

4. ✗ South

Question Number : 13 Question Id : 5861804679 Question Type : MCQ Option Shuffling : Yes

Correct Marks : 1 Wrong Marks : 0.25

एक खिलखिलाती सुबह को अनुराग और विजेता एक दूसरे की तरफ मुंह करके बैठे हैं। यदि विजेता की छाया अनुराग के बाईं ओर पड़ती है, तो अनुराग की दिशा पता करें?

Options :

1. ✗ पूर्व

2. ✗ पश्चिम

3. ✓ उत्तर

4. ✗ दक्षिण

Question Number : 14 Question Id : 5861804680 Question Type : MCQ Option Shuffling : Yes

Correct Marks : 1 Wrong Marks : 0.25

Three teachers Mayank, Firoz and Hardeep teach one of three different subjects i.e. Sociology, Hindi and Geography to one of three different batches P, Q and R. Hardeep does not teach Geography. Mayank does not teach batch P. P batch does not study Sociology. Batch Q does not study Geography and Sociology. Hindi is not taught by Hardeep and Firoz.

Which subject and batch is taught by Hardeep?

Options :

1. ✗ Geography, Batch R

2. ✓ Sociology, Batch R

3. ✖ Geography, Batch Q

4. ✖ Hindi, Batch P

Question Number : 14 Question Id : 5861804680 Question Type : MCQ Option Shuffling : Yes

Correct Marks : 1 Wrong Marks : 0.25

तीन शिक्षक मयंक, फ़िरोज़ और हरदीप तीन P, Q और R के बैचों को तीन अलग-अलग विषय सामाजिक-शास्त्र, हिंदी और भूगोल पढ़ाते हैं। हरदीप भूगोल नहीं पढ़ाता है। मयंक बैच P को नहीं पढ़ाता है। P बैच सामाजिक-शास्त्र नहीं पढ़ता है। बैच Q भूगोल और सामाजिक-शास्त्र नहीं पढ़ता है। हरदीप और फ़िरोज़ हिंदी नहीं पढ़ाते हैं।

हरदीप किस बैच को पढ़ाता है और कौन सा विषय पढ़ाता है?

Options :

1. ✖ भूगोल, बैच R

2. ✔ सामाजिक-शास्त्र, बैच R

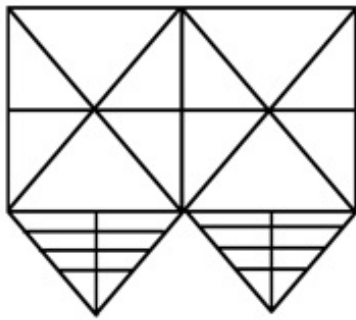
3. ✖ भूगोल, बैच Q

4. ✖ हिंदी, बैच P

Question Number : 15 Question Id : 5861804681 Question Type : MCQ Option Shuffling : Yes

Correct Marks : 1 Wrong Marks : 0.25

How many triangles are there in the figure given below?



Options :

1. ✓ 52

2. ✗ 53

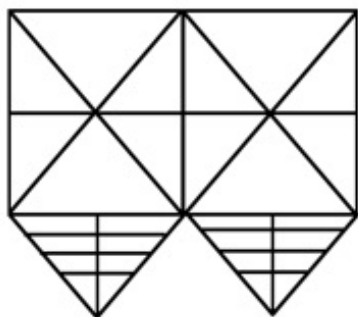
3. ✗ 54

4. ✗ 55

Question Number : 15 Question Id : 5861804681 Question Type : MCQ Option Shuffling : Yes

Correct Marks : 1 Wrong Marks : 0.25

नीचे दी गयी आकृति में कितने त्रिकोण हैं?



Options :

1. ✓ 52

2. ✖ 53

3. ✖ 54

4. ✖ 55

Question Number : 16 Question Id : 5861804682 Question Type : MCQ Option Shuffling : Yes
Correct Marks : 1 Wrong Marks : 0.25

Four statements are given, followed by three conclusions. The symbols used in them have meanings as follows:

$P @ Q$ means P is neither smaller than nor greater than Q.

$P \& Q$ means P is neither greater than nor equal to Q.

$P \# Q$ means P is neither smaller than nor equal to Q.

$P \% Q$ means P is not greater than Q.

$P \$ Q$ means P is not smaller than Q.

Now read the following statements and decide which of the conclusions is/are true.

Statements:

$U \# B$

$A \& B$

$B @ S$

$R \# B$

Conclusions:

I. $U \# A$

II. $R \# U$

III. $S \& U$

Options :

1. ✖ Only conclusion I is true.
2. ✖ Only conclusion I and II is true.
3. ✔ Only conclusion I and III is true.
4. ✖ All conclusions I, II and III are true.

Question Number : 16 Question Id : 5861804682 Question Type : MCQ Option Shuffling : Yes
Correct Marks : 1 Wrong Marks : 0.25

नीचे दिए गए प्रश्न के बाद चार कथन दिए गए हैं और उनके बाद तीन निष्कर्ष भी दिए गए हैं। इनमें प्रयुक्त प्रतीकों का अर्थ निम्नानुसार है:

- P @ Q का अर्थ है कि P न तो Q से छोटा है और न बड़ा है।
P & Q का अर्थ है कि P न तो Q से बड़ा है और न बराबर है।
P # Q का अर्थ है कि P न तो Q से छोटा है और न बराबर है।
P % Q का अर्थ है कि P, Q से बड़ा नहीं है।
P \$ Q का अर्थ है कि P, Q से छोटा नहीं है।

अब निम्न कथनों को पढ़ें और तय करें कि इनमें से कौन सा/से निष्कर्ष सही है/हैं।

कथन:

- U # B
A & B
B @ S
R # B

निष्कर्ष:

- I. U # A
II. R # U
III. S & U

Options :

1. ✖ केवल निष्कर्ष I सही है।
2. ✖ केवल निष्कर्ष I और II सही है।

3. ✓ केवल निष्कर्ष I और III सही है।

4. ✗ सभी निष्कर्ष I, II और III सही हैं।

Question Number : 17 Question Id : 5861804683 Question Type : MCQ Option Shuffling : Yes

Correct Marks : 1 Wrong Marks : 0.25

Three statements are given, followed by four conclusions numbered I to IV. Assuming the statements to be true even if they seem to be at variance with commonly known facts, decide which of the conclusions logically follow(s) from the given statements.

Statements:

All cameras are phones.

Some cameras are laptops.

Some laptops are gadgets.

Conclusions:

I. Some phones are laptops.

II. Some gadgets are camera.

III. No gadget is camera.

IV. No phone is laptop.

Options :

1. ✗ Only conclusion I and II follow.

2. ✗ Either conclusion II or III follow.

3. ✓ Only conclusion I and either II or III follow.

4. ✗ All conclusion follows.

Question Number : 17 Question Id : 5861804683 Question Type : MCQ Option Shuffling : Yes

Correct Marks : 1 Wrong Marks : 0.25

नीचे तीन कथन दिए हैं और उसके बाद I से IV अंकित चार निष्कर्ष भी दिए गए हैं। कथनों को सत्य मानते हुए, भले ही वे सामान्यतः ज्ञात तथ्यों से भिन्न लगते हों, तय करें कि कौन सा निष्कर्ष तार्किक रूप से प्रदत्त कथन का अनुसरण करता है।

कथन:

सभी कैमरे फोन हैं।

कुछ कैमरे लैपटॉप हैं।

कुछ लैपटॉप गैजेट हैं।

निष्कर्ष:

I. कुछ फोन लैपटॉप हैं।

II. कुछ गैजेट कैमरे हैं।

III. कोई गैजेट कैमरा नहीं है।

IV. कोई फोन लैपटॉप नहीं है।

Options :

1. ✖ केवल निष्कर्ष I और II अनुसरण करते हैं।

2. ✖ या तो निष्कर्ष II या III अनुसरण करता है।

3. ✔ केवल निष्कर्ष I और या तो II या III अनुसरण करते हैं।

4. ✖ सभी निष्कर्ष अनुसरण करते हैं।

Question Number : 18 Question Id : 5861804684 Question Type : MCQ Option Shuffling : Yes

Correct Marks : 1 Wrong Marks : 0.25

A team of six persons is to be selected from among five doctors, A, B, C, D and E, and five engineers, P, Q, R, S and T, such that there are equal number of doctors and engineers in the team and it meets the following criteria:

- i. C and S cannot go together.
- ii. B and D must go together.
- iii. A and Q must be together.
- iv. B and R cannot go together.
- v. A and S must go together.

Which of the following teams can be formed?

1. ARSBCD
2. CDPQAS
3. BTDECP
4. PAQSBD

Options :

1. ✓ Only 4

2. ✗ 1 and 2

3. ✗ 3 and 4

4. ✗ 2 and 4

Question Number : 18 Question Id : 5861804684 Question Type : MCQ Option Shuffling : Yes
Correct Marks : 1 Wrong Marks : 0.25

पाँच डॉक्टरों A, B, C, D और E, और पाँच इंजीनियरों P, Q, R, S और T में से कुछ इस प्रकार से छः की टीम चुनी जानी है कि टीम में डॉक्टर और इंजीनियर की संख्या समान हो और निम्न मानदंड पूरे करती हो:

- C और S एक साथ नहीं हो सकते।
- B और D एक साथ होने चाहिए।
- A और Q एक साथ होने चाहिए।
- B और R एक साथ नहीं हो सकते।
- A और S एक साथ होने चाहिए।

निम्नलिखित टीमों में से कौन सी बनाई जा सकती है?

- ARSB CD
- CDPQAS
- BTDECP
- PAQSBD

Options :

- ✓ केवल 4
- ✗ 1 और 2
- ✗ 3 और 4
- ✗ 2 और 4

Question Number : 19 Question Id : 5861804685 Question Type : MCQ Option Shuffling : Yes
Correct Marks : 1 Wrong Marks : 0.25

The criteria for selecting a candidate for the post of 'Lecturer - Mathematics' are as follow.

The candidate:

1. must have passed M.Sc. (Mathematics) examination with at least 70% marks.
2. must have secured more than 75% marks in the written test and more than 60% in the interview.
3. must have at least two years experience of working as a Lecturer.

However, if a candidate fulfils all the above criteria EXCEPT:

- a. no. 2, but has got more than 90% marks in M.Sc. (Mathematics), his/her case is to be referred to the Principal.
- b. no. 3, but has completed Ph.D. in Mathematics, his/her case is to be referred to the Academic Head.

Based on the criteria given and without assuming any additional information, you have to take a decision for the following candidate.

Mitali has completed M.Sc. and Ph.D. in Mathematics with 78% marks. She has obtained 76% marks in both interview and written test. She has got two years' work experience as a Lecturer.

Options :

1. ✓ The candidate is to be selected.
2. ✗ The candidate is not to be selected.
3. ✗ The candidate's case is to be referred to the Principal.
4. ✗ The candidate's case is to be referred to Academic Head.

Question Number : 19 Question Id : 5861804685 Question Type : MCQ Option Shuffling : Yes
Correct Marks : 1 Wrong Marks : 0.25

‘प्राध्यापक - गणित’ के पद के लिए उम्मीदवार चुनने के लिए मानदंड निम्नानुसार हैं:

उम्मीदवार:

1. ने एम.एस.सी (गणित) में न्यूनतम 70% अंक से उत्तीर्ण होना चाहिए।
2. लिखित परीक्षा में 75% से अधिक और साक्षात्कार में 60% से अधिक अंक होने चाहिए।
3. प्राध्यापक के रूप में कम से कम 2 साल का अनुभव होना चाहिए।

हालाँकि, यदि उम्मीदवार उक्त सभी मानदंड पूरे करता है, सिवाए:

- a. नं. 2, लेकिन उसके एम.एस.सी (गणित) में 90% से अधिक अंक हैं, तो उसका मामला प्रधानाचार्य को भेजा जाएगा।
- b. नं. 3, लेकिन उसने गणित में पीएच.डी पूरी की हुई है, तो उसका मामला अकादमिक प्रमुख को भेजा जाएगा।

प्रदत्त मानदंडों के आधार पर और किसी भी अतिरिक्त जानकारी पर गौर किए बिना, आपको निम्न उम्मीदवार के लिए फैसला लेना है।

मिताली ने गणित में एम.एस.सी और पी.एच.डी 78% अंकों के साथ की है। उसे लिखित परीक्षा और साक्षात्कार दोनों में ही 76% अंक मिले हैं। उसके पास दो साल का प्राध्यापक के रूप में काम करने का अनुभव भी है।

Options :

1. ✓ उम्मीदवार चुना जाना चाहिए।
2. ✗ उम्मीदवार को नहीं चुना जाना चाहिए।
3. ✗ उम्मीदवार के मामले को प्रधानाचार्य के पास भेज दिया जाएगा।
4. ✗ उम्मीदवार के मामले को अकादमिक प्रमुख के पास भेज दिया जाएगा।

Question Number : 20 Question Id : 5861804686 Question Type : MCQ Option Shuffling : Yes

Correct Marks : 1 Wrong Marks : 0.25

The criteria for selecting a candidate for the post of 'Marketing Executive' are as follow.

The candidate:

1. must have passed Master of Business Administration (M.B.A.) examination with at least 75% marks.
2. must not be less than 28 years and not more than 32 years of age as on 1 January 2019.
3. must have at least two years experience of working as a Sales/Marketing Executive.

However, if a candidate fulfils all the above criteria EXCEPT:

- a. no. 2, but has got more than 3 years experience of working as Sales/Marketing Executive, his/her case is to be referred to the Head (Marketing division).
- b. no. 3, but has more than 85% marks in Master of Business Administration (M.B.A.), his/her case is to be referred to the Senior Marketing Manager.

Based on the criteria given and without assuming any additional information, you have to take a decision for the following candidate.

Swaroop has passed M.B.A. with 76% marks. She has been working as Sales Executive for the last three and a half years. She was born on 28th December 1986.

Options :

1. ✗ The candidate is to be selected.
2. ✗ The candidate is not to be selected.
3. ✓ The candidate's case is to be referred to the Head (Marketing division)
4. ✗ The candidate's case is to be referred to Senior Marketing Manager.

Correct Marks : 1 Wrong Marks : 0.25

किसी कंपनी में 'बिक्री कार्यकारी' के पद के लिए उम्मीदवार का चयन करने हेतु निर्धारित मापदंड निम्नानुसार हैं।

उम्मीदवार:

1. कम से कम 75% अंकों के साथ मास्टर ऑफ बिजनेस एडमिनिस्ट्रेशन (M.B.A.) परीक्षा उत्तीर्ण किया होना चाहिए।
2. 1 जनवरी 2019 को 28 वर्ष से कम और 32 वर्ष से अधिक का नहीं होना चाहिए।
3. उसके पास बिक्री / बिक्री कार्यकारी के रूप में कम से कम दो साल का कार्य अनुभव होना चाहिए।

हालांकि, यदि कोई उम्मीदवार निम्न के अलावा उपरोक्त सभी मानदंडों को पूरा करता है:

- a. क्रम संख्या 2 के अलावा, लेकिन उसे बिक्री / बिक्री कार्यकारी के रूप में 3 साल से अधिक का कार्यानुभव है तो उसके मामले को प्रमुख (बिक्री विभाग) के पास भेजा जाएगा।
- b. क्रम संख्या 3 के अलावा, लेकिन उसने मास्टर ऑफ बिजनेस एडमिनिस्ट्रेशन (M.B.A.) में 85% से अधिक अंक प्राप्त किए हैं, तो उसके मामले को वरिष्ठ बिक्री प्रबंधक के पास भेजा जाएगा।

दिए गए मानदंडों के आधार पर और बिना किसी अतिरिक्त जानकारी का उपयोग किए, आपको निम्नलिखित उम्मीदवार के लिए निर्णय लेना है।

स्वरूपा ने 76% अंकों के साथ M.B.A. पास किया है। वह पिछले साढ़े तीन साल से बिक्री कार्यकारी के रूप में काम कर रही है। उसका जन्म 28 दिसंबर 1986 को हुआ था।

Options :

1. ✖ उम्मीदवार चुना जाना चाहिए।
2. ✖ उम्मीदवार को नहीं चुना जाना चाहिए।
3. ✔ उम्मीदवार के मामले को प्रमुख (बिक्री विभाग) के पास भेज दिया जाएगा।
4. ✖ उम्मीदवार के मामले को वरिष्ठ बिक्री प्रबंधक के पास भेज दिया जाएगा।

Mental Ability2

Group Number :	2
Group Id :	586180223
Group Maximum Duration :	0
Group Minimum Duration :	0

Show Attended Group? :	No
Edit Attended Group? :	No
Break time:	0
Group Marks:	20
Is this Group for Examiner?:	No
Revisit allowed for group Instructions? :	Yes
Maximum Instruction Time:	0
Minimum Instruction Time:	0

Mental Ability2

Section Id :	586180227
Section Number :	1
Section type :	Online
Mandatory or Optional:	Mandatory
Number of Questions:	20
Number of Questions to be attempted:	20
Section Marks:	20

Sub-Section Number:	1
Sub-Section Id:	586180314
Question Shuffling Allowed :	Yes

Question Number : 21 Question Id : 5861804687 Question Type : MCQ Option Shuffling : Yes
Correct Marks : 1 Wrong Marks : 0.25

Which of the option figures represents the correct water image of the figure given below?



Options :



1. ✖

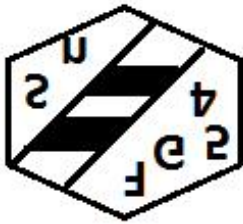
2. ✓



3. ✖



4. ✖



Question Number : 21 Question Id : 5861804687 Question Type : MCQ Option Shuffling : Yes
Correct Marks : 1 Wrong Marks : 0.25

निम्न में से कौन सा विकल्प नीचे दी गई आकृति की सही जल-छवि को दर्शाता है?



Options :

1. ✖





2. ✓



3. ✗



4. ✗

Question Number : 22 Question Id : 5861804688 Question Type : MCQ Option Shuffling : Yes

Correct Marks : 1 Wrong Marks : 0.25

Select the correct mirror image of the given cluster when a vertical mirror is placed on the right of the word.

RfG5E49pzK34

Options :

1. ✗ RfG2E49pzK34

2. ✗ RfG2E49pzK34

3. ✗ RfG2E49pzK34

4. ✓ RfG2E49pzK34

Question Number : 22 Question Id : 5861804688 Question Type : MCQ Option Shuffling : Yes

Correct Marks : 1 Wrong Marks : 0.25

प्रदत्त समूह की सही दर्पण छवि चुनें, अगर शब्द के दाहिने ओर एक ऊर्ध्वाधर दर्पण रखा जाता है।

RfG5E49pzK34

Options :

1. ✖ 4EKsq64E7G1R

2. ✖ 4EKsq04E7G1R

3. ✖ RfG7E40pzK34

4. ✔ 4EKsq04E7G1R

Question Number : 23 Question Id : 5861804689 Question Type : MCQ Option Shuffling : Yes

Correct Marks : 1 Wrong Marks : 0.25

Eight symbol-number clusters are given below three of which are same. Find the three clusters that are exactly same.

(A) 6 4 R ## D & 7 % 5 \$ 2 @ 8 ^ S

(B) 6 4 R ## D & 7 % 5 \$ 2 @ 9 ^ S

(C) 6 4 R ## D & 7 % 5 8 2 @ 8 ^ S

(D) 6 4 R # S D & 7 % 5 \$ 2 @ 8 ^ S

(E) 6 4 R ## D & 7 % # \$ 2 @ 8 ^ S

(F) 6 4 R ## D & 7 % 5 \$ 2 @ 8 ^ S

(G) 6 4 R ## D & 7 % 5 \$ 3 @ 8 ^ S

(H) 6 4 R ## D & 7 % 5 \$ 2 @ 8 ^ S

Options :

1. ✖ B, C and E

2. ✖ A, C and D

3. ✔ A, F and H

4. ✖ B, F and H

Question Number : 23 Question Id : 5861804689 Question Type : MCQ Option Shuffling : Yes

Correct Marks : 1 Wrong Marks : 0.25

नीचे आठ प्रतीक-संख्या के समूह दिए गए हैं, इनमें से तीन एक समान हैं। बिल्कुल समान तीन समूह पता करें।

(A) 6 4 R # # D & 7 % 5 \$ 2 @ 8 ^ \$

(B) 6 4 R # # D & 7 % 5 \$ 2 @ 9 ^ \$

(C) 6 4 R # # D & 7 % 5 8 2 @ 8 ^ \$

(D) 6 4 R # \$ D & 7 % 5 \$ 2 @ 8 ^ \$

(E) 6 4 R # # D & 7 % # \$ 2 @ 8 ^ \$

(F) 6 4 R # # D & 7 % 5 \$ 2 @ 8 ^ \$

(G) 6 4 R # # D & 7 % 5 \$ 3 @ 8 ^ \$

(H) 6 4 R # # D & 7 % 5 \$ 2 @ 8 ^ \$

Options :

1. ✖ B, C और E

2. ✖ A, C और D

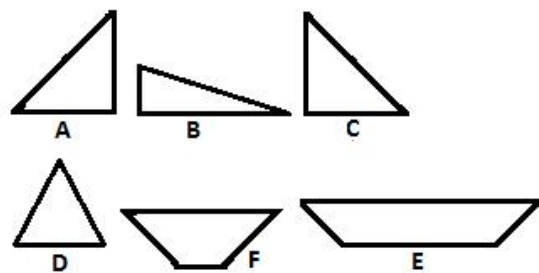
3. ✔ A, F और H

4. ✖ B, F और H

Question Number : 24 Question Id : 5861804690 Question Type : MCQ Option Shuffling : Yes

Correct Marks : 1 Wrong Marks : 0.25

Which of the given figures, when fitted into each other would form a rectangle? Select an appropriate combination from the given options.



Options :

1. ✖ ABCE

2. ✖ ABED

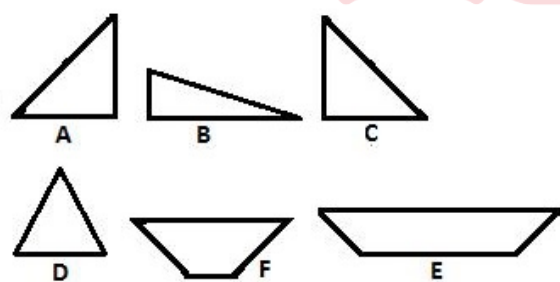
3. ✔ ACEF

4. ✖ BCDF

Question Number : 24 Question Id : 5861804690 Question Type : MCQ Option Shuffling : Yes

Correct Marks : 1 Wrong Marks : 0.25

इनमें से किस आकृति को एक दूसरे में फिट करने पर, एक आयत बनेगा? प्रदत्त विकल्पों में से उचित संयोजन चुनें:



Options :

1. ✖ ABCE

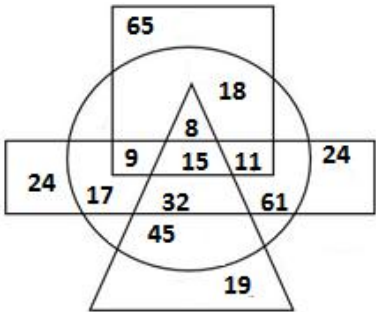
2. ✖ ABED

3. ✓ ACEF

4. ✗ BCDF

Question Number : 25 Question Id : 5861804691 Question Type : MCQ Option Shuffling : Yes
Correct Marks : 1 Wrong Marks : 0.25

In the diagram given below, the circle stands for ‘Girls’, the triangle stands for ‘Athletes’, the rectangle stands for ‘Social workers’, and the square stands for ‘Students’. The numbers in different segments represent the number of persons.



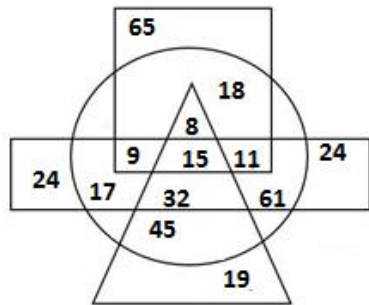
Which of following statement is NOT correct?

Options :

- 1. ✗ The number of girls who are athletes and social workers but are not students is 32.
- 2. ✗ The number of girls who are social workers, athletes and students is 15.
- 3. ✗ The number of girls who are not social workers but are athletes as well as students is 8.
- 4. ✓ The number of girls who are social workers but are neither athletes nor students is 11.

Question Number : 25 Question Id : 5861804691 Question Type : MCQ Option Shuffling : Yes
Correct Marks : 1 Wrong Marks : 0.25

नीचे प्रदत्त आरेख में, वृत्त 'लड़कियों' को दर्शाता है, त्रिभुज 'खिलाड़ी' को दर्शाता है, आयत 'सामाजिक कार्यकर्ता' को दर्शाता है और वर्ग 'छात्र' को दर्शाता है। अलग-अलग खंडों की दी गई संख्याएँ व्यक्तियों की संख्या को दर्शाती हैं।



इनमें से कौन सा कथन सही नहीं है?

Options :

1. ✖

ऐसी लड़कियों की संख्या 32 है, जो खिलाड़ी भी हैं और सामाजिक कार्यकर्ता भी हैं, लेकिन छात्र नहीं हैं।

2. ✖ ऐसी लड़कियों की संख्या 15 है, जो सामाजिक कार्यकर्ता, खिलाड़ी लेकिन छात्र नहीं हैं।

3. ✖

ऐसी लड़कियों की संख्या 8 है, जो सामाजिक कार्यकर्ता तो नहीं हैं, लेकिन खिलाड़ी और छात्र हैं।

4. ✔

ऐसी लड़कियों की संख्या 11 है, जो सामाजिक कार्यकर्ता तो हैं, लेकिन खिलाड़ी और छात्र नहीं हैं।

Question Number : 26 Question Id : 5861804692 Question Type : MCQ Option Shuffling : Yes

Correct Marks : 1 Wrong Marks : 0.25

Select the option figure which contains figure X embedded in it as its part.





Figure-X

Options :



Question Number : 26 Question Id : 5861804692 Question Type : MCQ Option Shuffling : Yes
Correct Marks : 1 Wrong Marks : 0.25

इनमें से वह आकृति चुनें जिसमें आकृति X इसका एक भाग है।



आकृति X

Options :

1. ✖




2. ✖



3. ✔



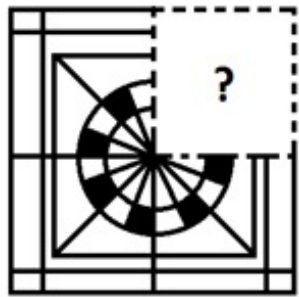
4. ✖



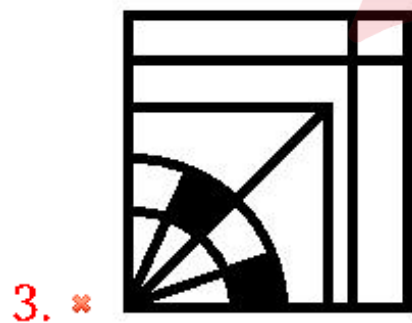
Question Number : 27 Question Id : 5861804693 Question Type : MCQ Option Shuffling : Yes

Correct Marks : 1 Wrong Marks : 0.25

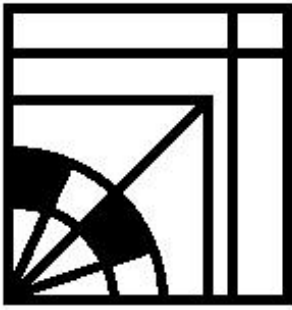
Which of the following option figure will complete the pattern in the figure given below?



Options :

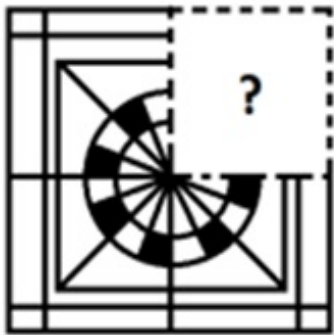


4. ✓

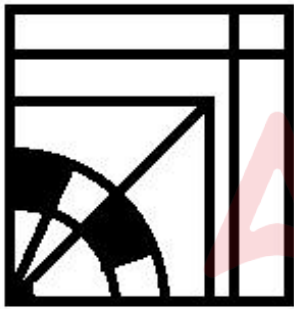


Question Number : 27 Question Id : 5861804693 Question Type : MCQ Option Shuffling : Yes
Correct Marks : 1 Wrong Marks : 0.25

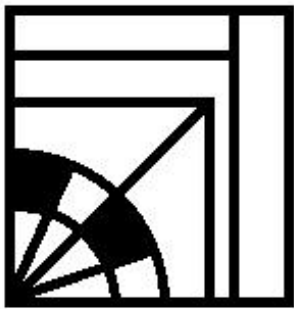
निम्नलिखित विकल्प में से कौन सी आकृति नीचे दी गई आकृति पैटर्न को पूरा करेगी?



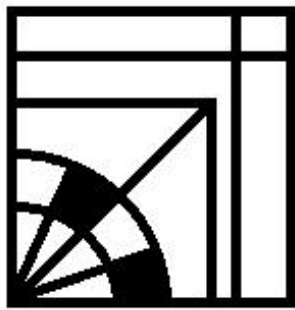
Options :



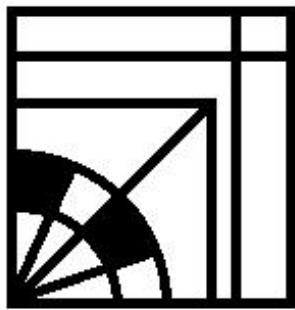
1. ✗



2. ✗



3. ✖



4. ✔

Question Number : 28 Question Id : 5861804694 Question Type : MCQ Option Shuffling : Yes

Correct Marks : 1 Wrong Marks : 0.25

In a family of six persons, Lakhan is Gaurav's father. Damini is married to Rakesh. Sameera is the mother-in-law of Damini. Urvashi is the daughter of Sameera. Gaurav and Rakesh are brothers.

Which of the following statement about the family is NOT correct?

Options :

1. ✖ Sameera is wife of Lakhan.

2. ✖ Gaurav is son of Sameera.

3. ✖ Lakhan is father-in-law of Damini.

4. ✔ Urvashi is Damini's sister.

Question Number : 28 Question Id : 5861804694 Question Type : MCQ Option Shuffling : Yes

Correct Marks : 1 Wrong Marks : 0.25

छ: व्यक्तियों के एक परिवार में, लखन, गौरव का पिता है। दामिनी की शादी राकेश से हुई है। समीरा, दामिनी की सास है। उर्वशी, समीरा की बेटी है। गौरव और राकेश भाई हैं।

परिवार के बारे में इनमें से कौन सा कथन सही नहीं है?

Options :

1. ✖ समीरा, लखन की पत्नी है।

2. ✖ गौरव, समीरा का बेटा है।

3. ✖ लखन, दामिनी का ससुर है।

4. ✔ उर्वशी, दामिनी की बहन है।

Question Number : 29 Question Id : 5861804695 Question Type : MCQ Option Shuffling : Yes
Correct Marks : 1 Wrong Marks : 0.25

$A + B$ means 'A is sister of B'

$A - B$ means 'A is wife of B'

$A \times B$ means 'A is father of B'

$A \div B$ means 'A is mother of B'

$A \$ B$ means 'A is brother of B'

If, $K + P \div J \times K - Q \$ D \div T + H$,

then which of the following statement is correct?

Note: For this question, discrepancy is found in question/answer. So, this question is ignored for all candidates.

Options :

1. K is mother of T.

2. H is daughter of Q.

3. P is grandmother of Q.

4. K is granddaughter of P.

Question Number : 29 Question Id : 5861804695 Question Type : MCQ Option Shuffling : Yes

Correct Marks : 1 Wrong Marks : 0.25

A + B का अर्थ है 'A, B की बहन है'

A - B का अर्थ है 'A, B की पत्नी है'

A × B का अर्थ है 'A, B का पिता है'

A ÷ B का अर्थ है 'A, B की माता है'

A \$ B का अर्थ है 'A, B का भाई है'

यदि, $K + P \div J \times K - Q \$ D \div T + H$ है,

तो इनमें से कौन सा कथन सही है?

Note: For this question, discrepancy is found in question/answer. So, this question is ignored for all candidates.

Options :

1. K, T की माता है।

2. H, Q की बेटी है।

3. P, Q की दादी है।

4. K, P की पोती है।

Question Number : 30 Question Id : 5861804696 Question Type : MCQ Option Shuffling : Yes

Correct Marks : 1 Wrong Marks : 0.25

A question is given, followed by four statements labelled I, II, III and IV, each containing some information. Decide which of the statements is/are sufficient/necessary to answer the question.

Question:

How is S related to T?

Statements:

- I. U is married to T.
- II. T has two sons P and Q.
- III. H is married to Q.
- IV. S is daughter of H.

Options :

1. ✖ Statement I and II together are sufficient.
2. ✖ Statement I, II and III together are sufficient.
3. ✔ Statement II, III and IV together are sufficient.
4. ✖ All the statements together are necessary.

Question Number : 30 Question Id : 5861804696 Question Type : MCQ Option Shuffling : Yes

Correct Marks : 1 Wrong Marks : 0.25

नीचे दिए गए प्रश्न के बाद I, II, III और IV लेबल के तहत चार कथन दिए गए हैं, प्रत्येक में कुछ न कुछ जानकारी दी गई है। तय करें कि प्रश्न का उत्तर देने के लिए इनमें से कौन सा/से कथन पर्याप्त/ज़रूरी है/हैं।

प्रश्न:

S, T से कैसे सम्बंधित है?

कथन:

- I. U की शादी T से हुई है।
- II. P और Q, T के बेटे हैं।
- III. H की शादी Q से हुई है।
- IV. S, H की बेटी है।

Options :

1. ✖ कथन I और II एकसाथ पर्याप्त हैं।
2. ✖ कथन I, II और III एकसाथ पर्याप्त हैं।
3. ✔ कथन II, III और IV एकसाथ पर्याप्त हैं।
4. ✖ सभी कथन एकसाथ पर्याप्त हैं।

Question Number : 31 Question Id : 5861804697 Question Type : MCQ Option Shuffling : Yes

Correct Marks : 1 Wrong Marks : 0.25

If 'EXCEPT' is coded as 107 in a code language, how would 'VERBAL' be coded in the same code language?

Options :

1. ✖ 99
2. ✖ 100
3. ✖ 101
4. ✔ 102

Question Number : 31 Question Id : 5861804697 Question Type : MCQ Option Shuffling : Yes

Correct Marks : 1 Wrong Marks : 0.25

यदि किसी कोड भाषा में 'EXCEPT' को 107 कोड किया गया है, तो उसी कोड भाषा में 'VERBAL' को क्या कोड किया जाएगा?

Options :

1. ✖ 99

2. ✖ 100

3. ✖ 101

4. ✔ 102

Question Number : 32 Question Id : 5861804698 Question Type : MCQ Option Shuffling : Yes

Correct Marks : 1 Wrong Marks : 0.25

Which of the following pairs of numbers and signs, when their positions are interchanged, will correctly solve the given mathematical equation?

$$135 \div 15 \times 45 - 810 + 435 = 1104$$

Options :

1. ✖ 435 and 45, + and ÷

2. ✖ 45 and 810, - and ×

3. ✖ 435 and 135, + and -

4. ✔ 435 and 135, + and ÷

Question Number : 32 Question Id : 5861804698 Question Type : MCQ Option Shuffling : Yes

Correct Marks : 1 Wrong Marks : 0.25

संख्याओं और चिन्हों के इन युग्मों में से कौन से युग्म में उनकी स्थिति आपस में बदलने पर एक प्रदत्त गणितीय समीकरण को सही से हल करेगा?

$$135 \div 15 \times 45 - 810 + 435 = 1104$$

Options :

1. ✖ 435 और 45, + और ÷

2. ✖ 45 और 810, - और ✖

3. ✖ 435 और 135, + और -

4. ✔ 435 और 135, + और ÷

Question Number : 33 Question Id : 5861804699 Question Type : MCQ Option Shuffling : Yes

Correct Marks : 1 Wrong Marks : 0.25

A total of 700 students like three different flavours of ice-cream i.e. Vanilla, strawberry and chocolate. Only 19% like all three flavours. The number of students who like any two and only two ice-cream flavours is 23% of the total students. The number of students who like Vanilla flavor alone is 289. What is the total number of students who like strawberry flavor alone or chocolate flavour alone?

Options :

1. ✖ 113

2. ✖ 115

3. ✔ 117

4. ✖ 129

Question Number : 33 Question Id : 5861804699 Question Type : MCQ Option Shuffling : Yes

Correct Marks : 1 Wrong Marks : 0.25

कुल 700 छात्रों को आइसक्रीम के तीन अलग-अलग स्वाद - वनिला, स्ट्रॉबेरी और चॉकलेट पसंद हैं। केवल 19% को ही सभी स्वाद अच्छे लगते हैं। किन्हीं दो या केवल दो स्वादों को पसंद करने वाले छात्रों की संख्या कुल छात्रों का 23% है। केवल वनिला स्वाद पसंद करने वाले छात्रों की संख्या 289 है। केवल स्ट्रॉबेरी या केवल चॉकलेट पसंद करने वाले छात्रों की कुल संख्या ज्ञात करें।

Options :

1. ✖ 113

2. ✖ 115

3. ✔ 117

4. ✖ 129

Question Number : 34 Question Id : 5861804700 Question Type : MCQ Option Shuffling : Yes

Correct Marks : 1 Wrong Marks : 0.25

Among five objects P, Q, R, S and T; P is four and a half times heavier than R; S is six and half times heavier than T; Q is two and a half times heavier than S. R is twice as heavy as S. Which of the following the statements is NOT correct?

Options :

1. ✖ Q is 16.25 times heavier than T.

2. ✖ R is 13 times heavier than T.

3. ✔ P is 48.5 times heavier than T.

4. ✖ P is 9 times heavier than S.

Question Number : 34 Question Id : 5861804700 Question Type : MCQ Option Shuffling : Yes

Correct Marks : 1 Wrong Marks : 0.25

पाँच वस्तुओं P, Q, R, S और T में से; P, R से साढ़े चार गुना भारी है; S, T से साढ़े छः गुना भारी है; Q, S से ढाई गुना भारी है। R, S से दो गुना भारी है। इनमें से कौन सा कथन सही नहीं है?

Options :

1. ✖ Q, T से 16.25 गुना भारी है।

2. ✖ R, T से 13 गुना भारी है।

3. ✓ P, T से 48.5 गुना भारी है।

4. ✗ P, S से 9 गुना भारी है।

Question Number : 35 Question Id : 5861804701 Question Type : MCQ Option Shuffling : Yes

Correct Marks : 1 Wrong Marks : 0.25

Four persons A, B, C and D have different amount of rupees with them. B says to D, 'If you give me 5 rupees, I will have five rupees less than A.' C says to D, 'If I give you one rupee, I will have exactly double amount than you.' C says to A, 'If I give you 8 rupees, I will have 5 rupees more than you'. If A and B together have total 86 rupees, how many rupees does B have?

Options :

1. ✗ 36

2. ✗ 37

3. ✓ 38

4. ✗ 39

Question Number : 35 Question Id : 5861804701 Question Type : MCQ Option Shuffling : Yes

Correct Marks : 1 Wrong Marks : 0.25

चार व्यक्तियों A, B, C और D के पास अलग-अलग मात्रा में रुपये हैं। B, D से कहता है, "अगर तुम मुझे 5 रुपये दे दो, तो मेरे पास A से पाँच रुपये कम होंगे।" C, D से कहता है, "अगर मैं तुम्हें एक रुपया दे दूँ, तो मेरे पास तुमसे ठीक दोगुना रुपये होंगे।" C, A से कहता है, "अगर मैं तुम्हें 8 रुपये दे दूँ, तो मेरे पास तुमसे 5 रुपये ज़्यादा होंगे।" यदि A और B दोनों के पास कुल 86 रुपये हैं, तो B के पास कितने रुपये हैं?

Options :

1. ✗ 36

2. ✗ 37

3. ✓ 38

4. ✗ 39

Question Number : 36 Question Id : 5861804702 Question Type : MCQ Option Shuffling : Yes

Correct Marks : 1 Wrong Marks : 0.25

Three of the given four words are similar in a certain manner while one is different. Choose the odd one out.

Options :

1. ✗ Sphygmomanometer

2. ✗ Stethoscope

3. ✗ Thermometer

4. ✓ Seismograph

Question Number : 36 Question Id : 5861804702 Question Type : MCQ Option Shuffling : Yes

Correct Marks : 1 Wrong Marks : 0.25

प्रदत्त चार शब्दों में से तीन एक तरीके से समान हैं, जबकि एक अलग है। इनमें से विषम चुनें।

Options :

1. ✗ रक्तदाबमापी

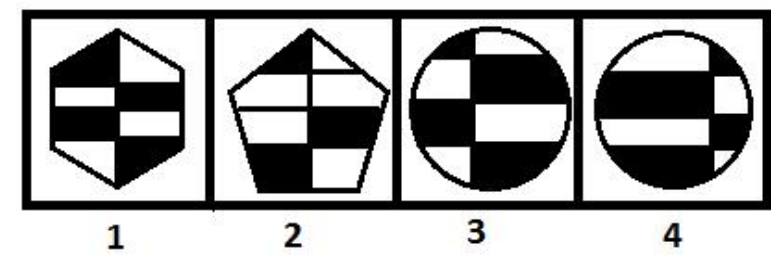
2. ✗ स्टेथोस्कोप

3. ✗ थर्मामीटर

4. ✓ भूकंप-सूचक यंत्र

Question Number : 37 Question Id : 5861804703 Question Type : MCQ Option Shuffling : Yes
Correct Marks : 1 Wrong Marks : 0.25

Three of the given four figures are similar in a certain manner while one is different. Choose the odd one out.



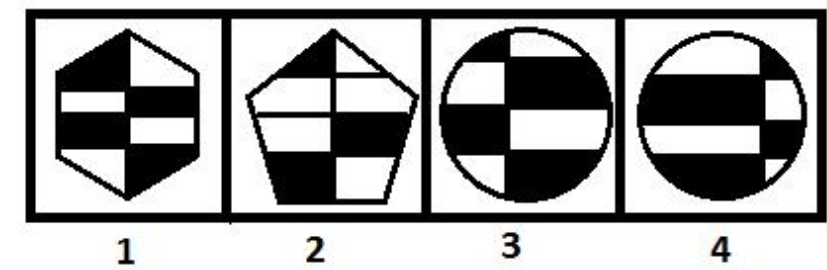
Options :

- 1. ✗ 1
- 2. ✓ 2
- 3. ✗ 3
- 4. ✗ 4



Question Number : 37 Question Id : 5861804703 Question Type : MCQ Option Shuffling : Yes
Correct Marks : 1 Wrong Marks : 0.25

प्रदत्त चार आकृतियों में से तीन एक तरीके से समान है, जबकि एक अलग है। इनमें से विषम चुनें।



Options :

1. ✖ 1

2. ✔ 2

3. ✖ 3

4. ✖ 4

Question Number : 38 Question Id : 5861804704 Question Type : MCQ Option Shuffling : Yes

Correct Marks : 1 Wrong Marks : 0.25

Which number will replace the question mark (?) in the following series?

18, 19, 19, 21, ?, 45

Options :

1. ✖ 36

2. ✖ 38

3. ✖ 40

4. ✔ 42

Question Number : 38 Question Id : 5861804704 Question Type : MCQ Option Shuffling : Yes

Correct Marks : 1 Wrong Marks : 0.25

वह विकल्प चुनें जो श्रृंखला में प्रश्न चिन्ह (?) को सही से प्रतिस्थापित करेगा।

18, 19, 19, 21, ?, 45

Options :

1. ✖ 36

2. ✖ 38

3. ✖ 40

4. ✔ 42

Question Number : 39 Question Id : 5861804705 Question Type : MCQ Option Shuffling : Yes
Correct Marks : 1 Wrong Marks : 0.25

Which number will replace the question mark (?) in the following series?

75, 79, 90, 120, ?

Options :

1. ✖ 185

2. ✖ 186

3. ✔ 187

4. ✖ 188

Question Number : 39 Question Id : 5861804705 Question Type : MCQ Option Shuffling : Yes
Correct Marks : 1 Wrong Marks : 0.25

वह विकल्प चुनें जो श्रृंखला में प्रश्न चिन्ह (?) को सही से प्रतिस्थापित करेगा।

75, 79, 90, 120, ?

Options :

1. ✖ 185

2. ✖ 186

3. ✔ 187

4. ✖ 188

Question Number : 40 Question Id : 5861804706 Question Type : MCQ Option Shuffling : Yes
Correct Marks : 1 Wrong Marks : 0.25

Which number will replace the question mark (?) in the following series?

235, 276, 335, 423, 552, ?

Options :

1. ✖ 655

2. ✖ 666

3. ✖ 718

4. ✔ 735

Question Number : 40 Question Id : 5861804706 Question Type : MCQ Option Shuffling : Yes
Correct Marks : 1 Wrong Marks : 0.25

वह विकल्प चुनें जो श्रृंखला में प्रश्न चिन्ह (?) को सही से प्रतिस्थापित करेगा।

235, 276, 335, 423, 552, ?

Options :

1. ✖ 655

2. ✖ 666

3. ✖ 718

4. ✔ 735

General Awareness1

Group Number :	3
Group Id :	586180224
Group Maximum Duration :	0
Group Minimum Duration :	0
Show Attended Group? :	No
Edit Attended Group? :	No
Break time:	0
Group Marks:	20
Is this Group for Examiner?:	No
Revisit allowed for group Instructions? :	Yes
Maximum Instruction Time:	0
Minimum Instruction Time:	0

General Awareness1

Section Id :	586180228
Section Number :	1
Section type :	Online
Mandatory or Optional:	Mandatory
Number of Questions:	20
Number of Questions to be attempted:	20
Section Marks:	20

Sub-Section Number:	1
Sub-Section Id:	586180315
Question Shuffling Allowed :	Yes

Question Number : 41 Question Id : 5861804707 Question Type : MCQ Option Shuffling : Yes
Correct Marks : 1 Wrong Marks : 0.25

What percentage of the energy of sunlight is captured by green plants?

Options :

1. ✓ 1 to 2 percent
2. ✗ 3 to 4 percent
3. ✗ 5 to 6 percent
4. ✗ 7 to 8 percent

Question Number : 41 Question Id : 5861804707 Question Type : MCQ Option Shuffling : Yes
Correct Marks : 1 Wrong Marks : 0.25

हरे पौधों द्वारा सूर्य प्रकाश के कितने प्रतिशत भाग को ग्रहण किया जाता है?

Options :

1. ✓ 1 से 2 प्रतिशत
2. ✗ 3 से 4 प्रतिशत
3. ✗ 5 से 6 प्रतिशत
4. ✗ 7 से 8 प्रतिशत

Question Number : 42 Question Id : 5861804708 Question Type : MCQ Option Shuffling : Yes
Correct Marks : 1 Wrong Marks : 0.25

As per the State of Forest Report, 2017, which of the following states has registered the second largest growth in its forest cover?

Options :

1. ✓ Karnataka
2. ✗ Kerala
3. ✗ Odisha
4. ✗ Telangana

Question Number : 42 Question Id : 5861804708 Question Type : MCQ Option Shuffling : Yes
Correct Marks : 1 Wrong Marks : 0.25

वन रिपोर्ट 2017 के अनुसार, निम्नलिखित में से किस राज्य ने अपने आच्छादित क्षेत्र में दूसरी सबसे बड़ी वृद्धि दर्ज की है?

Options :

1. ✓ कर्नाटक
2. ✗ केरल
3. ✗ ओडिशा
4. ✗ तेलंगाना

Question Number : 43 Question Id : 5861804709 Question Type : MCQ Option Shuffling : Yes
Correct Marks : 1 Wrong Marks : 0.25

As per the India State of Forest Report, 2017, which of the following statements is NOT correct?

Options :

1. ✗ India's tree and forest cover registered an increase of 1% in the last two years.
2. ✗ Combined forest and tree cover in the country is 24.39% of the total geographical area.
3. ✗ Very dense forest in India increased by 1.36%.
4. ✓ Arunachal Pradesh was the biggest gainer in terms of forest cover since 2015.

Question Number : 43 Question Id : 5861804709 Question Type : MCQ Option Shuffling : Yes
Correct Marks : 1 Wrong Marks : 0.25

भारतीय वन स्थिति रिपोर्ट 2017 के अनुसार, निम्न में से कौन सा कथन सही नहीं है?

Options :

1. ✗ भारत के वृक्ष और वन आच्छादित क्षेत्र के विस्तार में पिछले दो वर्षों में 1% वृद्धि दर्ज की गई।

2. ✖ देश में वन और वृक्ष का संयुक्त आच्छादित क्षेत्र कुल भौगोलिक क्षेत्रफल का 24.39% है।
3. ✖ भारत में अति घने जंगलों में 1.36% की वृद्धि हुई।
4. ✔ 2015 से अब तक सर्वाधिक वन आच्छादित क्षेत्र में विस्तार अरुणाचल प्रदेश में हुआ।

Question Number : 44 Question Id : 5861804710 Question Type : MCQ Option Shuffling : Yes
Correct Marks : 1 Wrong Marks : 0.25

Which of the following terms refers to potherb cultivation?

Options :

1. ✔ Olericulture
2. ✖ Sericulture
3. ✖ Pomology
4. ✖ Herbiculture

Question Number : 44 Question Id : 5861804710 Question Type : MCQ Option Shuffling : Yes
Correct Marks : 1 Wrong Marks : 0.25

निम्नलिखित में से कौन सा शब्द खाद्य उत्पादक (पॉटहर्ब) खेती को संदर्भित करता है?

Options :

1. ✔ शाक-कृषि (ओलेरीकल्चर)
2. ✖ रेशम-उत्पादन (सेरीकल्चर)
3. ✖ फलकृषि (पोमोलॉजी)
4. ✖ उद्यानकृषि (हर्बीकल्चर)

Question Number : 45 Question Id : 5861804711 Question Type : MCQ Option Shuffling : Yes
Correct Marks : 1 Wrong Marks : 0.25

विश्व स्वलीनता (ऑटिज्म) जागरूकता दिवस _____ को मनाया जाता है:

Options :

1. ✓ 2 अप्रैल
2. ✗ 2 मार्च
3. ✗ 2 फरवरी
4. ✗ 2 जनवरी

Question Number : 45 Question Id : 5861804711 Question Type : MCQ Option Shuffling : Yes
Correct Marks : 1 Wrong Marks : 0.25

World Autism Awareness Day is celebrated on:

Options :

1. ✓ April 2
2. ✗ March 2
3. ✗ February 2
4. ✗ January 2

Question Number : 46 Question Id : 5861804712 Question Type : MCQ Option Shuffling : Yes
Correct Marks : 1 Wrong Marks : 0.25

Turmeric grown in _____ regions enjoys the Geographical Indication tag.

Options :

1. ✓ Kandhamal and Erode
2. ✗ Erode and Kullu
3. ✗ Sangli and Alleppey
4. ✗ Kandhamal and Coorg

Question Number : 46 Question Id : 5861804712 Question Type : MCQ Option Shuffling : Yes
Correct Marks : 1 Wrong Marks : 0.25

_____ क्षेत्रों में उगाई जाने वाली हल्दी को भौगोलिक संकेत (जियोग्राफिकल इंडिकेशन टैग) प्राप्त है।

Options :

1. ✓ कंधमाल और इरोड

2. ✖ इरोड और कुल्लू
3. ✖ सांगली और अल्लेप्पी
4. ✖ कंधमाल और कूर्ग

Question Number : 47 Question Id : 5861804713 Question Type : MCQ Option Shuffling : Yes
Correct Marks : 1 Wrong Marks : 0.25

_____ launched the world's first nationwide 5G mobile networks.

Options :

1. ✖ USA
2. ✔ South Korea
3. ✖ Japan
4. ✖ China

Question Number : 47 Question Id : 5861804713 Question Type : MCQ Option Shuffling : Yes
Correct Marks : 1 Wrong Marks : 0.25

_____ ने दुनिया का पहला राष्ट्रव्यापी 5G मोबाइल नेटवर्क लॉन्च किया।

Options :

1. ✖ यूएसए
2. ✔ दक्षिण कोरिया
3. ✖ जापान
4. ✖ चीन

Question Number : 48 Question Id : 5861804714 Question Type : MCQ Option Shuffling : Yes
Correct Marks : 1 Wrong Marks : 0.25

Recently, India signed an MoU for setting up the India-Africa Institute of Agriculture and Rural Development (IAIARD) in Malawi. The primary aim of the institute is to:

Options :

1. ✖ promote cultivation of draught resistance crops.

2. ✖ promote research for high yield seeds without modifying their genes.
3. ✖ promote research in pest-resistant seeds.
4. ✔ enhance capacity in the areas of agro-financing and entrepreneurship development.

Question Number : 48 Question Id : 5861804714 Question Type : MCQ Option Shuffling : Yes
Correct Marks : 1 Wrong Marks : 0.25

हाल ही में, भारत ने मलावी में भारत-अफ्रीका कृषि और ग्रामीण विकास संस्थान (IAIARD) की स्थापना के लिए एक समझौता ज्ञापन पर हस्ताक्षर किए। संस्थान का प्राथमिक उद्देश्य है:

Options :

1. ✖ सूखा प्रतिरोधक फसलों की खेती को बढ़ावा देनासूखा प्रतिरोधक फसलों की खेती को बढ़ावा देना।
2. ✖ जीन परिवर्तन किए बिना उच्च पैदावार वाले बीजों के लिए अनुसंधान को बढ़ावा देना।
3. ✖ कीट-प्रतिरोधी बीजों के अनुसंधान को बढ़ावा देना।
4. ✔ कृषि-वित्तपोषण और उद्यमिता विकास के क्षेत्रों में क्षमता का संवर्धन करना।

Question Number : 49 Question Id : 5861804715 Question Type : MCQ Option Shuffling : Yes
Correct Marks : 1 Wrong Marks : 0.25

Which of the following nobles of Alauddin Khalji captured the Mongol commanders Ali Beg and Tartaq?

Options :

1. ✔ Malik Nayak
2. ✖ Malik Kafoor
3. ✖ Ghazi Malik
4. ✖ Zafar Khan

Question Number : 49 Question Id : 5861804715 Question Type : MCQ Option Shuffling : Yes
Correct Marks : 1 Wrong Marks : 0.25

निम्नलिखित में से अलाउद्दीन खिलजी के किस सेनापति ने मंगोल कमांडरों अली बेग और तर्ताक को पकड़ा?

Options :

1. ✓ मलिक नायक
2. ✗ मलिक काफूर
3. ✗ गाजी मलिक
4. ✗ जफ़र खान

Question Number : 50 Question Id : 5861804716 Question Type : MCQ Option Shuffling : Yes
Correct Marks : 1 Wrong Marks : 0.25

Which of the following Ashokan pillars carries seven edicts?

Options :

1. ✗ Lauriya-Ararak pillar
2. ✓ Delhi-Topra pillar
3. ✗ Allahabad pillar
4. ✗ Ramapurva pillar

Question Number : 50 Question Id : 5861804716 Question Type : MCQ Option Shuffling : Yes
Correct Marks : 1 Wrong Marks : 0.25

निम्नलिखित में से किस अशोक स्तंभ में सात राजाज्ञाएं दी गई हैं?

Options :

1. ✗ लौरिया-अरेराज स्तंभ
2. ✓ दिल्ली-टोपरा स्तंभ
3. ✗ इलाहाबाद स्तंभ
4. ✗ रामपुरवा स्तंभ

Question Number : 51 Question Id : 5861804717 Question Type : MCQ Option Shuffling : Yes
Correct Marks : 1 Wrong Marks : 0.25

In which year was the forest department established by the colonial government in India?

Options :

1. ✓ 1864
2. ✗ 1865
3. ✗ 1866
4. ✗ 1869

Question Number : 51 Question Id : 5861804717 Question Type : MCQ Option Shuffling : Yes
Correct Marks : 1 Wrong Marks : 0.25

भारत में औपनिवेशिक सरकार द्वारा वन विभाग किस वर्ष स्थापित किया गया था?

Options :

1. ✓ 1864
2. ✗ 1865
3. ✗ 1866
4. ✗ 1869

Question Number : 52 Question Id : 5861804718 Question Type : MCQ Option Shuffling : Yes
Correct Marks : 1 Wrong Marks : 0.25

The term Nirgrantha is associated with ____.

Options :

1. ✗ Ajivikas
2. ✓ Jainas
3. ✗ Pasupatas
4. ✗ Charvakas

Question Number : 52 Question Id : 5861804718 Question Type : MCQ Option Shuffling : Yes
Correct Marks : 1 Wrong Marks : 0.25

निर्ग्रन्थ शब्द _____ से संबंधित है।

Options :

1. ✖ आजीवकों
2. ✔ जैनों
3. ✖ पाशुपतों
4. ✖ चार्वाकों

Question Number : 53 Question Id : 5861804719 Question Type : MCQ Option Shuffling : Yes
Correct Marks : 1 Wrong Marks : 0.25

Article _____ of the Constitution empowers the Election Commission of India to supervise elections to the Parliament and state legislature.

Options :

1. ✖ 224
2. ✖ 242
3. ✔ 324
4. ✖ 342

Question Number : 53 Question Id : 5861804719 Question Type : MCQ Option Shuffling : Yes
Correct Marks : 1 Wrong Marks : 0.25

संविधान का अनुच्छेद _____ भारत के चुनाव आयोग को संसद और राज्य विधानसभा के चुनावों के पर्यवेक्षण करने का अधिकार देता है।

Options :

1. ✖ 224
2. ✖ 242
3. ✔ 324
4. ✖ 342

Question Number : 54 Question Id : 5861804720 Question Type : MCQ Option Shuffling : Yes
Correct Marks : 1 Wrong Marks : 0.25

The Department of Justice of the Government of India recently launched a mobile app named _____ to boost legal advice and aid in the country.

Options :

1. ✖ Nyaya
2. ✖ Nyaya Mitra
3. ✖ Mera Nyaya
4. ✔ Nyaya Bandhu

Question Number : 54 Question Id : 5861804720 Question Type : MCQ Option Shuffling : Yes
Correct Marks : 1 Wrong Marks : 0.25

हाल ही में, भारत सरकार के न्याय विभाग ने _____ नामक एक मोबाइल ऐप लॉन्च किया, जो देश में कानूनी सलाह और सहायता को प्रेरित करने के लिए है।

Options :

1. ✖ न्याय
2. ✖ न्याय मित्र
3. ✖ मेरा न्याय
4. ✔ न्याय बंधु

Question Number : 55 Question Id : 5861804721 Question Type : MCQ Option Shuffling : Yes
Correct Marks : 1 Wrong Marks : 0.25

Recently, the state of Andhra Pradesh got a separate High Court. With this, the total number of high courts in the country stands at:

Options :

1. ✖ 24
2. ✔ 25
3. ✖ 26

4. ✖ 27

Question Number : 55 Question Id : 5861804721 Question Type : MCQ Option Shuffling : Yes
Correct Marks : 1 Wrong Marks : 0.25

हाल ही में, आंध्र प्रदेश राज्य में एक पृथक उच्च न्यायालय स्थापित किया गया। इसके साथ, देश में उच्च न्यायालयों की कुल संख्या _____ हो गई है।

Options :

1. ✖ 24

2. ✔ 25

3. ✖ 26

4. ✖ 27

Question Number : 56 Question Id : 5861804722 Question Type : MCQ Option Shuffling : Yes
Correct Marks : 1 Wrong Marks : 0.25

Which of the following articles of the Indian Constitution directs the state to ensure Access to Justice for all?

Options :

1. ✔ 39A

2. ✖ 44A

3. ✖ 45

4. ✖ 46

Question Number : 56 Question Id : 5861804722 Question Type : MCQ Option Shuffling : Yes
Correct Marks : 1 Wrong Marks : 0.25

निम्नलिखित में से भारतीय संविधान का कौन सा अनुच्छेद राज्य को सभी के लिए न्याय की सुलभता सुनिश्चित करने का निर्देश देता है?

Options :

1. ✔ 39A

2. ✖ 44A

3. ✖ 45

4. ✖ 46

Question Number : 57 Question Id : 5861804723 Question Type : MCQ Option Shuffling : Yes

Correct Marks : 1 Wrong Marks : 0.25

What is the prescribed ratio of the length to the height (width) of the Indian national flag?

Options :

1. ✖ 2 : 3

2. ✔ 3 : 2

3. ✖ 2 : 4

4. ✖ 4 : 2

Question Number : 57 Question Id : 5861804723 Question Type : MCQ Option Shuffling : Yes

Correct Marks : 1 Wrong Marks : 0.25

भारतीय राष्ट्रीय ध्वज की ऊंचाई (चौड़ाई) और लंबाई का निर्धारित अनुपात क्या है?

Options :

1. ✖ 2 : 3

2. ✔ 3 : 2

3. ✖ 2 : 4

4. ✖ 4 : 2

Question Number : 58 Question Id : 5861804724 Question Type : MCQ Option Shuffling : Yes

Correct Marks : 1 Wrong Marks : 0.25

Which of the following parts of the constitution is entitled Emergency Provisions?

Options :

1. ✖ XVI
2. ✖ XVII
3. ✔ XVIII
4. ✖ XIX

Question Number : 58 Question Id : 5861804724 Question Type : MCQ Option Shuffling : Yes

Correct Marks : 1 Wrong Marks : 0.25

संविधान का निम्नलिखित में से कौन सा भाग आपातकालीन प्रावधानों से संबंधित है?

Options :

1. ✖ XVI
2. ✖ XVII
3. ✔ XVIII
4. ✖ XIX

Question Number : 59 Question Id : 5861804725 Question Type : MCQ Option Shuffling : Yes

Correct Marks : 1 Wrong Marks : 0.25

Indian wrestler, Bajrang Punia recently regained the world number one spot in the men's ____ category by United World Wrestling.

Options :

1. ✔ 65 kg freestyle
2. ✖ 67 kg Greco-Roman
3. ✖ 70 kg freestyle
4. ✖ 72 kg Greco-Roman

Question Number : 59 Question Id : 5861804725 Question Type : MCQ Option Shuffling : Yes

Correct Marks : 1 Wrong Marks : 0.25

भारतीय पहलवान, बजरंग पुनिया ने हाल ही में यूनाइटेड वर्ल्ड रेसलिंग में पुरुषों की _____श्रेणी में विश्व में प्रथम स्थान हासिल किया।

Options :

1. ✓ 65 किलो फ्रीस्टाइल
2. ✗ 67 किलो ग्रीको-रोमन
3. ✗ 70 किलो फ्रीस्टाइल
4. ✗ 72 किलो ग्रीको-रोमन

Question Number : 60 Question Id : 5861804726 Question Type : MCQ Option Shuffling : Yes

Correct Marks : 1 Wrong Marks : 0.25

Who from among the following won the Formula 1 Bahrain Grand Prix tournament 2019?

Options :

1. ✗ Charles Leclerc
2. ✗ Valtteri Bottas
3. ✓ Lewis Hamilton
4. ✗ Max Verstappen

Question Number : 60 Question Id : 5861804726 Question Type : MCQ Option Shuffling : Yes

Correct Marks : 1 Wrong Marks : 0.25

निम्न में से किसने फार्मूला 1 बहरीन ग्रांड प्रिक्स टूर्नामेन्ट 2019 जीता?

Options :

1. ✗ चार्ल्स लेक्लर्क
2. ✗ वाल्टेरी बोटास
3. ✓ लुईस हैमिल्टन
4. ✗ मैक्स वेरस्टैपेन

Group Number :	4
Group Id :	586180225
Group Maximum Duration :	0
Group Minimum Duration :	0
Show Attended Group? :	No
Edit Attended Group? :	No
Break time:	0
Group Marks:	20
Is this Group for Examiner?:	No
Revisit allowed for group Instructions? :	Yes
Maximum Instruction Time:	0
Minimum Instruction Time:	0

General Awareness2

Section Id :	586180229
Section Number :	1
Section type :	Online
Mandatory or Optional:	Mandatory
Number of Questions:	20
Number of Questions to be attempted:	20
Section Marks:	20

Sub-Section Number:	1
Sub-Section Id:	586180316
Question Shuffling Allowed :	Yes

Question Number : 61 Question Id : 5861804727 Question Type : MCQ Option Shuffling : Yes
Correct Marks : 1 Wrong Marks : 0.25

Amit Panghal who won a gold medal for India in the Asian Games 2018 belongs to:

- Options :
1. ✓ boxing

2. ✗ judo

3. ✗ shooting

4. ✗ shot put

Question Number : 61 Question Id : 5861804727 Question Type : MCQ Option Shuffling : Yes
Correct Marks : 1 Wrong Marks : 0.25

एशियाई खेल 2018 में भारत के लिए स्वर्ण पदक जीतने वाले अमित पंघल _____ से संबंधित हैं।

Options :

1. ✓ मुक्केबाज़ी
2. ✗ जूडो
3. ✗ निशानेबाज़ी
4. ✗ गोला फेंक (शॉट पुट)

Question Number : 62 Question Id : 5861804728 Question Type : MCQ Option Shuffling : Yes
Correct Marks : 1 Wrong Marks : 0.25

Which of the following is NOT inscribed on UNESCO's Representative List of the Intangible Cultural Heritage of Humanity?

Options :

1. ✗ Chhau dance
2. ✗ Tradition of Vedic chanting
3. ✗ Kutiyattam, Sanskrit theatre
4. ✓ Shabad keertan

Question Number : 62 Question Id : 5861804728 Question Type : MCQ Option Shuffling : Yes
Correct Marks : 1 Wrong Marks : 0.25

निम्न में से कौन, मानवता की अमूर्त सांस्कृतिक धरोहर की यूनेस्को की प्रतिनिधि सूची में वर्णित नहीं है?

Options :

1. ✗ छऊ नृत्य
2. ✗ वैदिक मंत्रोच्चारण की परंपरा
3. ✗ कुटियाट्टम, संस्कृत नाटक
4. ✓ शबद कीर्तन

Question Number : 63 Question Id : 5861804729 Question Type : MCQ Option Shuffling : Yes
Correct Marks : 1 Wrong Marks : 0.25

Bhavai, a traditional theatre form, belongs to which of the following states?

Options :

1. ✓ Gujarat
2. ✗ Punjab
3. ✗ Uttarakhand
4. ✗ Odisha

Question Number : 63 Question Id : 5861804729 Question Type : MCQ Option Shuffling : Yes
Correct Marks : 1 Wrong Marks : 0.25

भवाई, एक पारंपरिक नाट्य रूप है, यह निम्नलिखित में से किस राज्य से संबंधित है:

Options :

1. ✓ गुजरात
2. ✗ पंजाब
3. ✗ उत्तराखंड
4. ✗ ओडिशा

Question Number : 64 Question Id : 5861804730 Question Type : MCQ Option Shuffling : Yes
Correct Marks : 1 Wrong Marks : 0.25

Which of the following states has recently received the Geographical Indication (GI) tag for the product called Giraful?

Options :

1. ✗ Jharkhand
2. ✓ Chattisgarh
3. ✗ Odisha
4. ✗ West Bengal

Question Number : 64 Question Id : 5861804730 Question Type : MCQ Option Shuffling : Yes
Correct Marks : 1 Wrong Marks : 0.25

हाल ही में, निम्न में से किस राज्य ने जीराफूल (Giraful) नामक उत्पाद के लिए जियोग्राफिकल इंडिकेशन (GI) टैग प्राप्त किया?

Options :

1. ✖ झारखंड
2. ✔ छत्तीसगढ़
3. ✖ ओडिशा
4. ✖ पश्चिम बंगाल

Question Number : 65 Question Id : 5861804731 Question Type : MCQ Option Shuffling : Yes
Correct Marks : 1 Wrong Marks : 0.25

Which of the following rivers forms the Jog Falls?

Options :

1. ✔ Sharavathi
2. ✖ Paravathi
3. ✖ Ghataprabha
4. ✖ Malaprabha

Question Number : 65 Question Id : 5861804731 Question Type : MCQ Option Shuffling : Yes
Correct Marks : 1 Wrong Marks : 0.25

निम्नलिखित में से कौन सी नदी जोग जलप्रपात बनाती हैं?

Options :

1. ✔ शारवती
2. ✖ पार्वती
3. ✖ घाटप्रभा
4. ✖ मलप्रभा

Question Number : 66 Question Id : 5861804732 Question Type : MCQ Option Shuffling : Yes
Correct Marks : 1 Wrong Marks : 0.25

Which of the following passes is NOT located in the Himalayan ranges?

Options :

1. ✔ Bolan Pass
2. ✖ Nathu La

3. ✖ Shipki La

4. ✖ Lacha La

Question Number : 66 Question Id : 5861804732 Question Type : MCQ Option Shuffling : Yes
Correct Marks : 1 Wrong Marks : 0.25

निम्नलिखित में से कौन सा दर्रा हिमालय पर्वतमाला में स्थित नहीं है?

Options :

1. ✔ बोलन दर्रा

2. ✖ नाथु ला

3. ✖ शिपकी ला

4. ✖ लाचा ला

Question Number : 67 Question Id : 5861804733 Question Type : MCQ Option Shuffling : Yes
Correct Marks : 1 Wrong Marks : 0.25

Which of the following is NOT a desert river?

Options :

1. ✖ Luni

2. ✖ Machhu

3. ✖ Rupen

4. ✔ Mahi

Question Number : 67 Question Id : 5861804733 Question Type : MCQ Option Shuffling : Yes
Correct Marks : 1 Wrong Marks : 0.25

निम्नलिखित में से कौन सी मरुस्थलीय नदी नहीं है?

Options :

1. ✖ लूनी

2. ✖ माचू

3. ✖ रूपेण

4. ✔ माही

Question Number : 68 Question Id : 5861804734 Question Type : MCQ Option Shuffling : Yes

Correct Marks : 1 Wrong Marks : 0.25

Which of the following banks has the tagline ‘Aapka Bank Aapke Dwaar’?

Options :

1. ✓ India Post Payments Bank
2. ✗ IDBI Bank
3. ✗ State Bank of India
4. ✗ Canara Bank

Question Number : 68 Question Id : 5861804734 Question Type : MCQ Option Shuffling : Yes

Correct Marks : 1 Wrong Marks : 0.25

निम्नलिखित में से किस बैंक की टैगलाइन 'आपका बैंक आपके द्वार' है?

Options :

1. ✓ इंडिया पोस्ट पेमेंट्स बैंक
2. ✗ आईडीबीआई बैंक
3. ✗ भारतीय स्टेट बैंक
4. ✗ कॅनरा बैंक

Question Number : 69 Question Id : 5861804735 Question Type : MCQ Option Shuffling : Yes

Correct Marks : 1 Wrong Marks : 0.25

Who of the following headed the committee to review the existing SEZ policy of India submitted in 2018?

Options :

1. ✗ Rajat Monga
2. ✓ Baba Kalyani
3. ✗ Deepak Parekh
4. ✗ Madhu Kapoor

Question Number : 69 Question Id : 5861804735 Question Type : MCQ Option Shuffling : Yes

Correct Marks : 1 Wrong Marks : 0.25

निम्न में से किसने, 2018 में प्रस्तुत भारत की वर्तमान विशेष आर्थिक क्षेत्र (SEZ) नीति की समीक्षा समिति की अध्यक्षता की?

Options :

1. ✖ रजत मोंगा
2. ✔ बाबा कल्याणी
3. ✖ दीपक पारेख
4. ✖ मधु कपूर

Question Number : 70 Question Id : 5861804736 Question Type : MCQ Option Shuffling : Yes
Correct Marks : 1 Wrong Marks : 0.25

Rana Kapoor recently demitted the post of MD and CEO of:

Options :

1. ✔ Yes Bank
2. ✖ IndusInd Bank
3. ✖ Axis Bank
4. ✖ IDBI Bank

Question Number : 70 Question Id : 5861804736 Question Type : MCQ Option Shuffling : Yes
Correct Marks : 1 Wrong Marks : 0.25

हाल ही में, राणा कूपर ने _____ के प्रबंध संचालक (एमडी) और मुख्य कार्यकारी अधिकारी (सीईओ) के पद से इस्तीफा दिया है।

Options :

1. ✔ यस बैंक
2. ✖ इंडसइंड बैंक
3. ✖ ऐक्सिस बैंक
4. ✖ आईडीबीआई बैंक

Question Number : 71 Question Id : 5861804737 Question Type : MCQ Option Shuffling : Yes
Correct Marks : 1 Wrong Marks : 0.25

An enzyme called Ptyalin is secreted by:

Options :

1. ✓ salivary gland
2. ✗ gastric gland
3. ✗ pancreas
4. ✗ intestinal gland

Question Number : 71 Question Id : 5861804737 Question Type : MCQ Option Shuffling : Yes
Correct Marks : 1 Wrong Marks : 0.25

टायलिन (Ptyalin) नामक एंजाइम _____ द्वारा स्रावित होता है।

Options :

1. ✓ लार ग्रंथि
2. ✗ जठर ग्रंथि
3. ✗ अग्न्याशय
4. ✗ आंत की ग्रंथि

Question Number : 72 Question Id : 5861804738 Question Type : MCQ Option Shuffling : Yes
Correct Marks : 1 Wrong Marks : 0.25

Which of the following organs of the human body produce urea?

Options :

1. ✗ Kidney
2. ✓ Liver
3. ✗ Pancreas
4. ✗ Large intestine

Question Number : 72 Question Id : 5861804738 Question Type : MCQ Option Shuffling : Yes
Correct Marks : 1 Wrong Marks : 0.25

निम्नलिखित में से मानव शरीर में कौन सा अंग यूरिया उत्पन्न करता है?

Options :

1. ✗ गुर्दे

2. ✓ यकृत
3. ✗ अग्न्याशय
4. ✗ बड़ी आंत

Question Number : 73 Question Id : 5861804739 Question Type : MCQ Option Shuffling : Yes
Correct Marks : 1 Wrong Marks : 0.25

Which of the following organs in the human body secretes bile, a digestive fluid?

Options :

1. ✗ Stomach
2. ✗ Pancreas
3. ✓ Liver
4. ✗ Small intestine

Question Number : 73 Question Id : 5861804739 Question Type : MCQ Option Shuffling : Yes
Correct Marks : 1 Wrong Marks : 0.25

निम्नलिखित में से मानव शरीर में कौन सा अंग पित्तरस नामक पाचक द्रव को स्रावित करता है?

Options :

1. ✗ आमाशय
2. ✗ अग्न्याशय
3. ✓ यकृत
4. ✗ छोटी आंत

Question Number : 74 Question Id : 5861804740 Question Type : MCQ Option Shuffling : Yes
Correct Marks : 1 Wrong Marks : 0.25

Salivary amylase, which is contained in saliva, digests _____ and converts it into maltose (disaccharide).

Options :

1. ✗ fat

2. ✓ starch
3. ✗ protein
4. ✗ vitamin

Question Number : 74 Question Id : 5861804740 Question Type : MCQ Option Shuffling : Yes
Correct Marks : 1 Wrong Marks : 0.25

लार में पाया जानेवाला सलाइवरी एमिलेज _____ को पचाता है,और इसे माल्टोज (डाइसैकराइड) में परिवर्तित करता है।

Options :

1. ✗ वसा
2. ✓ स्टार्च
3. ✗ प्रोटीन
4. ✗ विटामिन

Question Number : 75 Question Id : 5861804741 Question Type : MCQ Option Shuffling : Yes
Correct Marks : 1 Wrong Marks : 0.25

Curcumin, a phenolic compound widely used for medicinal purposes is found in:

Options :

1. ✓ turmeric
2. ✗ ginger
3. ✗ black pepper
4. ✗ tamarind

Question Number : 75 Question Id : 5861804741 Question Type : MCQ Option Shuffling : Yes
Correct Marks : 1 Wrong Marks : 0.25

औषधीय प्रयोजनों के लिए व्यापक उपयोग किया जाने वाला फीनोलिक यौगिक करक्युमिन _____ में पाया जाता है।

Options :

1. ✓ हल्दी

2. ✖ अदरक
3. ✖ काली मिर्च
4. ✖ इमली

Question Number : 76 Question Id : 5861804742 Question Type : MCQ Option Shuffling : Yes
Correct Marks : 1 Wrong Marks : 0.25

GROWTH-India, India's first robotic telescope is located at:

Options :

1. ✖ Kodaikanal
2. ✖ Mt. Abu
3. ✖ Kavalur Alangayam
4. ✓ Hanle

Question Number : 76 Question Id : 5861804742 Question Type : MCQ Option Shuffling : Yes
Correct Marks : 1 Wrong Marks : 0.25

भारत का पहला रोबोटिक दूरदर्शी ग्रोथ-इंडिया _____ में स्थित है।

Options :

1. ✖ कोडईकनाल
2. ✖ माउंट आबू
3. ✖ कवलूर अलंगयम
4. ✓ हनले

Question Number : 77 Question Id : 5861804743 Question Type : MCQ Option Shuffling : Yes
Correct Marks : 1 Wrong Marks : 0.25

Which of the following is the world's largest brain-like supercomputer?

Options :

1. ✓ SpiNNaker
2. ✖ Tianhe-3
3. ✖ Titan-2

4. ✖ Summit

Question Number : 77 Question Id : 5861804743 Question Type : MCQ Option Shuffling : Yes

Correct Marks : 1 Wrong Marks : 0.25

दुनिया का सबसे बड़ा मस्तिष्क जैसा सुपरकंप्यूटर कौन सा है?

Options :

1. ✔ स्पिननेकर (SpiNNaker)
2. ✖ टियान्हे-3 (Tianhe-3)
3. ✖ टाइटन-2 (Titan-2)
4. ✖ समिट (Summit)

Question Number : 78 Question Id : 5861804744 Question Type : MCQ Option Shuffling : Yes

Correct Marks : 1 Wrong Marks : 0.25

The Central Zonal Bench of National Green Tribunal is located at:

Options :

1. ✔ Bhopal
2. ✖ Jabalpur
3. ✖ Gwalior
4. ✖ Indore

Question Number : 78 Question Id : 5861804744 Question Type : MCQ Option Shuffling : Yes

Correct Marks : 1 Wrong Marks : 0.25

नेशनल ग्रीन ट्रिब्यूनल की मध्य क्षेत्रीय पीठ _____ में स्थित है।

Options :

1. ✔ भोपाल
2. ✖ जबलपुर
3. ✖ ग्वालियर
4. ✖ इंदौर

Question Number : 79 Question Id : 5861804745 Question Type : MCQ Option Shuffling : Yes

Correct Marks : 1 Wrong Marks : 0.25

Indira Gandhi Centre for Atomic Research is located at:

Options :

1. ✖ Narora
2. ✔ Kalapakkam
3. ✖ Trombay
4. ✖ Rawatbhata

Question Number : 79 Question Id : 5861804745 Question Type : MCQ Option Shuffling : Yes

Correct Marks : 1 Wrong Marks : 0.25

इंदिरा गांधी परमाणु अनुसंधान केन्द्र _____ में स्थित है।

Options :

1. ✖ नरोरा
2. ✔ कलपक्कम
3. ✖ ट्रॉम्बे
4. ✖ रावतभाटा

Question Number : 80 Question Id : 5861804746 Question Type : MCQ Option Shuffling : Yes

Correct Marks : 1 Wrong Marks : 0.25

What is the name of the Child Rights Week that was celebrated from 16 to 20 November 2017?

Options :

1. ✔ Hausla 2017
2. ✖ Samriddhi, 2017
3. ✖ Hunar, 2017
4. ✖ Samarth, 2017

Question Number : 80 Question Id : 5861804746 Question Type : MCQ Option Shuffling : Yes

Correct Marks : 1 Wrong Marks : 0.25

16 से 20 नवंबर 2017 तक मनाए जाने वाले बाल अधिकार सप्ताह का नाम क्या है?

Options :

- 1. ✓ हौसला 2017
- 2. ✖ समृद्धि, 2017
- 3. ✖ हुनर, 2017
- 4. ✖ समर्थ, 2017

Arithmetic Ability1

Group Number :	5
Group Id :	586180226
Group Maximum Duration :	0
Group Minimum Duration :	0
Show Attended Group? :	No
Edit Attended Group? :	No
Break time:	0
Group Marks:	20
Is this Group for Examiner?:	No
Revisit allowed for group Instructions? :	Yes
Maximum Instruction Time:	0
Minimum Instruction Time:	0

Arithmetic Ability1

Section Id :	586180230
Section Number :	1
Section type :	Online
Mandatory or Optional:	Mandatory
Number of Questions:	20
Number of Questions to be attempted:	20
Section Marks:	20

Sub-Section Number:	1
Sub-Section Id:	586180317
Question Shuffling Allowed :	Yes

Question Number : 81 Question Id : 5861804747 Question Type : MCQ Option Shuffling : Yes
Correct Marks : 1 Wrong Marks : 0.25

Evaluate:

$$\frac{0.25-0.5 \times 0.8+0.64}{0.512+0.125}$$

Options :

1. ✖ $\frac{1}{13}$

2. ✔ $\frac{10}{13}$

3. ✖ $1\frac{2}{3}$

4. ✖ $\frac{1}{30}$

Question Number : 81 Question Id : 5861804747 Question Type : MCQ Option Shuffling : Yes
Correct Marks : 1 Wrong Marks : 0.25

हल करें:

$$\frac{0.25 - 0.5 \times 0.8 + 0.64}{0.512 + 0.125}$$

Options :

1. ✖ $\frac{1}{13}$

2. ✔ $\frac{10}{13}$

3. ✖ $1\frac{2}{3}$

4. ✖ $\frac{1}{30}$

Question Number : 82 Question Id : 5861804748 Question Type : MCQ Option Shuffling : Yes
Correct Marks : 1 Wrong Marks : 0.25

The sum of the first 24 terms of $\frac{1}{3 \times 2} + \frac{1}{3 \times 4} + \frac{1}{4 \times 5} + \frac{1}{5 \times 6} + \frac{1}{6 \times 7} + \dots$ is:

Options :

1. ✓ $\frac{6}{13}$

2. ✗ $\frac{5}{13}$

3. ✗ $\frac{2}{21}$

4. ✗ $\frac{1}{26}$

Question Number : 82 Question Id : 5861804748 Question Type : MCQ Option Shuffling : Yes

Correct Marks : 1 Wrong Marks : 0.25

$\frac{1}{3 \times 2} + \frac{1}{3 \times 4} + \frac{1}{4 \times 5} + \frac{1}{5 \times 6} + \frac{1}{6 \times 7} + \dots$ के पहले 24 पदों के योग का मान ज्ञात करें:

Options :

1. ✓ $\frac{6}{13}$

2. ✗ $\frac{5}{13}$

3. ✗ $\frac{2}{21}$

4. ✗ $\frac{1}{26}$

Question Number : 83 Question Id : 5861804749 Question Type : MCQ Option Shuffling : Yes

Correct Marks : 1 Wrong Marks : 0.25

Evaluate:

$$\frac{5.65 \times 5.65 \times 5.65 + 3.35 \times 3.35 \times 3.35}{565 \times 565 + 335 \times 335 - 565 \times 335}$$

Options :

1. ✖ 0.9

2. ✖ 0.09

3. ✖ 0.009

4. ✔ 0.0009

Question Number : 83 Question Id : 5861804749 Question Type : MCQ Option Shuffling : Yes
Correct Marks : 1 Wrong Marks : 0.25

हल करें:

$$\frac{5.65 \times 5.65 \times 5.65 + 3.35 \times 3.35 \times 3.35}{565 \times 565 + 335 \times 335 - 565 \times 335}$$

Options :

1. ✖ 0.9

2. ✖ 0.09

3. ✖ 0.009

4. ✔ 0.0009

Question Number : 84 Question Id : 5861804750 Question Type : MCQ Option Shuffling : Yes
Correct Marks : 1 Wrong Marks : 0.25

Evaluate:

$$\frac{0.0203 \times 29.2}{0.00073 \times 14.5 \times 14}$$

Options :

1. ✖ 0.4

2. ✖ 0.04

3. ✔ 4

4. ✖ 40

Question Number : 84 Question Id : 5861804750 Question Type : MCQ Option Shuffling : Yes
Correct Marks : 1 Wrong Marks : 0.25

हल करें:

$$\frac{0.0203 \times 29.2}{0.00073 \times 14.5 \times 14}$$

Options :

1. ✖ 0.4

2. ✖ 0.04

3. ✔ 4

4. ✖ 40

Question Number : 85 Question Id : 5861804751 Question Type : MCQ Option Shuffling : Yes
Correct Marks : 1 Wrong Marks : 0.25

Evaluate:

$$2.493 + 0.2493 + 0.02493 + 0.002493$$

Options :

1. ✖ 2.744793

2. ✔ 2.769723

3. ✖ 2.7449733

4. ✖ 2.7347933

Question Number : 85 Question Id : 5861804751 Question Type : MCQ Option Shuffling : Yes

Correct Marks : 1 Wrong Marks : 0.25

हल करें:

$$2.493 + 0.2493 + 0.02493 + 0.002493$$

Options :

1. ✖ 2.744793

2. ✔ 2.769723

3. ✖ 2.7449733

4. ✖ 2.7347933

Question Number : 86 Question Id : 5861804752 Question Type : MCQ Option Shuffling : Yes

Correct Marks : 1 Wrong Marks : 0.25

What is the simplified value of $\frac{1}{4}\{(20.05)^2 - (19.95)^2\}$?

Options :

1. ✓ 1

2. ✗ 2

3. ✗ 2.5

4. ✗ 4

Question Number : 86 Question Id : 5861804752 Question Type : MCQ Option Shuffling : Yes

Correct Marks : 1 Wrong Marks : 0.25

$\frac{1}{4}\{(20.05)^2 - (19.95)^2\}$ का सरलीकृत मान ज्ञात करें।

Options :

1. ✓ 1

2. ✗ 2

3. ✗ 2.5

4. ✗ 4

Question Number : 87 Question Id : 5861804753 Question Type : MCQ Option Shuffling : Yes

Correct Marks : 1 Wrong Marks : 0.25

Given that $\frac{1}{4.659} = 0.2146$, what will be the value of $\frac{10}{0.0004659}$?

Options :

1. ✗ 21.46

2. ✖ 214.6

3. ✖ 2146

4. ✔ 21460

Question Number : 87 Question Id : 5861804753 Question Type : MCQ Option Shuffling : Yes
Correct Marks : 1 Wrong Marks : 0.25

यदि $\frac{1}{4.659} = 0.2146$ है, तो $\frac{10}{0.0004659}$ का मान ज्ञात करें।

Options :

1. ✖ 21.46

2. ✖ 214.6

3. ✖ 2146

4. ✔ 21460



Question Number : 88 Question Id : 5861804754 Question Type : MCQ Option Shuffling : Yes
Correct Marks : 1 Wrong Marks : 0.25

Evaluate:

$$8.25 + \frac{7.7}{1 + \frac{1}{3 - \frac{1}{4/5}}}$$

Options :

1. ✖ 9.25

2. ✖ -11.75

3. ✔ 13.15

4. ✖ 13.25

Question Number : 88 Question Id : 5861804754 Question Type : MCQ Option Shuffling : Yes
Correct Marks : 1 Wrong Marks : 0.25

हल करें:

$$8.25 + \frac{7.7}{1 + \frac{1}{3 - \frac{1}{4/5}}}$$

Options :

1. ✖ 9.25

2. ✖ -11.75

3. ✔ 13.15

4. ✖ 13.25

Question Number : 89 Question Id : 5861804755 Question Type : MCQ Option Shuffling : Yes
Correct Marks : 1 Wrong Marks : 0.25

Evaluate:

$$8 + 8 \times \frac{2\frac{1}{5} - 1\frac{2}{7}}{2 - \frac{1}{6 - \frac{1}{6}}}$$

Options :

1. ✖ 2

2. ✖ $\frac{1}{2}$

3. ✔ 12

4. ✖ $\frac{1}{12}$

Question Number : 89 Question Id : 5861804755 Question Type : MCQ Option Shuffling : Yes
Correct Marks : 1 Wrong Marks : 0.25

हल करें:

$$8 + 8 \times \frac{2\frac{1}{5} - 1\frac{2}{7}}{2 - \frac{1}{6 - \frac{1}{6}}}$$

Options :

1. ✖ 2

2. ✖ $\frac{1}{2}$

3. ✔ 12

4. ✖ $\frac{1}{12}$

Question Number : 90 Question Id : 5861804756 Question Type : MCQ Option Shuffling : Yes
Correct Marks : 1 Wrong Marks : 0.25

A man spends $\frac{3}{5}$ of his salary on food and $\frac{1}{5}$ on rent. $\frac{1}{5}$ of the remaining amount he spends on conveyance. After considering these expenditures, what is his salary (in ₹)?

Note: For this question, discrepancy is found in question/answer. So, this question is ignored for all candidates.

Options :

1. 12665.25

2. 12656.25

3. 12652.25

4. 12556.25

Question Number : 90 Question Id : 5861804756 Question Type : MCQ Option Shuffling : Yes

Correct Marks : 1 Wrong Marks : 0.25

एक व्यक्ति अपनी आमदनी का $\frac{3}{5}$ हिस्सा भोजन पर और $\frac{1}{5}$ हिस्सा किराए पर खर्च करता है। वह शेष राशि का $\frac{1}{5}$ हिस्सा सुविधाओं पर खर्च करता है। इन खर्चों के आधार पर उसकी आमदनी (Rs. में) पता करें?

Note: For this question, discrepancy is found in question/answer. So, this question is ignored for all candidates.

Options :

1. 12665.25

2. 12656.25

3. 12652.25

4. 12556.25

Question Number : 91 Question Id : 5861804757 Question Type : MCQ Option Shuffling : Yes

Correct Marks : 1 Wrong Marks : 0.25

A rectangular courtyard 30.34 m long and 8.61 m wide is to be paved exactly with only square tiles, all having the same size. What is the largest size (in cm^2) of the tile that could be used for this purpose?

Options :

1. ✓ 41

2. ✗ 36

3. ✗ 35

4. ✗ 17

Question Number : 91 Question Id : 5861804757 Question Type : MCQ Option Shuffling : Yes

Correct Marks : 1 Wrong Marks : 0.25

एक आयताकार आंगन जिसकी लंबाई 30.34 m और चौड़ाई 8.61 m है और इसे एक ही आकार वाली चौकोर टाइल्स से पक्का किया जाना है। इस प्रयोजन के लिए उपयोग की जा सकने वाली टाइल का सबसे बड़ा आकार (cm^2 में) ज्ञात करें।

Options :

1. ✓ 41

2. ✗ 36

3. ✗ 35

4. ✗ 17

Question Number : 92 Question Id : 5861804758 Question Type : MCQ Option Shuffling : Yes

Correct Marks : 1 Wrong Marks : 0.25

Which of the following is the least number that should be added to 2018 such that the resulting number can be divided by 3, 4, 5 and 12 leaving no remainder.

Options :

1. ✗ 28

2. ✖ 38

3. ✔ 22

4. ✖ 34

Question Number : 92 Question Id : 5861804758 Question Type : MCQ Option Shuffling : Yes

Correct Marks : 1 Wrong Marks : 0.25

इनमें से कौन सी ऐसी सबसे छोटी संख्या है जिसे 2018 में जोड़ने पर, प्राप्त हुई संख्या को 3, 4, 5 और 12 से विभाजित करने पर कोई शेष नहीं बचता है।

Options :

1. ✖ 28

2. ✖ 38

3. ✔ 22

4. ✖ 34

Question Number : 93 Question Id : 5861804759 Question Type : MCQ Option Shuffling : Yes

Correct Marks : 1 Wrong Marks : 0.25

A farmer has some unutilised field at her disposal, where she plans to plant some trees. She plants 176 guava trees, 132 papaya trees and 264 sugarcane trees in equal rows such that each row has same number trees. Also, she wants to make distinct rows of trees, that is, only one type of tree in one row. The minimum number of such rows that can be formed is:

Options :

1. ✖ 11

2. ✔ 13

3. ✖ 22

4. ✖ 44

Question Number : 93 Question Id : 5861804759 Question Type : MCQ Option Shuffling : Yes

Correct Marks : 1 Wrong Marks : 0.25

एक किसान के पास खाली जमीन का कुछ हिस्सा है, जहाँ उसने कुछ पेड़ लगाने की योजना बनाई है। उसने अमरूद के 176 पेड़, पीते के 132 पेड़ और गन्ने के 264 पेड़ समान पंक्तियों में इस तरह लगाए हैं कि प्रत्येक पंक्ति में समान संख्या में पेड़ हों। साथ ही, वह पेड़ों की अलग-अलग पंक्तियाँ इस तरह से बनाना चाहता है जिसमें प्रत्येक पंक्ति में केवल एक ही प्रकार का पेड़ रहे। तो पता करें की इस तरह कम से कम कितनी पंक्तियाँ बनाई जा सकती हैं।

Options :

1. ✖ 11

2. ✔ 13

3. ✖ 22

4. ✖ 44

Question Number : 94 Question Id : 5861804760 Question Type : MCQ Option Shuffling : Yes

Correct Marks : 1 Wrong Marks : 0.25

Three numbers are in the proportion, $\frac{1}{2} : \frac{2}{3} : \frac{3}{4}$. The difference between the greatest and the smallest numbers is 48. Find the sum of all the numbers.

Options :

1. ✔ 368

2. ✖ 322

3. ✖ 414

4. ✖ 437

Question Number : 94 Question Id : 5861804760 Question Type : MCQ Option Shuffling : Yes

Correct Marks : 1 Wrong Marks : 0.25

तीन संख्याएँ, $\frac{1}{2} : \frac{2}{3} : \frac{3}{4}$ के अनुपात में हैं। सबसे बड़ी संख्या और सबसे छोटी संख्या के बीच का अंतर 48 है। सभी संख्याओं का योग ज्ञात करें।

Options :

1. ✔ 368

2. ✖ 322

3. ✖ 414

4. ✖ 437

Question Number : 95 Question Id : 5861804761 Question Type : MCQ Option Shuffling : Yes

Correct Marks : 1 Wrong Marks : 0.25

Seema scored twice as many marks in Science as in English. Her total marks in English, Science and Mathematics is 240. If the ratio of her marks in Mathematics and Science is 3 : 2 , what are her marks in English?

Options :

1. ✔ 40

2. ✖ 60

3. ✖ 80

4. ✖ 120

Question Number : 95 Question Id : 5861804761 Question Type : MCQ Option Shuffling : Yes

Correct Marks : 1 Wrong Marks : 0.25

सीमा ने अंग्रेजी की तुलना में विज्ञान में दोगुने अंक प्राप्त किए। उसके अंग्रेजी, विज्ञान और गणित में कुल प्राप्त अंक 240 हैं। यदि गणित और विज्ञान में उसके अंकों का अनुपात 3 : 2 है, तो पता करें कि उसने अंग्रेजी में कितने अंक प्राप्त किए?

Options :

1. ✔ 40

2. ✖ 60

3. ✖ 80

4. ✖ 120

Question Number : 96 Question Id : 5861804762 Question Type : MCQ Option Shuffling : Yes

Correct Marks : 1 Wrong Marks : 0.25

In an examination, 45% of the students failed in Mathematics and 34% failed in English. If 23% of the students failed in both the subjects, then the percentage of students who passed in both the subjects is:

Options :

1. ✖ 56%

2. ✖ 35%

3. ✖ 65%

4. ✔ 44%

Question Number : 96 Question Id : 5861804762 Question Type : MCQ Option Shuffling : Yes

Correct Marks : 1 Wrong Marks : 0.25

एक परीक्षा में, 45% छात्र गणित में और 34% अंग्रेजी में अनुत्तीर्ण रहे। यदि 23% छात्र दोनों विषयों में अनुत्तीर्ण रहे हैं, तो पता करें कि कितने दोनों विषयों में प्रतिशत छात्र उत्तीर्ण रहे हैं।

Options :

1. ✖ 56%

2. ✖ 35%

3. ✖ 65%

4. ✔ 44%

Question Number : 97 Question Id : 5861804763 Question Type : MCQ Option Shuffling : Yes

Correct Marks : 1 Wrong Marks : 0.25

In a city, 45% of the population is composed of migrants, 20% of whom are from rural areas. Among the non-migrants, 48% are female. The female population from among the rural and urban migrants are 30% and 40% respectively. If the total population of the city is 728400, what is the total female population?

Options :

1. ✔ 316854

2. ✖ 316767

3. ✖ 316680

4. ✖ 316506

Question Number : 97 Question Id : 5861804763 Question Type : MCQ Option Shuffling : Yes

Correct Marks : 1 Wrong Marks : 0.25

एक शहर में, कुल जनसंख्या का 45% प्रवासी लोग हैं, जिनमें से 20% ग्रामीण क्षेत्रों से हैं। गैर-प्रवासियों में, 48% महिलाएं हैं। ग्रामीण और शहरी प्रवासियों में महिला संख्या क्रमशः 30% और 40% है। यदि शहर की कुल जनसंख्या 728400 है, तो महिलाओं की कुल संख्या ज्ञात करें।

Options :

1. ✓ 316854

2. ✗ 316767

3. ✗ 316680

4. ✗ 316506

Question Number : 98 Question Id : 5861804764 Question Type : MCQ Option Shuffling : Yes

Correct Marks : 1 Wrong Marks : 0.25

The price of an article was increased two times successively by 18% each time. By what percentage should the new price be reduced so as to restore the original price (correct to two decimal places)?

Options :

1. ✗ 26.54%

2. ✗ 25.48%

3. ✗ 23.18%

4. ✓ 28.18%

Question Number : 98 Question Id : 5861804764 Question Type : MCQ Option Shuffling : Yes

Correct Marks : 1 Wrong Marks : 0.25

एक वस्तु के मूल्य को 18% की वृद्धि से लगातार दो बार बढ़ाया गया है। तो नए मूल्य को मूल मूल्य (दो दशमलव स्थानों के लिए सही) तक लाने के लिए कितने प्रतिशत की कमी की जानी चाहिए?

Options :

1. ✖ 26.54%

2. ✖ 25.48%

3. ✖ 23.18%

4. ✔ 28.18%

Question Number : 99 Question Id : 5861804765 Question Type : MCQ Option Shuffling : Yes

Correct Marks : 1 Wrong Marks : 0.25

The average of 29 numbers is 80. The average of first 15 numbers is 75 and the average of last 15 numbers is 84. If the 15th number is excluded, what is the average of the remaining numbers (correct to one decimal place)?

Options :

1. ✖ 81.5

2. ✔ 80.5

3. ✖ 82.5

4. ✖ 80.9

Question Number : 99 Question Id : 5861804765 Question Type : MCQ Option Shuffling : Yes

Correct Marks : 1 Wrong Marks : 0.25

29 संख्याओं का औसत 80 है। पहली 15 संख्याओं का औसत 75 है और अंतिम 15 संख्याओं का औसत 84 है। यदि 15वीं संख्या को निकाल दिया जाए, तो शेष संख्याओं का औसत (एक दशमलव स्थान तक सही) ज्ञात करें।

Options :

1. ✖ 81.5

2. ✓ 80.5

3. ✗ 82.5

4. ✗ 80.9

Question Number : 100 Question Id : 5861804766 Question Type : MCQ Option Shuffling : Yes

Correct Marks : 1 Wrong Marks : 0.25

The average weight of a group of 8 girls is 52 kg. If 2 girls, R and S, replace P and Q, the new average weight becomes 50 kg. The weight of P is equal to Weight of Q and the weight of R is equal to weight of S. Another girl T is included in the new group and the new average weight becomes 50 kg. weight of T is equal to weight of R. What is the weight of Q (in kg)?

Options :

1. ✗ 56

2. ✗ 54

3. ✓ 58

4. ✗ 50

Question Number : 100 Question Id : 5861804766 Question Type : MCQ Option Shuffling : Yes

Correct Marks : 1 Wrong Marks : 0.25

8 लड़कियों वाले एक समूह का औसत वजन 52 kg है। यदि 2 लड़कियां, R और S, P और Q की जगह ले लेती हैं, तो नया औसत वजन 50 kg हो जाता है। P का वजन Q के बराबर है और R का वजन S के बराबर है। एक अन्य लड़की T को नए समूह में शामिल किया जाता है और नया औसत वजन 50 kg हो जाता है। T का वजन R के बराबर है। Q का वजन (kg में) ज्ञात करें।

Options :

1. ✗ 56

2. ✖ 54

3. ✔ 58

4. ✖ 50

Arithmetic Ability2

Group Number :	6
Group Id :	586180227
Group Maximum Duration :	0
Group Minimum Duration :	0
Show Attended Group? :	No
Edit Attended Group? :	No
Break time:	0
Group Marks:	20
Is this Group for Examiner?:	No
Revisit allowed for group Instructions? :	Yes
Maximum Instruction Time:	0
Minimum Instruction Time:	0



Arithmetic Ability2

Section Id :	586180231
Section Number :	1
Section type :	Online
Mandatory or Optional:	Mandatory
Number of Questions:	20
Number of Questions to be attempted:	20
Section Marks:	20

Sub-Section Number:	1
Sub-Section Id:	586180318
Question Shuffling Allowed :	Yes

Question Number : 101 Question Id : 5861804767 Question Type : MCQ Option Shuffling : Yes
Correct Marks : 1 Wrong Marks : 0.25

If the selling price of 50 articles is equal to the cost price of 42 articles, the approximate loss or gain percentage is:
Options :

1. ✓ 16% loss

2. ✗ 19% loss

3. ✗ 21% gain

4. ✗ 16% gain

Question Number : 101 Question Id : 5861804767 Question Type : MCQ Option Shuffling : Yes

Correct Marks : 1 Wrong Marks : 0.25

यदि 50 वस्तुओं का बिक्री मूल्य 42 वस्तुओं के क्रय मूल्य के बराबर है, तो अनुमानित हानि या लाभ प्रतिशत में ज्ञात करें।

Options :

1. ✓ 16% हानि

2. ✗ 19% हानि

3. ✗ 21% लाभ

4. ✗ 16% लाभ

Question Number : 102 Question Id : 5861804768 Question Type : MCQ Option Shuffling : Yes

Correct Marks : 1 Wrong Marks : 0.25

A shopkeeper earns a profit of 20% after selling a book at 13% discount on the printed price. The ratio of the cost price and the printed price of the book is:

Options :

1. ✗ 11 : 87

2. ✓ 29 : 40

3. ✗ 31 : 57

4. ✗ 10 : 11

Question Number : 102 Question Id : 5861804768 Question Type : MCQ Option Shuffling : Yes

Correct Marks : 1 Wrong Marks : 0.25

एक दुकानदार अंकित मूल्य पर 13% की छूट देकर पुस्तक बेच कर 20% का लाभ कमाता है। पुस्तक के क्रय मूल्य और अंकित मूल्य का अनुपात ज्ञात करें।

Options :

1. ✗ 11 : 87

2. ✓ 29 : 40

3. ✗ 31 : 57

4. ✗ 10 : 11

Question Number : 103 Question Id : 5861804769 Question Type : MCQ Option Shuffling : Yes

Correct Marks : 1 Wrong Marks : 0.25

The cost of a brand of tea got raised by 12% per kg due to escalation in price index and by another 8% per kg due to increase in taxes. A consumer could manage to increase his expenditure on tea only by 10%. By what percentage (nearest to one decimal place) should he reduce his consumption so as to be able to manage the tea purchase by spending only 10% more than previous?

Options :

1. ✓ 9.1%

2. ✗ 9.3%

3. ✖ 10.4%

4. ✖ 10.8%

Question Number : 103 Question Id : 5861804769 Question Type : MCQ Option Shuffling : Yes

Correct Marks : 1 Wrong Marks : 0.25

मूल्य सूचकांक में वृद्धि के कारण चाय के एक ब्रांड के मूल्य में 12% प्रति kg की वृद्धि हुई और कर्ों में वृद्धि के कारण 8% प्रति kg की और वृद्धि हुई। एक उपभोक्ता चाय पर केवल 10% और ज्यादा खर्च कर सकता है। तो पता करें कि उसे अपनी खपत कितने प्रतिशत (एक दशमलव स्थान के करीब) कम करनी चाहिए ताकि पहले की तुलना में केवल 10% ज्यादा खर्च करके चाय खरीद सके?

Options :

1. ✔ 9.1%

2. ✖ 9.3%

3. ✖ 10.4%

4. ✖ 10.8%

Question Number : 104 Question Id : 5861804770 Question Type : MCQ Option Shuffling : Yes

Correct Marks : 1 Wrong Marks : 0.25

A person bought a new machine for 35% discount. If he were not to get any discount, then he would have had to pay ₹ 224 more. How much did he pay for the machine (in ₹)?

Options :

1. ✔ 416

2. ✖ 640

3. ✖ 864

4. ✖ 224

Question Number : 104 Question Id : 5861804770 Question Type : MCQ Option Shuffling : Yes

Correct Marks : 1 Wrong Marks : 0.25

एक व्यक्ति ने 35% छूट पर एक नई मशीन खरीदी। यदि उसे कोई छूट नहीं मिलती, तो उसे ₹ 224 का अधिक भुगतान करना पड़ता। तो पता करें कि उसने मशीन के लिए कितना भुगतान (₹ में) किया?

Options :

1. ✔ 416

2. ✖ 640

3. ✖ 864

4. ✖ 224

Question Number : 105 Question Id : 5861804771 Question Type : MCQ Option Shuffling : Yes

Correct Marks : 1 Wrong Marks : 0.25

While buying a laptop, when payment is made online, discount offered is 10%. Additional discount of 5% is given to credit card holders. Ram buys a laptop of ₹ 30000 by paying online and pays through his credit card. How much does he need to pay (in ₹)?

Options :

1. ✖ 23500

2. ✔ 25650

3. ✖ 15000

4. ✖ 10825

Question Number : 105 Question Id : 5861804771 Question Type : MCQ Option Shuffling : Yes

Correct Marks : 1 Wrong Marks : 0.25

लैपटॉप खरीदते समय, ऑनलाइन भुगतान करने पर 10% की छूट दी जाती है। क्रेडिट कार्ड धारकों को 5% की अतिरिक्त छूट दी जाती है। राम ऑनलाइन खरीददारी करके, अपने क्रेडिट कार्ड के माध्यम से भुगतान करके ₹ 30000 का लैपटॉप खरीदता है। तो पता करें कि उसने कितना भुगतान (₹ में) किया?

Options :

1. ✖ 23500

2. ✔ 25650

3. ✖ 15000

4. ✖ 10825

Question Number : 106 Question Id : 5861804772 Question Type : MCQ Option Shuffling : Yes

Correct Marks : 1 Wrong Marks : 0.25

In 10 years, the simple interest on certain sum of money is $\frac{9}{20}$ of the principal. The annual rate of interest is:

Options :

1. ✖ 3%

2. ✔ 4.5%

3. ✖ 3.75%

4. ✖ 4%

Question Number : 106 Question Id : 5861804772 Question Type : MCQ Option Shuffling : Yes

Correct Marks : 1 Wrong Marks : 0.25

10 वर्षों में, एक निश्चित राशि पर साधारण ब्याज मूलधन का $\frac{9}{20}$ हो जाएगा। वार्षिक ब्याज दर ज्ञात करें।

Options :

1. ✖ 3%

2. ✔ 4.5%

3. ✖ 3.75%

4. ✖ 4%

Question Number : 107 Question Id : 5861804773 Question Type : MCQ Option Shuffling : Yes

Correct Marks : 1 Wrong Marks : 0.25

A man earns 6% per annum at simple interest on his deposits in Bank A, while he earns 8% per annum simple interest on his deposits in Bank B. If the total interest he earns is ₹ 18000 in three years on an investment of ₹ 90000, what is the amount (in ₹) invested at 8 %?

Options :

1. ✔ 30000

2. ✖ 60000

3. ✖ 18000

4. ✖ 54000

Question Number : 107 Question Id : 5861804773 Question Type : MCQ Option Shuffling : Yes

Correct Marks : 1 Wrong Marks : 0.25

एक व्यक्ति बैंक A में अपनी जमा राशि पर 6% प्रतिवर्ष की दर से साधारण ब्याज अर्जित करता है, जबकि वह बैंक B में अपनी जमा राशि पर 8% प्रतिवर्ष की दर से साधारण ब्याज अर्जित करता है। यदि वह तीन वर्षों में ₹ 90000 के निवेश पर कुल ₹ 18000 ब्याज अर्जित करता है, तो पता करें उसने 8% दर पर कितनी राशि (₹ में) का निवेश किया?

Options :

1. ✓ 30000

2. ✗ 60000

3. ✗ 18000

4. ✗ 54000

Question Number : 108 Question Id : 5861804774 Question Type : MCQ Option Shuffling : Yes
Correct Marks : 1 Wrong Marks : 0.25

Arun took a loan of ₹ 25000 with simple interest for as many years as the rate of interest. If he paid ₹ 16000 as interest at the end of the loan period, what was the rate percentage of interest per annum?

Options :

1. ✓ 8

2. ✗ 6

3. ✗ 7

4. ✗ 4

Question Number : 108 Question Id : 5861804774 Question Type : MCQ Option Shuffling : Yes
Correct Marks : 1 Wrong Marks : 0.25

अरुण ने ब्याज दर के बराबर के वर्षों के लिए साधारण ब्याज पर ₹ 25000 का ऋण लिया। यदि उसने ऋण अवधि के अंत में ब्याज के रूप में ₹ 16000 का भुगतान किया है, तो वार्षिक ब्याज दर पता करें:

Options :

1. ✓ 8

2. ✗ 6

3. ✗ 7

4. ✗ 4

Question Number : 109 Question Id : 5861804775 Question Type : MCQ Option Shuffling : Yes

Correct Marks : 1 Wrong Marks : 0.25

A sum of money lent at compound interest for 2 years at 20% per annum would fetch ₹ 602.5 more, if the interest was payable half yearly than if it was payable annually. The sum (in ₹) is:

Options :

1. ✗ 10000

2. ✓ 25000

3. ✗ 20000

4. ✗ 15000

Question Number : 109 Question Id : 5861804775 Question Type : MCQ Option Shuffling : Yes

Correct Marks : 1 Wrong Marks : 0.25

एक निश्चित राशि को 20% वार्षिक चक्रवृद्धि ब्याज दर पर 2 वर्ष के लिए उधार देने पर ₹ 602.5 अधिक प्राप्त होते हैं, यदि ब्याज देय प्रतिवर्ष की बजाए अर्धवार्षिक होता। राशि (₹ में) पता करें:

Options :

1. ✗ 10000

2. ✓ 25000

3. ✗ 20000

4. ✗ 15000

Question Number : 110 Question Id : 5861804776 Question Type : MCQ Option Shuffling : Yes

Correct Marks : 1 Wrong Marks : 0.25

A financial house gives compound interest on investment at a given rate. A principal of ₹ 50,000 when invested for 7 years, grows by 127.69% times more than to what it would have grown in 5 years. What would be the amount (in ₹) to which this money would have grown in two years?

Options :

1. ✓ 63845

2. ✗ 62576

3. ✗ 62084

4. ✗ 61835

Question Number : 110 Question Id : 5861804776 Question Type : MCQ Option Shuffling : Yes

Correct Marks : 1 Wrong Marks : 0.25

एक वित्तीय संस्थान निश्चित दर से किए गए निवेश पर चक्रवृद्धि ब्याज देता है। जब ₹ 50,000 का मूलधन 7 वर्षों के लिए निवेश किया जाता है, तो यह 5 वर्षों के लिए निवेश करने की तुलना में 127.69% ज्यादा हो जाता है। तो पता करें कि यही मूलधन (₹ में) दो वर्षों में कितना बढ़ेगा?

Options :

1. ✓ 63845

2. ✖ 62576

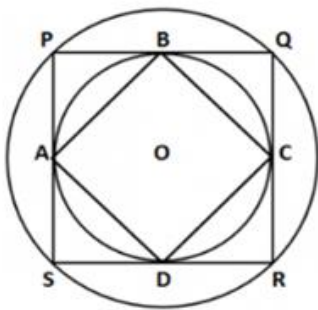
3. ✖ 62084

4. ✖ 61835

Question Number : 111 Question Id : 5861804777 Question Type : MCQ Option Shuffling : Yes

Correct Marks : 1 Wrong Marks : 0.25

The following figure shows two concentric circles with centre O. PQRS is a square inscribed in the outer circle. It also circumscribes the inner circle, touching it at point B, C, D and A. What is the ratio of the perimeter of ABCD to that of circumference of the outer circle?



Options :

1. ✖ 4 : π

2. ✖ 8 : π

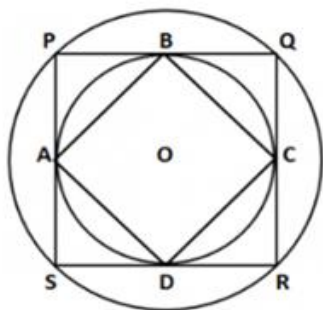
3. ✔ 2 : π

4. ✖ 6 : π

Question Number : 111 Question Id : 5861804777 Question Type : MCQ Option Shuffling : Yes

Correct Marks : 1 Wrong Marks : 0.25

नीचे दी गई आकृति केंद्र O वाले दो संकेन्द्रित वृत्त को दर्शाती है। PQRS बाहरी वृत्त में बना हुआ एक वर्ग है। यह आंतरिक वृत्त को भी परिगत करता है, और इसे बिंदु B, C, D और A पर स्पर्श करता है। ABCD के परिमाप और बाहरी वृत्त की परिधि का अनुपात ज्ञात करें।



Options :

1. ✖ $4 : \pi$

2. ✖ $8 : \pi$

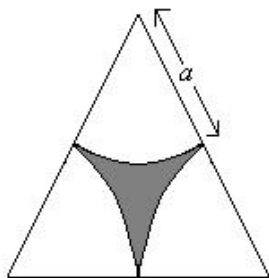
3. ✔ $2 : \pi$

4. ✖ $6 : \pi$

Question Number : 112 Question Id : 5861804778 Question Type : MCQ Option Shuffling : Yes

Correct Marks : 1 Wrong Marks : 0.25

In an equilateral triangle, three symmetrical sections are cut as shown. What is the ratio of the area of equilateral triangle to that of the shaded region?



Options :

1. ✓ $\frac{2\sqrt{3}}{2\sqrt{3}-\pi}$

2. ✗ $\frac{2\sqrt{3}}{2\sqrt{3}+\pi}$

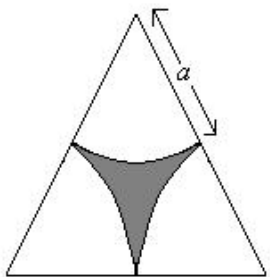
3. ✗ $\frac{\sqrt{3}}{2\sqrt{3}-\pi}$

4. ✗ $\frac{\sqrt{3}}{\sqrt{3}-\pi}$

Question Number : 112 Question Id : 5861804778 Question Type : MCQ Option Shuffling : Yes

Correct Marks : 1 Wrong Marks : 0.25

समबाहु त्रिभुज में, तीन सममित खंडों को दर्शाए जाने के अनुसार काटा गया है। समबाहु त्रिभुज के क्षेत्रफल और छायांकित क्षेत्र के क्षेत्रफल का अनुपात पता करें?



Options :

1. ✓ $\frac{2\sqrt{3}}{2\sqrt{3}-\pi}$

2. ✗ $\frac{2\sqrt{3}}{2\sqrt{3}+\pi}$

3. ✗ $\frac{\sqrt{3}}{2\sqrt{3}-\pi}$

4. ✖ $\frac{\sqrt{3}}{\sqrt{3}-\pi}$

Question Number : 113 Question Id : 5861804779 Question Type : MCQ Option Shuffling : Yes

Correct Marks : 1 Wrong Marks : 0.25

The length of a rectangle is two-third of the radius of a circle. The radius of the circle is equal to the side of the square, whose area is 1521 sq.units. What is the area (in sq.units) of the rectangle if its breadth is 13 units?

Options :

1. ✔ 338

2. ✖ 676

3. ✖ 169

4. ✖ 1521

Question Number : 113 Question Id : 5861804779 Question Type : MCQ Option Shuffling : Yes

Correct Marks : 1 Wrong Marks : 0.25

एक आयत की लंबाई, एक वृत्त की त्रिज्या की दो-तिहाई है। वृत्त की त्रिज्या वर्ग की भुजा के बराबर है, जिसका क्षेत्रफल 1521 sq.units है। यदि आयत की चौड़ाई 13 unit है, तो आयत का क्षेत्रफल (sq.units में) ज्ञात करें।

Options :

1. ✔ 338

2. ✖ 676

3. ✖ 169

4. ✖ 1521

Question Number : 114 Question Id : 5861804780 Question Type : MCQ Option Shuffling : Yes

Correct Marks : 1 Wrong Marks : 0.25

A, B and C do a piece of work in 24, 12 and 6 days respectively. A and B start to work and work together for 4 days, after which B leaves and C joins. After 2 days, C leaves and A is left alone to complete the work. How many more day(s) will A take to complete the work?

Options :

1. ✖ 4

2. ✖ 3

3. ✔ 2

4. ✖ 1

Question Number : 114 Question Id : 5861804780 Question Type : MCQ Option Shuffling : Yes

Correct Marks : 1 Wrong Marks : 0.25

A, B और C एक कार्य को क्रमशः 24, 12 और 6 दिनों में पूरा करते हैं। A और B एक कार्य शुरू करते हैं और 4 दिनों तक एक साथ काम करते हैं, इसके बाद B काम छोड़ देता है और C काम में शामिल हो जाता है। 2 दिनों के बाद, C भी काम छोड़ देता है और A काम पूरा करने के लिए अकेला रह जाता है। तो पता करें कि उस कार्य को पूरा करने के लिए A को कितने दिन लगेंगे?

Options :

1. ✖ 4

2. ✖ 3

3. ✔ 2

4. ✖ 1

Question Number : 115 Question Id : 5861804781 Question Type : MCQ Option Shuffling : Yes

Correct Marks : 1 Wrong Marks : 0.25

A, B and C can do a piece of work in 24 days, 30 days and 40 days respectively. They begin the work together, but C leaves 8 days before the completion of the work. In how many days would the work be completed?

Options :

1. ✖ 15 days

2. ✖ 10 days

3. ✖ 4 days

4. ✔ 12 days

Question Number : 115 Question Id : 5861804781 Question Type : MCQ Option Shuffling : Yes

Correct Marks : 1 Wrong Marks : 0.25

A, B और C एक कार्य को क्रमशः 24, 30 और 40 दिनों में पूरा करते हैं। वे एक साथ काम करना शुरू करते हैं, लेकिन काम पूरा होने से 8 दिन पहले ही C काम छोड़ देता है। तो पता करें कि काम को पूरा होने में कितने दिन लगेंगे?

Options :

1. ✖ 15 दिन

2. ✖ 10 दिन

3. ✖ 4 दिन

4. ✔ 12 दिन

Question Number : 116 Question Id : 5861804782 Question Type : MCQ Option Shuffling : Yes

Correct Marks : 1 Wrong Marks : 0.25

A car of length 3 m wants to overtake a trailer truck of length 18 m within 7 seconds. Both are travelling in the same direction. The speed of the truck is 90 kmph. At what speed should the car travel?

Options :

1. ✖ 12 m/s

2. ✖ 24 m/s

3. ✔ 28 m/s

4. ✖ 36 m/s

Question Number : 116 Question Id : 5861804782 Question Type : MCQ Option Shuffling : Yes

Correct Marks : 1 Wrong Marks : 0.25

एक 3 m लंबी कार 7 सेकंड के भीतर 18 m लंबे ट्रेलर ट्रक से आगे निकलना चाहती है। दोनों एक ही दिशा में जा रहे हैं। ट्रक की गति 90 kmph है। पता करें कि ट्रक से आगे निकलने के लिए कार की गति कितनी होनी चाहिए?

Options :

1. ✖ 12 m/s

2. ✖ 24 m/s

3. ✔ 28 m/s

4. ✖ 36 m/s

Question Number : 117 Question Id : 5861804783 Question Type : MCQ Option Shuffling : Yes

Correct Marks : 1 Wrong Marks : 0.25

In the route of a Metro Rail there are ten stations, each of length exactly 20% more than that of the rake. The distance between each pair of consecutive stations is five times the length of the rake, which is 200 m. The duration of halt at every station is 20 seconds. If the average speed of the train between two consecutive stations is 13.95 m/s, then the entire route would be covered in how many minutes?

Options :

1. ✖ 15

2. ✓ 16

3. ✗ 20

4. ✗ 24

Question Number : 117 Question Id : 5861804783 Question Type : MCQ Option Shuffling : Yes

Correct Marks : 1 Wrong Marks : 0.25

मेट्रो रेल के मार्ग में दस स्टेशन हैं, प्रत्येक की लंबाई रैक की तुलना में 20% अधिक है। क्रमागत स्टेशनों की प्रत्येक जोड़ी के बीच की दूरी रैक की लंबाई का पाँच गुना है, जो कि 200 m है। हर स्टेशन पर रुकने की अवधि 20 सेकंड है। यदि क्रमागत दो स्टेशनों के बीच ट्रेन की औसत गति 13.95 m/s है, तो पता करें कि पूरे मार्ग को तय करने में कितने मिनट का समय लगेगा?

Options :

1. ✗ 15

2. ✓ 16

3. ✗ 20

4. ✗ 24

Question Number : 118 Question Id : 5861804784 Question Type : MCQ Option Shuffling : Yes

Correct Marks : 1 Wrong Marks : 0.25

A starts walking at 3 kmph. After 2 hours, B starts cycling in the same direction at 5 kmph from the same point from where A starts. After how much distance (in km) will B catch up with A?

Options :

1. ✗ 20

2. ✓ 15

3. ✗ 25

4. ✗ 10

Question Number : 118 Question Id : 5861804784 Question Type : MCQ Option Shuffling : Yes

Correct Marks : 1 Wrong Marks : 0.25

A 3 kmph की गति से चलना शुरू करता है। 2 घंटे बाद, जहाँ से A ने चलना शुरू किया था, B भी उसी दिशा में 5 kmph की गति से साइकिल चलाना शुरू करता है। B कितनी दूरी (km में) बाद A के साथ होगा?

Options :

1. ✗ 20

2. ✓ 15

3. ✗ 25

4. ✗ 10



Question Number : 119 Question Id : 5861804785 Question Type : MCQ Option Shuffling : Yes

Correct Marks : 1 Wrong Marks : 0.25

The following table shows the number of seats reserved in different classes in a train on five different days. The capacity of each class is given in the bracket.

Day	2 nd Class Non- AC (900)	1 st Class Non- AC (500)	III Tier AC (500)	II Tier AC (250)	I Tier AC (150)
Monday	750	410	390	240	145
Tuesday	820	400	450	230	120
Wednesday	730	360	480	220	130
Thursday	640	480	490	190	122
Friday	700	490	495	210	140

What is the ratio of the number of reservations in non-AC classes on Tuesday, Wednesday and Thursday to the number of vacant seats in AC classes on Monday and Friday?

Options :

1. ✓ 343 : 18
2. ✗ 18 : 341
3. ✗ 343 : 9
4. ✗ 9 : 343



नीचे दी गई तालिका एक ट्रेन में पाँच अलग-अलग दिनों में विभिन्न श्रेणियों में आरक्षित सीटों की संख्या को दर्शाती गई है। प्रत्येक श्रेणी की क्षमता ब्रैकेट में दी गई है।

दिन	द्वितीय श्रेणी गैर-एसी (900)	प्रथम श्रेणी गैर-एसी (500)	III टीयर एसी (500)	II टीयर एसी (250)	I टीयर एसी (150)
सोमवार	750	410	390	240	145
मंगलवार	820	400	450	230	120
बुधवार	730	360	480	220	130
गुरुवार	640	480	490	190	122
शुक्रवार	700	490	495	210	140

मंगलवार, बुधवार और गुरुवार को गैर-एसी श्रेणियों में आरक्षण की संख्या तथा सोमवार और शुक्रवार को एसी श्रेणियों में रिक्त सीटों की संख्या का अनुपात ज्ञात करें।

Options :

1. ✓ 343 : 18

2. ✗ 18 : 341

3. ✗ 343 : 9

4. ✗ 9 : 343

Question Number : 120 Question Id : 5861804786 Question Type : MCQ Option Shuffling : Yes

Correct Marks : 1 Wrong Marks : 0.25

The following table shows the number of seats reserved in different classes in a train on five different days. The capacity of each class is given in the bracket.

Day	2 nd Class Non- AC (900)	1 st Class Non- AC (500)	III Tier AC (500)	II Tier AC (250)	I Tier AC (150)
Monday	750	410	390	240	145
Tuesday	820	400	450	230	120
Wednesday	730	360	480	220	130
Thursday	640	480	490	190	122
Friday	700	490	495	210	140

If the data related to the 2nd Class non-AC reserved seats is represented by a pie-chart, then the central angle of the sector representing reserved seats in 2nd class non AC for Friday is (correct to the nearest integer):

Options :

- 1. ✓ 69 °
- 2. ✗ 68 °
- 3. ✗ 70 °
- 4. ✗ 65 °



नीचे दी गई तालिका एक ट्रेन में पाँच अलग-अलग दिनों में विभिन्न श्रेणियों में आरक्षित सीटों की संख्या को दर्शाती है। प्रत्येक श्रेणी की क्षमता ब्रैकेट में दी गई है।

दिन	द्वितीय श्रेणी गैर-एसी (900)	प्रथम श्रेणी गैर-एसी (500)	III टीयर एसी (500)	II टीयर एसी (250)	I टीयर एसी (150)
सोमवार	750	410	390	240	145
मंगलवार	820	400	450	230	120
बुधवार	730	360	480	220	130
गुरुवार	640	480	490	190	122
शुक्रवार	700	490	495	210	140

यदि दूसरी श्रेणी में गैर-एसी आरक्षित सीटों से संबंधित डेटा को पाई-चार्ट द्वारा दर्शाया जाए, तो शुक्रवार के लिए दूसरी श्रेणी में गैर-एसी आरक्षित सीटों को दर्शाने वाले सेक्टर का केंद्रीय कोण (निकटतम पूर्णांक के लिए सही) ज्ञात करें।

Options :

1. ✓ 69°
2. ✗ 68°
3. ✗ 70°
4. ✗ 65°



General English1

Group Number :	7
Group Id :	586180228
Group Maximum Duration :	0
Group Minimum Duration :	0
Show Attended Group? :	No
Edit Attended Group? :	No
Break time:	0
Group Marks:	20
Is this Group for Examiner?:	No
Revisit allowed for group Instructions? :	Yes

Maximum Instruction Time: 0
Minimum Instruction Time: 0

General English1

Section Id : 586180232
Section Number : 1
Section type : Online
Mandatory or Optional: Mandatory
Number of Questions: 20
Number of Questions to be attempted: 20
Section Marks: 20

Sub-Section Number: 1
Sub-Section Id: 586180319
Question Shuffling Allowed : Yes

Question Number : 121 Question Id : 5861804787 Question Type : MCQ Option Shuffling : Yes
Correct Marks : 1 Wrong Marks : 0.25

Choose the option which is the meaning of the underlined idiom:

Your grandparents are coming to stay with us, so you need to mind your p's and q's.

Options :

- ✖ to mind one's own business
- ✖ to be careful about one's dress
- ✖ not be confused about anything
- ✔ to be careful about what one says and does

Question Number : 121 Question Id : 5861804787 Question Type : MCQ Option Shuffling : Yes
Correct Marks : 1 Wrong Marks : 0.25

Choose the option which is the meaning of the underlined idiom:

Your grandparents are coming to stay with us, so you need to mind your p's and q's.

Options :

1. ✖ to mind one's own business
2. ✖ to be careful about one's dress
3. ✖ not be confused about anything
4. ✔ to be careful about what one says and does

Question Number : 122 Question Id : 5861804788 Question Type : MCQ Option Shuffling : Yes
Correct Marks : 1 Wrong Marks : 0.25

Choose the option which is the meaning of the underlined idiom:

Our boss is a very arrogant person, some of us play second fiddle to him.

Options :

1. ✖ to play fiddle to please someone
2. ✔ to take up a subordinate role
3. ✖ to ignore a bossy person
4. ✖ to cut off relationship with one's boss

Question Number : 122 Question Id : 5861804788 Question Type : MCQ Option Shuffling : Yes
Correct Marks : 1 Wrong Marks : 0.25

Choose the option which is the meaning of the underlined idiom:

Our boss is a very arrogant person, some of us play second fiddle to him.

Options :

1. ✖ to play fiddle to please someone
2. ✔ to take up a subordinate role

3. ✖ to ignore a bossy person
4. ✖ to cut off relationship with one's boss

Question Number : 123 Question Id : 5861804789 Question Type : MCQ Option Shuffling : Yes
Correct Marks : 1 Wrong Marks : 0.25

Select the option that will improve the underlined part of the sentence. In case there is no improvement needed then select 'No improvement' option.

Wood swims in the water.

Options :

1. ✖ sails on
2. ✔ floats on
3. ✖ slides on
4. ✖ no improvement

Question Number : 123 Question Id : 5861804789 Question Type : MCQ Option Shuffling : Yes
Correct Marks : 1 Wrong Marks : 0.25

Select the option that will improve the underlined part of the sentence. In case there is no improvement needed then select 'No improvement' option.

Wood swims in the water.

Options :

1. ✖ sails on
2. ✔ floats on
3. ✖ slides on
4. ✖ no improvement

Question Number : 124 Question Id : 5861804790 Question Type : MCQ Option Shuffling : Yes
Correct Marks : 1 Wrong Marks : 0.25

Select the option that will improve the underlined part of the sentence. In case there is no improvement needed then select 'No improvement' option.

Marine biologists have discovered that the shark has a commonly large brain.

Options :

1. ✓ a remarkably
2. ✗ a signally
3. ✗ a surpassingly
4. ✗ no improvement

Question Number : 124 Question Id : 5861804790 Question Type : MCQ Option Shuffling : Yes
Correct Marks : 1 Wrong Marks : 0.25

Select the option that will improve the underlined part of the sentence. In case there is no improvement needed then select 'No improvement' option.

Marine biologists have discovered that the shark has a commonly large brain.

Options :

1. ✓ a remarkably
2. ✗ a signally
3. ✗ a surpassingly
4. ✗ no improvement

Question Number : 125 Question Id : 5861804791 Question Type : MCQ Option Shuffling : Yes
Correct Marks : 1 Wrong Marks : 0.25

Choose the option that is one word substitution for the given phrase:

One who is the centre of attraction.

Options :

1. ✖ cynic
2. ✖ pessimist
3. ✔ cynosure
4. ✖ protagonist

Question Number : 125 Question Id : 5861804791 Question Type : MCQ Option Shuffling : Yes
Correct Marks : 1 Wrong Marks : 0.25

Choose the option that is one word substitution for the given phrase:

One who is the centre of attraction.

Options :

1. ✖ cynic
2. ✖ pessimist
3. ✔ cynosure
4. ✖ protagonist

Question Number : 126 Question Id : 5861804792 Question Type : MCQ Option Shuffling : Yes
Correct Marks : 1 Wrong Marks : 0.25

Choose the correct option to fill in the blanks:

The train left half _____ hour before _____ scheduled time.

Options :

1. ✖ a, the

2. ✓ an, the

3. ✗ a, a

4. ✗ an, a

Question Number : 126 Question Id : 5861804792 Question Type : MCQ Option Shuffling : Yes
Correct Marks : 1 Wrong Marks : 0.25

Choose the correct option to fill in the blanks:

The train left half _____ hour before _____ scheduled time.

Options :

1. ✗ a, the

2. ✓ an, the

3. ✗ a, a

4. ✗ an, a

Question Number : 127 Question Id : 5861804793 Question Type : MCQ Option Shuffling : Yes
Correct Marks : 1 Wrong Marks : 0.25

Choose the correct option to fill in the blanks:

It was _____ only time I did skateboarding. There has never been such _____ exciting moment in my life. Thank you so much for such _____ lovely time.

Options :

1. ✓ the, an, a

2. ✗ an, an, a

3. ✗ a, a, a

4. ✗ the, a, a

Question Number : 127 Question Id : 5861804793 Question Type : MCQ Option Shuffling : Yes
Correct Marks : 1 Wrong Marks : 0.25

Choose the correct option to fill in the blanks:

It was _____ only time I did skateboarding. There has never been such _____ exciting moment in my life. Thank you so much for such _____ lovely time.

Options :

1. ✓ the, an, a
2. ✗ an, an, a
3. ✗ a, a, a
4. ✗ the, a, a

Question Number : 128 Question Id : 5861804794 Question Type : MCQ Option Shuffling : Yes
Correct Marks : 1 Wrong Marks : 0.25

Choose the correct option to fill in the blanks:

161 man stranded 20 miles _____ the coast of New Zealand survived _____ inflating his jeans _____ a series of knots.

Options :

1. ✗ along, through, in
2. ✗ in, on, with
3. ✓ off, by, with
4. ✗ off, on, by

Question Number : 128 Question Id : 5861804794 Question Type : MCQ Option Shuffling : Yes
Correct Marks : 1 Wrong Marks : 0.25

Choose the correct option to fill in the blanks:

161 man stranded 20 miles _____ the coast of New Zealand survived _____ inflating his jeans _____ a series of knots.

Options :

1. ✗ along, through, in
2. ✗ in, on, with
3. ✓ off, by, with
4. ✗ off, on, by

Question Number : 129 Question Id : 5861804795 Question Type : MCQ Option Shuffling : Yes
Correct Marks : 1 Wrong Marks : 0.25

Choose the correct option to fill in the blanks:

See you _____ the exhibition _____ Monday _____ 5pm.

Options :

1. ✗ by, on, on
2. ✗ at, at, at
3. ✗ next, on, at
4. ✓ at, on, at

Question Number : 129 Question Id : 5861804795 Question Type : MCQ Option Shuffling : Yes
Correct Marks : 1 Wrong Marks : 0.25

Choose the correct option to fill in the blanks:

See you _____ the exhibition _____ Monday _____ 5pm.

Options :

1. ✗ by, on, on

2. ✖ at, at, at

3. ✖ next, on, at

4. ✔ at, on, at

Question Number : 130 Question Id : 5861804796 Question Type : MCQ Option Shuffling : Yes
Correct Marks : 1 Wrong Marks : 0.25

Choose the correct option to fill in the blanks:

I accepted the job only _____ the salary, which was high, but my friend accepted the job _____ of the salary, which was low.

Options :

1. ✖ because, as

2. ✔ because of, inspite of

3. ✖ as, as

4. ✖ for, for

Question Number : 130 Question Id : 5861804796 Question Type : MCQ Option Shuffling : Yes
Correct Marks : 1 Wrong Marks : 0.25

Choose the correct option to fill in the blanks:

I accepted the job only _____ the salary, which was high, but my friend accepted the job _____ of the salary, which was low.

Options :

1. ✖ because, as

2. ✔ because of, inspite of

3. ✖ as, as

4. ✖ for, for

Question Number : 131 Question Id : 5861804797 Question Type : MCQ Option Shuffling : Yes
Correct Marks : 1 Wrong Marks : 0.25

Choose the correct option to fill in the blanks:

My brother was too short to play professional basketball, so he went into coaching _____.

Options :

1. ✓ instead
2. ✗ infact
3. ✗ like wise
4. ✗ moreover

Question Number : 131 Question Id : 5861804797 Question Type : MCQ Option Shuffling : Yes
Correct Marks : 1 Wrong Marks : 0.25

Choose the correct option to fill in the blanks:

My brother was too short to play professional basketball, so he went into coaching _____.

Options :

1. ✓ instead
2. ✗ infact
3. ✗ like wise
4. ✗ moreover

Question Number : 132 Question Id : 5861804798 Question Type : MCQ Option Shuffling : Yes
Correct Marks : 1 Wrong Marks : 0.25

Choose the correct option to fill in the blanks:

I should have been more sensitive in dealing with my sister. I can only blame _____ for what happened.

Options :

1. ✖ me
2. ✖ I
3. ✔ myself
4. ✖ her

Question Number : 132 Question Id : 5861804798 Question Type : MCQ Option Shuffling : Yes
Correct Marks : 1 Wrong Marks : 0.25

Choose the correct option to fill in the blanks:

I should have been more sensitive in dealing with my sister.
I can only blame _____ for what happened.

Options :

1. ✖ me
2. ✖ I
3. ✔ myself
4. ✖ her

Question Number : 133 Question Id : 5861804799 Question Type : MCQ Option Shuffling : Yes
Correct Marks : 1 Wrong Marks : 0.25

Choose the correct option to fill in the blanks:

I did not write the essay _____ , _____ mother helped _____.

Options :

1. ✖ myself, her, her
2. ✖ ourselves, my, us
3. ✖ itself, my, me
4. ✔ myself, my, me

Question Number : 133 Question Id : 5861804799 Question Type : MCQ Option Shuffling : Yes
Correct Marks : 1 Wrong Marks : 0.25

Choose the correct option to fill in the blanks:

I did not write the essay _____ , _____ mother helped _____.

Options :

1. ✖ myself, her, her
2. ✖ ourselves, my, us
3. ✖ itself, my, me
4. ✔ myself, my, me

Question Number : 134 Question Id : 5861804800 Question Type : MCQ Option Shuffling : Yes
Correct Marks : 1 Wrong Marks : 0.25

Choose the correct option to fill in the blanks:

_____ logical reason could move _____ parent from this decision.

Options :

1. ✖ Each, both
2. ✔ No, either
3. ✖ No, neither
4. ✖ Every, neither

Question Number : 134 Question Id : 5861804800 Question Type : MCQ Option Shuffling : Yes
Correct Marks : 1 Wrong Marks : 0.25

Choose the correct option to fill in the blanks:

_____ logical reason could move _____ parent from this decision.

Options :

1. ✖ Each, both

2. ✓ No, either
3. ✗ No, neither
4. ✗ Every, neither

Question Number : 135 Question Id : 5861804801 Question Type : MCQ Option Shuffling : Yes
Correct Marks : 1 Wrong Marks : 0.25

Choose the correct option to fill in the blanks :

Use up _____ sugar that is left in the bottle.

Options :

1. ✗ a little
2. ✗ little
3. ✓ the little
4. ✗ much

Question Number : 135 Question Id : 5861804801 Question Type : MCQ Option Shuffling : Yes
Correct Marks : 1 Wrong Marks : 0.25

Choose the correct option to fill in the blanks :

Use up _____ sugar that is left in the bottle.

Options :

1. ✗ a little
2. ✗ little
3. ✓ the little
4. ✗ much

Question Number : 136 Question Id : 5861804802 Question Type : MCQ Option Shuffling : Yes
Correct Marks : 1 Wrong Marks : 0.25

Choose the option which is the correct passive form of the given sentence:

The principal denied admission to my friend.

Options :

1. ✖ My friend is denied admission by the principal.
2. ✔ My friend was denied admission by the principal.
3. ✖ My friend was deny admission by the principal.
4. ✖ My friend will be denied admission by the principal.

Question Number : 136 Question Id : 5861804802 Question Type : MCQ Option Shuffling : Yes
Correct Marks : 1 Wrong Marks : 0.25

Choose the option which is the correct passive form of the given sentence:

The principal denied admission to my friend.

Options :

1. ✖ My friend is denied admission by the principal.
2. ✔ My friend was denied admission by the principal.
3. ✖ My friend was deny admission by the principal.
4. ✖ My friend will be denied admission by the principal.

Question Number : 137 Question Id : 5861804803 Question Type : MCQ Option Shuffling : Yes
Correct Marks : 1 Wrong Marks : 0.25

Choose the option which is the correct indirect form of the given sentence:

The doctor said to my mother, "You only need to exercise more and eat well."

Options :

1. ✖ The doctor said to my mother exercise more and eat well.
2. ✖ The doctor advised my mother to exercise more and eat well.
3. ✖ The doctor said to my mother only exercise more and eat well.
4. ✔ The doctor told my mother that she only needed to exercise more and eat well.

Question Number : 137 Question Id : 5861804803 Question Type : MCQ Option Shuffling : Yes
Correct Marks : 1 Wrong Marks : 0.25

Choose the option which is the correct indirect form of the given sentence:

The doctor said to my mother, "You only need to exercise more and eat well."

Options :

1. ✖ The doctor said to my mother exercise more and eat well.
2. ✖ The doctor advised my mother to exercise more and eat well.
3. ✖ The doctor said to my mother only exercise more and eat well.
4. ✔ The doctor told my mother that she only needed to exercise more and eat well.

Question Number : 138 Question Id : 5861804804 Question Type : MCQ Option Shuffling : Yes
Correct Marks : 1 Wrong Marks : 0.25

Choose the option that is the correct order of this jumbled sentence:

to say this / has been telling lies/ but your brother / I hate

Options :

1. ✖ To say this your but brother has been telling lies I hate.
2. ✖ But your brother has been telling lies to this I hate.
3. ✔ I hate to say this, but your brother has been telling lies.
4. ✖ But your bother I hate has been telling lies to say this.

Question Number : 138 Question Id : 5861804804 Question Type : MCQ Option Shuffling : Yes

Correct Marks : 1 Wrong Marks : 0.25

Choose the option that is the correct order of this jumbled sentence:

to say this / has been telling lies/ but your brother / I hate

Options :

1. ✖ To say this your but brother has been telling lies I hate.
2. ✖ But your brother has been telling lies to this I hate.
3. ✔ I hate to say this, but your brother has been telling lies.
4. ✖ But your bother I hate has been telling lies to say this.

Question Number : 139 Question Id : 5861804805 Question Type : MCQ Option Shuffling : Yes

Correct Marks : 1 Wrong Marks : 0.25

Choose the option that is the correct order of this jumbled sentence:

Like / of / I / you / sort

Options :

1. ✖ I like you of sort.
2. ✔ I sort of like you.
3. ✖ I like sort of you.
4. ✖ You like sort of I.

Question Number : 139 Question Id : 5861804805 Question Type : MCQ Option Shuffling : Yes
Correct Marks : 1 Wrong Marks : 0.25

Choose the option that is the correct order of this jumbled sentence:

Like / of / I / you / sort

Options :

1. ✖ I like you of sort.
2. ✔ I sort of like you.
3. ✖ I like sort of you.
4. ✖ You like sort of I.

Question Number : 140 Question Id : 5861804806 Question Type : MCQ Option Shuffling : Yes
Correct Marks : 1 Wrong Marks : 0.25

Choose the option that is the correct order of this jumbled sentence:

is bitterly cold and dry / although / Antarctica / not lifeless / it is

Options :

1. ✔ Although, Antarctica is bitterly cold and dry, it is not lifeless.
2. ✖ It is not lifeless, Antarctica is bitterly cold and dry, although.

3. ✖ Although it is bitterly cold and dry, Antarctica it is not lifeless.

4. ✖ It is bitterly cold and dry, Antarctica is not lifeless although.

Question Number : 140 Question Id : 5861804806 Question Type : MCQ Option Shuffling : Yes
Correct Marks : 1 Wrong Marks : 0.25

Choose the option that is the correct order of this jumbled sentence:

is bitterly cold and dry / although / Antarctica / not lifeless / it is

Options :

1. ✔ Although, Antarctica is bitterly cold and dry, it is not lifeless.

2. ✖ It is not lifeless, Antarctica is bitterly cold and dry, although.

3. ✖ Although it is bitterly cold and dry, Antarctica it is not lifeless.

4. ✖ It is bitterly cold and dry, Antarctica is not lifeless although.

General English2

Group Number :	8
Group Id :	586180229
Group Maximum Duration :	0
Group Minimum Duration :	0
Show Attended Group? :	No
Edit Attended Group? :	No
Break time:	0

Group Marks:	20
Is this Group for Examiner?:	No
Revisit allowed for group Instructions? :	Yes
Maximum Instruction Time:	0
Minimum Instruction Time:	0

General English2

Section Id :	586180233
Section Number :	1
Section type :	Online
Mandatory or Optional:	Mandatory
Number of Questions:	12
Number of Questions to be attempted:	12
Section Marks:	20

Sub-Section Number:	1
Sub-Section Id:	586180320
Question Shuffling Allowed :	Yes

Question Number : 141 Question Id : 5861804807 Question Type : MCQ Option Shuffling : Yes
Correct Marks : 1 Wrong Marks : 0.25

Choose the option that is the correct synonym for the given word:

Compact

Options :

- 1. ✓ condensed
- 2. ✖ loose
- 3. ✖ lengthy
- 4. ✖ unconsolidated

Question Number : 141 Question Id : 5861804807 Question Type : MCQ Option Shuffling : Yes
Correct Marks : 1 Wrong Marks : 0.25

Choose the option that is the correct synonym for the given word:

Compact

Options :

1. ✓ condensed
2. ✗ loose
3. ✗ lengthy
4. ✗ unconsolidated

Question Number : 142 Question Id : 5861804808 Question Type : MCQ Option Shuffling : Yes
Correct Marks : 1 Wrong Marks : 0.25

Choose the option that is the correct synonym for the given word:

Austere

Options :

1. ✗ extravagant
2. ✗ luxurious
3. ✓ sombre
4. ✗ indulgent

Question Number : 142 Question Id : 5861804808 Question Type : MCQ Option Shuffling : Yes
Correct Marks : 1 Wrong Marks : 0.25

Choose the option that is the correct synonym for the given word:

Austere

Options :

1. ✖ extravagant
2. ✖ luxurious
3. ✔ sombre
4. ✖ indulgent

Question Number : 143 Question Id : 5861804809 Question Type : MCQ Option Shuffling : Yes
Correct Marks : 1 Wrong Marks : 0.25

Choose the option that is the correct synonym for the given word:

Heterogeneous

Options :

1. ✖ identical
2. ✖ uniform
3. ✖ homogenous
4. ✔ diverse

Question Number : 143 Question Id : 5861804809 Question Type : MCQ Option Shuffling : Yes
Correct Marks : 1 Wrong Marks : 0.25

Choose the option that is the correct synonym for the given word:

Heterogeneous

Options :

1. ✖ identical
2. ✖ uniform
3. ✖ homogenous
4. ✔ diverse

Question Number : 144 Question Id : 5861804810 Question Type : MCQ Option Shuffling : Yes
Correct Marks : 1 Wrong Marks : 0.25

Choose the option that is the correct synonym for the given word:

Candid

Options :

1. ✖ prejudiced
2. ✔ outspoken
3. ✖ tricky
4. ✖ sly

Question Number : 144 Question Id : 5861804810 Question Type : MCQ Option Shuffling : Yes
Correct Marks : 1 Wrong Marks : 0.25

Choose the option that is the correct synonym for the given word:

Candid

Options :

1. ✖ prejudiced
2. ✔ outspoken
3. ✖ tricky
4. ✖ sly

Question Number : 145 Question Id : 5861804811 Question Type : MCQ Option Shuffling : Yes
Correct Marks : 1 Wrong Marks : 0.25

Choose the option that is the correct synonym for the given word:

Prodigal

Options :

1. ✖ stingy
2. ✖ modest
3. ✔ wasteful
4. ✖ careful

Question Number : 145 Question Id : 5861804811 Question Type : MCQ Option Shuffling : Yes
Correct Marks : 1 Wrong Marks : 0.25

Choose the option that is the correct synonym for the given word:

Prodigal

Options :

1. ✖ stingy
2. ✖ modest
3. ✔ wasteful
4. ✖ careful

Question Number : 146 Question Id : 5861804812 Question Type : MCQ Option Shuffling : Yes
Correct Marks : 1 Wrong Marks : 0.25

Choose the option that is the correct antonym for the given word:

JOVIAL

Options :

1. ✖ pleasant
2. ✖ happy
3. ✔ cheerless
4. ✖ amiable

Question Number : 146 Question Id : 5861804812 Question Type : MCQ Option Shuffling : Yes
Correct Marks : 1 Wrong Marks : 0.25

Choose the option that is the correct antonym for the given word:

JOVIAL

Options :

1. ✖ pleasant
2. ✖ happy
3. ✔ cheerless
4. ✖ amiable

Question Number : 147 Question Id : 5861804813 Question Type : MCQ Option Shuffling : Yes
Correct Marks : 1 Wrong Marks : 0.25

Choose the option that is the correct antonym for the given word:

CLANDESTINE

Options :

1. ✖ hidden
2. ✔ open
3. ✖ covert
4. ✖ concealed

Question Number : 147 Question Id : 5861804813 Question Type : MCQ Option Shuffling : Yes
Correct Marks : 1 Wrong Marks : 0.25

Choose the option that is the correct antonym for the given word:

CLANDESTINE

Options :

1. ✖ hidden
2. ✔ open
3. ✖ covert
4. ✖ concealed

Question Number : 148 Question Id : 5861804814 Question Type : MCQ Option Shuffling : Yes
Correct Marks : 1 Wrong Marks : 0.25

Choose the option that is the correct antonym for the given word:

OSTENTATIOUS

Options :

1. ✔ plain
2. ✖ showy
3. ✖ extravagant
4. ✖ flashy

Question Number : 148 Question Id : 5861804814 Question Type : MCQ Option Shuffling : Yes
Correct Marks : 1 Wrong Marks : 0.25

Choose the option that is the correct antonym for the given word:

OSTENTATIOUS

Options :

1. ✓ plain
2. ✗ showy
3. ✗ extravagant
4. ✗ flashy

Question Number : 149 Question Id : 5861804815 Question Type : MCQ Option Shuffling : Yes
Correct Marks : 1 Wrong Marks : 0.25

Choose the option that is the correct antonym for the given word:

CONTEMPLATIVE

Options :

1. ✗ thoughtful
2. ✗ reflective
3. ✓ active
4. ✗ meditative

Question Number : 149 Question Id : 5861804815 Question Type : MCQ Option Shuffling : Yes
Correct Marks : 1 Wrong Marks : 0.25

Choose the option that is the correct antonym for the given word:

CONTEMPLATIVE

Options :

1. ✗ thoughtful
2. ✗ reflective
3. ✓ active
4. ✗ meditative

Question Number : 150 Question Id : 5861804816 Question Type : MCQ Option Shuffling : Yes
Correct Marks : 1 Wrong Marks : 0.25

Choose the option that is the correct antonym for the given word:

DESTITUTE

Options :

1. ✖ needy
2. ✖ desperate
3. ✖ impoverished
4. ✔ wealthy

Question Number : 150 Question Id : 5861804816 Question Type : MCQ Option Shuffling : Yes
Correct Marks : 1 Wrong Marks : 0.25

Choose the option that is the correct antonym for the given word:

DESTITUTE

Options :

1. ✖ needy
2. ✖ desperate
3. ✖ impoverished
4. ✔ wealthy

Sub-Section Number: 2
Sub-Section Id: 586180321
Question Shuffling Allowed : Yes

Question Id : 5861804817 Question Type : COMPREHENSION Sub Question Shuffling Allowed : Yes Group Comprehension Questions : No
Question Numbers : (151 to 155)

Question Label : Comprehension



Read the passage to answer questions.

The nature versus nurture debate is about which part of a person is more important—their inherited qualities, which includes genes, or their personal experiences and the way they were brought up. For years, scientists have tried to find out what causes people to have different personalities, behaviours, and characteristics.

The nature versus nurture debate poses a very complicated scientific question: how do scientists figure out which one plays a greater role in the development of a person? Many scientists study twins that have separated at birth to answer this research question. Scientists use twins because they have identical genes, so it makes it easier to observe the effect of a person's environment. Do you think twins raised in different homes will grow up to have the same personalities?

The view that humans acquire all or almost all of their behavioral traits from “nurture” was termed *tabula rasa*, Latin for “blank slate,” by philosopher John Locke. This idea proposes that humans develop only from environmental influences. One example of a person's trait that is completely determined by their environment is native language. Studies show that children, regardless of where they're born, can learn any language with equal facility.

The term “nurture” has historically been defined as the care given to children by the parents, with the mother playing an important role. Now, this term is regarded by some as the environmental (non-genetic) factor of a person's environment. This new definition of “nurture” has been expanded to include, not just a person's family upbringing, but also everything else they experience in daily life including advertisements, media, education, peer influences, and home environments.

Some scientists have concluded that a person's nature—meaning the traits they got from their parents—have more power in determining a person's identity than how they are nurtured, or raised. Inherited traits are traits that are developed before birth.

Some genetic traits are highly heritable, such as eye color. Some disorders or diseases are also heritable. However, environments are still influential in how that disease affects a person's life; for example, people who are born with a disease may live a long time depending on how they are cared for. There are also some non-genetic factors that are highly heritable. For example, a wealth and social status are two non-genetic factors that are generally passed down from family.

Some people criticize the whole concept of “nature versus nurture.” They claim that it is an overly simple way to think about a person's identity. Perhaps the answer is not as simple. Are there other factors beyond genes and environment that make us who we are?

Sub questions

Question Number : 151 Question Id : 5861804818 Question Type : MCQ Option Shuffling : Yes
Correct Marks : 1 Wrong Marks : 0.25

Choose the option that is the correct answer to the question:

In the Nature vs Nurture debate, nurture refers to:

Options :

1. ✖ traits one is born with
2. ✖ physical features
3. ✔ the way a person is brought up
4. ✖ controlled learning

Question Number : 152 Question Id : 5861804819 Question Type : MCQ Option Shuffling : Yes
Correct Marks : 1 Wrong Marks : 0.25

Choose the option that is the correct answer to the question:

Tabula rasa theory negates:

Options :

1. ✔ nature
2. ✖ nurture
3. ✖ both nature and nurture
4. ✖ neither nature nor nurture

Question Number : 153 Question Id : 5861804820 Question Type : MCQ Option Shuffling : Yes
Correct Marks : 1 Wrong Marks : 0.25

Choose the option that is the correct answer to the question:

What example does the writer give to support nurture being more important than nature?

Options :

1. ✖ identical twins
2. ✔ children learning a language

3. ✖ mother bringing up a child
4. ✖ inherited physical features

Question Number : 154 Question Id : 5861804821 Question Type : MCQ Option Shuffling : Yes
Correct Marks : 1 Wrong Marks : 0.25

Choose the option that is the correct answer to the question:

Which of these traits is not inherited?

Options :

1. ✖ colour of the eyes
2. ✖ some diseases
3. ✔ personal experiences
4. ✖ some disorders

Question Number : 155 Question Id : 5861804822 Question Type : MCQ Option Shuffling : Yes
Correct Marks : 1 Wrong Marks : 0.25

Choose the option that is the correct answer to the question:

One can conclude from the passage that:

Options :

1. ✔ There are factors other than genes and environment that make what we are.
2. ✖ The tabula rasa idea is more credible than the gene theory.
3. ✖ The inherited traits theory hold a better position.
4. ✖ There is no way to know which is responsible for making us what we are- nature or nurture.

Question Id : 5861804817 Question Type : COMPREHENSION Sub Question Shuffling Allowed : Yes Group Comprehension Questions : No
Question Numbers : (151 to 155)

Question Label : Comprehension

Read the passage to answer questions.

The nature versus nurture debate is about which part of a person is more important—their inherited qualities, which includes genes, or their personal experiences and the way they were brought up. For years, scientists have tried to find out what causes people to have different personalities, behaviours, and characteristics.

The nature versus nurture debate poses a very complicated scientific question: how do scientists figure out which one plays a greater role in the development of a person? Many scientists study twins that have separated at birth to answer this research question. Scientists use twins because they have identical genes, so it makes it easier to observe the effect of a person's environment. Do you think twins raised in different homes will grow up to have the same personalities?

The view that humans acquire all or almost all of their behavioral traits from “nurture” was termed *tabula rasa*, Latin for “blank slate,” by philosopher John Locke. This idea proposes that humans develop only from environmental influences. One example of a person's trait that is completely determined by their environment is native language. Studies show that children, regardless of where they're born, can learn any language with equal facility. The term “nurture” has historically been defined as the care given to children by the parents, with the mother playing an important role. Now, this term is regarded by some as the environmental (non-genetic) factor of a person's environment. This new definition of “nurture” has been expanded to include, not just a person's family upbringing, but also everything else they experience in daily life including advertisements, media, education, peer influences, and home environments.

Some scientists have concluded that a person's nature—meaning the traits they got from their parents—have more power in determining a person's identity than how they are nurtured, or raised. Inherited traits are traits that are developed before birth.

Some genetic traits are highly heritable, such as eye color. Some disorders or diseases are also heritable. However, environments are still influential in how that disease affects a person's life; for example, people who are born with a disease may live a long time depending on how they are cared for. There are also some non-genetic factors that are highly heritable. For example, a wealth and social status are two non-genetic factors that are generally passed down from family.

Some people criticize the whole concept of “nature versus nurture.” They claim that it is an overly simple way to think about a person's identity. Perhaps the answer is not as simple. Are there other factors beyond genes and environment that make us who we are?

Sub questions

Question Number : 151 Question Id : 5861804818 Question Type : MCQ Option Shuffling : Yes
Correct Marks : 1 Wrong Marks : 0.25

Choose the option that is the correct answer to the question:

In the Nature vs Nurture debate, nurture refers to:

Options :

1. ✖ traits one is born with
2. ✖ physical features
3. ✔ the way a person is brought up
4. ✖ controlled learning

Question Number : 152 Question Id : 5861804819 Question Type : MCQ Option Shuffling : Yes
Correct Marks : 1 Wrong Marks : 0.25

Choose the option that is the correct answer to the question:

Tabula rasa theory negates:

Options :

1. ✔ nature
2. ✖ nurture
3. ✖ both nature and nurture
4. ✖ neither nature nor nurture

Question Number : 153 Question Id : 5861804820 Question Type : MCQ Option Shuffling : Yes
Correct Marks : 1 Wrong Marks : 0.25

Choose the option that is the correct answer to the question:

What example does the writer give to support nurture being more important than nature?

Options :

1. ✖ identical twins
2. ✔ children learning a language
3. ✖ mother bringing up a child
4. ✖ inherited physical features

Question Number : 154 Question Id : 5861804821 Question Type : MCQ Option Shuffling : Yes
Correct Marks : 1 Wrong Marks : 0.25

Choose the option that is the correct answer to the question:

Which of these traits is not inherited?

Options :

1. ✖ colour of the eyes
2. ✖ some diseases
3. ✔ personal experiences
4. ✖ some disorders

Question Number : 155 Question Id : 5861804822 Question Type : MCQ Option Shuffling : Yes
Correct Marks : 1 Wrong Marks : 0.25

Choose the option that is the correct answer to the question:

One can conclude from the passage that:

Options :

1. ✓ There are factors other than genes and environment that make what we are.
2. ✖ The tabula rasa idea is more credible than the gene theory.
3. ✖ The inherited traits theory hold a better position.
4. ✖ There is no way to know which is responsible for making us what we are- nature or nurture.

Sub-Section Number: 3
Sub-Section Id: 586180322
Question Shuffling Allowed : Yes

Question Id : 5861804823 Question Type : COMPREHENSION Sub Question Shuffling Allowed : Yes Group Comprehension Questions : No

Question Numbers : (156 to 160)

Question Label : Comprehension

Read the passage and answer the following questions:

When 12 young footballers and their coach entered the Tham Luang Nang Non cave in Thailand, it was supposed to be a fun outing after football practice. But when a torrent of flood water rushed in after heavy rain, the group became trapped on a small rock shelf deep inside the cave's vast network of tunnels.

It was nine days before two British divers, John Volanthen and Richard Stanton, located the group — mercifully alive and apparently in good physical and mental health. But how do people cope with such life-threatening events? And why is it important to focus on psychological, as well as physiological impact?

When the boys first became aware that they were facing a life-threatening situation they would have experienced a number of physiological reactions. Fight or flight responses, such as an increase in heart rate, would have kicked in immediately, designed to help us stay alive.

But despite their physiological benefits, these neurochemical changes can affect our brain, and impair our mental functioning. During the initial stages of an emergency situation our brains may perform poorly, potentially resulting in poor decision-making and memory failures. Fortunately, when the flood waters came crashing in, the Thai footballers and coach appear to have remained level headed. They were able to control feelings of panic, and made the rational decision to find a safe place and wait.

As the immediate danger from the flood waters receded, more long-term survival needs will have come into focus. Everyone knows that the human body has basic physical requirement: an adequate supply of food, water and warmth.

What people often forget is that brain function is also sensitive to environmental factors. When exposed to the elements, dehydrated, hungry, or suffering from sleep deprivation, the human brain cannot function within its normal operating parameters.

In these conditions people can make poor decisions which can put them at risk. The Thai footballers seem to have managed to keep themselves hydrated, and although they were clearly hungry when they were found, they appeared cognitively intact, looking alert and asking appropriate questions. Again, this shows that the boys and their coach managed to stay both physically and psychologically healthy during the nine long days they spent waiting in the dark.

In a survival situation, your mental health is just as important as your physical health. Maintaining a positive attitude is crucial: people who remain optimistic are more likely to think that adverse events are controllable, and so are more likely to undertake positive behaviours to try and survive. Pessimistic thinking increases feelings of anxiety and helplessness, which can stop people from trying to proactively improve their situation.

In extreme cases, people can give up mentally, withdraw into themselves, and even die. This is known as psychogenic death, essentially giving up. From the early footage, the footballers seem to have managed to stay positive while awaiting rescue. They are seen laughing and joking with the divers — a very promising sign.

Another way to maintain mental strength is to draw on any social support available in the situation. The fact that the Thai footballers have been able to draw on each other through their ordeal will have been a big boost to their mental health.

Sub questions

Question Number : 156 Question Id : 5861804824 Question Type : MCQ Option Shuffling : Yes
Correct Marks : 1 Wrong Marks : 0.25

Choose the option that is the correct answer to the question.

The boys entered the cave to:

Options :

1. ✖ play football in the cave
2. ✖ rest after playing
3. ✖ play hide and seek
4. ✔ have an outing after football practice

Question Number : 157 Question Id : 5861804825 Question Type : MCQ Option Shuffling : Yes
Correct Marks : 1 Wrong Marks : 0.25

Choose the option that is the correct answer to the question.

Which of these did NOT happen to the boys and the coach.

Options :

1. ✔ taking rash and irrational decisions
2. ✖ being level headed
3. ✖ keeping their panic under control
4. ✖ being able to take rational decisions

Question Number : 158 Question Id : 5861804826 Question Type : MCQ Option Shuffling : Yes
Correct Marks : 1 Wrong Marks : 0.25

Choose the option that is the correct answer to the question.

That the boys could keep themselves physically and mentally in good shape was because:

Options :

1. ✖ They had faith in their coach.

2. ✓ They kept themselves well hydrated and could think clearly.
3. ✗ They were sure that they would be rescued.
4. ✗ They were trained to face such life threatening situations.

Question Number : 159 Question Id : 5861804827 Question Type : MCQ Option Shuffling : Yes
Correct Marks : 1 Wrong Marks : 0.25

Choose the option that is the correct answer to the question.

What was responsible for the boys coming out of the traumatic experience without much damage?

Options :

1. ✗ The coach inspired them and gave them confidence.
2. ✗ The expertise of the divers who rescued them.
3. ✗ They were very lucky.
4. ✓ They maintained a positive attitude and bonded with each other.

Question Number : 160 Question Id : 5861804828 Question Type : MCQ Option Shuffling : Yes
Correct Marks : 1 Wrong Marks : 0.25

Choose the option that is the correct answer to the question.

‘psychogenic death’ means:

Options :

1. ✗ dying willingly
2. ✓ giving up hope
3. ✗ death due to drowning in cave
4. ✗ death in a group

Question Id : 5861804823 Question Type : COMPREHENSION Sub Question Shuffling Allowed : Yes Group Comprehension Questions : No
Question Numbers : (156 to 160)

Question Label : Comprehension



Read the passage and answer the following questions:

When 12 young footballers and their coach entered the Tham Luang Nang Non cave in Thailand, it was supposed to be a fun outing after football practice. But when a torrent of flood water rushed in after heavy rain, the group became trapped on a small rock shelf deep inside the cave’s vast network of tunnels.

It was nine days before two British divers, John Volanthen and Richard Stanton, located the group – mercifully alive and apparently in good physical and mental health. But how do people cope with such life-threatening events? And why is it important to focus on psychological, as well as physiological impact?

When the boys first became aware that they were facing a life-threatening situation they would have experienced a number of physiological reactions. Fight or flight responses, such as an increase in heart rate, would have kicked in immediately, designed to help us stay alive.

But despite their physiological benefits, these neurochemical changes can affect our brain, and impair our mental functioning. During the initial stages of an emergency situation our brains may perform poorly, potentially resulting in poor decision-making and memory failures. Fortunately, when the flood waters came crashing in, the Thai footballers and coach appear to have remained level headed. They were able to control feelings of panic, and made the rational decision to find a safe place and wait.

As the immediate danger from the flood waters receded, more long-term survival needs will have come into focus. Everyone knows that the human body has basic physical requirement: an adequate supply of food, water and warmth. What people often forget is that brain function is also sensitive to environmental factors. When exposed to the elements, dehydrated, hungry, or suffering from sleep deprivation, the human brain cannot function within its normal operating parameters.

In these conditions people can make poor decisions which can put them at risk. The Thai footballers seem to have managed to keep themselves hydrated, and although they were clearly hungry when they were found, they appeared cognitively intact, looking alert and asking appropriate questions. Again, this shows that the boys and their coach managed to stay both physically and psychologically healthy during the nine long days they spent waiting in the dark.

In a survival situation, your mental health is just as important as your physical health. Maintaining a positive attitude is crucial: people who remain optimistic are more likely to think that adverse events are controllable, and so are more likely to undertake positive behaviours to try and survive. Pessimistic thinking increases feelings of anxiety and helplessness, which can stop people from trying to proactively improve their situation.

In extreme cases, people can give up mentally, withdraw into themselves, and even die. This is known as psychogenic death, essentially giving up. From the early footage, the footballers seem to have managed to stay positive while awaiting rescue. They are seen laughing and joking with the divers – a very promising sign.

Another way to maintain mental strength is to draw on any social support available in the situation. The fact that the Thai footballers have been able to draw on each other through their ordeal will have been a big boost to their mental health.

Sub questions

Question Number : 156 Question Id : 5861804824 Question Type : MCQ Option Shuffling : Yes
Correct Marks : 1 Wrong Marks : 0.25

Choose the option that is the correct answer to the question.

The boys entered the cave to:

Options :

1. ✖ play football in the cave
2. ✖ rest after playing
3. ✖ play hide and seek
4. ✔ have an outing after football practice

Question Number : 157 Question Id : 5861804825 Question Type : MCQ Option Shuffling : Yes
Correct Marks : 1 Wrong Marks : 0.25

Choose the option that is the correct answer to the question.

Which of these did NOT happen to the boys and the coach.

Options :

1. ✔ taking rash and irrational decisions
2. ✖ being level headed
3. ✖ keeping their panic under control
4. ✖ being able to take rational decisions

Question Number : 158 Question Id : 5861804826 Question Type : MCQ Option Shuffling : Yes
Correct Marks : 1 Wrong Marks : 0.25

Choose the option that is the correct answer to the question.

That the boys could keep themselves physically and mentally in good shape was because:

Options :

1. ✖ They had faith in their coach.
2. ✔ They kept themselves well hydrated and could think clearly.
3. ✖ They were sure that they would be rescued.
4. ✖ They were trained to face such life threatening situations.

Question Number : 159 Question Id : 5861804827 Question Type : MCQ Option Shuffling : Yes
Correct Marks : 1 Wrong Marks : 0.25

Choose the option that is the correct answer to the question.

What was responsible for the boys coming out of the traumatic experience without much damage?

Options :

1. ✖ The coach inspired them and gave them confidence.
2. ✖ The expertise of the divers who rescued them.
3. ✖ They were very lucky.
4. ✔ They maintained a positive attitude and bonded with each other.

Question Number : 160 Question Id : 5861804828 Question Type : MCQ Option Shuffling : Yes
Correct Marks : 1 Wrong Marks : 0.25

Choose the option that is the correct answer to the question.

‘psychogenic death’ means:

Options :

- 1. ✖ dying willingly
- 2. ✔ giving up hope
- 3. ✖ death due to drowning in cave
- 4. ✖ death in a group

General Hindi1

Group Number :	9
Group Id :	586180230
Group Maximum Duration :	0
Group Minimum Duration :	0
Show Attended Group? :	No
Edit Attended Group? :	No
Break time:	0
Group Marks:	20
Is this Group for Examiner?:	No
Revisit allowed for group Instructions? :	Yes
Maximum Instruction Time:	0
Minimum Instruction Time:	0

General Hindi1

Section Id :	586180234
Section Number :	1
Section type :	Online
Mandatory or Optional:	Mandatory
Number of Questions:	20
Number of Questions to be attempted:	20
Section Marks:	20

Sub-Section Number:	1
Sub-Section Id:	586180323
Question Shuffling Allowed :	Yes

Correct Marks : 1 Wrong Marks : 0.25

‘पगड़ी’ कैसा शब्द है?

Options :

1. ✖ विदेशी
2. ✔ देशज
3. ✖ तत्सम
4. ✖ तद्भव

Question Number : 161 Question Id : 5861804829 Question Type : MCQ Option Shuffling : Yes

Correct Marks : 1 Wrong Marks : 0.25

‘पगड़ी’ कैसा शब्द है?

Options :

1. ✖ विदेशी
2. ✔ देशज
3. ✖ तत्सम
4. ✖ तद्भव

Question Number : 162 Question Id : 5861804830 Question Type : MCQ Option Shuffling : Yes

Correct Marks : 1 Wrong Marks : 0.25

निम्न में से कौन सा शब्द तद्भव है?

Options :

1. ✔ केला
2. ✖ कुठार
3. ✖ कोकिल
4. ✖ कार्य

Question Number : 162 Question Id : 5861804830 Question Type : MCQ Option Shuffling : Yes

Correct Marks : 1 Wrong Marks : 0.25

निम्न में से कौन सा शब्द तद्भव है?

Options :

1. ✔ केला
2. ✖ कुठार

3. ✖ कोकिल

4. ✖ कार्य

Question Number : 163 Question Id : 5861804831 Question Type : MCQ Option Shuffling : Yes

Correct Marks : 1 Wrong Marks : 0.25

निम्न में से कौन सा शब्द तत्सम है?

Options :

1. ✖ ताँबा

2. ✖ तेल

3. ✔ त्वरित

4. ✖ त्यौहार

Question Number : 163 Question Id : 5861804831 Question Type : MCQ Option Shuffling : Yes

Correct Marks : 1 Wrong Marks : 0.25

निम्न में से कौन सा शब्द तत्सम है?

Options :

1. ✖ ताँबा

2. ✖ तेल

3. ✔ त्वरित

4. ✖ त्यौहार

Question Number : 164 Question Id : 5861804832 Question Type : MCQ Option Shuffling : Yes

Correct Marks : 1 Wrong Marks : 0.25

निम्न में से शुद्ध वर्तनी वाला शब्द है:

Options :

1. ✖ प्रतिक्षित

2. ✖ प्रतीक्षीत

3. ✖ प्रतीक्षीत

4. ✔ प्रतीक्षित

Question Number : 164 Question Id : 5861804832 Question Type : MCQ Option Shuffling : Yes

Correct Marks : 1 Wrong Marks : 0.25

निम्न में से शुद्ध वर्तनी वाला शब्द है:

Options :

1. ✖ प्रतिक्षित
2. ✖ प्रतिक्षीत
3. ✖ प्रतीक्षीत
4. ✓ प्रतीक्षित

Question Number : 165 Question Id : 5861804833 Question Type : MCQ Option Shuffling : Yes
Correct Marks : 1 Wrong Marks : 0.25

‘आकर – आकार’ शब्द युग्म का सही अर्थ है:

Options :

1. ✖ रूप – खान
2. ✓ खान – रूप
3. ✖ गुफा – वृत्त
4. ✖ खान – सगुण

Question Number : 165 Question Id : 5861804833 Question Type : MCQ Option Shuffling : Yes
Correct Marks : 1 Wrong Marks : 0.25

‘आकर - आकार’ शब्द युग्म का सही अर्थ है:

Options :

1. ✖ रूप - खान
2. ✓ खान - रूप
3. ✖ गुफा - वृत्त
4. ✖ खान - सगुण

Question Number : 166 Question Id : 5861804834 Question Type : MCQ Option Shuffling : Yes
Correct Marks : 1 Wrong Marks : 0.25

‘बहाव’ किस प्रकार की संज्ञा है?

Options :

1. ✓ भाववाचक
2. ✖ पदार्थवाचक

3. ✖ जातिवाचक

4. ✖ व्यक्तिवाचक

Question Number : 166 Question Id : 5861804834 Question Type : MCQ Option Shuffling : Yes

Correct Marks : 1 Wrong Marks : 0.25

‘बहाव’ किस प्रकार की संज्ञा है?

Options :

1. ✔ भाववाचक

2. ✖ पदार्थवाचक

3. ✖ जातिवाचक

4. ✖ व्यक्तिवाचक

Question Number : 167 Question Id : 5861804835 Question Type : MCQ Option Shuffling : Yes

Correct Marks : 1 Wrong Marks : 0.25

‘कौन’ सर्वनाम का परिमाणवाचक विशेषण है?

Options :

1. ✖ इतना

2. ✖ उतना

3. ✖ जितना

4. ✔ कितना

Question Number : 167 Question Id : 5861804835 Question Type : MCQ Option Shuffling : Yes

Correct Marks : 1 Wrong Marks : 0.25

‘कौन’ सर्वनाम का परिमाणवाचक विशेषण है?

Options :

1. ✖ इतना

2. ✖ उतना

3. ✖ जितना

4. ✔ कितना

Question Number : 168 Question Id : 5861804836 Question Type : MCQ Option Shuffling : Yes

Correct Marks : 1 Wrong Marks : 0.25

‘सुनहरा’ किस प्रकार का विशेषण है?

Options :

1. ✖ संख्यावाचक
2. ✖ परिमाण बोधक
3. ✔ गुणवाचक
4. ✖ सार्वनामिक

Question Number : 168 Question Id : 5861804836 Question Type : MCQ Option Shuffling : Yes

Correct Marks : 1 Wrong Marks : 0.25

‘सुनहरा’ किस प्रकार का विशेषण है?

Options :

1. ✖ संख्यावाचक
2. ✖ परिमाण बोधक
3. ✔ गुणवाचक
4. ✖ सार्वनामिक

Question Number : 169 Question Id : 5861804837 Question Type : MCQ Option Shuffling : Yes

Correct Marks : 1 Wrong Marks : 0.25

निम्न में अकर्मक क्रिया है:

Options :

1. ✖ बाँधना
2. ✖ मारना
3. ✔ पिटना
4. ✖ पाटना

Question Number : 169 Question Id : 5861804837 Question Type : MCQ Option Shuffling : Yes

Correct Marks : 1 Wrong Marks : 0.25

निम्न में अकर्मक क्रिया है:

Options :

1. ✖ बाँधना
2. ✖ मारना

3. ✓ पिटना

4. ✗ पाटना

Question Number : 170 Question Id : 5861804838 Question Type : MCQ Option Shuffling : Yes

Correct Marks : 1 Wrong Marks : 0.25

‘यह काम क्योंकर होगा?’ वाक्य में क्रिया विशेषण है:

Options :

1. ✗ यह

2. ✗ काम

3. ✗ होगा

4. ✓ क्योंकर

Question Number : 170 Question Id : 5861804838 Question Type : MCQ Option Shuffling : Yes

Correct Marks : 1 Wrong Marks : 0.25

‘यह काम क्योंकर होगा?’ वाक्य में क्रिया विशेषण है:

Options :

1. ✗ यह

2. ✗ काम

3. ✗ होगा

4. ✓ क्योंकर

Question Number : 171 Question Id : 5861804839 Question Type : MCQ Option Shuffling : Yes

Correct Marks : 1 Wrong Marks : 0.25

‘न्यून’ का संधि विच्छेद होगा:

Options :

1. ✗ नि + उन

2. ✓ नि + ऊन

3. ✗ नी + उन

4. ✗ नी + ऊन

Question Number : 171 Question Id : 5861804839 Question Type : MCQ Option Shuffling : Yes

Correct Marks : 1 Wrong Marks : 0.25

‘न्यून’ का संधि विच्छेद होगा:

Options :

1. ✖ नि + उन
2. ✔ नि + ऊन
3. ✖ नी + उन
4. ✖ नी + ऊन

Question Number : 172 Question Id : 5861804840 Question Type : MCQ Option Shuffling : Yes

Correct Marks : 1 Wrong Marks : 0.25

‘कनफटा’ में कौन सा समास है?

Options :

1. ✔ बहुव्रीहि
2. ✖ द्वंद्व
3. ✖ द्विगु
4. ✖ तत्पुरुष

Question Number : 172 Question Id : 5861804840 Question Type : MCQ Option Shuffling : Yes

Correct Marks : 1 Wrong Marks : 0.25

‘कनफटा’ में कौन सा समास है?

Options :

1. ✔ बहुव्रीहि
2. ✖ द्वंद्व
3. ✖ द्विगु
4. ✖ तत्पुरुष

Question Number : 173 Question Id : 5861804841 Question Type : MCQ Option Shuffling : Yes

Correct Marks : 1 Wrong Marks : 0.25

‘संस्करण’ में किस उपसर्ग का प्रयोग हुआ है?

Options :

1. ✖ स
2. ✔ सम्

3. ✖ सन्
4. ✖ करण

Question Number : 173 Question Id : 5861804841 Question Type : MCQ Option Shuffling : Yes
Correct Marks : 1 Wrong Marks : 0.25

‘संस्करण’ में किस उपसर्ग का प्रयोग हुआ है?

Options :

1. ✖ स
2. ✔ सम्
3. ✖ सन्
4. ✖ करण

Question Number : 174 Question Id : 5861804842 Question Type : MCQ Option Shuffling : Yes
Correct Marks : 1 Wrong Marks : 0.25

‘कुलीन’ में किस प्रत्यय का प्रयोग हुआ है?

Options :

1. ✖ कु
2. ✖ न
3. ✔ ईन
4. ✖ लीन

Question Number : 174 Question Id : 5861804842 Question Type : MCQ Option Shuffling : Yes
Correct Marks : 1 Wrong Marks : 0.25

‘कुलीन’ में किस प्रत्यय का प्रयोग हुआ है?

Options :

1. ✖ कु
2. ✖ न
3. ✔ ईन
4. ✖ लीन

Question Number : 175 Question Id : 5861804843 Question Type : MCQ Option Shuffling : Yes
Correct Marks : 1 Wrong Marks : 0.25

निम्न में कौन सा शब्द स्त्रीलिंग है?

Options :

1. ✓ झील
2. ✗ झुण्ड
3. ✗ झुकाव
4. ✗ झंझावात

Question Number : 175 Question Id : 5861804843 Question Type : MCQ Option Shuffling : Yes

Correct Marks : 1 Wrong Marks : 0.25

निम्न में कौन सा शब्द स्त्रीलिंग है?

Options :

1. ✓ झील
2. ✗ झुण्ड
3. ✗ झुकाव
4. ✗ झंझावात

Question Number : 176 Question Id : 5861804844 Question Type : MCQ Option Shuffling : Yes

Correct Marks : 1 Wrong Marks : 0.25

‘पढ़ता रहता था’ किस पदबन्ध का उदाहरण है?

Options :

1. ✗ संज्ञा पदबन्ध
2. ✗ सर्वनाम पदबन्ध
3. ✗ विशेषण पदबन्ध
4. ✓ क्रिया पदबन्ध

Question Number : 176 Question Id : 5861804844 Question Type : MCQ Option Shuffling : Yes

Correct Marks : 1 Wrong Marks : 0.25

‘पढ़ता रहता था’ किस पदबन्ध का उदाहरण है?

Options :

1. ✗ संज्ञा पदबन्ध
2. ✗ सर्वनाम पदबन्ध

3. ✖ विशेषण पदबन्ध

4. ✔ क्रिया पदबन्ध

Question Number : 177 Question Id : 5861804845 Question Type : MCQ Option Shuffling : Yes

Correct Marks : 1 Wrong Marks : 0.25

‘वह लड़का, जो कल मिला था, आज भी मिला है।’ वाक्य में ‘जो कल मिला था’ किस प्रकार का उपवाक्य है?

Options :

1. ✖ संज्ञा उपवाक्य

2. ✖ क्रिया उपवाक्य

3. ✖ क्रिया विशेषण उपवाक्य

4. ✔ विशेषण उपवाक्य

Question Number : 177 Question Id : 5861804845 Question Type : MCQ Option Shuffling : Yes

Correct Marks : 1 Wrong Marks : 0.25

‘वह लड़का, जो कल मिला था, आज भी मिला है।’ वाक्य में ‘जो कल मिला था’ किस प्रकार का उपवाक्य है?

Options :

1. ✖ संज्ञा उपवाक्य

2. ✖ क्रिया उपवाक्य

3. ✖ क्रिया विशेषण उपवाक्य

4. ✔ विशेषण उपवाक्य

Question Number : 178 Question Id : 5861804846 Question Type : MCQ Option Shuffling : Yes

Correct Marks : 1 Wrong Marks : 0.25

‘हम पढ़ चुके।’ किस प्रकार का वाक्य है?

Options :

1. ✔ सरल वाक्य

2. ✖ मिश्र वाक्य

3. ✖ संयुक्त वाक्य

4. ✖ उपवाक्य

Question Number : 178 Question Id : 5861804846 Question Type : MCQ Option Shuffling : Yes
Correct Marks : 1 Wrong Marks : 0.25

‘हम पढ़ चुके।’ किस प्रकार का वाक्य है?

Options :

1. ✓ सरल वाक्य
2. ✖ मिश्र वाक्य
3. ✖ संयुक्त वाक्य
4. ✖ उपवाक्य

Question Number : 179 Question Id : 5861804847 Question Type : MCQ Option Shuffling : Yes
Correct Marks : 1 Wrong Marks : 0.25

पदक्रम की दृष्टि से कौन सा वाक्य शुद्ध है?

Options :

1. ✖ दिव्या बोलती है धीरे।
2. ✓ दिव्या धीरे बोलती है।
3. ✖ धीरे बोलती है दिव्या।
4. ✖ बोलती है दिव्या धीरे।

Question Number : 179 Question Id : 5861804847 Question Type : MCQ Option Shuffling : Yes
Correct Marks : 1 Wrong Marks : 0.25

पदक्रम की दृष्टि से कौन सा वाक्य शुद्ध है?

Options :

1. ✖ दिव्या बोलती है धीरे।
2. ✓ दिव्या धीरे बोलती है।
3. ✖ धीरे बोलती है दिव्या।
4. ✖ बोलती है दिव्या धीरे।

Question Number : 180 Question Id : 5861804848 Question Type : MCQ Option Shuffling : Yes
Correct Marks : 1 Wrong Marks : 0.25

अन्वय की दृष्टि से कौन सा वाक्य शुद्ध है?

Options :

- 1. ✖ उसको बात करने नहीं आते।
- 2. ✖ उसको बात करनी नहीं आती।
- 3. ✔ उसको बात करना नहीं आता।
- 4. ✖ उसको बात करना नहीं आती।

Question Number : 180 Question Id : 5861804848 Question Type : MCQ Option Shuffling : Yes
Correct Marks : 1 Wrong Marks : 0.25

अन्वय की दृष्टि से कौन सा वाक्य शुद्ध है?

Options :

- 1. ✖ उसको बात करने नहीं आते।
- 2. ✖ उसको बात करनी नहीं आती।
- 3. ✔ उसको बात करना नहीं आता।
- 4. ✖ उसको बात करना नहीं आती।

General Hindi2

Group Number :	10
Group Id :	586180231
Group Maximum Duration :	0
Group Minimum Duration :	120
Show Attended Group? :	No
Edit Attended Group? :	No
Break time:	0
Group Marks:	20
Is this Group for Examiner?:	No
Revisit allowed for group Instructions? :	Yes
Maximum Instruction Time:	0
Minimum Instruction Time:	0

General Hindi2

Section Id :	586180235
Section Number :	1
Section type :	Online
Mandatory or Optional:	Mandatory
Number of Questions:	12
Number of Questions to be attempted:	12
Section Marks:	20

Sub-Section Number: 1

Sub-Section Id: 586180324
Question Shuffling Allowed : Yes

Question Number : 181 Question Id : 5861804849 Question Type : MCQ Option Shuffling : Yes
Correct Marks : 1 Wrong Marks : 0.25

‘जल’ का पर्यायवाची है?

Options :

1. ✖ अमिय
2. ✖ हय
3. ✔ पय
4. ✖ अनल

Question Number : 181 Question Id : 5861804849 Question Type : MCQ Option Shuffling : Yes
Correct Marks : 1 Wrong Marks : 0.25

‘जल’ का पर्यायवाची है?

Options :

1. ✖ अमिय
2. ✖ हय
3. ✔ पय
4. ✖ अनल

Question Number : 182 Question Id : 5861804850 Question Type : MCQ Option Shuffling : Yes
Correct Marks : 1 Wrong Marks : 0.25

_____, ‘मछली’ का पर्यायवाची नहीं है।

Options :

1. ✖ झख
2. ✖ मत्स्य
3. ✖ मीन
4. ✔ मरीचि

Question Number : 182 Question Id : 5861804850 Question Type : MCQ Option Shuffling : Yes
Correct Marks : 1 Wrong Marks : 0.25

_____, ‘मछली’ का पर्यायवाची नहीं है।

Options :

1. ✖ झख
2. ✖ मत्स्य
3. ✖ मीन
4. ✔ मरीचि

Question Number : 183 Question Id : 5861804851 Question Type : MCQ Option Shuffling : Yes
Correct Marks : 1 Wrong Marks : 0.25

‘मुकुन्द’ किसका पर्यायवाची है?

Options :

1. ✔ विष्णु
2. ✖ शिव
3. ✖ ब्रह्मा
4. ✖ गणेश

Question Number : 183 Question Id : 5861804851 Question Type : MCQ Option Shuffling : Yes
Correct Marks : 1 Wrong Marks : 0.25

‘मुकुन्द’ किसका पर्यायवाची है?

Options :

1. ✔ विष्णु
2. ✖ शिव
3. ✖ ब्रह्मा
4. ✖ गणेश

Question Number : 184 Question Id : 5861804852 Question Type : MCQ Option Shuffling : Yes
Correct Marks : 1 Wrong Marks : 0.25

‘जातरूप’ किसका पर्यायवाची है?

Options :

1. ✖ किरण
2. ✔ स्वर्ण
3. ✖ अमृत

4. ✖ कपड़ा

Question Number : 184 Question Id : 5861804852 Question Type : MCQ Option Shuffling : Yes
Correct Marks : 1 Wrong Marks : 0.25

‘जातरूप’ किसका पर्यायवाची है?

Options :

1. ✖ किरण

2. ✔ स्वर्ण

3. ✖ अमृत

4. ✖ कपड़ा

Question Number : 185 Question Id : 5861804853 Question Type : MCQ Option Shuffling : Yes
Correct Marks : 1 Wrong Marks : 0.25

‘खग’ किसका पर्यायवाची नहीं है?

Options :

1. ✔ आकाश

2. ✖ बाण

3. ✖ पक्षी

4. ✖ तारा

Question Number : 185 Question Id : 5861804853 Question Type : MCQ Option Shuffling : Yes
Correct Marks : 1 Wrong Marks : 0.25

‘खग’ किसका पर्यायवाची नहीं है?

Options :

1. ✔ आकाश

2. ✖ बाण

3. ✖ पक्षी

4. ✖ तारा

Question Number : 186 Question Id : 5861804854 Question Type : MCQ Option Shuffling : Yes
Correct Marks : 1 Wrong Marks : 0.25

‘अपमान’ का विलोम शब्द है:

Options :

1. ✖ गुमान
2. ✖ प्रमाण
3. ✔ सम्मान
4. ✖ अभिमान

Question Number : 186 Question Id : 5861804854 Question Type : MCQ Option Shuffling : Yes
Correct Marks : 1 Wrong Marks : 0.25

‘अपमान’ का विलोम शब्द है:

Options :

1. ✖ गुमान
2. ✖ प्रमाण
3. ✔ सम्मान
4. ✖ अभिमान

Question Number : 187 Question Id : 5861804855 Question Type : MCQ Option Shuffling : Yes
Correct Marks : 1 Wrong Marks : 0.25

‘अनुग्रह’ का विलोम होगा:

Options :

1. ✖ संग्रह
2. ✔ विग्रह
3. ✖ आग्रह
4. ✖ दुराग्रह

Question Number : 187 Question Id : 5861804855 Question Type : MCQ Option Shuffling : Yes
Correct Marks : 1 Wrong Marks : 0.25

‘अनुग्रह’ का विलोम होगा:

Options :

1. ✖ संग्रह
2. ✔ विग्रह
3. ✖ आग्रह

4. ✖ दुराग्रह

Question Number : 188 Question Id : 5861804856 Question Type : MCQ Option Shuffling : Yes
Correct Marks : 1 Wrong Marks : 0.25

‘ईप्सित’ किसका विलोम है?

Options :

1. ✖ अभिलषित
2. ✖ वांछित
3. ✖ कुंठित
4. ✔ अनीप्सित

Question Number : 188 Question Id : 5861804856 Question Type : MCQ Option Shuffling : Yes
Correct Marks : 1 Wrong Marks : 0.25

‘ईप्सित’ किसका विलोम है?

Options :

1. ✖ अभिलषित
2. ✖ वांछित
3. ✖ कुंठित
4. ✔ अनीप्सित

Question Number : 189 Question Id : 5861804857 Question Type : MCQ Option Shuffling : Yes
Correct Marks : 1 Wrong Marks : 0.25

‘गाँधी जी मुखर वक्ता थे।’ पंक्ति के रेखांकित शब्द का विलोम होगा:

Options :

1. ✖ वाचाल
2. ✖ प्रखर
3. ✖ वधिर
4. ✔ मूक

Question Number : 189 Question Id : 5861804857 Question Type : MCQ Option Shuffling : Yes
Correct Marks : 1 Wrong Marks : 0.25

‘गाँधी जी मुखर वक्ता थे।’ पंक्ति के रेखांकित शब्द का विलोम होगा:

Options :

1. ✖ वाचाल
2. ✖ प्रखर
3. ✖ वधिर
4. ✔ मूक

Question Number : 190 Question Id : 5861804858 Question Type : MCQ Option Shuffling : Yes
Correct Marks : 1 Wrong Marks : 0.25

‘रिक्त’ का विलोम है:

Options :

1. ✖ सिक्त
2. ✖ अतिरिक्त
3. ✔ पूर्ण
4. ✖ विरक्त

Question Number : 190 Question Id : 5861804858 Question Type : MCQ Option Shuffling : Yes
Correct Marks : 1 Wrong Marks : 0.25

‘रिक्त’ का विलोम है:

Options :

1. ✖ सिक्त
2. ✖ अतिरिक्त
3. ✔ पूर्ण
4. ✖ विरक्त

Sub-Section Number: 2
Sub-Section Id: 586180325
Question Shuffling Allowed : Yes

Question Id : 5861804859 Question Type : COMPREHENSION Sub Question Shuffling Allowed : Yes Group Comprehension Questions : No

Question Numbers : (191 to 195)

Question Label : Comprehension

नीचे दिये गए गद्यांश को पढ़कर पूछे गए प्रश्नों के उत्तर दीजिए।
मध्यकालीन कवि ऐसे समाज की कल्पना करता है जहाँ छोटे, बड़े का भेद ना हो, जहाँ सब भाइचारे के साथ निवास करें तथा साथ ही साथ सबका पेट भरे। आज वर्तमान युग में फूड सेफ्टी बिल भी इसका एक उदाहरण है। सभी के लिए भोजन का वितरण समान हो। ये कवि रामराज्य की अवधारणा लेकर हमारे सामने आते हैं। इनका प्रमुख सरोकार लोकमंगल की भावना है। भक्त कवि सबका हित चाहते हैं। प्रगतिशीलता, मानवता, अहिंसा, क्षमा, त्याग आदि मानवीय मूल्यों की अवधारणा को ये कवि अपनी कविता का अंग बनाते हैं और सभी प्राणियों को मानवता के धरातल पर देखने के लिए कहते हैं। कबीर, सूर, तुलसी, मीरा, जायसी, रसखान आदि सभी कवि प्रेम तत्व को सभी गुणों की खान बताते हैं। मध्यकालीन कवियों में सच बोलने का साहस गज़ब का था। वे अपनी काव्य-रचना में इस बात को स्वीकार करते हैं। इन कवियों में वर्तमान की समझ और भविष्य की चिंता विद्यमान थी।

Sub questions

Question Number : 191 Question Id : 5861804860 Question Type : MCQ Option Shuffling : Yes
Correct Marks : 1 Wrong Marks : 0.25

गद्यांश में किन कवियों का उल्लेख है?

Options :

1. ✖ आदिकालीन कवि
2. ✔ मध्यकालीन कवि
3. ✖ रीतिकालीन कवि
4. ✖ आधुनिक कवि

Question Number : 192 Question Id : 5861804861 Question Type : MCQ Option Shuffling : Yes
Correct Marks : 1 Wrong Marks : 0.25

‘अवधारणा’ का आशय है:

Options :

1. ✔ सुविचारित धारणा
2. ✖ पूर्वधारणा
3. ✖ कल्पना
4. ✖ संवेदना

Question Number : 193 Question Id : 5861804862 Question Type : MCQ Option Shuffling : Yes
Correct Marks : 1 Wrong Marks : 0.25

‘सरोकार’ का अर्थ होता है:

Options :

1. ✖ आदर्श
2. ✖ यथार्थ
3. ✖ स्वप्न
4. ✔ संबंध

Question Number : 194 Question Id : 5861804863 Question Type : MCQ Option Shuffling : Yes

Correct Marks : 1 Wrong Marks : 0.25

‘वितरण’ का अर्थ है:

Options :

1. ✖ दान
2. ✔ बँटवारा
3. ✖ निर्माण
4. ✖ पैदावार

Question Number : 195 Question Id : 5861804864 Question Type : MCQ Option Shuffling : Yes

Correct Marks : 1 Wrong Marks : 0.25

भक्त कवि किस तत्व को सभी गुणों का भंडार मानते हैं:

Options :

1. ✖ सत्य
2. ✖ अहिंसा
3. ✔ प्रेम
4. ✖ त्याग

Question Id : 5861804859 Question Type : COMPREHENSION Sub Question Shuffling Allowed : Yes Group Comprehension Questions : No

Question Numbers : (191 to 195)

Question Label : Comprehension

नीचे दिये गए गद्यांश को पढ़कर पूछे गए प्रश्नों के उत्तर दीजिए।
मध्यकालीन कवि ऐसे समाज की कल्पना करता है जहाँ छोटे, बड़े का भेद ना हो, जहाँ सब भाइचारे के साथ निवास करें तथा साथ ही साथ सबका पेट भरे। आज वर्तमान युग में फूड सेफ्टी बिल भी इसका एक उदाहरण है। सभी के लिए भोजन का वितरण समान हो। ये कवि रामराज्य की अवधारणा लेकर हमारे सामने आते हैं। इनका प्रमुख सरोकार लोकमंगल की भावना है। भक्त कवि सबका हित चाहते हैं। प्रगतिशीलता, मानवता, अहिंसा, क्षमा, त्याग आदि मानवीय मूल्यों की अवधारणा को ये कवि अपनी कविता का अंग बनाते हैं और सभी प्राणियों को मानवता के धरातल पर देखने के लिए कहते हैं। कबीर, सूर, तुलसी, मीरा, जायसी, रसखान आदि सभी कवि प्रेम तत्व को सभी गुणों की खान बताते हैं। मध्यकालीन कवियों में सच बोलने का साहस गज़ब का था। वे अपनी काव्य-रचना में इस बात को स्वीकार करते हैं। इन कवियों में वर्तमान की समझ और भविष्य की चिंता विद्यमान थी।

Sub questions

Question Number : 191 Question Id : 5861804860 Question Type : MCQ Option Shuffling : Yes
Correct Marks : 1 Wrong Marks : 0.25

गद्यांश में किन कवियों का उल्लेख है?

Options :

1. ✖ आदिकालीन कवि
2. ✔ मध्यकालीन कवि
3. ✖ रीतिकालीन कवि
4. ✖ आधुनिक कवि

Question Number : 192 Question Id : 5861804861 Question Type : MCQ Option Shuffling : Yes
Correct Marks : 1 Wrong Marks : 0.25

‘अवधारणा’ का आशय है:

Options :

1. ✓ सुविचारित धारणा
2. ✗ पूर्वधारणा
3. ✗ कल्पना
4. ✗ संवेदना

Question Number : 193 Question Id : 5861804862 Question Type : MCQ Option Shuffling : Yes
Correct Marks : 1 Wrong Marks : 0.25

‘सरोकार’ का अर्थ होता है:

Options :

1. ✗ आदर्श
2. ✗ यथार्थ
3. ✗ स्वप्न
4. ✓ संबंध

Question Number : 194 Question Id : 5861804863 Question Type : MCQ Option Shuffling : Yes
Correct Marks : 1 Wrong Marks : 0.25

‘वितरण’ का अर्थ है:

Options :

1. ✗ दान
2. ✓ बँटवारा
3. ✗ निर्माण
4. ✗ पैदावार

Question Number : 195 Question Id : 5861804864 Question Type : MCQ Option Shuffling : Yes
Correct Marks : 1 Wrong Marks : 0.25

भक्त कवि किस तत्व को सभी गुणों का भंडार मानते हैं:

Options :

1. ✗ सत्य
2. ✗ अहिंसा

3. ✓ प्रेम

4. ✖ त्याग

Sub-Section Number: 3
 Sub-Section Id: 586180326
 Question Shuffling Allowed : Yes

Question Id : 5861804865 Question Type : COMPREHENSION Sub Question Shuffling Allowed : Yes Group Comprehension Questions : No

Question Numbers : (196 to 200)

Question Label : Comprehension

नीचे दिये गए गद्यांश को पढ़कर पूछे गए प्रश्नों के उत्तर दीजिए।
 पुस्तक समीक्षाओं के अतिरिक्त बालकृष्ण भट्ट ने अपनी पत्रिका 'हिन्दी प्रदीप' में 'साहित्य जनसमूह के हृदय का विकास है' शीर्षक से निबंध लिखा और साहित्य को जनसमूह से जोड़कर रीतिवादी कविता के विरुद्ध आलोचना की। जनसमूह के हृदय से जुड़कर ही रीतिवाद विरोधी अभियान की शुरुआत होती है जिसके महत्वपूर्ण सूत्रधार आचार्य महावीर प्रसाद द्विवेदी और रामचंद्र शुक्ल हैं। इसके अतिरिक्त 'सच्ची कविता' शीर्षक निबंध में भट्ट जी ने कविता के नये आयामों की व्याख्या की और रीतिकालीन प्रवृत्ति से उसे मुक्त करने का प्रयास किया। बालकृष्ण भट्ट की यह आलोचना दृष्टि हिन्दी में एक नवीन आलोचकीय दृष्टि का सूत्रपात करती है। भारतेन्दु युग के आलोचकों में बालकृष्ण भट्ट की भूमिका अधिक महत्वपूर्ण थी। भारतेन्दु युग में आलोचना का विकास मुख्य रूप से पत्र-पत्रिकाओं में प्रकाशित होने वाले निबंधों और पुस्तकों की समीक्षाओं से होता है जो हिन्दी आलोचना की पृष्ठभूमि का मार्ग प्रशस्त करती है।

Sub questions

Question Number : 196 Question Id : 5861804866 Question Type : MCQ Option Shuffling : Yes
 Correct Marks : 1 Wrong Marks : 0.25

गद्यांश के केंद्र में किस लेखक का आलोचना कर्म है?

Options :

1. ✓ बालकृष्ण भट्ट

2. ✖ महावीर प्रसाद द्विवेदी

3. ✖ रामचन्द्र शुक्ल

4. ✖ भारतेन्दु

Question Number : 197 Question Id : 5861804867 Question Type : MCQ Option Shuffling : Yes
Correct Marks : 1 Wrong Marks : 0.25

बालकृष्ण भट्ट ने साहित्य को किससे मुक्त करने का प्रयास किया?

Options :

1. ✖ जनसमूह
2. ✖ हृदय
3. ✔ रीतिकालीन प्रवृत्ति
4. ✖ समाज

Question Number : 198 Question Id : 5861804868 Question Type : MCQ Option Shuffling : Yes
Correct Marks : 1 Wrong Marks : 0.25

‘सूत्रपात’ का अर्थ है:

Options :

1. ✔ आरंभ
2. ✖ अंत
3. ✖ उत्थान
4. ✖ पतन

Question Number : 199 Question Id : 5861804869 Question Type : MCQ Option Shuffling : Yes
Correct Marks : 1 Wrong Marks : 0.25

‘आयाम’ का अर्थ है:

Options :

1. ✖ सीमा
2. ✔ अधिकतम सीमा
3. ✖ न्यूनतम सीमा
4. ✖ प्रयोग

Question Number : 200 Question Id : 5861804870 Question Type : MCQ Option Shuffling : Yes
Correct Marks : 1 Wrong Marks : 0.25

रीतिवाद विरोधी साहित्य अभियान किससे जुड़ा है?

Options :

1. ✖ कुलीन समूह के ऐश्वर्य से
2. ✖ दरबारी भोग विलास से
3. ✖ जनसमूह की बुद्धि से

4. ✓ जनसमूह के हृदय से

Question Id : 5861804865 Question Type : COMPREHENSION Sub Question Shuffling Allowed : Yes Group Comprehension Questions : No

Question Numbers : (196 to 200)

Question Label : Comprehension

नीचे दिये गए गद्यांश को पढ़कर पूछे गए प्रश्नों के उत्तर दीजिए।
पुस्तक समीक्षाओं के अतिरिक्त बालकृष्ण भट्ट ने अपनी पत्रिका 'हिन्दी प्रदीप' में 'साहित्य जनसमूह के हृदय का विकास है' शीर्षक से निबंध लिखा और साहित्य को जनसमूह से जोड़कर रीतिवादी कविता के विरुद्ध आलोचना की। जनसमूह के हृदय से जुड़कर ही रीतिवाद विरोधी अभियान की शुरुआत होती है जिसके महत्वपूर्ण सूत्रधार आचार्य महावीर प्रसाद दिववेदी और रामचंद्र शुक्ल हैं। इसके अतिरिक्त 'सच्ची कविता' शीर्षक निबंध में भट्ट जी ने कविता के नये आयामों की व्याख्या की और रीतिकालीन प्रवृत्ति से उसे मुक्त करने का प्रयास किया। बालकृष्ण भट्ट की यह आलोचना दृष्टि हिन्दी में एक नवीन आलोचकीय दृष्टि का सूत्रपात करती है। भारतेंदु युग के आलोचकों में बालकृष्ण भट्ट की भूमिका अधिक महत्वपूर्ण थी। भारतेंदु युग में आलोचना का विकास मुख्य रूप से पत्र-पत्रिकाओं में प्रकाशित होने वाले निबंधों और पुस्तकों की समीक्षाओं से होता है जो हिन्दी आलोचना की पृष्ठभूमि का मार्ग प्रशस्त करती है।

Sub questions

Question Number : 196 Question Id : 5861804866 Question Type : MCQ Option Shuffling : Yes
Correct Marks : 1 Wrong Marks : 0.25

गद्यांश के केंद्र में किस लेखक का आलोचना कर्म है?

Options :

1. ✓ बालकृष्ण भट्ट
2. ✗ महावीर प्रसाद दिववेदी

3. ✖ रामचन्द्र शुक्ल

4. ✖ भारतेन्दु

Question Number : 197 Question Id : 5861804867 Question Type : MCQ Option Shuffling : Yes

Correct Marks : 1 Wrong Marks : 0.25

बालकृष्ण भट्ट ने साहित्य को किससे मुक्त करने का प्रयास किया?

Options :

1. ✖ जनसमूह

2. ✖ हृदय

3. ✔ रीतिकालीन प्रवृत्ति

4. ✖ समाज

Question Number : 198 Question Id : 5861804868 Question Type : MCQ Option Shuffling : Yes

Correct Marks : 1 Wrong Marks : 0.25

‘सूत्रपात’ का अर्थ है:

Options :

1. ✔ आरंभ

2. ✖ अंत

3. ✖ उत्थान

4. ✖ पतन

Question Number : 199 Question Id : 5861804869 Question Type : MCQ Option Shuffling : Yes

Correct Marks : 1 Wrong Marks : 0.25

‘आयाम’ का अर्थ है:

Options :

1. ✖ सीमा

2. ✔ अधिकतम सीमा

3. ✖ न्यूनतम सीमा

4. ✖ प्रयोग

Question Number : 200 Question Id : 5861804870 Question Type : MCQ Option Shuffling : Yes
Correct Marks : 1 Wrong Marks : 0.25

रीतिवाद विरोधी साहित्य अभियान किससे जुड़ा है?

Options :

1. ✖ कुलीन समूह के ऐश्वर्य से
2. ✖ दरबारी भोग विलास से
3. ✖ जनसमूह की बुद्धि से
4. ✔ जनसमूह के हृदय से

