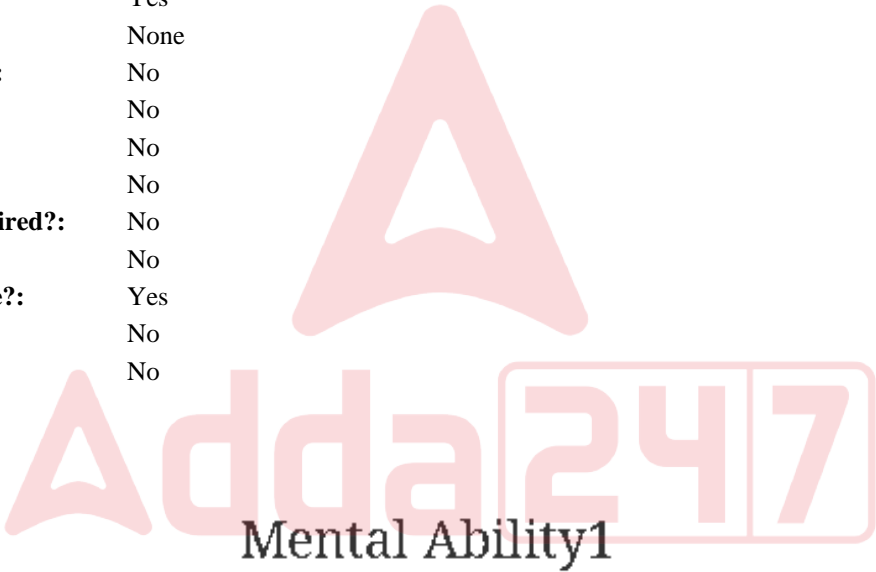


Education Consultant India Ltd.

Notations :

- 1.Options shown in green color and with ✓ icon are correct.
- 2.Options shown in red color and with ✖ icon are incorrect.

Question Paper Name:	GRADE II DASS 18th July 2019 Shift 3
Subject Name:	GRADE II DASS
Creation Date:	2019-07-18 19:35:48
Duration:	120
Total Marks:	200
Display Marks:	Yes
Share Answer Key With Delivery Engine:	No
Actual Answer Key:	Yes
Calculator:	None
Magnifying Glass Required?:	No
Ruler Required?:	No
Eraser Required?:	No
Scratch Pad Required?:	No
Rough Sketch/Notepad Required?:	No
Protractor Required?:	No
Show Watermark on Console?:	Yes
Highlighter:	No
Auto Save on Console?:	No



Group Number :	1
Group Id :	586180112
Group Maximum Duration :	0
Group Minimum Duration :	0
Show Attended Group? :	No
Edit Attended Group? :	No
Break time:	0
Group Marks:	20
Is this Group for Examiner?:	No
Revisit allowed for group Instructions? :	Yes
Maximum Instruction Time:	0
Minimum Instruction Time:	0

Mental Ability1

Section Id :	586180116
Section Number :	1

Adda247

# Test Prime

**ALL EXAMS, ONE SUBSCRIPTION**



**1,00,000+**  
Mock Tests



**Personalised  
Report Card**



**Unlimited  
Re-Attempt**



**600+**  
Exam Covered



**25,000+** Previous  
Year Papers



**500%**  
Refund



**ATTEMPT FREE MOCK NOW**

Section type :	Online
Mandatory or Optional:	Mandatory
Number of Questions:	20
Number of Questions to be attempted:	20
Section Marks:	20

Sub-Section Number:	1
Sub-Section Id:	586180159
Question Shuffling Allowed :	Yes

Question Number : 1 Question Id : 5861802423 Question Type : MCQ Option Shuffling : Yes  
Correct Marks : 1 Wrong Marks : 0.25

Select the letter cluster which is related to third letter cluster in the same way as the second letter cluster is related to first letter cluster.

LATIN : IWQEK :: MODIFY : ?

Options :

- 1. ✖ JLBE CV
- 2. ✖ JKA EVC
- 3. ✔ JKA ECV
- 4. ✖ JKA EBU



Question Number : 1 Question Id : 5861802423 Question Type : MCQ Option Shuffling : Yes  
Correct Marks : 1 Wrong Marks : 0.25

वह वर्ण समूह चुनें जो तीसरे वर्ण समूह से उसी तरह से संबंधित है, जिस तरह से दूसरा वर्ण समूह पहले वर्ण समूह से संबंधित है।

LATIN : IWQEK :: MODIFY : ?

Options :

- 1. ✖ JLBE CV
- 2. ✖ JKA EVC

3. ✓ JKAECV

4. ✗ JKAEBU

Question Number : 2 Question Id : 5861802424 Question Type : MCQ Option Shuffling : Yes

Correct Marks : 1 Wrong Marks : 0.25

Select the number which is related to third number in the same way as the second number is related to first number.

4211 : 44 :: 1721 : ?

Options :

1. ✗ 106

2. ✗ 108

3. ✓ 110

4. ✗ 116

Question Number : 2 Question Id : 5861802424 Question Type : MCQ Option Shuffling : Yes

Correct Marks : 1 Wrong Marks : 0.25

वह संख्या चुनें जो तीसरी संख्या से उसी तरह से संबंधित है, जिस तरह से दूसरी संख्या पहली संख्या से संबंधित है।

4211 : 44 :: 1721 : ?

Options :

1. ✗ 106

2. ✗ 108

3. ✓ 110



4. ✖ 116

Question Number : 3 Question Id : 5861802425 Question Type : MCQ Option Shuffling : Yes

Correct Marks : 1 Wrong Marks : 0.25

Three of the given four number pairs are similar in a certain manner while one is different. Choose the odd one out.

Options :

1. ✖ 112 : 41

2. ✖ 846 : 63

3. ✖ 252 : 33

4. ✔ 446 : 73

Question Number : 3 Question Id : 5861802425 Question Type : MCQ Option Shuffling : Yes

Correct Marks : 1 Wrong Marks : 0.25

चार प्रदत्त संख्या युग्मों में से तीन एक तरीके से समान हैं, जबकि उनमें से एक अलग है। इनमें से विषम चुनें।

Options :

1. ✖ 112 : 41

2. ✖ 846 : 63

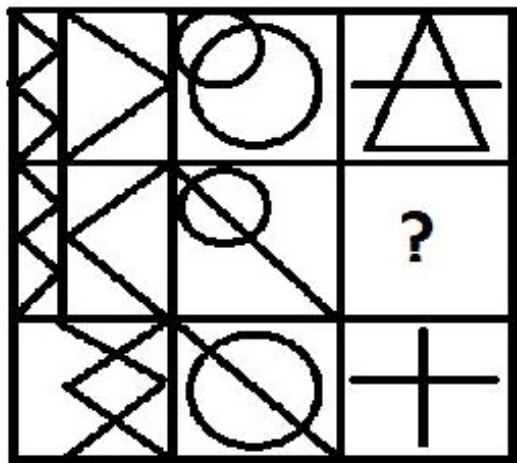
3. ✖ 252 : 33

4. ✔ 446 : 73

Question Number : 4 Question Id : 5861802426 Question Type : MCQ Option Shuffling : Yes

Correct Marks : 1 Wrong Marks : 0.25

Select a figure from the options figures that would complete the figure matrix.

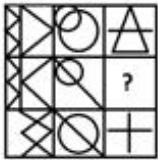


Options :



Question Number : 4 Question Id : 5861802426 Question Type : MCQ Option Shuffling : Yes  
Correct Marks : 1 Wrong Marks : 0.25

इन वैकल्पिक आकृतियों में से वह आकृति चुनें जो इस आकृति आव्यूह को पूरा करती है?



Options :



Question Number : 5 Question Id : 5861802427 Question Type : MCQ Option Shuffling : Yes

Correct Marks : 1 Wrong Marks : 0.25

Find the odd one out among the following:

Yen, Dollar, Nasdaq, Euro

Options :

1. ✖ Yen

2. ✖ Dollar

3. ✔ Nasdaq

4. ✖ Euro

Question Number : 5 Question Id : 5861802427 Question Type : MCQ Option Shuffling : Yes

Correct Marks : 1 Wrong Marks : 0.25

इनमें से विषम चुनें।

येन, डॉलर, नैस्डेक, यूरो

Options :

1. ✖ येन

2. ✖ डॉलर

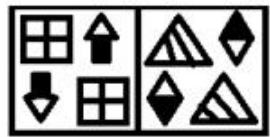
3. ✔ नैस्डेक

4. ✖ यूरो

Question Number : 6 Question Id : 5861802428 Question Type : MCQ Option Shuffling : Yes

Correct Marks : 1 Wrong Marks : 0.25

Select the figure amongst the option figures which has the same characteristics as the two Problem figures have.



Problem Figures

Options :

1. ✖

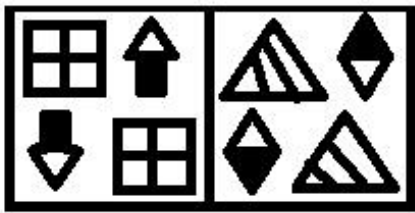
2. ✖

3. ✖

4. ✓ 

Question Number : 6 Question Id : 5861802428 Question Type : MCQ Option Shuffling : Yes  
Correct Marks : 1 Wrong Marks : 0.25

इन वैकल्पिक आकृतियों में से वह आकृति चुनें जिसके अभिलक्षण दो समस्या आकृतियों के समान हैं।



Problem Figures

Options :

1. ✗ 

2. ✗ 

3. ✗ 

4. ✓ 

Question Number : 7 Question Id : 5861802429 Question Type : MCQ Option Shuffling : Yes  
Correct Marks : 1 Wrong Marks : 0.25

Three of the given four word pairs are similar in a certain manner while one is different. Choose the odd one out.

Options :

1. ✖ Calm : Serene
2. ✖ Cold : Freezing
3. ✖ Deep : Profound
4. ✔ Slow : Petite

Question Number : 7 Question Id : 5861802429 Question Type : MCQ Option Shuffling : Yes

Correct Marks : 1 Wrong Marks : 0.25

चार प्रदत्त शब्द युग्मों में से तीन एक तरीके से समान हैं, जबकि उनमें से एक अलग है। इनमें से विषम चुनें।

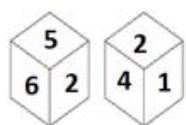
Options :

1. ✖ शांत : धीर
2. ✖ ठंडा : हिमकारी
3. ✖ गहरा : खोह
4. ✔ धीमे : छोटा सा

Question Number : 8 Question Id : 5861802430 Question Type : MCQ Option Shuffling : Yes

Correct Marks : 1 Wrong Marks : 0.25

Two different positions of the same dice are shown below. Which symbol is on the face opposite the face showing '6'?



Options :



1. ✓ 1

2. ✗ 2

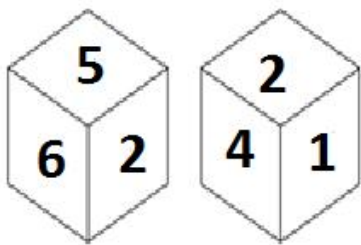
3. ✗ 4

4. ✗ 5

Question Number : 8 Question Id : 5861802430 Question Type : MCQ Option Shuffling : Yes

Correct Marks : 1 Wrong Marks : 0.25

नीचे एक ही डाइस (पासे) की दो अलग-अलग स्थितियाँ दी गई हैं। '6' दिखा रहे फलक के उलटे वाले फलक पर कौन सा प्रतीक है?



Options :

1. ✓ 1

2. ✗ 2

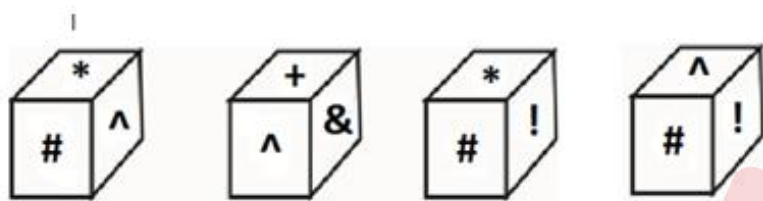
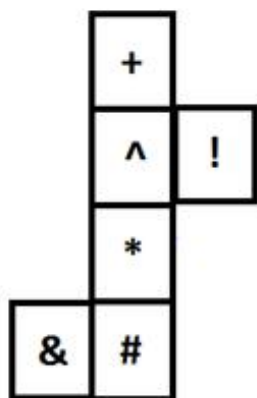
3. ✗ 4

4. ✗ 5

Question Number : 9 Question Id : 5861802431 Question Type : MCQ Option Shuffling : Yes

Correct Marks : 1 Wrong Marks : 0.25

Which of the following patterns of the dices can be formed when the sheet given below is folded?



Options :

1. ✖ Only 1 and 3

2. ✔ Only 2 and 3

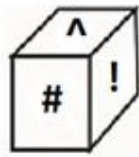
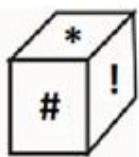
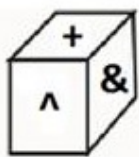
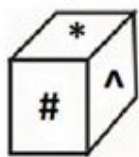
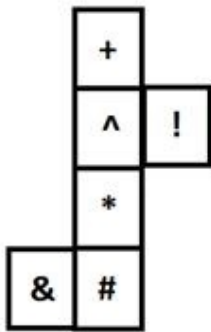
3. ✖ Only 2, and 4

4. ✖ All 1, 2, 3 and 4

Question Number : 9 Question Id : 5861802431 Question Type : MCQ Option Shuffling : Yes

Correct Marks : 1 Wrong Marks : 0.25

जब प्रदत्त शीट को फ़ोल्ड किया जाता है, तब डाइस (पासे) के पैटर्नों में से कौन सा पैटर्न बन सकता है?



Options :

1. ✗ केवल 1 और 3

2. ✓ केवल 2 और 3

3. ✗ केवल 2, और 4

4. ✗ सभी 1, 2, 3 और 4

Question Number : 10 Question Id : 5861802432 Question Type : MCQ Option Shuffling : Yes

Correct Marks : 1 Wrong Marks : 0.25

Shivani walks 65 m north to her shop. From there, she turns right and walks 45 m. Then she turns left and walks 23 m. Then she turns right and walks 17 m. She turns left now and walks 17 m. She finally turns left and walks 32 m. What is the shortest distance between her current position and an ATM which is located straight 65 m north to her house?

Options :

1. ✗ 36 m

2. ✗ 40 m

3. ✓ 50 m

4. ✗ 75 m

Question Number : 10 Question Id : 5861802432 Question Type : MCQ Option Shuffling : Yes

Correct Marks : 1 Wrong Marks : 0.25

शिवानी अपनी दुकान के लिए उत्तर की ओर 65 m चलती है। वहाँ से वह दाईं ओर मुड़कर 45 m चलती है। फिर वह बाईं ओर मुड़कर 23 m चलती है। फिर वह दाईं ओर मुड़कर 17 m चलती है। अंत में वह बाईं ओर मुड़कर 32 m चलती है। उसकी वर्तमान स्थिति और उसके घर से 65 m उत्तर की ओर सीधे स्थित एटीएम के बीच अल्पतम दूरी पता करें।

Options :

1. ✗ 36 m

2. ✗ 40 m

3. ✓ 50 m

4. ✗ 75 m

Question Number : 11 Question Id : 5861802433 Question Type : MCQ Option Shuffling : Yes

Correct Marks : 1 Wrong Marks : 0.25

Which number will replace the question mark in the given matrix?

3	92	5	58
4	108	6	56
5	150	3	?

Options :

1. ✓ 116

2. ✗ 110

3. ✖ 82

4. ✖ 86

Question Number : 11 Question Id : 5861802433 Question Type : MCQ Option Shuffling : Yes  
Correct Marks : 1 Wrong Marks : 0.25

प्रदत्त आव्यूह में प्रश्न चिह्न के स्थान पर कौन सी संख्या आएगी?

3	92	5	58
4	108	6	56
5	150	3	?

Options :

1. ✔ 116

2. ✖ 110

3. ✖ 82

4. ✖ 86

Question Number : 12 Question Id : 5861802434 Question Type : MCQ Option Shuffling : Yes  
Correct Marks : 1 Wrong Marks : 0.25

If MUMBAI is coded as MIMIMI, then \_\_\_\_\_ is coded as INININI?

Options :

1. ✖ CONTAINS

2. ✖ STAINED

3. ✖ SKIING

4. ✔ SHILONG

Question Number : 12 Question Id : 5861802434 Question Type : MCQ Option Shuffling : Yes

Correct Marks : 1 Wrong Marks : 0.25

यदि MUMBAI को MIMIMI के रूप में कोड किया गया है, तो \_\_\_\_\_ को INININI के रूप में कोड किया गया है।

Options :

1. ✖ CONTAINS

2. ✖ STAINED

3. ✖ SKIING

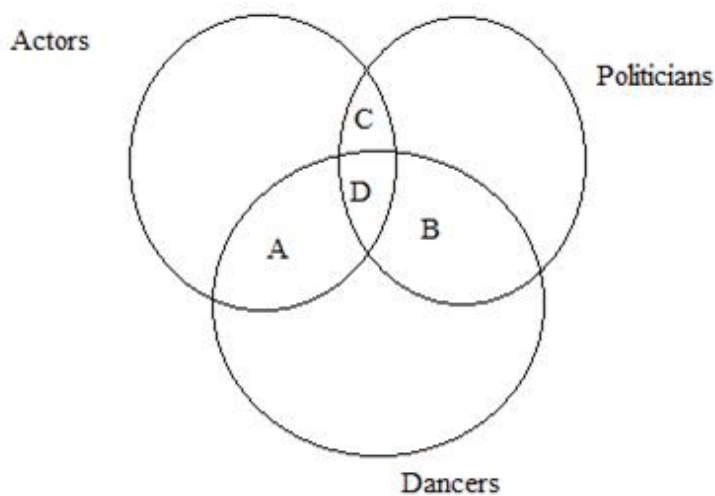
4. ✔ SHILONG

Question Number : 13 Question Id : 5861802435 Question Type : MCQ Option Shuffling : Yes

Correct Marks : 1 Wrong Marks : 0.25



In the given set, define the group that represents people who are politicians and actors but not dancers.



Options :

1. ✖ A

2. ✖ B

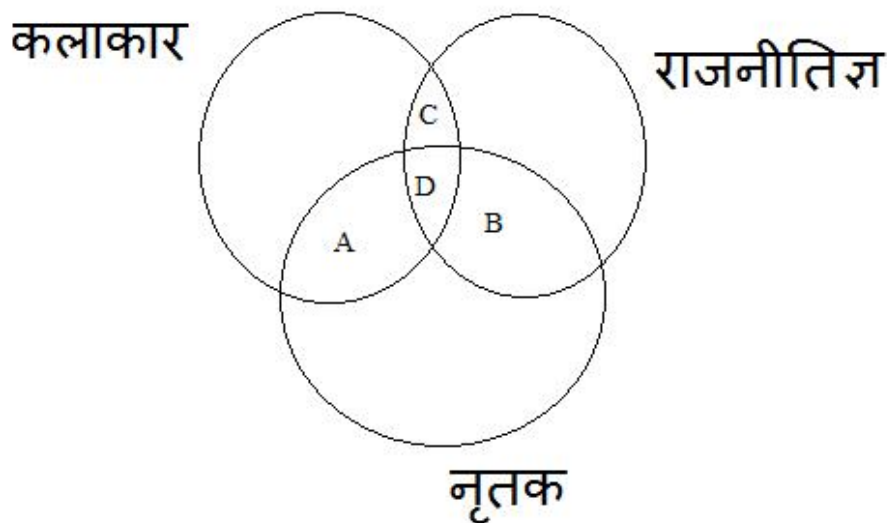
3. ✔ C

4. ✖ D

Question Number : 13 Question Id : 5861802435 Question Type : MCQ Option Shuffling : Yes

Correct Marks : 1 Wrong Marks : 0.25

प्रदत्त समुच्चय में, ऐसे लोगों के समूह को परिभाषित करें जो राजनीतिज्ञ और कलाकार तो हैं, परंतु नृतक नहीं हैं।



Options :

1. ✖ A

2. ✖ B

3. ✔ C

4. ✖ D

Question Number : 14 Question Id : 5861802436 Question Type : MCQ Option Shuffling : Yes

Correct Marks : 1 Wrong Marks : 0.25

If we code ZEBRA as 85291, then how will you code KING?

Options :

1. ✔ 2957

2. ✖ 5729

3. ✖ 7295

4. ✖ 9572

Question Number : 14 Question Id : 5861802436 Question Type : MCQ Option Shuffling : Yes

Correct Marks : 1 Wrong Marks : 0.25

यदि हम ZEBRA को 85291 कोड करते हैं, तो KING का कोड पता करें?

Options :

1. ✔ 2957

2. ✖ 5729

3. ✖ 7295

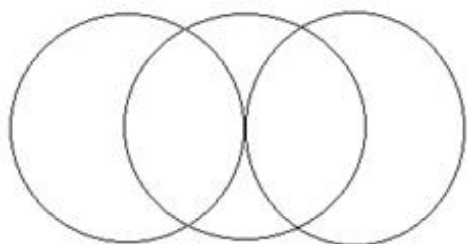
4. ✖ 9572

Question Number : 15 Question Id : 5861802437 Question Type : MCQ Option Shuffling : Yes  
Correct Marks : 1 Wrong Marks : 0.25

Select the Venn diagram that best represents the given set of classes:

Air Force, Air Marshal and Brigadier

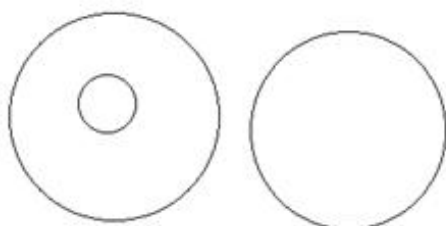
Options :



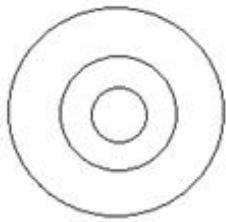
1. ✖



2. ✖



3. ✔



4. ✖

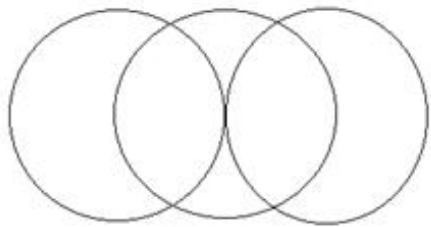
Question Number : 15 Question Id : 5861802437 Question Type : MCQ Option Shuffling : Yes

Correct Marks : 1 Wrong Marks : 0.25

वह वेन आरेख चुनें, जो प्रदत्त समुच्चय श्रेणियों को सबसे अच्छे से दर्शाता है:

वायु सेना, एयर मार्शल और ब्रिगेडियर

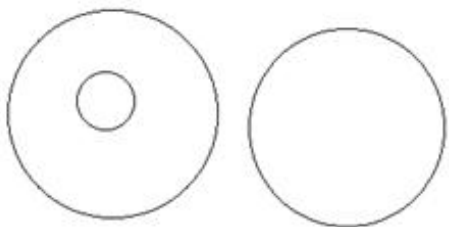
Options :



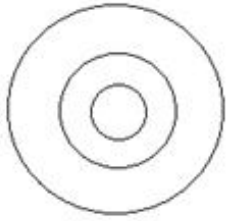
1. ✖



2. ✖



3. ✔



4. ✖

Question Number : 16 Question Id : 5861802438 Question Type : MCQ Option Shuffling : Yes  
Correct Marks : 1 Wrong Marks : 0.25

Three statements are given, followed by three conclusions.

The symbols used in them have meanings as follows:

$P @ Q$  means  $P$  is neither smaller than nor greater than  $Q$ .

$P \# Q$  means  $P$  is neither greater than nor equal to  $Q$ .

$P \& Q$  means  $P$  is neither smaller than nor equal to  $Q$ .

$P \% Q$  means  $P$  is not greater than  $Q$ .

$P \$ Q$  means  $P$  is not smaller than  $Q$ .

Now read the following statements and decide which of the conclusions is/are true.

**Statements:**

$L \# M$

$S \& R$

$R @ P$

$R \# L$

**Conclusions:**

I.  $R \$ M$

II.  $S \& P$

III.  $M \% R$

Options :

1. ✖ Only conclusion I is true.

2. ✔ Only conclusion II is true.

3. ✖ Only conclusion I and II is true.
4. ✖ All conclusions I, II and III are true.

Question Number : 16 Question Id : 5861802438 Question Type : MCQ Option Shuffling : Yes  
Correct Marks : 1 Wrong Marks : 0.25

तीन कथन दिए गए हैं और उनके बाद तीन निष्कर्ष भी दिए गए हैं। इनमें प्रयुक्त प्रतीकों का अर्थ निम्नानुसार है:

- P @ Q का अर्थ है कि P न तो Q से छोटा है और न बड़ा है।
- P # Q का अर्थ है कि P न तो Q से बड़ा है और न बराबर है।
- P & Q का अर्थ है कि P न तो Q से छोटा है और न बराबर है।
- P % Q का अर्थ है कि P Q से बड़ा नहीं है।
- P \$ Q का अर्थ है कि P Q से छोटा नहीं है।

अब निम्न कथनों को पढ़ें और तय करें कि इनमें से कौन सा/से निष्कर्ष सही है/हैं।

कथन:

L # M

S & R

R @ P

R # L

निष्कर्ष:

I. R \$ M

II. S & P

III. M % R

Options :



1. ✖ केवल निष्कर्ष I सही है।
2. ✔ केवल निष्कर्ष II सही है।
3. ✖ केवल निष्कर्ष I और II सही हैं।
4. ✖ सभी निष्कर्ष I, II और III सही हैं।

Question Number : 17 Question Id : 5861802439 Question Type : MCQ Option Shuffling : Yes

Correct Marks : 1 Wrong Marks : 0.25

Three statements are given, followed by four conclusions numbered I to IV. Assuming the statements to be true even if they seem to be at variance with commonly known facts, decide which of the conclusions logically follow(s) from the given statements.

**Statements:**

All coolers are fans.

Some fans are blowers.

All bottles are fans.

**Conclusions:**

- I. Some blowers are coolers.
- II. Some coolers are bottles.
- III. Some fans are coolers.
- IV. No cooler is bottle.

**Options :**

1. ✖ Only conclusion II and III follow.
2. ✖ Either conclusion II or IV follows.
3. ✖ Conclusion III and either I or IV follows.

4. ✓ Conclusion III and either II or IV follows.

Question Number : 17 Question Id : 5861802439 Question Type : MCQ Option Shuffling : Yes

Correct Marks : 1 Wrong Marks : 0.25

तीन कथन दिए हैं और उसके बाद I से IV अंकित चार निष्कर्ष भी दिए गए हैं। मान लें कि कथन सही हैं, भले ही वास्तविक तथ्यों से परे हैं, तय करें कि कौन सा निष्कर्ष तार्किक रूप से प्रदत्त कथन का अनुसरण करता है।

कथन:

सभी कूलर पंखे हैं।

कुछ पंखे ब्लोअर हैं।

सभी बोटलें पंखे हैं।

निष्कर्ष:

I. कुछ ब्लोअर कूलर हैं।

II. कुछ कूलर बोटलें हैं।

III. कुछ पंखे कूलर हैं।

IV. कोई कूलर बोटल नहीं है।

Options :

1. ✗ केवल निष्कर्ष II और III अनुसरण करते हैं।

2. ✗ निष्कर्ष II और IV में से कोई अनुसरण करता है।

3. ✗ निष्कर्ष III और I या IV में से कोई अनुसरण करता है।

4. ✓ निष्कर्ष III और II या IV में से कोई अनुसरण करता है।

Question Number : 18 Question Id : 5861802440 Question Type : MCQ Option Shuffling : Yes

Correct Marks : 1 Wrong Marks : 0.25

A team of six persons is to be selected from among five boys, A, B, C, D and E, and five girls, P, Q, R, S and T, such that there are at most two boys in the team and it meets the following criteria:

- i. P and S must be together.
- ii. C and R must be together.
- iii. C and D cannot be together.
- iv. D and Q must be together.
- v. E and S must be together.

Which of the following teams can be formed?

1. BPSRAC
2. DQPASP
3. STEDQP
4. TPESRD

Options :

1. ✖ 1 and 3

2. ✖ 2 and 3

3. ✔ Only 3

4. ✖ Only 4



Question Number : 18 Question Id : 5861802440 Question Type : MCQ Option Shuffling : Yes

Correct Marks : 1 Wrong Marks : 0.25

पाँच लड़कों A, B, C, D और E, और पाँच लड़कियों P, Q, R, S और T में से कुछ इस प्रकार से छह की टीम चुनी जानी है कि टीम में कम से कम दो लड़के हों और निम्न मानदंड पूरे करती हो:

- P और S एक साथ होने चाहिए।
- C और R एक साथ होने चाहिए।
- C और D एक साथ नहीं हो सकते।
- D और Q एक साथ होने चाहिए।
- E और S एक साथ होने चाहिए।

इनमें से कौन सा विकल्प एक टीम बन सकती है?

1. BPSRAC
2. DQPASP
3. STEDQP
4. TPESRD

Options :

1. ✖ 1 और 3

2. ✖ 2 और 3

3. ✔ केवल 3

4. ✖ केवल 4

Question Number : 19 Question Id : 5861802441 Question Type : MCQ Option Shuffling : Yes

Correct Marks : 1 Wrong Marks : 0.25

The criteria for selecting a candidate for the post of 'Doctors' are as follow.

The candidate:

1. must have completed M.D. Medicine with more than 85% marks.
2. must have secured at least 85% marks in MBBS.
3. must not be less than 32 years and not more than 45 years of age as on 1 January 2019.

However, if a candidate fulfils all the above criteria EXCEPT:

- a. no. 2, but has got more than 90% marks in M.D. Medicine, his/her case is to be referred to the Head (HR).
- b. no. 3, but has 3 years of practising experience, his/her case is to be referred to the Administrative Head.

Based on the criteria given and without assuming any additional information, you have to take a decision for the following candidate.

Dr. Birbal has obtained 85% marks in both MBBS and M.D. (Medicine). He was born on 28 July 1985. He has worked at a reputed hospital for three years before applying for the current position.

Options :

1. ✖ The candidate is to be selected.
2. ✔ The candidate is not to be selected.
3. ✖ The candidate's case is to be referred to the Head (HR).
4. ✖ The candidate's case is to be referred to the Administrative Head.

Question Number : 19 Question Id : 5861802441 Question Type : MCQ Option Shuffling : Yes  
Correct Marks : 1 Wrong Marks : 0.25



‘डॉक्टर’ के पद के लिए उम्मीदवार चुनने के लिए मानदंड निम्नानुसार हैं:

उम्मीदवार:

1. एम.डी. मेडिसिन होना चाहिए और उसके 85% से अधिक अंक होने चाहिए।
2. एम.बी.बी.एस में न्यूनतम 85% होने चाहिए।
3. 1 जनवरी 2019 तक उसकी उम्र 32 साल से कम या 45 साल से अधिक नहीं होनी चाहिए।

हालाँकि, यदि उम्मीदवार उक्त सभी मानदंड पूरे करता है, सिवाए:

- a. नं. 2, लेकिन उसके एम.डी. मेडिसिन में 90% से अधिक अंक हैं, तो उसका मामला मुखिया (एच.आर.) को भेजा जाएगा।
- b. नं. 3, लेकिन उसके पास तीन सालों की प्रैक्टिस का अनुभव है, तो उसका मामला प्रशासन मुखिया को भेजा जाएगा।

प्रदत्त मानदंडों के आधार पर और किसी भी अतिरिक्त जानकारी पर गौर किए बिना, आपको निम्न उम्मीदवार के लिए फैसला लेना है।

डॉ. बीरबल ने एम.बी.बी.एस. और एम.डी. मेडिसिन दोनों में ही 85% अंक हासिल किए हैं। उसका जन्म 28 जुलाई 1985 को हुआ था। उसके पास इस पद के लिए आवेदन करने से पहले तक प्रतिष्ठित अस्पताल में काम करने का 3 साल का अनुभव है।

Options :

1. ✖ उम्मीदवार चुना जाना चाहिए।
2. ✔ उम्मीदवार को नहीं चुना जाना चाहिए।
3. ✖ उम्मीदवार के मामले को मुखिया (एच.आर.) को भेजा जाएगा।
4. ✖ उम्मीदवार के मामले को प्रशासन मुखिया को भेजा जाएगा।



‘विशेष शिक्षक’ के पद के लिए उम्मीदवार चुनने के लिए मानदंड निम्नानुसार हैं:

उम्मीदवार:

1. नैदानिक मनोविज्ञान में एम.ए. होना चाहिए और उसके 70% से अधिक अंक होने चाहिए।
2. कम से कम दो सालों तक दिव्यांग बच्चों के साथ काम किया हो।
3. एक साल नौकरी न छोड़ने के एवज़ में बांड भरने को तैयार हो।

हालाँकि, यदि उम्मीदवार उक्त सभी मानदंड पूरे करता है, सिवाए:

- a. नं. 2, लेकिन उसके नैदानिक मनोविज्ञान में 75% से अधिक अंक हैं, तो उसका मामला प्रिंसिपल को भेजा जाएगा।
- b. नं. 3, लेकिन उसने कम से कम चार साल तक दिव्यांगों के साथ काम किया है, तो उसका मामला उप-निदेशक को भेजा जाएगा।

प्रदत्त मानदंडों के आधार पर और किसी भी अतिरिक्त जानकारी पर गौर किए बिना, आपको निम्न उम्मीदवार के लिए फैसला लेना है।

अमनदीप ने एम.ए. (नैदानिक मनोविज्ञान) में 72% अंक हासिल किए हैं। वह एक साल नौकरी न छोड़ने के एवज़ में बांड भरने के लिए तैयार है। उसने अपनी पहली नौकरी के लिए आवेदन किया है।

Options :

1. ✖ उम्मीदवार चुना जाना चाहिए।
2. ✔ उम्मीदवार को नहीं चुना जाना चाहिए।
3. ✖ उम्मीदवार के मामले को प्रिंसिपल को भेजा जाएगा।
4. ✖ उम्मीदवार के मामले को उप-निदेशक को भेजा जाएगा।

Question Number : 20 Question Id : 5861802442 Question Type : MCQ Option Shuffling : Yes

Correct Marks : 1 Wrong Marks : 0.25

The criteria for selecting a candidate for the post of ‘Special Educator’ are as follow.

The candidate:

1. must have completed M.A. in Clinical Psychology with more than 70% marks.
2. must have worked with children with disabilities for at least 2 years.
3. must be willing to sign a bond of not leaving the job for one year.

However, if a candidate fulfils all the above criteria EXCEPT:

- a. no. 2, but has got more than 75% marks in M.A. Clinical Psychology, his/her case is to be referred to the Principal.
- b. no. 3, but has must have worked with children with disabilities for at least 4 years, his/her case is to be referred to the Deputy Director.

Based on the criteria given and without assuming any additional information, you have to a take a decision for the following candidate.

Amandeep has obtained 72% marks in M.A. (Clinical Psychology). He is also willing to sign a bond of not leaving the job for one year. He has applied for his first job.

Options :

1. ✖ The candidate is to be selected.
2. ✔ The candidate is not to be selected.
3. ✖ The candidate’s case is to be referred to the Principal.
4. ✖ The candidate’s case is to be referred to the Deputy Director.

## Mental Ability2

Group Number :	2
Group Id :	586180113
Group Maximum Duration :	0
Group Minimum Duration :	0
Show Attended Group? :	No
Edit Attended Group? :	No
Break time:	0
Group Marks:	20
Is this Group for Examiner?:	No

Revisit allowed for group Instructions? : Yes  
Maximum Instruction Time: 0  
Minimum Instruction Time: 0

Mental Ability2

Section Id : 586180117  
Section Number : 1  
Section type : Online  
Mandatory or Optional: Mandatory  
Number of Questions: 20  
Number of Questions to be attempted: 20  
Section Marks: 20

Sub-Section Number: 1  
Sub-Section Id: 586180160  
Question Shuffling Allowed : Yes

Question Number : 21 Question Id : 5861802443 Question Type : MCQ Option Shuffling : Yes  
Correct Marks : 1 Wrong Marks : 0.25

Which of the option figures represents the correct water image of the figure given below?



Options :

1. ✖



2. ✖



3. ✔



4. ✖



Question Number : 21 Question Id : 5861802443 Question Type : MCQ Option Shuffling : Yes  
Correct Marks : 1 Wrong Marks : 0.25

इन आकृतियों में से कौन सी आकृति प्रदत्त आकृति का जल प्रतिबिम्ब दर्शाती है?



Options :

1. ✖



2. ✖



3. ✔



4. ✖





Question Number : 22 Question Id : 5861802444 Question Type : MCQ Option Shuffling : Yes  
Correct Marks : 1 Wrong Marks : 0.25

Select the correct mirror image of the given cluster when a vertical mirror is placed on the right of the word.

ZnB43S97tjkxc9

Options :

1. ✓

2. ✗

3. ✗

4. ✗

Question Number : 22 Question Id : 5861802444 Question Type : MCQ Option Shuffling : Yes  
Correct Marks : 1 Wrong Marks : 0.25

प्रदत्त समूह की सही दर्पण छवि चुनें, अगर शब्द के दाहिने ओर एक ऊर्ध्वाधर दर्पण रखा जाता है।

ZnB43S97tjkxc9

Options :

1. ✓

2. ✗

3. ✗

4. ✖ SUBA32207f!kxcə

Question Number : 23 Question Id : 5861802445 Question Type : MCQ Option Shuffling : Yes  
Correct Marks : 1 Wrong Marks : 0.25  
Eight symbol-number clusters are given below three of which are same. Find the three clusters that are exactly same.

- (A) 7 4 \* & 4 % 4 8 @ 2 3 \* 7 ^ + #
- (B) 7 4 \* & 4 % 4 3 @ 2 3 \* 7 \$ + #
- (C) 7 4 \* & 4 % 4 3 @ 2 3 \* 7 ^ + #
- (D) 7 4 \* & 4 % 4 3 @ 2 3 \* 7 ^ + #
- (E) 7 4 \* & 4 \$ 4 3 @ 2 3 \* 7 ^ + #
- (F) 7 4 \* & 4 % 4 3 @ 3 3 \* 7 ^ + #
- (G) 7 4 \* & 4 & 4 3 @ 2 3 \* 7 ^ + #
- (H) 7 4 \* & 4 % 4 3 @ 2 3 \* 7 ^ + #

Options :

- 1. ✖ A, C and E
- 2. ✖ B, C and E
- 3. ✔ C, D and H
- 4. ✖ C, F and H

Question Number : 23 Question Id : 5861802445 Question Type : MCQ Option Shuffling : Yes  
Correct Marks : 1 Wrong Marks : 0.25

नीचे आठ प्रतीक-संख्या के समूह दिए गए हैं, इनमें से तीन एक समान हैं। बिलकुल समान तीन समूह पता करें।

- (A) 7 4 \* & 4 % 4 8 @ 2 3 \* 7 ^ + #  
 (B) 7 4 \* & 4 % 4 3 @ 2 3 \* 7 \$ + #  
 (C) 7 4 \* & 4 % 4 3 @ 2 3 \* 7 ^ + #  
 (D) 7 4 \* & 4 % 4 3 @ 2 3 \* 7 ^ + #  
 (E) 7 4 \* & 4 \$ 4 3 @ 2 3 \* 7 ^ + #  
 (F) 7 4 \* & 4 % 4 3 @ 3 3 \* 7 ^ + #  
 (G) 7 4 \* & 4 & 4 3 @ 2 3 \* 7 ^ + #  
 (H) 7 4 \* & 4 % 4 3 @ 2 3 \* 7 ^ + #

Options :

1. ✗ A, C और E

2. ✗ B, C और E

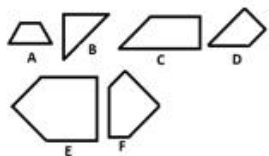
3. ✓ C, D और H

4. ✗ C, F और H

Question Number : 24 Question Id : 5861802446 Question Type : MCQ Option Shuffling : Yes

Correct Marks : 1 Wrong Marks : 0.25

Which of the given figures, when fitted into each other would form a square? Select an appropriate combination from the given options.



Options :

1. ✓ BCEF



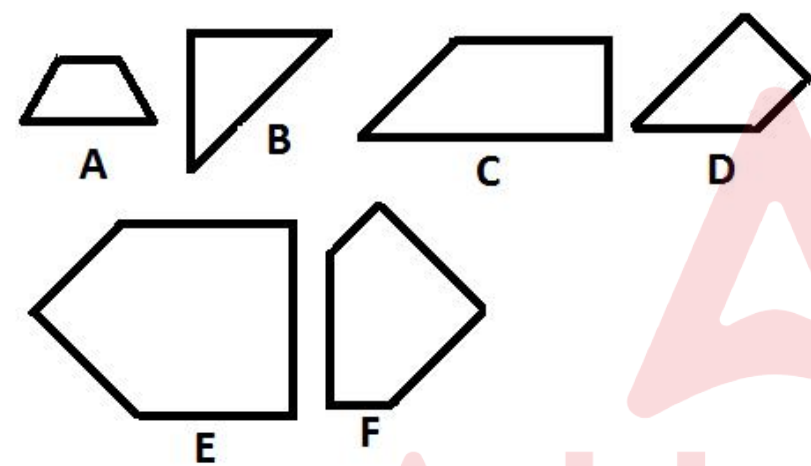
2. ✖ ABDF

3. ✖ BCDE

4. ✖ BCDF

Question Number : 24 Question Id : 5861802446 Question Type : MCQ Option Shuffling : Yes  
Correct Marks : 1 Wrong Marks : 0.25

इनमें से किस आकृति को जब एक एक दूसरे में फिट किया जाता है, तो एक चौक बनेगा? प्रदत्त विकल्पों में से समुचित संयोजन चुनें।



Options :

1. ✔ BCEF

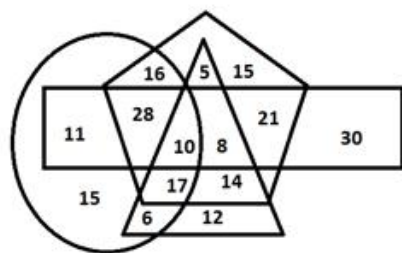
2. ✖ ABDF

3. ✖ BCDE

4. ✖ BCDF

Question Number : 25 Question Id : 5861802447 Question Type : MCQ Option Shuffling : Yes  
Correct Marks : 1 Wrong Marks : 0.25

In the diagram given below, the pentagon stands for 'lawyers', the triangle stands for 'married persons', the rectangle stands for 'women', and the oval stands for 'Gym members'. The numbers in different segments represent the number of persons.



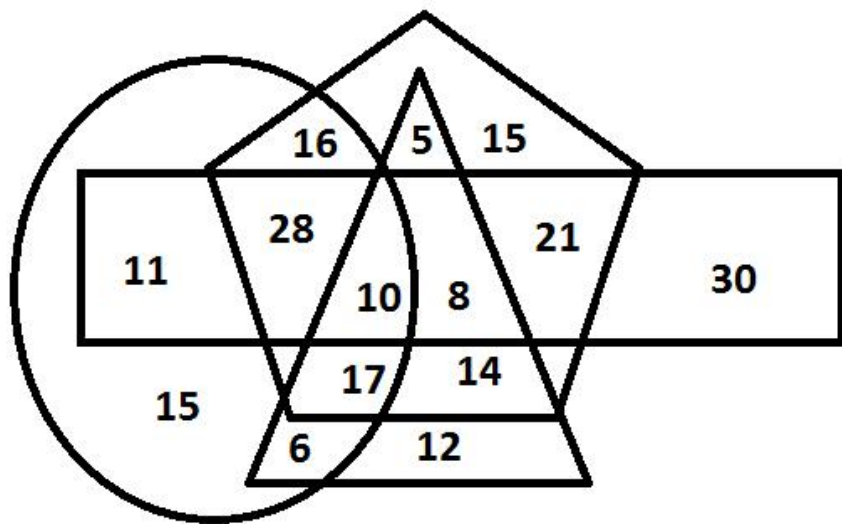
Which of following statement is NOT correct?

Options :

1. ✖ The number of lawyers who are gym members but are neither women nor married is 16.
2. ✖ The number of women lawyers who are married but are not gym members is 8.
3. ✔ Women married lawyers who are not gym members are 14.
4. ✖ Women gym members who are neither married nor lawyers are 11.

Question Number : 25 Question Id : 5861802447 Question Type : MCQ Option Shuffling : Yes  
Correct Marks : 1 Wrong Marks : 0.25

नीचे प्रदत्त आरेख में, पंचकोण 'वकीलों' को दर्शाता है, त्रिभुज 'शादीशुदा लोग' को दर्शाता है, आयत 'महिला' को दर्शाता है और अंडाकार 'जिम सदस्यों' को दर्शाता है। अलग-अलग खंडों की दी गई संख्याएँ व्यक्तियों की संख्या को दर्शाती हैं।



इनमें से कौन सा कथन सही नहीं है?

Options :

1. ✖

ऐसे वकीलों की संख्या 16 है, जो जिम के सदस्य तो हैं, लेकिन न तो वे महिलाएँ हैं और न ही विवाहित हैं।

2. ✖ ऐसी महिला वकीलों की संख्या 8 है, जो विवाहित तो हैं लेकिन जिम की सदस्य नहीं हैं।

3. ✔ विवाहित महिला वकीलों की संख्या 14 है, जो जिम की सदस्य नहीं हैं।

4. ✖ ऐसी महिला जिम सदस्यों की संख्या 11 है, जो न तो विवाहित हैं और न ही वकील हैं।

Question Number : 26 Question Id : 5861802448 Question Type : MCQ Option Shuffling : Yes

Correct Marks : 1 Wrong Marks : 0.25

Select the option figure which contains figure X embedded in it as its part.



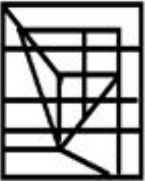
Figure-X

Options :

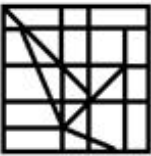
1. ✖



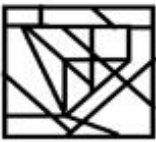
2. ✖



3. ✔



4. ✖



Question Number : 26 Question Id : 5861802448 Question Type : MCQ Option Shuffling : Yes  
Correct Marks : 1 Wrong Marks : 0.25

इनमें से वह आकृति चुनें जिसमें आकृति X इसका एक भाग है।

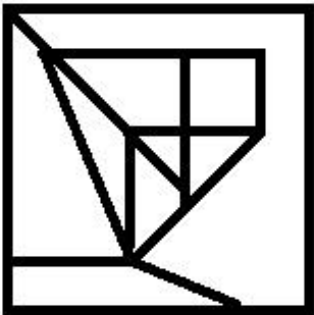
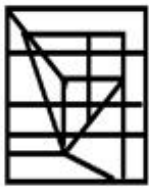


Figure-X

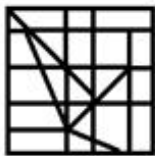
Options :

1. ✖

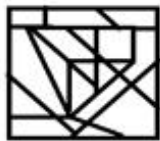




2. ✖



3. ✔

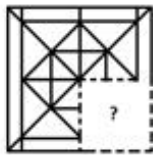


4. ✖

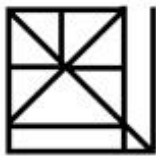
Question Number : 27 Question Id : 5861802449 Question Type : MCQ Option Shuffling : Yes

Correct Marks : 1 Wrong Marks : 0.25

Which of the following option figure will complete the pattern in the figure given below?



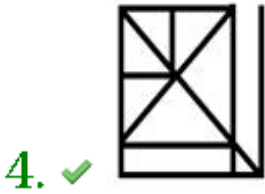
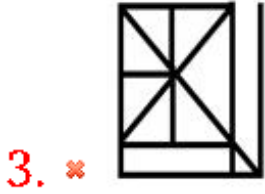
Options :



1. ✖

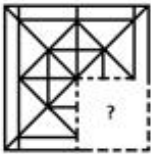


2. ✖

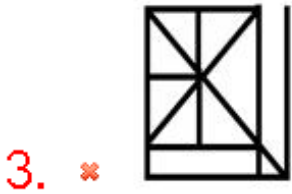


Question Number : 27 Question Id : 5861802449 Question Type : MCQ Option Shuffling : Yes  
Correct Marks : 1 Wrong Marks : 0.25

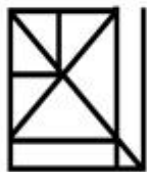
इनमें से कौन सी आकृति नीचे प्रदत्त आकृति पैटर्न को पूरा करेगी?



Options :







4. ✓

Question Number : 28 Question Id : 5861802450 Question Type : MCQ Option Shuffling : Yes

Correct Marks : 1 Wrong Marks : 0.25

In a family, there are four sons and four daughters. The family also has one married pair. Anuj is the son of Vikram. Arpit is the son of Malti. Lekhika is the daughter of Arpit. Hansa is the daughter of Sahil. Gokul is the son of Lekhika's grandfather Vikram. Arpit and Sahil are brothers. Anuj and Gokul are brothers. Rupali is the daughter of Gokul. Anuj is Damini's father. How is Malti related to Rupali?

Options :

1. ✗ Mother

2. ✗ Maternal grandmother

3. ✓ Paternal grandmother

4. ✗ Granddaughter

Question Number : 28 Question Id : 5861802450 Question Type : MCQ Option Shuffling : Yes

Correct Marks : 1 Wrong Marks : 0.25

एक परिवार में चार बेटे और चार बेटियां हैं। परिवार में एक विवाहित जोड़ा भी है। अनुज विक्रम का बेटा है। अर्पित मालती का बेटा है। लेखिका अर्पित की बेटी है। हंसा साहिल की बेटी है। गोकुल लेखिका के दादा विक्रम का बेटा है। अर्पित और साहिल भाई हैं। अनुज और गोकुल भाई हैं। रुपाली गोकुल की बेटी है। अनुज दामिनी का पिता है। मालती का रुपाली से रिश्ता पता करें।

Options :

1. ✗ मां

2. ✗ नानी



3. ✓ दादी

4. ✗ पोती

Question Number : 29 Question Id : 5861802451 Question Type : MCQ Option Shuffling : Yes

Correct Marks : 1 Wrong Marks : 0.25

$A + B$  means 'A is sister of B'

$A - B$  means 'A is son of B'

$A \times B$  means 'A is father of B'

$A \div B$  means 'A is wife of B'

$A \% B$  means 'A is brother of B'

If  $P \% R \% M - S \div Q \times U \div K \times T + J$ , then which of the following statement is NOT correct?

Options :

1. ✗ U is mother of J.

2. ✗ M is brother of P.

3. ✗ U is sister of R.

4. ✓ Q is paternal grandfather of J.

Question Number : 29 Question Id : 5861802451 Question Type : MCQ Option Shuffling : Yes

Correct Marks : 1 Wrong Marks : 0.25

$A + B$  का अर्थ है 'A, B की बहन है'

$A - B$  का अर्थ है 'A, B का बेटा है'

$A \times B$  का अर्थ है 'A, B का पिता है'

$A \div B$  का अर्थ है 'A, B की पत्नी है'

$A \% B$  का अर्थ है 'A, B का भाई है'

यदि  $P \% R \% M - S \div Q \times U \div K \times T + J$  है, तो इनमें से कौन सा कथन सही नहीं है?

Options :

1. ✖ U, J की माता है।
2. ✖ M, P का भाई है।
3. ✖ U, R की बहन है।
4. ✔ Q, J का दादा (पटरनल ग्रांडफादर) है।

Question Number : 30 Question Id : 5861802452 Question Type : MCQ Option Shuffling : Yes

Correct Marks : 1 Wrong Marks : 0.25

A question is given, followed by statements labelled I, II, III and IV, each containing some information. Decide which of the statements is/are sufficient/necessary to answer the question.

**Question:**

How is B related to C?

**Statements**

- I. F is B's wife whose daughter is D.
- II. C's mother is sister of K.
- III. D is K's sister.
- IV. B is father of K.

Options :

1. ✖ Statement I and II together are sufficient.
2. ✖ Statement II and III together are sufficient.
3. ✔ Statement II and IV together are sufficient.
4. ✖ Statement II, III and IV together are sufficient.

Question Number : 30 Question Id : 5861802452 Question Type : MCQ Option Shuffling : Yes

Correct Marks : 1 Wrong Marks : 0.25

एक प्रश्न के बाद I, II, III और IV लेबल के तहत चार कथन दिए गए हैं, प्रत्येक में कुछ न कुछ जानकारी दी गई है। तय करें कि प्रश्न का उत्तर देने के लिए इनमें से कौन सा/से कथन पर्याप्त/ज़रूरी है/हैं।

प्रश्न:

B, C से कैसे सम्बंधित है?

कथन:

- I. F, B की पत्नी है जिसकी लड़की D है।
- II. C की माता K की बहन है।
- III. D, K की बहन है
- IV. B, K का पिता है।

Options :

1. ✖ कथन I और II एकसाथ पर्याप्त हैं।
2. ✖ कथन II और III एकसाथ पर्याप्त हैं।
3. ✔ कथन II और IV एकसाथ पर्याप्त हैं।
4. ✖ कथन II, III और IV एकसाथ पर्याप्त हैं।

Question Number : 31 Question Id : 5861802453 Question Type : MCQ Option Shuffling : Yes

Correct Marks : 1 Wrong Marks : 0.25

If 'DESKTOP' is coded as 104 in a code language, how would 'EXPLAIN' be coded in the same code language?

Options :

1. ✖ 128
2. ✖ 130
3. ✔ 132

4. ✖ 134

Question Number : 31 Question Id : 5861802453 Question Type : MCQ Option Shuffling : Yes

Correct Marks : 1 Wrong Marks : 0.25

यदि किसी कोड भाषा में 'DESKTOP' को 104 कोड किया गया है, तो उसी कोड भाषा में 'EXPLAIN' को क्या कोड किया जाएगा?

Options :

1. ✖ 128

2. ✖ 130

3. ✔ 132

4. ✖ 134

Question Number : 32 Question Id : 5861802454 Question Type : MCQ Option Shuffling : Yes

Correct Marks : 1 Wrong Marks : 0.25

Which of the following pairs of numbers and signs, when their positions are interchanged, will correctly solve the given mathematical equation?

$$20 + 696 \times 144 \div 58 - 864 = 884$$

Options :

1. ✖ 58 and 864,  $\times$  and  $\div$

2. ✖ 58 and 696,  $+$  and  $\div$

3. ✖ 696 and 20,  $+$  and  $-$

4. ✔ 144 and 58,  $\times$  and  $\div$

Question Number : 32 Question Id : 5861802454 Question Type : MCQ Option Shuffling : Yes

Correct Marks : 1 Wrong Marks : 0.25

संख्याओं और चिह्नों के इन युग्मों में से कौन सा युग्म उनकी स्थिति आपस में बदलने पर एक प्रदत्त गणितीय समीकरण को सही से हल करेगा?

$$20 + 696 \times 144 \div 58 - 864 = 884$$

Options :

1. ✖ 58 और 864,  $\times$  और  $\div$

2. ✖ 58 और 696,  $+$  और  $\div$

3. ✖ 696 और 20,  $+$  और  $-$

4. ✔ 144 और 58,  $\times$  और  $\div$

Question Number : 33 Question Id : 5861802455 Question Type : MCQ Option Shuffling : Yes

Correct Marks : 1 Wrong Marks : 0.25

A total of 300 students take part in one or more of three events essay, quiz and chess. Only 12% participate in all three events. The number of students who participate in any two and only two events is 28% of the total students. The number of students who participate in chess alone is 45. What is the total number of students who participate in essay alone or quiz alone?

Options :

1. ✖ 125

2. ✖ 130

3. ✔ 135

4. ✖ 140



Question Number : 33 Question Id : 5861802455 Question Type : MCQ Option Shuffling : Yes

Correct Marks : 1 Wrong Marks : 0.25

एस्से, क्विज और चेस के कार्यक्रमों में कुल 300 छात्र भाग ले रहे हैं। केवल 12% ही सभी कार्यक्रमों में भाग ले रहे हैं। किन्हीं दो कार्यक्रमों या केवल दो कार्यक्रमों में भाग लेने वाले छात्रों की संख्या कुल छात्रों की 28% है। केवल चेस में भाग लेने वाले छात्रों की संख्या 45 है। केवल एस्से या केवल क्विज में भाग लेने वाले कुल छात्रों की संख्या पता करें?

Options :

1. ✖ 125

2. ✖ 130

3. ✔ 135

4. ✖ 140

Question Number : 34 Question Id : 5861802456 Question Type : MCQ Option Shuffling : Yes

Correct Marks : 1 Wrong Marks : 0.25

Among five objects A, B, C, D and E; A is three times heavier than C; B is one and a half times heavier than E; C is two and a half times heavier than D. E is thrice as heavy as A. Which of the following the statements is NOT correct?

Options :

1. ✖ A is 3 times heavier than C.

2. ✖ B is heavier than A.

3. ✔ E is 6 times heavier than C.

4. ✖ E is heavier than A but lighter than B.

Question Number : 34 Question Id : 5861802456 Question Type : MCQ Option Shuffling : Yes

Correct Marks : 1 Wrong Marks : 0.25

पाँच वस्तुओं A, B, C, D और E में से; A, C से तीन गुना भारी है; B, E से डेढ़ गुना भारी है; C, D से ढाई गुना भारी है। E, A से तिगुना भारी है। इनमें से कौन सा कथन सही नहीं है?

Options :

1. ✖ A, C से 3 गुना भारी है।

2. ✖ B, A से भारी है।

3. ✔ E, C से 6 गुना भारी है।

4. ✖ E, A से तो भारी है लेकिन B से हल्की है।

Question Number : 35 Question Id : 5861802457 Question Type : MCQ Option Shuffling : Yes

Correct Marks : 1 Wrong Marks : 0.25

Four persons A, B, C and D have different amount of rupees with them. B says to C, 'If I give you 1 rupee, you will have half the rupees than D' B says to D, 'If you give me 8 rupees, I will have 10 rupees less than A.'. C says to D, 'If you give me 21 rupees, I will have 30 rupees less than A'. If C and D together have total 104 rupees, how many rupees does B have?

Options :

1. ✖ 65

2. ✖ 66

3. ✔ 67

4. ✖ 68

Question Number : 35 Question Id : 5861802457 Question Type : MCQ Option Shuffling : Yes

Correct Marks : 1 Wrong Marks : 0.25



चार व्यक्तियों A, B, C और D के पास अलग-अलग रुपये हैं। B, C से कहता है, "अगर तुम मुझे 1 रुपया दे दो, तो तुम्हारे पास D से आधे रुपये हो जाएँगे।" B, D से कहता है, "अगर तुम मुझे 8 रुपये दे दो, तो मेरे पास A से 10 रुपये कम होंगे।" C, D से कहता है, "अगर तुम मुझे 21 रुपये दे दो, तो मेरे पास A से 30 रुपये कम होंगे।" यदि C और D दोनों के पास कुल 104 रुपये हैं, तो B के पास कितने रुपये हैं?

Options :

1. ✖ 65

2. ✖ 66

3. ✔ 67

4. ✖ 68

Question Number : 36 Question Id : 5861802458 Question Type : MCQ Option Shuffling : Yes

Correct Marks : 1 Wrong Marks : 0.25

Three of the given four words are similar in a certain manner while one is different. Choose the odd one out.

Options :

1. ✖ Innovation

2. ✖ Transformation

3. ✖ Renovation

4. ✔ Stagnation

Question Number : 36 Question Id : 5861802458 Question Type : MCQ Option Shuffling : Yes

Correct Marks : 1 Wrong Marks : 0.25

प्रदत्त चार शब्दों में से तीन एक तरीके से समान हैं, जबकि एक अलग है। इनमें से विषम चुनें।

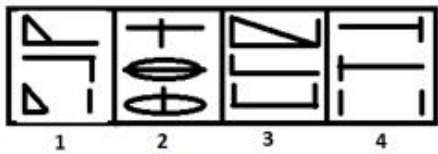
Options :

1. ✖ नवाचार
2. ✖ परिवर्तन
3. ✖ नवीनीकरण
4. ✔ निश्चलता

Question Number : 37 Question Id : 5861802459 Question Type : MCQ Option Shuffling : Yes

Correct Marks : 1 Wrong Marks : 0.25

Three of the given four figures are similar in a certain manner while one is different. Choose the odd one out.



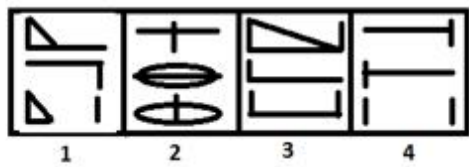
Options :

1. ✖ 1
2. ✖ 2
3. ✔ 3
4. ✖ 4

Question Number : 37 Question Id : 5861802459 Question Type : MCQ Option Shuffling : Yes

Correct Marks : 1 Wrong Marks : 0.25

प्रदत्त चार आकृतियों में से तीन एक तरीके से समान हैं, जबकि एक अलग है। इनमें से विषम चुनें।



Options :

1. ✖ 1

2. ✖ 2

3. ✔ 3

4. ✖ 4

Question Number : 38 Question Id : 5861802460 Question Type : MCQ Option Shuffling : Yes

Correct Marks : 1 Wrong Marks : 0.25

Which number will replace the question mark (?) in the following series?

8, 9, 9, 11, ?, 25

Options :

1. ✖ 18

2. ✖ 20

3. ✖ 21

4. ✔ 22

Question Number : 38 Question Id : 5861802460 Question Type : MCQ Option Shuffling : Yes

Correct Marks : 1 Wrong Marks : 0.25

वह विकल्प चुनें जो श्रृंखला में प्रश्न चिन्ह (?) को सही प्रतिस्थापित करेगा।

8, 9, 9, 11, ?, 25

Options :

1. ✖ 18

2. ✖ 20

3. ✖ 21

4. ✔ 22

Question Number : 39 Question Id : 5861802461 Question Type : MCQ Option Shuffling : Yes

Correct Marks : 1 Wrong Marks : 0.25

Which number will replace the question mark (?) in the following series?

24, 28, 39, 69, ?

Options :

1. ✖ 134

2. ✖ 135

3. ✔ 136

4. ✖ 137

Question Number : 39 Question Id : 5861802461 Question Type : MCQ Option Shuffling : Yes

Correct Marks : 1 Wrong Marks : 0.25

वह विकल्प चुनें जो श्रृंखला में प्रश्न चिन्ह (?) को सही प्रतिस्थापित करेगा।

24, 28, 39, 69, ?

Options :

1. ✖ 134

2. ✖ 135

3. ✔ 136

4. ✖ 137

Question Number : 40 Question Id : 5861802462 Question Type : MCQ Option Shuffling : Yes

Correct Marks : 1 Wrong Marks : 0.25

Which number will replace the question mark (?) in the following series?

44, 59, 78, 105, 144, ?

Options :

1. ✖ 198

2. ✔ 199

3. ✖ 200

4. ✖ 201

Question Number : 40 Question Id : 5861802462 Question Type : MCQ Option Shuffling : Yes

Correct Marks : 1 Wrong Marks : 0.25

वह विकल्प चुनें जो श्रृंखला में प्रश्न चिन्ह (?)को सही प्रतिस्थापित करेगा।

44, 59, 78, 105, 144, ?

Options :

1. ✖ 198

2. ✔ 199

3. ✖ 200

4. ✖ 201

General Awareness1

Group Number :	3
Group Id :	586180114
Group Maximum Duration :	0
Group Minimum Duration :	0
Show Attended Group? :	No
Edit Attended Group? :	No
Break time:	0
Group Marks:	20
Is this Group for Examiner?:	No
Revisit allowed for group Instructions? :	Yes
Maximum Instruction Time:	0
Minimum Instruction Time:	0

General Awareness1

Section Id :	586180118
Section Number :	1
Section type :	Online
Mandatory or Optional:	Mandatory
Number of Questions:	20
Number of Questions to be attempted:	20
Section Marks:	20



Sub-Section Number: 1  
Sub-Section Id: 586180161  
Question Shuffling Allowed : Yes

Question Number : 41 Question Id : 5861802463 Question Type : MCQ Option Shuffling : Yes  
Correct Marks : 1 Wrong Marks : 0.25

Twin leaves is the symbol of which of the following parties?

Options :

1. ✖ Aam Aadmi Party
2. ✔ All India Anna Dravida Munnetra Kazhagam
3. ✖ Bahujan Samaj Party
4. ✖ Communist Party of India

Question Number : 41 Question Id : 5861802463 Question Type : MCQ Option Shuffling : Yes  
Correct Marks : 1 Wrong Marks : 0.25

जुड़ावां पत्ते निम्नलिखित में से किस पार्टी का प्रतीक है?

Options :

1. ✖ आम आदमी पार्टी
2. ✔ अखिल भारतीय अन्ना द्रविड़ मुनेत्र कड़गम
3. ✖ बहुजन समाज पार्टी
4. ✖ भारतीय कम्युनिस्ट पार्टी

Question Number : 42 Question Id : 5861802464 Question Type : MCQ Option Shuffling : Yes  
Correct Marks : 1 Wrong Marks : 0.25

Which of the following is non Green-House Gas (GHG)?

Options :

1. ✖ Methane
2. ✖ Nitrous Oxide
3. ✖ Sulphur Hexafluoride
4. ✔ Carbon Monoxide

Question Number : 42 Question Id : 5861802464 Question Type : MCQ Option Shuffling : Yes

Correct Marks : 1 Wrong Marks : 0.25

निम्नलिखित में से कौन एक ग्रीन हाउस गैस (जीएचजी) नहीं है?

Options :

1. ✖ मीथेन
2. ✖ नाइट्रस ऑक्साइड
3. ✖ सल्फर हेक्साफ्लोराइड
4. ✔ कार्बन मोनोऑक्साइड

Question Number : 43 Question Id : 5861802465 Question Type : MCQ Option Shuffling : Yes

Correct Marks : 1 Wrong Marks : 0.25

Which of the following companies had a dispute with the Gujarat farmers with regard to a specific variety of potatoes?

Options :

1. ✖ Coca-Cola
2. ✖ Nestle
3. ✔ PepsiCo
4. ✖ Kellogg's

Question Number : 43 Question Id : 5861802465 Question Type : MCQ Option Shuffling : Yes

Correct Marks : 1 Wrong Marks : 0.25

निम्नलिखित में से किस कंपनी का एक विशिष्ट किस्म के आलू के संबंध में गुजरात के किसानों के साथ विवाद था?

Options :

1. ✖ कोका-कोला
2. ✖ नेस्ले
3. ✔ पेप्सिको
4. ✖ किलॉग

Question Number : 44 Question Id : 5861802466 Question Type : MCQ Option Shuffling : Yes

Correct Marks : 1 Wrong Marks : 0.25

Which of the following airlines had to suspend operations due to debt issues in April 2019?

Options :

1. ✖ Kingfisher
2. ✔ Jet Airways
3. ✖ Air Deccan
4. ✖ Sahara Airlines

Question Number : 44 Question Id : 5861802466 Question Type : MCQ Option Shuffling : Yes  
Correct Marks : 1 Wrong Marks : 0.25

निम्नलिखित में से किस एयरलाइन को अप्रैल 2019 में ऋण मुद्दों के कारण अपना परिचालन रोकना पड़ा?

Options :

1. ✖ किंगफिशर
2. ✔ जेट एयरवेज
3. ✖ एयर डेक्कन
4. ✖ सहारा एयरलाइंस

Question Number : 45 Question Id : 5861802467 Question Type : MCQ Option Shuffling : Yes  
Correct Marks : 1 Wrong Marks : 0.25

The quarterly magazine, My Vote Matters, was launched on the occasion of Voter's Day. The first copy was presented to who among the following?

Options :

1. ✖ The Prime Minister of India
2. ✖ The Chief Justice of India
3. ✖ The Election Commissioner of India
4. ✔ The President of India

Question Number : 45 Question Id : 5861802467 Question Type : MCQ Option Shuffling : Yes  
Correct Marks : 1 Wrong Marks : 0.25

मतदाता दिवस के अवसर पर त्रैमासिक पत्रिका 'माई वोट मैटर्स' शुरू की गई। इस पत्रिका की पहली प्रति निम्नलिखित में से किसे प्रस्तुत की गई थी?

Options :

1. ✖ भारत के प्रधानमंत्री
2. ✖ भारत के मुख्य न्यायाधीश
3. ✖ भारत के चुनाव आयुक्त
4. ✔ भारत के राष्ट्रपति

Question Number : 46 Question Id : 5861802468 Question Type : MCQ Option Shuffling : Yes

Correct Marks : 1 Wrong Marks : 0.25

India awarded Padma Bhushan to a foreigner, John Chambers, in Trade & Industry Category in 2019. John Chambers is associated with which of the following companies?

Options :

1. ✔ Cisco
2. ✖ Oracle
3. ✖ Samsung
4. ✖ Apple

Question Number : 46 Question Id : 5861802468 Question Type : MCQ Option Shuffling : Yes

Correct Marks : 1 Wrong Marks : 0.25

भारत ने 2019 में ट्रेड एंड इंडस्ट्री श्रेणी में एक विदेशी, जॉन चैम्बर्स को पद्म भूषण से सम्मानित किया। जॉन चेम्बर्स निम्नलिखित में से किस कंपनी से जुड़े हैं?

Options :

1. ✔ सिस्को
2. ✖ औरैकल

3. ✖ सैमसंग

4. ✖ ऐप्पल

Question Number : 47 Question Id : 5861802469 Question Type : MCQ Option Shuffling : Yes

Correct Marks : 1 Wrong Marks : 0.25

Virat Kohli and Anushka Sharma have been appointed as the brand ambassadors of which e-commerce portal in May 2019?

Options :

1. ✖ Snapdeal

2. ✖ Jabong

3. ✔ Myntra

4. ✖ Ebay

Question Number : 47 Question Id : 5861802469 Question Type : MCQ Option Shuffling : Yes

Correct Marks : 1 Wrong Marks : 0.25

मई 2019 में विराट कोहली और अनुष्का शर्मा को किस ई-कॉमर्स पोर्टल के ब्रांड एंबेसडर के रूप में नियुक्त किया गया है?

Options :

1. ✖ स्नैपडील

2. ✖ जबॉन्ग

3. ✔ मित्रा

4. ✖ ईबे

Question Number : 48 Question Id : 5861802470 Question Type : MCQ Option Shuffling : Yes

Correct Marks : 1 Wrong Marks : 0.25

Which state was very badly affected by the cyclone “Fani” in May 2019?

Options :

1. ✖ Tamil Nadu

2. ✔ Odisha

3. ✖ Karnataka

4. ✖ Assam

Question Number : 48 Question Id : 5861802470 Question Type : MCQ Option Shuffling : Yes  
Correct Marks : 1 Wrong Marks : 0.25

मई 2019 में आए चक्रवात "फानी" से इनमें से कौन सा राज्य बहुत बुरी तरह प्रभावित हुआ था?

Options :

1. ✖ तमिलनाडु

2. ✔ ओडिशा

3. ✖ कर्नाटक

4. ✖ असम

Question Number : 49 Question Id : 5861802471 Question Type : MCQ Option Shuffling : Yes  
Correct Marks : 1 Wrong Marks : 0.25

Chennai Municipal Corporation building has been named after which of the Viceroy's of British India?

Options :

1. ✖ Mayo

2. ✖ Canning

3. ✖ Dufferin

4. ✔ Ripon

Question Number : 49 Question Id : 5861802471 Question Type : MCQ Option Shuffling : Yes  
Correct Marks : 1 Wrong Marks : 0.25

चेन्नई नगर निगम भवन का नाम ब्रिटिश भारत के किस वायसराय के नाम पर रखा गया है?

Options :

1. ✖ मेयो

2. ✖ कैनिंग



3. ✖ डफरिन

4. ✔ रिपन

Question Number : 50 Question Id : 5861802472 Question Type : MCQ Option Shuffling : Yes

Correct Marks : 1 Wrong Marks : 0.25

The operation to annex Hyderabad to India took place in which year?

Options :

1. ✖ 1947

2. ✔ 1948

3. ✖ 1946

4. ✖ 1950

Question Number : 50 Question Id : 5861802472 Question Type : MCQ Option Shuffling : Yes

Correct Marks : 1 Wrong Marks : 0.25

हैदराबाद को भारत में मिलाने की कार्यवाही निम्नलिखित किस वर्ष हुई थी?

Options :

1. ✖ 1947

2. ✔ 1948

3. ✖ 1946

4. ✖ 1950

Question Number : 51 Question Id : 5861802473 Question Type : MCQ Option Shuffling : Yes

Correct Marks : 1 Wrong Marks : 0.25

Rakesh Sharma was the first Indian to travel in space. Who among the following was shortlisted as his backup?

Options :

1. ✖ Kalpana Chawla

2. ✖ Sunita Williams

3. ✖ Shawna Pandya

4. ✔ Ravish Malhotra

Question Number : 51 Question Id : 5861802473 Question Type : MCQ Option Shuffling : Yes  
Correct Marks : 1 Wrong Marks : 0.25

राकेश शर्मा अंतरिक्ष में यात्रा करने वाले पहले भारतीय थे।  
निम्नलिखित में से किसे उनके बैकअप के रूप में सूचीबद्ध किया गया था?

Options :

1. ✖ कल्पना चावला

2. ✖ सुनीता विलियम्स

3. ✖ शावना पांड्या

4. ✔ रवीश मल्होत्रा

Question Number : 52 Question Id : 5861802474 Question Type : MCQ Option Shuffling : Yes  
Correct Marks : 1 Wrong Marks : 0.25

In which year was 'Kerala Paryatanam' launched, in order to get temple entry and also the right to use public roads for every Hindu irrespective of caste or creed?

Options :

1. ✖ 1920

2. ✔ 1924

3. ✖ 1947

4. ✖ 1940

Question Number : 52 Question Id : 5861802474 Question Type : MCQ Option Shuffling : Yes  
Correct Marks : 1 Wrong Marks : 0.25

जाति या पंथ से परे, हर हिंदू के लिए मंदिर में प्रवेश करने और सार्वजनिक सड़कों का उपयोग करने का अधिकार 'केरल पर्यटनम' इनमें से किस वर्ष में प्रारम्भ किया गया था?

Options :

1. ✖ 1920

2. ✔ 1924

3. ✖ 1947

4. ✖ 1940

Question Number : 53 Question Id : 5861802475 Question Type : MCQ Option Shuffling : Yes  
Correct Marks : 1 Wrong Marks : 0.25

Prayagraj is the new name of which Indian city?

Options :

1. ✖ Varnasi

2. ✔ Allahabad

3. ✖ Bhubaneswar

4. ✖ Gaya

Question Number : 53 Question Id : 5861802475 Question Type : MCQ Option Shuffling : Yes  
Correct Marks : 1 Wrong Marks : 0.25

प्रयागराज भारत के किस शहर का नया नाम है?

Options :

1. ✖ वाराणसी

2. ✔ इलाहाबाद

3. ✖ भुवनेश्वर

4. ✖ गया

Question Number : 54 Question Id : 5861802476 Question Type : MCQ Option Shuffling : Yes  
Correct Marks : 1 Wrong Marks : 0.25

Two olympians, Rajyavardhan Singh Rathore and Krishna Poonia, contested the 2019 for Lok Sabha election from the same constituency from different parties. What is the name of that constituency?

Options :

1. ✖ Ajmer
2. ✖ Jodhpur
3. ✖ Udaipur Rural
4. ✔ Jaipur Rural

Question Number : 54 Question Id : 5861802476 Question Type : MCQ Option Shuffling : Yes  
Correct Marks : 1 Wrong Marks : 0.25

दो ओलंपियन, राज्यवर्धन सिंह राठौर और कृष्णा पूनिया ने विभिन्न दलों के एक ही निर्वाचन क्षेत्र से 2019 का लोकसभा चुनाव लड़ा। उस निर्वाचन क्षेत्र का नाम क्या है?

Options :

1. ✖ अजमेर
2. ✖ जोधपुर
3. ✖ उदयपुर ग्रामीण
4. ✔ जयपुर ग्रामीण

Question Number : 55 Question Id : 5861802477 Question Type : MCQ Option Shuffling : Yes  
Correct Marks : 1 Wrong Marks : 0.25

Former ISRO chairman AS Kiran Kumar was conferred with the highest civilian award of which country in May 2019?

Options :

1. ✖ Russia
2. ✖ Britain
3. ✔ France
4. ✖ China

Question Number : 55 Question Id : 5861802477 Question Type : MCQ Option Shuffling : Yes  
Correct Marks : 1 Wrong Marks : 0.25

मई 2019 में ISRO के पूर्व अध्यक्ष एस किरण कुमार को किस देश के सर्वोच्च नागरिक पुरस्कार से सम्मानित किया गया था?

Options :

1. ✖ रूस
2. ✖ ब्रिटेन
3. ✔ फ्रांस
4. ✖ चीन

Question Number : 56 Question Id : 5861802478 Question Type : MCQ Option Shuffling : Yes

Correct Marks : 1 Wrong Marks : 0.25

The Payment of Gratuity Act, which governs the gratuity paid to an employee, was passed in which year?

Options :

1. ✔ 1972
2. ✖ 1947
3. ✖ 1956
4. ✖ 1965

Question Number : 56 Question Id : 5861802478 Question Type : MCQ Option Shuffling : Yes

Correct Marks : 1 Wrong Marks : 0.25

ग्रेच्युटी अधिनियम का भुगतान, जो किसी कर्मचारी को दी गई ग्रेच्युटी को नियंत्रित करता है, इनमें से किस वर्ष में पारित किया गया था?

Options :

1. ✔ 1972
2. ✖ 1947
3. ✖ 1956
4. ✖ 1965

Question Number : 57 Question Id : 5861802479 Question Type : MCQ Option Shuffling : Yes

Correct Marks : 1 Wrong Marks : 0.25

Section 302 of The Indian Penal Code is related to which of the following?

Options :

1. ✖ Injuring or defiling place of worship
2. ✖ Adultery
3. ✖ Unlawful assembly
4. ✔ Punishment for murder

Question Number : 57 Question Id : 5861802479 Question Type : MCQ Option Shuffling : Yes  
Correct Marks : 1 Wrong Marks : 0.25

भारतीय दंड संहिता की धारा 302 निम्नलिखित में से किससे संबंधित है?

Options :

1. ✖ पूजा का स्थान या परिभाषित स्थान
2. ✖ व्यभिचार
3. ✖ गैरकानूनी सभा
4. ✔ हत्या की सजा

Question Number : 58 Question Id : 5861802480 Question Type : MCQ Option Shuffling : Yes  
Correct Marks : 1 Wrong Marks : 0.25

As per “The Registration of Foreigners’ Act, 1939”, every foreigner who wishes to stay in India for more than 180 days needs to register himself/herself within how many days of his/her arrival?

Options :

1. ✖ 30
2. ✔ 14
3. ✖ 2
4. ✖ 10

Question Number : 58 Question Id : 5861802480 Question Type : MCQ Option Shuffling : Yes  
Correct Marks : 1 Wrong Marks : 0.25



"विदेशियों के पंजीकरण अधिनियम, 1939" के अनुसार, 180 दिनों से अधिक समय तक भारत में रहने की इच्छा रखने वाले प्रत्येक विदेशी को अपने आगमन के कितने दिन बाद खुद को पंजीकृत करना होगा?

Options :

1. ✖ 30
2. ✔ 14
3. ✖ 2
4. ✖ 10

Question Number : 59 Question Id : 5861802481 Question Type : MCQ Option Shuffling : Yes

Correct Marks : 1 Wrong Marks : 0.25

Which was the venue for the final match of IPL 2019?

Options :

1. ✖ Chennai
2. ✖ Mumbai
3. ✖ Kolkata
4. ✔ Hyderabad

Question Number : 59 Question Id : 5861802481 Question Type : MCQ Option Shuffling : Yes

Correct Marks : 1 Wrong Marks : 0.25

आईपीएल 2019 का फाइनल मैच निम्नलिखित में से किस स्थान पर खेला गया था?

Options :

1. ✖ चेन्नई
2. ✖ मुंबई
3. ✖ कोलकाता
4. ✔ हैदराबाद

Question Number : 60 Question Id : 5861802482 Question Type : MCQ Option Shuffling : Yes

Correct Marks : 1 Wrong Marks : 0.25

In which year did the Tennis icon Leander Paes make his debut in Davis Cup?

Options :

- 1. ✖ 1985
- 2. ✔ 1990
- 3. ✖ 1993
- 4. ✖ 1995

Question Number : 60 Question Id : 5861802482 Question Type : MCQ Option Shuffling : Yes  
Correct Marks : 1 Wrong Marks : 0.25

टेनिस आइकन लिण्डर पेस ने इनमें से किस वर्ष डेविस कप में पदार्पण किया?

Options :

- 1. ✖ 1985
- 2. ✔ 1990
- 3. ✖ 1993
- 4. ✖ 1995



General Awareness2

Group Number :	4
Group Id :	586180115
Group Maximum Duration :	0
Group Minimum Duration :	0
Show Attended Group? :	No
Edit Attended Group? :	No
Break time:	0
Group Marks:	20
Is this Group for Examiner?:	No
Revisit allowed for group Instructions? :	Yes
Maximum Instruction Time:	0
Minimum Instruction Time:	0

General Awareness2

Section Id :	586180119
Section Number :	1
Section type :	Online
Mandatory or Optional:	Mandatory
Number of Questions:	20
Number of Questions to be attempted:	20
Section Marks:	20

Sub-Section Number:	1
Sub-Section Id:	586180162
Question Shuffling Allowed :	Yes

Question Number : 61 Question Id : 5861802483 Question Type : MCQ Option Shuffling : Yes  
Correct Marks : 1 Wrong Marks : 0.25

“Appu” was the mascot of which of the following Asian Games?

Options :

- 1. ✖ 1986
- 2. ✖ 1990
- 3. ✔ 1982
- 4. ✖ 1994

Question Number : 61 Question Id : 5861802483 Question Type : MCQ Option Shuffling : Yes  
Correct Marks : 1 Wrong Marks : 0.25

"अप्पू" निम्नलिखित में से किस एशियाई खेल का शुभंकर था?

Options :

- 1. ✖ 1986
- 2. ✖ 1990
- 3. ✔ 1982
- 4. ✖ 1994

Question Number : 62 Question Id : 5861802484 Question Type : MCQ Option Shuffling : Yes  
Correct Marks : 1 Wrong Marks : 0.25

Which country tops the list of having maximum number of UNESCO world heritage sites?

Options :

1. ✖ Spain
2. ✖ France
3. ✔ Italy
4. ✖ India

Question Number : 62 Question Id : 5861802484 Question Type : MCQ Option Shuffling : Yes  
Correct Marks : 1 Wrong Marks : 0.25

यूनेस्को की विश्व धरोहर स्थलों की अधिकतम संख्या वाले देशों में कौन सा देश शीर्ष पर है?

Options :

1. ✖ स्पेन
2. ✖ फ्रांस
3. ✔ इटली
4. ✖ भारत

Question Number : 63 Question Id : 5861802485 Question Type : MCQ Option Shuffling : Yes  
Correct Marks : 1 Wrong Marks : 0.25

In which city is the famous Dakshinaarka temple located?

Options :

1. ✖ Unao
2. ✔ Gaya
3. ✖ Modhera
4. ✖ Konark

Question Number : 63 Question Id : 5861802485 Question Type : MCQ Option Shuffling : Yes  
Correct Marks : 1 Wrong Marks : 0.25

प्रसिद्ध दक्षिणार्क मंदिर निम्नलिखित में से किस शहर में स्थित है?

Options :

1. ✖ उनाव
2. ✔ गया

3. ✖ मोटेरा

4. ✖ कोणार्क

Question Number : 64 Question Id : 5861802486 Question Type : MCQ Option Shuffling : Yes

Correct Marks : 1 Wrong Marks : 0.25

Who was the director of the first soap-opera of Indian television on Doordarshan titled “Hum Log”?

Options :

1. ✖ Shankar Nag

2. ✖ Kundan Shah

3. ✖ Ravi Chopra

4. ✔ Kumar Vasudev

Question Number : 64 Question Id : 5861802486 Question Type : MCQ Option Shuffling : Yes

Correct Marks : 1 Wrong Marks : 0.25

भारतीय टेलीविजन, दूरदर्शन पर "हम लोग" नामक पहले सोप-ओपेरा के निर्देशक कौन थे?

Options :

1. ✖ शंकर नाग

2. ✖ कुंदन शाह

3. ✖ रवि चोपड़ा

4. ✔ कुमार वासुदेव

Question Number : 65 Question Id : 5861802487 Question Type : MCQ Option Shuffling : Yes

Correct Marks : 1 Wrong Marks : 0.25

Which is the broadest layer of the atmosphere, with a temperature that can reach thousands of degrees celsius?

Options :

1. ✖ Troposphere

2. ✔ Thermosphere

3. ✖ Stratosphere

## 4. ✖ Mesosphere

Question Number : 65 Question Id : 5861802487 Question Type : MCQ Option Shuffling : Yes

Correct Marks : 1 Wrong Marks : 0.25

निम्नलिखित में से वायुमंडल की सबसे चौड़ी परत कौन सी है जिसका तापमान हजारों डिग्री सेल्सियस तक पहुँच सकता है?

Options :

1. ✖ ट्रोपोस्फीयर
2. ✔ थर्मोस्फीयर
3. ✖ स्ट्रेटोस्फीयर
4. ✖ मेसोस्फीयर

Question Number : 66 Question Id : 5861802488 Question Type : MCQ Option Shuffling : Yes

Correct Marks : 1 Wrong Marks : 0.25

The term Khatri is used for which of the following seasons in Tamil Nadu?

Options :

1. ✔ Summer
2. ✖ Winter
3. ✖ Spring
4. ✖ Autumn

Question Number : 66 Question Id : 5861802488 Question Type : MCQ Option Shuffling : Yes

Correct Marks : 1 Wrong Marks : 0.25

तमिलनाडु में खत्री शब्द का प्रयोग निम्नलिखित किस मौसम के लिए किया जाता है?

Options :

1. ✔ गर्मी
2. ✖ सर्दी
3. ✖ वसंत



#### 4. ✖ पतझड़

Question Number : 67 Question Id : 5861802489 Question Type : MCQ Option Shuffling : Yes  
Correct Marks : 1 Wrong Marks : 0.25

Which of the below biomes is closest to the polar region?

Options :

1. ✖ Tropical rain forest
2. ✖ Temperate deciduous forests
3. ✖ Grasslands
4. ✔ Tundra

Question Number : 67 Question Id : 5861802489 Question Type : MCQ Option Shuffling : Yes  
Correct Marks : 1 Wrong Marks : 0.25

नीचे दिए गए बायोम में से कौन ध्रुवीय क्षेत्र के सबसे नजदीक है?

Options :

1. ✖ उष्णकटिबंधीय वर्षावन
2. ✖ शीतोष्ण पर्णपाती वन
3. ✖ घास के मैदान
4. ✔ टुंड्रा

Question Number : 68 Question Id : 5861802490 Question Type : MCQ Option Shuffling : Yes  
Correct Marks : 1 Wrong Marks : 0.25

In economics, what is the full form of SWP?

Options :

1. ✖ Simple Withdrawal Plan
2. ✔ Systematic Withdrawal Plan
3. ✖ Simple Wellness Plan
4. ✖ Systematic Wealth Plan

Question Number : 68 Question Id : 5861802490 Question Type : MCQ Option Shuffling : Yes  
Correct Marks : 1 Wrong Marks : 0.25

अर्थशास्त्र में, SWP का पूर्ण रूप क्या है?

Options :

1. ✖ सिंपल विथड्रॉवल प्लान
2. ✔ सिस्टेमेटिक विथड्रॉवल प्लान
3. ✖ सिंपल वेलनेस प्लान
4. ✖ सिस्टेमेटिक वेल्थ प्लान

Question Number : 69 Question Id : 5861802491 Question Type : MCQ Option Shuffling : Yes  
Correct Marks : 1 Wrong Marks : 0.25

As on May 2019, what is the annual income above which 30% income tax is applicable?

Options :

1. ✖ 15 lakh
2. ✖ 2 lakh
3. ✖ 5 lakh
4. ✔ 10 lakh

Question Number : 69 Question Id : 5861802491 Question Type : MCQ Option Shuffling : Yes  
Correct Marks : 1 Wrong Marks : 0.25

मई 2019 तक, कितनी वार्षिक आय पर 30% आयकर लागू किया गया है?

Options :

1. ✖ 15 लाख
2. ✖ 2 लाख
3. ✖ 5 लाख
4. ✔ 10 लाख

Question Number : 70 Question Id : 5861802492 Question Type : MCQ Option Shuffling : Yes  
Correct Marks : 1 Wrong Marks : 0.25

Section 80G of the Income Tax Act is associated with which of the following?

Options :

1. ✖ Home loan
2. ✔ Donations made towards charity
3. ✖ Equity saving scheme
4. ✖ Medical insurance premium

Question Number : 70 Question Id : 5861802492 Question Type : MCQ Option Shuffling : Yes

Correct Marks : 1 Wrong Marks : 0.25

आयकर अधिनियम की धारा 80जी निम्नलिखित में से किसके साथ जुड़ी है?

Options :

1. ✖ होम लोन
2. ✔ दान के प्रति किया गया दान
3. ✖ इक्विटी सेविंग स्कीम
4. ✖ चिकित्सा बीमा प्रीमियम

Question Number : 71 Question Id : 5861802493 Question Type : MCQ Option Shuffling : Yes

Correct Marks : 1 Wrong Marks : 0.25

“Cochlea” belongs to which part of the human body?

Options :

1. ✔ Ear
2. ✖ Heart
3. ✖ Lungs
4. ✖ Liver

Question Number : 71 Question Id : 5861802493 Question Type : MCQ Option Shuffling : Yes

Correct Marks : 1 Wrong Marks : 0.25

"कोक्लीअ" मानव शरीर के किस भाग से संबंधित है?

Options :

1. ✔ कान
2. ✖ हृदय

3. ✖ फेफड़े

4. ✖ यकृत या जिगर (लीवर)

Question Number : 72 Question Id : 5861802494 Question Type : MCQ Option Shuffling : Yes  
Correct Marks : 1 Wrong Marks : 0.25

What is the common name of calcium oxychloride?

Options :

1. ✖ Common salt

2. ✔ Bleaching powder

3. ✖ Baking soda

4. ✖ Plaster of paris

Question Number : 72 Question Id : 5861802494 Question Type : MCQ Option Shuffling : Yes  
Correct Marks : 1 Wrong Marks : 0.25

कैल्शियम ऑक्सीक्लोराइड का सामान्य नाम क्या है?

Options :

1. ✖ साधारण नमक

2. ✔ ब्लीचिंग पाउडर

3. ✖ बेकिंग सोडा

4. ✖ प्लास्टर ऑफ पेरिस

Question Number : 73 Question Id : 5861802495 Question Type : MCQ Option Shuffling : Yes  
Correct Marks : 1 Wrong Marks : 0.25

Which are tiny, thin-walled, inflatable sacs in the lungs where oxygen and carbon dioxide are exchanged?

Options :

1. ✔ Alveoli

2. ✖ Trachea

3. ✖ Bronchioles

4. ✖ Auricle

Question Number : 73 Question Id : 5861802495 Question Type : MCQ Option Shuffling : Yes  
Correct Marks : 1 Wrong Marks : 0.25

फेफड़े में वह कौन सी छोटी, पतली दीवार वाली, वायु नाल थैलियां होती हैं, जहां ऑक्सीजन और कार्बन डाइऑक्साइड का आदान-प्रदान होता है?

Options :

1. ✓ एल्वियोली
2. ✗ ट्रेकिआ
3. ✗ ब्रांकिओल्स
4. ✗ ऑरिकल

Question Number : 74 Question Id : 5861802496 Question Type : MCQ Option Shuffling : Yes  
Correct Marks : 1 Wrong Marks : 0.25

Which physics phenomenon is applicable when 'one's body moves to the side when a car makes a sharp turn'?

Options :

1. ✓ Inertia
2. ✗ Doppler effect
3. ✗ Archimedes' principle
4. ✗ Charles' law

Question Number : 74 Question Id : 5861802496 Question Type : MCQ Option Shuffling : Yes  
Correct Marks : 1 Wrong Marks : 0.25

जब कोई कार तेज गति से किसी मोड़ पर घूमती है, तो व्यक्ति का शरीर उस ओर झुक जाता है। यहाँ निम्नलिखित में से कौन सी भौतिकी घटना लागू होती है?

Options :

1. ✓ जड़ता
2. ✗ डॉपलर प्रभाव
3. ✗ आर्किमिडीज का सिद्धांत

## 4. ✖ चार्ल्स का सिद्धांत

Question Number : 75 Question Id : 5861802497 Question Type : MCQ Option Shuffling : Yes  
Correct Marks : 1 Wrong Marks : 0.25

In which year was the first Nobel Prize awarded?

Options :

1. ✖ 1895

2. ✖ 1900

3. ✔ 1901

4. ✖ 1905

Question Number : 75 Question Id : 5861802497 Question Type : MCQ Option Shuffling : Yes  
Correct Marks : 1 Wrong Marks : 0.25

प्रथम नोबेल पुरस्कार किस वर्ष प्रदान किया गया था?

Options :

1. ✖ 1895

2. ✖ 1900

3. ✔ 1901

4. ✖ 1905

Question Number : 76 Question Id : 5861802498 Question Type : MCQ Option Shuffling : Yes  
Correct Marks : 1 Wrong Marks : 0.25

What is the name of the first private rocket launched by Japan to reach space?

Options :

1. ✔ Momo-3

2. ✖ Momo-1

3. ✖ Jojo-1

4. ✖ Jojo-3

Question Number : 76 Question Id : 5861802498 Question Type : MCQ Option Shuffling : Yes  
Correct Marks : 1 Wrong Marks : 0.25



अंतरिक्ष में पहुंचने के लिए जापान द्वारा शुरू किए गए पहले निजी रॉकेट का नाम क्या है?

Options :

1. ✓ मोमो-3
2. ✗ मोमो-1
3. ✗ जोजो-1
4. ✗ जोजो-3

Question Number : 77 Question Id : 5861802499 Question Type : MCQ Option Shuffling : Yes  
Correct Marks : 1 Wrong Marks : 0.25

In which state is the Kudankulam Nuclear Power Plant situated?

Options :

1. ✗ Kerala
2. ✗ Karnataka
3. ✓ Tamilnadu
4. ✗ Andhra Pradesh

Question Number : 77 Question Id : 5861802499 Question Type : MCQ Option Shuffling : Yes  
Correct Marks : 1 Wrong Marks : 0.25

कुंदनकुलम न्यूक्लियर पावर प्लांट निम्नलिखित में से किस राज्य में स्थित है?

Options :

1. ✗ केरल
2. ✗ कर्नाटक
3. ✓ तमिलनाडु
4. ✗ आंध्र प्रदेश

Question Number : 78 Question Id : 5861802500 Question Type : MCQ Option Shuffling : Yes  
Correct Marks : 1 Wrong Marks : 0.25

The first IIT was set up in 1950 in which of the following locations?

Options :

1. ✖ New Delhi
2. ✖ Mumbai
3. ✔ Kharagpur
4. ✖ Chennai

Question Number : 78 Question Id : 5861802500 Question Type : MCQ Option Shuffling : Yes  
Correct Marks : 1 Wrong Marks : 0.25

वर्ष 1950 में पहला IIT सेटअप निम्नलिखित में से किस स्थान पर किया गया था?

Options :

1. ✖ नई दिल्ली
2. ✖ मुंबई
3. ✔ खड़गपुर
4. ✖ चेन्नई

Question Number : 79 Question Id : 5861802501 Question Type : MCQ Option Shuffling : Yes  
Correct Marks : 1 Wrong Marks : 0.25

Who among the following was the first full-time Director of IIM Ahmedabad?

Options :

1. ✖ Kasturbhai Lalbhai
2. ✖ Ashish Nanda
3. ✔ Ravi J. Matthai
4. ✖ Vikram Sarabhai

Question Number : 79 Question Id : 5861802501 Question Type : MCQ Option Shuffling : Yes  
Correct Marks : 1 Wrong Marks : 0.25

IIM अहमदाबाद के पहले पूर्णकालिक निदेशक निम्नलिखित में से कौन थे?

Options :

1. ✖ कस्तूरभाई लालभाई
2. ✖ आशीष नंदा
3. ✔ रवि जे मथाई
4. ✖ विक्रम साराभाई

Question Number : 80 Question Id : 5861802502 Question Type : MCQ Option Shuffling : Yes  
Correct Marks : 1 Wrong Marks : 0.25

In which year was Sir Dorabji Tata Graduate School of Social Work established? It later changed its name to The Tata Institute of Social Sciences (TISS).

Options :

1. ✖ 1932
2. ✖ 1950
3. ✖ 1960
4. ✔ 1936

Question Number : 80 Question Id : 5861802502 Question Type : MCQ Option Shuffling : Yes  
Correct Marks : 1 Wrong Marks : 0.25

सर दोराबजी टाटा ग्रेजुएट स्कूल ऑफ सोशल वर्क किस वर्ष में स्थापित किया गया था? बाद में इसका नाम बदलकर द टाटा इंस्टीट्यूट ऑफ सोशल साइंसेज (TISS) कर दिया गया।

Options :

1. ✖ 1932
2. ✖ 1950
3. ✖ 1960

4. ✓ 1936

Arithmetic Ability1

Group Number :	5
Group Id :	586180116
Group Maximum Duration :	0
Group Minimum Duration :	0
Show Attended Group? :	No
Edit Attended Group? :	No
Break time:	0
Group Marks:	20
Is this Group for Examiner?:	No
Revisit allowed for group Instructions? :	Yes
Maximum Instruction Time:	0
Minimum Instruction Time:	0

Arithmetic Ability1

Section Id :	586180120
Section Number :	1
Section type :	Online
Mandatory or Optional:	Mandatory
Number of Questions:	20
Number of Questions to be attempted:	20
Section Marks:	20

Sub-Section Number:	1
Sub-Section Id:	586180163
Question Shuffling Allowed :	Yes

Question Number : 81 Question Id : 5861802503 Question Type : MCQ Option Shuffling : Yes  
Correct Marks : 1 Wrong Marks : 0.25

Evaluate:

3480 ÷ 12 ÷ 5

Options :

1. ✓ 58

2. ✗ 29

3. ✖ 19

4. ✖ 17

Question Number : 81 Question Id : 5861802503 Question Type : MCQ Option Shuffling : Yes  
Correct Marks : 1 Wrong Marks : 0.25

हल करें:

$$3480 \div 12 \div 5$$

Options :

1. ✔ 58

2. ✖ 29

3. ✖ 19

4. ✖ 17

Question Number : 82 Question Id : 5861802504 Question Type : MCQ Option Shuffling : Yes  
Correct Marks : 1 Wrong Marks : 0.25

A container of oil was  $\frac{2}{5}$  full. When 7 bottles of oil were taken out and four bottles of oil were poured into it, it was  $\frac{1}{3}$  full. How many bottles of oil can the container retain?

Options :

1. ✖ 40

2. ✖ 42

3. ✔ 45

4. ✖ 48

Question Number : 82 Question Id : 5861802504 Question Type : MCQ Option Shuffling : Yes

Correct Marks : 1 Wrong Marks : 0.25

तेल का एक पात्र  $\frac{2}{5}$  भरा हुआ था। जब उसमें से 7 बोतल तेल निकाला गया और 4 बोतल तेल उसमें डाला गया, तो वो  $\frac{1}{3}$  भरा हुआ था। पात्र में कितने बोतल तेल आ सकता है?

Options :

1. ✖ 40

2. ✖ 42

3. ✔ 45

4. ✖ 48

Question Number : 83 Question Id : 5861802505 Question Type : MCQ Option Shuffling : Yes

Correct Marks : 1 Wrong Marks : 0.25

$\frac{4}{15}$  of  $\frac{5}{7}$  of a number is greater than  $\frac{4}{9}$  of  $\frac{2}{5}$  of the same number by 12. What is one third of that number?

Options :

1. ✔ 315

2. ✖ 630

3. ✖ 720

4. ✖ 945



Question Number : 83 Question Id : 5861802505 Question Type : MCQ Option Shuffling : Yes

Correct Marks : 1 Wrong Marks : 0.25

एक संख्या के  $\frac{5}{7}$  का  $\frac{4}{15}$  उसी संख्या के  $\frac{2}{5}$  का  $\frac{4}{9}$  12 अधिक है। संख्या का एक-तिहाई पता करें।

Options :

1. ✓ 315

2. ✗ 630

3. ✗ 720

4. ✗ 945

Question Number : 84 Question Id : 5861802506 Question Type : MCQ Option Shuffling : Yes

Correct Marks : 1 Wrong Marks : 0.25

Evaluate:

$$\left(1 - \frac{1}{3}\right) \left(1 - \frac{1}{4}\right) \left(1 - \frac{1}{5}\right) \dots \dots \left(1 - \frac{1}{36}\right)$$

Options :

1. ✗  $\frac{1}{2}$

2. ✗  $\frac{1}{8}$

3. ✗  $\frac{1}{16}$

4. ✓  $\frac{1}{18}$

Question Number : 84 Question Id : 5861802506 Question Type : MCQ Option Shuffling : Yes

Correct Marks : 1 Wrong Marks : 0.25

हल करें:

$$\left(1 - \frac{1}{3}\right)\left(1 - \frac{1}{4}\right)\left(1 - \frac{1}{5}\right) \dots \dots \left(1 - \frac{1}{36}\right)$$

Options :

1. ✖  $\frac{1}{2}$

2. ✖  $\frac{1}{8}$

3. ✖  $\frac{1}{16}$

4. ✔  $\frac{1}{18}$

Question Number : 85 Question Id : 5861802507 Question Type : MCQ Option Shuffling : Yes

Correct Marks : 1 Wrong Marks : 0.25

Evaluate:

$$0.215 \div 0.00215$$

Options :

1. ✖ 1

2. ✖ 10

3. ✔ 100

4. ✖ 1000

Question Number : 85 Question Id : 5861802507 Question Type : MCQ Option Shuffling : Yes  
Correct Marks : 1 Wrong Marks : 0.25

हल करें:

$$0.215 \div 0.00215$$

Options :

1. ✖ 1

2. ✖ 10

3. ✔ 100

4. ✖ 1000

Question Number : 86 Question Id : 5861802508 Question Type : MCQ Option Shuffling : Yes  
Correct Marks : 1 Wrong Marks : 0.25

If  $\frac{347.297}{0.0042} = x$  then the value of  $\frac{347297}{42}$  is:

Options :

1. ✔  $\frac{x}{10}$

2. ✖  $\frac{x}{100}$

3. ✖  $10x$

4. ✖  $100x$

Question Number : 86 Question Id : 5861802508 Question Type : MCQ Option Shuffling : Yes  
Correct Marks : 1 Wrong Marks : 0.25

यदि  $\frac{347.297}{0.0042} = x$  है, तो  $\frac{347297}{42}$  का मान पता करें

Options :

1. ✓  $\frac{x}{10}$

2. ✗  $\frac{x}{100}$

3. ✗  $10x$

4. ✗  $100x$

Question Number : 87 Question Id : 5861802509 Question Type : MCQ Option Shuffling : Yes

Correct Marks : 1 Wrong Marks : 0.25

If  $2.375 \times 10^k = 0.002375$  then the value of  $k$  is:

Options :

1. ✗ -4

2. ✓ -3

3. ✗ -2

4. ✗ -1

Question Number : 87 Question Id : 5861802509 Question Type : MCQ Option Shuffling : Yes

Correct Marks : 1 Wrong Marks : 0.25

यदि  $2.375 \times 10^k = 0.002375$  है, तो  $k$  का मान पता करें।

Options :

1. ✖ -4

2. ✔ -3

3. ✖ -2

4. ✖ -1

Question Number : 88 Question Id : 5861802510 Question Type : MCQ Option Shuffling : Yes  
Correct Marks : 1 Wrong Marks : 0.25

If  $1.5x = 0.02y$ , then the value of  $\left(\frac{y+x}{y-x}\right)$  is:

Options :

1. ✖  $\frac{37}{38}$

2. ✖  $\frac{36}{37}$

3. ✖  $\frac{37}{39}$

4. ✔  $\frac{38}{37}$

Question Number : 88 Question Id : 5861802510 Question Type : MCQ Option Shuffling : Yes  
Correct Marks : 1 Wrong Marks : 0.25

यदि  $1.5x = 0.02y$  है, तो  $\left(\frac{y+x}{y-x}\right)$  का मान पता करें।

Options :

1. ✖  $\frac{37}{38}$

2. ✖  $\frac{36}{37}$

3. ✖  $\frac{37}{39}$

4. ✔  $\frac{38}{37}$

Question Number : 89 Question Id : 5861802511 Question Type : MCQ Option Shuffling : Yes

Correct Marks : 1 Wrong Marks : 0.25

The fraction equivalent of  $\frac{4}{9}\%$  is:

Options :

1. ✔  $\frac{1}{225}$

2. ✖  $\frac{1}{175}$

3. ✖  $\frac{1}{45}$

4. ✖  $\frac{1}{120}$

Question Number : 89 Question Id : 5861802511 Question Type : MCQ Option Shuffling : Yes

Correct Marks : 1 Wrong Marks : 0.25

$\frac{4}{9}\%$  का भिन्न समतुल्य पता करें।

Options :



1. ✓  $\frac{1}{225}$

2. ✗  $\frac{1}{175}$

3. ✗  $\frac{1}{45}$

4. ✗  $\frac{1}{120}$

Question Number : 90 Question Id : 5861802512 Question Type : MCQ Option Shuffling : Yes

Correct Marks : 1 Wrong Marks : 0.25

2.  $\overline{.63}$  in the form of  $\frac{p}{q}$  is equal to:

Options :

1. ✗  $\frac{45}{33}$

2. ✓  $\frac{87}{33}$

3. ✗  $\frac{67}{33}$

4. ✗  $\frac{68}{33}$

Question Number : 90 Question Id : 5861802512 Question Type : MCQ Option Shuffling : Yes

Correct Marks : 1 Wrong Marks : 0.25

2.  $\overline{.63}$  का  $\frac{p}{q}$  के रूप में समतुल्य पता करें।

Options :

1. ✖  $\frac{45}{33}$

2. ✔  $\frac{87}{33}$

3. ✖  $\frac{67}{33}$

4. ✖  $\frac{68}{33}$

Question Number : 91 Question Id : 5861802513 Question Type : MCQ Option Shuffling : Yes

Correct Marks : 1 Wrong Marks : 0.25

The highest common factor of 36 and 54 is:

Options :

1. ✖ 6

2. ✖ 12

3. ✔ 18

4. ✖ 24

Question Number : 91 Question Id : 5861802513 Question Type : MCQ Option Shuffling : Yes

Correct Marks : 1 Wrong Marks : 0.25

36 और 54 का महत्तम समापवर्तक पता करें।

Options :

1. ✖ 6

2. ✖ 12

3. ✔ 18

4. ✖ 24

Question Number : 92 Question Id : 5861802514 Question Type : MCQ Option Shuffling : Yes

Correct Marks : 1 Wrong Marks : 0.25

The product of two numbers is 5887. If the HCF of these numbers is 29, then the greater number is:

Options :

1. ✔ 203

2. ✖ 205

3. ✖ 207

4. ✖ 209

Question Number : 92 Question Id : 5861802514 Question Type : MCQ Option Shuffling : Yes

Correct Marks : 1 Wrong Marks : 0.25

दो संख्याओं का गुणनफल 5887 है। यदि इन संख्याओं का महत्तम समापवर्तक 29 है, तो बड़ी संख्या पता करें।

Options :

1. ✔ 203

2. ✖ 205

3. ✖ 207

4. ✖ 209

Question Number : 93 Question Id : 5861802515 Question Type : MCQ Option Shuffling : Yes

Correct Marks : 1 Wrong Marks : 0.25

The LCM of two numbers is 495 and their HCF is 5. If the sum of the numbers is 100, then the difference between them is:

Options :

1. ✖ 5

2. ✖ 8

3. ✔ 10

4. ✖ 12

Question Number : 93 Question Id : 5861802515 Question Type : MCQ Option Shuffling : Yes

Correct Marks : 1 Wrong Marks : 0.25

दो संख्याओं का लघुत्तम समापवर्तक 495 है और उनका महत्तम समापवर्तक 5 है। यदि संख्याओं का योग 100 है, तो उनके बीच का अंतर पता करें।

Options :

1. ✖ 5

2. ✖ 8

3. ✓ 10

4. ✗ 12

Question Number : 94 Question Id : 5861802516 Question Type : MCQ Option Shuffling : Yes

Correct Marks : 1 Wrong Marks : 0.25

If  $a : b : c = 2 : 3 : 5$  and  $2a + 3b - 2c = 3$ , then the value of  $c$  is:

Options :

1. ✗ 1

2. ✗ 2

3. ✗ 3

4. ✓ 5

Question Number : 94 Question Id : 5861802516 Question Type : MCQ Option Shuffling : Yes

Correct Marks : 1 Wrong Marks : 0.25

यदि  $a : b : c = 2 : 3 : 5$  और  $2a + 3b - 2c = 3$  है, तो  $c$  का मान पता करें।

Options :

1. ✗ 1

2. ✗ 2

3. ✗ 3

4. ✓ 5

Question Number : 95 Question Id : 5861802517 Question Type : MCQ Option Shuffling : Yes

Correct Marks : 1 Wrong Marks : 0.25

If  $a : b : c = 2 : 3 : 7$  and  $a = x\%$  of  $(b + c)$ , then  $x$  is equal to:

Options :

1. ✗ 30

2. ✓ 20

3. ✗ 10

4. ✗ 5

Question Number : 95 Question Id : 5861802517 Question Type : MCQ Option Shuffling : Yes

Correct Marks : 1 Wrong Marks : 0.25

यदि  $a : b : c = 2 : 3 : 7$  और  $a = x\%$  का  $(b + c)$  है, तो  $x$  का मान पता करें।

Options :

1. ✗ 30

2. ✓ 20

3. ✗ 10

4. ✗ 5

Question Number : 96 Question Id : 5861802518 Question Type : MCQ Option Shuffling : Yes

Correct Marks : 1 Wrong Marks : 0.25

30% apples out of 240 are rotten. How many apples are in good condition?

Options :

1. ✓ 168

2. ✗ 154

3. ✗ 152

4. ✗ 148

Question Number : 96 Question Id : 5861802518 Question Type : MCQ Option Shuffling : Yes

Correct Marks : 1 Wrong Marks : 0.25

240 सेबों में से 30% सड़े हुए हैं। कितने सेब ठीक हैं?

Options :

1. ✓ 168

2. ✗ 154

3. ✗ 152

4. ✗ 148

Question Number : 97 Question Id : 5861802519 Question Type : MCQ Option Shuffling : Yes

Correct Marks : 1 Wrong Marks : 0.25

A student multiplied a number by  $\frac{2}{3}$  instead of  $\frac{3}{2}$ . What is the percentage error in the calculation?

Options :



1. ✖  $\frac{200}{9}\%$

2. ✖  $\frac{100}{3}\%$

3. ✖  $\frac{400}{9}\%$

4. ✔  $\frac{500}{9}\%$

Question Number : 97 Question Id : 5861802519 Question Type : MCQ Option Shuffling : Yes

Correct Marks : 1 Wrong Marks : 0.25

एक छात्र ने किसी संख्या को  $\frac{3}{2}$  से गुणा करने की बजाए उसे  $\frac{2}{3}$  गुणा कर दिया। इस गणना में त्रुटी प्रतिशत पता करें।

Options :

1. ✖  $\frac{200}{9}\%$

2. ✖  $\frac{100}{3}\%$

3. ✖  $\frac{400}{9}\%$

4. ✔  $\frac{500}{9}\%$

Question Number : 98 Question Id : 5861802520 Question Type : MCQ Option Shuffling : Yes

Correct Marks : 1 Wrong Marks : 0.25

The price of rice is reduced by 4%. How many kilograms of rice can now be bought for the money that was sufficient to buy 48 kg of rice earlier?

Options :

1. ✓ 50 kg

2. ✗ 52 kg

3. ✗ 54 kg

4. ✗ 56 kg

Question Number : 98 Question Id : 5861802520 Question Type : MCQ Option Shuffling : Yes

Correct Marks : 1 Wrong Marks : 0.25

चावल की कीमत में 4% कमी की जाती है। कमी से पहले 48 kg चावल खरीदने के लिए पर्याप्त पैसों से अब कितने किलोग्राम चावल खरीदे जा सकते हैं?

Options :

1. ✓ 50 kg

2. ✗ 52 kg

3. ✗ 54 kg

4. ✗ 56 kg

Question Number : 99 Question Id : 5861802521 Question Type : MCQ Option Shuffling : Yes

Correct Marks : 1 Wrong Marks : 0.25

The average of 4 positive integers is 69. The highest integer is 75 and the lowest integer is 62. The difference between the remaining two integers is 3. Which of the following integers is smaller of the remaining two integers?

Options :

1. ✓ 68

2. ✖ 69

3. ✖ 70

4. ✖ 71

Question Number : 99 Question Id : 5861802521 Question Type : MCQ Option Shuffling : Yes

Correct Marks : 1 Wrong Marks : 0.25

4 धनात्मक पूर्णाकों का औसत 69 है। सबसे बड़ा पूर्णांक 75 है और सबसे छोटा पूर्णांक 62 है। बाकी बचे दो पूर्णाकों के बीच का अंतर 3 है। इनमें से कौन सा पूर्णांक बाकी बचे दो पूर्णाकों से छोटा है?

Options :

1. ✔ 68

2. ✖ 69

3. ✖ 70

4. ✖ 71

Question Number : 100 Question Id : 5861802522 Question Type : MCQ Option Shuffling : Yes

Correct Marks : 1 Wrong Marks : 0.25

Out of 8 persons, 6 persons spent ₹ 52 each for their meals. Remaining two persons each spent ₹ 15 more than the average expenditure of all the eight. The total money spent by all of them was:

Options :

1. ✖ ₹ 450

2. ✖ ₹ 452

3. ✖ ₹ 454

4. ✔ ₹ 456

Question Number : 100 Question Id : 5861802522 Question Type : MCQ Option Shuffling : Yes  
Correct Marks : 1 Wrong Marks : 0.25

8 व्यक्तियों में से, 6 व्यक्तियों में से हर एक अपने खाने पर रुपये 52 खर्च करता है। बाकी बचे दो व्यक्तियों में से हर एक आठों के औसत से रुपये 15 अधिक खर्च करता है। उन सबने कुल कितने पैसे खर्च किए?

Options :

1. ✖ रुपये 450

2. ✖ रुपये 452

3. ✖ रुपये 454

4. ✔ रुपये 456



Arithmetic Ability2

Group Number :	6
Group Id :	586180117
Group Maximum Duration :	0
Group Minimum Duration :	0
Show Attended Group? :	No
Edit Attended Group? :	No
Break time:	0
Group Marks:	20
Is this Group for Examiner?:	No
Revisit allowed for group Instructions? :	Yes
Maximum Instruction Time:	0
Minimum Instruction Time:	0

## Arithmetic Ability2

Section Id :	586180121
Section Number :	1
Section type :	Online
Mandatory or Optional:	Mandatory
Number of Questions:	20
Number of Questions to be attempted:	20
Section Marks:	20

Sub-Section Number:	1
Sub-Section Id:	586180164
Question Shuffling Allowed :	Yes

Question Number : 101 Question Id : 5861802523 Question Type : MCQ Option Shuffling : Yes  
Correct Marks : 1 Wrong Marks : 0.25

Arvind purchased a television for ₹ 15000 and sold it for ₹ 17250. What was the profit percentage?

Options :

1. ✓ 15%

2. ✗ 18%

3. ✗ 20%

4. ✗ 22%



Question Number : 101 Question Id : 5861802523 Question Type : MCQ Option Shuffling : Yes  
Correct Marks : 1 Wrong Marks : 0.25

अरविन्द ने रुपये 15000 में एक टेलीविज़न खरीदकर उसे रुपये 17250 में बेच दिया। लाभ प्रतिशत पता करें?

Options :

1. ✓ 15%

2. ✗ 18%

3. ✖ 20%

4. ✖ 22%

Question Number : 102 Question Id : 5861802524 Question Type : MCQ Option Shuffling : Yes

Correct Marks : 1 Wrong Marks : 0.25

A trader marked the price of his commodity so as to include a profit of 25%. He allowed discount of 15% on the marked price. His actual profit percentage was:

Options :

1. ✖ 5.5%

2. ✔ 6.25%

3. ✖ 6.5%

4. ✖ 7%

Question Number : 102 Question Id : 5861802524 Question Type : MCQ Option Shuffling : Yes

Correct Marks : 1 Wrong Marks : 0.25

एक व्यापारी ने अपने सामान के अंकित मूल्य में अपना 25% लाभ भी शामिल कर लिया। उसने अंकित मूल्य पर 15% छूट दे दी। उसका मूल लाभ प्रतिशत पता करें।

Options :

1. ✖ 5.5%

2. ✔ 6.25%

3. ✖ 6.5%

4. ✖ 7%

Question Number : 103 Question Id : 5861802525 Question Type : MCQ Option Shuffling : Yes

Correct Marks : 1 Wrong Marks : 0.25

Mathew bought a scooter for a certain sum of money. He spent 10% of the cost on repairs and sold the scooter for a profit of ₹ 1100. How much did he spend on repairs if he made a profit of 20%?

Options :

1. ✖ ₹ 400

2. ✖ ₹ 450

3. ✔ ₹ 500

4. ✖ ₹ 550

Question Number : 103 Question Id : 5861802525 Question Type : MCQ Option Shuffling : Yes

Correct Marks : 1 Wrong Marks : 0.25

मैथ्यू ने एक निश्चित राशि में एक स्कूटर खरीदा। उसने 10% उसकी मरम्मत पर खर्च करके उसे रुपये 1100 के मुनाफे के साथ बेच दिया। अगर उसे 20% लाभ हुआ है, तो उसने मरम्मत पर कितना खर्च किया?

Options :

1. ✖ रुपये 400

2. ✖ रुपये 450

3. ✔ रुपये 500

4. ✖ रुपये 550



Question Number : 104 Question Id : 5861802526 Question Type : MCQ Option Shuffling : Yes

Correct Marks : 1 Wrong Marks : 0.25

Anil purchased a motorcycle whose marked price is ₹ 120000 at a discount of 12%. If sales tax of 10% is added on the bill, then find the selling price of the motorcycle:

Options :

1. ✖ ₹ 1,26,160

2. ✖ ₹ 1,16,000

3. ✔ ₹ 1,16,160

4. ✖ ₹ 1,18,180

Question Number : 104 Question Id : 5861802526 Question Type : MCQ Option Shuffling : Yes

Correct Marks : 1 Wrong Marks : 0.25

अनिल ने 12% छूट के साथ एक मोटरसाइकिल खरीदी, जिसका अंकित मूल्य रुपये 120000 था। यदि बिल में 10% विक्रय कर जोड़ दिया जाता है, तो मोटरसाइकिल का विक्रय मूल्य पता करें।

Options :

1. ✖ रुपये 1,26,160

2. ✖ रुपये 1,16,000

3. ✔ रुपये 1,16,160

4. ✖ रुपये 1,18,180

Question Number : 105 Question Id : 5861802527 Question Type : MCQ Option Shuffling : Yes

Correct Marks : 1 Wrong Marks : 0.25

A shopkeeper gives a discount of 20% on the marked price of an article. But on a second thought, at this stage, he raises the price by 20% and marks it again. By how much percentage is the new marked price more or less than the previous one?

Options :

1. ✖ Nil
2. ✔ 4% less
3. ✖ 4% more
4. ✖ 5% more

Question Number : 105 Question Id : 5861802527 Question Type : MCQ Option Shuffling : Yes

Correct Marks : 1 Wrong Marks : 0.25

एक दुकानदार एक वस्तु के अंकित मूल्य पर 20% छूट देता है। लेकिन एक बार सोचते हुए उसने वस्तु की कीमत 20% बढ़ा दी और उसे फिर से अंकित कर दिया। नया अंकित मूल्य पिछले अंकित मूल्य से कितने प्रतिशत अधिक या कम है?

Options :

1. ✖ शून्य
2. ✔ 4% कम
3. ✖ 4% अधिक
4. ✖ 5% अधिक

Question Number : 106 Question Id : 5861802528 Question Type : MCQ Option Shuffling : Yes

Correct Marks : 1 Wrong Marks : 0.25

At the rate of 8% per annum simple interest, a sum of ₹ 5000 will earn how much interest in 2 years 6 months?

Options :

1. ✖ ₹ 1200

2. ✔ ₹ 1000

3. ✖ ₹ 900

4. ✖ ₹ 800

Question Number : 106 Question Id : 5861802528 Question Type : MCQ Option Shuffling : Yes

Correct Marks : 1 Wrong Marks : 0.25

8% वार्षिक ब्याज दर से रुपये 5000 पर 2 साल 6 महीने में कितना ब्याज मिलेगा?

Options :

1. ✖ रुपये 1200

2. ✔ रुपये 1000

3. ✖ रुपये 900

4. ✖ रुपये 800

Question Number : 107 Question Id : 5861802529 Question Type : MCQ Option Shuffling : Yes

Correct Marks : 1 Wrong Marks : 0.25

A sum of money at simple interest doubles in 7 years. It will become four times in:

Options :

1. ✖ 18 years

2. ✔ 21 years

3. ✖ 38 years

4. ✖ 42 years

Question Number : 107 Question Id : 5861802529 Question Type : MCQ Option Shuffling : Yes

Correct Marks : 1 Wrong Marks : 0.25

साधारण ब्याज पर एक निश्चित राशि 7 सालों में दोगुना हो जाती है। यह कितने सालों में 4 गुना हो जाएगी?

Options :

1. ✖ 18 सालों में

2. ✔ 21 सालों में

3. ✖ 38 सालों में

4. ✖ 42 सालों में

Question Number : 108 Question Id : 5861802530 Question Type : MCQ Option Shuffling : Yes

Correct Marks : 1 Wrong Marks : 0.25

A person invests money in three different schemes for 6 years, 10 years and 12 years at 10%, 12% and 15% simple interest respectively. At the completion of each scheme, he gets the same interest amount. The ratio of his investments is:

Options :

1. ✖ 2 : 3 : 6

2. ✖ 1 : 2 : 3

3. ✔ 6 : 3 : 2

4. ✖ 2 : 3 : 4

Question Number : 108 Question Id : 5861802530 Question Type : MCQ Option Shuffling : Yes

Correct Marks : 1 Wrong Marks : 0.25

एक व्यक्ति तीन अलग-अलग योजनाओं में क्रमशः रूप से 10%, 12% और 15% साधारण ब्याज पर 6 सालों, 10 सालों और 12 सालों के लिए पैसे निवेश करता है। हर योजना के समाप्त होने पर उसे एक समान ब्याज मिलता है। निवेश अनुपात पता करें।

Options :

1. ✖ 2 : 3 : 6

2. ✖ 1 : 2 : 3

3. ✔ 6 : 3 : 2

4. ✖ 2 : 3 : 4

Question Number : 109 Question Id : 5861802531 Question Type : MCQ Option Shuffling : Yes

Correct Marks : 1 Wrong Marks : 0.25

The difference between the compound and the simple interest on a sum for 2 years at 8% is ₹ 768. The sum is:

Options :

1. ✖ ₹ 100000

2. ✖ ₹ 110000

3. ✔ ₹ 120000

4. ✖ ₹ 170000

Question Number : 109 Question Id : 5861802531 Question Type : MCQ Option Shuffling : Yes

Correct Marks : 1 Wrong Marks : 0.25

2 सालों में 8% की दर से एक राशि पर मिश्रित और साधारण ब्याज में रुपये 768 अंतर है। राशि पता करें।

Options :

1. ✖ रुपये 100000

2. ✖ रुपये 110000

3. ✔ रुपये 120000

4. ✖ रुपये 170000

Question Number : 110 Question Id : 5861802532 Question Type : MCQ Option Shuffling : Yes

Correct Marks : 1 Wrong Marks : 0.25

A father left a will of ₹ 24600 for his two sons aged 17 and 18 years. They must get equal amounts when they are 20 years, at 5% compound interest. What is the present share of the younger son?

Options :

1. ✖ ₹ 13000

2. ✖ ₹ 12500

3. ✔ ₹ 12000

4. ✖ ₹ 11500

Question Number : 110 Question Id : 5861802532 Question Type : MCQ Option Shuffling : Yes

Correct Marks : 1 Wrong Marks : 0.25

एक पिता ने अपने 17 और 18 साल के बेटों के लिए ₹ 24600 की वसीयत छोड़ी है। 5% चक्रवृद्धि ब्याज पर 20 साल के होने पर उन्हें बराबर राशि मिलनी चाहिए। छोटे बेटे के हिस्से का प्रतिशत पता करें?

Options :



1. ✖ रुपये 13000

2. ✖ रुपये 12500

3. ✔ रुपये 12000

4. ✖ रुपये 11500

Question Number : 111 Question Id : 5861802533 Question Type : MCQ Option Shuffling : Yes

Correct Marks : 1 Wrong Marks : 0.25

The perimeter of a rectangular field is 360 metre and the ratio between the length and the breadth is 5 : 3. The area of the field is:

Options :

1. ✔ 7593.75 sq. m.

2. ✖ 8593.75 sq. m.

3. ✖ 7320 sq. m.

4. ✖ 9345.25 sq. m.

Question Number : 111 Question Id : 5861802533 Question Type : MCQ Option Shuffling : Yes

Correct Marks : 1 Wrong Marks : 0.25

एक आयताकार खेत का परिमाण 360 मीटर है और लंबाई और चौड़ाई का अनुपात 5:3 है। खेत का क्षेत्रफल पता करें।

Options :

1. ✔ 7593.75 sq. m.



2. ✖ 8593.75 sq. m.

3. ✖ 7320 sq. m.

4. ✖ 9345.25 sq. m.

Question Number : 112 Question Id : 5861802534 Question Type : MCQ Option Shuffling : Yes

Correct Marks : 1 Wrong Marks : 0.25

A swimming pool is 24 m long and 15 m broad. When a number of men dive into the pool, the height of the water rises by 1cm. If the average amount of water displaced by one man is 0.1 cubic metre, how many men are there in the pool?

Options :

1. ✖ 30

2. ✖ 32

3. ✖ 34

4. ✔ 36



Question Number : 112 Question Id : 5861802534 Question Type : MCQ Option Shuffling : Yes

Correct Marks : 1 Wrong Marks : 0.25

एक तरणताल 24 m लंबा और 15 m चौड़ा है। जब कई सारे व्यक्ति उसमें छलांग लगाते हैं, तो जल स्तर 1 cm बढ़ जाता है। यदि एक व्यक्ति औसतन 0.1 घन मीटर जल विस्थापित करता है, तो तरणताल में कितने व्यक्ति हैं?

Options :

1. ✖ 30

2. ✖ 32

3. ✖ 34

4. ✔ 36

Question Number : 113 Question Id : 5861802535 Question Type : MCQ Option Shuffling : Yes

Correct Marks : 1 Wrong Marks : 0.25

A metal cube of edge 12 cm is melted and formed into three smaller cubes. If the lengths of edges of two smaller cubes are 6 cm and 8 cm, find the length of edges of the third smaller cube?

Options :

1. ✖ 6 cm

2. ✖ 8 cm

3. ✔ 10 cm

4. ✖ 11 cm

Question Number : 113 Question Id : 5861802535 Question Type : MCQ Option Shuffling : Yes

Correct Marks : 1 Wrong Marks : 0.25

12 cm छोर वाली धातु के घन को पिघलाया जाता है और उसके तीन छोटे घन तैयार किए जाते हैं। यदि दो छोटे घनों के छोरों की लंबाई 6 cm और 8 cm है, तो तीसरे छोटे घन के छोर की लंबाई पता करें।

Options :

1. ✖ 6 cm

2. ✖ 8 cm

3. ✔ 10 cm

4. ✖ 11 cm

Question Number : 114 Question Id : 5861802536 Question Type : MCQ Option Shuffling : Yes

Correct Marks : 1 Wrong Marks : 0.25

Two workers, A and B, working together complete a job in 5 days. If A works twice as efficiently as he actually does and B works  $\frac{1}{3}$  as efficiently as he actually does, the work could be completed in 3 days. A alone can complete the work in:

Options :

1. ✖  $5\frac{1}{4}$  days

2. ✔  $6\frac{1}{4}$  days

3. ✖  $7\frac{1}{4}$  days

4. ✖  $8\frac{1}{4}$  days

Question Number : 114 Question Id : 5861802536 Question Type : MCQ Option Shuffling : Yes

Correct Marks : 1 Wrong Marks : 0.25

दो श्रमिक A और B एक साथ काम करते हुए किसी काम को 5 दिनों में पूरा कर सकते हैं। यदि A अपनी क्षमता से दोगुनी दक्षता से काम करता है और B अपनी क्षमता से  $\frac{1}{3}$  दक्षता से काम करता है, तो काम 3 दिन में पूरा किया जा सकता है। A अकेले कितने दिनों में काम पूरा कर सकता है?

Options :

1. ✖  $5\frac{1}{4}$  दिन

2. ✔  $6\frac{1}{4}$  दिन

3. ✖  $7\frac{1}{4}$  दिन

4. ✖  $8\frac{1}{4}$  दिन

Question Number : 115 Question Id : 5861802537 Question Type : MCQ Option Shuffling : Yes

Correct Marks : 1 Wrong Marks : 0.25

A, B, C can separately finish a certain work in 12, 15 and 20 days respectively. They started to work together, but C left after 2 days. The remaining work will be finished by A and B together in:

Options :

1. ✔ 4 days

2. ✖ 5 days

3. ✖ 6 days

4. ✖ 7 days

Question Number : 115 Question Id : 5861802537 Question Type : MCQ Option Shuffling : Yes

Correct Marks : 1 Wrong Marks : 0.25

A, B, C अलग-अलग एक काम को क्रमशः रूप से 12, 15 और 20 दिनों में पूरा कर सकते हैं। वे एक साथ काम करना शुरू करते हैं, लेकिन C, 2 दिन बाद काम छोड़ देता है। बाकी बचा हुआ काम A और B दोनों मिलकर कितने दिनों में पूरा करेंगे?

Options :

1. ✔ 4 दिन

2. ✖ 5 दिन

3. ✖ 6 दिन

4. ✖ 7 दिन

Question Number : 116 Question Id : 5861802538 Question Type : MCQ Option Shuffling : Yes

Correct Marks : 1 Wrong Marks : 0.25

A train travels at 75 kmph. How many metre will it travel in 20 minutes?

Options :

1. ✖ 20000 m

2. ✔ 25000 m

3. ✖ 26000 m

4. ✖ 27000 m

Question Number : 116 Question Id : 5861802538 Question Type : MCQ Option Shuffling : Yes

Correct Marks : 1 Wrong Marks : 0.25

एक रेलगाड़ी 75 kmph की गति से चलती है। वह 20 मिनट में कितने मीटर चलेगी?

Options :

1. ✖ 20000 m

2. ✔ 25000 m

3. ✖ 26000 m

4. ✖ 27000 m

Question Number : 117 Question Id : 5861802539 Question Type : MCQ Option Shuffling : Yes

Correct Marks : 1 Wrong Marks : 0.25

एक 125-m लंबी रेलगाड़ी व्यक्ति को पार कर जाती है, जो रेलगाड़ी की दिशा में ही 5 kmph गति से दौड़ रहा है। रेलगाड़ी को व्यक्ति को पीछे छोड़ने में 10 सेकंड लगते हैं। रेलगाड़ी की गति पता करें।

Options :

1. ✗ 45 kmph

2. ✓ 50 kmph

3. ✗ 52 kmph

4. ✗ 54 kmph

Question Number : 117 Question Id : 5861802539 Question Type : MCQ Option Shuffling : Yes

Correct Marks : 1 Wrong Marks : 0.25

A 125-m long train passes a man who is running at 5 kmph in the same direction in which the train is going. The train takes in 10 seconds to pass the man. The speed of the train is:

Options :

1. ✗ 45 kmph

2. ✓ 50 kmph

3. ✗ 52 kmph

4. ✗ 54 kmph

Question Number : 118 Question Id : 5861802540 Question Type : MCQ Option Shuffling : Yes

Correct Marks : 1 Wrong Marks : 0.25

एक रेलगाड़ी को एक खंबा पार करने में 9 सेकंड लगते हैं। यदि रेलगाड़ी की गति 48 kmph है, तो रेलगाड़ी की लंबाई पता करें।

Options :



1. ✖ 150 m

2. ✔ 120 m

3. ✖ 90 m

4. ✖ 80 m

Question Number : 118 Question Id : 5861802540 Question Type : MCQ Option Shuffling : Yes

Correct Marks : 1 Wrong Marks : 0.25

A train takes 9 seconds to cross a pole. If the speed of the train is 48 kmph, then the length of the train is:

Options :

1. ✖ 150 m

2. ✔ 120 m

3. ✖ 90 m

4. ✖ 80 m

Question Number : 119 Question Id : 5861802541 Question Type : MCQ Option Shuffling : Yes

Correct Marks : 1 Wrong Marks : 0.25



The number of candidates (in lakh) appearing in an entrance examination from six different cities are shown below:

City	A	B	C	D	E	F
No. of candidates	1.25	3.14	1.08	2.27	1.85	2.73

The ratio of candidates passing and failing per city is shown below:

City	Ratio of Passing and failing candidates
A	7 : 3
B	5 : 3
C	4 : 5
D	1 : 3
E	3 : 2
F	7 : 5

Among the following cities, which city has the highest number of students passing the entrance exam?

B, A, D, F

Options :

1. ✓ B

2. ✗ A

3. ✗ D

4. ✗ F

नीचे छह अलग-अलग शहरों से प्रवेश परीक्षा में बैठने वाले परीक्षार्थियों का संख्या (लाखों में) दिखाई गई है:

शहर	A	B	C	D	E	F
परीक्षार्थियों की संख्या	1.25	3.14	1.08	2.27	1.85	2.73

हर शहर से उत्तीर्ण और फेल परीक्षार्थियों की संख्या का अनुपात नीचे दिया गया है:

शहर	उत्तीर्ण और फेल परीक्षार्थियों का अनुपात
A	7 : 3
B	5 : 3
C	4 : 5
D	1 : 3
E	3 : 2
F	7 : 5

इन शहरों में से, किस शहर के परीक्षार्थी प्रवेश परीक्षा में सबसे अधिक उत्तीर्ण हुए हैं?

B, A, D, F

Options :

1. ✓ B

2. ✗ A

3. ✗ D

4. ✗ F

The number of candidates (in lakh) appearing in an entrance examination from six different cities are shown below:

City	A	B	C	D	E	F
No. of candidates	1.25	3.14	1.08	2.27	1.85	2.73

The ratio of candidates passing and failing per city is shown below:

City	Ratio of Passing and failing candidates
A	7 : 3
B	5 : 3
C	4 : 5
D	1 : 3
E	3 : 2
F	7 : 5

Among the following cities, which city has the least number of students passing the entrance exam?

A, C, D, F

Options :

1. ✖ A

2. ✔ C

3. ✖ D

4. ✖ F

नीचे छह अलग-अलग शहरों से प्रवेश परीक्षा में बैठने वाले परीक्षार्थियों की संख्या (लाखों में) दिखाई गई है:

शहर	A	B	C	D	E	F
परीक्षार्थियों की संख्या	1.25	3.14	1.08	2.27	1.85	2.73

हर शहर से उत्तीर्ण और फेल परीक्षार्थियों की संख्या का अनुपात नीचे दिया गया है:

शहर	उत्तीर्ण और फेल परीक्षार्थियों का अनुपात
A	7 : 3
B	5 : 3
C	4 : 5
D	1 : 3
E	3 : 2
F	7 : 5

इन शहरों में से, किस शहर के परीक्षार्थी प्रवेश परीक्षा में सबसे कम उत्तीर्ण हुए हैं?

A, C, D, F

Options :

1. ✖ A

2. ✔ C

3. ✖ D

4. ✖ F

General English1

Group Number :	7
Group Id :	586180118
Group Maximum Duration :	0
Group Minimum Duration :	0
Show Attended Group? :	No
Edit Attended Group? :	No
Break time:	0
Group Marks:	20
Is this Group for Examiner?:	No
Revisit allowed for group Instructions? :	Yes
Maximum Instruction Time:	0
Minimum Instruction Time:	0

General English1

Section Id :	586180122
Section Number :	1
Section type :	Online
Mandatory or Optional:	Mandatory
Number of Questions:	20
Number of Questions to be attempted:	20
Section Marks:	20

Sub-Section Number:	1
Sub-Section Id:	586180165
Question Shuffling Allowed :	Yes

Question Number : 121 Question Id : 5861802543 Question Type : MCQ Option Shuffling : Yes  
Correct Marks : 1 Wrong Marks : 0.25

Select the option that can be used as a one-word substitute for the given group of words.

In 18th century England, an educated, intellectual or literary woman was mostly called a/an:

Options :

1. ✖ elite
2. ✖ researcher
3. ✔ bluestocking
4. ✖ prudish

Question Number : 121 Question Id : 5861802543 Question Type : MCQ Option Shuffling : Yes

Correct Marks : 1 Wrong Marks : 0.25

Select the option that can be used as a one-word substitute for the given group of words.

In 18th century England, an educated, intellectual or literary woman was mostly called a/an:

Options :

1. ✖ elite
2. ✖ researcher
3. ✔ bluestocking
4. ✖ prudish

Question Number : 122 Question Id : 5861802544 Question Type : MCQ Option Shuffling : Yes

Correct Marks : 1 Wrong Marks : 0.25

Identify the meaning of the following word.

MISOGYNIST

Options :

1. ✓ Someone who hates women or believes men are better than women
2. ✗ Someone who hates people in general and avoids them
3. ✗ Someone who hates the institution of marriage
4. ✗ Someone who hates anything positive and feels negative most of the time

Question Number : 122 Question Id : 5861802544 Question Type : MCQ Option Shuffling : Yes  
Correct Marks : 1 Wrong Marks : 0.25

Identify the meaning of the following word.

MISOGYNIST

Options :

1. ✓ Someone who hates women or believes men are better than women
2. ✗ Someone who hates people in general and avoids them
3. ✗ Someone who hates the institution of marriage
4. ✗ Someone who hates anything positive and feels negative most of the time

Question Number : 123 Question Id : 5861802545 Question Type : MCQ Option Shuffling : Yes  
Correct Marks : 1 Wrong Marks : 0.25

Select the most appropriate option that can substitute the underlined words in the given sentence.

After the project failed, the team members were walking on eggshells around their team leader.

Options :

1. ✗ Walking slowly around him



2. ✖ Being very upset with him
3. ✔ Being very careful while dealing with him
4. ✖ Feeling accountable about the failure

Question Number : 123 Question Id : 5861802545 Question Type : MCQ Option Shuffling : Yes  
Correct Marks : 1 Wrong Marks : 0.25

Select the most appropriate option that can substitute the underlined words in the given sentence.

After the project failed, the team members were walking on eggshells around their team leader.

Options :

1. ✖ Walking slowly around him
2. ✖ Being very upset with him
3. ✔ Being very careful while dealing with him
4. ✖ Feeling accountable about the failure

Question Number : 124 Question Id : 5861802546 Question Type : MCQ Option Shuffling : Yes  
Correct Marks : 1 Wrong Marks : 0.25

Fill in the blank with the most appropriate option.

Many students \_\_\_\_\_ to donate blood for the accident victims.

Options :

1. ✖ came from
2. ✖ bring about
3. ✔ came forward
4. ✖ count on

Question Number : 124 Question Id : 5861802546 Question Type : MCQ Option Shuffling : Yes

Correct Marks : 1 Wrong Marks : 0.25

Fill in the blank with the most appropriate option.

Many students \_\_\_\_\_ to donate blood for the accident victims.

Options :

1. ✗ came from
2. ✗ bring about
3. ✓ came forward
4. ✗ count on

Question Number : 125 Question Id : 5861802547 Question Type : MCQ Option Shuffling : Yes

Correct Marks : 1 Wrong Marks : 0.25

Fill in the blanks with the most appropriate option.

Katchal, a tiny island near Nicobar was \_\_\_\_\_ unknown until the Royal Greenwich Laboratory declared that it would be the first \_\_\_\_\_ place on Earth to \_\_\_\_\_ the rays of the first sunrise of the millennium.

Options :

1. ✗ really, habited, hold
2. ✓ virtually, inhabited, catch
3. ✗ virtually, crowded, see
4. ✗ really, inhabited, realise

Question Number : 125 Question Id : 5861802547 Question Type : MCQ Option Shuffling : Yes

Correct Marks : 1 Wrong Marks : 0.25

Fill in the blanks with the most appropriate option.

Katchal, a tiny island near Nicobar was \_\_\_\_\_ unknown until the Royal Greenwich Laboratory declared that it would be the first \_\_\_\_\_ place on Earth to \_\_\_\_\_ the rays of the first sunrise of the millennium.

Options :

1. ✖ really, habited, hold
2. ✔ virtually, inhabited, catch
3. ✖ virtually, crowded, see
4. ✖ really, inhabited, realise

Question Number : 126 Question Id : 5861802548 Question Type : MCQ Option Shuffling : Yes  
Correct Marks : 1 Wrong Marks : 0.25

Fill in the blanks with verbs that correctly agree with the given subjects.

The economic factors \_\_\_\_\_ fundamental; the earth \_\_\_\_\_ before man. Neither man nor his inventions \_\_\_\_\_ precedence over environment.

Options :

1. ✖ is, comes, takes
2. ✖ are, come, takes
3. ✔ are; comes; take
4. ✖ is; come; take

Question Number : 126 Question Id : 5861802548 Question Type : MCQ Option Shuffling : Yes  
Correct Marks : 1 Wrong Marks : 0.25

Fill in the blanks with verbs that correctly agree with the given subjects.

The economic factors \_\_\_\_\_fundamental; the earth \_\_\_\_\_ before man. Neither man nor his inventions \_\_\_\_\_ precedence over environment.

Options :

1. ✖ is, comes, takes
2. ✖ are, come, takes
3. ✔ are; comes; take
4. ✖ is; come; take

Question Number : 127 Question Id : 5861802549 Question Type : MCQ Option Shuffling : Yes  
Correct Marks : 1 Wrong Marks : 0.25

Complete the following conditional sentence:

If only the illusionist had followed his regular routine:

Options :

1. ✖ the audience will enjoy the show
2. ✖ the audience can enjoy the show
3. ✖ the audience would enjoy the show
4. ✔ the audience would have enjoyed the show

Question Number : 127 Question Id : 5861802549 Question Type : MCQ Option Shuffling : Yes  
Correct Marks : 1 Wrong Marks : 0.25

Complete the following conditional sentence:

If only the illusionist had followed his regular routine:

Options :

1. ✖ the audience will enjoy the show
2. ✖ the audience can enjoy the show
3. ✖ the audience would enjoy the show
4. ✔ the audience would have enjoyed the show

Question Number : 128 Question Id : 5861802550 Question Type : MCQ Option Shuffling : Yes  
Correct Marks : 1 Wrong Marks : 0.25

Choose the grammatically INCORRECT sentence from the given options.

Options :

1. ✖ A tornado is a violently rotating column of air that extends from the bottom of a cumuliform cloud, such as a thunderstorm, to the ground.
2. ✖ Tornadoes are often visible as a funnel-cloud.
3. ✔ It is important to never confuse a tornado and a hurricane or other tropical cyclone because tornadoes and hurricanes is very different phenomena.
4. ✖ Perhaps, the only similarity between them is that they both contain strong rotating winds that can cause damage.

Question Number : 128 Question Id : 5861802550 Question Type : MCQ Option Shuffling : Yes  
Correct Marks : 1 Wrong Marks : 0.25

Choose the grammatically INCORRECT sentence from the given options.

Options :

1. ✖ A tornado is a violently rotating column of air that extends from the bottom of a cumuliform cloud, such as a thunderstorm, to the ground.
2. ✖ Tornadoes are often visible as a funnel-cloud.

3. ✓ It is important to never confuse a tornado and a hurricane or other tropical cyclone because tornadoes and hurricanes is very different phenomena.
4. ✗ Perhaps, the only similarity between them is that they both contain strong rotating winds that can cause damage.

Question Number : 129 Question Id : 5861802551 Question Type : MCQ Option Shuffling : Yes  
Correct Marks : 1 Wrong Marks : 0.25

Fill in the blanks with the most appropriate adjective.

When the police found the body of the girl near the woods, she was wearing a \_\_\_\_.

Options :

1. ✗ nice silk red skirt
2. ✓ nice red silk skirt
3. ✗ silk red nice skirt
4. ✗ red silk nice skirt

Question Number : 129 Question Id : 5861802551 Question Type : MCQ Option Shuffling : Yes  
Correct Marks : 1 Wrong Marks : 0.25

Fill in the blanks with the most appropriate adjective.

When the police found the body of the girl near the woods, she was wearing a \_\_\_\_.

Options :

1. ✗ nice silk red skirt
2. ✓ nice red silk skirt
3. ✗ silk red nice skirt

4. ✖ red silk nice skirt

Question Number : 130 Question Id : 5861802552 Question Type : MCQ Option Shuffling : Yes  
Correct Marks : 1 Wrong Marks : 0.25

Select the option that expresses the given sentence in passive voice.

The bank officials claim that someone stole the money from the bank.

Options :

1. ✖ The money had been stolen by somebody from the bank.
2. ✖ The bank officials claimed that someone stole the money from the bank.
3. ✖ The money from the bank was claimed by someone.
4. ✔ The bank officials claim that the money was stolen from the bank.

Question Number : 130 Question Id : 5861802552 Question Type : MCQ Option Shuffling : Yes  
Correct Marks : 1 Wrong Marks : 0.25

Select the option that expresses the given sentence in passive voice.

The bank officials claim that someone stole the money from the bank.

Options :

1. ✖ The money had been stolen by somebody from the bank.
2. ✖ The bank officials claimed that someone stole the money from the bank.



3. ✖ The money from the bank was claimed by someone.
4. ✔ The bank officials claim that the money was stolen from the bank.

Question Number : 131 Question Id : 5861802553 Question Type : MCQ Option Shuffling : Yes  
Correct Marks : 1 Wrong Marks : 0.25

Select the most appropriate phrase to replace the underlined word in the given sentence.

While cleaning the attic I found by chance an old family photograph of my mother with her parents.

Options :

1. ✖ came down
2. ✔ came across
3. ✖ came up
4. ✖ came around

Question Number : 131 Question Id : 5861802553 Question Type : MCQ Option Shuffling : Yes  
Correct Marks : 1 Wrong Marks : 0.25

Select the most appropriate phrase to replace the underlined word in the given sentence.

While cleaning the attic I found by chance an old family photograph of my mother with her parents.

Options :

1. ✖ came down
2. ✔ came across
3. ✖ came up

4. ✖ came around

Question Number : 132 Question Id : 5861802554 Question Type : MCQ Option Shuffling : Yes  
Correct Marks : 1 Wrong Marks : 0.25

Fill in the blank with the most appropriate option.

Self-medicating can lead to side effects; \_\_\_\_\_ we should not try self-medication.

Options :

1. ✖ consequently
2. ✖ finally
3. ✖ but
4. ✔ therefore

Question Number : 132 Question Id : 5861802554 Question Type : MCQ Option Shuffling : Yes  
Correct Marks : 1 Wrong Marks : 0.25

Fill in the blank with the most appropriate option.

Self-medicating can lead to side effects; \_\_\_\_\_ we should not try self-medication.

Options :

1. ✖ consequently
2. ✖ finally
3. ✖ but
4. ✔ therefore

Question Number : 133 Question Id : 5861802555 Question Type : MCQ Option Shuffling : Yes  
Correct Marks : 1 Wrong Marks : 0.25

Select the option that expresses the given sentence in reported speech.

Antony said, “Another thing I’ve been interested in is the effect that surfaces, like dust grain surfaces, have on the chemistry in space, and we were trying to figure out a way to do that with the OREOS sample cells.”

Options :

1. ✖ Antony said that another thing he was interested is in the effect that surfaces have on the chemistry in space, and he tried to figure out a way to do that with the OREOS sample cells.
2. ✖ Antony was interested in another thing which was the effect that surface has on the chemistry in space and he also tried to find a way to do that with OREOS sample cells.
3. ✔ Antony said that another thing he had been interested in was the effect that surfaces, like dust grain surfaces, had on the chemistry in space, and he added that they had been trying to figure out a way to do that with the OREOS sample cells.
4. ✖ Antony was interested in the impact of surfaces on chemistry in space and he was involved in experiments with OREOS sample cells.

Question Number : 133 Question Id : 5861802555 Question Type : MCQ Option Shuffling : Yes  
Correct Marks : 1 Wrong Marks : 0.25

Select the option that expresses the given sentence in reported speech.

Antony said, "Another thing I've been interested in is the effect that surfaces, like dust grain surfaces, have on the chemistry in space, and we were trying to figure out a way to do that with the OREOS sample cells."

Options :

1. ✖ Antony said that another thing he was interested is in the effect that surfaces have on the chemistry in space, and he tried to figure out a way to do that with the OREOS sample cells.
2. ✖ Antony was interested in another thing which was the effect that surface has on the chemistry in space and he also tried to find a way to do that with OREOS sample cells.
3. ✔ Antony said that another thing he had been interested in was the effect that surfaces, like dust grain surfaces, had on the chemistry in space, and he added that they had been trying to figure out a way to do that with the OREOS sample cells.
4. ✖ Antony was interested in the impact of surfaces on chemistry in space and he was involved in experiments with OREOS sample cells.

Fill in the blank with the most appropriate option.

The Minister lost public support \_\_\_\_\_ his stance on foreign policy.

Options :

1. ✖ while
2. ✖ in order to
3. ✖ because
4. ✔ due to

Question Number : 134 Question Id : 5861802556 Question Type : MCQ Option Shuffling : Yes  
Correct Marks : 1 Wrong Marks : 0.25

Fill in the blank with the most appropriate option.

The Minister lost public support \_\_\_\_\_ his stance on foreign policy.

Options :

1. ✖ while
2. ✖ in order to
3. ✖ because
4. ✔ due to

Question Number : 135 Question Id : 5861802557 Question Type : MCQ Option Shuffling : Yes  
Correct Marks : 1 Wrong Marks : 0.25

Given in the options is a complete sentence that has been divided into four parts. The four parts are jumbled. Rearrange the jumbled parts and find the part that has a grammatical error.

Options :

1. ✖ at 9 a.m. tomorrow

2. ✖ is the replacement of the existing Managing Director
3. ✔ The Board of Directors would meet
4. ✖ and the main agenda

Question Number : 135 Question Id : 5861802557 Question Type : MCQ Option Shuffling : Yes  
Correct Marks : 1 Wrong Marks : 0.25

Given in the options is a complete sentence that has been divided into four parts. The four parts are jumbled.

Rearrange the jumbled parts and find the part that has a grammatical error.

Options :

1. ✖ at 9 a.m. tomorrow
2. ✖ is the replacement of the existing Managing Director
3. ✔ The Board of Directors would meet
4. ✖ and the main agenda

Question Number : 136 Question Id : 5861802558 Question Type : MCQ Option Shuffling : Yes  
Correct Marks : 1 Wrong Marks : 0.25

Of the four sentences given in the options, which one has the correct word order?

Options :

1. ✖ Soft skills help one stand out in the ever-evolving job market from the competition.
2. ✔ Soft skills can be taught to an individual, but they are not as easy to fathom as hard skills.
3. ✖ One requires soft skills to sustain or one's field of expertise and succeed in the job market regardless of the industry one belongs to.

4. ✖ The most crucial skills that are required to sustain oneself in today's job market communication skills are.

Question Number : 136 Question Id : 5861802558 Question Type : MCQ Option Shuffling : Yes  
Correct Marks : 1 Wrong Marks : 0.25

Of the four sentences given in the options, which one has the correct word order?

Options :

1. ✖ Soft skills help one stand out in the ever-evolving job market from the competition.

2. ✔ Soft skills can be taught to an individual, but they are not as easy to fathom as hard skills.

3. ✖ One requires soft skills to sustain or one's field of expertise and succeed in the job market regardless of the industry one belongs to.

4. ✖ The most crucial skills that are required to sustain oneself in today's job market communication skills are.

Question Number : 137 Question Id : 5861802559 Question Type : MCQ Option Shuffling : Yes  
Correct Marks : 1 Wrong Marks : 0.25



Sentences of a paragraph are given below. While the first and the last sentences are in correct order, the sentences in between are jumbled up. Arrange the sentences in the right order to form a meaningful and coherent paragraph.

1. Paper is taken from the bin and deposited in a large recycling container along with paper from other recycling bins.

P. The separated paper is then washed with soapy water to remove inks, plastic film, staples and glue.

Q. The slurry is spread using large rollers into large thin sheets.

R. All papers to be recycled are taken to a recycling plant where they are separated into types and grades.

S. The washed paper is put into a large holder where it is mixed with water to create 'slurry'.

6. The 'slurry' is left to dry, and then it is rolled up ready to be cut and sent back to the shops.

Options :

1. ✖ PRSQ

2. ✔ RPSQ

3. ✖ QSRP

4. ✖ RSQP

Question Number : 137 Question Id : 5861802559 Question Type : MCQ Option Shuffling : Yes

Correct Marks : 1 Wrong Marks : 0.25

Sentences of a paragraph are given below. While the first and the last sentences are in correct order, the sentences in between are jumbled up. Arrange the sentences in the right order to form a meaningful and coherent paragraph.

1. Paper is taken from the bin and deposited in a large recycling container along with paper from other recycling bins.
- P. The separated paper is then washed with soapy water to remove inks, plastic film, staples and glue.
- Q. The slurry is spread using large rollers into large thin sheets.
- R. All papers to be recycled are taken to a recycling plant where they are separated into types and grades.
- S. The washed paper is put into a large holder where it is mixed with water to create 'slurry'.
6. The 'slurry' is left to dry, and then it is rolled up ready to be cut and sent back to the shops.

Options :

1. ✖ PRSQ
2. ✔ RPSQ
3. ✖ QSRP
4. ✖ RSQP

Sentences of a paragraph are given below. While the first and the last sentences are in correct order, the sentences in between are jumbled up. Arrange the sentences in the right order to form a meaningful and coherent paragraph.

1. Elon Reeve Musk is a South African-born American entrepreneur and businessman who founded X.com in 1999 (which later became PayPal), SpaceX in 2002 and Tesla Motors in 2003.

P. Musk made headlines in May 2012, when SpaceX launched a rocket that would send the first commercial vehicle to the International Space Station.

Q. He bolstered his portfolio with the purchase of SolarCity in 2016.

R. Musk became a multimillionaire in his late 20s when he sold his start-up company, Zip2, to a division of Compaq Computers.

S. Adding to his entrepreneurial excellence, he cemented his standing as a leader of industry by taking on an advisory role in the early days of President Donald Trump's administration.

6. As of December 2017, Elon Musk's net worth is \$20.2 billion, according to Forbes.

Options :

1. ✓ RPQS

2. ✗ PQSR

3. ✗ RSPQ

4. ✗ PRSQ

Sentences of a paragraph are given below. While the first and the last sentences are in correct order, the sentences in between are jumbled up. Arrange the sentences in the right order to form a meaningful and coherent paragraph.

1. Elon Reeve Musk is a South African-born American entrepreneur and businessman who founded X.com in 1999 (which later became PayPal), SpaceX in 2002 and Tesla Motors in 2003.

P. Musk made headlines in May 2012, when SpaceX launched a rocket that would send the first commercial vehicle to the International Space Station.

Q. He bolstered his portfolio with the purchase of SolarCity in 2016.

R. Musk became a multimillionaire in his late 20s when he sold his start-up company, Zip2, to a division of Compaq Computers.

S. Adding to his entrepreneurial excellence, he cemented his standing as a leader of industry by taking on an advisory role in the early days of President Donald Trump's administration.

6. As of December 2017, Elon Musk's net worth is \$20.2 billion, according to Forbes.

Options :

1. ✓ RPQS

2. ✗ PQSR

3. ✗ RSPQ

4. ✗ PRSQ

Question Number : 139 Question Id : 5861802561 Question Type : MCQ Option Shuffling : Yes

Correct Marks : 1 Wrong Marks : 0.25

One sentence has been removed from the following passage. Read and choose the right place (right letter) to insert the sentence so that the passage is meaningful.

People love spending money, and with so many cool things to buy out there, why wouldn't they. (A) In the past, we had to hit the high streets in order to find the clothes, food, household items and gifts that we wanted to buy. (B) Today, this can be achieved with the touch of a button, and the goods will be delivered directly to your front door. (C) More and more retailers are finding their way online, thanks to the ease of setting up an e-commerce store. (D) It is now unusual to find a store that does not have an online presence.

The sentence to be inserted is:

However, the way that we as consumers are spending that money is changing dramatically.

Options :

1. ✓ A

2. ✗ B

3. ✗ C

4. ✗ D

Question Number : 139 Question Id : 5861802561 Question Type : MCQ Option Shuffling : Yes  
Correct Marks : 1 Wrong Marks : 0.25

One sentence has been removed from the following passage. Read and choose the right place (right letter) to insert the sentence so that the passage is meaningful.

People love spending money, and with so many cool things to buy out there, why wouldn't they. (A) In the past, we had to hit the high streets in order to find the clothes, food, household items and gifts that we wanted to buy. (B) Today, this can be achieved with the touch of a button, and the goods will be delivered directly to your front door. (C) More and more retailers are finding their way online, thanks to the ease of setting up an e-commerce store. (D) It is now unusual to find a store that does not have an online presence.

The sentence to be inserted is:

However, the way that we as consumers are spending that money is changing dramatically.

Options :

1. ✓ A
2. ✗ B
3. ✗ C
4. ✗ D

Question Number : 140 Question Id : 5861802562 Question Type : MCQ Option Shuffling : Yes  
Correct Marks : 1 Wrong Marks : 0.25

Which one of the following options when rearranged forms the answer for the following question?

Can you please tell me the way to the library?

Options :

1. ✖ Not the place / at home / Library is / I would rather sleep / I like to go.
2. ✔ You have to take a right turn / sure / building on the left side / The library is the third / and then turn to the left.
3. ✖ I don't like / is making jewellery / to read / My hobby.
4. ✖ The shopping mall / so that I can visit / I usually / and then a left / walk straight / take a right turn.

Question Number : 140 Question Id : 5861802562 Question Type : MCQ Option Shuffling : Yes  
Correct Marks : 1 Wrong Marks : 0.25

Which one of the following options when rearranged forms the answer for the following question?

Can you please tell me the way to the library?

Options :

1. ✖ Not the place / at home / Library is / I would rather sleep / I like to go.
2. ✔ You have to take a right turn / sure / building on the left side / The library is the third / and then turn to the left.
3. ✖ I don't like / is making jewellery / to read / My hobby.



4. ✖ The shopping mall / so that I can visit / I usually / and then a left / walk straight / take a right turn.

General English2

Group Number :	8
Group Id :	586180119
Group Maximum Duration :	0
Group Minimum Duration :	0
Show Attended Group? :	No
Edit Attended Group? :	No
Break time:	0
Group Marks:	20
Is this Group for Examiner?:	No
Revisit allowed for group Instructions? :	Yes
Maximum Instruction Time:	0
Minimum Instruction Time:	0

General English2

Section Id :	586180123
Section Number :	1
Section type :	Online
Mandatory or Optional:	Mandatory
Number of Questions:	12
Number of Questions to be attempted:	12
Section Marks:	20

Sub-Section Number:	1
Sub-Section Id:	586180166
Question Shuffling Allowed :	Yes

Question Number : 141 Question Id : 5861802563 Question Type : MCQ Option Shuffling : Yes  
Correct Marks : 1 Wrong Marks : 0.25

Select the most appropriate synonym of the underlined word.

His research scholars are erudite, focused and thoroughly grounded in strong empirical research.

- Options :
1. ✖ Vocal

2. ✖ Argumentative

3. ✖ Quiet

4. ✔ Knowledgeable

Question Number : 141 Question Id : 5861802563 Question Type : MCQ Option Shuffling : Yes  
Correct Marks : 1 Wrong Marks : 0.25

Select the most appropriate synonym of the underlined word.

His research scholars are erudite, focused and thoroughly grounded in strong empirical research.

Options :

1. ✖ Vocal

2. ✖ Argumentative

3. ✖ Quiet

4. ✔ Knowledgeable

Question Number : 142 Question Id : 5861802564 Question Type : MCQ Option Shuffling : Yes  
Correct Marks : 1 Wrong Marks : 0.25

Select the most appropriate synonym of the underlined word.

I met my best friend as an impecunious student living in a studio apartment in New York.

Options :

1. ✔ Penurious

2. ✖ Impetuous

3. ✖ Needless

4. ✖ Spurious

Question Number : 142 Question Id : 5861802564 Question Type : MCQ Option Shuffling : Yes  
Correct Marks : 1 Wrong Marks : 0.25

Select the most appropriate synonym of the underlined word.

I met my best friend as an impecunious student living in a studio apartment in New York.

Options :

1. ✓ Penurious
2. ✗ Impetuous
3. ✗ Needless
4. ✗ Spurious

Question Number : 143 Question Id : 5861802565 Question Type : MCQ Option Shuffling : Yes  
Correct Marks : 1 Wrong Marks : 0.25

Select the most appropriate synonym of the given word.

QUIESCENT

Options :

1. ✗ Quarrelsome
2. ✗ Ineptitude
3. ✗ Clumsy
4. ✓ Inactive

Question Number : 143 Question Id : 5861802565 Question Type : MCQ Option Shuffling : Yes  
Correct Marks : 1 Wrong Marks : 0.25

Select the most appropriate synonym of the given word.

QUIESCENT

Options :

1. ✗ Quarrelsome

2. ✖ Ineptitude

3. ✖ Clumsy

4. ✔ Inactive

Question Number : 144 Question Id : 5861802566 Question Type : MCQ Option Shuffling : Yes  
Correct Marks : 1 Wrong Marks : 0.25

Select the most appropriate meaning of the following word.

CACOPHONY

Options :

1. ✖ An instrument used for measuring sound

2. ✖ Symphony conducted in a formal occasion

3. ✖ Humorous loud laughter

4. ✔ An unpleasant mixture of loud sounds

Question Number : 144 Question Id : 5861802566 Question Type : MCQ Option Shuffling : Yes  
Correct Marks : 1 Wrong Marks : 0.25

Select the most appropriate meaning of the following word.

CACOPHONY

Options :

1. ✖ An instrument used for measuring sound

2. ✖ Symphony conducted in a formal occasion

3. ✖ Humorous loud laughter

4. ✔ An unpleasant mixture of loud sounds

Question Number : 145 Question Id : 5861802567 Question Type : MCQ Option Shuffling : Yes  
Correct Marks : 1 Wrong Marks : 0.25

Select the most appropriate synonym of the underlined word.

One problem in the present education system is that decision makers are far too pusillanimous.

Options :

1. ✓ Timorous
2. ✗ Indecisive
3. ✗ Vague
4. ✗ Judgmental

Question Number : 145 Question Id : 5861802567 Question Type : MCQ Option Shuffling : Yes  
Correct Marks : 1 Wrong Marks : 0.25

Select the most appropriate synonym of the underlined word.

One problem in the present education system is that decision makers are far too pusillanimous.

Options :

1. ✓ Timorous
2. ✗ Indecisive
3. ✗ Vague
4. ✗ Judgmental

Question Number : 146 Question Id : 5861802568 Question Type : MCQ Option Shuffling : Yes  
Correct Marks : 1 Wrong Marks : 0.25

Select the most appropriate ANTONYM of the following word.

RESCIND

Options :

1. ✗ Invalidate

2. ✓ Sanction

3. ✗ Revoke

4. ✗ Cancel

Question Number : 146 Question Id : 5861802568 Question Type : MCQ Option Shuffling : Yes  
Correct Marks : 1 Wrong Marks : 0.25

Select the most appropriate ANTONYM of the following word.

RESCIND

Options :

1. ✗ Invalidate

2. ✓ Sanction

3. ✗ Revoke

4. ✗ Cancel

Question Number : 147 Question Id : 5861802569 Question Type : MCQ Option Shuffling : Yes  
Correct Marks : 1 Wrong Marks : 0.25

Select the most appropriate ANTONYM of the underlined word.

His speech at the farewell party showed his antipathy towards his manager.

Options :

1. ✗ Paucity

2. ✓ Appreciation

3. ✗ Anomalous

4. ✗ Indifference

Question Number : 147 Question Id : 5861802569 Question Type : MCQ Option Shuffling : Yes  
Correct Marks : 1 Wrong Marks : 0.25

Select the most appropriate ANTONYM of the underlined word.

His speech at the farewell party showed his antipathy towards his manager.

Options :

1. ✖ Paucity
2. ✔ Appreciation
3. ✖ Anomalous
4. ✖ Indifference

Question Number : 148 Question Id : 5861802570 Question Type : MCQ Option Shuffling : Yes

Correct Marks : 1 Wrong Marks : 0.25

Select the most appropriate ANTONYM of the following word.

JEOPARDY

Options :

1. ✖ Liability
2. ✖ Peril
3. ✔ Safety
4. ✖ Hazardous

Question Number : 148 Question Id : 5861802570 Question Type : MCQ Option Shuffling : Yes

Correct Marks : 1 Wrong Marks : 0.25

Select the most appropriate ANTONYM of the following word.

JEOPARDY

Options :

1. ✖ Liability



- 2. ✖ Peril
- 3. ✔ Safety
- 4. ✖ Hazardous

Question Number : 149 Question Id : 5861802571 Question Type : MCQ Option Shuffling : Yes  
Correct Marks : 1 Wrong Marks : 0.25

Select the most appropriate **ANTONYM** of the underlined word.

My friend is so gullible that he will believe anything you tell him.

Options :

- 1. ✔ Wise
- 2. ✖ Credulous
- 3. ✖ Malleable
- 4. ✖ Rigid

Question Number : 149 Question Id : 5861802571 Question Type : MCQ Option Shuffling : Yes  
Correct Marks : 1 Wrong Marks : 0.25

Select the most appropriate **ANTONYM** of the underlined word.

My friend is so gullible that he will believe anything you tell him.

Options :

- 1. ✔ Wise
- 2. ✖ Credulous
- 3. ✖ Malleable

4. ✖ Rigid

Question Number : 150 Question Id : 5861802572 Question Type : MCQ Option Shuffling : Yes  
Correct Marks : 1 Wrong Marks : 0.25

Select the most appropriate ANTONYM of the underlined word.

We requested our teacher to expatiate on the topic for another half an hour.

Options :

1. ✖ Observe

2. ✖ Explain

3. ✖ Enlarge

4. ✔ Summarise

Question Number : 150 Question Id : 5861802572 Question Type : MCQ Option Shuffling : Yes  
Correct Marks : 1 Wrong Marks : 0.25

Select the most appropriate ANTONYM of the underlined word.

We requested our teacher to expatiate on the topic for another half an hour.

Options :

1. ✖ Observe

2. ✖ Explain

3. ✖ Enlarge

4. ✔ Summarise

Sub-Section Id: 586180167  
Question Shuffling Allowed : Yes

Question Id : 5861802573 Question Type : COMPREHENSION Sub Question Shuffling Allowed : Yes Group Comprehension Questions : No

Question Numbers : (151 to 155)

Question Label : Comprehension



Read the following passage and answer the questions that follow.

The rise of the Internet has sparked a debate about how online communication affects social relationships. The Internet frees us from geographic fetters and brings us together in topic-based communities that are not tied down to any specific place. Ours is a networked, globalised society connected by new technologies. The Internet is the tool we use to interact with one another, and accordingly poses new challenges to privacy and security.

Information technologies have wrought fundamental change throughout society, driving it forward from the industrial age to the networked era. The Internet has changed business, education, government, healthcare, and even the ways in which we interact with our loved ones – it has become one of the key drivers of social evolution.

The changes in social communication are of particular significance. Although analogue tools still have their place in some sectors, new technologies are continuing to gain ground every day, transforming our communication practices and possibilities – particularly among younger people. The Internet has removed all communication barriers. Online, the conventional constraints of space and time disappear and there is a dizzyingly wide range of communicative possibilities. The impact of social media applications has triggered discussion of the “new communication democracy.”

The development of the Internet today is being shaped predominantly by instant, mobile communications. Mobile Internet is a fresh revolution. Comprehensive Internet connectivity via smartphones and tablets is leading to an increasingly mobile reality: we are not tied to any single specific device, and everything is in the cloud.

People no longer spend hours gazing at a computer screen after work or class; instead, they use their mobile devices to stay online everywhere, all the time.

Sub questions

Question Number : 151 Question Id : 5861802574 Question Type : MCQ Option Shuffling : Yes  
Correct Marks : 1 Wrong Marks : 0.25

According to the author what is the impact of Internet on communication today?

Options :

1. ✖ We can now communicate with people living across the globe.
2. ✔ It has removed the constraints of space and time while communicating with others.
3. ✖ We can write to people living anywhere.
4. ✖ Communication via the Internet is instantaneous and immediate.

Question Number : 152 Question Id : 5861802575 Question Type : MCQ Option Shuffling : Yes  
Correct Marks : 1 Wrong Marks : 0.25

As per the passage what age followed the Industrial age?

Options :

1. ✖ Modern age
2. ✖ Globalisation
3. ✖ Automobile era
4. ✔ Networked era

Question Number : 153 Question Id : 5861802576 Question Type : MCQ Option Shuffling : Yes  
Correct Marks : 1 Wrong Marks : 0.25

Which sentence is NOT true according to the passage?

Options :

1. ✖ The Internet has changed the way we communicate with each other in a professional context.
2. ✖ The Internet has reduced the distance between people.
3. ✖ The impact of the Internet can be seen in the health industry.

4. ✓ The changes in social communication are least affected by the Internet

Question Number : 154 Question Id : 5861802577 Question Type : MCQ Option Shuffling : Yes  
Correct Marks : 1 Wrong Marks : 0.25

What, according to the author, is one of the best benefits of mobile Internet?

Options :

1. ✓ We are neither bound by space or time nor by any specific device.
2. ✗ Mobile Internet can be carried by young people
3. ✗ Mobile internet has augmented youngsters' usage of the Internet.
4. ✗ There is no age limit for using mobile Internet.

Question Number : 155 Question Id : 5861802578 Question Type : MCQ Option Shuffling : Yes  
Correct Marks : 1 Wrong Marks : 0.25

In the phrase, 'everything is in the cloud', the word 'cloud' refers to:

Options :

1. ✗ a local server which stores all the data
2. ✓ a metaphor for a global network of remote servers which operate as a single ecosystem
3. ✗ a mobile server which can be accessed by the user with the help of their email password
4. ✗ the part of the Internet that stores all our contact information on our phone that can be synced later.

Question Id : 5861802573 Question Type : COMPREHENSION Sub Question Shuffling Allowed : Yes Group Comprehension Questions : No  
Question Numbers : (151 to 155)

Question Label : Comprehension

Read the following passage and answer the questions that follow.

The rise of the Internet has sparked a debate about how online communication affects social relationships. The Internet frees us from geographic fetters and brings us together in topic-based communities that are not tied down to any specific place. Ours is a networked, globalised society connected by new technologies. The Internet is the tool we use to interact with one another, and accordingly poses new challenges to privacy and security.

Information technologies have wrought fundamental change throughout society, driving it forward from the industrial age to the networked era. The Internet has changed business, education, government, healthcare, and even the ways in which we interact with our loved ones - it has become one of the key drivers of social evolution.

The changes in social communication are of particular significance. Although analogue tools still have their place in some sectors, new technologies are continuing to gain ground every day, transforming our communication practices and possibilities - particularly among younger people. The Internet has removed all communication barriers. Online, the conventional constraints of space and time disappear and there is a dizzyingly wide range of communicative possibilities. The impact of social media applications has triggered discussion of the "new communication democracy."

The development of the Internet today is being shaped predominantly by instant, mobile communications. Mobile Internet is a fresh revolution. Comprehensive Internet connectivity via smartphones and tablets is leading to an increasingly mobile reality: we are not tied to any single specific device, and everything is in the cloud.

People no longer spend hours gazing at a computer screen after work or class; instead, they use their mobile devices to stay online everywhere, all the time.



Sub questions

Question Number : 151 Question Id : 5861802574 Question Type : MCQ Option Shuffling : Yes  
Correct Marks : 1 Wrong Marks : 0.25

According to the author what is the impact of Internet on communication today?

Options :

1. ✖ We can now communicate with people living across the globe.
2. ✔ It has removed the constraints of space and time while communicating with others.
3. ✖ We can write to people living anywhere.
4. ✖ Communication via the Internet is instantaneous and immediate.

Question Number : 152 Question Id : 5861802575 Question Type : MCQ Option Shuffling : Yes  
Correct Marks : 1 Wrong Marks : 0.25

As per the passage what age followed the Industrial age?

Options :

1. ✖ Modern age
2. ✖ Globalisation
3. ✖ Automobile era
4. ✔ Networked era

Question Number : 153 Question Id : 5861802576 Question Type : MCQ Option Shuffling : Yes  
Correct Marks : 1 Wrong Marks : 0.25

Which sentence is NOT true according to the passage?

Options :

1. ✖ The Internet has changed the way we communicate with each other in a professional context.

2. ✖ The Internet has reduced the distance between people.
3. ✖ The impact of the Internet can be seen in the health industry.
4. ✔ The changes in social communication are least affected by the Internet

Question Number : 154 Question Id : 5861802577 Question Type : MCQ Option Shuffling : Yes  
Correct Marks : 1 Wrong Marks : 0.25

What, according to the author, is one of the best benefits of mobile Internet?

Options :

1. ✔ We are neither bound by space or time nor by any specific device.
2. ✖ Mobile Internet can be carried by young people
3. ✖ Mobile internet has augmented youngsters' usage of the Internet.
4. ✖ There is no age limit for using mobile Internet.

Question Number : 155 Question Id : 5861802578 Question Type : MCQ Option Shuffling : Yes  
Correct Marks : 1 Wrong Marks : 0.25

In the phrase, 'everything is in the cloud', the word 'cloud' refers to:

Options :

1. ✖ a local server which stores all the data
2. ✔ a metaphor for a global network of remote servers which operate as a single ecosystem

3. ✖ a mobile server which can be accessed by the user with the help of their email password
4. ✖ the part of the Internet that stores all our contact information on our phone that can be synced later.

Sub-Section Number: 3  
 Sub-Section Id: 586180168  
 Question Shuffling Allowed : Yes

Question Id : 5861802579 Question Type : COMPREHENSION Sub Question Shuffling Allowed : Yes Group Comprehension Questions : No  
 Question Numbers : (156 to 160)

Question Label : Comprehension



Read the following passage and answer the questions that follow.

The House Sparrow and its subspecies are worldwide in their distribution, except in the polar regions. Sparrows have had a symbiotic relationship with humans for the past 10,000 years. But strangely, over the past 50-60 years, sparrows have been sadly deserting human company in urban areas, preferring suburban areas and the countryside, and only making brief visits to nearby human habitats.

Sparrows, though tiny, are very sensitive and strongly immune birds, and their sudden disappearance as sentinels or as ecological indicators is a warning to humans about impending environmental hazards. The rapid changes in the lifestyles of humans in urban areas are increasingly incompatible with the conservative lifestyles of sparrows. Non-availability of tiny insects as food due to the loss of vegetation around our modern buildings, the excessive use of mosquito repellents indoors and insecticides outdoors, our concrete architectures with no nesting sites for sparrows, and air-conditioning which leaves no entry or exit points for feeding sparrow nestlings are some of the reasons for the dislocation of sparrows. Further, increasing noise from automobiles and their gaseous pollutants in our cities may be deterrents. Above all, the recent increase in electromagnetic radiations from cell phone towers outdoors and the explosive use of diverse wireless devices indoors have also chased away the birds. It could be the synergistic effect of all these environmental pollutants that has compelled sparrows to fly away from their long-trusted human companions.

Sub questions

Question Number : 156 Question Id : 5861802580 Question Type : MCQ Option Shuffling : Yes  
Correct Marks : 1 Wrong Marks : 0.25

The author refers to the relationship between sparrows and human beings as ‘symbiotic. What is the meaning of the word ‘symbiotic’?

Options :

1. ✖ Warm friendly relationship
2. ✖ Forced relationship
3. ✖ Compelled to work together as both don't have a choice
4. ✔ Mutually beneficial relationship between different groups.

Question Number : 157 Question Id : 5861802581 Question Type : MCQ Option Shuffling : Yes  
Correct Marks : 1 Wrong Marks : 0.25

What does the disappearance of sparrows indicate?

Options :

1. ✔ It serves as a warning to humans about impending environmental hazards
2. ✖ It indicates that winter has come
3. ✖ It indicates that they prefer living in the suburbs
4. ✖ It indicates that they are more comfortable living near the river

Question Number : 158 Question Id : 5861802582 Question Type : MCQ Option Shuffling : Yes  
Correct Marks : 1 Wrong Marks : 0.25

What kind of lifestyle do sparrows seem to have had?

Options :

1. ✖ Adventurous
2. ✖ Modern
3. ✔ Conventional
4. ✖ Avant-garde

Question Number : 159 Question Id : 5861802583 Question Type : MCQ Option Shuffling : Yes  
Correct Marks : 1 Wrong Marks : 0.25

Which one of the following is NOT a reason for sparrows to disappear?

Options :

1. ✖ Increasing noise level of automobiles
2. ✖ Excessive use of mosquito repellents
3. ✖ Lack of space for nesting sites for sparrows
4. ✔ Afforestation efforts in the city

Question Number : 160 Question Id : 5861802584 Question Type : MCQ Option Shuffling : Yes  
Correct Marks : 1 Wrong Marks : 0.25

How has the use of mobile phones impacted the sparrows?

Options :

1. ✔ The radiation from cell phone towers and the use of wireless devices indoors have chased away the sparrows.
2. ✖ The loud noise made by people talking on phones has scared away sparrows
3. ✖ There has been a minimum impact of Internet on sparrows
4. ✖ They are dying in hoards due to the radiation from mobile phones.

Question Id : 5861802579 Question Type : COMPREHENSION Sub Question Shuffling Allowed : Yes Group Comprehension Questions : No  
Question Numbers : (156 to 160)

Question Label : Comprehension

Read the following passage and answer the questions that follow.

The House Sparrow and its subspecies are worldwide in their distribution, except in the polar regions. Sparrows have had a symbiotic relationship with humans for the past 10,000 years. But strangely, over the past 50-60 years, sparrows have been sadly deserting human company in urban areas, preferring suburban areas and the countryside, and only making brief visits to nearby human habitats. Sparrows, though tiny, are very sensitive and strongly immune birds, and their sudden disappearance as sentinels or as ecological indicators is a warning to humans about impending environmental hazards. The rapid changes in the lifestyles of humans in urban areas are increasingly incompatible with the conservative lifestyles of sparrows. Non-availability of tiny insects as food due to the loss of vegetation around our modern buildings, the excessive use of mosquito repellents indoors and insecticides outdoors, our concrete architectures with no nesting sites for sparrows, and air-conditioning which leaves no entry or exit points for feeding sparrow nestlings are some of the reasons for the dislocation of sparrows. Further, increasing noise from automobiles and their gaseous pollutants in our cities may be deterrents. Above all, the recent increase in electromagnetic radiations from cell phone towers outdoors and the explosive use of diverse wireless devices indoors have also chased away the birds. It could be the synergistic effect of all these environmental pollutants that has compelled sparrows to fly away from their long-trusted human companions.



Sub questions

Question Number : 156 Question Id : 5861802580 Question Type : MCQ Option Shuffling : Yes  
Correct Marks : 1 Wrong Marks : 0.25

The author refers to the relationship between sparrows and human beings as 'symbiotic'. What is the meaning of the word 'symbiotic'?

Options :

1. ✖ Warm friendly relationship
2. ✖ Forced relationship
3. ✖ Compelled to work together as both don't have a choice
4. ✔ Mutually beneficial relationship between different groups.

Question Number : 157 Question Id : 5861802581 Question Type : MCQ Option Shuffling : Yes  
Correct Marks : 1 Wrong Marks : 0.25

What does the disappearance of sparrows indicate?

Options :

1. ✔ It serves as a warning to humans about impending environmental hazards
2. ✖ It indicates that winter has come
3. ✖ It indicates that they prefer living in the suburbs
4. ✖ It indicates that they are more comfortable living near the river

Question Number : 158 Question Id : 5861802582 Question Type : MCQ Option Shuffling : Yes  
Correct Marks : 1 Wrong Marks : 0.25

What kind of lifestyle do sparrows seem to have had?

Options :

1. ✖ Adventurous

2. ✖ Modern
3. ✔ Conventional
4. ✖ Avant-garde

Question Number : 159 Question Id : 5861802583 Question Type : MCQ Option Shuffling : Yes  
Correct Marks : 1 Wrong Marks : 0.25

Which one of the following is NOT a reason for sparrows to disappear?

Options :

1. ✖ Increasing noise level of automobiles
2. ✖ Excessive use of mosquito repellents
3. ✖ Lack of space for nesting sites for sparrows
4. ✔ Afforestation efforts in the city

Question Number : 160 Question Id : 5861802584 Question Type : MCQ Option Shuffling : Yes  
Correct Marks : 1 Wrong Marks : 0.25

How has the use of mobile phones impacted the sparrows?

Options :

1. ✔ The radiation from cell phone towers and the use of wireless devices indoors have chased away the sparrows.
2. ✖ The loud noise made by people talking on phones has scared away sparrows
3. ✖ There has been a minimum impact of Internet on sparrows
4. ✖ They are dying in hoards due to the radiation from mobile phones.

## General Hindi1

Group Number :	9
Group Id :	586180120
Group Maximum Duration :	0
Group Minimum Duration :	0
Show Attended Group? :	No
Edit Attended Group? :	No
Break time:	0
Group Marks:	20
Is this Group for Examiner?:	No
Revisit allowed for group Instructions? :	Yes
Maximum Instruction Time:	0
Minimum Instruction Time:	0

## General Hindi1

Section Id :	586180124
Section Number :	1
Section type :	Online
Mandatory or Optional:	Mandatory
Number of Questions:	20
Number of Questions to be attempted:	20
Section Marks:	20

Sub-Section Number:	1
Sub-Section Id:	586180169
Question Shuffling Allowed :	Yes

Question Number : 161 Question Id : 5861802585 Question Type : MCQ Option Shuffling : Yes  
Correct Marks : 1 Wrong Marks : 0.25

‘खखरा’ कैसा शब्द है?

Options :

- ✖ तत्सम
- ✖ तद्भव
- ✓ देशज
- ✖ विदेशी

Question Number : 161 Question Id : 5861802585 Question Type : MCQ Option Shuffling : Yes  
Correct Marks : 1 Wrong Marks : 0.25

‘खखरा’ कैसा शब्द है?

Options :

- ✖ तत्सम

2. ✖ तद्भव
3. ✔ देशज
4. ✖ विदेशी

Question Number : 162 Question Id : 5861802586 Question Type : MCQ Option Shuffling : Yes  
Correct Marks : 1 Wrong Marks : 0.25

निम्न में से कौन सा शब्द तद्भव है?

Options :

1. ✖ अक्षि
2. ✖ अश्रु
3. ✖ अद्य
4. ✔ आप

Question Number : 162 Question Id : 5861802586 Question Type : MCQ Option Shuffling : Yes  
Correct Marks : 1 Wrong Marks : 0.25

निम्न में से कौन सा शब्द तद्भव है?

Options :

1. ✖ अक्षि
2. ✖ अश्रु
3. ✖ अद्य
4. ✔ आप

Question Number : 163 Question Id : 5861802587 Question Type : MCQ Option Shuffling : Yes  
Correct Marks : 1 Wrong Marks : 0.25

निम्न में कौन सा शब्द तत्सम है?

Options :

1. ✔ ज्येष्ठ
2. ✖ जोगी
3. ✖ जोड़ा
4. ✖ जोबन

Question Number : 163 Question Id : 5861802587 Question Type : MCQ Option Shuffling : Yes

Correct Marks : 1 Wrong Marks : 0.25

निम्न में कौन सा शब्द तत्सम है?

Options :

1. ✓ ज्येष्ठ
2. ✗ जोगी
3. ✗ जोड़ा
4. ✗ जोबन

Question Number : 164 Question Id : 5861802588 Question Type : MCQ Option Shuffling : Yes

Correct Marks : 1 Wrong Marks : 0.25

निम्न में से शुद्ध वर्तनी वाला शब्द है?

Options :

1. ✗ प्रतिभूती
2. ✓ प्रतिभूति
3. ✗ प्रतीभूती
4. ✗ प्रतीभूति

Question Number : 164 Question Id : 5861802588 Question Type : MCQ Option Shuffling : Yes

Correct Marks : 1 Wrong Marks : 0.25

निम्न में से शुद्ध वर्तनी वाला शब्द है?

Options :

1. ✗ प्रतिभूती
2. ✓ प्रतिभूति
3. ✗ प्रतीभूती
4. ✗ प्रतीभूति

Question Number : 165 Question Id : 5861802589 Question Type : MCQ Option Shuffling : Yes

Correct Marks : 1 Wrong Marks : 0.25

‘उद्धत – उद्यत’ शब्द युग्म का सही अर्थ है:

Options :

1. ✗ तैयार – उद्दण्ड

2. ✓ उद्दण्ड – तैयार
3. ✗ चंचल – शिथिल
4. ✗ दुष्ट – विद्युत

Question Number : 165 Question Id : 5861802589 Question Type : MCQ Option Shuffling : Yes  
Correct Marks : 1 Wrong Marks : 0.25

‘उद्धत - उद्यत’ शब्द युग्म का सही अर्थ है:

Options :

1. ✗ तैयार - उद्दण्ड
2. ✓ उद्दण्ड - तैयार
3. ✗ चंचल - शिथिल
4. ✗ दुष्ट - विद्युत

Question Number : 166 Question Id : 5861802590 Question Type : MCQ Option Shuffling : Yes  
Correct Marks : 1 Wrong Marks : 0.25

‘लङ्कपन’ किस प्रकार की संज्ञा है?

Options :

1. ✗ जातिवाचक
2. ✗ व्यक्तिवाचक
3. ✓ भाववाचक
4. ✗ पदार्थवाचक

Question Number : 166 Question Id : 5861802590 Question Type : MCQ Option Shuffling : Yes  
Correct Marks : 1 Wrong Marks : 0.25

‘लङ्कपन’ किस प्रकार की संज्ञा है?

Options :

1. ✗ जातिवाचक
2. ✗ व्यक्तिवाचक
3. ✓ भाववाचक
4. ✗ पदार्थवाचक

Question Number : 167 Question Id : 5861802591 Question Type : MCQ Option Shuffling : Yes  
Correct Marks : 1 Wrong Marks : 0.25

‘तिस’ किस सर्वनाम का रूप है?

Options :

1. ✖ यह
2. ✖ वह
3. ✖ जो
4. ✔ सो

Question Number : 167 Question Id : 5861802591 Question Type : MCQ Option Shuffling : Yes  
Correct Marks : 1 Wrong Marks : 0.25

‘तिस’ किस सर्वनाम का रूप है?

Options :

1. ✖ यह
2. ✖ वह
3. ✖ जो
4. ✔ सो

Question Number : 168 Question Id : 5861802592 Question Type : MCQ Option Shuffling : Yes  
Correct Marks : 1 Wrong Marks : 0.25

‘सूखा’ किस प्रकार का विशेषण है?

Options :

1. ✔ गुणवाचक
2. ✖ परिमाण बोधक
3. ✖ सार्वनामिक
4. ✖ संख्यावाची

Question Number : 168 Question Id : 5861802592 Question Type : MCQ Option Shuffling : Yes  
Correct Marks : 1 Wrong Marks : 0.25

‘सूखा’ किस प्रकार का विशेषण है?

Options :

1. ✔ गुणवाचक



2. ✖ परिमाण बोधक
3. ✖ सार्वनामिक
4. ✖ संख्यावाची

Question Number : 169 Question Id : 5861802593 Question Type : MCQ Option Shuffling : Yes  
Correct Marks : 1 Wrong Marks : 0.25

निम्न में सकर्मक धातु है:

Options :

1. ✖ फिरना
2. ✖ दिखना
3. ✔ बिगाड़ना
4. ✖ खुलना

Question Number : 169 Question Id : 5861802593 Question Type : MCQ Option Shuffling : Yes  
Correct Marks : 1 Wrong Marks : 0.25

निम्न में सकर्मक धातु है:

Options :

1. ✖ फिरना
2. ✖ दिखना
3. ✔ बिगाड़ना
4. ✖ खुलना

Question Number : 170 Question Id : 5861802594 Question Type : MCQ Option Shuffling : Yes  
Correct Marks : 1 Wrong Marks : 0.25

‘सब लोग सोए पड़े थे’ वाक्य में क्रिया विशेषण है:

Options :

1. ✖ सब लोग
2. ✔ सोए
3. ✖ पड़े
4. ✖ थे

Question Number : 170 Question Id : 5861802594 Question Type : MCQ Option Shuffling : Yes

Correct Marks : 1 Wrong Marks : 0.25

‘सब लोग सोए पड़े थे।’ वाक्य में क्रिया विशेषण है:

Options :

1. ✖ सब लोग
2. ✔ सोए
3. ✖ पड़े
4. ✖ थे

Question Number : 171 Question Id : 5861802595 Question Type : MCQ Option Shuffling : Yes

Correct Marks : 1 Wrong Marks : 0.25

‘अन्वेषण’ का संधि विच्छेद होगा:

Options :

1. ✔ अनु + एषण
2. ✖ अनू + एषण
3. ✖ अनु + वेषण
4. ✖ अनू + वेषण

Question Number : 171 Question Id : 5861802595 Question Type : MCQ Option Shuffling : Yes

Correct Marks : 1 Wrong Marks : 0.25

‘अन्वेषण’ का संधि विच्छेद होगा:

Options :

1. ✔ अनु + एषण
2. ✖ अनू + एषण
3. ✖ अनु + वेषण
4. ✖ अनू + वेषण

Question Number : 172 Question Id : 5861802596 Question Type : MCQ Option Shuffling : Yes

Correct Marks : 1 Wrong Marks : 0.25

‘सहस्रबाहु’ में कौन सा समास है?

Options :

1. ✖ तत्पुरुष

2. ✖ द्वंद्व
3. ✖ अव्ययीभाव
4. ✔ बहुब्रीहि

Question Number : 172 Question Id : 5861802596 Question Type : MCQ Option Shuffling : Yes  
Correct Marks : 1 Wrong Marks : 0.25

‘सहस्रबाहु’ में कौन सा समास है?

Options :

1. ✖ तत्पुरुष
2. ✖ द्वंद्व
3. ✖ अव्ययीभाव
4. ✔ बहुब्रीहि

Question Number : 173 Question Id : 5861802597 Question Type : MCQ Option Shuffling : Yes  
Correct Marks : 1 Wrong Marks : 0.25

‘अधोगति’ में किस उपसर्ग का प्रयोग हुआ है?

Options :

1. ✖ अ
2. ✖ अध
3. ✖ अधि
4. ✔ अधस्

Question Number : 173 Question Id : 5861802597 Question Type : MCQ Option Shuffling : Yes  
Correct Marks : 1 Wrong Marks : 0.25

‘अधोगति’ में किस उपसर्ग का प्रयोग हुआ है?

Options :

1. ✖ अ
2. ✖ अध
3. ✖ अधि
4. ✔ अधस्

Question Number : 174 Question Id : 5861802598 Question Type : MCQ Option Shuffling : Yes  
Correct Marks : 1 Wrong Marks : 0.25

‘राधेय’ में किस प्रत्यय का प्रयोग हुआ है?

Options :

1. ✖ य
2. ✔ एय
3. ✖ धेय
4. ✖ रा

Question Number : 174 Question Id : 5861802598 Question Type : MCQ Option Shuffling : Yes  
Correct Marks : 1 Wrong Marks : 0.25

‘राधेय’ में किस प्रत्यय का प्रयोग हुआ है?

Options :

1. ✖ य
2. ✔ एय
3. ✖ धेय
4. ✖ रा

Question Number : 175 Question Id : 5861802599 Question Type : MCQ Option Shuffling : Yes  
Correct Marks : 1 Wrong Marks : 0.25

निम्न में कौन सा शब्द स्त्रीलिंग नहीं है?

Options :

1. ✔ तकिया
2. ✖ तबीयत
3. ✖ तलवार
4. ✖ ताकत

Question Number : 175 Question Id : 5861802599 Question Type : MCQ Option Shuffling : Yes  
Correct Marks : 1 Wrong Marks : 0.25

निम्न में कौन सा शब्द स्त्रीलिंग नहीं है?

Options :

1. ✔ तकिया

2. ✖ तबीयत
3. ✖ तलवार
4. ✖ ताकत

Question Number : 176 Question Id : 5861802600 Question Type : MCQ Option Shuffling : Yes  
Correct Marks : 1 Wrong Marks : 0.25

‘दैव का मारा वह’ किस पदबन्ध का उदाहरण है?

Options :

1. ✖ संज्ञा पदबन्ध
2. ✖ विशेषण पदबन्ध
3. ✔ सर्वनाम पदबन्ध
4. ✖ क्रिया पदबन्ध

Question Number : 176 Question Id : 5861802600 Question Type : MCQ Option Shuffling : Yes  
Correct Marks : 1 Wrong Marks : 0.25

‘दैव का मारा वह’ किस पदबन्ध का उदाहरण है?

Options :

1. ✖ संज्ञा पदबन्ध
2. ✖ विशेषण पदबन्ध
3. ✔ सर्वनाम पदबन्ध
4. ✖ क्रिया पदबन्ध

Question Number : 177 Question Id : 5861802601 Question Type : MCQ Option Shuffling : Yes  
Correct Marks : 1 Wrong Marks : 0.25

‘मैं नहीं जानता कि मोहन कहाँ है।’ वाक्य में ‘मोहन कहाँ है’ किस प्रकार का उपवाक्य है?

Options :

1. ✖ क्रिया उपवाक्य
2. ✖ क्रिया विशेषण उपवाक्य
3. ✔ संज्ञा उपवाक्य
4. ✖ विशेषण उपवाक्य

Question Number : 177 Question Id : 5861802601 Question Type : MCQ Option Shuffling : Yes  
Correct Marks : 1 Wrong Marks : 0.25

‘मैं नहीं जानता कि मोहन कहाँ है।’ वाक्य में ‘मोहन कहाँ है’ किस प्रकार का उपवाक्य है?

Options :

1. ✖ क्रिया उपवाक्य
2. ✖ क्रिया विशेषण उपवाक्य
3. ✔ संज्ञा उपवाक्य
4. ✖ विशेषण उपवाक्य

Question Number : 178 Question Id : 5861802602 Question Type : MCQ Option Shuffling : Yes  
Correct Marks : 1 Wrong Marks : 0.25

‘सागर लहराता है।’ किस प्रकार का वाक्य है?

Options :

1. ✖ उपवाक्य
2. ✔ सरल वाक्य
3. ✖ संयुक्त वाक्य
4. ✖ मिश्र वाक्य

Question Number : 178 Question Id : 5861802602 Question Type : MCQ Option Shuffling : Yes  
Correct Marks : 1 Wrong Marks : 0.25

‘सागर लहराता है।’ किस प्रकार का वाक्य है?

Options :

1. ✖ उपवाक्य
2. ✔ सरल वाक्य
3. ✖ संयुक्त वाक्य
4. ✖ मिश्र वाक्य

Question Number : 179 Question Id : 5861802603 Question Type : MCQ Option Shuffling : Yes  
Correct Marks : 1 Wrong Marks : 0.25

पदक्रम की दृष्टि से कौन सा वाक्य शुद्ध है?

Options :

1. ✓ यह मेरी प्रिय पुस्तक है।
2. ✖ यह प्रिय पुस्तक है मेरी।
3. ✖ मेरी प्रिय पुस्तक है यह।
4. ✖ प्रिय पुस्तक है यह मेरी।

Question Number : 179 Question Id : 5861802603 Question Type : MCQ Option Shuffling : Yes  
Correct Marks : 1 Wrong Marks : 0.25

पदक्रम की दृष्टि से कौन सा वाक्य शुद्ध है?

Options :

1. ✓ यह मेरी प्रिय पुस्तक है।
2. ✖ यह प्रिय पुस्तक है मेरी।
3. ✖ मेरी प्रिय पुस्तक है यह।
4. ✖ प्रिय पुस्तक है यह मेरी।

Question Number : 180 Question Id : 5861802604 Question Type : MCQ Option Shuffling : Yes  
Correct Marks : 1 Wrong Marks : 0.25

अन्वय की दृष्टि से कौन सा वाक्य शुद्ध है?

Options :

1. ✖ राधा ने कृष्ण को पुकारो।
2. ✖ राधा ने कृष्ण को पुकारे।
3. ✖ राधा ने कृष्ण को पुकारी।
4. ✓ राधा ने कृष्ण को पुकारा।

Question Number : 180 Question Id : 5861802604 Question Type : MCQ Option Shuffling : Yes  
Correct Marks : 1 Wrong Marks : 0.25

अन्वय की दृष्टि से कौन सा वाक्य शुद्ध है?

Options :

1. ✖ राधा ने कृष्ण को पुकारो।
2. ✖ राधा ने कृष्ण को पुकारे।
3. ✖ राधा ने कृष्ण को पुकारी।



4. ✓ राधा ने कृष्ण को पुकारा।

General Hindi2

Group Number :	10
Group Id :	586180121
Group Maximum Duration :	0
Group Minimum Duration :	120
Show Attended Group? :	No
Edit Attended Group? :	No
Break time:	0
Group Marks:	20
Is this Group for Examiner?:	No
Revisit allowed for group Instructions? :	Yes
Maximum Instruction Time:	0
Minimum Instruction Time:	0

General Hindi2

Section Id :	586180125
Section Number :	1
Section type :	Online
Mandatory or Optional:	Mandatory
Number of Questions:	12
Number of Questions to be attempted:	12
Section Marks:	20

Sub-Section Number:	1
Sub-Section Id:	586180170
Question Shuffling Allowed :	Yes

Question Number : 181 Question Id : 5861802605 Question Type : MCQ Option Shuffling : Yes  
Correct Marks : 1 Wrong Marks : 0.25

‘नौका’ का पर्यायवाची है?

Options :

- 1. ✓ पतंग
- 2. ✗ तुरंग
- 3. ✗ तुंग
- 4. ✗ तटिनी

Question Number : 181 Question Id : 5861802605 Question Type : MCQ Option Shuffling : Yes  
Correct Marks : 1 Wrong Marks : 0.25

‘नौका’ का पर्यायवाची है?

Options :

1. ✓ पतंग
2. ✗ तुरंग
3. ✗ तुंग
4. ✗ तटिनी

Question Number : 182 Question Id : 5861802606 Question Type : MCQ Option Shuffling : Yes

Correct Marks : 1 Wrong Marks : 0.25

‘समुद्र’ का पर्यायवाची नहीं है:

Options :

1. ✗ सिंधु
2. ✗ पयोधि
3. ✓ पद्माकर
4. ✗ रत्नाकर

Question Number : 182 Question Id : 5861802606 Question Type : MCQ Option Shuffling : Yes

Correct Marks : 1 Wrong Marks : 0.25

‘समुद्र’ का पर्यायवाची नहीं है:

Options :

1. ✗ सिंधु
2. ✗ पयोधि
3. ✓ पद्माकर
4. ✗ रत्नाकर

Question Number : 183 Question Id : 5861802607 Question Type : MCQ Option Shuffling : Yes

Correct Marks : 1 Wrong Marks : 0.25

‘व्याल’ किसका पर्यायवाची है?

Options :

1. ✗ बाण

2. ✓ सर्प

3. ✗ पक्षी

4. ✗ घोड़ा

Question Number : 183 Question Id : 5861802607 Question Type : MCQ Option Shuffling : Yes  
Correct Marks : 1 Wrong Marks : 0.25

‘व्याल’ किसका पर्यायवाची है?

Options :

1. ✗ बाण

2. ✓ सर्प

3. ✗ पक्षी

4. ✗ घोड़ा

Question Number : 184 Question Id : 5861802608 Question Type : MCQ Option Shuffling : Yes  
Correct Marks : 1 Wrong Marks : 0.25

‘जनार्दन’ किसका पर्यायवाची है?

Options :

1. ✗ ब्रह्मा

2. ✗ शिव

3. ✗ इन्द्र

4. ✓ विष्णु

Question Number : 184 Question Id : 5861802608 Question Type : MCQ Option Shuffling : Yes  
Correct Marks : 1 Wrong Marks : 0.25

‘जनार्दन’ किसका पर्यायवाची है?

Options :

1. ✗ ब्रह्मा

2. ✗ शिव

3. ✗ इन्द्र

4. ✓ विष्णु

Question Number : 185 Question Id : 5861802609 Question Type : MCQ Option Shuffling : Yes

Correct Marks : 1 Wrong Marks : 0.25

‘अंक’ किसका पर्यायवाची नहीं है?

Options :

1. ✖ भाग्य
2. ✔ पलंग
3. ✖ चिह्न
4. ✖ संख्या

Question Number : 185 Question Id : 5861802609 Question Type : MCQ Option Shuffling : Yes

Correct Marks : 1 Wrong Marks : 0.25

‘अंक’ किसका पर्यायवाची नहीं है?

Options :

1. ✖ भाग्य
2. ✔ पलंग
3. ✖ चिह्न
4. ✖ संख्या

Question Number : 186 Question Id : 5861802610 Question Type : MCQ Option Shuffling : Yes

Correct Marks : 1 Wrong Marks : 0.25

‘उदार’ का विलोम शब्द है:

Options :

1. ✔ अनुदार
2. ✖ निर्दय
3. ✖ कर्कश
4. ✖ कठोर

Question Number : 186 Question Id : 5861802610 Question Type : MCQ Option Shuffling : Yes

Correct Marks : 1 Wrong Marks : 0.25

‘उदार’ का विलोम शब्द है:

Options :

1. ✔ अनुदार
2. ✖ निर्दय

3. ✖ कर्कश

4. ✖ कठोर

Question Number : 187 Question Id : 5861802611 Question Type : MCQ Option Shuffling : Yes

Correct Marks : 1 Wrong Marks : 0.25

‘अनुरक्त’ का विलोम होगा:

Options :

1. ✖ विरह

2. ✖ विराग

3. ✖ विरक्ति

4. ✔ विरक्त

Question Number : 187 Question Id : 5861802611 Question Type : MCQ Option Shuffling : Yes

Correct Marks : 1 Wrong Marks : 0.25

‘अनुरक्त’ का विलोम होगा:

Options :

1. ✖ विरह

2. ✖ विराग

3. ✖ विरक्ति

4. ✔ विरक्त

Question Number : 188 Question Id : 5861802612 Question Type : MCQ Option Shuffling : Yes

Correct Marks : 1 Wrong Marks : 0.25

‘आरोह’ किसका विलोम है?

Options :

1. ✖ संवृत्त

2. ✖ विवृत्त

3. ✔ अवरोह

4. ✖ समारोह

Question Number : 188 Question Id : 5861802612 Question Type : MCQ Option Shuffling : Yes

Correct Marks : 1 Wrong Marks : 0.25

‘आरोह’ किसका विलोम है?

Options :

1. ✖ संवृत्त
2. ✖ विवृत्त
3. ✔ अवरोह
4. ✖ समारोह

Question Number : 189 Question Id : 5861802613 Question Type : MCQ Option Shuffling : Yes

Correct Marks : 1 Wrong Marks : 0.25

‘राजा ने भिखारी को यथेष्ट भिक्षा दी।’ पंक्ति के रेखांकित शब्द का विलोम होगा:

Options :

1. ✖ अधिक
2. ✔ कम
3. ✖ अतुल
4. ✖ असीम

Question Number : 189 Question Id : 5861802613 Question Type : MCQ Option Shuffling : Yes

Correct Marks : 1 Wrong Marks : 0.25

‘राजा ने भिखारी को यथेष्ट भिक्षा दी।’ पंक्ति के रेखांकित शब्द का विलोम होगा:

Options :

1. ✖ अधिक
2. ✔ कम
3. ✖ अतुल
4. ✖ असीम

Question Number : 190 Question Id : 5861802614 Question Type : MCQ Option Shuffling : Yes

Correct Marks : 1 Wrong Marks : 0.25

‘दिगंबर’ का विलोम है:

Options :

1. ✖ विवस्त्र

2. ✖ वस्त्रहीन
3. ✔ वस्त्रधारी
4. ✖ आडंबर

Question Number : 190 Question Id : 5861802614 Question Type : MCQ Option Shuffling : Yes  
Correct Marks : 1 Wrong Marks : 0.25

‘दिगंबर’ का विलोम है:

Options :

1. ✖ विवस्त्र
2. ✖ वस्त्रहीन
3. ✔ वस्त्रधारी
4. ✖ आडंबर

Sub-Section Number: 2  
Sub-Section Id: 586180171  
Question Shuffling Allowed : Yes

Question Id : 5861802615 Question Type : COMPREHENSION Sub Question Shuffling Allowed : Yes Group Comprehension Questions : No  
Question Numbers : (191 to 195)

Question Label : Comprehension



नीचे दिये गए गद्यांश को पढ़कर पूछे गये प्रश्नों के उत्तर दीजिए।  
सूर भक्ति-काल में ओजपूर्ण और मार्मिक वाणी को लेकर प्रकट हुए। उन्होंने एक ऐसे संसार की परिकल्पना की जो आज भी प्रासंगिक है। सूर्य की गोपियां उस कृष्ण से प्रेम करती हैं जो ब्रज अर्थात् गांव में निवास करता है न कि मथुरा अर्थात् नगर में। सूर को नगर और गाँव की संस्कृति का ठीक से ज्ञान है। सूर जानते हैं कि नगर में ठग, व्यापारी, चोर, नीच कर्म करने वाले होते हैं तथा गाँव की जनता भोली, एक दूसरे के दुःख से दुखी और एक दूसरे के सुख से सुखी होने वाली होती है। तभी तो वे लिखते हैं 'आयो घोष बड़े व्यापारी' या 'वा मथुरा काजर की कोठरी'। सूर शहरी संस्कृति से भली-भांति परिचित हैं और मथुरा को काजर की कोठरी तक कहने से नहीं हिचकते। ऐसे शहरी को सूर ठीक से पहचानते हैं। ब्रज जैसे गाँव की आवश्यकता आज भी बनी हुई है जहाँ प्रेम और मानव मूल्य सर्वोपरि है, जहाँ दूसरी स्त्री से जन्मे बालक को उसकी जन्मना माता से भी अधिक प्रेम और वात्सल्य मिलता हो। सूर की गोपियों की क्रांतिकारिता आज भी कम नहीं हुई है। मुरली की धुन कानों में पड़ते ही गोपियाँ काम-काज तो छोड़िये सभी सामाजिक बंधनों तथा सामंतवाद, पितृसत्ता का त्याग करके भागती हैं। यह भागना ही उन सभी कुरीतियों का प्रतिकार है। सूर अपनी गोपियों को स्वच्छंद रखने में सफल रहे हैं।

Sub questions

Question Number : 191 Question Id : 5861802616 Question Type : MCQ Option Shuffling : Yes

Correct Marks : 1 Wrong Marks : 0.25

गद्यांश में किस कवि का उल्लेख है?

Options :

1. \* कबीरदास
2. \* तुलसीदास
3. \* मीराबाई
4. ✓ सूरदास

Question Number : 192 Question Id : 5861802617 Question Type : MCQ Option Shuffling : Yes

Correct Marks : 1 Wrong Marks : 0.25

‘परिकल्पना’ का अर्थ है:

Options :

1. ✓ अनुमान
2. \* भविष्यवाणी

3. ✖ उदाहरण

4. ✖ आदर्श

Question Number : 193 Question Id : 5861802618 Question Type : MCQ Option Shuffling : Yes  
Correct Marks : 1 Wrong Marks : 0.25

‘वात्सल्य’ का अर्थ है:

Options :

1. ✔ स्नेह

2. ✖ आदर

3. ✖ श्रद्धा

4. ✖ अपमान

Question Number : 194 Question Id : 5861802619 Question Type : MCQ Option Shuffling : Yes  
Correct Marks : 1 Wrong Marks : 0.25

सूर किस संस्कृति का प्रतिरोध करते हैं?

Options :

1. ✖ ग्रामीण संस्कृति

2. ✔ शहरी संस्कृति

3. ✖ भारतीय संस्कृति

4. ✖ कृषक संस्कृति

Question Number : 195 Question Id : 5861802620 Question Type : MCQ Option Shuffling : Yes  
Correct Marks : 1 Wrong Marks : 0.25

‘स्वच्छंद’ का आशय है:

Options :

1. ✖ अधीन

2. ✖ पराधीन

3. ✔ स्वाधीन

4. ✖ निर्भर

Question Id : 5861802615 Question Type : COMPREHENSION Sub Question Shuffling Allowed : Yes Group Comprehension  
Questions : No

Question Numbers : (191 to 195)

Question Label : Comprehension

नीचे दिये गए गद्यांश को पढ़कर पूछे गये प्रश्नों के उत्तर दीजिए।  
सूर भक्ति-काल में ओजपूर्ण और मार्मिक वाणी को लेकर प्रकट हुए। उन्होंने एक ऐसे संसार की परिकल्पना की जो आज भी प्रासंगिक है। सूर्य की गोपियां उस कृष्ण से प्रेम करती हैं जो ब्रज अर्थात् गांव में निवास करता है न कि मथुरा अर्थात् नगर में। सूर को नगर और गाँव की संस्कृति का ठीक से ज्ञान है। सूर जानते हैं कि नगर में ठग, व्यापारी, चोर, नीच कर्म करने वाले होते हैं तथा गाँव की जनता भोली, एक दूसरे के दुःख से दुखी और एक दूसरे के सुख से सुखी होने वाली होती है। तभी तो वे लिखते हैं 'आयो घोष बड़े व्यापारी' या 'वा मथुरा काजर की कोठरी'। सूर शहरी संस्कृति से भली-भांति परिचित हैं और मथुरा को काजर की कोठरी तक कहने से नहीं हिचकते। ऐसे शहरी को सूर ठीक से पहचानते हैं। ब्रज जैसे गाँव की आवश्यकता आज भी बनी हुई है जहाँ प्रेम और मानव मूल्य सर्वोपरि है, जहाँ दूसरी स्त्री से जन्मे बालक को उसकी जन्मना माता से भी अधिक प्रेम और वात्सल्य मिलता हो। सूर की गोपियों की क्रांतिकारिता आज भी कम नहीं हुई है। मुरली की धुन कानों में पड़ते ही गोपियाँ काम-काज तो छोड़िये सभी सामाजिक बंधनों तथा सामंतवाद, पितृसत्ता का त्याग करके भागती हैं। यह भागना ही उन सभी कुरीतियों का प्रतिकार है। सूर अपनी गोपियों को स्वच्छंद रखने में सफल रहे हैं।

Sub questions

Question Number : 191 Question Id : 5861802616 Question Type : MCQ Option Shuffling : Yes  
Correct Marks : 1 Wrong Marks : 0.25

गद्यांश में किस कवि का उल्लेख है?

Options :

1. ✖ कबीरदास
2. ✖ तुलसीदास

3. ✖ मीराबाई

4. ✔ सूरदास

Question Number : 192 Question Id : 5861802617 Question Type : MCQ Option Shuffling : Yes  
Correct Marks : 1 Wrong Marks : 0.25

‘परिकल्पना’ का अर्थ है:

Options :

1. ✔ अनुमान

2. ✖ भविष्यवाणी

3. ✖ उदाहरण

4. ✖ आदर्श

Question Number : 193 Question Id : 5861802618 Question Type : MCQ Option Shuffling : Yes  
Correct Marks : 1 Wrong Marks : 0.25

‘वात्सल्य’ का अर्थ है:

Options :

1. ✔ स्नेह

2. ✖ आदर

3. ✖ श्रद्धा

4. ✖ अपमान

Question Number : 194 Question Id : 5861802619 Question Type : MCQ Option Shuffling : Yes  
Correct Marks : 1 Wrong Marks : 0.25

सूर किस संस्कृति का प्रतिरोध करते हैं?

Options :

1. ✖ ग्रामीण संस्कृति

2. ✔ शहरी संस्कृति

3. ✖ भारतीय संस्कृति

4. ✖ कृषक संस्कृति

Question Number : 195 Question Id : 5861802620 Question Type : MCQ Option Shuffling : Yes  
Correct Marks : 1 Wrong Marks : 0.25

‘स्वच्छंद’ का आशय है:

Options :

1. ✖ अधीन
2. ✖ पराधीन
3. ✔ स्वाधीन
4. ✖ निर्भर

Sub-Section Number: 3  
Sub-Section Id: 586180172  
Question Shuffling Allowed : Yes

Question Id : 5861802621 Question Type : COMPREHENSION Sub Question Shuffling Allowed : Yes Group Comprehension Questions : No  
Question Numbers : (196 to 200)

Question Label : Comprehension

नीचे दिये गए गद्यांश को पढ़कर पूछे गये प्रश्नों के उत्तर दीजिए।  
 आंचलिक उपन्यास में किसी अंचल विशेष में प्रचलित रीति-रिवाजों, खान-पान, विश्वास, आस्थाओं, बोली आदि का चित्रण होता है। इस चित्रण में वहाँ का लोक जीवन अपनी समग्रता के साथ चित्रित हो उठता है। ऐसे उपन्यासों में उस अंचल विशेष की संपूर्ण भौगोलिक स्थिति वहाँ के निवासियों की समस्या, संस्कृति, बोली, तीज-त्योहार, परंपराएँ, धार्मिक तथा नैतिक संघर्ष, रहन-सहन, लोक-गीत, लोक-नृत्य, लोक-भाषा, लोकोक्तियाँ, मुहावरे आदि सभी कुछ अपनी पूर्णता के साथ मुखरित हो उठते हैं। आंचलिक उपन्यास उन उपन्यासों को कहते हैं जिनमें एक विशेष अंचल के निवासियों का जीवन अपने समस्त रूप में विस्तार के साथ चित्रित होता है। इसमें किसी एक व्यक्ति या परिवार की कहानी न हो कर वर्ण्य अंचल के समस्त जन-जीवन की कहानी होती है। आंचलिक उपन्यासों में स्थानीय रंग प्रधान होता है। किंतु उन सभी उपन्यासों को जिनमें स्थानीय रंग हो, हम विशुद्ध आंचलिक उपन्यास नहीं कह सकते हैं। दोनों में उद्देश्य और चित्रण का मौलिक अंतर होता है। आंचलिक उपन्यासों में अंचल अपनी संपूर्ण विविधता और समग्रता के साथ चित्रित होता है। आंचलिक उपन्यास मानो हृदय में किसी प्रदेश की कसमसाती हुई जीवनानुभूति को वाणी देने का सार्थक प्रयास है।

Sub questions

Question Number : 196 Question Id : 5861802622 Question Type : MCQ Option Shuffling : Yes

Correct Marks : 1 Wrong Marks : 0.25

गद्यांश में किस प्रकार के उपन्यासों का विश्लेषण है?

Options :

1. ✖ सामाजिक उपन्यास
2. ✖ यथार्थवादी उपन्यास
3. ✖ मनोविश्लेषणात्मक उपन्यास
4. ✔ आंचलिक उपन्यास

Question Number : 197 Question Id : 5861802623 Question Type : MCQ Option Shuffling : Yes

Correct Marks : 1 Wrong Marks : 0.25

‘समग्रता’ का अर्थ है:

Options :

1. ✖ अधूरा
2. ✔ पूरा
3. ✖ विशिष्टता

#### 4. ✖ वैविध्य

Question Number : 198 Question Id : 5861802624 Question Type : MCQ Option Shuffling : Yes

Correct Marks : 1 Wrong Marks : 0.25

‘मुखरित’ का आशय है:

Options :

1. ✖ स्पष्ट

2. ✖ अस्पष्ट

3. ✔ ध्वनित

4. ✖ कल्पित

Question Number : 199 Question Id : 5861802625 Question Type : MCQ Option Shuffling : Yes

Correct Marks : 1 Wrong Marks : 0.25

आंचलिक उपन्यास के केंद्र में होता है:

Options :

1. ✖ व्यक्ति का जीवन

2. ✖ परिवार का जीवन

3. ✖ गाँव का जीवन

4. ✔ समस्त जन जीवन

Question Number : 200 Question Id : 5861802626 Question Type : MCQ Option Shuffling : Yes

Correct Marks : 1 Wrong Marks : 0.25

आंचलिक उपन्यास में प्रधान होता है:

Options :

1. ✔ स्थानीय रंग

2. ✖ राष्ट्रीय रंग

3. ✖ अंतर्राष्ट्रीय रंग

4. ✖ आध्यात्मिक रंग

Question Id : 5861802621 Question Type : COMPREHENSION Sub Question Shuffling Allowed : Yes Group Comprehension Questions : No

Question Numbers : (196 to 200)

Question Label : Comprehension

नीचे दिये गए गद्यांश को पढ़कर पूछे गये प्रश्नों के उत्तर दीजिए।  
 आंचलिक उपन्यास में किसी अंचल विशेष में प्रचलित रीति-रिवाजों, खान-पान, विश्वास, आस्थाओं, बोली आदि का चित्रण होता है। इस चित्रण में वहाँ का लोक जीवन अपनी समग्रता के साथ चित्रित हो उठता है। ऐसे उपन्यासों में उस अंचल विशेष की संपूर्ण भौगोलिक स्थिति वहाँ के निवासियों की समस्या, संस्कृति, बोली, तीज-त्योहार, परंपराएँ, धार्मिक तथा नैतिक संघर्ष, रहन-सहन, लोक-गीत, लोक-नृत्य, लोक-भाषा, लोकोक्तियाँ, मुहावरे आदि सभी कुछ अपनी पूर्णता के साथ मुखरित हो उठते हैं। आंचलिक उपन्यास उन उपन्यासों को कहते हैं जिनमें एक विशेष अंचल के निवासियों का जीवन अपने समस्त रूप में विस्तार के साथ चित्रित होता है। इसमें किसी एक व्यक्ति या परिवार की कहानी न हो कर वर्ण्य अंचल के समस्त जन-जीवन की कहानी होती है। आंचलिक उपन्यासों में स्थानीय रंग प्रधान होता है। किंतु उन सभी उपन्यासों को जिनमें स्थानीय रंग हो, हम विशुद्ध आंचलिक उपन्यास नहीं कह सकते हैं। दोनों में उद्देश्य और चित्रण का मौलिक अंतर होता है। आंचलिक उपन्यासों में अंचल अपनी संपूर्ण विविधता और समग्रता के साथ चित्रित होता है। आंचलिक उपन्यास मानो हृदय में किसी प्रदेश की कसमसाती हुई जीवनानुभूति को वाणी देने का सार्थक प्रयास है।

Sub questions

Question Number : 196 Question Id : 5861802622 Question Type : MCQ Option Shuffling : Yes  
 Correct Marks : 1 Wrong Marks : 0.25

गद्यांश में किस प्रकार के उपन्यासों का विश्लेषण है?

Options :

1. \* सामाजिक उपन्यास
2. \* यथार्थवादी उपन्यास



3. ✖ मनोविश्लेषणात्मक उपन्यास

4. ✔ आंचलिक उपन्यास

Question Number : 197 Question Id : 5861802623 Question Type : MCQ Option Shuffling : Yes

Correct Marks : 1 Wrong Marks : 0.25

‘समग्रता’ का अर्थ है:

Options :

1. ✖ अधूरा

2. ✔ पूरा

3. ✖ विशिष्टता

4. ✖ वैविध्य

Question Number : 198 Question Id : 5861802624 Question Type : MCQ Option Shuffling : Yes

Correct Marks : 1 Wrong Marks : 0.25

‘मुखरित’ का आशय है:

Options :

1. ✖ स्पष्ट

2. ✖ अस्पष्ट

3. ✔ ध्वनित

4. ✖ कल्पित

Question Number : 199 Question Id : 5861802625 Question Type : MCQ Option Shuffling : Yes

Correct Marks : 1 Wrong Marks : 0.25

आंचलिक उपन्यास के केंद्र में होता है:

Options :

1. ✖ व्यक्ति का जीवन

2. ✖ परिवार का जीवन

3. ✖ गाँव का जीवन

4. ✔ समस्त जन जीवन

Question Number : 200 Question Id : 5861802626 Question Type : MCQ Option Shuffling : Yes

Correct Marks : 1 Wrong Marks : 0.25

आंचलिक उपन्यास में प्रधान होता है:

Options :

1. ✓ स्थानीय रंग
2. ✖ राष्ट्रीय रंग
3. ✖ अंतर्राष्ट्रीय रंग
4. ✖ आध्यात्मिक रंग

