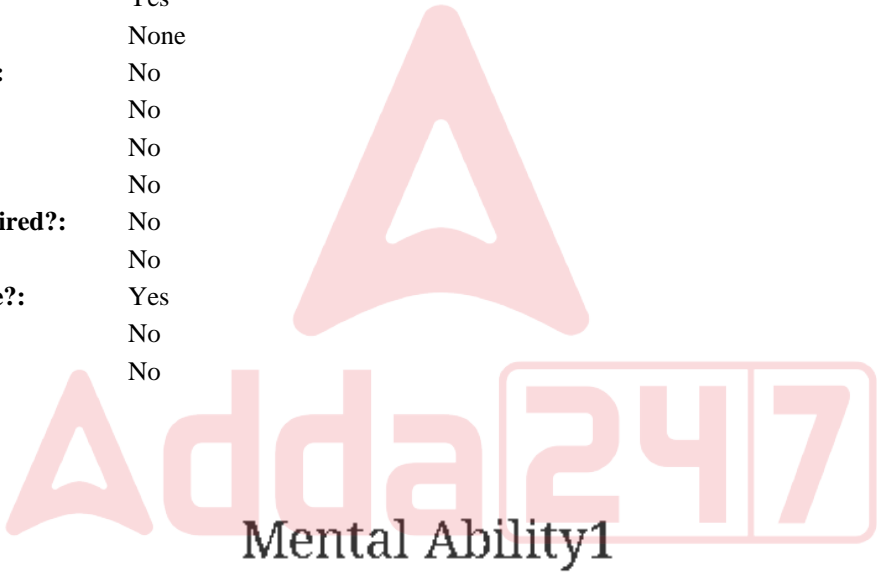


Education Consultant India Ltd.

Notations :

- 1.Options shown in green color and with ✓ icon are correct.
- 2.Options shown in red color and with ✖ icon are incorrect.

Question Paper Name:	GRADE II DASS 16th July 2019 Shift 3
Subject Name:	GRADE II DASS
Creation Date:	2019-07-16 19:33:44
Duration:	120
Total Marks:	200
Display Marks:	Yes
Share Answer Key With Delivery Engine:	No
Actual Answer Key:	Yes
Calculator:	None
Magnifying Glass Required?:	No
Ruler Required?:	No
Eraser Required?:	No
Scratch Pad Required?:	No
Rough Sketch/Notepad Required?:	No
Protractor Required?:	No
Show Watermark on Console?:	Yes
Highlighter:	No
Auto Save on Console?:	No



Group Number :	1
Group Id :	58618042
Group Maximum Duration :	0
Group Minimum Duration :	0
Show Attended Group? :	No
Edit Attended Group? :	No
Break time:	0
Group Marks:	20
Is this Group for Examiner?:	No
Revisit allowed for group Instructions? :	Yes
Maximum Instruction Time:	0
Minimum Instruction Time:	0

Mental Ability1

Section Id :	58618046
Section Number :	1

Adda247

Test Prime

ALL EXAMS, ONE SUBSCRIPTION



1,00,000+
Mock Tests



**Personalised
Report Card**



**Unlimited
Re-Attempt**



600+
Exam Covered



25,000+ Previous
Year Papers



500%
Refund



ATTEMPT FREE MOCK NOW

Section type :	Online
Mandatory or Optional:	Mandatory
Number of Questions:	20
Number of Questions to be attempted:	20
Section Marks:	20

Sub-Section Number:	1
Sub-Section Id:	58618061
Question Shuffling Allowed :	Yes

Question Number : 1 Question Id : 586180995 Question Type : MCQ Option Shuffling : Yes

Correct Marks : 1 Wrong Marks : 0.25

There is a certain relationship between two given words on one side of :: and one word is given on another side of :: while another word is to be found from the given alternatives, having the same relation with the word as the words of the given pair.

Choose the correct alternative.

Singers : Chorus :: Riders : ?

Options :

1. ✖ Herd
2. ✖ Group
3. ✖ Bunch
4. ✔ Cavalcade



Question Number : 1 Question Id : 586180995 Question Type : MCQ Option Shuffling : Yes

Correct Marks : 1 Wrong Marks : 0.25

:: के एक ओर दिए दो शब्दों के बीच एक निश्चित संबंध है, और :: के दूसरी ओर एक शब्द दिया गया है, जबकि दिए गए विकल्पों में से अन्य शब्द खोजना है जिसका उस शब्द से वही संबंध हो जो दिए गए जोड़े के शब्दों के बीच है।

सही विकल्प चुनें।

गायक : समूहगान :: सवार : ?

Options :

1. ✖ रेवड़

2. ✖ समूह

3. ✖ झुंड

4. ✔ घुड़सवार - दल

Question Number : 2 Question Id : 586180996 Question Type : MCQ Option Shuffling : Yes

Correct Marks : 1 Wrong Marks : 0.25

There is a certain relationship between two given numbers on one side of :: and one number is given on another side of :: while another number is to be found from the given alternatives, having the same relation with the number as the number of the given pair.

Choose the correct alternative.

11 : 104.5 :: 17 : ?

Options :

1. ✖ 85

2. ✖ 125.5

3. ✖ 147.5

4. ✔ 161.5

Question Number : 2 Question Id : 586180996 Question Type : MCQ Option Shuffling : Yes

Correct Marks : 1 Wrong Marks : 0.25

:: के एक ओर दी दो संख्याओं के बीच एक निश्चित संबंध है, और :: के दूसरी ओर एक संख्या दी गई है, जबकि दिए गए विकल्पों में से अन्य संख्या खोजनी है जिसका उस संख्या से वही संबंध हो जो दिए गए जोड़े की संख्याओं के बीच है।

सही विकल्प चुनें।

11 : 104.5 :: 17 : ?

Options :

1. ✖ 85

2. ✖ 125.5

3. ✖ 147.5

4. ✔ 161.5

Question Number : 3 Question Id : 586180997 Question Type : MCQ Option Shuffling : Yes

Correct Marks : 1 Wrong Marks : 0.25

Select the related word from the given alternatives.

PHOTO : FILM :: PHOTOSTAT : ?

Options :

1. ✔ Paper

2. ✖ Electricity

3. ✖ Voltage controller

4. ✖ Barometer

Question Number : 3 Question Id : 586180997 Question Type : MCQ Option Shuffling : Yes

Correct Marks : 1 Wrong Marks : 0.25

दिए गए विकल्पों में से संबंधित शब्द का चयन करें।

चित्र : फिल्म :: फोटोस्टेट : ?

Options :

1. ✓ कागज़
2. ✗ बिजली
3. ✗ वोल्टेज नियंत्रक
4. ✗ वायुमान यंत्र

Question Number : 4 Question Id : 586180998 Question Type : MCQ Option Shuffling : Yes

Correct Marks : 1 Wrong Marks : 0.25

A group of three interrelated numbers is given. Choose a numbers from the given alternatives that is similar to the given numbers and hence belongs to the same group.

107 : 109 : 113

Options :

1. ✗ 105
2. ✗ 111
3. ✗ 129
4. ✓ 157

Question Number : 4 Question Id : 586180998 Question Type : MCQ Option Shuffling : Yes

Correct Marks : 1 Wrong Marks : 0.25

तीन परस्पर संबंधित संख्याओं का एक समूह दिया गया है। दिए गए विकल्पों से वह संख्या चुनें जो दी गई संख्याओं के समान हो और इस प्रकार उसी समूह से संबंधित हो।

107 : 109 : 113

Options :

1. ✖ 105

2. ✖ 111

3. ✖ 129

4. ✔ 157

Question Number : 5 Question Id : 586180999 Question Type : MCQ Option Shuffling : Yes
Correct Marks : 1 Wrong Marks : 0.25

Which of the following is the same as **Kennel, Aviary, and Shed?**

Options :

1. ✔ Stable

2. ✖ Monk

3. ✖ Dog

4. ✖ Bird

Question Number : 5 Question Id : 586180999 Question Type : MCQ Option Shuffling : Yes
Correct Marks : 1 Wrong Marks : 0.25

निम्नलिखित में से कौन सा शब्द श्वानालय, पक्षीशाला और छप्पर से समानता रखता है।

Options :

1. ✔ अस्तबल

2. ✖ साधु

3. ✖ कुत्ता

4. ✖ चिड़िया

Question Number : 6 Question Id : 5861801000 Question Type : MCQ Option Shuffling : Yes

Correct Marks : 1 Wrong Marks : 0.25

Four pairs of words are given out of which the words in three pairs bear a certain common relationship. Choose the pair in which the words are differently related.

Options :

1. ✖ Kilogram : Gram

2. ✖ Litre : Millilitre

3. ✔ Scale : Length

4. ✖ Foot : Inch

Question Number : 6 Question Id : 5861801000 Question Type : MCQ Option Shuffling : Yes

Correct Marks : 1 Wrong Marks : 0.25

शब्दों के चार जोड़े दिए गए हैं जिनमें से तीन जोड़ों में शब्दों के बीच एक निश्चित समान संबंध है। वह जोड़ा चुनें जिसमें शब्द भिन्न प्रकार से परस्पर संबंधित हैं।

Options :

1. ✖ किलोग्राम : ग्राम

2. ✖ लीटर : मिलीलीटर

3. ✓ स्केल : लंबाई

4. ✗ फुट : इंच

Question Number : 7 Question Id : 5861801001 Question Type : MCQ Option Shuffling : Yes

Correct Marks : 1 Wrong Marks : 0.25

Four pairs of numbers are given out of which the numbers in three pairs bear a certain common relationship. Choose the pair in which the numbers are differently related.

Options :

1. ✗ 18-198

2. ✗ 15-165

3. ✗ 16-176

4. ✓ 21-273

Question Number : 7 Question Id : 5861801001 Question Type : MCQ Option Shuffling : Yes

Correct Marks : 1 Wrong Marks : 0.25

शब्दों के चार जोड़े दिए गए हैं जिनमें से तीन जोड़ों में शब्दों के बीच एक निश्चित समान संबंध है। वह जोड़ा चुनें जिसमें शब्द भिन्न प्रकार से परस्पर संबंधित हैं।

Options :

1. ✗ 18-198

2. ✗ 15-165

3. ✗ 16-176

4. ✓ 21-273

Question Number : 8 Question Id : 5861801002 Question Type : MCQ Option Shuffling : Yes

Correct Marks : 1 Wrong Marks : 0.25

One morning Dev walked 100m west from his house and then took right turn and walked 150m. Finally he took left turn and walked 100m to reach temple. What is the minimum distance and in which direction the temple is from the Dev's house?

Options :

1. ✗ 250 m North - East

2. ✗ 250 km North - West

3. ✓ 250 m North - West

4. ✗ 250 m South - West

Question Number : 8 Question Id : 5861801002 Question Type : MCQ Option Shuffling : Yes

Correct Marks : 1 Wrong Marks : 0.25

एक सुबह देव अपने घर से 100m पश्चिम की ओर चला और फिर दाहिने मुड़कर 150m चला। आखिर में वह फिर बाएं मुड़ा और 100m चलकर मंदिर पहुंच गया। देव के घर से मंदिर की न्यूनतम दूरी और इसकी दिशा क्या है?

Options :

1. ✗ 250 m उत्तर - पूर्व

2. ✗ 250 km उत्तर - पश्चिम

3. ✓ 250 m उत्तर - पश्चिम

4. ✗ 250 m दक्षिण - पश्चिम

Question Number : 9 Question Id : 5861801003 Question Type : MCQ Option Shuffling : Yes

Correct Marks : 1 Wrong Marks : 0.25

Sachin, Sahil, Sandhya, Sani, Sanju, Saurabh, Shweta and Sunil are sitting around a round table in the same order for lunch at equal distance. Their positions are clockwise. If Sanju sits in South- East, then what will be the position of Sandhya?

Options :

1. ✓ North - East

2. ✗ North

3. ✗ South

4. ✗ South - West

Question Number : 9 Question Id : 5861801003 Question Type : MCQ Option Shuffling : Yes

Correct Marks : 1 Wrong Marks : 0.25

सचिन, साहिल, संध्या, सनी, संजू, सौरभ, श्वेता और सुनील, लंच के लिए एक गोल मेज के चारों ओर समान दूरियों पर इसी क्रम में बैठे हैं। उनकी स्थिति दक्षिणावर्त है। यदि संजू दक्षिण-पूर्व में बैठा है, तो संध्या की स्थिति क्या होगी?

Options :

1. ✓ उत्तर - पूर्व

2. ✗ उत्तर

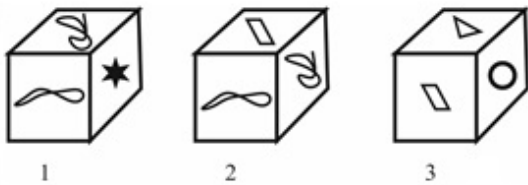
3. ✗ दक्षिण

4. ✗ दक्षिण - पश्चिम

Question Number : 10 Question Id : 5861801004 Question Type : MCQ Option Shuffling : Yes

Correct Marks : 1 Wrong Marks : 0.25

Three different positions of the same dice are shown. Find which one is opposite the face showing '★'?



Options :

1. ✖ 

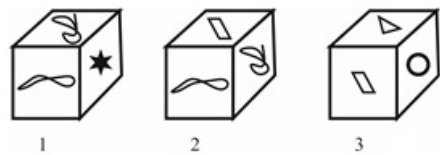
2. ✔ 

3. ✖ 

4. ✖ 

Question Number : 10 Question Id : 5861801004 Question Type : MCQ Option Shuffling : Yes
Correct Marks : 1 Wrong Marks : 0.25

एक पासे की तीन विभिन्न स्थितियां दर्शाई गई हैं। ज्ञात करें कि '★' के विपरीत फलक पर कौन सी आकृति होगी?



Options :

1. ✖ 

2. ✔ 

3. ✖ 

4. ✖ 

Question Number : 11 Question Id : 5861801005 Question Type : MCQ Option Shuffling : Yes

Correct Marks : 1 Wrong Marks : 0.25

Six children A, B, C, D, E and F are standing in a line. F is to the left of E and right of B. D is between A and B. A is standing right of C Who is standing at the second to the right A?

Options :

1. ✖ C

2. ✔ B

3. ✖ E

4. ✖ D

Question Number : 11 Question Id : 5861801005 Question Type : MCQ Option Shuffling : Yes

Correct Marks : 1 Wrong Marks : 0.25

छह बच्चे A, B, C, D, E और F एक पंक्ति में खड़े हैं। F, E के बाएं और B के दाएं है। D, A और B के बीच में है। A, C के दाएं खड़ा है। A के दाहिने से दूसरे स्थान पर कौन खड़ा है?

Options :

1. ✖ C

2. ✔ B

3. ✖ E

4. ✖ D

Question Number : 12 Question Id : 5861801006 Question Type : MCQ Option Shuffling : Yes

Correct Marks : 1 Wrong Marks : 0.25

S, T, U, V, X, Y and Z are sitting around a round table for group discussion. Y is sitting third to the right of S and between V and X. Z is sitting second to the left of T. V is sitting second to the left of X. What will be the position of Z?

Options :

1. ✖ Z is sitting second to the left of X

2. ✔ Z is sitting between U and S

3. ✖ Z is sitting second to the left of V

4. ✖ Z is sitting third to the left of X

Question Number : 12 Question Id : 5861801006 Question Type : MCQ Option Shuffling : Yes

Correct Marks : 1 Wrong Marks : 0.25

S, T, U, V, X, Y और Z समूह चर्चा के लिए एक गोलमेज के चारों ओर बैठे हैं। Y, S के दाएं तीसरे स्थान पर और V और X के बीच में है। Z, T के बाएं दूसरे स्थान पर है। V, X के बाएं दूसरे स्थान पर है। Z की स्थिति क्या है?

Options :

1. ✖ Z, X के बाएं दूसरे स्थान पर बैठा है।

2. ✔ Z, U और S के बीच में बैठा है।

3. ✖ Z, V के बाएं दूसरे स्थान पर बैठा है।

4. ✖ Z, X के बाएं तीसरे स्थान पर बैठा है।

Question Number : 13 Question Id : 5861801007 Question Type : MCQ Option Shuffling : Yes

Correct Marks : 1 Wrong Marks : 0.25

- I. Ram is sitting to the right of Manoj and Second to the left of Sohan.
- II. Shreya is sitting right of Sohan and second to the right of Dinesh.
- III. Dinesh is sitting middle of all.

If the first two statements are true, the third statement is:

Options :

1. ✓ True

2. ✖ False

3. ✖ May be true

4. ✖ Uncertain

Question Number : 13 Question Id : 5861801007 Question Type : MCQ Option Shuffling : Yes

Correct Marks : 1 Wrong Marks : 0.25

- I. राम, मनोज के दाईं ओर तथा सोहन के बाएं से दूसरे स्थान पर बैठा है।
- II. श्रेया सोहन के दाहिनी ओर, और दिनेश के दाईं ओर से दूसरे स्थान पर बैठी है।
- III. दिनेश सबके बीच में बैठा है।

यदि पहले दो कथन सत्य हैं, तो तीसरा कथन:

Options :

1. ✓ सही

2. ✖ गलत

3. ✖ सही हो सकता है।

4. ✖ अनिश्चित है।

Question Number : 14 Question Id : 5861801008 Question Type : MCQ Option Shuffling : Yes

Correct Marks : 1 Wrong Marks : 0.25

In an examination a student score 3 marks for every correct answer and losses 1 mark for every wrong answer. If he attempts all 60 questions and score 120 marks, the number of questions he attempt correctly is:

Options :

1. ✖ 60

2. ✖ 40

3. ✔ 45

4. ✖ 15

Question Number : 14 Question Id : 5861801008 Question Type : MCQ Option Shuffling : Yes

Correct Marks : 1 Wrong Marks : 0.25

एक परीक्षा में किसी छात्र को प्रत्येक सही उत्तर के लिए 3 अंक मिलते हैं और प्रत्येक गलत उत्तर के लिए 1 अंक काट लिया जाता है। यदि वह सभी 60 प्रश्न हल करता है और 120 अंक प्राप्त करता है, तो उसके द्वारा दिए गए सही उत्तरों की संख्या होगी:

Options :

1. ✖ 60

2. ✖ 40

3. ✔ 45

4. ✖ 15

Question Number : 15 Question Id : 5861801009 Question Type : MCQ Option Shuffling : Yes
Correct Marks : 1 Wrong Marks : 0.25
What will be the image of the figure if mirror is placed right of the figure?



Options :

1. ✖



2. ✖



3. ✔



4. ✖



Question Number : 15 Question Id : 5861801009 Question Type : MCQ Option Shuffling : Yes

Correct Marks : 1 Wrong Marks : 0.25

यदि दर्पण को आकृति के ठीक नीचे रखा जाता है, तो आकृति की छवि क्या होगी?



Options :



1. ✖



2. ✖



3. ✔



4. ✖

Question Number : 16 Question Id : 5861801010 Question Type : MCQ Option Shuffling : Yes

Correct Marks : 1 Wrong Marks : 0.25

Following are the criteria to recruit a Teacher in a college:

- I. The Applicant must be science graduate with 70% marks.
- II. Have his/her age in between 25 to 30 years as on 10-05-2019.
- III. Have a PG degree/ 3 years diploma and must have completed B.Ed. with more than 65% marks.
- IV. Have minimum 3 years' experience in Teaching.
- V. Be ready to join 2 year probation.

If a candidate satisfies all the criteria except

at III above, but is an Arts with Mathematics graduate with minimum 72% marks and has an experience of more than 5 years and more her/his case is to be referred to the Vice President.

at IV above, but master degrees with minimum 60% marks, her/his is to be referred to the President.

A detail of applicant is given below in the questions. On the basis of the following decision which is based on the data given above, mark the answer.

Devesh is a B.Sc. Graduate with 80% marks and has completed PG in Mathematics. He completed 28 years of age in 2017 and has 4 years' experience as a Mathematics Faculty. He is ready to join probation period of 2 year.

Note: For this question, discrepancy is found in question/answer. So, this question is ignored for all candidates.

Options :

1. If case is to be referred to President.
2. If case is to be referred to Vice President.
3. If candidate is to be selected.
4. If candidate is not to be selected.

Question Number : 16 Question Id : 5861801010 Question Type : MCQ Option Shuffling : Yes
Correct Marks : 1 Wrong Marks : 0.25

एक कॉलेज में एक शिक्षक की भर्ती हेतु मापदंड नीचे दिए गए हैं:

- I. आवेदक का 70% अंकों के साथ विज्ञान स्नातक होना अनिवार्य है।
- II. 10-05-2019 को उसकी आयु 25 से 30 वर्ष के बीच होनी चाहिए।
- III. पीजी डिग्री/3 वर्ष का डिप्लोमा हो अथवा 65% से अधिक अंकों के साथ बी.एड. पूरा किया हो।
- IV. शिक्षण में कम से कम 3 वर्ष का अनुभव हो।
- V. 2 वर्ष की परीक्षा पर नियुक्त होने के लिए तैयार हो।

यदि एक अभ्यर्थी समस्त मापदंड पूरे करता है सिवाय:

उक्त III के अतिरिक्त लेकिन न्यूनतम 72% अंकों के साथ गणित और कला स्नातक है, और 5 वर्ष से अधिक का अनुभव है, तो उसका मामला उपाध्यक्ष को संदर्भित किया जाएगा।

उक्त IV के अतिरिक्त, लेकिन न्यूनतम 60% अंकों के साथ मास्टर डिग्री है, तो उसका मामला अध्यक्ष को संदर्भित किया जाएगा।

प्रश्नगत एक आवेदक के विवरण नीचे दिए गए हैं। उक्त सूचनाओं के आधार पर निम्न निर्णय के आधार पर उत्तर चिन्हित करें।

देवेश 80% अंकों के साथ बी.एस.सी. स्नातक है, और गणित में पीजी पूरा किया है। 2017 में उसने 28 वर्ष आयु पूर्ण की है और गणित संकाय के रूप में 4 वर्ष का अनुभव है। वह 2 वर्ष की परीक्षा पर नियुक्त होने के लिए तैयार है।

Note: For this question, discrepancy is found in question/answer. So, this question is ignored for all candidates.

Options :

1. यदि मामला अध्यक्ष को संदर्भित किया जाना हो।
2. यदि मामला उपाध्यक्ष को संदर्भित किया जाना हो।
3. यदि अभ्यर्थी को नियुक्त किया जाना हो।
4. यदि अभ्यर्थी को नियुक्त नहीं किया जाना हो।

Following are qualifications for a technical assistant post in company Alpha.

The candidate must:-

- I. Be an Engineering graduate with atleast 70% marks.
- II. Not less than 23 years and not more than 30 years of age on 1.7.2019.
- III. Have passed the selection test with atleast 60% marks.
- IV. Willing to join immediate for training and ready to pay a deposit of Rs. 20000, to be refunded on completion of training.

However, if a candidate fulfils the above mentioned criteria except :

- i. At (I) above, but he has passed Master degree in Computer, his/her case may be referred to the V.P. of the company.
- ii. At (II) his/her age is less than 23 years but he secured 80% marks in graduation, the case may be referred to the General Manager of the company.

The detail of the candidate is given as regards his/her candidature. You have to read the information provided and decide his/her status based on the conditions given above.

Mahvish is an IT engineer passed his graduation with 60% marks. After getting the engineering degree he has done MCA. He has cleared the selection test with 70% marks.

He is ready to deposit above said amount and want to join immediately. His date of birth is 2.10.1993.

Options :

1. ✗ If the candidate is to be selected
2. ✗ If the candidate is not selected
3. ✓ If the case is referred to the V. P.
4. ✗ If the case is referred to the General Manager

Question Number : 17 Question Id : 5861801011 Question Type : MCQ Option Shuffling : Yes
Correct Marks : 1 Wrong Marks : 0.25

अल्फा कंपनी में एक तकनीकी सहायक के पद हेतु पात्रताएं नीचे दी गई हैं।

अभ्यर्थी के लिए निम्न अनिवार्य है:-

- I. कम से कम 70% अंकों के साथ इंजीनियरिंग में स्नातक हो।
- II. 1.7.2019 को आयु 23 वर्ष से कम और 30 वर्ष से अधिक न हो।
- III. न्यूनतम 60% अंकों के साथ चयन परीक्षा उत्तीर्ण की हो।
- IV. प्रशिक्षण हेतु तत्काल नियुक्त होने का इच्छुक हो और रुपये 20000 की राशि जमा करने के लिए तैयार हो, जो प्रशिक्षण पूर्ण होने पर वापस कर दी जाएगी।

हालांकि यदि कोई अभ्यर्थी, निम्न के सिवाय उक्तांकित मापदंड पूरे करता है तो:

- i. उक्त (I) के सिवाय, लेकिन उसने कंप्यूटर में मास्टर डिग्री करी हो, तो उसका मामला कंपनी के वी.पी. को संदर्भित किया जा सकता है।
- ii. उक्त (II) के सिवाय, लेकिन उसकी आयु 23 वर्ष से कम हो लेकिन उसने स्नातक में 80% अंक प्राप्त किए हों, तो उसका मामला कंपनी के महाप्रबंधक को संदर्भित किया जा सकता है।

अभ्यर्थी के अभ्यर्थन के संबंध में विवरण नीचे दिए गए हैं। आपको दी गई सूचना पढ़नी है और उक्त शर्तों के आधार पर उसकी स्थिति निर्धारित करनी है।

महविश एक आईटी इंजीनियर है जिसने 60% अंकों के साथ स्नातक उत्तीर्ण किया है। इंजीनियरिंग की डिग्री लेने के बाद उसने एमसीए किया। उसने 70% अंकों के साथ चयन परीक्षा उत्तीर्ण की है।

वह उक्त राशि जमा करने के लिए तैयार है और तत्काल नियुक्त होना चाहता है। उसकी जन्मतिथि 2.10.1993 है।

Options :

1. ✖ यदि अभ्यर्थी को चुना जाना हो।
2. ✖ यदि अभ्यर्थी को नहीं चुना जाना हो।
3. ✔ यदि मामला वी.पी. को संदर्भित किया जाना हो।
4. ✖ यदि मामला महाप्रबंधक को संदर्भित किया जाना हो।

The statement given below is followed by two decisions labeled I, and II. You have to assume everything in the statement to be true, and then decide which of the two suggested decisions logically follows for pursuing.

Statement: Today, as per census in the last 20 years there has been an almost continuous decline in mortality and fertility has been increased over the last 10 years. The consequence is that there has been a rapid growth in population over the last 15 years.

Decisions:

I: India should immediately adopt family planning program.

II: The government should launch a massive education program through social media highlighting the implication of population growth at the present rate.

Options :

1. ✖ Only I follows

2. ✔ Both I and II follow

3. ✖ Either I or II follow

4. ✖ Only II follows

Question Number : 18 Question Id : 5861801012 Question Type : MCQ Option Shuffling : Yes

Correct Marks : 1 Wrong Marks : 0.25

नीचे दिए कथन के बाद दो निर्णय I, और II दिए गए हैं। आपको कथन को पूर्णतया सत्य मानना है और फिर यह निर्धारित करना है कि दोनों में से कौन से निर्णय तर्कसंगत रूप से सही हैं।

कथन: पिछले 20 वर्षों में जनगणना के अनुसार आज, मृत्यु दर में लगभग निरंतर गिरावट आई है और पिछले 10 वर्षों में जन्म दर में वृद्धि हुई है। परिणाम यह हुआ है कि पिछले 15 वर्षों में जनसंख्या में तेजी से वृद्धि हुई है।

निर्णय:

I: भारत को तुरंत परिवार नियोजन कार्यक्रम अपनाना चाहिए।

II: सरकार को वर्तमान दर पर जनसंख्या वृद्धि के नुकसानों पर प्रकाश डालते हुए सोशल मीडिया के माध्यम से एक बड़े पैमाने पर जनशिक्षा कार्यक्रम शुरू करना चाहिए।

Options :

1. ✖ केवल I सही है।

2. ✓ I और II दोनों सही हैं।

3. ✗ या तो I या II सही हैं।

4. ✗ केवल II सही है।

Question Number : 19 Question Id : 5861801013 Question Type : MCQ Option Shuffling : Yes

Correct Marks : 1 Wrong Marks : 0.25

The statement given below is followed by two decisions labeled I, and II. You have to assume everything in the statement to be true, and then decide which of the two suggested decisions logically follows for pursuing.

Statement: Orissa is badly affected by Fani cyclone and people will die due to drinking polluted water during these days.

Decisions:

I: The government should make adequate arrangement to provide safe drinking water to all affected people.

II: The people should be educated about dangers of drinking polluted water.

Options :

1. ✗ Only I follows

2. ✓ Both I and II follow

3. ✗ Either I or II follow

4. ✗ Only II follows

Question Number : 19 Question Id : 5861801013 Question Type : MCQ Option Shuffling : Yes

Correct Marks : 1 Wrong Marks : 0.25

नीचे दिए कथन के बाद दो निर्णय I, और II दिए गए हैं। आपको कथन को पूर्णतया सत्य मानना है और फिर यह निर्धारित करना है कि दोनों में से कौन से निर्णय तर्कसंगत रूप से सही हैं।

कथन: उड़ीसा अगर फेनी चक्रवात से बुरी तरह से प्रभावित हो जाता है तो इस दौरान प्रदूषित पानी पीने से लोगों की मृत्यु हो जाएगी।

निर्णय:

I: सरकार को सभी प्रभावित लोगों को सुरक्षित पेयजल उपलब्ध कराने के लिए पर्याप्त व्यवस्था करनी चाहिए।

II: लोगों को प्रदूषित पानी पीने के खतरों के बारे में शिक्षित किया जाना चाहिए।

Options :

1. ✖ केवल I सही है।

2. ✔ I और II दोनों सही हैं।

3. ✖ या तो I या II सही हैं।

4. ✖ केवल II सही है।

Question Number : 20 Question Id : 5861801014 Question Type : MCQ Option Shuffling : Yes

Correct Marks : 1 Wrong Marks : 0.25

Susheel walks a distance of 3 kms towards North, then turns to his left and walks for 2 kms. He again turns left and walks for 3 kms. At this point, he turns to his left and walks for 3 kms. How many kms is he from the starting point?

Options :

1. ✖ 5

2. ✖ 2

3. ✖ 3

4. ✓ 1

Question Number : 20 Question Id : 5861801014 Question Type : MCQ Option Shuffling : Yes
Correct Marks : 1 Wrong Marks : 0.25

सुशील उत्तर की ओर 3 kms चलता है, फिर अपनी बाईं ओर मुड़ता है और 2 kms तक चलता है। वह फिर से बाएं मुड़ता है और 3 kms चलता है। यहां आने के बाद वह बाईं ओर मुड़ता है, और 3 kms चलता है। वह अपने शुरुआती बिंदु से कितने kms दूर है।

Options :

1. ✗ 5

2. ✗ 2

3. ✗ 3

4. ✓ 1



Group Number :	2
Group Id :	58618043
Group Maximum Duration :	0
Group Minimum Duration :	0
Show Attended Group? :	No
Edit Attended Group? :	No
Break time:	0
Group Marks:	20
Is this Group for Examiner?:	No
Revisit allowed for group Instructions? :	Yes
Maximum Instruction Time:	0
Minimum Instruction Time:	0

Mental Ability2

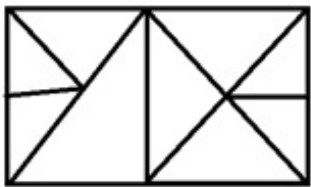
Section Id : 58618047

Section Number :	1
Section type :	Online
Mandatory or Optional:	Mandatory
Number of Questions:	20
Number of Questions to be attempted:	20
Section Marks:	20

Sub-Section Number:	1
Sub-Section Id:	58618062
Question Shuffling Allowed :	Yes

Question Number : 21 Question Id : 5861801015 Question Type : MCQ Option Shuffling : Yes
Correct Marks : 1 Wrong Marks : 0.25

How many triangles are in the figure?

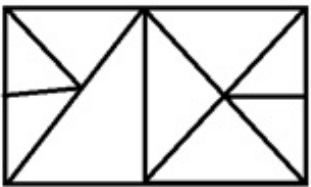


Options :

- 1. ✖ 16
- 2. ✔ 17
- 3. ✖ 19
- 4. ✖ 18

Question Number : 21 Question Id : 5861801015 Question Type : MCQ Option Shuffling : Yes
Correct Marks : 1 Wrong Marks : 0.25

चित्र में कितने त्रिभुज हैं?



Options :

1. ✖ 16

2. ✔ 17

3. ✖ 19

4. ✖ 18

Question Number : 22 Question Id : 5861801016 Question Type : MCQ Option Shuffling : Yes

Correct Marks : 1 Wrong Marks : 0.25

In a code language, PARENT is written as BDFGJK and CHILDREN is written as MOXQUFGJ, then how is REPRINT written in that code?

Options :

1. ✖ FGBFXGD

2. ✖ BGBFXJK

3. ✖ FGBUXJK

4. ✔ FGBFXJK

Question Number : 22 Question Id : 5861801016 Question Type : MCQ Option Shuffling : Yes

Correct Marks : 1 Wrong Marks : 0.25

एक कोड भाषा में, PARENT को BDFGJK और CHILDREN को MOXQUFGJ के रूप में लिखा जाता है, तो उसी कोड भाषा में REPRINT को कैसे लिखा जाएगा?

Options :

1. ✖ FGBFXGD

2. ✖ BGBFXJK

3. ✖ FGBUXJK

4. ✔ FGBFXJK

Question Number : 23 Question Id : 5861801017 Question Type : MCQ Option Shuffling : Yes

Correct Marks : 1 Wrong Marks : 0.25

Four letter clusters are given out of which the three letter clusters bear a certain common relationship. Choose the option in which the letter clusters are differently related.

Options :

1. ✖ BCDF

2. ✖ GHIK

3. ✖ LMNP

4. ✔ RSTU

Question Number : 23 Question Id : 5861801017 Question Type : MCQ Option Shuffling : Yes

Correct Marks : 1 Wrong Marks : 0.25

नीचे चार अक्षर समूह दिए गए हैं, जिनमें से तीन अक्षर समूह आपस में किसी ना किसी तरीके से संबंधित हैं। आपस में संबंध ना रखने वाले अक्षर समूहों का विकल्प चुनें।

Options :

1. ✖ BCDF

2. ✖ GHIK

3. ✖ LMNP

4. ✔ RSTU

Question Number : 24 Question Id : 5861801018 Question Type : MCQ Option Shuffling : Yes

Correct Marks : 1 Wrong Marks : 0.25

Four numbers are given out of which the three numbers bear a certain common relationship. Choose the number which is different from others.

Options :

1. ✔ 115

2. ✖ 756

3. ✖ 855

4. ✖ 198

Question Number : 24 Question Id : 5861801018 Question Type : MCQ Option Shuffling : Yes

Correct Marks : 1 Wrong Marks : 0.25

चार संख्याएं दी गई हैं, जिनमें से तीन संख्याओं के बीच एक निश्चित समान संबंध है। वह संख्या चुनें जो अन्य से भिन्न है।

Options :

1. ✔ 115

2. ✖ 756

3. ✖ 855

4. ✖ 198

Question Number : 25 Question Id : 5861801019 Question Type : MCQ Option Shuffling : Yes

Correct Marks : 1 Wrong Marks : 0.25

चार संख्याएं दी गई हैं, जिनमें से तीन संख्याओं के बीच एक निश्चित समान संबंध है। वह संख्या चुनें जो अन्य से भिन्न है।

Options :

1. ✖ 

2. ✖ 

3. ✔ 

4. ✖ 

Question Number : 25 Question Id : 5861801019 Question Type : MCQ Option Shuffling : Yes

Correct Marks : 1 Wrong Marks : 0.25

Four figures are given out of which the three figures bear a certain common relationship. Choose the figure which is different from others.

Options :

1. ✖



2. ✖



3. ✔



4. ✖



Question Number : 26 Question Id : 5861801020 Question Type : MCQ Option Shuffling : Yes

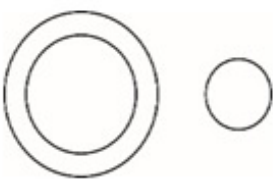
Correct Marks : 1 Wrong Marks : 0.25

Venn diagram that best represents the given set of classes:

Fathers, Males, Human Being

Options :

1. ✖



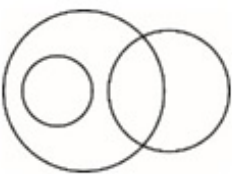
2. ✓



3. ✗



4. ✗



Question Number : 26 Question Id : 5861801020 Question Type : MCQ Option Shuffling : Yes

Correct Marks : 1 Wrong Marks : 0.25

कौन सा वेन आरेख, दिए गए वर्गों के समुच्चय को सर्वोत्तम निरूपित करता है:

पिता, पुरुष, मनुष्य

Options :

1. ✗

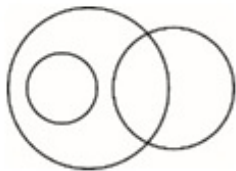


2. ✓





3. ✖



4. ✖

Question Number : 27 Question Id : 5861801021 Question Type : MCQ Option Shuffling : Yes
Correct Marks : 1 Wrong Marks : 0.25

Venn diagram that best represents the given set of classes:

SKINS, BONES, LIVER

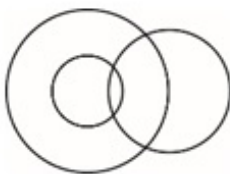
Options :



1. ✖




2. ✖



3. ✖

4. ✓



Question Number : 27 Question Id : 5861801021 Question Type : MCQ Option Shuffling : Yes
Correct Marks : 1 Wrong Marks : 0.25

कौन सा वेन आरेख, दिए गए वर्गों के समुच्चय को सर्वोत्तम निरूपित करता है:

त्वचा, हड्डी, यकृत

Options :

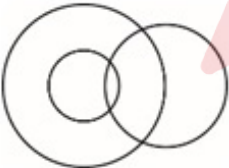
1. ✗




2. ✗



3. ✗



4. ✓



Question Number : 28 Question Id : 5861801022 Question Type : MCQ Option Shuffling : Yes
Correct Marks : 1 Wrong Marks : 0.25

If 'A - B' means A is mother of B, 'A \$ B', A is sister of B, 'A @ B' means A is father of B and 'A=B' means A is son of B.

If R-S \$ O @ P = Q, then how Q is related to R?

Options :

1. ✓ Daughter in law

2. ✗ Son

3. ✗ Daughter

4. ✗ Niece

Question Number : 28 Question Id : 5861801022 Question Type : MCQ Option Shuffling : Yes

Correct Marks : 1 Wrong Marks : 0.25

यदि 'A - B' का अर्थ A, B की मां है, 'A \$ B' का अर्थ A, B की बहन है, 'A @ B' का अर्थ A, B का पिता है, और 'A = B' का अर्थ A, B का पुत्र है।

यदि R-S \$ O @ P = Q, तो Q, R से किस प्रकार संबंधित है?

Options :

1. ✓ बहु

2. ✗ बेटा

3. ✗ बेटी

4. ✗ भांजी

Question Number : 29 Question Id : 5861801023 Question Type : MCQ Option Shuffling : Yes

Correct Marks : 1 Wrong Marks : 0.25

Ram and Mohan are brothers. Shweta and Anu are sisters. Dinesh is husband of Manju, who is daughter of Manoj. Ram is son Manoj and Anu is daughter of Dinesh. How Ram is related to Anu?

Options :

1. ✓ Uncle
2. ✗ Brother
3. ✗ Father
4. ✗ Brother in law

Question Number : 29 Question Id : 5861801023 Question Type : MCQ Option Shuffling : Yes

Correct Marks : 1 Wrong Marks : 0.25

राम और मोहन, भाई हैं। श्वेता और अनु, बहनें हैं। दिनेश, मंजू का पति है, जो मनोज की पुत्री है। राम, मनोज का पुत्र है, और अनु, दिनेश की बहन है। राम, अनु से किस प्रकार संबंधित है?

Options :

1. ✓ चाचा
2. ✗ भाई
3. ✗ पिता
4. ✗ बहनोई

Question Number : 30 Question Id : 5861801024 Question Type : MCQ Option Shuffling : Yes

Correct Marks : 1 Wrong Marks : 0.25

If 'P * Q' means P is father of Q, 'P % Q', P is daughter of Q, 'P # Q' means P is mother of Q and 'P = Q' means Q is son of P

If $M * N \# O = R$, then how R is related to M?

Options :

1. ✓ Grand grand son

2. ✗ Son

3. ✗ Father

4. ✗ Mother in law

Question Number : 30 Question Id : 5861801024 Question Type : MCQ Option Shuffling : Yes

Correct Marks : 1 Wrong Marks : 0.25

यदि 'P * Q' का अर्थ P, Q का पिता है, 'P % Q' का अर्थ P, Q की पुत्री है, 'P # Q' का अर्थ P, Q की मां है, और 'P = Q' का अर्थ Q, P का पुत्र है।

यदि $M * N \# O = R$, तो R, M से किस प्रकार संबंधित है?

Options :

1. ✓ परपोता

2. ✗ बेटा

3. ✗ पिता

4. ✗ सास

Question Number : 31 Question Id : 5861801025 Question Type : MCQ Option Shuffling : Yes

Correct Marks : 1 Wrong Marks : 0.25

In certain code PEASANT is written as Q21T1OU and RIDE is written as S3E2, How will be SUBJECT written in that code?

Options :

1. ✗ T5CK5DU

2. ✖ T21CK2DU

3. ✔ T5CK2DU

4. ✖ T5CK24U

Question Number : 31 Question Id : 5861801025 Question Type : MCQ Option Shuffling : Yes

Correct Marks : 1 Wrong Marks : 0.25

एक निश्चित कोड में PEASANT को Q21T1OU और RIDE को S3E2 लिखा जाता है। उसी कोड में SUBJECT को किस प्रकार लिखा जाएगा?

Options :

1. ✖ T5CK5DU

2. ✖ T21CK2DU

3. ✔ T5CK2DU

4. ✖ T5CK24U

Question Number : 32 Question Id : 5861801026 Question Type : MCQ Option Shuffling : Yes

Correct Marks : 1 Wrong Marks : 0.25

If you are eleventh in a queue starting either end, how many are there in the queue?

Options :

1. ✖ Eleven

2. ✖ Thirteen

3. ✓ Twenty one

4. ✗ Twenty Two

Question Number : 32 Question Id : 5861801026 Question Type : MCQ Option Shuffling : Yes

Correct Marks : 1 Wrong Marks : 0.25

यदि आप कतार में आगे से और पीछे से 11 वें स्थान पर हैं तो, कतार में कुल कितने व्यक्ति हैं?

Options :

1. ✗ ग्यारह

2. ✗ तेरह

3. ✓ इक्कीस

4. ✗ बाईस

Question Number : 33 Question Id : 5861801027 Question Type : MCQ Option Shuffling : Yes

Correct Marks : 1 Wrong Marks : 0.25

Which of the following pairs of signs, when their positions are interchanged, will correctly solve the given mathematical equation?

$$15 + 3 - 10 \div 2 \times 5 = 5$$

Options :

1. ✗ \div and \times

2. ✓ \div and $+$

3. ✗ $+$ and \times

4. ✖ + and -

Question Number : 33 Question Id : 5861801027 Question Type : MCQ Option Shuffling : Yes

Correct Marks : 1 Wrong Marks : 0.25

निम्न में से किस चिन्ह युग्म में, उनकी स्थितियां परस्पर बदले जाने पर दिया गया गणितीय समीकरण सही हल हो जाएगा?

$$15 + 3 - 10 \div 2 \times 5 = 5$$

Options :

1. ✖ \div और \times

2. ✔ \div और $+$

3. ✖ $+$ और \times

4. ✖ $+$ और $-$

Question Number : 34 Question Id : 5861801028 Question Type : MCQ Option Shuffling : Yes

Correct Marks : 1 Wrong Marks : 0.25

Which of the following pairs of numbers and signs, when their positions are interchanged, will correctly solve the given mathematical equation?

$$6 \div 3 \times 2 + 4 - 7 = 7$$

Options :

1. ✔ 6 and 2, $+$ and $-$

2. ✖ 3 and 6, $-$ and \times

3. ✖ 4 and 7, \times and \div

4. ✖ 3 and 7, + and -

Question Number : 34 Question Id : 5861801028 Question Type : MCQ Option Shuffling : Yes

Correct Marks : 1 Wrong Marks : 0.25

संख्याओं व चिन्हों के निम्न में से किस युग्म में, उनकी स्थितियां परस्पर बदले जाने पर दिया गया गणितीय समीकरण सही हल हो जाएगा?

$$6 \div 3 \times 2 + 4 - 7 = 7$$

Options :

1. ✔ 6 और 2, + और -

2. ✖ 3 और 6, - और ×

3. ✖ 4 और 7, × और ÷

4. ✖ 3 और 7, + और -

Question Number : 35 Question Id : 5861801029 Question Type : MCQ Option Shuffling : Yes

Correct Marks : 1 Wrong Marks : 0.25

Some teams take parts in a cricket tournament. Each one has to play with every other one. If there are 45 games played. How many team are there in tournament?

Options :

1. ✔ 10

2. ✖ 15

3. ✖ 18

4. ✖ 22

Question Number : 35 Question Id : 5861801029 Question Type : MCQ Option Shuffling : Yes

Correct Marks : 1 Wrong Marks : 0.25

एक क्रिकेट टूर्नामेंट में कुछ टीमों ने भाग लिया है। प्रत्येक को प्रत्येक अन्य से एक बार खेलना है। अगर यहाँ पर 45 गेम्स खेली जानी हैं, तो टूर्नामेंट में कितनी टीम हैं?

Options :

1. ✓ 10

2. ✗ 15

3. ✗ 18

4. ✗ 22

Question Number : 36 Question Id : 5861801030 Question Type : MCQ Option Shuffling : Yes

Correct Marks : 1 Wrong Marks : 0.25

Four words have been given out of which three are alike in some manner, while the fourth one is different. Choose out the odd one.

Options :

1. ✗ Lumber

2. ✗ Gallop

3. ✓ Lamb

4. ✗ Trot

Question Number : 36 Question Id : 5861801030 Question Type : MCQ Option Shuffling : Yes

Correct Marks : 1 Wrong Marks : 0.25

चार शब्द दिए गए हैं जिनमें से तीन किसी प्रकार समान हैं, जबकि चौथा भिन्न है। असंगत को चुनें।

Options :

1. ✖ लकड़ी
2. ✖ सरपट चाल
3. ✔ मेमना
4. ✖ दुलकी चाल

Question Number : 37 Question Id : 5861801031 Question Type : MCQ Option Shuffling : Yes

Correct Marks : 1 Wrong Marks : 0.25

In problem, out of four figures marked 1, 2, 3 and 4, three are similar in a certain manner. However one figure is not like the other three. Choose the figure which is different from the rest.

Answer Fig.



Options :


1. ✖ 1
2. ✖ 2
3. ✔ 3
4. ✖ 4

Question Number : 37 Question Id : 5861801031 Question Type : MCQ Option Shuffling : Yes

Correct Marks : 1 Wrong Marks : 0.25

प्रश्न में, 1, 2, 3 और 4 अंकित चार चित्रों में से तीन किसी प्रकार समान हैं। हालांकि एक चित्र, अन्य तीन के समान नहीं है। वह चित्र चुनें जो शेष से भिन्न है।

उत्तर आकृति



Options :

1. ✖ 1

2. ✖ 2

3. ✔ 3

4. ✖ 4

Question Number : 38 Question Id : 5861801032 Question Type : MCQ Option Shuffling : Yes

Correct Marks : 1 Wrong Marks : 0.25

Select the option that will correctly replace the question mark (?) in the series.

3, 5, 9, 17, ?

Options :

1. ✖ 30

2. ✔ 33

3. ✖ 34

4. ✖ 36

Question Number : 38 Question Id : 5861801032 Question Type : MCQ Option Shuffling : Yes

Correct Marks : 1 Wrong Marks : 0.25

वह विकल्प चुनें जो श्रृंखला में प्रश्न चिन्ह (?) को सही प्रतिस्थापित करेगा।

3, 5, 9, 17, ?

Options :

1. ✖ 30

2. ✔ 33

3. ✖ 34

4. ✖ 36

Question Number : 39 Question Id : 5861801033 Question Type : MCQ Option Shuffling : Yes

Correct Marks : 1 Wrong Marks : 0.25

HEPA filters are used to remove any air borne particle with size 0.3 microns. The full form of HEPA is?

Note: For this question, discrepancy is found in question/answer. So, this question is ignored for all candidates.

Options :

1. 250

2. 276

3. 306

4. 416

Question Number : 39 Question Id : 5861801033 Question Type : MCQ Option Shuffling : Yes

Correct Marks : 1 Wrong Marks : 0.25

वह विकल्प चुनें जो श्रृंखला में प्रश्न चिन्ह (?) को सही प्रतिस्थापित करेगा।

21, 40, 78, 154, ?

Note: For this question, discrepancy is found in question/answer. So, this question is ignored for all candidates.

Options :

1. 250

2. 276

3. 306

4. 416

Question Number : 40 Question Id : 5861801034 Question Type : MCQ Option Shuffling : Yes

Correct Marks : 1 Wrong Marks : 0.25

Select the option that will correctly replace the question mark (?) in the series.

5, 15, 30, 90, ?

Options :

1. ✖ 120

2. ✖ 105

3. ✖ 150

4. ✔ 180

Question Number : 40 Question Id : 5861801034 Question Type : MCQ Option Shuffling : Yes

Correct Marks : 1 Wrong Marks : 0.25

वह विकल्प चुनें जो श्रृंखला में प्रश्न चिन्ह (?) को सही प्रतिस्थापित करेगा।

5, 15, 30, 90, ?

Options :

1. ✖ 120

2. ✖ 105

3. ✖ 150

4. ✔ 180

General Awareness1

Group Number :	3
Group Id :	58618044
Group Maximum Duration :	0
Group Minimum Duration :	0
Show Attended Group? :	No
Edit Attended Group? :	No
Break time:	0
Group Marks:	20
Is this Group for Examiner?:	No
Revisit allowed for group Instructions? :	Yes
Maximum Instruction Time:	0
Minimum Instruction Time:	0

General Awareness1

Section Id :	58618048
Section Number :	1
Section type :	Online
Mandatory or Optional:	Mandatory
Number of Questions:	20
Number of Questions to be attempted:	20
Section Marks:	20

Sub-Section Number: 1
Sub-Section Id: 58618063
Question Shuffling Allowed : Yes

Question Number : 41 Question Id : 5861801035 Question Type : MCQ Option Shuffling : Yes
Correct Marks : 1 Wrong Marks : 0.25

ज्वालामुखी 'क्राकाटोआ' का जागृत होना दुनिया के सबसे बड़े ज्ञात ज्वालामुखी विस्फोटों में से एक है। यह ज्वालामुखी किस देश में स्थित है?

Options :

1. ✖ दक्षिण अफ्रीका
2. ✖ मंगोलिया
3. ✔ इंडोनेशिया
4. ✖ चीन

Question Number : 41 Question Id : 5861801035 Question Type : MCQ Option Shuffling : Yes
Correct Marks : 1 Wrong Marks : 0.25

The volcano 'Krakatoa' eruption is one of the world's greatest recorded volcanic eruption. In which country this volcano is located?

Options :

1. ✖ South Africa
2. ✖ Mongolia
3. ✔ Indonesia
4. ✖ China

Question Number : 42 Question Id : 5861801036 Question Type : MCQ Option Shuffling : Yes
Correct Marks : 1 Wrong Marks : 0.25

HEPA filters are used to remove any air borne particle with size 0.3 microns. The full form of HEPA is?

Options :

1. ✖ High Efficiency Polluted Air
2. ✔ High Efficiency Particulate Air

3. ✖ High End Particulate Air
4. ✖ High Efficiency Pollen Air

Question Number : 42 Question Id : 5861801036 Question Type : MCQ Option Shuffling : Yes
Correct Marks : 1 Wrong Marks : 0.25

HEPA फिल्टर का उपयोग 0.3 माइक्रोन आकार के किसी भी वायु जनित कण को फिल्टर करने के लिए किया जाता है। HEPA का पूरा नाम क्या है?

Options :

1. ✖ हाई एफिशिएंसी पॉल्युटिड एयर
2. ✔ हाई एफिशिएंसी पार्टिक्युलेट एयर
3. ✖ हाई एंड पार्टिकुलेट एयर
4. ✖ हाई एफिशिएंसी पोलन एयर

Question Number : 43 Question Id : 5861801037 Question Type : MCQ Option Shuffling : Yes
Correct Marks : 1 Wrong Marks : 0.25

Which one of the following is the world's most polluted river?

Options :

1. ✔ Citarum
2. ✖ Marilao
3. ✖ Sarno
4. ✖ Niger

Question Number : 43 Question Id : 5861801037 Question Type : MCQ Option Shuffling : Yes
Correct Marks : 1 Wrong Marks : 0.25

निम्नलिखित में से कौन सी नदी दुनिया की सबसे प्रदूषित नदी है?

Options :

1. ✔ सिट्रम
2. ✖ मरिलाओ
3. ✖ सारनो

4. ✖ नाइजर

Question Number : 44 Question Id : 5861801038 Question Type : MCQ Option Shuffling : Yes
Correct Marks : 1 Wrong Marks : 0.25

Which Green House Gas among the following has the highest heat trapping capacity?

Options :

1. ✖ Water Vapour

2. ✔ Methane

3. ✖ Carbondioxide

4. ✖ Nitrous Oxide

Question Number : 44 Question Id : 5861801038 Question Type : MCQ Option Shuffling : Yes
Correct Marks : 1 Wrong Marks : 0.25

निम्नलिखित में से किस ग्रीन हाउस गैस में, सबसे अधिक ऊष्मा रोकने की क्षमता होती है?

Options :

1. ✖ जलवाष्प

2. ✔ मीथेन

3. ✖ कार्बन डाइऑक्साइड

4. ✖ नाइट्रस ऑक्साइड

Question Number : 45 Question Id : 5861801039 Question Type : MCQ Option Shuffling : Yes
Correct Marks : 1 Wrong Marks : 0.25

Who was ranked number 1 at the Malaysian Open Badminton-2019 in the Women Singles category?

Options :

1. ✔ Tai Tzu Ying

2. ✖ Akane Yamaguchi

3. ✖ Chen Yufei

4. ✖ Nozomi Okuhara

Question Number : 45 Question Id : 5861801039 Question Type : MCQ Option Shuffling : Yes
Correct Marks : 1 Wrong Marks : 0.25

मलेशियन ओपन बैडमिंटन - 2019 में महिला एकल वर्ग में पहले स्थान पर रहने वाली खिलाड़ी का नाम है?

Options :

1. ✓ ताई तज़ु यिंग
2. ✗ अकाने यामागुची
3. ✗ चेन युफेई
4. ✗ नोज़ोमी ओकुहारा

Question Number : 46 Question Id : 5861801040 Question Type : MCQ Option Shuffling : Yes
Correct Marks : 1 Wrong Marks : 0.25

Which day in India is observed as 'Shaurya Diwas' (Valour Day) by Central Reserve Police Force (CRPF)?

Options :

1. ✗ May 9th
2. ✗ March 9th
3. ✓ April 9th
4. ✗ February 9th

Question Number : 46 Question Id : 5861801040 Question Type : MCQ Option Shuffling : Yes
Correct Marks : 1 Wrong Marks : 0.25

भारत में केंद्रीय रिजर्व पुलिस बल (CRPF) द्वारा किस दिन को 'शौर्य दिवस' के रूप में मनाया जाता है?

Options :

1. ✗ 9 मई
2. ✗ 9 मार्च
3. ✓ 9 अप्रैल
4. ✗ 9 फरवरी

Question Number : 47 Question Id : 5861801041 Question Type : MCQ Option Shuffling : Yes
Correct Marks : 1 Wrong Marks : 0.25

Which player among the following is not included in the squad which will be playing ICC Cricket World Cup 2019?

Options :

1. ✖ Vijay Shankar
2. ✖ Yuzvendra Chahal
3. ✖ Hardik Pandya
4. ✔ Krunal Pandya

Question Number : 47 Question Id : 5861801041 Question Type : MCQ Option Shuffling : Yes
Correct Marks : 1 Wrong Marks : 0.25

ICC क्रिकेट विश्व कप 2019 खेल रही टीम में निम्नलिखित में से कौन सा खिलाड़ी शामिल नहीं है?

Options :

1. ✖ विजय शंकर
2. ✖ युजवेंद्र चहल
3. ✖ हार्दिक पांड्या
4. ✔ क्रुणाल पांड्या

Question Number : 48 Question Id : 5861801042 Question Type : MCQ Option Shuffling : Yes
Correct Marks : 1 Wrong Marks : 0.25

Who among the following received the Noble Prize in the field of Economic Sciences for the year 2018?

Options :

1. ✖ George P Smith
2. ✔ Paul M Romer
3. ✖ Nadia Murad
4. ✖ Tasuku Honjo

Question Number : 48 Question Id : 5861801042 Question Type : MCQ Option Shuffling : Yes

Correct Marks : 1 Wrong Marks : 0.25

निम्नलिखित में से किसे 2018 का अर्थशास्त्र का नोबेल पुरस्कार मिला?

Options :

1. ✖ जॉर्ज पी स्मिथ
2. ✔ पॉल एम रोमर
3. ✖ नादिया मुराद
4. ✖ तासुकु होन्जो

Question Number : 49 Question Id : 5861801043 Question Type : MCQ Option Shuffling : Yes

Correct Marks : 1 Wrong Marks : 0.25

The United Provinces of British India is now a part of which modern state of India?

Options :

1. ✔ Uttar Pradesh
2. ✖ Telangana
3. ✖ Rajasthan
4. ✖ Odisha

Question Number : 49 Question Id : 5861801043 Question Type : MCQ Option Shuffling : Yes

Correct Marks : 1 Wrong Marks : 0.25

ब्रिटिश भारत का संयुक्त प्रांत वर्तमान में आधुनिक भारत के किस राज्य का हिस्सा है?

Options :

1. ✔ उत्तर प्रदेश
2. ✖ तेलंगाना
3. ✖ राजस्थान
4. ✖ ओडिशा

Question Number : 50 Question Id : 5861801044 Question Type : MCQ Option Shuffling : Yes

Correct Marks : 1 Wrong Marks : 0.25

Who among the following was the main priest of Sama Veda in Indian history?

Options :

1. ✖ Adhvaryu
2. ✖ Brahma
3. ✔ Udgatri
4. ✖ Hotri

Question Number : 50 Question Id : 5861801044 Question Type : MCQ Option Shuffling : Yes

Correct Marks : 1 Wrong Marks : 0.25

निम्नलिखित में से कौन भारतीय इतिहास के अनुसार सामवेद के प्रमुख पुरोहित थे?

Options :

1. ✖ अध्वर्यु
2. ✖ ब्रह्मा
3. ✔ उद्गात्री
4. ✖ होत्री

Question Number : 51 Question Id : 5861801045 Question Type : MCQ Option Shuffling : Yes

Correct Marks : 1 Wrong Marks : 0.25

Who among the following had established the Swaraj Party in 1923?

Options :

1. ✔ Motilal Nehru & C.R.Das
2. ✖ Dadabhai Naoroji
3. ✖ Sardar Vallabhai Patel
4. ✖ Lal Bahadur Shastri

Question Number : 51 Question Id : 5861801045 Question Type : MCQ Option Shuffling : Yes

Correct Marks : 1 Wrong Marks : 0.25

निम्नलिखित में से किसने 1923 में स्वराज पार्टी की स्थापना की थी?

Options :

1. ✓ मोतीलाल नेहरू और सी.आर. दास
2. ✖ दादाभाई नौरोजी
3. ✖ सरदार वल्लभभाई पटेल
4. ✖ लाल बहादुर शास्त्री

Question Number : 52 Question Id : 5861801046 Question Type : MCQ Option Shuffling : Yes
Correct Marks : 1 Wrong Marks : 0.25

In the court of which Indian king, Chand Bardai was a poet?

Options :

1. ✖ Krishna Deva Raya
2. ✓ Prithvi Raj Chauhan
3. ✖ Rana Sanga
4. ✖ Ashoka

Question Number : 52 Question Id : 5861801046 Question Type : MCQ Option Shuffling : Yes
Correct Marks : 1 Wrong Marks : 0.25

चंद बरदाई किस भारतीय राजा के दरबार में कवि थे?

Options :

1. ✖ कृष्णदेव राय
2. ✓ पृथ्वी राज चौहान
3. ✖ राणा सांगा
4. ✖ अशोक

Question Number : 53 Question Id : 5861801047 Question Type : MCQ Option Shuffling : Yes
Correct Marks : 1 Wrong Marks : 0.25

Which state among the following does not have bicameral houses (both legislative assembly and legislative council)?

Options :

1. ✖ Bihar
2. ✖ Uttar Pradesh

3. ✖ Andhra Pradesh

4. ✔ West Bengal

Question Number : 53 Question Id : 5861801047 Question Type : MCQ Option Shuffling : Yes
Correct Marks : 1 Wrong Marks : 0.25

निम्नलिखित में से किस राज्य में द्विसदनीय सदन (विधान सभा और विधान परिषद दोनों) नहीं हैं?

Options :

1. ✖ बिहार

2. ✖ उत्तर प्रदेश

3. ✖ आंध्र प्रदेश

4. ✔ पश्चिम बंगाल

Question Number : 54 Question Id : 5861801048 Question Type : MCQ Option Shuffling : Yes
Correct Marks : 1 Wrong Marks : 0.25

The standing committee of the Indian Parliament with highest membership is?

Options :

1. ✖ All committees have equal membership

2. ✖ Public undertakings committee

3. ✖ Public accounts committee

4. ✔ Estimates Committee

Question Number : 54 Question Id : 5861801048 Question Type : MCQ Option Shuffling : Yes
Correct Marks : 1 Wrong Marks : 0.25

उच्चतम सदस्यता वाली भारतीय संसद की स्थायी समिति है?

Options :

1. ✖ सभी समितियों में सदस्यों की संख्या समान होती है।

2. ✖ सार्वजनिक उपक्रम समिति

3. ✖ सार्वजनिक लेखा समिति

4. ✓ आकलन समिति

Question Number : 55 Question Id : 5861801049 Question Type : MCQ Option Shuffling : Yes
Correct Marks : 1 Wrong Marks : 0.25

First Indian state where Communist Party of India was elected to power is?

Options :

1. ✗ Orissa
2. ✓ Kerala
3. ✗ West Bengal
4. ✗ Chhattisgarh

Question Number : 55 Question Id : 5861801049 Question Type : MCQ Option Shuffling : Yes
Correct Marks : 1 Wrong Marks : 0.25

भारतीय कम्युनिस्ट पार्टी किस भारतीय राज्य में पहली बार सत्तासीन हुई थी?

Options :

1. ✗ ओडिशा
2. ✓ केरल
3. ✗ पश्चिम बंगाल
4. ✗ छत्तीसगढ़

Question Number : 56 Question Id : 5861801050 Question Type : MCQ Option Shuffling : Yes
Correct Marks : 1 Wrong Marks : 0.25

Which articles of the Indian constitution contains the directive principles of state policy?

Options :

1. ✓ Articles 36 to 51
2. ✗ Articles 26 to 41
3. ✗ Articles 46 to 61
4. ✗ Articles 16 to 21

Question Number : 56 Question Id : 5861801050 Question Type : MCQ Option Shuffling : Yes
Correct Marks : 1 Wrong Marks : 0.25

भारतीय संविधान के किन अनुच्छेदों में राज्य के नीति निर्देशक सिद्धांतों को शामिल किया गया है?

Options :

1. ✓ अनुच्छेद 36 से 51
2. ✗ अनुच्छेद 26 से 41
3. ✗ अनुच्छेद 46 से 61
4. ✗ अनुच्छेद 16 से 21

Question Number : 57 Question Id : 5861801051 Question Type : MCQ Option Shuffling : Yes
Correct Marks : 1 Wrong Marks : 0.25

Which article of the Indian constitution provides protection against arrest and detention in certain cases?

Options :

1. ✗ Article 25
2. ✗ Article 32
3. ✓ Article 22
4. ✗ Article 28

Question Number : 57 Question Id : 5861801051 Question Type : MCQ Option Shuffling : Yes
Correct Marks : 1 Wrong Marks : 0.25

भारतीय संविधान का कौन सा अनुच्छेद कुछ मामलों में गिरफ्तारी और नजरबंदी से सुरक्षा प्रदान करता है?

Options :

1. ✗ अनुच्छेद 25
2. ✗ अनुच्छेद 32
3. ✓ अनुच्छेद 22
4. ✗ अनुच्छेद 28

Question Number : 58 Question Id : 5861801052 Question Type : MCQ Option Shuffling : Yes
Correct Marks : 1 Wrong Marks : 0.25

Which article of the Indian constitution contains details of Secretariat of the Parliament?

Options :

1. ✖ Article 108
2. ✖ Article 68
3. ✖ Article 78
4. ✔ Article 98

Question Number : 58 Question Id : 5861801052 Question Type : MCQ Option Shuffling : Yes
Correct Marks : 1 Wrong Marks : 0.25

भारतीय संविधान के किस अनुच्छेद में संसद के सचिवालय का विवरण दिया गया है?

Options :

1. ✖ अनुच्छेद 108
2. ✖ अनुच्छेद 68
3. ✖ अनुच्छेद 78
4. ✔ अनुच्छेद 98

Question Number : 59 Question Id : 5861801053 Question Type : MCQ Option Shuffling : Yes
Correct Marks : 1 Wrong Marks : 0.25

With which game is Sahaj Grover associated?

Options :

1. ✔ Chess
2. ✖ Billiards
3. ✖ Badminton
4. ✖ Shooting

Question Number : 59 Question Id : 5861801053 Question Type : MCQ Option Shuffling : Yes
Correct Marks : 1 Wrong Marks : 0.25

सहज गोवर किस खेल से संबंधित है?

Options :

1. ✓ शतरंज
2. ✗ बिलियर्ड्स
3. ✗ बैडमिंटन
4. ✗ शूटिंग

Question Number : 60 Question Id : 5861801054 Question Type : MCQ Option Shuffling : Yes
Correct Marks : 1 Wrong Marks : 0.25

The terms cross bar, drop goal and lock forward are associated with which one of the following games?

Options :

1. ✗ Golf
2. ✓ Rugby
3. ✗ Ice Hockey
4. ✗ American Football

Question Number : 60 Question Id : 5861801054 Question Type : MCQ Option Shuffling : Yes
Correct Marks : 1 Wrong Marks : 0.25

क्रॉस बार, ड्रॉप गोल और लॉक फॉरवर्ड शब्द निम्नलिखित में से किस खेल से जुड़े हैं?

Options :

1. ✗ गोल्फ़
2. ✓ रग्बी
3. ✗ आइस हॉकी
4. ✗ अमरीकी फुटबॉल

General Awareness2

Group Id :	58618045
Group Maximum Duration :	0
Group Minimum Duration :	0
Show Attended Group? :	No
Edit Attended Group? :	No
Break time:	0
Group Marks:	20
Is this Group for Examiner?:	No
Revisit allowed for group Instructions? :	Yes
Maximum Instruction Time:	0
Minimum Instruction Time:	0

General Awareness2

Section Id :	58618049
Section Number :	1
Section type :	Online
Mandatory or Optional:	Mandatory
Number of Questions:	20
Number of Questions to be attempted:	20
Section Marks:	20

Sub-Section Number:	1
Sub-Section Id:	58618064
Question Shuffling Allowed :	Yes

Question Number : 61 Question Id : 5861801055 Question Type : MCQ Option Shuffling : Yes
Correct Marks : 1 Wrong Marks : 0.25

The ‘Todd Memorial Trophy’ is associated with which one of the following sports in India?

Options :

- 1. ✖ Cricket
- 2. ✖ Badminton
- 3. ✖ Hockey
- 4. ✔ Football

Question Number : 61 Question Id : 5861801055 Question Type : MCQ Option Shuffling : Yes
Correct Marks : 1 Wrong Marks : 0.25

'टॉड मेमोरियल ट्रॉफी' निम्नलिखित में से किस भारतीय खेल से संबंधित है?

Options :

1. ✖ क्रिकेट
2. ✖ बैडमिंटन
3. ✖ हॉकी
4. ✔ फुटबॉल

Question Number : 62 Question Id : 5861801056 Question Type : MCQ Option Shuffling : Yes
Correct Marks : 1 Wrong Marks : 0.25

The famous 'Madhubani' painting originated in which one of the following states of India?

Options :

1. ✖ Rajasthan
2. ✖ Orissa
3. ✔ Bihar
4. ✖ Himachal Pradesh

Question Number : 62 Question Id : 5861801056 Question Type : MCQ Option Shuffling : Yes
Correct Marks : 1 Wrong Marks : 0.25

प्रसिद्ध 'मधुबनी' पेंटिंग की उत्पत्ति निम्नलिखित में से किस भारतीय राज्य में हुई थी?

Options :

1. ✖ राजस्थान
2. ✖ ओडिशा
3. ✔ बिहार
4. ✖ हिमाचल प्रदेश

Question Number : 63 Question Id : 5861801057 Question Type : MCQ Option Shuffling : Yes
Correct Marks : 1 Wrong Marks : 0.25

In which year was India's first national academy of arts Sangeet Natak Akademi created?

Options :

1. ✖ 1962

2. ✔ 1952

3. ✖ 1942

4. ✖ 1972

Question Number : 63 Question Id : 5861801057 Question Type : MCQ Option Shuffling : Yes

Correct Marks : 1 Wrong Marks : 0.25

भारत की पहली राष्ट्रीय कला अकादमी “संगीत नाटक अकादमी”, किस वर्ष बनाई गई थी?

Options :

1. ✖ 1962

2. ✔ 1952

3. ✖ 1942

4. ✖ 1972

Question Number : 64 Question Id : 5861801058 Question Type : MCQ Option Shuffling : Yes

Correct Marks : 1 Wrong Marks : 0.25

In which Indian state ‘Lavani’ dance is popular?

Options :

1. ✖ Uttar pradesh

2. ✖ Kashmir

3. ✔ Maharashtra

4. ✖ Kerala

Question Number : 64 Question Id : 5861801058 Question Type : MCQ Option Shuffling : Yes

Correct Marks : 1 Wrong Marks : 0.25

'लावणी' नृत्य भारत के किस राज्य में लोकप्रिय है?

Options :

1. ✖ उत्तर प्रदेश

2. ✖ कश्मीर

3. ✓ महाराष्ट्र

4. ✗ केरल

Question Number : 65 Question Id : 5861801059 Question Type : MCQ Option Shuffling : Yes
Correct Marks : 1 Wrong Marks : 0.25

The world's largest Hydroelectric project is?

Options :

1. ✗ Mc Nary

2. ✗ Guri

3. ✓ Three Gorges

4. ✗ Tucurui

Question Number : 65 Question Id : 5861801059 Question Type : MCQ Option Shuffling : Yes
Correct Marks : 1 Wrong Marks : 0.25

विश्व की सबसे बड़ी पनबिजली परियोजना है?

Options :

1. ✗ मैक नारी

2. ✗ गुरी

3. ✓ श्री जॉर्जस

4. ✗ टुकुरुई

Question Number : 66 Question Id : 5861801060 Question Type : MCQ Option Shuffling : Yes
Correct Marks : 1 Wrong Marks : 0.25

Which country-capital among the following is wrongly matched?

Options :

1. ✓ Albania-Luanda

2. ✗ Armenia-Yerevan

3. ✗ Azerbaijan-Baku

4. ✗ Bahamas-Nassau

Question Number : 66 Question Id : 5861801060 Question Type : MCQ Option Shuffling : Yes
Correct Marks : 1 Wrong Marks : 0.25

निम्नलिखित में से कौन सा “देश-राजधानी” का मेल गलत है?

Options :

1. ✓ अल्बानिया - लुआंडा
2. ✗ आर्मीनिया - येरेवान
3. ✗ अज़रबैजान - बाकू
4. ✗ बहमास - नसाऊ

Question Number : 67 Question Id : 5861801061 Question Type : MCQ Option Shuffling : Yes
Correct Marks : 1 Wrong Marks : 0.25

Where is Rani Avantibai Lodi sagar irrigation project located in India?

Options :

1. ✗ Uttar Pradesh
2. ✗ Kashmir
3. ✓ Madhya Pradesh
4. ✗ Karnataka

Question Number : 67 Question Id : 5861801061 Question Type : MCQ Option Shuffling : Yes
Correct Marks : 1 Wrong Marks : 0.25

भारत में रानी अवंतीबाई लोदी सागर सिंचाई परियोजना कहां स्थित है?

Options :

1. ✗ उत्तर प्रदेश
2. ✗ कश्मीर
3. ✓ मध्य प्रदेश
4. ✗ कर्नाटक

Question Number : 68 Question Id : 5861801062 Question Type : MCQ Option Shuffling : Yes
Correct Marks : 1 Wrong Marks : 0.25

Which ministry conducts the Economic Census in India?

Options :

1. ✓ Ministry of Statistics and Program implementation
2. ✗ Ministry of Finance
3. ✗ Ministry of Commerce and Industry
4. ✗ Ministry of consumer affairs

Question Number : 68 Question Id : 5861801062 Question Type : MCQ Option Shuffling : Yes
Correct Marks : 1 Wrong Marks : 0.25

भारत में आर्थिक जनगणना _____ के द्वारा की जाती है।

Options :

1. ✓ सांख्यिकी और कार्यक्रम कार्यान्वयन मंत्रालय
2. ✗ वित्त मंत्रालय
3. ✗ वाणिज्य और उद्योग मंत्रालय
4. ✗ उपभोक्ता मामलों का मंत्रालय

Question Number : 69 Question Id : 5861801063 Question Type : MCQ Option Shuffling : Yes
Correct Marks : 1 Wrong Marks : 0.25

Which committee appointed by Government of India recommended replacement of MRTP act with Competition Act?

Options :

1. ✗ Pranab Committee
2. ✗ Sachar Committee
3. ✓ S.Raghavan Committee
4. ✗ Mahajan Committee

Question Number : 69 Question Id : 5861801063 Question Type : MCQ Option Shuffling : Yes
Correct Marks : 1 Wrong Marks : 0.25

भारत सरकार द्वारा नियुक्त किस समिति ने MRTP अधिनियम के स्थान पर प्रतियोगिता अधिनियम (कम्पीटिशन एक्ट) के प्रतिस्थापन की सिफारिश की?

Options :

1. ✖ प्रणब समिति
2. ✖ सच्चर समिति
3. ✔ एस.राघवन समिति
4. ✖ महाजन समिति

Question Number : 70 Question Id : 5861801064 Question Type : MCQ Option Shuffling : Yes

Correct Marks : 1 Wrong Marks : 0.25

Industrial Reconstruction Bank of India (IRBI) was renamed as _____ in the year 1997.

Options :

1. ✔ Industrial Investment Bank of India Limited (IIBIL)
2. ✖ Indian Bank of Investment (IBI)
3. ✖ Investment bank of India Limited (IBIL)
4. ✖ Investment Bank of Indian Industries (IBII)

Question Number : 70 Question Id : 5861801064 Question Type : MCQ Option Shuffling : Yes

Correct Marks : 1 Wrong Marks : 0.25

वर्ष 1997 में इंडस्ट्रीयल री-कंस्ट्रक्शन बैंक ऑफ इंडिया (IRBI) का नाम बदलकर _____ रखा गया।

Options :

1. ✔ इंडस्ट्रीयल इन्वेस्टमेंट बैंक ऑफ इंडिया लिमिटेड (IIBIL)
2. ✖ इंडियन बैंक ऑफ इन्वेस्टमेंट (IBI)
3. ✖ इन्वेस्टमेंट बैंक ऑफ इंडिया लिमिटेड (IBIL)
4. ✖ इन्वेस्टमेंट बैंक ऑफ इंडियन इंडस्ट्रीज (IBII)

Question Number : 71 Question Id : 5861801065 Question Type : MCQ Option Shuffling : Yes

Correct Marks : 1 Wrong Marks : 0.25

The chemical name of the popular pain-killer tablet Aspirin is?

Options :

1. ✖ 2-Bromo Benzoic acid
2. ✖ 2-Nitro Benzaldehyde
3. ✔ 2-Acetoxy Benzoic acid
4. ✖ 2-hydroxy Benzaldehyde

Question Number : 71 Question Id : 5861801065 Question Type : MCQ Option Shuffling : Yes

Correct Marks : 1 Wrong Marks : 0.25

लोकप्रिय दर्द निवारक गोली एस्पिरिन का रासायनिक नाम क्या है?

Options :

1. ✖ 2 - ब्रोमो बेंजोइक एसिड
2. ✖ 2 - नाइट्रो बेंजाल्डिहाइड
3. ✔ 2 - एसिटॉक्सी बेंजोइक एसिड
4. ✖ 2 - हाइड्रोक्सी बेंजाल्डिहाइड

Question Number : 72 Question Id : 5861801066 Question Type : MCQ Option Shuffling : Yes

Correct Marks : 1 Wrong Marks : 0.25

The instrument used for measuring magnifying power is?

Options :

1. ✖ Magnetometer
2. ✔ Auxometer
3. ✖ Auriscope
4. ✖ Atmometer

Question Number : 72 Question Id : 5861801066 Question Type : MCQ Option Shuffling : Yes

Correct Marks : 1 Wrong Marks : 0.25

_____ आवर्धन शक्ति मापने के लिए प्रयोग किया जाने वाला उपकरण है?

Options :

1. ✖ मैग्नेटोमीटर
2. ✔ ऑक्सोमीटर

3. ✖ ऑरीस्कोप

4. ✖ एटमोमीटर

Question Number : 73 Question Id : 5861801067 Question Type : MCQ Option Shuffling : Yes

Correct Marks : 1 Wrong Marks : 0.25

The disease 'Hypokalemia' refers to low amount of which element in Human blood?

Options :

1. ✖ Iodine

2. ✖ Zinc

3. ✖ Iron

4. ✔ Potassium

Question Number : 73 Question Id : 5861801067 Question Type : MCQ Option Shuffling : Yes

Correct Marks : 1 Wrong Marks : 0.25

'हाइपोकैलिमिया' रोग मानव रक्त में किस तत्व की कमी को संदर्भित करता है?

Options :

1. ✖ आयोडीन

2. ✖ जस्ता

3. ✖ लोहा

4. ✔ पोटैशियम

Question Number : 74 Question Id : 5861801068 Question Type : MCQ Option Shuffling : Yes

Correct Marks : 1 Wrong Marks : 0.25

Which one of the following is not a category of fertilizers?

Options :

1. ✖ Potassium fertilizers

2. ✖ Nitrogen fertilizers

3. ✖ Phosphorous fertilizers

4. ✓ Iron fertilizers

Question Number : 74 Question Id : 5861801068 Question Type : MCQ Option Shuffling : Yes
Correct Marks : 1 Wrong Marks : 0.25

निम्नलिखित में से कौन सी उर्वरकों की एक श्रेणी नहीं है?

Options :

1. ✖ पोटेशियम उर्वरक
2. ✖ नाइट्रोजन उर्वरक
3. ✖ फॉस्फोरस उर्वरक
4. ✓ आयरन उर्वरक

Question Number : 75 Question Id : 5861801069 Question Type : MCQ Option Shuffling : Yes
Correct Marks : 1 Wrong Marks : 0.25

Which research centre in India developed India's first Inter-Continental Ballistic Missile?

Options :

1. ✓ DRDO
2. ✖ BARC
3. ✖ IIT-Delhi
4. ✖ HAL

Question Number : 75 Question Id : 5861801069 Question Type : MCQ Option Shuffling : Yes
Correct Marks : 1 Wrong Marks : 0.25

भारत के किस अनुसंधान केंद्र ने भारत की पहली अंतर-महाद्वीपीय बैलिस्टिक मिसाइल विकसित की?

Options :

1. ✓ डीआरडीओ
2. ✖ बीएआरसी
3. ✖ आईआईटी - दिल्ली
4. ✖ एचएएल

Question Number : 76 Question Id : 5861801070 Question Type : MCQ Option Shuffling : Yes
Correct Marks : 1 Wrong Marks : 0.25

What is the name of India's first mission to study the Sun?

Options :

1. ✖ SAURA-L1
2. ✖ SURYA-L1
3. ✔ ADITYA-L1
4. ✖ INDOSUN-L1

Question Number : 76 Question Id : 5861801070 Question Type : MCQ Option Shuffling : Yes
Correct Marks : 1 Wrong Marks : 0.25

सूर्य का अध्ययन करने वाले भारत के पहले मिशन का नाम क्या है?

Options :

1. ✖ सौरा - एल 1
2. ✖ सूर्य - एल 1
3. ✔ आदित्य - एल 1
4. ✖ इंडोसन - L1

Question Number : 77 Question Id : 5861801071 Question Type : MCQ Option Shuffling : Yes
Correct Marks : 1 Wrong Marks : 0.25

Which one of the following is the name of the RADAR developed by the Indian Army?

Options :

1. ✖ SARATH
2. ✔ INDRA
3. ✖ PARAM
4. ✖ ROHINI

Question Number : 77 Question Id : 5861801071 Question Type : MCQ Option Shuffling : Yes
Correct Marks : 1 Wrong Marks : 0.25

निम्नलिखित में से भारतीय सेना द्वारा विकसित रडार का नाम क्या है?

Options :

1. ✖ सारथ
2. ✔ इंद्र
3. ✖ परम
4. ✖ रोहिणी

Question Number : 78 Question Id : 5861801072 Question Type : MCQ Option Shuffling : Yes
Correct Marks : 1 Wrong Marks : 0.25

In which year was the International Court of Justice (ICJ) established?

Options :

1. ✖ 1965
2. ✖ 1960
3. ✔ 1945
4. ✖ 1950

Question Number : 78 Question Id : 5861801072 Question Type : MCQ Option Shuffling : Yes
Correct Marks : 1 Wrong Marks : 0.25

अंतर्राष्ट्रीय न्यायालय (ICJ) की स्थापना किस वर्ष में हुई थी?

Options :

1. ✖ 1965
2. ✖ 1960
3. ✔ 1945
4. ✖ 1950

Question Number : 79 Question Id : 5861801073 Question Type : MCQ Option Shuffling : Yes
Correct Marks : 1 Wrong Marks : 0.25

Where is the head office of University Grants Commission located in India?

Options :

1. ✖ Chennai
2. ✖ Mumbai
3. ✖ Bangalore
4. ✔ New Delhi

Question Number : 79 Question Id : 5861801073 Question Type : MCQ Option Shuffling : Yes
Correct Marks : 1 Wrong Marks : 0.25

भारत में विश्वविद्यालय अनुदान आयोग का प्रधान कार्यालय कहाँ स्थित है?

Options :

1. ✖ चेन्नई
2. ✖ मुंबई
3. ✖ बेंगलोर
4. ✔ नई दिल्ली

Question Number : 80 Question Id : 5861801074 Question Type : MCQ Option Shuffling : Yes
Correct Marks : 1 Wrong Marks : 0.25

Central Board of Film Certification is a statutory body working under which one of the following ministries in India?

Options :

1. ✖ Ministry of Information Technology
2. ✔ Ministry of Information and Broadcasting
3. ✖ Ministry of communications
4. ✖ Ministry of Culture

Question Number : 80 Question Id : 5861801074 Question Type : MCQ Option Shuffling : Yes
Correct Marks : 1 Wrong Marks : 0.25

केंद्रीय फिल्म प्रमाणन बोर्ड एक वैधानिक निकाय है, जो भारत में निम्नलिखित में से किस मंत्रालय के अधीन काम करता है?

- Options :
- 1. ✖ सूचना और प्रौद्योगिकी मंत्रालय
 - 2. ✔ सूचना और प्रसारण मंत्रालय
 - 3. ✖ संचार मंत्रालय
 - 4. ✖ संस्कृति मंत्रालय

Arithmetic Ability1

Group Number :	5
Group Id :	58618046
Group Maximum Duration :	0
Group Minimum Duration :	0
Show Attended Group? :	No
Edit Attended Group? :	No
Break time:	0
Group Marks:	20
Is this Group for Examiner?:	No
Revisit allowed for group Instructions? :	Yes
Maximum Instruction Time:	0
Minimum Instruction Time:	0

Arithmetic Ability1

Section Id :	58618050
Section Number :	1
Section type :	Online
Mandatory or Optional:	Mandatory
Number of Questions:	20
Number of Questions to be attempted:	20
Section Marks:	20
Sub-Section Number:	1
Sub-Section Id:	58618065
Question Shuffling Allowed :	Yes

Question Number : 81 Question Id : 5861801075 Question Type : MCQ Option Shuffling : Yes
Correct Marks : 1 Wrong Marks : 0.25

$\sqrt{24^4} + \sqrt{220^2} + \sqrt[3]{216} = x \times \sqrt{20^4}$. The approximate value of 'x' is:

Options :

1. ✖ 1

2. ✖ 3

3. ✔ 2

4. ✖ 4

Question Number : 81 Question Id : 5861801075 Question Type : MCQ Option Shuffling : Yes
Correct Marks : 1 Wrong Marks : 0.25

$\sqrt{24^4} + \sqrt{220^2} + \sqrt[3]{216} = x \times \sqrt{20^4}$, 'x' का निकटतम मान पता करे:

Options :

1. ✖ 1

2. ✖ 3

3. ✔ 2

4. ✖ 4

Question Number : 82 Question Id : 5861801076 Question Type : MCQ Option Shuffling : Yes
Correct Marks : 1 Wrong Marks : 0.25

$(10.7)^2 + (9.2)^2 + ? = 250$.What should come in the place of (?)

Options :

1. ✖ 52.87

2. ✖ 51.87

3. ✔ 50.87

4. ✖ 53.87

Question Number : 82 Question Id : 5861801076 Question Type : MCQ Option Shuffling : Yes

Correct Marks : 1 Wrong Marks : 0.25

$(10.7)^2 + (9.2)^2 + ? = 250$ (?) के स्थान पर क्या आना चाहिए?

Options :

1. ✖ 52.87

2. ✖ 51.87

3. ✔ 50.87

4. ✖ 53.87

Question Number : 83 Question Id : 5861801077 Question Type : MCQ Option Shuffling : Yes

Correct Marks : 1 Wrong Marks : 0.25

If $\sqrt{6084} + \sqrt{1471369} - ? = 286$, then what should come in the place of ‘?’.

Options :

1. ✖ 1004

2. ✖ 1014

3. ✓ 1005

4. ✗ 996

Question Number : 83 Question Id : 5861801077 Question Type : MCQ Option Shuffling : Yes

Correct Marks : 1 Wrong Marks : 0.25

यदि $\sqrt{6084} + \sqrt{1471369} - ? = 286$ (?) के स्थान पर क्या आना चाहिए?

Options :

1. ✗ 1004

2. ✗ 1014

3. ✓ 1005

4. ✗ 996

Question Number : 84 Question Id : 5861801078 Question Type : MCQ Option Shuffling : Yes

Correct Marks : 1 Wrong Marks : 0.25

28% of 160 + x % of 180 = 86.2. The value of 'x' is:

Options :

1. ✗ 21

2. ✗ 22

3. ✗ 24

4. ✓ 23

Question Number : 84 Question Id : 5861801078 Question Type : MCQ Option Shuffling : Yes
Correct Marks : 1 Wrong Marks : 0.25

160 का 28% + 160 + x % of 180 = 86.2, 'x' का मान पता करे:

Options :

1. ✖ 21

2. ✖ 22

3. ✖ 24

4. ✔ 23

Question Number : 85 Question Id : 5861801079 Question Type : MCQ Option Shuffling : Yes
Correct Marks : 1 Wrong Marks : 0.25

Given $356 \times 68 = 24208$, then $24.208 \div 35.6 = ?$

Options :

1. ✖ 0.068

2. ✔ 0.68

3. ✖ 6.8

4. ✖ 68

Question Number : 85 Question Id : 5861801079 Question Type : MCQ Option Shuffling : Yes
Correct Marks : 1 Wrong Marks : 0.25

यदि $356 \times 68 = 24208$ है, तो $24.208 \div 35.6 = ?$

Options :

1. ✖ 0.068

2. ✔ 0.68

3. ✖ 6.8

4. ✖ 68

Question Number : 86 Question Id : 5861801080 Question Type : MCQ Option Shuffling : Yes

Correct Marks : 1 Wrong Marks : 0.25

Given $\frac{1}{7.436} = 0.1344$, then $\frac{1}{0.0007436} = ?$

Options :

1. ✔ 1344

2. ✖ 1.344

3. ✖ 13440

4. ✖ 13.44

Question Number : 86 Question Id : 5861801080 Question Type : MCQ Option Shuffling : Yes

Correct Marks : 1 Wrong Marks : 0.25

यदि $\frac{1}{7.436} = 0.1344$ है, तो $\frac{1}{0.0007436} = ?$

Options :

1. ✔ 1344

2. ✖ 1.344

3. ✖ 13440

4. ✖ 13.44

Question Number : 87 Question Id : 5861801081 Question Type : MCQ Option Shuffling : Yes
Correct Marks : 1 Wrong Marks : 0.25

Evaluate:

$$\frac{8.85 \times 78.3225 + 1.15 \times 1.3225}{79.645 - 10.1775} = ?$$

Options :

1. ✖ 1

2. ✔ 10

3. ✖ 7.7

4. ✖ 100

Question Number : 87 Question Id : 5861801081 Question Type : MCQ Option Shuffling : Yes
Correct Marks : 1 Wrong Marks : 0.25

हल करें:

$$\frac{8.85 \times 78.3225 + 1.15 \times 1.3225}{79.645 - 10.1775} = ?$$

Options :

1. ✖ 1

2. ✓ 10

3. ✗ 7.7

4. ✗ 100

Question Number : 88 Question Id : 5861801082 Question Type : MCQ Option Shuffling : Yes
Correct Marks : 1 Wrong Marks : 0.25

Evaluate:

$$2 \div \frac{3}{17} \text{ of } \left(2\frac{3}{4} + 3\frac{5}{8} \right) + \frac{2}{5} \div 2\frac{1}{5} + \frac{2}{9} - \frac{2}{11} = ?$$

Options :

1. ✗ 0

2. ✗ 1

3. ✓ 2

4. ✗ 3

Question Number : 88 Question Id : 5861801082 Question Type : MCQ Option Shuffling : Yes
Correct Marks : 1 Wrong Marks : 0.25

हल करें:

$$2 \div \frac{3}{17} \text{ of } \left(2\frac{3}{4} + 3\frac{5}{8} \right) + \frac{2}{5} \div 2\frac{1}{5} + \frac{2}{9} - \frac{2}{11} = ?$$

Options :

1. ✗ 0

2. ✖ 1

3. ✔ 2

4. ✖ 3

Question Number : 89 Question Id : 5861801083 Question Type : MCQ Option Shuffling : Yes
Correct Marks : 1 Wrong Marks : 0.25

The simplified value of $\left(4\frac{2}{3} + 7\frac{1}{3} \times 1\frac{1}{2} \div \frac{1}{2} - 3\frac{1}{3} - 1\frac{1}{3}\right)$ is equal to:

Options :

1. ✖ 28

2. ✔ 22

3. ✖ 24

4. ✖ 32



Question Number : 89 Question Id : 5861801083 Question Type : MCQ Option Shuffling : Yes
Correct Marks : 1 Wrong Marks : 0.25

$\left(4\frac{2}{3} + 7\frac{1}{3} \times 1\frac{1}{2} \div \frac{1}{2} - 3\frac{1}{3} - 1\frac{1}{3}\right)$ का सरलीकृत मान किसके बराबर है:

Options :

1. ✖ 28

2. ✔ 22

3. ✖ 24

4. ✖ 32

Question Number : 90 Question Id : 5861801084 Question Type : MCQ Option Shuffling : Yes
Correct Marks : 1 Wrong Marks : 0.25

The pair of rational numbers that lie between $\frac{1}{4}$ and $\frac{3}{4}$ is:

Options :

1. ✖ $\frac{265}{1000}, \frac{753}{1000}$

2. ✖ $\frac{13}{50}, \frac{39}{50}$

3. ✖ $\frac{18}{40}, \frac{35}{40}$

4. ✔ $\frac{126}{500}, \frac{374}{500}$

Question Number : 90 Question Id : 5861801084 Question Type : MCQ Option Shuffling : Yes
Correct Marks : 1 Wrong Marks : 0.25

इनमें से कौन सी जोड़ी $\frac{1}{4}$ और $\frac{3}{4}$ के बीच आने वाली परिमेय संख्याओं की जोड़ी है:

Options :

1. ✖ $\frac{265}{1000}, \frac{753}{1000}$

2. ✖ $\frac{13}{50}, \frac{39}{50}$

3. ✖ $\frac{18}{40}, \frac{35}{40}$

4. ✔ $\frac{126}{500}, \frac{374}{500}$

Question Number : 91 Question Id : 5861801085 Question Type : MCQ Option Shuffling : Yes
Correct Marks : 1 Wrong Marks : 0.25

Find the HCF of $\frac{4}{5}, \frac{7}{15}, \frac{1}{2}$.

Options :

1. ✖ $\frac{1}{20}$

2. ✔ $\frac{1}{30}$

3. ✖ $\frac{1}{5}$

4. ✖ $\frac{1}{15}$



Question Number : 91 Question Id : 5861801085 Question Type : MCQ Option Shuffling : Yes
Correct Marks : 1 Wrong Marks : 0.25

$\frac{4}{5}, \frac{7}{15}, \frac{1}{2}$ का महत्तम समापवर्त्य पता करें।

Options :

1. ✖ $\frac{1}{20}$

2. ✔ $\frac{1}{30}$

3. ✖ $\frac{1}{5}$

4. ✖ $\frac{1}{15}$

Question Number : 92 Question Id : 5861801086 Question Type : MCQ Option Shuffling : Yes
Correct Marks : 1 Wrong Marks : 0.25

The ratio of two numbers is 9 : 11. Their LCM is 1485. The sum of the two numbers is:

Options :

1. ✖ 400

2. ✖ 250

3. ✔ 300

4. ✖ 200

Question Number : 92 Question Id : 5861801086 Question Type : MCQ Option Shuffling : Yes
Correct Marks : 1 Wrong Marks : 0.25

दो संख्याओं का अनुपात 9 : 11 है। उनका लघुत्तम समापवर्त्य 1485 है। दोनों संख्याओं का योग बताएँ:

Options :

1. ✖ 400

2. ✖ 250

3. ✔ 300

4. ✖ 200

Question Number : 93 Question Id : 5861801087 Question Type : MCQ Option Shuffling : Yes

Correct Marks : 1 Wrong Marks : 0.25

If $(x - 3)$ is the HCF of $x^2 - 5x + 6$ and $x^2 - kx + 9$, then what is the value of k ?

Options :

1. ✖ 3

2. ✔ 6

3. ✖ 5

4. ✖ 4

Question Number : 93 Question Id : 5861801087 Question Type : MCQ Option Shuffling : Yes

Correct Marks : 1 Wrong Marks : 0.25

यदि, $x^2 - 5x + 6$ और $x^2 - kx + 9$, का महत्तम समापवर्त्य $(x - 3)$ है, तो k का मान पता करें?

Options :

1. ✖ 3

2. ✔ 6

3. ✖ 5

4. ✖ 4

Question Number : 94 Question Id : 5861801088 Question Type : MCQ Option Shuffling : Yes

Correct Marks : 1 Wrong Marks : 0.25

If $a : b = 3 : 5$, $b : c = 7 : 9$, $c : d = 3 : 7$, then the value of $a : b : c : d = ?$

Options :

1. ✖ 21 : 35 : 105 : 45

2. ✖ 21 : 45 : 35 : 105

3. ✖ 21 : 10 : 25 : 45

4. ✔ 21 : 35 : 45 : 105

Question Number : 94 Question Id : 5861801088 Question Type : MCQ Option Shuffling : Yes

Correct Marks : 1 Wrong Marks : 0.25

यदि $a : b = 3 : 5$, $b : c = 7 : 9$, $c : d = 3 : 7$ है, तो $a : b : c : d = ?$

Options :

1. ✖ 21 : 35 : 105 : 45

2. ✖ 21 : 45 : 35 : 105

3. ✖ 21 : 10 : 25 : 45

4. ✔ 21 : 35 : 45 : 105

Question Number : 95 Question Id : 5861801089 Question Type : MCQ Option Shuffling : Yes

Correct Marks : 1 Wrong Marks : 0.25

तीन कक्षाओं के छात्रों का अनुपात 5:6:8 है। यदि प्रत्येक कक्षा में छात्रों की संख्या 20 बढ़ा दी जाए, तो अनुपात 7:8:10 हो जाता है। नए छात्रों के आने से पहले छात्रों की कुल संख्या कितनी थी?

Options :

1. ✖ 100

2. ✔ 190

3. ✖ 200

4. ✖ 150

Question Number : 95 Question Id : 5861801089 Question Type : MCQ Option Shuffling : Yes

Correct Marks : 1 Wrong Marks : 0.25

The students in three classes are in the ratio of 5 : 6 : 8. If 20 students are increased in each class, the ratio changes to 7 : 8 : 10. What was the total number of students before the addition of new students?

Options :

1. ✖ 100

2. ✔ 190

3. ✖ 200

4. ✖ 150

Question Number : 96 Question Id : 5861801090 Question Type : MCQ Option Shuffling : Yes

Correct Marks : 1 Wrong Marks : 0.25

If the income of Raghu is 40% more than Kumar, then the income of Kumar is less than that of Raghu by what percent?

Options :

1. ✖ $26\frac{4}{7}\%$

2. ✖ $27\frac{4}{7}\%$

3. ✔ $28\frac{4}{7}\%$

4. ✖ $29\frac{4}{7}\%$

Question Number : 96 Question Id : 5861801090 Question Type : MCQ Option Shuffling : Yes

Correct Marks : 1 Wrong Marks : 0.25

यदि रघु की आमदनी, कुमार की आमदनी से 40% अधिक है, तो कुमार की आमदनी रघु की आमदनी से कितने प्रतिशत कम है?

Options :

1. ✖ $26\frac{4}{7}\%$

2. ✖ $27\frac{4}{7}\%$

3. ✔ $28\frac{4}{7}\%$

4. ✖ $29\frac{4}{7}\%$

Question Number : 97 Question Id : 5861801091 Question Type : MCQ Option Shuffling : Yes

Correct Marks : 1 Wrong Marks : 0.25

If due to 10% decrease in the price of sugar, Avinash can buy 8 kg more sugar in Rs. 2700, what is the original price of the sugar?

Options :

1. ✖ Rs. 35.5

2. ✖ Rs. 34.5

3. ✖ Rs. 36.5

4. ✔ Rs. 37.5

Question Number : 97 Question Id : 5861801091 Question Type : MCQ Option Shuffling : Yes

Correct Marks : 1 Wrong Marks : 0.25

यदि शर्करा के मूल्य में 10% की कमी कर दी जाती है, तो अविनाश रुपये 2700 में 8 kg अधिक शर्करा खरीद सकता है, शर्करा का मूल मूल्य पता करें?

Options :

1. ✖ रुपये 35.5

2. ✖ रुपये 34.5

3. ✖ रुपये 36.5

4. ✔ रुपये 37.5

Question Number : 98 Question Id : 5861801092 Question Type : MCQ Option Shuffling : Yes

Correct Marks : 1 Wrong Marks : 0.25

A student scored 35% marks and failed by 50 marks, while another student who scored 60% marks, actually got 50 marks more than the minimum required marks to pass the exam. What were the maximum marks for which the exam was conducted?

Options :

1. ✖ 600

2. ✔ 400

3. ✖ 500

4. ✖ 700

Question Number : 98 Question Id : 5861801092 Question Type : MCQ Option Shuffling : Yes

Correct Marks : 1 Wrong Marks : 0.25

एक छात्र 35% अंक लेता है और परीक्षा में 50 अंकों से फेल हो जाता है, जबकि एक अन्य छात्र जो 60% अंक लेता है, वह परीक्षा पास करने के लिए आवश्यक न्यूनतम अंकों से 50 अंक अधिक लेता है। परीक्षा के अधिकतम अंक कितने थे, जिसके लिए परीक्षा आयोजित की गई थी?

Options :

1. ✖ 600

2. ✔ 400

3. ✖ 500

4. ✖ 700

Question Number : 99 Question Id : 5861801093 Question Type : MCQ Option Shuffling : Yes

Correct Marks : 1 Wrong Marks : 0.25

The average of 150 numbers is 75. It is found that while calculating the average, two numbers 71 and 16 were wrongly read as 17 and 61. What is the average if the readings of these two numbers are recorded correctly now?

Options :

1. ✖ 74.06

2. ✖ 73.06

3. ✔ 75.06

4. ✖ 76.06

Question Number : 99 Question Id : 5861801093 Question Type : MCQ Option Shuffling : Yes

Correct Marks : 1 Wrong Marks : 0.25

150 अंकों की औसत 75 है। यह पता चला कि औसत की गणना करते समय, दो संख्याओं 71 और 16 को गलती से 17 और 61 मान लिया गया था। यदि इन दो संख्याओं को सही दर्ज किया जाए तो औसत क्या होगी?

Options :

1. ✖ 74.06

2. ✖ 73.06

3. ✔ 75.06

4. ✖ 76.06

Question Number : 100 Question Id : 5861801094 Question Type : MCQ Option Shuffling : Yes

Correct Marks : 1 Wrong Marks : 0.25

The average age of 3 persons is 55 years. The ratio of their ages is 9 : 11 : 13. What is the difference between the age of the oldest and the youngest person?

Options :

1. ✖ 10 years

2. ✔ 20 years

3. ✖ 30 years

4. ✖ 25 years

Question Number : 100 Question Id : 5861801094 Question Type : MCQ Option Shuffling : Yes

Correct Marks : 1 Wrong Marks : 0.25

3 व्यक्तियों की औसत आयु 55 वर्ष है। उनकी आयु का अनुपात 9 : 11 : 13 है। सबसे बड़ी आयु और सबसे कम आयु वाले व्यक्तियों की आयु में कितना अंतर है?

Options :

1. ✖ 10 साल

2. ✔ 20 साल

3. ✖ 30 साल

4. ✖ 25 साल

Arithmetic Ability2

Group Number :	6
Group Id :	58618047
Group Maximum Duration :	0
Group Minimum Duration :	0
Show Attended Group? :	No
Edit Attended Group? :	No
Break time:	0
Group Marks:	20
Is this Group for Examiner?:	No
Revisit allowed for group Instructions? :	Yes
Maximum Instruction Time:	0
Minimum Instruction Time:	0

Arithmetic Ability2

Section Id :	58618051
Section Number :	1
Section type :	Online
Mandatory or Optional:	Mandatory
Number of Questions:	20
Number of Questions to be attempted:	20
Section Marks:	20

Sub-Section Number: 1
Sub-Section Id: 58618066
Question Shuffling Allowed : Yes

Question Number : 101 Question Id : 5861801095 Question Type : MCQ Option Shuffling : Yes
Correct Marks : 1 Wrong Marks : 0.25

A vendor sells 40 oranges for Rs. 4 thereby gaining 40%. How many oranges did he buy for Rs. 4?

Options :

1. ✓ 56

2. ✗ 14

3. ✗ 28

4. ✗ 20

Question Number : 101 Question Id : 5861801095 Question Type : MCQ Option Shuffling : Yes
Correct Marks : 1 Wrong Marks : 0.25

एक विक्रेता ने रुपये 4 में 40 संतरे बेचे और 40% का लाभ कमाया। पता करें कि उसने रुपये 4 में कितने संतरे खरीदे?

Options :

1. ✓ 56

2. ✗ 14

3. ✗ 28

4. ✗ 20

Question Number : 102 Question Id : 5861801096 Question Type : MCQ Option Shuffling : Yes
Correct Marks : 1 Wrong Marks : 0.25

Karan bought pencils at the rate of 20 pencils for Rs. 22 and sold them at the rate of 22 pencils for Rs. 20. Find the profit or loss percent.

Options :

1. ✖ $17\frac{34}{121}\%$ loss
2. ✔ $17\frac{43}{121}\%$ loss
3. ✖ $17\frac{43}{121}\%$ profit
4. ✖ $17\frac{34}{121}\%$ profit

Question Number : 102 Question Id : 5861801096 Question Type : MCQ Option Shuffling : Yes

Correct Marks : 1 Wrong Marks : 0.25

करन ने रुपये 22 की 20 पेंसिल खरीदीं और रुपये 20 में 22 पेंसिल बेच दी। उसे हुए लाभ या हानि का पता करें।

Options :

1. ✖ $17\frac{34}{121}\%$ हानि
2. ✔ $17\frac{43}{121}\%$ हानि
3. ✖ $17\frac{43}{121}\%$ लाभ
4. ✖ $17\frac{34}{121}\%$ लाभ

Question Number : 103 Question Id : 5861801097 Question Type : MCQ Option Shuffling : Yes

Correct Marks : 1 Wrong Marks : 0.25

A shopkeeper sells $\frac{2}{3}$ rd of his goods at 30% profit, $\frac{1}{4}$ th of his goods at 16% profit and the remaining goods at 12% profit. He gains a profit of 15000 at the end. The cost price of the goods is:

Options :

1. ✖ 50000

2. ✖ 25000

3. ✔ 60000

4. ✖ 35000

Question Number : 103 Question Id : 5861801097 Question Type : MCQ Option Shuffling : Yes

Correct Marks : 1 Wrong Marks : 0.25

एक दुकानदार ने अपने सामान का $\frac{2}{3}$ हिस्सा 30% लाभ पर, $\frac{1}{4}$ हिस्सा 16% लाभ पर और बाकी हिस्सा 12% लाभ पर बेच दिया। उसे अंत में 15000 का लाभ हुआ। सामान का लागत मूल्य पता करें:

Options :

1. ✖ 50000

2. ✖ 25000

3. ✔ 60000

4. ✖ 35000

Question Number : 104 Question Id : 5861801098 Question Type : MCQ Option Shuffling : Yes

Correct Marks : 1 Wrong Marks : 0.25

Arun sold a radio by giving a discount of 10%. If he gives a discount of 12%, he earns Rs. 60 less as profit. What is the marked price of the radio?

Options :

1. ✖ 1500

2. ✖ 4500

3. ✖ 6000

4. ✔ 3000

Question Number : 104 Question Id : 5861801098 Question Type : MCQ Option Shuffling : Yes

Correct Marks : 1 Wrong Marks : 0.25

अरुण ने 10% की छूट पर एक रेडियो बेचा। यदि वह 12% छूट देता, तो उसे रुपये 60 का कम लाभ होता। रेडियो का बाज़ार मूल्य पता करें?

Options :

1. ✖ 1500

2. ✖ 4500

3. ✖ 6000

4. ✔ 3000

Question Number : 105 Question Id : 5861801099 Question Type : MCQ Option Shuffling : Yes

Correct Marks : 1 Wrong Marks : 0.25

A cloth store allows a discount of 30% on a shirt piece. If the cost price of the shirt piece is Rs.500 and the store wants to get a profit of 40%, the marked price of the shirt piece should be:

Options :

1. ✖ 900

2. ✔ 1000

3. ✖ 850

4. ✖ 950

Question Number : 105 Question Id : 5861801099 Question Type : MCQ Option Shuffling : Yes

Correct Marks : 1 Wrong Marks : 0.25

कपड़े की एक दुकान एक कमीज़ पर 30% छूट देती है। यदि कमीज़ का लागत मूल्य रुपये 500 है और दुकान 40% लाभ कमाना चाहती है, तो पता करें कि उसे कमीज़ का बाज़ार मूल्य कितना रखना चाहिए:

Options :

1. ✖ 900

2. ✔ 1000

3. ✖ 850

4. ✖ 950

Question Number : 106 Question Id : 5861801100 Question Type : MCQ Option Shuffling : Yes

Correct Marks : 1 Wrong Marks : 0.25

A certain sum in a certain time becomes Rs. 10000 at the rate of 8% per annum simple interest, and the same sum amounts to Rs. 4000 at the rate of 2% per annum simple interest during the same period. What are the values of the sum (in Rs.) and the time (in years) respectively?

Options :

1. ✔ 2000, 50

2. ✖ 3000, 5

3. ✖ 2000, 5

4. ✖ 3000, 50

Question Number : 106 Question Id : 5861801100 Question Type : MCQ Option Shuffling : Yes

Correct Marks : 1 Wrong Marks : 0.25

एक निश्चित राशि एक निश्चित समय पर 8% की वार्षिक ब्याज दर से रुपये 10000 हो जाती है, और यही राशि इतने ही समय में 2% की वार्षिक ब्याज दर से रुपये 4000 हो जाती है। क्रमशः राशि (रुपये में) और समय (वर्षों में) के योग का मान पता करें?

Options :

1. ✔ 2000, 50

2. ✖ 3000, 5

3. ✖ 2000, 5

4. ✖ 3000, 50

Question Number : 107 Question Id : 5861801101 Question Type : MCQ Option Shuffling : Yes

Correct Marks : 1 Wrong Marks : 0.25

The simple interest for a sum of Rs. 6200 for 4 years is Rs. 80 more than the simple interest for Rs. 5800 for the same duration, the interest rate being same in both cases. What is the rate of interest?

Options :

1. ✖ 10%

2. ✖ 8%

3. ✖ 12%

4. ✔ 5%

Question Number : 107 Question Id : 5861801101 Question Type : MCQ Option Shuffling : Yes

Correct Marks : 1 Wrong Marks : 0.25

रुपये 6200 पर 4 वर्ष का साधारण ब्याज, रुपये 5800 पर इतने ही समय के साधारण ब्याज से रुपये 80 अधिक है, याद रहे कि दोनों मामलों में ब्याज दर समान ही थी। ब्याज दर पता करें?

Options :

1. ✖ 10%

2. ✖ 8%

3. ✖ 12%

4. ✔ 5%

Question Number : 108 Question Id : 5861801102 Question Type : MCQ Option Shuffling : Yes

Correct Marks : 1 Wrong Marks : 0.25

A sum of money amounts to Rs. 10600 after 4 years and Rs. 14800 after 7 years at the same rate of simple interest. What is the rate of interest per annum?

Options :

1. ✖ 8%

2. ✔ 28%

3. ✖ 12%

4. ✖ 15%

Question Number : 108 Question Id : 5861801102 Question Type : MCQ Option Shuffling : Yes

Correct Marks : 1 Wrong Marks : 0.25

एक निश्चित राशि एक निश्चित वार्षिक साधारण ब्याज दर पर 4 वर्षों में रुपये 10600 और 7 वर्षों में रुपये 14800 हो जाती है। वार्षिक ब्याज दर पता करें?

Options :

1. ✖ 8%

2. ✔ 28%

3. ✖ 12%

4. ✖ 15%

Question Number : 109 Question Id : 5861801103 Question Type : MCQ Option Shuffling : Yes

Correct Marks : 1 Wrong Marks : 0.25

Harish borrowed some money on compound interest and returned it in 2 years in equal annual installments. If the rate of interest is 15% per annum and the annual installment is Rs. 4600, then find the sum borrowed.

Options :

1. ✔ 7478.26

2. ✖ 7748.26

3. ✖ 7874.26

4. ✖ 8478.26

Question Number : 109 Question Id : 5861801103 Question Type : MCQ Option Shuffling : Yes

Correct Marks : 1 Wrong Marks : 0.25

हरीश चक्रवर्द्धि ब्याज पर एक निश्चित राशि उधार लेता है और 2 वर्षों में बराबर वार्षिक किश्तों में वापिस कर देता है। यदि वार्षिक ब्याज दर 15% है और वार्षिक किश्त रुपये 4600 है, तो उधार ली गई राशि पता करें।

Options :

1. ✔ 7478.26

2. ✖ 7748.26

3. ✖ 7874.26

4. ✖ 8478.26

Question Number : 110 Question Id : 5861801104 Question Type : MCQ Option Shuffling : Yes

Correct Marks : 1 Wrong Marks : 0.25

If a certain sum at compound interest becomes double in 5 years, in how many years will it be 32 times at the same rate of interest?

Options :

1. ✖ 16 years

2. ✖ 32 years

3. ✔ 25 years

4. ✖ 36 years



Question Number : 110 Question Id : 5861801104 Question Type : MCQ Option Shuffling : Yes

Correct Marks : 1 Wrong Marks : 0.25

यदि एक निश्चित राशि, चक्रवृद्धि ब्याज पर 5 वर्षों में दोगुनी हो जाती है, तो पता करें कि यह राशि इसी ब्याज दर पर कितने वर्षों में 32 गुणा होगी?

Options :

1. ✖ 16 साल

2. ✖ 32 साल

3. ✓ 25 साल

4. ✗ 36 साल

Question Number : 111 Question Id : 5861801105 Question Type : MCQ Option Shuffling : Yes

Correct Marks : 1 Wrong Marks : 0.25

A right-angled triangle of perimeter 30 cm has been formed such that the lengths of its sides (in cm) are integers prime to each other. What is its area in sq.cm.?

Options :

1. ✗ 20

2. ✗ 24

3. ✗ 25

4. ✓ 30

Question Number : 111 Question Id : 5861801105 Question Type : MCQ Option Shuffling : Yes

Correct Marks : 1 Wrong Marks : 0.25

30 cm के परिमाण वाली एक समकोण त्रिभुज को इस तरह से बनाया गया है कि इसकी भुजाओं की लंबाई (cm में) एक-दूसरे के पूर्णांक प्रमुख हो जाती है। इसका sq.cm. में क्षेत्रफल पता करें?

Options :

1. ✗ 20

2. ✗ 24

3. ✗ 25

4. ✓ 30

Question Number : 112 Question Id : 5861801106 Question Type : MCQ Option Shuffling : Yes

Correct Marks : 1 Wrong Marks : 0.25

A circle is inscribed in a square. What is the ratio of the area of the circle to that of the portion of the square not covered by the circle?

Options :

1. ✗ $\frac{\pi}{4}$

2. ✗ $\frac{\pi}{\pi-2}$

3. ✓ $\frac{\pi}{4-\pi}$

4. ✗ $\frac{\pi-2}{\pi}$

Question Number : 112 Question Id : 5861801106 Question Type : MCQ Option Shuffling : Yes

Correct Marks : 1 Wrong Marks : 0.25

एक वर्ग में एक वृत्त बनाया गया है। वृत्त के क्षेत्रफल और वृत्त द्वारा वर्ग के कवर नहीं किए गए हिस्से का अनुपात पता करें।

Options :

1. ✗ $\frac{\pi}{4}$

2. ✗ $\frac{\pi}{\pi-2}$

3. ✓ $\frac{\pi}{4-\pi}$

4. ✖ $\frac{\pi-2}{\pi}$

Question Number : 113 Question Id : 5861801107 Question Type : MCQ Option Shuffling : Yes

Correct Marks : 1 Wrong Marks : 0.25

The area of a circle is increased by 352 sq.cm. when its radius is increased by 8 cm. Find the original radius of the circle.

Options :

1. ✖ 6 cm

2. ✔ 3 cm

3. ✖ 4 cm

4. ✖ 8 cm

Question Number : 113 Question Id : 5861801107 Question Type : MCQ Option Shuffling : Yes

Correct Marks : 1 Wrong Marks : 0.25

एक वृत्त का क्षेत्रफल 352 sq.cm बढ़ जाता है। जब इसकी त्रिज्या 8 cm बढ़ाई जाती है। वृत्त की मूल त्रिज्या पता करें।

Options :

1. ✖ 6 cm

2. ✔ 3 cm

3. ✖ 4 cm

4. ✖ 8 cm

Question Number : 114 Question Id : 5861801108 Question Type : MCQ Option Shuffling : Yes

Correct Marks : 1 Wrong Marks : 0.25

P and Q can finish a piece of work in 60 days; Q and R can finish the same work in 48 days; whereas R and P can finish the same work in 40 days. They all work together for 20 days. Then Q and R leave. How many more days will P take to finish the work?

Options :

1. ✓ 36 days

2. ✗ 30 days

3. ✗ 15 days

4. ✗ 18 days

Question Number : 114 Question Id : 5861801108 Question Type : MCQ Option Shuffling : Yes

Correct Marks : 1 Wrong Marks : 0.25

P और Q एक कार्य को 60 दिनों में पूरा करते हैं; Q और R को यही कार्य करने में 48 दिन लगते हैं; जबकि R और P को यही कार्य करने में 40 दिन लगते हैं। वे सभी 20 दिन तक एक-साथ काम करते हैं। इसके बाद Q और R काम छोड़ देते हैं। पता करें कि P को अकेले काम खत्म करने में कितने दिन का समय लगेगा?

Options :

1. ✓ 36 दिन

2. ✗ 30 दिन

3. ✗ 15 दिन

4. ✗ 18 दिन

Question Number : 115 Question Id : 5861801109 Question Type : MCQ Option Shuffling : Yes

Correct Marks : 1 Wrong Marks : 0.25

Geeta and Mamatha can finish a piece of work in 40 days and 24 days respectively. Geeta started the work alone. After 8 days, Mamatha joined her till the completion of the work. How many days in total were needed to finish the work?

Options :

1. ✖ 12 days

2. ✔ 20 days

3. ✖ 6 days

4. ✖ 24 days

Question Number : 115 Question Id : 5861801109 Question Type : MCQ Option Shuffling : Yes

Correct Marks : 1 Wrong Marks : 0.25

गीता और ममथा एक कार्य को क्रमशः 40 और 24 दिनों में पूरा करती हैं। गीता अकेले ही काम करना शुरू कर देती है। 8 दिनों के बाद, ममथा कार्य पूरा होने तक उसके साथ काम करती है। पता करें कि कार्य खत्म करने में कुल कितने दिन का समय लगा?

Options :

1. ✖ 12 दिन

2. ✔ 20 दिन

3. ✖ 6 दिन

4. ✖ 24 दिन

Question Number : 116 Question Id : 5861801110 Question Type : MCQ Option Shuffling : Yes

Correct Marks : 1 Wrong Marks : 0.25

A man covers 90 km distance in 4.5 hours. How long will he take to cover 140 km at double the previous speed?

Options :

1. ✖ 4.5 hours

2. ✖ 3.25 hours

3. ✔ 3.5 hours

4. ✖ 4 hours

Question Number : 116 Question Id : 5861801110 Question Type : MCQ Option Shuffling : Yes

Correct Marks : 1 Wrong Marks : 0.25

एक व्यक्ति 90 km की दूरी 4.5 घंटे में तय करता है। यदि उसकी गति पहले से दोगुनी हो जाए तो पता करें कि वह 140 km की दूरी कितने समय में तय करेगा?

Options :

1. ✖ 4.5 घंटे

2. ✖ 3.25 घंटे

3. ✔ 3.5 घंटे

4. ✖ 4 घंटे

Question Number : 117 Question Id : 5861801111 Question Type : MCQ Option Shuffling : Yes

Correct Marks : 1 Wrong Marks : 0.25

Rahul covers a certain distance on motorcycle. Had he moved 8 kmph faster, he would have taken 40 min less to cover the distance. If he had moved 4 kmph slower, he would have taken 40 min more to cover the distance. The distance (in km) is:

Options :

1. ✖ 30

2. ✖ 40

3. ✖ 42

4. ✔ 32

Question Number : 117 Question Id : 5861801111 Question Type : MCQ Option Shuffling : Yes

Correct Marks : 1 Wrong Marks : 0.25

राहुल मोटरसाइकल पर एक निश्चित दूरी तय करता है। यदि वह 8 kmph अधिक तेज़ी से जाता है तो वह दूरी तय करने में 40 मिनट का कम समय लेता है। यदि वह 4 kmph धीमे से जाता है तो वह दूरी तय करने में 40 मिनट का अधिक समय लेता है। दूरी (km में) पता करें।

Options :

1. ✖ 30

2. ✖ 40

3. ✖ 42

4. ✔ 32



Question Number : 118 Question Id : 5861801112 Question Type : MCQ Option Shuffling : Yes

Correct Marks : 1 Wrong Marks : 0.25

X is twice as fast as Y and Y is thrice as fast as Z. The journey covered by Z in 224 min will be covered by X in how many minutes?

Options :

1. ✔ $37\frac{1}{3}$ min

2. ✖ $35\frac{1}{3}$ min

3. ✖ $33\frac{1}{3}$ min

4. ✖ $38\frac{1}{3}$ min

Question Number : 118 Question Id : 5861801112 Question Type : MCQ Option Shuffling : Yes

Correct Marks : 1 Wrong Marks : 0.25

X, Y से दोगुना तेज़ है और Y, Z से तीन गुना तेज़ है। Z एक निश्चित दूरी 224 मिनट में पूरी करता है, पता करें कि X यही दूरी कितने समय में पूरी करेगा?

Options :

1. ✔ $37\frac{1}{3}$ min

2. ✖ $35\frac{1}{3}$ min

3. ✖ $33\frac{1}{3}$ min

4. ✖ $38\frac{1}{3}$ min



Question Number : 119 Question Id : 5861801113 Question Type : MCQ Option Shuffling : Yes

Correct Marks : 1 Wrong Marks : 0.25

The following table shows the number of new employees added to different categories of employees in an organisation and also the number of employees from these categories who left the organisation every year since the foundation of the organisation in 2005.

Year	Managers		Technical persons		Telephone Operators		Computer Operators		Attenders	
	New	Left	New	Left	New	Left	New	Left	New	Left
2005	380	-	600	-	440	-	580	-	410	-
2006	140	60	136	60	128	52	100	50	92	48
2007	90	46	120	64	120	60	112	52	76	44
2008	72	44	118	48	104	50	124	48	98	40
2009	80	36	128	50	96	56	136	44	112	60
2010	97	48	144	56	124	72	130	46	100	52

What is the average of the total number of employees of all categories in the year 2007?

Options :

1. ✖ 587
2. ✖ 587.6
3. ✖ 597
4. ✔ 597.6

Question Number : 119 Question Id : 5861801113 Question Type : MCQ Option Shuffling : Yes
Correct Marks : 1 Wrong Marks : 0.25

नीचे दी गई तालिका 2005 में स्थापित हुए संगठन में विभिन्न वर्गों में हर वर्ष शामिल हुए नए कर्मचारियों की संख्या और काम छोड़ गए कर्मचारियों की संख्या दर्शाती है।

वर्ष	प्रबंधक		तकनीकी कर्मचारी		टेलीफोन कर्मचारी		कंप्यूटर ऑपरेटर		परिचर	
	नए	छोड़ गए	नए	छोड़ गए	नए	छोड़ गए	नए	छोड़ गए	नए	छोड़ गए
2005	380	-	600	-	440	-	580	-	410	-
2006	140	60	136	60	128	52	100	50	92	48
2007	90	46	120	64	120	60	112	52	76	44
2008	72	44	118	48	104	50	124	48	98	40
2009	80	36	128	50	96	56	136	44	112	60
2010	97	48	144	56	124	72	130	46	100	52

वर्ष 2007 में सभी वर्गों में काम कर रहे कुल कर्मचारियों की संख्या क्या है?

Options :

- 1. ✖ 587
- 2. ✖ 587.6
- 3. ✖ 597
- 4. ✔ 597.6

Question Number : 120 Question Id : 5861801114 Question Type : MCQ Option Shuffling : Yes
Correct Marks : 1 Wrong Marks : 0.25

The following table shows the number of new employees added to different categories of employees in an organisation and also the number of employees from these categories who left the organisation every year since the foundation of the organisation in 2005.

Year	Managers		Technical persons		Telephone Operators		Computer Operators		Attendders	
	New	Left	New	Left	New	Left	New	Left	New	Left
2005	380	-	600	-	440	-	580	-	410	-
2006	140	60	136	60	128	52	100	50	92	48
2007	90	46	120	64	120	60	112	52	76	44
2008	72	44	118	48	104	50	124	48	98	40
2009	80	36	128	50	96	56	136	44	112	60
2010	97	48	144	56	124	72	130	46	100	52

Find the total number of computer operators working in the year 2009.

Options :

- 1. ✔ 858
- 2. ✖ 1246
- 3. ✖ 850
- 4. ✖ 900

Question Number : 120 Question Id : 5861801114 Question Type : MCQ Option Shuffling : Yes
Correct Marks : 1 Wrong Marks : 0.25

निम्न तालिका एक संगठन में कर्मचारियों की विभिन्न श्रेणियों में जुड़े नए कर्मचारियों की संख्या और इसके अलावा संगठन के स्थापना वर्ष 2005 से हर साल इन श्रेणियों में से संगठन छोड़ने वाले कर्मचारियों की संख्या भी दर्शाती है।

वर्ष	प्रबंधक		तकनीकी कर्मचारी		टेलीफोन कर्मचारी		कंप्यूटर ऑपरेटर		परिचर	
	नए	छोड़ गए	नए	छोड़ गए	नए	छोड़ गए	नए	छोड़ गए	नए	छोड़ गए
2005	380	-	600	-	440	-	580	-	410	-
2006	140	60	136	60	128	52	100	50	92	48
2007	90	46	120	64	120	60	112	52	76	44
2008	72	44	118	48	104	50	124	48	98	40
2009	80	36	128	50	96	56	136	44	112	60
2010	97	48	144	56	124	72	130	46	100	52

वर्ष 2009 में काम कर रहे कुल कंप्यूटर ऑपरेटरों की संख्या पता करें।

Options :

1. ✓ 858

2. ✗ 1246

3. ✗ 850

4. ✗ 900



General English1

Group Number :	7
Group Id :	58618048
Group Maximum Duration :	0
Group Minimum Duration :	0
Show Attended Group? :	No
Edit Attended Group? :	No
Break time:	0
Group Marks:	20

Is this Group for Examiner?: No
Revisit allowed for group Instructions? : Yes
Maximum Instruction Time: 0
Minimum Instruction Time: 0

General English1

Section Id : 58618052
Section Number : 1
Section type : Online
Mandatory or Optional: Mandatory
Number of Questions: 20
Number of Questions to be attempted: 20
Section Marks: 20

Sub-Section Number: 1
Sub-Section Id: 58618067
Question Shuffling Allowed : Yes

Question Number : 121 Question Id : 5861801115 Question Type : MCQ Option Shuffling : Yes
Correct Marks : 1 Wrong Marks : 0.25

Fill in the blanks with the most appropriate word.

Scientists, however argued there was no evidence to back the _____ of the creature.

Note: For this question, discrepancy is found in question/answer. So, this question is ignored for all candidates.

Options :

- 1. protect
- 2. perfect
- 3. project
- 4. prefect

Question Number : 121 Question Id : 5861801115 Question Type : MCQ Option Shuffling : Yes
Correct Marks : 1 Wrong Marks : 0.25

Fill in the blanks with the most appropriate word.

Scientists, however argued there was no evidence to back the _____ of the creature.

Note: For this question, discrepancy is found in question/answer. So, this question is ignored for all candidates.

Options :

1. protect
2. perfect
3. project
4. prefect

Question Number : 122 Question Id : 5861801116 Question Type : MCQ Option Shuffling : Yes

Correct Marks : 1 Wrong Marks : 0.25

Fill in the blanks with the most appropriate word.

According to the Meteorological department this year the city has already _____ its hottest day in April in 49 years.

Options :

1. ✖ measured
2. ✖ calculated
3. ✖ judged
4. ✔ recorded

Question Number : 122 Question Id : 5861801116 Question Type : MCQ Option Shuffling : Yes

Correct Marks : 1 Wrong Marks : 0.25

Fill in the blanks with the most appropriate word.

According to the Meteorological department this year the city has already _____ its hottest day in April in 49 years.

Options :

1. ✖ measured
2. ✖ calculated
3. ✖ judged
4. ✔ recorded

Question Number : 123 Question Id : 5861801117 Question Type : MCQ Option Shuffling : Yes

Correct Marks : 1 Wrong Marks : 0.25

Fill in the blanks with the most appropriate word.

The executive engineer of the project said that the _____ submerged portions would be removed in the next 10-12 days.

Options :

1. ✖ constructing
2. ✖ recovering
3. ✔ remaining
4. ✖ building

Question Number : 123 Question Id : 5861801117 Question Type : MCQ Option Shuffling : Yes

Correct Marks : 1 Wrong Marks : 0.25

Fill in the blanks with the most appropriate word.

The executive engineer of the project said that the _____ submerged portions would be removed in the next 10-12 days.

Options :

1. ✖ constructing
2. ✖ recovering
3. ✔ remaining
4. ✖ building

Question Number : 124 Question Id : 5861801118 Question Type : MCQ Option Shuffling : Yes

Correct Marks : 1 Wrong Marks : 0.25

Fill in the blanks with the most appropriate word.

When you are a child whose parents' jobs involve _____ transfers keeping up with the constant change in environment can be very difficult.

Options :

1. ✖ immediate
2. ✖ urgent
3. ✖ occasional
4. ✔ frequent

Question Number : 124 Question Id : 5861801118 Question Type : MCQ Option Shuffling : Yes

Correct Marks : 1 Wrong Marks : 0.25

Fill in the blanks with the most appropriate word.

When you are a child whose parents' jobs involve _____ transfers keeping up with the constant change in environment can be very difficult.

Options :

1. ✖ immediate
2. ✖ urgent
3. ✖ occasional
4. ✔ frequent

Question Number : 125 Question Id : 5861801119 Question Type : MCQ Option Shuffling : Yes
Correct Marks : 1 Wrong Marks : 0.25

Select the correct meaning of the idiom given.

Cut no ice

Options :

1. ✖ Feel too cold to do anything
2. ✖ Have a good influence on
3. ✖ Feel sorry for someone
4. ✔ Have no influence or effect on

Question Number : 125 Question Id : 5861801119 Question Type : MCQ Option Shuffling : Yes
Correct Marks : 1 Wrong Marks : 0.25

Select the correct meaning of the idiom given.

Cut no ice

Options :

1. ✖ Feel too cold to do anything

2. ✖ Have a good influence on
3. ✖ Feel sorry for someone
4. ✔ Have no influence or effect on

Question Number : 126 Question Id : 5861801120 Question Type : MCQ Option Shuffling : Yes
Correct Marks : 1 Wrong Marks : 0.25

Select the grammatically correct option to fill in the blanks.

This is the most interesting book that I _____ across.

Options :

1. ✔ have come
2. ✖ came
3. ✖ comes
4. ✖ had came

Question Number : 126 Question Id : 5861801120 Question Type : MCQ Option Shuffling : Yes
Correct Marks : 1 Wrong Marks : 0.25

Select the grammatically correct option to fill in the blanks.

This is the most interesting book that I _____ across.

Options :

1. ✔ have come
2. ✖ came
3. ✖ comes
4. ✖ had came

Question Number : 127 Question Id : 5861801121 Question Type : MCQ Option Shuffling : Yes
Correct Marks : 1 Wrong Marks : 0.25

Select the grammatically correct option to fill in the blanks.

It doesn't seem so warm today, _____?

Options :

1. ✖ Isn't it
2. ✔ Does it
3. ✖ Doesn't it
4. ✖ Did it

Question Number : 127 Question Id : 5861801121 Question Type : MCQ Option Shuffling : Yes
Correct Marks : 1 Wrong Marks : 0.25

Select the grammatically correct option to fill in the blanks.

It doesn't seem so warm today, _____?

Options :

1. ✖ Isn't it
2. ✔ Does it
3. ✖ Doesn't it
4. ✖ Did it

Question Number : 128 Question Id : 5861801122 Question Type : MCQ Option Shuffling : Yes
Correct Marks : 1 Wrong Marks : 0.25

Select the grammatically correct option to fill in the blanks.

Ayurveda claims to provide an integrated approach
_____treating illnesses.

Options :

1. ✖ with
2. ✖ on

3. ✖ from

4. ✔ to

Question Number : 128 Question Id : 5861801122 Question Type : MCQ Option Shuffling : Yes
Correct Marks : 1 Wrong Marks : 0.25

Select the grammatically correct option to fill in the blanks.

Ayurveda claims to provide an integrated approach
_____treating illnesses.

Options :

1. ✖ with

2. ✖ on

3. ✖ from

4. ✔ to

Question Number : 129 Question Id : 5861801123 Question Type : MCQ Option Shuffling : Yes
Correct Marks : 1 Wrong Marks : 0.25

Select the grammatically correct option to fill in the blanks.

If it _____ they will have to cancel the open-air programme.

Options :

1. ✖ will rain

2. ✖ rained

3. ✔ rains

4. ✖ rain

Question Number : 129 Question Id : 5861801123 Question Type : MCQ Option Shuffling : Yes
Correct Marks : 1 Wrong Marks : 0.25

Select the grammatically correct option to fill in the blanks.

If it _____ they will have to cancel the open-air programme.

Options :

1. ✖ Will rain
2. ✖ rained
3. ✔ rains
4. ✖ rain

Question Number : 130 Question Id : 5861801124 Question Type : MCQ Option Shuffling : Yes

Correct Marks : 1 Wrong Marks : 0.25

Select the grammatically correct option to fill in the blanks.

Kishore and _____ are planning to attend the function at that college.

Options :

1. ✔ I
2. ✖ myself
3. ✖ me
4. ✖ my

Question Number : 130 Question Id : 5861801124 Question Type : MCQ Option Shuffling : Yes

Correct Marks : 1 Wrong Marks : 0.25

Select the grammatically correct option to fill in the blanks.

Kishore and _____ are planning to attend the function at that college.

Options :

1. ✔ I

2. ✖ myself

3. ✖ me

4. ✖ my

Question Number : 131 Question Id : 5861801125 Question Type : MCQ Option Shuffling : Yes
Correct Marks : 1 Wrong Marks : 0.25

Select the grammatically correct option to fill in the blanks.

_____ has a beautiful dog, a white Labrador.

Options :

1. ✖ One of my friend

2. ✔ One of my friends

3. ✖ One friend of me

4. ✖ One my friend

Question Number : 131 Question Id : 5861801125 Question Type : MCQ Option Shuffling : Yes
Correct Marks : 1 Wrong Marks : 0.25

Select the grammatically correct option to fill in the blanks.

_____ has a beautiful dog, a white Labrador.

Options :

1. ✖ One of my friend

2. ✔ One of my friends

3. ✖ One friend of me

4. ✖ One my friend

Question Number : 132 Question Id : 5861801126 Question Type : MCQ Option Shuffling : Yes
Correct Marks : 1 Wrong Marks : 0.25

Select the grammatically correct option to fill in the blanks.

Professor Das _____ we met at the University is brilliant scholar and a genial human being.

Options :

1. ✖ who
2. ✖ that
3. ✔ whom
4. ✖ whose

Question Number : 132 Question Id : 5861801126 Question Type : MCQ Option Shuffling : Yes
Correct Marks : 1 Wrong Marks : 0.25

Select the grammatically correct option to fill in the blanks.

Professor Das _____ we met at the University is brilliant scholar and a genial human being.

Options :

1. ✖ who
2. ✖ that
3. ✔ whom
4. ✖ whose

Question Number : 133 Question Id : 5861801127 Question Type : MCQ Option Shuffling : Yes
Correct Marks : 1 Wrong Marks : 0.25

Select the grammatically correct option to fill in the blanks.

My son proudly announced, “_____ car is the best model I’ve ever driven”

Options :

1. ✖ This my

2. ✖ This our

3. ✖ This his

4. ✔ This

Question Number : 133 Question Id : 5861801127 Question Type : MCQ Option Shuffling : Yes
Correct Marks : 1 Wrong Marks : 0.25

Select the grammatically correct option to fill in the blanks.

My son proudly announced, “_____ car is the best model I’ve ever driven”

Options :

1. ✖ This my

2. ✖ This our

3. ✖ This his

4. ✔ This

Question Number : 134 Question Id : 5861801128 Question Type : MCQ Option Shuffling : Yes
Correct Marks : 1 Wrong Marks : 0.25

Select the grammatically correct option to fill in the blanks.

How tall Aditya _____ I could hardly recognize him!

Options :

1. ✖ have become

2. ✔ has become

3. ✖ is become

4. ✖ was become

Question Number : 134 Question Id : 5861801128 Question Type : MCQ Option Shuffling : Yes
Correct Marks : 1 Wrong Marks : 0.25

Select the grammatically correct option to fill in the blanks.

How tall Aditya _____ I could hardly recognize him!

Options :

1. ✖ Have become
2. ✔ Has become
3. ✖ Is become
4. ✖ Was become

Question Number : 135 Question Id : 5861801129 Question Type : MCQ Option Shuffling : Yes
Correct Marks : 1 Wrong Marks : 0.25

Select the grammatically correct option to fill in the blanks.

Satyajit Ray had an enormous influence _____ the motion film industry in India.

Options :

1. ✔ on
2. ✖ in
3. ✖ with
4. ✖ by

Question Number : 135 Question Id : 5861801129 Question Type : MCQ Option Shuffling : Yes
Correct Marks : 1 Wrong Marks : 0.25

Select the grammatically correct option to fill in the blanks.

Satyajit Ray had an enormous influence _____ the motion film industry in India.

Options :

1. ✔ On

2. ✖ In

3. ✖ With

4. ✖ by

Question Number : 136 Question Id : 5861801130 Question Type : MCQ Option Shuffling : Yes
Correct Marks : 1 Wrong Marks : 0.25

Given below are four segments of a sentence. Select the option that gives the correct order of the segments to form a logical sentence.

- A. is Rohtang pass, a most delightful and picturesque route
- B. dot the mountains
- C. where the traditionally Himachali cottages
- D. just about an hour from Manali

Options :

1. ✖ CBAD

2. ✖ DBCA

3. ✔ DACB

4. ✖ CABD

Question Number : 136 Question Id : 5861801130 Question Type : MCQ Option Shuffling : Yes
Correct Marks : 1 Wrong Marks : 0.25

Given below are four segments of a sentence. Select the option that gives the correct order of the segments to form a logical sentence.

- A. is Rohtang pass, a most delightful and picturesque route
- B. dot the mountains
- C. where the traditionally Himachali cottages
- D. just about an hour from Manali

Options :

- 1. ✖ CBAD
- 2. ✖ DBCA
- 3. ✔ DACB
- 4. ✖ CABD

Question Number : 137 Question Id : 5861801131 Question Type : MCQ Option Shuffling : Yes
Correct Marks : 1 Wrong Marks : 0.25

Given below are four segments of a sentence. Select the option that gives the correct order of the segments to form a logical sentence.

- A. Sahil heard the sound
- B. from the market nearby
- C. of the latch being opened
- D. Notwithstanding the noise and din

Options :

- 1. ✖ DCBA
- 2. ✖ ADCB

3. ✖ ACBD

4. ✔ DBAC

Question Number : 137 Question Id : 5861801131 Question Type : MCQ Option Shuffling : Yes
Correct Marks : 1 Wrong Marks : 0.25

Given below are four segments of a sentence. Select the option that gives the correct order of the segments to form a logical sentence.

- A. Sahil heard the sound
- B. from the market nearby
- C. of the latch being opened
- D. Notwithstanding the noise and din

Options :

1. ✖ DCBA

2. ✖ ADCB

3. ✖ ACBD

4. ✔ DBAC

Question Number : 138 Question Id : 5861801132 Question Type : MCQ Option Shuffling : Yes
Correct Marks : 1 Wrong Marks : 0.25

Given below are four segments of a sentence. Select the option that gives the correct order of the segments to form a logical sentence.

- A. Ms Kumar had already been
- B. joined the school
- C. when the Principal
- D. working there for five years.

Options :

1. ✓ ADCB
2. ✗ CDAB
3. ✗ CBDA
4. ✗ ABCD

Question Number : 138 Question Id : 5861801132 Question Type : MCQ Option Shuffling : Yes
Correct Marks : 1 Wrong Marks : 0.25

Given below are four segments of a sentence. Select the option that gives the correct order of the segments to form a logical sentence.

- A. Ms Kumar had already been
- B. joined the school
- C. when the Principal
- D. working there for five years.

Options :

1. ✓ ADCB
2. ✗ CDAB
3. ✗ CBDA
4. ✗ ABCD

Question Number : 139 Question Id : 5861801133 Question Type : MCQ Option Shuffling : Yes
Correct Marks : 1 Wrong Marks : 0.25

Given below are four segments of a sentence. Select the option that gives the correct order of the segments to form a logical sentence.

- A. During the conference
- B. Participants from various
- C. More than 90 research papers
- D. Central and state universities presented

Options :

- 1. ✓ BDCA
- 2. ✗ BCAD
- 3. ✗ ACBD
- 4. ✗ BADC

Question Number : 139 Question Id : 5861801133 Question Type : MCQ Option Shuffling : Yes
Correct Marks : 1 Wrong Marks : 0.25

Given below are four segments of a sentence. Select the option that gives the correct order of the segments to form a logical sentence.

- A. During the conference
- B. Participants from various
- C. More than 90 research papers
- D. Central and state universities presented

Options :

- 1. ✓ BDCA
- 2. ✗ BCAD
- 3. ✗ ACBD

4. ✖ BADC

Question Number : 140 Question Id : 5861801134 Question Type : MCQ Option Shuffling : Yes
Correct Marks : 1 Wrong Marks : 0.25

Given below are four segments of a sentence. Select the option that gives the correct order of the segments to form a logical sentence.

- A. Will make the day more interesting
- B. An out-of-town invitation
- C. On the family front
- D. For a celebration

Options :

- 1. ✖ ADCB
- 2. ✔ CBDA
- 3. ✖ ACBD
- 4. ✖ CADB

Question Number : 140 Question Id : 5861801134 Question Type : MCQ Option Shuffling : Yes
Correct Marks : 1 Wrong Marks : 0.25

Given below are four segments of a sentence. Select the option that gives the correct order of the segments to form a logical sentence.

- A. Will make the day more interesting
- B. An out-of-town invitation
- C. On the family front
- D. For a celebration

Options :

- 1. ✖ ADCB
- 2. ✔ CBDA
- 3. ✖ ACBD
- 4. ✖ CADB

General English2

Group Number :	8
Group Id :	58618049
Group Maximum Duration :	0
Group Minimum Duration :	0
Show Attended Group? :	No
Edit Attended Group? :	No
Break time:	0
Group Marks:	20
Is this Group for Examiner?:	No
Revisit allowed for group Instructions? :	Yes
Maximum Instruction Time:	0
Minimum Instruction Time:	0

General English2

Section Id :	58618053
Section Number :	1
Section type :	Online
Mandatory or Optional:	Mandatory
Number of Questions:	12
Number of Questions to be attempted:	12
Section Marks:	20

Sub-Section Number:	1
Sub-Section Id:	58618068
Question Shuffling Allowed :	Yes

Question Number : 141 Question Id : 5861801135 Question Type : MCQ Option Shuffling : Yes
Correct Marks : 1 Wrong Marks : 0.25

Select the most appropriate synonym of the underlined word.

Finally they reached a part of the river which was navigable and they could row across.

Options :

1. ✖ presentable
2. ✔ negotiable
3. ✖ negligible
4. ✖ malleable

Question Number : 141 Question Id : 5861801135 Question Type : MCQ Option Shuffling : Yes
Correct Marks : 1 Wrong Marks : 0.25

Select the most appropriate synonym of the underlined word.

Finally they reached a part of the river which was navigable and they could row across.

Options :

1. ✖ presentable
2. ✔ negotiable
3. ✖ negligible
4. ✖ malleable

Question Number : 142 Question Id : 5861801136 Question Type : MCQ Option Shuffling : Yes
Correct Marks : 1 Wrong Marks : 0.25

Select the most appropriate synonym of the underlined word.

Due to corrosion the paint of the machine had come off.

Options :

1. ✖ enchantment

2. ✖ fascination
3. ✖ absorption
4. ✔ decomposition

Question Number : 142 Question Id : 5861801136 Question Type : MCQ Option Shuffling : Yes
Correct Marks : 1 Wrong Marks : 0.25

Select the most appropriate synonym of the underlined word.

Due to corrosion the paint of the machine had come off.

Options :

1. ✖ enchantment
2. ✖ fascination
3. ✖ absorption
4. ✔ decomposition

Question Number : 143 Question Id : 5861801137 Question Type : MCQ Option Shuffling : Yes
Correct Marks : 1 Wrong Marks : 0.25

Select the most appropriate synonym of the underlined word.

The fruits on the mango tree were mellow and ready to eat.

Options :

1. ✔ ripe
2. ✖ colourful
3. ✖ hanging
4. ✖ rotting

Question Number : 143 Question Id : 5861801137 Question Type : MCQ Option Shuffling : Yes
Correct Marks : 1 Wrong Marks : 0.25

Select the most appropriate synonym of the underlined word.

The fruits on the mango tree were mellow and ready to eat.

Options :

1. ✓ ripe
2. ✗ colourful
3. ✗ hanging
4. ✗ rotting

Question Number : 144 Question Id : 5861801138 Question Type : MCQ Option Shuffling : Yes
Correct Marks : 1 Wrong Marks : 0.25

Select the most appropriate synonym of the underlined word.

Their benevolent gift made a great difference to the victims of the tsunami.

Options :

1. ✗ cautious
2. ✗ hardhearted
3. ✓ compassionate
4. ✗ vigilant

Question Number : 144 Question Id : 5861801138 Question Type : MCQ Option Shuffling : Yes
Correct Marks : 1 Wrong Marks : 0.25

Select the most appropriate synonym of the underlined word.

Their benevolent gift made a great difference to the victims of the tsunami.

Options :

1. ✗ cautious

2. ✖ hardhearted
3. ✔ compassionate
4. ✖ vigilant

Question Number : 145 Question Id : 5861801139 Question Type : MCQ Option Shuffling : Yes
Correct Marks : 1 Wrong Marks : 0.25

Select the most appropriate synonym of the underlined word.

The bamboo tree is buoyant because of its hollowness.

Options :

1. ✔ floating
2. ✖ balanced
3. ✖ stable
4. ✖ continuous

Question Number : 145 Question Id : 5861801139 Question Type : MCQ Option Shuffling : Yes
Correct Marks : 1 Wrong Marks : 0.25

Select the most appropriate synonym of the underlined word.

The bamboo tree is buoyant because of its hollowness.

Options :

1. ✔ floating
2. ✖ balanced
3. ✖ stable
4. ✖ continuous

Question Number : 146 Question Id : 5861801140 Question Type : MCQ Option Shuffling : Yes
Correct Marks : 1 Wrong Marks : 0.25

Select the most appropriate antonym of the underlined word.

Her actions reveal that she is still nimble and alert in her responses.

Options :

1. ✖ agile
2. ✖ deft
3. ✔ tardy
4. ✖ swift

Question Number : 146 Question Id : 5861801140 Question Type : MCQ Option Shuffling : Yes
Correct Marks : 1 Wrong Marks : 0.25

Select the most appropriate antonym of the underlined word.

Her actions reveal that she is still nimble and alert in her responses.

Options :

1. ✖ agile
2. ✖ deft
3. ✔ tardy
4. ✖ swift

Question Number : 147 Question Id : 5861801141 Question Type : MCQ Option Shuffling : Yes
Correct Marks : 1 Wrong Marks : 0.25

Select the most appropriate antonym of the underlined word.

Giving a laconic she left the room in a hurry.

Options :

1. ✖ informal

2. ✖ offhand
3. ✖ brief
4. ✔ longwinded

Question Number : 147 Question Id : 5861801141 Question Type : MCQ Option Shuffling : Yes
Correct Marks : 1 Wrong Marks : 0.25

Select the most appropriate antonym of the underlined word.

Giving a laconic she left the room in a hurry.

Options :

1. ✖ informal
2. ✖ offhand
3. ✖ brief
4. ✔ longwinded

Question Number : 148 Question Id : 5861801142 Question Type : MCQ Option Shuffling : Yes
Correct Marks : 1 Wrong Marks : 0.25

Select the most appropriate antonym of the underlined word.

His father advised him to be prudent and consult his lawyer before making the purchase.

Options :

1. ✖ sensible
2. ✖ cautious
3. ✔ reckless
4. ✖ practical

Question Number : 148 Question Id : 5861801142 Question Type : MCQ Option Shuffling : Yes
Correct Marks : 1 Wrong Marks : 0.25

Select the most appropriate antonym of the underlined word.

His father advised him to be prudent and consult his lawyer before making the purchase.

Options :

1. ✖ sensible
2. ✖ cautious
3. ✔ reckless
4. ✖ practical

Question Number : 149 Question Id : 5861801143 Question Type : MCQ Option Shuffling : Yes

Correct Marks : 1 Wrong Marks : 0.25

Select the most appropriate antonym of the underlined word.

The teacher was pleased with the consistency with which he was working.

Options :

1. ✔ variation
2. ✖ uniformity
3. ✖ reliability
4. ✖ constancy

Question Number : 149 Question Id : 5861801143 Question Type : MCQ Option Shuffling : Yes

Correct Marks : 1 Wrong Marks : 0.25

Select the most appropriate antonym of the underlined word.

The teacher was pleased with the consistency with which he was working.

Options :

1. ✓ variation
2. ✗ uniformity
3. ✗ reliability
4. ✗ constancy

Question Number : 150 Question Id : 5861801144 Question Type : MCQ Option Shuffling : Yes
Correct Marks : 1 Wrong Marks : 0.25

Select the most appropriate antonym of the underlined word.

In recognition of his valour the soldier was nominated for an award.

Options :

1. ✓ cowardice
2. ✗ bravery
3. ✗ variety
4. ✗ diversity

Question Number : 150 Question Id : 5861801144 Question Type : MCQ Option Shuffling : Yes
Correct Marks : 1 Wrong Marks : 0.25

Select the most appropriate antonym of the underlined word.

In recognition of his valour the soldier was nominated for an award.

Options :

1. ✓ cowardice
2. ✗ bravery
3. ✗ variety
4. ✗ diversity

Sub-Section Number: 2
Sub-Section Id: 58618069
Question Shuffling Allowed : Yes

Question Id : 5861801145 Question Type : COMPREHENSION Sub Question Shuffling Allowed : Yes Group Comprehension Questions : No

Question Numbers : (151 to 155)

Question Label : Comprehension

