

**PSSSB  
Clerk  
Previous Year Paper  
11 Dec 2021**



Adda247

# Test Prime

**ALL EXAMS, ONE SUBSCRIPTION**



**1,00,000+**  
Mock Tests



**Personalised  
Report Card**



**Unlimited  
Re-Attempt**



**600+**  
Exam Covered



**25,000+** Previous  
Year Papers



**500%**  
Refund



**ATTEMPT FREE MOCK NOW**

1. A man's salary was reduced by 30%. Again the reduced salary was increased by 50%. Find the loss in terms of percentage.

ਇੱਕ ਆਦਮੀ ਦੀ ਤਨਖਾਹ ਵਿੱਚ 30% ਦੀ ਕਟੌਤੀ ਕੀਤੀ ਗਈ ਸੀ। ਫਿਰ ਥੋੜ੍ਹੀ ਹੋਰ ਤਨਖਾਹ ਵਿੱਚ 50% ਦਾ ਵਾਧਾ ਕੀਤਾ ਗਿਆ ਸੀ। ਨੁਕਸਾਨ ਦਾ ਪ੍ਰਤੀਸ਼ਤ ਵੇ ਹਿਸਾਬ ਨਾਲ ਪਤਾ ਲਗਾਓ।

- (a) 0 (b) 10 (c) 20 (d) 25

2. In a family, the average age of a father and a mother is 42 years. The average age of the father, mother and their only son is 36 years. What is the age of the son in years?

ਇੱਕ ਪਰਿਵਾਰ ਵਿੱਚ, ਪਿਤਾ ਅਤੇ ਮਾਂ ਦੀ ਔਸਤ ਉਮਰ 42 ਸਾਲ ਹੈ। ਪਿਤਾ, ਮਾਂ ਅਤੇ ਉਨ੍ਹਾਂ ਦੇ ਇੱਕ ਲੋੜੇ ਪੁੱਤਰ ਦੀ ਔਸਤ ਉਮਰ 36 ਸਾਲ ਹੈ। ਪੁੱਤਰ ਦੀ ਉਮਰ ਸਾਲਾਂ ਵਿੱਚ ਕਿੰਨੀ ਹੈ?

- (a) 23 (b) 24 (c) 25 (d) 26

3. A certain sum amounts to Rs. 7344 in 2 years based on simple interest and to Rs. 8316 in 3 years. Find the sum.

ਇੱਕ ਨਿਸ਼ਚਿਤ ਰਕਮ 2 ਸਾਲਾਂ ਵਿੱਚ ਸਾਧਾਰਨ ਵਿਆਜ ਤੇ 7344 ਰੁਪਏ ਅਤੇ 3 ਸਾਲਾਂ ਵਿੱਚ 8316 ਰੁਪਏ ਬਣਦੀ ਹੈ। ਰਕਮ ਲੱਭੋ।

- (a) 4400 (b) 5400 (c) 6600 (d) 7700

An aeroplane covers a certain distance at a speed of 240 kmph in 5 hours. To cover the same distance in 100 minutes, it must travel at a speed of \_\_\_\_\_ kmph.

ਇੱਕ ਹਵਾਈ ਜਹਾਜ਼ 5 ਘੰਟਿਆਂ ਵਿੱਚ 240 kmph ਦੀ ਰਫ਼ਤਾਰ ਨਾਲ ਇੱਕ ਨਿਸ਼ਚਿਤ ਦੂਰੀ ਤੈਅ ਕਰਦਾ ਹੈ। ਉਸ ਦੂਰੀ ਨੂੰ 100 ਮਿੰਟਾਂ ਵਿੱਚ ਪੂਰਾ ਕਰਨ ਲਈ, ਇਸ ਨੂੰ \_\_\_\_\_ kmph ਦੀ ਰਫ਼ਤਾਰ ਨਾਲ ਸਫ਼ਰ ਕਰਨਾ ਚਾਹੀਦਾ ਹੈ।

- (a) 400 (b) 560 (c) 600 (d) 720



Study the following table and answer the questions Q5 to Q6.

ਹੇਠਾਂ ਦਿੱਤੀ ਸਾਰਣੀ ਦਾ ਅਧਿਐਨ ਕਰੋ ਅਤੇ Q5 ਤੋਂ Q6 ਦੇ ਸਵਾਲਾਂ ਦੇ ਜਵਾਬ ਦਿਓ।

Number of candidates (in lakhs) appearing in an entrance test from six different cities are given below.

ਛੇ ਵੱਖ-ਵੱਖ ਸ਼ਹਿਰਾਂ ਤੋਂ ਦਾਖਲਾ ਪ੍ਰੀਖਿਆ ਵਿੱਚ ਸ਼ਾਮਲ ਹੋਣ ਵਾਲੇ ਉਮੀਦਵਾਰਾਂ ਦੀ ਗਿਣਤੀ (ਲੱਖਾਂ ਵਿੱਚ) ਹੇਠਾਂ ਦਿੱਤੀ ਸ਼ਾਈ ਹੈ।

City/ ਸ਼ਹਿਰ	A	B	C	D
No. of candidates/ ਉਮੀਦਵਾਰਾਂ ਦੀ ਗਿਣਤੀ	1.25	3.14	1.08	2.27

Ratio of candidate passing and failing within the city is given below.

ਸ਼ਹਿਰ ਅਨੁਸਾਰ ਉਮੀਦਵਾਰਾਂ ਦੇ ਪਾਸ ਅਤੇ ਫੇਲ ਹੋਣ ਦਾ ਅਨੁਪਾਤ ਹੇਠਾਂ ਦਿੱਤਾ ਗਿਆ ਹੈ।

City/ ਸ਼ਹਿਰ	Ratio of passing and failing candidates/ ਉਮੀਦਵਾਰਾਂ ਦੇ ਪਾਸ ਅਤੇ ਫੇਲ ਹੋਣ ਦਾ ਅਨੁਪਾਤ
A	7:3
B	5:3
C	4:5
D	1:3

5. Which city has highest number of candidates failing in the entrance test?  
ਕਿਹੜੇ ਸ਼ਹਿਰ ਵਿੱਚ ਦਾਖਲਾ ਪ੍ਰੀਖਿਆ ਵਿੱਚ ਸਭ ਤੋਂ ਵੱਧ ਉਮੀਦਵਾਰ ਫੇਲ ਹੋਏ ਹਨ ?

(a) A (b) B (c) C (d) D

6. What is the ratio of the number of candidates failing the entrance test from city D to those failing the test from City A ?

ਸ਼ਹਿਰ D ਤੋਂ ਦਾਖਲਾ ਪ੍ਰੀਖਿਆ ਵਿੱਚ ਫੇਲ ਹੋਣ ਵਾਲੇ ਉਮੀਦਵਾਰਾਂ ਦੀ ਗਿਣਤੀ ਅਤੇ ਸ਼ਹਿਰ A ਤੋਂ ਪ੍ਰੀਖਿਆ ਵਿੱਚ ਫੇਲ ਹੋਣ ਵਾਲੇ ਉਮੀਦਵਾਰਾਂ ਦਾ ਅਨੁਪਾਤ ਕੀ ਹੈ ?

(a) 289 : 42 (b) 42 : 289 (c) 227 : 50 (d) 50 : 277

7. If FRIEND is coded as IULHQG, how will you code ENEMY ?

ਜੇਕਰ FRIEND ਨੂੰ IULHQG ਵਜੋਂ ਕੋਡ ਕੀਤਾ ਗਿਆ ਹੈ, ਤਾਂ ਤੁਸੀਂ ENEMY ਨੂੰ ਕਿਵੇਂ ਕੋਡ ਕਰੋਗੇ ?

(a) HQHPB (b) HQHPA (c) HQEMY (d) HQHPG

If A exceeds B by 40% and B is less than C by 20%, then find A : C.

ਜੇਕਰ A B ਤੋਂ 40% ਵੱਧ ਹੈ ਅਤੇ B C ਤੋਂ 20% ਘੱਟ ਹੈ, ਤਾਂ A : C ਲੱਭੋ।

(a) 27 : 26 (b) 26 : 27 (c) 25 : 28 (d) 28 : 25



Two trains 240 meters and 270 meters in length are running towards each other on parallel lines, one at the rate of 60 kmph and another at 48 kmph. How much time will they take to cross each other?

ਦੋ ਰੇਲਗੱਡੀਆਂ, 240 ਮੀਟਰ ਅਤੇ 270 ਮੀਟਰ ਲੰਬਾਈ ਵਾਲੀਆਂ, ਸਮਾਨਾਂਤਰ ਲਾਈਨਾਂ 'ਤੇ ਇੱਕ ਦੂਜੇ ਵੱਲ ਚਲ ਰਹੀਆਂ ਹਨ, ਇੱਕ 60 ਕਿਲੋਮੀਟਰ ਪ੍ਰਤੀ ਘੰਟਾ ਦੀ ਰਫ਼ਤਾਰ ਨਾਲ ਅਤੇ ਦੂਜੀ 48 ਕਿਲੋਮੀਟਰ ਪ੍ਰਤੀ ਘੰਟਾ ਦੀ ਰਫ਼ਤਾਰ ਨਾਲ। ਇੱਕ ਦੂਜੇ ਨੂੰ ਪਾਰ ਕਰਨ ਵਿੱਚ ਕਿੰਨਾ ਸਮਾਂ ਲੱਗੇਗਾ?

- (a) 17 seconds/ਸਕਿੰਟ (b) 18 seconds/ ਸਕਿੰਟ  
(c) 19 seconds/ ਸਕਿੰਟ (d) 20 seconds/ ਸਕਿੰਟ

$$\frac{240+270}{60+48} = \frac{510}{108} = \frac{17}{3}$$

10. If South-East becomes North, North-East becomes West and so on. What will West become?

- (a) North-East (b) North-West (c) South-East (d) South-West

$$\frac{510}{18} = 28$$

11. Sum of four consecutive integers is 3322. Greatest among four integers is \_\_\_\_\_.

- (a) 828 (b) 829 (c) 832 (d) 834

$$\frac{3322}{4} = 830.5$$

12. Which of the following pairs comes next in the series, 36, 31, 29, 24, 22, 17, 15?

- (a) 11, 13 (b) 13, 8 (c) 10, 8 (d) 12, 7

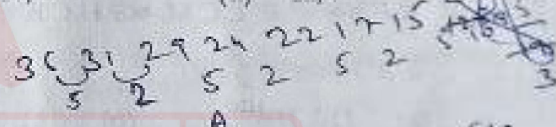
$$\frac{510}{128} = 3.98$$

13. Complete the following series.

ਲੜੀ ਨੂੰ ਪੂਰਾ ਕਰੋ।

?, DERQ, GUHT, JXKW

- (a) EFRS (b) TGSP (c) JWVI (d) AQBN



$$\frac{510}{108} = 4.72$$

14. Find the odd word from the followings.

ਹੇਠਾਂ ਲਿਖੀਆਂ ਵਿੱਚੋਂ ਵਖਰਾ ਸ਼ਬਦ (odd word) ਲੱਭੋ।

- (a) Herb/ ਜੜੀ ਬੂਟੀ (b) Flower/ ਫੁੱਲ (c) Tree/ ਰੁੱਖ (d) Shrub/ ਝਾੜੀ

$$\frac{17}{510} = 0.033$$

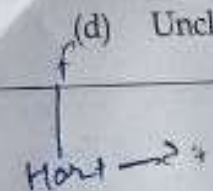

15. Museum : Curator :: Prison : ?

- (a) Manager (b) Jailor (c) Monitor (d) Thief

16. Hari said Rani is my father's only girl child. How is Hari related to Rani?

ਹਰੀ ਨੇ ਕਿਹਾ ਰਾਣੀ ਮੇਰੇ ਪਿਤਾ ਦੀ ਇੱਕ ਲੜੀ ਬੱਚੀ ਹੈ। ਹਰੀ ਦਾ ਰਾਣੀ ਨਾਲ ਕੀ ਸਬੰਧ ਹੈ?

- (a) Brother (b) Father (c) Cousin (d) Uncle



17. If X stands for add, Y stands for subtract and P stands for multiply, what is the value of  $(7 P 3) Y (6 X 5)$  ?  
ਜੇਕਰ X ਦਾ ਅਰਥ ਜੋੜ ਹੈ, Y ਦਾ ਅਰਥ ਘਟਾਉਣਾ ਅਤੇ P ਦਾ ਅਰਥ ਗੁਣਾ ਹੈ, ਤਾਂ  $(7 P 3) Y (6 X 5)$  ਦਾ ਮੁੱਲ ਕੀ ਹੈ ?  
(a) 2 (b) 10 (c) 20 (d) 25
18. A number is multiplied by  $\frac{3}{7}$  to get 900. Find the number.  
900 ਪ੍ਰਾਪਤ ਕਰਨ ਲਈ ਇੱਕ ਸੰਖਿਆ ਨੂੰ  $\frac{3}{7}$  ਨਾਲ ਗੁਣਾ ਕੀਤਾ ਜਾਂਦਾ ਹੈ। ਸੰਖਿਆ ਲੱਭੋ।  
(a) 1900 (b) 2000 (c) 2050 (d) 2100
19. A bus leaves at 12.25 noon and reaches destination at 10.45 am. The duration of the journey is \_\_\_\_\_.  
ਇੱਕ ਬੱਸ ਦੁਪਹਿਰ 12.25 ਵਜੇ ਚੱਲਦੀ ਹੈ ਅਤੇ ਸਵੇਰੇ 10.45 ਵਜੇ ਮੰਜ਼ਿਲ 'ਤੇ ਪਹੁੰਚਦੀ ਹੈ। ਯਾਤਰਾ \_\_\_\_\_ ਦੀ ਹੈ।  
(a) 22 hours 20 minutes/ 22 ਘੰਟੇ ਅਤੇ 20 ਮਿੰਟ  
(b) 22 hours 40 minutes/ 22 ਘੰਟੇ ਅਤੇ 40 ਮਿੰਟ  
(c) 24 hours 20 minutes/ 24 ਘੰਟੇ ਅਤੇ 20 ਮਿੰਟ  
(d) 24 hours 40 minutes/ 24 ਘੰਟੇ ਅਤੇ 40 ਮਿੰਟ
20. The sum and difference of the L.C.M. and H.C.F. of two numbers are 592 and 518 respectively. If the sum of the numbers is 296, find the numbers.  
ਦੋ ਸੰਖਿਆਵਾਂ ਦਾ L.C.M. ਅਤੇ H.C.F. ਦਾ ਜੋੜ ਅਤੇ ਅੰਤਰ ਕ੍ਰਮਵਾਰ 592 ਅਤੇ 518 ਹੈ। ਜੇਕਰ ਸੰਖਿਆਵਾਂ ਦਾ ਜੋੜ 296 ਹੈ, ਤਾਂ ਸੰਖਿਆਵਾਂ ਨੂੰ ਲੱਭੋ।  
(a) 110, 186 (b) 111, 185 (c) 120, 176 (d) 130, 166
- Which of the followings is not antonyms of word 'cruel' ?  
(a) Kind (b) Humane (c) Nice (d) Ruthless
- Which of the following options best expresses the given sentence, in direct/indirect sentence ?  
He said, "Has anybody been unkind to you ?"  
(a) He asked me if anybody had been unkind to me.  
(b) He asked me had anybody been unkind to me.  
(c) He asked me if anybody had been unkind to you.  
(d) He asked me if anybody had been unkind to him.
- Complete the following sentence.  
I was disappointed \_\_\_\_\_ not finding doctor in his seat.  
(a) On (b) From (c) Over (d) At



24. Which of the following is correct sentence against the sentence "There is no place of you in this compartment" ?  
 (a) There is no place against you in this compartment.  
 (b) There is no place for yours in this compartment.  
 (c) There is no place for you in this compartment.  
 (d) No error in the given sentence.
25. Which of the following is plural form of the word 'zoo' ?  
 (a) Zoos (b) Zooses (c) Zooess (d) Zoo
26. Which of the following options best expresses the given sentence, in active/passive voice ?  
 They are going to build a new airport near the old one.  
 (a) A new airport going to be built near the old one.  
 (b) A new airport is being built near the old one.  
 (c) A new airport will be built near the old one.  
 (d) A new airport is going to be built near the old one.
27. Which of the followings is not synonyms of word 'cease' ?  
 (a) Stop (b) Discontinue (c) Continue (d) Close
28. Complete the following sentence.  
 He is too \_\_\_\_\_ to be taught.  
 (a) Intelligent (b) More intelligent (c) Most intelligent (d) Better intelligent
29. Which of the following words is correctly spelt ?  
 (a) Occasionally (b) Ocasionally (c) Occasionaly (d) Occasionely
30. Which of the followings best expresses the idiom given in capital words in the sentence, 'Reena is a kind of a person WHO WEARS HEART ON HER SLEEVE.' ?  
 (a) Expresses her emotions freely  
 (b) Expresses her emotion scurbingly  
 (c) Expresses her emotions openly  
 (d) Suppresses her excitement sparingly
31. ਵਿਸ਼ੇਸ਼ਣ ਕਿੰਨੇ ਪ੍ਰਕਾਰ ਦੇ ਹੁੰਦੇ ਹਨ ?  
 (a) 3 (b) 4 (c) 5 (d) 6
32. 'ਮੇਰਾ ਘਰ ਅਮਰ ਦੇ ਘਰ ਲਾਗੇ ਹੈ' ਵਾਕ ਵਿੱਚ ਕਿਹੜਾ ਅਪੂਰਨ ਸੰਬੰਧਕ ਹੈ ?  
 (a) ਮੇਰਾ (b) ਘਰ (c) ਦੇ (d) ਲਾਗੇ
33. ਹੇਠਾਂ ਲਿਖੀਆਂ ਵਿੱਚੋਂ ਕਿਹੜਾ ਇੱਕ ਢਾਚਕ ਨਾਂਵ ਨਹੀਂ ਹੈ ?  
 (a) ਫੌਜ (b) ਤੁਸੀਂ (c) ਜਮਾਤ (d) ਸਭਾ



34. ਸਾਧਾਰਨ ਵਾਕ ਨੂੰ ਕਿੰਨੇ ਹਿੱਸਿਆਂ ਵਿੱਚ ਵੰਡਿਆ ਜਾ ਸਕਦਾ ਹੈ ?  
(a) 2 (b) 3 (c) 4 (d) 6
35. ਹੇਠਾਂ ਲਿਖੀਆਂ ਵਿੱਚੋਂ ਕਿਹੜਾ ਨਿੱਜ ਵਾਚਕ ਪੜਨਾਂਵ ਨਹੀਂ ਹੈ ?  
(a) ਮੈਂ (b) ਮੁੰਡੇ (c) ਅਸੀਂ (d) ਉਹ
36. ਜੀਹਾਂ, ਆਹੋਜੀ ਅਤੇ ਚੰਗਾਜੀ ਸ਼ਬਦ ਕਿਸ ਤਰਾਂ ਦੀ ਕਿਰਿਆ ਵਿਸ਼ੇਸ਼ਣ ਲਈ ਵਰਤੇ ਜਾਂਦੇ ਹਨ ?  
(a) ਸੰਖਿਆ ਵਾਚਕ (b) ਨਿਰਨਾ ਵਾਚਕ (c) ਪਹਿਮਾਣ ਵਾਚਕ (d) ਕਾਰਨ ਵਾਚਕ
37. ਹੇਠਾਂ ਲਿਖੀਆਂ ਵਿੱਚੋਂ 'ਰਕਾਬੀ ਮਜ਼੍ਹਬ' ਮੁਹਾਵਰੇ ਦਾ ਕੀ ਅਰਥ ਹੈ ?  
(a) ਜੋ ਖਾਣ-ਪੀਣ ਦਾ ਭਾਈਵਾਲ ਨਾ ਹੋਵੇ (b) ਜੋ ਖਾਣ-ਪੀਣ ਨੂੰ ਪਸੰਦ ਨਾ ਕਰੇ  
(c) ਜੋ ਕੁਝ ਵੀ ਨਾਂ ਕਰੇ (d) ਜੋ ਖਾਣ-ਪੀਣ ਦਾ ਭਾਈਵਾਲ ਹੋਵੇ
38. ਬਾਲ, ਨਿਆਣਾ, ਬੱਚਾ ਦਾ ਹੋਰ ਸਮਾਨਾਰਥੀ ਸ਼ਬਦ ਕਿਹੜਾ ਹੋ ਸਕਦਾ ਹੈ ?  
(a) ਨਿੱਕਾ (b) ਬੁੱਢਾ (c) ਛੋਟਾ (d) ਬਾਲਕ
39. ਜਿਹੜੇ ਵਾਕ ਵਿੱਚ ਕਿਰਿਆ ਦਾ ਕਰਤਾ ਤੇ ਕਰਮ ਦੋਵੇਂ ਹੋਣ, ਉਹਨਾਂ ਨੂੰ \_\_\_\_\_ ਕਿਰਿਆ ਕਿਹਾ ਜਾਂਦਾ ਹੈ ।  
(a) ਸਕਰਮਕ (b) ਮੁੱਖ (c) ਆਕਰਮਕ (d) ਕੋਈ ਵੀ ਨਹੀਂ
40. 'ਇਹ ਬੜਾ ਸੁਹਣਾ ਚਿਤਰ ਹੈ', ਵਿੱਚ ਇਹ ਕਿਸ ਤਰਾਂ ਦਾ ਪੜਨਾਂਵ ਹੈ ?  
(a) ਅਨਿਸ਼ਚੇ ਵਾਚਕ ਪੜਨਾਂਵ (b) ਨਿਸ਼ਚੇ ਵਾਚਕ ਪੜਨਾਂਵ  
(c) ਨਿੱਜ ਵਾਚਕ ਪੜਨਾਂਵ (d) ਸੰਬੰਧ ਵਾਚਕ ਪੜਨਾਂਵ
41. Who was successor of Maharaja Ranjit singh ?  
ਮਹਾਰਾਜਾ ਰਣਜੀਤ ਸਿੰਘ ਦਾ ਉੱਤਰਾਧਿਕਾਰੀ ਕੌਣ ਸੀ ?  
(a) Harisingh Nalwa/ ਹਰੀ ਸਿੰਘ ਨਲਵਾ  
(b) Sher Singh/ ਸ਼ੇਰ ਸਿੰਘ  
(c) Naunihal Singh/ ਨੌਨਿਹਾਲ ਸਿੰਘ  
(d) Khadag Singh/ ਖੜਗ ਸਿੰਘ
2. How many times, Dr. Gopi Chand Bhargava, the first CM of Punjab, became CM of Punjab ਦੇ ਪਹਿਲੇ ਮੁੱਖ ਮੰਤਰੀ, ਡਾ. ਗੋਪੀ ਚੰਦ ਭਾਰਗਵ, ਕਿੰਨੀ ਵਾਰ ਪੰਜਾਬ ਦੇ ਮੁੱਖ ਮੰਤਰੀ ਬਣੇ ?  
(a) 1 (b) 2 (c) 3 (d) 4

43. Which of the following soils is available in South West region of Punjab ?  
ਹੇਠ ਲਿਖੀਆਂ ਵਿੱਚੋਂ ਕਿਹੜੀ ਮਿੱਟੀ, ਪੰਜਾਬ ਦੇ ਦੱਖਣ ਪੱਛਮੀ ਖੇਤਰ ਵਿੱਚ ਉਪਲਬਧ ਹੈ ?

- (a) Desert Soil  
(c) Alluvial Soil  
(b) Red Soil  
(d) Salt Soil

44. Indian Accounting Standard (Ind AS) 23 is related to \_\_\_\_\_  
Indian Accounting Standard (Ind AS) 23 \_\_\_\_\_ ਨਾਲ ਸੰਬੰਧਿਤ ਹੈ ।

- (a) The Effects of Changes in Foreign Exchange Rates / ਵਿਦੇਸ਼ੀ ਮੁਦਰਾ ਦਰਾਂ ਵਿੱਚ ਤਬਦੀਲੀਆਂ ਦੇ ਪ੍ਰਭਾਵ  
(b) Borrowing Costs / ਉਧਾਰ ਲੈਣ ਦੀ ਲਾਗਤ  
(c) Related Party Disclosures / ਪਾਰਟੀ ਖੁਲਾਸੇ ਨਾਲ ਸੰਬੰਧਿਤ  
(d) Accounting for Government Grants and Disclosure of Government Assistance / ਸਰਕਾਰੀ grants ਲਈ ਲੇਖਾ ਅਤੇ ਸਰਕਾਰੀ ਸਹਾਇਤਾ ਦਾ ਖੁਲਾਸਾ

45. Who was first granthi of Shri Harmandir Sahib (Golden Temple) ?  
ਸ਼੍ਰੀ ਹਰਿਮੰਦਰ ਸਾਹਿਬ (Golden Temple) ਦਾ ਪਹਿਲਾ ਗ੍ਰੰਥੀ ਕੌਣ ਸੀ ?

- (a) Baba Buddha ji / ਬਾਬਾ ਬੁੱਢਾ ਜੀ  
(b) Bhai Gurdas ji / ਭਾਈ ਗੁਰਦਾਸ ਜੀ  
(c) Bhai Haria ji / ਭਾਈ ਹਾਰਿਆ ਜੀ  
(d) Bhai Sukha ji / ਭਾਈ ਸੁਖਾ ਜੀ

46. Consider the following statements.  
ਹੇਠਾਂ ਦਿੱਤੇ ਕਥਨਾਂ ਤੇ ਫ਼ੈਰ ਕਰੋ ।

Mr. Ram received following gifts during the financial year 2021-22 :

- (i) Rs. 1,00,000 from his friend residing in Australia.  
(ii) Rs. 25,000 from his elder brother residing in Ahmedabad.  
(iii) Rs. 75,000 from his friend residing in Amritsar (received on the occasion of birthday of Mr. Ram).

ਸ਼੍ਰੀ ਰਾਮ ਨੂੰ ਵਿੱਤੀਸਾਲ 2021-22 ਦੌਰਾਨ ਹੇਠ ਲਿਖੇ ਤੋਹਫ਼ੇ ਮਿਲੇ ਹਨ :

- (i) ਆਸਟ੍ਰੇਲੀਆ ਵਿੱਚ ਰਹਿੰਦੇ ਉਸਦੇ ਦੋਸਤ ਤੋਂ 1,00,000 ਰੁਪਏ ।  
(ii) ਅਹਿਮਦਾਬਾਦ ਵਿੱਚ ਰਹਿੰਦੇ ਆਪਣੇ ਵੱਡੇ ਭਰਾ ਤੋਂ 25,000 ਰੁਪਏ ।  
(iii) ਅੰਮ੍ਰਿਤਸਰ ਵਿੱਚ ਰਹਿੰਦੇ ਆਪਣੇ ਦੋਸਤ ਤੋਂ 75,000 ਰੁਪਏ (ਸ਼੍ਰੀ ਰਾਮ ਦੇ ਜਨਮ ਦਿਨ ਦੇ ਮੌਕੇ 'ਤੇ ਪ੍ਰਾਪਤ ਕੀਤੇ) ।

What will be the taxable amount of above items in the hands of Mr. Ram ?

ਸ਼੍ਰੀ ਰਾਮ ਦੇ ਹੱਥਾਂ ਵਿੱਚ ਉਪਰੋਕਤ ਵਸਤੂਆਂ ਦੀ ਟੈਕਸ ਯੋਗ ਰਕਮ ਕੀ ਹੋਵੇਗੀ ?

- (a) 2,00,000  
(b) 1,25,000  
(c) 1,75,000  
(d) 1,00,000



47. Which of the following is main function of CPU in computer system ?  
ਕੰਪਿਊਟਰ ਸਿਸਟਮ ਵਿੱਚ CPU ਦਾ ਮੁੱਖ ਕੰਮ ਕੀ ਹੈ ?

- (a) Storing data/ਡਾਟਾ ਸਟੋਰ ਕਰਨਾ
- (b) Programming computer/ ਪ੍ਰੋਗਰਾਮਿੰਗ ਕੰਪਿਊਟਰ
- (c) Transferring data to an output device/ ਇੱਕ Output Device ਵਿੱਚ ਡਾਟਾ ਟ੍ਰਾਂਸਫਰ ਕਰਨਾ
- (d) Processing data/ ਡਾਟਾ ਨੂੰ ਪ੍ਰੋਸੈਸ ਕਰਨਾ

48. How many times did Babur attack Punjab in all ?  
ਬਾਬਰ ਨੇ ਪੰਜਾਬ 'ਤੇ ਕੁੱਲ ਕਿੰਨੀ ਵਾਰ ਹਮਲਾ ਕੀਤਾ ?

- (a) One time/ ਇੱਕ ਵਾਰੀ
- (b) Four times/ 4 ਵਾਰੀ
- (c) Five times/ ਪੰਜ ਵਾਰੀ
- (d) Six times/ ਛੇ ਵਾਰੀ

49. What was Punjab called during Ramayana and Mahabharata Period ?  
ਪੰਜਾਬ ਨੂੰ, ਰਾਮਾਇਣ ਅਤੇ ਮਹਾਭਾਰਤ ਕਾਲ ਦੌਰਾਨ, ਕੀ ਕਿਹਾ ਜਾਂਦਾ ਸੀ ?

- (a) Pachnada/ਪਚਨਦਾ
- (b) Panch Sindhu/ਪੰਚ ਸਿੰਧੂ
- (c) Saptanada/ਸਪਤਾਨਦਾ
- (d) Mahanada/ਮਹਾਨਦਾ

50. Where was Saint Kabir Born ?  
ਸੰਤ ਕਬੀਰ ਦਾ ਜਨਮ ਕਿੱਥੇ ਹੋਇਆ ਸੀ ?

- (a) Mathura/ ਮਥੁਰਾ
- (b) Delhi/ ਦਿੱਲੀ
- (c) Amritsar/ ਅੰਮ੍ਰਿਤਸਰ
- (d) Varanasi/ ਵਾਰਾਨਸੀ

51. Who was last Sikh empire ?  
ਆਖਰੀ ਸਿੱਖ ਸਾਮਰਾਜ ਕੌਣ ਸੀ ?

- (a) Dalip Singh/ ਦਲੀਪ ਸਿੰਘ
- (b) Khadag Singh/ ਖੜਗ ਸਿੰਘ
- (c) Sher Singh/ ਸ਼ੇਰ ਸਿੰਘ
- (d) Naunihal Singh/ ਨੌਨਿਹਾਲ ਸਿੰਘ



- Who composed Bara Mahi ?  
ਬਾਰਾ ਮਾਹੀ ਦੀ ਰਚਨਾ ਕਿਸਨੇ ਕੀਤੀ ?
- (a) Guru Arjan Dev ji / ਗੁਰੂ ਅਰਜਨ ਦੇਵ ਜੀ  
(b) Guru Nanak Dev ji / ਗੁਰੂ ਨਾਨਕ ਦੇਵ ਜੀ  
(c) Guru Ram Das ji / ਗੁਰੂ ਰਾਮ ਦਾਸ ਜੀ  
(d) Guru Gobind Singh ji / ਗੁਰੂ ਗੋਬਿੰਦ ਸਿੰਘ ਜੀ
- If sales are Rs. 90,000 and variable cost to sales is 75%, contribution is \_\_\_\_\_  
ਜੇਕਰ ਵਿਕਰੀ 90,000 ਰੁਪਏ ਅਤੇ ਵਿਕਰੀ ਲਈ variable ਲਾਗਤ 75 % ਹੈ ਤਾਂ contribution \_\_\_\_\_ ਦੀ ਹੈ।
- (a) Rs. 21,500 (b) Rs. 22,500 (c) Rs. 23,500 (d) Rs. 24,500
- Which of the following MS Excel functions is used to count the number of cells based on condition ?  
ਹੇਠਾਂ ਦਿੱਤੇ MS Excel ਫੰਕਸ਼ਨਾਂ ਵਿੱਚੋਂ ਕਿਹੜਾ condition ਦੇ ਆਧਾਰ 'ਤੇ cells ਦੀ ਗਿਣਤੀ ਕਰਨ ਲਈ ਵਰਤਿਆ ਜਾਂਦਾ ਹੈ ?
- (a) Count (b) countif (c) countwhen (d) Counton
- Punjab leads in the production of which of the following citrus fruit ?  
ਪੰਜਾਬ ਨਿੰਬੂ ਜਾਤੀ ਦੇ ਕਿਹੜੇ ਫਲ ਦੇ ਉਤਪਾਦਨ ਵਿੱਚ ਸਭ ਤੋਂ ਅੱਗੇ ਹੈ ?
- (a) Lemon (b) Orange (c) Banana (d) Kinnow
- Which of the followings is 'commodities forward contract' ?  
ਹੇਠ ਦਿੱਤੇ ਵਿੱਚੋਂ ਕਿਹੜਾ 'commodities forward contract' ਹੈ ?
- (a) A contract in which the counterparties agree to exchange a commodity at some date in the future but at a price decided now./ ਇੱਕ ਇਕਰਾਰਨਾਮਾ, ਜਿਸ ਵਿੱਚ ਪਾਰਟੀਆਂ ਭਵਿੱਖ ਵਿੱਚ ਕਿਸੇ ਮਿਤੀ ਤੇ ਇੱਕ ਵਸਤੂ ਦਾ ਅਦਲਾ ਬਦਲੀ ਕਰਨ ਲਈ ਸਹਿਮਤ ਹਨ ਪਰਹੁਣ ਤੈਅ ਕੀਤੀ ਗਈ ਕੀਮਤ 'ਤੇ।  
(b) A contract in which the counterparties agree to exchange a commodity now but at a price decided in the future./ ਇੱਕ ਇਕਰਾਰਨਾਮਾ ਜਿਸ ਵਿੱਚ ਪਾਰਟੀਆਂ ਹੁਣ ਇੱਕ ਵਸਤੂ ਦਾ ਅਦਲਾ-ਬਦਲੀ ਕਰਨ ਲਈ ਸਹਿਮਤ ਹਨ ਪਰ ਭਵਿੱਖ ਵਿੱਚ ਨਿਰਧਾਰਤ ਕੀਮਤ 'ਤੇ।  
(c) A standardized exchange traded contract./ ਇੱਕ standardized exchange traded ਇਕਰਾਰਨਾਮਾ।  
(d) The option but not the right to buy the underlying at some point in the future./ ਇੱਕ ਵਿਕਲਪ ਪਰ ਭਵਿੱਖ ਵਿੱਚ ਕਿਸੇ ਸਮੇਂ ਖਰੀਦਣ ਦਾ ਅਧਿਕਾਰ ਨਹੀਂ ਹੈ।

57. A certificate of GST registration shall be issued by the proper officer in form \_\_\_\_\_  
GST registration ਦਾ ਇੱਕ ਪ੍ਰਮਾਣ ਪੱਤਰ ਉਚਿਤ ਅਧਿਕਾਰੀ ਦੁਆਰਾ \_\_\_\_\_ ਫਾਰਮ ਵਿੱਚ ਜਾਰੀ ਕੀਤਾ ਜਾਵੇਗਾ।  
(a) GST REG-01 (b) GST REG-04 (c) GST REG-06 (d) GST REG-08

58. Which of the following crops is shown in the official seal of Punjab Government ?  
ਹੇਠ ਲਿਖੀਆਂ ਵਿੱਚੋਂ ਕਿਹੜੀ ਫਸਲ ਪੰਜਾਬ ਸਰਕਾਰ ਦੀ ਸਰਕਾਰੀ ਮੋਹਰ ਵਿੱਚ ਦਿਖਾਈ ਗਈ ਹੈ ?

- (a) Wheat/ ਚਣਕ (b) Paddy/ ਝੋਨਾ  
(c) Sugarcane/ ਗੰਨਾ (d) Maize/ ਮੱਕੀ

59. Who had been ruler of Punjab in the beginning of 16<sup>th</sup> Century ?  
16 ਵੀਂ ਸਦੀ ਦੇ ਸ਼ੁਰੂ ਵਿੱਚ ਪੰਜਾਬ ਦਾ ਸ਼ਾਸਕ ਕੌਣ ਸੀ ?

- (a) Daulat Khan Lodhi/ ਦੌਲਤ ਖਾਨ ਲੋਧੀ  
(b) Sikander Lodhi/ ਸਿਕੰਦਰ ਲੋਧੀ  
(c) Ibrahim Lodhi/ ਇਬ੍ਰਾਹਿਮ ਲੋਧੀ  
(d) Bahlol Khan Lodhi/ ਬਹਲੋਲ ਖਾਨ ਲੋਧੀ

60. Which of the following is of capital nature ?  
ਹੇਠਾਂ ਦਿੱਤੇ ਵਿੱਚੋਂ ਕਿਹੜਾ ਪੂੰਜੀਪ੍ਰਕਿਰਤੀ (capital nature) ਦਾ ਹੈ ?

- (a) Commission on purchases/ ਖਰੀਦਦਾਰੀ ਤੇ ਕਮਿਸ਼ਨ  
(b) Rent of premises/ ਇਮਾਰਤ ਦਾ ਕਿਰਾਇਆ  
(c) Electricity charges of premises/ ਇਮਾਰਤ ਦੇ ਬਿਜਲੀ ਖਰਚੇ  
(d) Wages paid for installation of machinery/ ਮਸ਼ੀਨਰੀ ਦੀ ਸਥਾਪਨਾ ਲਈ ਅਦਾ ਕੀਤੀ ਮਜਦੂਰੀ

61. Which of the following networks is used to connect computers in large area such as continents etc. ?

ਹੇਠਾਂ ਦਿੱਤੇ ਨੈੱਟਵਰਕਾਂ ਵਿੱਚੋਂ ਕਿਹੜਾ ਨੈੱਟਵਰਕ ਵੱਡੇ ਖੇਤਰ, ਜਿਵੇਂ ਕਿ ਦੇਸ਼, ਮਹਾਂਦੀਪ ਆਦਿ, ਦੇ computers ਨੂੰ ਜੋੜਦਾ ਹੈ ?

- (a) LAN (b) WAN (c) Bluetooth (d) Wi-Fi

62. Which of the followings is used to carry light pulses for carrying information ?

ਹੇਠ ਲਿਖੀਆਂ ਵਿੱਚੋਂ ਕਿਸ ਵਿੱਚ light pulses ਦੀ ਵਰਤੋਂ ਸੂਚਨਾ ਨੂੰ ਲਿਜਾਣ ਲਈ ਕੀਤੀ ਜਾਂਦੀ ਹੈ ?

- (a) Satellite (b) Microwave (c) Optical fibre (d) Coaxial



64. Which of the following combination of keys is used to close the MS Excel ?  
ਹੇਠ ਲਿਖੀਆਂ ਵਿੱਚੋਂ ਕਿਹੜਾ keys combination, MS Excel ਨੂੰ ਬੰਦ ਕਰਨ ਲਈ ਵਰਤਿਆ ਜਾਂਦਾ ਹੈ ?

- (a) Alt + F4 (b) Alt + F8 (c) Shift + F4 (d) CTRL + C

65. Fixed cost is Rs. 30,000 and P/V ratio is 20%. Find the breakeven point.  
ਸਥਿਰ ਲਾਗਤ (fixed cost) 30,000 ਰੁਪਏ ਹੈ ਅਤੇ P/V ਅਨੁਪਾਤ 20% ਹੈ। Breakeven ਲੱਭੋ।

- (a) Rs. 1,60,000 (b) Rs. 1,40,000 (c) Rs. 1,70,000 (d) Rs. 1,50,000

66. Which of the followings simplifies the process of formatting text if the same formatting is required in more than one location in MS Word ?  
ਜੇ MS Word ਵਿੱਚ ਇੱਕ ਤੋਂ ਵੱਧ ਸਥਾਨਾਂ ਵਿੱਚ ਇੱਕੋ formatting ਦੀ ਲੋੜ ਹੈ ਤਾਂ ਹੇਠਾਂ ਦਿੱਤੇ ਵਿੱਚੋਂ ਕਿਹੜਾ text format

ਕਰਨ ਦੀ ਪ੍ਰਕਿਰਿਆ ਨੂੰ ਸਰਲ ਬਣਾਉਂਦਾ ਹੈ ?

- (a) Auto Text (b) Format painter (c) Copy text (d) Font dialog box

67. Which of the following is not a credit rating agency ?  
ਹੇਠਾਂ ਦਿੱਤੇ ਵਿੱਚੋਂ ਕਿਹੜੀ credit rating agency ਨਹੀਂ ਹੈ ?

- (a) CRISIL (b) BWR (c) CARE (d) LSEG

68. In India, NIFTY and SENSEX are calculated on the basis of \_\_\_\_\_  
ਭਾਰਤ ਵਿੱਚ NIFTY and SENSEX ਦੀ ਗਣਨਾ \_\_\_\_\_ ਦੇ ਅਧਾਰ ਤੇ ਕੀਤੀ ਜਾਂਦੀ ਹੈ।

- (a) Free-float Market Capitalization (b) Authorised Share Capital  
(c) Paid Up Share Capital (d) Issued Share Capital

69. Ramesh is aged 48 years, and his father is aged 78 years. Ramesh has taken a medical cover for himself and his father for which he pays insurance premium in F.Y. 2021-22 of Rs. 32,000 and Rs. 58,000 respectively.

What would be the maximum amount he can claim by way of a deduction under Section 80D of Income Tax Act, 1961 for F.Y. 2021-22 ?

ਰਮੇਸ਼ ਦੀ ਉਮਰ 48 ਸਾਲ ਹੈ, ਅਤੇ ਉਸਦੇ ਪਿਤਾ ਦੀ ਉਮਰ 78 ਸਾਲ ਹੈ। ਰਮੇਸ਼ ਨੇ ਆਪਣੇ ਅਤੇ ਆਪਣੇ ਪਿਤਾ ਲਈ ਇੱਕ medical cover ਲਿਆ ਹੈ ਜਿਸ ਲਈ ਉਹ ਬਿਮਾ ਪ੍ਰੀਮੀਅਮ ਕ੍ਰਮਵਾਰ 32,000 ਰੁਪਏ ਅਤੇ 58,000 ਰੁਪਏ F.Y. 2021-22 ਵਿੱਚ ਭੁਗਤਾਨ ਕਰਦਾ ਹੈ।

F.Y. 2021-22 ਲਈ Income tax, ਦੀ ਧਾਰਾ 80D ਦੇ ਤਹਿਤ ਕਟੌਤੀ ਦੇ ਜ਼ਰੀਏ ਉਹ ਕਿੰਨੀ ਵੱਧ ਤੋਂ ਵੱਧ ਰਕਮ ਦਾ ਦਾਅਵਾ ਕਰ ਸਕਦਾ ਹੈ ?

- (a) 90,000 (b) 75,000 (c) 50,000 (d) 32,000



9. The long term assets that have no physical existence but are rights that have value is known as \_\_\_\_\_

ਲੰਬੇ ਸਮੇਂ ਦੀ ਸੰਪਤੀਆਂ, ਜਿਨ੍ਹਾਂ ਦੀ ਕੋਈ ਭੌਤਿਕ ਹੋਂਦ ਨਹੀਂ ਹੈ, ਪਰ ਉਹ ਅਧਿਕਾਰ ਹਨ ਜਿਨ੍ਹਾਂ ਦਾ ਮੁੱਲ \_\_\_\_\_ ਜਾਣਿਆ ਜਾਂਦਾ ਹੈ।

- (a) Fixed Assets/ ਸਥਿਰ ਸੰਪਤੀਆਂ (b) Current Liabilities/ ਮੌਜੂਦਾ ਦੇਣਦਾਰੀਆਂ  
(c) Liquid Assets/ ਤਰਲ ਸੰਪਤੀਆਂ (d) Intangible Assets/ ਅੰਟਲ ਸੰਪਤੀਆਂ

As per Income Tax Act, 1961 Advance Tax is required to be paid by every person only estimated advance tax liability is \_\_\_\_\_

Income Tax Act, 1961 ਦੇ ਅਨੁਸਾਰ ਹਰ ਵਿਅਕਤੀ ਨੂੰ Advance Tax ਦਾ ਭੁਗਤਾਨ ਸਿਰਫ ਤਾਂਹੀ ਕਰਨਾ ਪੈਂਦਾ ਜੇਕਰ ਅਨੁਮਾਨਿਤ Advance Tax ਦੇਣਦਾਰੀ \_\_\_\_\_ ਹੈ।

- (a) More than Rs. 1,00,000/ 1,00,000 ਤੋਂ ਵੱਧ  
(b) More than Rs. 10,00,000/ 10,00,000 ਤੋਂ ਵੱਧ  
(c) More than Rs. 10,000/ 10,000 ਤੋਂ ਵੱਧ  
(d) More than Rs. 1,000/ 1,000 ਤੋਂ ਵੱਧ

Which of the following is not the function of GST council ?

ਹੇਠਾਂ ਦਿੱਤੇ ਵਿੱਚੋਂ ਕਿਹੜਾ GST Council ਦਾ ਕੰਮ ਨਹੀਂ ਹੈ ?

- (a) To make recommendations for goods and services which may be subjected exempted from GST./ਵਸਤੂਆਂ ਅਤੇ ਸੇਵਾਵਾਂ, ਜੋ GST ਦੇ ਅਧੀਨ ਜਾਂ ਇਸ ਤੋਂ ਛੋਟ ਪ੍ਰਾਪਤ ਹੋ ਸਕਦੀਆਂ ਲਈ ਸਿਫਾਰਸ਼ਾਂ ਕਰਨ ਲਈ।  
(b) To make recommendations for rates including floor rates with bands of GST./bands ਦੇ ਨਾਲ floor rates ਸਮੇਤ ਦਰਾਂ ਲਈ ਸਿਫਾਰਸ਼ਾਂ ਕਰਨ ਲਈ।  
(c) To make recommendations for special rates to raise additional resources during natural calamity./ਕਿਸੇ ਵੀ ਕੁਦਰਤੀ ਆਫ਼ਤ ਦੌਰਾਨ ਵਾਧੂ ਸਰੋਤ ਜੁਟਾਉਣ ਲਈ ਵਿਸ਼ੇਸ਼ ਦਰਾਂ ਲਈ ਫੈਸਲਾ ਕਰਨਾ।  
(d) To determine tax not paid or short paid for any reason other than fraud./ਧੋਖਾ ਇਲਾਵਾ ਕਿਸੇ ਹੋਰ ਕਾਰਨ ਕਰਕੇ ਟੈਕਸ ਨਿਰਧਾਰਤ ਕਰਨਾ, ਚਾਹੇ ਭੁਗਤਾਨ ਨਾ ਕੀਤਾ ਹੋਵੇ ਜਾਂ ਘੱਟ ਕੀਤਾ ਹੋਵੇ

- is a separate legal entity whose capital can be divided into many shares.  
ਇੱਕ ਵੱਖਰੀ legal entity ਹੈ ਜਿਸਦੀ ਪੂੰਜੀ ਨੂੰ ਬਹੀ ਹਿੱਸਿਆਂ ਵਿੱਚ ਵੰਡਿਆ ਜਾ ਸਕਦਾ ਹੈ।
- (a) Partnership  
(c) Sole Proprietorship  
(b) Company  
(d) Limited Liability Partnership
- Which of the following rivers is called 'Backbone of the Punjab' ?  
ਹੇਠ ਲਿਖੀਆਂ ਵਿੱਚੋਂ ਕਿਸ ਨਦੀ ਨੂੰ 'Backbone of the Punjab' ਕਿਹਾ ਜਾਂਦਾ ਹੈ ?
- (a) Beas/ ਬਿਆਸ (b) Sutlej/ ਸਤਲੁਜ (c) Ravi/ ਰਾਵੀ (d) Chenab/ ਚੇਨਾਬ
- Section 80GGA of Income Tax Act, 1961 available for donations made to \_\_\_\_\_  
Income Tax Act, 1961 ਦੀਧਾਰਾ 80GGA \_\_\_\_\_ ਨੂੰ ਕੀਤੇ ਦਾਨ ਲਈ ਉਪਲਬਧ ਹੈ।
- (a) Research association which has as its objective the undertaking of scientific research/  
Research association ਜਿਸ ਦਾ ਉਦੇਸ਼ ਵਿਗਿਆਨਕ ਖੋਜ ਦਾ ਕੰਮ ਹੈ  
(b) Charitable Institutions/ ਚੈਰਿਟੇਬਲ ਸੰਸਥਾਵਾਂ  
(c) Educational Institutions/ ਵਿਦਿਅਕ ਸੰਸਥਾਵਾਂ  
(d) Religion Organisations/ ਧਰਮ ਸੰਸਥਾਵਾਂ
- Which of the following documents is used to record the issue of direct materials to a job in job costing ?  
ਹੇਠਾਂ ਦਿੱਤੇ ਦਸਤਾਵੇਜ਼ਾਂ ਵਿੱਚੋਂ ਕਿਹੜਾ job costing ਵਿੱਚ job ਲਈ direct materials ਦੇ ਮੁੱਦੇ ਨੂੰ ਰਿਕਾਰਡ ਕਰਨ ਲਈ ਵਰਤਿਆ ਜਾਂਦਾ ਹੈ ?
- (a) Purchase Order (b) Goods receipt note  
(c) Material requisition (d) Purchase requisition
- Which of the following shortcuts is used in MS Word to subscript the selected text ?  
ਹੇਠਾਂ ਦਿੱਤੇ ਵਿੱਚੋਂ ਕਿਹੜਾ shortcut, MS Word ਵਿੱਚ ਚੁਣੇ ਗਏ text ਨੂੰ subscript ਕਰਨ ਲਈ ਵਰਤਿਆ ਜਾਂਦਾ ਹੈ ?
- (a) Ctrl + = (b) Ctrl + - (c) Ctrl + \* (d) Ctrl + /
- 'Mainu Vida Karo' is written by \_\_\_\_\_.  
ਮੈਂਨੂੰ ਵਿਦਾ ਕਰੋ' \_\_\_\_\_ ਦੁਆਰਾ ਲਿਖਿਆ ਗਿਆ ਹੈ।
- (a) Prof. Mohan Singh/ ਪ੍ਰੋ. ਮੋਹਨ ਸਿੰਘ  
(b) Balwant Gargi/ ਬਲਵੰਤ ਗਾਰਗੀ  
(c) ShivKumar Batalvi/ ਸ਼ਿਵ ਕੁਮਾਰ ਬਟਾਲਵੀ  
(d) Dalip Kaur Tiwana/ ਦਲੀਪ ਕੌਰ ਟਿਵਾਣਾ



78. What was the theme of tableau of Punjab in Republic Day Parade 2021 at New Delhi ?  
ਨਵੀਂ ਦਿੱਲੀ ਵਿਖੇ ਗਣਤੰਤਰ ਦਿਵਸ ਪਰੇਡ 2021 ਵਿੱਚ ਪੰਜਾਬ ਦੀ ਭਾਂਕੀ ਦਾ ਵਿਸ਼ਾ ਕੀ ਸੀ ?

- (a) Maharaj Ranjit Singh/ ਮਹਾਰਾਜਾ ਰਣਜੀਤ ਸਿੰਘ
- (b) Jallianwala Bagh Massacre/ ਜਲਿਆਂਵਾਲਾ ਬਾਗ Massacre
- (c) Martyrdom of Guru Teg Bahadar Ji/ ਗੁਰੂ ਤੇਗ ਬਹਾਦਰ ਜੀ ਦੀ ਸ਼ਹਾਦਤ
- (d) Invest in Punjab/ ਪੰਜਾਬ ਵਿੱਚ ਨਿਵੇਸ਼ ਕਰੋ

79. Which of the following is not a term used in Spreadsheet ?

ਹੇਠ ਲਿਖੇ ਵਿੱਚੋਂ ਕਿਹੜਾ ਸ਼ਬਦ spreadsheets ਵਿੱਚ ਨਹੀਂ ਵਰਤਿਆ ਜਾਂਦਾ ?

- (a) Browser
- (b) Cell
- (c) Formula
- (d) Character

80. Who rebuilt the Grand Trunk Road in 16<sup>th</sup> Century ?

16 ਵੀਂ ਸਦੀ ਵਿੱਚ ਗ੍ਰੈਂਡ ਟਰੰਕ ਰੋਡ ਦੀ ਮੁੜ ਉਸਾਰੀ ਕਿਸਨੇ ਕੀਤੀ ?

- (a) Babur / ਬਾਬਰ
- (b) Akbar / ਅਕਬਰ
- (c) Jahangir / ਜਹਾਂਗੀਰ
- (d) Sher Shah/ ਸ਼ੇਰ ਸ਼ਾਹ

81. SA (Standards on Auditing) -700 stands for \_\_\_\_\_.

SA (Standards on Auditing) -700 ਦਾ \_\_\_\_\_ ਮਤਲਬ ਹੈ।

- (a) Forming an Opinion and Reporting on Financial Statements/ ਵਿੱਤੀ statements ਬਣਾਉਣਾ ਅਤੇ ਰਿਪੋਰਟਿੰਗ ਕਰਨਾ
- (b) Materiality in Planning and Performing an Audit/ ਯੋਜਨਾ ਅਤੇ ਆਡਿਟ ਕਰਨ ਵਿੱਚ ਪਦਾਰਥਤਾ
- (c) Audit Documentation/ ਆਡਿਟ ਦਸਤਾਵੇਜ਼
- (d) Joint Audit of Financial Statements/ ਵਿੱਤੀ statements ਦਾ ਸੰਯੁਕਤ audit

Which of the following is not purpose of header section of email message ?

Email ਦੇ ਸਿਰਲੇਖ ਭਾਗ (header section) ਦਾ ਉਦੇਸ਼ ਕੀ ਨਹੀਂ ਹੈ ?

- (a) Information about sender / ਭੇਜਣ ਵਾਲੇ ਦੇ ਬਾਰੇ ਜਾਣਕਾਰੀ
- (b) Information about receiver/ ਪ੍ਰਾਪਤ ਕਰਤਾ ਦੇ ਬਾਰੇ ਜਾਣਕਾਰੀ
- (c) Subject/ ਵਿਸ਼ਾ
- (d) Actual text message/ ਅਸਲ text message



Which of the following taxes will be levied on imports?  
ਕਿਹੜੇ ਟੈਕਸ ਇਹਨਾਂ 'ਤੇ ਲਗਾਏ ਜਾਣਗੇ?

- (a) CGST  
(b) IGST  
(c) CGST & SGST  
(d) UTGST

In which Anglo-Sikh War Lord Dalhousie annexed Punjab?  
ਕਿਹੜੀ ਆਂਗਲੋ-ਸਿੱਖ ਯੁੱਧ ਦੌਰਾਨ ਲਾਰਡ ਡਾਲਹਾਊਸੀ ਨੇ ਪੰਜਾਬ ਜਿੱਤ ਲਿਆ ਸੀ?

- (a) I  
(b) II  
(c) III  
(d) IV

Which of the following were two provinces of Punjab during Mughal period?  
ਕਿਹੜੇ ਦੋ ਸੂਬੇ ਮੁਗਲ ਕਾਲ ਦੌਰਾਨ ਪੰਜਾਬ ਦੇ ਸਨ?

- (a) Sindh and Lahore/ ਸਿੰਧ ਅਤੇ ਲਾਹੌਰ  
(b) Sindh and Multan/ ਸਿੰਧ ਅਤੇ ਮੁਲਤਾਨ  
(c) Lahore and Multan/ ਲਾਹੌਰ ਅਤੇ ਮੁਲਤਾਨ  
(d) Lahore and Amritsar/ ਲਾਹੌਰ ਅਤੇ ਅੰਮ੍ਰਿਤਸਰ

MS-Word is basically used for \_\_\_\_\_

MS-Word \_\_\_\_\_ ਮੂਲ ਰੂਪ ਤੇ ਵਰਤਿਆ ਜਾਂਦਾ ਹੈ।

- (a) Analysing the data/ ਡਾਟਾ ਵਿਸ਼ਲੇਸ਼ਣ ਕਰਨ ਲਈ  
(b) Preparing the various documents/ ਵੱਖ-ਵੱਖ ਦਸਤਾਵੇਜ਼ਾਂ ਨੂੰ ਤਿਆਰ ਕਰਨ ਲਈ  
(c) Preparing database/ database ਤਿਆਰ ਕਰਨ ਲਈ  
(d) Preparing slides/ slides ਤਿਆਰ ਕਰਨ ਲਈ

Indian Accounting Standard (Ind AS) 36 is related to \_\_\_\_\_

Indian Accounting Standard (Ind AS) 36 \_\_\_\_\_ ਨਾਲ ਸੰਬੰਧਿਤ ਹੈ।

- (a) Financial Instruments Presentation  
(b) Earnings per Share  
(c) Interim Financial Reporting  
(d) Impairment of Assets

Which of the followings is called combination of worksheets in MS Excel?

ਕੋਹ ਲਿਖੇ ਵਿੱਚੋਂ ਕਿਸ ਨੂੰ MS Excel ਵਿੱਚ worksheets ਦੇ combination ਕਿਹਾ ਜਾਂਦਾ ਹੈ?

- (a) Workbook  
(b) Spreadsheet  
(c) Excel sheet  
(d) Cell

What does N stand for in HSN?

HSN ਵਿੱਚ N ਦਾ ਕੀ ਮਤਲਬ ਹੈ?

- (a) Nomenclature  
(b) Network  
(c) National  
(d) Novel

1) Who among the following sufi saints has called India a paradise on earth ?  
ਹੇਠ ਲਿਖੇ ਸੂਫੀ ਸੰਤਾਂ ਵਿੱਚੋਂ ਕਿਸ ਨੇ ਭਾਰਤ ਨੂੰ ਧਰਤੀ ਦਾ ਵਿਰਦੇਸ਼ ਕਿਹਾ ਹੈ ?

- (a) Baba Farid/ ਬਾਬਾ ਫਰੀਦ (b) Amir Khurd/ ਅਮੀਰ ਖੁਰਦ  
(c) Amir Khusro/ ਅਮੀਰ ਖੁਸਰੋ (d) Shah Amanat/ ਸ਼ਾਹ ਅਮਾਨਤ

2) Ramesh, a resident, employed in XYZ Private Limited, an Indian company, has gross annual salary income of Rs. 18,45,000 for F.Y. 2021-22. The standard deduction available under section 16(1) of Income Tax Act, 1961 would be \_\_\_\_\_.

ਰਮੇਸ਼, ਇੱਕ ਨਿਵਾਸੀ, ਇੱਕ ਭਾਰਤੀ ਕੰਪਨੀ, XYZ ਪ੍ਰਾਈਵੇਟ ਲਿਮਟਿਡ, ਵਿੱਚ ਨੌਕਰੀ ਕਰਦਾ ਹੈ, ਦੀ ਕੁੱਲ ਸਾਲਾਨਾ ਤਨਖਾਹ ਆਮਦਨ F.Y. 2021 - 22 ਵਿੱਚ 18,45,000 ਰੁਪਏ ਹੈ। ਇਨਕਮ ਟੈਕਸ ਐਕਟ, 1961 ਦੀ ਧਾਰਾ 16(1) ਦੇ ਤਹਿਤ standard deduction \_\_\_\_\_ ਹੋਵੇਗੀ।

- (a) 40,000 (b) 50,000 (c) 60,000 (d) Nil

Bir Aishwan Wildlife Sanctuary is located in \_\_\_\_\_ district of Punjab.

ਪੰਜਾਬ ਦੇ \_\_\_\_\_ ਜ਼ਿਲ੍ਹੇ ਵਿੱਚ Bir Aishwan Wildlife Sanctuary ਸਥਿਤ ਹੈ।

- (a) Amritsar/ ਅੰਮ੍ਰਿਤਸਰ (b) Ludhiana/ ਲੁਧਿਆਣਾ  
(c) Sangrur/ ਸੰਗਰੂਰ (d) Bathinda/ ਬਠਿੰਡਾ

Which of the following is not classification of NPA ?

ਹੇਠਾਂ ਦਿੱਤੇ ਵਿੱਚੋਂ ਕਿਹੜਾ NPA ਦਾ ਵਰਗੀਕਰਨ ਨਹੀਂ ਹੈ ?

- (a) Sub-standard Assets/ ਉਪ-ਸਿਧਾਂਤੀ ਸੰਪਤੀਆਂ  
(b) Impaired Assets/ ਕਮਜ਼ੋਰ ਸੰਪਤੀਆਂ  
(c) Loss Assets/ ਨੁਕਸਾਨ ਵਾਲੀ ਸੰਪਤੀਆਂ  
(d) Doubtful Assets/ ਸ਼ੱਕੀ ਸੰਪਤੀਆਂ

Which of the following is auxiliary memory of computer system ?

ਹੇਠ ਲਿਖੀਆਂ ਵਿੱਚੋਂ computer system ਦੀ auxiliary memory ਕਿਹੜੀ ਹੈ ?

- (a) ROM (b) SRAM  
(c) Magnetic Tape (d) Cache memory



If average inventory is Rs. 11,25,000 and closing inventory is Rs. 1,00,000 less than opening inventory, then the value of closing inventory will be \_\_\_\_\_  
 ਜੇਕਰ ਔਸਤ inventory 11,25,000 ਰੁਪਏ ਹੈ ਅਤੇ closing inventory 1,00,000 ਰੁਪਏ opening inventory ਤੋਂ ਘੱਟ ਹੈ, ਤਾਂ closing inventory ਦਾ ਮੁੱਲ \_\_\_\_\_ ਹੋਵੇਗਾ।

- (a) 11,75,000 (b) 10,75,000 (c) 9,75,000 (d) 12,50,000

A debenture holder is entitled to \_\_\_\_\_  
 ਡੈਬੰਚਰ ਧਾਰਕ \_\_\_\_\_ ਦਾ ਹੱਕਦਾਰ ਹੈ।

- (a) Dividend  
 (b) Profit share  
 (c) Interest as per fixed interest rate/ ਨਿਸ਼ਚਿਤ ਵਿਆਜ ਦਰ ਤੇ ਵਿਆਜ  
 (d) Voting rights in the company/ ਕੰਪਨੀ ਵਿੱਚ ਵੋਟਿੰਗ ਅਧਿਕਾਰ

Cash donation given to a charitable trust (approved under section 80G) is eligible for deduction under that section, when the amount of donation does not exceed \_\_\_\_\_ under Income Tax Act, 1961.

ਕਿਸੇ ਚੈਰੀਟੇਬਲ ਟਰਸਟ ਨੂੰ ਦਿੱਤਾ ਗਿਆ ਨਕਦ ਦਾਨ (ਧਾਰਾ 80G ਅਧੀਨ ਪ੍ਰਵਾਨਿਤ) ਉਸ ਧਾਰਾ ਅਧੀਨ ਕਟੌਤੀ ਲਈ ਯੋਗ ਹੈ, ਜਦੋਂ ਦਾਨ ਦੀ ਰਕਮ Income Tax Act, 1961 ਦੇ ਅਧੀਨ \_\_\_\_\_ ਤੋਂ ਵੱਧ ਨਹੀਂ ਹੁੰਦੀ ਹੈ।

- (a) 1,500 (b) 1,000 (c) 2,500 (d) 2,000

Section 80 RRB the Income-tax Act, 1961 deals with deduction from gross total income in respect of income by way of \_\_\_\_\_.

Section 80 RRB the Income-tax Act, 1961 \_\_\_\_\_ ਦੁਆਰਾ ਆਮਦਨ ਦੇ ਸਬੰਧ ਵਿੱਚ ਕੁੱਲ ਆਮਦਨ ਤੋਂ ਕਟੌਤੀ ਨਾਲ ਸੰਬੰਧਿਤ ਹੈ।

- (a) Income from dividends/dividends ਤੋਂ ਆਮਦਨੀ  
 (b) Income from Saving Bank Interest/ Saving Bank ਵਿਆਜ ਤੋਂ ਆਮਦਨੀ  
 (c) Royalty on Patents/ Patents ਤੋਂ Royalty  
 (d) Profits and gains from business of collecting and processing of bio-degradable waste/ Bio-degradable waste ਨੂੰ ਇਕੱਠਾ ਕਰਨ ਅਤੇ ਪ੍ਰੋਸੈਸ ਕਰਨ ਦੇ ਕਾਰੋਬਾਰ ਤੋਂ ਲਾਭ

What was period of Guru Angad Dev Ji as Sikh Guru ?

ਗੁਰੂ ਅੰਗਦ ਦੇਵ ਜੀ ਦਾ ਸਿੱਖ ਗੁਰੂ ਹੋਣ ਦਾ ਸਮਾਂ ਕੀ ਸੀ ?

- (a) 1538-1552 AD (b) 1567-1589 AD  
 (c) 1534-1545 AD (d) 1556-1578 AD

100. In which of the following years, sikh forces under the leadership of Bhai Baghel Singh conquered Delhi ?  
ਹੇਠ ਲਿਖੀਆਂ ਵਿੱਚੋਂ ਕਿਹੜੇ ਸਾਲ ਵਿਚ ਭਾਈ ਬਖਸ਼ ਸਿੰਘ ਦੀ ਅਗਵਾਈ ਹੇਠ ਸਿੱਖ ਫੌਜਾਂ ਨੇ ਦਿੱਲੀ ਨੂੰ ਫਤਹਿ ਕੀਤਾ ?
- (a) 1770 (b) 1780 (c) 1782 (d) 1783
101. The ratios that refer to the ability of the firm to meet the short term obligations out of short term resources is called \_\_\_\_\_.  
ਉਹ ਅਨੁਪਾਤ, ਜੋ ਆਪਣੇ ਬੰਨ੍ਹੇ ਸਮੇਂ ਦੇ ਸਰੋਤਾਂ ਵਿੱਚੋਂ ਛੋਟੀ ਮਿਆਦ ਦੀਆਂ ਜ਼ਿੰਮੇਵਾਰੀਆਂ ਨੂੰ ਪੂਰਾ ਕਰਨ ਲਈ ਫਰਮ ਦੀ ਯੋਗਤਾ ਦਾ ਹਵਾਲਾ ਦਿੰਦੇ ਹਨ, ਨੂੰ \_\_\_\_\_ ਕਿਹਾ ਜਾਂਦਾ ਹੈ।
- (a) Activity ratio (b) Liquidity ratio (c) Profitability ratio (d) Leverage ratio
102. Hazur Sahib, the holy Sikh Pilgrimage, is located on the banks of which one of the following rivers ?  
ਹੇਠ ਲਿਖੀਆਂ ਨਦੀਆਂ ਵਿੱਚੋਂ ਕਿਸ ਨਦੀ ਦੇ ਕਿਨਾਰੇ ਸਿੱਖਾਂ ਦੇ ਪਵਿੱਤਰ ਤੀਰਥ ਅਸਥਾਨ, ਹਜ਼ੂਰ ਸਾਹਿਬ, ਸਥਿਤ ਹੈ ?
- (a) Godavari/ਗੋਦਾਵਰੀ (b) Krishna/ਕ੍ਰਿਸ਼ਨਾ  
(c) Sutlej/ਸਤਲੁਜ (d) Beas/ਬਿਆਸ
103. Super Profit Method is used in the valuation of \_\_\_\_\_.  
Super Profit Method \_\_\_\_\_ ਦੇ ਮੁਲਾਂਕਣ ਵਿੱਚ ਵਰਤੀ ਜਾਂਦੀ ਹੈ।
- (a) Fixed Assets (b) Current Assets (c) Goodwill (d) Loans
104. Which of the followings is called the 'Demographic Divide' in India ?  
ਹੇਠ ਲਿਖੇ ਵਿੱਚੋਂ ਕਿਸ ਨੂੰ ਭਾਰਤ ਵਿੱਚ ਦਾ 'Demographic Divide' ਕਿਹਾ ਜਾਂਦਾ ਹੈ ?
- (a) 1921 (b) 1931 (c) 1941 (d) 1951
105. In which of the following years, Operation Flood was launched ?  
ਹੇਠ ਲਿਖੀਆਂ ਵਿੱਚੋਂ ਕਿਹੜੇ ਸਾਲਾਂ ਵਿੱਚ, Operation Flood ਸ਼ੁਰੂ ਕੀਤਾ ਗਿਆ ਸੀ ?
- (a) 1969 (b) 1970 (c) 1971 (d) 1972
106. As per Income Tax Act, 1961 MAT stands for \_\_\_\_\_.  
Income Tax Act, 1961 ਦੇ ਅਨੁਸਾਰ MAT ਦਾ ਮਤਲਬ \_\_\_\_\_ ਹੈ।
- (a) Minimum Adjustable Tax (b) Minimum Alternate Tax  
(c) Minimum Applicable Tax (d) Minimum Allowable Tax



Which of the following languages were adopted by the Bhakti Saints to preach their ideas to the masses ?

ਹੇਠ ਲਿਖੀਆਂ ਵਿੱਚੋਂ ਕਿਹੜੀਆਂ ਭਾਸ਼ਾਵਾਂ ਨੂੰ ਭਗਤੀ ਸੰਤਾਂ ਨੇ ਆਪਣੇ ਵਿਚਾਰਾਂ ਦਾ ਪ੍ਰਚਾਰ ਕਰਨ ਲਈ ਅਪਣਾਇਆ ਸੀ ?

- (a) Sankrant/ ਸੰਸਕ੍ਰਿਤ
- (b) Hindi/ ਹਿੰਦੀ
- (c) Magadhi/ ਮਗਦੀ
- (d) Local/regional languages/ ਸਥਾਨਕ/ ਖੇਤਰੀ ਭਾਸ਼ਾਵਾਂ

Cost Records are to be maintained as per Companies Act, 2013 \_\_\_\_\_

ਦੇ ਅਨੁਸਾਰ cost records ਨੂੰ ਸੰਭਾਲਿਆ ਜਾਣਾ ਹੈ।

- (a) u/s 146(1)
- (b) u/s 147(1)
- (c) u/s 148(1)
- (d) u/s 145(1)

In which of the following frontiers of India, Punjab is situated ?

ਹੇਠ ਲਿਖੀਆਂ ਵਿੱਚੋਂ ਭਾਰਤ ਦੇ ਕਿਸ ਹਿੱਸੇ ਵਿੱਚ ਪੰਜਾਬ ਸਥਿਤ ਹੈ ?

- (a) South-eastern/ ਦੱਖਣ-ਪੂਰਬੀ
- (b) South-western/ ਦੱਖਣ-ਪੱਛਮੀ
- (c) North-eastern/ ਉੱਤਰ-ਪੂਰਬੀ
- (d) North-western/ ਉੱਤਰ-ਪੱਛਮੀ

Who invented and introduced the Gurmukhi Script ?

ਗੁਰਮੁਖੀ ਲਿਪੀ ਦੀ ਖੋਜ ਕਿਸਨੇ ਕੀਤੀ ਸੀ ?

- (a) Guru Ram Das ji/ ਗੁਰੂ ਰਾਮ ਦਾਸ ਜੀ
- (b) Guru Angad Dev ji/ ਗੁਰੂ ਅੰਗਦ ਦੇਵ ਜੀ
- (c) Guru Amar Das ji/ ਗੁਰੂ ਅਮਰ ਦਾਸ ਜੀ
- (d) Guru Gobind Singh ji/ ਗੁਰੂ ਗੋਬਿੰਦ ਸਿੰਘ ਜੀ

Who is known as 'Koel of Punjab' ?

ਪੰਜਾਬ ਦੀ ਕੋਇਲ ਕਿਸ ਨੂੰ ਕਿਹਾ ਜਾਂਦਾ ਹੈ ?

- (a) Prakash Kaur/ ਪ੍ਰਕਾਸ਼ ਕੌਰ
- (b) Surinder Kaur/ ਸੁਰਿੰਦਰ ਕੌਰ
- (c) Satinder Satti/ ਸਤਿੰਦਰ ਸੱਤੀ
- (d) Pooja/ ਪੂਜਾ

112. Upper Bari Doab Canal in Punjab originates from \_\_\_\_\_.

ਪੰਜਾਬ ਵਿੱਚ Upper Bari Doab ਨਹਿਰ \_\_\_\_\_ ਤੋਂ ਨਿਕਲਦੀ ਹੈ।

- (a) Jalandhar/ ਜਲੰਧਰ (b) Nangal/ ਨੰਗਲ  
(c) Amritsar/ ਅੰਮ੍ਰਿਤਸਰ (d) Madhopur/ ਮਾਧੋਪੁਰ

113. Which of the followings is not a font style ?

ਇਹਨਾਂ ਵਿੱਚੋਂ ਕਿਹੜਾ font style ਨਹੀਂ ਹੈ ?

- (a) Bold (b) Italic (c) Regular (d) Superscript

114. Being a Sikkimese, which of the following income accrues or arises to him would be exempted under Income Tax Act, 1961 ?

ਹੇਠ ਲਿਖੀਆਂ ਵਿੱਚੋਂ ਕਿਹੜੀ ਆਮਦਨ, ਸਿੱਕਮੀ ਹੋਣ ਦੇ ਨਾਤੇ ਉਸ ਨੂੰ ਇਕੱਠੀ ਹੁੰਦੀ ਹੈ ਜਾਂ ਮਿਲਦੀ ਹੈ, ਨੂੰ ਇਨਕਮ ਟੈਕਸ ਐਕਟ 1961 ਦੇ ਤਹਿਤ ਛੋਟ ਦਿੱਤੀ ਜਾਵੇਗੀ ?

- (a) Only Income from any source in the State of Sikkim/ ਸਿਰਫ ਸਿੱਕਮ ਰਾਜ ਵਿੱਚ ਕਿਸੇ ਵੀ ਸਰੋਤ ਤੋਂ ਆਮਦਨ  
(b) Only Income by way of dividend/ ਸਿਰਫ dividend ਦੇ ਰੂਪ ਵਿੱਚ ਆਮਦਨ  
(c) Only Income by way of interest on securities/ ਸਿਰਫ securities ਤੋਂ ਵਿਆਜ ਦੇ ਰੂਪ ਵਿੱਚ ਆਮਦਨ  
(d) All above/ ਉਪਰ ਦਿੱਤੇ ਸਾਰੇ

115. Capital gearing ratio is \_\_\_\_\_.

Capital gearing ratio \_\_\_\_\_ ਹੈ।

- (a) Liquidity ratio (b) Long Term Solvency ratio  
(c) Turnover ratio (d) Market Test ratio



Maximum limit of deduction in respect of rent paid u/s 80GG of Income Tax Act, 1961 for  
F.Y. 2021-22 is \_\_\_\_\_  
F.Y. 2021-22 ਲਈ Income Tax Act, 1961 u/s 80GG ਦੇ ਤਹਿਤ ਵਸਤੂਆਂ ਜੀਊਐਸ ਐੱਸ ਐੱਸ ਦੇ ਸਬੰਧ ਵਿੱਚ

ਕਟੌਤੀ ਦੀ ਅਧਿਕਤਮ ਸੀਮਾ \_\_\_\_\_ ਹੈ।

(a) 5,000

(b) 50,000

(c) 5,00,000

(d) 500

How many companies are included in the SENSEX of India?  
ਭਾਰਤ ਦੇ SENSEX ਵਿੱਚ ਕਿੰਨੀਆਂ ਕੰਪਨੀਆਂ ਸ਼ਾਮਲ ਹਨ?

(a) 35

(b) 30

(c) 25

(d) 50

Full form of LCD is \_\_\_\_\_

LCD ਦਾ ਪੂਰਾ ਨਾਂ \_\_\_\_\_ ਹੈ।

(a) Liquid Crystal Display

(c) Live Clear Display

(b) Live Crystal Display

(d) Liquid Clear Display

The websites, used to find some information about topic, are called \_\_\_\_\_

ਵੈੱਬਸਾਈਟਾਂ, ਜਿਹੜੀਆਂ ਕਿਸੇ ਵਿਸ਼ੇ ਬਾਰੇ ਕੁਝ ਜਾਣਕਾਰੀ ਲੱਭਣ ਲਈ ਵਰਤੀਆਂ ਜਾਂਦੀਆਂ ਹਨ, ਨੂੰ \_\_\_\_\_ ਕਿਹਾ ਜਾਂਦਾ ਹੈ।

(a) Web browser

(b) Webpages

(c) ISP

(d) Search Engine

Deduction available under section 24(a) of Income Tax Act, 1961 is \_\_\_\_\_ of Annual Value.

ਇਨਕਮ ਟੈਕਸ ਐਕਟ 1961 ਦੀ ਧਾਰਾ 24(a) ਦੇ ਤਹਿਤ ਕਟੌਤੀ ਸਲਾਨਾ ਮੁੱਲ ਦੀ \_\_\_\_\_ ਹੈ।

(a) 25%

(b) 40%

(c) 30%

(d) 20%

- o O o -