



Navodaya Vidyalaya Samiti

(An Autonomous Body Under MHRD) Government of India

Roll No.	
Participant Name	
Test Center Name	
Test Date	
Test Time	
Subject	PGT HINDI

Section : General (English & Hindi)

Q.1 Parts of a sentence are given below in jumbled order. Arrange the parts in the right order to form a meaningful sentence.

- A. and policies of assimilation
- B. of the Republic of Turkey in 1923,
- C. Ever since the establishment
- D. have had to fight to survive oppression
- E. Kurdish language and culture

- Ans
- 1. CEDBA
 - 2. CDABE
 - 3. CBEDA
 - 4. CABED

Question ID : 5096476481
Status : Answered
Chosen Option : 3

Q.2 Choose the most appropriate option to fill in the blank.

The air and rail services _____ disrupted due to thick fog.

- Ans
- 1. was being seriously
 - 2. has been severely
 - 3. had been seriously
 - 4. have been severely

Question ID : 5096476474
Status : Answered
Chosen Option : 4

Q.3 Complete the sentence by choosing the most appropriate option.

In Africa, elephants _____ for their tusks even today.

- Ans
- 1. are hunting
 - 2. are hunted
 - 3. were hunted
 - 4. were hunting

Adda247

Test Prime

ALL EXAMS, ONE SUBSCRIPTION



1,00,000+
Mock Tests



Personalised
Report Card



Unlimited
Re-Attempt



600+
Exam Covered



25,000+ Previous
Year Papers



500%
Refund



ATTEMPT FREE MOCK NOW

Question ID : 5096476463
Status : Answered
Chosen Option : 1

Q.4 Select the INCORRECTLY spelt word:

- Ans
- 1. Jugglery
 - 2. Jittery
 - 3. January
 - 4. Jewellery

Question ID : 5096476477
Status : Answered
Chosen Option : 2

Q.5 Choose the appropriate relation in the given sentence.

If X is the brother of the son of Y's son, how is X related to Y?

- Ans
- 1. Cousin
 - 2. Brother
 - 3. Grandson
 - 4. Son

Question ID : 5096476470
Status : Answered
Chosen Option : 3

Q.6 In the following sentence four words/phrases have been underlined. One of them is incorrect. Choose the INCORRECT word/phrase from the given options.

Gandhiji realised that he cannot take on the mighty British empire through an armed struggle.

- Ans
- 1. through
 - 2. take on
 - 3. cannot
 - 4. that

Question ID : 5096476480
Status : Answered
Chosen Option : 3

Q.7 Choose the sentence that has no error from the options below.

- Ans
- 1. By the time Thomas found an umbrella, the rain was stopping.
 - 2. The rain has stopped by the time Thomas found umbrella.
 - 3. By the time Thomas found an umbrella, it had stopped raining.
 - 4. By the time Thomas found an umbrella, it stopped raining.

Question ID : 5096476464
Status : Answered
Chosen Option : 2

Q.8 Select the option that expresses the given sentence in reported speech.

The teacher said to us, "If you get less than 50% marks, you will be in trouble."

The teacher told us that:

- Ans
- 1. if you got less than 50% marks, you would be in trouble.
 - 2. if we get less than 50% marks, we will be in trouble.
 - 3. if we got less than 50% marks, we would be in trouble.
 - 4. if you get less than 50% marks, you will be in trouble.

Question ID : 5096476479
Status : Answered
Chosen Option : 3

Q.9 Which of the following sentences is grammatically correct?

- Ans
- 1. The theft was committed last night and the man has been caught.
 - 2. The theft committed last night but the man was caught.
 - 3. The theft was committed last night because the man was caught.
 - 4. The theft is committed last night and the man was caught.

Question ID : 5096476471
Status : Answered
Chosen Option : 2

Q.10 Choose the meaning of the underlined word as per its contextual usage.

The work was tedious and physically demanding.

- Ans
- 1. Sad
 - 2. Boring
 - 3. Interesting
 - 4. Deserted

Question ID : 5096476469
Status : Answered
Chosen Option : 2

Q.11 Choose the meaning of the underlined word as per its contextual usage.

The fifteen people arrested were still in police detention.

- Ans
- 1. Desolation
 - 2. Restraint
 - 3. Destitution
 - 4. Computation

Question ID : 5096476466
Status : Answered

Chosen Option : 2

Q.12 Choose the part of the given sentence that has an error in it.

Kalamkari is exquisite / ancient craft of hand painting / and block printing / with vegetable dyes

- Ans
- 1. ancient craft of hand painting
 - 2. Kalamkari is exquisite
 - 3. and block printing
 - 4. with vegetable dyes

Question ID : 5096476468

Status : Answered

Chosen Option : 2

Q.13 Choose the most appropriate option to fill in the blank.

The bodies of the accident victims were mangled in a/an _____.

- Ans
- 1. great violent manner
 - 2. fierce manner
 - 3. imprudent way
 - 4. terrible manner

Question ID : 5096476475

Status : Answered

Chosen Option : 3

Q.14 Choose the most appropriate option to fill in the blank.

Do you think it is going to _____ this afternoon?

- Ans
- 1. rain
 - 2. reign
 - 3. reins
 - 4. rein

Question ID : 5096476476

Status : Answered

Chosen Option : 1

Q.15 Complete the sentence by choosing the most appropriate option.

One evening, I heard fire engines with loud alarm bells _____.

- Ans
- 1. rushing at my house
 - 2. rushing past my house
 - 3. running past my house
 - 4. running over my house

Question ID : 5096476465

Status : Answered

Chosen Option : 3

Q.16 In the following sentence four words or phrases have been underlined. One of them is incorrect. Choose the INCORRECT word or phrase from the given options:

As soon as I got home I ran to my father and begin telling him about all that had happened.

- Ans
- 1. As soon as
 - 2. that had happened
 - 3. got home
 - 4. begin telling

Question ID : 5096476478
 Status : Answered
 Chosen Option : 4

Q.17 Select the correct passive form of the given sentence.

Will you finish this book by tonight?

- Ans
- 1. Would this book be finished by you by tonight?
 - 2. Will this book be finished by you by tonight?
 - 3. Was this book finished by you by tonight?
 - 4. Has this book been finished by you by tonight?

Question ID : 5096476482
 Status : Answered
 Chosen Option : 1

Q.18 Choose the correct option to fill in the blanks.

The murderer was _____ and _____.

- Ans
- 1. hung, caught
 - 2. catched, hanged
 - 3. catched, hung
 - 4. caught, hanged

Question ID : 5096476473
 Status : Answered
 Chosen Option : 4

Q.19 Fill in the blank by choosing the correct option.

Vishweshwaraya, who passed away in Bengaluru on 12 April 1962, _____ a combination of wisdom and endeavour.

- Ans
- 1. has been
 - 2. had been
 - 3. might
 - 4. would

Question ID : 5096476467
 Status : Answered
 Chosen Option : 2

Q.20 Fill in the blanks with the most suitable option.

A train _____ a station while moving _____ a bridge and fell _____ a river.

- Ans
- 1. derailed at, on, into
 - 2. derailed near, on, in
 - 3. derailed near, over, into
 - 4. derailed, from, in

Question ID : 5096476472
Status : Answered
Chosen Option : 3

Q.21 'भाड़े का टडू' मुहावरे का अर्थ बताइए:

- Ans
- 1. किराया न देने वाला
 - 2. पैसे लेकर काम करने वाला
 - 3. किराये पर रहने वाला
 - 4. पैसे लूटने वाला

Question ID : 5096476491
Status : Answered
Chosen Option : 2

Q.22 तत्सम शब्द पहचानिए:

- Ans
- 1. सोरठा
 - 2. परख
 - 3. थन
 - 4. चित्रकार

Question ID : 5096476483
Status : Answered
Chosen Option : 4

Q.23 मित्र शब्द का बहुवचन होगा:

- Ans
- 1. मित्रता
 - 2. दोस्त
 - 3. मित्रें
 - 4. मित्रगण

Question ID : 5096476500
Status : Answered
Chosen Option : 4

Q.24 अहंकार का पर्याय नहीं है:

- Ans
- 1. ईर्ष्या

6/20/2019

https://cdn.digialm.com///per/g01/pub/1258/touchstone/AssessmentQPHTMLMode1//1258O19106/1258O19106S7D713/156048936...

- 2. अभिमान
- 3. दंभ
- 4. मद

Question ID : 5096476487
Status : Answered
Chosen Option : 1

Q.25 सम, सा, सी, सरिस आदि किस अलंकार के वाचक शब्द हैं?

- Ans
- 1. रूपक अलंकार
 - 2. मानवीकरण अलंकार
 - 3. उपमा अलंकार
 - 4. अनुप्रास अलंकार

Question ID : 5096476497
Status : Answered
Chosen Option : 3

Q.26 आपने अभी मेरे साथ चलना है। वाक्य का शुद्ध रूप होगा:

- Ans
- 1. आपको अभी मेरे साथ चलना है।
 - 2. मेरे साथ चलना आपको अभी है।
 - 3. अभी मेरे साथ चलना होता है।
 - 4. अभी मेरे आपको साथ चलना है।

Question ID : 5096476494
Status : Answered
Chosen Option : 1

Q.27 राजेंद्र शब्द में संधि है:

- Ans
- 1. गुण
 - 2. यण
 - 3. वृद्धा
 - 4. दीर्घ

Question ID : 5096476496
Status : Answered
Chosen Option : 1

Q.28 'दूध का दूध पानी का पानी' लोकोक्ति का अर्थ है:

- Ans
- 1. उचित न्याय करना
 - 2. अन्याय करना
 - 3. दूध में पानी मिलाना
 - 4. दूध पानी अलग करना

6/20/2019

https://cdn.digialm.com///per/g01/pub/1258/touchstone/AssessmentQPHTMLMode1//1258O19106/1258O19106S7D713/156048936...

Question ID : 5096476493
Status : Answered
Chosen Option : 1

Q.29 कल्प + अंत उचित संधि है:

- Ans
- 1. कल्पांत
 - 2. कल्पना
 - 3. कल्पनंत
 - 4. कल्पनात

Question ID : 5096476495
Status : Answered
Chosen Option : 1

Q.30 विलोम शब्द का कौन सा युग्म सही है:

- Ans
- 1. प्रेम - घृणा
 - 2. सुलभ - नीरस
 - 3. सरस - सरल
 - 4. स्वतंत्र - आज़ाद

Question ID : 5096476490
Status : Answered
Chosen Option : 1

Q.31 'मृग जैसे लोचन हैं जिसके' वाक्यांश के लिए शब्द होगा:

- Ans
- 1. मृगनेत्री
 - 2. मृगअश्रु
 - 3. मृगनयनी
 - 4. मृगलोचनी

Question ID : 5096476499
Status : Answered
Chosen Option : 3

Q.32 धूल का पर्याय है:

- Ans
- 1. रेणु
 - 2. पृथ्वी
 - 3. सुमन
 - 4. कुसुम

Question ID : 5096476488
Status : Answered
Chosen Option : 1

Q.33

प्रतिच्छाया का तद्भव रूप होगा:

- Ans
- 1. शीतल
 - 2. सहारा
 - 3. व्यक्तित्व
 - 4. परछाई

Question ID : 5096476486
Status : Answered
Chosen Option : 4

Q.34 पुल्लिंग शब्द है:

- Ans
- 1. पापड़
 - 2. चमक
 - 3. गंगा
 - 4. संसद

Question ID : 5096476502
Status : Answered
Chosen Option : 1

Q.35 'शीघ्रता में होना' किस मुहावरे का अर्थ है?

- Ans
- 1. घोड़े बेचकर सोना
 - 2. गंगा नहाना
 - 3. गागर में सागर भरना
 - 4. घोड़े पर सवार होना

Question ID : 5096476492
Status : Answered
Chosen Option : 4

Q.36 पुड़िया का बहुवचन बनेगा:

- Ans
- 1. पुड़िड़
 - 2. पुड़ियाँ
 - 3. पुड़िरे
 - 4. पुड़िइया

Question ID : 5096476501
Status : Answered
Chosen Option : 2

Q.37 सही तत्सम - तद्भव युग्म है:

- Ans
- 1. रज्जु - रस्सी

6/20/2019

https://cdn.digialm.com///per/g01/pub/1258/touchstone/AssessmentQPHTMLMode1//1258O19106/1258O19106S7D713/156048936...

- 2. शर्करा - सरसों
- 3. श्रावण - सुनार
- 4. लेपन - लाज

Question ID : 5096476484
Status : Answered
Chosen Option : 1

Q.38 सद्भावना का समास भेद है:

- Ans
- 1. द्वंद्व समास
 - 2. कर्मधारय समास
 - 3. द्विगु समास
 - 4. अव्ययीभाव समास

Question ID : 5096476498
Status : Answered
Chosen Option : 4

Q.39 कौन सा तद्भव शब्द है:

- Ans
- 1. फणि
 - 2. नासिका
 - 3. दही
 - 4. नम

Question ID : 5096476485
Status : Answered
Chosen Option : 3

Q.40 'फटकार' का विलोम है:

- Ans
- 1. डाँट
 - 2. प्यार
 - 3. दुलार
 - 4. पुचकारना

Question ID : 5096476489
Status : Answered
Chosen Option : 3

Section : General Awareness

Q.1 मध्य प्रदेश सरकार द्वारा वर्ष 2018 के लिए 'तानसेन सम्मान' से सम्मानित संगीतकार मंजू मेहता निम्नलिखित में से किस वाद्ययंत्र से जुड़ी हैं?

- Ans
- 1. वीना
 - 2. बांसुरी
 - 3. सितार

6/20/2019

https://cdn.digialm.com///per/g01/pub/1258/touchstone/AssessmentQPHTMLMode1//1258O19106/1258O19106S7D713/156048936...

X 4. गिटार

Question ID : 5096476503
Status : Answered
Chosen Option : 3

Q.2 लिटमस पेपर को साबुन के पानी में डालने पर, यह इनमें से किस रंग में बदल जाता है?

- Ans
- X 1. नारंगी
 - X 2. पीला
 - X 3. लाल
 - ✓ 4. नीला

Question ID : 5096476527
Status : Answered
Chosen Option : 3

Q.3 रेगिस्तानी पौधे में प्रकाश संश्लेषण _____ में होता है।

- Ans
- X 1. शाखाओं
 - X 2. जड़
 - X 3. पत्ते
 - ✓ 4. तना

Question ID : 5096476528
Status : Answered
Chosen Option : 2

Q.4 उस ब्रिटिश प्रधानमंत्री का नाम बताइए जिसने वर्ष 1932 में भारत के स्वतंत्रता आंदोलन के दौरान सांप्रदायिक पुरस्कार की घोषणा की थी?

- Ans
- X 1. डेविड लॉयड जॉर्ज
 - X 2. एंड्रयू बोनर लॉ
 - X 3. हरबर्ट हेनरी एसक्विथ
 - ✓ 4. जेम्स रामसे मैकडोनाल्ड

Question ID : 5096476514
Status : Answered
Chosen Option : 4

Q.5 भारत के संविधान के _____ के अनुसार, _____ संसद के दोनों सदनों की संयुक्त बैठक की अध्यक्षता करता है।

- Ans
- X 1. अनुच्छेद 124; लोकसभा अध्यक्ष
 - X 2. अनुच्छेद 124; प्रधानमंत्री
 - X 3. अनुच्छेद 118; प्रधानमंत्री
 - ✓ 4. अनुच्छेद 118; लोकसभा अध्यक्ष

Question ID : 5096476516
Status : Answered
Chosen Option : 1

6/20/2019

https://cdn.digialm.com///per/g01/pub/1258/touchstone/AssessmentQPHTMLMode1//1258O19106/1258O19106S7D713/156048936...

Q.6 The city of Kolkata is also known as:

- Ans
- 1. City of waterfalls
 - 2. City of wonders
 - 3. City of lights
 - 4. City of joy

Question ID : 5096476531
Status : Answered
Chosen Option : 2

Q.7 प्रसिद्ध संगीतकार एम. एस. अनंतरामन, जिनका वर्ष 2018 में निधन हो गया, वह निम्नलिखित में से किस यंत्र के प्रतिपादक थे?

- Ans
- 1. इकतारा
 - 2. तानपुरा
 - 3. सरोद
 - 4. वायलिन

Question ID : 5096476508
Status : Answered
Chosen Option : 4

Q.8 पारंपरिक संगीत वाद्ययंत्र पेपा, इनमें से किस राज्य में सबसे अधिक लोकप्रिय है?

- Ans
- 1. केरल
 - 2. पंजाब
 - 3. असम
 - 4. झारखंड

Question ID : 5096476532
Status : Answered
Chosen Option : 4

Q.9 भारत के सर्वोच्च न्यायालय ने अक्टूबर 2018 में, प्रचलित "अत्यंत नाजुक" और "भयानक" प्रदूषण से निपटने के लिए इनमें से किस क्षेत्र में 15-वर्षीय पेट्रोल और 10-वर्षीय डीजल वाहनों पर रोक लगा दी है?

- Ans
- 1. हैदराबाद - सिकंदराबाद
 - 2. मुंबई - पुणे
 - 3. चंडीगढ़ - मोहाली
 - 4. दिल्ली - एनसीआर

Question ID : 5096476505
Status : Answered
Chosen Option : 4

Q.10 निम्नलिखित में से किस राज्य में विधान सभा सीटें सबसे अधिक हैं?

- Ans
- 1. हरियाणा
 - 2. आंध्र प्रदेश
 - 3. अरुणाचल प्रदेश

✗ 4. छत्तीसगढ़

Question ID : 5096476517
Status : Answered
Chosen Option : 2

Q.11 भारत के पहले आर्टिफिशियल इंटेलिजेंस (AI) केंद्र का उद्घाटन किस शहर में हुआ था?

- Ans
- ✗ 1. जम्मू
 - ✓ 2. मुंबई
 - ✗ 3. बेंगलुरु
 - ✗ 4. चंडीगढ़

Question ID : 5096476509
Status : Answered
Chosen Option : 2

Q.12 निम्नलिखित में से किसने 2018 यूएस ओपन टेनिस टूर्नामेंट में पुरुष एकल खिताब जीता?

- Ans
- ✗ 1. जॉन इस्नर
 - ✗ 2. रोजर फेडरर
 - ✗ 3. केविन एंडरसन
 - ✓ 4. नोवाक जोकोविच

Question ID : 5096476510
Status : Answered
Chosen Option : 2

Q.13 भारतीय संविधान का कौन सा अनुच्छेद, उपराष्ट्रपति के चुनाव का प्रावधान प्रदान करता है?

- Ans
- ✗ 1. अनुच्छेद 78
 - ✗ 2. अनुच्छेद 97
 - ✓ 3. अनुच्छेद 66
 - ✗ 4. अनुच्छेद 89

Question ID : 5096476518
Status : Answered
Chosen Option : 3

Q.14 _____, _____ को भंग कर सकते हैं।

- Ans
- ✗ 1. राष्ट्रपति; राज्यसभा
 - ✓ 2. राष्ट्रपति; लोकसभा
 - ✗ 3. उपराष्ट्रपति; लोकसभा
 - ✗ 4. उपराष्ट्रपति; राज्यसभा

Question ID : 5096476519
Status : Answered

Chosen Option : 4

Q.15 तुइरियल हाइड्रो इलेक्ट्रिक पावर प्रोजेक्ट इनमें किस राज्य में स्थित है?

- Ans
- 1. नागालैंड
 - 2. मिज़ोरम
 - 3. त्रिपुरा
 - 4. सिक्किम

Question ID : 5096476507

Status : Answered

Chosen Option : 3

Q.16 भारत के स्वतंत्रता आंदोलन के किस नेता को 'गैंड ओल्ड मैन ऑफ इंडिया' कहा जाता था?

- Ans
- 1. दादा भाई नौरोजी
 - 2. मौलाना अबुल कलाम आज़ाद
 - 3. लाला लाजपत राय
 - 4. बाल गंगाधर तिलक

Question ID : 5096476515

Status : Answered

Chosen Option : 1

Q.17 यदि किसी वाहन का दूरी-समय ग्राफ क्षैतिज अक्ष के समानांतर है, तो वाहन _____ पर आगे बढ़ रहा है।

- Ans
- 1. 100 km/h
 - 2. 10 km/h
 - 3. 20 km/h
 - 4. 0 km/h

Question ID : 5096476525

Status : Answered

Chosen Option : 4

Q.18 निम्नलिखित में से किस राज्य सरकार ने "ग्रीन महानदी मिशन" लॉन्च किया है?

- Ans
- 1. तेलंगाना
 - 2. ओडिशा
 - 3. आंध्र प्रदेश
 - 4. कर्नाटक

Question ID : 5096476524

Status : Answered

Chosen Option : 2

Q.19 पैठण (जायकवाड़ी) जलविद्युत परियोजना इनमें से किस नदी पर स्थित है?

- Ans
- 1. कोयना
 - 2. गोदावरी

6/20/2019

https://cdn.digialm.com///per/g01/pub/1258/touchstone/AssessmentQPHTMLMode1//1258O19106/1258O19106S7D713/156048936...

3. भीमा
 4. यमुना

Question ID : 5096476529
Status : Answered
Chosen Option : 3

Q.20 फतवा-ए-आलमगिरी, मुस्लिम कानूनों का एक संग्रह, निम्नलिखित में से किस राजा के शासनकाल में लिखा गया था?

- Ans 1. नादिर शाह
 2. फ़िरोज़ शाह तुगलक
 3. औरंगजेब
 4. टीपू सुल्तान

Question ID : 5096476513
Status : Answered
Chosen Option : 3

Q.21 बॉर्डर हाट्स पर भारत-बांग्लादेश संयुक्त समिति की पहली बैठक कहाँ आयोजित की गई थी?

- Ans 1. दिसपुर
 2. अगरतला
 3. ढाका
 4. कोहिमा

Question ID : 5096476523
Status : Answered
Chosen Option : 3

Q.22 इनमें से किसके नाम पर भारत सरकार ने राष्ट्रीय एकीकरण को आगे बढ़ाने के क्षेत्र में उत्कृष्ट प्रयासों के लिए हर साल एक नया पुरस्कार देने की घोषणा की है?

- Ans 1. वल्लभभाई पटेल
 2. दीन दयाल उपाध्याय
 3. महात्मा गांधी
 4. अटल बिहारी वाजपेयी

Question ID : 5096476504
Status : Answered
Chosen Option : 2

Q.23 निम्नलिखित में से किस शहर को 'सिल्क सिटी' के नाम से भी जाना जाता है?

- Ans 1. आसनसोल
 2. कानपुर
 3. भागलपुर
 4. रांची

Question ID : 5096476530
Status : Answered

Chosen Option : 1

Q.24 इनमें से किस राज्य सरकार ने राज्य में हरित आवरण बढ़ाने के लिए एक अनूठा कार्यक्रम 'पौधगिरी अभियान' शुरू किया है?

- Ans
- 1. हरियाणा
 - 2. उत्तर प्रदेश
 - 3. बिहार
 - 4. पंजाब

Question ID : 5096476521
Status : Answered
Chosen Option : 1

Q.25 निम्नलिखित कथनों में से कौन सा कथन सही है?

- Ans
- 1. भारतीय संघ की कार्यकारी शक्ति भारत के गृह मंत्री के पास होती है।
 - 2. भारतीय संघ की कार्यकारी शक्ति भारत के राष्ट्रपति के पास होती है।
 - 3. भारतीय संघ की कार्यकारी शक्ति भारत के मुख्य न्यायाधीश के पास होती है।
 - 4. भारतीय संघ की कार्यकारी शक्ति राज्यसभा के सभापति के पास होती है।

Question ID : 5096476520
Status : Answered
Chosen Option : 2

Q.26 निम्नलिखित में से कौन हाल ही में भारत द्वारा शुरू किए गए अंतर्राष्ट्रीय सौर गठबंधन (ISA) में शामिल हो गया है, और इस कारण यह आईएसए के ढांचे के समझौते का 68वां हस्ताक्षर बन गया है?

- Ans
- 1. पाकिस्तान
 - 2. भूटान
 - 3. केन्या
 - 4. म्यांमार

Question ID : 5096476522
Status : Answered
Chosen Option : 4

Q.27 तीसरी शताब्दी में वाकाटक वंश के संस्थापक कौन था?

- Ans
- 1. नागभट्ट
 - 2. प्रवरसेन
 - 3. विन्ध्यशक्ति
 - 4. रुद्रसेन

Question ID : 5096476512
Status : Answered
Chosen Option : 2

6/20/2019

https://cdn.digialm.com///per/g01/pub/1258/touchstone/AssessmentQPHTMLMode1//1258O19106/1258O19106S7D713/156048936...

Q.28 निम्नलिखित में से कौन सा खेल 'मुरुगप्पा गोल्ड कप' से संबंधित है?

- Ans
- 1. क्रिकेट
 - 2. बैडमिंटन
 - 3. कबड्डी
 - 4. हॉकी

Question ID : 5096476511
Status : Answered
Chosen Option : 4

Q.29 कोशिका का केंद्रक एक जेली जैसे पदार्थ से घिरा होता है। इस पदार्थ को निम्नलिखित किस नाम से जाना जाता है?

- Ans
- 1. डेल्टाईड
 - 2. स्टोमेटा
 - 3. साइटोप्लाज्म
 - 4. कोशिका झिल्ली

Question ID : 5096476526
Status : Answered
Chosen Option : 3

Q.30 मोसुल शहर जो जून 2017 में ISIS के कब्जे से मुक्त हुआ था, वह इनमें से किस स्थान पर स्थित है?

- Ans
- 1. सऊदी अरब
 - 2. संयुक्त अरब अमीरात
 - 3. इराक
 - 4. ईरान

Question ID : 5096476506
Status : Answered
Chosen Option : 3

Section : General Aptitude

Q.1 $(27)^{43} + (24)^{25} - (23)^{34}$ को हल करने पर इसके इकाई स्थान पर आने वाले अंक का मान निम्नलिखित में से किसके बराबर है?

- Ans
- 1. 4
 - 2. 6
 - 3. 8
 - 4. 2

Question ID : 5096476550
Status : Answered
Chosen Option : 2

Q.2 निम्नलिखित में से उस संख्या जोड़ी का चयन करें जो कुछ मायनों में बाकी सबसे अलग है।

- Ans
- 1. 42 : 48
 - 2. 91 : 104

6/20/2019

https://cdn.digialm.com///per/g01/pub/1258/touchstone/AssessmentQPHTMLMode1//1258O19106/1258O19106S7D713/156048936...

- ✓ 3. 51 : 85
✗ 4. 98 : 112

Question ID : 5096476546
Status : Answered
Chosen Option : 3

Q.3 Arrange the following words in a meaningful order.

Distribution	Printing	Drafting	Binding
1	2	3	4

- Ans ✓ 1. 3, 2, 4, 1
✗ 2. 1, 2, 4, 3
✗ 3. 2, 4, 1, 3
✗ 4. 4, 2, 1, 3

Question ID : 5096476536
Status : Answered
Chosen Option : 1

Q.4 संख्या 586x32 में, 'x' को निम्नलिखित में से किस अंक के साथ बदलने पर पूरी संख्या 11 द्वारा विभाज्य होगी?

- Ans ✗ 1. 3
✓ 2. 4
✗ 3. 2
✗ 4. 1

Question ID : 5096476556
Status : Answered
Chosen Option : 2

Q.5 यहाँ एक कथन दिया गया है जिसके बाद तीन कार्रवाई दी गई हैं। कथन को सत्य मानते हुए, निर्णय लें कि कौन सी कार्रवाई ताकिक रूप से कथन का अनुसरण करती है/हैं।

कथन :

रुका हुआ जल डेगू का एक प्रमुख कारण है।

कार्रवाई :

- लोगों को बारिश के मौसम में अपने घरों से बाहर निकलना बंद कर देना चाहिए।
- लोगों को प्रजनन वाले मैदान से गुजरने से बचना चाहिए।
- सरकार को ड्रेनेज सिस्टम को बेहतर बनाने की दिशा में काम करना चाहिए।

- Ans ✓ 1. केवल I और III अनुसरण करते हैं।
✗ 2. केवल II अनुसरण करता है।
✗ 3. केवल I और II अनुसरण करते हैं।
✗ 4. केवल I अनुसरण करता है।

Question ID : 5096476543
Status : Answered
Chosen Option : 2

6/20/2019

https://cdn.digialm.com//per/g01/pub/1258/touchstone/AssessmentQPHTMLMode1//1258O19106/1258O19106S7D713/156048936...

Q.6 $2.\bar{2} + 0.3\bar{69} - 2.3\bar{9}$ का मान निम्नलिखित में से किसके बराबर है?

- Ans
- 1. $0.\bar{29}$
 - 2. $0.1\bar{64}$
 - 3. $0.\bar{19}$
 - 4. $0.1\bar{94}$

Question ID : 5096476552
Status : Answered
Chosen Option : 3

Q.7 एक कार्य को करने में A, B और C की क्षमता 3 : 5 : 7 के अनुपात में हैं। एक साथ काम करते हुए, वे 35 घंटे में एक काम पूरा कर सकते हैं। C अकेले उस काम का 32% हिस्सा कुल कितने घंटों में पूरा कर सकता है?

- Ans
- 1. 28
 - 2. 24
 - 3. 25
 - 4. 30

Question ID : 5096476562
Status : Answered
Chosen Option : 1

Q.8 एक सांकेतिक भाषा में TREMOR को SQFLPQ लिखा जाता है, तो उसी भाषा में FATHER को किस प्रकार लिखा जाएगा?

- Ans
- 1. DCRJCT
 - 2. GZSGDS
 - 3. GBUIFS
 - 4. EBSGFQ

Question ID : 5096476533
Status : Answered
Chosen Option : 4

Q.9 एक व्यक्ति अपनी 60 km की दूरी 45 km/h की गति से, 96 km की दूरी 36 km/h की गति से और 44 km की दूरी x km/h की गति से तय करता है। अगर उसकी पूरी यात्रा की औसत गति 37.5 km/h है, तो x का मान कितना होगा?

- Ans
- 1. 30
 - 2. 35
 - 3. 33
 - 4. 28

Question ID : 5096476561
Status : Answered
Chosen Option : 2

Q.10 निम्नलिखित में उस सबसे छोटी संख्या के अंकों का योग कितना है जिसे 12, 18 और 40 से विभाजित करने पर हर बार 9 शेषफल आता है और वह संख्या 23 द्वारा विभाज्य है?

- Ans
- 1. 17
 - 2. 16
 - 3. 15
 - 4. 18

Question ID : 5096476554
Status : Answered
Chosen Option : 4

Q.11 4800×7^3 के समगुणजों की कुल संख्या कितनी है?

- Ans
- 1. 36
 - 2. 72
 - 3. 168
 - 4. 144

Question ID : 5096476553
Status : Answered
Chosen Option : 4

Q.12 एक सांकेतिक भाषा में NOVEMBER को ERMBVENO लिखा जाता है, तो उसी भाषा में DECEMBER को किस प्रकार लिखा जाएगा?

- Ans
- 1. ERMBECDE
 - 2. ERMCBEDE
 - 3. ERMECBDE
 - 4. ERMBCEDE

Question ID : 5096476544
Status : Answered
Chosen Option : 4

Q.13 नीचे दिए गए तीन समीकरणों में से, पहले दो को एक निश्चित प्रणाली के आधार पर हल किया गया है। उसी आधार पर तीसरे समीकरण का सही उत्तर क्या होगा?

$$6 + 2 = 32, 4 + 1 = 15, 7 + 3 = ?$$

- Ans
- 1. 40
 - 2. 54
 - 3. 36
 - 4. 25

Question ID : 5096476542
Status : Answered
Chosen Option : 2

Q.14 दो बर्तनों A और B में अम्ल और जल का अनुपात क्रमशः 4 : 5 और 11 : 7 है। उनकी सामग्री को 5 : 6 के अनुपात में मिलाया जाता है। इस मिश्रण के 198 mL घोल को 50% एसिड वाला घोल बनाने के लिए इसमें कुल कितनी मात्रा में जल मिलाना होगा?

- Ans
- 1. 21 mL
 - 2. 7 mL
 - 3. 28 mL
 - 4. 14 mL

Question ID : 5096476560
Status : Answered
Chosen Option : 3

Q.15

6/20/2019

https://cdn.digialm.com///per/g01/pub/1258/touchstone/AssessmentQPHTMLMode1//1258O19106/1258O19106S7D713/156048936...

वर्ष 2007 का कैलेंडर निम्नलिखित में से किस वर्ष के कैलेंडर के समान होगा?

- Ans
- ✓ 1. 2018
 - ✗ 2. 2014
 - ✗ 3. 2017
 - ✗ 4. 2015

Question ID : 5096476538
Status : Answered
Chosen Option : 1

Q.16 अगर '+' का अर्थ 'घटाव', '-' का अर्थ 'गुणा', '÷' का अर्थ 'जोड़', और 'x' का अर्थ 'विभाजन' है, तो निम्नलिखित समीकरण का समाधान क्या होगा?

$$15 \times 3 - 2 + 6 \div 3$$

- Ans
- ✗ 1. 10
 - ✗ 2. 8
 - ✗ 3. 5
 - ✓ 4. 7

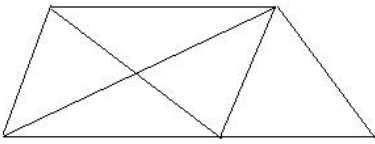
Question ID : 5096476534
Status : Answered
Chosen Option : 4

Q.17 80 छात्रों की एक कक्षा में 35% लड़कियां हैं और बाकी लड़के हैं। लड़कियों के औसत अंक 75 और लड़कों के औसत अंक 65 हैं। पूरी कक्षा का औसत अंक कितना है?

- Ans
- ✗ 1. 69.5
 - ✗ 2. 67.5
 - ✗ 3. 70.5
 - ✓ 4. 68.5

Question ID : 5096476558
Status : Answered
Chosen Option : 2

Q.18 दिए गए आरेख में त्रिकोणों की संख्या की गणना करें और सही विकल्प का चयन करें।



- Ans
- ✗ 1. 8
 - ✗ 2. 5
 - ✓ 3. 10
 - ✗ 4. 6

Question ID : 5096476537
Status : Answered
Chosen Option : 3

Q.19 2 वर्षों के लिए प्रति वर्ष 8% की ब्याज दर पर एक निश्चित धनराशि के चक्रवृद्धि ब्याज और साधारण ब्याज के बीच का अंतर ₹ 512 है। वह धनराशि रुपयों में कितनी है?

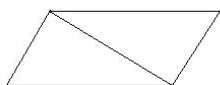
6/20/2019

https://cdn.digialm.com//per/g01/pub/1258/touchstone/AssessmentQPHTMLMode1//1258O19106/1258O19106S7D713/156048936...

- Ans
- 1. ₹ 60,000
 - 2. ₹ 80,000
 - 3. ₹ 70,000
 - 4. ₹ 90,000

Question ID : 5096476557
Status : Answered
Chosen Option : 2

Q.20 अगर दर्पण को निम्नलिखित चित्र के दाईं ओर रखा जाता है, तो इस चित्र की सही मिरर इमेज (दर्पण की छवि) निम्नलिखित में से कौन होगी?



Ans

- 1.
- 2.
- 3.
- 4.

Question ID : 5096476540
Status : Answered
Chosen Option : 2

Q.21 90 छात्रों की एक कक्षा में, 60% लड़के हैं और बाकी लड़कियां हैं। लड़कों का औसत वजन 63 kg है और लड़कियों का वजन 54 kg है। पूरी कक्षा का औसत भार कितना है?

- Ans
- 1. 59.4 kg
 - 2. 56.8 kg
 - 3. 58.2 kg
 - 4. 58.5 kg

Question ID : 5096476559
Status : Answered
Chosen Option : 1

Q.22 अगर दर्पण को निम्नलिखित शब्द के दाईं ओर रखा जाता है, तो इस शब्द की सही मिरर इमेज (दर्पण की छवि) निम्नलिखित में से कौन होगी?

W7SM9TF8P

- Ans
- 1. W7SM9TF8P

6/20/2019

https://cdn.digialm.com///per/g01/pub/1258/touchstone/AssessmentQPHTMLMode1//1258O19106/1258O19106S7D713/156048936...

✓ 2. W2MTE8P

✗ 3. ML2W9TE8P

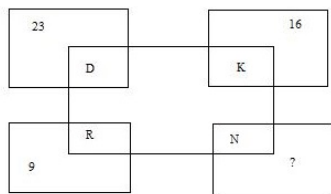
✗ 4. M7SW6TE8P

Question ID : 5096476547

Status : Answered

Chosen Option : 2

Q.23 इस पैटर्न को ध्यान से देखें और इसमें प्रश्न चिह्न (?) के स्थान पर आने वाली संख्या का पता लगाएँ।



Ans ✗ 1. 15

✗ 2. 11

✓ 3. 13

✗ 4. 20

Question ID : 5096476539

Status : Answered

Chosen Option : 1

Q.24 निम्नलिखित में से वह सबसे छोटी संख्या कौन सी है जिसके अंकों के योग को एक पूर्ण वर्ग बनाने के लिए उसमें 828362 में जोड़ा जाना चाहिए?

Ans ✗ 1. 18

✗ 2. 15

✓ 3. 20

✗ 4. 16

Question ID : 5096476548

Status : Answered

Chosen Option : 4

Q.25 निम्नलिखित श्रृंखला में प्रश्न चिह्न (?) के स्थान पर आने वाले विकल्प का पता लगाएँ।

JFX, MEU, PDR, ?

Ans ✗ 1. QPD

✓ 2. SCO

✗ 3. OCS

✗ 4. RBQ

Question ID : 5096476535

Status : Answered

Chosen Option : 2

Q.26 यदि 15 अगस्त 2017 को मंगलवार था, तो उस वर्ष बाल दिवस किस दिन मनाया गया था?

Ans

6/20/2019

https://cdn.digialm.com///per/g01/pub/1258/touchstone/AssessmentQPHTMLMode1//1258O19106/1258O19106S7D713/156048936...

1. गुरुवार
2. मंगलवार
3. बुधवार
4. रविवार

Question ID : 5096476545
Status : Answered
Chosen Option : 2

Q.27 7 अंकों की संख्या $8772x44$ में, 'x' का मान निम्नलिखित में से क्या होगा जिसके बदलने पर पूरी संख्या 44 द्वारा विभाज्य होगी?

- Ans 1. 4
2. 5
3. 8
4. 6

Question ID : 5096476555
Status : Answered
Chosen Option : 2

Q.28 $\frac{1}{5 \times 8} + \frac{1}{8 \times 11} + \frac{1}{11 \times 14} + \dots$ के प्रथम 15 अंकों का योगफल कितना होगा?

- Ans 1. $\frac{3}{50}$
2. $\frac{16}{265}$
3. $\frac{14}{235}$
4. $\frac{9}{50}$

Question ID : 5096476549
Status : Answered
Chosen Option : 3

Q.29 अगर $\sqrt{73 - 40\sqrt{3}} = a + b\sqrt{3}$ हो, तो $(3a + 2b)$ का मान निम्नलिखित में से किसके बराबर है?

- Ans 1. -2
2. 7
3. 2
4. -7

Question ID : 5096476551
Status : Answered
Chosen Option : 3

Q.30 निम्नलिखित में से उस विकल्प का चयन करें जो तीसरी संख्या से ठीक उसी प्रकार संबंधित है, जिस प्रकार दूसरी संख्या पहली संख्या से संबंधित है।

141 : 12 :: 222 : ?

- Ans 1. 18

6/20/2019

https://cdn.digialm.com///per/g01/pub/1258/touchstone/AssessmentQPHTMLMode1//1258O19106/1258O19106S7D713/156048936...

- ✓ 2. 15
 ✗ 3. 14
 ✗ 4. 11

Question ID : 5096476541
 Status : Answered
 Chosen Option : 2

Section : Teaching Aptitude

Q.1 फ्रॉयड के मनो-यौनिक विकास के सिद्धांत के अनुसार 3 से 6 वर्ष तक की आयु क्या कहलाती है:

- Ans ✗ 1. जननांग अवस्था
 ✗ 2. मौखिक अवस्था
 ✗ 3. कामप्रसुप्ति अवस्था
 ✓ 4. शिशु अवस्था

Question ID : 5096476564
 Status : Answered
 Chosen Option : 4

Q.2 एनसीईएफ 2005 के अनुसार, अपनी भाषा में पठन विफलता, निम्न में से किसे विपरीत प्रभावित करती है:

- Ans ✗ 1. पठन के प्रति दृष्टिकोण
 ✗ 2. विद्यार्थियों का ज्ञान
 ✓ 3. द्वितीय भाषा पठन
 ✗ 4. पठन कौशल

Question ID : 5096476579
 Status : Answered
 Chosen Option : 3

Q.3 प्राथमिक कक्षाओं 1 और 2 के लिए, प्राकृतिक और सामाजिक पर्यावरण को निम्न में से किसके अभिन्न अंगों के रूप में वर्णित किया जाता है:

- Ans ✗ 1. भाषा एवं सामाजिक अध्ययन
 ✗ 2. भाषा एवं विज्ञान
 ✗ 3. भाषा एवं गणित
 ✓ 4. विज्ञान एवं सामाजिक अध्ययन

Question ID : 5096476577
 Status : Answered
 Chosen Option : 4

Q.4 'भाषा के माध्यम से शिक्षण' में, भाषा की सहायता से शिक्षण किया जाता है। इसमें भाषा को इस रूप में उपयोग किया जाता है:

- Ans ✗ 1. स्मृतिकरण का माध्यम
 ✓ 2. अनुदेशों का माध्यम
 ✗ 3. शिक्षण रणनीति

✗ 4. शिक्षण लक्ष्य

Question ID : 5096476570
Status : Answered
Chosen Option : 3

Q.5 स्कूल में कला और शिल्पों के शिक्षण में वांछित _____ विकसित करने की बहुत संभावना है।

- Ans
- ✗ 1. समस्त विद्यार्थियों में दृष्टिकोण और मूल्य
 - ✓ 2. समस्त विद्यार्थियों के लिए शिक्षण अनुभव
 - ✗ 3. विषयगत क्षेत्रों में विशेषज्ञता या निपुणता
 - ✗ 4. समस्त विषयों के शिक्षण परिणाम

Question ID : 5096476582
Status : Answered
Chosen Option : 4

Q.6 Which of the following is an attitude-based objective in social science?

- Ans
- ✓ 1. To develop faith in democracy
 - ✗ 2. To acquire knowledge of the continents
 - ✗ 3. To understand the process of forming a government
 - ✗ 4. To develop the ability to draw a map

Question ID : 5096476578
Status : Answered
Chosen Option : 1

Q.7 Praising a toddler's skills while building blocks, counting together, the cars on the road, talking about a sibling's temper tantrum or a situation of classroom conflict between children, and, experiences in a classroom, contribute to which of these developments?

- Ans
- ✗ 1. Fine motor
 - ✗ 2. Gross motor
 - ✗ 3. Language
 - ✓ 4. Cognitive

Question ID : 5096476563
Status : Answered
Chosen Option : 4

Q.8 कक्षा में, दायें मस्तिष्क वाले विचारक निम्न पसंद करते हैं:

- Ans
- ✗ 1. अपने अनुभवों के बजाय तथ्यों को जानना
 - ✓ 2. बहुत रचनात्मक और सहजज्ञानी होना
 - ✗ 3. नियम और रूपरेखाएं होना
 - ✗ 4. सहजज्ञान के बजाय तार्किकता

Question ID : 5096476568
Status : Answered
Chosen Option : 4

Q.9 2006 में अंग्रेजी शिक्षण पर राष्ट्रीय फोकस समूह द्वारा प्रकाशित स्थिति-पत्र के अनुसार, निम्न में से कौन सर्वाधिक उपेक्षित संसाधन है?

- Ans
- 1. पाठ्यपुस्तकें
 - 2. खेल के मैदान
 - 3. मूल सामग्रियां
 - 4. वीडियो

Question ID : 5096476580
Status : Answered
Chosen Option : 3

Q.10 शिक्षा नीति 1986 के अनुसार, शिक्षा के क्षेत्र में विकास हेतु अनुसंधान निम्न पर केंद्रित होंगे:

- Ans
- 1. स्कूली शिक्षा के लिए नई सामग्री का विकास
 - 2. आरंभिक शिक्षा के लिए नई अवसंरचना का विकास
 - 3. उच्चतर शिक्षा के लिए नए संसाधनों का विकास
 - 4. नई स्वदेशी तकनीकों का विकास

Question ID : 5096476566
Status : Answered
Chosen Option : 2

Q.11 2009 में यूनेस्को (UNESCO) की रिपोर्ट के अनुसार निम्न के लिए अच्छी गुणवत्ता की शिक्षा हेतु पूर्ण और समान पहुंच पर ध्यान केंद्रित करना सुनिश्चित करते हुए स्कूलों में लैंगिक समानता प्राप्त की जा सकती है:

- Ans
- 1. लड़कियों
 - 2. भारत के समस्त नागरिकों
 - 3. लड़कों और लड़कियों दोनों
 - 4. लड़कों

Question ID : 5096476575
Status : Answered
Chosen Option : 3

Q.12 Which of the following is a laboratory method in mathematics instruction?

- Ans
- 1. Inductive method
 - 2. Computation
 - 3. Making models
 - 4. Problem solving

Question ID : 5096476576
Status : Answered
Chosen Option : 3

Q.13 बंगाल में शिक्षा की स्थिति पर रिपोर्ट (1836) में विलियम एडम ने कहा, पढ़ना-लिखना सीखने वाली लड़की विवाह के बाद जल्दी ही विधवा हो जाएगी, यह अधिकतर निम्न के बीच फैला हुआ अंधविश्वास था:

- Ans
- 1. ईसाई परिवारों

2. मुस्लिम परिवारों

3. हिंदू परिवारों

4. सिख परिवारों

Question ID : 5096476574
Status : Answered
Chosen Option : 2

Q.14 भारतीय शिक्षा प्रणाली में गणित और विज्ञान की तुलना में सामाजिक अध्ययन अनुदेशों का एक महत्वपूर्ण दोष यह है कि:

Ans 1.

अनुदेशों के लिए शिक्षक उपयुक्त भाषा का उपयोग नहीं करते

2. पाठ का कोई दृश्यात्मक निरूपण नहीं होता

3. विद्यार्थियों के समझने के लिए अवधारणाएं नहीं होतीं

4.

पाठ्य अनुच्छेद बहुत लंबे, और अमूर्त अवधारणाओं से भरे होते हैं

Question ID : 5096476571
Status : Answered
Chosen Option : 2

Q.15 निम्न में से कौन, बाल विकास परिणामों को सीधे प्रभावित नहीं करता?

Ans 1. स्कूल के समुदाय व परिवार द्वारा प्रयुक्त भाषा

2. बच्चे के लिए परिवार द्वारा प्रदत्त अनुभव

3. परिवार में अभिभावक और बच्चे के बीच व्यवहार

4.

बच्चे के स्कूल और परिवार द्वारा उसके स्वास्थ्य और सुरक्षा का ध्यान रखा जाना

Question ID : 5096476565
Status : Answered
Chosen Option : 1

Q.16 X, मानचित्रों और स्पाइडर आरेखों में सूचना निरूपित करना पसंद करता है जबकि Y, व्याख्यानों, समूह चर्चाओं, रेडियो इत्यादि के माध्यम से शिक्षण अधिक पसंद करता है। व्यक्ति द्वारा किसी कार्य या शिक्षण स्थिति हेतु यह पसंदीदा प्रकार _____ कहलाता है:

Ans 1. पसंदीदा सामग्री

2. शिक्षण शैली

3. पसंदीदा कार्य

4. शिक्षण योग्यता

Question ID : 5096476569
Status : Answered
Chosen Option : 4

Q.17 राष्ट्रीय पाठ्यचर्या रूपरेखा (एनसीएफ) 2005 के अनुसार, निम्न में से किन पाठ्यचर्या क्षेत्रों में प्रतिदिन शिक्षण समय की आवश्यकता होती है?

Ans 1. भाषा एवं विज्ञान

6/20/2019

https://cdn.digialm.com///per/g01/pub/1258/touchstone/AssessmentQPHTMLMode1//1258O19106/1258O19106S7D713/156048936...

- ✓ 2. भाषा एवं गणित
- ✗ 3. विज्ञान एवं गणित
- ✗ 4. विज्ञान एवं सामाजिक अध्ययन

Question ID : 5096476572
Status : Answered
Chosen Option : 2

Q.18 An important objective of the ancient educational system was:

- Ans ✗ 1. to facilitate learning of a particular sect of people
- ✓ 2. to preserve and transmit ancient Indian culture
- ✗ 3. to facilitate learning through meditation and yoga
- ✗ 4. to preserve Vedas from foreign invaders

Question ID : 5096476567
Status : Answered
Chosen Option : 2

Q.19 According to NCERT, art in a primary school is a/an:

- Ans ✗ 1. co-curricular area
- ✗ 2. extra-curricular area
- ✗ 3. curricular area
- ✓ 4. co-scholastic area

Question ID : 5096476581
Status : Answered
Chosen Option : 4

Q.20 एनसीएफ, 2005 के अनुसार, सामाजिक विज्ञानों के शिक्षण में किन प्रमुख राष्ट्रीय सरोकारों पर बात किया जाना चाहिए?

- Ans ✗ 1. पानी की कमी
- ✗ 2. निर्धनता
- ✓ 3. लैंगिक भेदभाव
- ✗ 4. आतंकवाद

Question ID : 5096476573
Status : Answered
Chosen Option : 3

Section : Concerned Subject Knowledge

Q.1 निम्न में कौन सा शब्द योगरूढ़ है?

- Ans ✗ 1. दूधवाला
- ✓ 2. चक्रपाणि
- ✗ 3. कान
- ✗ 4. घुड़सवार

Question ID : 5096476626

Status : Answered
Chosen Option : 2

Q.2 'प्रत्यंग' में कौन सा समास है?

- Ans
- 1. तत्पुरुष
 - 2. बहुब्रीहि
 - 3. अव्ययी भाव
 - 4. कर्मधारय

Question ID : 5096476629
Status : Answered
Chosen Option : 3

Q.3 'तंत्रीनाद कवित्त रस, सरस राग रति रंग' पंक्ति के रचयिता कौन हैं?

- Ans
- 1. बिहारी
 - 2. भूषण
 - 3. केशव
 - 4. घनानन्द

Question ID : 5096476624
Status : Answered
Chosen Option : 1

Q.4 माधुर्य गुण की किस रस में स्थिति होगी?

- Ans
- 1. करुण - रौद्र
 - 2. शृंगार - वीर
 - 3. शृंगार - करुण
 - 4. शांत - वीर

Question ID : 5096476634
Status : Answered
Chosen Option : 3

Q.5 'हिंदुस्तानी साहित्य का इतिहास' लिखने वाले गार्सा द तासी किसके विद्वान थे?

- Ans
- 1. जर्मन
 - 2. अंग्रेजी
 - 3. स्पेनिश
 - 4. फ्रांसीसी

Question ID : 5096476598
Status : Answered
Chosen Option : 4

Q.6 निम्न में कौन सा सही सुमेलित नहीं है?

Ans

1. भारतेन्दु हरिश्चंद्र - ब्रजरत्न दास
2. प्रेमचन्द घर में - शिवरानी देवी
3. आवारा मसीहा - रामवृक्ष बेनीपुरी
4. कलम का सिपाही - अमृत राय

Question ID : 5096476616
Status : Answered
Chosen Option : 3

Q.7 रीतिकाल को 'अलंकृत काल' किसने कहा है?

- Ans 1. विश्वनाथ प्रसाद मिश्र
2. रामचन्द्र शुक्ल
3. मिश्र बंधु
4. शिव सिंह सेंगर

Question ID : 5096476593
Status : Answered
Chosen Option : 3

Q.8 'गोस्वामी के प्रादुर्भाव को हिन्दी काव्य के क्षेत्र में एक चमत्कार समझना चाहिए।' यह कथन किस आलोचक का है?

- Ans 1. रामविलास शर्मा
2. रामचन्द्र शुक्ल
3. महावीर प्रसाद द्विवेदी
4. हजारी प्रसाद द्विवेदी

Question ID : 5096476590
Status : Answered
Chosen Option : 2

Q.9 सन् 1918 में प्रकाशित जयशंकर प्रसाद के काव्य संकलन 'झरना' में कितनी कविताएँ थीं?

- Ans 1. 33
2. 22
3. 24
4. 18

Question ID : 5096476602
Status : Answered
Chosen Option : 2

Q.10 'चीड़ों पर चाँदनी' किसका यात्रा वृत्तांत है?

- Ans 1. धर्मवीर भारती
2. निर्मल वर्मा
3. अज्ञेय

✗ 4. राहुल सांकृत्यायन

Question ID : 5096476638
Status : Answered
Chosen Option : 2

Q.11 'कस्तूरी कुंडल बसै' किसकी आत्मकथा है?

- Ans
- ✗ 1. कृष्ण सोबती
 - ✗ 2. मन्नू भण्डारी
 - ✗ 3. चित्रा मुद्गल
 - ✓ 4. मैत्रेयी पुष्पा

Question ID : 5096476615
Status : Answered
Chosen Option : 4

Q.12 निम्न में कौन सी रचना अज्ञेय की नहीं है?

- Ans
- ✓ 1. चाँद का मुँह टेढ़ा है
 - ✗ 2. हरी घास पर क्षण भर
 - ✗ 3. बावरा अहेरी
 - ✗ 4. आँगन के पार द्वार

Question ID : 5096476641
Status : Answered
Chosen Option : 1

Q.13 'नागरी नीरद' नामक पत्र कौन निकालता था?

- Ans
- ✓ 1. बदरी नारायण चौधरी
 - ✗ 2. प्रताप नारायण मिश्र
 - ✗ 3. बालकृष्ण भट्ट
 - ✗ 4. बालमुकुन्द गुप्त

Question ID : 5096476599
Status : Answered
Chosen Option : 1

Q.14 'भाषा हनुमन्नाटक' के रचयिता कौन हैं?

- Ans
- ✗ 1. तुलसीदास
 - ✗ 2. प्राणचन्द चौहान
 - ✓ 3. हृदयराम
 - ✗ 4. रामानन्द

Question ID : 5096476591
Status : Answered

Chosen Option : 3

Q.15 'वैदेही वनवास' के रचयिता कौन हैं?

- Ans
- 1. मैथिलीशरण गुप्त
 - 2. रामधारी सिंह दिनकर
 - 3. अयोध्या सिंह उपाध्याय 'हरिऔध'
 - 4. भारतेन्दु हरिश्चंद्र

Question ID : 5096476600

Status : Answered

Chosen Option : 3

Q.16 'चन्दन बाला रास' का रचयिता कौन है?

- Ans
- 1. आसगु
 - 2. जिनधर्म सूरि
 - 3. सुमति गणि
 - 4. शालिभद्र सूरि

Question ID : 5096476585

Status : Answered

Chosen Option : 1

Q.17 'कारवाँ' एकांकी के लेखक कौन हैं?

- Ans
- 1. भुवनेश्वर प्रसाद
 - 2. उदयशंकर भट्ट
 - 3. हरिकृष्ण प्रेमी
 - 4. रामकुमार वर्मा

Question ID : 5096476614

Status : Answered

Chosen Option : 1

Q.18 निम्न में कौन सा सुमेलित नहीं है?

- Ans
- 1. रसनिधि - रतन हजारा
 - 2. घनानन्द - इश्कनामा
 - 3. रसलीन - अंगदर्पण
 - 4. केशवदास - रतन बावनी

Question ID : 5096476595

Status : Answered

Chosen Option : 2

Q.19

‘नूतन ब्रह्मचारी’ उपन्यास के लेखक कौन हैं?

Ans

- 1. राधाकृष्ण दास
- 2. लज्जाराम मेहता
- 3. बालकृष्ण भट्ट
- 4. ठाकुर जगमोहन सिंह

Question ID : 5096476611
Status : Answered
Chosen Option : 3

Q.20 निम्न में कौन सा सुमेलित नहीं है?

Ans

- 1. आत्मने पद - अज्ञेय
- 2. प्रबंध प्रतिमा - जयशंकर प्रसाद
- 3. आस्था और सौंदर्य - रामविलास शर्मा
- 4. अर्द्ध नारीश्वर - रामधारी सिंह दिनकर

Question ID : 5096476608
Status : Answered
Chosen Option : 2

Q.21 रामविलास शर्मा और केदारनाथ अग्रवाल के बीच पत्र व्यवहार का संग्रह कौन सा है?

Ans

- 1. पत्र - संवाद
- 2. संवाद - मित्र
- 3. मित्र - संवाद
- 4. संवाद - पत्र

Question ID : 5096476617
Status : Answered
Chosen Option : 3

Q.22 निम्न में से कौन सा सही सुमेलित नहीं है?

Ans

- 1. बीसलदेव रासो - नरपति नाल्ह
- 2. जयचंद प्रकाश - मधुकर कवि
- 3. पृथ्वीराज रासो - चन्दबरदाई
- 4. खुमान रासो - दलपति विजय

Question ID : 5096476583
Status : Answered
Chosen Option : 2

Q.23 निम्न में कौन सा सुमेलित है?

Ans

- 1. सक्रिय कहानी - महीप सिंह

6/20/2019

https://cdn.digialm.com///per/g01/pub/1258/touchstone/AssessmentQPHTMLMode1//1258O19106/1258O19106S7D713/156048936...

- 2. समांतर कहानी - राकेश वत्स
- 3. सचेतन कहानी - कमलेश्वर
- 4. अकहानी - गंगा प्रसाद विमल

Question ID : 5096476637
Status : Answered
Chosen Option : 4

Q.24 'छप्पय' किन छंदों के मेल से बनता है?

- Ans
- 1. दोहा और उल्लाला
 - 2. रोला और उल्लाला
 - 3. रोला और दोहा
 - 4. दोहा और सोरठा

Question ID : 5096476636
Status : Answered
Chosen Option : 2

Q.25 'गिरा अर्थ, जल बीचि सम कहियत भिन्न, न भिन्न' पंक्ति किसके द्वारा लिखी गयी है?

- Ans
- 1. तुलसीदास
 - 2. बिहारी
 - 3. कबीरदास
 - 4. सूरदास

Question ID : 5096476623
Status : Answered
Chosen Option : 3

Q.26 निम्न में कौन सा सही सुमेलित नहीं है?

- Ans
- 1. नये साहित्य का सौंदर्य शास्त्र - मुक्तिबोध
 - 2. भारतीय संस्कृति और हिन्दी प्रदेश - रामधारी सिंह दिनकर
 - 3. आत्मने पद - अज्ञेय
 - 4. कविता के नये प्रतिमान - नामवर सिंह

Question ID : 5096476620
Status : Answered
Chosen Option : 2

Q.27 'ठेले पर हिमालय' किसकी रचना है?

- Ans
- 1. अज्ञेय
 - 2. राहुल सांकृत्यायन
 - 3. रामधारी सिंह दिनकर

6/20/2019

https://cdn.digialm.com///per/g01/pub/1258/touchstone/AssessmentQPHTMLMode1//1258O19106/1258O19106S7D713/156048936...

✓ 4. धर्मवीर भारती

Question ID : 5096476639
Status : Answered
Chosen Option : 4

Q.28 लोकनियम की अवहेलना से कौन सा काव्यदोष होता है?

- Ans
- ✗ 1. अप्रयुक्तत्व
 - ✗ 2. च्युत संस्कारत्व
 - ✓ 3. दुष्क्रमत्व
 - ✗ 4. ग्राम्यत्व

Question ID : 5096476635
Status : Answered
Chosen Option : 1

Q.29 'पलाश वन' किसका काव्य संकलन है?

- Ans
- ✗ 1. भवानी प्रसाद मिश्र
 - ✗ 2. गिरिजा कुमार माथुर
 - ✗ 3. नेमिचन्द्र जैन
 - ✓ 4. नरेंद्र शर्मा

Question ID : 5096476604
Status : Answered
Chosen Option : 4

Q.30 'जुलूस रुका है' रिपोर्ताज के लेखक कौन हैं?

- Ans
- ✓ 1. विवेकी राय
 - ✗ 2. रांगेय राघव
 - ✗ 3. फणीश्वरनाथ रेणु
 - ✗ 4. धर्मवीर भारती

Question ID : 5096476618
Status : Answered
Chosen Option : 1

Q.31 निम्न में कौन सी रचना नानक की नहीं है?

- Ans
- ✓ 1. अंगवधू
 - ✗ 2. रहिरास
 - ✗ 3. सोहिला
 - ✗ 4. असा दी वार

Question ID : 5096476586
Status : Answered
Chosen Option : 1

Q.32 'राग गोविंद' किसका ग्रंथ है?

- Ans
- 1. रसखान
 - 2. जयदेव
 - 3. सूरदास
 - 4. मीराबाई

Question ID : 5096476592
Status : Answered
Chosen Option : 1

Q.33 निम्न में से कौन सा सुमेलित नहीं है?

- Ans
- 1. मतिराम - रसराज
 - 2. पद्माकर - प्रबोध पचासा
 - 3. भूषण - अलंकार प्रकाश
 - 4. देव - कवित्त रत्नाकर

Question ID : 5096476594
Status : Answered
Chosen Option : 2

Q.34 'फैटसमाटा' का संबंध हिन्दी के किस काव्यान्दोलन से जोड़ा गया है?

- Ans
- 1. छायावाद
 - 2. प्रगतिवाद
 - 3. प्रयोगवाद
 - 4. नयी कविता

Question ID : 5096476601
Status : Answered
Chosen Option : 4

Q.35 निम्न में कौन सा सुमेलित नहीं है?

- Ans
- 1. ग्यारह वर्ष का समय - रामचन्द्र शुक्ल
 - 2. पंडित और पंडितानी - मास्टर भगवान दास
 - 3. इंदुमती - किशोरी लाल गोस्वामी
 - 4. दुलाईवाली - बंग महिला

Question ID : 5096476609
Status : Answered
Chosen Option : 2

Q.36 निम्न में कौन सा सही सुमेलित नहीं है?

- Ans
- 1. मादा कैक्टस - लक्ष्मीनारायण लाल

6/20/2019

https://cdn.digialm.com///per/g01/pub/1258/touchstone/AssessmentQPHTMLMode1//1258O19106/1258O19106S7D713/156048936...

- ✓ 2. माधवी - मोहन राकेश
 ✗ 3. रक्षाबंधन - हरिकृष्ण प्रेमी
 ✗ 4. द्रौपदी - सुरेन्द्र वर्मा

Question ID : 5096476613
 Status : Answered
 Chosen Option : 2

Q.37 अर्थ की दृष्टि से कौन सा वाक्य का प्रकार नहीं है?

- Ans ✗ 1. प्रश्नवाचक वाक्य
 ✗ 2. विधिवाचक वाक्य
 ✗ 3. निषेधवाचक वाक्य
 ✓ 4. संयुक्त वाक्य

Question ID : 5096476631
 Status : Answered
 Chosen Option : 4

Q.38 निम्न में कौन सा शब्द तत्सम नहीं है?

- Ans ✓ 1. कोयल
 ✗ 2. कंकण
 ✗ 3. कमल
 ✗ 4. कृष्ण

Question ID : 5096476642
 Status : Answered
 Chosen Option : 1

Q.39 'उत्तरी भारत की संत परंपरा' के लेखक कौन हैं?

- Ans ✗ 1. पीतांबर दत्त बड़थवाल
 ✗ 2. हजारी प्रसाद द्विवेदी
 ✓ 3. परशुराम चतुर्वेदी
 ✗ 4. रामस्वरूप चतुर्वेदी

Question ID : 5096476640
 Status : Answered
 Chosen Option : 3

Q.40 निम्न में कौन सा कहानी संग्रह जैनेन्द्र कुमार का नहीं है?

- Ans ✗ 1. नीलम देश की राजकन्या
 ✗ 2. पाजेब
 ✓ 3. फूलो का कुर्ता
 ✗ 4. फाँसी

Question ID : 5096476610
Status : Answered
Chosen Option : 3

Q.41 'सखी पिया को जो मैं न देखूँ तो कैसे काढूँ अँधेरी रतिया' पंक्ति किस कवि द्वारा रचित है?

- Ans
- 1. मुल्ला दाउद
 - 2. अब्दुल रहमान
 - 3. अमीर खुसरो
 - 4. विद्यापति

Question ID : 5096476584
Status : Answered
Chosen Option : 3

Q.42 रामचन्द्र शुक्ल ने किस पर स्वतंत्र रूप से आलोचना नहीं लिखी है?

- Ans
- 1. जायसी
 - 2. सूरदास
 - 3. कबीर
 - 4. तुलसीदास

Question ID : 5096476619
Status : Answered
Chosen Option : 2

Q.43 निम्न में कौन सा सुमेलित नहीं है?

- Ans
- 1. रौद्र रस - क्रोध
 - 2. शांत रस - निर्वेद
 - 3. भयानक रस - जुगुप्सा
 - 4. अद्भुत रस - विस्मय

Question ID : 5096476633
Status : Answered
Chosen Option : 3

Q.44 निम्न में कौन सी रचना सुमित्रानन्दन पंत की नहीं है?

- Ans
- 1. पल्लव
 - 2. सांध्यगीत
 - 3. युगवाणी
 - 4. गुंजन

Question ID : 5096476603
Status : Answered
Chosen Option : 2

6/20/2019

https://cdn.digialm.com///per/g01/pub/1258/touchstone/AssessmentQPHTMLMode1//1258O19106/1258O19106S7D713/156048936...

Q.45 'अति सूधो सनेह को मारग है' पंक्ति किस कवि द्वारा रचित है?

- Ans
- 1. मीराबाई
 - 2. बिहारी
 - 3. घनानन्द
 - 4. रसखान

Question ID : 5096476625
Status : Answered
Chosen Option : 3

Q.46 'पद्मावत' में मन का प्रतीक कौन है?

- Ans
- 1. सुवा
 - 2. नागमती
 - 3. राजा रत्नसेन
 - 4. पद्मावती

Question ID : 5096476588
Status : Answered
Chosen Option : 3

Q.47 निम्न में कौन सी रचना निराला की नहीं है?

- Ans
- 1. अनामिका
 - 2. झरना
 - 3. परिमल
 - 4. गीतिका

Question ID : 5096476622
Status : Answered
Chosen Option : 2

Q.48 'साहित्य सहचर' किसका निबंध संग्रह है?

- Ans
- 1. रामचन्द्र शुक्ल
 - 2. हजारी प्रसाद द्विवेदी
 - 3. डॉ. नगेंद्र
 - 4. नन्द दुलारे वाजपेयी

Question ID : 5096476607
Status : Answered
Chosen Option : 2

Q.49 इंशा अल्ला खाँ द्वारा रचित 'रानी केतकी की कहानी' का दूसरा नाम है-

- Ans
- 1. मलखान चरित
 - 2. सूर्यभान चरित

6/20/2019

https://cdn.digialm.com///per/g01/pub/1258/touchstone/AssessmentQPHTMLMode1//1258O19106/1258O19106S7D713/156048936...

- ✓ 3. उदयभान चरित
✗ 4. चंद्रभान चरित

Question ID : 5096476597
Status : Answered
Chosen Option : 3

Q.50 निम्न में कौन सा सही सुमेलित नहीं है?

- Ans
✗ 1. वैशाली की नगरवधू - चतुरसेन शास्त्री
✗ 2. लवंगलता - किशोरीलाल गोस्वामी
✗ 3. सुहाग के नूपुर - अमृतलाल नागर
✓ 4. अधखिला फूल - यशपाल

Question ID : 5096476612
Status : Answered
Chosen Option : 4

Q.51 'किसी न किसी तरह' में कौन सा पदबन्ध है?

- Ans
✓ 1. क्रिया-विशेषण पदबन्ध
✗ 2. विशेषण पदबन्ध
✗ 3. सर्वनाम पदबन्ध
✗ 4. संज्ञा पदबन्ध

Question ID : 5096476630
Status : Answered
Chosen Option : 1

Q.52 'संकल्प' में किस उपसर्ग का प्रयोग हुआ है?

- Ans
✗ 1. प
✓ 2. सम्
✗ 3. स
✗ 4. सन्

Question ID : 5096476628
Status : Answered
Chosen Option : 2

Q.53 'हंसावली' के रचयिता कौन हैं?

- Ans
✓ 1. असाइत
✗ 2. दामोदर
✗ 3. जटमल
✗ 4. जवाहिर

Question ID : 5096476587
Status : Answered

Chosen Option : 4

Q.54 गंग कवि द्वारा रचित 'चंद छंद बरनन की महिमा' पुस्तक की भाषा क्या थी?

- Ans
- 1. भोजपुरी
 - 2. ब्रज
 - 3. खड़ीबोली
 - 4. अवधी

Question ID : 5096476596
Status : Answered
Chosen Option : 3

Q.55 'मारेसि मोहि कुठाँव' निबंध के लेखक कौन हैं?

- Ans
- 1. बालकृष्ण भट्ट
 - 2. चन्द्रधर शर्मा गुलेरी
 - 3. भारतेन्दु हरिश्चंद्र
 - 4. बालमुकुन्द गुप्त

Question ID : 5096476606
Status : Answered
Chosen Option : 2

Q.56 निम्न में कौन सा नौका का पर्यायवाची नहीं है?

- Ans
- 1. तरी
 - 2. तरिणी
 - 3. तरंगिणी
 - 4. पतंग

Question ID : 5096476627
Status : Answered
Chosen Option : 4

Q.57 निम्न में से कौन तारसप्तक का कवि नहीं है?

- Ans
- 1. धर्मवीर भारती
 - 2. भारतभूषण अग्रवाल
 - 3. प्रभाकर माचवे
 - 4. रामविलास शर्मा

Question ID : 5096476605
Status : Answered
Chosen Option : 1

Q.58 निम्न में कौन सी रचना मैथिलीशरण गुप्त की नहीं है?

- Ans
- 1. पंचवटी

6/20/2019

<https://cdn.digialm.com///per/g01/pub/1258/touchstone/AssessmentQPHTMLMode1//1258O19106/1258O19106S7D713/156048936...>

✗ 2. यशोधरा

✓ 3. रेणुका

✗ 4. साकेत

Question ID : 5096476621

Status : Answered

Chosen Option : 3

Q.59 'अधोगति' का संधि-विच्छेद होगा-

Ans ✗ 1. अधो + गति

✗ 2. अधि + गति

✓ 3. अधः + गति

✗ 4. अधम् + गति

Question ID : 5096476632

Status : Answered

Chosen Option : 3

Q.60 गलता में रामानन्द संप्रदाय की गद्दी किसने स्थापित की?

Ans ✗ 1. सुखानन्द

✓ 2. कृष्णदास पयहारी

✗ 3. अनंतानंद

✗ 4. तुलसीदास

Question ID : 5096476589

Status : Answered

Chosen Option : 2