


**DDA**  
**Junior Secretariat**  
**Assistant**

**Previous Year Paper**

**9 Nov 2020 Shift 3**

**(Hindi)**



Adda247

# Test Prime

**ALL EXAMS, ONE SUBSCRIPTION**



**1,00,000+**  
Mock Tests



**Personalised  
Report Card**



**Unlimited  
Re-Attempt**



**600+**  
Exam Covered



**25,000+** Previous  
Year Papers



**500%**  
Refund



**ATTEMPT FREE MOCK NOW**



**Delhi Development Authority  
(Recruitment Cell)**  
Advertisement No. 01/2020/ Rectt.Cell.

Participant ID	
Participant Name	
Test Center Name	
Test Date	09/11/2020
Test Time	4:30 PM - 6:30 PM
Subject	Jr. Secretariat Assistant

Section : General Awareness

Q.1 जून 2020 में, केंद्र सरकार ने मुद्रा योजना के तहत, शिशु ऋण खाताधारकों के लिए ब्याज पर सब्सिडी की योजना घोषित की है।

- Ans
- ☒ 1. 2.1%
  - ☒ 2. 1%
  - ☒ 3. 2%
  - ☒ 4. 1.9%

Question ID : 59445925738  
Status : Not Answered  
Chosen Option : --

Q.2 निम्न में से कौन-सा वाद्य यंत्र पीतल की दो छोटी धातु चक्रों (डिस्क) से बना होता है, जिसके केंद्र में मामूली उभार होता है?

- Ans
- ☒ 1. गिनी
  - ☐ 2. खाम
  - ☐ 3. गोपी जंतर
  - ☐ 4. गोईपेई

Question ID : 59445925718

Status : Not Answered

Chosen Option : --

Q.3 राष्ट्रीय इलेक्ट्रॉनिक्स नीति 2019 का उद्देश्य भारत को ई.एस.डी.एम. (ESDM) के लिए एक वैश्विक केंद्र बनाना है। ई.एस.डी.एम. (ESDM) का पूर्ण रूप क्या है?

- Ans
- ☐ 1. इलेक्ट्रिकल सिस्टम डेवलपमेंट एंड मैन्युफैक्चरिंग (Electrical System Development and Manufacturing)
  - ☐ 2. इलेक्ट्रिकल सिस्टम डिजाइनिंग एंड मैन्युफैक्चरिंग (Electrical System Designing and Manufacturing)
  - ☒ 3. इलेक्ट्रॉनिक्स सिस्टम डिजाइन एंड मैन्युफैक्चरिंग (Electronics System Design and Manufacturing)
  - ☐ 4. इलेक्ट्रॉनिक्स सिस्टम डेवलपमेंट एंड मैन्युफैक्चरिंग (Electronics System Development and Manufacturing)

Question ID : 59445925736

Status : Answered

Chosen Option : 1

<p>Q.4 गारो-खासी पर्वतीय शृंखला किस राज्य में फैली हुई है?</p> <p>Ans <input checked="" type="checkbox"/> 1. असम  <input checked="" type="checkbox"/> 2. मिज़ोरम  <input checked="" type="checkbox"/> 3. नागालैंड  <input checked="" type="checkbox"/> 4. मेघालय</p>	<p>Question ID : 59445925726  Status : Not Attempted and Marked For Review  Chosen Option : --</p>
<p>Q.5 आंध्र प्रदेश सरकार द्वारा काकीनाडा डीप वाटर पोर्ट किस वर्ष अधिकृत हुआ था?</p> <p>Ans <input checked="" type="checkbox"/> 1. 1993  <input checked="" type="checkbox"/> 2. 1992  <input checked="" type="checkbox"/> 3. 1997  <input checked="" type="checkbox"/> 4. 1995</p>	<p>Question ID : 59445925728  Status : Not Answered  Chosen Option : --</p>
<p>Q.6 वैदिक सभ्यता किस नदी के तट पर विकसित हुई थी?</p> <p>Ans <input checked="" type="checkbox"/> 1. माही  <input checked="" type="checkbox"/> 2. ब्रह्मपुत्र  <input checked="" type="checkbox"/> 3. सरस्वती  <input checked="" type="checkbox"/> 4. यमुना</p>	<p>Question ID : 59445925730  Status : Answered  Chosen Option : 3</p>

Q.7 स्टार्टअप मोड्युलस हाउसिंग, जिसने 'मेडिकैब' नामक एक पोर्टेबल हॉस्पिटल यूनिट विकसित की है, किसके द्वारा तैयार किया गया है?

Ans

- ☒ 1. आई.आई.एम. (IIM) अहमदाबाद
- ☒ 2. आई.आई.एम. (IIM) कोल्लिकोट
- ☒ 3. आई.आई.टी. (IIT) मद्रास
- ☒ 4. आई.आई.टी. बांबे

Question ID : 59445925735  
Status : Not Answered  
Chosen Option : --

Q.8 फरवरी 2020 में, किस देश ने भारत को विकासशील देशों की अपनी उस सूची से हटा दिया, जिन्हें इस बात की जांच से छूट है कि क्या वे अनुचित सब्सिडी वाले निर्यात से उसके उद्योग को क्षति पहुंचाते हैं?

Ans

- ☒ 1. इटली
- ☒ 2. यू.एस.ए.
- ☒ 3. यू.के.
- ☒ 4. फ्रांस

Question ID : 59445925741  
Status : Answered  
Chosen Option : 2

Q.9 निम्न में से किस क्षेत्र में औसत वार्षिक वर्षा 200 cm से अधिक होती है?

Ans

- ☒ 1. दक्कन के पठार
- ☒ 2. उत्तरी गंगा के मैदान
- ☒ 3. पश्चिमी घाट
- ☒ 4. लद्दाख

Question ID : 59445925724  
Status : Not Attempted and Marked For Review  
Chosen Option : --

Q.10 निम्न में से कौन-सा वाद्ययंत्र तारवाले (तंत्री) वाद्ययंत्र का उदाहरण नहीं है?

- Ans
- ☒ 1. संतूर
  - ☒ 2. ढोल
  - ☒ 3. रावण हल्हा
  - ☒ 4. मिज़राब

Question ID : 59445925742

Status : Answered

Chosen Option : 2

Q.11 निम्न में से किस राज्य से कासरगोड साड़ियों का भौगोलिक संकेतक (GI) टैग संबंधित है

- Ans
- ☒ 1. महाराष्ट्र
  - ☒ 2. केरल
  - ☒ 3. कर्नाटक
  - ☒ 4. तमिलनाडु

Question ID : 59445925721

Status : Not Attempted and  
Marked For Review

Chosen Option : --

Q.12 कौटिल्य की सहायता से मगध के सिंहासन से नंदों को किसने हटाया था?

- Ans
- ☒ 1. चंद्रगुप्त मौर्य
  - ☒ 2. अशोक
  - ☒ 3. समुद्रगुप्त
  - ☒ 4. बिंदुसार

Question ID : 59445925729

Status : Answered

Chosen Option : 1

Q.13 निम्न में से किस संगठन को 1926 में भगत सिंह ने स्थापित किया था?

- Ans
- ☒ 1. अभिनव भारत सौसायटी
  - ☒ 2. नौजवान भारत सभा
  - ☒ 3. भारतीय रिपब्लिकन सेना
  - ☒ 4. अनुशीलन समिति

Question ID : 59445925734

Status : Answered

Chosen Option : 2

Q.14 इनमें से किस संस्थान ने डीप वेन थ्रोम्बोसिस (DVT) की रोकथाम के लिए डिवाइस विकसित किया है?

- Ans
- ☒ 1. आई.आई.टी. (IIT) बॉम्बे
  - ☒ 2. आई.आई.एस.सी. (IISc)
  - ☒ 3. एस.सी.टी.आई.एम.एस.टी. (SCTIMST)
  - ☒ 4. आई.आई.एम. (IIM) कोङ्किकोड

Question ID : 59445925715

Status : Not Answered

Chosen Option : --

Q.15 कार्बी आंगलॉग पठार किसका विस्तार है?

- Ans
- ☒ 1. पश्चिमी मैदानों
  - ☒ 2. हिमालय
  - ☒ 3. उत्तरी मैदानों
  - ☒ 4. प्रायद्वीपीय पठार

Question ID : 59445925723

Status : Not Answered

Chosen Option : --



Q.16 मुगल शाहजादा खुसरो, किस मुगल सम्राट का सबसे बड़ा पुत्र था, जिसका मकबरा प्रयागराज (उत्तर प्रदेश) में खुसरो बाग नामक एक बड़े ऐतिहासिक उद्यान में स्थित है?

Ans ☒ 1. शाहजहाँ  
☒ 2. औरंगजेब  
☒ 3. जहाँगीर  
☒ 4. अकबर

Question ID : 59445925714  
 Status : Answered  
 Chosen Option : 1

Q.17 प्रमुख इंजीनियर-टेक्नोक्रेट, सर एम. विश्वेश्वरैया ने \_\_\_\_\_ तक मैसूर राज्य के दीवान के रूप में कार्य किया है।

Ans ☒ 1. 1916 से 1923  
☒ 2. 1912 से 1918  
☒ 3. 1921 से 1929  
☒ 4. 1929 से 1935

Question ID : 59445925732  
 Status : Not Answered  
 Chosen Option : --

Q.18 निम्न में से किस राज्य में मालवा पठार में महू के निकट चम्बल नदी का उद्गम स्थल है?

Ans ☒ 1. उत्तर प्रदेश  
☒ 2. मध्य प्रदेश  
☒ 3. बिहार  
☒ 4. राजस्थान

Question ID : 59445925722  
 Status : Answered  
 Chosen Option : 2

Q.19 पावा-कुथु नामक पारंपरिक दस्ताना (हथेली) कठपुतली खेल किस राज्य से संबंधित है?

- Ans
- ☒ 1. मणिपुर
  - ☒ 2. राजस्थान
  - ☒ 3. केरल
  - ☒ 4. पंजाब

Question ID : 59445925716  
Status : Answered  
Chosen Option : 2

Q.20 भारतीय प्रतिभूति बाजारों के नियामक के लिए, निम्न में से कौन-सा संक्षिप्त प्रयोग किया जाता है?

- Ans
- ☒ 1. आर.बी.आई. (RBI)
  - ☒ 2. एस.आई.डी.बी.आई. (SIDBI)
  - ☒ 3. एक्विम (EXIM)
  - ☒ 4. सेबी (SEBI)

Question ID : 59445925740  
Status : Answered  
Chosen Option : 4

Q.21 620 ई. में, दक्खन में चालुक्य साम्राज्य पर आक्रमण किसने किया, जिस पर पुलकेशिन द्वितीय का शासन था?

- Ans
- ☒ 1. महेंद्रवर्मन
  - ☒ 2. अमोघवर्ष
  - ☒ 3. नरसिंहवर्मन
  - ☒ 4. हर्षवर्धन

Question ID : 59445925733  
Status : Not Answered  
Chosen Option : -

Q.22 असम में वैष्णव संप्रदाय के संस्थापक कौन थे?

- Ans
- ☒ 1. शंकरदेव
  - ☐ 2. कबीरदास
  - ☐ 3. नामदेव
  - ☐ 4. रामानंद

Question ID : 59445925731  
Status : Not Answered  
Chosen Option : --

Q.23 निम्न में से कौन-सी शास्त्रीय नृत्य शैली असम से संबंधित है?

- Ans
- ☐ 1. कथक
  - ☐ 2. भांगड़ा
  - ☐ 3. कुचिपुड़ी
  - ☒ 4. सलिया

Question ID : 59445925719  
Status : Answered  
Chosen Option : 4

Q.24 निम्न में से कौन-सा विश्व विरासत स्थल, 2007 के बाद यूनेस्को (UNESCO) की विश्व विरासत सूची में शामिल हुआ?

- Ans
- ☐ 1. सूर्य मंदिर, कोणार्क
  - ☐ 2. हुमायूँ का मकबरा, दिल्ली
  - ☒ 3. चारदीवारी से घिरा बाहर जयपुर
  - ☐ 4. आगरा का किला

Question ID : 59445925720  
Status : Answered  
Chosen Option : 3

Q.25 निम्न में से कौन-सी नृत्य शैली हिमाचल प्रदेश के सिरमौर, शिमला और सोलन जिलों में राजपूतों द्वारा की जाने वाली थोड़ा नृत्य है?

Ans

- ☒ 1. झोरा
- ☒ 2. थोड़ा
- ☒ 3. गिदा
- ☒ 4. थोसिया

Question ID : 59445925743

Status : Not Answered

Chosen Option : --

Q.26 निम्न में से कौन-सा बाघ आरक्षित क्षेत्र ओडिशा में स्थित है?

Ans

- ☒ 1. सिमलीपाल बाघ आरक्षित क्षेत्र
- ☒ 2. सुंदरवन बाघ आरक्षित क्षेत्र
- ☒ 3. सह्याद्रि बाघ आरक्षित क्षेत्र
- ☒ 4. सरिस्का बाघ आरक्षित क्षेत्र

Question ID : 59445925725

Status : Answered

Chosen Option : 1

Q.27 उस्ता कला नामक ऊँट की खाल पर विभिन्न चित्रकला शैली, मुगल दरबार में कहीं से आयी थी?

Ans

- ☒ 1. ईरान
- ☒ 2. चीन
- ☒ 3. जापान
- ☒ 4. पुर्तगाल

Question ID : 59445925717

Status : Answered

Chosen Option : 1

Q.28 किस संस्थान ने सितंबर 2020 में प्रथम विश्व सौर प्रौद्योगिकी शिखर सम्मेलन आयोजित किया?

- Ans
- ☒ 1. यूनिसेफ (UNICEF)
  - ☒ 2. आई.एस.ए. (ISA)
  - ☒ 3. डब्ल्यू.एच.ओ. (WHO)
  - ☒ 4. यू.एन. (UN)

Question ID : 59445925737  
Status : Not Answered  
Chosen Option : --

Q.29 खुर्रम, तोषी, गोमल, वाइबो और सेंगर किसकी सहायक नदियाँ हैं?

- Ans
- ☒ 1. सतलुज नदी
  - ☒ 2. यमुना नदी
  - ☒ 3. कृष्णा नदी
  - ☒ 4. सिंधु नदी

Question ID : 59445925727  
Status : Not Answered  
Chosen Option : --

Q.30 निम्न में से कौन उस परिदृश्य को संदर्भित करता है, जिसमें कोई अर्थव्यवस्था मुद्रास्फीति में वृद्धि और आर्थिक उत्पादन में स्थिरता का एक साथ अनुभव करती है?

- Ans
- ☒ 1. अपस्फीति
  - ☒ 2. मंदी
  - ☒ 3. मुद्रास्फीतिजनित मंदी
  - ☒ 4. अति मुद्रास्फीति

Question ID : 59445925739  
Status : Not Attempted and Marked For Review  
Chosen Option : --

Section : General Intelligence & Reasoning Ability

Q.1 अजय और राजवीर की वर्तमान आयु का अनुपात क्रमशः 7 : 4 है। तीन वर्ष बाद उनकी आयु का अनुपात क्रमशः 5 : 3 हो जाएगा। राजवीर की वर्तमान आयु ज्ञात करें।

- Ans
- ✓ 1. 24 वर्ष
  - ✗ 2. 27 वर्ष
  - ✗ 3. 33 वर्ष
  - ✗ 4. 18 वर्ष

Question ID : 59445925749  
Status : Answered  
Chosen Option : 1

Q.2 दिए गए आव्यूह में प्रश्नवाचक चिह्न (?) के स्थान पर क्या होगा?

L2	Q3	J8
N10	V6	?
B5	E2	C7

- Ans
- ✗ 1. R65
  - ✗ 2. O45
  - ✗ 3. K39
  - ✓ 4. M56

Question ID : 59445925761  
Status : Answered  
Chosen Option : 4

# Adda247

Q.3 उस विकल्प का चयन करें, जो तीसरे शब्द से ठीक उसी प्रकार संबंधित है जिस प्रकार दूसरा शब्द पहले शब्द से संबंधित है।

जापान : येन :: अर्जेंटीना : ?

- Ans
- ☒ 1. पेसो
  - ☐ 2. रियाल
  - ☐ 3. क्रोना
  - ☐ 4. वॉन

Question ID : 59445925753

Status : Answered

Chosen Option : 3

Q.4 दिए गए विकल्पों में से उस विकल्प का चयन करें, जिसमें संख्याओं का समूह, नीचे दी गई संख्याओं के समान तर्क / नियम / संबंध का अनुसरण करता है।

(8, 33, 49)

- Ans
- ☒ 1. (17, 69, 103)
  - ☐ 2. (13, 52, 79)
  - ☐ 3. (7, 29, 42)
  - ☐ 4. (9, 38, 55)

Question ID : 59445925759

Status : Answered

Chosen Option : 1

Q.5 कौन-सी संख्या दी गई श्रेणी में प्रत्येक चिह्न के स्थान पर होगी?

79, 92, 109, 122, ?, 152

Ans  1. 139

 2. 135

 3. 145

 4. 129

Question ID : 59445925754

Status : Answered

Chosen Option : 1





Q.6 निर्देश: निम्न जानकारी का ध्यानपूर्वक अध्ययन करें और उसके बाद दिए गए प्रश्न का उत्तर दें।  
कोई स्थायित्व संस्थान, विज्ञान की शोध परियोजना में जूनियर प्रोजेक्ट फेलो (JPF) की भर्ती करना चाहता है। जे.पी.एफ. (JPF) की भर्ती के लिए कुछ शर्तें निर्धारित की गई हैं। शर्तें इस प्रकार हैं:

अभ्यर्थी:

- (i) की आयु 15 अगस्त 2020 को 40 वर्ष से अधिक नहीं होनी चाहिए।
- (ii) कम से कम 65% अंकों के साथ किसी भी विज्ञान विषय में स्नातकोत्तर किया हो।
- (iii) किसी भी विज्ञान विषय में राष्ट्रीय पात्रता परीक्षा (NET) में उत्तीर्ण हो।
- (iv) पद की चयन प्रक्रिया में कम से कम 60% अंक प्राप्त किया हो।
- (v) के पास कम से कम एक वर्ष का शोध अनुभव होना चाहिए।

हालांकि, यदि आवेदक \_\_\_\_\_ को छोड़कर उपरोक्त मानदंडों को पूरा करता है, तो

- a) उपरोक्त (iv), मामला परियोजना के समन्वयक को भेजा जाएगा।
- b) उपरोक्त (v), मामला विभाग के प्रमुख को भेजा जाएगा।

सी. प्रसाद के पास 70% अंकों के साथ रसायन विज्ञान में स्नातकोत्तर की डिग्री है। उसने रसायन विज्ञान में नेट (NET) परीक्षा उत्तीर्ण की है। नेट (NET) की योग्यता प्राप्त करने के बाद, वह रसायन विज्ञान शिक्षक के रूप में किसी विद्यालय में कार्यरत था और वहां तीन वर्ष तक कार्य किया। उसने जे.पी.एफ. (JPF) पद की चयन प्रक्रिया में 150 में से 90 अंक प्राप्त किया है। उसकी जन्मतिथि 19 सितंबर 1987 है।

ऊपर दी गई जानकारी और शर्तों के आधार पर उसके बारे में कौन-सा निर्णय लिया जा सकता है?

- Ans
- ☒ 1. उसका मामला परियोजना के समन्वयक को भेजा जाएगा।
  - ☒ 2. उसका चयन किया जाएगा।
  - ☒ 3. उसे अस्वीकृत किया जाएगा।
  - ☒ 4. उसका मामला विभाग के प्रमुख को भेजा जाएगा।

Question ID : 59445925765

Status : Answered

Chosen Option : 4

Q.7 किसी निम्नित कूट भाषा में  
'Se Re De Pe Lay'  
का अर्थ "This is a beautiful garden" है।  
'Re May Say Se Pe' का अर्थ "Rose is a beautiful flower" है।  
'May Se Re De" - का अर्थ "This is a flower" है।

निम्न में से कौन सा कोड 'Garden' के लिए होगा?

- Ans
- ☒ 1. Lay
  - ☐ 2. Re
  - ☐ 3. De
  - ☐ 4. Se

Question ID : 59445925764  
Status : Answered  
Chosen Option : 1

Q.8 विषय की पहचान करें।

- Ans
- ☐ 1. भारत
  - ☐ 2. चीन
  - ☒ 3. ऑस्ट्रेलिया
  - ☐ 4. रूस

Question ID : 59445925745  
Status : Answered  
Chosen Option : 3

Q.9 नीचे प्रत्येक प्रश्न में दो घटनाएँ (A) और (B) दी गई हैं। ये कथन या तो स्वतंत्र कारण हो सकते हैं या तो स्वतंत्र कारण का प्रभाव हो सकते हैं। इनमें से एक कथन दूसरे कथन का प्रभाव हो सकता है। दोनों कथनों को पढ़ें और निर्धारित करें कि निम्न में से कौन-सा उत्तर विकल्प दोनों कथनों के बीच संबंध को सर्वोत्तम ढंग से प्रदर्शित करता है:

A) सुप्रीम कोर्ट ने दस्तावेजों के सत्यापन के लिए समय सीमा निर्धारित किया है।  
B) भर्ती एजेंसी तत्काल आधार पर कार्य कर रही है।

- Ans
- ☒ 1. घटना (B) कारण है और घटना (A) इसका प्रभाव है।
  - ☒ 2. घटना (A) कारण है और घटना (B) इसका प्रभाव है।
  - ☒ 3. (A) और (B) दोनों घटनाएँ कुछ स्वतंत्र कारणों के प्रभाव हैं।
  - ☒ 4. (A) और (B) दोनों घटनाएँ स्वतंत्र कारणों को प्रकट करती हैं।

Question ID : 59445925747  
Status : Answered  
Chosen Option : 1

Q.10 अक्षरों और संख्याओं के उस युग्म का चयन करें, जो दी गई श्रेणी में प्रश्नवाचक चिह्न (?) के स्थान पर आएगा।

XC27, TF26, PI25, LL24, ?

- Ans
- ☒ 1. MS45
  - ☒ 2. JM13
  - ☒ 3. HO23
  - ☒ 4. NO15

Question ID : 59445925760  
Status : Answered  
Chosen Option : 3

Q.11 निम्न प्रश्न में, पहली और दूसरी संख्या किसी प्रकार संबंधित हैं, उस विकल्प का चयन करें, जो उसी प्रकार तीसरी संख्या से संबंधित है।

372 : 144 :: 285 : ?

- Ans
- ☒ 1. 254
  - ☒ 2. 325
  - ☒ 3. 101
  - ☒ 4. 225

Question ID : 59445925755

Status : Answered

Chosen Option : 4

Q.12 अनन्या, जो विनीता की बेटी है, कविता से कहती है "तुम्हारे पिता 'मनीष' मेरी मां के बड़े भाई हैं, जो जगदीश की दूसरी संतान हैं। कविता, जगदीश से किस प्रकार संबंधित है?

- Ans
- ☒ 1. बहन
  - ☒ 2. बेटी
  - ☒ 3. बहू
  - ☒ 4. पोती

Question ID : 59445925766

Status : Answered

Chosen Option : 4

Q.13 रोहन ने अपना प्रोजेक्ट पूरा कर लिया है और जमा करने की अपनी बारी की प्रतीक्षा कर रहा है। उसकी सहपाठी रिया ने उससे सहायता मांगी ताकि वह अपना प्रोजेक्ट भी पूरा कर सके, क्योंकि इसे समय पर जमा करने का आज अंतिम दिन है। रोहन को क्या करना चाहिए?

- Ans
- ☒ 1. वह अपना प्रोजेक्ट जमा करने के बाद उसकी मदद करेगा।
  - ☒ 2. उसे प्रोजेक्ट पूरा करने में मदद करे ताकि वह भी समय पर इसे जमा कर सके।
  - ☒ 3. रिया को किसी और की सहायता मांगने का सुझाव देना चाहिए, क्योंकि वह व्यस्त है।
  - ☒ 4. उसे बताए कि वह किसी और की मदद करने जा रहा है।

Question ID : 59445925746

Status : Answered

Chosen Option : 2

Q.14 निम्न जानकारी को ध्यानपूर्वक पढ़ें और निम्न प्रश्न का उत्तर दें:

परिवार के P, Q, R, S, T और U सभी सदस्य एक साथ रात्रिभोज कर रहे हैं। Q, R का बेटा है लेकिन R, Q की माँ नहीं है। P का विवाह R से हुआ है। T, R का छोटा भाई है। S, P की बेटा है और U, Q की बड़ी बहन है।

U के कितने भाई हैं?

- Ans
- ☒ 1. तीन
  - ☒ 2. एक
  - ☒ 3. दो
  - ☒ 4. चार

Question ID : 59445925748

Status : Answered

Chosen Option : 2

Q.15 यदि दोनों कथन "कुछ पेन, फाइलें हैं और सभी फाइलें, पुस्तकें हैं" सही हैं, तो निम्न में से कौन-सा कथन निश्चित रूप से सही है?

- Ans
- ✓ 1. कुछ पेन, पुस्तकें हैं।
  - ✗ 2. सभी फाइलें, पेन हैं
  - ✗ 3. सभी पुस्तकें, फाइलें हैं।
  - ✗ 4. कोई भी पुस्तक, पेन नहीं है।

Question ID : 59445925750  
Status : Answered  
Chosen Option : 1

Q.16 उस अक्षर समूह का चयन करें, जो टी गई श्रेणी में प्रश्नवाचक चिह्न के स्थान पर होगा।

CFP, FIS, ILV, ?

- Ans
- ✓ 1. LOY
  - ✗ 2. MLK
  - ✗ 3. JKL
  - ✗ 4. KLM

Question ID : 59445925763  
Status : Answered  
Chosen Option : 1

Q.17 निम्न जानकारी को ध्यानपूर्वक पढ़ें और निम्नत प्रश्न का उत्तर दें:

परिवार के सभी सदस्य P, Q, R, S, T और U एक साथ रात्रिभोज कर रहे हैं। Q, R का बेटा है लेकिन R, Q की माँ नहीं है। P और R विवाहित हैं T, R का छोटा भाई है। S, P की बेटी है और U, Q की बड़ी बहन है।

निम्न में से कौन P का पुत्र है?

- Ans
- ☒ 1. S
  - ☒ 2. U
  - ☒ 3. T
  - ☒ 4. Q

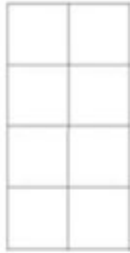
Question ID : 59445925752

Status : Answered

Chosen Option : 4



Q.18 How many squares are there in the given figure?

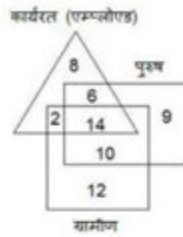


- Ans
- ☒ 1. 10
  - ☒ 2. 13
  - ☒ 3. 12
  - ☒ 4. 11

Question ID : 59445925771  
Status : Answered  
Chosen Option : 4



Q.19 आरेख का ध्यानपूर्वक अध्ययन करें और नीचे दिए गए प्रश्न का उत्तर दें।



ग्रामीण बेरोजगार पुरुषों की संख्या ज्ञात करें।

- Ans
- ☒ 1. 10
  - ☐ 2. 14
  - ☐ 3. 12
  - ☐ 4. 9

Question ID : 59445925773

Status : Answered

Chosen Option : 1

Q.20 उस विकल्प का चयन करें, जो तीसरे शब्द से ठीक उसी प्रकार संबंधित है, जिस प्रकार दूसरा शब्द पहले शब्द से संबंधित है।

रेडियन (Radians) : कोण (Angel) :: ओर्स्टेड (Oersted) : ?

- Ans
- ☐ 1. मापन (Scale)
  - ☒ 2. चुम्बकीय क्षेत्र (Magnetic field)
  - ☐ 3. वायुवेगमापी (Anemometer)
  - ☐ 4. ओडोमीटर (Odometer)

Question ID : 59445925744

Status : Not Answered

Chosen Option : --

Q.21 कौन-सा विकल्प दी गई आकृति के जल प्रतिबिंब को दर्शाता है?



Ans

✓ 1.



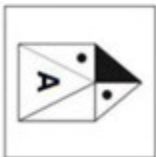
✗ 2.



✗ 3.



✗ 4.



Question ID : 59445925768

Status : Answered

Chosen Option : 1

Q.22 21 cm भुजा वाले घन को प्रत्येक 3 cm भुजा वाले छोटे-छोटे घनों में काटा जाता है। इस प्रकार प्राप्त छोटे घनों की संख्या ज्ञात करें।

Ans  1. 343

 2. 27

 3. 49

 4. 227

Question ID : 59445925772

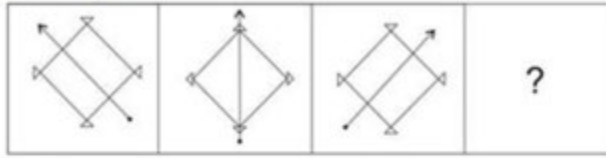
Status : Answered

Chosen Option : 1



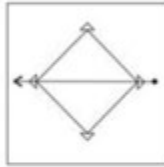
Q.23 कौन-सी उत्तर आकृति, प्रश्न आकृति का पैटर्न पूरा करेगी?

प्रश्न आकृतियाँ:

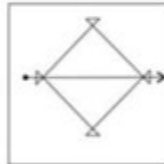


Ans

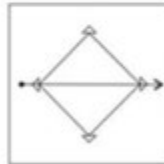
✗ 1.



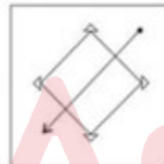
✗ 2.



✓ 3.



✗ 4.



Question ID : 59445925767

Status : Answered

Chosen Option : 2

Q.24 किसी वर्ग की भुजा में 40% की वृद्धि होती है। इसके क्षेत्रफल में हुई प्रतिशत वृद्धि ज्ञात करें।

- Ans
- ☒ 1. 40%
  - ☒ 2. 96%
  - ☐ 3. 84%
  - ☐ 4. 80%

Question ID : 59445925756

Status : Answered

Chosen Option : 2

Q.25 दिए गए कथनों और निष्कर्षों को ध्यानपूर्वक पढ़ें। यह मानते हुए कि कथन में दी गई जानकारी सत्य है, भले ही यह सामान्य रूप से ज्ञात तथ्यों के साथ विचरण करते हों, निर्धारित करें कि दिया गया/दिए गए कौन सा/से निष्कर्ष, दिए गए कथनों का तार्किक रूप से अनुसरण करता/करते हैं।

कथन:

- a) सभी D, A हैं।
- b) सभी A, C हैं।

निष्कर्ष:

- I) कुछ C, D हैं।
- II) कुछ A, D हैं।


- Ans
- ☐ 1. या तो I या II अनुसरण करता है।
  - ☐ 2. केवल I अनुसरण करता है।
  - ☒ 3. दोनों I और II अनुसरण करते हैं।
  - ☐ 4. न तो I और न ही II अनुसरण करता है।

Question ID : 59445925751

Status : Answered

Chosen Option : 3

Q.26 दी गई आकृति में कुल कितने वृत्त हैं?



- Ans
- ☒ 1. 8
  - ☒ 2. 9
  - ☒ 3. 12
  - ☒ 4. 11

Question ID : 59445925770  
Status : Answered  
Chosen Option : 4

Q.27 यदि ' $12 - 3$ ' का मान 36 के बराबर है, ' $21 + 3$ ' का मान 7 के बराबर है, ' $17 \times 2$ ' का मान 19 के बराबर है और ' $15 \div 3$ ' का मान 12 के बराबर है, तो निम्न कोड का मान ज्ञात करें।  
 $144 \div 315 + 35 \times 16 - 17 = ?$

- Ans
- ☒ 1. 165
  - ☒ 2. 534
  - ☒ 3. 407
  - ☒ 4. 385

Question ID : 59445925758  
Status : Answered  
Chosen Option : 3

Q.28 किसी काल्पनिक गणितीय प्रणाली में "@" का अर्थ जोड़, "&" का अर्थ घटाना, "#" का अर्थ गुणा और "%" का अर्थ भाग है। गणित के अन्य सभी नियम मौजूदा प्रणाली की भांति ही हैं, तो दिए गए व्यंजक का मान ज्ञात करें।  $253 \% 23 @ 64 \# 3 \& 102 = ?$

- Ans
- ☒ 1. 115
  - ☒ 2. 92
  - ☒ 3. 123
  - ☒ 4. 101

Question ID : 59445925757  
Status : Answered  
Chosen Option : 4

Q.29 निम्न प्रश्न के पहले दो शब्द एक दूसरे से किसी प्रकार संबंधित हैं, उस विकल्प का चयन करें, जो तीसरे शब्द से उसी प्रकार संबंधित है।

उज्ज्वल: आँख :: जोरदार: ?

- Ans
- ☒ 1. जीभ
  - ☒ 2. स्वर रज्जु
  - ☒ 3. गर्दन
  - ☒ 4. कान

Question ID : 59445925762  
Status : Answered  
Chosen Option : 2

Q.30 उसका आकृति का चयन करें, जो अन्य तीन आकृतियों से भिन्न है।

Ans

✗ 1.



✗ 2.



✗ 3.



✓ 4.



Question ID : 59445925769

Status : Answered

Chosen Option : 4

Section : Arithmetical & Numerical Ability



Q.1 सपना, किसी व्यवसाय को शुरू करने के लिए रु. 80000 की धनराशि निवेशित करती है। 6 महीने बाद ख़ाति रु. 30000 की धनराशि के साथ उसके व्यवसाय में शामिल हुई। यदि उन्हें एक वर्ष बाद रु. 25500 का लाभ प्राप्त हुआ, तो लाभ में ख़ाति का हिस्सा ज्ञात करें। (निकटतम रूप तक)


- Ans
- ☒ 1. रु. 4426
  - ☒ 2. रु. 3940
  - ☒ 3. रु. 4026
  - ☒ 4. रु. 3826

Question ID : 59445925786  
Status : Answered  
Chosen Option : 3


Q.2 यदि  $x : y = 3 : 5$  है, तो  $(10x + 3y) : (5x + 2y)$  का अनुपात ज्ञात करें।

- Ans
- ☒ 1. 19 : 5
  - ☒ 2. 9 : 5
  - ☒ 3. 17 : 5
  - ☒ 4. 11 : 5

Question ID : 59445925777  
Status : Answered  
Chosen Option : 2



Q.3 उपरोक्त हिस्टोग्राम किसी विद्यालय में आयोजित परीक्षा में अंकों और विद्यार्थियों की संख्या निरूपित करता है। 50-70 के बीच अंक प्राप्त करने वाले विद्यार्थियों का प्रतिशत कितना है?



- Ans
- ☒ 1. 12.5
  - ☒ 2. 25
  - ☒ 3. 32.5
  - ☒ 4. 20

Question ID : 59445925796  
Status : Answered  
Chosen Option : 3

Q.4 A और B किसी कार्य को रु. 500 में पूरा करने का ठेका लेते हैं। A इस कार्य को 30 दिन में और B, 60 दिन में पूरा कर सकता है। C की मदद से ये इस कार्य को 9 दिन में पूरा करते हैं। C को उसके योगदान के लिए कितना भुगतान किया जाना चाहिए?

- Ans
- ☒ 1. रु. 250
  - ☒ 2. रु. 275
  - ☒ 3. रु. 320
  - ☒ 4. रु. 300

Question ID : 59445925790  
Status : Answered  
Chosen Option : 2

Q.5 199488 को 48 से विभाजित करने पर क्या प्राप्त होगा?

- Ans
- ☐ 1. 4956
  - ☐ 2. 4056
  - ☒ 3. 4156
  - ☐ 4. 4006

Question ID : 59445925775  
Status : Answered  
Chosen Option : 3

Q.6 15%, 20% और 25% की तीन क्रमागत छूटों के समतुल्य एकल छूट ज्ञात करें।

- Ans
- ☒ 1. 49%
  - ☐ 2. 51%
  - ☐ 3. 61%
  - ☐ 4. 69%

Question ID : 59445925784  
Status : Answered  
Chosen Option : 1

Q.7  $0.56 + 1.98 + ? = 20.25$  हल करें।

- Ans
- ☐ 1. 18.71
  - ☒ 2. 17.71
  - ☐ 3. 17.21
  - ☐ 4. 18.31

Question ID : 59445925774  
Status : Answered  
Chosen Option : 2

Q.8 420 का 85% +  $\sqrt{1.0404}$  का मान ज्ञात करें।

- Ans
- ☐ 1. 360.22
  - ☒ 2. 358.02
  - ☐ 3. 357.57
  - ☐ 4. 356.02

Question ID : 59445925779

Status : Answered

Chosen Option : 2

Q.9 बर्तन A में दूध और पानी को 5 : 1 और बर्तन B में 4 : 3 के अनुपात में मिश्रित किया जाता है। यदि दोनों बर्तनों से मिश्रण की समान मात्रा निकाली जाती है और किसी अन्य बर्तन C में डाली जाती है, तो बर्तन C में दूध और पानी का अनुपात ज्ञात करें।

- Ans
- ☐ 1. 49 : 23
  - ☐ 2. 69 : 23
  - ☐ 3. 69 : 25
  - ☒ 4. 59 : 25

Question ID : 59445925787

Status : Answered

Chosen Option : 4

Q.10 किसी व्यक्ति का वेतन रु. 84000 प्रति माह है, वह अपने यात्रा कार्यों के लिए अपनी कार का उपयोग करता है। यह डीलर द्वारा बताई गई माइलेज (25 km/litre) का 80% प्रदान करती है। ईंधन की लागत रु. 84 प्रति लीटर है। औसतन, वह प्रति माह लगभग 1500 km की दूरी तय करता है और यात्रा करते समय अन्य खर्चों पर लगभग रु. 2800 खर्च करता है। उसके वेतन का कितना प्रतिशत भाग इन खर्चों के लिए प्रयोग होता है (ठीक एक दशमलव स्थान तक)?

- Ans
- ☒ 1. 9.6%
  - ☒ 2. 10.8%
  - ☒ 3. 7.6%
  - ☒ 4. 8.8%

Question ID : 59445925802  
Status : Answered  
Chosen Option : 2

Q.11 समांतर चतुर्भुज ABCD के विकर्ण AC और BD एक दूसरे को बिंदु O पर प्रतिच्छेदित करते हैं। यदि  $\angle DAC = 34^\circ$  और  $\angle AOB = 75^\circ$  है, तो  $\angle DBC$  का माप ज्ञात करें।

- Ans
- ☒ 1.  $40^\circ$
  - ☒ 2.  $49^\circ$
  - ☒ 3.  $41^\circ$
  - ☒ 4.  $45^\circ$

Question ID : 59445925794  
Status : Answered  
Chosen Option : 3

Q.12 संख्या X और Y, तीसरी संख्या Z से क्रमशः 30% और 42% कम है। संख्या Y, संख्या X से कितने प्रतिशत कम है? (निकटतम समाकलित मान तक)

- Ans
- ☒ 1. 21%
  - ☒ 2. 19%
  - ☒ 3. 11%
  - ☒ 4. 17%

Question ID : 59445925776

Status : Answered

Chosen Option : 4

Q.13 80 लीटर के मिश्रण में, दूध और पानी का अनुपात 3 : 1 है। इस मिश्रण में कितना पानी मिलाया जाना चाहिए ताकि मिश्रण में दूध और पानी का अनुपात 2 : 1 हो जाए।

- Ans
- ☒ 1. 15 लीटर
  - ☒ 2. 12 लीटर
  - ☒ 3. 16 लीटर
  - ☒ 4. 10 लीटर

Question ID : 59445925778

Status : Answered

Chosen Option : 4

Q.14



उपरोक्त हिस्टोग्राम किसी विद्यालय में आयोजित परीक्षा में अंकों और विद्यार्थियों की संख्या निरूपित करता है।  
60-70 के बीच अंकों वाले विद्यार्थियों की संख्या और विद्यार्थियों की कुल संख्या का अनुपात ज्ञात करें।

Ans

✓ 1. 1 : 5

✗ 2. 2 : 6

✗ 3. 1 : 7

✗ 4. 2 : 9

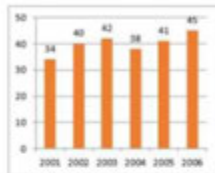
Question ID : 59445925797

Status : Answered

Chosen Option : 1

Q.15 दिया गया बार डायग्राम Y- अक्ष पर बीमा लेने वाले व्यक्तियों की संख्या और X- अक्ष पर बीमा पॉलिसी खरीदने का वर्ष प्रदर्शित करता है।

वर्ष 2006 में पॉलिसी लेने वाले व्यक्तियों की संख्या और वर्ष 2004 में पॉलिसी लेने वाले व्यक्तियों की संख्या में अनुमानित प्रतिशत परिवर्तन ज्ञात करें।



Ans

✓ 1. 18.4

✗ 2. 16.4

✗ 3. 18

✗ 4. 20

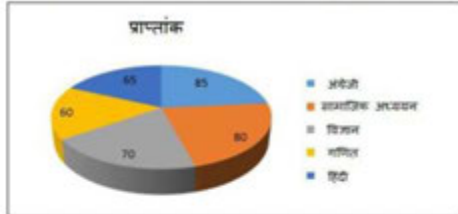
Question ID : 59445925799

Status : Answered

Chosen Option : 2



Q.16 उपरोक्त पाई डायग्राम में किसी विद्यार्थी द्वारा विभिन्न विषयों में प्राप्त अंक प्रस्तुत किए गए हैं। एक साथ अंग्रेजी और हिंदी से संबंधित क्षेत्रों द्वारा केंद्र पर निर्मित कोण डिग्री में कितना है?



- Ans
- ☒ 1. 145
  - ☒ 2. 140
  - ☒ 3. 120
  - ☒ 4. 150

Question ID : 59445925800  
Status : Answered  
Chosen Option : 4

Q.17 किसी वृत्त को 2 cm भुजा वाले वर्ग में उत्कीर्ण किया जाता है और इसके अंदर समबाहु त्रिभुज उत्कीर्ण किया जाता है। समबाहु त्रिभुज और वर्ग के क्षेत्रफल का अनुपात ज्ञात करें।

- Ans
- ☒ 1. 5 : 19
  - ☒ 2.  $3\sqrt{3} : 16$
  - ☒ 3. 3 : 16
  - ☒ 4.  $4\sqrt{5} : 19$

Question ID : 59445925792  
Status : Answered  
Chosen Option : 2

Q.18 यदि किसी समानांतर घटुर्भुज का एक कोण सबसे छोटे कोण के दोगुने से  $30^\circ$  कम है, तो सभी कोणों के माप को ज्ञेय में ज्ञात करें।

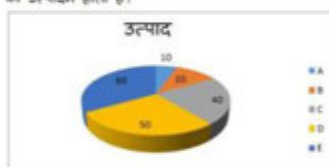
- Ans
- ☒ 1. 50, 130, 50, 130
  - ☒ 2. 80, 100, 80, 100
  - ☒ 3. 70, 110, 70, 110
  - ☒ 4. 60, 120, 60, 120

Question ID : 59445925793

Status : Answered

Chosen Option : 3

Q.19 कोई कंपनी, A, B, C, D और E 5 प्रकार के उत्पाद का निर्माण करती है, जैसा कि उपरोक्त पाई आरेख में प्रदर्शित किया गया है। यदि कंपनी कुल 1440 वस्तुओं का निर्माण करती है, तो कंपनी द्वारा उत्पाद E की कितनी वस्तुओं का उत्पादन होता है?



- Ans
- ☒ 1. 490
  - ☒ 2. 480
  - ☒ 3. 480
  - ☒ 4. 420

Question ID : 59445925801

Status : Answered

Chosen Option : 3

Q.20 यदि कोई धनराशि साधारण ब्याज पर 4 वर्ष में रु. 1150 और 5 वर्ष में रु. 1220 हो जाती है, तो धनराशि ज्ञात करें।

Ans ☒ 1. रु. 870

☐ 2. रु. 750

☐ 3. रु. 790

☐ 4. रु. 820

Question ID : 59445925782

Status : Answered

Chosen Option : 1

Q.21 45 मिनट पहले कार्यालय पहुंचने के लिए, मनोज अपनी घाल में अपनी सामान्य घाल से  $\frac{1}{4}$  गुना वृद्धि करता है। उसे प्रत्येक दिन कार्यालय पहुंचने में कितना समय लगता है?

Ans ☐ 1. 1 घंटा 23 मिनट

☐ 2. 2 घंटा 13 मिनट

☐ 3. 2 घंटा 45 मिनट

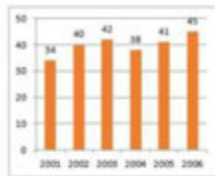
☒ 4. 1 घंटा 45 मिनट

Question ID : 59445925788

Status : Answered

Chosen Option : 4

Q.22 दिया गया बार चार्ट हमें Y- अक्ष पर बीमा लेने वाले व्यक्तियों की संख्या और X- अक्ष पर बीमा पॉलिसी खरीदने का वर्ष प्रदर्शित करता है। वर्ष 2004 को छोड़कर पॉलिसी लेने वाले व्यक्तियों की औसत संख्या ज्ञात करें।



- Ans
- ☒ 1. 44
  - ☒ 2. 40.4
  - ☒ 3. 42
  - ☒ 4. 41

Question ID : 59445925798  
Status : Answered  
Chosen Option : 2

Q.23  $\triangle ABC$  में,  $\angle A = 80^\circ$ ,  $\angle B = 70^\circ$ , और इस त्रिभुज का अन्तःकेन्द्र P पर है।  $\angle BPC$  का मान ज्ञात करें।

- Ans
- ☒ 1.  $-145^\circ$
  - ☒ 2.  $120^\circ$
  - ☒ 3.  $-130^\circ$
  - ☒ 4.  $-150^\circ$

Question ID : 59445925791  
Status : Answered  
Chosen Option : 3

Q.24 30 m और 14 m ऊँचाई वाले दो खंभों के शीर्ष किसी तार से जुड़े हुए हैं। यदि तार, क्षैतिज के साथ  $30^\circ$  का कोण बनाती है, तो तार की लंबाई ज्ञात करें।

- Ans
- ☒ 1. 36 m
  - ☒ 2. 34 m
  - ☒ 3. 30 m
  - ☒ 4. 32 m

Question ID : 59445925795

Status : Answered

Chosen Option : 4

Q.25  $\frac{(1.33)(5.103)}{(1.96)(1.242)}$  का मान किसके बीच है?

- Ans
- ☒ 1. 3 और 4
  - ☒ 2. 1 और 2
  - ☒ 3. 4 और 5
  - ☒ 4. 2 और 3

Question ID : 59445925803

Status : Answered

Chosen Option : 4

Q.26 किसी कार, रेलगाड़ी और बस की चालों का अनुपात 6 : 9 : 6 है। कार, बस और रेलगाड़ी की औसत चाल 77 km/hr है। कार और रेलगाड़ी की औसत चाल ज्ञात करें।

- Ans
- ☒ 1. 79.2 km/hr
  - ☒ 2. 80.5 km/hr
  - ☒ 3. 85 km/hr
  - ☒ 4. 82.5 km/hr

Question ID : 59445925781  
Status : Answered  
Chosen Option : 4

Q.27 40% , 20% और 10% की तीन क्रमागत छूटों के समतुल्य एकल छूट ज्ञात करें।

- Ans
- ☒ 1. 62.5%
  - ☒ 2. 56.8%
  - ☒ 3. 61.1%
  - ☒ 4. 49%

Question ID : 59445925785  
Status : Answered  
Chosen Option : 2

Q.28 कोई आदमी रु. 480 में पुस्तक खरीदता है और इसे 20% की हानि पर बेचता है। पुस्तक का विक्रय मूल्य ज्ञात करें।

- Ans
- ☒ 1. रु. 415
  - ☒ 2. रु. 384
  - ☒ 3. रु. 379
  - ☒ 4. रु. 398

Question ID : 59445925783  
Status : Answered  
Chosen Option : 2

Q.29 15 संख्याओं का औसत 23 है। यदि प्रत्येक संख्या में 3 की वृद्धि की जाती है, तो नया औसत ज्ञात करें।

Ans ☒ 1. 26

☒ 2. 28

☒ 3. 24

☒ 4. 27

Question ID : 59445925780

Status : Answered

Chosen Option : 1

Q.30 दो व्यक्ति एक दूसरे की ओर दौड़ना शुरू करते हैं, जिनमें से एक A से B की ओर और दूसरा B से A की ओर दौड़ना शुरू करता है। वे एक दूसरे को एक घंटे में पार करते हैं। पहला व्यक्ति B पर दूसरे व्यक्ति के A तक पहुंचने से  $\frac{16}{15}$  घंटे पहले पहुंच जाता है। यदि A और B के बीच की दूरी 8 km है, तो तेज दौड़ने वाले आदमी की चाल ज्ञात करें।

Ans ☒ 1. 8 km/hr

☒ 2. 7 km/hr

☒ 3. 4 km/hr

☒ 4. 5 km/hr

Question ID : 59445925789

Status : Answered

Chosen Option : 1

Section : English Language & Comprehension

Q.1 Following sentences are from a paragraph. First and last sentences are given and the three sentences in between are jumbled. Rearrange them to make a coherent paragraph.

S1: Human civilisations have been around for a paltry 12,000 years-barely a few seconds on the geological clock.

R: In that short amount of time, we've managed to create quite a ruckus, etching our dominance over nature.

S: The unmitigated burning of fossil fuels has now created a blanket of carbon dioxide around the world.

T: The rapid increase of human populations has left us battling with other species for limited resources.

S6: This carbon blanket is slowly but surely increasing the average global temperature.

- Ans
- ☒ 1. TSR
  - ☒ 2. STR
  - ☒ 3. RTS
  - ☒ 4. SRT

Question ID : 59445925806

Status : Answered

Chosen Option : 3

Q.2 Rearrange the part of the sentences to make them coherent sentences.

past, present and future / one needs/ to understand earth's/ to visit Antarctica  
A B C D

- Ans
- ☒ 1. ADBC
  - ☒ 2. CBDA
  - ☒ 3. BACD
  - ☒ 4. BDCA

Question ID : 59445925819

Status : Answered

Chosen Option : 4



Q.3 Supply the missing punctuation mark.

The Head Master said, \_\_\_\_\_ All of you should report to me immediately."

- Ans
- ☒ 1. "
  - ☐ 2. '
  - ☐ 3. "
  - ☐ 4. :

Question ID : 59445925826  
Status : Answered  
Chosen Option : 1

Q.4 Find the meaning of the given Idiom.

Clouds on the horizon

- Ans
- ☐ 1. Passing clouds
  - ☐ 2. It will rain
  - ☒ 3. Trouble is on its way
  - ☐ 4. Benefit from some one

Question ID : 59445925824  
Status : Answered  
Chosen Option : 3



Q.5 Following sentences are from a paragraph. First and last sentences are given and the three sentences in between are jumbled as R, S, Q. Re arrange them to make a coherent paragraph.

S1: Delhi has a chequered history dating back to 1000BC.

R: The city has been built and rebuilt umpteen times by the disparate dynasties that have made it the pivot of their mighty empires.

S: Archaeological remains point to Delhi being the site of the city of Indraprastha, the capital of the legendary Pandava brothers. 2

T: The battle between the brothers, the Pandavas and the Kauravas was detailed in the epic Mahabharata.3

S5: The epic talks about the site being a jungle until the Pandavas built their city there.

- Ans
- ☒ 1. SRT
  - ☒ 2. TRS
  - ☒ 3. TSR
  - ☒ 4. RST

Question ID : 59445925807  
Status : Answered  
Chosen Option : 4

Q.6 Find the word spelt correctly.

- Ans
- ☒ 1. Assassination
  - ☒ 2. Assasination
  - ☒ 3. Assassinasion
  - ☒ 4. Assassination

Question ID : 59445925821  
Status : Answered  
Chosen Option : 4

**Q.7** Following sentences have an error in one of its parts. Find the part which has an errors and mark it in the answer sheet accordingly.

All those / who feel that / the country has progressed / contributes to it progress.  
A B C D

- Ans**
- ✓ 1. D
  - ✗ 2. C
  - ✗ 3. A
  - ✗ 4. B

Question ID : 59445925809  
Status : Answered  
Chosen Option : 1

**Q.8** Following sentences have an error in one of its parts. Find the part which has an errors and mark it in the answer sheet accordingly.

There are moments in life / when we have to make / hard choices among / two equally important options.  
A B C D

- Ans**
- ✗ 1. A
  - ✓ 2. C
  - ✗ 3. B
  - ✗ 4. D

Question ID : 59445925810  
Status : Answered  
Chosen Option : 2

Q.9 Find the word spelt correctly.

- Ans
- ☐ 1. Comensement
  - ☒ 2. Commencement
  - ☐ 3. Comenncement
  - ☐ 4. Commensement

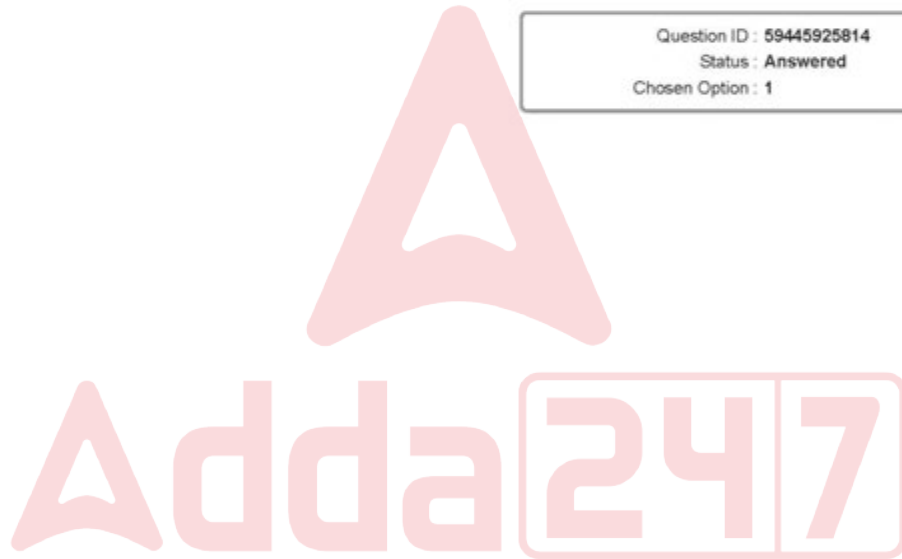
Question ID : 59445925822  
Status : Answered  
Chosen Option : 2

Q.10 Complete the sentences choosing from the given alternatives.

Unless one introspects \_\_\_\_\_.

- Ans
- ☐ 1. one can find peace in oneself.
  - ☐ 2. one should not find peace in oneself.
  - ☐ 3. one has to find peace in oneself.
  - ☒ 4. one can't find peace in oneself.

Question ID : 59445925814  
Status : Answered  
Chosen Option : 1



Q.11 Supply the missing punctuation mark.

Alas \_\_\_\_\_ What a pathetic end!

- Ans
- ☒ 1. ''
  - ☒ 2. ,
  - ☒ 3. !
  - ☒ 4. .

Question ID : 59445925827  
Status : Answered  
Chosen Option : 3

Q.12 Rearrange the part of the sentence to make them coherent sentences.

their mistakes / humans realize / they have been committed / only when.  
A B C D

- Ans
- ☒ 1. BCDA
  - ☒ 2. CDAB
  - ☒ 3. BADC
  - ☒ 4. ABDC

Question ID : 59445925820  
Status : Answered  
Chosen Option : 3



Q.13 Complete the sentences choosing from the given alternatives.

If she had found the truth, \_\_\_\_\_.

- Ans
- ☒ 1. she will not have complained against her friend.
  - ☒ 2. she may not have complained against her friend.
  - ☒ 3. she shall not have complained against her friend.
  - ☒ 4. she would not have complained against her friend.

Question ID : 59445925813  
Status : Answered  
Chosen Option : 4

Q.14 Find the word which is opposite in meaning to the given word.

Arrogance

- Ans
- ☒ 1. Agreeing
  - ☒ 2. Boisterous
  - ☒ 3. Submissiveness
  - ☒ 4. Disagreeing

Question ID : 59445925815  
Status : Answered  
Chosen Option : 3



Q.15 Find the world which is spelt correctly.

- Ans
- ☒ 1. Impresion
  - ☒ 2. Imppresion
  - ☒ 3. Imppresion
  - ☒ 4. Impression

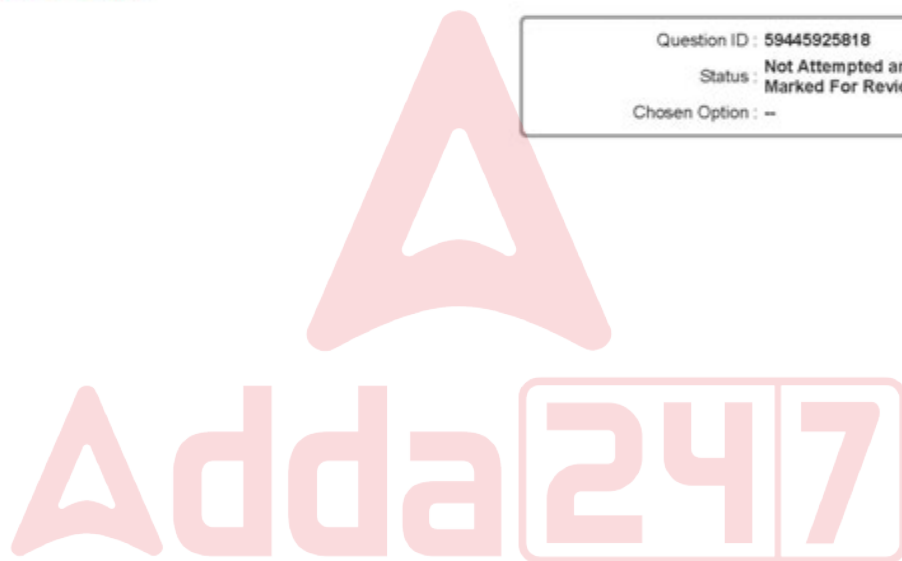
Question ID : 59445925828  
Status : Answered  
Chosen Option : 4

Q.16 Select the word which is nearest to the meaning of the given word.

Stray

- Ans
- ☒ 1. Focussed
  - ☒ 2. Broad minded
  - ☒ 3. Aimless
  - ☒ 4. Narrow minded

Question ID : 59445925818  
Status : Not Attempted and  
Marked For Review  
Chosen Option : -



Q.17 Select the most appropriate direct form of the given sentence.

She told me that she had got a good grade in the examination.

- Ans
- ☒ 1. She said to me, "She had got a good grade in the examination."
  - ☒ 2. She said to me, "I am getting a good grade in the examination."
  - ☒ 3. She said to me, "I had been getting a good grade in the examination."
  - ☒ 4. She said to me, "I have got a good grade in the examination."

Question ID : 59445925816  
Status : Answered  
Chosen Option : 4

Q.18 Find the meaning of the given Idiom.

Apple of eye

- Ans
- ☒ 1. Someone very desirable
  - ☒ 2. Someone not liked
  - ☒ 3. Someone very precious
  - ☒ 4. Someone impartial

Question ID : 59445925825  
Status : Answered  
Chosen Option : 3





Q.19 Find the meaning of the given Idiom.

Cry over split milk

- Ans ☒ 1. To dwell pointlessly on past misfortunes  
☒ 2. To denounce the past for our errors  
☒ 3. To spill the milk and cry  
☒ 4. To celebrate the past

Question ID : 59445925823  
 Status : Answered  
 Chosen Option : 1

Q.20 Complete the sentences choosing from the given alternatives.

In spite of his illness \_\_\_\_\_ .

- Ans ☒ 1. he made excuses in doing the tasks of the team  
☒ 2. he participated in all the tasks of the team  
☒ 3. he could not participate in all the tasks of the team  
☒ 4. he left the team to rest for a month

Question ID : 59445925811  
 Status : Answered  
 Chosen Option : 2



Q.21 Select the wrongly spelt word.

- Ans
- ☒ 1. hyperbole
  - ☒ 2. hypnosis
  - ☒ 3. hurricane
  - ☒ 4. hygeine

Question ID : 59445925804  
Status : Answered  
Chosen Option : 4

Q.22 Select the word which is nearest to the meaning of the given word.

Mammoth

- Ans
- ☒ 1. Sized
  - ☒ 2. Suitable
  - ☒ 3. Gigantic
  - ☒ 4. Tiny

Question ID : 59445925817  
Status : Answered  
Chosen Option : 3



**Q.23** Following sentences have an error in one of its parts. Find the part which has an errors and mark it in the answer sheet accordingly.

The Department<sup>A</sup> has been asked<sup>B</sup> to submit the report<sup>C</sup> on two days<sup>D</sup>.

- Ans**
- ✓ 1. D
  - ✗ 2. C
  - ✗ 3. A
  - ✗ 4. B

Question ID : 59445925808  
Status : Answered  
Chosen Option : 1

**Q.24** Complete the sentences choosing from the given alternatives.

The man in red \_\_\_\_\_.

- Ans**
- ✗ 1. who found the lost child.
  - ✗ 2. were the one who found the lost child.
  - ✓ 3. is the one who found the lost child.
  - ✗ 4. has been the one who found the lost child.

Question ID : 59445925812  
Status : Answered  
Chosen Option : 3

Q.25 Following sentences are from a paragraph. First and last sentences are given and the three sentences in between are jumbled. Rearrange them to make a coherent paragraph.

S1: The first Polish immigrants arrived in America in 1708.

R: They were known as Russian Poles, German Poles and Austrian Poles as there was no state for them at that time.

S: This was followed by the largest wave of Polish immigration which occurred in the early 20th century.

T: One of the most notable Polish-American communities is in Chicago and its suburbs.

S5: Like other ethnicities, Irish, Italians and Jews, Poles were also discriminated against in the United States of America.

Ans  1. STR

 2. RST

 3. SRT

 4. RTS

Question ID : 59445925805

Status : Answered

Chosen Option : 4



### Comprehension:

Read the following passage and answer the questions given after it.

A discovery of much archaeological interest was made in the Algerian Sahara. M. Tarry, who had been carrying on work in connection with the proposed TransSahara Railroad, having noticed a mound of sand in the neighborhood of Wargal, had the sand dug up, and discovered the top of a spherical dome. This naturally aroused his interest, and getting his Arabs to dig still deeper, he found underneath the dome a square tower, then a platform of masonry, and finally a complete mosque. Continuing the excavations, M. Tarry soon unearthed seven houses in perfect preservation, and came upon a subterranean watercourse. It was well-known that the Sahara was at one time much more populous than it is now, and its trade much more extensive, but no one seemed to have supposed that any cities had been buried under its sands.

Nearly the whole of the vast space of the regions which lay between Algeria and Morocco on the north, and Lake Tchad and the Niger on the south was desert, and most of it hopeless and irreclaimable desert; a desert in which oases and even wells of half-bitter water were so few that camel caravans did not attempt to cross it. It was inhabited by tribes mostly nomadic, some akin to the Berbers of Morocco and Algeria, some belonging to the Touaregs, probably itself a branch of the Berber stock. They were few in number for so huge a space, perhaps not two hundred thousand in all, but they were fierce fighters, the Touaregs especially and they lived for and by plunder.

The trade of these regions was insignificant. There was a little gum; there were ostrich feathers; there may be minerals. All these were sent to Europe by sea; and by sea also most European goods came in. Accordingly, apart altogether from the engineering difficulties, many rejected the notion of a trans-Sahara railroad, because its expense would be utterly disproportionate to any traffic it could carry.

SubQuestion No : 26

Q.26 What kind of an area was the region which lay between Algeria and Morocco on the north, and Lake Tchad and the Niger on the south?

- Ans
- ☒ 1. It had numerous wells of half bitter water.
  - ☒ 2. It was a desert easily navigable by caravans .
  - ☒ 3. It was a difficult and hopeless desert.
  - ☒ 4. It was a desert dispersed with oases all over.

Question ID : 59445925832

Status : Answered

Chosen Option : 3

### Comprehension:

Read the following passage and answer the questions given after it.

A discovery of much archaeological interest was made in the Algerian Sahara. M. Tarry, who had been carrying on work in connection with the proposed TransSahara Railroad, having noticed a mound of sand in the neighborhood of Wargal, had the sand dug up, and discovered the top of a spherical dome. This naturally aroused his interest, and getting his Arabs to dig still deeper, he found underneath the dome a square tower, then a platform of masonry, and finally a complete mosque. Continuing the excavations, M. Tarry soon unearthed seven houses in perfect preservation, and came upon a subterranean watercourse. It was well-known that the Sahara was at one time much more populous than it is now, and its trade much more extensive, but no one seemed to have supposed that any cities had been buried under its sands.

Nearly the whole of the vast space of the regions which lay between Algeria and Morocco on the north, and Lake Tchad and the Niger on the south was desert, and most of it hopeless and irreclaimable desert; a desert in which oases and even wells of half-bitter water were so few that camel caravans did not attempt to cross it. It was inhabited by tribes mostly nomadic, some akin to the Berbers of Morocco and Algeria, some belonging to the Touaregs, probably itself a branch of the Berber stock. They were few in number for so huge a space, perhaps not two hundred thousand in all, but they were fierce fighters, the Touaregs especially and they lived for and by plunder.

The trade of these regions was insignificant. There was a little gum; there were ostrich feathers; there may be minerals. All these were sent to Europe by sea; and by sea also most European goods came in. Accordingly, apart altogether from the engineering difficulties, many rejected the notion of a trans-Sahara railroad, because its expense would be utterly disproportionate to any traffic it could carry.

SubQuestion No : 27

Q.27 Which of the following is NOT true for the tribes in Sahara region?

- Ans
- ☒ 1. They were mainly nomadic tribes
  - ☒ 2. They were fierce fighters whose work was plundering
  - ☒ 3. They were Touaregs of the Berber stock
  - ☒ 4. They were Berbers of Morocco and Algeria

Question ID : 59445925831

Status : Answered

Chosen Option : 1

### Comprehension:

Read the following passage and answer the questions given after it.

A discovery of much archaeological interest was made in the Algerian Sahara. M. Tarry, who had been carrying on work in connection with the proposed TransSahara Railroad, having noticed a mound of sand in the neighborhood of Wargal, had the sand dug up, and discovered the top of a spherical dome. This naturally aroused his interest, and getting his Arabs to dig still deeper, he found underneath the dome a square tower, then a platform of masonry, and finally a complete mosque. Continuing the excavations, M. Tarry soon unearthed seven houses in perfect preservation, and came upon a subterranean watercourse. It was well-known that the Sahara was at one time much more populous than it is now, and its trade much more extensive, but no one seemed to have supposed that any cities had been buried under its sands.

Nearly the whole of the vast space of the regions which lay between Algeria and Morocco on the north, and Lake Tchad and the Niger on the south was desert, and most of it hopeless and irreclaimable desert; a desert in which oases and even wells of half-bitter water were so few that camel caravans did not attempt to cross it. It was inhabited by tribes mostly nomadic, some akin to the Berbers of Morocco and Algeria, some belonging to the Touaregs, probably itself a branch of the Berber stock. They were few in number for so huge a space, perhaps not two hundred thousand in all, but they were fierce fighters, the Touaregs especially and they lived for and by plunder.

The trade of these regions was insignificant. There was a little gum; there were ostrich feathers; there may be minerals. All these were sent to Europe by sea; and by sea also most European goods came in. Accordingly, apart altogether from the engineering difficulties, many rejected the notion of a trans-Sahara railroad, because its expense would be utterly disproportionate to any traffic it could carry.

SubQuestion No : 28

Q.28 The main idea of the first paragraph of the passage is:

- Ans
- ☒ 1. the proposed trans -Sahara railroad
  - ☒ 2. the emergence of a complete mosque
  - ☒ 3. the archaeological excavation
  - ☒ 4. the unexpected finding of a town under the sand

Question ID : 59445925830

Status : Answered

Chosen Option : 4

### Comprehension:

Read the following passage and answer the questions given after it.

A discovery of much archaeological interest was made in the Algerian Sahara. M. Tarry, who had been carrying on work in connection with the proposed TransSahara Railroad, having noticed a mound of sand in the neighborhood of Wargal, had the sand dug up, and discovered the top of a spherical dome. This naturally aroused his interest, and getting his Arabs to dig still deeper, he found underneath the dome a square tower, then a platform of masonry, and finally a complete mosque. Continuing the excavations, M. Tarry soon unearthed seven houses in perfect preservation, and came upon a subterranean watercourse. It was well-known that the Sahara was at one time much more populous than it is now, and its trade much more extensive, but no one seemed to have supposed that any cities had been buried under its sands.

Nearly the whole of the vast space of the regions which lay between Algeria and Morocco on the north, and Lake Tchad and the Niger on the south was desert, and most of it hopeless and irreclaimable desert; a desert in which oases and even wells of half-bitter water were so few that camel caravans did not attempt to cross it. It was inhabited by tribes mostly nomadic, some akin to the Berbers of Morocco and Algeria, some belonging to the Touaregs, probably itself a branch of the Berber stock. They were few in number for so huge a space, perhaps not two hundred thousand in all, but they were fierce fighters, the Touaregs especially and they lived for and by plunder.

The trade of these regions was insignificant. There was a little gum; there were ostrich feathers; there may be minerals. All these were sent to Europe by sea; and by sea also most European goods came in. Accordingly, apart altogether from the engineering difficulties, many rejected the notion of a trans-Sahara railroad, because its expense would be utterly disproportionate to any traffic it could carry.

SubQuestion No : 29

Q.29 The idea of the trans-Saharan railroad was rejected mainly because:

- Ans
- ☒ 1. the area was inhabited by fierce tribes.
  - ☒ 2. the desert was difficult to navigate.
  - ☒ 3. the trade with Europe was done by sea route.
  - ☒ 4. the railroad was not economically viable.

Question ID : 59445925833

Status : Answered

Chosen Option : 4



### Comprehension:

Read the following passage and answer the questions given after it.

A discovery of much archaeological interest was made in the Algerian Sahara. M. Tarry, who had been carrying on work in connection with the proposed TransSahara Railroad, having noticed a mound of sand in the neighborhood of Wargal, had the sand dug up, and discovered the top of a spherical dome. This naturally aroused his interest, and getting his Arabs to dig still deeper, he found underneath the dome a square tower, then a platform of masonry, and finally a complete mosque. Continuing the excavations, M. Tarry soon unearthed seven houses in perfect preservation, and came upon a subterranean watercourse. It was well-known that the Sahara was at one time much more populous than it is now, and its trade much more extensive, but no one seemed to have supposed that any cities had been buried under its sands.

Nearly the whole of the vast space of the regions which lay between Algeria and Morocco on the north, and Lake Tchad and the Niger on the south was desert, and most of it hopeless and irreclaimable desert; a desert in which oases and even wells of half-bitter water were so few that camel caravans did not attempt to cross it. It was inhabited by tribes mostly nomadic, some akin to the Berbers of Morocco and Algeria, some belonging to the Touaregs, probably itself a branch of the Berber stock. They were few in number for so huge a space, perhaps not two hundred thousand in all, but they were fierce fighters, the Touaregs especially and they lived for and by plunder.

The trade of these regions was insignificant. There was a little gum; there were ostrich feathers; there may be minerals. All these were sent to Europe by sea; and by sea also most European goods came in. Accordingly, apart altogether from the engineering difficulties, many rejected the notion of a trans-Sahara railroad, because its expense would be utterly disproportionate to any traffic it could carry.

SubQuestion No : 30

Q.30 Match the words with their meanings.

Words	Meanings
a. extensive	1. round
b. subterranean	2. widespread
c. spherical	3. underground

- Ans
- ☒ 1. a-3, b-2, c-1
  - ☒ 2. a-1, b-3, c-2
  - ☒ 3. a-2, b-1, c-3
  - ☒ 4. a-2, b-3, c-1

Question ID : 59445925834  
Status : Answered

Chosen Option : 3

