

[Print](#)

Education Consultant India Ltd.

Notations :

- Options shown in green color and with ✓ icon are correct.
- Options shown in red color and with ✗ icon are incorrect.

Question Paper Name :	26 july 2021 Artitecture
Subject Name :	Technical Assistant (Architecture)
Creation Date :	2021-07-26 12:28:21
Duration :	120
Total Marks :	200
Display Marks:	Yes
Calculator :	None
Magnifying Glass Required? :	No
Ruler Required? :	No
Eraser Required? :	No
Scratch Pad Required? :	No
Rough Sketch/Notepad Required? :	No
Protractor Required? :	No
Show Watermark on Console? :	Yes
Highlighter :	No
Auto Save on Console? (SA type of questions will be always auto saved) :	No

General Awareness

Group Number :	1
Group Id :	594459997
Group Maximum Duration :	0
Group Minimum Duration :	0

Test Prime

**ALL EXAMS,
ONE SUBSCRIPTION**



70,000+
Mock Tests



Personalised
Report Card



Unlimited
Re-Attempt



600+
Exam Covered



Previous Year
Papers



500%
Refund



ATTEMPT FREE MOCK NOW

Show Attended Group? : No
Edit Attended Group? : No
Break time : 0
Group Marks : 20
Is this Group for Examiner? : No

General Awareness

Section Id : 5944591722
Section Number : 1
Section type : Online
Mandatory or Optional : Mandatory
Number of Questions : 20
Number of Questions to be attempted : 20
Section Marks : 20
Enable Mark as Answered Mark for Review and Clear Response : Yes
Sub-Section Number : 1
Sub-Section Id : 5944592004
Question Shuffling Allowed : Yes

Question Number : 1 Question Id : 59445943424 Question Type : MCQ Option Shuffling : Yes Is Question Mandatory : No Option Orientation : Vertical

Correct Marks : 1 Wrong Marks : 0.25

Kariyala is a popular art form of _____.

Options :

1. ✖ Madhya Pradesh
2. ✔ Himachal Pradesh
3. ✖ Uttar Pradesh
4. ✖ Maharashtra

Question Number : 1 Question Id : 59445943424 Question Type : MCQ Option Shuffling : Yes Is Question Mandatory : No Option Orientation : Vertical

Correct Marks : 1 Wrong Marks : 0.25

करियाला _____ का लोकप्रिय कला रूप है।

Options :

1. ✗ मध्य प्रदेश
2. ✓ हिमाचल प्रदेश
3. ✗ उत्तर प्रदेश
4. ✗ महाराष्ट्र

Question Number : 2 Question Id : 59445943425 Question Type : MCQ Option Shuffling : Yes Is Question Mandatory : No Option Orientation : Vertical

Correct Marks : 1 Wrong Marks : 0.25

Match the following dance forms and state it is associated with -

- | | |
|-----------|----------------|
| 1. Powada | A. Goa |
| 2. Dekhni | B. Maharashtra |
| 3. Gugga | C. Jharkhand |
| 4. Sohrai | D. Haryana |

Options :

1. ✓ 1-B, 2-A, 3-D, 4-C
2. ✗ 1-A, 2-C, 3-D, 4-B
3. ✗ 1-B, 2-C, 3-A, 4-D
4. ✗ 1-C, 2-A, 3-B, 4-D

Question Number : 2 Question Id : 59445943425 Question Type : MCQ Option Shuffling : Yes Is Question Mandatory : No Option Orientation : Vertical

Correct Marks : 1 Wrong Marks : 0.25

निम्नलिखित नृत्य रूपों और उनसे संबंधित राज्यों के साथ मिलान करें -

- | | |
|------------|---------------|
| 1. पोवाड़ा | A. गोवा |
| 2. देखनी | B. महाराष्ट्र |
| 3. गुग्गा | C. झारखण्ड |
| 4. सोहराई | D. हरियाणा |

Options :

1. ✓ 1-B, 2-A, 3-D, 4-C

- 2. ✖ 1-A, 2-C, 3-D, 4-B
- 3. ✖ 1-B, 2-C, 3-A, 4-D
- 4. ✖ 1-C, 2-A, 3-B, 4-D

Question Number : 3 Question Id : 59445943426 Question Type : MCQ Option Shuffling : Yes Is Question Mandatory : No Option Orientation : Vertical

Correct Marks : 1 Wrong Marks : 0.25

Which among the following festivals is associated with the story of the God of Death, Yama and the river Yamuna?

Options :

- 1. ✖ Diwali
- 2. ✖ Teej
- 3. ✔ Bhai Dooj
- 4. ✖ Holi

Question Number : 3 Question Id : 59445943426 Question Type : MCQ Option Shuffling : Yes Is Question Mandatory : No Option Orientation : Vertical

Correct Marks : 1 Wrong Marks : 0.25

निम्नलिखित में से कौन सा त्योहार मृत्यु के देवता, यम और यमुना नदी की कहानी से जुड़ा है?

Options :

- 1. ✖ दिवाली
- 2. ✖ तीज
- 3. ✔ भाई दूज
- 4. ✖ होली

Question Number : 4 Question Id : 59445943427 Question Type : MCQ Option Shuffling : Yes Is Question Mandatory : No Option Orientation : Vertical

Correct Marks : 1 Wrong Marks : 0.25

Which among the following is not Goods and Service Tax (GST) rate slab in India as of May 2021?

Options :

- 1. ✖ 5%
- 2. ✖ 12%

3. ✖ 18%

4. ✔ 24%

Question Number : 4 Question Id : 59445943427 Question Type : MCQ Option Shuffling : Yes Is Question Mandatory : No Option Orientation : Vertical

Correct Marks : 1 Wrong Marks : 0.25

निम्नलिखित में से कौन मई 2021 तक भारत में वस्तु एवं सेवा कर दर स्लैब नहीं है?

Options :

1. ✖ 5%

2. ✖ 12%

3. ✖ 18%

4. ✔ 24%

Question Number : 5 Question Id : 59445943428 Question Type : MCQ Option Shuffling : Yes Is Question Mandatory : No Option Orientation : Vertical

Correct Marks : 1 Wrong Marks : 0.25

As announced in the Budget 2021, the margin money requirement under the scheme of Stand Up India, has been reduced from upto 25% to upto _____.

Options :

1. ✖ 18%

2. ✖ 20%

3. ✔ 15%

4. ✖ 10%

Question Number : 5 Question Id : 59445943428 Question Type : MCQ Option Shuffling : Yes Is Question Mandatory : No Option Orientation : Vertical

Correct Marks : 1 Wrong Marks : 0.25

2021 के बजट में की गई घोषणा के अनुसार, स्टैंड अप इंडिया की योजना के तहत मार्जिन राशि की आवश्यकता को 25% से घटाकर _____ कर दिया गया है।

Options :

1. ✖ 18%

2. ✖ 20%

3. ✓ 15%

4. ✗ 10%

Question Number : 6 Question Id : 59445943429 Question Type : MCQ Option Shuffling : Yes Is Question Mandatory : No Option Orientation : Vertical

Correct Marks : 1 Wrong Marks : 0.25

The S.I. unit of electrical resistance is _____.

Options :

1. ✓ Ohm

2. ✗ Joule

3. ✗ Kelvin

4. ✗ Ampere

Question Number : 6 Question Id : 59445943429 Question Type : MCQ Option Shuffling : Yes Is Question Mandatory : No Option Orientation : Vertical

Correct Marks : 1 Wrong Marks : 0.25

विद्युत प्रतिरोध की S.I. इकाई _____ है।

Options :

1. ✓ ओम

2. ✗ जूल

3. ✗ केल्विन

4. ✗ एम्पियर

Question Number : 7 Question Id : 59445943430 Question Type : MCQ Option Shuffling : Yes Is Question Mandatory : No Option Orientation : Vertical

Correct Marks : 1 Wrong Marks : 0.25

Which among the following science deals with the study of fossil plants?

Options :

1. ✗ Arboriculture

2. ✗ Pomology

3. ✓ Paleontology

4. ❌ Phycology

Question Number : 7 Question Id : 59445943430 Question Type : MCQ Option Shuffling : Yes Is Question Mandatory : No Option Orientation : Vertical

Correct Marks : 1 Wrong Marks : 0.25

निम्नलिखित में से कौन सा विज्ञान जीवाश्म पौधों के अध्ययन से संबंधित है?

Options :

1. ❌ वृक्षसंवर्धन
2. ❌ पोमोलॉजी
3. ✓ जीवाश्मविज्ञान
4. ❌ शैवालविज्ञान

Question Number : 8 Question Id : 59445943431 Question Type : MCQ Option Shuffling : Yes Is Question Mandatory : No Option Orientation : Vertical

Correct Marks : 1 Wrong Marks : 0.25

The Florida Strait connects Gulf of Mexico and the _____ Ocean.

Options :

1. ❌ Pacific
2. ❌ Southern
3. ❌ Indian
4. ✓ Atlantic

Question Number : 8 Question Id : 59445943431 Question Type : MCQ Option Shuffling : Yes Is Question Mandatory : No Option Orientation : Vertical

Correct Marks : 1 Wrong Marks : 0.25

फ्लोरिडा जलसन्धि मेक्सिको की खाड़ी और _____ महासागर को जोड़ता है।

Options :

1. ❌ प्रशान्त
2. ❌ दक्षिणध्रुवीय
3. ❌ हिन्द
4. ✓ अटलांटिक

Question Number : 9 Question Id : 59445943432 Question Type : MCQ Option Shuffling : Yes Is Question Mandatory : No Option Orientation : Vertical

Correct Marks : 1 Wrong Marks : 0.25

The _____ mountain range continue eastwards as the Bharner and Kaimur hills.

Options :

1. ✖ Aravalli
2. ✔ Vindhya
3. ✖ Satpura
4. ✖ Western Ghats

Question Number : 9 Question Id : 59445943432 Question Type : MCQ Option Shuffling : Yes Is Question Mandatory : No Option Orientation : Vertical

Correct Marks : 1 Wrong Marks : 0.25

_____ पर्वतमाला पूर्व की ओर भारनेर और कैमूर पहाड़ियों के रूप में ओर जाती है।

Options :

1. ✖ अरावली
2. ✔ विंध्य
3. ✖ सतपुड़ा
4. ✖ पश्चिमी घाट

Question Number : 10 Question Id : 59445943433 Question Type : MCQ Option Shuffling : Yes Is Question Mandatory : No Option Orientation : Vertical

Correct Marks : 1 Wrong Marks : 0.25

Mahatma Gandhi referred to _____ as "keeper of my conscience".

Options :

1. ✖ Bal Gangadhar Tilak
2. ✔ Chakravarti Rajagopalachari
3. ✖ Dadabhai Naoroji
4. ✖ Gopal Krishna Gokhale

Question Number : 10 Question Id : 59445943433 Question Type : MCQ Option Shuffling : Yes Is Question Mandatory : No Option

Orientation : Vertical

Correct Marks : 1 Wrong Marks : 0.25

महात्मा गांधी ने _____ को "मेरी अंतरात्मा का रक्षक" कहा था।

Options :

1. ✗ बाल गंगाधर तिलक
2. ✓ चक्रवर्ती राजगोपालाचारी
3. ✗ दादाभाई नौरोजी
4. ✗ गोपाल कृष्ण गोखले

Question Number : 11 Question Id : 59445943434 Question Type : MCQ Option Shuffling : Yes Is Question Mandatory : No Option

Orientation : Vertical

Correct Marks : 1 Wrong Marks : 0.25

The Servants of India Society was formed in Pune in _____ by Gopal Krishna Gokhale.

Options :

1. ✗ 1921
2. ✗ 1908
3. ✓ 1905
4. ✗ 1910

Question Number : 11 Question Id : 59445943434 Question Type : MCQ Option Shuffling : Yes Is Question Mandatory : No Option

Orientation : Vertical

Correct Marks : 1 Wrong Marks : 0.25

सर्वेन्ट्स ऑफ इंडिया सोसायटी का गठन गोपाल कृष्ण गोखले द्वारा पुणे में _____ में किया गया था।

Options :

1. ✗ 1921
2. ✗ 1908
3. ✓ 1905
4. ✗ 1910

Question Number : 12 Question Id : 59445943435 Question Type : MCQ Option Shuffling : Yes Is Question Mandatory : No Option

Orientation : Vertical

Correct Marks : 1 Wrong Marks : 0.25

_____ won the MTV Movie & TV Award 2021 for 'Best Performance in a Show'.

Options :

1. ✗ Michaela Coel – I May Destroy You
2. ✓ Elizabeth Olsen – WandaVision
3. ✗ Emma Corrin – The Crown
4. ✗ Elliot Page – The Umbrella Academy

Question Number : 12 Question Id : 59445943435 Question Type : MCQ Option Shuffling : Yes Is Question Mandatory : No Option Orientation : Vertical

Correct Marks : 1 Wrong Marks : 0.25

_____ ने 'कार्यक्रम में सर्वश्रेष्ठ प्रदर्शन' के लिए MTV मूवी एंड टीवी पुरस्कार 2021 जीता।

Options :

1. ✗ मिकेला कोल- आई मे डिस्ट्रॉय यू
2. ✓ एलिज़ाबेथ ऑल्सन - वांडाविज़न
3. ✗ एम्मा कोरिन - द क्राउन
4. ✗ इलियट पेज - द अम्ब्रेला अकादमी

Question Number : 13 Question Id : 59445943436 Question Type : MCQ Option Shuffling : Yes Is Question Mandatory : No Option Orientation : Vertical

Correct Marks : 1 Wrong Marks : 0.25

Which among the following countries hosted the BRICS summit in 2020?

Options :

1. ✗ China
2. ✗ Brazil
3. ✓ Russia
4. ✗ India

Question Number : 13 Question Id : 59445943436 Question Type : MCQ Option Shuffling : Yes Is Question Mandatory : No Option Orientation : Vertical

Correct Marks : 1 Wrong Marks : 0.25

निम्नलिखित में से किस देश ने 2020 में ब्रिक्स सम्मेलन की मेजबानी की?

Options :

1. ✖ चीन
2. ✖ ब्राज़ील
3. ✔ रूस
4. ✖ भारत

Question Number : 14 Question Id : 59445943437 Question Type : MCQ Option Shuffling : Yes Is Question Mandatory : No Option Orientation : Vertical

Correct Marks : 1 Wrong Marks : 0.25

Which among the following state governments has launched the 'Maru Gam - Corona Mukta Gam' campaign in May 2021?

Options :

1. ✖ Bihar
2. ✖ Rajasthan
3. ✖ Jharkhand
4. ✔ Gujarat

Question Number : 14 Question Id : 59445943437 Question Type : MCQ Option Shuffling : Yes Is Question Mandatory : No Option Orientation : Vertical

Correct Marks : 1 Wrong Marks : 0.25

निम्नलिखित में से किस राज्य सरकार ने मई 2021 में 'मारू गाम- कोरोना मुक्त गाम' अभियान शुरू किया है?

Options :

1. ✖ बिहार
2. ✖ राजस्थान
3. ✖ झारखण्ड
4. ✔ गुजरात

Question Number : 15 Question Id : 59445943438 Question Type : MCQ Option Shuffling : Yes Is Question Mandatory : No Option Orientation : Vertical

Correct Marks : 1 Wrong Marks : 0.25

Budget carrier GoAir has rebranded itself into ultra-low cost airline known as _____ in May 2021.

Options :

1. ✖ Go India
2. ✖ Go Craft
3. ✔ Go First
4. ✖ Go Jet

Question Number : 15 Question Id : 59445943438 Question Type : MCQ Option Shuffling : Yes Is Question Mandatory : No Option Orientation : Vertical

Correct Marks : 1 Wrong Marks : 0.25

बजट वाहक कंपनी गोएयर ने मई 2021 में _____ के नाम से जानी जाने वाली अल्ट्रा-लो कॉस्ट एयरलाइन में खुद को रीब्रांड किया है।

Options :

1. ✖ गो इंडिया
2. ✖ गो क्राफ्ट
3. ✔ गो फर्स्ट
4. ✖ गो जेट

Question Number : 16 Question Id : 59445943439 Question Type : MCQ Option Shuffling : Yes Is Question Mandatory : No Option Orientation : Vertical

Correct Marks : 1 Wrong Marks : 0.25

Wealth management platform Grow has signed a definitive agreement with Indiabulls Housing Finance to acquire Indiabulls Mutual Fund for _____ crores in May 2021.

Options :

1. ✖ Rs 150
2. ✔ Rs 175
3. ✖ Rs 125
4. ✖ Rs 200

Question Number : 16 Question Id : 59445943439 Question Type : MCQ Option Shuffling : Yes Is Question Mandatory : No Option Orientation : Vertical

Correct Marks : 1 Wrong Marks : 0.25

धन प्रबंधन मंच, ग्रो ने इंडियाबुल्स हाउसिंग फाइनेंस के साथ मई 2021 में _____ करोड़ में इंडियाबुल्स म्यूचुअल फंड का अधिग्रहण करने के लिए निश्चित समझौते पर हस्ताक्षर किए हैं।

Options :

1. ✖ 150 रुपए
2. ✔ 175 रुपए
3. ✖ 125 रुपए
4. ✖ 200 रुपए

Question Number : 17 Question Id : 59445943440 Question Type : MCQ Option Shuffling : Yes Is Question Mandatory : No Option Orientation : Vertical

Correct Marks : 1 Wrong Marks : 0.25

Who among the following is referred to as the nominal executive of India?

Options :

1. ✖ Vice President
2. ✖ Chief Justice
3. ✔ President
4. ✖ Prime Minister

Question Number : 17 Question Id : 59445943440 Question Type : MCQ Option Shuffling : Yes Is Question Mandatory : No Option Orientation : Vertical

Correct Marks : 1 Wrong Marks : 0.25

निम्नलिखित में से किसे भारत के नाममात्र प्रमुख के रूप में जाना जाता है?

Options :

1. ✖ उपराष्ट्रपति
2. ✖ मुख्य न्यायाधीश
3. ✔ राष्ट्रपति
4. ✖ प्रधान मंत्री

Question Number : 18 Question Id : 59445943441 Question Type : MCQ Option Shuffling : Yes Is Question Mandatory : No Option Orientation : Vertical

Correct Marks : 1 Wrong Marks : 0.25

Which among the following Constitutional Amendments led to creation of Legislative Assemblies for Himachal Pradesh, Tripura, Manipur, Goa, Daman & Diu and Pondicherry?

Options :

1. ✖ 18th

- 2. ✓ 14th
- 3. ✗ 26th
- 4. ✗ 20th

Question Number : 18 Question Id : 59445943441 Question Type : MCQ Option Shuffling : Yes Is Question Mandatory : No Option Orientation : Vertical

Correct Marks : 1 Wrong Marks : 0.25

निम्नलिखित में से किस संवैधानिक संशोधन ने हिमाचल प्रदेश, त्रिपुरा, मणिपुर, गोवा, दमन और दीव और पोंडीचेरी के लिए विधान सभाओं का निर्माण किया?

Options :

- 1. ✗ 18वीं
- 2. ✓ 14वीं
- 3. ✗ 26वीं
- 4. ✗ 20वीं

Question Number : 19 Question Id : 59445943442 Question Type : MCQ Option Shuffling : Yes Is Question Mandatory : No Option Orientation : Vertical

Correct Marks : 1 Wrong Marks : 0.25

Who was the first Indian recipient of Wisden Leading Cricketer in the World?

Options :

- 1. ✗ Rahul Dravid
- 2. ✓ Virender Sehwag
- 3. ✗ Mahendra Singh Dhoni
- 4. ✗ Sourav Ganguly

Question Number : 19 Question Id : 59445943442 Question Type : MCQ Option Shuffling : Yes Is Question Mandatory : No Option Orientation : Vertical

Correct Marks : 1 Wrong Marks : 0.25

विश्व में विज्डन लीडिंग क्रिकेटर का पहला भारतीय प्राप्तकर्ता कौन था?

Options :

- 1. ✗ राहुल द्रविड़
- 2. ✓ वीरेन्द्र सहवाग

3. ✖ महेंद्र सिंह धोनी
4. ✖ सौरव गांगुली

Question Number : 20 Question Id : 59445943443 Question Type : MCQ Option Shuffling : Yes Is Question Mandatory : No Option Orientation : Vertical

Correct Marks : 1 Wrong Marks : 0.25

Which among the following teams won 2021 UEFA Women's Champions League?

Options :

1. ✔ Barcelona
2. ✖ Chelsea
3. ✖ Lyon
4. ✖ Zurich

Question Number : 20 Question Id : 59445943443 Question Type : MCQ Option Shuffling : Yes Is Question Mandatory : No Option Orientation : Vertical

Correct Marks : 1 Wrong Marks : 0.25

निम्नलिखित में से किस टीम ने 2021 UEFA महिला चैम्पियन्स लीग जीती?

Options :

1. ✔ बार्सिलोना
2. ✖ चेलसी
3. ✖ ल्यों
4. ✖ ज्यूरिख

General Ability

Group Number :	2
Group Id :	594459998
Group Maximum Duration :	0
Group Minimum Duration :	0
Show Attended Group? :	No
Edit Attended Group? :	No

Break time : 0
 Group Marks : 20
 Is this Group for Examiner? : No

General Ability

Section Id : 5944591723
 Section Number : 1
 Section type : Online
 Mandatory or Optional : Mandatory
 Number of Questions : 20
 Number of Questions to be attempted : 20
 Section Marks : 20
 Enable Mark as Answered Mark for Review and Clear Response : Yes
 Sub-Section Number : 1
 Sub-Section Id : 5944592005
 Question Shuffling Allowed : Yes

Question Number : 21 Question Id : 59445943444 Question Type : MCQ Option Shuffling : Yes Is Question Mandatory : No Option Orientation : Vertical

Correct Marks : 1 Wrong Marks : 0.25

Complete the following series:

R4P, T49M, V144J, X289G, ____

Options :

1. ✖ C484Z
2. ✖ V484X
3. ✖ X484V
4. ✔ Z484D

Question Number : 21 Question Id : 59445943444 Question Type : MCQ Option Shuffling : Yes Is Question Mandatory : No Option Orientation : Vertical

Correct Marks : 1 Wrong Marks : 0.25

निम्नलिखित श्रृंखला को पूरा करें:

R4P, T49M, V144J, X289G, ____

Options :

1. ✗ C484Z
2. ✗ V484X
3. ✗ X484V
4. ✓ Z484D

Question Number : 22 Question Id : 59445943445 Question Type : MCQ Option Shuffling : Yes Is Question Mandatory : No Option Orientation : Vertical

Correct Marks : 1 Wrong Marks : 0.25

Find the missing term in the given series:

AC4, BE7, EI14, ?, QW40

Options :

1. ✗ MH10
2. ✗ JL63
3. ✗ JQ30
4. ✓ JO25

Question Number : 22 Question Id : 59445943445 Question Type : MCQ Option Shuffling : Yes Is Question Mandatory : No Option Orientation : Vertical

Correct Marks : 1 Wrong Marks : 0.25

दी गई श्रृंखला में लुप्त पद ज्ञात करें:

AC4, BE7, EI14, ?, QW40

Options :

1. ✗ MH10
2. ✗ JL63
3. ✗ JQ30
4. ✓ JO25

Question Number : 23 Question Id : 59445943446 Question Type : MCQ Option Shuffling : Yes Is Question Mandatory : No Option Orientation : Vertical

Correct Marks : 1 Wrong Marks : 0.25

Out of the given options, three are similar in a certain manner. However, one option is NOT like the other three. Select the option which is different from the rest.

Options :

1. ✖ Taj Mahal
2. ✖ Machu Picchu
3. ✖ Great Wall of China
4. ✔ Statue of Unity

Question Number : 23 Question Id : 59445943446 Question Type : MCQ Option Shuffling : Yes Is Question Mandatory : No Option Orientation : Vertical

Correct Marks : 1 Wrong Marks : 0.25

दिए गए विकल्पों में से तीन एक निश्चित तरीके से समान हैं। हालाँकि, एक विकल्प अन्य तीन की तरह नहीं है। उस विकल्प का चयन करें जो अन्य से अलग है।

Options :

1. ✖ ताजमहल
2. ✖ माचू पिच्चू
3. ✖ चीन की विशाल दीवार
4. ✔ स्टैच्यू ऑफ यूनिटी

Question Number : 24 Question Id : 59445943447 Question Type : MCQ Option Shuffling : Yes Is Question Mandatory : No Option Orientation : Vertical

Correct Marks : 1 Wrong Marks : 0.25

Out of the given options, three are similar in a certain manner. However, one option is NOT like the other three. Select the option which is different from the rest.

Options :

1. ✖ HEA
2. ✔ LIF
3. ✖ TQM
4. ✖ KHD

Question Number : 24 Question Id : 59445943447 Question Type : MCQ Option Shuffling : Yes Is Question Mandatory : No Option Orientation : Vertical

Correct Marks : 1 Wrong Marks : 0.25

दिए गए विकल्पों में से तीन एक निश्चित तरीके से समान हैं। हालाँकि, एक विकल्प अन्य तीन की तरह नहीं है। उस विकल्प का चयन करें जो अन्य से अलग है।

Options :

1. ✗ HEA
2. ✓ LIF
3. ✗ TQM
4. ✗ KHD

Question Number : 25 Question Id : 59445943448 Question Type : MCQ Option Shuffling : Yes Is Question Mandatory : No Option Orientation : Vertical

Correct Marks : 1 Wrong Marks : 0.25

Select the pair that is related on the same basis to the pair given in the question.

ABD : EGH

Options :

1. ✓ IJL : MOP
2. ✗ GHJ : KLN
3. ✗ OPR : UTY
4. ✗ IKL : NRT

Question Number : 25 Question Id : 59445943448 Question Type : MCQ Option Shuffling : Yes Is Question Mandatory : No Option Orientation : Vertical

Correct Marks : 1 Wrong Marks : 0.25

उस जोड़ी का चयन करें जो प्रश्न में दी गई जोड़ी से समान प्रकार से संबंधित है।

ABD : EGH

Options :

1. ✓ IJL : MOP
2. ✗ GHJ : KLN
3. ✗ OPR : UTY
4. ✗ IKL : NRT

Question Number : 26 Question Id : 59445943449 Question Type : MCQ Option Shuffling : Yes Is Question Mandatory : No Option Orientation : Vertical

Correct Marks : 1 Wrong Marks : 0.25

Select the option that is related to the third term on the same basis as the second term is related to the first term.

Virat Kohli : Cricket :: Dhyan Chand : ?

Options :

1. ✖ Football
2. ✖ Chess
3. ✖ Volleyball
4. ✔ Hockey

Question Number : 26 Question Id : 59445943449 Question Type : MCQ Option Shuffling : Yes Is Question Mandatory : No Option Orientation : Vertical

Correct Marks : 1 Wrong Marks : 0.25

उस विकल्प का चयन करें जो तीसरे पद से उसी प्रकार से संबंधित है जिस प्रकार से दूसरा पद पहले पद से संबंधित है।

विराट कोहली : क्रिकेट :: ध्यानचंद : ?

Options :

1. ✖ फुटबॉल
2. ✖ शतरंज
3. ✖ वालीबॉल
4. ✔ हॉकी

Question Number : 27 Question Id : 59445943450 Question Type : MCQ Option Shuffling : Yes Is Question Mandatory : No Option Orientation : Vertical

Correct Marks : 1 Wrong Marks : 0.25

If 'clock' is called 'bowl', 'bowl' is called 'spoon', 'spoon' is called 'mixer', 'mixer' is called 'fork', 'fork' is called 'knife' then what is used to make juice?

Options :

1. ✖ Bowl
2. ✔ Fork

3. ✖ Mixer
4. ✖ Knife

Question Number : 27 Question Id : 59445943450 Question Type : MCQ Option Shuffling : Yes Is Question Mandatory : No Option Orientation : Vertical

Correct Marks : 1 Wrong Marks : 0.25

यदि 'घड़ी' को 'कटोरा' कहा गया है, 'कटोरा' को 'चम्मच' कहा गया है, 'चम्मच' को 'मिक्सर' कहा गया है, 'मिक्सर' को 'कांटा' कहा गया है, 'कांटा' को 'चाकू' कहा गया है, तो रस बनाने के लिए किस का प्रयोग किया जाता है?

Options :

1. ✖ कटोरा
2. ✔ कांटा
3. ✖ मिक्सर
4. ✖ चाकू

Question Number : 28 Question Id : 59445943451 Question Type : MCQ Option Shuffling : Yes Is Question Mandatory : No Option Orientation : Vertical

Correct Marks : 1 Wrong Marks : 0.25

In a certain code language — "money is required" is written as "yon le tee", "is tea be" is written as "yon berte mok", "required fan be" is coded as "tee berte gym". What may be the possible code for "Money is everything"?

Options :

1. ✖ yon tee mok
2. ✖ Berte tee gym
3. ✖ Yon mok ger
4. ✔ Yon le ger

Question Number : 28 Question Id : 59445943451 Question Type : MCQ Option Shuffling : Yes Is Question Mandatory : No Option Orientation : Vertical

Correct Marks : 1 Wrong Marks : 0.25

एक निश्चित कोड भाषा में — "money is required" को "yon le Tee" के रूप में लिखा गया है, "is tea be" को "yon berte mok" के रूप में लिखा गया है, "required fan be" को "tee berte gym" के रूप में कोडित किया गया है। "Money is everything" के लिए संभावित कोड क्या हो सकता है?

Options :

1. ✖ yon tee mok

2. ✖ Berte tee gym
3. ✖ Yon mok ger
4. ✔ Yon le ger

Question Number : 29 Question Id : 59445943452 Question Type : MCQ Option Shuffling : Yes Is Question Mandatory : No Option Orientation : Vertical

Correct Marks : 1 Wrong Marks : 0.25

Some players are standing in a row. Ravi is fifth from the right and is ten places away to the right of Anil, who has as many players to his left as to his right. How many players are standing in the row?

Options :

1. ✖ 24
2. ✖ 28
3. ✖ 25
4. ✔ 29

Question Number : 29 Question Id : 59445943452 Question Type : MCQ Option Shuffling : Yes Is Question Mandatory : No Option Orientation : Vertical

Correct Marks : 1 Wrong Marks : 0.25

कुछ खिलाड़ी एक रौ में खड़े हैं। रवि दाएं से पांचवें स्थान पर है और अनिल के दाएं से दस स्थान दूर है, जिसके बाएं ओर उतने ही खिलाड़ी हैं जितने उसके दाएं ओर है। रौ में कितने खिलाड़ी खड़े हैं?

Options :

1. ✖ 24
2. ✖ 28
3. ✖ 25
4. ✔ 29

Question Number : 30 Question Id : 59445943453 Question Type : MCQ Option Shuffling : Yes Is Question Mandatory : No Option Orientation : Vertical

Correct Marks : 1 Wrong Marks : 0.25

Pointing to the photograph of a girl Sona, Tony said, "My mother has only one son who is the Maternal uncle of Sona's daughter." Sona has only one sibling. How is Tony related to Sona?

Options :

1. ✖ Father
2. ✖ Husband
3. ✔ Brother
4. ✖ Son-in-law

Question Number : 30 Question Id : 59445943453 Question Type : MCQ Option Shuffling : Yes Is Question Mandatory : No Option Orientation : Vertical

Correct Marks : 1 Wrong Marks : 0.25

एक लड़की सोना की तस्वीर की ओर इशारा करते हुए, टोनी ने कहा, "मेरी माता का केवल एक बेटा है जो सोना की बेटी का मामा है।" सोना के केवल एक भाई है। टोनी, सोना से किस प्रकार संबंधित है?

Options :

1. ✖ पिता
2. ✖ पति
3. ✔ भाई
4. ✖ दामाद

Question Number : 31 Question Id : 59445943454 Question Type : MCQ Option Shuffling : Yes Is Question Mandatory : No Option Orientation : Vertical

Correct Marks : 1 Wrong Marks : 0.25

In the question one statement is given, followed by two conclusions, I and II. You have to consider the statement to be true even if it seems to be at variance from commonly known facts. You have to decide which of the given conclusions, if any, follows from the given statement.

Statement:

Although the proportion of urban population residing in slums today is lower than a decade ago, the absolute number of slum dwellers continue to increase.

Conclusions:

- I. Rapid urbanization has resulted in expansion of cities while the slums remained the same.
- II. The population of the slum dwellers is increasing but at a slower rate than urban population.

Options :

1. ✖ Only I follows.
2. ✔ Only II follows.
3. ✖ Both I and II follow.

4. ✖ Neither I nor II follows.

Question Number : 31 Question Id : 59445943454 Question Type : MCQ Option Shuffling : Yes Is Question Mandatory : No Option Orientation : Vertical

Correct Marks : 1 Wrong Marks : 0.25

प्रश्न में, एक कथन दिया गया है, जिसके बाद दो निष्कर्ष I और II दिए गए हैं। आपको कथन को सत्य मानना है, भले ही यह सामान्यतः ज्ञात तथ्य से भिन्न प्रतीत हो। आपको निर्णय लेना है कि दिए गए निष्कर्षों में से कौन सा, यदि कोई हो, कथन में से अनुसरण करता है।

कथन:

यद्यपि आज झुग्गी बस्तियों में रहने वाली शहरी जनसंख्या का अनुपात एक दशक पहले की तुलना में कम है, फिर भी झुग्गी-झोपड़ियों में रहने वालों की कुल संख्या में वृद्धि जारी है।

निष्कर्ष:

- I. तेजी से हो रहे शहरीकरण के परिणामस्वरूप शहरों का विस्तार हुआ है जबकि झुग्गी बस्तियां जस की तस बनी हुई हैं।
- II. झुग्गी बस्तियों में रहने वालों की जनसंख्या बढ़ रही है लेकिन शहरी जनसंख्या की तुलना में धीमी गति से बढ़ रही हैं।

Options :

1. ✖ केवल I अनुसरण करता है।
2. ✔ केवल II अनुसरण करता है।
3. ✖ I और II दोनों अनुसरण करते हैं।
4. ✖ न I और न ही II अनुसरण करता है।

Question Number : 32 Question Id : 59445943455 Question Type : MCQ Option Shuffling : Yes Is Question Mandatory : No Option Orientation : Vertical

Correct Marks : 1 Wrong Marks : 0.25

In this question, a statement has been given, followed by two assumption numbered I and II. Analyse the two assumptions together and determine which of them follows.

Statement:

Now that the professor has gone through the manual; he can start the experiment.

Assumptions:

- I. The professor has understood the instructions to perform the experiment.
- II. The professor is capable of performing the experiment.

Options :

1. ✖ Only I follows.
2. ✖ Only II follows.
3. ✔ Both I and II follow.
4. ✖ Neither I nor II follows.

Question Number : 32 Question Id : 59445943455 Question Type : MCQ Option Shuffling : Yes Is Question Mandatory : No Option Orientation : Vertical

Correct Marks : 1 Wrong Marks : 0.25

इस प्रश्न में एक कथन दिया गया है, जिसके बाद दो धारणाएं I और II दी गई हैं। दो धारणाओं का एक साथ विश्लेषण करें और निर्धारित करें कि उनमें से कौन सा अनुसरण करता है

कथन:

अब जबकि प्राध्यापक मैनुअल को पढ़ चुके हैं; वह प्रयोग शुरू कर सकते हैं।

धारणाएं:

- I. प्राध्यापक ने प्रयोग करने के निर्देशों को समझ लिया है।
- II. प्राध्यापक प्रयोग करने में सक्षम है।

Options :

1. ✖ केवल I अनुसरण करता हैं।
2. ✖ केवल II अनुसरण करता हैं।
3. ✔ I और II दोनों अनुसरण करते हैं।
4. ✖ न I और न ही II अनुसरण करता है।

Question Number : 33 Question Id : 59445943456 Question Type : MCQ Option Shuffling : Yes Is Question Mandatory : No Option Orientation : Vertical

Correct Marks : 1 Wrong Marks : 0.25

Which two signs should be interchanged to make the below equation mathematically correct?

$$3 + 32 \div 2 - 10 \times 4 = 42$$

Options :

1. ✖ \div and $+$
2. ✔ $+$ and \times
3. ✖ \div and $-$

4. ✖ - and ×

Question Number : 33 Question Id : 59445943456 Question Type : MCQ Option Shuffling : Yes Is Question Mandatory : No Option Orientation : Vertical

Correct Marks : 1 Wrong Marks : 0.25

नीचे दिए गए समीकरण को सही बनाने के लिए किन दो चिन्हों को गणितीय रूप से परस्पर बदलना चाहिए?

$$3 + 32 \div 2 - 10 \times 4 = 42$$

Options :

1. ✖ ÷ और +
2. ✓ + और ×
3. ✖ ÷ और -
4. ✖ - और ×

Question Number : 34 Question Id : 59445943457 Question Type : MCQ Option Shuffling : Yes Is Question Mandatory : No Option Orientation : Vertical

Correct Marks : 1 Wrong Marks : 0.25

Out of the given options, three are similar in a certain manner. However, one option is NOT like the other three. Select the option which is different from the rest.

Options :

1. ✖ (7, 350)
2. ✓ (6, 220)
3. ✖ (8, 520)
4. ✖ (9, 738)

Question Number : 34 Question Id : 59445943457 Question Type : MCQ Option Shuffling : Yes Is Question Mandatory : No Option Orientation : Vertical

Correct Marks : 1 Wrong Marks : 0.25

दिए गए विकल्पों में से तीन एक निश्चित तरीके से समान हैं। हालाँकि, एक विकल्प अन्य तीन की तरह नहीं है। उस विकल्प का चयन करें जो अन्य से अलग है।

Options :

1. ✖ (7, 350)
2. ✓ (6, 220)

3. ✖ (8, 520)

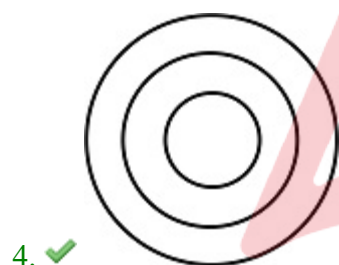
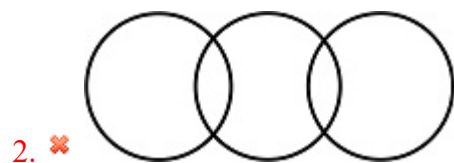
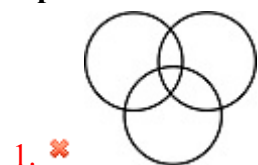
4. ✖ (9, 738)

Question Number : 35 Question Id : 59445943458 Question Type : MCQ Option Shuffling : Yes Is Question Mandatory : No Option Orientation : Vertical

Correct Marks : 1 Wrong Marks : 0.25

Which of the following Venn diagrams best represents the relationship between Days, Weeks and months?

Options :

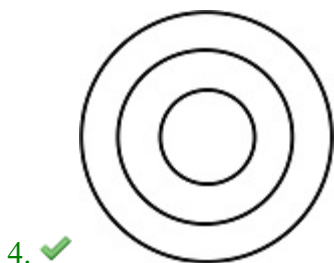
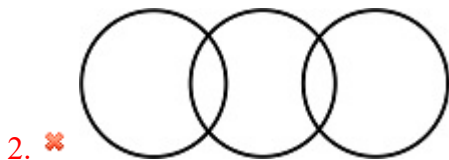
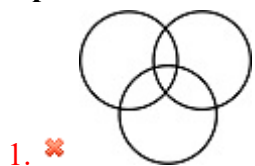


Question Number : 35 Question Id : 59445943458 Question Type : MCQ Option Shuffling : Yes Is Question Mandatory : No Option Orientation : Vertical

Correct Marks : 1 Wrong Marks : 0.25

निम्नलिखित में से कौन सा वेन आरेख दिन, सप्ताह और महीनों के बीच के संबंध को सबसे अच्छा दर्शाता है?

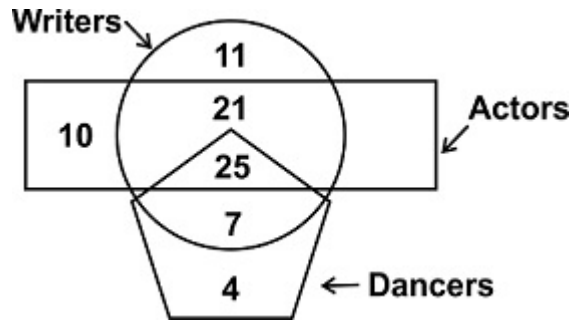
Options :



Question Number : 36 Question Id : 59445943459 Question Type : MCQ Option Shuffling : Yes Is Question Mandatory : No Option Orientation : Vertical

Correct Marks : 1 Wrong Marks : 0.25

In the following Venn Diagram, the circle represents 'writers', the Pentagon represents 'dancers' and the rectangle represents 'actors'. The number given in the diagram represents the member of persons of that particular category.
How many writers are there who are neither an actors nor dancers?



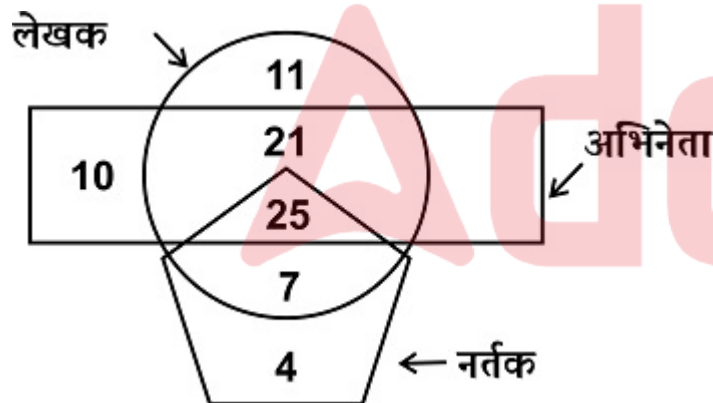
Options :

1. ✓ 11
2. ✗ 32
3. ✗ 25
4. ✗ 28

Question Number : 36 Question Id : 59445943459 Question Type : MCQ Option Shuffling : Yes Is Question Mandatory : No Option Orientation : Vertical

Correct Marks : 1 Wrong Marks : 0.25

निम्नलिखित वेन आरेख में, वृत्त 'लेखकों' का प्रतिनिधित्व करता है, पंचभुज 'नर्तक' का प्रतिनिधित्व करता है और आयत 'अभिनेताओं' का प्रतिनिधित्व करता है। आरेख में दी गई संख्या उस विशेष श्रेणी के व्यक्तियों के सदस्य का प्रतिनिधित्व करती है। कितने लेखक हैं जो न तो अभिनेता हैं और न ही नर्तक हैं?



Options :

1. ✓ 11
2. ✗ 32

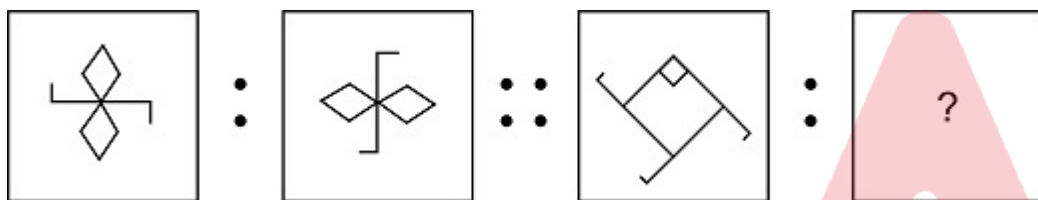
3. ✖ 25

4. ✖ 28

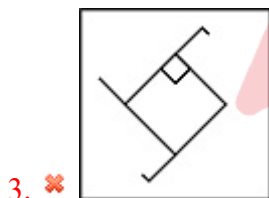
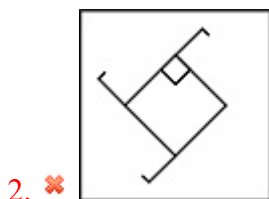
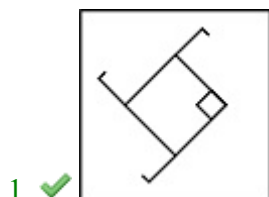
Question Number : 37 Question Id : 59445943460 Question Type : MCQ Option Shuffling : Yes Is Question Mandatory : No Option Orientation : Vertical

Correct Marks : 1 Wrong Marks : 0.25

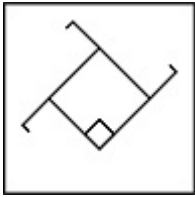
Select the option that is related to the third image on the same basis as the second image is related to the first image.



Options :



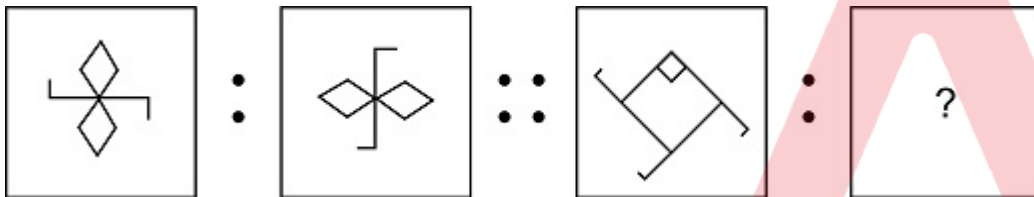
4. ✖



Question Number : 37 Question Id : 59445943460 Question Type : MCQ Option Shuffling : Yes Is Question Mandatory : No Option Orientation : Vertical

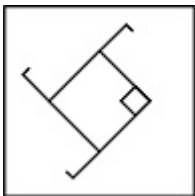
Correct Marks : 1 Wrong Marks : 0.25

उस विकल्प का चयन करें जो तीसरी छवि से उसी प्रकार से संबंधित है जिस प्रकार से दूसरी छवि पहली छवि से संबंधित है।

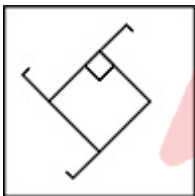


Options :

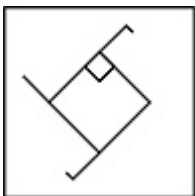
1. ✔

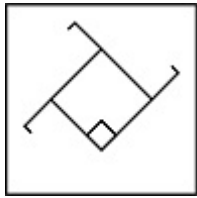


2. ✖



3. ✖



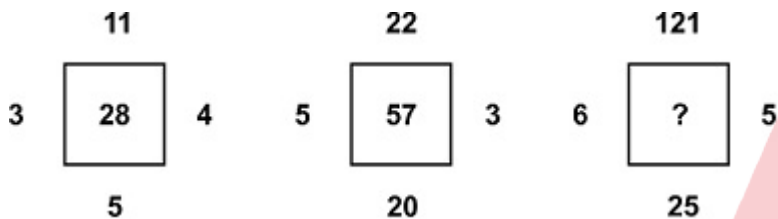


4. ✖

Question Number : 38 Question Id : 59445943461 Question Type : MCQ Option Shuffling : Yes Is Question Mandatory : No Option Orientation : Vertical

Correct Marks : 1 Wrong Marks : 0.25

Find the missing figure in the given series:



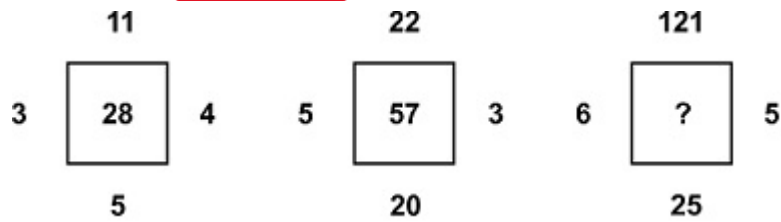
Options :

1. ✔ 176
2. ✖ 115
3. ✖ 157
4. ✖ 131

Question Number : 38 Question Id : 59445943461 Question Type : MCQ Option Shuffling : Yes Is Question Mandatory : No Option Orientation : Vertical

Correct Marks : 1 Wrong Marks : 0.25

दी गई श्रृंखला में लुप्त आकृति ज्ञात करें :



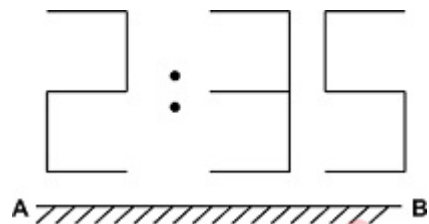
Options :

1. ✓ 176
2. ✗ 115
3. ✗ 157
4. ✗ 131

Question Number : 39 Question Id : 59445943462 Question Type : MCQ Option Shuffling : Yes Is Question Mandatory : No Option Orientation : Vertical

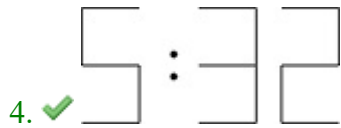
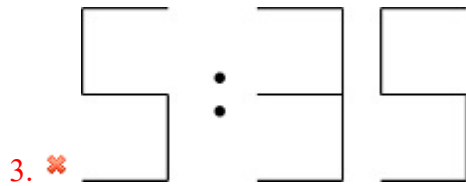
Correct Marks : 1 Wrong Marks : 0.25

If a mirror is placed on the line AB, then which of the answer figures is the correct mirror image of the given figure?



Options :

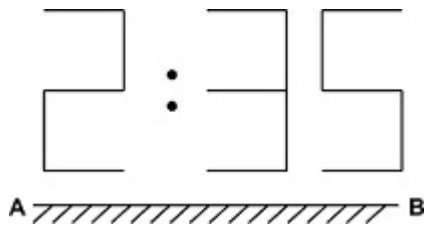
1. ✗
2. ✗



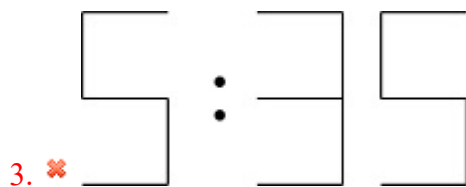
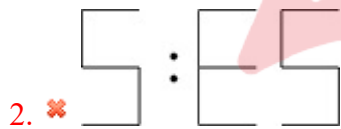
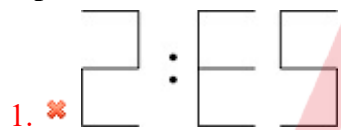
Question Number : 39 Question Id : 59445943462 Question Type : MCQ Option Shuffling : Yes Is Question Mandatory : No Option Orientation : Vertical

Correct Marks : 1 Wrong Marks : 0.25

यदि एक दर्पण को रेखा AB पर रखा जाता है, तो उत्तर आकृति में से कौन सी दी गई आकृति की सही दर्पण छवि है?



Options :

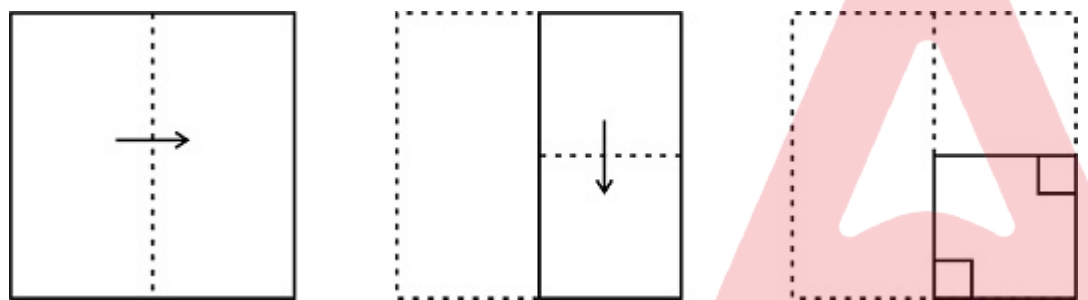


4. ✓ 5 : 3 2

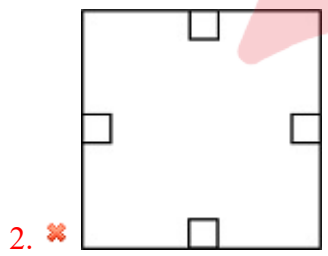
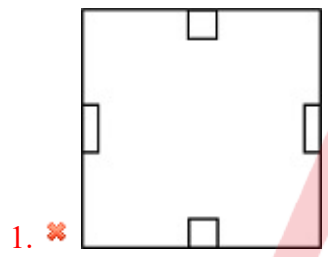
Question Number : 40 Question Id : 59445943463 Question Type : MCQ Option Shuffling : Yes Is Question Mandatory : No Option Orientation : Vertical

Correct Marks : 1 Wrong Marks : 0.25

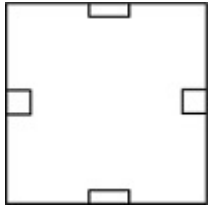
The sequence of folding a piece of paper and the manner in which the folded paper has been cut is shown in the following figures. How would this paper look when unfolded?



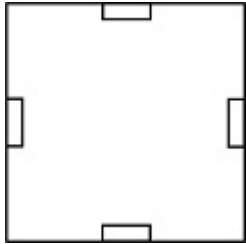
Options :



3. ✖



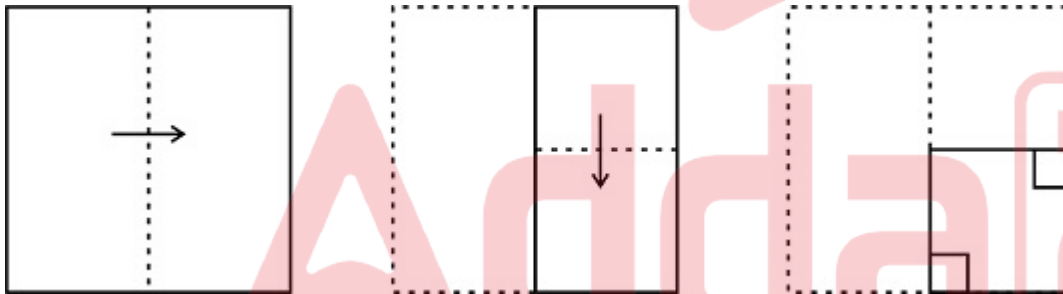
4. ✔



Question Number : 40 Question Id : 59445943463 Question Type : MCQ Option Shuffling : Yes Is Question Mandatory : No Option Orientation : Vertical

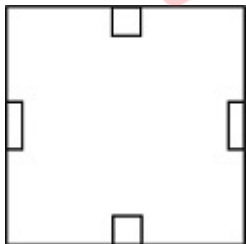
Correct Marks : 1 Wrong Marks : 0.25

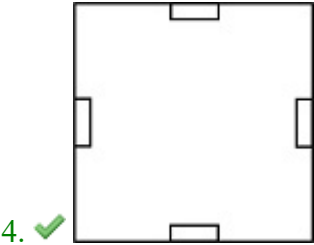
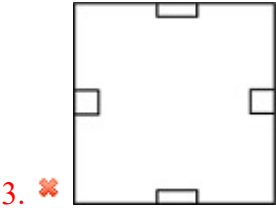
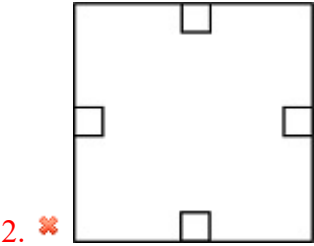
कागज के एक टुकड़े के चलन का क्रम और जिस तरीके से मुड़े हुए कागज को काटा गया है, उसे निम्नलिखित आकृतियों में दिखाया गया है। कागज को खोलने पर यह कैसा दिखेगा?



Options :

1. ✖





Arithmetic Ability

Group Number :
Group Id :
Group Maximum Duration :
Group Minimum Duration :
Show Attended Group? :
Edit Attended Group? :
Break time :
Group Marks :
Is this Group for Examiner? :

3
594459999
0
0
No
No
0
20
No

Arithmetic Ability

Section Id :	5944591724
Section Number :	1
Section type :	Online
Mandatory or Optional :	Mandatory
Number of Questions :	20
Number of Questions to be attempted :	20
Section Marks :	20
Enable Mark as Answered Mark for Review and Clear Response :	Yes
Sub-Section Number :	1
Sub-Section Id :	5944592006
Question Shuffling Allowed :	Yes

Question Number : 41 Question Id : 59445943464 Question Type : MCQ Option Shuffling : Yes Is Question Mandatory : No Option Orientation : Vertical

Correct Marks : 1 Wrong Marks : 0.25

3 runners X, Y and Z start running on a track. Towards the end of the race, it is found that Y is 10% slower than X and Z is 10% slower than Y. Find the distance by which X beat Z if the track was 500 m long.

Options :

1. ✗ 81 m
2. ✗ 85.5 m
3. ✗ 90.5 m
4. ✓ 95 m

Question Number : 41 Question Id : 59445943464 Question Type : MCQ Option Shuffling : Yes Is Question Mandatory : No Option Orientation : Vertical

Correct Marks : 1 Wrong Marks : 0.25

3 दौड़ाक X, Y और Z एक पथ पर दौड़ना शुरू करते हैं। दौड़ के अंत में, यह पाया गया कि Y, X की तुलना में 10% धीमा है और Z, Y से 10% धीमा है। यदि पथ 500 m लंबा था, तो वह दूरी ज्ञात करें जिससे X, Z को हराता है।

Options :

1. ✗ 81 m

2. ✖ 85.5 m
3. ✖ 90.5 m
4. ✔ 95 m

Question Number : 42 Question Id : 59445943465 Question Type : MCQ Option Shuffling : Yes Is Question Mandatory : No Option Orientation : Vertical

Correct Marks : 1 Wrong Marks : 0.25

Find the least number that should be added to 999 to make it a multiple of 11.

Options :

1. ✔ 2
2. ✖ 11
3. ✖ 13
4. ✖ 25

Question Number : 42 Question Id : 59445943465 Question Type : MCQ Option Shuffling : Yes Is Question Mandatory : No Option Orientation : Vertical

Correct Marks : 1 Wrong Marks : 0.25

सबसे छोटी संख्या ज्ञात करें जिसे 999 में जोड़ना चाहिए ताकि यह 11 का गुणज बन जाए।

Options :

1. ✔ 2
2. ✖ 11
3. ✖ 13
4. ✖ 25

Question Number : 43 Question Id : 59445943466 Question Type : MCQ Option Shuffling : Yes Is Question Mandatory : No Option Orientation : Vertical

Correct Marks : 1 Wrong Marks : 0.25

On a commodity priced at Rs 400, a trade discount of 15% is offered and a cash discount of 20% is offered after the trade discount. What is the value of the cash discount?

Options :

1. ✔ Rs 68
2. ✖ Rs 34

3. ✖ Rs 51

4. ✖ Rs 102

Question Number : 43 Question Id : 59445943466 Question Type : MCQ Option Shuffling : Yes Is Question Mandatory : No Option Orientation : Vertical

Correct Marks : 1 Wrong Marks : 0.25

400 रुपए के मूल्य की वस्तु पर, 15% की व्यापार छूट की पेशकश की जाती है और व्यापार छूट के बाद 20% की नकद छूट की पेशकश की जाती है। नकद छूट का मूल्य क्या है?

Options :

1. ✔ 68 रुपए

2. ✖ 34 रुपए

3. ✖ 51 रुपए

4. ✖ 102 रुपए

Question Number : 44 Question Id : 59445943467 Question Type : MCQ Option Shuffling : Yes Is Question Mandatory : No Option Orientation : Vertical

Correct Marks : 1 Wrong Marks : 0.25

A seller's revenue for the month of March was Rs 50,000. For the month of April, the number of units that he sold dropped by 10% because the sale price increased by 20%. Find his revenue for the month of April.

Options :

1. ✖ Rs 52,500

2. ✔ Rs 54,000

3. ✖ Rs 55,500

4. ✖ Rs 58,000

Question Number : 44 Question Id : 59445943467 Question Type : MCQ Option Shuffling : Yes Is Question Mandatory : No Option Orientation : Vertical

Correct Marks : 1 Wrong Marks : 0.25

एक विक्रेता का मार्च के महीने में राजस्व 50,000 रुपए था। अप्रैल के महीने में, उसके द्वारा बेची गई इकाइयों की संख्या में 10% की गिरावट आई क्योंकि बिक्री मूल्य में 20% की वृद्धि की गई थी। अप्रैल महीने के लिए उसका राजस्व ज्ञात करें।

Options :

1. ✖ 52,500 रुपए

- 2. ✓ 54,000 रुपए
- 3. ✗ 55,500 रुपए
- 4. ✗ 58,000 रुपए

Question Number : 45 Question Id : 59445943468 Question Type : MCQ Option Shuffling : Yes Is Question Mandatory : No Option Orientation : Vertical

Correct Marks : 1 Wrong Marks : 0.25

A batsman scored 100 runs in his first match. He kept improving his score by 20% every match. Find his average score after the end of the 3rd match.

Options :

- 1. ✗ 120
- 2. ✓ 121.33
- 3. ✗ 122.67
- 4. ✗ 121.67

Question Number : 45 Question Id : 59445943468 Question Type : MCQ Option Shuffling : Yes Is Question Mandatory : No Option Orientation : Vertical

Correct Marks : 1 Wrong Marks : 0.25

एक बल्लेबाज ने अपने पहले मैच में 100 रन बनाए। वह प्रत्येक मैच में अपने स्कोर में 20% का सुधार करता रहा। तीसरे मैच की समाप्ति के बाद उसका औसत स्कोर ज्ञात करें।

Options :

- 1. ✗ 120
- 2. ✓ 121.33
- 3. ✗ 122.67
- 4. ✗ 121.67

Question Number : 46 Question Id : 59445943469 Question Type : MCQ Option Shuffling : Yes Is Question Mandatory : No Option Orientation : Vertical

Correct Marks : 1 Wrong Marks : 0.25

Had an item been sold for Rs 800, a profit of 25% could have been made. Instead, the item was sold for a profit of 20%. Find the actual selling price.

Options :

1. ✖ Rs 756
2. ✖ Rs 720
3. ✔ Rs 768
4. ✖ Rs 784

Question Number : 46 Question Id : 59445943469 Question Type : MCQ Option Shuffling : Yes Is Question Mandatory : No Option Orientation : Vertical

Correct Marks : 1 Wrong Marks : 0.25

यदि कोई वस्तु 800 रुपए में बेची जाती तो 25% का लाभ अर्जित किया जा सकता था। इसके बजाय, वस्तु को 20% के लाभ पर बेचा गया था। वास्तविक विक्रय मूल्य ज्ञात करें।

Options :

1. ✖ 756 रुपए
2. ✖ 720 रुपए
3. ✔ 768 रुपए
4. ✖ 784 रुपए

Question Number : 47 Question Id : 59445943470 Question Type : MCQ Option Shuffling : Yes Is Question Mandatory : No Option Orientation : Vertical

Correct Marks : 1 Wrong Marks : 0.25

A man bought X dozens of bananas for Rs 144. Every 4th banana was rotten and all the other bananas were sold for Rs 5 each. If the overall profit percent was 87.5%, then find the value of X.

Options :

1. ✖ 3
2. ✖ 4
3. ✖ 5
4. ✔ 6

Question Number : 47 Question Id : 59445943470 Question Type : MCQ Option Shuffling : Yes Is Question Mandatory : No Option Orientation : Vertical

Correct Marks : 1 Wrong Marks : 0.25

एक व्यक्ति ने X दर्जन केले 144 रुपए में खरीदे। प्रत्येक चौथा केला सड़ा हुआ था और अन्य सभी केले प्रत्येक 5 रुपए में बेचे गए थे। यदि कुल लाभ प्रतिशत 87.5% था, तो X का मान ज्ञात करें।

Options :

1. ✗ 3
2. ✗ 4
3. ✗ 5
4. ✓ 6

Question Number : 48 Question Id : 59445943471 Question Type : MCQ Option Shuffling : Yes Is Question Mandatory : No Option Orientation : Vertical

Correct Marks : 1 Wrong Marks : 0.25

What is the ratio between the third proportional of 4 and 16 and the fourth proportional of 12, 18 and 24?

Options :

1. ✗ 9:16
2. ✗ 8:9
3. ✓ 16:9
4. ✗ 9:8

Question Number : 48 Question Id : 59445943471 Question Type : MCQ Option Shuffling : Yes Is Question Mandatory : No Option Orientation : Vertical

Correct Marks : 1 Wrong Marks : 0.25

4 और 16 के तीसरे समानुपातिक और 12, 18 और 24 के चौथे समानुपातिक के बीच का अनुपात क्या है?

Options :

1. ✗ 9:16
2. ✗ 8:9
3. ✓ 16:9
4. ✗ 9:8

Question Number : 49 Question Id : 59445943472 Question Type : MCQ Option Shuffling : Yes Is Question Mandatory : No Option Orientation : Vertical

Correct Marks : 1 Wrong Marks : 0.25

If $\frac{1}{3}$ rd of a number is equal to 45% of another number, then find the ratio between the first number and the second number.

Options :

1. ✓ 27:20

2. ✖ 20:27

3. ✖ 22:27

4. ✖ 22:25

Question Number : 49 Question Id : 59445943472 Question Type : MCQ Option Shuffling : Yes Is Question Mandatory : No Option Orientation : Vertical

Correct Marks : 1 Wrong Marks : 0.25

यदि एक संख्या का $\frac{1}{3}$ भाग दूसरी संख्या के 45% के बराबर है, तो पहली संख्या और दूसरी संख्या के बीच का अनुपात ज्ञात करें।

Options :

1. ✔ 27:20

2. ✖ 20:27

3. ✖ 22:27

4. ✖ 22:25

Question Number : 50 Question Id : 59445943473 Question Type : MCQ Option Shuffling : Yes Is Question Mandatory : No Option Orientation : Vertical

Correct Marks : 1 Wrong Marks : 0.25

An amount when invested at simple interest provides an interest of 500% in 25 years. Find the compound interest on the amount of Rs 10,000 for 2 years at the same interest rate.

Options :

1. ✔ Rs 4,400

2. ✖ Rs 2,200

3. ✖ Rs 8,800

4. ✖ Rs 6,600

Question Number : 50 Question Id : 59445943473 Question Type : MCQ Option Shuffling : Yes Is Question Mandatory : No Option Orientation : Vertical

Correct Marks : 1 Wrong Marks : 0.25

एक राशि जब साधारण ब्याज पर निवेश की जाती है तो 25 वर्षों में 500% का ब्याज प्रदान करती है। 10,000 रुपये की राशि पर 2 वर्ष के लिए समान ब्याज दर पर चक्रवृद्धि ब्याज ज्ञात करें।

Options :

1. ✔ 4,400 रुपये

2. ✖ 2,200 रुपए
3. ✖ 8,800 रुपए
4. ✖ 6,600 रुपए

Question Number : 51 Question Id : 59445943474 Question Type : MCQ Option Shuffling : Yes Is Question Mandatory : No Option Orientation : Vertical

Correct Marks : 1 Wrong Marks : 0.25

A sum of Rs 10,000 was lent at 20% compound interest per annum. Find the ratio of interest earned in the 6th year to the interest earned in the 7th year.

Options :

1. ✖ 6:5
2. ✔ 5:6
3. ✖ 3:4
4. ✖ 4:3

Question Number : 51 Question Id : 59445943474 Question Type : MCQ Option Shuffling : Yes Is Question Mandatory : No Option Orientation : Vertical

Correct Marks : 1 Wrong Marks : 0.25

10,000 रुपए की राशि को प्रति वर्ष 20% वार्षिक चक्रवृद्धि पर उधार दिया गया था। छठे वर्ष में अर्जित ब्याज से 7वें वर्ष में अर्जित ब्याज का अनुपात ज्ञात करें।

Options :

1. ✖ 6:5
2. ✔ 5:6
3. ✖ 3:4
4. ✖ 4:3

Question Number : 52 Question Id : 59445943475 Question Type : MCQ Option Shuffling : Yes Is Question Mandatory : No Option Orientation : Vertical

Correct Marks : 1 Wrong Marks : 0.25

A bus crosses a pole in 0.9 seconds. Find the length of the bus if the speed of the bus is 72 kmph.

Options :

1. ✖ 16.2 m
2. ✔ 18 m

3. ✖ 20 m
4. ✖ 22.5 m

Question Number : 52 Question Id : 59445943475 Question Type : MCQ Option Shuffling : Yes Is Question Mandatory : No Option Orientation : Vertical

Correct Marks : 1 Wrong Marks : 0.25

एक बस एक खम्भे को 0.9 सेकंड में पार करती है। यदि बस की गति 72 kmph है तो बस की लंबाई ज्ञात करें।

Options :

1. ✖ 16.2 m
2. ✔ 18 m
3. ✖ 20 m
4. ✖ 22.5 m

Question Number : 53 Question Id : 59445943476 Question Type : MCQ Option Shuffling : Yes Is Question Mandatory : No Option Orientation : Vertical

Correct Marks : 1 Wrong Marks : 0.25

Two buses start a race of 120 kms. The speed of the first bus is 25 m/s and that of the second bus is 75 kmph. Find the time difference by which the second bus loses to the first one.

Options :

1. ✖ 12 minutes
2. ✖ 13.5 minutes
3. ✖ 14.4 minutes
4. ✔ 16 minutes

Question Number : 53 Question Id : 59445943476 Question Type : MCQ Option Shuffling : Yes Is Question Mandatory : No Option Orientation : Vertical

Correct Marks : 1 Wrong Marks : 0.25

दो बसें 120 kms की दौड़ शुरू करती हैं। पहली बस की गति 25 m/s है और दूसरी बस की गति 75 kmph है। वह समय अंतर ज्ञात करें जिससे दूसरी बस पहली बस से हार जाती है।

Options :

1. ✖ 12 मिनट
2. ✖ 13.5 मिनट

3. ✖ 14.4 मिनट

4. ✔ 16 मिनट

Question Number : 54 Question Id : 59445943477 Question Type : MCQ Option Shuffling : Yes Is Question Mandatory : No Option Orientation : Vertical

Correct Marks : 1 Wrong Marks : 0.25

12 people can pick 120 kgs of tea leaves in 10 hours. In how many hours can 15 people pick 80 kgs of tea leaves if all of them work at the same rate of efficiency?

Options :

1. ✖ 3.33

2. ✖ 8.33

3. ✔ 5.33

4. ✖ 5

Question Number : 54 Question Id : 59445943477 Question Type : MCQ Option Shuffling : Yes Is Question Mandatory : No Option Orientation : Vertical

Correct Marks : 1 Wrong Marks : 0.25

12 लोग 10 घंटे में 120 kgs चाय की पत्ती तोड़ सकते हैं। कितने घंटों में 15 लोग 80 kgs चाय की पत्ती तोड़ सकते हैं यदि वे सभी समान दक्षता की दर से काम करते हैं?

Options :

1. ✖ 3.33

2. ✖ 8.33

3. ✔ 5.33

4. ✖ 5

Question Number : 55 Question Id : 59445943478 Question Type : MCQ Option Shuffling : Yes Is Question Mandatory : No Option Orientation : Vertical

Correct Marks : 1 Wrong Marks : 0.25

A worker can do a piece of work in 200 days. Every day, one more worker comes and joins him. What is the proportion of work completed in 10 days?

Options :

1. ✖ 25%

2. ✓ 27.5%

3. ✗ 30%

4. ✗ 32.5%

Question Number : 55 Question Id : 59445943478 Question Type : MCQ Option Shuffling : Yes Is Question Mandatory : No Option Orientation : Vertical

Correct Marks : 1 Wrong Marks : 0.25

एक कार्यकर्ता 200 दिनों में एक कार्य कर सकता है। प्रत्येक दिन, एक और कार्यकर्ता आता और उसके साथ जुड़ता है। 10 दिनों में पूरे किए गए कार्य का समानुपात क्या है?

Options :

1. ✗ 25%

2. ✓ 27.5%

3. ✗ 30%

4. ✗ 32.5%

Question Number : 56 Question Id : 59445943479 Question Type : MCQ Option Shuffling : Yes Is Question Mandatory : No Option Orientation : Vertical

Correct Marks : 1 Wrong Marks : 0.25

A square of side 5 cm has 2 cm cut off from all of its edges. How much area is left?

Options :

1. ✗ 1 sq cm

2. ✗ 4 sq cm

3. ✗ 6 sq cm

4. ✓ 9 sq cm

Question Number : 56 Question Id : 59445943479 Question Type : MCQ Option Shuffling : Yes Is Question Mandatory : No Option Orientation : Vertical

Correct Marks : 1 Wrong Marks : 0.25

5 cm भुजा के एक वर्ग में सभी किनारों से 2 cm कटा हुआ है। कितना क्षेत्रफल शेष है?

Options :

1. ✗ 1 sq cm

2. ✗ 4 sq cm

3. ✖ 6 sq cm

4. ✔ 9 sq cm

Question Number : 57 Question Id : 59445943480 Question Type : MCQ Option Shuffling : Yes Is Question Mandatory : No Option Orientation : Vertical

Correct Marks : 1 Wrong Marks : 0.25

A cylinder of radius 44 cm and height 14 cm is melted to form small cubes of side 11 cm each. Find the number of cubes formed.

Options :

1. ✖ 4

2. ✖ 8

3. ✖ 16

4. ✔ 64

Question Number : 57 Question Id : 59445943480 Question Type : MCQ Option Shuffling : Yes Is Question Mandatory : No Option Orientation : Vertical

Correct Marks : 1 Wrong Marks : 0.25

44 cm त्रिज्या और 14 cm ऊँचाई के बेलन को पिघलाकर प्रत्येक 11 cm साइड वाले छोटे घन बनाए गए हैं। बनाए गए घनों की संख्या ज्ञात करें।

Options :

1. ✖ 4

2. ✖ 8

3. ✖ 16

4. ✔ 64

Question Number : 58 Question Id : 59445943481 Question Type : MCQ Option Shuffling : Yes Is Question Mandatory : No Option Orientation : Vertical

Correct Marks : 1 Wrong Marks : 0.25

The table shows the quantity of pens of different colours sold by a shop in 5 years. Which two years have had the same number of units sold?

Year	Colour of Pens			
	Red	Blue	Black	Green
2016	985	750	530	580
2017	500	980	775	910
2018	735	810	685	660
2019	930	850	850	640
2020	605	850	960	750

Options :

- ✗ 2016 and 2019
- ✗ 2017 and 2019
- ✗ 2016 and 2020
- ✓ 2017 and 2020

Question Number : 58 Question Id : 59445943481 Question Type : MCQ Option Shuffling : Yes Is Question Mandatory : No Option Orientation : Vertical

Correct Marks : 1 Wrong Marks : 0.25

तालिका 5 वर्षों में एक दुकान द्वारा बेचे गए विभिन्न रंगों के कलम की मात्रा को दर्शाती है। किन दो वर्षों में बेची गई इकाइयों की संख्या समान हैं?

वर्ष	कलमों के रंग			
	लाल	नीला	काला	हरा
2016	985	750	530	580
2017	500	980	775	910
2018	735	810	685	660
2019	930	850	850	640
2020	605	850	960	750

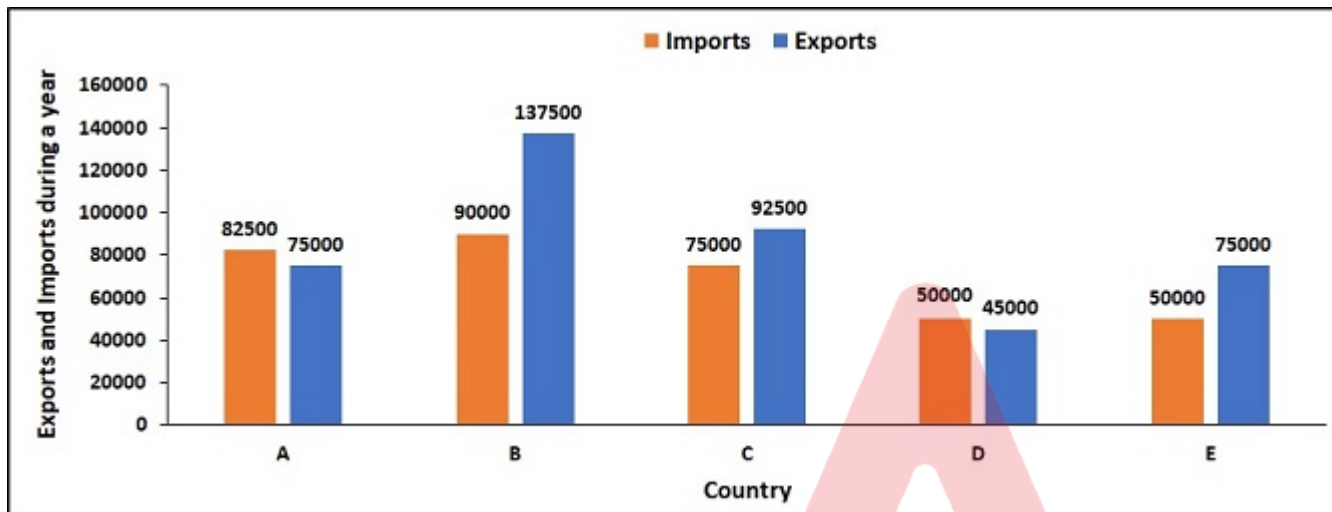
Options :

- ✗ 2016 और 2019
- ✗ 2017 और 2019
- ✗ 2016 और 2020
- ✓ 2017 और 2020

Question Number : 59 Question Id : 59445943482 Question Type : MCQ Option Shuffling : Yes Is Question Mandatory : No Option Orientation : Vertical

Correct Marks : 1 Wrong Marks : 0.25

The bar graph shows the exports and imports for different countries. How many countries operate in Trade Surplus?



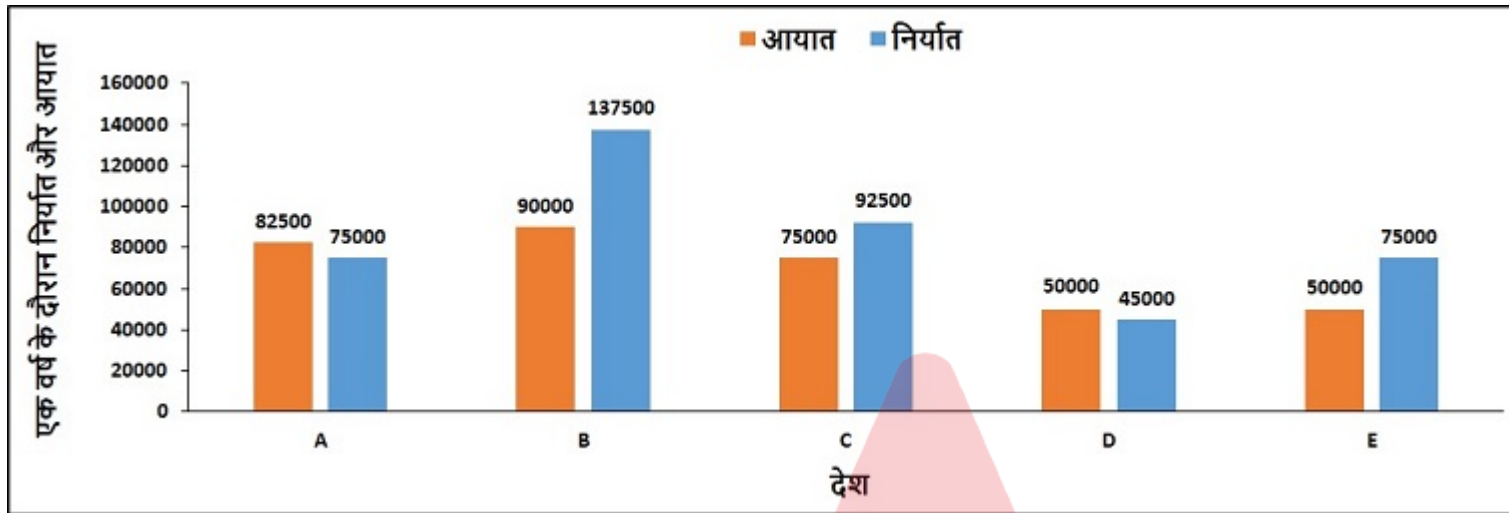
Options :

1. ✗ 1
2. ✗ 2
3. ✓ 3
4. ✗ 4

Question Number : 59 Question Id : 59445943482 Question Type : MCQ Option Shuffling : Yes Is Question Mandatory : No Option Orientation : Vertical

Correct Marks : 1 Wrong Marks : 0.25

बार ग्राफ विभिन्न देशों के लिए निर्यात और आयात को दर्शाता है। व्यापार अधिशेष में कितने देश काम करते हैं? (व्यापार अधिशेष = निर्यात - आयात)



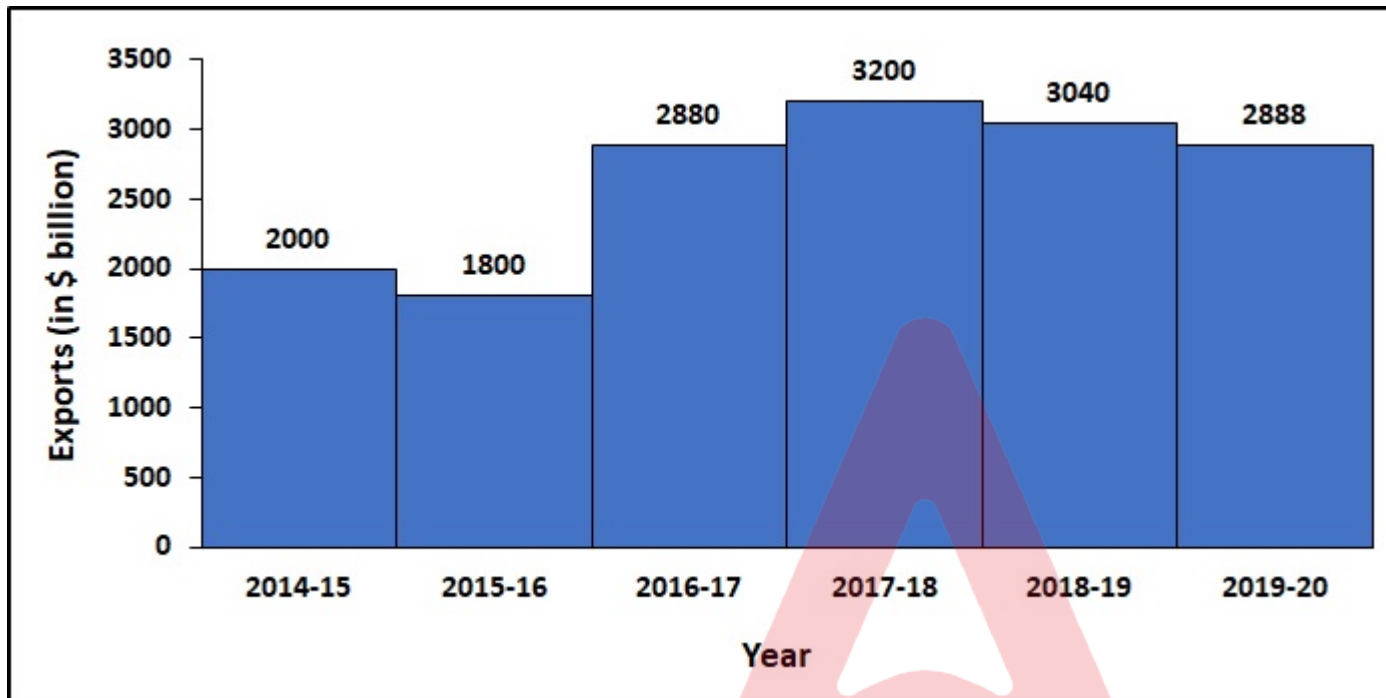
Options :

1. ✖ 1
2. ✖ 2
3. ✔ 3
4. ✖ 4

Question Number : 60 Question Id : 59445943483 Question Type : MCQ Option Shuffling : Yes Is Question Mandatory : No Option Orientation : Vertical

Correct Marks : 1 Wrong Marks : 0.25

The histogram shows the exports for a country (in \$ billion) for different years. For which year is the rate of change maximum as compared to the previous year?



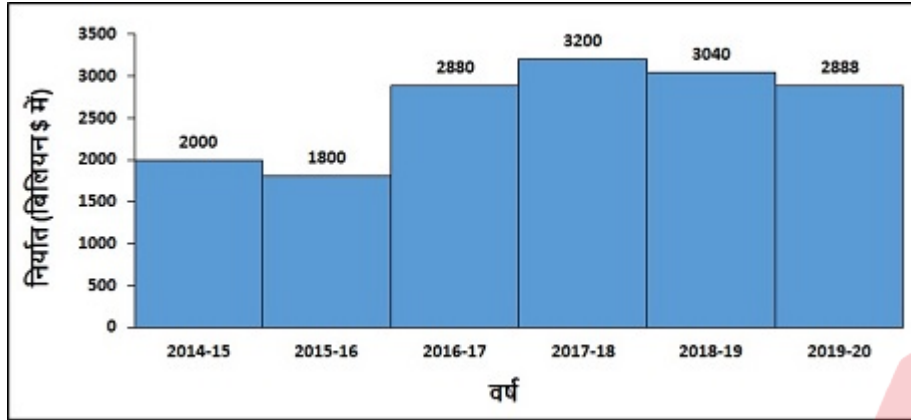
Options :

1. ✓ 2016-17
2. ✗ 2017-18
3. ✗ 2018-19
4. ✗ 2019-20

Question Number : 60 Question Id : 59445943483 Question Type : MCQ Option Shuffling : Yes Is Question Mandatory : No Option Orientation : Vertical

Correct Marks : 1 Wrong Marks : 0.25

आयतचित्र विभिन्न वर्षों के लिए एक देश के लिए निर्यात (बिलियन \$ में) को दर्शाता है। पिछले वर्ष की तुलना में किस वर्ष में परिवर्तन की दर अधिकतम है?



Options :

1. ✓ 2016-17
2. ✗ 2017-18
3. ✗ 2018-19
4. ✗ 2019-20

General Hindi

Group Number :

4

Group Id :

5944591000

Group Maximum Duration :

0

Group Minimum Duration :

0

Show Attended Group? :

No

Edit Attended Group? :

No

Break time :

0

Group Marks :

20

Is this Group for Examiner? :

No

General Hindi

Section Id :

5944591725

Section Number :

1

Section type :	Online
Mandatory or Optional :	Mandatory
Number of Questions :	16
Number of Questions to be attempted :	16
Section Marks :	20
Enable Mark as Answered Mark for Review and Clear Response :	Yes
Sub-Section Number :	1
Sub-Section Id :	5944592007
Question Shuffling Allowed :	Yes

Question Number : 61 Question Id : 59445943484 Question Type : MCQ Option Shuffling : Yes Is Question Mandatory : No Option Orientation : Vertical

Correct Marks : 1 Wrong Marks : 0.25

निम्न विकल्पों में से उस विकल्प का चयन करें जो दिए गए संधि-विच्छेद शब्द के सही संधि- विच्छेद का विकल्प है।

वित्त + एषणा

Options :

- ✓ वित्तैषणा
- ✗ वित्तैषन
- ✗ वीत्तैषण
- ✗ वीत्तैशाना

Question Number : 61 Question Id : 59445943484 Question Type : MCQ Option Shuffling : Yes Is Question Mandatory : No Option Orientation : Vertical

Correct Marks : 1 Wrong Marks : 0.25

निम्न विकल्पों में से उस विकल्प का चयन करें जो दिए गए संधि-विच्छेद शब्द के सही संधि- विच्छेद का विकल्प है।

वित्त + एषणा

Options :

- ✓ वित्तैषणा
- ✗ वित्तैषन
- ✗ वीत्तैषण

4. ✖ वीतैशाना

Question Number : 62 Question Id : 59445943485 Question Type : MCQ Option Shuffling : Yes Is Question Mandatory : No Option Orientation : Vertical

Correct Marks : 1 Wrong Marks : 0.25

निम्न विकल्पों में से उस विकल्प का चयन करें जो दिए गए संधि शब्द का सही संधि - विच्छेद विकल्प है।

पूर्वोक्त

Options :

1. ✖ पूर्व + उक्त
2. ✔ पूर्व + उक्त
3. ✖ पूर्व + कता
4. ✖ पुरव + ऊक्त

Question Number : 62 Question Id : 59445943485 Question Type : MCQ Option Shuffling : Yes Is Question Mandatory : No Option Orientation : Vertical

Correct Marks : 1 Wrong Marks : 0.25

निम्न विकल्पों में से उस विकल्प का चयन करें जो दिए गए संधि शब्द का सही संधि - विच्छेद विकल्प है।

पूर्वोक्त

Options :

1. ✖ पूर्व + उक्त
2. ✔ पूर्व + उक्त
3. ✖ पूर्व + कता
4. ✖ पुरव + ऊक्त

Question Number : 63 Question Id : 59445943486 Question Type : MCQ Option Shuffling : Yes Is Question Mandatory : No Option Orientation : Vertical

Correct Marks : 1 Wrong Marks : 0.25

निम्नलिखित प्रश्न में, चार विकल्पों में से उस विकल्प का चयन करें जो कोष्ठक में दिए गए शब्द के अनुसार अन्य पुरुष वाचक सर्वनाम का सबसे अच्छा विकल्प है।

Options :

1. ✖ (मेरा) बहुत सारा काम बाकी है।

2. ✖ (तुम्हारा) नाम क्या है ?
3. ✔ कल (वह)विद्यालय नहीं आया था ।
4. ✖ (आपको) अपना काम स्वयं करना चाहिए ।

Question Number : 63 Question Id : 59445943486 Question Type : MCQ Option Shuffling : Yes Is Question Mandatory : No Option Orientation : Vertical

Correct Marks : 1 Wrong Marks : 0.25

निम्नलिखित प्रश्न में ,चार विकल्पों में से उस विकल्प का चयन करें जो कोष्ठक में दिए गए शब्द के अनुसार अन्य पुरुष वाचक सर्वनाम का सबसे अच्छा विकल्प है।

Options :

1. ✖ (मेरा) बहुत सारा काम बाकी है ।
2. ✖ (तुम्हारा) नाम क्या है ?
3. ✔ कल (वह)विद्यालय नहीं आया था ।
4. ✖ (आपको) अपना काम स्वयं करना चाहिए ।

Question Number : 64 Question Id : 59445943487 Question Type : MCQ Option Shuffling : Yes Is Question Mandatory : No Option Orientation : Vertical

Correct Marks : 1 Wrong Marks : 0.25

निम्न विकल्पों में से उस विकल्प का चयन करें जो उपसर्ग शब्द का सही विकल्प है।

Options :

1. ✖ राष्ट्रीय
2. ✔ नौसिखिया
3. ✖ आबादी
4. ✖ समूची

Question Number : 64 Question Id : 59445943487 Question Type : MCQ Option Shuffling : Yes Is Question Mandatory : No Option Orientation : Vertical

Correct Marks : 1 Wrong Marks : 0.25

निम्न विकल्पों में से उस विकल्प का चयन करें जो उपसर्ग शब्द का सही विकल्प है।

Options :

1. ✖ राष्ट्रीय
2. ✔ नौसिखिया

3. ✖ आबादी
4. ✖ समूची

Question Number : 65 Question Id : 59445943488 Question Type : MCQ Option Shuffling : Yes Is Question Mandatory : No Option Orientation : Vertical

Correct Marks : 1 Wrong Marks : 0.25

निम्न विकल्पों में से उस विकल्प का चयन करें जो प्रत्यय शब्द का सही विकल्प है।

Options :

1. ✖ स्वच्छ
2. ✖ विशाल
3. ✔ पश्चिमी
4. ✖ परिषद

Question Number : 65 Question Id : 59445943488 Question Type : MCQ Option Shuffling : Yes Is Question Mandatory : No Option Orientation : Vertical

Correct Marks : 1 Wrong Marks : 0.25

निम्न विकल्पों में से उस विकल्प का चयन करें जो प्रत्यय शब्द का सही विकल्प है।

Options :

1. ✖ स्वच्छ
2. ✖ विशाल
3. ✔ पश्चिमी
4. ✖ परिषद

Question Number : 66 Question Id : 59445943489 Question Type : MCQ Option Shuffling : Yes Is Question Mandatory : No Option Orientation : Vertical

Correct Marks : 1 Wrong Marks : 0.25

निम्न विकल्पों में से उस विकल्प का चयन करें जो दिए गए शब्द -युग्म के सही अर्थ का विकल्प है।

पथ - पथ्य

Options :

1. ✖ तक , जान

2. ✖ कौया, आहार
3. ✖ बगल, नगर
4. ✔ रास्ता, आहार

Question Number : 66 Question Id : 59445943489 Question Type : MCQ Option Shuffling : Yes Is Question Mandatory : No Option Orientation : Vertical

Correct Marks : 1 Wrong Marks : 0.25

निम्न विकल्पों में से उस विकल्प का चयन करें जो दिए गए शब्द -युग्म के सही अर्थ का विकल्प है।

पथ - पथ्य

Options :

1. ✖ तक, जान
2. ✖ कौया, आहार
3. ✖ बगल, नगर
4. ✔ रास्ता, आहार

Question Number : 67 Question Id : 59445943490 Question Type : MCQ Option Shuffling : Yes Is Question Mandatory : No Option Orientation : Vertical

Correct Marks : 1 Wrong Marks : 0.25

निम्न विकल्पों में से उस विकल्प का चयन करें जो दिए गए वाक्यांश के लिए एक शब्द का सही विकल्प है।

जो वध करने योग्य न हो -

Options :

1. ✔ अवध्य
2. ✖ अल्पहत्या
3. ✖ असह्य
4. ✖ अभेद्य

Question Number : 67 Question Id : 59445943490 Question Type : MCQ Option Shuffling : Yes Is Question Mandatory : No Option Orientation : Vertical

Correct Marks : 1 Wrong Marks : 0.25

निम्न विकल्पों में से उस विकल्प का चयन करें जो दिए गए वाक्यांश के लिए एक शब्द का सही विकल्प है।

जो वध करने योग्य न हो -

Options :

1. ✓ अवध्य
2. ✗ अल्पहत्या
3. ✗ असह्य
4. ✗ अभेद्य

Question Number : 68 Question Id : 59445943491 Question Type : MCQ Option Shuffling : Yes Is Question Mandatory : No Option Orientation : Vertical

Correct Marks : 1 Wrong Marks : 0.25

निम्न विकल्पों में से उस विकल्प का चयन करें जो दिए गए शब्द का सही विलोम शब्द है।

वरदान

Options :

1. ✗ भेंट
2. ✗ उपहार
3. ✗ आशीर्वाद
4. ✓ अभिशाप

Question Number : 68 Question Id : 59445943491 Question Type : MCQ Option Shuffling : Yes Is Question Mandatory : No Option Orientation : Vertical

Correct Marks : 1 Wrong Marks : 0.25

निम्न विकल्पों में से उस विकल्प का चयन करें जो दिए गए शब्द का सही विलोम शब्द है।

वरदान

Options :

1. ✗ भेंट
2. ✗ उपहार
3. ✗ आशीर्वाद
4. ✓ अभिशाप

Question Number : 69 Question Id : 59445943492 Question Type : MCQ Option Shuffling : Yes Is Question Mandatory : No Option Orientation : Vertical

Correct Marks : 1 Wrong Marks : 0.25

निम्न विकल्पों में से उस विकल्प का चयन करें जो दिए गए वाक्य के भेद का सही विकल्प है।

प्रातः काल होने पर पक्षी चहचहाने लगे।

Options :

1. ✓ सरल वाक्य
2. ✗ संयुक्त वाक्य
3. ✗ मिश्र वाक्य
4. ✗ विधानवाचक वाक्य

Question Number : 69 Question Id : 59445943492 Question Type : MCQ Option Shuffling : Yes Is Question Mandatory : No Option Orientation : Vertical

Correct Marks : 1 Wrong Marks : 0.25

निम्न विकल्पों में से उस विकल्प का चयन करें जो दिए गए वाक्य के भेद का सही विकल्प है।

प्रातः काल होने पर पक्षी चहचहाने लगे।

Options :

1. ✓ सरल वाक्य
2. ✗ संयुक्त वाक्य
3. ✗ मिश्र वाक्य
4. ✗ विधानवाचक वाक्य

Question Number : 70 Question Id : 59445943493 Question Type : MCQ Option Shuffling : Yes Is Question Mandatory : No Option Orientation : Vertical

Correct Marks : 1 Wrong Marks : 0.25

निम्न विकल्पों में से उस विकल्प का चयन करें जो दिए गए वाक्य में पक्ष के भेद का सही विकल्प है।

वह अब तक काफी पढ़ चूका है।

Options :

1. ✖ अभ्यासद्योतक
2. ✖ आरंभद्योतक
3. ✔ पूर्णताद्योतक
4. ✖ नित्यताद्योतक

Question Number : 70 Question Id : 59445943493 Question Type : MCQ Option Shuffling : Yes Is Question Mandatory : No Option Orientation : Vertical

Correct Marks : 1 Wrong Marks : 0.25

निम्न विकल्पों में से उस विकल्प का चयन करें जो दिए गए वाक्य में पक्ष के भेद का सही विकल्प है।

वह अब तक काफी पढ़ चूका है।

Options :

1. ✖ अभ्यासद्योतक
2. ✖ आरंभद्योतक
3. ✔ पूर्णताद्योतक
4. ✖ नित्यताद्योतक

Question Number : 71 Question Id : 59445943494 Question Type : MCQ Option Shuffling : Yes Is Question Mandatory : No Option Orientation : Vertical

Correct Marks : 1 Wrong Marks : 0.25

निम्न विकल्पों में से उस विकल्प का चयन करें जो दिए गए वाक्य में वृत्ति के भेद का सही विकल्प है।

सदैव सच बोलो।

Options :

1. ✔ आज्ञार्थ
2. ✖ सम्भावनार्थ
3. ✖ प्रश्नार्थ
4. ✖ निश्चयार्थ

Question Number : 71 Question Id : 59445943494 Question Type : MCQ Option Shuffling : Yes Is Question Mandatory : No Option Orientation : Vertical

Correct Marks : 1 Wrong Marks : 0.25

निम्न विकल्पों में से उस विकल्प का चयन करें जो दिए गए वाक्य में वृत्ति के भेद का सही विकल्प है।

सदैव सच बोलो ।

Options :

1. ✓ आज्ञार्थ
2. ✗ सम्भावनार्थ
3. ✗ प्रश्नार्थ
4. ✗ निश्चयार्थ

Question Number : 72 Question Id : 59445943495 Question Type : MCQ Option Shuffling : Yes Is Question Mandatory : No Option Orientation : Vertical

Correct Marks : 1 Wrong Marks : 0.25

निम्न विकल्पों में से उस विकल्प का चयन करें जो दिए गए लोकोक्ति का सही विकल्प है।

कोऊ नृप होऊ हमें का हानि

Options :

1. ✓ किसी के पद, धन या अधिकार मिलने से हम पर कोई प्रभाव नहीं होता
2. ✗ कपट से एक ही बार काम बनता है
3. ✗ व्यवस्था और नियम का अभाव होना
4. ✗ चुपचाप लुप्त हो जाना

Question Number : 72 Question Id : 59445943495 Question Type : MCQ Option Shuffling : Yes Is Question Mandatory : No Option Orientation : Vertical

Correct Marks : 1 Wrong Marks : 0.25

निम्न विकल्पों में से उस विकल्प का चयन करें जो दिए गए लोकोक्ति का सही विकल्प है।

कोऊ नृप होऊ हमें का हानि

Options :

1. ✓ किसी के पद, धन या अधिकार मिलने से हम पर कोई प्रभाव नहीं होता
2. ✗ कपट से एक ही बार काम बनता है
3. ✗ व्यवस्था और नियम का अभाव होना
4. ✗ चुपचाप लुप्त हो जाना

Question Number : 73 Question Id : 59445943496 Question Type : MCQ Option Shuffling : Yes Is Question Mandatory : No Option Orientation : Vertical

Correct Marks : 1 Wrong Marks : 0.25

निम्न विकल्पों में से उस विकल्प का चयन करें जो विराम चिह्न युक्त वाक्य का सही विकल्प है।

Options :

1. ✖ आहा ! कितना सुन्दर दृश्य है
2. ✖ आहा ! कितना सुन्दर ,दृश्य है ।
3. ✔ आहा ! कितना सुन्दर दृश्य है ।
4. ✖ आह ! कितना सुन्दर दृश्य है

Question Number : 73 Question Id : 59445943496 Question Type : MCQ Option Shuffling : Yes Is Question Mandatory : No Option Orientation : Vertical

Correct Marks : 1 Wrong Marks : 0.25

निम्न विकल्पों में से उस विकल्प का चयन करें जो विराम चिह्न युक्त वाक्य का सही विकल्प है।

Options :

1. ✖ आहा ! कितना सुन्दर दृश्य है
2. ✖ आहा ! कितना सुन्दर ,दृश्य है ।
3. ✔ आहा ! कितना सुन्दर दृश्य है ।
4. ✖ आह ! कितना सुन्दर दृश्य है

Question Number : 74 Question Id : 59445943497 Question Type : MCQ Option Shuffling : Yes Is Question Mandatory : No Option Orientation : Vertical

Correct Marks : 1 Wrong Marks : 0.25

निम्न विकल्पों में से उस विकल्प का चयन करें जो दिए गए मुहावरे के अर्थ का सही विकल्प है।

धूप में बाल सफेद ना करना

Options :

1. ✖ ठीक न्याय करना
2. ✖ किसी बात का असर ना पड़ना
3. ✖ उपद्रवी व्यक्ति

4. ✓ बहुत अनुभवी होना

Question Number : 74 Question Id : 59445943497 Question Type : MCQ Option Shuffling : Yes Is Question Mandatory : No Option Orientation : Vertical

Correct Marks : 1 Wrong Marks : 0.25

निम्न विकल्पों में से उस विकल्प का चयन करें जो दिए गए मुहावरे के अर्थ का सही विकल्प है।

धूप में बाल सफेद ना करना

Options :

1. ✗ ठीक न्याय करना
2. ✗ किसी बात का असर ना पड़ना
3. ✗ उपद्रवी व्यक्ति
4. ✓ बहुत अनुभवी होना

Question Number : 75 Question Id : 59445943498 Question Type : MCQ Option Shuffling : Yes Is Question Mandatory : No Option Orientation : Vertical

Correct Marks : 1 Wrong Marks : 0.25

निम्न विकल्पों में से उस विकल्प का चयन करें जो दिए गए मुहावरे के अर्थ का सही विकल्प है।

जरा- सा मुँह निकल आना

Options :

1. ✓ दुर्बल हो जाना
2. ✗ दुखी हो जाना
3. ✗ अधिकार करना
4. ✗ अति लज्जित होना

Question Number : 75 Question Id : 59445943498 Question Type : MCQ Option Shuffling : Yes Is Question Mandatory : No Option Orientation : Vertical

Correct Marks : 1 Wrong Marks : 0.25

निम्न विकल्पों में से उस विकल्प का चयन करें जो दिए गए मुहावरे के अर्थ का सही विकल्प है।

जरा- सा मुँह निकल आना

Options :

1. ✓ दुर्बल हो जाना
2. ✗ दुखी हो जाना
3. ✗ अधिकार करना
4. ✗ अति लज्जित होना

Sub-Section Number :

2

Sub-Section Id :

5944592008

Question Shuffling Allowed :

Yes

Question Id : 59445943499 Question Type : COMPREHENSION Sub Question Shuffling Allowed : Yes Group Comprehension

Questions : No

Question Numbers : (76 to 80)

नीचे दिए गए गद्यांश को ध्यानपूर्वक पढ़ें और पूछे गए प्रश्नों का सर्वोत्तम उत्तर चुनें।

यूँ तो कोयल और कौआ दोनों ही देखने में एक-से होते हैं परंतु वाणी के कारण दोनों में ज़मीन आसमान का अंतर हो जाता है। दोनों पक्षी किसी को न कुछ देते हैं और न कुछ लेते हैं परंतु कोयल मधुर वाणी से जग को अपना बना लेती है और कौआ अपनी कर्कश वाणी के कारण भगाया जाता है। कोयल की मधुर वाणी कर्ण प्रिय लगती है और उसे सब सुनने को इच्छुक रहते हैं। यही स्थिति समाज की है।

समाज में वे लोग सभी के प्रिय बन जाते हैं जो मधुर बोलते हैं जबकि कटु बोलने वालों से सभी बचकर रहना चाहते हैं। मधुर वाणी औषधि के समान होती है जो सुनने वालों के तन और मन को शीतलकर देती है। इससे लोगों को सुखानुभूति होती है। इसके विपरीत कटुवाणी उस तीखे तीर की भाँति होती है जो कानों के माध्यम से हमारे शरीर में प्रवेश करती है और पूरे शरीर को कष्ट पहुँचाती है। कड़वी बोली जहाँ लोगों को ज़ख्म देती है वहीं मधुर वाणी वर्षों से हुए मन के घाव को भर देती है। मधुर वाणी किसी वरदान के समान होती है जो सुनने वाले को मित्र बना देती है। मधुर वाणी सुनकर शत्रु भी अपनी शत्रुता खो बैठते हैं। इसके अलावा जो मधुर वाणी बोलते हैं उन्हें खुद को संतुष्टि और सुख की अनुभूति होती है। इससे व्यक्ति का व्यक्तित्व प्रभावी एवं आकर्षक बन जाता है। इससे व्यक्ति के बिगड़े काम तक बन जाते हैं।

Sub questions

Question Number : 76 Question Id : 59445943500 Question Type : MCQ Option Shuffling : Yes Is Question Mandatory : No Option Orientation : Vertical

Correct Marks : 1 Wrong Marks : 0.25

मधुर वाणी को किसके समान बोला गया है?

Options :

1. ✗ करेले के समान
2. ✓ औषधी के समान
3. ✗ दिल को पीड़ा होती है

4. ✖ कौए के बोल के समान

Question Number : 77 Question Id : 59445943501 Question Type : MCQ Option Shuffling : Yes Is Question Mandatory : No Option Orientation : Vertical

Correct Marks : 1 Wrong Marks : 0.25

कोयल और कौवे में अंतर होने का क्या कारण है?

Options :

1. ✖ स्वभाव
2. ✖ रंग
3. ✔ वाणी
4. ✖ खाने में प्रभेद

Question Number : 78 Question Id : 59445943502 Question Type : MCQ Option Shuffling : Yes Is Question Mandatory : No Option Orientation : Vertical

Correct Marks : 1 Wrong Marks : 0.25

समाज में कौन लोग प्रिय पात्र बनते हैं?

Options :

1. ✖ जो बिलकुल बोलते नहीं
2. ✖ जो अपनी वाणी से दूसरों को दुःख पहुंचता है ।
3. ✖ जो कड़वी बोली बोलते हैं
4. ✔ जो मधुर वाणी बोलते हैं

Question Number : 79 Question Id : 59445943503 Question Type : MCQ Option Shuffling : Yes Is Question Mandatory : No Option Orientation : Vertical

Correct Marks : 1 Wrong Marks : 0.25

शरीर ' का पर्यायवाची शब्द क्या है?

Options :

1. ✖ मंडन
2. ✖ कनक
3. ✔ काया
4. ✖ गमन

Question Number : 80 Question Id : 59445943504 Question Type : MCQ Option Shuffling : Yes Is Question Mandatory : No Option

Orientation : Vertical

Correct Marks : 1 Wrong Marks : 0.25

अनुच्छेद के लिए उचित शीर्षक दीजिये।

Options :

1. ✖ कोयल की बोली
2. ✔ मधुर वाणी
3. ✖ मधुर एवं कड़वे वचन में अंतर
4. ✖ बोली का सदुपयोग

Question Id : 59445943499 Question Type : COMPREHENSION Sub Question Shuffling Allowed : Yes Group Comprehension Questions : No

Question Numbers : (76 to 80)

नीचे दिए गए गद्यांश को ध्यानपूर्वक पढ़ें और पूछे गए प्रश्नों का सर्वोत्तम उत्तर चुनें।

यूँ तो कोयल और कौआ दोनों ही देखने में एक-से होते हैं परंतु वाणी के कारण दोनों में ज़मीन आसमान का अंतर हो जाता है। दोनों पक्षी किसी को न कुछ देते हैं और न कुछ लेते हैं परंतु कोयल मधुर वाणी से जग को अपना बना लेती है और कौआ अपनी कर्कश वाणी के कारण भगाया जाता है। कोयल की मधुर वाणी कर्ण प्रिय लगती है और उसे सब सुनने को इच्छुक रहते हैं। यही स्थिति समाज की है।

समाज में वे लोग सभी के प्रिय बन जाते हैं जो मधुर बोलते हैं जबकि कटु बोलने वालों से सभी बचकर रहना चाहते हैं। मधुर वाणी औषधि के समान होती है जो सुनने वालों के तन और मन को शीतलकर देती है। इससे लोगों को सुखानुभूति होती है। इसके विपरीत कटुवाणी उस तीखे तीर की भाँति होती है जो कानों के माध्यम से हमारे शरीर में प्रवेश करती है और पूरे शरीर को कष्ट पहुँचाती है। कड़वी बोली जहाँ लोगों को ज़ख्म देती है वहीं मधुर वाणी वर्षों से हुए मन के घाव को भर देती है। मधुर वाणी किसी वरदान के समान होती है जो सुनने वाले को मित्र बना देती है। मधुर वाणी सुनकर शत्रु भी अपनी शत्रुता खो बैठते हैं। इसके अलावा जो मधुर वाणी बोलते हैं उन्हें खुद को संतुष्टि और सुख की अनुभूति होती है। इससे व्यक्ति का व्यक्तित्व प्रभावी एवं आकर्षक बन जाता है। इससे व्यक्ति के बिगड़े काम तक बन जाते हैं।

Sub questions

Question Number : 76 Question Id : 59445943500 Question Type : MCQ Option Shuffling : Yes Is Question Mandatory : No Option Orientation : Vertical

Correct Marks : 1 Wrong Marks : 0.25

मधुर वाणी को किसके समान बोला गया है?

Options :

1. ✖ करेले के समान
2. ✔ औषधी के समान

3. ✖ दिल को पीड़ा होती है
4. ✖ कौए के बोल के समान

Question Number : 77 Question Id : 59445943501 Question Type : MCQ Option Shuffling : Yes Is Question Mandatory : No Option Orientation : Vertical

Correct Marks : 1 Wrong Marks : 0.25

कोयल और कौवे में अंतर होने का क्या कारण है?

Options :

1. ✖ स्वभाव
2. ✖ रंग
3. ✔ वाणी
4. ✖ खाने में प्रभेद

Question Number : 78 Question Id : 59445943502 Question Type : MCQ Option Shuffling : Yes Is Question Mandatory : No Option Orientation : Vertical

Correct Marks : 1 Wrong Marks : 0.25

समाज में कौन लोग प्रिय पात्र बनते हैं?

Options :

1. ✖ जो बिलकुल बोलते नहीं
2. ✖ जो अपनी वाणी से दूसरों को दुःख पहुंचता है ।
3. ✖ जो कड़वी बोली बोलते हैं
4. ✔ जो मधुर वाणी बोलते हैं

Question Number : 79 Question Id : 59445943503 Question Type : MCQ Option Shuffling : Yes Is Question Mandatory : No Option Orientation : Vertical

Correct Marks : 1 Wrong Marks : 0.25

शरीर का पर्यायवाची शब्द क्या है?

Options :

1. ✖ मंडन
2. ✖ कनक
3. ✔ काया
4. ✖ गमन

Question Number : 80 Question Id : 59445943504 Question Type : MCQ Option Shuffling : Yes Is Question Mandatory : No Option Orientation : Vertical

Correct Marks : 1 Wrong Marks : 0.25

अनुच्छेद के लिए उचित शीर्षक दीजिये।

Options :

1. ✖ कोयल की बोली
2. ✔ मधुर वाणी
3. ✖ मधुर एवं कड़वे वचन में अंतर
4. ✖ बोली का सदुपयोग

General English

Group Number :	5
Group Id :	5944591001
Group Maximum Duration :	0
Group Minimum Duration :	0
Show Attended Group? :	No
Edit Attended Group? :	No
Break time :	0
Group Marks :	20
Is this Group for Examiner? :	No

General English

Section Id :	5944591726
Section Number :	1
Section type :	Online
Mandatory or Optional :	Mandatory
Number of Questions :	16
Number of Questions to be attempted :	16
Section Marks :	20

Enable Mark as Answered Mark for Review and Clear Response : Yes
Sub-Section Number : 1
Sub-Section Id : 5944592009
Question Shuffling Allowed : Yes

Question Number : 81 Question Id : 59445943505 Question Type : MCQ Option Shuffling : Yes Is Question Mandatory : No Option Orientation : Vertical

Correct Marks : 1 Wrong Marks : 0.25

The sentence below has been divided into three parts. Select the part of the sentence that has an error. If the sentence has no error, select the option 'No Error'.

The union leaders ignored the/ summons, leaving the government to/ decide whether to arrest them.

Options :

1. ✖ The union leaders ignored the
2. ✔ summons, leaving the government to
3. ✖ decide whether to arrest them.
4. ✖ No Error

Question Number : 81 Question Id : 59445943505 Question Type : MCQ Option Shuffling : Yes Is Question Mandatory : No Option Orientation : Vertical

Correct Marks : 1 Wrong Marks : 0.25

The sentence below has been divided into three parts. Select the part of the sentence that has an error. If the sentence has no error, select the option 'No Error'.

The union leaders ignored the/ summons, leaving the government to/ decide whether to arrest them.

Options :

1. ✖ The union leaders ignored the
2. ✔ summons, leaving the government to
3. ✖ decide whether to arrest them.
4. ✖ No Error

Question Number : 82 Question Id : 59445943506 Question Type : MCQ Option Shuffling : Yes Is Question Mandatory : No Option Orientation : Vertical

Correct Marks : 1 Wrong Marks : 0.25

The sentence below has been divided into three parts. Select the part of the sentence that has an error. If the sentence has no error, select the option 'No Error'.

She reached out and/ put her hand over the ring,/ stopping it's infernal winking.

Options :

1. ✗ She reached out and
2. ✗ put her hand over the ring,
3. ✓ stopping it's infernal winking.
4. ✗ No Error

Question Number : 82 Question Id : 59445943506 Question Type : MCQ Option Shuffling : Yes Is Question Mandatory : No Option Orientation : Vertical

Correct Marks : 1 Wrong Marks : 0.25

The sentence below has been divided into three parts. Select the part of the sentence that has an error. If the sentence has no error, select the option 'No Error'.

She reached out and/ put her hand over the ring,/ stopping it's infernal winking.

Options :

1. ✗ She reached out and
2. ✗ put her hand over the ring,
3. ✓ stopping it's infernal winking.
4. ✗ No Error

Question Number : 83 Question Id : 59445943507 Question Type : MCQ Option Shuffling : Yes Is Question Mandatory : No Option Orientation : Vertical

Correct Marks : 1 Wrong Marks : 0.25

Select the word segment that substitutes (replaces) the bracketed word segment correctly and completes the sentence meaningfully. Select the option 'no correction required' if the sentence is correct as given.

How I wish I could see you this lovely morning, (and tell you all that has happened for I left home!)

Options :

1. ✗ but tell you all that has happened for I left home!
2. ✓ and tell you all that has happened since I left home!
3. ✗ but tell you all that has happened since I left home!

4. ✖ No correction required

Question Number : 83 Question Id : 59445943507 Question Type : MCQ Option Shuffling : Yes Is Question Mandatory : No Option Orientation : Vertical

Correct Marks : 1 Wrong Marks : 0.25

Select the word segment that substitutes (replaces) the bracketed word segment correctly and completes the sentence meaningfully. Select the option 'no correction required' if the sentence is correct as given.

How I wish I could see you this lovely morning, (and tell you all that **has** happened for I left home!)

Options :

1. ✖ but tell you all that has happened for I left home!
2. ✔ and tell you all that has happened since I left home!
3. ✖ but tell you all that has happened since I left home!
4. ✖ No correction required

Question Number : 84 Question Id : 59445943508 Question Type : MCQ Option Shuffling : Yes Is Question Mandatory : No Option Orientation : Vertical

Correct Marks : 1 Wrong Marks : 0.25

Select the word segment that substitutes (replaces) the bracketed word segment correctly and completes the sentence meaningfully. Select the option 'no correction required' if the sentence is correct as given.

(Sarah had told me that, "I can pick you up) at the hospital after work and we can spend the night up there."

Options :

1. ✖ Sarah told me that, "I can pick you up
2. ✖ Sarah had told me "I can pick you up
3. ✔ Sarah told me, "I can pick you up
4. ✖ No correction required

Question Number : 84 Question Id : 59445943508 Question Type : MCQ Option Shuffling : Yes Is Question Mandatory : No Option Orientation : Vertical

Correct Marks : 1 Wrong Marks : 0.25

Select the word segment that substitutes (replaces) the bracketed word segment correctly and completes the sentence meaningfully. Select the option 'no correction required' if the sentence is correct as given.

(Sarah had told me that, "I can pick you up) at the hospital after work and we can spend the night up there."

Options :

1. ✗ Sarah told me that, "I can pick you up
2. ✗ Sarah had told me "I can pick you up
3. ✓ Sarah told me, "I can pick you up
4. ✗ No correction required

Question Number : 85 Question Id : 59445943509 Question Type : MCQ Option Shuffling : Yes Is Question Mandatory : No Option Orientation : Vertical

Correct Marks : 1 Wrong Marks : 0.25

Fill in the blank with the most appropriate choice

Expressing and releasing your deepest emotions, whether positive or negative, is a healing process called _____.

Options :

1. ✗ genesis
2. ✗ prosthesis
3. ✓ catharsis
4. ✗ diaphoresis

Question Number : 85 Question Id : 59445943509 Question Type : MCQ Option Shuffling : Yes Is Question Mandatory : No Option Orientation : Vertical

Correct Marks : 1 Wrong Marks : 0.25

Fill in the blank with the most appropriate choice.

Expressing and releasing your deepest emotions, whether positive or negative, is a healing process called _____.

Options :

1. ✗ genesis
2. ✗ prosthesis
3. ✓ catharsis
4. ✗ diaphoresis

Question Number : 86 Question Id : 59445943510 Question Type : MCQ Option Shuffling : Yes Is Question Mandatory : No Option

Orientation : Vertical

Correct Marks : 1 Wrong Marks : 0.25

Fill in the blank with the most appropriate choice.

The great _____ of the Revolution was drawing to a close, and everything was in an unsettled condition.

Options :

1. ✖ dispersion
2. ✖ transgression
3. ✖ condescension
4. ✔ convulsion

Question Number : 86 Question Id : 59445943510 Question Type : MCQ Option Shuffling : Yes Is Question Mandatory : No Option

Orientation : Vertical

Correct Marks : 1 Wrong Marks : 0.25

Fill in the blank with the most appropriate choice.

The great _____ of the Revolution was drawing to a close, and everything was in an unsettled condition.

Options :

1. ✖ dispersion
2. ✖ transgression
3. ✖ condescension
4. ✔ convulsion

Question Number : 87 Question Id : 59445943511 Question Type : MCQ Option Shuffling : Yes Is Question Mandatory : No Option

Orientation : Vertical

Correct Marks : 1 Wrong Marks : 0.25

Some parts of a sentence have been jumbled up, and labelled P, Q, R and S. Select the option that gives the correct sequence in which these parts can be rearranged to form a meaningful and grammatically correct sentence.

The well-known Egyptian Hall

P. it was noted was

Q. in Piccadilly was taken down

R. in 1906, and the permanent conjuring

S. entertainment for which

removed elsewhere.

Options :

1. ✗ QPSR
2. ✗ QSRP
3. ✓ QRSP
4. ✗ QSPR

Question Number : 87 Question Id : 59445943511 Question Type : MCQ Option Shuffling : Yes Is Question Mandatory : No Option Orientation : Vertical

Correct Marks : 1 Wrong Marks : 0.25

Some parts of a sentence have been jumbled up, and labelled P, Q, R and S. Select the option that gives the correct sequence in which these parts can be rearranged to form a meaningful and grammatically correct sentence.

The well-known Egyptian Hall

P. it was noted was

Q. in Piccadilly was taken down

R. in 1906, and the permanent conjuring

S. entertainment for which

removed elsewhere.

Options :

1. ✗ QPSR
2. ✗ QSRP
3. ✓ QRSP
4. ✗ QSPR

Question Number : 88 Question Id : 59445943512 Question Type : MCQ Option Shuffling : Yes Is Question Mandatory : No Option Orientation : Vertical

Correct Marks : 1 Wrong Marks : 0.25

Select the word that is similar in meaning (SYNONYM) to the word given below.

Adroit

Options :

1. ✖ Clumsy
2. ✔ Capable
3. ✖ Mitigate
4. ✖ Collude

Question Number : 88 Question Id : 59445943512 Question Type : MCQ Option Shuffling : Yes Is Question Mandatory : No Option Orientation : Vertical

Correct Marks : 1 Wrong Marks : 0.25

Select the word that is similar in meaning (SYNONYM) to the word given below.

Adroit

Options :

1. ✖ Clumsy
2. ✔ Capable
3. ✖ Mitigate
4. ✖ Collude

Question Number : 89 Question Id : 59445943513 Question Type : MCQ Option Shuffling : Yes Is Question Mandatory : No Option Orientation : Vertical

Correct Marks : 1 Wrong Marks : 0.25

Select the word that is opposite in meaning (ANTONYM) to the word given below.

Infirm

Options :

1. ✔ Strong
2. ✖ Fruitions
3. ✖ Frail
4. ✖ Decipher

Question Number : 89 Question Id : 59445943513 Question Type : MCQ Option Shuffling : Yes Is Question Mandatory : No Option Orientation : Vertical

Correct Marks : 1 Wrong Marks : 0.25

Select the word that is opposite in meaning (ANTONYM) to the word given below.

Infirm

Options :

1. ✓ Strong
2. ✗ Fruitions
3. ✗ Frail
4. ✗ Decipher

Question Number : 90 Question Id : 59445943514 Question Type : MCQ Option Shuffling : Yes Is Question Mandatory : No Option Orientation : Vertical

Correct Marks : 1 Wrong Marks : 0.25

Four words are given, out of which only one word is spelt correctly. Choose the correctly spelt word.

Options :

1. ✓ Caribbean
2. ✗ Carribean
3. ✗ Carribbean
4. ✗ Carribaen

Question Number : 90 Question Id : 59445943514 Question Type : MCQ Option Shuffling : Yes Is Question Mandatory : No Option Orientation : Vertical

Correct Marks : 1 Wrong Marks : 0.25

Four words are given, out of which only one word is spelt correctly. Choose the correctly spelt word.

Options :

1. ✓ Caribbean
2. ✗ Carribean
3. ✗ Carribbean
4. ✗ Carribaen

Question Number : 91 Question Id : 59445943515 Question Type : MCQ Option Shuffling : Yes Is Question Mandatory : No Option Orientation : Vertical

Correct Marks : 1 Wrong Marks : 0.25

Four words are given, out of which only one word is spelt correctly. Choose the correctly spelt word.

Options :

1. ✓ inoculate
2. ✗ innoculate
3. ✗ inoculate
4. ✗ innoculate

Question Number : 91 Question Id : 59445943515 Question Type : MCQ Option Shuffling : Yes Is Question Mandatory : No Option Orientation : Vertical

Correct Marks : 1 Wrong Marks : 0.25

Four words are given, out of which only one word is spelt correctly. Choose the correctly spelt word.

Options :

1. ✓ inoculate
2. ✗ innoculate
3. ✗ inoculate
4. ✗ innoculate

Question Number : 92 Question Id : 59445943516 Question Type : MCQ Option Shuffling : Yes Is Question Mandatory : No Option Orientation : Vertical

Correct Marks : 1 Wrong Marks : 0.25

Select the most appropriate meaning of the given idiom.

Wag the Dog

Options :

1. ✗ Going down a course of action that leads to a bad outcome.
2. ✓ Something important or powerful being controlled by something less so.
3. ✗ Anything from the past that isn't significant or important anymore.
4. ✗ The more experiences you try the more exciting life can be.

Question Number : 92 Question Id : 59445943516 Question Type : MCQ Option Shuffling : Yes Is Question Mandatory : No Option Orientation : Vertical

Correct Marks : 1 Wrong Marks : 0.25

Select the most appropriate meaning of the given idiom.

Wag the Dog

Options :

1. ✗ Going down a course of action that leads to a bad outcome.
2. ✓ Something important or powerful being controlled by something less so.
3. ✗ Anything from the past that isn't significant or important anymore.
4. ✗ The more experiences you try the more exciting life can be.

Question Number : 93 Question Id : 59445943517 Question Type : MCQ Option Shuffling : Yes Is Question Mandatory : No Option Orientation : Vertical

Correct Marks : 1 Wrong Marks : 0.25

Select the most appropriate meaning of the given idiom.

Third time's a charm

Options :

1. ✗ To take the credit for something someone else did.
2. ✗ Something someone would say during a long and boring story in order to keep his/her audience from losing attention.
3. ✓ After no success the first two times, the third try is a lucky one.
4. ✗ Refuse to acknowledge something you know is real or legit.

Question Number : 93 Question Id : 59445943517 Question Type : MCQ Option Shuffling : Yes Is Question Mandatory : No Option Orientation : Vertical

Correct Marks : 1 Wrong Marks : 0.25

Select the most appropriate meaning of the given idiom.

Third time's a charm

Options :

1. ✗ To take the credit for something someone else did.
2. ✗ Something someone would say during a long and boring story in order to keep his/her audience from losing attention.
3. ✓ After no success the first two times, the third try is a lucky one.
4. ✗ Refuse to acknowledge something you know is real or legit.

Question Number : 94 Question Id : 59445943518 Question Type : MCQ Option Shuffling : Yes Is Question Mandatory : No Option Orientation : Vertical

Correct Marks : 1 Wrong Marks : 0.25

Select the most appropriate 'one word ' for the expressions given below.

The sound of Mosquitoes

Options :

1. ✗ Click
2. ✗ Vice
3. ✗ Wreath
4. ✓ Whine

Question Number : 94 Question Id : 59445943518 Question Type : MCQ Option Shuffling : Yes Is Question Mandatory : No Option Orientation : Vertical

Correct Marks : 1 Wrong Marks : 0.25

Select the most appropriate 'one word ' for the expressions given below.

The sound of Mosquitoes

Options :

1. ✗ Click
2. ✗ Vice
3. ✗ Wreath
4. ✓ Whine

Question Number : 95 Question Id : 59445943519 Question Type : MCQ Option Shuffling : Yes Is Question Mandatory : No Option Orientation : Vertical

Correct Marks : 1 Wrong Marks : 0.25

Select the most appropriate 'one word ' for the expressions given below.

Using tricks especially to hide, avoid, or get something

Options :

1. ✗ Stricture
2. ✓ Subterfuge
3. ✗ Stupor
4. ✗ Subjugate

Question Number : 95 Question Id : 59445943519 Question Type : MCQ Option Shuffling : Yes Is Question Mandatory : No Option Orientation : Vertical

Correct Marks : 1 Wrong Marks : 0.25

Select the most appropriate 'one word' for the expressions given below.

Using tricks especially to hide, avoid, or get something

Options :

1. ✖ Stricture
2. ✔ Subterfuge
3. ✖ Stupor
4. ✖ Subjugate

Sub-Section Number :

2

Sub-Section Id :

5944592010

Question Shuffling Allowed :

Yes

Question Id : 59445943520 Question Type : COMPREHENSION Sub Question Shuffling Allowed : Yes Group Comprehension Questions : No

Question Numbers : (96 to 100)

A passage is given with 5 questions following it. Read the passage carefully and choose the best answer to each question out of the four alternatives.

Our forefathers had lifestyles very much different from those we have today. Their life was based mainly on the concept of "Simple living and high thinking." People were satisfied with whatever they obtained after working hard. Excessive material wealth did not mean much for them. They derived mental satisfaction and enrichment which they aimed at.

The structural framework of our forefathers' families was different from that of ours. They lived in a cohesive joint family structure where they were happier than we are. They cared for each other. The siblings grew up with their cousins told. The bond of love which they shared cannot be easily found in the nuclear families of today. The family provided an emotional cushioning effect against tension and stress.

However, in the nuclear family, we are detached from the feelings towards our kith and kin. At times even the cousins do not recognize one another when they happen to be self-centred. Disputes in the family may lead to divisions. This may finally destroy the family psyche.

The joint family system provided a proper environment for the child to grow up. The values of respect, tolerance, responsibility, integrity, etc. were internalized in the child. In the long run, they became better human beings compared to those in the present generation. Our forefathers felt happiest if their children became 'honest' human beings.

But today we are happy only if we attain our coveted material ends. We are ready to resort to any means to attain that end. Our philosophy of life has turned out totally Machiavellian. Our forefathers had the vision to make India the best. To attain their ambitions, they were ready to make all sorts of personal sacrifices. Their happiness lay in that of the millions of Indian brothers and sisters.

Sub questions

Question Number : 96 Question Id : 59445943521 Question Type : MCQ Option Shuffling : Yes Is Question Mandatory : No Option Orientation : Vertical

Correct Marks : 1 Wrong Marks : 0.25

What was the philosophy of the author's forefathers upon which they lived?

Options :

1. ✖ Simple thinking and high living
2. ✔ Simple living and high thinking
3. ✖ High thinking and low living
4. ✖ Low thinking and simple living

Question Number : 97 Question Id : 59445943522 Question Type : MCQ Option Shuffling : Yes Is Question Mandatory : No Option Orientation : Vertical

Correct Marks : 1 Wrong Marks : 0.25

According to the passage, what kind of human beings did our forefathers picture us to be?

Options :

1. ✖ Simple
2. ✖ Broad minded
3. ✖ Tolerant
4. ✔ Honest

Question Number : 98 Question Id : 59445943523 Question Type : MCQ Option Shuffling : Yes Is Question Mandatory : No Option Orientation : Vertical

Correct Marks : 1 Wrong Marks : 0.25

According to the passage, in today's day and age what has our philosophy turned to when compared to our forefathers?

Options :

1. ✖ Simple
2. ✔ Cunning

3. ✖ Straightforward
4. ✖ Ingenuous

Question Number : 99 Question Id : 59445943524 Question Type : MCQ Option Shuffling : Yes Is Question Mandatory : No Option Orientation : Vertical

Correct Marks : 1 Wrong Marks : 0.25

According to the passage, which of the following option is incorrect? Choose one option.

Options :

1. ✖ Our forefather lived in a cohesive joint family structure.
2. ✖ Joint families provide a perfect environment for a child to grow instilling various important values.
3. ✔ A nuclear family is a destructive family.
4. ✖ Our forefathers didn't chase after excessive materialistic wealth.

Question Number : 100 Question Id : 59445943525 Question Type : MCQ Option Shuffling : Yes Is Question Mandatory : No Option Orientation : Vertical

Correct Marks : 1 Wrong Marks : 0.25

What does the author mean by the line, "The bond of love which they shared cannot be easily found in the nuclear families of today."?

Options :

1. ✖ The relationship that is seen in the families of this day and age is much healthier than that of the older families.
2. ✖ The nuclear families today are far more destructive than they were in earlier times.
3. ✔ The structural framework of families today is far more separated as opposed to earlier times leading to weaker bonds among family members.
4. ✖ The functionality of family depends on how tightly knit they are to each other.

Question Id : 59445943520 Question Type : COMPREHENSION Sub Question Shuffling Allowed : Yes Group Comprehension Questions : No

Question Numbers : (96 to 100)

A passage is given with 5 questions following it. Read the passage carefully and choose the best answer to each question out of the four alternatives

Our forefathers had lifestyles very much different from those we have today. Their life was based mainly on the concept of "Simple living and high thinking." People were satisfied with whatever they obtained after working hard. Excessive material wealth did not mean much for them. They derived mental satisfaction and enrichment which they aimed at.

The structural framework of our forefathers' families was different from that of ours. They lived in a cohesive joint family structure where they were happier than we are. They cared for each other. The siblings grew up with their cousins told. The bond of love which they shared cannot be easily found in the nuclear families of today. The family provided an emotional cushioning effect against tension and stress.

However, in the nuclear family, we are detached from the feelings towards our kith and kin. At times even the cousins do not recognize one another when they happen to be self-centred. Disputes in the family may lead to divisions. This may finally destroy the family psyche.

The joint family system provided a proper environment for the child to grow up. The values of respect, tolerance, responsibility, integrity, etc. were internalized in the child. In the long run, they became better human beings compared to those in the present generation. Our forefathers felt happiest if their children became 'honest' human beings.

But today we are happy only if we attain our coveted material ends. We are ready to resort to any means to attain that end. Our philosophy of life has turned out totally Machiavellian. Our forefathers had the vision to make India the best. To attain their ambitions, they were ready to make all sorts of personal sacrifices. Their happiness lay in that of the millions of Indian brothers and sisters.

Sub questions

Question Number : 96 Question Id : 59445943521 Question Type : MCQ Option Shuffling : Yes Is Question Mandatory : No Option Orientation : Vertical

Correct Marks : 1 Wrong Marks : 0.25

What was the philosophy of the author's forefathers upon which they lived?

Options :

1. ✖ Simple thinking and high living
2. ✔ Simple living and high thinking
3. ✖ High thinking and low living
4. ✖ Low thinking and simple living

Question Number : 97 Question Id : 59445943522 Question Type : MCQ Option Shuffling : Yes Is Question Mandatory : No Option Orientation : Vertical

Correct Marks : 1 Wrong Marks : 0.25

According to the passage, what kind of human beings did our forefathers picture us to be?

Options :

1. ✖ Simple
2. ✖ Broad minded
3. ✖ Tolerant
4. ✔ Honest

Question Number : 98 Question Id : 59445943523 Question Type : MCQ Option Shuffling : Yes Is Question Mandatory : No Option Orientation : Vertical

Correct Marks : 1 Wrong Marks : 0.25

According to the passage, in today's day and age what has our philosophy turned to when compared to our forefathers?

Options :

1. ✖ Simple
2. ✔ Cunning
3. ✖ Straightforward
4. ✖ Ingenuous

Question Number : 99 Question Id : 59445943524 Question Type : MCQ Option Shuffling : Yes Is Question Mandatory : No Option Orientation : Vertical

Correct Marks : 1 Wrong Marks : 0.25

According to the passage, which of the following option is incorrect? Choose one option.

Options :

1. ✖ Our forefather lived in a cohesive joint family structure.
2. ✖ Joint families provide a perfect environment for a child to grow instilling various important values.
3. ✔ A nuclear family is a destructive family.
4. ✖ Our forefathers didn't chase after excessive materialistic wealth.

Question Number : 100 Question Id : 59445943525 Question Type : MCQ Option Shuffling : Yes Is Question Mandatory : No Option Orientation : Vertical

Correct Marks : 1 Wrong Marks : 0.25

What does the author mean by the line, "The bond of love which they shared cannot be easily found in the nuclear families of today."?

Options :

1. ✖ The relationship that is seen in the families of this day and age is much healthier than that of the older families.
2. ✖ The nuclear families today are far more destructive than they were in earlier times.
3. ✔ The structural framework of families today is far more separated as opposed to earlier times leading to weaker bonds among family members.
4. ✖ The functionality of family depends on how tightly knit they are to each other.

Discipline1

Group Number :	6
Group Id :	5944591002
Group Maximum Duration :	0
Group Minimum Duration :	0
Show Attended Group? :	No
Edit Attended Group? :	No
Break time :	0
Group Marks :	20
Is this Group for Examiner? :	No

Discipline1

Section Id :	5944591727
Section Number :	1
Section type :	Online
Mandatory or Optional :	Mandatory
Number of Questions :	20
Number of Questions to be attempted :	20
Section Marks :	20
Enable Mark as Answered Mark for Review and Clear Response :	Yes
Sub-Section Number :	1
Sub-Section Id :	5944592011
Question Shuffling Allowed :	Yes

Question Number : 101 Question Id : 59445943526 Question Type : MCQ Option Shuffling : Yes Is Question Mandatory : No Option Orientation : Vertical

Correct Marks : 1 Wrong Marks : 0.25

What is the golden ratio?

Options :

1. ✓ 1:1.618

2. ✗ 1:2

3. ✖ 1:3

4. ✖ 1:12

Question Number : 101 Question Id : 59445943526 Question Type : MCQ Option Shuffling : Yes Is Question Mandatory : No Option Orientation : Vertical

Correct Marks : 1 Wrong Marks : 0.25

गोल्डन रेश्यो क्या है?

Options :

1. ✔ 1:1.618

2. ✖ 1:2

3. ✖ 1:3

4. ✖ 1:12

Question Number : 102 Question Id : 59445943527 Question Type : MCQ Option Shuffling : Yes Is Question Mandatory : No Option Orientation : Vertical

Correct Marks : 1 Wrong Marks : 0.25

_____ is an architectural style that features curvature of columns, doorways, supports, or walls for visual correction of concavity.

Options :

1. ✖ Oasis

2. ✔ Entasis

3. ✖ Parthenon

4. ✖ Paestum

Question Number : 102 Question Id : 59445943527 Question Type : MCQ Option Shuffling : Yes Is Question Mandatory : No Option Orientation : Vertical

Correct Marks : 1 Wrong Marks : 0.25

_____ वास्तुशिल्पीय शैली है जिसमें अवतलता के दृश्य सुधार के लिए स्तंभों, दरवाजों, समर्थनों या दीवारों की वक्रता की विशेषता है।

Options :

1. ✖ मरूद्यान

2. ✔ एंटासिस

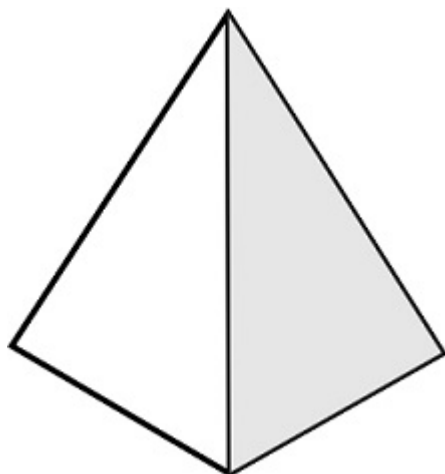
3. ✖ पार्थेनन

4. ✖ पेस्तुम

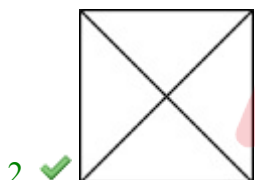
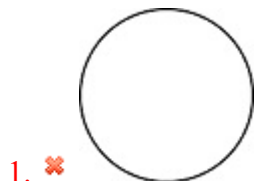
Question Number : 103 Question Id : 59445943528 Question Type : MCQ Option Shuffling : Yes Is Question Mandatory : No Option Orientation : Vertical

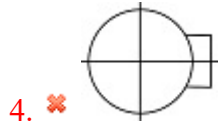
Correct Marks : 1 Wrong Marks : 0.25

The figure below is the 3D view of the pyramid having its inclined edges of equal length. Which option represents the top view of the pyramid?



Options :

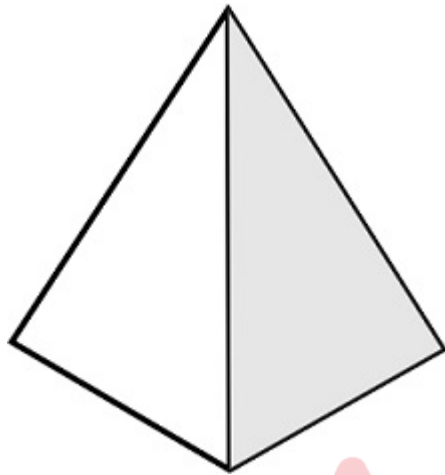




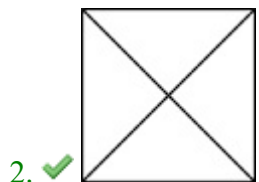
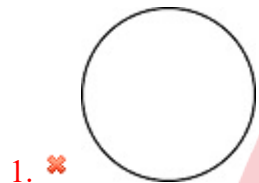
Question Number : 103 Question Id : 59445943528 Question Type : MCQ Option Shuffling : Yes Is Question Mandatory : No Option Orientation : Vertical

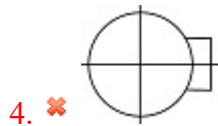
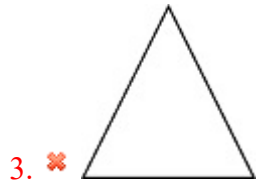
Correct Marks : 1 Wrong Marks : 0.25

नीचे दिया गया चित्र पिरामिड का 3D दृश्य है, जिसके आनत किनारे समान लंबाई के हैं। कौन सा विकल्प पिरामिड के शीर्ष दृश्य को दर्शाता है?



Options :

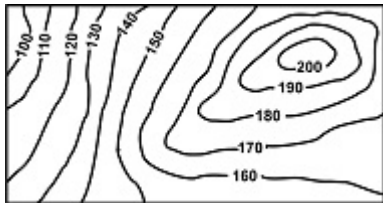




Question Number : 104 Question Id : 59445943529 Question Type : MCQ Option Shuffling : Yes Is Question Mandatory : No Option Orientation : Vertical

Correct Marks : 1 Wrong Marks : 0.25

What are these lines called?



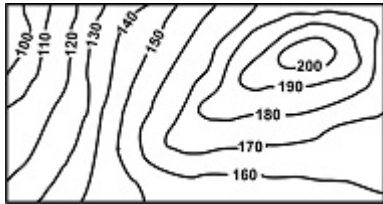
Options :

1. ✔ Contour lines
2. ✖ Oblique lines
3. ✖ Inclined lines
4. ✖ Profile lines

Question Number : 104 Question Id : 59445943529 Question Type : MCQ Option Shuffling : Yes Is Question Mandatory : No Option Orientation : Vertical

Correct Marks : 1 Wrong Marks : 0.25

इन रेखाओं को क्या कहा जाता है?



Options :

1. ✓ समोच्च रेखाएं
2. ✗ तिरछी (ऑब्लिक) रेखाएं
3. ✗ आनत रेखाएं
4. ✗ प्रोफाइल रेखाएं

Question Number : 105 Question Id : 59445943530 Question Type : MCQ Option Shuffling : Yes Is Question Mandatory : No Option Orientation : Vertical

Correct Marks : 1 Wrong Marks : 0.25

Who is the architect of IIM Ahmedabad?

Options :

1. ✓ Louis Kahn
2. ✗ Le Corbusier
3. ✗ Anne Tyng
4. ✗ Charles Correa

Question Number : 105 Question Id : 59445943530 Question Type : MCQ Option Shuffling : Yes Is Question Mandatory : No Option Orientation : Vertical

Correct Marks : 1 Wrong Marks : 0.25

IIM अहमदाबाद का वास्तुक कौन हैं?

Options :

1. ✓ लुइस काह्न
2. ✗ ली कोर्बुज़िए
3. ✗ ऐनी टाइन्ग
4. ✗ चार्ल्स कोरिया

Question Number : 106 Question Id : 59445943531 Question Type : MCQ Option Shuffling : Yes Is Question Mandatory : No Option

Orientation : Vertical

Correct Marks : 1 Wrong Marks : 0.25

Guggenheim Museum, Bilbao by Frank Gehry is an example of which architectural style?

Options :

1. ✓ Deconstructivism
2. ✗ Rationalism
3. ✗ Brutalism
4. ✗ Regionalism

Question Number : 106 Question Id : 59445943531 Question Type : MCQ Option Shuffling : Yes Is Question Mandatory : No Option

Orientation : Vertical

Correct Marks : 1 Wrong Marks : 0.25

फ्रैंक गेहरी द्वारा गुग्गेन्हेइम संग्रहालय, बिलबाओ किस वास्तुकला शैली का उदाहरण है?

Options :

1. ✓ डीकंस्ट्रक्टिविज़्म
2. ✗ तर्कबुद्धिवाद
3. ✗ क्रूरता
4. ✗ क्षेत्रवाद

Question Number : 107 Question Id : 59445943532 Question Type : MCQ Option Shuffling : Yes Is Question Mandatory : No Option

Orientation : Vertical

Correct Marks : 1 Wrong Marks : 0.25

Who is the architect of Robie House?

Options :

1. ✗ Charles Correa
2. ✗ Zaha Hadid
3. ✓ Frank Lloyd Wright
4. ✗ Santiago Calatrava

Question Number : 107 Question Id : 59445943532 Question Type : MCQ Option Shuffling : Yes Is Question Mandatory : No Option

Orientation : Vertical

Correct Marks : 1 Wrong Marks : 0.25

रॉबी हाउस के वास्तुक कौन हैं?

Options :

1. ✗ चार्ल्स कोरिया
2. ✗ ज़ाहा हदीद
3. ✓ फ्रैंक लॉएड राइट
4. ✗ सैंटियागो कैलात्राव

Question Number : 108 Question Id : 59445943533 Question Type : MCQ Option Shuffling : Yes Is Question Mandatory : No Option Orientation : Vertical

Correct Marks : 1 Wrong Marks : 0.25

_____ are mixture of air hardening lime or hydraulic lime, sand and water.

Options :

1. ✓ Lime Mortar
2. ✗ Gypsum Mortar
3. ✗ Cement Mortar
4. ✗ Lime Hydration

Question Number : 108 Question Id : 59445943533 Question Type : MCQ Option Shuffling : Yes Is Question Mandatory : No Option Orientation : Vertical

Correct Marks : 1 Wrong Marks : 0.25

_____ वायु सख्त करने वाले चूने या जलप्रेरित चूना, रेत और पानी का मिश्रण है।

Options :

1. ✓ चूने का गारा
2. ✗ जिप्सम मसाला
3. ✗ सीमेंट मसाला
4. ✗ चूना जलयोजन

Question Number : 109 Question Id : 59445943534 Question Type : MCQ Option Shuffling : Yes Is Question Mandatory : No Option Orientation : Vertical

Correct Marks : 1 Wrong Marks : 0.25

Which kind of mortar is used for reinforced brickwork and in what proportion?

Options :

1. ✗ Gypsum Mortar & 1:4
2. ✓ Cement Mortar & 1:3
3. ✗ Cement Mortar & 1:6
4. ✗ Mud Mortar & 1:2

Question Number : 109 Question Id : 59445943534 Question Type : MCQ Option Shuffling : Yes Is Question Mandatory : No Option Orientation : Vertical

Correct Marks : 1 Wrong Marks : 0.25

प्रबलित ब्रिक वर्क के लिए किस प्रकार के मसाला का उपयोग किया जाता है और किस समानुपात में है?

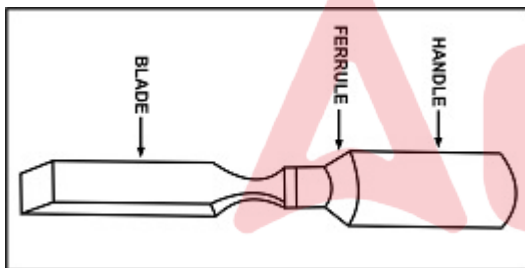
Options :

1. ✗ जिप्सम मोर्टार और 1:4
2. ✓ सीमेंट मोर्टार और 1:3
3. ✗ सीमेंट मोर्टार और 1:6
4. ✗ मिट्टी मोर्टार और 1:2

Question Number : 110 Question Id : 59445943535 Question Type : MCQ Option Shuffling : Yes Is Question Mandatory : No Option Orientation : Vertical

Correct Marks : 1 Wrong Marks : 0.25

What is the name of this chisel?



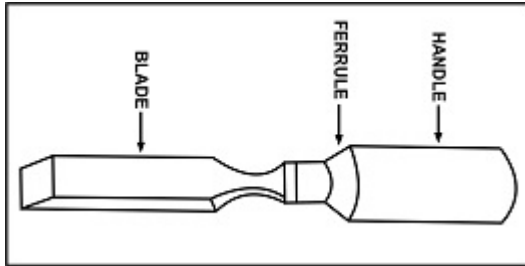
Options :

1. ✗ Firmer
2. ✓ Bevelled Edge Firmer
3. ✗ Pairing
4. ✗ Mortise

Question Number : 110 Question Id : 59445943535 Question Type : MCQ Option Shuffling : Yes Is Question Mandatory : No Option Orientation : Vertical

Correct Marks : 1 Wrong Marks : 0.25

इस छेनी का नाम क्या है?



Options :

1. ✗ फर्मर
2. ✓ बेवेल्लेड एज फर्मर
3. ✗ पैरिंग
4. ✗ मोर्टिस

Question Number : 111 Question Id : 59445943536 Question Type : MCQ Option Shuffling : Yes Is Question Mandatory : No Option Orientation : Vertical

Correct Marks : 1 Wrong Marks : 0.25

_____ is a small wooden hammer of round or rectangular cross section.

Options :

1. ✗ Bench Vise
2. ✓ Mallet
3. ✗ Claw
4. ✗ Jack plane

Question Number : 111 Question Id : 59445943536 Question Type : MCQ Option Shuffling : Yes Is Question Mandatory : No Option Orientation : Vertical

Correct Marks : 1 Wrong Marks : 0.25

_____ गोल या आयताकार अनुप्रस्थ काट का छोटा लकड़ी का हथौड़ा है।

Options :

1. ✖ बेंच वाइस
2. ✔ मुद्गर
3. ✖ क्लॉ
4. ✖ जैक प्लेन

Question Number : 112 Question Id : 59445943537 Question Type : MCQ Option Shuffling : Yes Is Question Mandatory : No Option Orientation : Vertical

Correct Marks : 1 Wrong Marks : 0.25

The area of an equivalent triangle is $\sqrt{3}$ sq cm. What is the length of the side of the triangle?

Options :

1. ✖ 1cm
2. ✔ 2cm
3. ✖ 4cm
4. ✖ 6cm

Question Number : 112 Question Id : 59445943537 Question Type : MCQ Option Shuffling : Yes Is Question Mandatory : No Option Orientation : Vertical

Correct Marks : 1 Wrong Marks : 0.25

एक तुल्य त्रिभुज का क्षेत्रफल $\sqrt{3}$ sq cm है। त्रिभुज की भुजा की लंबाई कितनी है?

Options :

1. ✖ 1cm
2. ✔ 2cm
3. ✖ 4cm
4. ✖ 6cm

Question Number : 113 Question Id : 59445943538 Question Type : MCQ Option Shuffling : Yes Is Question Mandatory : No Option Orientation : Vertical

Correct Marks : 1 Wrong Marks : 0.25

If $\log_x(4/5) = -1/2$, then the value of x is? (x is the base)

Options :

1. ✖ 20/15

2. ✓ 25/16

3. ✗ 19/25

4. ✗ -6.25

Question Number : 113 Question Id : 59445943538 Question Type : MCQ Option Shuffling : Yes Is Question Mandatory : No Option Orientation : Vertical

Correct Marks : 1 Wrong Marks : 0.25

यदि $\log_x(4/5) = -1/2$, तो x का मान है? (x आधार है):

Options :

1. ✗ 20/15

2. ✓ 25/16

3. ✗ 19/25

4. ✗ -6.25

Question Number : 114 Question Id : 59445943539 Question Type : MCQ Option Shuffling : Yes Is Question Mandatory : No Option Orientation : Vertical

Correct Marks : 1 Wrong Marks : 0.25

_____ is the communication between the executor(contractor) and architect.

Options :

1. ✓ Working drawing

2. ✗ Conceptual drawing

3. ✗ Preliminary sketches

4. ✗ Design brief

Question Number : 114 Question Id : 59445943539 Question Type : MCQ Option Shuffling : Yes Is Question Mandatory : No Option Orientation : Vertical

Correct Marks : 1 Wrong Marks : 0.25

_____ निष्पादक (ठेकेदार) और वास्तुक के बीच संचार है।

Options :

1. ✓ कार्यकारी आरेखण

2. ✗ सैद्धांतिक आरेखण

3. ✖ प्रारंभिक रेखाचित्र
4. ✖ डिज़ाइन का संक्षेप (डिज़ाइन ब्रीफ)

Question Number : 115 Question Id : 59445943540 Question Type : MCQ Option Shuffling : Yes Is Question Mandatory : No Option Orientation : Vertical

Correct Marks : 1 Wrong Marks : 0.25

What is the first communication document provided by the client or prepared by the architect for designing?

Options :

1. ✖ Working Drawing
2. ✔ Design brief
3. ✖ Research ideas
4. ✖ Refinement documents

Question Number : 115 Question Id : 59445943540 Question Type : MCQ Option Shuffling : Yes Is Question Mandatory : No Option Orientation : Vertical

Correct Marks : 1 Wrong Marks : 0.25

क्लाइंट द्वारा प्रदान किया गया या डिजाइनिंग के लिए वास्तुक द्वारा तैयार किया गया पहला संचार दस्तावेज क्या है?

Options :

1. ✖ कार्यकारी आरेखण
2. ✔ डिज़ाइन का संक्षेप (डिज़ाइन ब्रीफ)
3. ✖ अनुसंधान विचार
4. ✖ शोधन दस्तावेज

Question Number : 116 Question Id : 59445943541 Question Type : MCQ Option Shuffling : Yes Is Question Mandatory : No Option Orientation : Vertical

Correct Marks : 1 Wrong Marks : 0.25

The scale of contour map is 1:10,000 and the contour interval is 5m. Distance between two given point on map is 3cm and the elevation difference between the two given point is 10m. The actual distance between the two given points in m would be_____.

Options :

1. ✖ 3
2. ✖ 30
3. ✔ 300

4. ✖ 3000

Question Number : 116 Question Id : 59445943541 Question Type : MCQ Option Shuffling : Yes Is Question Mandatory : No Option Orientation : Vertical

Correct Marks : 1 Wrong Marks : 0.25

समोच्च मानचित्र की मापनी 1:10,000 है और समोच्च अंतराल 5m है। मानचित्र पर दिए गए दो बिंदुओं के बीच की दूरी 3 cm है और दो दिए गए बिंदुओं के बीच की ऊंचाई का अंतर 10 m है। m में दिए गए दो बिंदुओं के बीच की वास्तविक दूरी _____ होगी।

Options :

1. ✖ 3
2. ✖ 30
3. ✔ 300
4. ✖ 3000

Question Number : 117 Question Id : 59445943542 Question Type : MCQ Option Shuffling : Yes Is Question Mandatory : No Option Orientation : Vertical

Correct Marks : 1 Wrong Marks : 0.25

In a cinema, 40 tube lights of 40 W are switched on for 5 hrs. The electric meter will record a power consumption of _____.
(1unit=1kW-h)

Options :

1. ✔ 8 units
2. ✖ 6 units
3. ✖ 12 units
4. ✖ 30 units

Question Number : 117 Question Id : 59445943542 Question Type : MCQ Option Shuffling : Yes Is Question Mandatory : No Option Orientation : Vertical

Correct Marks : 1 Wrong Marks : 0.25

एक सिनेमाघर में 40 W की 40 ट्यूबलाइट 5 घंटे के लिए चालू की गई है। विद्युत मीटर _____ की बिजली खपत को रिकॉर्ड करेगा। (1 इकाई=1kW-h)

Options :

1. ✔ 8 इकाइयां
2. ✖ 6 इकाइयां
3. ✖ 12 इकाइयां

4. ✖ 30 इकाइयां

Question Number : 118 Question Id : 59445943543 Question Type : MCQ Option Shuffling : Yes Is Question Mandatory : No Option Orientation : Vertical

Correct Marks : 1 Wrong Marks : 0.25

Find the total volume of liquid in a septic tank with following criteria

- i) No. of users = 30
- ii) Cleaning intervals = 365 days
- iii) The capacity required for sludge digestion = 0.033 cu.m per capita at 25 Degree C.
- iv) Vol of digested sludge = 0.0003 cu.m per capita per day.

Options :

- 1. ✔ 4270L
- 2. ✖ 1000L
- 3. ✖ 8000L
- 4. ✖ 8250L

Question Number : 118 Question Id : 59445943543 Question Type : MCQ Option Shuffling : Yes Is Question Mandatory : No Option Orientation : Vertical

Correct Marks : 1 Wrong Marks : 0.25

निम्नलिखित मानदंडों के साथ सेप्टिक टैंक में द्रव की कुल मात्रा ज्ञात करें

- i) उपयोगकर्ताओं की संख्या = 30
- ii) सफाई अंतराल = 365 दिन
- iii) कीचड़ के उपचारण के लिए आवश्यक क्षमता = 25 डिग्री C पर प्रति व्यक्ति 0.033 cu.m
- iv) उपचारित कीचड़ का आयतन = प्रति व्यक्ति प्रति दिन 0.0003 cu.m

Options :

- 1. ✔ 4270L
- 2. ✖ 1000L
- 3. ✖ 8000L
- 4. ✖ 8250L

Question Number : 119 Question Id : 59445943544 Question Type : MCQ Option Shuffling : Yes Is Question Mandatory : No Option

Orientation : Vertical

Correct Marks : 1 Wrong Marks : 0.25

What is the full form of CAD?

Options :

1. ✖ Computer-analysis design
2. ✔ Computer-aided design
3. ✖ Computer-automated design
4. ✖ Computer-array design

Question Number : 119 Question Id : 59445943544 Question Type : MCQ Option Shuffling : Yes Is Question Mandatory : No Option

Orientation : Vertical

Correct Marks : 1 Wrong Marks : 0.25

CAD का पूर्ण प्रपत्र क्या है?

Options :

1. ✖ कंप्यूटर-एनालिसिस डिजाइन
2. ✔ कंप्यूटर-एडेड डिजाइन
3. ✖ कंप्यूटर-ऑटोमेटेड डिजाइन
4. ✖ कंप्यूटर-ऐरे डिजाइन

Question Number : 120 Question Id : 59445943545 Question Type : MCQ Option Shuffling : Yes Is Question Mandatory : No Option

Orientation : Vertical

Correct Marks : 1 Wrong Marks : 0.25

What command is used for trim in AutoCAD?

Options :

1. ✔ TR+ENTER
2. ✖ EX+ENTER
3. ✖ FI+ENTER
4. ✖ L+ENTER

Question Number : 120 Question Id : 59445943545 Question Type : MCQ Option Shuffling : Yes Is Question Mandatory : No Option

Orientation : Vertical

Correct Marks : 1 Wrong Marks : 0.25

ऑटोकैड में ट्रिम करने के लिए किस कमांड का प्रयोग किया जाता है?

Options :

1. ✓ TR+ENTER
2. ✗ EX+ENTER
3. ✗ FI+ENTER
4. ✗ L+ENTER

Discipline2

Group Number :	7
Group Id :	5944591003
Group Maximum Duration :	0
Group Minimum Duration :	0
Show Attended Group? :	No
Edit Attended Group? :	No
Break time :	0
Group Marks :	20
Is this Group for Examiner? :	No

Discipline2

Section Id :	5944591728
Section Number :	1
Section type :	Online
Mandatory or Optional :	Mandatory
Number of Questions :	20
Number of Questions to be attempted :	20
Section Marks :	20
Enable Mark as Answered Mark for Review and Clear Response :	Yes
Sub-Section Number :	1
Sub-Section Id :	5944592012
Question Shuffling Allowed :	Yes

Question Number : 121 Question Id : 59445943546 Question Type : MCQ Option Shuffling : Yes Is Question Mandatory : No Option Orientation : Vertical

Correct Marks : 1 Wrong Marks : 0.25

The portion of the building between ground level and ground floor level is know as_____.

Options :

1. ✗ Dpc
2. ✓ Plinth
3. ✗ Sill
4. ✗ Ramp

Question Number : 121 Question Id : 59445943546 Question Type : MCQ Option Shuffling : Yes Is Question Mandatory : No Option Orientation : Vertical

Correct Marks : 1 Wrong Marks : 0.25

भवन के भूतल और निचली मंज़िल के बीच के भाग को _____ के रूप में जाना जाता है।

Options :

1. ✗ Dpc
2. ✓ प्लिंथ
3. ✗ सिल्ल
4. ✗ रैंप

Question Number : 122 Question Id : 59445943547 Question Type : MCQ Option Shuffling : Yes Is Question Mandatory : No Option Orientation : Vertical

Correct Marks : 1 Wrong Marks : 0.25

Which one of the following is not a dead load?

Options :

1. ✗ Roof
2. ✗ Beams
3. ✗ Column
4. ✓ Furniture

Question Number : 122 Question Id : 59445943547 Question Type : MCQ Option Shuffling : Yes Is Question Mandatory : No Option

Orientation : Vertical

Correct Marks : 1 Wrong Marks : 0.25

निम्नलिखित में से कौन अनुपयोज्य लोड नहीं है?

Options :

1. ✗ छत
2. ✗ बीम
3. ✗ कॉलम
4. ✓ फर्नीचर

Question Number : 123 Question Id : 59445943548 Question Type : MCQ Option Shuffling : Yes Is Question Mandatory : No Option

Orientation : Vertical

Correct Marks : 1 Wrong Marks : 0.25

The term _____ is generally used for the temporary structure used for supporting workmen during construction (brickwork, plastering etc.).

Options :

1. ✓ Scaffolding
2. ✗ Cantilever
3. ✗ Framework
4. ✗ Lever

Question Number : 123 Question Id : 59445943548 Question Type : MCQ Option Shuffling : Yes Is Question Mandatory : No Option

Orientation : Vertical

Correct Marks : 1 Wrong Marks : 0.25

_____ शब्द का प्रयोग आम तौर पर निर्माण (ब्रिक वर्क, पलस्तर आदि) के दौरान कामगारों की सहायता करने के लिए उपयोग की जाने वाली अस्थायी संरचना के लिए किया जाता है।

Options :

1. ✓ पाड़
2. ✗ बाहुधरन
3. ✗ ढांचा (फ्रेमवर्क)
4. ✗ उत्तोलक

Question Number : 124 Question Id : 59445943549 Question Type : MCQ Option Shuffling : Yes Is Question Mandatory : No Option Orientation : Vertical

Correct Marks : 1 Wrong Marks : 0.25

Which is the software used in preparation of construction schedules?

Options :

1. ✓ Primavera P6
2. ✗ Indesign
3. ✗ Rhino
4. ✗ Vray

Question Number : 124 Question Id : 59445943549 Question Type : MCQ Option Shuffling : Yes Is Question Mandatory : No Option Orientation : Vertical

Correct Marks : 1 Wrong Marks : 0.25

निर्माण कार्यक्रम तैयार करने में किस सॉफ्टवेयर का प्रयोग किया जाता है?

Options :

1. ✓ प्रिमावेरा P6
2. ✗ इनडिज़ाइन
3. ✗ राइनो
4. ✗ व्रे

Question Number : 125 Question Id : 59445943550 Question Type : MCQ Option Shuffling : Yes Is Question Mandatory : No Option Orientation : Vertical

Correct Marks : 1 Wrong Marks : 0.25

What is the command to extend a line in AutoCAD?

Options :

1. ✗ CO+ENTER
2. ✓ EX+Enter
3. ✗ L+Enter
4. ✗ CI+ENTER

Question Number : 125 Question Id : 59445943550 Question Type : MCQ Option Shuffling : Yes Is Question Mandatory : No Option Orientation : Vertical

Correct Marks : 1 Wrong Marks : 0.25

ऑटोकैड में एक रेखा को विस्तार करने का कमांड क्या है?

Options :

1. ✗ CO+ENTER
2. ✓ EX+Enter
3. ✗ L+Enter
4. ✗ CI+ENTER

Question Number : 126 Question Id : 59445943551 Question Type : MCQ Option Shuffling : Yes Is Question Mandatory : No Option Orientation : Vertical

Correct Marks : 1 Wrong Marks : 0.25

Which Software is used for rendering?

Options :

1. ✗ Revit
2. ✓ Lumion
3. ✗ Sketchup
4. ✗ AutoCAD

Question Number : 126 Question Id : 59445943551 Question Type : MCQ Option Shuffling : Yes Is Question Mandatory : No Option Orientation : Vertical

Correct Marks : 1 Wrong Marks : 0.25

रेंडरिंग के लिए किस सॉफ्टवेयर का उपयोग किया जाता है?

Options :

1. ✗ रेवित
2. ✓ लुमियन
3. ✗ स्केचअप
4. ✗ ऑटोकैड

Question Number : 127 Question Id : 59445943552 Question Type : MCQ Option Shuffling : Yes Is Question Mandatory : No Option Orientation : Vertical

Correct Marks : 1 Wrong Marks : 0.25

What is the full form of GFC drawing?

Options :

1. ✖ Gone for construction
2. ✔ Good for construction
3. ✖ Grade for construction
4. ✖ Great for construction

Question Number : 127 Question Id : 59445943552 Question Type : MCQ Option Shuffling : Yes Is Question Mandatory : No Option Orientation : Vertical

Correct Marks : 1 Wrong Marks : 0.25

GFC ड्राइंग का पूर्ण प्रपत्र क्या है?

Options :

1. ✖ गॉन फॉर कंस्ट्रक्शन
2. ✔ गुड फॉर कंस्ट्रक्शन
3. ✖ ग्रेड फॉर कंस्ट्रक्शन
4. ✖ ग्रेट फॉर कंस्ट्रक्शन

Question Number : 128 Question Id : 59445943553 Question Type : MCQ Option Shuffling : Yes Is Question Mandatory : No Option Orientation : Vertical

Correct Marks : 1 Wrong Marks : 0.25

What is an important indication which should be given while drawing the roof plan?

Options :

1. ✖ DPC
2. ✖ Contours
3. ✔ Slope to drain
4. ✖ Property line

Question Number : 128 Question Id : 59445943553 Question Type : MCQ Option Shuffling : Yes Is Question Mandatory : No Option Orientation : Vertical

Correct Marks : 1 Wrong Marks : 0.25

एक महत्वपूर्ण संकेत क्या है जो छत योजना बनाते समय दिया जाना चाहिए?

Options :

1. ✗ DPC
2. ✗ कंटूर
3. ✓ निकासन के लिए ढलान
4. ✗ संपत्ति रेखा

Question Number : 129 Question Id : 59445943554 Question Type : MCQ Option Shuffling : Yes Is Question Mandatory : No Option Orientation : Vertical

Correct Marks : 1 Wrong Marks : 0.25

What is the standard height for above portion of railings of stairs from the floor level?

Options :

1. ✓ 850-950 mm
2. ✗ 800-825 mm
3. ✗ 750-800 mm
4. ✗ 650-750 mm

Question Number : 129 Question Id : 59445943554 Question Type : MCQ Option Shuffling : Yes Is Question Mandatory : No Option Orientation : Vertical

Correct Marks : 1 Wrong Marks : 0.25

सीढ़ियों की रेलिंग के फर्श के स्तर से ऊपर के हिस्से के लिए मानक ऊंचाई क्या है?

Options :

1. ✓ 850-950 mm
2. ✗ 800-825 mm
3. ✗ 750-800 mm
4. ✗ 650-750 mm

Question Number : 130 Question Id : 59445943555 Question Type : MCQ Option Shuffling : Yes Is Question Mandatory : No Option Orientation : Vertical

Correct Marks : 1 Wrong Marks : 0.25

What is the full form of FAR?

Options :

1. ✓ Floor Area Ratio
2. ✗ Floor Assumption Ratio

- 3. ✖ Floor Area Reduction
- 4. ✖ File Assumption Ratio

Question Number : 130 Question Id : 59445943555 Question Type : MCQ Option Shuffling : Yes Is Question Mandatory : No Option Orientation : Vertical

Correct Marks : 1 Wrong Marks : 0.25

FAR का पूर्ण प्रपत्र क्या है?

Options :

- 1. ✔ फ्लोर एरिया रेश्यो
- 2. ✖ फ्लोर एसंप्शन रेश्यो
- 3. ✖ फ्लोर एरिया रिडक्शन
- 4. ✖ फ़ाइल एसंप्शन रेश्यो

Question Number : 131 Question Id : 59445943556 Question Type : MCQ Option Shuffling : Yes Is Question Mandatory : No Option Orientation : Vertical

Correct Marks : 1 Wrong Marks : 0.25

What is the minimum size of the lift for easy manoeuvrability for wheel chairs?

Options :

- 1. ✖ 1400 mm(W)by 1200 mm(D)
- 2. ✔ 1500 mm(W) by 1500 mm(D)
- 3. ✖ 1600 mm(W)by 1400 mm(D)
- 4. ✖ 1700 mm(W) by 1800 mm(D)

Question Number : 131 Question Id : 59445943556 Question Type : MCQ Option Shuffling : Yes Is Question Mandatory : No Option Orientation : Vertical

Correct Marks : 1 Wrong Marks : 0.25

व्हील चेयर के लिए आसान गतिशीलता के लिए लिफ्ट का न्यूनतम आकार क्या है?

Options :

- 1. ✖ 1400 mm(W) द्वारा 1200 mm(D)
- 2. ✔ 1500 mm(W) द्वारा 1500 mm(D)
- 3. ✖ 1600 mm(W)द्वारा1400 mm(D)

4. ✖ 1700 mm(W) द्वारा 1800 mm(D)

Question Number : 132 Question Id : 59445943557 Question Type : MCQ Option Shuffling : Yes Is Question Mandatory : No Option Orientation : Vertical

Correct Marks : 1 Wrong Marks : 0.25

If the level difference for the ramp is 750mm to 3000mm, what shall be the width of the ramp for a commercial building?

Options :

1. ✖ 1200mm
2. ✖ 1300mm
3. ✖ 1500mm
4. ✔ 1800mm

Question Number : 132 Question Id : 59445943557 Question Type : MCQ Option Shuffling : Yes Is Question Mandatory : No Option Orientation : Vertical

Correct Marks : 1 Wrong Marks : 0.25

यदि रैंप के लिए स्तर अंतर 750 mm से 3000 mm है, तो व्यावसायिक भवन के लिए रैंप की चौड़ाई क्या होगी?

Options :

1. ✖ 1200 mm
2. ✖ 1300 mm
3. ✖ 1500 mm
4. ✔ 1800 mm

Question Number : 133 Question Id : 59445943558 Question Type : MCQ Option Shuffling : Yes Is Question Mandatory : No Option Orientation : Vertical

Correct Marks : 1 Wrong Marks : 0.25

When was land acquisition act passed?

Options :

1. ✔ 1894
2. ✖ 1994
3. ✖ 2004
4. ✖ 1964

Question Number : 133 Question Id : 59445943558 Question Type : MCQ Option Shuffling : Yes Is Question Mandatory : No Option Orientation : Vertical

Correct Marks : 1 Wrong Marks : 0.25

भूमि अधिग्रहण अधिनियम कब पारित किया गया था?

Options :

1. ✓ 1894
2. ✗ 1994
3. ✗ 2004
4. ✗ 1964

Question Number : 134 Question Id : 59445943559 Question Type : MCQ Option Shuffling : Yes Is Question Mandatory : No Option Orientation : Vertical

Correct Marks : 1 Wrong Marks : 0.25

What is the population in Tier I cities?

Options :

1. ✓ 1,00,000 and above
2. ✗ 50,000 and below
3. ✗ 10,000 and below
4. ✗ 5,00,000 and above

Question Number : 134 Question Id : 59445943559 Question Type : MCQ Option Shuffling : Yes Is Question Mandatory : No Option Orientation : Vertical

Correct Marks : 1 Wrong Marks : 0.25

टियर I शहरों में जनसंख्या कितनी है?

Options :

1. ✓ 1,00,000 और उससे अधिक
2. ✗ 50,000 और उससे कम
3. ✗ 10,000 और उससे कम
4. ✗ 5,00,000 और उससे अधिक

Question Number : 135 Question Id : 59445943560 Question Type : MCQ Option Shuffling : Yes Is Question Mandatory : No Option

Orientation : Vertical

Correct Marks : 1 Wrong Marks : 0.25

_____ is a type of surveying where only linear measurements are made in the field.

Options :

1. ✓ Chain Surveying
2. ✗ Plane-table surveying
3. ✗ Compass Surveying
4. ✗ Photographic Surveying

Question Number : 135 Question Id : 59445943560 Question Type : MCQ Option Shuffling : Yes Is Question Mandatory : No Option

Orientation : Vertical

Correct Marks : 1 Wrong Marks : 0.25

_____ सर्वेक्षण का प्रकार है जहां क्षेत्र में केवल रेखिक मापन किया जाता है।

Options :

1. ✓ श्रृंखला सर्वेक्षण
2. ✗ प्लेन-टेबल सर्वेक्षण
3. ✗ कम्पास सर्वेक्षण
4. ✗ फोटोग्राफिक सर्वेक्षण

Question Number : 136 Question Id : 59445943561 Question Type : MCQ Option Shuffling : Yes Is Question Mandatory : No Option

Orientation : Vertical

Correct Marks : 1 Wrong Marks : 0.25

_____ is the deformation per unit length.

Options :

1. ✓ Strain
2. ✗ Longevity
3. ✗ Elasticity
4. ✗ Modulus of section

Question Number : 136 Question Id : 59445943561 Question Type : MCQ Option Shuffling : Yes Is Question Mandatory : No Option

Orientation : Vertical

Correct Marks : 1 Wrong Marks : 0.25

प्रति इकाई लंबाई का विरूपण है।

Options :

1. ✓ स्ट्रेन
2. ✗ दीर्घजीवन
3. ✗ लचीलापन
4. ✗ खंड का मापांक

Question Number : 137 Question Id : 59445943562 Question Type : MCQ Option Shuffling : Yes Is Question Mandatory : No Option Orientation : Vertical

Correct Marks : 1 Wrong Marks : 0.25

The focal length of a girder is its _____ position, in which SF changes sign due to rolling load.

Options :

1. ✗ Extreme
2. ✓ Central
3. ✗ Corner
4. ✗ one-third

Question Number : 137 Question Id : 59445943562 Question Type : MCQ Option Shuffling : Yes Is Question Mandatory : No Option Orientation : Vertical

Correct Marks : 1 Wrong Marks : 0.25

गर्डर की फोकस दूरी उसकी _____ स्थिति होती है, जिसमें SF रोलिंग लोड के कारण साइन बदलता है।

Options :

1. ✗ चरम
2. ✓ केंद्रीय
3. ✗ कोना
4. ✗ एक तिहाई

Question Number : 138 Question Id : 59445943563 Question Type : MCQ Option Shuffling : Yes Is Question Mandatory : No Option Orientation : Vertical

Correct Marks : 1 Wrong Marks : 0.25

What is the unit weight (in kg/ m³) of cement?

Options :

1. ✓ 1440
2. ✗ 2400
3. ✗ 7850
4. ✗ 700

Question Number : 138 Question Id : 59445943563 Question Type : MCQ Option Shuffling : Yes Is Question Mandatory : No Option Orientation : Vertical

Correct Marks : 1 Wrong Marks : 0.25

सीमेंट का इकाई भार (kg/m^3 में) क्या है?

Options :

1. ✓ 1440
2. ✗ 2400
3. ✗ 7850
4. ✗ 700

Question Number : 139 Question Id : 59445943564 Question Type : MCQ Option Shuffling : Yes Is Question Mandatory : No Option Orientation : Vertical

Correct Marks : 1 Wrong Marks : 0.25

What is the Poisson's ratio for mild steel?

Options :

1. ✗ 0.1
2. ✓ 0.3
3. ✗ 0.2
4. ✗ 0.4

Question Number : 139 Question Id : 59445943564 Question Type : MCQ Option Shuffling : Yes Is Question Mandatory : No Option Orientation : Vertical

Correct Marks : 1 Wrong Marks : 0.25

माइल्ड स्टील के लिए प्वासों का अनुपात क्या है?

Options :

1. ✗ 0.1

2. ✓ 0.3

3. ✗ 0.2

4. ✗ 0.4

Question Number : 140 Question Id : 59445943565 Question Type : MCQ Option Shuffling : Yes Is Question Mandatory : No Option Orientation : Vertical

Correct Marks : 1 Wrong Marks : 0.25

The bearing pressure that the soil can take without exceeding the permissible settlement is known as _____.

Options :

1. ✗ Safe Bearing Pressure

2. ✗ Ultimate Bearing Pressure

3. ✓ Allowable Bearing Pressure

4. ✗ Maximum Bearing Pressure

Question Number : 140 Question Id : 59445943565 Question Type : MCQ Option Shuffling : Yes Is Question Mandatory : No Option Orientation : Vertical

Correct Marks : 1 Wrong Marks : 0.25

अनुमेय बंदोबस्त को पार किए बिना मृदा जो बेयरिंग क्षमता ले सकती है, उसे _____ के रूप में जाना जाता है।

Options :

1. ✗ सुरक्षित बेयरिंग क्षमता

2. ✗ चरम बेयरिंग क्षमता

3. ✓ अनुज्ञेय बेयरिंग दाब

4. ✗ अधिकतम बेयरिंग क्षमता

Discipline3

Group Number :

8

Group Id :

5944591004

Group Maximum Duration :

0

Group Minimum Duration :

0

Show Attended Group? :

No

Edit Attended Group? : No
Break time : 0
Group Marks : 20
Is this Group for Examiner? : No

Discipline3

Section Id : 5944591729
Section Number : 1
Section type : Online
Mandatory or Optional : Mandatory
Number of Questions : 20
Number of Questions to be attempted : 20
Section Marks : 20
Enable Mark as Answered Mark for Review and Clear Response : Yes
Sub-Section Number : 1
Sub-Section Id : 5944592013
Question Shuffling Allowed : Yes

Question Number : 141 Question Id : 59445943566 Question Type : MCQ Option Shuffling : Yes Is Question Mandatory : No Option Orientation : Vertical

Correct Marks : 1 Wrong Marks : 0.25

_____ is the cadence of some kind of design theme at a building or detail scale in some kind of regular pattern or modulation.

Options :

1. ✓ Rhythm
2. ✗ Rationalism
3. ✗ Replica
4. ✗ System

Question Number : 141 Question Id : 59445943566 Question Type : MCQ Option Shuffling : Yes Is Question Mandatory : No Option Orientation : Vertical

Correct Marks : 1 Wrong Marks : 0.25

_____ किसी भवन या किसी प्रकार के नियमित पैटर्न या मॉडुलन में विस्तार पैमाने पर किसी प्रकार की डिज़ाइन थीम का ताल है।

Options :

1. ✓ रीथ्म
2. ✗ रेशनलिस्म
3. ✗ रेप्लिका
4. ✗ प्रणाली

Question Number : 142 Question Id : 59445943567 Question Type : MCQ Option Shuffling : Yes Is Question Mandatory : No Option Orientation : Vertical

Correct Marks : 1 Wrong Marks : 0.25

What is the style of Burj Khalifa?

Options :

1. ✗ Deconstructivism
2. ✓ Neo-futurism
3. ✗ Art Deco
4. ✗ Revivalism

Question Number : 142 Question Id : 59445943567 Question Type : MCQ Option Shuffling : Yes Is Question Mandatory : No Option Orientation : Vertical

Correct Marks : 1 Wrong Marks : 0.25

बुर्ज खलीफ़ा की शैली क्या है?

Options :

1. ✗ विखंडनवाद
2. ✓ नव-भविष्यवाद
3. ✗ आर्ट डेको
4. ✗ रविवालिस्म

Question Number : 143 Question Id : 59445943568 Question Type : MCQ Option Shuffling : Yes Is Question Mandatory : No Option Orientation : Vertical

Correct Marks : 1 Wrong Marks : 0.25

_____ is a centre of attraction which is generally an architectural feature focused as a point of interest such as statue, fountain, rockery etc.

Options :

1. ✗ Mass effect
2. ✓ Focal Point
3. ✗ Focus Perspective
4. ✗ Divisional Lines

Question Number : 143 Question Id : 59445943568 Question Type : MCQ Option Shuffling : Yes Is Question Mandatory : No Option Orientation : Vertical

Correct Marks : 1 Wrong Marks : 0.25

_____ आकर्षण का केंद्र है जो आम तौर पर वास्तुशिल्प विशेषता है जो रुचि बिंदु जैसे मूर्ति, फव्वारा, शैलोद्यान इत्यादि के रूप में केंद्रित है।

Options :

1. ✗ सामूहिक असर
2. ✓ केन्द्र बिंदु
3. ✗ फोकस परिप्रेक्ष्य
4. ✗ भगीय रेखाएं

Question Number : 144 Question Id : 59445943569 Question Type : MCQ Option Shuffling : Yes Is Question Mandatory : No Option Orientation : Vertical

Correct Marks : 1 Wrong Marks : 0.25

_____ pattern it is utilized in formal garden in a symmetrical manner.

Options :

1. ✓ Rectangular
2. ✗ Circle
3. ✗ Diagonal
4. ✗ Square

Question Number : 144 Question Id : 59445943569 Question Type : MCQ Option Shuffling : Yes Is Question Mandatory : No Option Orientation : Vertical

Correct Marks : 1 Wrong Marks : 0.25

_____ पैटर्न, औपचारिक उद्यान में इसका उपयोग सममित तरीके से किया जाता है।

Options :

1. ✓ आयताकार
2. ✗ वृत्त
3. ✗ विकर्ण
4. ✗ वर्ग

Question Number : 145 Question Id : 59445943570 Question Type : MCQ Option Shuffling : Yes Is Question Mandatory : No Option Orientation : Vertical

Correct Marks : 1 Wrong Marks : 0.25

Nahar (flowing canal of water) is an element of which style of garden?

Options :

1. ✗ French
2. ✓ Persian
3. ✗ Japanese
4. ✗ Italian

Question Number : 145 Question Id : 59445943570 Question Type : MCQ Option Shuffling : Yes Is Question Mandatory : No Option Orientation : Vertical

Correct Marks : 1 Wrong Marks : 0.25

नहर (पानी की बहती नहर) किस शैली के बगीचे का एक तत्व है?

Options :

1. ✗ फ्रान्सीसी
2. ✓ फ़ारसी
3. ✗ जापानी
4. ✗ इतालवी

Question Number : 146 Question Id : 59445943571 Question Type : MCQ Option Shuffling : Yes Is Question Mandatory : No Option Orientation : Vertical

Correct Marks : 1 Wrong Marks : 0.25

_____ is the SI unit of luminous intensity.

Options :

1. ✓ Candela

2. ✖ Watt
3. ✖ Flux
4. ✖ Glare

Question Number : 146 Question Id : 59445943571 Question Type : MCQ Option Shuffling : Yes Is Question Mandatory : No Option Orientation : Vertical

Correct Marks : 1 Wrong Marks : 0.25

_____ ज्योति तीव्रता की SI इकाई है।

Options :

1. ✔ कैन्डेला
2. ✖ वाट
3. ✖ फ्लक्स
4. ✖ चमक

Question Number : 147 Question Id : 59445943572 Question Type : MCQ Option Shuffling : Yes Is Question Mandatory : No Option Orientation : Vertical

Correct Marks : 1 Wrong Marks : 0.25

BAS stands for _____.

Options :

1. ✖ Building Automatic Solution
2. ✔ Building Automation System
3. ✖ Building Automation Schedule
4. ✖ Building Automation Supply

Question Number : 147 Question Id : 59445943572 Question Type : MCQ Option Shuffling : Yes Is Question Mandatory : No Option Orientation : Vertical

Correct Marks : 1 Wrong Marks : 0.25

BAS का पूर्ण प्रपत्र _____ है।

Options :

1. ✖ बिल्डिंग आटोमेटिक सोलुशन
2. ✔ बिल्डिंग ऑटोमेशन सिस्टम

3. ✖ बिल्डिंग ऑटोमेशन शेड्यूल
4. ✖ बिल्डिंग ऑटोमेशन सप्लाइ

Question Number : 148 Question Id : 59445943573 Question Type : MCQ Option Shuffling : Yes Is Question Mandatory : No Option Orientation : Vertical

Correct Marks : 1 Wrong Marks : 0.25

Who designed Burj Khalifa?

Options :

1. ✖ Oscar Niemeyer
2. ✖ Walter Gropius
3. ✔ Adrian Smith
4. ✖ FL Wright

Question Number : 148 Question Id : 59445943573 Question Type : MCQ Option Shuffling : Yes Is Question Mandatory : No Option Orientation : Vertical

Correct Marks : 1 Wrong Marks : 0.25

बुर्ज खलीफ़ा को किसने डिजाइन किया था?

Options :

1. ✖ ऑस्कर निमेयर
2. ✖ वाल्टर ग्रोपियस
3. ✔ एड्रियन स्मिथ
4. ✖ एफएल राइट

Question Number : 149 Question Id : 59445943574 Question Type : MCQ Option Shuffling : Yes Is Question Mandatory : No Option Orientation : Vertical

Correct Marks : 1 Wrong Marks : 0.25

Who was the founder of Bauhaus?

Options :

1. ✖ Zaha Hadid
2. ✔ Walter Gropius
3. ✖ Toyo Ito

4. ✖ Frank Gehry

Question Number : 149 Question Id : 59445943574 Question Type : MCQ Option Shuffling : Yes Is Question Mandatory : No Option Orientation : Vertical

Correct Marks : 1 Wrong Marks : 0.25

बौहाउस के संस्थापक कौन थे?

Options :

1. ✖ ज़ाहा हदीद
2. ✔ वाल्टर ग्रोपियस
3. ✖ टोयो इतो
4. ✖ फ्रैंक गेहरी

Question Number : 150 Question Id : 59445943575 Question Type : MCQ Option Shuffling : Yes Is Question Mandatory : No Option Orientation : Vertical

Correct Marks : 1 Wrong Marks : 0.25

Which one of the element is not used for making physical 3D model?

Options :

1. ✖ MDF
2. ✖ Cork sheet
3. ✖ Thermocol
4. ✔ Plastic ruler

Question Number : 150 Question Id : 59445943575 Question Type : MCQ Option Shuffling : Yes Is Question Mandatory : No Option Orientation : Vertical

Correct Marks : 1 Wrong Marks : 0.25

किस तत्व का उपयोग भौतिक 3D मॉडल बनाने के लिए नहीं किया जाता है?

Options :

1. ✖ MDF
2. ✖ कॉर्क शीट
3. ✖ थर्मोकोल
4. ✔ प्लास्टिक रूलर

Question Number : 151 Question Id : 59445943576 Question Type : MCQ Option Shuffling : Yes Is Question Mandatory : No Option Orientation : Vertical

Correct Marks : 1 Wrong Marks : 0.25

_____ is the initial stage model .

Options :

1. ✖ Presentation model
2. ✖ Working model
3. ✔ Conceptual model
4. ✖ Sectional model

Question Number : 151 Question Id : 59445943576 Question Type : MCQ Option Shuffling : Yes Is Question Mandatory : No Option Orientation : Vertical

Correct Marks : 1 Wrong Marks : 0.25

_____ प्रारंभिक चरण मॉडल है।

Options :

1. ✖ प्रस्तुति मॉडल
2. ✖ कार्यकारी मॉडल
3. ✔ संकल्पनात्मक मॉडल
4. ✖ अनुभागीय मॉडल

Question Number : 152 Question Id : 59445943577 Question Type : MCQ Option Shuffling : Yes Is Question Mandatory : No Option Orientation : Vertical

Correct Marks : 1 Wrong Marks : 0.25

Who wrote the book "Culture of Cities"?

Options :

1. ✖ Patrick Geddes
2. ✔ Lewis Mumford
3. ✖ Robert Owen
4. ✖ Le Corbusier

Question Number : 152 Question Id : 59445943577 Question Type : MCQ Option Shuffling : Yes Is Question Mandatory : No Option

Orientation : Vertical

Correct Marks : 1 Wrong Marks : 0.25

किसने "कल्चर ऑफ सिटीज" पुस्तक लिखी है?

Options :

1. ✗ पैट्रिक गेडेस
2. ✓ लुइस ममफोर्ड
3. ✗ राबर्ट ओवेन
4. ✗ ली कोर्बुज़िए

Question Number : 153 Question Id : 59445943578 Question Type : MCQ Option Shuffling : Yes Is Question Mandatory : No Option

Orientation : Vertical

Correct Marks : 1 Wrong Marks : 0.25

Who developed Ekistics?

Options :

1. ✗ Robert Owen
2. ✗ Ebenezer Howard
3. ✗ Clarence Perry
4. ✓ Doxiadis

Question Number : 153 Question Id : 59445943578 Question Type : MCQ Option Shuffling : Yes Is Question Mandatory : No Option

Orientation : Vertical

Correct Marks : 1 Wrong Marks : 0.25

एकिस्टिक्स का विकास किसने किया?

Options :

1. ✗ राबर्ट ओवेन
2. ✗ एबेनेज़र हावर्ड
3. ✗ क्लेरेंस पेरी
4. ✓ डोक्सियाडिस

Question Number : 154 Question Id : 59445943579 Question Type : MCQ Option Shuffling : Yes Is Question Mandatory : No Option

Orientation : Vertical

Correct Marks : 1 Wrong Marks : 0.25

Who designed Jaipur?

Options :

1. ✗ Le Corbusier
2. ✗ Doxiadis
3. ✓ Vidyadhar Bhattacharya
4. ✗ Samrat Ashoka

Question Number : 154 Question Id : 59445943579 Question Type : MCQ Option Shuffling : Yes Is Question Mandatory : No Option Orientation : Vertical

Correct Marks : 1 Wrong Marks : 0.25

जयपुर को किसने डिजाइन किया था?

Options :

1. ✗ ली कोर्बुज़िए
2. ✗ डोक्सियाडिस
3. ✓ विद्याधर भट्टाचार्य
4. ✗ सम्राट अशोक

Question Number : 155 Question Id : 59445943580 Question Type : MCQ Option Shuffling : Yes Is Question Mandatory : No Option Orientation : Vertical

Correct Marks : 1 Wrong Marks : 0.25

EIA stands for?

Options :

1. ✗ Environmental Impact Association
2. ✗ Energy Institute of Asia
3. ✗ Elevation Interference Assessment
4. ✓ Environmental Impact Assessment

Question Number : 155 Question Id : 59445943580 Question Type : MCQ Option Shuffling : Yes Is Question Mandatory : No Option Orientation : Vertical

Correct Marks : 1 Wrong Marks : 0.25

EIA का पूर्ण प्रपत्र क्या है?

Options :

1. ✗ एनवायर्नमेंटल इम्पैक्ट एसोसिएशन
2. ✗ एनर्जी इंस्टिट्यूट ऑफ़ एशिया
3. ✗ एलिवेशन इंटरफेरेंस असेसमेंट
4. ✓ एनवायर्नमेंटल इम्पैक्ट असेसमेंट

Question Number : 156 Question Id : 59445943581 Question Type : MCQ Option Shuffling : Yes Is Question Mandatory : No Option Orientation : Vertical

Correct Marks : 1 Wrong Marks : 0.25

U-value refers to _____.

Options :

1. ✓ Thermal Transmittance
2. ✗ Cooling Load
3. ✗ Transparency of a material
4. ✗ Energy efficiency of a material

Question Number : 156 Question Id : 59445943581 Question Type : MCQ Option Shuffling : Yes Is Question Mandatory : No Option Orientation : Vertical

Correct Marks : 1 Wrong Marks : 0.25

U-वैल्यू _____ को संदर्भित करता है।

Options :

1. ✓ तापीय पारगम्यता
2. ✗ शीतलन भार
3. ✗ सामग्री की पारदर्शिता
4. ✗ सामग्री की ऊर्जा दक्षता

Question Number : 157 Question Id : 59445943582 Question Type : MCQ Option Shuffling : Yes Is Question Mandatory : No Option Orientation : Vertical

Correct Marks : 1 Wrong Marks : 0.25

Delonix Regia refers to _____.

Options :

1. ✖ Banyan Tree
2. ✖ Mango Tree
3. ✔ Gulmohar Tree
4. ✖ Neem Tree

Question Number : 157 Question Id : 59445943582 Question Type : MCQ Option Shuffling : Yes Is Question Mandatory : No Option Orientation : Vertical

Correct Marks : 1 Wrong Marks : 0.25

डेलोनिक्स रेजिया _____ को संदर्भित करता है।

Options :

1. ✖ बरगद का वृक्ष
2. ✖ आम का वृक्ष
3. ✔ गुलमोहर का वृक्ष
4. ✖ नीम का वृक्ष

Question Number : 158 Question Id : 59445943583 Question Type : MCQ Option Shuffling : Yes Is Question Mandatory : No Option Orientation : Vertical

Correct Marks : 1 Wrong Marks : 0.25

BOQ stands for _____.

Options :

1. ✔ Bill of quantities
2. ✖ Bill of qualities
3. ✖ Book of qualities
4. ✖ Book of quantities

Question Number : 158 Question Id : 59445943583 Question Type : MCQ Option Shuffling : Yes Is Question Mandatory : No Option Orientation : Vertical

Correct Marks : 1 Wrong Marks : 0.25

BOQ पूर्ण प्रपत्र _____ है।

Options :

1. ✔ बिल ऑफ़ क्वांटिटीज़

2. ✖ बिल ऑफ़ कालिटीज़
3. ✖ बुक ऑफ़ कालिटीज़
4. ✖ बुक ऑफ़ कान्टिटीज़

Question Number : 159 Question Id : 59445943584 Question Type : MCQ Option Shuffling : Yes Is Question Mandatory : No Option Orientation : Vertical

Correct Marks : 1 Wrong Marks : 0.25

_____ is the process by which bids are invited from interested contractors to carry out specific packages of construction work.

Options :

1. ✖ Competing
2. ✖ Estimating
3. ✔ Tendering
4. ✖ Electing

Question Number : 159 Question Id : 59445943584 Question Type : MCQ Option Shuffling : Yes Is Question Mandatory : No Option Orientation : Vertical

Correct Marks : 1 Wrong Marks : 0.25

_____ वह प्रक्रिया है जिसके द्वारा निर्माण कार्य के विशिष्ट पैकेजों को पूरा करने के लिए इच्छुक ठेकेदारों से बोलियां आमंत्रित की जाती हैं।

Options :

1. ✖ प्रतिस्पर्धा
2. ✖ आकलन
3. ✔ टेंडरिंग
4. ✖ चयन

Question Number : 160 Question Id : 59445943585 Question Type : MCQ Option Shuffling : Yes Is Question Mandatory : No Option Orientation : Vertical

Correct Marks : 1 Wrong Marks : 0.25

What are the 2 methods for calculation of fill and cut?

Options :

1. ✖ Grid & mass
2. ✖ Grid & Bearing

3. ✖ Grid & Piling

4. ✔ Grid & Section

Question Number : 160 Question Id : 59445943585 Question Type : MCQ Option Shuffling : Yes Is Question Mandatory : No Option Orientation : Vertical

Correct Marks : 1 Wrong Marks : 0.25

भराई-कटाई की गणना के लिए कौन से 2 तरीके हैं?

Options :

1. ✖ ग्रीड और द्रव्यमान

2. ✖ ग्रीड और बेयरिंग

3. ✖ ग्रीड और पाइलिंग

4. ✔ ग्रीड और खंड

Discipline4

Group Number :

9

Group Id :

5944591005

Group Maximum Duration :

0

Group Minimum Duration :

0

Show Attended Group? :

No

Edit Attended Group? :

No

Break time :

0

Group Marks :

20

Is this Group for Examiner? :

No

Discipline4

Section Id :

5944591730

Section Number :

1

Section type :

Online

Mandatory or Optional :

Mandatory

Number of Questions : 20
Number of Questions to be attempted : 20
Section Marks : 20
Enable Mark as Answered Mark for Review and Clear Response : Yes
Sub-Section Number : 1
Sub-Section Id : 5944592014
Question Shuffling Allowed : Yes

Question Number : 161 Question Id : 59445943586 Question Type : MCQ Option Shuffling : Yes Is Question Mandatory : No Option Orientation : Vertical

Correct Marks : 1 Wrong Marks : 0.25

Bituminous sheet is used for _____.

Options :

1. ✖ Fluxing Agent
2. ✖ Foundation base course
3. ✖ Floor finish
4. ✔ DPC

Question Number : 161 Question Id : 59445943586 Question Type : MCQ Option Shuffling : Yes Is Question Mandatory : No Option Orientation : Vertical

Correct Marks : 1 Wrong Marks : 0.25

बिटुमिनस शीट का उपयोग _____ के लिए किया जाता है।

Options :

1. ✖ फ्लक्सिंग एजेंट
2. ✖ नींव आधार स्तर
3. ✖ फर्श की फिनिशिंग
4. ✔ DPC

Question Number : 162 Question Id : 59445943587 Question Type : MCQ Option Shuffling : Yes Is Question Mandatory : No Option Orientation : Vertical

Correct Marks : 1 Wrong Marks : 0.25

DPC should be cured for atleast how many days?

Options :

1. ✖ 10
2. ✖ 5
3. ✔ 7
4. ✖ 15

Question Number : 162 Question Id : 59445943587 Question Type : MCQ Option Shuffling : Yes Is Question Mandatory : No Option Orientation : Vertical

Correct Marks : 1 Wrong Marks : 0.25

DPC को कम से कम कितने दिनों तक ठीक करना चाहिए?

Options :

1. ✖ 10
2. ✖ 5
3. ✔ 7
4. ✖ 15

Question Number : 163 Question Id : 59445943588 Question Type : MCQ Option Shuffling : Yes Is Question Mandatory : No Option Orientation : Vertical

Correct Marks : 1 Wrong Marks : 0.25

What type of wall is designed to resist lateral load in its own plane?

Options :

1. ✔ Shear Wall
2. ✖ Crumple Wall
3. ✖ Earthquake Wall
4. ✖ Veneered Wall

Question Number : 163 Question Id : 59445943588 Question Type : MCQ Option Shuffling : Yes Is Question Mandatory : No Option Orientation : Vertical

Correct Marks : 1 Wrong Marks : 0.25

किस प्रकार की दीवार को अपने ही तल में पार्श्व भार का प्रतिरोध करने के लिए डिज़ाइन किया गया है?

Options :

1. ✔ अपरूपण (शियर) दीवार

2. ✖ चुन्नटदार दिवार
3. ✖ भूकंप दीवार
4. ✖ मंडित (विनियर्ड) दीवार

Question Number : 164 Question Id : 59445943589 Question Type : MCQ Option Shuffling : Yes Is Question Mandatory : No Option Orientation : Vertical

Correct Marks : 1 Wrong Marks : 0.25

Defect on burnt-brick visible as a swollen mass due to the presence of excess carbon and sulphur in brick-clay is called _____.

Options :

1. ✔ Bloating
2. ✖ Chuffs
3. ✖ Efflorescence
4. ✖ Blisters

Question Number : 164 Question Id : 59445943589 Question Type : MCQ Option Shuffling : Yes Is Question Mandatory : No Option Orientation : Vertical

Correct Marks : 1 Wrong Marks : 0.25

ईंट-मिट्टी में अतिरिक्त कार्बन और सल्फर की उपस्थिति के कारण जली हुई ईंट पर सूजन के रूप में दिखाई देने वाले दोष को _____ कहा जाता है।

Options :

1. ✔ ब्लोटिंग
2. ✖ चप्स
3. ✖ एफफ्लोरेसेन्स
4. ✖ ब्लिस्टर्स

Question Number : 165 Question Id : 59445943590 Question Type : MCQ Option Shuffling : Yes Is Question Mandatory : No Option Orientation : Vertical

Correct Marks : 1 Wrong Marks : 0.25

What is the full-form of TDR?

Options :

1. ✔ Transfer of Development Rights
2. ✖ Transferable Deposit Rights

- 3. ✖ Transferable Drawing Rights
- 4. ✖ Transferable Development Rules

Question Number : 165 Question Id : 59445943590 Question Type : MCQ Option Shuffling : Yes Is Question Mandatory : No Option Orientation : Vertical

Correct Marks : 1 Wrong Marks : 0.25

TDR का पूर्ण प्रपत्र क्या है?

Options :

- 1. ✔ ट्रांसफर ऑफ़ डेवलपमेंट राइट्स
- 2. ✖ ट्रांसफ़ेरेबल डिपॉजिट राइट्स
- 3. ✖ ट्रांसफ़ेरेबल ड्राइंग राइट्स
- 4. ✖ ट्रांसफ़ेरेबल डेवलपमेंट रूल्स

Question Number : 166 Question Id : 59445943591 Question Type : MCQ Option Shuffling : Yes Is Question Mandatory : No Option Orientation : Vertical

Correct Marks : 1 Wrong Marks : 0.25

For a sector of 2km × 1km size and gross density of 250ppha, what will be the net-density if non-residential land constitutes 50% of land area?

Options :

- 1. ✔ 500 ppha
- 2. ✖ 750 ppha
- 3. ✖ 800 ppha
- 4. ✖ 1000 ppha

Question Number : 166 Question Id : 59445943591 Question Type : MCQ Option Shuffling : Yes Is Question Mandatory : No Option Orientation : Vertical

Correct Marks : 1 Wrong Marks : 0.25

2 km × 1 km आकार और 250 ppha के सकल घनत्व के क्षेत्र के लिए, यदि गैर-आवासीय भूमि, भूमि क्षेत्र का 50% गठन करती है, तो शुद्ध घनत्व क्या होगा?

Options :

- 1. ✔ 500 ppha
- 2. ✖ 750 ppha
- 3. ✖ 800 ppha

4. ✖ 1000 ppha

Question Number : 167 Question Id : 59445943592 Question Type : MCQ Option Shuffling : Yes Is Question Mandatory : No Option Orientation : Vertical

Correct Marks : 1 Wrong Marks : 0.25

What is the percentage of moisture-content in the timber for windows?

Options :

1. ✖ 5-8%
2. ✔ 10-16%
3. ✖ 24-32%
4. ✖ 7-9%

Question Number : 167 Question Id : 59445943592 Question Type : MCQ Option Shuffling : Yes Is Question Mandatory : No Option Orientation : Vertical

Correct Marks : 1 Wrong Marks : 0.25

खिड़कियों के लिए लकड़ी में नमी की मात्रा का प्रतिशत कितना है?

Options :

1. ✖ 5-8%
2. ✔ 10-16%
3. ✖ 24-32%
4. ✖ 7-9%

Question Number : 168 Question Id : 59445943593 Question Type : MCQ Option Shuffling : Yes Is Question Mandatory : No Option Orientation : Vertical

Correct Marks : 1 Wrong Marks : 0.25

खिड़कियों के लिए उपयोग किया जाने वाला सबसे सामान्य प्रकार का कांच कौन सा है?

Options :

1. ✖ सीसा काँच
2. ✖ अक्रिस्टलीय (एमोर्फस) कांच
3. ✔ सोडा लाइम कांच
4. ✖ बोरोसिलिकेट काँच

Question Number : 168 Question Id : 59445943593 Question Type : MCQ Option Shuffling : Yes Is Question Mandatory : No Option Orientation : Vertical

Correct Marks : 1 Wrong Marks : 0.25

Which is the most common type of glass used for windows?

Options :

1. ✗ Lead Glass
2. ✗ Amorphous Glass
3. ✓ Soda-lime glass
4. ✗ Boro-silicate Glass

Question Number : 169 Question Id : 59445943594 Question Type : MCQ Option Shuffling : Yes Is Question Mandatory : No Option Orientation : Vertical

Correct Marks : 1 Wrong Marks : 0.25

Hardwares for windows are tested for at least how many operating cycles?

Options :

1. ✗ 5000
2. ✓ 10000
3. ✗ 20000
4. ✗ 100000

Question Number : 169 Question Id : 59445943594 Question Type : MCQ Option Shuffling : Yes Is Question Mandatory : No Option Orientation : Vertical

Correct Marks : 1 Wrong Marks : 0.25

खिड़कियों के लिए हार्डवेयर का परीक्षण कम से कम कितने ऑपरेटिंग चक्रों के लिए किया जाता है?

Options :

1. ✗ 5000
2. ✓ 10000
3. ✗ 20000
4. ✗ 100000

Question Number : 170 Question Id : 59445943595 Question Type : MCQ Option Shuffling : Yes Is Question Mandatory : No Option

Orientation : Vertical

Correct Marks : 1 Wrong Marks : 0.25

What is a structure with a roof over a staircase and its landing built to enclose only the stairs for the purpose of providing protection from weather and not used for human habitation?

Options :

1. ✓ Mumty
2. ✗ Storey
3. ✗ Tower
4. ✗ Porch

Question Number : 170 Question Id : 59445943595 Question Type : MCQ Option Shuffling : Yes Is Question Mandatory : No Option

Orientation : Vertical

Correct Marks : 1 Wrong Marks : 0.25

एक सीढ़ी के ऊपर छत के साथ संरचना क्या है और इसकी उतराई केवल सीढ़ियों को मौसम से सुरक्षा प्रदान करने के उद्देश्य से घेरने के लिए बनाई गई है और मानव निवास के लिए उपयोग नहीं की जाती है?

Options :

1. ✓ मुमती
2. ✗ मंज़िल
3. ✗ बुर्ज
4. ✗ द्वारमण्डप

Question Number : 171 Question Id : 59445943596 Question Type : MCQ Option Shuffling : Yes Is Question Mandatory : No Option

Orientation : Vertical

Correct Marks : 1 Wrong Marks : 0.25

What shall be the minimum tread width without nosing for a two family dwelling?

Options :

1. ✗ 400 mm
2. ✗ 300 mm
3. ✗ 225 mm
4. ✓ 250 mm

Question Number : 171 Question Id : 59445943596 Question Type : MCQ Option Shuffling : Yes Is Question Mandatory : No Option

Orientation : Vertical

Correct Marks : 1 Wrong Marks : 0.25

दो परिवार के आवास के लिए बिना नोज के चलने के लिए न्यूनतम चौड़ाई कितनी होनी चाहिए?

Options :

1. ✗ 400 mm
2. ✗ 300 mm
3. ✗ 225 mm
4. ✓ 250 mm

Question Number : 172 Question Id : 59445943597 Question Type : MCQ Option Shuffling : Yes Is Question Mandatory : No Option

Orientation : Vertical

Correct Marks : 1 Wrong Marks : 0.25

What shall be the minimum fire-rating of materials for construction of a lift enclosure?

Options :

1. ✗ 50 min
2. ✗ 60 min
3. ✗ 100 min
4. ✓ 120 min

Question Number : 172 Question Id : 59445943597 Question Type : MCQ Option Shuffling : Yes Is Question Mandatory : No Option

Orientation : Vertical

Correct Marks : 1 Wrong Marks : 0.25

लिफ्ट के घेराव के निर्माण के लिए सामग्री की न्यूनतम अग्नि-अनुमतांक क्या होना चाहिए?

Options :

1. ✗ 50 न्यूनतम
2. ✗ 60 न्यूनतम
3. ✗ 100 न्यूनतम
4. ✓ 120 न्यूनतम

Question Number : 173 Question Id : 59445943598 Question Type : MCQ Option Shuffling : Yes Is Question Mandatory : No Option

Orientation : Vertical

Correct Marks : 1 Wrong Marks : 0.25

What shall be the floor area for a wheelchair viewing space in an assembly building?

Options :

1. ✓ 900 mm × 1400 mm
2. ✗ 1900 mm × 2400 mm
3. ✗ 300 mm × 1800 mm
4. ✗ 500 mm × 1200 mm

Question Number : 173 Question Id : 59445943598 Question Type : MCQ Option Shuffling : Yes Is Question Mandatory : No Option Orientation : Vertical

Correct Marks : 1 Wrong Marks : 0.25

सभा भवन में पहियाकुर्सी (व्हीलचेयर) देखने की जगह के लिए तल क्षेत्र क्या होगा?

Options :

1. ✓ 900 mm × 1400 mm
2. ✗ 1900 mm × 2400 mm
3. ✗ 300 mm × 1800 mm
4. ✗ 500 mm × 1200 mm

Question Number : 174 Question Id : 59445943599 Question Type : MCQ Option Shuffling : Yes Is Question Mandatory : No Option Orientation : Vertical

Correct Marks : 1 Wrong Marks : 0.25

Busway and Raceway are components of _____.

Options :

1. ✗ HVAC Systems
2. ✗ Fire-retardant Systems
3. ✓ Electrical Systems
4. ✗ Acoustic Systems

Question Number : 174 Question Id : 59445943599 Question Type : MCQ Option Shuffling : Yes Is Question Mandatory : No Option Orientation : Vertical

Correct Marks : 1 Wrong Marks : 0.25

बसवे और रेसवे _____ के घटक हैं।

Options :

1. ✖ HVAC प्रणाली
2. ✖ अग्निरोधी प्रणाली
3. ✔ विद्युत प्रणाली
4. ✖ ध्वनिक प्रणाली

Question Number : 175 Question Id : 59445943600 Question Type : MCQ Option Shuffling : Yes Is Question Mandatory : No Option Orientation : Vertical

Correct Marks : 1 Wrong Marks : 0.25

Elevation is the _____ drawing of the side of a building.

Options :

1. ✖ Perspective
2. ✔ Orthographic
3. ✖ Bird's eye
4. ✖ Linear

Question Number : 175 Question Id : 59445943600 Question Type : MCQ Option Shuffling : Yes Is Question Mandatory : No Option Orientation : Vertical

Correct Marks : 1 Wrong Marks : 0.25

ऊँचाई, भवन के किनारे का _____ आरेखण है।

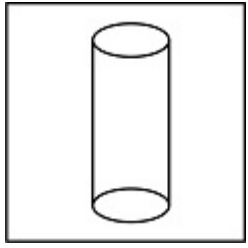
Options :

1. ✖ परिप्रेक्ष्य
2. ✔ ओर्थोग्राफिक
3. ✖ बर्ड'स आई
4. ✖ रैखिक

Question Number : 176 Question Id : 59445943601 Question Type : MCQ Option Shuffling : Yes Is Question Mandatory : No Option Orientation : Vertical

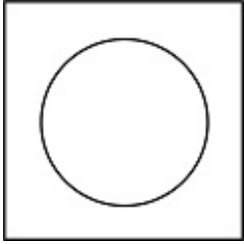
Correct Marks : 1 Wrong Marks : 0.25

The figure below is the cylinder. Which of the following option is the front elevation?

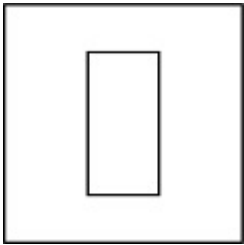


Options :

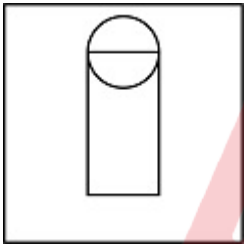
1. ✖



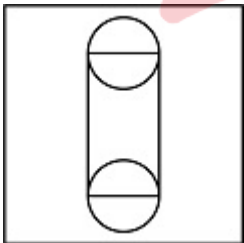
2. ✔



3. ✖



4. ✖

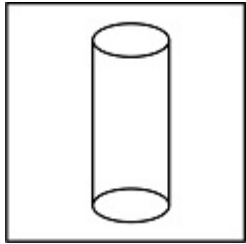


Adda247

Question Number : 176 Question Id : 59445943601 Question Type : MCQ Option Shuffling : Yes Is Question Mandatory : No Option Orientation : Vertical

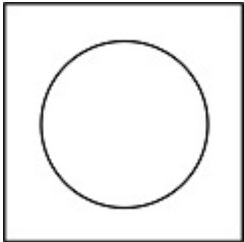
Correct Marks : 1 Wrong Marks : 0.25

नीचे दिया गया चित्र बेलन है। निम्नलिखित में से कौन सा विकल्प अग्र ऊँचाई है?

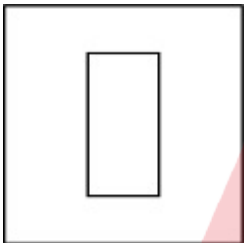


Options :

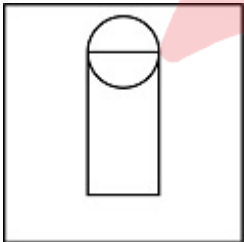
1. ✖

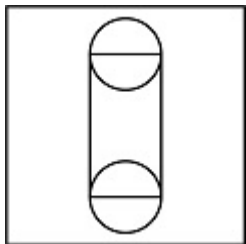


2. ✔



3. ✖





4. ✖

Question Number : 177 Question Id : 59445943602 Question Type : MCQ Option Shuffling : Yes Is Question Mandatory : No Option Orientation : Vertical

Correct Marks : 1 Wrong Marks : 0.25

What is the minimum height of a kitchen measured from the surface of the floor to the lowest point in the ceiling (bottom slab) other than the area of floor-trap?

Options :

1. ✔ 2.75 m
2. ✖ 3.2 m
3. ✖ 2.5 m
4. ✖ 4 m

Question Number : 177 Question Id : 59445943602 Question Type : MCQ Option Shuffling : Yes Is Question Mandatory : No Option Orientation : Vertical

Correct Marks : 1 Wrong Marks : 0.25

फ्लोर ट्रैप के क्षेत्र के अलावा फर्श की सतह से छत (नीचला स्लैब) में सबसे कम बिंदु तक मापी गई रसोई की न्यूनतम ऊँचाई क्या है?

Options :

1. ✔ 2.75 m
2. ✖ 3.2 m
3. ✖ 2.5 m
4. ✖ 4 m

Question Number : 178 Question Id : 59445943603 Question Type : MCQ Option Shuffling : Yes Is Question Mandatory : No Option Orientation : Vertical

Correct Marks : 1 Wrong Marks : 0.25

What shall be the range of slope for the flooring of the kitchen?

Options :

1. ✖ 1:18 to 1:40
2. ✖ 1:28 to 1:50
3. ✖ 1:38 to 1:60
4. ✔ 1:48 to 1:60

Question Number : 178 Question Id : 59445943603 Question Type : MCQ Option Shuffling : Yes Is Question Mandatory : No Option Orientation : Vertical

Correct Marks : 1 Wrong Marks : 0.25

रसोई घर के फर्श के लिए ढलान की सीमा क्या होगी?

Options :

1. ✖ 1:18 से 1:40
2. ✖ 1:28 से 1:50
3. ✖ 1:38 से 1:60
4. ✔ 1:48 से 1:60

Question Number : 179 Question Id : 59445943604 Question Type : MCQ Option Shuffling : Yes Is Question Mandatory : No Option Orientation : Vertical

Correct Marks : 1 Wrong Marks : 0.25

What is the minimum height of a bathroom or water-closet measured from the surface of the floor to the lowest point in the ceiling?

Options :

1. ✖ 1.8 m
2. ✔ 2.1 m
3. ✖ 3.4 m
4. ✖ 2.7 m

Question Number : 179 Question Id : 59445943604 Question Type : MCQ Option Shuffling : Yes Is Question Mandatory : No Option Orientation : Vertical

Correct Marks : 1 Wrong Marks : 0.25

फर्श की सतह से छत के सबसे निचले बिंदु तक मापा गया बाथरूम या प्रधावन शौचालय की न्यूनतम ऊंचाई क्या है?

Options :

1. ✖ 1.8 m
2. ✔ 2.1 m
3. ✖ 3.4 m
4. ✖ 2.7 m

Question Number : 180 Question Id : 59445943605 Question Type : MCQ Option Shuffling : Yes Is Question Mandatory : No Option Orientation : Vertical

Correct Marks : 1 Wrong Marks : 0.25

What should be the minimum width of a toilet?

Options :

1. ✔ 1.2 m
2. ✖ 1.3 m
3. ✖ 1.4 m
4. ✖ 1.5 m

Question Number : 180 Question Id : 59445943605 Question Type : MCQ Option Shuffling : Yes Is Question Mandatory : No Option Orientation : Vertical

Correct Marks : 1 Wrong Marks : 0.25

शौचालय की न्यूनतम चौड़ाई कितनी होनी चाहिए?

Options :

1. ✔ 1.2 m
2. ✖ 1.3 m
3. ✖ 1.4 m
4. ✖ 1.5 m

Discipline5

Group Number :

10

Group Id :

5944591006

Group Maximum Duration :

0

Group Minimum Duration :

120

Show Attended Group? : No
 Edit Attended Group? : No
 Break time : 0
 Group Marks : 20
 Is this Group for Examiner? : No

Discipline5

Section Id : 5944591731
 Section Number : 1
 Section type : Online
 Mandatory or Optional : Mandatory
 Number of Questions : 20
 Number of Questions to be attempted : 20
 Section Marks : 20
 Enable Mark as Answered Mark for Review and Clear Response : Yes
 Sub-Section Number : 1
 Sub-Section Id : 5944592015
 Question Shuffling Allowed : Yes

Question Number : 181 Question Id : 59445943606 Question Type : MCQ Option Shuffling : Yes Is Question Mandatory : No Option Orientation : Vertical

Correct Marks : 1 Wrong Marks : 0.25

What shall be the minimum height at the eaves for a habitable room with sloping roof?

Options :

1. ✓ 2.0 m
2. ✗ 10 m
3. ✗ 1.8 m
4. ✗ 1.6 m

Question Number : 181 Question Id : 59445943606 Question Type : MCQ Option Shuffling : Yes Is Question Mandatory : No Option Orientation : Vertical
 Correct Marks : 1 Wrong Marks : 0.25

ढलान छत के साथ रहने योग्य कक्ष के लिए छज्जा पर न्यूनतम ऊंचाई कितनी होनी चाहिए?

Options :

1. ✓ 2.0 m
2. ✗ 10 m
3. ✗ 1.8 m
4. ✗ 1.6 m

Question Number : 182 Question Id : 59445943607 Question Type : MCQ Option Shuffling : Yes Is Question Mandatory : No Option Orientation : Vertical

Correct Marks : 1 Wrong Marks : 0.25

How many arches support Bijapur's Gol Gumbaz?

Options :

1. ✗ 10
2. ✗ 12
3. ✗ 15
4. ✓ 8

Question Number : 182 Question Id : 59445943607 Question Type : MCQ Option Shuffling : Yes Is Question Mandatory : No Option Orientation : Vertical

Correct Marks : 1 Wrong Marks : 0.25

बीजापुर के गोल गुम्बज में कितने चाप हैं?

Options :

1. ✗ 10
2. ✗ 12
3. ✗ 15
4. ✓ 8

Question Number : 183 Question Id : 59445943608 Question Type : MCQ Option Shuffling : Yes Is Question Mandatory : No Option Orientation : Vertical

Correct Marks : 1 Wrong Marks : 0.25

Roof-top elevated helipad structures shall be designed as per the latest guidelines of Directorate General of Civil Aviation and

_____.

Options :

1. ✖ National Civil Aviation Organizations Heliport Manual
2. ✔ International Civil Aviation Organizations Heliport Manual
3. ✖ Local Civil Aviation Organizations Heliport Manual
4. ✖ Transportation Department, India

Question Number : 183 Question Id : 59445943608 Question Type : MCQ Option Shuffling : Yes Is Question Mandatory : No Option Orientation : Vertical

Correct Marks : 1 Wrong Marks : 0.25

रूफ-टॉप एलिवेटेड हेलीपैड संरचनाओं को नागर विमानन महानिदेशालय और _____ के नवीनतम दिशानिर्देशों के अनुसार डिजाइन किया जाएगा।

Options :

1. ✖ राष्ट्रीय नागरिक विमानन संगठन हेलीपोर्ट मैनुअल
2. ✔ अंतर्राष्ट्रीय नागरिक विमानन संगठन का हेलीपोर्ट मैनुअल
3. ✖ स्थानीय नागरिक विमानन संगठन हेलीपोर्ट मैनुअल
4. ✖ परिवहन विभाग, भारत

Question Number : 184 Question Id : 59445943609 Question Type : MCQ Option Shuffling : Yes Is Question Mandatory : No Option Orientation : Vertical

Correct Marks : 1 Wrong Marks : 0.25

The sloped floor of a manhole or an inspection chamber on both sides and above the top of the channel is known as _____.

Options :

1. ✔ Benching
2. ✖ Guniting
3. ✖ Grouting
4. ✖ Drain

Question Number : 184 Question Id : 59445943609 Question Type : MCQ Option Shuffling : Yes Is Question Mandatory : No Option Orientation : Vertical

Correct Marks : 1 Wrong Marks : 0.25

एक मैनहोल या निरीक्षण कक्ष को दोनों तरफ और चैनल के शीर्ष के ऊपर ढलान वाली सतह को _____ के रूप में जाना जाता है।

Options :

1. ✓ बैचिंग
2. ✗ गनाइटिंग
3. ✗ घोल अभिपूरण
4. ✗ निष्कासन

Question Number : 185 Question Id : 59445943610 Question Type : MCQ Option Shuffling : Yes Is Question Mandatory : No Option Orientation : Vertical

Correct Marks : 1 Wrong Marks : 0.25

Gate Valves are usually made up of _____.

Options :

1. ✗ Glass
2. ✓ Gunmetal
3. ✗ Aluminium
4. ✗ Titanium

Question Number : 185 Question Id : 59445943610 Question Type : MCQ Option Shuffling : Yes Is Question Mandatory : No Option Orientation : Vertical

Correct Marks : 1 Wrong Marks : 0.25

गेट वाल्व आमतौर पर _____ से बने होते हैं।

Options :

1. ✗ कांच
2. ✓ तोपधातु
3. ✗ एल्युमिनियम
4. ✗ टाइटेनियम

Question Number : 186 Question Id : 59445943611 Question Type : MCQ Option Shuffling : Yes Is Question Mandatory : No Option Orientation : Vertical

Correct Marks : 1 Wrong Marks : 0.25

What is BMCS?

Options :

1. ✓ Bamboo Mat Corrugated Sheet

2. ✖ Bamboo Mud Combination Sheet
3. ✖ Bituminous Mat Corrugated Sheet
4. ✖ Bituminous Mud Combination Sheet

Question Number : 186 Question Id : 59445943611 Question Type : MCQ Option Shuffling : Yes Is Question Mandatory : No Option Orientation : Vertical

Correct Marks : 1 Wrong Marks : 0.25

BMCS क्या है?

Options :

1. ✔ बम्बू मेट करुगाटेड शीट
2. ✖ बम्बू मड कॉम्बिनेशन शीट
3. ✖ बिटुमिनस मेट कोरुगेटेड शीट
4. ✖ बिटुमिनस मड कॉम्बिनेशन शीट

Question Number : 187 Question Id : 59445943612 Question Type : MCQ Option Shuffling : Yes Is Question Mandatory : No Option Orientation : Vertical

Correct Marks : 1 Wrong Marks : 0.25

What is DSR?

Options :

1. ✔ Delhi Schedule of Rates
2. ✖ Detailed Schedule of Rates
3. ✖ Detailed Scheme of Rates
4. ✖ Delhi Scheme of Rates

Question Number : 187 Question Id : 59445943612 Question Type : MCQ Option Shuffling : Yes Is Question Mandatory : No Option Orientation : Vertical

Correct Marks : 1 Wrong Marks : 0.25

DSR क्या है?

Options :

1. ✔ दिल्ली शेड्यूल ऑफ़ रेट्स
2. ✖ डिटेल्ड शेड्यूल ऑफ़ रेट्स

3. ✖ डिटेल्ड स्कीम ऑफ़ रेड्स
4. ✖ दिल्ली स्कीम ऑफ़ रेड्स

Question Number : 188 Question Id : 59445943613 Question Type : MCQ Option Shuffling : Yes Is Question Mandatory : No Option Orientation : Vertical

Correct Marks : 1 Wrong Marks : 0.25

Which of the following is a stratified rock?

Options :

1. ✖ Basalt
2. ✖ Granite
3. ✔ Limestone
4. ✖ Mercury

Question Number : 188 Question Id : 59445943613 Question Type : MCQ Option Shuffling : Yes Is Question Mandatory : No Option Orientation : Vertical

Correct Marks : 1 Wrong Marks : 0.25

निम्न में से कौन स्तरित शैल है?

Options :

1. ✖ बेसाल्ट
2. ✖ ग्रेनाइट
3. ✔ चूना पत्थर
4. ✖ पारा

Question Number : 189 Question Id : 59445943614 Question Type : MCQ Option Shuffling : Yes Is Question Mandatory : No Option Orientation : Vertical

Correct Marks : 1 Wrong Marks : 0.25

Underburnt bricks obtained from outer portion of the kiln are known as _____.

Options :

1. ✖ Body Bricks
2. ✔ Pale Bricks
3. ✖ Arch Bricks

4. ✖ Light Bricks

Question Number : 189 Question Id : 59445943614 Question Type : MCQ Option Shuffling : Yes Is Question Mandatory : No Option Orientation : Vertical

Correct Marks : 1 Wrong Marks : 0.25

भट्टे के बाहरी हिस्से से प्राप्त आधीजली ईंटों को _____ के रूप में जाना जाता है।

Options :

1. ✖ बॉडी ब्रिक्स
2. ✔ पैल ब्रिक्स
3. ✖ आर्क ब्रिक्स
4. ✖ लाइट ब्रिक्स

Question Number : 190 Question Id : 59445943615 Question Type : MCQ Option Shuffling : Yes Is Question Mandatory : No Option Orientation : Vertical

Correct Marks : 1 Wrong Marks : 0.25

Acetic Anhydride Treatment is used for protection of _____.

Options :

1. ✖ Masonry
2. ✔ Lumber
3. ✖ Concrete
4. ✖ Iron

Question Number : 190 Question Id : 59445943615 Question Type : MCQ Option Shuffling : Yes Is Question Mandatory : No Option Orientation : Vertical

Correct Marks : 1 Wrong Marks : 0.25

एसिटिक एनहाइड्राइड उपचार का प्रयोग _____ की सुरक्षा के लिए किया जाता है।

Options :

1. ✖ राजगीरी
2. ✔ इमारती लकड़ी
3. ✖ कंक्रीट
4. ✖ लोहा

Question Number : 191 Question Id : 59445943616 Question Type : MCQ Option Shuffling : Yes Is Question Mandatory : No Option Orientation : Vertical

Correct Marks : 1 Wrong Marks : 0.25

Which is an organic compound that is often combined with formaldehyde to produce a resin that makes wood fire resistant and heat tolerant?

Options :

- ✗ Shellac
- ✗ Benzyl Peroxide
- ✗ Calcium Carbonate
- ✓ Melamine

Question Number : 191 Question Id : 59445943616 Question Type : MCQ Option Shuffling : Yes Is Question Mandatory : No Option Orientation : Vertical

Correct Marks : 1 Wrong Marks : 0.25

कौन सा कार्बनिक यौगिक है जिसे अक्सर फार्मल्डिहाइड के साथ मिलाकर रेज़िन बनाया जाता है जो लकड़ी को आग प्रतिरोधी और ऊष्मा सहनशील बनाता है?

Options :

- ✗ चपड़ा
- ✗ बेंज़िल पेरोक्साइड
- ✗ कैल्सियम कार्बोनेट
- ✓ मेलामाइन

Question Number : 192 Question Id : 59445943617 Question Type : MCQ Option Shuffling : Yes Is Question Mandatory : No Option Orientation : Vertical

Correct Marks : 1 Wrong Marks : 0.25

What shall be the specific gravity of the bees wax used for polishing wood?

Options :

- ✗ 0.765 to 0.769
- ✓ 0.965 to 0.969
- ✗ 0.865 to 0.869
- ✗ 0.424 to 0.569

Question Number : 192 Question Id : 59445943617 Question Type : MCQ Option Shuffling : Yes Is Question Mandatory : No Option

Orientation : Vertical

Correct Marks : 1 Wrong Marks : 0.25

लकड़ी को पोलिश करने हेतु उपयोग किए जाने वाले मोम का विशिष्ट गुरुत्वाकर्षण क्या होगा?

Options :

1. ✖ 0.765 से 0.769
2. ✔ 0.965 से 0.969
3. ✖ 0.865 से 0.869
4. ✖ 0.424 से 0.569

Question Number : 193 Question Id : 59445943618 Question Type : MCQ Option Shuffling : Yes Is Question Mandatory : No Option

Orientation : Vertical

Correct Marks : 1 Wrong Marks : 0.25

Who was the first to introduce Portland cement in 1824?

Options :

1. ✖ Vitruvius
2. ✔ Joseph Aspedin
3. ✖ Issac Johnson
4. ✖ Le Chatelier

Question Number : 193 Question Id : 59445943618 Question Type : MCQ Option Shuffling : Yes Is Question Mandatory : No Option

Orientation : Vertical

Correct Marks : 1 Wrong Marks : 0.25

1824 में पोर्टलैंड सीमेंट की शुरुआत सबसे पहले किसने की थी?

Options :

1. ✖ विट्रुवियस
2. ✔ जोसेफ एस्पेडिन
3. ✖ आइज़क जॉनसन
4. ✖ ला-शतैलिए

Question Number : 194 Question Id : 59445943619 Question Type : MCQ Option Shuffling : Yes Is Question Mandatory : No Option

Orientation : Vertical

Correct Marks : 1 Wrong Marks : 0.25

What is C3S also known as?

Options :

1. ✓ Alite
2. ✗ Belite
3. ✗ Celite
4. ✗ Felite

Question Number : 194 Question Id : 59445943619 Question Type : MCQ Option Shuffling : Yes Is Question Mandatory : No Option Orientation : Vertical

Correct Marks : 1 Wrong Marks : 0.25

C3S को किस नाम से भी जाना जाता है?

Options :

1. ✓ अलाइट
2. ✗ बेलाइट
3. ✗ सेलाइट
4. ✗ फेलाइट

Question Number : 195 Question Id : 59445943620 Question Type : MCQ Option Shuffling : Yes Is Question Mandatory : No Option Orientation : Vertical

Correct Marks : 1 Wrong Marks : 0.25

What does VP stands for in terms of perspective?

Options :

1. ✗ Validating Point
2. ✗ Virtual Point
3. ✓ Vanishing Point
4. ✗ Visible Point

Question Number : 195 Question Id : 59445943620 Question Type : MCQ Option Shuffling : Yes Is Question Mandatory : No Option Orientation : Vertical

Correct Marks : 1 Wrong Marks : 0.25

परिप्रेक्ष्य के संदर्भ में VP का क्या पूर्ण प्रपत्र है?

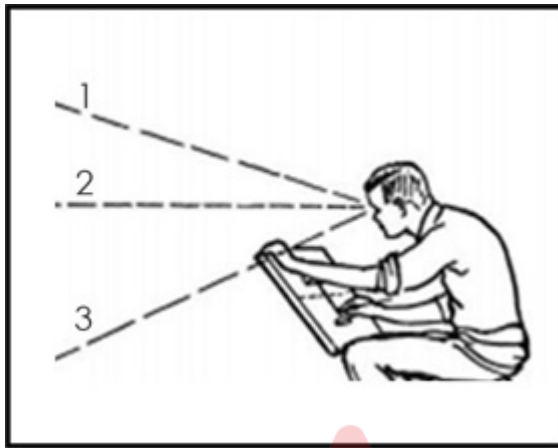
Options :

1. ✖ वैलीडेटिंग पॉइंट
2. ✖ वर्चुअल पॉइंट
3. ✔ वैनिशिंग पॉइंट
4. ✖ विज़िबल पॉइंट

Question Number : 196 Question Id : 59445943621 Question Type : MCQ Option Shuffling : Yes Is Question Mandatory : No Option Orientation : Vertical

Correct Marks : 1 Wrong Marks : 0.25

Which line represent the eye level?



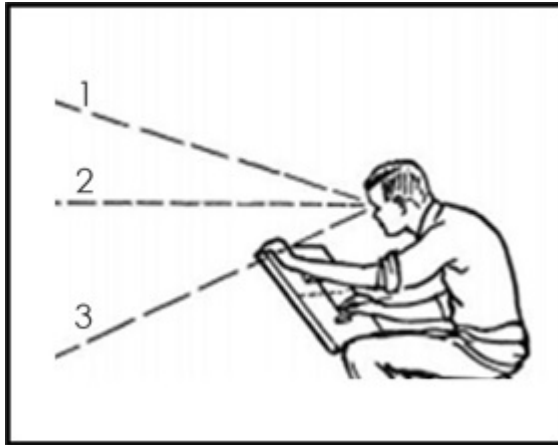
Options :

1. ✖ 1
2. ✔ 2
3. ✖ 3
4. ✖ 1&2

Question Number : 196 Question Id : 59445943621 Question Type : MCQ Option Shuffling : Yes Is Question Mandatory : No Option Orientation : Vertical

Correct Marks : 1 Wrong Marks : 0.25

कौन सी रेखा आँख के बराबर का प्रतिनिधित्व करती है?



Options :

1. ✖ 1
2. ✔ 2
3. ✖ 3
4. ✖ 1 और 2

Question Number : 197 Question Id : 59445943622 Question Type : MCQ Option Shuffling : Yes Is Question Mandatory : No Option Orientation : Vertical

Correct Marks : 1 Wrong Marks : 0.25

_____ is one of the structure that consists of a curved top on two supports that holds the weight of something above it.

Options :

1. ✔ Arches
2. ✖ Lintels
3. ✖ Column
4. ✖ Beam

Question Number : 197 Question Id : 59445943622 Question Type : MCQ Option Shuffling : Yes Is Question Mandatory : No Option Orientation : Vertical

Correct Marks : 1 Wrong Marks : 0.25

_____ ऐसी संरचना है जिसमें दो खम्बों पर घुमावदार शीर्ष होता है जो इसके ऊपर किसी चीज़ का भार रखता है।

Options :

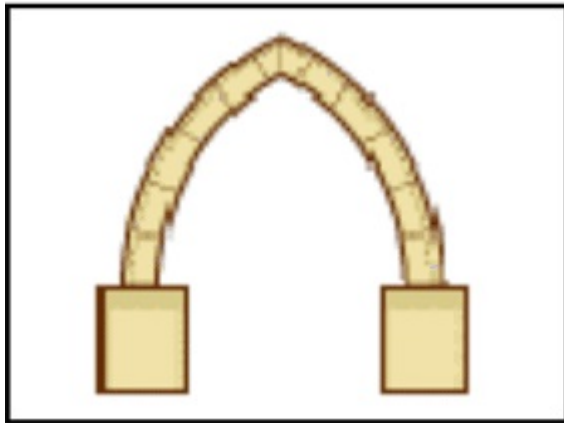
1. ✔ चाप

2. ✖ चौखट
3. ✖ स्तम्भ
4. ✖ बीम

Question Number : 198 Question Id : 59445943623 Question Type : MCQ Option Shuffling : Yes Is Question Mandatory : No Option Orientation : Vertical

Correct Marks : 1 Wrong Marks : 0.25

The figure below represent _____ arch.



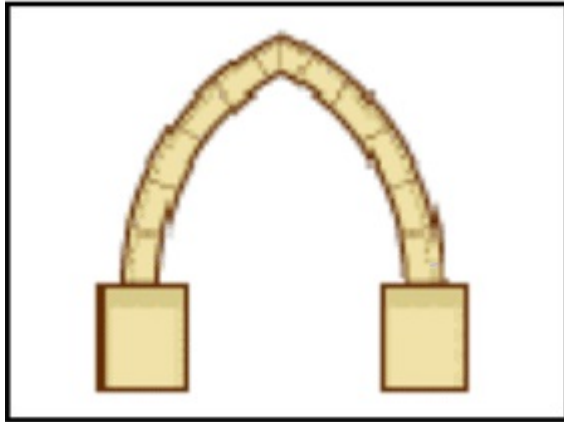
Options :

1. ✔ Gothic
2. ✖ Moorish
3. ✖ Horse Shoe arch
4. ✖ Ogee

Question Number : 198 Question Id : 59445943623 Question Type : MCQ Option Shuffling : Yes Is Question Mandatory : No Option Orientation : Vertical

Correct Marks : 1 Wrong Marks : 0.25

नीचे दी गई आकृति _____ चाप का प्रतिनिधित्व करता है।



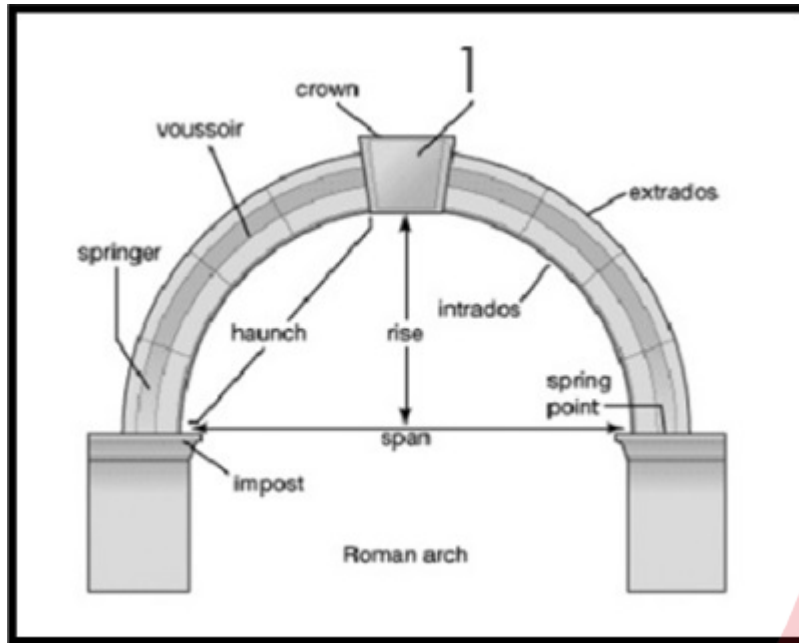
Options :

1. ✓ गोथिक
2. ✗ मूरिश
3. ✗ अश्वनाल (हॉर्स शू) चाप
4. ✗ ओगी

Question Number : 199 Question Id : 59445943624 Question Type : MCQ Option Shuffling : Yes Is Question Mandatory : No Option Orientation : Vertical

Correct Marks : 1 Wrong Marks : 0.25

Identify the element 1, in the figure (Roman Arch) given below.



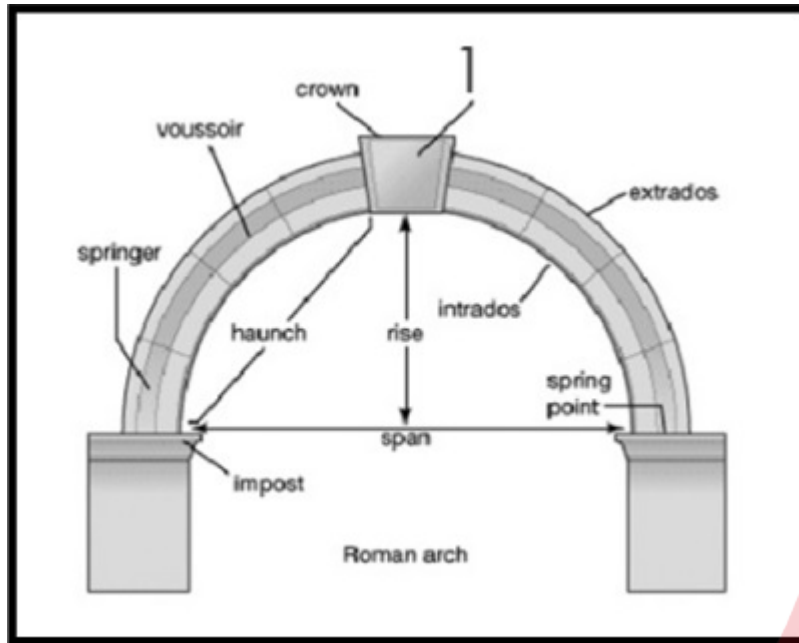
Options :

1. ✓ Keystone
2. ✗ Post
3. ✗ Head
4. ✗ King

Question Number : 199 Question Id : 59445943624 Question Type : MCQ Option Shuffling : Yes Is Question Mandatory : No Option Orientation : Vertical

Correct Marks : 1 Wrong Marks : 0.25

नीचे दी गई आकृति (रोमन आर्क) में तत्व 1 की पहचान करें।



Options :

1. ✓ की स्तोन
2. ✗ पद
3. ✗ शीर्ष
4. ✗ राजा

Question Number : 200 Question Id : 59445943625 Question Type : MCQ Option Shuffling : Yes Is Question Mandatory : No Option Orientation : Vertical

Correct Marks : 1 Wrong Marks : 0.25

The minimum clear floor ground area for a wheelchair to turn is how much according to NBC?

Options :

1. ✗ 900 mm
2. ✗ 1200 mm
3. ✗ 2200 mm
4. ✓ 1500 mm

Question Number : 200 Question Id : 59445943625 Question Type : MCQ Option Shuffling : Yes Is Question Mandatory : No Option

Orientation : Vertical

Correct Marks : 1 Wrong Marks : 0.25

NBC के अनुसार पहियाकुर्सी (व्हीलचेयर) को घुमाने के लिए न्यूनतम खाली फर्श क्षेत्र कितना होना चाहिए?

Options :

1. ✗ 900 mm
2. ✗ 1200 mm
3. ✗ 2200 mm
4. ✓ 1500 mm

