

Question Booklet Code

**A**

**CWT-2025**

**Paper-II**

Question Booklet No.

Roll No.

Time Allowed : 10:00 a.m. to 12:00 noon (2 Hours)  
(½ mark for each question)

Total Marks : 50  
Total Questions : 100

Before filling the OMR Answer-Sheet, the candidate must ensure that all the pages from 1-48 are printed in order in the Question Booklet and ensure that the OMR Answer-Sheet belongs to him/her only. In case of any discrepancy, immediately inform the Invigilator to replace your Question Booklet/OMR Answer-Sheet.

### IMPORTANT INSTRUCTIONS

- ✦ Do not open the Question Booklet before 10:00 a.m. in the Examination Hall.
- ✦ Read the questions carefully before marking the right answer with blue/black ballpoint pen only in the appropriate circle of the OMR Answer-Sheet, as no extra OMR Answer-Sheet will be provided for any mistake or correction.
- ✦ There is no negative marking for any wrong answer.
- ✦ In cases where candidate selects more than one option of a question, the question will not be evaluated.
- ✦ In case of use of Non-Standard OMR Answer-Sheet, the candidate must properly write his/her Roll No., Question Booklet Serial No., Question Booklet Code in the space provided in the OMR Answer-Sheet by shading and by writing in alphabet and numerical on the front page as well as on the back page. Otherwise the OMR Answer-Sheet will not be evaluated.
- ✦ Candidates will have to sign twice, once in the Photo Attendance Sheet presented by the Invigilator on duty after taking their seats in the Examination Hall, and the other, at the time of handing over their **OMR Answer-Sheet to the Invigilator** after the completion of the Examination. Cases where a candidate has not signed while submitting the OMR Answer-Sheet, he/she shall be treated as absent.
- ✦ Candidate should clearly write his/her Roll No. in the space provided in the Question Booklet.
- ✦ The candidate should make sure that the Question Booklet No. and corresponding Question Booklet Code is properly written/shaded in the OMR Answer-Sheet by him/her. For example, in filling up the Question Booklet Code, if the candidate gets Question Booklet Code 'A', then he/she should fill up 'A' in the box provided in the OMR Answer-Sheet and also shade the circle 'A' in the OMR Answer-Sheet.
- ✦ Candidate should do all the necessary rough work on the Question Booklet in the space provided. Rough work should not be done on the OMR Answer-Sheet or on any other paper. If any rough work or overwriting is done or whitener is used on the OMR Answer-Sheet, the OMR Answer-Sheet will not be assessed.
- ✦ In case of any discrepancy or confusion in the medium/version of the questions, the English version will be treated as the authentic version.
- ✦ No candidate will be allowed to leave the Examination Centre during the examination hours.
- ✦ Any candidate found using unfair means including carrying restricted items like mobile phone, calculator or any electronic gadget or objectionable materials, etc., which are not allowed in the examination halls/rooms shall be disqualified.



**OMR** উত্তৰপত্ৰখন পূৰ কৰাৰ আগতে পৰীক্ষার্থীয়ে নিশ্চিত হৈ ল'ব যে প্ৰশ্ন পুস্তিকাৰ **1-48** লৈ সকলো পৃষ্ঠা ক্ৰম অনুসাৰে ছপা হৈ আছে আৰু নিশ্চিত কৰিব লাগিব যে **OMR** উত্তৰপত্ৰখন কেৱল তেওঁৰ বাবে। কোনো ধৰণৰ বিসঙ্গতি থাকিলে তৎক্ষণাত নিৰীক্ষকক অৱগত কৰি প্ৰশ্নপত্ৰখন অথবা **OMR** উত্তৰপত্ৰখন সলনি কৰি ল'ব।

### গুৰুত্বপূৰ্ণ নিৰ্দেশাৱলী

- ✦ পুৱা **10:00** বজাৰ আগতে প্ৰশ্নকাকতখন পৰীক্ষা কক্ষত নুখুলিব।
- ✦ **OMR** উত্তৰপত্ৰৰ যথাযথ বৃত্তটোত নীলা/ক'লা বলপইণ্ট পেনেৰে শুদ্ধ উত্তৰটো চিহ্নিত কৰাৰ আগতে প্ৰশ্নটো সাৱধানে পঢ়ি লওক, কাৰণ ভুল হ'লে বা শুদ্ধ কৰিবলৈ কোনো অতিৰিক্ত **OMR** উত্তৰপত্ৰ দিয়া নহ'ব।
- ✦ ভুল উত্তৰৰ বাবে কোনো ঋণাত্মক নম্বৰ নাথাকিব।
- ✦ যদিহে কোনো পৰীক্ষার্থীয়ে এটা প্ৰশ্নৰ উত্তৰ হিচাপে এটাতকৈ অধিক বিকল্প নিৰ্বাচন কৰে, তেনে ক্ষেত্ৰত প্ৰশ্নটোৰ মূল্যায়ন কৰা নহ'ব।
- ✦ **Non-Standard OMR** উত্তৰপত্ৰ ব্যৱহাৰৰ ক্ষেত্ৰত পৰীক্ষার্থীয়ে অনিবাৰ্যভাৱে তেওঁলোকৰ বোল নম্বৰ, প্ৰশ্নকাকতৰ ক্ৰমিক নম্বৰ, প্ৰশ্নকাকতৰ ক'ডটো **OMR** উত্তৰপত্ৰৰ নিৰ্দিষ্ট ঠাইত ক'লা কৰিব লাগিব আৰু সমুখ পৃষ্ঠা আৰু পাছৰ পৃষ্ঠাত এটা বৰ্ণমালা আৰু সংখ্যাসূচক লিখি **OMR** উত্তৰপত্ৰখন সঠিকভাৱে পূৰণ কৰিব লাগিব। অন্যথা **OMR** উত্তৰপত্ৰৰ মূল্যায়ন কৰা নহ'ব।
- ✦ পৰীক্ষার্থীসকলে নিৰীক্ষকে দিয়া ফটোযুক্ত উপস্থিতিপত্ৰত দুবাৰ স্বাক্ষৰ কৰিব লাগিব, প্ৰথমবাৰ তেওঁলোকে পৰীক্ষাকক্ষত আসন গ্ৰহণ কৰাৰ সময়ত আৰু দ্বিতীয়বাৰ **OMR** উত্তৰপত্ৰ নিৰীক্ষকক জমা দিয়াৰ সময়ত। কোনো পৰীক্ষার্থীয়ে **OMR** উত্তৰপত্ৰ জমা দিয়াৰ সময়ত যদি দ্বিতীয়বাৰ স্বাক্ষৰ নকৰে, তেনেহ'লে তেওঁলোক অনুপস্থিত বুলি বিবেচিত হ'ব।
- ✦ পৰীক্ষার্থীয়ে প্ৰশ্নকাকতখনত দিয়া নিৰ্ধাৰিত ঠাইত তেওঁলোকৰ বোল নম্বৰ স্পষ্টকৈ লিখিব লাগিব।
- ✦ পৰীক্ষার্থী নিশ্চিত হোৱা উচিত যাতে প্ৰশ্নকাকতৰ নম্বৰ আৰু সংশ্লিষ্ট প্ৰশ্নকাকতৰ ক'ড নম্বৰটো **OMR** উত্তৰপত্ৰৰ নিৰ্দিষ্ট ঠাইত লিখা হয়। উদাহৰণস্বৰূপে, প্ৰশ্নকাকতৰ ক'ড পূৰণ কৰাৰ সময়ত, পৰীক্ষার্থীয়ে গ্ৰহণ কৰা প্ৰশ্নকাকতৰ ক'ড '**A**' থাকিলে **OMR** উত্তৰপত্ৰৰ নিৰ্দিষ্ট ঠাইত '**A**' লিখিব লাগিব আৰু নিৰ্দিষ্ট বৃত্ত '**A**'টো ক'লা কৰিব লাগিব।
- ✦ পৰীক্ষার্থীয়ে সকলো ধৰণৰ প্ৰয়োজনীয় খচৰা (rough) কাম প্ৰশ্নকাকতত দিয়া ঠাইতহে কৰিব পাৰিব। পৰীক্ষার্থীয়ে খচৰা (rough) কাম **OMR** উত্তৰপত্ৰ বা অন্য কোনো ধৰণৰ কাগজত কৰিব নোৱাৰিব। **OMR** উত্তৰপত্ৰত যদি এই খচৰা (rough) কাম পৰীক্ষার্থীয়ে কৰে অথবা বগা ৰং ব্যৱহাৰ কৰে, তেতিয়াহ'লে তেনে **OMR** উত্তৰপত্ৰৰ মূল্যায়ন কৰা নহ'ব।
- ✦ প্ৰশ্নৰ মাধ্যম বা সংস্কৰণত কোনো ধৰণৰ বিসঙ্গতি থাকিলে নাইবা বুজি পোৱাত অসুবিধা হ'লে ইংৰাজী সংস্কৰণটোকেই প্ৰকৃত শুদ্ধ বুলি গণ্য কৰা হ'ব।
- ✦ পৰীক্ষা চলি থকা অৱস্থাত কোনো পৰীক্ষার্থীক পৰীক্ষাকেন্দ্ৰ এৰি যাবলৈ অনুমতি দিয়া নহ'ব।
- ✦ পৰীক্ষার্থীসকলক পৰীক্ষাৰ হল/কক্ষত নিষিদ্ধ সামগ্ৰী যেনে মোবাইল ফোন, কেলকুলেটৰ বা কোনো ধৰণৰ বৈদ্যুতিক সামগ্ৰী বা আপত্তিজনক বস্তু পৰীক্ষাকক্ষলৈ নিয়াত অনুমতি দিয়া নহ'ব। যদি কোনো পৰীক্ষার্থীয়ে অসং উপায় অৱলম্বন কৰে বা ওপৰত উল্লেখ কৰা পৰীক্ষাৰ নিয়মসমূহ উলংঘা কৰে, তেন্তে তেওঁক অযোগ্য বুলি বিবেচনা কৰা হ'ব।



**OMR** উত্তরপত্রটি পূরণ করবার পূর্বে পরীক্ষার্থীকে অবশ্যই নিশ্চিত হতে হবে যে প্রশ্নপত্রে **1-48** পর্যন্ত সমস্ত পৃষ্ঠাগুলি ক্রমানুসারে মুদ্রিত হয়েছে এবং নিশ্চিত করতে হবে যে **OMR** উত্তরপত্রটি কেবল তাঁর জন্য। কোনো প্রকার বিসঙ্গতি থাকলে অবিলম্বে নিরীক্ষককে অবগত করিয়ে প্রশ্নপত্রটি অথবা **OMR** উত্তরপত্রটি বদল করে নেবেন।

### গুরুত্বপূর্ণ নির্দেশাবলী

- ✦ সকাল **10:00** ঘটিকার পূর্বে প্রশ্নপত্রটি পরীক্ষা কক্ষতে খুলবেন না।
- ✦ **OMR** উত্তরপত্রের যথাযথ বৃত্তটিতে নীল/কালো বলপয়েন্ট পেন দ্বারা শুদ্ধ উত্তরটি চিহ্নিত করবার পূর্বে প্রশ্নটি সাবধানে পড়ে নেবেন, কারণ ভুল হলে বা শুদ্ধ করবার জন্য কোনো অতিরিক্ত **OMR** উত্তরপত্র দেওয়া হবে না।
- ✦ ভুল উত্তরের জন্য কোনো ঋণাত্মক নম্বর থাকবে না।
- ✦ যদি পরীক্ষার্থী কোনো প্রশ্নের জন্য একের অধিক বিকল্প উত্তর নির্বাচন করেন, তাহলে সেই প্রশ্নটির কোনো মূল্যায়ন করা হবে না।
- ✦ **Non-Standard OMR** উত্তরপত্র ব্যবহারের ক্ষেত্রে পরীক্ষার্থীকে অবশ্যই তাঁদের রোল নম্বর, প্রশ্নপুস্তিকার ক্রমিক নম্বর, প্রশ্নপুস্তিকার কোডটি **OMR** উত্তরপত্রের নির্দিষ্ট স্থানে কালো করতে হবে এবং সামনের পৃষ্ঠা ও পেছনের পৃষ্ঠায় একটি বর্ণমালা এবং সংখ্যাসূচক লিখে **OMR** উত্তরপত্রটি সঠিকভাবে পূরণ করতে হবে। অন্যথা **OMR** উত্তরপত্রের মূল্যায়ন করা হবে না।
- ✦ পরীক্ষার্থীদিগকে নিরীক্ষকের দেওয়া ফটোযুক্ত উপস্থিতিপত্রে দুবার স্বাক্ষর করতে হবে, প্রথমবার তাঁদের পরীক্ষা কক্ষে আসন গ্রহণ করার সময়ে এবং দ্বিতীয়বার **OMR** উত্তরপত্র নিরীক্ষককে জমা দেওয়ার সময়ে। কোনো পরীক্ষার্থী **OMR** উত্তরপত্র জমা দেওয়ার সময় যদি দ্বিতীয়বার স্বাক্ষর না করেন, তাহলে তাঁকে অনুপস্থিত বলে গণ্য করা হবে।
- ✦ পরীক্ষার্থীদের প্রশ্নপত্রে দেওয়া নির্দিষ্ট স্থানে পরিষ্কারভাবে তাঁদের রোল নম্বর অবশ্যই লিখতে হবে।
- ✦ পরীক্ষার্থীর নিশ্চিত হওয়া উচিত যাতে প্রশ্নপত্রের নম্বর এবং সংশ্লিষ্ট প্রশ্নপত্রের কোড নম্বরটি **OMR** উত্তরপত্রের নির্দিষ্ট স্থানে লেখা হয়। উদাহরণস্বরূপ, প্রশ্নপত্রের কোড পূরণ করার সময়, পরীক্ষার্থীর পাওয়া প্রশ্নপত্রের কোড 'A' থাকলে **OMR** উত্তরপত্রের নির্দিষ্ট স্থানে 'A' লিখতে হবে এবং নির্দিষ্ট বৃত্ত 'A'টি কালো করতে হবে।
- ✦ পরীক্ষার্থী সকল ধরনের প্রয়োজনীয় খসড়া (rough) কাজ প্রশ্নপত্রে দেওয়া স্থানে করতে পারবেন। পরীক্ষার্থী খসড়া (rough) কাজ **OMR** উত্তরপত্র বা অন্য কোনো ধরনের কাগজে করতে পারবেন না। যদি পরীক্ষার্থী এই খসড়া (rough) কাজ **OMR** উত্তরপত্রে করেন বা সাদা রঙ ব্যবহার করেন, তবে সেই **OMR** উত্তরপত্রের মূল্যায়ন করা হবে না।
- ✦ প্রশ্নের মাধ্যম বা সংস্করণে কোনো ধরনের অসঙ্গতি হলে অথবা বোঝার অসুবিধা হলে ইংরাজী সংস্করণটিকেই প্রকৃত শুদ্ধ বলে গণ্য করা হবে।
- ✦ পরীক্ষা চলাকালীন কোনো পরীক্ষার্থীকে পরীক্ষাকেন্দ্র ত্যাগ করার অনুমতি দেওয়া হবে না।
- ✦ পরীক্ষার্থীদের পরীক্ষার হল/কক্ষে কোনো নিষিদ্ধ সামগ্রী যেমন মোবাইল ফোন, ক্যালকুলেটর এবং কোনো বৈদ্যুতিক গ্যাজেট বা আপত্তিকর সামগ্রী ইত্যাদি বহন করার অনুমতি দেওয়া হবে না। পরীক্ষার্থীদের যদি কোনো অসৎ উপায় অবলম্বন করতে দেখা যায় বা তাঁরা যদি উপরে উল্লিখিত পরীক্ষার নিয়মসমূহ উল্লঙ্ঘন করেন, তবে তাঁদের অযোগ্য ঘোষণা করা হবে।



**OMR** फिन बिलाइखौ आबुं खालामनायनि सिगांनो बिजाथिया 1-48 सिम गासिबो बिलाइफ्रा सोंथि बिलाइयाव फारियै सेबखानाय दं आरो **OMR** फिन बिलाइया गावनि थाखायल' बे बाश्चाखौ रोखा जानांगोन। माबाफोर बेले-बेजे मोनोब्ला सोंथि बिलाइखौ एबा **OMR** फिन बिलाइखौ सोलायना होनो थाखाय नायदिंगिरिनो थाबैनो मिथिहो।

## गोनां बिथोन

- ✦ फुंनि 10:00 रिंगानि सिगां सोंथि बिलाइखौ आनजाद खथायाव खेवनो नडा।
- ✦ **OMR** फिन बिलाइनि होखानाय बेंखनाव निला/गोसोम बलपइन्ट कलमजों गेबें फिनखौ सिन होनायनि सिगांनो सोंथिखौ मोजाडै फरायनानै लाग्रो, मानोना नैथियाव : गोरोन्थि जायोब्ला एबा गेबें खालामफिननो थाखाय मोनबो उफेरा **OMR** फिन बिलाइ होनाय जानाय नडा।
- ✦ जायखिजाया गोरोन्थि फिननायनि दानख' नम्बर थानाय नडा।
- ✦ बिजाथिया मोनसे सोंथियाव मोनसेनिखुइ बांसिन फिनखौ सायख'योब्ला सोंथिखौ आनजाद नायनाय जानाय नडा।
- ✦ **Non-Standard OMR** फिन बिलाइ बाहायनायनि बिथिडाव बिजाथिया रोखायै गावनि रल नम्बर, सोंथि बिलाइनि फारि नं., सोंथि बिलाइनि कडखौ **OMR** फिन बिलाइनि होखानाय जायगायाव गोसोम खालामना होनांगोन आरो सिगांथिनि बिलाइयाव आरो उनथिजायनि बिलाइयाव मोनसे हांखो आरो बिसान (अनजिमा) लिरनानै गेबेडै आबुं खालामनो नांगोन। नडाब्ला **OMR** फिन बिलाइखौ आनजाद नायनाय जानाय नडा।
- ✦ बिजाथिफोरा खेबनै सहि होनो नांगोन, खेबसे आनजाद खथायाव हाबनानै गावबा गाव जायगायाव जखानायनि उनाव बिबानाव थानाय नायदिंगिरिया होनाय फट'गोनां नुजाथिनाय बिलाइयाव, आरो गुबुन मोनसेया, आनजाद होखानायनि उनाव नायदिंगिरिनो **OMR** फिन बिलाइखौ गथायनाय समाव। **OMR** फिन बिलाइ गथायनाय समाव बिजाथिया सहि होआखैब्ला बियो आनजादाव जवाखैमोन होननानै गनायनाय जागोन।
- ✦ सोंथि बिलाइयाव होनाय थिखानाय जायगायाव बिजाथिया रोखायै गावनि रल नम्बरखौ लिरनांगोन।
- ✦ सोंथि बिलाइनि नम्बर आरो सोंथि बिलाइनि कड नम्बरखौ **OMR** फिन बिलाइनि होखानाय जायगायाव लिरनाय/गोसोम खालामनायनि फारसे बिजाथिया रोखा जानाया गोनां। बिदिन्थि बादियै, सोंथि बिलाइनि कड आबुं खालामनाय समाव बिजाथिया मोननाय सोंथि बिलाइनि कडा 'A' जायोब्ला **OMR** फिन बिलाइनि होखानाय जायगायाव 'A' लिरनो नांगोन आरो होखानाय बेंखन 'A' खौ गोसोम खालामनो नांगोन।
- ✦ बिजाथिफोरा गासिबो रोखोमनि नांगौ जानाय खालामना नायनायनाय (rough) खामानिखौ सोंथि बिलाइनि होखानाय जायगायावसो खालामनो नांगोन। बिजाथिफोरा खालामना नायनायनाय खामानिखौ फिन बिलाइ एबा बिदि गुबुन रोखोमनि लेखा बिलाइयाव खालामनो मोननाय नडा। फिन बिलाइयाव बे खालामना नायनायनाय (rough) खामानिखौ बिजाथिया खालामोब्ला एबा लिरला लिरसि (overwriting) खालामोब्ला एबा गुफुर गाबखौ (whitener) **OMR** फिन बिलाइयाव फोनोब्ला बै **OMR** फिन बिलाइखौ नायनाय जानाय नडा।
- ✦ सोंथि बिलाइनि बिजों एबा फोसावनायाव माबाफोर गोरोन्थि थायोब्ला एबा बुजि मोननायाव जेंना जायोब्ला इंराजि रावजों फोसावनाय सोंथि बिलाइखौनो गेबें होननानै गनायना लानाय जागोन।
- ✦ आनजाद सोलिफुबाय थानाय समाव रावबो बिजाथिखौ आनजादथिलि गारना थानायनि गनायथि होनाय जानाय नडा।
- ✦ आनजादथिलि/खथायाव सोरबा बिजाथिफ्रा हेंथा गोनां मुवा जैरै मबाइल फन, केलकुलेटर एबा बिदि रोखोमनि माबाफोर इलेक्ट्रनिक मुवा बाहायोब्ला बिनि बिजाथिखौ दानना होनाय जागोन।



**SPACE FOR ROUGH WORK**



1. গ্রীণ অস্কাৰ (হুইটলী গ'ল্ড বাঁটা), 2024 কোনে লাভ কৰিছিল ?

- (A) বমন সুকুমাৰ (B) বৃন্দা দেবী  
(C) কৃষ্ণমূৰ্তী (D) ড० পূৰ্ণিমা দেবী বৰ্মন

1. গ্রীণ অস্কাৰ (হুইটলী গোল্ড পুরস্কার), 2024 কে লাভ করেছিলেন ?

- (A) বমন সুকুমাৰ (B) বৃন্দা দেবী  
(C) কৃষ্ণমূৰ্তি (D) ড. পূৰ্ণিমা দেবী বৰ্মন

1. সৌৰ Green Oscar (Whitley Gold বান্ধা), 2024 খৌ আজাবদৌমোন?

- (A) বমন সুকুমাৰ (B) বৃন্দা দেবী  
(C) কৃষ্ণমূৰ্তি (D) ড० পূৰ্ণিমা দেবী বৰ্মন

1. Who received the Green Oscar (Whitley Gold Award), 2024?

- (A) Raman Sukumar (B) Brindha Devi  
(C) Krishnamoorthy (D) Dr. Purnima Devi Barman

---

2. কোন সংস্থাই শিশু পুষ্টি প্রতিবেদন, 2024 প্রকাশ কৰিছিল ?

- (A) WHO (B) UNICEF  
(C) UNDP (D) World Bank

2. কোন সংস্থাটি শিশু পুষ্টি প্রতিবেদন, 2024 প্রকাশ করেছিল ?

- (A) WHO (B) UNICEF  
(C) UNDP (D) World Bank

2. বৰে গৌথুমা Child Nutrition Report, 2024 খৌ বাবৌসৌ ফৌসাবদৌ?

- (A) WHO (B) UNICEF  
(C) UNDP (D) World Bank

2. Which organization released the Child Nutrition Report, 2024?

- (A) WHO (B) UNICEF  
(C) UNDP (D) World Bank

---

3. বিশ্ব সংবাদ স্বাধীনতা সূচকাংক, 2024ৰ মতে 180খন দেশৰ ভিতৰত ভাৰতৰ স্থান কিমান ?

- (A) 159 (B) 152 (C) 150 (D) 161

3. বিশ্ব সংবাদ স্বাধীনতা সূচকাংক, 2024 অনুযায়ী 180টি দেশের মধ্যে ভারতের স্থান কত ?

- (A) 159 (B) 152 (C) 150 (D) 161



3. World Press Freedom Index, 2024 আৰু, 180 হাৰফোৰনি মাৰাভাৰ ভাৰতনি মাৰিয়া মা?
- (A) 159 (B) 152 (C) 150 (D) 161
3. In the World Press Freedom Index, 2024, what is India's rank among 180 countries?
- (A) 159 (B) 152 (C) 150 (D) 161
- 

4. 'জাতীয় কেনচাৰ সচেতনতা দিৱস' কেতিয়া পালন কৰা হয় ?
- (A) নৱেম্বৰ 9 (B) নৱেম্বৰ 7  
(C) নৱেম্বৰ 5 (D) নৱেম্বৰ 3
4. 'জাতীয় ক্যান্সাৰ সচেতনতা দিৱস' কবে পালন কৰা হয় ?
- (A) নভেম্বৰ 9 (B) নভেম্বৰ 7  
(C) নভেম্বৰ 5 (D) নভেম্বৰ 3
4. 'কেন্সাৰ সাংগ্ৰাণ্থি সান'খী মাৰুলা ফালিয়ো?
- (A) 9 নভেম্বৰ (B) 7 নভেম্বৰ  
(C) 5 নভেম্বৰ (D) 3 নভেম্বৰ
4. When is 'National Cancer Awareness Day' observed?
- (A) November 9 (B) November 7  
(C) November 5 (D) November 3
- 

5. প্ৰতি বছৰে 'জোনবিল মেলা' (Jonbeel Mela) কোনখন জিলাত অনুষ্ঠিত হয় ?
- (A) মৰিগাঁও (B) বাক্সা  
(C) চিৰাং (D) গোলাঘাট
5. প্ৰতি বছৰ 'জোনবিল মেলা' কোন জেলায় অনুষ্ঠিত হয় ?
- (A) মৰিগাঁও (B) বাক্সা  
(C) চিৰাং (D) গোলাঘাট
5. বোসোফ্ৰোমবো 'জনবিল মেলা' (Jonbeel Mela) খী মাৰে জিলায়াব খুঁফুনায জায়ো?
- (A) মৰিগাঁও (B) বাক্সা  
(C) চিৰাং (D) গ'লাঘাট
5. In which of the following districts is the 'Jonbeel Mela' held every year?
- (A) Morigaon (B) Baksa  
(C) Chirang (D) Golaghat
- 



6. 'শিল্পী দিবস' কেতিয়া উদ্‌যাপন কৰা হয় ?
- (A) 25 জানুৱাৰীত (B) 21 মেত  
(C) 17 জানুৱাৰীত (D) 14 নৱেম্বৰত
6. 'শিল্পী দিবস' কবে উদ্‌যাপিত হয় ?
- (A) 25শে জানুৱাৰী (B) 21শে মে  
(C) 17ই জানুৱাৰী (D) 14ই নভেম্বৰ
6. 'শিল্পী দিবস' খৌ মাৰ্চ ফালিনায় জায়ো?
- (A) 25 জানুৱাৰীয়াব (B) 21 মেয়াব  
(C) 17 জানুৱাৰীয়াব (D) 14 নৱেম্বৰাব
6. 'Silpi Divas' is celebrated on
- (A) 25th January (B) 21st May  
(C) 17th January (D) 14th November

- 
7. 'অসম ৰাজ্যিক সংগ্ৰহালয়'টো ক'ত অৱস্থিত ?
- (A) গুৱাহাটীত (B) শিৱসাগৰত  
(C) নগাঁওত (D) যোৰহাটত
7. 'অসম ৰাজ্যিক সংগ্ৰহালয়'টি কোথায় অবস্থিত ?
- (A) গুৱাহাটীতে (B) শিবসাগৰে  
(C) নগাঁও-এ (D) যোৰহাটে
7. 'আসাম হাৰাৰসা দৌনথুমসালি'য়া মাৰ্বেয়াব দং?
- (A) গুৱাহাটী (B) শিৱসাগৰ  
(C) নগাৱ (D) জৰহাট
7. Where is the 'Assam State Museum' located?
- (A) Guwahati (B) Sivasagar  
(C) Nagaon (D) Jorhat

- 
8. ASTC-ৰ অৰ্থ হ'ল
- (A) আছাম ষ্টেট ট্ৰেডিং কৰ্পোৰেচন (B) আছাম ষ্টেট টেকন'ল'জী কমিচন  
(C) আছাম ষ্টেট ট্ৰেন্সপ'ৰ্ট কৰ্পোৰেচন (D) আছাম ষ্টেট ট্ৰেভেল কৰ্পোৰেচন
8. ASTC-এৰ অৰ্থ হলো
- (A) আসাম ষ্টেট ট্ৰেডিং কৰ্পোৰেশন (B) আসাম ষ্টেট টেকনোলজি কমিশন  
(C) আসাম ষ্টেট ট্ৰান্সপোর্ট কৰ্পোৰেশন (D) আসাম ষ্টেট ট্ৰাভেল কৰ্পোৰেশন





8. ASTC নি আঁথিয়া জাদোঁ

- (A) আসাম স্টেট ট্ৰেডিং করপেৰেসন (B) আসাম স্টেট টেকন'লজী কমিষন  
(C) আসাম স্টেট ট্ৰেন্সপোর্ট করপেৰেসন (D) আসাম স্টেট ট্ৰেভেল করপেৰেসন

8. ASTC stands for

- (A) Assam State Trading Corporation (B) Assam State Technology Commission  
(C) Assam State Transport Corporation (D) Assam State Travel Corporation

9. নিম্নলিখিতসমূহৰ কোনটো এটা নিষ্ক্ৰিয় গেছ নহয় ?

- (A) আৰ্গন (B) হিলিয়াম  
(C) নিয়ন (D) নাইট্ৰ'জেন

9. নিম্নে উল্লিখিত কোনটি নিষ্ক্ৰিয় গ্যাস নয় ?

- (A) আৰ্গন (B) হিলিয়াম  
(C) নিয়ন (D) নাইট্ৰ'জেন

9. গাহায়নি বৰে মৌনসেয়া অৰজাবৰোডি গেস (inert gas) নহা?

- (A) আৰ্গন (B) হিলিয়াম  
(C) নিয়ন (D) নাইট্ৰ'জেন

9. Which of the following is **not** an inert gas?

- (A) Argon (B) Helium  
(C) Neon (D) Nitrogen

10. 1894 চনত অসমৰ কৃষক বিদ্ৰোহ কোন ঠাইত সংঘটিত হৈছিল ?

- (A) গহপুৰ (B) ইয়াণ্ডাবু  
(C) পাথৰুঘাট (D) ডেকিয়াজুলি

10. 1894 সালে আসামেৰ কৃষক বিদ্ৰোহ কোন স্থানে সংঘটিত হৈছিল ?

- (A) গহপুৰ (B) ইয়ান্দাবু  
(C) পাথৰুঘাট (D) ডেকিয়াজুলি

10. 1894 মায়থাইনি আসামনি আবাদাৰি জাংখিখানায়া বহা জাদোঁমৌন?

- (A) গহপুৰ (B) ইয়ান্দাবু  
(C) পাথৰুঘাট (D) ডেকিয়াজুলি

10. The Peasant Uprising of Assam in 1894 took place at

- (A) Gohpur (B) Yandaboo  
(C) Patharughat (D) Dhekiajuli



11. পুৰুষৰ আই. চি. চি. T20 বিশ্বকাপ, 2024ত কোনে শ্ৰেষ্ঠ খেলুৱৈৰ পুৰস্কাৰ লাভ কৰিছিল ?  
(A) সূৰ্যকুমাৰ যাদৱ (B) ট্ৰেভিচ হে'দ  
(C) জসপ্ৰিত বুমৰাহ (D) ইয়াৰ এজনও নহয়
11. পুৰুষদেৱৰ আই. সি. সি. T20 বিশ্বকাপ, 2024-এ কে সৰ্বশ্ৰেষ্ঠ খেলোয়াড়ৰ পুৰস্কাৰ জিতেছিলেন ?  
(A) সূৰ্যকুমাৰ যাদৱ (B) ট্ৰ্যাভিস হেড  
(C) জসপ্ৰিত বুমৰা (D) এঁদেৰ কেউই নন
11. হাঁবাফোৱনি ICC T20 World Cup, 2024 আৰু সোৱ সাৰসিন গেলেগিৱিনি বান্থাখ্ৰৌ মোনদোঁমোন?  
(A) সূৰ্যকুমাৰ যাদৱ (B) ট্ৰেভিচ হেড  
(C) জসপ্ৰিত বুমৰাহ (D) বিসোৱনি সাসেবো নভা
11. Who won the best player award in the ICC Men's T20 World Cup, 2024?  
(A) Suryakumar Yadav (B) Travis Head  
(C) Jasprit Bumrah (D) None of them
- 

12. 2034 চনৰ ফিফা বিশ্বকাপ ক'ত অনুষ্ঠিত হ'ব ?  
(A) স্পেইন (B) চৌদি আৰব  
(C) কানাডা (D) এইবোৰৰ কোনোটোৱেই নহয়
12. 2034 সালৰ ফিফা বিশ্বকাপ কোথায় অনুষ্ঠিত হ'বে ?  
(A) স্পেন (B) চৌদি আৰব  
(C) কানাডা (D) এণ্ডলিৰ কোনোটিই নয়
12. 2034 নি FIFA ব'ল্ড কাপা বৰেয়াব জাগোন?  
(A) স্পেইন (B) চৌদি আৰব  
(C) কানাডা (D) বেফোৱনি মোনসেবো নভা
12. Where will the 2034 FIFA World Cup be held?  
(A) Spain (B) Saudi Arabia  
(C) Canada (D) None of these
- 

13. কোন দেশে 'ষ্টেণ্ডাৰ্ড মিছাইল-6' (এছ. এম.-6) উদ্ভাৱন কৰিছিল ?  
(A) আমেৰিকা (B) জাপান  
(C) ভাৰত (D) চীন
13. স্ট্যান্ডাৰ্ড মিছাইল-6 (এস. এম.-6) কোন দেশ উদ্ভাৱন কৰিছিল ?  
(A) আমেৰিকা (B) জাপান  
(C) ভাৰত (D) চীন



13. Standard Missile-6 (SM-6) খৰী বৰে হাদৰা দিহুনদৌমোন?
- (A) আমেৰিকা (B) জাপান  
(C) ভাৰত (D) চীন
13. Standard Missile-6 (SM-6) was developed by which country?
- (A) USA (B) Japan  
(C) India (D) China
- 

14. পি. এম.-সূৰজ পৰ্টেল কোন মন্ত্ৰালয়ৰ দ্বাৰা ৰূপায়ণ কৰা হৈছে ?
- (A) গ্ৰাম্য বিকাশ মন্ত্ৰালয়  
(B) নতুন আৰু নবীকৰণীয় শক্তি মন্ত্ৰালয়  
(C) সামাজিক ন্যায় আৰু সবলীকৰণ মন্ত্ৰালয়  
(D) গৃহ নিৰ্মাণ আৰু নগৰ প্ৰাধিকৰণ মন্ত্ৰালয়
14. প্ৰধানমন্ত্ৰী-সূৰজ পোৰ্টাল (PM-SURAJ Portal) কোন মন্ত্ৰালয়ৰ দ্বাৰা পৰিচালনা কৰা হয় ?
- (A) গ্ৰাম্য বিকাশ মন্ত্ৰালয়  
(B) নতুন এৰং নবীকৰণযোগ্য শক্তি মন্ত্ৰালয়  
(C) সামাজিক ন্যায় এৰং সবলীকৰণ মন্ত্ৰালয়  
(D) গৃহ নিৰ্মাণ এৰং নগৰ প্ৰাধিকৰণ মন্ত্ৰালয়
14. PM-SURAJ Portal আ বৰে Ministry জৌ বাহায়জাদৌ?
- (A) Ministry of Rural Development  
(B) Ministry of New and Renewable Energy  
(C) Ministry of Social Justice and Empowerment  
(D) Ministry of Housing and Urban Affairs
14. PM-SURAJ Portal is implemented by which Ministry?
- (A) The Ministry of Rural Development  
(B) The Ministry of New and Renewable Energy  
(C) The Ministry of Social Justice and Empowerment  
(D) The Ministry of Housing and Urban Affairs
- 

15. 2024 চনৰ আই. পি. এল. প্ৰতিযোগিতাত কোনে 'অৰেঞ্জ কেপ' লাভ কৰিছিল ?
- (A) অভিষেক শৰ্মা (B) বিৰাট কোহলি  
(C) ৰিংকু সিং (D) ইয়াৰ এজনো নহয়
15. 2024 সালৰ আই. পি. এল. প্ৰতিযোগিতায় কে 'অৰেঞ্জ কাপ' লাভ কৰেছিল ?
- (A) অভিষেক শৰ্মা (B) বিৰাট কোহলি  
(C) ৰিংকু সিং (D) এঁদেৰ কেউই নন



15. सोर गेलेगिरिया IPL, 2024 नि 'Orange Cap' खौ देरहादोमोन?
- (A) अभिषेक शर्मा (B) विराट कोहली  
(C) रिकु सिं (D) बिसोरनि सासेबो नडा

15. Which player won the Orange Cap in IPL, 2024?
- (A) Abhishek Sharma (B) Virat Kohli  
(C) Rinku Singh (D) None of them

- 
16. 2025–2026त कोन खणुई आटोइतकै बेछि बाजेटब अंश लाड कबिछे ?

- (A) शिक्षा (B) ग्राम्य विकास  
(C) भारतीय रेल (D) प्रतिबन्धा

16. कोन खते 2025–2026 सालेर साधारण बाजेटे सबथेके बेशि अंश धार्य करा हयेछे ?

- (A) शिक्षा (B) ग्राम्य विकास  
(C) भारतीय रेल (D) प्रतिबन्धा

16. बबे खोन्दोआ (Sector) 2025–2026 नि बाजेटाव बयनिखुइ बांसिन बाहागो मोन्दो?

- (A) सोलोथाइ (B) गामि जौगाखानाय  
(C) भारतीय रेल (D) रैखाथि

16. Which sector has received the highest allocation in the Budget for 2025–2026?

- (A) Education (B) Rural Development  
(C) Indian Railways (D) Defence

- 
17. भारतब बर्तमान बैदेशिक पबिक्रमा मन्त्री कोन ?

- (A) किरेण रिजिजु (B) भूपेन्द्र यादव  
(C) जगत प्रकाश नाड्डा (D) ड० ए०. जयशंकर

17. भारतेर बर्तमान परराष्ट्र-विषयक मन्त्री के ?

- (A) किरेण रिजिजु (B) भूपेन्द्र यादव  
(C) जगत् प्रकाश नाड्डा (D) ड. एस. जयशंकर

17. भारतनि दानि External Affairs Minister आ सोर ?

- (A) किरेण रिजिजु (B) भूपेन्द्र यादव  
(C) जगत प्रकाश नाड्डा (D) ड० एस० जयशंकर

17. Who is the current External Affairs Minister of India?

- (A) Kiren Rijiju (B) Bhupender Yadav  
(C) Jagat Prakash Nadda (D) Dr. S. Jaishankar



18. Z-Morh সুৰঙ্গ (সোণামাৰ্গ সুৰঙ্গ)ৰ বিষয়ত তলৰ উক্তিবোৰ বিবেচনা কৰা :

1. ই জোজিলা সুৰঙ্গ প্ৰকল্পৰ এটা অংশ।
2. 6.5 km দীঘল সুৰঙ্গটো জম্মু-কাশ্মীৰৰ গগনগিৰ আৰু সোণামাৰ্গ অঞ্চলক সংযুক্ত কৰিছে।
3. প্ৰকল্পটো National Highway Authority of India-ৰ তত্ত্বাৱধানত আছে।

তলৰ কোনটো/কোনবোৰ উক্তি সঠিক ?

- (A) কেৱলমাত্ৰ 1 আৰু 2 (B) কেৱলমাত্ৰ 1  
(C) কেৱলমাত্ৰ 2 আৰু 3 (D) কেৱলমাত্ৰ 2

18. Z-Morh সুৰঙ্গ (সোণামাৰ্গ সুৰঙ্গ)-এৰ বিষয়ে নীচৰ উক্তিগুলি বিবেচনা কৰো :

1. এটি জোজিলা সুৰঙ্গ প্ৰকল্পৰ একাধিক অংশ।
2. 6.5 km দীৰ্ঘ সুৰঙ্গটি জম্মু আৰু কাশ্মীৰৰ গগনগিৰ আৰু সোণামাৰ্গ অঞ্চলক সংযুক্ত কৰিছে।
3. প্ৰকল্পটি National Highway Authority of India-ৰ তত্ত্বাৱধানত আছে।

নীচৰ কোন উক্তিটি/উক্তিগুলি সঠিক ?

- (A) কেৱলমাত্ৰ 1 আৰু 2 (B) কেৱলমাত্ৰ 1  
(C) কেৱলমাত্ৰ 2 আৰু 3 (D) কেৱলমাত্ৰ 2

18. Z-Morh টানেল (স'নামাৰ্গ টানেল)খ্ৰী লানানৈ বুনাৰ্ঘ গাহাৰ্ঘনি বিন্ধুখিখ্ৰী নোজোৰ হো :

1. বেয়ো জজিলা টানেল প্ৰজেক্টনি মোনসে বাহাগো।
2. 6.5 কি. মি. গোলাব বে টানেলা জম্মু আৰু কাশ্মিৰাৰ গাগাংগিৰ আৰু স'নামাৰ্গ আনসোলখ্ৰী ফোনাংজাবো।
3. বৰে প্ৰজেক্টখ্ৰী সামলাৰ্ঘদোঁ নেশানেল হাইবে অথৰিটি অফ ইন্দিয়ায়া।

গোজৌবাৰ হোনাৰ্ঘ বৰে বিন্ধুখি/বিন্ধুখিফোৰা গেৰে?

- (A) 1 আৰু 2 আল' (B) 1 আল'  
(C) 2 আৰু 3 আল' (D) 2 আল'

18. Consider the following statements regarding the Z-Morh Tunnel (Sonamarg Tunnel) :

1. It is a part of Zojila Tunnel Project.
2. The 6.5 km long tunnel connects Gagangir and Sonamarg region in Jammu and Kashmir.
3. The project comes under the supervision of the National Highways Authority of India.

Which of the statements given above is/are correct?

- (A) 1 and 2 only (B) 1 only  
(C) 2 and 3 only (D) 2 only



19. ভাৰতৰ প্ৰথম এ. আই. (AI) নগৰ কোনখন ?

- (A) কলকাতা (B) লক্ষ্ণৌ  
(C) দিল্লী (D) বেঙ্গালুৰু

19. ভাৰতৰ প্ৰথম এ. আই. (AI) নগৰ কোনটি ?

- (A) কলকাতা (B) লক্ষ্ণৌ  
(C) দিল্লী (D) বেঙ্গালুৰু

19. গাহায়নি বৰেয়া ভাৰতনি গিৰি AI সৰহ?

- (A) কলকাতা (B) লখনড  
(C) দিল্লী (D) বেঙ্গালুৰু

19. Which of the following is the first AI city in India?

- (A) Kolkata (B) Lucknow  
(C) Delhi (D) Bengaluru

20. 'কোপাইলট+' (Copilot+) কম্পিউটাৰ, য'ত AI-প্ৰযুক্তিৰ দ্বাৰা অনন্য 'ৰিকল' (Recall) ব্যৱহাৰ সুবিধা আছে, কোনটো প্ৰযুক্তি কোম্পানীয়ে বনাইছিল ?

- (A) এলফাবেট (B) এপেল  
(C) এচাৰ (D) মাইক্ৰ'চফট

20. কোন প্ৰযুক্তি কোম্পানী এ. আই. (AI)-উন্নত কাৰ্যকাৰিতা এবং অনন্য পুনৰাহ্বান (Recall) বৈশিষ্ট্যযুক্ত 'কোপাইলট+' (Copilot+) কম্পিউটাৰ চালু কৰেছে ?

- (A) অ্যালফাবেট (B) অ্যাপেল  
(C) এসাৰ (D) মাইক্ৰোসফট

20. 'Copilot+' কম্পিউটাৰ, জেৰাৰ AI-আদৰনি গেজেৰ্জো গুৰু 'Recall' ৰাহানি খাৰুং দং, বেখৌ বৰে কম্পানিয়া বানাযদোঁ?

- (A) এলফাবেট (B) আপেল  
(C) এসাৰ (D) মাইক্ৰ'সফট

20. Which tech company has launched 'Copilot+' PCs with AI-enhanced functionality and a unique 'Recall' feature?

- (A) Alphabet (B) Apple  
(C) Acer (D) Microsoft



21. 1289 ৰ লগত কি ন্যূনতম সংখ্যা যোগ কৰিলে ই এটা পূৰ্ণবৰ্গ সংখ্যা হ'ব ?  
 (A) 1 (B) 7 (C) 13 (D) 16
21. 1289-এৰ সঙ্গ সৰ্বনিম্ন কোন সংখ্যাটি যোগ কৰিলে এটি একটা পূৰ্ণবৰ্গ সংখ্যা হ'ব ?  
 (A) 1 (B) 7 (C) 13 (D) 16
21. 1289 जॉ मा दुयसिन अनजिमा दाजाबोब्ला मोनसे आबुं बर्ग जागोन?  
 (A) 1 (B) 7 (C) 13 (D) 16
21. What is the minimum number to be added to 1289 so that it becomes a perfect square?  
 (A) 1 (B) 7 (C) 13 (D) 16

22. এটা সামান্তৰিকৰ ভূমি আৰু উচ্চতাৰ দীঘ ক্ৰমে 5 cm আৰু 3 cm. সামান্তৰিকটোৰ কালি উলিওৱা।  
 (A)  $30 \text{ cm}^2$  (B)  $15 \text{ cm}^2$   
 (C)  $7.5 \text{ cm}^2$  (D) 15 cm
22. একটি সামান্তৰিকৰ ভূমি এবং উচ্চতা ক্ৰমে 5 cm এবং 3 cm. সামান্তৰিকটিৰ ক্ষেত্ৰফল নিৰ্ণয় কৰো।  
 (A)  $30 \text{ cm}^2$  (B)  $15 \text{ cm}^2$   
 (C)  $7.5 \text{ cm}^2$  (D) 15 cm
22. मोनसे लिंगदब्लाइनि हासा आरो जौथाइनि गोलावा फारियै 5 cm आरो 3 cm. लिंगदब्लाइनि कालि दिहुन।  
 (A)  $30 \text{ cm}^2$  (B)  $15 \text{ cm}^2$   
 (C)  $7.5 \text{ cm}^2$  (D) 15 cm
22. The base and height of a parallelogram are 5 cm and 3 cm respectively. Find the area of the parallelogram.  
 (A)  $30 \text{ cm}^2$  (B)  $15 \text{ cm}^2$   
 (C)  $7.5 \text{ cm}^2$  (D) 15 cm

23. বছৰি 10% সৰল সুতৰ হাৰত কোনো মূলধন কিমান বছৰত দুগুণ হ'ব ?  
 (A) 2 বছৰত (B) 5 বছৰত  
 (C) 10 বছৰত (D) 20 বছৰত
23. বাৎসৰিক 10% সৰল সুদেৰ হাৰে কোনো এক মূলধন কত বছৰে দ্বিগুণ হ'বে ?  
 (A) 2 বছৰে (B) 5 বছৰে  
 (C) 10 বছৰে (D) 20 বছৰে
23. बोसोराव 10% गोरलै सुदनि हाराव मोनसे गिबि दोहोना बेसेबां बोसोराव फाननै जागोन?  
 (A) 2 बोसोराव (B) 5 बोसोराव  
 (C) 10 बोसोराव (D) 20 बोसोराव
23. In how many years will a sum of money be doubled itself at a simple interest of 10% p.a.?  
 (A) 2 years (B) 5 years  
 (C) 10 years (D) 20 years



24. A আৰু B য়ে যথাক্রমে 10,000 টকা আৰু 6,400 টকা দি এটা অংশীদারী ব্যৱসায় আৰম্ভ কৰিলে। 5 মাহৰ পিছত A য়ে 3,000 টকা উঠাই ল'লে আৰু B য়ে তেওঁৰ অংশৰ লগত আৰু 600 টকা যোগ দিলে। B য়ে সক্ৰিয় অংশীদাৰ হিচাপে বাৰ্ষিক লাভৰ 10% বেতন হিচাপে লাভ কৰে। এবছৰৰ মূঠ লাভ 16,000 টকা হ'লে B ৰ লাভাংশ কিমান হ'ব ?
- (A) 6,480 টকা (B) 7,920 টকা  
(C) 8,080 টকা (D) এইবোৰৰ এটাও নহয়
24. A এবং B যথাক্রমে 10,000 টকা এবং 6,400 টকা দিয়ে একটি অংশীদারী ব্যবসা শুরু করে। 5 মাসের পর A 3,000 টকা তুলে নেয় এবং B নিজের বিনিয়োজিত টকাতো আরো 600 টকা যোগ করে। B সক্ৰিয় অংশীদার হিসেবে বাৰ্ষিক লাভের 10% বেতন হিসেবে পায়। এক বৎসর পর মোট লাভ 16,000 টকা হলে B-এর লাভাংশ কত হবে ?
- (A) 6,480 টকা (B) 7,920 টকা  
(C) 8,080 টকা (D) এগুলির একটিও নয়
24. A আৰু B আ ফাৰিয়ৈ 10,000 রাঁ আৰু 6,400 রাঁ হোনাই মোনসে বাহাগোদাৰি ফালাংগি জাগায়জেনৰায়। 5 দাননি উনাব A আ 3,000 রাঁ বোখানা লাঁৰায় আৰু B আ গাবনি বাহাগোজোঁ আৰু 600 রাঁ দাজাৰৰায়। B আ মাবসুলা বাহাগোগিৰি মহই বোসোৱাৰি মুলাম্ফানি 10% দানবান্থা মহই মোনৰায়। বোসোৱসেই উনাব গাসৈ মুলাম্ফায়া 16,000 রাঁ জায়োব্লা, B নি মুলাম্ফানি বাহাগোআ বেসেৰাঁ জাগোন?
- (A) 6,480 রাঁ (B) 7,920 রাঁ  
(C) 8,080 রাঁ (D) বেফোৱনি মোনসেবো নভা
24. A and B started a partnership business investing ₹ 10,000 and ₹ 6,400 respectively. After 5 months, A withdrew ₹ 3,000 and B added ₹ 600 to their investment. Being active partner, B gets 10% of the annual profit as salary. If the profit at the end of one year is ₹ 16,000, the share of profit of B will be
- (A) ₹ 6,480 (B) ₹ 7,920  
(C) ₹ 8,080 (D) None of these

25. মান নিৰ্ণয় কৰা :

$$\frac{2}{3} \quad \frac{1}{3} \quad 2\frac{2}{9}$$

- (A)  $\frac{11}{9}$  (B)  $\frac{11}{9}$  (C)  $\frac{17}{9}$  (D)  $\frac{17}{9}$

25. মান নিৰ্ণয় কৰো :

$$\frac{2}{3} \quad \frac{1}{3} \quad 2\frac{2}{9}$$

- (A)  $\frac{11}{9}$  (B)  $\frac{11}{9}$  (C)  $\frac{17}{9}$  (D)  $\frac{17}{9}$





25. মান দিহুন :

$$\frac{2}{3} \quad \frac{1}{3} \quad 2\frac{2}{9}$$

(A)  $\frac{11}{9}$  (B)  $\frac{11}{9}$  (C)  $\frac{17}{9}$  (D)  $\frac{17}{9}$

25. Find the value of

$$\frac{2}{3} \quad \frac{1}{3} \quad 2\frac{2}{9}$$

(A)  $\frac{11}{9}$  (B)  $\frac{11}{9}$  (C)  $\frac{17}{9}$  (D)  $\frac{17}{9}$

26. তলৰ সংখ্যাকেইটাৰ মধ্যমা নিৰ্ণয় কৰা :

$$32, 32, 34, 35, 35, 38, 42$$

(A) 32 (B) 38 (C) 35 (D) 42

26. নিম্নোক্ত সংখ্যাগুলিৰ মধ্যমা নিৰ্ণয় কৰো :

$$32, 32, 34, 35, 35, 38, 42$$

(A) 32 (B) 38 (C) 35 (D) 42

26. গাহায়নি অনজিমাফোরনি গেজেৰমা (Median) দিহুন :

$$32, 32, 34, 35, 35, 38, 42$$

(A) 32 (B) 38 (C) 35 (D) 42

26. Find the median of the following numbers :

$$32, 32, 34, 35, 35, 38, 42$$

(A) 32 (B) 38 (C) 35 (D) 42

27. শতকৰা বছৰি 10% চক্রবৃদ্ধি সূতত 100 টকা 2 বছৰৰ মূৰত মুঠ পৰিমাণ হ'বগৈ

(A) 121 টকা (B) 221 টকা  
(C) 111.21 টকা (D) 121.21 টকা

27. 100 টকা 2 বৎসৰ বাৎসৰিক 10% চক্রবৃদ্ধি হাৰে বৰ্ধিত হলে মোট সঞ্চিত ধনৰাশিৰ পৰিমাণ হবে

(A) 121 টকা (B) 221 টকা  
(C) 111.21 টকা (D) 121.21 টকা

27. बोसोरव 10% हारव 100 रानि बोसोर 2 नि बारायन्नायनाय सुदा जागोन

(A) 121 रानं (B) 221 रानं  
(C) 111.21 रानं (D) 121.21 रानं

27. The amount on compound interest of ₹ 100 for 2 years at the rate of 10% per annum is

(A) ₹ 121 (B) ₹ 221  
(C) ₹ 111.21 (D) ₹ 121.21



28. যদি  $p$  আৰু  $q$  ৰ গ.সা.উ. আৰু ল.সা.গু. যথাক্রমে  $r$  আৰু  $s$  হয়, তেন্তে  $p, q, r$  আৰু  $s$  ৰ ল.সা.গু. হৈছে ( $p, q$  স্বাভাবিক সংখ্যা)
- (A)  $pq$  (B)  $qr$  (C)  $sp$  (D)  $s$
28.  $p$  এবং  $q$  এর গ.সা.গু. এবং ল.সা.গু. যথাক্রমে  $r$  এবং  $s$  হলে,  $p, q, r$  এবং  $s$  এর ল.সা.গু. হবে ( $p, q$  স্বাভাবিক সংখ্যা)
- (A)  $pq$  (B)  $qr$  (C)  $sp$  (D)  $s$
28.  $p$  আরো  $q$  নি দে० আ० সা० আরো দু० আ० সা० আ ফারিই  $r$  আরো  $s$  জায়োল্লা,  $p, q, r$  আরো  $s$  নি দু० আ० আ० আ মা জাগোন ( $p, q$  মিথিগা অনজিমা)?
- (A)  $pq$  (B)  $qr$  (C)  $sp$  (D)  $s$
28. If the HCF and LCM of  $p$  and  $q$  are  $r$  and  $s$  respectively, then the LCM of  $p, q, r$  and  $s$  is ( $p, q$  natural numbers)
- (A)  $pq$  (B)  $qr$  (C)  $sp$  (D)  $s$

29. যদি  $x = \frac{1}{x}$  7 হয়, তেন্তে  $x^2 = \frac{1}{x^2}$  ৰ মান হ'ব
- (A) 49 (B) 40 (C) 42 (D) 47
29. যদি  $x = \frac{1}{x}$  7 হয়, তবে  $x^2 = \frac{1}{x^2}$ -এর মান হবে
- (A) 49 (B) 40 (C) 42 (D) 47
29. জুদি  $x = \frac{1}{x}$  7 জায়ো, অল্লা  $x^2 = \frac{1}{x^2}$  নি মানা জাগোন
- (A) 49 (B) 40 (C) 42 (D) 47
29. If  $x = \frac{1}{x}$  7, then  $x^2 = \frac{1}{x^2}$  is equal to
- (A) 49 (B) 40 (C) 42 (D) 47

30. 1 ৰ পৰা 25 লৈকে ক্রমিক অযুগ্ম সংখ্যাবোৰৰ যোগফল হৈছে
- (A) 325 (B) 200 (C) 169 (D) 89
30. 1 থেকে 25 পর্যন্ত ক্রমিক অযুগ্ম সংখ্যাগুলির যোগফল হল
- (A) 325 (B) 200 (C) 169 (D) 89
30. 1 নিফ্রায় 25 সিম থানায় বেজরা ফারি অনজিমানি দাজাৰগাসীয়া জাদৌ
- (A) 325 (B) 200 (C) 169 (D) 89
30. The sum of the odd consecutive numbers from 1 to 25 is
- (A) 325 (B) 200 (C) 169 (D) 89



31. তলৰ উক্তিসমূহৰ কোনটো উক্তি শুদ্ধ নহয় ?
- (A) প্রতিটো যুগ্ম (ধনাত্মক) সংখ্যাই এটা স্বাভাবিক সংখ্যা।  
(B) আটাইতকৈ সৰু স্বাভাবিক সংখ্যাটো হ'ল 1.  
(C) 0 এটা পূৰ্ণ সংখ্যা।  
(D) প্রতিটো স্বাভাবিক সংখ্যাই এটা যুগ্ম সংখ্যা।

31. নীচের উক্তিগুলির মধ্যে কোন উক্তিটি শুদ্ধ নয় ?
- (A) প্রতিটি যুগ্ম (ধনাত্মক) সংখ্যা একটি স্বাভাবিক সংখ্যা।  
(B) ক্ষুদ্রতম স্বাভাবিক সংখ্যাটি হলো 1.  
(C) 0 একটি পূৰ্ণ সংখ্যা।  
(D) প্রতিটি স্বাভাবিক সংখ্যাই একটি যুগ্ম সংখ্যা।

31. গাহায়নি বৃথিফোরনি গেজেৰাব বৰে বৃথিয়া গেৰে নজা?
- (A) মোনফ্রোম জরা (Positive) অন্জিমায়া মিথিগা অনজিমা।  
(B) বয়নিখ্বুহু দুয়সিন মিথিগা অনজিমায়া 1.  
(C) 0 আ মোনসে আবু অনজিমা।  
(D) মোনফ্রোম মিথিগা অনজিমায়া জরা অনজিমা।

31. Which one of the following statements is **not** true?
- (A) Each even (positive) number is a natural number.  
(B) The smallest natural number is 1.  
(C) 0 is a whole number.  
(D) Each natural number is an even number.

- 
32. যদি এটা বস্তুর মূল্য 200 টকা হয় আৰু বেহাই 10% হয়, তেন্তে বস্তুটোৰ বাবে গ্ৰাহকে দিব লগা ধনৰ পৰিমাণ হ'ব
- (A) 90 টকা (B) 190 টকা  
(C) 80 টকা (D) 180 টকা

32. যদি একটি বস্তুর দাম 200 টকা হয় এবং তার উপর 10% ছাড় থাকে, তাহলে বস্তুটি কিনতে ক্রেতাকে কত দাম দিতে হবে ?
- (A) 90 টকা (B) 190 টকা  
(C) 80 টকা (D) 180 টকা

32. জুদি মোনসে মুবানি বেসেনা 200 রাं जायो आरो 10% रेहाय जायो, मुबानि थाखाय बायग्राया होनो गोनां बेसेना जागोन
- (A) 90 रां (B) 190 रां  
(C) 80 रां (D) 180 रां

32. If the price of an article is ₹ 200 and the rebate on it is 10%, then the customer has to pay for this article
- (A) ₹ 90 (B) ₹ 190  
(C) ₹ 80 (D) ₹ 180



33. যদি 460 টাকা আমি 10 জন পুরুষ, 16 গৰাকী মহিলা আৰু 20টা শিশুৰ মাজত সমানে ভাগ কৰি দিও, তেন্তে প্ৰত্যেকে পোৱা অংশৰ পৰিমাণ হ'ব
- (A) 10 টাকা (B) 16 টাকা  
(C) 20 টাকা (D) 46 টাকা
33. যদি আমাৰা 460 টাকা 10 জন পুরুষ, 16 জন মহিলা এবং 20টি শিশুৰ মध्ये समान भागे भाग करे दिई, तहले प्रत्येकेर भागे कत टाका आसबे ?
- (A) 10 টাকা (B) 16 টাকা  
(C) 20 টাকা (D) 46 টাকা
33. जुदि जौं सा 10 हौवा मानसि, सा 16 हिनजाव मानसि आरो सा 20 गथ'नि मादाव 460 रांखी समानै रानना होयोब्ला, साफ्रोमनि बाहागोनि बिबाडा जागोन
- (A) 10 रां (B) 16 रां  
(C) 20 रां (D) 46 रां
33. If we divide ₹ 460 among 10 men, 16 women and 20 children equally, then the share of each one will be
- (A) ₹ 10 (B) ₹ 16  
(C) ₹ 20 (D) ₹ 46

34. যদি  $2^{2x-1} = 4 \cdot 8$  হয়, তেন্তে  $x$  ৰ মান হ'ব
- (A) 1 (B) 2 (C) 3 (D) 4
34. যদি  $2^{2x-1} = 4 \cdot 8$  হয়, তহলে  $x$ -এৰ মান হবে
- (A) 1 (B) 2 (C) 3 (D) 4
34. जेब्ला  $2^{2x-1} = 4 \cdot 8$  जायो, अब्ला  $x$ नि माना जागोन
- (A) 1 (B) 2 (C) 3 (D) 4
34. If  $2^{2x-1} = 4 \cdot 8$ , then the value of  $x$  is
- (A) 1 (B) 2 (C) 3 (D) 4

35. তলৰ কোনটো গাণিতিক উক্তি শুদ্ধ ?
- (A)  $\frac{9}{40} \cdot \frac{3}{20}$  (B)  $\frac{5}{8} \cdot \frac{3}{4}$  (C)  $\frac{7}{6} \cdot \frac{5}{6}$  (D)  $\frac{3}{7} \cdot \frac{9}{28}$
35. नीचेर कोन् गणितीक उक्ति शुद्ध ?
- (A)  $\frac{9}{40} \cdot \frac{3}{20}$  (B)  $\frac{5}{8} \cdot \frac{3}{4}$  (C)  $\frac{7}{6} \cdot \frac{5}{6}$  (D)  $\frac{3}{7} \cdot \frac{9}{28}$



35. गाहायनि बबे मोनसे सानखान्थिनि बिबुंधिया थार?

- (A)  $\frac{9}{40} \frac{3}{20}$  (B)  $\frac{5}{8} \frac{3}{4}$  (C)  $\frac{7}{6} \frac{5}{6}$  (D)  $\frac{3}{7} \frac{9}{28}$

35. Which of the following mathematical statements is correct?

- (A)  $\frac{9}{40} \frac{3}{20}$  (B)  $\frac{5}{8} \frac{3}{4}$  (C)  $\frac{7}{6} \frac{5}{6}$  (D)  $\frac{3}{7} \frac{9}{28}$

36. দুটা পৰিমেয় সংখ্যা  $\frac{a}{b}$  আৰু  $\frac{c}{d}$  সমতুল্য হ'ব, যদিহে

- (A)  $a b c d$  (B)  $a b c d$  (C)  $a d b c$  (D)  $a d b c$

36. দুটি পরিমেয় সংখ্যা  $\frac{a}{b}$  ও  $\frac{c}{d}$  সমতুল্য তখনই হবে, যখন

- (A)  $a b c d$  (B)  $a b c d$  (C)  $a d b c$  (D)  $a d b c$

36. মোননৈ রানজোৰথা অনজিমা  $\frac{a}{b}$  আরো  $\frac{c}{d}$  আ সমান जागोन, जेब्ला

- (A)  $a b c d$  (B)  $a b c d$  (C)  $a d b c$  (D)  $a d b c$

36. Two rational numbers  $\frac{a}{b}$  and  $\frac{c}{d}$  are equivalent if

- (A)  $a b c d$  (B)  $a b c d$  (C)  $a d b c$  (D)  $a d b c$

37. যদি এটা ত্ৰিভুজৰ ভূমি উন্নতিৰ দুগুণ আৰু উন্নতিৰ মান  $2x$  একক হয়, তেন্তে ত্ৰিভুজটোৰ কালি হ'ব

- (A)  $8x^2$  বৰ্গ একক (B)  $2x^2$  বৰ্গ একক  
(C)  $x^2$  বৰ্গ একক (D)  $4x^2$  বৰ্গ একক

37. যদি একটি ত্ৰিভুজের ভূমি তার উন্নতির দ্বিগুণ এবং উন্নতির মান  $2x$  একক হয়, তাহলে ত্ৰিভুজটির ক্ষেত্রফল হবে

- (A)  $8x^2$  বৰ্গ একক (B)  $2x^2$  বৰ্গ একক  
(C)  $x^2$  বৰ্গ একক (D)  $4x^2$  বৰ্গ একক

37. मोनसे आखान्थिथामनि हासानि जखाया जौथाइनि नै गुन। जेब्ला जौथाइनि माना  $2x$  सानगुदि जायो, अब्ला आखान्थिथामनि कालिया जागोन

- (A)  $8x^2$  बर्ग सानगुदि (B)  $2x^2$  बर्ग सानगुदि  
(C)  $x^2$  बर्ग सानगुदि (D)  $4x^2$  बर्ग सानगुदि

37. If the base of a triangle is twice its altitude and the altitude is  $2x$  unit, then the area of the triangle is

- (A)  $8x^2$  sq. unit (B)  $2x^2$  sq. unit  
(C)  $x^2$  sq. unit (D)  $4x^2$  sq. unit

38. তলৰ কোনটো এটা ত্ৰিভুজৰ তিনিটা বাহুৰ জোখ হ'ব নোৱাৰে ?

- (A) 5 ছেঃমিঃ, 10 ছেঃমিঃ, 6 ছেঃমিঃ (B) 14 ছেঃমিঃ, 7 ছেঃমিঃ, 8 ছেঃমিঃ  
(C) 10 ছেঃমিঃ, 20 ছেঃমিঃ, 8 ছেঃমিঃ (D) 30 ছেঃমিঃ, 20 ছেঃমিঃ, 12 ছেঃমিঃ



38. নীচের কোন মাপটি একটি ত্রিভুজের তিনটি বাহুর মাপ হতে পারে না ?  
 (A) 5 সেঃমিঃ, 10 সেঃমিঃ, 6 সেঃমিঃ (B) 14 সেঃমিঃ, 7 সেঃমিঃ, 8 সেঃমিঃ  
 (C) 10 সেঃমিঃ, 20 সেঃমিঃ, 8 সেঃমিঃ (D) 30 সেঃমিঃ, 20 সেঃমিঃ, 12 সেঃমিঃ
38. गायनि बबे मोनसेया मोनसे आखान्थिथामनि मोनथाम आखान्थिनि जखा जानो हाया?  
 (A) 5 से० मि०, 10 से० मि०, 6 से० मि० (B) 14 से० मि०, 7 से० मि०, 8 से० मि०  
 (C) 10 से० मि०, 20 से० मि०, 8 से० मि० (D) 30 से० मि०, 20 से० मि०, 12 से० मि०
38. Which of the following **cannot** be the measures of three sides of a triangle?  
 (A) 5 cm, 10 cm, 6 cm (B) 14 cm, 7 cm, 8 cm  
 (C) 10 cm, 20 cm, 8 cm (D) 30 cm, 20 cm, 12 cm

39. “দুটা ক্রমিক অযুগ্ম সংখ্যার যোগফল 48.” এই উক্তিটো প্রকাশ করিব পৰা সমীকরণটো হ'ল  
 (A)  $(x-1)(x-2)=48$  (B)  $x(x-1)=48$   
 (C)  $x(x-2)=48$  (D)  $(x-1)(x-2)=48$
39. “দুটি ক্রমিক অযুগ্ম সংখ্যার যোগফল হল 48.” এই উক্তিটি নীচের কোন সমীকরণে প্রকাশ হচ্ছে ?  
 (A)  $(x-1)(x-2)=48$  (B)  $x(x-1)=48$   
 (C)  $x(x-2)=48$  (D)  $(x-1)(x-2)=48$
39. “मोननै फारि बेजरा अनजिमानि दाजाबथाइया 48.” बे बिबुंथिखौ फोरमायनो हानाय समान्थाइया जादों  
 (A)  $(x-1)(x-2)=48$  (B)  $x(x-1)=48$   
 (C)  $x(x-2)=48$  (D)  $(x-1)(x-2)=48$
39. “The sum of two consecutive odd numbers is 48.” This statement can be expressed in equation as  
 (A)  $(x-1)(x-2)=48$  (B)  $x(x-1)=48$   
 (C)  $x(x-2)=48$  (D)  $(x-1)(x-2)=48$

40.  $x$ -অক্ষ আৰু  $y-2=0$  রেখাডালৰ মাজৰ দূৰত্ব কিমান ?  
 (A) 2 একক (B) 3 একক  
 (C) 4 একক (D) 1 একক
40.  $x$ -অক্ষ এবং  $y-2=0$  রেখাটির মধ্যের দূরত্ব কত ?  
 (A) 2 একক (B) 3 একক  
 (C) 4 একক (D) 1 একক
40.  $x$ -बिन्धु' आरो  $y-2=0$  हांखोनि गेजेरनि जानथाइया बेसेबां?  
 (A) 2 सानगुदि (B) 3 सानगुदि  
 (C) 4 सानगुदि (D) 1 सानगुदि
40. What is the distance between the  $x$ -axis and the line  $y-2=0$ ?  
 (A) 2 units (B) 3 units  
 (C) 4 units (D) 1 unit



41. Choose the correct option to fill in the blank in the following sentence :

“Can you tell me \_\_\_\_ the truth?”

- (A) why did you not speak (B) that why did you not speak  
(C) why did not you speak (D) why you did not speak
- 

42. Choose the correct option to fill in the blank in the following sentence :

“The train \_\_\_\_ before we reached the station.”

- (A) had left (B) left  
(C) has left (D) was going to leave
- 

43. Choose the correct article to fill in the blank in the following sentence :

“He is \_\_\_\_ MA in English.”

- (A) a (B) an  
(C) the (D) No article is needed
- 

44. Choose the correct question tag to complete the following sentence :

“She is going there, \_\_\_\_”

- (A) isn't she? (B) is she?  
(C) doesn't she? (D) isn't it?
- 

45. Find the **incorrectly** spelt word.

- (A) Conductor (B) Conductance  
(C) Conduasive (D) Confusing
- 

46. Choose the correct option to fill in the blank in the following sentence :

“When I met Rajat in Mumbai, he \_\_\_\_ teaching English for four years.”

- (A) is been (B) has been  
(C) have been (D) had been
- 

47. Fill in the blank of the following sentence with correct option :

“Assam has tremendous potential \_\_\_\_ investors in service sector.”

- (A) of (B) in  
(C) at (D) for
- 



48. Choose the correct passive form of the following sentence :

“She is writing a letter.”

- (A) A letter is written by her. (B) A letter has been written by her.  
(C) A letter is being written by her. (D) A letter is writing by her.
- 

49. Choose the correct option to fill in the blank in the following sentence :

“She is \_\_\_\_\_ than any other girl in the class.”

- (A) tall (B) the tallest  
(C) more tall (D) taller
- 

50. Choose the correct indirect speech of the following :

She said, “I have finished the work.”

- (A) She said that she has finished the work.  
(B) She said that she would finish the work.  
(C) She said that she finished the work.  
(D) She said that she had finished the work.
- 

51. Choose the correct option to fill in the blank in the following sentence :

“I asked him \_\_\_\_\_ so lazy.”

- (A) that is why (B) why he was  
(C) that why he is (D) that why is he
- 

52. Choose the correct option to fill in the blank in the following sentence :

“He always claims to be \_\_\_\_\_ everyone in his company.”

- (A) superior than (B) superior to  
(C) superiority over (D) All of these
- 

53. Which of the following is **incorrect** ?

- (A) A swarm of monkeys (B) A caravan of camels  
(C) A pack of wolves (D) A colony of rats
- 





54. Which of the following words is closest in meaning to the word 'abundant'?

- (A) Scarce (B) Difficult  
(C) Barren (D) Ample
- 

55. The phrase 'stem the tide' means

- (A) save (B) stop  
(C) touch (D) spare
- 

56. The antonym of the word 'callous' is

- (A) casual (B) sensitive  
(C) soulless (D) strict
- 

57. Choose the odd word from the following.

- (A) Agitated (B) Aggressive  
(C) Rowdy (D) Submissive
- 

58. "O my Luve's like a red, red rose" is an example of a

- (A) simile (B) metaphor  
(C) metonymy (D) personification
- 

59. What is the meaning of 'cost an arm and leg'?

- (A) Very expensive (B) War damages  
(C) Total destruction (D) Medical surgery
- 

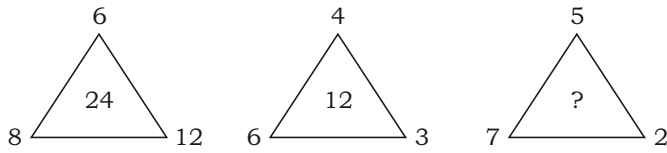
60. Choose the correct option to fill in the blank in the following sentence :

"He was so hungry that he could \_\_\_\_\_ wait to wash his hands."

- (A) rarely (B) often  
(C) seldom (D) hardly
- 

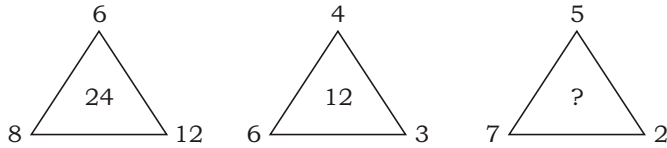


61. তলৰ চিত্ৰবোৰৰ পৰা হেৰুৱা সংখ্যাটো বাছি উলিওৱা :



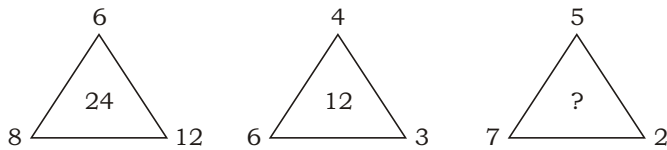
- (A) 18 (B) 46 (C) 80 (D) 70

61. প্ৰদত্ত চিত্ৰগুলি থেকে বিলুপ্ত সংখ্যাটি নির্বাচন কৰো :



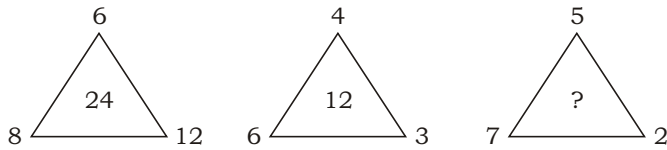
- (A) 18 (B) 46 (C) 80 (D) 70

61. হোনায় सावगारिफोरनि गेजेरनिफ्राय गोमानाय अनजिमाखौ सायख' :



- (A) 18 (B) 46 (C) 80 (D) 70

61. Select the missing number in the given diagrams :



- (A) 18 (B) 46 (C) 80 (D) 70

62. যদি 2 3 4 432, 5 6 7 765, 7 8 9 987, তেন্তে 2 5 7 ?

- (A) 572 (B) 752 (C) 725 (D) 257

62. যদি 2 3 4 432, 5 6 7 765, 7 8 9 987, তহলে 2 5 7 ?

- (A) 572 (B) 752 (C) 725 (D) 257

62. जुदि 2 3 4 432, 5 6 7 765, 7 8 9 987, अब्ला 2 5 7 ?

- (A) 572 (B) 752 (C) 725 (D) 257

62. If 2 3 4 432, 5 6 7 765, 7 8 9 987, then 2 5 7 ?

- (A) 572 (B) 752 (C) 725 (D) 257



63. খালী ঠাই পূৰ্ণ কৰা :

$$\frac{C}{6}, \frac{E}{10}, \frac{G}{14}, \frac{I}{18}, \text{ ———}$$

(A)  $\frac{P}{22}$

(B)  $\frac{K}{20}$

(C)  $\frac{K}{21}$

(D)  $\frac{K}{22}$

63. শূন্যস্থান পূৰ্ণ কৰো :

$$\frac{C}{6}, \frac{E}{10}, \frac{G}{14}, \frac{I}{18}, \text{ ———}$$

(A)  $\frac{P}{22}$

(B)  $\frac{K}{20}$

(C)  $\frac{K}{21}$

(D)  $\frac{K}{22}$

63. লাঁদাঁ জায়গা আৰুঁ খালাম :

$$\frac{C}{6}, \frac{E}{10}, \frac{G}{14}, \frac{I}{18}, \text{ ———}$$

(A)  $\frac{P}{22}$

(B)  $\frac{K}{20}$

(C)  $\frac{K}{21}$

(D)  $\frac{K}{22}$

63. Fill in the blank :

$$\frac{C}{6}, \frac{E}{10}, \frac{G}{14}, \frac{I}{18}, \text{ ———}$$

(A)  $\frac{P}{22}$

(B)  $\frac{K}{20}$

(C)  $\frac{K}{21}$

(D)  $\frac{K}{22}$

64. খালী ঠাই পূৰ্ণ কৰা :

\_\_XX\_\_YX\_\_YY\_\_XY\_\_XXY

(A) XXXYY

(B) YXYXY

(C) YYXXY

(D) YYYXX

64. শূন্যস্থান পূৰ্ণ কৰো :

\_\_XX\_\_YX\_\_YY\_\_XY\_\_XXY

(A) XXXYY

(B) YXYXY

(C) YYXXY

(D) YYYXX

64. লাঁদাঁ জায়গা আৰুঁ খালাম :

\_\_XX\_\_YX\_\_YY\_\_XY\_\_XXY

(A) XXXYY

(B) YXYXY

(C) YYXXY

(D) YYYXX

64. Fill in the blanks :

\_\_XX\_\_YX\_\_YY\_\_XY\_\_XXY

(A) XXXYY

(B) YXYXY

(C) YYXXY

(D) YYYXX



65. খালী ঠাই পূৰণ কৰা :

Doctor : Hospital :: Teacher : \_\_\_\_\_

- (A) School (B) Field (C) Industry (D) Laboratory

65. শূন্যস্থান পূৰ্ণ কৰো :

Doctor : Hospital :: Teacher : \_\_\_\_\_

- (A) School (B) Field (C) Industry (D) Laboratory

65. लांदां जायगा आबुं खालाम :

Doctor : Hospital :: Teacher : \_\_\_\_\_

- (A) School (B) Field (C) Industry (D) Laboratory

65. Fill in the blank :

Doctor : Hospital :: Teacher : \_\_\_\_\_

- (A) School (B) Field (C) Industry (D) Laboratory

---

66. যদি 5789 সংখ্যাটোৰ সংকেত GKPT হয় আৰু 2436 সংখ্যাটোৰ সংকেত ALUR হয়, তেন্তে 24539 সংখ্যাটোৰ সংকেত কি হ'ব?

- (A) ALRUT (B) ALGUT (C) ALGTU (D) ALGRT

66. যদি 5789 সংখ্যাটিৰ সংকেত GKPT হয় এবং 2436 সংখ্যাটিৰ সংকেত ALUR হয়, তহলে 24539 সংখ্যাটিৰ সংকেত কী হবে?

- (A) ALRUT (B) ALGUT (C) ALGTU (D) ALGRT

66. জুদি 5789 অনজিমায়া GKPT নি সংকেট জায়ো আরো 2436 অনজিমায়া ALUR নি সংকেট জায়ো, अब्ला 24539 अनजिमाया मानि संकेट जागोन?

- (A) ALRUT (B) ALGUT (C) ALGTU (D) ALGRT

66. If in a certain code 5789 is written as GKPT and 2436 is written as ALUR, how will 24539 be written in that code?

- (A) ALRUT (B) ALGUT (C) ALGTU (D) ALGRT

---

67. শুদ্ধ গণিতীয় চিহ্নকেইটা বাছনি কৰা, যাতে তলৰ সম্বন্ধটো শুদ্ধ হয় :

6 4 9 15

- (A) , , (B) , , (C) , , (D) , ,

67. শুদ্ধ গাণিতিক চিহ্নগুলি নির্বাচন কৰো, যাতে প্রদত্ত সম্বন্ধটি শুদ্ধ হয় :

6 4 9 15

- (A) , , (B) , , (C) , , (D) , ,



67. गेबें सानखान्थियारि दिन्थिसिनफोरखौ सायख' जाहाथे गाहायनि समानसुआ गेबें जायो :

6 4 9 15

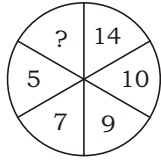
(A) , , (B) , , (C) , , (D) , ,

67. Select the correct mathematical signs to balance the given expression :

6 4 9 15

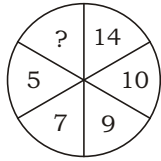
(A) , , (B) , , (C) , , (D) , ,

68. তলৰ চিত্ৰটোৰ পৰা হেৰুৱা সংখ্যাটো বাছি উলিওৱা :



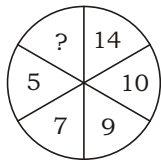
(A) 2 (B) 11 (C) 4 (D) 18

68. প্রদত্ত চিত্ৰটি থেকে বিলুপ্ত সংখ্যাটি নির্বাচন করো :



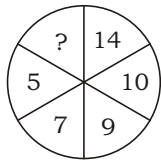
(A) 2 (B) 11 (C) 4 (D) 18

68. होनाय सावगारियाव गोमानाय अनजिमाखौ सायख' :



(A) 2 (B) 11 (C) 4 (D) 18

68. Select the missing number in the given diagram :



(A) 2 (B) 11 (C) 4 (D) 18



69. যদি POLICE ক QOMIDE হিচাবে লিখা হয়, তেন্তে DACOIT ক যি হিচাবে লিখিব লাগিব

(A) EBDPJU (B) EADTOJ

(C) EADOJT (D) EBDOJT

69. যদি POLICE-এৰ সংকেত হয় QOMIDE, তৰে DACOIT-এৰ সংকেত হ'বে

(A) EBDPJU (B) EADTOJ

(C) EADOJT (D) EBDOJT

69. যদি POLICE খঁৱি QOMIDE ক'ডজোঁ ফোৰমাটো, অল্লা DACOIT খঁৱি বৰে ক'ডজোঁ ফোৰমাটো?


(A) EBDPJU (B) EADTOJ

(C) EADOJT (D) EBDOJT

69. If POLICE is coded as QOMIDE, then DACOIT will be coded as

(A) EBDPJU (B) EADTOJ

(C) EADOJT (D) EBDOJT

70. এক স্বচ্ছ পৃষ্ঠাত অংকিত  টোক যদি বিন্দুযুক্ত বেখাৰ সাপেক্ষে ভাঁজ কৰা হয়, তেন্তে পৃষ্ঠাটো কেনেদৰে দৃশ্যমান হ'ব?

(A) 

(B) 

(C) 

(D) 

70. একটি স্বচ্ছ কাগজে অঙ্কিত  টিকে বিন্দুযুক্ত রেখাতে ভাঁজ করলে ফলস্বরূপ কী চিত্র পাওয়া যাবে ?

(A) 

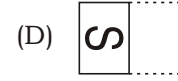
(B) 


(C) 

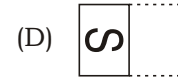
(D) 



70. गोजोन गुनगोनां बिलाइखौ बिनि फोथागोनां हांखोजो थनोब्ला, बेनि जाखानाय सावगारिआ जागोन



70. If  is drawn on a transparent sheet and folded on the dotted line, then what would be the resulting figure?



71. बम्यार स्कुल पूरा 10 बजात आरंभु ह्य आरु स्कुल छुटिब पिछत बियलि 4 बजात त्हाँ साँतोब पाठ्यक्रमत अंशग्रहण करे । एँह समयछेरात घडीब घण्टार काँटाडाले किमान डिग्री कोण अतिक्रम करे ?

(A) 60°

(B) 120°

(C) 180°

(D) 135°

71. बम्यार बिद्यालय सकाल 10 घटिकाय आरंभु ह्य एबं बिद्यालय छुटिब पर बिकाल 4 घटिकाय से साँतारेब कोर्से अंशग्रहण करे । एँह समयेर मध्ये घण्टार काँटा कत डिग्री घुरवे ?

(A) 60°

(B) 120°

(C) 180°

(D) 135°

71. रम्यानि स्कुलआ फुंनि 10 रिंगाआव जागायो आरो स्कुलनि उनाव बियो बेलासिनि 4 रिंगाआव सानसिनाय सोलोँहैयो । बे समनि गेजेराव घण्टानि आखाइआ बेसे डिग्री गिदिडो ?

(A) 60°

(B) 120°

(C) 180°

(D) 135°

71. Ramya's school starts at 10 o'clock in the morning, and after school she attends swimming course at 4 o'clock in the afternoon. By how much degree does the hour hand move during this time?

(A) 60°

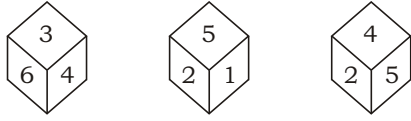
(B) 120°

(C) 180°

(D) 135°

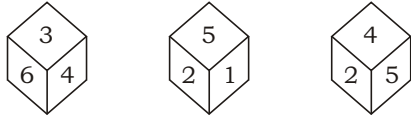


72. এটা লুডুগুটির তিনিটা বিভিন্ন দিশৰ চিত্ৰ দিয়া হৈছে। তাৰ পৰা লুডুগুটিটোৰ 4 ৰ বিপৰীত স্থানত কি সংখ্যা আছে, নিৰ্ণয় কৰা :



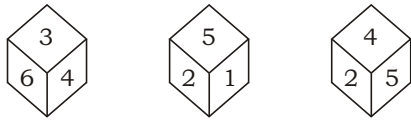
- (A) 1 (B) 3 (C) 6 (D) 5

72. একটি লুডুগুটির তিনিটা বিভিন্ন দিকের চিত্ৰ দেওয়া হয়েছে। তার থেকে লুডুগুটিটির 4-এর বিপৰীত স্থানে কী সংখ্যা আছে, নিৰ্ণয় কৰো :



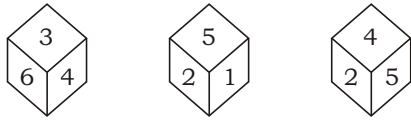
- (A) 1 (B) 3 (C) 6 (D) 5

72. मोनसे डाइसनि मोनथाम गुबुन गुबुन दिगनि सावगारि होनाय जादों। बेनिक्राय डाइसनि 4 नि उल्था फारसे मा अनजिमा दं दिहुन :



- (A) 1 (B) 3 (C) 6 (D) 5

72. Three positions of a dice are given. Find out which number is found opposite to the number 4 in the given dice :



- (A) 1 (B) 3 (C) 6 (D) 5

73. তলত দিয়া সম্পৰ্কৰ বাবে উপযুক্ত আখৰকেইটা বাছি উলিওৱা :

ABC : UVW :: DEF : \_\_\_\_\_

- (A) XYZ (B) MNP (C) POR (D) GHR

73. নিম্নোক্ত সম্পৰ্কৰ জন্য উপযুক্ত অক্ষৰগুলি নিৰ্বাচন কৰো :

ABC : UVW :: DEF : \_\_\_\_\_

- (A) XYZ (B) MNP (C) POR (D) GHR





73. गाहायाव होनाय सोमोन्दोफोरनि थाखाय आरजाथाव हांखोफोरखौ सायख'ना दिहुन :

ABC : UVW :: DEF : \_\_\_\_\_

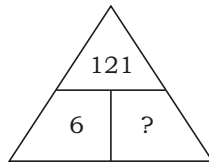
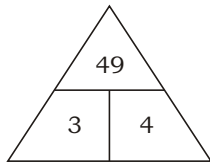
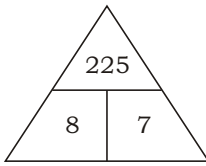
- (A) XYZ (B) MNP (C) POR (D) GHR

73. Select the related letters from the following :

ABC : UVW :: DEF : \_\_\_\_\_

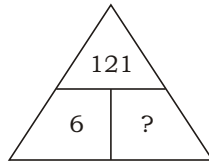
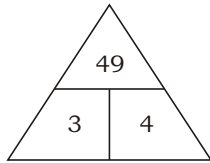
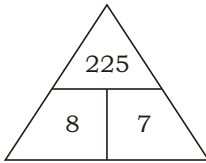
- (A) XYZ (B) MNP (C) POR (D) GHR

74. তলত দিয়া চিত্ৰবোৰৰ পৰা হেৰুৱা সংখ্যাটো বাছি উলিওৱা :



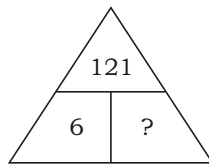
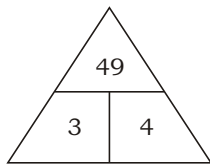
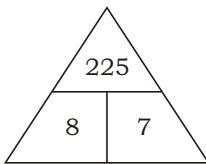
- (A) 4 (B) 21 (C) 20 (D) 5

74. প্রদত্ত চিত্রগুলি থেকে বিলুপ্ত সংখ্যাটি বেছে বের করো :



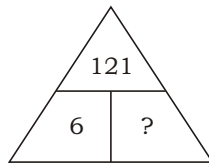
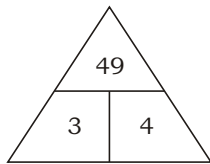
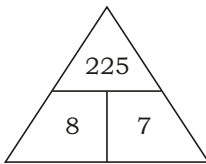
- (A) 4 (B) 21 (C) 20 (D) 5

74. होनाय सावगारिफोरनि गेजेरनिफ्राय गोमानाय अनजिमाखौ सायख' :



- (A) 4 (B) 21 (C) 20 (D) 5

74. Select the missing number in the given diagrams :



- (A) 4 (B) 21 (C) 20 (D) 5



75. তলৰ শৃংখলাটোৰ প্ৰশ্নবোধক ঠাইত উপযুক্ত সংখ্যাটো বিচাৰি উলিওৱা :

8, 24, 12, ?, 18, 54

- (A) 18 (B) 36 (C) 46 (D) 38

75. নিম্নলিখিত শৃংখলাটিতে প্ৰশ্নবোধক (?) স্থানে উপযুক্ত সংখ্যাটি খুঁজে বের কৰো :

8, 24, 12, ?, 18, 54

- (A) 18 (B) 36 (C) 46 (D) 38

75. गाहायाव होनाय फारियाव गोमानाय अनजिमाखौ सायख' :

8, 24, 12, ?, 18, 54

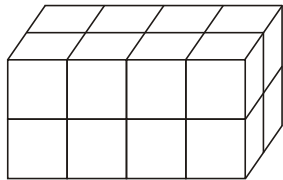
- (A) 18 (B) 36 (C) 46 (D) 38

75. In the following series, select the missing number :

8, 24, 12, ?, 18, 54

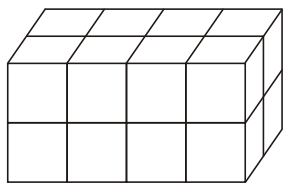
- (A) 18 (B) 36 (C) 46 (D) 38

76. কিমানটা ঘনক অদৃশ্য হৈ আছে ?



- (A) 5 (B) 4 (C) 3 (D) 2

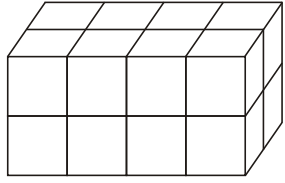
76. কতগুলি ঘনক অদৃশ্য হয়ে আছে ?



- (A) 5 (B) 4 (C) 3 (D) 2



76. मोन बेसेबां घनक नुयि जानानै दं?



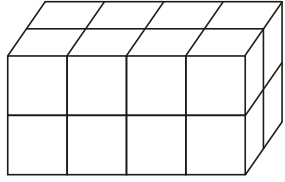
(A) 5

(B) 4

(C) 3

(D) 2

76. How many cubes are unseen?



(A) 5

(B) 4

(C) 3

(D) 2

77. তলৰ শৃংখলাটোৰ প্ৰশ্নবোধক ঠাইত উপযুক্ত সংখ্যাযোৰ বিচাৰি উলিওৱা :

99, 102; 51, 54; 27, 30; ?, ?

(A) 12, 15

(B) 15, 18

(C) 10, 13

(D) 18, 21

77. নিম্নলিখিত শৃংখলাটিৰ প্ৰশ্নবোধক স্থানে উপযুক্ত সংখ্যাজোড়া খুঁজে বের কৰো :

99, 102; 51, 54; 27, 30; ?, ?

(A) 12, 15

(B) 15, 18

(C) 10, 13

(D) 18, 21

77. गाहायाव होनाय फारियाव सोमोन्दो गोनां अनजिमा ज'राखौ सायख' :

99, 102; 51, 54; 27, 30; ?, ?

(A) 12, 15

(B) 15, 18

(C) 10, 13

(D) 18, 21

77. In the following series, select the related number pair :

99, 102; 51, 54; 27, 30; ?, ?

(A) 12, 15

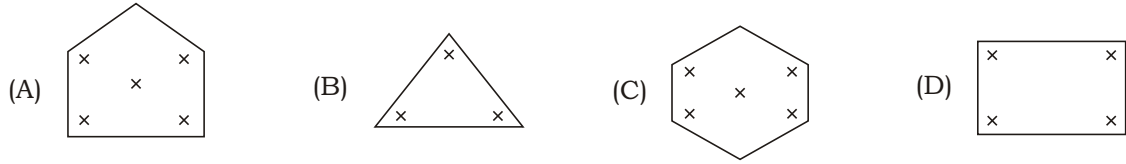
(B) 15, 18

(C) 10, 13

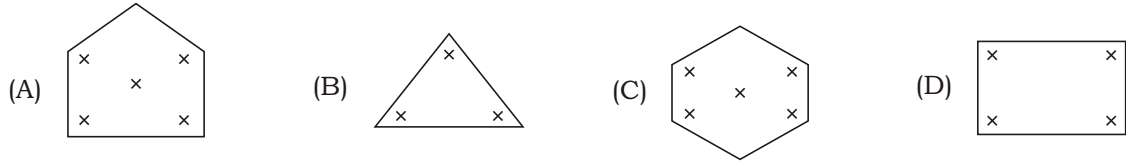
(D) 18, 21



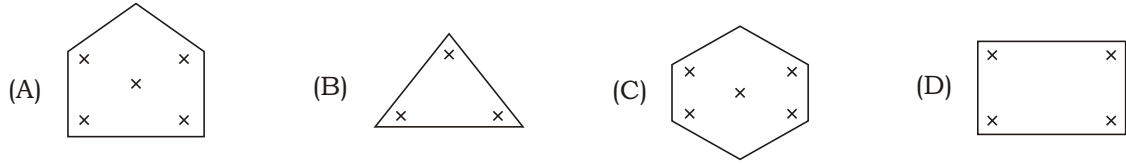
78. তলৰ চিত্ৰবোৰৰ মাজৰ অমিল চিত্ৰটো বাছি উলিওৱা।



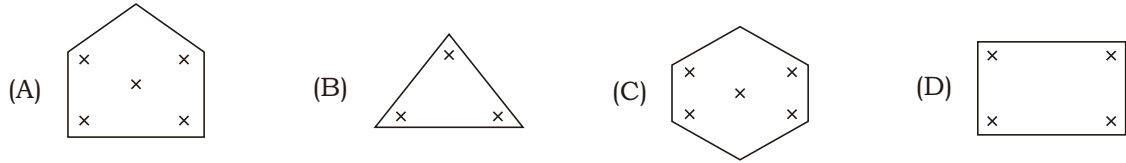
78. নীচৰ চিত্ৰগুলিৰ মध्ये বিসংগতি থাকা চিত্ৰটি বেছে নাও।



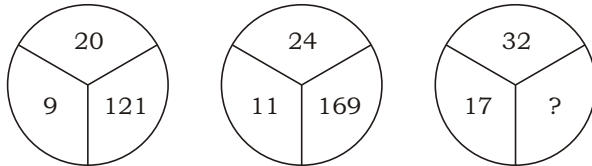
78. গাহায়নি সাবগাৰিফোরনি গেজেরনি গোৱেৰি সাবগাৰিখৌ সাযখ'না দিহুন।



78. Find the odd figure from the following.

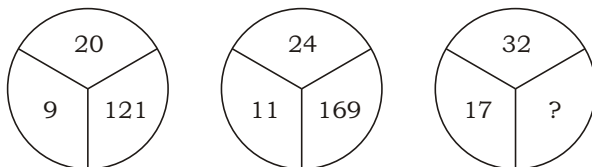


79. তলত দিয়া চিত্ৰসমূহৰ পৰা হেৰুৱা সংখ্যাটো বাছি উলিওৱা :



- (A) 125 (B) 175 (C) 225 (D) 150

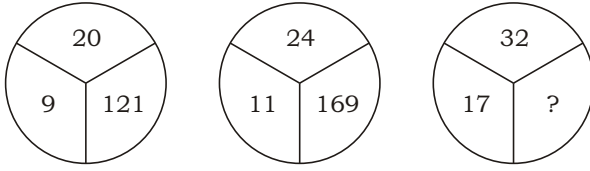
79. নিম্নোক্ত চিত্ৰগুলি থেকে বিলুপ্ত সংখ্যাটি বেছে বের করো :



- (A) 125 (B) 175 (C) 225 (D) 150

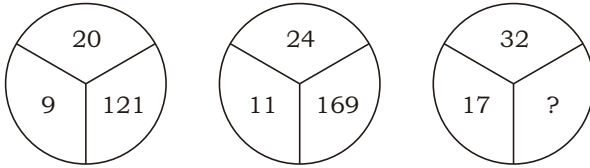


79. होनाय सावगारिफोरनि गेजेरनिफ्राय गोमानाय अनजिमाखौ सायख' :



- (A) 125 (B) 175 (C) 225 (D) 150

79. Select the missing number in the given diagrams :



- (A) 125 (B) 175 (C) 225 (D) 150

80. তলৰ চিত্ৰবোৰৰ মাজৰ অমিল চিত্ৰটো বাছি উলিওৱা :



80. নীচের চিত্রগুলির মধ্যে বিসংগতি থাকা চিত্রটি বেছে নাও :



80. गाहायनि सावगारिफोरनि गेजेरनिफ्राय गोरोबि सावगारिखौ सायख'ना दिहुन :



80. Find the odd figure from the following :



81. অসমত প্ৰধানকৈ উৎপন্ন হোৱা খাদ্যশস্যবিধ হৈছে
- (A) ধান (B) য়েঁহ  
(C) মাহ (D) মৰাপাট
81. অসমৰ প্ৰধান উৎপাদিত খাদ্যশস্য হলো
- (A) ধান (B) গম  
(C) ডাল (D) পাট
81. আসামত বাঁসিন দিহুনজানায় ফসলা জাৰ্দোঁ
- (A) মাহ (B) গিহু  
(C) সৰাহ (D) ফাথো
81. The staple food crop of Assam is
- (A) rice (B) wheat  
(C) pulses (D) jute

- 
82. 'কামাখ্যা মন্দিৰ' অৱস্থিত
- (A) নীলাচল পাহাৰত (B) চিত্ৰাচল পাহাৰত  
(C) মণিকুট পাহাৰত (D) এইবোৰৰ এটাও নহয়
82. 'কামাখ্যা মন্দিৰ' অৱস্থিত
- (A) নীলাচল পাহাৰত (B) চিত্ৰাচল পাহাৰত  
(C) মণিকুট পাহাৰত (D) এগুলিৰ একটোও নয়
82. কামাখ্যা মন্দিৰ থানায় হাজোআ জাৰ্দোঁ
- (A) নিলাসল হাজো (B) সিন্ৰাসল হাজো  
(C) মণিকুট হাজো (D) বেফোৰনি মৌনসেৰো নজা
82. The Kamakhya Temple is situated at
- (A) Nilachal Hills (B) Chittrachal Hills  
(C) Manikuta Hills (D) None of these

- 
83. আহোম ৰাজবংশৰ শেষৰগৰাকী স্বৰ্গদেউ কোন আছিল ?
- (A) জয়ধ্বজ সিংহ (B) চক্ৰধ্বজ সিংহ  
(C) পুৰন্দৰ সিংহ (D) প্ৰমত্ত সিংহ
83. আহোম ৰাজবংশৰ শেষ স্বৰ্গদেউ কে ছিলেন ?
- (A) জয়ধ্বজ সিংহ (B) চক্ৰধ্বজ সিংহ  
(C) পুৰন্দৰ সিংহ (D) প্ৰমত্ত সিংহ



83. आहम राजफोलेरनि जोबथा स्वर्गदेवा सोरमोन?

- (A) जयध्वज सिंह (B) चक्रध्वज सिंह  
(C) पुरन्दर सिंह (D) प्रमत्त सिंह

83. Who was the last Swargadeo of Ahom Dynasty?

- (A) Jayadhwaj Singha (B) Chakradhwaj Singha  
(C) Purandar Singha (D) Pramatta Singha

84. 'जय दौल' कार स्मृतिनि निर्माण कर्ता हेछिल ?

- (A) जयमती कुँवरबीर (B) फुलेश्वरी कुँवरबीर  
(C) अम्बिका कुँवरबीर (D) बाणी गौडालुब

84. 'जय दौल' कार स्मृतिने तैरि करि ह्येछिल ?

- (A) जयमती कुँवरबीर (B) फुलेश्वरी कुँवरबीर  
(C) अम्बिका कुँवरबीर (D) बाणी गौडालुब

84. 'जय दौल' खौ लुनाय जादोमोन

- (A) जयमति कुवरिनि गोसोखांथियाव (B) फुलेश्वरि कुवरिनि गोसोखांथियाव  
(C) अम्बिका कुवरिनि गोसोखांथियाव (D) रानि गौडालुनि गोसोखांथियाव

84. 'Joy Daul' was built in the memory of

- (A) Joymoti Kunwari (B) Phuleswari Kunwari  
(C) Ambika Kunwari (D) Rani Gaidinliu

85. निम्नलिखित जिलासमूह कौनखन जिला बराक उपत्यकात अवस्थित नहय ?

- (A) श्रीभूमि (B) हौलाकान्दि  
(C) काछार (D) मरिगाँव

85. निम्ने उल्लिखित जिलासमूहेर कौन जिला बराक उपत्यकात अवस्थित नय ?

- (A) श्रीभूमि (B) हौलाकान्दि  
(C) काछार (D) मरिगाँव

85. गाहायनि बबे मोनसेया बराक हायेननि जिला नडा?

- (A) श्रीभूमि (B) हाइलाकान्दि  
(C) काछार (D) मरिगाव

85. Which of the following is **not** a district of Barak Valley?

- (A) Shribhumi (B) Hailakandi  
(C) Cachar (D) Morigaon



86. নিম্নলিখিত কোনখন ৰাজ্যক স্বৰ্গদেও ৰুদ্ৰসিংহই অৱশেষত আহোম ৰাজ্যত অন্তৰ্ভুক্ত কৰিছিল ?
- (A) কমতা ৰাজ্য (B) ডিমাছা-কছাৰী ৰাজ্য  
(C) ডফলা ৰাজ্য (D) এইবোৰৰ এটাও নহয়
86. নিম্নে উল্লিখিত কোন ৰাজ্যটি শেষ পৰ্যন্ত স্বৰ্গদেও ৰুদ্ৰসিংহেৰ দ্বাৰা আহোম ৰাজ্যেৰ অন্তৰ্ভুক্ত হয়েছিল ?
- (A) কামতা ৰাজ্য (B) ডিমাছা-কাছাৰি ৰাজ্য  
(C) ডফলা ৰাজ্য (D) এগুলিৰ একটিও নয়
86. গাহায়নি ৰৰে ৰাইজোখ্রী স্বৰ্গদেও ৰুদ্ৰসিংহেৰ আহোম ৰাইজোখ্রী সৰজাৰদৌমোন?
- (A) কমতা ৰাইজো (B) ডিমাছা-কছাৰী ৰাইজো  
(C) ডফলা ৰাইজো (D) বেফোৰনি মৌনসেৰো নভা
86. Which of the following Kingdoms was finally annexed into the Ahom Kingdom by Swargadeo Rudra Singha?
- (A) Kamata Kingdom (B) Dimasa-Kachari Kingdom  
(C) Dafala Kingdom (D) None of these

- 
87. অসমৰ প্ৰথমগৰাকী মহিলা মুখ্যমন্ত্ৰী কোন আছিল ?
- (A) চৈয়দা আনোৱাৰা টাইমুৰ (B) সুচেতা কৃপালনী  
(C) নন্দিনী সতপতি (D) মেহবুবা মুফতি
87. অসমেৰ প্ৰথম মহিলা মুখ্যমন্ত্ৰী কে ছিলেন ?
- (A) সৈয়দা আনোৱাৰা টাইমুৰ (B) সুচেতা কৃপালনী  
(C) নন্দিনী সতপতি (D) মেহবুবা মুফতি
87. আসামনি গিৰিসিন আৰু গিৰি মন্ত্ৰিয়া সৌৰমোন?
- (A) সৈয়দা আনৱাৰা টাইমুৰ (B) সুচেতা কৃপালনী  
(C) নন্দিনী সতপতি (D) মেহবুবা মুফতি
87. Who was the first lady Chief Minister of Assam?
- (A) Syeda Anwara Taimur (B) Sucheta Kripalani  
(C) Nandini Satpathy (D) Mehbooba Mufti

- 
88. কাৰ ৰাজত্বকালত ইটা আৰু চুণ-চুকীৰ মিশ্ৰণ ব্যৱহাৰ কৰি 'ৰংঘৰ'ৰ পুনৰ্নিৰ্মাণ কৰা হৈছিল ?
- (A) স্বৰ্গদেও জয়ধ্বজ সিংহ (B) স্বৰ্গদেও পুৰন্দৰ সিংহ  
(C) স্বৰ্গদেও গদাধৰ সিংহ (D) স্বৰ্গদেও প্ৰমত্ত সিংহ
88. কাৰ ৰাজত্বকালে ইট এবং চুন-সুৰকিৰ মিশ্ৰণ ব্যবহার করে 'রং-ঘর' পুনৰ্নিৰ্মিত হয়েছিল ?
- (A) স্বৰ্গদেও জয়ধ্বজ সিংহ (B) স্বৰ্গদেও পুৰন্দৰ সিংহ  
(C) স্বৰ্গদেও গদাধৰ সিংহ (D) স্বৰ্গদেও প্ৰমত্ত সিংহ





88. सोरनि खुंनय समाव रंघरखौ इथा आरो मर्तारजौ लुफिन्नाय जादौमोन?
- (A) स्वर्गदिव जयध्वज सिंह (B) स्वर्गदिव पुरन्दर सिंह  
(C) स्वर्गदिव गदाधर सिंह (D) स्वर्गदिव प्रमत्त सिंह
88. During whose reign was the Rang Ghar reconstructed using bricks and mortar?
- (A) Swargadeo Jayadhwaj Singha (B) Swargadeo Purandar Singha  
(C) Swargadeo Gadadhar Singha (D) Swargadeo Pramatta Singha

- 
89. 'অসম কায়াকিং আৰু কেনইং প্ৰশিক্ষণ কেন্দ্ৰ' ক'ত অৱস্থিত ?
- (A) দীপৰ বিল, গুৱাহাটী (B) পানী দিহিং বিল, শিৱসাগৰ  
(C) মাগুৰী বিল, তিনচুকিয়া (D) চাৰণ বিল, মৰিগাঁও
89. 'আসাম কায়াকিং এবং ক্যানয়িং প্ৰশিক্ষণ কেন্দ্ৰ' কোথায় অবস্থিত ?
- (A) দীপৰ বিল, গুৱাহাটী (B) পানী দিহিং বিল, শিবসাগৰ  
(C) মাগুৰী বিল, তিনসুকিয়া (D) চাৰণ বিল, মৰিগাঁও
89. 'আসাম কয়াকিং আরु केन'यिं ट्रेइनिं चेन्टार'या बबेयाव दं?
- (A) दीपर बिल, गुवाहाटि (B) पानि दिहिं बिल, सिबसागर  
(C) मागुरि बिल, तिनसुकिया (D) चरन बिल, मरिगाव
89. Where is the 'Assam Kayaking and Canoeing Training Centre' located?
- (A) Deepor Beel, Guwahati (B) Pani Dihing Beel, Sivasagar  
(C) Maguri Beel, Tinsukia (D) Charan Beel, Morigaon

- 
90. অসমৰ 'পুলিচ প্ৰশিক্ষণ মহাবিদ্যালয়'খন ক'ত অৱস্থিত ?
- (A) নগাঁও (B) দেৰগাঁও  
(C) দুধনৈ (D) ডিগবৈ
90. অসমের 'পুলিশ প্ৰশিক্ষণ মহাবিদ্যালয়'টি কোথায় অবস্থিত ?
- (A) নগাঁও (B) দেৰগাঁও  
(C) দুধনৈ (D) ডিগবয়
90. আসামনি 'পুলिस फोरौथाइ फरायसालिमा'आ माबेयाव दं?
- (A) नगाव (B) देरगाव  
(C) दुधनै (D) डिगबै
90. Where is the 'Police Training College' in Assam located?
- (A) Nagaon (B) Dergaon  
(C) Dudhnoi (D) Digboi



91. 'গৰমপানী অভয়াৰণ্য' ক'ত অৱস্থিত ?
- (A) ডিফু, অসম (B) গেংটক, ছিকিম  
(C) জুনাগড়, গুজৰাট (D) ক'হিমা, নগালেণ্ড
91. 'গৰমপানী অভয়াৰণ্য'টি কোথায় অবস্থিত ?
- (A) ডিফু, অসম (B) গ্যাংটক, সিকিম  
(C) জুনাগড়, গুজৰাট (D) কোহিমা, নাগাল্যাণ্ড
91. 'গৰমপানী অৱনবাৰি'আ মাৰেয়াব দং?
- (A) ডিফু, আসাম (B) গঁটক, সিকিম  
(C) জুনাগড়, গুজৰাট (D) কহিমা, নাগালেণ্ড
91. Where is the 'Garampani Sanctuary' located?
- (A) Diphu, Assam (B) Gangtok, Sikkim  
(C) Junagadh, Gujarat (D) Kohima, Nagaland

92. কাৰ ৰাজত্বকালত চীনা পৰিব্ৰাজক হিউয়েন চাঙে কামৰূপ ভ্ৰমণ কৰিছিল ?
- (A) ভূতিবৰ্মন (B) হৰ্জৰবৰ্মন  
(C) ৰত্নপাল (D) ভাস্কৰবৰ্মন
92. কাৰ ৰাজত্বকালে চীনদেশীয় পৰিব্ৰাজক হিউয়েন সাঙ কামৰূপ ভ্ৰমণে এসেছিলেন ?
- (A) ভূতিবৰ্মন (B) হৰ্জৰবৰ্মন  
(C) ৰত্নপাল (D) ভাস্কৰবৰ্মন
92. সৌৱনি ৱাজ্জো খুঁনায সমাব চিনা দাবৰায়াৰি হিউয়েন সাঙা কামৰূপ দাবৰায়াৰি ফৈদোঁমোনে?
- (A) ভূতিবৰ্মন (B) হৰ্জৰবৰ্মন  
(C) ৰত্নপাল (D) ভাস্কৰবৰ্মন
92. During whose reign did the Chinese pilgrim Hiuen Tsang visit Kamarupa?
- (A) Bhutivarman (B) Harjaravarman  
(C) Ratnapala (D) Bhaskaravarman

93. Asian Development Bank-এ অসমত নৰীকৰণযোগ্য শক্তিৰ ক্ষমতা বৃদ্ধি আৰু শক্তি সুবক্ষা উন্নত কৰাৰ বাবে শেহতীয়াকৈ কিমান পৰিমাণৰ ঋণ অনুমোদন কৰিছে ?
- (A) 432.25 মিলিয়ন ডলাৰ (B) 430.25 মিলিয়ন ডলাৰ  
(C) 443.25 মিলিয়ন ডলাৰ (D) 434.25 মিলিয়ন ডলাৰ
93. এশিয়ান ডেভেলপমেণ্ট ব্যাংক সম্প্ৰতি আসাম ৰাজ্যে নৰীকৰণযোগ্য শক্তিৰ ক্ষমতা বাড়াতে এবং শক্তি নিৰাপত্তা উন্নত করতে কত পরিমাণ ঋণ অনুমোদন করেছে ?
- (A) 432.25 মিলিয়ন ডলাৰ (B) 430.25 মিলিয়ন ডলাৰ  
(C) 443.25 মিলিয়ন ডলাৰ (D) 434.25 মিলিয়ন ডলাৰ



93. আসাম হাৱৰসানি ফোদানজাথাৱ গোহোখৌ বাঁহোনো আৰো গোহো ৰৈখাথি জৌগাহোনো বাবৈসো সিগাং এচিয়ান দেভেলপমেণ্ট বেঁকা বেৰেবাং  
রাং লননি গনায়থি হোৱেঁ?  
(A) 432.25 মিসিন জসাক (B) 430.25 মিসিন জসাক  
(C) 443.25 মিসিন জসাক (D) 434.25 মিসিন জসাক
93. The Asian Development Bank recently approved what amount of loan to increase renewable energy capacity and improve energy security in the State of Assam?  
(A) \$ 432.25 million (B) \$ 430.25 million  
(C) \$ 443.25 million (D) \$ 434.25 million

- 
94. 1942 চনৰ 'ভাৰত ত্যাগ আন্দোলন'ত তলৰ কোনজনক ফাঁচি দিয়া হৈছিল ?  
(A) গোমধৰ কোঁৱৰ (B) মণিৰাম দেৱান  
(C) পিয়লী ফুকন (D) কুশল কোঁৱৰ
94. 1942-এৰ 'ভাৰত ছাড় আন্দোলন'-এ নীচের কোনজনকে ফাঁসি দেওয়া হয়েছিল ?  
(A) গোমধৰ কোঁৱৰ (B) মণিৰাম দেওয়ান  
(C) পিয়লি ফুকন (D) কুশল কোঁৱৰ
94. 1942 मायथाइनि 'भारत नागार सोमावसारनाय'आव गाहायनि सोर सासेखौ फासि होनाय जादोमोन?  
(A) गमधर काँवर (B) मणिराम देवान  
(C) पियलि फुकन (D) कुसल काँवर
94. Who among the following was hanged in the 'Quit India Movement' of 1942?  
(A) Gomdhar Konwar (B) Maniram Dewan  
(C) Piyoli Phukan (D) Kushal Konwar

- 
95. অসমৰ লগত কোন দুখন দেশৰ আন্তঃৰাষ্ট্ৰীয় সীমা আছে ?  
(A) ভূটান আৰু বাংলাদেশ (B) ভূটান আৰু মায়ানমাৰ  
(C) বাংলাদেশ আৰু মায়ানমাৰ (D) মায়ানমাৰ আৰু চীন
95. অসমের সাথে কোন্ দুটি দেশের আন্তঃরাষ্ট্ৰীয় সীমানা রয়েছে ?  
(A) ভূটান ও বাংলাদেশ (B) ভূটান ও মায়ানমাৰ  
(C) বাংলাদেশ ও মায়ানমাৰ (D) মায়ানমাৰ ও চীন
95. আসামজোঁ বৰে গনৈ হাৱৰহা হাৱৰ গেজেরাৰি সিমা দং?  
(A) भुटान आरौ बांलादेश (B) भुटान आरौ म्यानमार  
(C) बांलादेश आरौ म्यानमार (D) म्यानमार आरौ चिन
95. Assam has international boundary with which two countries?  
(A) Bhutan and Bangladesh (B) Bhutan and Myanmar  
(C) Bangladesh and Myanmar (D) Myanmar and China



96. ভাৰতৰ বৃহত্তম নদী-দ্বীপটো অৱস্থিত হৈছে
- (A) বিহাৰত (B) পশ্চিমবঙ্গত  
(C) উৰিষ্যাত (D) অসমত
96. ভাৰতবৰ্ষৰ বৃহত্তম নদী-দ্বীপটি অৱস্থিত
- (A) বিহাৰে (B) পশ্চিমবঙ্গে  
(C) উড়িষ্যায় (D) অসমে
96. ভাৰতনি দেৱসিন দৈমা দিয়া দং
- (A) বিহাৰত (B) সোনাৰ বং'বাব  
(C) উৰিষ্যাত (D) আসামত
96. The largest river island in India is situated in
- (A) Bihar (B) West Bengal  
(C) Odisha (D) Assam

97. অসমৰ একমাত্ৰ মালভূমিটো হৈছে
- (A) দাক্ষিণাত্য মালভূমি (B) কাৰ্বি মালভূমি  
(C) মেঘালয় মালভূমি (D) চোটনাগপুৰ মালভূমি
97. অসমৰ একমাত্ৰ মালভূমিটি হ'লো
- (A) দাক্ষিণাত্য মালভূমি (B) কাৰ্বি মালভূমি  
(C) মেঘালয় মালভূমি (D) ছোটনাগপুৰ মালভূমি
97. আসামনি মৌনসেল' জীয়েনা জাদৌ
- (A) খোলা জীয়েন (B) কাৰ্বি জীয়েন  
(C) মেঘালয় জীয়েন (D) সট'নাগপুৰ জীয়েন
97. The only plateau in Assam is
- (A) Deccan Plateau (B) Karbi Plateau  
(C) Meghalaya Plateau (D) Chota Nagpur Plateau

98. ছিহাবুদ্দিন তালিছৰ 'ফাথিয়া-ই-ইব্ৰিয়া' তলৰ কোনটো ঘটনা জনাৰ বাবে গুৰুত্বপূৰ্ণ উৎস ?
- (A) শৰাইঘাটৰ যুদ্ধ (B) ইয়াণ্ডাবুৰ সন্ধি  
(C) মীৰ জুমলাৰ অভিযান (D) মোৰামৰীয়া বিদ্ৰোহ
98. সিহাবুদ্দিন তালিছৰ 'ফাথিয়া-ই-ইব্ৰিয়া' নীচৰ কোন ঘটনা জনাৰ বিষয়ে এক গুৰুত্বপূৰ্ণ উৎস ?
- (A) শৰাইঘাটৰ যুদ্ধ (B) ইয়ান্দাবুৰ সন্ধি  
(C) মীৰ জুমলাৰ অভিযান (D) মোয়ামৰিয়া বিদ্ৰোহ



98. सिहाबुद्दिन तालिसनि 'फाथिया-इ-इब्रिया' आ गाहायनि बबे जाथाइखौ मिथिनायनि थाखाय गोनां फुंखा?

- (A) शरायघाटनि दावहा (B) इयान्दाबुनि गोरोबथा  
(C) मीरजुमलानि दावबायनाय (D) मवामरिया बिग्रायनायखांनाय

98. *Fathiyyah-i-Ibriyyah* of Shihab-ud-din Talish is an important source to know about

- (A) the Battle of Saraighat (B) the Treaty of Yandaboo  
(C) Mir Jumla's Expedition (D) Moamoria Rebellion

99. তলত দিয়াবোৰৰ কোনটো অসমৰ অৰ্থনীতিৰ মুখ্য স্তম্ভ ?

- (A) তেল আৰু প্ৰাকৃতিক গেছ (B) পর্যটন  
(C) নিৰ্মাণকাৰ্য (D) কৃষিকাৰ্য

99. নিম্নলিখিত কোনটি আসামেৰ অৰ্থনীতিৰ প্ৰধান স্তম্ভ ?

- (A) তেল এৰং প্ৰাকৃতিক গ্যাস (B) পর্যটন  
(C) নিৰ্মাণকাৰ্য (D) কৃষিকাজ

99. আসামনি রাংখান্থিনি গাহাই खुन्थियाया मा?

- (A) थाव आरो मिर्थागानि गेस (B) थाबायदावनाय (Tourism)  
(C) दिहुनथाइ (Manufacturing) (D) आबाद

99. Which of the following is the main pillar of Assam's economy?

- (A) Oil and Natural Gas (B) Tourism  
(C) Manufacturing (D) Agriculture

100. কোন চনত অসমৰ চতুৰ্থ তেল শোধনাগাৰ নুমলিগড়ত সূচনা কৰা হৈছিল ?

- (A) 1919 (B) 1999  
(C) 1991 (D) 1989

100. নুমলিগড়ে অসমেৰ চতুৰ্থ তৈল শোধনাগাৰটি কোন সালে চালু কৰা হয়েছিল ?

- (A) 1919 (B) 1999  
(C) 1991 (D) 1989

100. আসামনি ব্ৰৈথি थाव सोदांसालिखौ बबे मायथाइयाव नुमलिगराव गायसननाय?

- (A) 1919 (B) 1999  
(C) 1991 (D) 1989

100. In which year was the fourth oil refinery of Assam started at Numaligarh?

- (A) 1919 (B) 1999  
(C) 1991 (D) 1989



**SPACE FOR ROUGH WORK**



**SPACE FOR ROUGH WORK**



**SPACE FOR ROUGH WORK**

\*\*\*

