

Question Booklet Code

D

CWT-2025

Paper-II

Roll No.

Question Booklet No.

Time Allowed : 10:00 a.m. to 12:00 noon (2 Hours)
(½ mark for each question)

Total Marks : 50
Total Questions : 100

Before filling the OMR Answer-Sheet, the candidate must ensure that all the pages from 1-48 are printed in order in the Question Booklet and ensure that the OMR Answer-Sheet belongs to him/her only. In case of any discrepancy, immediately inform the Invigilator to replace your Question Booklet/OMR Answer-Sheet.

IMPORTANT INSTRUCTIONS

- ◆ Do not open the Question Booklet before 10:00 a.m. in the Examination Hall.
- ◆ Read the questions carefully before marking the right answer with blue/black ballpoint pen only in the appropriate circle of the OMR Answer-Sheet, as no extra OMR Answer-Sheet will be provided for any mistake or correction.
- ◆ There is no negative marking for any wrong answer.
- ◆ In cases where candidate selects more than one option of a question, the question will not be evaluated.
- ◆ In case of use of Non-Standard OMR Answer-Sheet, the candidate must properly write his/her Roll No., Question Booklet Serial No., Question Booklet Code in the space provided in the OMR Answer-Sheet by shading and by writing in alphabet and numerical on the front page as well as on the back page. Otherwise the OMR Answer-Sheet will not be evaluated.
- ◆ Candidates will have to sign twice, once in the Photo Attendance Sheet presented by the Invigilator on duty after taking their seats in the Examination Hall, and the other, at the time of handing over their OMR Answer-Sheet to the Invigilator after the completion of the Examination. Cases where a candidate has not signed while submitting the OMR Answer-Sheet, he/she shall be treated as absent.
- ◆ Candidate should clearly write his/her Roll No. in the space provided in the Question Booklet.
- ◆ The candidate should make sure that the Question Booklet No. and corresponding Question Booklet Code is properly written/shaded in the OMR Answer-Sheet by him/her. For example, in filling up the Question Booklet Code, if the candidate gets Question Booklet Code 'A', then he/she should fill up 'A' in the box provided in the OMR Answer-Sheet and also shade the circle 'A' in the OMR Answer-Sheet.
- ◆ Candidate should do all the necessary rough work on the Question Booklet in the space provided. Rough work should not be done on the OMR Answer-Sheet or on any other paper. If any rough work or overwriting is done or whitener is used on the OMR Answer-Sheet, the OMR Answer-Sheet will not be assessed.
- ◆ In case of any discrepancy or confusion in the medium/version of the questions, the English version will be treated as the authentic version.
- ◆ No candidate will be allowed to leave the Examination Centre during the examination hours.
- ◆ Any candidate found using unfair means including carrying restricted items like mobile phone, calculator or any electronic gadget or objectionable materials, etc., which are not allowed in the examination halls/rooms shall be disqualified.



OMR উত্তৰপত্ৰখন পূৰ কৰাৰ আগতে পৰীক্ষাৰ্থীয়ে নিশ্চিত হৈ ল'ব যে প্ৰশ্ন পুস্তিকাৰ **1-48** লৈ সকলো পৃষ্ঠা ক্ৰম অনুসাৰে ছপা হৈ আছে আৰু নিশ্চিত কৰিব লাগিব যে **OMR** উত্তৰপত্ৰখন কেৱল তেওঁৰ বাবে। কোনো ধৰণৰ বিসঙ্গতি থাকিলে তৎক্ষণাত্ নিৰীক্ষকক অৱগত কৰি প্ৰশ্নপত্ৰখন অথবা **OMR** উত্তৰপত্ৰখন সলনি কৰি ল'ব।

গুৰুত্বপূৰ্ণ নিৰ্দেশাৱলী

- ♦ পুৱা **10:00** বজাৰ আগতে প্ৰশ্নকাকতখন পৰীক্ষা কক্ষত নুখুলিব।
- ♦ **OMR** উত্তৰপত্ৰৰ যথাযথ বৃত্তটোত নীলা/ক'লা বলপইন্ট পেনেৰে শুদ্ধ উত্তৰটো চিহ্নিত কৰাৰ আগতে প্ৰশ্নটো সাৱধানে পঢ়ি লওক, কাৰণ ভুল হ'লে বা শুদ্ধ কৰিবলৈ কোনো অতিৰিক্ত **OMR** উত্তৰপত্ৰ দিয়া নহ'ব।
- ♦ ভুল উত্তৰৰ বাবে কোনো ঋণাত্মক নম্বৰ নাথাকিব।
- ♦ যদিহে কোনো পৰীক্ষাৰ্থীয়ে এটা প্ৰশ্নৰ উত্তৰ হিচাপে এটাতকৈ অধিক বিকল্প নিৰ্বাচন কৰে, তেনে ক্ষেত্ৰত প্ৰশ্নটোৰ মূল্যায়ন কৰা নহ'ব।
- ♦ **Non-Standard OMR** উত্তৰপত্ৰ ব্যৱহাৰৰ ক্ষেত্ৰত পৰীক্ষাৰ্থীয়ে অনিবাৰ্যভাৱে তেওঁলোকৰ বোল নম্বৰ, প্ৰশ্নকাকতৰ ক্ৰমিক নম্বৰ, প্ৰশ্নকাকতৰ ক'ডটো **OMR** উত্তৰপত্ৰৰ নিৰ্দিষ্ট ঠাইত ক'লা কৰিব লাগিব আৰু সমুখ পৃষ্ঠা আৰু পাছৰ পৃষ্ঠাত এটা বৰ্ণমালা আৰু সংখ্যাসূচক লিখি **OMR** উত্তৰপত্ৰখন সঠিকভাৱে পূৰণ কৰিব লাগিব। অন্যথা **OMR** উত্তৰপত্ৰৰ মূল্যায়ন কৰা নহ'ব।
- ♦ পৰীক্ষাৰ্থীসকলে নিৰীক্ষকে দিয়া ফটোযুক্ত উপস্থিতিপত্ৰত দুবাৰ স্বাক্ষৰ কৰিব লাগিব, প্ৰথমবাৰ তেওঁলোকে পৰীক্ষাকক্ষত আসন গ্ৰহণ কৰাৰ সময়ত আৰু দ্বিতীয়বাৰ **OMR** উত্তৰপত্ৰ নিৰীক্ষকক জমা দিয়াৰ সময়ত। কোনো পৰীক্ষাৰ্থীয়ে **OMR** উত্তৰপত্ৰ জমা দিয়াৰ সময়ত যদি দ্বিতীয়বাৰ স্বাক্ষৰ নকৰে, তেনেহ'লে তেওঁলোক অনুপস্থিত বুলি বিবেচিত হ'ব।
- ♦ পৰীক্ষাৰ্থীয়ে প্ৰশ্নকাকতখনত দিয়া নিৰ্ধাৰিত ঠাইত তেওঁলোকৰ বোল নম্বৰ স্পষ্টকৈ লিখিব লাগিব।
- ♦ পৰীক্ষাৰ্থী নিশ্চিত হোৱা উচিত যাতে প্ৰশ্নকাকতৰ নম্বৰ আৰু সংশ্লিষ্ট প্ৰশ্নকাকতৰ ক'ড নম্বৰটো **OMR** উত্তৰপত্ৰৰ নিৰ্দিষ্ট ঠাইত লিখা হয়। উদাহৰণস্বৰূপে, প্ৰশ্নকাকতৰ ক'ড পূৰণ কৰাৰ সময়ত, পৰীক্ষাৰ্থীয়ে গ্ৰহণ কৰা প্ৰশ্নকাকতৰ ক'ড '**A**' থাকিলে **OMR** উত্তৰপত্ৰৰ নিৰ্দিষ্ট ঠাইত '**A**' লিখিব লাগিব আৰু নিৰ্দিষ্ট বৃত্ত '**A**'টো ক'লা কৰিব লাগিব।
- ♦ পৰীক্ষাৰ্থীয়ে সকলো ধৰণৰ প্ৰয়োজনীয় খচৰা (rough) কাম প্ৰশ্নকাকতত দিয়া ঠাইতহে কৰিব পাৰিব। পৰীক্ষাৰ্থীয়ে খচৰা (rough) কাম **OMR** উত্তৰপত্ৰ বা অন্য কোনো ধৰণৰ কাগজত কৰিব নোৱাৰিব। **OMR** উত্তৰপত্ৰত যদি এই খচৰা (rough) কাম পৰীক্ষাৰ্থীয়ে কৰে অথবা বগা ৰং ব্যৱহাৰ কৰে, তেতিয়াহ'লে তেনে **OMR** উত্তৰপত্ৰৰ মূল্যায়ন কৰা নহ'ব।
- ♦ প্ৰশ্নৰ মাধ্যম বা সংস্কৰণত কোনো ধৰণৰ বিসঙ্গতি থাকিলে নাইবা বুজি পোৱাত অসুবিধা হ'লে ইংৰাজী সংস্কৰণটোকেই প্ৰকৃত শুদ্ধ বুলি গণ্য কৰা হ'ব।
- ♦ পৰীক্ষা চলি থকা অৱস্থাত কোনো পৰীক্ষাৰ্থীক পৰীক্ষাকেন্দ্ৰ এৰি যাবলৈ অনুমতি দিয়া নহ'ব।
- ♦ পৰীক্ষাৰ্থীসকলক পৰীক্ষাৰ হল/কক্ষত নিষিদ্ধ সামগ্ৰী যেনে মোবাইল ফোন, কেলকুলেটৰ বা কোনো ধৰণৰ বৈদ্যুতিক সামগ্ৰী বা আপত্তিজনক বস্তু পৰীক্ষাকক্ষলৈ নিয়াত অনুমতি দিয়া নহ'ব। যদি কোনো পৰীক্ষাৰ্থীয়ে অসৎ উপায় অৱলম্বন কৰে বা ওপৰত উল্লেখ কৰা পৰীক্ষাৰ নিয়মসমূহ উলংঘা কৰে, তেন্তে তেওঁক অযোগ্য বুলি বিবেচনা কৰা হ'ব।



OMR উত্তরপত্রটি পূরণ করবার পূর্বে পরীক্ষার্থীকে অবশ্যই নিশ্চিত হতে হবে যে প্রশ্নপত্রে **1-48** পর্যন্ত সমস্ত পৃষ্ঠাগুলি ক্রমানুসারে মুদ্রিত হয়েছে এবং নিশ্চিত করতে হবে যে **OMR** উত্তরপত্রটি কেবল তাঁর জন্য। কোনো প্রকার বিসঙ্গতি থাকলে অবিলম্বে নিরীক্ষককে অবগত করিয়ে প্রশ্নপত্রটি অথবা **OMR** উত্তরপত্রটি বদল করে নেবেন।

গুরুত্বপূর্ণ নির্দেশাবলী

- ◆ সকাল **10:00** ঘটিকার পূর্বে প্রশ্নপত্রটি পরীক্ষা কক্ষতে খুলবেন না।
- ◆ **OMR** উত্তরপত্রের যথাযথ বৃত্তটিতে নীল/কালো বলপয়েন্ট পেন দ্বারা শুদ্ধ উত্তরটি চিহ্নিত করবার পূর্বে প্রশ্নটি সাবধানে পড়ে নেবেন, কারণ ভুল হলে বা শুদ্ধ করবার জন্য কোনো অতিরিক্ত **OMR** উত্তরপত্র দেওয়া হবে না।
- ◆ ভুল উত্তরের জন্য কোনো ঋণাত্মক নম্বর থাকবে না।
- ◆ যদি পরীক্ষার্থী কোনো প্রশ্নের জন্য একের অধিক বিকল্প উত্তর নির্বাচন করেন, তাহলে সেই প্রশ্নটির কোনো মূল্যায়ন করা হবে না।
- ◆ **Non-Standard OMR** উত্তরপত্র ব্যবহারের ক্ষেত্রে পরীক্ষার্থীকে অবশ্যই তাঁদের রোল নম্বর, প্রশ্নপুস্তিকার ক্রমিক নম্বর, প্রশ্নপুস্তিকার কোডটি **OMR** উত্তরপত্রের নির্দিষ্ট স্থানে কালো করতে হবে এবং সামনের পৃষ্ঠা ও পেছনের পৃষ্ঠায় একটি বর্ণমালা এবং সংখ্যাসূচক লিখে **OMR** উত্তরপত্রটি সঠিকভাবে পূরণ করতে হবে। অন্যথা **OMR** উত্তরপত্রের মূল্যায়ন করা হবে না।
- ◆ পরীক্ষার্থীদিগকে নিরীক্ষকের দেওয়া ফটোযুক্ত উপস্থিতিপত্রে দুবার স্বাক্ষর করতে হবে, প্রথমবার তাঁদের পরীক্ষা কক্ষে আসন গ্রহণ করার সময়ে এবং দ্বিতীয়বার **OMR** উত্তরপত্র নিরীক্ষককে জমা দেওয়ার সময়ে। কোনো পরীক্ষার্থী **OMR** উত্তরপত্র জমা দেওয়ার সময় যদি দ্বিতীয়বার স্বাক্ষর না করেন, তাহলে তাঁকে অনুপস্থিত বলে গণ্য করা হবে।
- ◆ পরীক্ষার্থীদের প্রশ্নপত্রে দেওয়া নির্দিষ্ট স্থানে পরিষ্কারভাবে তাঁদের রোল নম্বর অবশ্যই লিখতে হবে।
- ◆ পরীক্ষার্থীর নিশ্চিত হওয়া উচিত যাতে প্রশ্নপত্রের নম্বর এবং সংশ্লিষ্ট প্রশ্নপত্রের কোড নম্বরটি **OMR** উত্তরপত্রের নির্দিষ্ট স্থানে লেখা হয়। উদাহরণস্বরূপ, প্রশ্নপত্রের কোড পূরণ করার সময়, পরীক্ষার্থীর পাওয়া প্রশ্নপত্রের কোড '**A**' থাকলে **OMR** উত্তরপত্রের নির্দিষ্ট স্থানে '**A**' লিখতে হবে এবং নির্দিষ্ট বৃত্ত '**A**'টি কালো করতে হবে।
- ◆ পরীক্ষার্থী সকল ধরনের প্রয়োজনীয় খসড়া (rough) কাজ প্রশ্নপত্রে দেওয়া স্থানে করতে পারবেন। পরীক্ষার্থী খসড়া (rough) কাজ **OMR** উত্তরপত্র বা অন্য কোনো ধরনের কাগজে করতে পারবেন না। যদি পরীক্ষার্থী এই খসড়া (rough) কাজ **OMR** উত্তরপত্রে করেন বা সাদা রঙ ব্যবহার করেন, তবে সেই **OMR** উত্তরপত্রের মূল্যায়ন করা হবে না।
- ◆ প্রশ্নের মাধ্যম বা সংস্করণে কোনো ধরনের অসঙ্গতি হলে অথবা বোঝার অসুবিধা হলে ইংরাজী সংস্করণটিকেই প্রকৃত শুদ্ধ বলে গণ্য করা হবে।
- ◆ পরীক্ষা চলাকালীন কোনো পরীক্ষার্থীকে পরীক্ষাকেন্দ্র ত্যাগ করার অনুমতি দেওয়া হবে না।
- ◆ পরীক্ষার্থীদের পরীক্ষার হল/কক্ষে কোনো নিষিদ্ধ সামগ্রী যেমন মোবাইল ফোন, ক্যালকুলেটর এবং কোনো বৈদ্যুতিক গ্যাজেট বা আপত্তিকর সামগ্রী ইত্যাদি বহন করার অনুমতি দেওয়া হবে না। পরীক্ষার্থীদের যদি কোনো অসৎ উপায় অবলম্বন করতে দেখা যায় বা তাঁরা যদি উপরে উল্লিখিত পরীক্ষার নিয়মসমূহ উল্লঙ্ঘন করেন, তবে তাঁদের অযোগ্য ঘোষণা করা হবে।



OMR फिन बिलाइखौ आबुं खालामनायनि सिगांनो बिजाथिया 1-48 सिम गसिबो बिलाइफ्रा सोंथि बिलाइयाव फारियै सेबखानाय दं आरो **OMR** फिन बिलाइया गावनि थाखायल' बे बाथ्राखौ रोखा जानांगोन। माबाफोर बेले-बेजे मोनोब्ला सोंथि बिलाइखौ एबा **OMR** फिन बिलाइखौ सोलायना होनो थाखाय नायदिंगिरिनो थाबैनो मिथिहो।

गोनां बिथोन

- ♦ फुनि 10:00 रिंगानि सिगां सोंथि बिलाइखौ आनजाद खथायाव खेवनो नडा।
- ♦ **OMR** फिन बिलाइनि होखानाय बेंखनाव निला/गोसोम बलपइन्ट कलमजों गेबें फिनखौ सिन होनायनि सिगांनो सोंथिखौ मोजाडै फरायनानै लाग्रो, मानोना नैथियाव : गोरोन्थि जायोब्ला एबा गेबें खालामफिननो थाखाय मोनबो उफेरा **OMR** फिन बिलाइ होनाय जानाय नडा।
- ♦ जायखिजाया गोरोन्थि फिननायनि दानख' नम्बर थानाय नडा।
- ♦ बिजाथिया मोनसे सोंथियाव मोनसेनिखुइ बांसिन फिनखौ सायख'योब्ला सोंथिखौ आनजाद नायनाय जानाय नडा।
- ♦ **Non-Standard OMR** फिन बिलाइ बाहायनायनि बिथिडाव बिजाथिया रोखायै गावनि रल नम्बर, सोंथि बिलाइनि फारि नं., सोंथि बिलाइनि कडखौ **OMR** फिन बिलाइनि होखानाय जायगायाव गोसोम खालामना होनांगोन आरो सिगांथिनि बिलाइयाव आरो उनर्थिजायनि बिलाइयाव मोनसे हांखो आरो बिसान (अनजिमा) लिरनानै गेबेडै आबुं खालामनो नांगोन। नडाब्ला **OMR** फिन बिलाइखौ आनजाद नायनाय जानाय नडा।
- ♦ बिजाथिफोरा खेबनै सहि होनो नांगोन, खेबसे आनजाद खथायाव हाबनानै गावबा गाव जायगायाव जखानायनि उनाव बिबानाव थानाय नायदिंगिरिया होनाय फट'गोनां नुजाथिनाय बिलाइयाव, आरो गुबुन मोनसेया, आनजाद होखानायनि उनाव नायदिंगिरिनो **OMR** फिन बिलाइखौ गथायनाय समाव। **OMR** फिन बिलाइ गथायनाय समाव बिजाथिया सहि होआखैब्ला बियो आनजादाव जवाखैमोन होनानै गनायनाय जागोन।
- ♦ सोंथि बिलाइयाव होनाय थिखानाय जायगायाव बिजाथिया रोखायै गावनि रल नम्बरखौ लिरनांगोन।
- ♦ सोंथि बिलाइनि नम्बर आरो सोंथि बिलाइनि कड नम्बरखौ **OMR** फिन बिलाइनि होखानाय जायगायाव लिरनाय/गोसोम खालामनायनि फारसे बिजाथिया रोखा जानाया गोनां। बिदिन्थि बादियै, सोंथि बिलाइनि कड आबुं खालामनाय समाव बिजाथिया मोननाय सोंथि बिलाइनि कडा 'A' जायोब्ला **OMR** फिन बिलाइनि होखानाय जायगायाव 'A' लिरनो नांगोन आरो होखानाय बेंखन 'A' खौ गोसोम खालामनो नांगोन।
- ♦ बिजाथिफोरा गसिबो रोखोमनि नांगौ जानाय खालामना नायनायनाय (rough) खामानिखौ सोंथि बिलाइनि होखानाय जायगायावसो खालामनो नांगोन। बिजाथिफोरा खालामना नायनायनाय खामानिखौ फिन बिलाइ एबा बिदि गुबुन रोखोमनि लेखा बिलाइयाव खालामनो मोननाय नडा। फिन बिलाइयाव बे खालामना नायनायनाय (rough) खामानिखौ बिजाथिया खालामोब्ला एबा लिरला लिरसि (overwriting) खालामोब्ला एबा गुफुर गाबखौ (whitener) **OMR** फिन बिलाइयाव फोनोब्ला बै **OMR** फिन बिलाइखौ नायनाय जानाय नडा।
- ♦ सोंथि बिलाइनि बिजों एबा फोसावनायाव माबाफोर गोरोन्थि थायोब्ला एबा बुजि मोननायाव जेंना जायोब्ला इंराजि रावजों फोसावनाय सोंथि बिलाइखौनो गेबें होनानै गनायना लानाय जागोन।
- ♦ आनजाद सोलिफुबाय थानाय समाव रावबो बिजाथिखौ आनजादथिलि गारना थानायनि गनायथि होनाय जानाय नडा।
- ♦ आनजादथिलि/खथायाव सोरबा बिजाथिफ्रा हेंथा गोनां मुवा जैरे मबाइल फन, केलकुलेटर एबा बिदि रोखोमनि माबाफोर इलेक्ट्रनिक मुवा बाहायोब्ला बिनि बिजाथिखौ दानना होनाय जागोन।



SPACE FOR ROUGH WORK



1. Choose the correct option to fill in the blank in the following sentence :

“She is _____ than any other girl in the class.”

- (A) tall (B) the tallest
(C) more tall (D) taller
-

2. Choose the correct indirect speech of the following :

She said, “I have finished the work.”

- (A) She said that she has finished the work.
(B) She said that she would finish the work.
(C) She said that she finished the work.
(D) She said that she had finished the work.
-

3. Choose the correct option to fill in the blank in the following sentence :

“I asked him _____ so lazy.”

- (A) that is why (B) why he was
(C) that why he is (D) that why is he
-

4. Choose the correct option to fill in the blank in the following sentence :

“He always claims to be _____ everyone in his company.”

- (A) superior than (B) superior to
(C) superiority over (D) All of these
-

5. Which of the following is **incorrect** ?

- (A) A swarm of monkeys (B) A caravan of camels
(C) A pack of wolves (D) A colony of rats
-

6. Which of the following words is closest in meaning to the word ‘abundant’ ?

- (A) Scarce (B) Difficult
(C) Barren (D) Ample
-



7. The phrase 'stem the tide' means

- (A) save (B) stop
(C) touch (D) spare
-

8. The antonym of the word 'callous' is

- (A) casual (B) sensitive
(C) soulless (D) strict
-

9. Choose the odd word from the following.

- (A) Agitated (B) Aggressive
(C) Rowdy (D) Submissive
-

10. "O my Luve's like a red, red rose" is an example of a

- (A) simile (B) metaphor
(C) metonymy (D) personification
-

11. What is the meaning of 'cost an arm and leg'?

- (A) Very expensive (B) War damages
(C) Total destruction (D) Medical surgery
-

12. Choose the correct option to fill in the blank in the following sentence :

"He was so hungry that he could ____ wait to wash his hands."

- (A) rarely (B) often
(C) seldom (D) hardly
-

13. Choose the correct option to fill in the blank in the following sentence :

"Can you tell me ____ the truth?"

- (A) why did you not speak (B) that why did you not speak
(C) why did not you speak (D) why you did not speak
-



14. Choose the correct option to fill in the blank in the following sentence :

“The train _____ before we reached the station.”

- (A) had left (B) left
(C) has left (D) was going to leave
-

15. Choose the correct article to fill in the blank in the following sentence :

“He is _____ MA in English.”

- (A) a (B) an
(C) the (D) No article is needed
-

16. Choose the correct question tag to complete the following sentence :

“She is going there, _____”

- (A) isn't she? (B) is she?
(C) doesn't she? (D) isn't it?
-

17. Find the **incorrectly** spelt word.

- (A) Conductor (B) Conductance
(C) Conduasive (D) Confusing
-

18. Choose the correct option to fill in the blank in the following sentence :

“When I met Rajat in Mumbai, he _____ teaching English for four years.”

- (A) is been (B) has been
(C) have been (D) had been
-

19. Fill in the blank of the following sentence with correct option :

“Assam has tremendous potential _____ investors in service sector.”

- (A) of (B) in
(C) at (D) for
-

20. Choose the correct passive form of the following sentence :

“She is writing a letter.”

- (A) A letter is written by her. (B) A letter has been written by her.
(C) A letter is being written by her. (D) A letter is writing by her.
-



21. যদি POLICE ক QOMIDE হিচাবে লিখা হয়, তেন্তে DACOIT ক যি হিচাবে লিখিব লাগিব

- (A) EBDPJU (B) EADTOJ
(C) EADOJT (D) EBDOJT

21. যদি POLICE-এৰ সংকেত হয় QOMIDE, তবে DACOIT-এৰ সংকেত হবে


- (A) EBDPJU (B) EADTOJ
(C) EADOJT (D) EBDOJT

21. জুদি POLICE খৌ QOMIDE ক'ডজৌ ফোৰমায়ৌ, অল্লা DACOIT খৌ বৰে ক'ডজৌ ফোৰমায়নৌ?

- (A) EBDPJU (B) EADTOJ
(C) EADOJT (D) EBDOJT



21. If POLICE is coded as QOMIDE, then DACOIT will be coded as

- (A) EBDPJU (B) EADTOJ
(C) EADOJT (D) EBDOJT

22. এক স্মৃচ্ছ পৃষ্ঠাত অংকিত  টোক যদি বিন্দুযুক্ত বেখাৰ সাপেক্ষে ভাঁজ কৰা হয়, তেন্তে পৃষ্ঠাটো কেনেদৰে দৃশ্যমান হ'ব?

- (A)  (B)  (C)  (D) 

22. একটি স্মৃচ্ছ কাগজে অঙ্কিত  টিকে বিন্দুযুক্ত রেখাতে ভাঁজ করলে ফলস্বরূপ কী চিত্র পাওয়া যাবে?

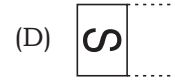
- (A)  (B)  (C)  (D) 



22. गोजोन गुनगोनां बिलाइखौ बिनि फोथागोनां हांखोजों थनोब्ला, बेनि जाखानाय सावगारिआ जागोन



22. If is drawn on a transparent sheet and folded on the dotted line, then what would be the resulting figure?



23. বম্যার স্কুল পুৱা 10 বজাত আৰম্ভ হয় আৰু স্কুল ছুটিৰ পিছত বিয়লি 4 বজাত তাই সাঁতোৰ পাঠ্যক্রমত অংশগ্রহণ কৰে। এই সময়ছোৱাত ঘড়ীৰ ঘণ্টাৰ কাঁটাডালে কিমান ডিগ্রী কোণ অতিক্রম কৰে ?

(A) 60°

(B) 120°

(C) 180°

(D) 135°

23. বম্যার বিদ্যালয় সকাল 10 ঘটিকায় আৰম্ভ হয় এবং বিদ্যালয় ছুটিৰ পর বিকাল 4 ঘটিকায় সে সাঁতারের কোর্সে অংশগ্রহণ কৰে। এই সময়ের মধ্যে ঘণ্টাৰ কাঁটা কত ডিগ্রী ঘূৰবে ?

(A) 60°

(B) 120°

(C) 180°

(D) 135°

23. रम्यानि स्कूलआ फुंनि 10 रिंगाआव जागायो आरो स्कूलनि उनाव बियो बेलासिनि 4 रिंगाआव सानसिनाय सोलोहैयो। बे समनि गेजेराव घण्टानि आखाइआ बेसे डिग्री गिदिडो?

(A) 60°

(B) 120°

(C) 180°

(D) 135°

23. Ramya's school starts at 10 o'clock in the morning, and after school she attends swimming course at 4 o'clock in the afternoon. By how much degree does the hour hand move during this time?

(A) 60°

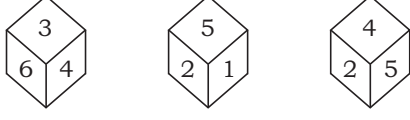
(B) 120°

(C) 180°

(D) 135°

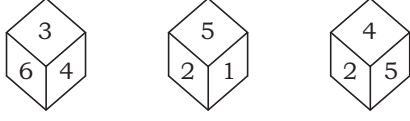


24. এটা লুডুগুটিৰ তিনিটা বিভিন্ন দিশৰ চিত্ৰ দিয়া হৈছে। তাৰ পৰা লুডুগুটিটোৰ 4 ৰ বিপৰীত স্থানত কি সংখ্যা আছে, নিৰ্ণয় কৰা :



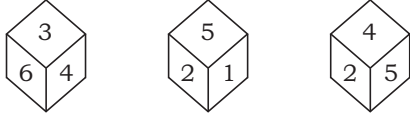
- (A) 1 (B) 3 (C) 6 (D) 5

24. একটি লুডুগুটিৰ তিনিটা বিভিন্ন দিকৰ চিত্ৰ দেওয়া হয়েছে। তাৰ থেকে লুডুগুটিটৰ 4-এৰ বিপৰীত স্থানে কী সংখ্যা আছে, নিৰ্ণয় কৰো :



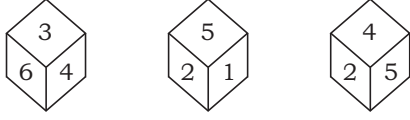
- (A) 1 (B) 3 (C) 6 (D) 5

24. मोनसे डाइसनि मोनथाम गुबुन गुबुन दिगनि सावगारि होनाय जादों। बेनिक्राय डाइसनि 4 नि उल्था फारसे मा अनजिमा दं दिहुन :



- (A) 1 (B) 3 (C) 6 (D) 5

24. Three positions of a dice are given. Find out which number is found opposite to the number 4 in the given dice :



- (A) 1 (B) 3 (C) 6 (D) 5

25. তলত দিয়া সম্পৰ্কৰ বাবে উপযুক্ত আখৰকেইটা বাছি উলিওৱা :

ABC : UVW :: DEF : _____

- (A) XYZ (B) MNP (C) POR (D) GHR

25. নিম্নোক্ত সম্পৰ্কৰ জন্য উপযুক্ত অক্ষৰগুলি নিৰ্বাচন কৰো :

ABC : UVW :: DEF : _____

- (A) XYZ (B) MNP (C) POR (D) GHR



25. गहायाव होनाय सोमोन्दोफोरनि थाखाय आरजाथाव हांखोफोरखौ सायख'ना दिह्न :

ABC : UVW :: DEF : _____

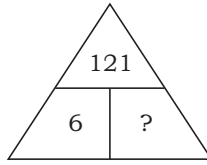
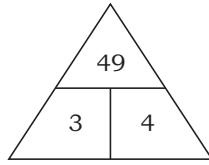
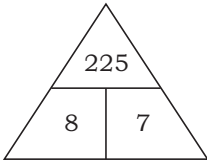
- (A) XYZ (B) MNP (C) POR (D) GHR

25. Select the related letters from the following :

ABC : UVW :: DEF : _____

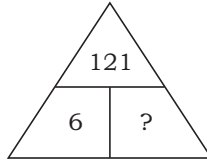
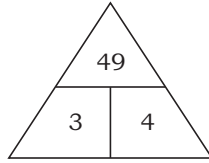
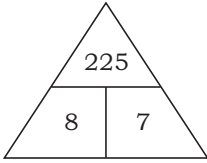
- (A) XYZ (B) MNP (C) POR (D) GHR

26. तलत दिया चिद्रबोबब पबा हेब्ररा संख्याटो बाछि उलिओरा :



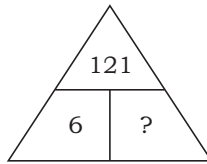
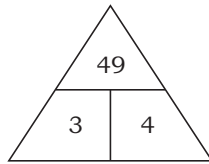
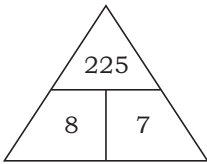
- (A) 4 (B) 21 (C) 20 (D) 5

26. प्रदत्त चिद्रगुलि थेके बिलुपु संख्याटि बेहे वेर करो :



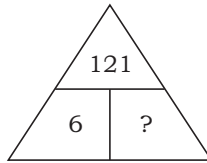
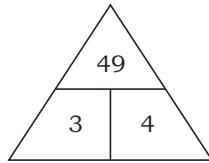
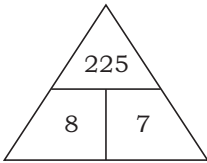
- (A) 4 (B) 21 (C) 20 (D) 5

26. होनाय सावगारिफोरनि गेजेरनिफ्राय गोमानाय अनजिमाखौ सायख' :



- (A) 4 (B) 21 (C) 20 (D) 5

26. Select the missing number in the given diagrams :



- (A) 4 (B) 21 (C) 20 (D) 5



27. তলৰ শৃংখলাটোৰ প্ৰশ্নবোধক ঠাইত উপযুক্ত সংখ্যাটো বিচাৰি উলিওৱা :

8, 24, 12, ?, 18, 54

- (A) 18 (B) 36 (C) 46 (D) 38

27. নিম্নলিখিত শৃংখলাটিতে প্ৰশ্নবোধক (?) স্থানে উপযুক্ত সংখ্যাটি খুঁজে বের কৰো :

8, 24, 12, ?, 18, 54

- (A) 18 (B) 36 (C) 46 (D) 38

27. गाहायाव होनाय फारियाव गोमानाय अनजिमाख्रौ सायख्र' :

8, 24, 12, ?, 18, 54

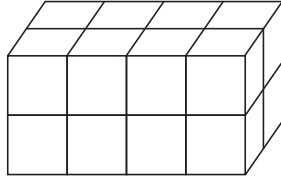
- (A) 18 (B) 36 (C) 46 (D) 38

27. In the following series, select the missing number :

8, 24, 12, ?, 18, 54

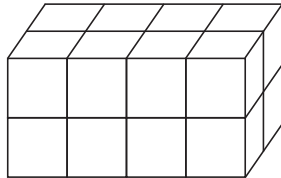
- (A) 18 (B) 36 (C) 46 (D) 38

28. কিমানটা ঘনক অদৃশ্য হৈ আছে?



- (A) 5 (B) 4 (C) 3 (D) 2

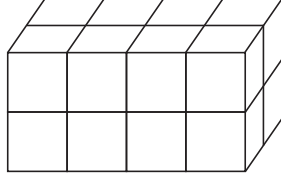
28. কতগুলি ঘনক অদৃশ্য হয়ে আছে?



- (A) 5 (B) 4 (C) 3 (D) 2

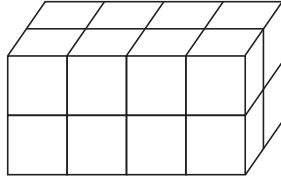


28. मोन बेसेबां घनक नुयि जानानै दं?



- (A) 5 (B) 4 (C) 3 (D) 2

28. How many cubes are unseen?



- (A) 5 (B) 4 (C) 3 (D) 2

29. তলৰ শৃংখলাটোৰ প্ৰশ্নবোধক ঠাইত উপযুক্ত সংখ্যাযোৰ বিচাৰি উলিওৱা :

99, 102; 51, 54; 27, 30; ?, ?

- (A) 12, 15 (B) 15, 18 (C) 10, 13 (D) 18, 21

29. নিম্নলিখিত শৃংখলাটিৰ প্ৰশ্নবোধক স্থানে উপযুক্ত সংখ্যাজোড়া খুঁজে বের কৰো :

99, 102; 51, 54; 27, 30; ?, ?

- (A) 12, 15 (B) 15, 18 (C) 10, 13 (D) 18, 21

29. गाहायाव होनाय फारियाव सोमोन्दो गोनां अनजिमा ज'राख्रौ सायख्र' :

99, 102; 51, 54; 27, 30; ?, ?

- (A) 12, 15 (B) 15, 18 (C) 10, 13 (D) 18, 21

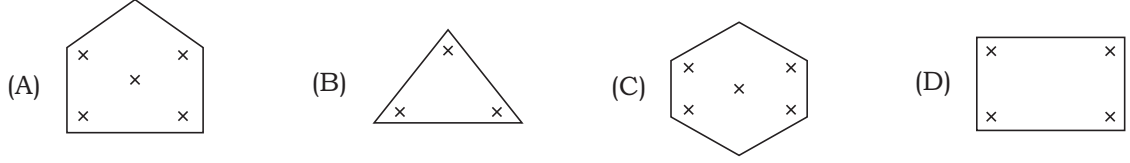
29. In the following series, select the related number pair :

99, 102; 51, 54; 27, 30; ?, ?

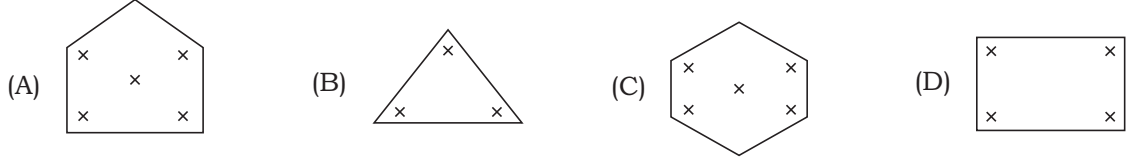
- (A) 12, 15 (B) 15, 18 (C) 10, 13 (D) 18, 21



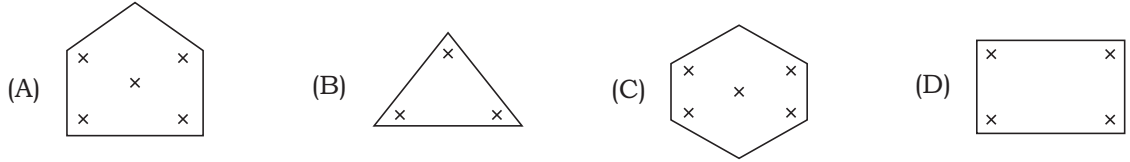
30. তলৰ চিত্ৰবোৰৰ মাজৰ অমিল চিত্ৰটো বাছি উলিওৱা।



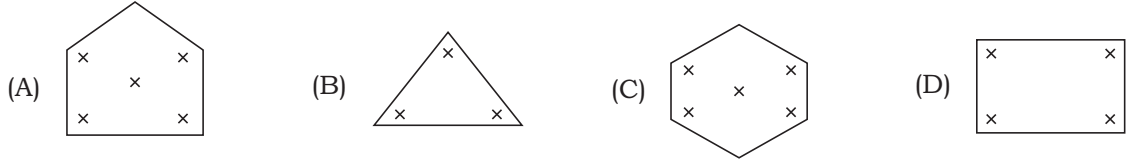
30. নীচৰ চিত্ৰগুলিৰ মध्ये বিসংগতি থাকা চিত্ৰটি বেছে নাও।



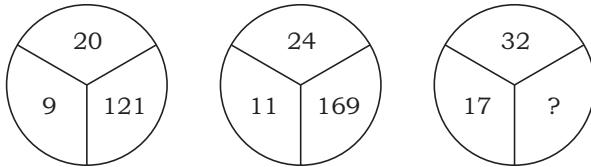
30. गाहायनि सावगारिफोरनि गेजेरनि गोरोबि सावगारिखौ सायख'ना दिहुन।



30. Find the odd figure from the following.

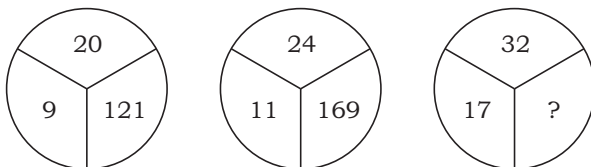


31. তলত দিয়া চিত্ৰসমূহৰ পৰা হেৰুৱা সংখ্যাটো বাছি উলিওৱা :



- (A) 125 (B) 175 (C) 225 (D) 150

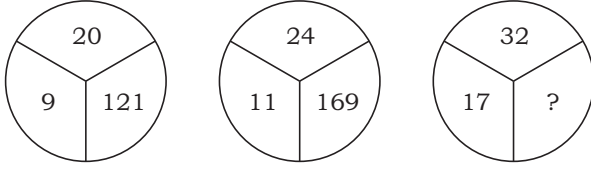
31. নিম্নোক্ত চিত্ৰগুলি থেকে বিলুপ্ত সংখ্যাটি বেছে বের কৰো :



- (A) 125 (B) 175 (C) 225 (D) 150

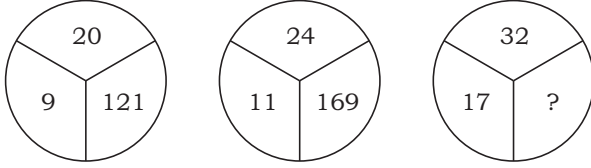


31. होनाय सावगारिफोरनि गेजेरनिफ्राय गोमानाय अनजिमाखौ सायख' :



- (A) 125 (B) 175 (C) 225 (D) 150

31. Select the missing number in the given diagrams :



- (A) 125 (B) 175 (C) 225 (D) 150

32. তলৰ চিত্ৰবোৰৰ মাজৰ অমিল চিত্ৰটো বাছি উলিওৱা :



32. নীচের চিত্রগুলির মধ্যে বিসংগতি থাকা চিত্রটি বেছে নাও :



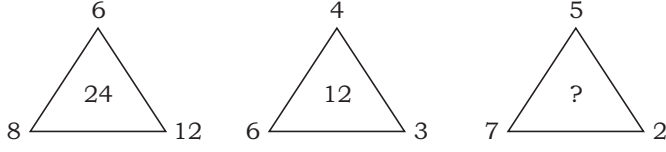
32. गाहायनि सावगारिफोरनि गेजेरनिफ्राय गोरोबि सावगारिखौ सायख'ना दिहुन :



32. Find the odd figure from the following :

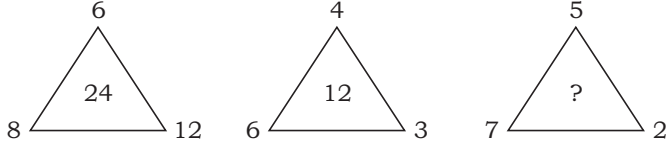


33. তলৰ চিত্ৰবোৰৰ পৰা হেৰুৱা সংখ্যাটো বাছি উলিওৱা :



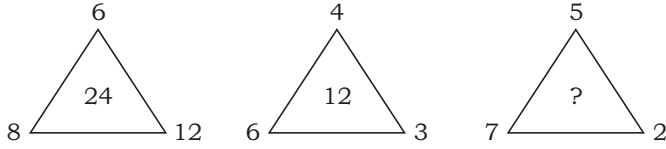
- (A) 18 (B) 46 (C) 80 (D) 70

33. প্ৰদত্ত চিত্ৰগুলি থেকে বিলুপ্ত সংখ্যাটি নির্বাচন কৰো :



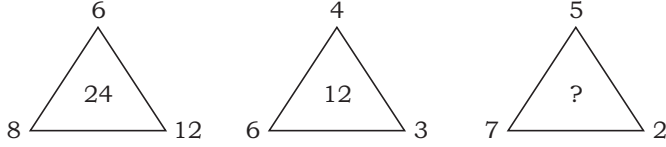
- (A) 18 (B) 46 (C) 80 (D) 70

33. होनाय सावगारिफोरनि गेजेरनिफ्राय गोमानाय अनजिमाखौ सायख' :



- (A) 18 (B) 46 (C) 80 (D) 70

33. Select the missing number in the given diagrams :



- (A) 18 (B) 46 (C) 80 (D) 70

34. যদি 2 3 4 432, 5 6 7 765, 7 8 9 987, তেন্তে 2 5 7 ?

- (A) 572 (B) 752 (C) 725 (D) 257

34. যদি 2 3 4 432, 5 6 7 765, 7 8 9 987, তাহলে 2 5 7 ?

- (A) 572 (B) 752 (C) 725 (D) 257

34. जुदि 2 3 4 432, 5 6 7 765, 7 8 9 987, अब्ला 2 5 7 ?

- (A) 572 (B) 752 (C) 725 (D) 257

34. If 2 3 4 432, 5 6 7 765, 7 8 9 987, then 2 5 7 ?

- (A) 572 (B) 752 (C) 725 (D) 257



35. খালী ঠাই পূৰ্ণ কৰা :

$$\frac{C}{6}, \frac{E}{10}, \frac{G}{14}, \frac{I}{18}, \text{ ———}$$

(A) $\frac{P}{22}$

(B) $\frac{K}{20}$

(C) $\frac{K}{21}$

(D) $\frac{K}{22}$

35. শূন্যস্থান পূৰ্ণ কৰো :

$$\frac{C}{6}, \frac{E}{10}, \frac{G}{14}, \frac{I}{18}, \text{ ———}$$

(A) $\frac{P}{22}$

(B) $\frac{K}{20}$

(C) $\frac{K}{21}$

(D) $\frac{K}{22}$

35. লাঁদাঁ জায়গা আৰুঁ খালাম :

$$\frac{C}{6}, \frac{E}{10}, \frac{G}{14}, \frac{I}{18}, \text{ ———}$$

(A) $\frac{P}{22}$

(B) $\frac{K}{20}$

(C) $\frac{K}{21}$

(D) $\frac{K}{22}$

35. Fill in the blank :

$$\frac{C}{6}, \frac{E}{10}, \frac{G}{14}, \frac{I}{18}, \text{ ———}$$

(A) $\frac{P}{22}$

(B) $\frac{K}{20}$

(C) $\frac{K}{21}$

(D) $\frac{K}{22}$

36. খালী ঠাই পূৰ্ণ কৰা :

$$\text{—XX—YX—YY—XY—XXY}$$

(A) XXXYY

(B) YXYXY

(C) YYXXY

(D) YYYXX

36. শূন্যস্থান পূৰ্ণ কৰো :

$$\text{—XX—YX—YY—XY—XXY}$$

(A) XXXYY

(B) YXYXY

(C) YYXXY

(D) YYYXX

36. লাঁদাঁ জায়গা আৰুঁ খালাম :

$$\text{—XX—YX—YY—XY—XXY}$$

(A) XXXYY

(B) YXYXY

(C) YYXXY

(D) YYYXX

36. Fill in the blanks :

$$\text{—XX—YX—YY—XY—XXY}$$

(A) XXXYY

(B) YXYXY

(C) YYXXY

(D) YYYXX



37. খালী ঠাই পূৰণ কৰা :

Doctor : Hospital :: Teacher : _____

- (A) School (B) Field (C) Industry (D) Laboratory

37. শূন্যস্থান পূৰ্ণ কৰো :

Doctor : Hospital :: Teacher : _____

- (A) School (B) Field (C) Industry (D) Laboratory

37. लांदां जायगा आबुं खालाम :

Doctor : Hospital :: Teacher : _____

- (A) School (B) Field (C) Industry (D) Laboratory

37. Fill in the blank :

Doctor : Hospital :: Teacher : _____

- (A) School (B) Field (C) Industry (D) Laboratory

38. যদি 5789 সংখ্যাটোৰ সংকেত GKPT হয় আৰু 2436 সংখ্যাটোৰ সংকেত ALUR হয়, তেন্তে 24539 সংখ্যাটোৰ সংকেত কি হ'ব ?

- (A) ALRUT (B) ALGUT (C) ALGTU (D) ALGRT

38. যদি 5789 সংখ্যাটিৰ সংকেত GKPT হয় এবং 2436 সংখ্যাটিৰ সংকেত ALUR হয়, তহলে 24539 সংখ্যাটিৰ সংকেত কী হবে ?

- (A) ALRUT (B) ALGUT (C) ALGTU (D) ALGRT

38. জুদি 5789 অনজিমায়া GKPT নি সংকেত জায়ো আরো 2436 অনজিমায়া ALUR নি সংকেত জায়ো, अब्ला 24539 अनजिमाया मानि संकेत जागोन?

- (A) ALRUT (B) ALGUT (C) ALGTU (D) ALGRT

38. If in a certain code 5789 is written as GKPT and 2436 is written as ALUR, how will 24539 be written in that code?

- (A) ALRUT (B) ALGUT (C) ALGTU (D) ALGRT

39. শুদ্ধ গণিতীয় চিহ্নকেইটা বাছনি কৰা, যাতে তলৰ সম্বন্ধটো শুদ্ধ হয় :

6 4 9 15

- (A) , , (B) , , (C) , , (D) , ,

39. শুদ্ধ গাণিতিক চিহ্নগুলি নির্বাচন কৰো, যাতে প্রদত্ত সম্বন্ধটি শুদ্ধ হয় :

6 4 9 15

- (A) , , (B) , , (C) , , (D) , ,



39. गेबें सानखान्धियारि दिन्धिसिनफोरखौ सायख' जाहाथे गाहायनि समानसुआ गेबें जायो :

6 4 9 15

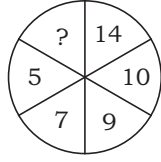
(A) , , (B) , , (C) , , (D) , ,

39. Select the correct mathematical signs to balance the given expression :

6 4 9 15

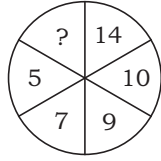
(A) , , (B) , , (C) , , (D) , ,

40. তলৰ চিত্ৰটোৰ পৰা হেৰুৱা সংখ্যাটো বাছি উলিওৱা :



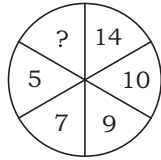
(A) 2 (B) 11 (C) 4 (D) 18

40. প্রদত্ত চিত্ৰটি থেকে বিলুপ্ত সংখ্যাটি নির্বাচন করো :



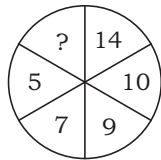
(A) 2 (B) 11 (C) 4 (D) 18

40. होनाय सावगारियाव गोमानाय अनजिमाखौ सायख' :



(A) 2 (B) 11 (C) 4 (D) 18

40. Select the missing number in the given diagram :



(A) 2 (B) 11 (C) 4 (D) 18



41. 'অসম কায়াকিং আৰু কেনইং প্ৰশিক্ষণ কেন্দ্ৰ' ক'ত অৱস্থিত ?

- (A) দীপৰ বিল, গুৱাহাটী (B) পানী দিহিং বিল, শিৱসাগৰ
(C) মাগুৰী বিল, তিনচুকিয়া (D) চাৰণ বিল, মৰিগাঁও

41. 'আসাম কায়াকিং এবং ক্যানয়িং প্ৰশিক্ষণ কেন্দ্ৰ' কোথায় অবস্থিত ?

- (A) দীপৰ বিল, গুৱাহাটী (B) পানী দিহিং বিল, শিৱসাগৰ
(C) মাগুৰী বিল, তিনচুকিয়া (D) চাৰণ বিল, মৰিগাঁও

41. 'আসাম কয়াকিং আৰু কেন'য়িং ট্ৰেইনিং চেণ্টাৰ'য়া বৰেয়াব দং?

- (A) দীপৰ বিল, গুৱাহাটী (B) পানী দিহিং বিল, শিৱসাগৰ
(C) মাগুৰী বিল, তিনচুকিয়া (D) চাৰণ বিল, মৰিগাঁও

41. Where is the 'Assam Kayaking and Canoeing Training Centre' located?

- (A) Deepor Beel, Guwahati (B) Pani Dihing Beel, Sivasagar
(C) Maguri Beel, Tinsukia (D) Charan Beel, Morigaon

42. অসমৰ 'পুলিচ প্ৰশিক্ষণ মহাবিদ্যালয়'খন ক'ত অৱস্থিত ?

- (A) নগাঁও (B) দেৰগাঁও
(C) দুধনৈ (D) ডিগবৈ

42. অসমৰ 'পুলিচ প্ৰশিক্ষণ মহাবিদ্যালয়'টি কোথায় অবস্থিত ?

- (A) নগাঁও (B) দেৰগাঁও
(C) দুধনৈ (D) ডিগবয়

42. আসামনি 'পুলিচ ফোৰোঁথাই ফাৰয়সালিমা'আ মাৰেয়াব দং?

- (A) নগাৱ (B) দেৰগাৱ
(C) বুধনৈ (D) ডিগবৈ

42. Where is the 'Police Training College' in Assam located?

- (A) Nagaon (B) Dergaon
(C) Dudhnoi (D) Digboi

43. 'গৰমপানী অভয়াৰণ্য' ক'ত অৱস্থিত ?

- (A) ডিফু, অসম (B) গেংটক, ছিকিম
(C) জুনাগড়, গুজৰাট (D) ক'হিমা, নগালেণ্ড

43. 'গৰমপানী অভয়াৰণ্য'টি কোথায় অবস্থিত ?

- (A) ডিফু, অসম (B) গ্যাংটক, সিকিম
(C) জুনাগড়, গুজৰাট (D) কোহিমা, নাগাল্যাণ্ড



43. 'गरमपानी अरनबारि'आ माबेयाव दं?

- (A) डिफु, आसाम (B) गॅटक, सिक्किम
(C) जुनागड़, गुजरात (D) कहिमा, नागालेण्ड

43. Where is the 'Garampani Sanctuary' located?

- (A) Diphu, Assam (B) Gangtok, Sikkim
(C) Junagadh, Gujarat (D) Kohima, Nagaland

44. कार बाजतुकालत चीना पबित्राजक हिउरेन चाणु कामरुप भ्रमण कबिछिल ?

- (A) भूतिबर्मन (B) हर्जरबर्मन
(C) रत्नपाल (D) भास्करबर्मन

44. कार राजतुकाले चीनदेशीय पबित्राजक हिउरेन साणु कामरुप भ्रमणे एसेछिलेन ?

- (A) भूतिबर्मन (B) हर्जरबर्मन
(C) रत्नपाल (D) भास्करबर्मन

44. सोरनि राइजो खुंनाय समाव चिना दावबायारि हिउयेन साडा कामरुप दावबायफैदोमोन?

- (A) भुतिबर्मन (B) हर्जरबर्मन
(C) रत्नपाल (D) भास्करबर्मन

44. During whose reign did the Chinese pilgrim Hiuen Tsang visit Kamarupa?

- (A) Bhutivarman (B) Harjaravarman
(C) Ratnapala (D) Bhaskaravarman

45. Asian Development Bank-ए असमत नबीकरणयोग्य शक्तिर क्षमता वृद्धि आरु शक्ति सुबन्धा उन्नत कबाब बाबे शेषतीयाकै किमान पबिमाणब षण अनुमोदन कबिछे ?

- (A) 432.25 मिलियन डलाब (B) 430.25 मिलियन डलाब
(C) 443.25 मिलियन डलाब (D) 434.25 मिलियन डलाब

45. एशियान डेभेलपमेण्ट ब्याङ्क सम्प्रति आसाम राज्ये नबीकरणयोग्य शक्तिर क्षमता वाडाते एबं शक्ति निरापन्ना उन्नत करते कत परिमाण षण अनुमोदन करेछे ?

- (A) 432.25 मिलियन डलाब (B) 430.25 मिलियन डलाब
(C) 443.25 मिलियन डलाब (D) 434.25 मिलियन डलाब

45. आसाम हादरसानि फोदानजाथाव गोहोख्रौ बांहोनो आरो गोहो रैखाथि जौगाहोनो बावैसो सिगां एसियान देभेलपमेन्ट बैका बेसेबां रां लननि गनायथि होदो?

- (A) 432.25 मिसिन जसाक (B) 430.25 मिसिन जसाक
(C) 443.25 मिसिन जसाक (D) 434.25 मिसिन जसाक

45. The Asian Development Bank recently approved what amount of loan to increase renewable energy capacity and improve energy security in the State of Assam?

- (A) \$ 432.25 million (B) \$ 430.25 million
(C) \$ 443.25 million (D) \$ 434.25 million



46. 1942 চনৰ 'ভাৰত ত্যাগ আন্দোলন'ত তলৰ কোনজনক ফাঁচি দিয়া হৈছিল ?
- (A) গোমধৰ কোঁৱৰ (B) মণিৰাম দেৱান
(C) পিয়লী ফুকন (D) কুশল কোঁৱৰ
46. 1942-এৰ 'ভাৰত ছাড় আন্দোলন'-এ নীচৰ কোনজনকে ফাঁসি দেওয়া হৈছিল ?
- (A) গোমধৰ কোঁৱৰ (B) মণিৰাম দেওয়ান
(C) পিয়লী ফুকন (D) কুশল কোঁৱৰ
46. 1942 मायथाइनि 'भारत नागार सोमावसारनाथ'आव गाहायनि सोर सासेखौ फासि होनाय जादोमोन?
- (A) गमधर काँवर (B) मणिराम देवान
(C) पियलि फुकन (D) कुसल काँवर
46. Who among the following was hanged in the 'Quit India Movement' of 1942?
- (A) Gomdhar Konwar (B) Maniram Dewan
(C) Piyoli Phukan (D) Kushal Konwar

-
47. অসমৰ লগত কোন দুখন দেশৰ আন্তঃৰাষ্ট্ৰীয় সীমা আছে ?
- (A) ভূটান আৰু বাংলাদেশ (B) ভূটান আৰু মায়ানমাৰ
(C) বাংলাদেশ আৰু মায়ানমাৰ (D) মায়ানমাৰ আৰু চীন
47. অসমৰ সৈতে কোন দুটি দেশৰ আন্তঃৰাষ্ট্ৰীয় সীমানা রয়েছে ?
- (A) ভূটান ও বাংলাদেশ (B) ভূটান ও মায়ানমাৰ
(C) বাংলাদেশ ও মায়ানমাৰ (D) মায়ানমাৰ ও চীন
47. আসামজোঁ বৰে গনৈ হাদরহা হাদর গেজেরারি সিমা দং?
- (A) भुटान आरो बांलादेश (B) भुटान आरो म्यानमार
(C) बांलादेश आरो म्यानमार (D) म्यानमार आरो चिन
47. Assam has international boundary with which two countries?
- (A) Bhutan and Bangladesh (B) Bhutan and Myanmar
(C) Bangladesh and Myanmar (D) Myanmar and China



48. ভাৰতৰ বৃহত্তম নদী-দ্বীপটো অৱস্থিত হৈছে
(A) বিহাৰত (B) পশ্চিমবঙ্গত
(C) উৰিষ্যাৰ (D) অসমত
48. ভাৰতবৰ্ষৰ বৃহত্তম নদী-দ্বীপটি অৱস্থিত
(A) বিহাৰে (B) পশ্চিমবঙ্গে
(C) উড়িষ্যায় (D) অসমে
48. ভাৰতনি দেৱসিন দৈমা দিয়া দাঁ
(A) বিহাৰাব (B) সোনাৰ বং'বাব
(C) উৰিষ্যাবাব (D) আসামাব
48. The largest river island in India is situated in
(A) Bihar (B) West Bengal
(C) Odisha (D) Assam

-
49. অসমৰ একমাত্ৰ মালভূমিটো হৈছে
(A) দক্ষিণাত্য মালভূমি (B) কাৰ্বি মালভূমি
(C) মেঘালয় মালভূমি (D) চোটনাগপুৰ মালভূমি
49. অসমৰ একমাত্ৰ মালভূমিটি হলো
(A) দক্ষিণাত্য মালভূমি (B) কাৰ্বি মালভূমি
(C) মেঘালয় মালভূমি (D) ছোটনাগপুৰ মালভূমি
49. আসামনি মৌনসেল' জীয়েনা জাদৌ
(A) খোলা জীয়েন (B) কাৰ্বি জীয়েন
(C) মেঘালয় জীয়েন (D) সট'নাগপুৰ জীয়েন
49. The only plateau in Assam is
(A) Deccan Plateau (B) Karbi Plateau
(C) Meghalaya Plateau (D) Chota Nagpur Plateau

-
50. ছিহাবুদ্দিন তালিছৰ 'ফাথিয়া-ই-ইব্ৰিয়া' তলৰ কোনটো ঘটনা জনাৰ বাবে গুৰুত্বপূৰ্ণ উৎস ?
(A) শৰাইঘাটৰ যুদ্ধ (B) ইয়াণ্ডাবুৰ সন্ধি
(C) মীৰ জুমলাৰ অভিযান (D) মোৰামৰীয়া বিদ্ৰোহ
50. সিহাবুদ্দিন তালিছৰ 'ফাথিয়া-ই-ইব্ৰিয়া' নীচৰ কোন ঘটনা জনাৰ বিষয়ে এক গুৰুত্বপূৰ্ণ উৎস ?
(A) শৰাইঘাটৰ যুদ্ধ (B) ইয়ান্দাবুৰ সন্ধি
(C) মীৰ জুমলাৰ অভিযান (D) মোয়ামৰিয়া বিদ্ৰোহ



50. सिहाबुद्दिन तालिसनि 'फाथिया-इ-इब्रिया' आ गाहायनि बबे जाथाइखौ मिथिनायनि थाखाय गोनां फुंखा?
(A) शरायघाटनि दावहा (B) इयान्दाबुनि गोरोबथा
(C) मीरजुमलानि दावबायनाय (D) मवामरिया बिग्रायनायखानाय
50. *Fathiyyah-i-Ibriyyah* of Shihab-ud-din Talish is an important source to know about
(A) the Battle of Saraighat (B) the Treaty of Yandaboo
(C) Mir Jumla's Expedition (D) Moamoria Rebellion

-
51. তলত দিয়াবোৰৰ কোনটো অসমৰ অৰ্থনীতিৰ মুখ্য স্তম্ভ ?
(A) তেল আৰু প্ৰাকৃতিক গেছ (B) পৰ্যটন
(C) নিৰ্মাণকাৰ্য (D) কৃষিকাৰ্য
51. নিম্নলিখিত কোনটি আসামেৰ অৰ্থনীতিৰ প্ৰধান স্তম্ভ ?
(A) তেল এবং প্ৰাকৃতিক গ্যাস (B) পৰ্যটন
(C) নিৰ্মাণকাৰ্য (D) কৃষিকাজ
51. আসামনি রাংখান্থিনি গাহাই খুন্খিয়ায়া মা?
(A) থাব আৰু মিৰ্খিগানি গেছ (B) থাৰায়দাবনায (Tourism)
(C) দিহুনথাই (Manufacturing) (D) আৰাদ
51. Which of the following is the main pillar of Assam's economy?
(A) Oil and Natural Gas (B) Tourism
(C) Manufacturing (D) Agriculture

-
52. কোন চনত অসমৰ চতুৰ্থ তেল শোধনাগাৰ নুমলিগড়ত সূচনা কৰা হৈছিল ?
(A) 1919 (B) 1999
(C) 1991 (D) 1989
52. নুমলিগড়ে অসমেৰ চতুৰ্থ তৈল শোধনাগাৰটি কোন সালে চালু কৰা হয়েছিল ?
(A) 1919 (B) 1999
(C) 1991 (D) 1989
52. আসামনি ব্ৰৈথি থাব সোদাংসালিখৌ ববু মাযথাইয়াব নুমলিগৰাব গায়সননায?
(A) 1919 (B) 1999
(C) 1991 (D) 1989
52. In which year was the fourth oil refinery of Assam started at Numaligarh?
(A) 1919 (B) 1999
(C) 1991 (D) 1989

-
53. অসমত প্ৰধানকৈ উৎপন্ন হোৱা খাদ্যশস্যবিধ হৈছে
(A) ধান (B) য়েঁছ
(C) মাহ (D) মৰাপাট



53. অসমৰ প্ৰধান উৎপাদিত খাদ্যশস্য হ'লো
- (A) ধান (B) গম
(C) ডাল (D) পাট
53. আসামাৰ বাঁসিন দিহুনজানাৰ ফসলা জাৰ্দো
- (A) মাছ (B) গিহু
(C) সবাই (D) ফাথো
53. The staple food crop of Assam is
- (A) rice (B) wheat
(C) pulses (D) jute

-
54. 'কামাখ্যা মন্দিৰ' অৱস্থিত
- (A) নীলাচল পাহাৰত (B) চিত্ৰাচল পাহাৰত
(C) মণিকুট পাহাৰত (D) এইবোৰৰ এটাও নহয়
54. 'কামাখ্যা মন্দিৰ' অৱস্থিত
- (A) নীলাচল পাহাড়ে (B) চিত্ৰাচল পাহাড়ে
(C) মণিকুট পাহাড়ে (D) এগুলিৰ একটিও নয়
54. কামাখ্যা মন্দিৰ থানাৰ হাজো জাৰ্দো
- (A) নিলাসল হাজো (B) সিন্ধাসল হাজো
(C) মণিকুট হাজো (D) বেফোৰনি মনসেবো নঙা
54. The Kamakhya Temple is situated at
- (A) Nilachal Hills (B) Chittrachal Hills
(C) Manikuta Hills (D) None of these

-
55. আহোম ৰাজবংশৰ শেষৰগৰাকী স্বৰ্গদেউ কোন আছিল ?
- (A) জয়ধ্বজ সিংহ (B) চক্ৰধ্বজ সিংহ
(C) পুৰন্দৰ সিংহ (D) প্ৰমত্ত সিংহ
55. আহোম ৰাজবংশৰ শেষ স্বৰ্গদেও কে ছিলেন ?
- (A) জয়ধ্বজ সিংহ (B) চক্ৰধ্বজ সিংহ
(C) পুৰন্দৰ সিংহ (D) প্ৰমত্ত সিংহ
55. আহম ৰাজফোলেৰনি জোৰথা স্বৰ্গদিবা সোৰমোন?
- (A) জয়ধ্বজ সিংহ (B) চক্ৰধ্বজ সিংহ
(C) পুৰন্দৰ সিংহ (D) প্ৰমত্ত সিংহ
55. Who was the last Swargadeo of Ahom Dynasty?
- (A) Jayadhwaj Singha (B) Chakradhwaj Singha
(C) Purandar Singha (D) Pramatta Singha



56. 'জয় দৌল' কাৰ স্মৃতিত নিৰ্মাণ কৰা হৈছিল ?

- (A) জয়মতী কুঁৱৰীৰ (B) ফুলেশ্বৰী কুঁৱৰীৰ
(C) অম্বিকা কুঁৱৰীৰ (D) বাণী গাইডালুৰ

56. 'জয় দৌল' কাৰ স্মৃতিতে তৈৰি কৰা হৈছিল ?

- (A) জয়মতী কুঁৱৰী (B) ফুলেশ্বৰী কুঁৱৰী
(C) অম্বিকা কুঁৱৰী (D) বাণী গাইডিনলিউ

56. 'জয় দৌল' খৌ লুনাথ জাৰ্দোমো

- (A) জয়মতি কুৱৰিনি গোসোখাংথিয়াব (B) ফুলেশ্বৰি কুৱৰিনি গোসোখাংথিয়াব
(C) অম্বিকা কুৱৰিনি গোসোখাংথিয়াব (D) ৱানি গাইডালুনি গোসোখাংথিয়াব

56. 'Joy Daul' was built in the memory of

- (A) Joymoti Kunwari (B) Phuleswari Kunwari
(C) Ambika Kunwari (D) Rani Gaidinliu

57. নিম্নলিখিত জিলাসমূহৰ কোনখন জিলা বৰাক উপত্যকাত অৱস্থিত নহয় ?

- (A) শ্ৰীভূমি (B) হাইলাকান্দি
(C) কাছাৰ (D) মৰিগাঁও

57. নিম্নে উল্লিখিত জিলাসমূহৰ কোন জিলাটি বৰাক উপত্যকাত অৱস্থিত নহয় ?

- (A) শ্ৰীভূমি (B) হাইলাকান্দি
(C) কাছাৰ (D) মৰিগাঁও

57. গাহায়নি বৰে মৌনসেয়া বৰাক হায়নি জিলা নহয় ?

- (A) শ্ৰীভূমি (B) হাইলাকান্দি
(C) কাছাৰ (D) মৰিগাঁও

57. Which of the following is **not** a district of Barak Valley?

- (A) Shribhumi (B) Hailakandi
(C) Cachar (D) Morigaon

58. নিম্নলিখিত কোনখন ৰাজ্যক স্বৰ্গদেও ৰুদ্ৰসিংহই অৱশেষত আহোম ৰাজ্যত অন্তৰ্ভুক্ত কৰিছিল ?

- (A) কমতা ৰাজ্য (B) ডিমাছা-কাছাৰী ৰাজ্য
(C) ডফলা ৰাজ্য (D) এইবোৰৰ এটাও নহয়

58. নিম্নে উল্লিখিত কোন ৰাজ্যটি শেষ পৰ্যন্ত স্বৰ্গদেও ৰুদ্ৰসিংহৰ দ্বাৰা আহোম ৰাজ্যত অন্তৰ্ভুক্ত হৈছিল ?

- (A) কমতা ৰাজ্য (B) ডিমাছা-কাছাৰী ৰাজ্য
(C) ডফলা ৰাজ্য (D) এগুলিৰ একটোও নহয়



58. गाहायनि बबे राइजोखौ स्वर्गदेव रुद्रसिंहवा आहम राइजोर्जो सरजाबदोमोन?
- (A) कमता राइजो (B) दिमासा-कछारी राइजो
(C) डफला राइजो (D) बेफोरनि मोनसेबो नडा
58. Which of the following Kingdoms was finally annexed into the Ahom Kingdom by Swargadeo Rudra Singha?
- (A) Kamata Kingdom (B) Dimasa-Kachari Kingdom
(C) Dafala Kingdom (D) None of these
-
59. असमर प्रथमगवर्की महिला मुख्यामन्त्री कोन आछिल ?
- (A) चैयदा आनोवारा टाईमुर (B) सुचेता कृपालनी
(C) नन्दिनी सतपति (D) मेहबुवा मुफति
59. असमर प्रथम महिला मुख्यामन्त्री के छिलेन ?
- (A) सैयदा आनोवारा तैमुर (B) सुचेता कृपालनी
(C) नन्दिनी सतपति (D) मेहबुवा मुफति
59. आसामनि गिबिसिन आइजो गिबि मन्त्रिया सोरमोन?
- (A) सैयदा आनवारा टाइमुर (B) सुचेता कृपालनि
(C) नन्दिनी सतपति (D) मेहबुवा मुफती
59. Who was the first lady Chief Minister of Assam?
- (A) Syeda Anwara Taimur (B) Sucheta Kripalani
(C) Nandini Satpathy (D) Mehbooba Mufti
-
60. कार राजतुकालत ईटा आरू चूण-चूकीर मिश्रण वारहार करि 'बंगघर'र पुनर्निर्माण कवा हैछिल ?
- (A) स्वर्गदेओ जयध्वज सिंह (B) स्वर्गदेओ पुरन्दर सिंह
(C) स्वर्गदेओ गदाधर सिंह (D) स्वर्गदेओ प्रमत्त सिंह
60. कार राजतुकाले ईट एवंग चून-सुरकिर मिश्रण व्यवहार करे 'रंग-घर' पुनर्निर्मित ह्येछिल ?
- (A) स्वर्गदेओ जयध्वज सिंह (B) स्वर्गदेओ पुरन्दर सिंह
(C) स्वर्गदेओ गदाधर सिंह (D) स्वर्गदेओ प्रमत्त सिंह
60. सोरनि खुंनाय समाव रंगरखौ इथा आरो मर्तारजो लुफिन्नाय जादोमोन?
- (A) स्वर्गदेव जयध्वज सिंह (B) स्वर्गदेव पुरन्दर सिंह
(C) स्वर्गदेव गदाधर सिंह (D) स्वर्गदेव प्रमत्त सिंह
60. During whose reign was the Rang Ghar reconstructed using bricks and mortar?
- (A) Swargadeo Jayadhwaj Singha (B) Swargadeo Purandar Singha
(C) Swargadeo Gadadhar Singha (D) Swargadeo Pramatta Singha



61. নিম্নলিখিতসমূহৰ কোনটো এটা নিষ্ক্রিয় গেছ নহয় ?
(A) আৰ্গন (B) হিলিয়াম
(C) নিয়ন (D) নাইট্ৰ'জেন
61. নিম্নে উল্লিখিত কোনটি নিষ্ক্রিয় গ্যাস নয় ?
(A) আৰ্গন (B) হিলিয়াম
(C) নিয়ন (D) নাইট্ৰোজেন
61. गाहायनि बबे मोनसेया अरजाबरोडि गेस (inert gas) नडा?
(A) आर्गन (B) हिलियाम
(C) नियन (D) नाइट्र'जेन
61. Which of the following is **not** an inert gas?
(A) Argon (B) Helium
(C) Neon (D) Nitrogen

-
62. 1894 চনত অসমৰ কৃষক বিদ্রোহ কোন ঠাইত সংঘটিত হৈছিল ?
(A) গহপুৰ (B) ইয়াণ্ডাবু
(C) পথৰুঘাট (D) ঢেকিয়াজুলি
62. 1894 সালে আসামের কৃষক বিদ্রোহ কোন্ স্থানে সংঘটিত হয়েছিল ?
(A) গহপুৰ (B) ইয়ান্দাবু
(C) পাথৰুঘাট (D) ঢেকিয়াজুলি
62. 1894 मायथाइनि आसामनि आबादारि जांखिखानाया बहा जादोमोन?
(A) गहपुर (B) इयान्दाबु
(C) पाथरुघाट (D) ढेकियाजुलि
62. The Peasant Uprising of Assam in 1894 took place at
(A) Gohpur (B) Yandaboo
(C) Patharughat (D) Dhekiajuli

-
63. পুৰুষৰ আই. চি. চি. T20 বিশ্বকাপ, 2024ত কোনে শ্ৰেষ্ঠ খেলুৱৈৰ পুৰস্কাৰ লাভ কৰিছিল ?
(A) সূৰ্যকুমাৰ যাদৱ (B) ট্ৰেভিচ হে'দ
(C) জসপ্ৰিত বুমৰাহ (D) ইয়াৰ এজনও নহয়
63. পুৰুষদেৱ আই. সি. সি. T20 বিশ্বকাপ, 2024-এ কে সৰ্বশ্ৰেষ্ঠ খেলোয়াড়ৰ পুৰস্কাৰ জিতেছিল ?
(A) সূৰ্যকুমাৰ যাদৱ (B) ট্ৰ্যাভিস হেড
(C) জসপ্ৰিত বুমৰা (D) এঁদেৰ কেউই নন
63. हौबाफोरनि ICC T20 World Cup, 2024 आव सोर साबसिन गेलेगिरिनि बान्थाखौ मोनदोमोन?
(A) सूर्यकुमार यादव (B) ट्रेभिस हेड
(C) जसप्रिट बुमराह (D) बिसोरनि सासेबो नडा



63. Who won the best player award in the ICC Men's T20 World Cup, 2024?
(A) Suryakumar Yadav (B) Travis Head
(C) Jasprit Bumrah (D) None of them
-

64. 2034 চনৰ ফিফা বিশ্বকাপ ক'ত অনুষ্ঠিত হ'ব ?

- (A) স্পেইন (B) চৌদি আৰব
(C) কানাডা (D) এইবোৰৰ কোনোটোৱেই নহয়

64. 2034 সালের ফিফা বিশ্বকাপ কোথায় অনুষ্ঠিত হবে ?

- (A) স্পেন (B) সৌদি আৰব
(C) কানাডা (D) এগুলিৰ কোনোটিই নয়

64. 2034 ni FIFA vlt'rd kapa b'be'ya'v ja'gaon?

- (A) স্পেইন (B) সৌদি আৰব
(C) কানাডা (D) বেফোৰনি মোনসেবো নহয়

64. Where will the 2034 FIFA World Cup be held?

- (A) Spain (B) Saudi Arabia
(C) Canada (D) None of these
-

65. কোন দেশে 'ষ্টেণ্ডাৰ্ড মিছাইল-6' (এছ. এম.-6) উদ্ভাৱন কৰিছিল ?

- (A) আমেৰিকা (B) জাপান
(C) ভাৰত (D) চীন

65. স্ট্যান্ডাৰ্ড মিসাইল-6 (এস. এম.-6) কোন্ দেশ উদ্ভাবন কৰেছিল ?

- (A) আমেৰিকা (B) জাপান
(C) ভাৰত (D) চীন

65. Standard Missile-6 (SM-6) খ্রী বৰে হাদরা দিহুনদোঁমোন?

- (A) আমেৰিকা (B) জাপান
(C) ভাৰত (D) চীন

65. Standard Missile-6 (SM-6) was developed by which country?

- (A) USA (B) Japan
(C) India (D) China
-

66. পি. এম.-সুবজ পৰ্টেল কোন মন্ত্ৰালয়ৰ দ্বাৰা ৰূপায়ণ কৰা হৈছে ?

- (A) গ্ৰাম্য বিকাশ মন্ত্ৰালয়
(B) নতুন আৰু নৱীকৰণীয় শক্তি মন্ত্ৰালয়
(C) সামাজিক ন্যায় আৰু সবলীকৰণ মন্ত্ৰালয়
(D) গৃহ নিৰ্মাণ আৰু নগৰ প্ৰাধিকৰণ মন্ত্ৰালয়



66. প্রধানমন্ত্রী-সুরজ পোর্টাল (PM-SURAJ Portal) কোন্ মন্ত্রালয়ের দ্বারা পরিচালনা করা হয় ?

- (A) গ্রাম্য বিকাশ মন্ত্রালয়
- (B) নতুন এবং নবীকরণযোগ্য শক্তি মন্ত্রালয়
- (C) সামাজিক ন্যায় এবং সবলীকরণ মন্ত্রালয়
- (D) গৃহ নির্মাণ এবং নগর প্রাধিকরণ মন্ত্রালয়

66. PM-SURAJ Portal আ বৰে Ministry জঁ বাহায়জাৰ্দঁ?

- (A) Ministry of Rural Development
- (B) Ministry of New and Renewable Energy
- (C) Ministry of Social Justice and Empowerment
- (D) Ministry of Housing and Urban Affairs

66. PM-SURAJ Portal is implemented by which Ministry?

- (A) The Ministry of Rural Development
- (B) The Ministry of New and Renewable Energy
- (C) The Ministry of Social Justice and Empowerment
- (D) The Ministry of Housing and Urban Affairs

67. 2024 চনৰ আই. পি. এল. প্রতিযোগিতাত কোনে 'অৰেঞ্জ কেপ' লাভ কৰিছিল ?

- (A) অভিষেক শর্মা
- (B) বিৰাট কোহলি
- (C) রিংকু সিং
- (D) ইয়াৰ এজনো নহয়

67. 2024 সালের আই. পি. এল. প্রতিযোগিতায় কে 'অরেঞ্জ ক্যাপ' লাভ করেছিল ?

- (A) অভিষেক শর্মা
- (B) বিৰাট কোহলি
- (C) রিংকু সিং
- (D) এঁদের কেউই নন

67. সৌর গেলেগিরিয়া IPL, 2024 নি 'Orange Cap' খঁই দেহাৰ্দঁমৌন?

- (A) অভিষেক শর্মা
- (B) বিৰাট কোহলি
- (C) রিংকু সিং
- (D) বিসৌরনি সাসেবৌ নডা

67. Which player won the Orange Cap in IPL, 2024?

- (A) Abhishek Sharma
- (B) Virat Kohli
- (C) Rinku Singh
- (D) None of them



68. 2025-2026ত কোন খণ্ডই আটাইতকৈ বেছি বাজেটৰ অংশ লাভ কৰিছে ?
- (A) শিক্ষা (B) গ্রাম্য বিকাশ
(C) ভাৰতীয় ৰেল (D) প্ৰতিৰক্ষা
68. কোন খাতে 2025-2026 সালৰ সাধাৰণ বাজেটে সবথেকে বেশি অংশ ধাৰ্য কৰা হয়েছে ?
- (A) শিক্ষা (B) গ্রাম্য বিকাশ
(C) ভাৰতীয় ৰেল (D) প্ৰতিৰক্ষা
68. বৰে খ্বোন্দোআ (Sector) 2025-2026 নি বাজেটৰ বয়নিব্বুই বাঁসিন বাহাগো মোন্দোঁ?
- (A) সোলোঁথাই (B) গামি জৌগাখানায
(C) ভাৰতীয় ৰেল (D) ইয়াথি
68. Which sector has received the highest allocation in the Budget for 2025-2026?
- (A) Education (B) Rural Development
(C) Indian Railways (D) Defence

-
69. ভাৰতৰ বৰ্তমান বৈদেশিক পৰিক্ৰমা মন্ত্ৰী কোন ?
- (A) কিৰেণ ৰিজিজু (B) ভূপেন্দৰ যাদব
(C) জগত প্ৰকাশ নাড্ডা (D) ড० এচ. জয়শংকৰ
69. ভাৰতৰ বৰ্তমান পৰরাষ্ট্ৰ-বিষয়ক মন্ত্ৰী কে ?
- (A) কিৰেণ ৰিজিজু (B) ভূপেন্দৰ যাদব
(C) জগত প্ৰকাশ নাড্ডা (D) ড. এস. জয়শঙ্কৰ
69. ভাৰতনি দানি External Affairs Minister আ সৌৰ?
- (A) কিৰেণ ৰিজিজু (B) ভূপেন্দৰ যাদব
(C) জগত প্ৰকাশ নাড্ডা (D) ড० এচ. জয়শংকৰ
69. Who is the current External Affairs Minister of India?
- (A) Kiren Rijiju (B) Bhupender Yadav
(C) Jagat Prakash Nadda (D) Dr. S. Jaishankar

-
70. Z-Morh সুৰঙ্গ (সোনামাৰ্গ সুৰঙ্গ)ৰ বিষয়ত তলৰ উক্তিৰোৰ বিবেচনা কৰা :
- ই জোজিলা সুৰঙ্গ প্ৰকল্পৰ এটা অংশ।
 - 6.5 km দীঘল সুৰঙ্গটো জম্মু-কাশ্মীৰৰ গগনগিৰ আৰু সোনামাৰ্গ অঞ্চলক সংযুক্ত কৰিছে।
 - প্ৰকল্পটো National Highway Authority of India-ৰ তত্ত্বাৱধানত আছে।
- তলৰ কোনটো/কোনবোৰ উক্তি সঠিক ?
- (A) কেৱলমাত্ৰ 1 আৰু 2 (B) কেৱলমাত্ৰ 1
(C) কেৱলমাত্ৰ 2 আৰু 3 (D) কেৱলমাত্ৰ 2



70. Z-Morh সুড়ঙ্গ (সোনামার্গ সুড়ঙ্গ)-এর বিষয়ে নীচের উক্তিগুলি বিবেচনা করো :

1. এটি জোজিলা সুড়ঙ্গ প্রকল্পের একটি অংশ।
2. 6.5 km দীর্ঘ সুড়ঙ্গটি জম্মু এবং কাশ্মীরের গগনগির এবং সোনামার্গ অঞ্চলকে সংযুক্ত করেছে।
3. প্রকল্পটি National Highway Authority of India-র তত্ত্বাবধানের অন্তর্গত।

নীচের কোন্ উক্তিটি/উক্তিগুলি সঠিক ?

- (A) কেবলমাত্র 1 এবং 2 (B) কেবলমাত্র 1
(C) কেবলমাত্র 2 এবং 3 (D) কেবলমাত্র 2

70. Z-Morh টানেল (স'নামার্গ টানেল)খ্রী লানানৈ বুঁনায় গাহায়নি বিবুঁথিখ্রী নোজোর হো :

1. বেয়ো জজিলা টানেল প্রজেক্টনি মোনসে বাহাগো।
2. 6.5 কি० মি० গোলাব বে টানেলা জম্মু আরো কাশ্মিরাব গাগাংগির আরো স'নামার্গ আনসোলখ্রী ফোনাঁজাবো।
3. ববে প্রজেক্টখ্রী সামলায়দোঁ নেশানেল হাইবে অথরিটি অফ ইন্দিয়ায়া।

গোজৌবাব হোনায় ববে বিবুঁথি/বিবুঁথিফোরা গেবেঁ?

- (A) 1 আরো 2 আল' (B) 1 আল'
(C) 2 আরো 3 আল' (D) 2 আল'

70. Consider the following statements regarding the Z-Morh Tunnel (Sonamarg Tunnel) :

1. It is a part of Zojila Tunnel Project.
2. The 6.5 km long tunnel connects Gagangir and Sonamarg region in Jammu and Kashmir.
3. The project comes under the supervision of the National Highways Authority of India.

Which of the statements given above is/are correct?

- (A) 1 and 2 only (B) 1 only
(C) 2 and 3 only (D) 2 only

71. ভারতের প্রথম এ. আই. (AI) নগর কোনখন ?

- (A) কলকাতা (B) লক্ষ্ণৌ
(C) দিল্লী (D) বেঙ্গালুরু

71. ভারতের প্রথম এ. আই. (AI) নগর কোনটি ?

- (A) কলকাতা (B) লক্ষ্ণৌ
(C) দিল্লী (D) বেঙ্গালুরু

71. গাহায়নি ববেয়া ভারতনি গিবি AI সহর?

- (A) কলকাতা (B) লখনউ
(C) দিল্লী (D) বেঁগালুরু

71. Which of the following is the first AI city in India?

- (A) Kolkata (B) Lucknow
(C) Delhi (D) Bengaluru



72. 'কোপাইলট+' (Copilot+) কম্পিউটাৰ, য'ত AI-প্ৰযুক্তিৰ দ্বাৰা অনন্য 'ৰিকল' (Recall) ব্যৱহাৰ সুবিধা আছে, কোনটো প্ৰযুক্তি কোম্পানীয়ে বনাইছিল ?
- (A) এলফাবেট (B) এপেল
(C) এচাৰ (D) মাইক্ৰ'চফ্ট
72. কোন প্ৰযুক্তি কোম্পানী এ. আই. (AI)-উন্নত কাৰ্যকাৰিতা এবং অনন্য পুনৰাহ্বান (Recall) বৈশিষ্ট্যযুক্ত 'কোপাইলট+' (Copilot+) কম্পিউটাৰ চালু কৰেছে ?
- (A) অ্যালফাবেট (B) অ্যাপেল
(C) এসাৰ (D) মাইক্ৰোসফ্ট
72. 'Copilot+' কম্পিউটাৰ, জেৰাৰ AI-আদৰ্শনি গেজেৰ্জো গুৰুণ 'Recall' ৰাহানি খাৰুং দং, বেখ্ৰী বৰে কম্পানিয়া বানায়দোঁ?
- (A) এলফাবেট (B) আপেল
(C) এসাৰ (D) মাইক্ৰ'সফট
72. Which tech company has launched 'Copilot+' PCs with AI-enhanced functionality and a unique 'Recall' feature?
- (A) Alphabet (B) Apple
(C) Acer (D) Microsoft

73. গ্ৰীণ অস্কাৰ (ছ'ইটলী গ'ল্ড বঁটা), 2024 কোনে লাভ কৰিছিল ?
- (A) বমন সুকুমাৰ (B) ব্ৰিন্ধা দেৱী
(C) কৃষ্ণামূৰ্তী (D) ড॰ পূৰ্ণিমা দেৱী বৰ্মন
73. গ্ৰীণ অস্কাৰ (ছ'ইটলি গোল্ড পুৰস্কাৰ), 2024 কে লাভ কৰেছিলেন ?
- (A) বমন সুকুমাৰ (B) ব্ৰিন্ধা দেৱী
(C) কৃষ্ণমূৰ্তি (D) ড. পূৰ্ণিমা দেৱী বৰ্মন
73. সোৱ Green Oscar (Whitley Gold বান্থা), 2024 খৌ আজাবদোঁমোন?
- (A) বমন সুকুমাৰ (B) ব্ৰিন্ধা দেৱী
(C) কৃষ্ণমূৰ্তি (D) ড॰ পূৰ্ণিমা দেৱী বৰ্মন
73. Who received the Green Oscar (Whitley Gold Award), 2024?
- (A) Raman Sukumar (B) Brindha Devi
(C) Krishnamoorthy (D) Dr. Purnima Devi Barman

74. কোন সংস্থাই শিশু পুষ্টি প্ৰতিবেদন, 2024 প্ৰকাশ কৰিছিল ?
- (A) WHO (B) UNICEF
(C) UNDP (D) World Bank
74. কোন সংস্থাটি শিশু পুষ্টি প্ৰতিবেদন, 2024 প্ৰকাশ কৰেছিল ?
- (A) WHO (B) UNICEF
(C) UNDP (D) World Bank



74. বৰে গৌথুমা Child Nutrition Report, 2024 খৌ বাবৌসো ফোসাবদৌ?

- (A) WHO (B) UNICEF
(C) UNDP (D) World Bank

74. Which organization released the Child Nutrition Report, 2024?

- (A) WHO (B) UNICEF
(C) UNDP (D) World Bank

75. বিশ্ব সংবাদ স্বাধীনতা সূচকাংক, 2024ৰ মতে 180খন দেশৰ ভিতৰত ভাৰতৰ স্থান কিমান ?

- (A) 159 (B) 152 (C) 150 (D) 161

75. বিশ্ব সংবাদ স্বাধীনতা সূচকাংক, 2024 অনুযায়ী 180টি দেশের মধ্যে ভারতের স্থান কত ?

- (A) 159 (B) 152 (C) 150 (D) 161

75. World Press Freedom Index, 2024 আব, 180 হাৱফোরনি মাৱাব ভাৰতনি মাৰ্শিয়া মা?

- (A) 159 (B) 152 (C) 150 (D) 161

75. In the World Press Freedom Index, 2024, what is India's rank among 180 countries?

- (A) 159 (B) 152 (C) 150 (D) 161

76. 'জাতীয় কেনচাৰ সচেতনতা দিবস' কেতিয়া পালন কৰা হয় ?

- (A) নৱেম্বৰ 9 (B) নৱেম্বৰ 7
(C) নৱেম্বৰ 5 (D) নৱেম্বৰ 3

76. 'জাতীয় ক্যান্সাৰ সচেতনতা দিবস' কবে পালন কৰা হয় ?

- (A) নভেম্বৰ 9 (B) নভেম্বৰ 7
(C) নভেম্বৰ 5 (D) নভেম্বৰ 3

76. 'কেন্সাৰ সাংগ্ৰাংখি সান'খৌ মাৰ্লা ফালিয়ৌ?

- (A) 9 নভেম্বৰ (B) 7 নভেম্বৰ
(C) 5 নভেম্বৰ (D) 3 নভেম্বৰ

76. When is 'National Cancer Awareness Day' observed?

- (A) November 9 (B) November 7
(C) November 5 (D) November 3



77. প্রতি বছৰে 'জোনবিল মেলা' (Jonbeel Mela) কোনখন জিলাত অনুষ্ঠিত হয় ?

- (A) মৰিগাঁও (B) বাক্সা
(C) চিৰাং (D) গোলাঘাট

77. প্রতি বছৰ 'জোনবিল মেলা' কোন জেলায় অনুষ্ঠিত হয় ?

- (A) মৰিগাঁও (B) বাক্সা
(C) চিৰাং (D) গোলাঘাট

77. বোসোয়ফ্ৰোমবো 'জনবিল মেলা' (Jonbeel Mela) খ্রী মাৰে জিলায়াব খুঁফুনায জায়ো?

- (A) মৰিগাব (B) বাকসা
(C) চিরাং (D) গ'লাঘাট

77. In which of the following districts is the 'Jonbeel Mela' held every year?

- (A) Morigaon (B) Baksa
(C) Chirang (D) Golaghat

78. 'শিল্পী দিবস' কেতিয়া উদ্‌যাপন কৰা হয় ?

- (A) 25 জানুৱাৰীত (B) 21 মেত
(C) 17 জানুৱাৰীত (D) 14 নৱেম্বৰত

78. 'শিল্পী দিবস' কবে উদ্‌যাপিত হয় ?

- (A) 25শে জানুৱাৰী (B) 21শে মে
(C) 17ই জানুৱাৰী (D) 14ই নভেম্বৰ

78. 'শিল্পী দিবস' খ্রী মাৰ্চলা ফালিনায জায়ো?

- (A) 25 জানুৱাৰীয়াব (B) 21 মেয়াব
(C) 17 জানুৱাৰীয়াব (D) 14 নৱেম্বৰাব

78. 'Silpi Divas' is celebrated on

- (A) 25th January (B) 21st May
(C) 17th January (D) 14th November



79. 'অসম ৰাজ্যিক সংগ্ৰহালয়'টো ক'ত অৱস্থিত ?

- (A) গুৱাহাটীত (B) শিৱসাগৰত
(C) নগাঁওত (D) যোৰহাটত

79. 'অসম ৰাজ্যিক সংগ্ৰহালয়'টি কোথায় অবস্থিত ?

- (A) গুৱাহাটীতে (B) শিৱসাগৰে
(C) নগাঁও-এ (D) যোৰহাটে

79. 'আসাম হাদাৰসা দোনথুমসালি'য়া মাৰেয়াব দং?

- (A) গুৱাহাটী (B) শিৱসাগৰ
(C) নগাব (D) জৱহাট

79. Where is the 'Assam State Museum' located?

- (A) Guwahati (B) Sivasagar
(C) Nagaon (D) Jorhat

80. ASTC-ৰ অৰ্থ হ'ল

- (A) আছাম ষ্টেট ট্ৰেডিং কৰ্পোৰেচন (B) আছাম ষ্টেট টেকন'ল'জী কমিচন
(C) আছাম ষ্টেট ট্ৰেন্সপ'ৰ্ট কৰ্পোৰেচন (D) আছাম ষ্টেট ট্ৰেভেল কৰ্পোৰেচন

80. ASTC-এৰ অৰ্থ হলো

- (A) আসাম ষ্টেট ট্ৰেডিং কৰ্পোৰেশন (B) আসাম ষ্টেট টেকনোলজি কমিশন
(C) আসাম ষ্টেট ট্ৰান্সপোর্ট কৰ্পোৰেশন (D) আসাম ষ্টেট ট্ৰাভেল কৰ্পোৰেশন

80. ASTC নি অঁথিয়া जादों

- (A) আসাম ষ্টেট ট্ৰেডিং কৰপৰেসন (B) আসাম ষ্টেট টেকন'লজী কমিচন
(C) আসাম ষ্টেট ট্ৰেন্সপ'ৰ্ট কৰপৰেসন (D) আসাম ষ্টেট ট্ৰেভেল কৰপৰেসন

80. ASTC stands for

- (A) Assam State Trading Corporation (B) Assam State Technology Commission
(C) Assam State Transport Corporation (D) Assam State Travel Corporation



81. যদি $x = \frac{1}{x}$ 7 হয়, তেন্তে $x^2 = \frac{1}{x^2}$ ৰ মান হ'ব
(A) 49 (B) 40 (C) 42 (D) 47
81. যদি $x = \frac{1}{x}$ 7 হয়, তৰে $x^2 = \frac{1}{x^2}$ -এৰ মান হ'বে
(A) 49 (B) 40 (C) 42 (D) 47
81. যদি $x = \frac{1}{x}$ 7 জায়ো, অল্লা $x^2 = \frac{1}{x^2}$ নি মানা জাগোন
(A) 49 (B) 40 (C) 42 (D) 47
81. If $x = \frac{1}{x}$ 7, then $x^2 = \frac{1}{x^2}$ is equal to
(A) 49 (B) 40 (C) 42 (D) 47
-

82. 1 ৰ পৰা 25 লৈকে ক্ৰমিক অযুগ্ম সংখ্যাবোৰৰ যোগফল হৈছে
(A) 325 (B) 200 (C) 169 (D) 89
82. 1 থেকে 25 পর্যন্ত ক্ৰমিক অযুগ্ম সংখ্যাগুলিৰ যোগফল হল
(A) 325 (B) 200 (C) 169 (D) 89
82. 1 নিফ্ৰায় 25 সিম থানায় বেজরা ফাৰি অনজিমানি দাজাৰগাসৈয়া জাৰ্দোঁ
(A) 325 (B) 200 (C) 169 (D) 89
82. The sum of the odd consecutive numbers from 1 to 25 is
(A) 325 (B) 200 (C) 169 (D) 89
-

83. তলৰ উক্তিৰমূহৰ কোনটো উক্তি শুদ্ধ নহয় ?
(A) প্রতিটো যুগ্ম (ধনাত্মক) সংখ্যাই এটা স্নাভাৰিক সংখ্যা।
(B) আটাইতকৈ সৰু স্নাভাৰিক সংখ্যাটো হ'ল 1.
(C) 0 এটা পূৰ্ণ সংখ্যা।
(D) প্রতিটো স্নাভাৰিক সংখ্যাই এটা যুগ্ম সংখ্যা।
83. নীচের উক্তিগুলিৰ মধ্যে কোন উক্তিটি শুদ্ধ নয় ?
(A) প্রতিটি যুগ্ম (ধনাত্মক) সংখ্যা একটি স্নাভাৰিক সংখ্যা।
(B) ক্ষুদ্ৰতম স্নাভাৰিক সংখ্যাটি হলো 1.
(C) 0 একটি পূৰ্ণ সংখ্যা।
(D) প্রতিটি স্নাভাৰিক সংখ্যাই একটি যুগ্ম সংখ্যা।



83. गाहायनि बुंथिफोरनि गेजेराव बबे बुंथिया गेबें नडा?

- (A) मोनफ्रोम जरा (Positive) अन्जिमाया मिर्थिगा अनजिमा।
(B) बयनिखुइ दुयसिन मिर्थिगा अनजिमाया 1.
(C) 0 आ मोनसे आबुं अनजिमा।
(D) मोनफ्रोम मिर्थिगा अनजिमाया जरा अनजिमा।

83. Which one of the following statements is **not** true?

- (A) Each even (positive) number is a natural number.
(B) The smallest natural number is 1.
(C) 0 is a whole number.
(D) Each natural number is an even number.

84. यदि एटा वस्तु मूल्य 200 टका ह्य आरु बेहई 10% ह्य, तेस्तु वस्तुटोब बाबे ग्राहके दिव लगा धनब पबिमाण ह'व

- (A) 90 टका (B) 190 टका
(C) 80 टका (D) 180 टका

84. यदि एकटि वस्तु दाम 200 टका ह्य एवं तार उपर 10% छड थके, तहले वस्तुटि किनते क्रेताके कत दाम दिते हवे ?

- (A) 90 टका (B) 190 टका
(C) 80 टका (D) 180 टका

84. जुदि मोनसे मुवानि बेसेना 200 रां जायो आरो 10% रेहाय जायो, मुवानि थाखाय बायग्राया होनो गोनां बेसेना जागोन

- (A) 90 रां (B) 190 रां
(C) 80 रां (D) 180 रां

84. If the price of an article is ₹ 200 and the rebate on it is 10%, then the customer has to pay for this article

- (A) ₹ 90 (B) ₹ 190
(C) ₹ 80 (D) ₹ 180

85. यदि 460 टका आमि 10 जन पुरुष, 16 गबाकी महिला आरु 20टा शिशुब माजत समाने भाग करि दिओ, तेस्तु प्रत्येके पोरा अंशब पबिमाण ह'व

- (A) 10 टका (B) 16 टका
(C) 20 टका (D) 46 टका

85. यदि आमरा 460 टका 10 जन पुरुष, 16 जन महिला एवं 20टि शिशुब मध्ये समान भागे भाग करे दिई, तहले प्रत्येकेर भागे कत टका आसवे ?

- (A) 10 टका (B) 16 टका
(C) 20 टका (D) 46 टका

85. जुदि जो सा 10 हौवा मानसि, सा 16 हिनजाव मानसि आरो सा 20 गथ'नि मादाव 460 रांखौ समानै रानना होयोब्ला, साम्रोमनि बाहागोनि बिबाडा जागोन

- (A) 10 रां (B) 16 रां
(C) 20 रां (D) 46 रां



85. If we divide ₹ 460 among 10 men, 16 women and 20 children equally, then the share of each one will be
 (A) ₹ 10 (B) ₹ 16
 (C) ₹ 20 (D) ₹ 46

86. যদি $2^{2x-1} - 4 = 8$ হয়, তেন্তে x ৰ মান হ'ব
 (A) 1 (B) 2 (C) 3 (D) 4
86. যদি $2^{2x-1} - 4 = 8$ হয়, তহলে x -এৰ মান হ'বে
 (A) 1 (B) 2 (C) 3 (D) 4
86. জেব্বা $2^{2x-1} - 4 = 8$ জায়ো, অল্লা x নি মানা জাগোন
 (A) 1 (B) 2 (C) 3 (D) 4
86. If $2^{2x-1} - 4 = 8$, then the value of x is
 (A) 1 (B) 2 (C) 3 (D) 4

87. তলৰ কোনটো গাণিতিক উক্তি শুদ্ধ ?
 (A) $\frac{9}{40} = \frac{3}{20}$ (B) $\frac{5}{8} = \frac{3}{4}$ (C) $\frac{7}{6} = \frac{5}{6}$ (D) $\frac{3}{7} = \frac{9}{28}$
87. নীচের কোন গাণিতিক উক্তিটি শুদ্ধ ?
 (A) $\frac{9}{40} = \frac{3}{20}$ (B) $\frac{5}{8} = \frac{3}{4}$ (C) $\frac{7}{6} = \frac{5}{6}$ (D) $\frac{3}{7} = \frac{9}{28}$
87. গাহায়নি বৰে মোনসে সানখান্থিনি বিবুথিয়া থাৰ?
 (A) $\frac{9}{40} = \frac{3}{20}$ (B) $\frac{5}{8} = \frac{3}{4}$ (C) $\frac{7}{6} = \frac{5}{6}$ (D) $\frac{3}{7} = \frac{9}{28}$
87. Which of the following mathematical statements is correct?
 (A) $\frac{9}{40} = \frac{3}{20}$ (B) $\frac{5}{8} = \frac{3}{4}$ (C) $\frac{7}{6} = \frac{5}{6}$ (D) $\frac{3}{7} = \frac{9}{28}$

88. দুটা পৰিমেয় সংখ্যা $\frac{a}{b}$ আৰু $\frac{c}{d}$ সমতুল্য হ'ব, যদিহে
 (A) $a = b = c = d$ (B) $a = b = c = d$ (C) $a = d = b = c$ (D) $a = d = b = c$
88. দুটি পরিমেয় সংখ্যা $\frac{a}{b}$ ও $\frac{c}{d}$ সমতুল্য তখনই হ'বে, যখন
 (A) $a = b = c = d$ (B) $a = b = c = d$ (C) $a = d = b = c$ (D) $a = d = b = c$
88. মোননৈ রানজোবথা অনজিমা $\frac{a}{b}$ আরো $\frac{c}{d}$ আ সমান জাগোন, জেব্বা
 (A) $a = b = c = d$ (B) $a = b = c = d$ (C) $a = d = b = c$ (D) $a = d = b = c$
88. Two rational numbers $\frac{a}{b}$ and $\frac{c}{d}$ are equivalent if
 (A) $a = b = c = d$ (B) $a = b = c = d$ (C) $a = d = b = c$ (D) $a = d = b = c$



89. যদি এটা ত্ৰিভুজৰ ভূমি উন্নতিৰ দুগুণ আৰু উন্নতিৰ মান $2x$ একক হয়, তেন্তে ত্ৰিভুজটোৰ কালি হ'ব
- (A) $8x^2$ বৰ্গ একক (B) $2x^2$ বৰ্গ একক
(C) x^2 বৰ্গ একক (D) $4x^2$ বৰ্গ একক
89. যদি এটা ত্ৰিভুজৰ ভূমি তাৰ উন্নতিৰ দ্বিগুণ এবং উন্নতিৰ মান $2x$ একক হয়, তাহলে ত্ৰিভুজটিৰ ক্ষেত্ৰফল হবে
- (A) $8x^2$ বৰ্গ একক (B) $2x^2$ বৰ্গ একক
(C) x^2 বৰ্গ একক (D) $4x^2$ বৰ্গ একক
89. মোনসে আখ্ৰান্থিথামনি হাসানি জখায়া জৌথাইনি নৈ গুন। জেব্বা জৌথাইনি মানা $2x$ সানগুদি জায়ো, অব্বা আখ্ৰান্থিথামনি কালিয়া জাগোন
- (A) $8x^2$ বৰ্গ সানগুদি (B) $2x^2$ বৰ্গ সানগুদি
(C) x^2 বৰ্গ সানগুদি (D) $4x^2$ বৰ্গ সানগুদি
89. If the base of a triangle is twice its altitude and the altitude is $2x$ unit, then the area of the triangle is
- (A) $8x^2$ sq. unit (B) $2x^2$ sq. unit
(C) x^2 sq. unit (D) $4x^2$ sq. unit

90. তলৰ কোনটো এটা ত্ৰিভুজৰ তিনিটা বাহুৰ জোখ হ'ব নোৱাৰে ?
- (A) 5 ছেঃমিঃ, 10 ছেঃমিঃ, 6 ছেঃমিঃ (B) 14 ছেঃমিঃ, 7 ছেঃমিঃ, 8 ছেঃমিঃ
(C) 10 ছেঃমিঃ, 20 ছেঃমিঃ, 8 ছেঃমিঃ (D) 30 ছেঃমিঃ, 20 ছেঃমিঃ, 12 ছেঃমিঃ
90. নীচের কোন মাপটি একটি ত্ৰিভুজের তিনটি বাহুর মাপ হতে পারে না ?
- (A) 5 সেঃমিঃ, 10 সেঃমিঃ, 6 সেঃমিঃ (B) 14 সেঃমিঃ, 7 সেঃমিঃ, 8 সেঃমিঃ
(C) 10 সেঃমিঃ, 20 সেঃমিঃ, 8 সেঃমিঃ (D) 30 সেঃমিঃ, 20 সেঃমিঃ, 12 সেঃমিঃ
90. গাহায়নি বৰে মোনসেয়া মোনসে আখ্ৰান্থিথামনি মোনথাম আখ্ৰান্থিনি জখা জানো হায়া?
- (A) 5 সেং মিং, 10 সেং মিং, 6 সেং মিং (B) 14 সেং মিং, 7 সেং মিং, 8 সেং মিং
(C) 10 সেং মিং, 20 সেং মিং, 8 সেং মিং (D) 30 সেং মিং, 20 সেং মিং, 12 সেং মিং
90. Which of the following **cannot** be the measures of three sides of a triangle?
- (A) 5 cm, 10 cm, 6 cm (B) 14 cm, 7 cm, 8 cm
(C) 10 cm, 20 cm, 8 cm (D) 30 cm, 20 cm, 12 cm

91. “দুটা ক্ৰমিক অযুগ্ম সংখ্যাৰ যোগফল 48.” এই উক্তিটো প্ৰকাশ কৰিব পৰা সমীকৰণটো হ'ল
- (A) $(x-1)(x-2)=48$ (B) $x(x-1)=48$
(C) $x(x-2)=48$ (D) $(x-1)(x-2)=48$
91. “দুটি ক্ৰমিক অযুগ্ম সংখ্যাৰ যোগফল হ'ল 48.” এই উক্তিটি নীচের কোন সমীকরণে প্ৰকাশ হ'ছে ?
- (A) $(x-1)(x-2)=48$ (B) $x(x-1)=48$
(C) $x(x-2)=48$ (D) $(x-1)(x-2)=48$



91. “मोननै फारि बेजरा अनजिमानि दाजाबथाइया 48.” बे बिबुंथिखौ फोरमायनो हानाय समान्थाइया जादों
- (A) $(x - 1)(x - 2) = 48$ (B) $x(x - 1) = 48$
(C) $x(x - 2) = 48$ (D) $(x - 1)(x - 2) = 48$
91. “The sum of two consecutive odd numbers is 48.” This statement can be expressed in equation as
- (A) $(x - 1)(x - 2) = 48$ (B) $x(x - 1) = 48$
(C) $x(x - 2) = 48$ (D) $(x - 1)(x - 2) = 48$
-

92. x -अक्ष आरु $y = 2$ 0 रेखाडालर माजर दूरतु किमान ?
- (A) 2 एकक (B) 3 एकक
(C) 4 एकक (D) 1 एकक
92. x -अक्ष एवंग $y = 2$ 0 रेखाडर मधेर दूरतु कत ?
- (A) 2 एकक (B) 3 एकक
(C) 4 एकक (D) 1 एकक
92. x -बिथ' आरो $y = 2$ 0 हांखोनि गेजेरनि जानथाइया बेसेबां?
- (A) 2 सानगुदि (B) 3 सानगुदि
(C) 4 सानगुदि (D) 1 सानगुदि
92. What is the distance between the x -axis and the line $y = 2$ 0 ?
- (A) 2 units (B) 3 units
(C) 4 units (D) 1 unit
-

93. 1289 ब लगत कि नूनतम संख्या योग करिले ई एटा पूर्णवर्ग संख्या ह'ब ?
- (A) 1 (B) 7 (C) 13 (D) 16
93. 1289-एर सङ्गे सर्वनिम्न कौन संख्याटि योग करले एटि एकटि पूर्णवर्ग संख्या हबे ?
- (A) 1 (B) 7 (C) 13 (D) 16
93. 1289 जौं मा दुयसिन अनजिमा दाजाबोल्ला मोनसे आबुं बर्ग जागोन?
- (A) 1 (B) 7 (C) 13 (D) 16
93. What is the minimum number to be added to 1289 so that it becomes a perfect square?
- (A) 1 (B) 7 (C) 13 (D) 16
-

94. एटा सामन्तरिकर भूमि आरु उच्चतर दीघ क्रमे 5 cm आरु 3 cm. सामन्तरिकटोर कालि उलिओरा ।
- (A) 30 cm^2 (B) 15 cm^2
(C) 7.5 cm^2 (D) 15 cm
94. एकटि सामन्तरिकेर भूमि एवंग उच्चतर क्रमे 5 cm एवंग 3 cm. सामन्तरिकटोर क्षेत्रफल निर्णय करो ।
- (A) 30 cm^2 (B) 15 cm^2
(C) 7.5 cm^2 (D) 15 cm



94. मोनसे लिंगदब्लाइन हासा आरो जौथाइन गोलावा फारियै 5 cm आरो 3 cm. लिंगदब्लाइन कालि दिहुन।
- (A) 30 cm^2 (B) 15 cm^2
(C) 7.5 cm^2 (D) 15 cm
94. The base and height of a parallelogram are 5 cm and 3 cm respectively. Find the area of the parallelogram.
- (A) 30 cm^2 (B) 15 cm^2
(C) 7.5 cm^2 (D) 15 cm
-

95. বছৰি 10% सबल सूतब हाबत कोनो मूलधन किमान बहबत दुगुण ह'ब ?
- (A) 2 बहबत (B) 5 बहबत
(C) 10 बहबत (D) 20 बहबत
95. बांस्रिक 10% सरल सूदेर हारे कोनो एक मूलधन कत बहरे द्विगुण हबे ?
- (A) 2 बहरे (B) 5 बहरे
(C) 10 बहरे (D) 20 बहरे
95. बोसोराव 10% गोरलै सुदनि हाराव मोनसे गिबि दोहोना बेसेबां बोसोराव फाननै जागोन?
- (A) 2 बोसोराव (B) 5 बोसोराव
(C) 10 बोसोराव (D) 20 बोसोराव
95. In how many years will a sum of money be doubled itself at a simple interest of 10% p.a.?
- (A) 2 years (B) 5 years
(C) 10 years (D) 20 years
-

96. A आक B ये यथाक्रमे 10,000 टका आक 6,400 टका दि एटा अंशीदारी ब्यरसाय आबन्त कबिले। 5 माहब पिछत A ये 3,000 टका उर्गई ल'ले आक B ये तेउँब अंशब लगत आक 600 टका योग दिले। B ये सक्रिय अंशीदार हिचापे बार्शिक लाभर 10% बेतन हिचापे लाभ करे। एबहबब मूबत मुठ लाभ 16,000 टका ह'ले B ब लाभांश किमान ह'ब ?
- (A) 6,480 टका (B) 7,920 टका
(C) 8,080 टका (D) एहबोबब एटाओ नहय
96. A एवं B यथाक्रमे 10,000 टका एवं 6,400 टका दिसे एकटि अंशीदारी ब्यवसा शुरू करे। 5 मासेर पर A 3,000 टका तुले नेय एवं B निजेर विनियोजित टकाते आरो 600 टका योग करे। B सक्रिय अंशीदार हिसेबे बार्शिक लाभेर 10% बेतन हिसेबे पाय। एक बंस्र पर मोट लाभ 16,000 टका हले B-एर लभांश कत हबे ?
- (A) 6,480 टका (B) 7,920 टका
(C) 8,080 टका (D) एगुलिर एकटिओ नय



96. A आरु B आ फारिचै 10,000 रं आरु 6,400 रं होनानै मोनसे बाहागोदारि फालांगि जागायजेनबाय। 5 दाननि उनाव A आ 3,000 रं बोखांना लांबाय आरु B आ गावनि बाहागोजुं आरु 600 रं दाजाबबाय। B आ मावसुला बाहागोगिरि महरै बोसोरारि मुलाम्फानि 10% दानबान्था महरै मोनबाय। बोसोरसेनि उनाव गासै मुलाम्फाया 16,000 रं जायोब्ला, B नि मुलाम्फानि बाहागोआ बेसेबां जागोन?
- (A) 6,480 रं (B) 7,920 रं
(C) 8,080 रं (D) बेफोरनि मोनसेबो नडा
96. A and B started a partnership business investing ₹ 10,000 and ₹ 6,400 respectively. After 5 months, A withdrew ₹ 3,000 and B added ₹ 600 to their investment. Being active partner, B gets 10% of the annual profit as salary. If the profit at the end of one year is ₹ 16,000, the share of profit of B will be
- (A) ₹ 6,480 (B) ₹ 7,920
(C) ₹ 8,080 (D) None of these

97. मान निर्णय कबा :

- $\frac{2}{3} \quad \frac{1}{3} \quad 2\frac{2}{9}$
- (A) $\frac{11}{9}$ (B) $\frac{11}{9}$ (C) $\frac{17}{9}$ (D) $\frac{17}{9}$

97. मान निर्णय करुा :

- $\frac{2}{3} \quad \frac{1}{3} \quad 2\frac{2}{9}$
- (A) $\frac{11}{9}$ (B) $\frac{11}{9}$ (C) $\frac{17}{9}$ (D) $\frac{17}{9}$

97. मान दिहुन :

- $\frac{2}{3} \quad \frac{1}{3} \quad 2\frac{2}{9}$
- (A) $\frac{11}{9}$ (B) $\frac{11}{9}$ (C) $\frac{17}{9}$ (D) $\frac{17}{9}$

97. Find the value of

- $\frac{2}{3} \quad \frac{1}{3} \quad 2\frac{2}{9}$
- (A) $\frac{11}{9}$ (B) $\frac{11}{9}$ (C) $\frac{17}{9}$ (D) $\frac{17}{9}$

98. तलब संख्याकेईटाब मध्यामा निर्णय कबा :

- 32, 32, 34, 35, 35, 38, 42
- (A) 32 (B) 38 (C) 35 (D) 42

98. निम्नोक्त संख्याणुलिब मध्यामा निर्णय करुा :

- 32, 32, 34, 35, 35, 38, 42
- (A) 32 (B) 38 (C) 35 (D) 42



98. गाहायनि अनजिमाफोरनि गेजेरमा (Median) दिहनु :

32, 32, 34, 35, 35, 38, 42

- (A) 32 (B) 38 (C) 35 (D) 42

98. Find the median of the following numbers :

32, 32, 34, 35, 35, 38, 42

- (A) 32 (B) 38 (C) 35 (D) 42

99. शतकबा बहबि 10% चक्रवृद्धि सूतत 100 टका 2 बहबब मुबत मुठ परिमाण ह'बगै

- (A) 121 टका (B) 221 टका
(C) 111.21 टका (D) 121.21 टका

99. 100 टका 2 बंसर बांसरिक 10% चक्रवृद्धि हारे बर्धित हले मोट सधित धनराशिर परिमाण हबे

- (A) 121 टका (B) 221 टका
(C) 111.21 टका (D) 121.21 टका

99. बोसोराब 10% हाराब 100 रानि बोसोर 2 नि बारायब्रायनाय सुदा जागोन

- (A) 121 रां (B) 221 रां
(C) 111.21 रां (D) 121.21 रां

99. The amount on compound interest of ₹ 100 for 2 years at the rate of 10% per annum is

- (A) ₹ 121 (B) ₹ 221
(C) ₹ 111.21 (D) ₹ 121.21

100. यदि p आरु q र ग.सा.उ. आरु ल.सा.गु. यथाक्रमे r आरु s हय, तेन्ते p, q, r आरु s र ल.सा.गु. हैछे (p, q स्वाभाविक संख्या)

- (A) pq (B) qr (C) sp (D) s

100. p एबं q एर ग.सा.गु. एबं ल.सा.गु. यथाक्रमे r एबं s हले, p, q, r एबं s एर ल.सा.गु. हबे (p, q स्वाभाविक संख्या)

- (A) pq (B) qr (C) sp (D) s

100. p आरो q नि दे० आ० सा० आरो दु० आ० सा० आ फारियै r आरो s जायोब्ला, p, q, r आरो s नि दु० आ० आ० आ मा जागोन (p, q मिथिगा अनजिमा)?

- (A) pq (B) qr (C) sp (D) s

100. If the HCF and LCM of p and q are r and s respectively, then the LCM of p, q, r and s is (p, q natural numbers)

- (A) pq (B) qr (C) sp (D) s



SPACE FOR ROUGH WORK



SPACE FOR ROUGH WORK



SPACE FOR ROUGH WORK

