

VIDEO COURSES

for Government Exams



From the oldest and most trusted name in Exam Preparation which gave us Career Power, Bankersadda, Sscadda, here is the latest offering – Video Courses that are tailor-made for the Govt. Job aspirants of digital India. Various banking and SSC exams are conducted online with regular changes to exam pattern and level of questions. We understand the changing needs of the students and have devised a unique solution, making preparation easy, cost-effective and efficient.

Video courses for banking and SSC consist of exhaustive video lectures for government exams which are pre-loaded on an SD card. We offer these courses in two variants: [Android Tab + SD-Card] or [SD Card only]. The SD Card can be run on your personal android device as well. The video courses will run on the Adda247 mobile app, the number one App for Bank and SSC exam preparation.

What you get?



Available Courses



To Purchase visit : elearning.adda247.com

For any query : Call us at +91-90691 42412 • Email us at elearning@adda247.com

Directions (1-5): निम्नलिखित जानकारी का ध्यानपूर्वक अध्ययन कीजिए और नीचे दिए प्रश्नों के उत्तर दीजिए।

आठ मित्र A, B, C, D, E, F, G और H एक गोलाकार मेज के चारों ओर बराबर दूरी पर बैठे हैं। सभी समान दिशा की उन्मुख हैं (जरूरी नहीं समान क्रम में हो) साथ ही उन सभी की आयु अलग - अलग है अर्थात् : 17, 15, 27, 24, 42, 32, 64 और 54 (जरूरी नहीं समान क्रम में हो)।

D की आयु B और G की आयु का योग है। D, G के दायें से दूसरे स्थान पर बैठा। B की आयु विषम संख्या है, जो 3 से विभाज्य है और वह D के विपरीत बैठा है। वह जो सबसे युवा है, B से दो स्थान दूर बैठा है। C और A दोनों, D से बड़े हैं। F, 15 वर्षीय व्यक्ति के दायें से तीसरे स्थान पर बैठा है। F, B से छोटा है लेकिन उसकी आयु गैर अभाज्य संख्या है। E, 24 वर्षीय व्यक्ति से दो स्थान दूर बैठा है लेकिन 8 वें सबसे बड़े व्यक्ति के ठीक निकट नहीं बैठा है। E, C से 22 वर्ष छोटा है। A, F और B दोनों के ठीक निकट नहीं बैठा है। C, A से दो स्थान दूर नहीं बैठा है।

Q1. E की आयु कितनी है?

- (a) 32
- (b) 54
- (c) 64
- (d) इनमें से कोई नहीं
- (e) 42

Q2. 17 वर्षीय व्यक्ति के संदर्भ में B का स्थान क्या है?

- (a) निकटतम बायें
- (b) दायें से तीसरे स्थान पर
- (c) दायें से सातवें
- (d) (A) और (C) दोनों
- (e) इनमें से कोई नहीं

Q3. निम्नलिखित में से कौन सबसे छोटा है?

- (a) D
- (b) A
- (c) G
- (d) H
- (e) इनमें से कोई नहीं

Q4. निम्नलिखित में से कौन 32 वर्षीय व्यक्ति और F के ठीक बीच में बैठा है?

- (a) B
- (b) D
- (c) C
- (d) A
- (e) इनमें से कोई नहीं





**SSC CGL TIER II**
Maths & English
@399/-

Mock Test Booklets

10 TEST BOOKLETS (PRINTED TEST)
Bilingual

Q5. निम्नलिखित में से कौन तीसरा सबसे छोटा है?

- (a) C
- (b) F
- (c) E
- (d) D
- (e) इनमें से कोई नहीं

Directions (6-7): नीचे प्रत्येक प्रश्न में एक कथन और उसके बाद दो कार्यवाहियाँ क्रमांक I और II दी गई हैं। कार्यवाही, कथन में दी गई जानकारी के आधार पर समस्या, नीति इत्यादि के संदर्भ में सुधार, जांच या आगे की कार्यवाही के लिए लिया जाने वाला एक कदम या प्रशासनिक निर्णय है। आपको कथन में दी गयी जानकारी को सत्य मानना है और फिर निर्णय कीजिये कि दी गई कार्यवाही में से कौन सी कार्यवाही अनुसरण करती है और उत्तर दीजिये-

Q6. कथन: शहर की विकासहीन स्थिति का मुख्य कारण वे बहुल्य निकाय है जिसमें कोई भी व्यक्ति शहर के विकास का उत्तरदायित्व नहीं लेता है।

कार्यवाहियाँ :

- I. प्रत्येक व्यक्ति को कर्तव्यों का एक समूह दिया जाना चाहिए और ऐसे आवंटन में कोई दोहराव नहीं होना चाहिए।
- II. अन्य सभी निकायों के कार्यों को विनियमित करने की शक्तियों के साथ एक अम्ब्रेला समिति नियुक्त की जानी चाहिए।

- (a) यदि केवल I अनुसरण करती है
- (b) यदि केवल II अनुसरण करती है
- (c) यदि या तो I या II अनुसरण करती है
- (d) यदि न तो I न II अनुसरण करती है
- (e) यदि I और II दोनों अनुसरण करती हैं

Q7. कथन: राज्य X में माफिया समानांतर सरकार चला रही है।

कार्यवाहियाँ :

- I. सरकार को माफिया समूह के खिलाफ सख्त कार्रवाई करनी चाहिए।
- II. राज्य के लोगों को आत्मरक्षा के लिए हथियार प्रदान किए जाने चाहिए।

- (a) यदि केवल I अनुसरण करती है
- (b) यदि केवल II अनुसरण करती है
- (c) यदि या तो I या II अनुसरण करती है
- (d) यदि न तो I न II अनुसरण करती है
- (e) यदि I और II दोनों अनुसरण करती हैं

Q8. यूनिफ़ॉर्म रिसोर्स लोकेटर (यूआरएल) किन मामलों में सेंसिटिव है?

- (a) प्रोटोकॉल
- (b) अथॉरिटी
- (c) डायरेक्टरी
- (d) टाइप
- (e) इनमें से कोई नहीं

Directions (9-13): निम्नलिखित जानकारी का ध्यानपूर्वक अध्ययन कीजिए और नीचे दिए गए प्रश्नों के उत्तर दीजिए।

एक शब्द और संख्या व्यवस्था मशीन को जब शब्दों और संख्याओं का एक इनपुट दिया जाता है, तो प्रत्येक चरण में एक निश्चित नियम का अनुसरण करते हुए उन्हें व्यवस्थित करती है। निम्नलिखित इनपुट और पुनर्व्यवस्था का एक उदाहरण है:

इनपुट : 30 owl 56 raise 27 egg 23 still 20 holy 15 apple.

चरण I: 20 30 owl 56 raise egg 23 still holy 15 apple 27.

चरण II: holy 20 30 56 raise egg 23 still 15 apple 27 owl.

चरण III: 30 holy 20 56 raise egg still 15 apple 27 owl 23.

चरण IV: raise 30 holy 20 56 still 15 apple 27 owl 23 egg.

चरण V: 56 raise 30 holy 20 still apple 27 owl 23 egg 15.

चरण VI: still 56 raise 30 holy 20 27 owl 23 egg 15 apple.

उपर्युक्त व्यवस्था में चरण VI अंतिम चरण है

दिए गए चरणों में अनुसरण किये गए नियमों के अनुसार, दिए गए आउटपुट के लिए निम्नलिखित प्रत्येक प्रश्न में उपयुक्त चरण ज्ञात कीजिये।

इनपुट : call 40 37 ice land 50 25 under ape same 33 18 38 mango 21 open.

Q9. उपर्युक्त इनपुट को पूरा करने के लिए कितने चरण आवश्यक हैं?

- (a) आठ
- (b) छह
- (c) पांच
- (d) सात
- (e) इनमें से कोई नहीं

Q10. पुनर्व्यवस्था के सातवें चरण में, एक निश्चित तरीके से 'call', '38' से सम्बन्धित है और 'open', '33' से सम्बन्धित है। तो समान प्रारूप में 'land' से कौन सम्बन्धित होगा?

- (a) mango
- (b) ice
- (c) same
- (d) 40
- (e) 37

Q11. आउटपुट के छठे चरण में 'under' और '38' के बीच में कितनी संख्या और शब्द हैं?

- (a) छह
- (b) तीन
- (c) चार
- (d) पांच
- (e) सात

Q12. किस चरण में तत्व 'call 18 50 ape same 21' समान क्रम में पाए जाते हैं?

- (a) पांचवें
- (b) सातवें
- (c) चौथे
- (d) छठे
- (e) कोई चरण नहीं है

Q13. निम्नलिखित में से कौन अंतिम से पहले चरण में '37' के स्थान को दर्शाता है?

- (a) बायें अंत से नौवां
- (b) बायें अंत से दसवां
- (c) दायें अंत से सातवां
- (d) दायें अंत से छठा
- (e) (B) और (C) दोनों

Directions (14-18): निम्नलिखित जानकारी का ध्यानपूर्वक अध्ययन कीजिए और नीचे दिए प्रश्नों के उत्तर दीजिए।

एक रेस्टोरेंट में, आठ व्यक्ति अर्थात् : B, M, T, J, S, V, P और K वर्गाकार मेज के चारों ओर बैठे हैं और केंद्र की ओर उन्मुख हैं। चार व्यक्ति कोने पर बैठे हैं और चार व्यक्ति वर्गाकार मेज की भुजाओं के मध्य बैठे हैं। सभी मित्रों की अलग अलग आयु है लेकिन 50 वर्ष से कम है। वर्गाकार मेज के मध्य बैठे व्यक्ति की आयु 3 का गुणक है और कोने पर बैठे व्यक्ति की आयु 2 का गुणक है। वह व्यक्ति जिसकी आयु 9 वर्ष है, वह J के दायें से दूसरे स्थान पर बैठा है। 9 वर्ष की आयु वाले व्यक्ति और T के बीच में दो व्यक्ति बैठे हैं जिसकी आयु 10 का गुणक नहीं है। 27 वर्षीय व्यक्ति, T के ठीक बायें बैठा है और 27 वर्षीय व्यक्ति और B के ठीक दायें बैठे व्यक्ति के बीच में 6 वर्षों का अंतर है। 48 वर्षीय व्यक्ति, B के बायें से दूसरे स्थान पर बैठा है। B, V ठीक दाएं बैठा है जिसकी आयु 3 का गुणक है। M, P के ठीक दायें बैठा है। J और S की आयु का योग 72 वर्ष है। P और K के बीच में तीन व्यक्ति बैठे हैं जिसकी आयु 2 का गुणक है। 24 वर्षीय व्यक्ति, 40 वर्षीय व्यक्ति के बायें से दूसरे स्थान पर बैठा है। K के ठीक दायें बैठा व्यक्ति और S के दायें से तीसरे स्थान पर बैठे व्यक्ति की आयु का योग 37 वर्ष है।

Q14. निम्नलिखित में से कौन 21 वर्षीय है?

- (a) V
- (b) J
- (c) M
- (d) S
- (e) कोई नहीं

Q15. 24 वर्षीय व्यक्ति के ठीक बायें बैठे व्यक्ति के दायें से दूसरे स्थान पर कौन बैठा है?

- (a) B
- (b) S
- (c) T
- (d) M
- (e) J

Q16. 9 वर्षीय व्यक्ति और 27 वर्षीय व्यक्ति के बीच में कितने व्यक्ति बैठे हैं?

- (a) एक
- (b) दो
- (c) तीन
- (d) तीन से अधिक
- (e) इनमें से कोई नहीं

Q17. निम्नलिखित में से कौन B के विकर्णतः विपरीत बैठा है?

- (a) P
- (b) M
- (c) T
- (d) V
- (e) K

Q18. निम्नलिखित में से कौन J के ठीक दायें बैठा है?

- (a) B
- (b) T
- (c) V
- (d) M
- (e) K



Q19. कंप्यूटर मेमरी हाइरार्की में सबसे पहले डाटा कहाँ जाता है?

- (a) RAM
- (b) ROM
- (c) BIOS
- (d) CACHE
- (e) इनमें से कोई नहीं

Q20. कंप्यूटर डाटा को स्टोर करने और गणना करने के लिए _____ नंबर सिस्टम का प्रयोग करता है?

- (a) बाइनरी
- (b) ऑक्टल
- (c) डेसीमल
- (d) हेक्साडेसीमल
- (e) इनमें से कोई नहीं

Directions (21-23): दिए गए प्रत्येक प्रश्नों में एक प्रश्न है और उसके नीचे दो कथन संख्या I और II दिए गए हैं। आपको यह निर्णय करना है कि कथन में दी जा रही सामग्री उत्तर देने के लिए पर्याप्त है। दोनों कथनों का अध्ययन कीजिए और उत्तर दीजिये

Q21. T, K से किस प्रकार सम्बन्धित है?

I. K, L और J की इकलौती पुत्री है

II. R की बहन J, T के भाई L से विवाहित है, जो अपने माता-पिता का इकलौता पुत्र है।

- (a) यदि कथन I का डाटा अकेले प्रश्नों का उत्तर देने के लिए पर्याप्त है जबकि कथन II का डाटा अकेले प्रश्नों का उत्तर देने के लिए पर्याप्त नहीं है।
- (b) यदि कथन II का डाटा अकेले प्रश्नों का उत्तर देने के लिए पर्याप्त है जबकि कथन I का डाटा अकेले प्रश्नों का उत्तर देने के लिए पर्याप्त नहीं है।
- (c) यदि कथन I का डाटा या कथन II का डाटा अकेले प्रश्नों का उत्तर देने के लिए पर्याप्त है।
- (d) यदि कथन I और II दोनों का डाटा एक साथ प्रश्नों का उत्तर देने के लिए पर्याप्त नहीं है।
- (e) यदि कथन I और II दोनों का डाटा एक साथ प्रश्नों का उत्तर देने के लिए आवश्यक है।

Q22. M, N से किस तरह से सम्बन्धित है?

I. P, जिसकी दो संतान M और N हैं, Q की सास है, जो N की सिस्टर इन लॉ है।

II. R, जो M की सिस्टर इन लॉ है, S की पुत्रवधू है एवं उसकी केवल दो संतान M और N हैं

- (a) यदि कथन I का डाटा अकेले प्रश्नों का उत्तर देने के लिए पर्याप्त है जबकि कथन II का डाटा अकेले प्रश्नों का उत्तर देने के लिए पर्याप्त नहीं है।
- (b) यदि कथन II का डाटा अकेले प्रश्नों का उत्तर देने के लिए पर्याप्त है जबकि कथन I का डाटा अकेले प्रश्नों का उत्तर देने के लिए पर्याप्त नहीं है।
- (c) यदि कथन I का डाटा या कथन II का डाटा अकेले प्रश्नों का उत्तर देने के लिए पर्याप्त है।
- (d) यदि कथन I और II दोनों का डाटा एक साथ प्रश्नों का उत्तर देने के लिए पर्याप्त नहीं है।
- (e) यदि कथन I और II दोनों का डाटा एक साथ प्रश्नों का उत्तर देने के लिए आवश्यक है।

Q23. शैलेश ऑफिस पहुँचने के कौन सी ट्रेन पकड़ता है?

I. शैलेश 10.40 बजे या इस समय के बाद की कोई ट्रेन नहीं पकड़ता है।

II. शैलेश की 10.25 बजे वाली सामान्य ट्रेन छूट जाती है। प्रत्येक 5 मिनट में एक ट्रेन आती है।

- (a) यदि कथन I का डाटा अकेले प्रश्नों का उत्तर देने के लिए पर्याप्त है जबकि कथन II का डाटा अकेले प्रश्नों का उत्तर देने के लिए पर्याप्त नहीं है।
- (b) यदि कथन II का डाटा अकेले प्रश्नों का उत्तर देने के लिए पर्याप्त है जबकि कथन I का डाटा अकेले प्रश्नों का उत्तर देने के लिए पर्याप्त नहीं है।
- (c) यदि कथन I का डाटा या कथन II का डाटा अकेले प्रश्नों का उत्तर देने के लिए पर्याप्त है।
- (d) यदि कथन I और II दोनों का डाटा एक साथ प्रश्नों का उत्तर देने के लिए पर्याप्त नहीं है।
- (e) यदि कथन I और II दोनों का डाटा एक साथ प्रश्नों का उत्तर देने के लिए आवश्यक है।

Directions (24-28): निम्नलिखित जानकारी का ध्यानपूर्वक अध्ययन कीजिए और नीचे दिए गए प्रश्नों के उत्तर दीजिए।

एक निश्चित कूट भाषा में,

'water earth fixing food' को 'id5 tu6 sv5 wu4' के रूप में कूटबद्ध किया है

'award no using great' को 'lm2 tf5 gt5 wz5' के रूप में कूटबद्ध किया है

'greatest word likely wastage' को 'wd4 bo6 gt8 vd7' के रूप में कूटबद्ध किया है

Q24. निम्नलिखित में से 'working' के लिए क्या कूट है?

- (a) dl5
- (b) td7
- (c) ot7
- (d) dt5
- (e) इनमें से कोई नहीं

Q25. निम्नलिखित में से कौन सा शब्द 'vi5' के रूप में कूटबद्ध किया गया है?

- (a) tree
- (b) rainbow
- (c) lavel
- (d) rouge
- (e) tough

Q26. 'word orange' के लिए क्या कूट होगा?

- (a) lv6 dw4
- (b) wd6 vl4
- (c) wd4 vl6
- (d) vi6 dw4
- (e) इनमें से कोई नहीं

Q27. निम्नलिखित में से कौन सा कूट 'Earth' के लिए है?

- (a) sv5
- (b) zg5
- (c) no5
- (d) hf5
- (e) इनमें से कोई नहीं

Q28. 'Mango' के लिए क्या कूट होगा?

- (a) nl5
- (b) ol5
- (c) gh6
- (d) ln5
- (e) इनमें से कोई नहीं



**CAREER POWER**
AN IIT/IIM ALUMNI COMPANY

**IT OFFICER**
(SCALE -I)
2017-18

COMBO

- 10 PRELIMS MOCKS
- 10 MAINS MOCKS

Bilingual

English Medium

Directions (29-33): निम्नलिखित जानकारी का ध्यानपूर्वक अध्ययन कीजिए और नीचे दिए गए प्रश्नों के उत्तर दीजिए:

आठ व्यक्ति A, B, C, D, E, F, G और H एक सीधी रेखा में बैठे हैं (लेकिन जरूरी नहीं समान क्रम में हो)। उनमें से तीन दक्षिण की ओर उन्मुख हैं और शेष उत्तर दिशा की ओर उन्मुख हैं। उन सभी के अपने लकी नंबर हैं अर्थात् : 12, 13, 37, 47, 52, 17, 25 और 18 (जरूरी नहीं समान क्रम में हो)

F, C के दायें स्थान पर बैठा है। E का लकी नंबर अभाज्य संख्या है। G और E विपरीत दिशा की ओर उन्मुख हैं। C का लकी नंबर, E के लकी नंबर और F के लकी नंबर का औसत है। B, पंक्ति के अंतिम सिरे से तीसरे स्थान पर बैठा है। H का लकी नंबर दी गयी सभी संख्याओं में से कम से कम दो संख्याओं से कम है। C, उत्तर दिशा की ओर उन्मुख नहीं है। G, C और E दोनों का निकटतम पड़ोसी है। B, दक्षिण दिशा की ओर उन्मुख है। B का लकी नंबर, G के लकी नंबर से कम है लेकिन H के लकी नंबर से बड़ा है। D, G के दायें से दूसरे स्थान पर बैठा है। C, B के ठीक बायें बैठा है। H, C से दायें से तीसरे स्थान पर बैठा है। वह व्यक्ति जो कोने पर बैठा है, उसका लकी नंबर अभाज्य संख्या है। सभी मित्र जो D के बायें स्थान पर बैठे हैं, उनका लकी नंबर, D के लकी नंबर से कम है। E का लकी नंबर, दी गयी सभी संख्याओं में से कम से कम तीन संख्याओं से बड़ा है। वह व्यक्ति जिसका लकी नंबर 17 है, वह D के ठीक दायें और F के ठीक बायें नहीं बैठा है।

Q29. निम्नलिखित में से कौन उस व्यक्ति के बायें से दूसरे स्थान पर बैठा है जिसका लकी नंबर 52 है?

- (a) वह व्यक्ति जिसका लकी नंबर 13 है
- (b) (C) और (E) दोनों
- (c) G
- (d) इनमें से कोई नहीं
- (e) वह व्यक्ति जिसका लकी नंबर 18 है

Q30. C का लकी नंबर क्या है?

- (a) 12
- (b) 47
- (c) 37
- (d) 25
- (e) इनमें से कोई नहीं

Q31. निम्नलिखित में से कौन उस व्यक्ति के दायें से तीसरे स्थान पर बैठा है जिसका लकी नंबर 25 है?

- (a) B
- (b) C
- (c) A
- (d) H
- (e) इनमें से कोई नहीं

Q32. वह व्यक्ति जिसका लकी नंबर 37 है उसके संदर्भ में F का स्थान क्या है?

- (a) बायें से दूसरा
- (b) बायें से तीसरा
- (c) दायें से दूसरा
- (d) दायें से चौथा
- (e) इनमें से कोई नहीं

Q33. C, किस दिशा की ओर उन्मुख है?

- (a) उत्तर
- (b) दक्षिण
- (c) D जिस दिशा की ओर उन्मुख है उसी दिशा की ओर
- (d) (A) और (C) दोनों सत्य हैं
- (e) कोई सत्य नहीं है

Directions (34-36): नीचे दिए गए प्रत्येक प्रश्न में दो कथन (A) और (B) हैं। ये कथन या तो स्वतंत्र कारण हो सकते हैं या स्वतंत्र कारण या समान्य कारण के प्रभाव हो सकते हैं। इन कथनों में से एक अन्य कथन का प्रभाव हो सकता है। दोनों कथनों को ध्यानपूर्वक पढ़िए और निर्णय कीजिये कि निम्न उत्तर विकल्पों में से कौन सा इन दोनों कथनों के बीच संबंध को दर्शाता है।
उत्तर दीजिये:

Q34. (A) भारत ने ऑस्ट्रेलिया को हराकर हॉकी चैंपियनशिप में स्वर्ण पदक और ट्रॉफी जीती।

(B) डाटो मुस्तफा ने विजेताओं को ट्रॉफी दी।

- (a) यदि कथन (A) प्रभाव है और कथन (B) उसका कारण है
- (b) यदि कथन (A) कारण है और कथन (B) प्रभाव है
- (c) यदि कथन (A) प्रभाव है लेकिन कथन (B) कारण नहीं हैं
- (d) यदि कथन (B) प्रभाव है लेकिन कथन (A) इसका कारण नहीं है
- (e) यदि दोनों कथन (A) और (B) स्वतंत्र कारण हैं

Q35. (A) बार काउंसिल ऑफ इंडिया (बीसीआई) ने आने वाले शैक्षिक सत्र से देश में सभी इवनिंग लॉ कॉलेजों को बंद करने का आदेश दिया है।

(B) राज्य में इवनिंग लॉ कॉलेजों में शिक्षा के स्तर में गिरावट पाई गयी है।

- (a) यदि कथन (A) प्रभाव है और कथन (B) उसका कारण है
- (b) यदि कथन (A) कारण है और कथन (B) प्रभाव है
- (c) यदि कथन (A) प्रभाव है लेकिन कथन (B) कारण नहीं हैं
- (d) यदि कथन (B) प्रभाव है लेकिन कथन (A) इसका कारण नहीं है
- (e) यदि दोनों कथन (A) और (B) स्वतंत्र कारण हैं

Q36. (A) वित्त मंत्रालय ने अतिरिक्त कराधान लगाया है।

(B) देश के राजकोषीय घाटे को कम कर दिया गया है।

- (a) यदि कथन (A) प्रभाव है और कथन (B) उसका कारण है
- (b) यदि कथन (A) कारण है और कथन (B) प्रभाव है
- (c) यदि कथन (A) प्रभाव है लेकिन कथन (B) कारण नहीं हैं
- (d) यदि कथन (B) प्रभाव है लेकिन कथन (A) इसका कारण नहीं है
- (e) यदि दोनों कथन (A) और (B) स्वतंत्र कारण हैं

Q37. मेमोरी यूनिट किसका एक भाग है?

- (a) इनपुट डिवाइस
- (b) कंट्रोल यूनिट
- (c) आउटपुट डिवाइस
- (d) सेंट्रल प्रोसेसिंग यूनिट
- (e) इनमें से कोई नहीं

Directions (38-42): नीचे दिए गए प्रत्येक प्रश्न में, कुछ कथन दिए गए हैं जिनके बाद कुछ निष्कर्ष दिए गए हैं। आपको दिए गए सभी कथनों को सत्य मानना है भले ही वे सर्वज्ञात तथ्यों से भिन्न प्रतीत होते हों और इसके बाद निर्णय लेना है कि दिया गया कौन सा निष्कर्ष कथनों में दी गई जानकारी का तार्किक रूप से अनुसरण करते हैं। उत्तर दीजिए

Q38. कथन :

सभी ब्रिक्स, स्टोंस हैं
कुछ स्टोंस, रॉक्स हैं
सभी रॉक्स, माउंटेन्स हैं

निष्कर्ष :

- I. कुछ माउंटेन्स कभी भी ब्रिक्स नहीं हो सकते हैं
- II. सभी स्टोंस, माउंटेन्स हो सकते हैं
- (a) यदि केवल निष्कर्ष I अनुसरण करता है
- (b) यदि केवल निष्कर्ष II अनुसरण करता है
- (c) यदि या तो निष्कर्ष I या II अनुसरण करता है
- (d) यदि न तो निष्कर्ष I न II अनुसरण करता है
- (e) यदि निष्कर्ष I और II दोनों अनुसरण करते हैं

Q39. कथन :

कुछ रेडियो, टेलीफोन हैं
सभी टेलीफोन, मिरर हैं
सभी मिरर, डेस्क हैं

निष्कर्ष :

- I. कुछ रेडियो, मिरर हो सकते हैं
- II. सभी डेस्क कभी भी टेलीफोन नहीं हो सकते हैं
- (a) यदि केवल निष्कर्ष I अनुसरण करता है
- (b) यदि केवल निष्कर्ष II अनुसरण करता है
- (c) यदि या तो निष्कर्ष I या II अनुसरण करता है
- (d) यदि न तो निष्कर्ष I न II अनुसरण करता है
- (e) यदि निष्कर्ष I और II दोनों अनुसरण करते हैं



IBPS SPECIAL COMBO 2017

with Video Solutions

360 TOTAL TESTS

- 150 Full Length Mocks
- 210 Practice Sets
- E-Books, Study Notes etc.

Bilingual

Q40. कथन:

सभी फर्नीचर, जंगल हैं
कोई जंगल, रोड नहीं है
कुछ रोड, हिल्स हैं

निष्कर्ष :

I. कुछ हिल्स, जंगल नहीं हो सकते हैं

II. कोई हिल्ल, जंगल नहीं है

- (a) यदि केवल निष्कर्ष I अनुसरण करता है
- (b) यदि केवल निष्कर्ष II अनुसरण करता है
- (c) यदि या तो निष्कर्ष I या II अनुसरण करता है
- (d) यदि न तो निष्कर्ष I न II अनुसरण करता है
- (e) यदि निष्कर्ष I और II दोनों अनुसरण करते हैं

Q41. कथन:

सभी विन्डो, बोट हैं
सभी बोट, डोर हैं
सभी डोर, बिल्डिंग हैं

निष्कर्ष :

I. सभी बोट, बिल्डिंग नहीं हो सकती हैं

II. सभी डोर कभी भी विन्डो नहीं हो सकते हैं

- (a) यदि केवल निष्कर्ष I अनुसरण करता है
- (b) यदि केवल निष्कर्ष II अनुसरण करता है
- (c) यदि या तो निष्कर्ष I या II अनुसरण करता है
- (d) यदि न तो निष्कर्ष I न II अनुसरण करता है
- (e) यदि निष्कर्ष I और II दोनों अनुसरण करते हैं

Q42. कथन :

सभी हाउस, व्हील्स हैं
कुछ व्हील्स, ट्री हैं
कोई ट्री, प्लांट नहीं है

निष्कर्ष :

I. कोई हाउस, प्लांट नहीं है

II. सभी व्हील्स कभी भी प्लांट नहीं हो सकते हैं

- (a) यदि केवल निष्कर्ष I अनुसरण करता है
- (b) यदि केवल निष्कर्ष II अनुसरण करता है
- (c) यदि या तो निष्कर्ष I या II अनुसरण करता है
- (d) यदि न तो निष्कर्ष I न II अनुसरण करता है
- (e) यदि निष्कर्ष I और II दोनों अनुसरण करते हैं

Q43. इंटरनेट का प्रयोग करने के लिए सेल फोन _____ का उपयोग करते हैं?

- (a) एमएमएस टेक्नोलॉजी
- (b) ए नोटेशन सिस्टम
- (c) माइक्रो ब्राउज़र सॉफ्टवेयर
- (d) एचटीएमएल लैंग्वेज
- (e) इनमें से कोई नहीं

Directions (44-48): निम्नलिखित जानकारी का ध्यानपूर्वक अध्ययन कीजिए और नीचे दिए गए प्रश्नों के उत्तर दीजिए।

सात व्यक्ति A, B, C, D, E, F और G हैं और वे अलग अलग रंग पसंद करते हैं अर्थात् : लाल, हरा, पीला, नीला, गुलाबी, भूरा और काला(जरूरी नहीं समान क्रम में हो)। साथ ही वह अलग अलग शहर से सम्बन्धित हैं अर्थात् : यूपी, मध्यप्रदेश, आंध्रप्रदेश, हिमाचल प्रदेश, बिहार, पश्चिम ब. और उत्तराखंड, लेकिन जरूरी नहीं समान क्रम में हो। वे सभी सोमवार से आरम्भ करते हुए रविवार तक अलग-अलग दिनों में छुट्टी पर जाते हैं(जरूरी नहीं समान क्रम में हो)।

पीला रंग पसंद करने वाला व्यक्ति, मंगलवार और रविवार को नहीं जाता है। A न तो हिमाचल प्रदेश न मध्य प्रदेश से है। G, काला रंग पसंद करता है। या तो C या D, एपी से सम्बन्धित है। भूरा रंग पसंद करने वाला व्यक्ति, शुक्रवार को जाता है। बिहार से सम्बन्धित व्यक्ति, बृहस्पतिवार को जाता है। B, यूपी से सम्बन्धित है और F, गुलाबी रंग पसंद करता है। हिमाचल प्रदेश से सम्बन्धित व्यक्ति, नीला रंग पसंद करता है। D और C दोनों, एचपी से सम्बन्धित नहीं हैं। E, मंगलवार को नहीं जाता है। मध्यप्रदेश से सम्बन्धित व्यक्ति, लाल रंग पसंद करता है। उत्तराखंड से सम्बन्धित व्यक्ति, काला और गुलाबी रंग पसंद नहीं करता है। उत्तराखंड से सम्बन्धित व्यक्ति भूरा और पीला रंग पसंद नहीं करता है। C और D भूरा रंग पसंद नहीं करते हैं। F, पश्चिम ब. से सम्बन्धित नहीं है। D, पीला रंग पसंद नहीं करता है लेकिन सोमवार को जाता है। हरा रंग पसंद करने वाला व्यक्ति, शनिवार को जाता है।

Q44. F, निम्नलिखित में से कौन से शहर से सम्बन्धित है और छुट्टियों पर किस दिन जाता है?

- (a) मध्यप्रदेश, बुधवार
- (b) आंध्रप्रदेश, बृहस्पतिवार
- (c) बिहार, बुधवार
- (d) बिहार, बृहस्पतिवार
- (e) इनमें से कोई नहीं

Q45. लाल रंग पसंद करने वाला व्यक्ति, निम्नलिखित में से कौन से शहर से सम्बन्धित है?

- (a) उत्तराखंड
- (b) मध्यप्रदेश
- (c) बिहार
- (d) आंध्रप्रदेश
- (e) इनमें से कोई नहीं

Q46. निम्नलिखित में से कौन पीला रंग पसंद करता है?

- (a) D
- (b) A
- (c) G
- (d) C
- (e) इनमें से कोई नहीं

Q47. निम्नलिखित में से कौन सा कथन सत्य है?

- (a) C, लाल रंग पसंद करता है
- (b) B, पीला रंग पसंद करता है
- (c) E, रविवार को छुट्टियों पर जाता है
- (d) G, पीला रंग पसंद करता है
- (e) G रविवार को छुट्टियों पर जाता है

Q48. D, निम्नलिखित में से कौन सा रंग पसंद करता है?

- (a) लाल
- (b) गुलाबी
- (c) पीला
- (d) काला
- (e) इनमें से कोई नहीं

Q49. एक कक्षा में, A शीर्ष से छठे स्थान पर है और B, तल से अठारहवें स्थान पर है। C, A से 14 स्थान नीचे है और B से 16 स्थान ऊपर है। कक्षा में कितने विद्यार्थी हैं?

- (a) 53
- (b) 54
- (c) 52
- (d) 50
- (e) इनमें से कोई नहीं

Q50. एक निश्चित कूट भाषा में, शब्द 'INCUMBENT' को 'TCNBMUNEI' लिखा जाता है। इस कूट भाषा में शब्द 'PUBLISHED' को क्या लिखा जाएगा?

- (a) DUBSILEHP
- (b) DBULISEHP
- (c) DUBILSEHP
- (d) DBUSILEHP
- (e) इनमें से कोई नहीं



**AGRICULTURE FIELD
OFFICER (SCALE -I)
2017-18**

COMBO

• 10 PRELIMS MOCKS

Bilingual

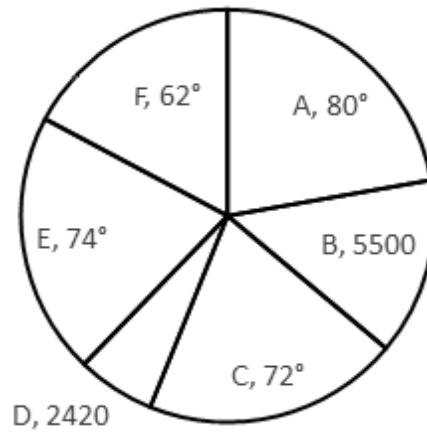
• 10 MAINS MOCKS

Only English Medium



Directions (51-55): नीचे दिए गए पाई-चार्ट में, पूर्ण मूल्य या डिग्री मान के रूप में, छह गावों में साक्षर व्यक्तियों की संख्या के वितरण को दर्शाया गया है।

नीचे दी गई तालिका में वह प्रतिशत मान दर्शाया गया है जिसके द्वारा निरक्षर व्यक्ति, साक्षर व्यक्तियों से अधिक या कम है।
नोट : गाँव B और D के डिग्री मान के बीच का अंतर 28° है।



गाँव	प्रतिशत जिसमें निरक्षर व्यक्ति साक्षर व्यक्तियों से अधिक या कम हैं
A	$13\frac{7}{11}\%$ अधिक
B	$9\frac{1}{11}\%$ कम
C	25% अधिक
D	$18\frac{2}{11}\%$ अधिक
E	25% कम
F	$18\frac{2}{11}\%$ अधिक

Q51. गाँव B और E में मिलाकर, निरक्षर व्यक्तियों की कुल संख्या ज्ञात कीजिए ?

- (a) 11150
- (b) 10105
- (c) 11105
- (d) 11050
- (e) 10050

Q52. गाँव A के निरक्षर व्यक्तियों की संख्या, सभी गांवों के मिलाकर साक्षर व्यक्तियों की कुल संख्या का लगभग कितने प्रतिशत है?

- (a) 25.3%
- (b) 23.5%
- (c) 24.6%
- (d) 22.4%
- (e) 28.6%

Q53. गाँव A और D के मिलाकर, साक्षर व्यक्तियों की कुल संख्या तथा गाँव F और B के मिलाकर, साक्षर व्यक्तियों की कुल संख्या के बीच का अनुपात ज्ञात कीजिए।

- (a) 65 : 51
- (b) 51 : 76
- (c) 56 : 51
- (d) 51 : 56
- (e) इनमें से कोई नहीं

Q54. यदि गाँव F में कुल निरक्षर व्यक्तियों की संख्या का $\frac{15}{26}$ भाग पुरुष हैं, जबकि समान गाँव में कुल साक्षर व्यक्तियों की संख्या का $\frac{13}{22}$ भाग पुरुष हैं, तो गाँव F में पुरुषों की कुल संख्या ज्ञात कीजिए।

- (a) 5870
- (b) 8680
- (c) 6860
- (d) 8750
- (e) 8570

Q55. गाँव B, C, D और E के मिलाकर साक्षर व्यक्तियों की संख्या का औसत (डिग्री मानों के संदर्भ में) कितना है?

- (a) 55.4°
- (b) 56.8°
- (c) 54.5°
- (d) 52.5°
- (e) इनमें से कोई नहीं

Q56. A, B और C एक साझेदारी करते हैं और कुछ धनराशि निवेश करते हैं। एक वर्ष बाद, A अपने निवेश को दुगुना कर देता है, B अपने निवेश में $33\frac{1}{3}\%$ की वृद्धि करता है और C अपने निवेश में 20% की वृद्धि करता है। तीसरे वर्ष में, A और B अपनी निवेश की गई धनराशि निकाल लेते हैं तथा D, C के साथ साझेदारी में शामिल होता है। तीन वर्ष के अंत में उन्हें लाभ 12 : 14 : 17 : 8 (A : B : C : D) के अनुपात में प्राप्त होता है। यदि B और C के आरंभिक निवेश के बीच का अंतर 1150 रु. है, तो A और D द्वारा मिलाकर किया गया कुल आरंभिक निवेश ज्ञात कीजिए।

- (a) 12100
- (b) 14400
- (c) 13800
- (d) 15000
- (e) इनमें से कोई नहीं

Q57. X और Y मिलकर एक कार्य को 10 दिन में पूरा कर सकते हैं। Z समान कार्य को 28 दिनों में नष्ट कर सकता है। X और Y कार्य करना आरंभ करते हैं तथा 12 दिन के लिए कार्य करते हैं साथ ही Z 12 दिन के लिए कार्य को नष्ट करना आरंभ करता है। इसके बाद X और Z कार्य करना छोड़ देते हैं तथा शेष कार्य को Y 4 दिन में पूरा करता है। समान कार्य को X अकेले कितने दिनों में पूरा कर सकता है?

- (a) $23\frac{2}{3}$ दिन
- (b) 23 दिन
- (c) 20 दिन
- (d) 15 दिन
- (e) $23\frac{1}{3}$ दिन

Q58. एक दुकानदार एक वस्तु को अंकित मूल्य पर 10% छूट पर बेचता है। वह पाता है कि उसे $16\frac{2}{3}\%$ का लाभ हुआ है, लेकिन क्रय मूल्य पर लाभ की गणना करने की बजाय, वह क्रय मूल्य और विक्रय मूल्य के योग पर लाभ की गणना करता है। यदि वस्तु का क्रय मूल्य 1350 रु. है तो अंकित मूल्य ज्ञात कीजिए।

- (a) 2100
- (b) 2300
- (c) 1890
- (d) 1500
- (e) इनमें से कोई नहीं

Q59. एक नाव धारा के अनुकूल 75 कि.मी. की यात्रा तय करने में उतना ही समय लेती है, जितना धारा के प्रतिकूल 60 कि.मी. की यात्रा तय करने में लेती है। धारा के अनुकूल नाव की गति, शांत जल में नाव की गति का कितने प्रतिशत है?

- (a) $111\frac{1}{9}\%$
- (b) $112\frac{1}{2}\%$
- (c) 113%
- (d) 140%
- (e) इसमें से कोई नहीं

Q60. एक धनराशि पर 4 वर्ष के लिए साधारण ब्याज की 11% की दर से अर्जित ब्याज, समान धनराशि को चक्रवृद्धि ब्याज पर एक योजना में 2 वर्ष के लिए निवेश करने पर अर्जित ब्याज के बराबर है। यदि 3 वर्षों के लिए चक्रवृद्धि ब्याज पर अर्जित ब्याज 10920 रु. है, तो आरंभ में निवेश की गयी धनराशि ज्ञात कीजिए।

- (a) 9200
- (b) 10500
- (c) 15000
- (d) 11000
- (e) इनमें से कोई नहीं

Directions (61-65): निम्नलिखित संख्या श्रृंखला में प्रश्नवाचक चिह्न (?) के स्थान पर क्या आना चाहिए?

Q61. 461, 474, 465, 478, 469, ?

- (a) 460
- (b) 482
- (c) 456
- (d) 478
- (e) इनमें से कोई नहीं

 **CAREER POWER**
AN IIT/IIM ALUMNI COMPANY



RBI OFFICE ATTENDANT

All India Mock 2017

USE CODE: RBIA17

for 100% discount

Q62. 18, 27, 9, 36, 0, ?

- (a) 27
- (b) 36
- (c) 45
- (d) 54
- (e) 63

Q63. 482, 243, ?, 25, 10

- (a) 75
- (b) 78
- (c) 80
- (d) 81
- (e) 84

Q64. 620, 632, 608, 644, 596, ?

- (a) 536
- (b) 556
- (c) 656
- (d) 646
- (e) इनमें से कोई नहीं

Q65. 120, 320, ?, 2070, 5195, 13007.5

- (a) 800
- (b) 920
- (c) 850
- (d) 900
- (e) इनमें से कोई नहीं

Q66. तीन कंटेनर A, B और C की क्षमता का अनुपात क्रमशः 6 : 8 : 7 है। इन तीन कंटेनरों में तीन प्रकार के द्रव X, Y और Z को क्रमशः 2 : 3 : 1 (कंटेनर-A में), 1 : 2 : 5 (कंटेनर-B में), 3 : 1 : 3 (कंटेनर-C में) के अनुपात में मिलाया जाता है। इन तीनों कंटेनरों से समान मात्रा निकाल कर एक चौथे कंटेनर-D में मिलाई जाती है। कंटेनर-D में द्रव-Y की मात्रा, द्रव-X की मात्रा से $\frac{1}{8}$ लीटर अधिक है। प्रत्येक कंटेनर से निकाली गई मात्रा ज्ञात कीजिए।

- (a) 24
- (b) 35
- (c) 21
- (d) 20
- (e) इनमें से कोई नहीं

Q67. एक बस-X, बिंदु P से Q के लिए अपनी यात्रा आरंभ करती है, उसी समय एक अन्य बस-Y, बिंदु Q से P के लिए अपनी यात्रा आरंभ करती है, वे अपने अपने गंतव्य पर 3 घंटे के बाद पहुंचती है। बस-X पहले घंटे में 40 कि.मी./घं. की गति से यात्रा करती है, दूसरे घंटे में 50 कि.मी./घं. से और तीसरे घंटे में 60 कि.मी./घं. की गति से यात्रा करती है। बस-Y पहले घंटे में 60 कि.मी./घं., दूसरे घंटे में 40 कि.मी./घं. और अंतिम घंटे में 50 कि.मी./घं. की गति से यात्रा करती है। Q और जिस स्थान पर दोनों बसें एक-दूसरे को पार करती हैं उनके बीच की दूरी ज्ञात कीजिए।

- (a) 87
- (b) 88
- (c) 89
- (d) $82\frac{2}{9}$
- (e) $87\frac{7}{9}$

Q68. दिनेश और पंकज दो प्रकार की परीक्षा (नेट और गेट) देते हैं। नेट-परीक्षा में दिनेश और पंकज द्वारा प्राप्त औसत अंक 60 हैं तथा इनके द्वारा गेट-परीक्षा में प्राप्त औसत अंक $32\frac{1}{2}$ हैं। यदि पंकज गेट-परीक्षा की तुलना में, नेट-परीक्षा में दुगुने अंक प्राप्त करता है तथा दिनेश गेट-परीक्षा की तुलना में, नेट-परीक्षा में $66\frac{2}{3}\%$ अधिक अंक प्राप्त करता है, तो दोनों परीक्षाओं में दिनेश द्वारा प्राप्त अंकों तथा पंकज द्वारा दोनों परीक्षाओं में प्राप्त अंकों के बीच का अंतर ज्ञात कीजिए।

- (a) 20
- (b) 24
- (c) 23
- (d) 25
- (e) 28

Q69. दो प्रवेशिका पाइप एक टंकी को 10 घंटों में भर सकते हैं तथा समान क्षमता के 3 निकासी पाइप, समान टंकी को 40 घंटों में खाली कर सकते हैं। यदि केवल दो प्रवेशिका पाइपों का प्रयोग किया जाता है तो पानी के स्तर को स्थिर रखने के लिए आवश्यक निकासी पाइपों की संख्या ज्ञात कीजिए।

- (a) 9
- (b) 12
- (c) 15
- (d) 8
- (e) इनमें से कोई नहीं

Q70. एक दुकानदार के पास दो प्रकार के चावल हैं। प्रकार-1 के चावल, प्रकार-2 के चावलों की तुलना में 20% अधिक महंगे हैं। वह इन दोनों प्रकार के चावलों को एक निश्चित अनुपात में मिलाता है तथा मिश्रण का मूल्य, प्रकार-2 के चावलों के क्रय मूल्य से 10% अधिक अंकित करता है। पूरे मिश्रण को बेचने पर उसे 100/43% लाभ प्राप्त होता है। प्रकार-1 और प्रकार-2 के चावलों को किस अनुपात में मिलाया गया?

- (a) 3 : 5
- (b) 2 : 5
- (c) 5 : 7
- (d) 3 : 4
- (e) इनमें से कोई नहीं

Q71. B की कार्य-क्षमता C से तिगुनी हैं। B और C एक कार्य को $45/2$ दिन में पूरा कर सकते हैं। A इस कार्य को पूरा करने में, A और B द्वारा मिलकर समान कार्य को पूरा करने में लगे दिनों से, 50% अधिक दिन लेता है।

मात्रा 1: उनमें से तीव्र गति से कार्य करने वाले व्यक्ति द्वारा अकेले कार्य पूरा करने के लिए, लिए गए दिनों की संख्या।

मात्रा 2: A और C द्वारा मिलकर कार्य पूरा करने में लगा समय।

- (a) मात्रा I > मात्रा II
- (b) मात्रा I < मात्रा II
- (c) मात्रा I \geq मात्रा II
- (d) मात्रा I \leq मात्रा II
- (e) मात्रा I = मात्रा II या कोई संबंध नहीं है

Q72. मात्रा I → यदि विक्रय मूल्य और क्रय मूल्य के बीच का अंतर 600 का $117\frac{2}{3}\%$ है, तो एक वस्तु को बेचने पर अर्जित लाभ (रु. में)।

मात्रा II → यदि वस्तु का विक्रय मूल्य 1000रु. है और वस्तु को बेचने पर 25% लाभ प्राप्त करता है, तो वस्तु का क्रय मूल्य (रु. में)।

- (a) मात्रा I > मात्रा II
- (b) मात्रा I < मात्रा II
- (c) मात्रा I \geq मात्रा II
- (d) मात्रा I = मात्रा II
- (e) कोई संबंध नहीं है

Q73. मात्रा I → $-21x^3y^3$, **मात्रा II** → $11x^4y^3$, यदि $x > 0$ और $y < 0$

- (a) मात्रा I > मात्रा II
- (b) मात्रा I < मात्रा II
- (c) मात्रा I \leq मात्रा II
- (d) मात्रा I = मात्रा II या कोई संबंध नहीं है
- (e) मात्रा I \geq मात्रा II


Q74. एक 7 से.मी. के किनारे वाले लकड़ी के घन में से, सबसे बड़ा संभावित लंब वृत्तीय बेलन काटा जाता है।


मात्रा I: बेलन काटने के बाद, शेष घन का आयतन।

मात्रा II: बेलन काटने के बाद शेष घन का पृष्ठ क्षेत्रफल।

नोट : दोनों मात्राओं के परिमाण की तुलना कीजिये।

- (a) मात्रा I > मात्रा II
- (b) मात्रा I < मात्रा II
- (c) मात्रा I \geq मात्रा II
- (d) मात्रा I \leq मात्रा II
- (e) मात्रा I = मात्रा II या कोई संबंध नहीं है

**CAREER POWER™**
AN IIT/IIM ALUMNI COMPANY

**IBPS CLERK**
MAINS

with Video Solutions

40 TOTAL TESTS

- 15 Full Length Mocks
- 25 Practice Sets
- E-Books, Study Notes etc.

Bilingual

Q75. मात्रा 1: सबसे अधिक और सबसे कम धनराशि के बीच अंतर। 1440 रु. की एक धनराशि को तीन भागों में इस प्रकार उधार दिया जाता है कि पहले भाग पर 3 वर्षों के लिए 2% ब्याज दर से अर्जित ब्याज, दूसरे भाग पर 4 वर्षों के लिए 3% ब्याज दर से अर्जित ब्याज और तीसरे भाग पर 5 वर्षों के लिए 4% ब्याज दर से अर्जित ब्याज बराबर है।

मात्रा 2: 460

- (a) मात्रा I > मात्रा II
- (b) मात्रा I < मात्रा II
- (c) मात्रा I ≥ मात्रा II
- (d) मात्रा I ≤ मात्रा II
- (e) मात्रा I = मात्रा II या कोई संबंध नहीं है

Directions (76-80): नीचे दी गई तालिका में, एक विद्यालय की 5 विभिन्न कक्षाओं से विद्यार्थियों की संख्या के प्रतिशत वितरण को दर्शाया गया है, जो वर्ष 2016 में आयोजित वार्षिक परीक्षा में विभिन्न विषयों में अनुत्तीर्ण हुए थे।

कक्षाएं	1 विषय में अनुत्तीर्ण	2 विषयों में अनुत्तीर्ण	3 विषयों में अनुत्तीर्ण	4 विषयों में अनुत्तीर्ण	5 विषयों में अनुत्तीर्ण	6 विषयों में अनुत्तीर्ण
कक्षा V	25	15	22	12	—	18
कक्षा VI	16	25	18	—	—	—
कक्षा VII	—	—	14	20	22	16
कक्षा VIII	—	—	12	20	25	15
कक्षा IX	15	22	10	—	24	14

नोट : परीक्षा में केवल 6 विषयों को संघटित किया गया है।

Q76. यदि कक्षा VII और VIII में कम से कम 3 विषयों में अनुत्तीर्ण होने वाले विद्यार्थियों की संख्या क्रमशः 36 और 72 है, तो दोनों कक्षाओं से कुल मिलाकर ज्यादा से ज्यादा 2 विषयों में अनुत्तीर्ण होने वाले विद्यार्थियों की औसत संख्या ज्ञात कीजिए।

- (a) 21
- (b) 14
- (c) 28
- (d) 18
- (e) 22

Q77. यदि कक्षा IX में, 94 विद्यार्थी ज्यादा से ज्यादा 3 विषयों में अनुत्तीर्ण हुए तथा कक्षा VII में 14 विद्यार्थी कम से कम 3 विषयों में अनुत्तीर्ण हुए थे, तो कक्षा VII में अनुत्तीर्ण हुए विद्यार्थियों की कुल संख्या का, कक्षा IX में अनुत्तीर्ण हुए विद्यार्थियों की कुल संख्या से अनुपात ज्ञात कीजिए।

- (a) 3 : 5
- (b) 4 : 3
- (c) 3 : 4
- (d) 2 : 3
- (e) इनमें से कोई नहीं

Q78. यदि 1 विषय और 6 विषयों में अनुत्तीर्ण हुए विद्यार्थियों की संख्या के बीच का अंतर 21 है, तो कक्षा V में ज्यादा से ज्यादा 5 विषयों में अनुत्तीर्ण हुए विद्यार्थियों की संख्या तथा कम से कम 3 विषयों में अनुत्तीर्ण हुए विद्यार्थियों की संख्या के बीच का अंतर ज्ञात कीजिए।

- (a) 65
- (b) 68
- (c) 66
- (d) 72
- (e) इनमें से कोई नहीं

Q79. यदि प्रत्येक कक्षा में 200 विद्यार्थी अनुत्तीर्ण हुए, तो किस कक्षा में ज्यादा से ज्यादा 3 विषयों में अनुत्तीर्ण होने वाले विद्यार्थियों की संख्या, दूसरी सबसे कम थी?

- (a) VI
- (b) IX
- (c) VIII
- (d) VII
- (e) इनमें से कोई नहीं

Q80. यदि यह ज्ञात है कि कक्षा V में ज्यादा से ज्यादा 2 विषयों में अनुत्तीर्ण हुए विद्यार्थियों की संख्या, कक्षा VIII में ज्यादा से ज्यादा 2 विषयों में अनुत्तीर्ण हुए विद्यार्थियों की संख्या के बराबर है तथा साथ ही, कक्षा VIII में 5 विषयों में अनुत्तीर्ण होने वाले विद्यार्थियों की संख्या 50 है, तो कक्षा V में अनुत्तीर्ण हुए विद्यार्थियों की कुल संख्या ज्ञात कीजिए।

- (a) 156
- (b) 140
- (c) 138
- (d) 145
- (e) 142

Q81. एक ट्रेन जिसमें 6 डिब्बे और एक इंजन है, जिसे 15 डिब्बों और 2 इंजन से बनाया गया है। ट्रेन में 6 AC डिब्बों में से 4 AC डिब्बे होने चाहिए। ट्रेन बनाने के तरीकों की संख्या ज्ञात कीजिए।

- (a) 1540
- (b) 1200
- (c) 1080
- (d) 1008
- (e) 1440

Q82. शदब के पास 3 बॉक्स और 3 प्रकार की गेंदे (हरी, लाल और नीली) हैं। हरी गेंदों की कुल संख्या 24 है और लाल गेंदों की कुल संख्या, नीली गेंदों की कुल संख्या की दुगुनी हैं, तो हरी गेंदों को बॉक्स-1, बॉक्स-2 और बॉक्स-3 में 1 : 2 : 5 के अनुपात में रखा जाता है, तथा लाल और नीली दोनों गेंदों को क्रमशः 2 : 4 : 3 के अनुपात में रखा जाता है। यदि लाल गेंदे, गेंदों की कुल संख्या का 600/17% है, तो किसी भी बॉक्स में से एक हरी गेंद का चयन करने की प्रायिकता ज्ञात कीजिए।

- (a) 31/72
- (b) 42/97
- (c) 23/49
- (d) 33/56
- (e) इनमें से कोई नहीं

Q83. एक ट्रेन एक खम्बे को 24 सेकण्ड में पार करता है। समान लम्बाई की दूसरी ट्रेन, प्लेटफार्म को, पहली ट्रेन की गति की तुलना में 20% अधिक गति से, 30 सेकण्ड में पार करती है। ट्रेन की लम्बाई और प्लेटफार्म की लम्बाई का अनुपात ज्ञात कीजिए।

- (a) 2 : 1
- (b) 3 : 1
- (c) 2 : 3
- (d) 3 : 2
- (e) 1 : 2

Q84. एक कंपनी में प्रबंधक के पद के लिए मतदान होता है। चुनाव में दो प्रत्याशी भाग लेते हैं और इन दोनों प्रत्याशियों को छोड़ कर, कार्यालय के सभी कर्मचारियों के मत को गिना जाता है। 10% कर्मचारियों के अनुपस्थित होने के कारण वे अपना वोट नहीं दे सके। दिए गए मतों का 10% अमान्य हैं। जीतने वाला प्रत्याशी केवल एक मत से जीतता है। कम्पनी में कर्मचारियों की कुल संख्या का न्यूनतम मान कितना हो सकता है?

- (a) 102
- (b) 100
- (c) 81
- (d) 90
- (e) इनमें से कोई नहीं

Q85. विवाह के समय एक युगल की औसत आयु 26 वर्ष है। 4 वर्षों के बाद युगल और उनके दो बच्चों की औसत आयु 16 वर्ष है। यह मानते हुए की उनके बच्चे जुड़वां नहीं हैं तो उनके बच्चों की आयु ज्ञात कीजिए।

- (a) 1 वर्ष, 3 वर्ष
- (b) 2 वर्ष, 3 वर्ष
- (c) 1.5 वर्ष, 2.5 वर्ष
- (d) निर्धारित नहीं किया जा सकता
- (e) इनमें से कोई नहीं

Directions (86-90): निम्नलिखित में से प्रत्येक प्रश्न में, तीन कथन दिए हैं, आपको यह निर्धारित करना है कि कौन सा/से कथन प्रश्न का उत्तर देने के लिए आवश्यक हैं।

Q86. 2550 रु. की एक धनराशि को, A, B और C में वितरित किया जाना है। B का भाग कितना होगा?

- A. A का भाग, B के भाग का 1.5 गुना है।
- B. C, का भाग, A और B के मिलाकर कुल भाग का आधा है।
- C. A का भाग, B के भाग से 340 अधिक है।
- (a) या तो A और B मिलाकर या A और C मिलाकर पर्याप्त हैं
- (b) केवल A और B मिलाकर पर्याप्त हैं
- (c) केवल A और C मिलाकर पर्याप्त हैं
- (d) सभी कथन आवश्यक हैं
- (e) 3 कथनों में से कोई भी 2 कथन पर्याप्त हैं



AN IIT/IIM ALUMNI COMPANY



IT OFFICER
(SCALE - I)
2017-18

COMBO

- 10 PRELIMS MOCKS
- 10 MAINS MOCKS

Bilingual

English Medium

Q87. 40 विद्यार्थी पंक्ति और स्तंभ में बैठे हैं। प्रत्येक स्तंभ में कितने विद्यार्थी बैठे हैं?

- A. पंक्तियों की संख्या, स्तंभों की संख्या का 62.50% हैं।
- B. पंक्तियों की संख्या, स्तंभों की संख्या का $5/8$ हैं।
- C. पंक्तियों की संख्या, स्तंभों की संख्या से कम है।
- (a) केवल A
- (b) C और या तो A या B
- (c) केवल B
- (d) या तो A या B
- (e) सभी कथन आवश्यक हैं

Q88. एक नाव शांत जल में बिंदु A से B तक की यात्रा करने में 2 घंटे का समय लेती है। धारा के प्रतिकूल नाव की गति ज्ञात करने के लिए, निम्नलिखित में से कौन सी जानकारी आवश्यक है?

- A. बिंदु A और B के बीच की दूरी
- B. बिंदु B से A तक धारा के अनुकूल तय की गई यात्रा में लगा समय
- C. धारा की गति
- (a) सभी आवश्यक हैं
- (b) A और B, B और C या C और A के युग्म में से कोई एक युग्म पर्याप्त है।
- (c) केवल A और B
- (d) केवल A और C
- (e) इनमें से कोई नहीं

Q89. एक कुर्सी की कीमत कितनी है?

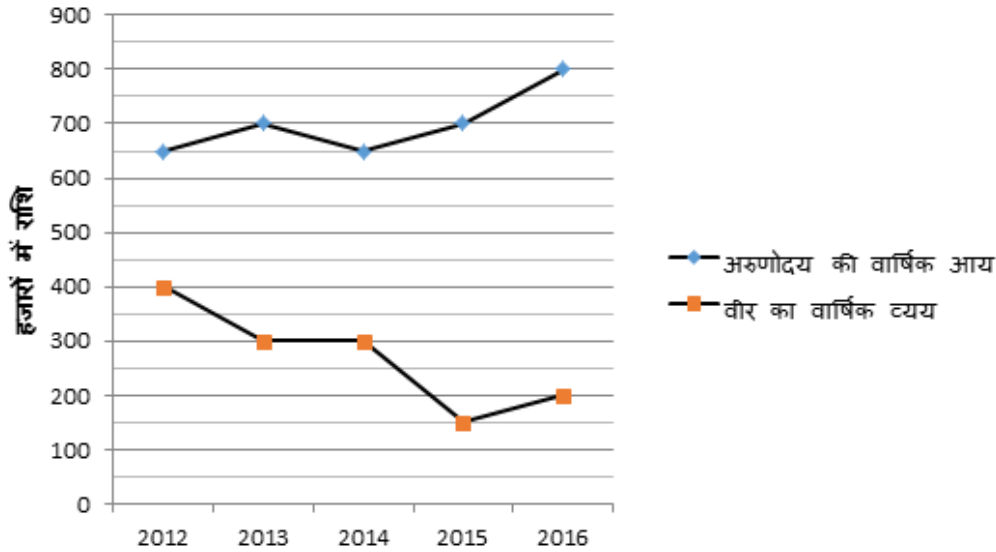
- A. तीन मेज की कीमत, सात कुर्सियों की कीमत के बराबर है।
- B. एक मेज और एक कुर्सी की कीमत के बीच अंतर 900रु. है।
- C. एक मेज की कीमत, एक कुर्सी की कीमत से $133\frac{1}{3}\%$ अधिक है।
- (a) केवल A और B मिलाकर पर्याप्त हैं
- (b) केवल A और C मिलाकर पर्याप्त हैं
- (c) सभी मिलाकर आवश्यक हैं
- (d) B और या तो A या C एक साथ आवश्यक हैं
- (e) सभी A, B और C मिलाकर भी पर्याप्त नहीं हैं

Q90. एक थैले में, केवल तीन अलग-अलग रंग की गेंदे हैं अर्थात् लाल, पीली और हरी। 3 गेंदे यादृच्छिक रूप से निकाली जाती हैं। निकाली गई तीनों गेंदों के अलग-अलग रंग के होने की प्रायिकता ज्ञात कीजिए।

- A. पीली रंग की गेंदों की संख्या, लाल गेंदों की संख्या से दो अधिक है
- B. पीली रंग और हरे रंग की गेंदों की संख्या का योग, लाल गेंदों की संख्या के तीन गुना है।
- C. लाल गेंदों की संख्या का, हरी गेंदों की संख्या से अनुपात 3 : 4 है।
- (a) A और या तो B या C
- (b) इनमें से कोई दो
- (c) केवल A और C मिलाकर
- (d) सभी जानकारी का उपयोग करने के बाद भी प्रश्न का उत्तर नहीं दिया जा सकता
- (e) सभी कथन आवश्यक हैं

Directions (91-95): निम्नलिखित ग्राफ और तालिका का ध्यानपूर्वक अध्ययन कीजिए और नीचे दिए प्रश्नों के उत्तर दीजिए।

वर्ष 2012-2016 में अरुणोदय की वार्षिक आय और वीर का वार्षिक व्यय (हजारों में) दिया है



नीचे दी गई तालिका में, वीर और (अरुणोदय+वीर) की वार्षिक आय का संबंधित अनुपात तथा अरुणोदय और (अरुणोदय+वीर) के वार्षिक व्यय का संबंधित अनुपात दर्शाया गया है।

वर्ष	वार्षिक आय	वार्षिक व्यय
2012	4 : 9	3 : 5
2013	4 : 11	2 : 5
2014	3 : 8	4 : 7
2015	2 : 9	5 : 8
2016	3 : 11	3 : 5

नोट : वार्षिक आय = वार्षिक व्यय + वार्षिक बचत

Q91. वर्ष 2012 और 2016 में मिलाकर अरुणोदय की वार्षिक बचत के औसत (हजारों में) तथा समान दो वर्षों में मिलाकर वीर की वार्षिक बचत के औसत (हजारों में) के बीच का अंतर ज्ञात कीजिए।

- (a) 160
- (b) 165
- (c) 155
- (d) 175
- (e) 150

Q92. वर्ष 2013 और 2015 में मिलाकर वीर की वार्षिक आय तथा वर्ष 2014 और 2016 में मिलाकर अरुणोदय के वार्षिक व्यय के बीच का अनुपात ज्ञात कीजिए।

- (a) 6 : 11
- (b) 5 : 7
- (c) 3 : 7
- (d) 6 : 7
- (e) इनमें से कोई नहीं

Q93. वर्ष 2015 और 2016 में मिलाकर वीर की वार्षिक बचत, वर्ष 2013 और 2016 में मिलाकर अरुणोदय की वार्षिक बचत का लगभग कितने प्रतिशत अधिक या कम है?

- (a) 82%
- (b) 88%
- (c) 85%
- (d) 90%
- (e) 86%

Q94. वर्ष 2017 में, वर्ष 2016 की तुलना में अरुणोदय की वार्षिक बचत में 12% की कमी होती है, जबकि इस वीर की वार्षिक बचत में 15% की वृद्धि होती है। यदि वर्ष 2017 में इनकी वार्षिक आय, वर्ष 2014 में इनकी वार्षिक आय के समान है तो वर्ष 2017 में इनका कुल व्यय ज्ञात कीजिए।

- (a) 485 हजार
- (b) 495 हजार
- (c) 478 हजार
- (d) 458 हजार
- (e) इनमें से कोई नहीं

Q95. वर्ष 2015 में अरुणोदय के व्यय, वर्ष 2016 में वीर की बचत और वर्ष 2013 में वीर की आय के मानों(हजारों में) का औसत ज्ञात कीजिए।

- (a) 755
- (b) 765
- (c) 705
- (d) 760
- (e) इनमें से कोई नहीं

Q96. सतीश की आयु, उसके पुत्र की वर्तमान आयु का 4 गुना है। 4 वर्षों के बाद सतीश की आयु, उसके पुत्र की आयु का 3 गुना हो जाती है। यदि सतीश की पत्नी की आयु, उसकी आयु का $\frac{7}{8}$ है, तो सतीश की पत्नी और उसके पुत्र की वर्तमान आयु का औसत ज्ञात कीजिए।

- (a) 18
- (b) 20
- (c) 14
- (d) 16
- (e) इनमें से कोई नहीं

Q97. एक टंकी को दो पाइप A और B द्वारा मिलकर पानी से 36 मिनट में भरा जा सकता है। यदि पाइप B को 30 मिनट बाद बंद कर दिया जाता है, तो टंकी 40 मिनट में भर जाती है। पाइप-B अकेले इस टंकी को कितने समय में भर सकता है?

- (a) 45 मिनट
- (b) 60 मिनट
- (c) 75 मिनट
- (d) 90 मिनट
- (e) इनमें से कोई नहीं



IBPS SPECIAL COMBO 2017

with Video Solutions

360 TOTAL TESTS

• 150 Full Length Mocks

• 210 Practice Sets

Bilingual

• E-Books, Study Notes etc.

Q98. अच्छी तरह से मिलाई गई ताश की गड्डी में से एक फेस कार्ड का चयन करने की प्रायिकता ज्ञात कीजिए, यह दिया गया है कि 2 अतिरिक्त जोकर कार्ड को भी फेस कार्ड के रूप में गिना जाता है?

- (a) $\frac{7}{26}$
- (b) $\frac{14}{27}$
- (c) $\frac{7}{27}$
- (d) $\frac{7}{52}$
- (e) इनमें से कोई नहीं

Q99. यदि ट्रेन की गति, कार की गति से 25% अधिक है तथा कार की गति, एक ट्रक की गति से 20% अधिक है, ट्रक 640 कि.मी. की दूरी 20 घंटे में तय करता है, जिसके दौरान वह प्रत्येक 100 कि.मी. के बाद 40 मिनट आराम करता है। ट्रेन को 600 कि.मी. की दूरी तय करने में कितना समय लगता है?

- (a) 9 घंटे
- (b) 8 घंटे 20 मिनट
- (c) 10 घंटे
- (d) 8 घंटे
- (e) इनमें से कोई नहीं

Q100. एक बेईमान दुकानदार, मूल्य में 25% की वृद्धि करता है तथा वह 1 कि.ग्रा. वजन की जगह 900ग्रा. वजन का प्रयोग करता है। यदि वह प्रति कि.ग्रा. 10% की छूट देता है तो लाभ% ज्ञात कीजिए।

- (a) 20%
- (b) 12.5%
- (c) 18%
- (d) 25%
- (e) इनमें से कोई नहीं

Directions (101-107): Read the following passage carefully and answer the questions given below it. Certain words are printed in bold to help you locate them while answering some of the questions.

Throughout human history the leading causes of death have been infection and trauma. Modern medicine has scored significant victories against both, and the major causes of ill health and death are now the chronic degenerative diseases, such as coronary artery disease, arthritis, osteoporosis, Alzheimer's, macular degeneration, cataract and cancer. These have a long latency period before symptoms appear and a diagnosis is made. It follows that the majority of apparently healthy people are pre-ill.

But are these conditions **inevitably** degenerative? A truly preventive medicine that focused on the pre-ill, analysing the metabolic errors which lead to clinical illness, might be able to correct them before the first symptom. Genetic risk factors are known for all the chronic degenerative diseases, and are important to the individuals who possess them. At the population level, however, migration

studies confirm that these illnesses are linked for the most part to lifestyle factors – exercise, smoking and nutrition. Nutrition is the easiest of these to change, and the most versatile tool for affecting the metabolic changes needed to tilt the balance away from disease.

Many national surveys reveal that malnutrition is common in developed countries. This is not the calorie and/or micronutrient deficiency associated with developing nations (Type A malnutrition); but multiple micronutrient depletion, usually combined with calorific balance or excess (Type B malnutrition). The incidence and severity of Type B malnutrition will be shown to be worse if newer micronutrient groups such as the essential fatty acids, xanthophylls and flavonoids are included in the surveys. Commonly ingested levels of these micronutrients seem to be far too low in many developed countries.

There is now considerable evidence that Type B malnutrition is a major cause of chronic degenerative diseases. If this is the case, then it is logical to treat such diseases not with drugs but with multiple micronutrient repletion, or 'pharmaco-nutrition'. This can take the form of pills and capsules – 'nutraceuticals', or food formats known as 'functional foods'. This approach has been neglected hitherto because it is relatively unprofitable for drug companies – the products are hard to patent – and it is a strategy which does not sit easily with modern medical interventionism. Over the last 100 years, the drug industry has invested huge sums in developing a range of **subtle** and powerful drugs to treat the many diseases we are subject to. Medical training is couched in pharmaceutical terms and this approach has provided us with an exceptional range of therapeutic tools in the treatment of disease and in acute medical emergencies. However, the pharmaceutical model has also created an unhealthy dependency culture, in which relatively few of us accept responsibility for maintaining our own health. Instead, we have handed over this responsibility to health professionals who know very little about health maintenance, or disease prevention.

One problem for supporters of this argument is lack of the right kind of hard evidence. We have a wealth of epidemiological data linking dietary factors to health profiles / disease risks, and a great deal of information on mechanism: how food factors interact with our biochemistry. But almost all intervention studies with micronutrients, with the notable exception of the omega 3 fatty acids, have so far produced conflicting or negative results. In other words, our science appears to have no predictive value. Does this **invalidate** the science? Or are we simply asking the wrong questions?

Based on pharmaceutical thinking, most intervention studies have attempted to measure the impact of a single micronutrient on the incidence of disease. The classical approach says that if you give a compound formula to test subjects and obtain positive results, you cannot know which ingredient is exerting the benefit, so you must test each ingredient individually. But in the field of nutrition, this does not work. Each intervention on its own will hardly make enough difference to be measured. The best therapeutic response must therefore combine micronutrients to normalise our internal physiology. So do we need to analyse each individual's nutritional status and then tailor a formula specifically for him or her? While we do not have the resources to analyse millions of individual cases, there is no need to do so. The vast majority of people are consuming suboptimal amounts of most micronutrients, and most of the micronutrients concerned are very safe.

Accordingly, a comprehensive and universal program of micronutrient support is probably the most cost-effective and safest way of improving the general health of the nation.

Q101. Type-B malnutrition is a serious concern in developed countries because

- (a) developing countries mainly suffer from Type-A malnutrition.
- (b) it is a major contributor to illness and death.
- (c) pharmaceutical companies are not producing drugs to treat this condition.
- (d) national surveys on malnutrition do not include newer micronutrient groups.
- (e) None of these

Q102. Why are a large number of apparently healthy people deemed pre-ill?

- (a) They may have chronic degenerative diseases.
- (b) They do not know their own genetic risk factors which predispose them to diseases.
- (c) They suffer from Type-B malnutrition.
- (d) There is a lengthy latency period associated with chronically degenerative diseases.
- (e) All of the above

Q103. The author recommends micronutrient-repletion for large-scale treatment of chronic degenerative diseases because

- (a) it is relatively easy to manage.
- (b) micronutrient deficiency is the cause of these diseases.
- (c) it can overcome genetic risk factors.
- (d) it can compensate for other lifestyle factors.
- (e) All of the above.

Q104. Tailoring micronutrient-based treatment plans to suit individual deficiency profiles is not necessary because

- (a) it very likely to give inconsistent or negative results.
- (b) it is a classic pharmaceutical approach not suited to micronutrients.
- (c) most people are consuming suboptimal amounts of safe-to-consume micronutrients.
- (d) it is not cost effective to do so.
- (e) None of these

Directions (105-106): Choose the word which is most nearly the same in meaning as the word printed in bold as used in the passage.

Q105. Subtle

- (a) abject
- (b) tenuous
- (c) adamant
- (d) emulate
- (e) Travesty

Q106. Invalidate

- (a) servile
- (b) Inane
- (c) equivocal
- (d) hapless
- (e) refute

Directions (107): Choose the word which is most opposite in meaning as the word printed in bold as used in the passage.

Q107. Inevitable

- (a) bereft
- (b) avertable
- (c) Amenable
- (d) callous
- (e) alacrity

Directions (108-115): Read the following passage carefully and answer the questions given below it. Certain words are printed in bold to help you locate them while answering some of the questions.

Fifty feet away three male lions lay by the road. They didn't appear to have a hair on their heads. Noting the color of their noses (leonine noses darken as they age, from pink to black), Craig estimated that they were six years old – young adults. "This is wonderful!" he said, after staring at them for several moments. "This is what we came to see. They really are maneless." Craig, a professor at the University of Minnesota, is arguably the leading expert on the majestic Serengeti lion, whose head is mantled in long, thick hair. He and Peyton West, a doctoral student who has been working with him in Tanzania, had never seen the Tsavo lions that live some 200 miles east of the Serengeti. The scientists had partly suspected that the maneless males were adolescents mistaken for adults by amateur observers. Now they knew better.

The Tsavo research expedition was mostly Peyton's show. She had spent several years in Tanzania, compiling the data she needed to answer a question that ought to have been answered long ago: Why do lions have manes? It's the only cat, wild or domestic, that displays such ornamentation. In Tsavo she was attacking the riddle from the opposite angle. Why do its lions not have manes? (Some "maneless" lions in Tsavo East do have partial manes, but they rarely attain the regal glory of the Serengeti lions.) Does environmental adaptation account for the trait? Are the lions of Tsavo, as some people believe, a distinct subspecies of their Serengeti cousins?

The Serengeti lions have been under continuous observation for more than 35 years, beginning with George Schaller's pioneering work in the 1960s. But the lions in Tsavo, Kenya's oldest and largest



AN IIT/IIM ALUMNI COMPANY



AGRICULTURE FIELD OFFICER (SCALE -I) 2017-18

COMBO

- 10 PRELIMS MOCKS
- 10 MAINS MOCKS

Bilingual

Only English Medium

protected ecosystem, have hardly been studied. Consequently, legends have grown up around them. Not only do they look different, according to the myths, they behave differently, displaying greater cunning and aggressiveness. "Remember too," Kenya: The Rough Guide warns, "Tsavo's lions have a reputation of **ferocity**." Their fearsome image became well-known in 1898, when two males stalled construction of what is now Kenya Railways by allegedly killing and eating 135 Indian and African laborers. A British Army officer in charge of building a railroad bridge over the Tsavo River, Lt. Col. J. H. Patterson, spent nine months pursuing the pair before he brought them to bay and killed them. Stuffed and mounted, they now glare at visitors to the Field Museum in Chicago. Patterson's account of the leonine reign of terror, *The Man-Eaters of Tsavo*, was an international best seller when published in 1907. Still in print, the book has made Tsavo's lions notorious. That annoys some scientists. "People don't want to give up on mythology," Dennis King told me one day. The zoologist has been working in Tsavo off and on for four years. "I am so sick of this maneater business. Patterson made a helluva lot of money off that story, but Tsavo's lions are no more likely to turn man-eater than lions from elsewhere."

But tales of their **savagery** and wiliness don't all come from sensationalist authors looking to make a buck. Tsavo lions are generally larger than lions elsewhere, enabling them to take down the predominant prey animal in Tsavo, the Cape buffalo, one of the strongest, most aggressive animals of Earth. The buffalo don't give up easily: They often kill or severely injure an attacking lion, and a wounded lion might be more likely to turn to cattle and humans for food.

And other prey is less abundant in Tsavo than in other traditional lion haunts. A hungry lion is more likely to attack humans. Safari guides and Kenya Wildlife Service rangers tell of lions attacking Land Rovers, raiding camps, stalking tourists. Tsavo is a tough neighborhood, they say, and it breeds tougher lions.

But are they really tougher? And if so, is there any connection between their manelessness and their ferocity? An **intriguing** hypothesis was advanced two years ago by Gnoske and Peterhans: Tsavo lions may be similar to the unmaned cave lions of the Pleistocene. The Serengeti variety is among the most evolved of the species — the latest model, so to speak — while certain morphological differences in Tsavo lions (bigger bodies, smaller skulls, and maybe even lack of a mane) suggest that they are closer to the **primitive** ancestor of all lions. Craig and Peyton had serious doubts about this idea, but admitted that Tsavo lions pose a mystery to science.

Q108. The sentence which concludes the first paragraph, "Now they knew better", implies that:

- (a) The two scientists were struck by wonder on seeing maneless lions for the first time.
- (b) Though Craig was all expert on the Serengeti lion, now he also knew about the Tsavo lions.
- (c) Earlier, Craig and West thought that amateur observers had been mistaken.
- (d) Craig was now able to confirm that darkening of the noses as lions aged applied to Tsavo lions as well.
- (e) None of these

Q109. According to the passage, which of the following has NOT contributed to the popular image of Tsavo lions as savage creatures?

- (a) Tsavo lions have been observed to bring down one of the strongest and most aggressive animals- the Cape buffalo.
- (b) In contrast to the situation in traditional lion haunts, scarcity of non-buffalo prey in the Tsavo makes the Tsavo lions more aggressive.
- (c) The Tsavo lion is considered to be less evolved than the Serengeti variety.
- (d) Tsavo lions have been observed to attack vehicles as well as humans.
- (e) All of these

Q110. Which of the following, if true, would weaken the hypothesis advanced by Gnoske and Peterhans most?

- (a) Craig and Peyton develop even more serious doubts about the idea that Tsavo lions are primitive.
- (b) The maneless Tsavo East lions are shown to be closer to the cave lions.
- (c) Pleistocene cave lions are shown to be far less violent than believed.
- (d) The morphological variations in body and skull size between the cave and Tsavo lions are found to be insignificant.
- (e) All of the above

Q111. The book Man-Eaters of Tsavo annoys some scientists because

- (a) it revealed that Tsavo lions are ferocious.
- (b) Patterson made a helluva lot of money from the book by sensationalism.
- (c) it perpetuated the bad name Tsavo lions had.
- (d) it narrated how two male Tsavo lions were killed.
- (e) All of the above

Directions (112-113): Choose the word which is most nearly the same in meaning as the word printed in bold as used in the passage.

Q112. Intriguing

- (a) denigrate
- (b) enthralling
- (c) debacle
- (d) Cogent
- (e) Circumvent

Q113. Savagery

- (a) concomitant
- (b) viciousness
- (c) duress
- (d) disparate
- (e) Cognizant

Directions (114-115): Choose the word which is most opposite in meaning as the word printed in bold as used in the passage.

Q114. Ferocity

- (a) Enervate
- (b) elicit
- (c) covet
- (d) tame
- (e) ebullient

Q115. Primitive

- (a) neoteric
- (b) Exigent
- (c) onerous
- (d) paucity
- (e) Evince



Directions (116-118): In each of the following sentence there are three blank spaces. Below each sentence there are five options and each option consists of three words which can be filled up in the blanks in the sentence to make the sentence grammatically correct.

Q116. With inflation-targeting as its main _____ – the consensus position that was articulated when the RBI Act was amended in May 2016 was that “price stability is a _____ precondition to sustainable growth” – the Monetary Policy Committee (MPC) has opted yet again to keep interest rates _____.

- (a) confirmation, primary, modified
- (b) uphold, assured, unrelieved
- (c) mandate, necessary, unchanged
- (d) support, radical, stabile
- (e) consent, inherent, endured

Q117. Ultimately, though, the central bank has once again _____ a word of circumspection to fiscal authorities: taken together, the farm loan waivers _____ by some States, the partial reduction of excise duty and VAT on petroleum products and the GST rate cuts could _____ in fiscal slippage with accompanying consequences for price stability.

- (a) inflicted, provided, neglect
- (b) proffered, implemented, result
- (c) imposed, generated, occur
- (d) expected, assembled, transpire
- (e) intended, managed, appear

Q118. Our recent victory in the hotly contested election to the International Court of Justice seems to have lifted our _____ as a nation. We are justifiably proud of our success and of the skill and _____ with which our diplomacy was _____.

- (a) conceit, sobriety, dissipated
- (b) caprice, timidity, eliminated
- (c) propensity, valuation, dispensed
- (d) spirits, determination, deployed
- (e) nature, judgment, mobilized

Directions (119-120): In the question given below few sentences are given which grammatically correct and meaningful. Connect them by the word given above the statements in the best possible way without changing the intended meaning. Choose your answer accordingly from the options to form a correct, coherent sentence.

Q119. NEVERTHELESS

- (A) Ankara continues to defiantly say it doesn't need EU money or membership.
 - (B) It is trying to develop ties with individual EU members, which seems to represent a search for another kind of relationship with Europe.
 - (C) Turkey-EU ties are currently marked by mutual resentments and appear to be going nowhere.
 - (D) It claims that it doesn't need EU membership, Ankara refuses to end this bid unilaterally.
- (a) Only A-B
 - (b) Only B-C
 - (c) Only A-D
 - (d) Both A-B and A-D
 - (e) None

Q120. WHEREAS

- (A) BJP has been routed in these elections having managed to win mere 18.7% of all seats
 - (B) The opposition, especially independent candidates, have walked away with flying colours.
 - (C) If Independents were a party they would have got a thumping majority in these elections.
 - (D) Out of 16 Mayoral positions they have captured 14 and that is the end of their success story.
- (a) only C-D
 - (b) only A-B
 - (c) Only D-A
 - (d) only B-C
 - (e) none

Q121. In each of the following questions, various sentences are given and you have to choose the one which has some or any grammatical error in it. In the questions where option (E) is all are correct and all the sentences are grammatically correct choose option (E) as the correct choice.

- (a) Immediately after boarding the bus Mahesh asked the conductor that if he knew where the museum was.
- (b) Then I knelt down and opened my heart to her and poured out all the affection that was suffocating me.
- (c) She was decidedly pretty, but it is surprising, monsieur, how much prettier women seem to us when the day is fine at the beginning of the spring.
- (d) One morning on waking I saw from my window the blue sky glowing in the sun above the neighbouring houses.
- (e) My neighbour raised her eyes again, and this time, as I was still looking at her, she smiled decidedly.

Q122. In each of the following questions, various sentences are given and you have to choose the one which has some or any grammatical error in it. In the questions where option (E) is all are correct and all the sentences are grammatically correct choose option (E) as the correct choice.

- (a) No longer able to bear with her anguish she surrendered her life to the ocean.
- (b) She experienced the summer grass beneath her feet and wore shoes that carried her over rocky terrain.
- (c) Since then many a seafarer has told stories of his encounters with the mermaid.
- (d) The success of our efforts depend upon the number of people who actually use the new methods.
- (e) She lost her love to as much greed as any man could acquire, greed for luxury, greed for temporary pleasure and greed through self absorbed advancement.

Q123. In each of the following questions, various sentences are given and you have to choose the one which has some or any grammatical error in it. In the questions where option (E) is all are correct and all the sentences are grammatically correct choose option (E) as the correct choice.

- (a) By the Time he reaches his ship, time has crept ten fold and he soon finds himself a crippled old man, unable to board his ship and escape.
- (b) For Time is a treasure we rarely give credit to.
- (c) Hardly had he threw the ball when it fell on the ground.
- (d) Love no longer had value to him, her time meant little and her heart was no longer enough to offer him happiness.
- (e) And the journey from the cavern back to his ship would prove to be futile.

Q124. In each of the following questions, various sentences are given and you have to choose the one which has some or any grammatical error in it. In the questions where option (E) is all are correct and all the sentences are grammatically correct choose option (E) as the correct choice.

- (a) We can earn our gold and silver, we can lose it all and earn it back.
- (b) Shyam is working in our organization for the last few years in the publication department.
- (c) In a state of anguish she travelled alone across miles of ocean until she reached the Island of Alchemy.
- (d) The morning starts with a bang or one bang after another, a series, a chorus - the same sound that lulled me to sleep the night before.
- (e) A vital strong man would soon find the treasure he carries become a little harder to hold, and each step he makes him age.

Q125. In each of the following questions, various sentences are given and you have to choose the one which has some or any grammatical error in it. In the questions where option (E) is all are correct and all the sentences are grammatically correct choose option (E) as the correct choice.

- (a) They talked for a while and then they will continue to play the game till tomorrow morning.
- (b) In any case, it would take me very little persuasion to accept a Chungwah though I often refuse others, and perhaps make secret enemies.
- (c) Anyway, I walk out and out the compound that houses the teachers and officials' residences, looking for a place to get some chow.
- (d) I walk down the four flights of the hotel building where I and others of my ilk are housed.
- (e) I sit and spend the morning thus, making friends and losing some and finally decide lunch can wait no longer.

Directions (126-130): Each of the following questions has a paragraph from which one sentence has been deleted. From the given options, choose the one that completes the paragraph in the most appropriate way.

Q126. The government launched the "Housing For All by 2022" programme in 2015, with the Pradhan Mantri Awas Yojana (Pmay) as a key anchor scheme. _____. Global examples indicate that affordable housing activities generate direct and indirect employment in the medium term and sustained consumption in the long term. A 2014 study by the National Council of Applied Economic Research indicates that every additional rupee of capital invested in the housing sector adds Rs1.54 to the gross domestic product (GDP) and every Rs1 lakh invested in residential housing creates 2.69 new jobs in the economy.

- (a) Pmay envisages building 20 million urban units by 2022.
- (b) On the demand side, while overall economic growth will create the right enablers to stimulate demand, loans need to be provided at affordable rates.
- (c) By building a strong support system and hand-holding the real estate entrepreneurs, we could create an ecosystem of quality developers.
- (d) The lending institutions and credit rating agencies need to design new frameworks/rating scales that benchmark companies on such new capabilities.
- (e) For a national housing dream of such a magnitude to fructify, the entire housing ecosystem needs to be well developed and all the stakeholders need to share a unified vision.

Q127. Young and aspirational, the millennial generation that makes up about 40% of India's population has long been regarded as the saviour and driver of future economic growth. Yet, the gap between the productive labour force and the employment and entrepreneurial opportunities available to them continues to widen. The fourth Industrial Revolution has already made its mark on certain sectors. _____.

- (a) Fulfilling the great expectations set for the MSDE seems unlikely unless certain changes are made.
- (b) To be fair, policymakers recognize the problem and have taken steps to combat it.
- (c) As technology continues to surge forward in leaps and bounds, both blue- and white-collar jobs will become increasingly sparse.
- (d) Much of India's workforce is already hampered with outdated and irrelevant skills.
- (e) The economic turmoil that could be brought on by further large-scale disruption should be a cause of concern.

Q128. In the past few years, the slowdown in exports could be attributed at least in part to tepid global growth and falling trade intensity. However, this year, the global economy has seen a strong cyclical upturn across geographies and sectors, driven by stronger growth in investment, trade and industrial production. As per S&P Global estimates, global GDP is expected to reverse a two-year slowdown and grow 3.6% in 2017, higher than the 3.1% logged in 2016. _____. In particular, the US and the euro area—India's largest export destinations—are expected to grow by 70 basis points (bps) and 30 bps higher than in 2016, at 2.2% and 2.3%, respectively.

- (a) The impact shows in the exports of labour-intensive sectors, which mainly comprise SMEs.
- (b) The pickup is expected to be broad-based, across both advanced and emerging market economies.
- (c) The fastest growth in exports was achieved when the rupee was strengthening against the dollar.
- (d) Clearly, India has not been able to take advantage of the improving global environment, especially compared with its Asian peers.
- (e) Revival in global investment, which has a high import content, further helped boost trade.

Q129. Land and housing rights have been a contentious topic in Kyrgyzstan since the country achieved independence following the collapse of the Soviet Union in 1991. Although under Kyrgyz law the state is supposed to provide a free plot of land to every citizen, as Eurasianet notes, "In reality, a land-allocation process thick with corruption and bureaucratic obstacles awaits anyone attempting to claim his share." As a result, while elites and those with access to them have acquired more than their fair share of land for housing and construction projects, the majority of the population has been left to fend for themselves, vulnerable to elite power plays and manipulation. _____.

CAREERPOWER™
AN IIT/IIM ALUMNI COMPANY



RBI OFFICE ATTENDANT

All India Mock 2017

USE CODE: RBIA17

for 100% discount

- (a) In this context, land rights and housing issues have long been at the center of political controversy, particularly at times of upheaval
- (b) This is especially true in and around Bishkek, where prime land is very attractive and expensive due to plot scarcity and services availability.
- (c) In exchange for their support at crunch time for the then newly installed interim government, they expected to be rewarded with the same land for housing.
- (d) To this day, however, it has been impossible to establish exactly how many people participated in this scheme and the total sum that was collected.
- (e) Land rights and housing issues have long been at the center of political controversy, particularly at times of upheaval.

Q130. On October 8, 2005, a magnitude 7.6 earthquake rocked Kashmir, resulting in nearly 75,000 deaths, injuring more than 100,000 people, and causing extensive damage. Although the epicenter was on the border between the Pakistani- and Indian-administered portions of Kashmir, the quake and its aftershocks were felt across the region from Central Asia to China. The tremors of Kashmir also created volatility in the region's already precarious security structure.

- _____.
- (a) The two countries nearly came to war in 1986-1987 and have engaged in numerous smaller border confrontations.
- (b) This is due to the overlapping territorial claims of India, Pakistan, and China.
- (c) Currently, Pakistan occupies about 78,114 sq. km and China about 42,685 sq. km (Aksai Chin), including 5,180 sq. km controversially ceded by Pakistan to China (Shaksam Valley) in 1964.
- (d) The planned corridor enters at the Gilgit-Baltistan region of Kashmir, which is controlled by Pakistan, but claimed by India.
- (e) The two countries nearly came to war in 1986-1987 and have engaged in numerous smaller border confrontations.

Directions (131-140): In the passage given below there are blanks which are to be filled with the options given below. Find out the appropriate pair of words in each case which can most suitably complete the sentence without altering the meaning of the statement. Both the pairs must fill the blank.

Q131. Police reform in India has been _____ (131) with political _____ (132) ever since the landmark Supreme Court judgement, in 2006, on the subject. The focus should really be on reorganising criminal _____ (133).

The annual _____ (134) of the National Crime Records Bureau (NCRB), "Crime in India 2016", which was released recently, presents a _____ (135) picture of the key performance statistic with only 47% convictions in Indian Penal Code (IPC) crimes at the national level.

Delhi provides an interesting case study, where there is no political interference and the Police Commissioner reports to the Lieutenant Governor, and not the Chief Minister. With a population smaller than Mumbai, it has two times the number of police stations. Yet, in Delhi, while 1,90,876 persons were sent to trial last year, there were only 9,837 IPC _____(136) in the year. In Delhi only 58% of those _____(137) were chargesheeted, while in Mumbai, more persons were chargesheeted than were arrested for IPC crimes. In Delhi, 13,803 crimes against women were reported and no chargesheets filed in 4,371 cases (32%); in Mumbai with 5,128 crimes reported against women, final reports were filed in only 15% of cases. The key _____(138) of police performance is not _____(139) correct reporting and recording but chargesheets and convictions, as this impacts on criminal _____(140).

- (a) uninvolved / dispassionate
- (b) interested / disturbed
- (c) concerned / solicitude
- (d) worried / appreciated
- (e) attentive / troubled

Q132. Police reform in India has been _____ (131) with political _____ (132) ever since the landmark Supreme Court judgement, in 2006, on the subject. The focus should really be on reorganising criminal _____ (133).

The annual _____ (134) of the National Crime Records Bureau (NCRB), "Crime in India 2016", which was released recently, presents a _____ (135) picture of the key performance statistic with only 47% convictions in Indian Penal Code (IPC) crimes at the national level.

Delhi provides an interesting case study, where there is no political interference and the Police Commissioner reports to the Lieutenant Governor, and not the Chief Minister. With a population smaller than Mumbai, it has two times the number of police stations. Yet, in Delhi, while 1,90,876 persons were sent to trial last year, there were only 9,837 IPC _____(136) in the year. In Delhi only 58% of those _____(137) were chargesheeted, while in Mumbai, more persons were chargesheeted than were arrested for IPC crimes. In Delhi, 13,803 crimes against women were reported and no chargesheets filed in 4,371 cases (32%); in Mumbai with 5,128 crimes reported against women, final reports were filed in only 15% of cases. The key _____(138) of police performance is not _____(139) correct reporting and recording but chargesheets and convictions, as this impacts on criminal _____(140).

- (a) factors / invasion
- (b) hassle / disregard
- (c) reforms / policies
- (d) interference / intervention
- (e) opposition / arrest



IBPS SPECIAL COMBO 2017

with Video Solutions

360 TOTAL TESTS

- 150 Full Length Mocks
- 210 Practice Sets
- E-Books, Study Notes etc.

Bilingual

Q133. Police reform in India has been _____ (131) with political _____ (132) ever since the landmark Supreme Court judgement, in 2006, on the subject. The focus should really be on reorganising criminal _____ (133).

The annual _____ (134) of the National Crime Records Bureau (NCRB), "Crime in India 2016", which was released recently, presents a _____ (135) picture of the key performance statistic with only 47% convictions in Indian Penal Code (IPC) crimes at the national level.

Delhi provides an interesting case study, where there is no political interference and the Police Commissioner reports to the Lieutenant Governor, and not the Chief Minister. With a population smaller than Mumbai, it has two times the number of police stations. Yet, in Delhi, while 1,90,876 persons were sent to trial last year, there were only 9,837 IPC _____ (136) in the year. In Delhi only 58% of those _____ (137) were chargesheeted, while in Mumbai, more persons were chargesheeted than were arrested for IPC crimes. In Delhi, 13,803 crimes against women were reported and no chargesheets filed in 4,371 cases (32%); in Mumbai with 5,128 crimes reported against women, final reports were filed in only 15% of cases. The key _____ (138) of police performance is not _____ (139) correct reporting and recording but chargesheets and convictions, as this impacts on criminal _____ (140).

(a) records / administration

(b) government / officials

(c) authority / jurisdiction

(d) management / supervision

(e) account / history

Q134. Police reform in India has been _____ (131) with political _____ (132) ever since the landmark Supreme Court judgement, in 2006, on the subject. The focus should really be on reorganising criminal _____ (133).

The annual _____ (134) of the National Crime Records Bureau (NCRB), "Crime in India 2016", which was released recently, presents a _____ (135) picture of the key performance statistic with only 47% convictions in Indian Penal Code (IPC) crimes at the national level.

Delhi provides an interesting case study, where there is no political interference and the Police Commissioner reports to the Lieutenant Governor, and not the Chief Minister. With a population smaller than Mumbai, it has two times the number of police stations. Yet, in Delhi, while 1,90,876 persons were sent to trial last year, there were only 9,837 IPC _____ (136) in the year. In Delhi only 58% of those _____ (137) were chargesheeted, while in Mumbai, more persons were chargesheeted than were arrested for IPC crimes. In Delhi, 13,803 crimes against women were reported and no chargesheets filed in 4,371 cases (32%); in Mumbai with 5,128 crimes reported against women, final reports were filed in only 15% of cases. The key _____ (138) of police performance is not _____ (139) correct reporting and recording but chargesheets and convictions, as this impacts on criminal _____ (140).

(a) opinion / relief

(b) release / publicity

(c) notice / display

(d) analysis / undercover

(e) publication / issue

Q135. Police reform in India has been _____ (131) with political _____ (132) ever since the landmark Supreme Court judgement, in 2006, on the subject. The focus should really be on reorganising criminal _____ (133).

The annual _____ (134) of the National Crime Records Bureau (NCRB), "Crime in India 2016", which was released recently, presents a _____ (135) picture of the key performance statistic with only 47% convictions in Indian Penal Code (IPC) crimes at the national level.

Delhi provides an interesting case study, where there is no political interference and the Police Commissioner reports to the Lieutenant Governor, and not the Chief Minister. With a population smaller than Mumbai, it has two times the number of police stations. Yet, in Delhi, while 1,90,876 persons were sent to trial last year, there were only 9,837 IPC _____ (136) in the year. In Delhi only 58% of those _____ (137) were chargesheeted, while in Mumbai, more persons were chargesheeted than were arrested for IPC crimes. In Delhi, 13,803 crimes against women were reported and no chargesheets filed in 4,371 cases (32%); in Mumbai with 5,128 crimes reported against women, final reports were filed in only 15% of cases. The key _____ (138) of police performance is not _____ (139) correct reporting and recording but chargesheets and convictions, as this impacts on criminal _____ (140).

- (a) worrisome / boring
- (b) pleasant / engaging
- (c) horrible / evil
- (d) agreeable / civilized
- (e) dismal / horrid

Q136. Police reform in India has been _____ (131) with political _____ (132) ever since the landmark Supreme Court judgement, in 2006, on the subject. The focus should really be on reorganising criminal _____ (133).

The annual _____ (134) of the National Crime Records Bureau (NCRB), "Crime in India 2016", which was released recently, presents a _____ (135) picture of the key performance statistic with only 47% convictions in Indian Penal Code (IPC) crimes at the national level.

Delhi provides an interesting case study, where there is no political interference and the Police Commissioner reports to the Lieutenant Governor, and not the Chief Minister. With a population smaller than Mumbai, it has two times the number of police stations. Yet, in Delhi, while 1,90,876 persons were sent to trial last year, there were only 9,837 IPC _____ (136) in the year. In Delhi only 58% of those _____ (137) were chargesheeted, while in Mumbai, more persons were chargesheeted than were arrested for IPC crimes. In Delhi, 13,803 crimes against women were reported and no chargesheets filed in 4,371 cases (32%); in Mumbai with 5,128 crimes reported against women, final reports were filed in only 15% of cases. The key _____ (138) of police performance is not _____ (139) correct reporting and recording but chargesheets and convictions, as this impacts on criminal _____ (140).

- (a) convictions / judgements
- (b) sentences / culprits
- (c) hearings / discriminations
- (d) victims / punishments
- (e) condemns / sanction

Q137. Police reform in India has been _____ (131) with political _____ (132) ever since the landmark Supreme Court judgement, in 2006, on the subject. The focus should really be on reorganising criminal _____ (133).

The annual _____ (134) of the National Crime Records Bureau (NCRB), "Crime in India 2016", which was released recently, presents a _____ (135) picture of the key performance statistic with only 47% convictions in Indian Penal Code (IPC) crimes at the national level.

Delhi provides an interesting case study, where there is no political interference and the Police Commissioner reports to the Lieutenant Governor, and not the Chief Minister. With a population smaller than Mumbai, it has two times the number of police stations. Yet, in Delhi, while 1,90,876 persons were sent to trial last year, there were only 9,837 IPC _____ (136) in the year. In Delhi only 58% of those _____ (137) were chargesheeted, while in Mumbai, more persons were chargesheeted than were arrested for IPC crimes. In Delhi, 13,803 crimes against women were reported and no chargesheets filed in 4,371 cases (32%); in Mumbai with 5,128 crimes reported against women, final reports were filed in only 15% of cases. The key _____ (138) of police performance is not _____ (139) correct reporting and recording but chargesheets and convictions, as this impacts on criminal _____ (140).

- (a) unrestrained / liberated
- (b) arrested / seized
- (c) captured / advocated
- (d) released / freed
- (e) held / punished

Q138. Police reform in India has been _____ (131) with political _____ (132) ever since the landmark Supreme Court judgement, in 2006, on the subject. The focus should really be on reorganising criminal _____ (133).

The annual _____ (134) of the National Crime Records Bureau (NCRB), "Crime in India 2016", which was released recently, presents a _____ (135) picture of the key performance statistic with only 47% convictions in Indian Penal Code (IPC) crimes at the national level.

Delhi provides an interesting case study, where there is no political interference and the Police Commissioner reports to the Lieutenant Governor, and not the Chief Minister. With a population smaller than Mumbai, it has two times the number of police stations. Yet, in Delhi, while 1,90,876 persons were sent to trial last year, there were only 9,837 IPC _____ (136) in the year. In Delhi only 58% of those _____ (137) were chargesheeted, while in Mumbai, more persons were chargesheeted than were arrested for IPC crimes. In Delhi, 13,803 crimes against women were reported and no chargesheets filed in 4,371 cases (32%); in Mumbai with 5,128 crimes reported against women, final reports were filed in only 15% of cases. The key _____ (138) of police performance is not _____ (139) correct reporting and recording but chargesheets and convictions, as this impacts on criminal _____ (140).

- (a) role / affair
- (b) evidence / data
- (c) process / factor
- (d) statistic / feature
- (e) circumstance / accomplishment

Q139. Police reform in India has been _____ (131) with political _____ (132) ever since the landmark Supreme Court judgement, in 2006, on the subject. The focus should really be on reorganising criminal _____ (133).

The annual _____ (134) of the National Crime Records Bureau (NCRB), "Crime in India 2016", which was released recently, presents a _____ (135) picture of the key performance statistic with only 47% convictions in Indian Penal Code (IPC) crimes at the national level.

Delhi provides an interesting case study, where there is no political interference and the Police Commissioner reports to the Lieutenant Governor, and not the Chief Minister. With a population smaller than Mumbai, it has two times the number of police stations. Yet, in Delhi, while 1,90,876 persons were sent to trial last year, there were only 9,837 IPC _____ (136) in the year. In Delhi only 58% of those _____ (137) were chargesheeted, while in Mumbai, more persons were chargesheeted than were arrested for IPC crimes. In Delhi, 13,803 crimes against women were reported and no chargesheets filed in 4,371 cases (32%); in Mumbai with 5,128 crimes reported against women, final reports were filed in only 15% of cases. The key _____ (138) of police performance is not _____ (139) correct reporting and recording but chargesheets and convictions, as this impacts on criminal _____ (140).

- (a) rarely/ only
- (b) Impartially/ incorrectly
- (c) scantily/ slender
- (d) merely/ just
- (e) Impetuously/ imprudently

Q140. Police reform in India has been _____ (131) with political _____ (132) ever since the landmark Supreme Court judgement, in 2006, on the subject. The focus should really be on reorganising criminal _____ (133).

The annual _____ (134) of the National Crime Records Bureau (NCRB), "Crime in India 2016", which was released recently, presents a _____ (135) picture of the key performance statistic with only 47% convictions in Indian Penal Code (IPC) crimes at the national level.

Delhi provides an interesting case study, where there is no political interference and the Police Commissioner reports to the Lieutenant Governor, and not the Chief Minister. With a population smaller than Mumbai, it has two times the number of police stations. Yet, in Delhi, while 1,90,876 persons were sent to trial last year, there were only 9,837 IPC _____ (136) in the year. In Delhi only 58% of those _____ (137) were chargesheeted, while in Mumbai, more persons were chargesheeted than were arrested for IPC crimes. In Delhi, 13,803 crimes against women were reported and no chargesheets filed in 4,371 cases (32%); in Mumbai with 5,128 crimes reported against women, final reports were filed in only 15% of cases. The key _____ (138) of police performance is not _____ (139) correct reporting and recording but chargesheets and convictions, as this impacts on criminal _____ (140).

- (a) behaviour / psychology
- (b) performance / mindset
- (c) administration / records
- (d) philosophy / values
- (e) data / results



AN IIT/IIM ALUMNI COMPANY



AGRICULTURE FIELD OFFICER (SCALE -I) 2017-18

COMBO

- 10 PRELIMS MOCKS
- 10 MAINS MOCKS

Bilingual

Only English Medium

Q141. निम्नलिखित में से किस प्रकार की बैंकिंग में, बैंक और उसके उपभोक्ताओं के बीच लेनदेन का प्रत्यक्ष निष्पादन किया जाता है?

- (a) रिटेल बैंकिंग
- (b) यूनिवर्सल बैंकिंग
- (c) वर्चुअल बैंकिंग
- (d) यूनिट बैंकिंग
- (e) दिए गए विकल्पों में से कोई भी सही नहीं है

Q142. महिला एवं बाल विकास मंत्री श्रीमती मेनका संजय गांधी ने नई दिल्ली में पंचायती राज संस्थानों और मास्टर ट्रेनर्स के ईडब्ल्यूआर के लिए गहन प्रशिक्षण कार्यक्रम पेश किया। EWRs का पूरा रूप क्या है-

- (a) Elected Women Representatives
- (b) Electronic Women Representatives
- (c) Effective Women Representatives
- (d) Elected Women Revenue
- (e) Elected Women Republic

Q143. हाल ही में किस बैंक ने पूरी तरह से डिजिटल और कागज रहित तरीके से, अपने बचत खाता ग्राहकों को तत्काल क्रेडिट कार्ड प्राप्त करने के लिए त्वरित क्रेडिट कार्ड लॉन्च किया है?

- (a) स्टेट बैंक ऑफ इंडिया
- (b) आईसीआईसीआई बैंक
- (c) एक्सिस बैंक
- (d) बैंक ऑफ बड़ौदा
- (e) एचडीएफसी बैंक



Q144. किस बैंक ने रिटेल और कॉरपोरेट ग्राहकों के लिए रिपल के एंटरप्राइज ब्लॉकचैन टेक्नोलॉजी सॉल्यूशन का उपयोग करके त्वरित अंतरराष्ट्रीय भुगतान सेवाएं शुरू की हैं?

- (a) एक्सिस बैंक
- (b) आईसीआईसीआई बैंक
- (c) स्टेट बैंक ऑफ इंडिया
- (d) एचडीएफसी बैंक
- (e) बैंक ऑफ बड़ौदा

Q145. सिंडिकेट बैंक ने हाल ही में निश्चित परिपक्वता बकेट में 5-10 आधार अंकों के आधार पर धन आधारित उधार दर (एमसीएलआर) की सीमांत लागत को बढ़ा दिया है। सिंडिकेट बैंक का मुख्यालय कहां है?

- (a) लखनऊ, उत्तर प्रदेश
- (b) जयपुर, राजस्थान
- (c) कोलकाता, पश्चिम बंगाल
- (d) मणिपाल, कर्नाटक
- (e) चेन्नई, तमिलनाडु

Q146. हाल ही में देश में सार्वभौमिक घरेलू विद्युतीकरण प्राप्त करने के लिए 'सौभाग्य' योजना आरंभ की गई है। SAUBHAGYA में 'S' का क्या अर्थ है?

- (a) सर्व
- (b) सहज
- (c) सुलभ
- (d) सरल
- (e) सम्पूर्ण

Q147. निजी क्षेत्र के ऋणदाता एक्सिस बैंक ने किस धनराशि तक, बचत बैंक खातों पर 50 आधार अंकों से ब्याज दर घटाकर 3.5 फीसदी कर दी है?

- (a) 1 लाख रुपये
- (b) 80 लाख रुपये
- (c) 20 लाख रुपये
- (d) 50 लाख रुपये
- (e) 10 लाख रुपये

Q148. देश में सार्वभौमिक घरेलू विद्युतीकरण को प्राप्त करने के एक भाग के रूप में 'सौभाग्य' योजना हाल ही में किस राज्य में शुरू की गई थी?

- (a) असम
- (b) अरुणाचल प्रदेश
- (c) नागालैंड
- (d) मणिपुर
- (e) सिक्किम



Q149. घन, जी-सेक, विदेशी मुद्रा और व्युत्पन्न बाजारों में लेनदेन के लिए गारंटीकृत समाशोधन और निपटान कार्य प्रदान करने के लिए _____ है।

- (a) एनपीसीआई
- (b) सेबी
- (c) भारत सरकार
- (d) आरबीआई
- (e) सीसीआईएल

Q150. ओडिशा के मुख्यमंत्री नवीन पटनायक ने भारत में आयोजित होने वाले हॉकी विश्व कप 2018 का लोगो और शुभंकर का अनावरण किया था। किस स्टेडियम में यह अनावरण किया गया था?

- (a) वीर सुरेंद्र राय स्टेडियम
- (b) बारबाटी स्टेडियम
- (c) कलिंगा स्टेडियम
- (d) नेहरू स्टेडियम
- (e) कलूर इन्टेनेशनल स्टेडियम

Q151. निम्नलिखित में से कौन सी क्रेडिट सुविधा एक बैंक द्वारा प्रदान की जाती है, जो एक विशिष्ट उद्देश्य के लिए एक इकाई के लिए, एक लघु अवधि के बाद प्रतिदेय होती है?

- (a) अग्रिम
- (b) ऋण
- (c) प्रतिभूति
- (d) देयताएं
- (e) सद्भावना

Q152. भारतीय मूल के उस वरिष्ठ सिविल कर्मचारी का नाम बताइए, जिसे सिंगापुर के कार्यवाहक राष्ट्रपति के रूप में नियुक्त किया गया है?

- (a) एम एस गणेश
- (b) पी के कृष्णन
- (c) जे वाई पिल्ले
- (d) एस आर नाथन
- (e) इनमें से कोई नहीं

Q153. एक बंद अर्थव्यवस्था है?


- (a) केवल निर्यात किया जाता है
- (b) केवल आयात किया जाता है
- (c) आयात और निर्यात होता है
- (d) न तो आयात और न ही निर्यात होता है
- (e) दिए गए विकल्पों में से कोई भी सही नहीं है


Q154. अंतर्राष्ट्रीय बहुपक्षीय समुद्री खोज और बचाव अभ्यास 2017 (IMMSAREX 2017) का आयोजन कहाँ पर किया गया?

- (a) बांग्लादेश
- (b) म्यांमार
- (c) जापान
- (d) भारत
- (e) थाईलैंड

Q155. नरसिंहन समिति -2 की स्थापना का उद्देश्य क्या था?

- (a) दक्षता और उत्पादकता
- (b) बैंकिंग सुधार प्रक्रिया
- (c) आईटी क्षेत्र का निर्यात
- (d) वित्तीय सुधार प्रक्रिया
- (e) दिए गए विकल्पों में से कोई भी सही नहीं है

 **CAREER POWER™**
AN IIT/IIM ALUMNI COMPANY

 **IBPS CLERK**
MAINS

with Video Solutions

40 TOTAL TESTS

- 15 Full Length Mocks
- 25 Practice Sets
- E-Books, Study Notes etc.

Bilingual

Q156. मेची नदी के ऊपर नए मेची पुल के लिए, भारत और किस देश के बीच समझौता ज्ञापन पर हस्ताक्षर (एमओयू) हुए?

- (a) बांग्लादेश
- (b) नेपाल
- (c) भूटान
- (d) श्रीलंका
- (e) म्यांमार

Q157. ग्रामीण आबादी के बीच डिजिटल बैंकिंग को बढ़ावा देने की अपनी पहल के भाग के तहत, निम्नलिखित बैंकों में से कौन सा बैंक देश के विभिन्न राज्यों में 100 से अधिक डिजिटल गांवों को विकसित करने जा रहा है?

- (a) यूको बैंक
- (b) विजया बैंक
- (c) कारपोरेशन बैंक
- (d) बैंक ऑफ इंडिया
- (e) सेंट्रल बैंक ऑफ इंडिया

Q158. कैबिनेट ने सीमा शुल्क मामलों में सहयोग और आपसी सहयोग पर भारत और किस देश के बीच एक समझौते पर हस्ताक्षर करने की स्वीकृति दी?

- (a) आर्मेनिया
- (b) कतर
- (c) इथियोपिया
- (d) वियतनाम
- (e) इनमें से कोई नहीं

Q159. भारतीय रिजर्व बैंक ने 14 जनवरी 1971 को एक सार्वजनिक लिमिटेड कंपनी को पदोन्नत किया गया था, जिसे सीजीसीआई नाम दिया गया था। CGCI में पहले "सी" का क्या अर्थ था?

- (a) Common
- (b) Conclusion
- (c) Corporation
- (d) Concept
- (e) Credit

Q160. किस ई-कॉमर्स कंपनी ने तेलंगाना डिपार्टमेंट ऑफ हैण्डलूम एंड टेक्स्टाइल्स के साथ एक समझौता ज्ञापन (एमओयू) पर हस्ताक्षर किए हैं, ताकि बुनकरों और कारीगरों को शिक्षित, प्रशिक्षित और सक्षम किया जा सके, जिससे वे देशभर में अपने ग्राहकों को सीधे अपने उत्पाद बेच सकें?

- (a) फिलिपकार्ट
- (b) अमेज़ॅन
- (c) स्नैपडील
- (d) पेटीएम
- (e) इनमें से कोई नहीं

Q161. निम्नलिखित में से किस वर्ष में, एशिया का पहला निर्यात प्रोसेसिंग ज़ोन (ईपीजेड) स्थापित किया गया था?

- (a) 1959
- (b) 1971
- (c) 1965
- (d) 1956
- (e) 1975

Q162. फीफा U-17 विश्वकप का 17 वां संस्करण भारत में पहली बार हुआ था। अंडर -17 फुटबॉल विश्व कप की आधिकारिक गेंद का नाम _____ था।

- (a) सोक्रोट
- (b) नब्रतो
- (c) प्रोटोल
- (d) मनोरा
- (e) रासावा

Q163. बैंकिंग लोकपाल एक वरिष्ठ अधिकारी है, जो द्वारा नियुक्त किया जाता है?

- (a) भारत सरकार
- (b) भारत के राष्ट्रपति
- (c) भारत के मुख्य न्यायाधीश
- (d) भारतीय रिज़र्व बैंक
- (e) वित्त मंत्रालय

Q164. अश्गाबाट, निम्नलिखित देश की किस राजधानी की राजधानी है?

- (a) उजबेकिस्तान
- (b) कजाखस्तान
- (c) तुर्कमेनिस्तान
- (d) यूक्रेन
- (e) इनमें से कोई नहीं

Q165. भारतीय रिज़र्व बैंक (आरबीआई) ने "लघु वित्त बैंकों के लाइसेंस के लिए दिशानिर्देश" के तहत छोटे वित्त बैंकों की स्थापना के लिए _____ आवेदकों को "सिद्धांततः" स्वीकृति दी है?

- (a) 11
- (b) 12
- (c) 13
- (d) 10
- (e) 15

**CAREER POWER**
AN IIT/IIM ALUMNI COMPANY

**IT OFFICER**
(SCALE -I)
2017-18

COMBO

- 10 PRELIMS MOCKS
- 10 MAINS MOCKS

Bilingual

English Medium

Q166. मानस नेशनल पार्क या मानस वन्यजीव अभयारण्य कहाँ पर स्थित है?

- (a) पश्चिम बंगाल
- (b) असम
- (c) ओडिशा
- (d) झारखंड
- (e) बिहार

Q167. छोटे वित्त बैंक की पेड-अप इक्विटी पूंजी में प्रमोटर का न्यूनतम प्रारंभिक योगदान कम से कम----- होगा।

- (a) 50 प्रतिशत
- (b) 40 प्रतिशत
- (c) 60 प्रतिशत
- (d) 30 प्रतिशत
- (e) 20 प्रतिशत

Q168. नेपाल ने 2018-2022 के लिए अगले पांच वर्षों के लिए देश की विकास रणनीति तैयार करने के लिए _____ मिलियन के संयुक्त राष्ट्र (यूएन) सहायता पैकेज पर हस्ताक्षर किए हैं.

- (a) \$ 715 मिलियन
- (b) \$ 685 मिलियन
- (c) \$ 786 मिलियन
- (d) \$ 635 मिलियन
- (e) \$ 649 मिलियन



Q169. छोटे वित्त बैंक सीआरआर और एसएलआर के रखरखाव की आवश्यकता सहित मौजूदा वाणिज्यिक बैंकों के लिए लागू सभी भारतीय रिजर्व बैंक के विवेकपूर्ण मानदंडों और नियमों के अधीन होंगे। एसएलआर की वर्तमान दर क्या है?

- (a) 20.75 प्रतिशत
- (b) 19.50 प्रतिशत
- (c) 20.25 प्रतिशत
- (d) 20.00 प्रतिशत
- (e) 21.25 प्रतिशत

Q170. चेल वन्यजीव अभयारण्य (सीडब्लूएस) में कहाँ पर स्थित है?

- (a) मध्य प्रदेश
- (b) असम
- (c) केरल
- (d) हिमाचल प्रदेश
- (e) त्रिपुरा

Q171. कोटक महिंद्रा बैंक का मुख्यालय _____ में स्थित है।

- (a) मुंबई
- (b) हैदराबाद
- (c) चेन्नई
- (d) बेंगलुरु
- (e) नई दिल्ली

Q172. अरुणाचल प्रदेश के वर्तमान गवर्नर कौन है?

- (a) एस सी जमीर
- (b) बी.डी. मिश्रा
- (c) पलानीस्वामी सतशिवम
- (d) पी.बी. आचार्य
- (e) मृदुला सिन्हा

Q173. भारत के राष्ट्रीय भुगतान निगम (एनपीसीआई) की प्राधिकृत पूंजी _____ है और भुगतान की पूंजी _____ है

- (a) 300 करोड़ रुपये और 100 करोड़ रुपये
- (b) 350 करोड़ रुपये और 50 करोड़ रुपये
- (c) 200 करोड़ रुपये और 100 करोड़ रुपये
- (d) 100 करोड़ रुपये और 50 करोड़ रुपये
- (e) 600 करोड़ रुपये और 500 करोड़ रुपये

Q174. उस बैंक का नाम बताइए, जो हाल ही में भारतीय रिज़र्व बैंक द्वारा 'टू बिग टू फेल' की सूची में शामिल किया गया था, जिसे डी-एसआईबी या घरेलू व्यवस्थित रूप से महत्वपूर्ण बैंक कहा जाता है?

- (a) एक्सिस बैंक
- (b) पंजाब और नेशनल बैंक
- (c) बैंक ऑफ बड़ौदा
- (d) एचडीएफसी बैंक
- (e) इलाहाबाद बैंक

Q175. एफआईयू-आईएनडी एक स्वतंत्र निकाय है जो सीधे आर्थिक आसूचना परिषद (ईआईसी) को रिपोर्टिंग करता है। इसकी अध्यक्षता कौन करता है-

- (a) भारत के राष्ट्रपति
- (b) नीती आयोग
- (c) भारतीय रिज़र्व बैंक के गवर्नर
- (d) वित्त मंत्री
- (e) भारत सरकार



**SSC CGL TIER II**
Maths & English
@399/-

Mock Test Booklets

10 TEST BOOKLETS (PRINTED TEST)
Bilingual

Q176. भारतीय रेल ने सभी प्रकार की यात्री आवश्यकताओं को पूरा करने के लिए एक एकीकृत मोबाइल ऐप "रेल सारथी" आरंभ किया है, जिसमें टिकट बुकिंग, पूछताछ, ऑनबोर्ड सफाई और एक प्लेटफार्म पर भोजन का आदेश देना शामिल है। "Saarthi" का पूरा रूप क्या है?

- (a) Synchronic Advanced Application Rail Travel Help and Information
- (b) Synergized Acknowledgement Application Rail Travel Help and Information
- (c) Synchronic Acknowledgement Application Rail Travel Help and Information
- (d) Synergized Advanced Application Rail Travel Help and Information
- (e) इनमें से कोई नहीं

Q177. _____ एक ऐसी प्रणाली है जो कई बैंक खातों को एकल मोबाइल एप्लिकेशन (किसी भी भाग लेने वाले बैंक का) में कई बैंकिंग सुविधाओं, निर्बाध फंड रूटिंग और मर्चेन्ट पेमेंट्स को एक हुड में विलीन कर देती है।

- (a) एनईएफटी
- (b) आरटीजीएस
- (c) एनपीसीआई
- (d) बीएचआईएम
- (e) यूपीआई

Q178. 'राष्ट्रीय युवा दिवस' निम्नलिखित में से किस तारीख में मनाया जाता है?

- (a) 8 मई
- (b) 12 जनवरी
- (c) 18 मार्च
- (d) 17 अप्रैल
- (e) 24 फरवरी

Q179. निम्नलिखित में से कौन सा "डीमैट" खाता के रूप में जाना जाता है?

- (a) खाता जिसमें शेयर इलेक्ट्रॉनिक रूप में आयोजित किए जाते हैं
- (b) खाता जो शून्य शेष के साथ खोला गया
- (c) खाते को नाबालिग के अभिभावक द्वारा संचालित किया जा सकता है
- (d) ग्रामीण केंद्रों में व्यवसाय संवाददाताओं द्वारा संचालित खाते
- (e) दिए गए विकल्पों में से कोई भी सही नहीं है

Q180. रिहंदनगर में, रिहंद थर्मल पावर स्टेशन किस राज्य में स्थित है?

- (a) उत्तर प्रदेश
- (b) मध्य प्रदेश
- (c) ओडिशा
- (d) आंध्र प्रदेश
- (e) इनमें से कोई नहीं

Q181. यदि प्रतिभूति अमूर्त रूप में रखी जाती है तो शेयरों, डिबेंचरों और बॉन्ड की सुरक्षा के खिलाफ ऋण, प्रति व्यक्ति की सीमा से अधिक नहीं होना चाहिए।

- (a) दस लाख
- (b) पांच लाख
- (c) तीस लाख
- (d) पचास लाख
- (e) बीस लाख

Q182. योनेक्स फ्रेंच ओपन 2017 बैडमिंटन टूर्नामेंट पेरिस में आयोजित किया गया था। पुरुषों की एकल श्रेणी में, उपविजेता कौन था?

- (a) योशेटेरू हिरोब
- (b) शिंटो इकेदा
- (c) ताकेशी कामुरा
- (d) केंता निशिमोटो
- (e) काजुमासा सकै

Q183. लंदन, यूनाइटेड किंगडम (यूके) में 2017 की विश्व पैरा एथलेटिक्स चैंपियनशिप में व्यक्तिगत रूप से सर्वश्रेष्ठ 60.36 मीटर के साथ पुरुषों के भाला फेंक में स्वर्ण पदक जीतने वाले भारत के खिलाड़ी का नाम बताइए।

- (a) दिनेश प्रियंघ्रा
- (b) शरद कुमार
- (c) सुंदर सिंह गुर्जर
- (d) वरुण भाटी
- (e) इनमें से कोई नहीं

Q184. भारत के विज्ञान और प्रौद्योगिकी, पृथ्वी विज्ञान, पर्यावरण, वन और जलवायु परिवर्तन मंत्री कौन हैं?

- (a) डॉ. हर्षवर्धन
- (b) श्रीमती हरसिम्र कौर बादल
- (c) जगत प्रकाश नड्डा
- (d) नितिन जयराम गडकरी
- (e) इनमें से कोई नहीं

Q185. भारत और किस देश के बीच एक संयुक्त सैन्य प्रशिक्षण 'व्यायाम युद्ध अभ्यास -2017' का आयोजन किया जाएगा?

- (a) यूएसए
- (b) रूस
- (c) चीन
- (d) जर्मनी
- (e) दक्षिण कोरिया

Q186. यूनाइटेड ओवरसीज बैंक लिमिटेड का मुख्यालय कहाँ है?

- (a) चीन
- (b) रूस
- (c) सिंगापुर
- (d) बांग्लादेश
- (e) श्रीलंका

Q187. पूर्व लोकसभा सदस्य और प्रसिद्ध वास्तुकार का नाम बताइए, जिसका हैदराबाद में निधन हो गया है?

- (a) पुनाथिल कुंजदुल्ला
- (b) गिरिजा देवी
- (c) सतीश चंद्र
- (d) बदाम नरसिम्हा रेड्डी
- (e) इनमें से कोई नहीं

Q188. भारत में चेक सिस्टम को आरंभ करने वाले प्रथम बैंक का नाम बताइए?

- (a) सेंट्रल बैंक ऑफ इंडिया
- (b) प्रेसीडेंसी बैंक
- (c) बंगाल बैंक
- (d) एचएसबीसी
- (e) आईसीआईसीआई बैंक

Q189. पुस्तक "हाउ इंडिया सेस द वर्ल्ड: कौटिल्य टू द 21 सेन्चरी " के लेखक कौन हैं?

- (a) अमितव घोष
- (b) जयंत कलिता
- (c) विक्रम सेठ
- (d) प्रदीप कुमार
- (e) श्याम सरन

Q190. तुंगभद्रा बांध किस राज्य में तुंगभद्रा नदी के पर बना है?

- (a) तमिलनाडु
- (b) केरल
- (c) कर्नाटक
- (d) तेलंगाना
- (e) ओडिशा

 **CAREER POWER**
AN IIT/IIM ALUMNI COMPANY



RBI OFFICE ATTENDANT
All India Mock 2017

USE CODE: RBIA17

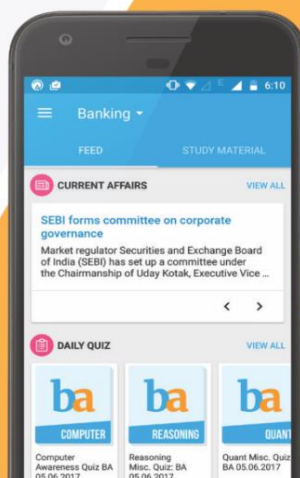
for 100% discount



VIDEO COURSE

Compliment your classroom
with Banking Video Courses
visit: videocourses.adda247.com

Study on the GO with
the Adda247 App



Boost your prep with Topic-wise
E-books and monthly Magazines
visit: store.adda247.com



Fulfill your Dream of **Government Job** visit: careerpower.in