

Q1. In the following question, select the odd letters from the given alternatives.

निम्नलिखित प्रश्न में , दिए गये विकल्पों में से विषम अक्षर का चयन कीजिये.

- (a) DWEV
- (b) HSIR
- (c) KPLO
- (d) PKQI

Q2. In the following question, select the odd number pair from the given alternatives.

निम्नलिखित प्रश्न में , दिए गये विकल्पों में से विषम संख्या युग्म का चयन कीजिये.

- (a) 17 - 12
- (b) 29 - 14
- (c) 21 - 16
- (d) 31 - 26

Q3. Arrange the given words in the sequence in which they occur in the dictionary.

दिए गए शब्दों को इस प्रकार व्यवस्थित करें जैसे कि वे शब्दकोष में होते हैं.

- 1. Mobile
- 2. Manage
- 3. Merger
- 4. Merged
- 5. Mango

- (a) 25341
- (b) 25431
- (c) 24351
- (d) 54132

Q4. Raman remembers that the examination is after 15th May but before 18th May, while Deep remembers that the examination is before 21st May but after 16th May. On which date of May is the examination?


रमन को याद है कि परीक्षा 15 मई के बाद है लेकिन 18 मई से पहले है, जबकि दीप को याद है कि परीक्षा 21 मई से पहले है लेकिन 16 मई के बाद है. मई में किस तारीख को परीक्षा है?

- (a) 17
- (b) 18
- (c) 19
- (d) 20

Q5. Pointing to a lady in the photograph Amit said, " She is the mother of the only grandson of my mother ". How is the lady related to Amit?

तस्वीर में एक महिला की ओर इशारा करते हुए अमित ने कहा, "वह मेरी मां के एकमात्र पोते की मां है". अमित से महिला कैसे संबंधित है?

- (a) Mother/माता
- (b) Daughter/ बेटी
- (c) Niece/ भतीजा / भतीजी
- (d) Wife/ पत्नी



SSC CGL PRIME
2019
400 + Total Tests

- ✓ 75 Tier-I Mocks
- ✓ 40 Tier-II Mocks
- ✓ 78 Previous Years' Tier-I Papers
- ✓ 20+ Previous Years Tier-II Papers
- ✓ 200+ General Awareness Topic wise Sets

BILINGUAL

Q6. In the following question, select the word which cannot be formed using the letters of the given word.


निम्नलिखित प्रश्न में उस शब्द का चयन कीजिये जिसे दिए गये शब्द के वर्णों का प्रयोग करके नहीं बनाया जा सकता.

CARBONATE

- (a) CARBON
- (b) BORN
- (c) EARN
- (d) BOSE

Q7. Which answer figure will complete the pattern in the question figure?

कौन सी उत्तर आकृति प्रश्न आकृति में पैटर्न को पूरा करेगी?



(a)



(b)



(c)



(d)



Q8. From the given answer figures, select the one in which the question figure is hidden/embedded.

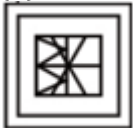
दी गयी उत्तर आकृति से, उसका चयन कीजिए जिसमें प्रश्न आकृति छिपी/संकलित है?



(a)



(b)



(c)



(d)



Q9. A piece of paper is folded and punched as shown below in the question figures. From the given answer figures, indicate how it will appear when opened?

एक कागज़ के टुकड़े को मोड़ कर पंच किया गया जैसा कि नीचे दर्शाया गया है. नीचे दिए गये चित्रों से ज्ञात कीजिये कि खोले जाने पर यह किस प्रकार का दिखेगा.



(a)



(b)



(c)



(d)



Q10. If a mirror is placed on the line AB, then which of the answer figures is the right image of the given figure?

यदि रेखा AB पर एक दर्पण रखा जाए, तो निम्नलिखित में से कौन सा उत्तर चित्र प्रश्न चित्र की सही छवि होगी?



(a)



SSC CGL 2019

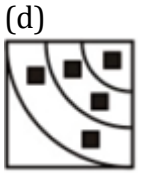
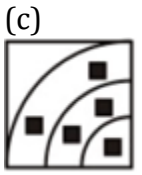
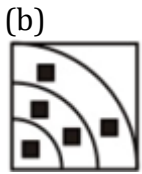
TIER-I

BASED ON TCS PATTERN

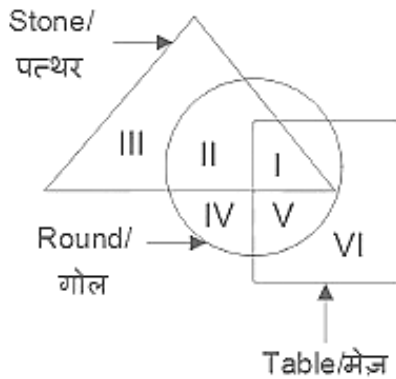
with Video Solutions

10 Full Length Mocks

BILINGUAL

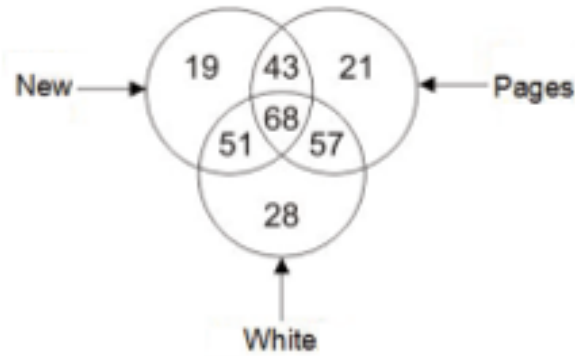


Q11. In the given figure, which Roman numeral represents round tables which are not stones?
 दिए गए आंकड़े में, कौन सी रोमन संख्या गोल मेज का प्रतिनिधित्व करता है जो पत्थर नहीं हैं?



- (a) IV
- (b) V
- (c) VI
- (d) I

Q12. In the given figure, how many pages are either new or white but not both?
 दिए गए आंकड़े में, कितने पृष्ठ नए या सफ़ेद हैं लेकिन दोनों नहीं?



- (a) 111
- (b) 100
- (c) 125
- (d) 168



SSC CHSL PRIME
2019
350 + Total Tests

25 Full Length Mocks
 140+ Previous Years' Papers
 200 + General Awareness Topic wise Sets

BILINGUAL

Directions (13-14): Which answer figure will complete the pattern in the question figure?

कौन सी उत्तर आकृति प्रश्न आकृति में पैटर्न को पूरा करेगी?

Q13.



(a)



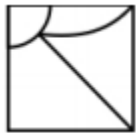
(b)



(c)



(d)



Q14.



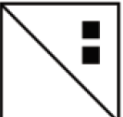
(a)



(b)



(c)



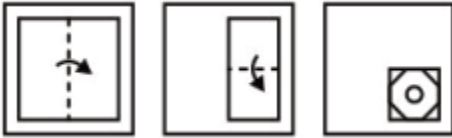
(d)



Directions (15-16): A piece of paper is folded and punched as shown below in the question figures. From the given answer figures, indicate how it will appear when opened?

एक कागज़ के टुकड़े को मोड़ कर पंच किया गया जैसा कि नीचे दर्शाया गया है. नीचे दिए गये चित्रों से ज्ञात कीजिये कि खोले जाने पर यह किस प्रकार का दिखेगा.

Q15.



(a)



(b)



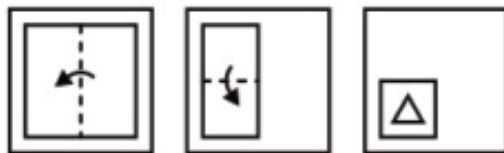
(c)



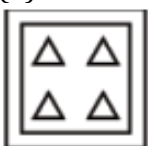
(d)



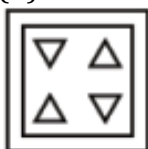
Q16.



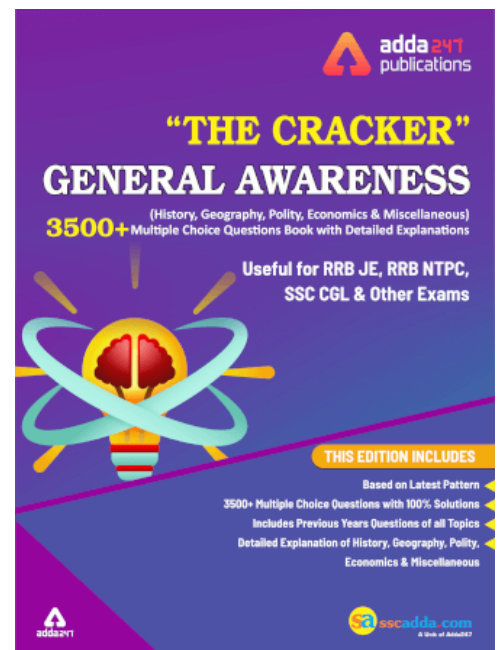
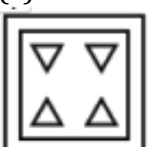
(a)



(b)



(c)



(d)



Q17. From the given answer figures, select the one in which the question figure is hidden/embedded.

दी गयी उत्तर आकृति से, उसका चयन कीजिए जिसमें प्रश्न आकृति छिपी/संकलित है?




(a)



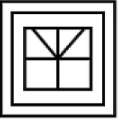
(b)



(c)



(d)



Q18. In a certain code language, "MATERIAL" is written as "RIALMATE". How is "REMEMBER" written in that code language?

एक निश्चित कूट भाषा में, "MATERIAL" को "RIALMATE" के रूप में लिखा जाता है. उसी कूट भाषा में "REMEMBER" किस प्रकार लिखा जाएगा?

- (a) REMERE BM
- (b) MBEREMER
- (c) MBERREME
- (d) MBERREEM

Q19. Which set of letters when sequentially placed at the gaps in the given letter series shall complete it?

कौन सा अक्षर समूह दी गयी अक्षर श्रृंखला के रिक्त स्थानों में क्रमिक रूप से रखने पर श्रृंखला को पूरा करता है?

_BC_Q_AB_P_R

- (a) PARCQ
- (b) APQRC
- (c) APRCQ
- (d) ACRPR

Q20. A man is facing towards the east. He turns towards north and walks for 5 km, and then turns 270 degrees anticlockwise and walks for 12 km more. What is the minimum distance between his initial and final position?

एक आदमी पूर्व की ओर मुख करके बैठा है। वह उत्तर की ओर मुड़ता है और 5 किमी तक चलता है, और फिर 270 डिग्री एंटीकलॉकवाइज मुड़ता है और 12 किमी चलता है। उसकी प्रारंभिक और अंतिम स्थिति के बीच न्यूनतम दूरी क्या है?

- (a) 17 km
- (b) 13 km
- (c) 11 km
- (d) 9 km

Q21. In the following question, select the related number from the given alternatives.

निम्नलिखित प्रश्न में, दिए गए विकल्पों में से सम्बन्धित शब्द का चयन कीजिये?

122 : 145 :: 226 : ?

- (a) 255
- (b) 256
- (c) 257
- (d) 259

Q22. In the following question, select the odd word pair from the given alternatives.

निम्नलिखित प्रश्न में, दिए गए विकल्पों में से विषम शब्द युग्म का चयन कीजिये?

- (a) Ink/स्याही : Inkpot/ दवात
- (b) Bottle/ बोतल : Wine/ शराब
- (c) Tea/ चाय : Cup/ कप
- (d) Water/ पानी: Jug/ घड़ा

Q23. In the following question, select the odd letters from the given alternatives.

निम्नलिखित प्रश्न में, दिए गए विकल्पों में से विषम अक्षर का चयन कीजिये?

- (a) GJM
- (b) PSV
- (c) MPR
- (d) KNQ

Q24. If $27 * 4 = 77$ and $31 * 9 = 239$, then $21 * 6 = ?$

यदि $27 * 4 = 77$ और $31 * 9 = 239$, तो $21 * 6 = ?$

- (a) 94
- (b) 107
- (c) 99
- (d) 106

Q25. In the following question, select the number which can be placed at the sign of question mark (?) from the given alternatives.

निम्नलिखित प्रश्न में, दिए गए विकल्पों से उस संख्या का चयन करें. जिसे प्रश्न चिह्न (?) के स्थान पर रखा जा सकता है.

1	4	2	13
3	6	5	95
2	4	3	?

- (a) 12
- (b) 24
- (c) 26
- (d) 29

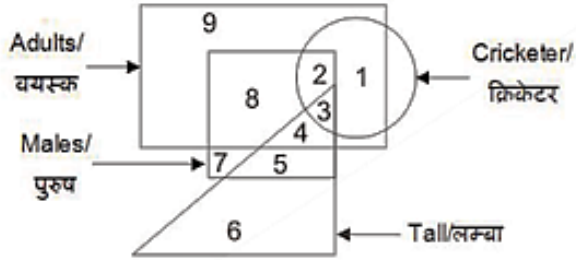


SSC CHSL PRIME
2019
350 + Total Tests

25 Full Length Mocks
140+ Previous Years' Papers
200 + General Awareness Topic wise Sets

BILINGUAL

Q26. In the given figure, which number represents male cricketers who are adults but are not tall?
 दिए गए आंकड़े में, कौन सी संख्या पुरुष क्रिकेटर्स का प्रतिनिधित्व करती है जो वयस्क हैं लेकिन लंबे नहीं हैं?

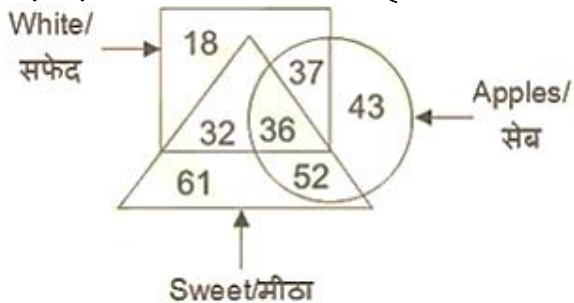


- (a) 3
- (b) 2
- (c) 8
- (d) 4

Q27. If 6 A 11 B 33 = 18 and 4 A 9 B 18 = 8, then 3 A 5 B 35 = ?
 यदि 6 A 11 B 33 = 18 और 4 A 9 B 18 = 8, तो 3 A 5 B 35 = ?

- (a) 12
- (b) 25
- (c) 21
- (d) 18

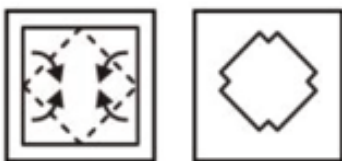
Q28. In the given figure, how many white apples are there?
 दिए गए चित्र में कितने सफ़ेद सेब हैं ?



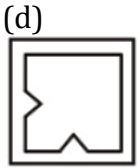
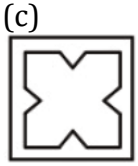
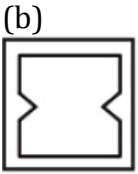
- (a) 37
- (b) 73
- (c) 36
- (d) 88

Q29. A piece of paper is folded and punched as shown below in the question figures. From the given answer figures, indicate how it will appear when opened?

एक कागज़ के टुकड़े को मोड़ कर पंच किया गया जैसा कि नीचे दर्शाया गया है. नीचे दिए गये चित्रों से ज्ञात कीजिये कि खोले जाने पर यह किस प्रकार का दिखेगा.

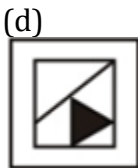
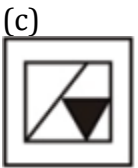
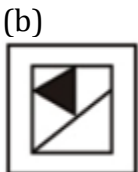
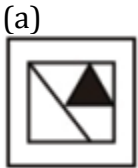



- (a)



Q30. If a mirror is placed on the line AB, then which of the answer figures is the right image of the given figure?

यदि रेखा AB पर एक दर्पण रखा जाए, तो निम्नलिखित में से कौन सा उत्तर चित्र प्रश्न चित्र की सही छवि होगी?



 **adda247**
test series

SSC CGL PRIME
2019
400 + Total Tests

- ✓ 75 Tier-I Mocks
- ✓ 40 Tier-II Mocks
- ✓ 78 Previous Years' Tier-I Papers
- ✓ 20+ Previous Years Tier-II Papers
- ✓ 200+ General Awareness Topic wise Sets

BILINGUAL