

# BOOKS



Visit: [publications.adda247.com](http://publications.adda247.com) & [store.adda247.com](http://store.adda247.com)  
 For any information, mail us at [publications@adda247.com](mailto:publications@adda247.com)

## All India MAHA Mock: SBI Clerk Mains (28th July 2019)

**Directions (1-5):** निम्नलिखित जानकारी का ध्यानपूर्वक अध्ययन कीजिए और नीचे दिए गए प्रश्नों के उत्तर दीजिए।

एक परिवार में आठ सदस्य अर्थात्- M, N, Q, A, R, O, B और P तीन पीढ़ियों से हैं तथा एक निश्चित तरीके से सभी का संबंध Q से है एवं परिवार में केवल दो विवाहित युगल हैं। वे सभी एक वृत्ताकार मेज के इर्दगिर्द इस प्रकार से बैठे हैं कि सभी का मुख मेज के केंद्र की ओर है। Q अपनी सास के बायीं ओर तीसरे स्थान पर बैठा है, जो R की बहन के बायीं ओर दूसरे स्थान पर बैठी है। N अविवाहित है। O का केवल एक पुत्र है। B, A का ग्रैंड-सन है, जो N के दायीं ओर तीसरे स्थान पर बैठा है, जो B की आंट है। O, R की माँ है। M, P की सास है और Q के ब्रदर-इन-लॉ के ठीक बायीं ओर बैठी है। N, M की इकलौती पुत्री है। A और O विवाहित युगल नहीं हैं। Q का पुत्र, Q के ब्रदर-इन-लॉ के दायीं ओर तीसरे स्थान पर बैठा है। R विवाहित नहीं है। N, P का निकटतम पड़ोसी नहीं है।

**Q1. O का Q से क्या संबंध है?**

- (a) माँ
- (b) पिता
- (c) दादी
- (d) सास
- (e) इनमें से कोई नहीं

**Q2. निम्नलिखित में से कौन, Q के पुत्र के दायीं ओर दूसरे स्थान पर बैठा है?**

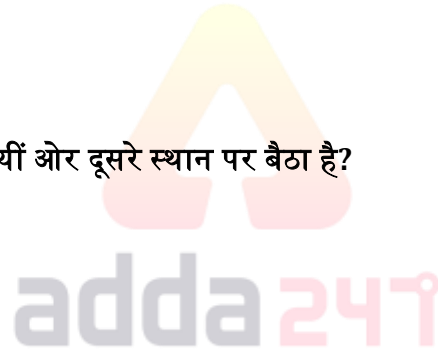
- (a) Q की माँ
- (b) B का पिता
- (c) N का पिता
- (d) N का भाई
- (e) इनमें से कोई नहीं

**Q3. P और Q की बहन के बीच कितने व्यक्ति बैठे हैं?**

- (a) एक
- (b) दो
- (c) तीन से अधिक
- (d) कोई नहीं
- (e) तीन

**Q4. निम्नलिखित में से कौन B की माँ है?**

- (a) P
- (b) M
- (c) O
- (d) R
- (e) इनमें से कोई नहीं



**BANK & INSURANCE  
2019**

**PREMIUM PACKAGE**

**Mocks | Practice sets | eBooks**

1000 Total Tests

500 + eBooks

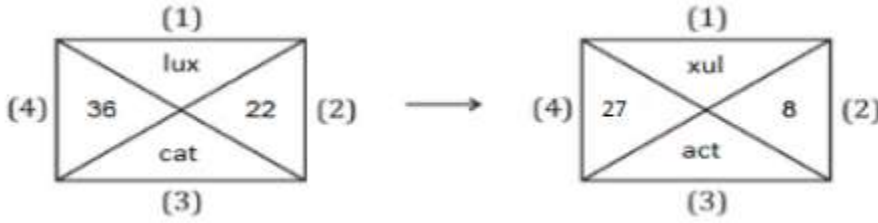
**Validity: 12 Months | Bilingual**

Q5. निम्नलिखित में से कौन, Q के ब्रदर-इन-लॉ के ठीक दायीं ओर बैठा है?

- (a) M
- (b) Q
- (c) R
- (d) N
- (e) O

**Directions (6-8):** निम्नलिखित जानकारी का ध्यानपूर्वक अध्ययन कीजिए और नीचे दिए प्रश्नों के उत्तर दीजिए।

नीचे दिए गए प्रश्न में एक आकृति दी गई है, जिसमें चार त्रिभुजों से बना एक वर्ग है। इनपुट आकृति को आउटपुट आकृति में बदलने के लिए कुछ संक्रियाएँ की गई हैं।



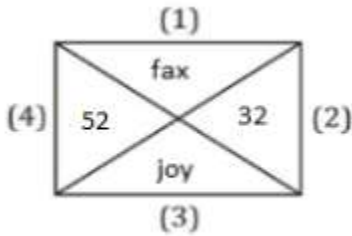
त्रिभुज 1 के लिए – यदि वर्णमाला श्रृंखला में शब्द के पहले और अंतिम अक्षर के बीच वर्णों की कुल संख्या एक विषम संख्या है, तो शब्द के सभी वर्णों को विपरीत क्रम में लिखा जाता है।

त्रिभुज 2 के लिए – यदि दिए गए दो अंकों का योग पांच से कम है, तो संख्या को इसके अंकों के वर्ग के योग द्वारा बदला जाता है।

त्रिभुज 3 के लिए – यदि वर्णमाला श्रृंखला में शब्द के पहले और अंतिम वर्ण के बीच वर्णों की कुल संख्या एक सम संख्या है, तो शब्द के पहले और दूसरे वर्ण को एक-दूसरे से परस्पर बदल दिया जाता है।

त्रिभुज 4 के लिए – यदि दिए गए दो अंकों के बीच अंतर 2 से अधिक है, तो संख्या को इसके अंकों के वर्गों के अंतर द्वारा बदला जाता है।

उपर्युक्त उदाहरण के आधार पर, निम्नलिखित इनपुट की आउटपुट आकृति ज्ञात कीजिए।



Q6. आउटपुट आकृति के वर्णों के संयोजन द्वारा छह वर्णों के कितने अर्थपूर्ण शब्द बनाए जा सकते हैं?

- (a) चार
- (b) दो
- (c) तीन
- (d) एक
- (e) कोई नहीं

Q7. आउटपुट आकृति के त्रिभुज-2 और त्रिभुज-4 के अंकों के बीच अंतर कितना है?

- (a) 21
- (b) 11
- (c) 32
- (d) 48
- (e) इनमें से कोई नहीं

Q8. आउटपुट आकृति के त्रिभुज-1 के तत्वों को, निम्नलिखित में से कौन सा वर्ण दर्शाता है?

- (a) xaf
- (b) afx
- (c) oij
- (d) joy
- (e) (A) और (C) दोनों

**Directions (9-13):** निम्नलिखित जानकारी का ध्यानपूर्वक अध्ययन कीजिए और नीचे दिए प्रश्नों के उत्तर दीजिए।

12 व्यक्ति A, B, C, D, E, F, G, H, I, J, K और L एक इमारत में रहते हैं, जिसमें 9 तल हैं। भू-तल की संख्या 1 है तथा शीर्ष तल की संख्या 9 है। एक तल पर दो से अधिक व्यक्ति नहीं रहते हैं। 12 व्यक्तियों में से पांच महिलाएँ हैं तथा शेष पुरुष हैं। वे सभी अर्थशास्त्र, अंग्रेजी, हिंदी और गणित जैसे विभिन्न विषय पसंद करते हैं, तीन से अधिक व्यक्ति समान विषय पसंद नहीं करते हैं, प्रत्येक विषय को कम-से कम एक महिला पसंद करती है।

जिस महिला को अंग्रेजी पसंद है, वह तल संख्या-6 पर J के साथ रहती है। जिस पुरुष व्यक्ति को अर्थशास्त्र पसंद है और जिस व्यक्ति को गणित पसंद है, उनके बीच दो व्यक्ति रहते हैं तथा जिस व्यक्ति को अर्थशास्त्र पसंद है वह गणित पसंद करने वाले व्यक्ति से नीचे रहता है। दो विषम संख्या वाले तल खाली हैं। या तो शीर्ष तल या सबसे नीचे का तल खाली है। A जिसे अंग्रेजी पसंद है वह K से ऊपर रहता है, जो एक महिला है तथा गणित पसंद करती है। अंग्रेजी पसंद करने वाले व्यक्ति और K के बीच छह तल हैं। E और L के बीच पांच तल हैं तथा E, L के ऊपर एक तल पर रहता है, जो एक महिला है और अर्थशास्त्र पसंद करती है। E तल संख्या-8 पर नहीं रहता है। L अकेला रहता है। G उस व्यक्ति के साथ तल साझा करता है जिसे हिंदी पसंद है। दो तल हैं जिन पर केवल एक पुरुष और केवल एक महिला रहती है, जो उन दो तलों के बीच में हैं जिनमें से प्रत्येक पर दो व्यक्ति रहते हैं। दो व्यक्ति जिन्हें अंग्रेजी पसंद है, वे समान तल पर रहते हैं। कोई दो महिलाएँ समान तल साझा नहीं करती हैं। H उस तल के ठीक नीचे रहता है, जिस पर J रहता है, जिसे हिंदी पसंद है। G को गणित पसंद है। हिंदी पसंद करने वाले व्यक्ति और खाली तल के बीच दो व्यक्ति रहते हैं तथा जिस व्यक्ति को हिंदी पसंद है, वह खाली तल से नीचे रहता है। C एक महिला है, जिसे अर्थशास्त्र पसंद है और वह अपना तल I के साथ साझा करती है, जिसे गणित पसंद है। F एक पुरुष है, जो खाली तल के ठीक ऊपर रहता है तथा उसे हिंदी विषय पसंद है।

Q9. निम्नलिखित में से कौन तल संख्या-5 पर रहता है?

- (a) B
- (b) D
- (c) C
- (d) H
- (e) G

Q10. निम्नलिखित दिए गए विकल्पों में G के लिए विषय-लिंग-तल संख्या का सही संयोजन ज्ञात कीजिए।

- (a) गणित - महिला -4
- (b) हिंदी - महिला -4
- (c) गणित -पुरुष -4
- (d) निर्धारित नहीं किया जा सकता
- (e) इनमें से कोई नहीं

Q11. खाली तल के ठीक ऊपर कौन रहता है?

- (a) K
- (b) B
- (c) D
- (d) I
- (e) (A) और (D) दोनों

Q12. निम्नलिखित में से कौन उस तल के ठीक नीचे रहता है जिस पर D रहता है?

- (a) H
- (b) C
- (c) F
- (d) L
- (e) निर्धारित नहीं किया जा सकता

Q13. निम्नलिखित में से कौन शीर्ष तल पर रहता है?

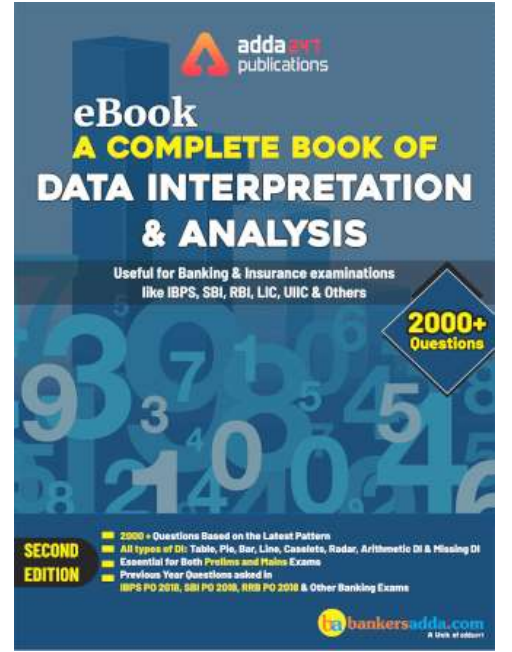
- (a) A
- (b) B
- (c) D
- (d) I
- (e) F

**Directions (14-16):** नीचे दिए गए प्रश्नों में से प्रत्येक में एक प्रश्न और उसके नीचे दो कथन दिए हैं जिनका क्रमांक I और II है। आपको यह निर्धारित करना है कि कथन में दी गई जानकारी प्रश्न का उत्तर देने के लिए पर्याप्त है या नहीं। दोनों कथनों को पढ़िए और उसके अनुसार उत्तर दीजिये:

Q14. मि. X सोमवार से आरम्भ करते हुए शुक्रवार तक एक सप्ताह के विभिन्न दिनों में विभिन्न खाद्य पदार्थ बनाता है, तो वह बृहस्पतिवार के दिन निम्नलिखित में से कौन सा खाद्य पदार्थ बनाता है?

I. डोसा और पास्ता, जो बुधवार के दिन बनाया जाता है, के बीच केवल एक खाद्य-पदार्थ बनता है। चिकन, बिरयानी से पहले बनाया जाता है।

II. डोसा, बिरयानी के बाद किसी दिन बनाया जाता है। बिरयानी और चिकन के बीच दो खाद्य-पदार्थ बनाए जाते हैं। ढोकला, बिरयानी से पहले बनाया जाता है।



- (a) यदि कथन I में दी गई जानकारी अकेले प्रश्न का उत्तर देने के लिए पर्याप्त है, जबकि कथन II में दी गई जानकारी अकेले प्रश्न का उत्तर देने के लिए पर्याप्त नहीं है।
- (b) यदि कथन II में दी गई जानकारी अकेले प्रश्न का उत्तर देने के लिए पर्याप्त है, जबकि कथन I में दी गई जानकारी अकेले प्रश्न का उत्तर देने के लिए पर्याप्त नहीं है।
- (c) यदि या तो कथन I में दी गई जानकारी अकेले या कथन II में दी गई जानकारी अकेले प्रश्न का उत्तर देने के लिए पर्याप्त है।
- (d) यदि कथन I और II दोनों में दी गई जानकारी मिलाकर भी प्रश्न का उत्तर देने के लिए पर्याप्त नहीं है।
- (e) यदि कथन I और कथन II दोनों में दी गई जानकारी मिलाकर प्रश्न का उत्तर देने के लिए आवश्यक है।

### Q15. जुगल के सन्दर्भ में रोमिल की स्थिति क्या है?

I. 40 विद्यार्थियों की एक कक्षा में, रोमिल की बाएँ से 27वीं रैंक है तथा जुगल की दाएँ से 21वीं रैंक है।

II. 45 विद्यार्थियों की एक कक्षा में रानी, रोमिल के ठीक बायीं ओर है। रानी की रैंक बाएँ छोर से 27वीं है। जुगल की रैंक दाएँ से 22वीं है।

- (a) यदि कथन I में दी गई जानकारी अकेले प्रश्न का उत्तर देने के लिए पर्याप्त है, जबकि कथन II में दी गई जानकारी अकेले प्रश्न का उत्तर देने के लिए पर्याप्त नहीं है।
- (b) यदि कथन II में दी गई जानकारी अकेले प्रश्न का उत्तर देने के लिए पर्याप्त है, जबकि कथन I में दी गई जानकारी अकेले प्रश्न का उत्तर देने के लिए पर्याप्त नहीं है।
- (c) यदि या तो कथन I में दी गई जानकारी अकेले या कथन II में दी गई जानकारी अकेले प्रश्न का उत्तर देने के लिए पर्याप्त है।
- (d) यदि कथन I और II दोनों में दी गई जानकारी मिलाकर भी प्रश्न का उत्तर देने के लिए पर्याप्त नहीं है।
- (e) यदि कथन I और कथन II दोनों में दी गई जानकारी मिलाकर प्रश्न का उत्तर देने के लिए आवश्यक है।

### Q16. G का K से क्या संबंध है?

I. A, K का भाई है, जो N से विवाहित है, जो H की माँ है, जो M से विवाहित है। M, G का पिता है।

II. G, R का भाई है। K, N की बहन है। A, K से विवाहित है। J, A का इकलौता बच्चा है तथा वह G से विवाहित है।

- (a) यदि कथन I में दी गई जानकारी अकेले प्रश्न का उत्तर देने के लिए पर्याप्त है, जबकि कथन II में दी गई जानकारी अकेले प्रश्न का उत्तर देने के लिए पर्याप्त नहीं है।
- (b) यदि कथन II में दी गई जानकारी अकेले प्रश्न का उत्तर देने के लिए पर्याप्त है, जबकि कथन I में दी गई जानकारी अकेले प्रश्न का उत्तर देने के लिए पर्याप्त नहीं है।
- (c) यदि या तो कथन I में दी गई जानकारी अकेले या कथन II में दी गई जानकारी अकेले प्रश्न का उत्तर देने के लिए पर्याप्त है।
- (d) यदि कथन I और II दोनों में दी गई जानकारी मिलाकर भी प्रश्न का उत्तर देने के लिए पर्याप्त नहीं है।
- (e) यदि कथन I और कथन II दोनों में दी गई जानकारी मिलाकर प्रश्न का उत्तर देने के लिए आवश्यक है।

### Directions (17-19): निम्नलिखित जानकारी का ध्यानपूर्वक अध्ययन कीजिए और नीचे दिए प्रश्नों के उत्तर दीजिए।

AB अक्ष इस तरह से है कि A उत्तर में है और B दक्षिण दिशा में है। XY अक्ष इस प्रकार है कि X पश्चिम दिशा में है तथा Y पूर्व दिशा में है। AB अक्ष और XY अक्ष एक दूसरे को बिंदु-Q पर इस प्रकार प्रतिच्छेद करते हैं कि AQ, 15 मी., QB, 17 मी., QX, 12 मी. और QY, 24 मी. है।

Z, QX रेखा के साथ X से Q की ओर चलना आरंभ करता है तथा 4 मी. चलने के बाद वह बायीं ओर मुड़ता है तथा बिंदु-S तक पहुँचने के लिए 6 मी. चलता है। L, Y से दक्षिण दिशा में चलना आरंभ करता है तथा 4 मी. चलकर बिंदु-K पर रुकता है। D, A से Q की ओर चलना आरंभ करता है तथा 8 मी. चलता है और बायीं ओर मुड़ता है तथा बिंदु-I तक पहुँचने के लिए 3 मीटर चलता है। M बिंदु-B से उत्तर दिशा में चलना आरंभ करता है तथा 13 मी. चलता है और फिर दायीं ओर मुड़ता है तथा बिंदु-N तक पहुँचने के लिए 3 मी. चलता है।

**Q17. बिंदु-S और बिंदु-N के बीच न्यूनतम दूरी कितनी है?**

- (a)  $\sqrt{231}$  मी.
- (b)  $\sqrt{221}$  मी.
- (c)  $\sqrt{211}$  मी.
- (d) 13 मी.
- (e) इनमें से कोई नहीं

**Q18. बिंदु-N के सन्दर्भ में बिंदु-K कितनी दूरी पर और किस दिशा में है?**

- (a) 21मी. पश्चिम
- (b) 24मी. पश्चिम
- (c) 22मी. पश्चिम
- (d) 21मी. पूर्व
- (e) 22मी. पूर्व

**Q19. M की अंतिम स्थिति के सन्दर्भ में, बिंदु-S किस दिशा में है?**

- (a) दक्षिण-पूर्व
- (b) उत्तर
- (c) उत्तर-पूर्व
- (d) दक्षिण-पश्चिम
- (e) उत्तर-पश्चिम

**Directions (20-24):** एक शब्द और संख्या व्यवस्था मशीन को जब शब्दों और संख्याओं की एक इनपुट पंक्ति दी जाती है, तो वह प्रत्येक चरण में एक निश्चित नियम का अनुसरण करते हुए उन्हें व्यवस्थित करती है। निम्नलिखित इनपुट और पुनर्व्यवस्था का एक उदाहरण है:

इनपुट : Krishna 32 Book 39 Ice 91 Invite 47 63 Mango 25 GO

चरण I: 92 Go Krishna 32 Book 39 Ice Invite 47 63 Mango 25

चरण II: 64 Ice 92 Go Krishna 32 Book 39 Invite 47 Mango 25

चरण III: 48 Book 64 Ice 92 Go Krishna 32 39 Invite Mango 25

चरण IV: 40 Mango 48 Book 64 Ice 92 Go Krishna 32 Invite 25

चरण V: 33 Invite 40 Mango 48 Book 64 Ice 92 Go Krishna 25

चरण VI: 26 Krishna 33 Invite 40 Mango 48 Book 64 Ice 92 Go

इनपुट : Mid 39 Apple 56 Good 59 Orange 35 Beautiful 76 Naughty 91

**Q20. यदि "60 Apple 77 Good 92 Mid 39 56 Orange 35 Beautiful Naughty" चरण 3 है, तो अंतिम व्यवस्था तक पहुँचने के लिए और कितने चरणों की आवश्यकता है?**

- (a) 5 चरण और
- (b) 6 चरण और
- (c) 4 चरण और
- (d) 3 चरण और
- (e) इनमें से कोई नहीं

**Q21. "40 Naughty 57 Orange 60 Apple 77 Good 92 Mid 35 Beautiful" निम्नलिखित में से कौन सा चरण है?**

- (a) चरण III
- (b) चरण IV
- (c) चरण V
- (d) यह चरण संभव नहीं है
- (e) इनमें से कोई नहीं

**Q22. यदि "77 Good 92 Mid 39 Apple 56 67 Orange 35 Beautiful Naughty" इनपुट का दूसरा चरण है, तो इस चरण से चरण I ज्ञात कीजिए।**

- (a) 92 Mid39 Apple 56 Good 67 Orange 35 Beautiful 76 Naughty
- (b) 92 Mid39 Apple 56 Beautiful 76 Naughty Good 67 Orange 35
- (c) 92 Mid 67 Orange 35 Beautiful 76 Naughty 39 Apple 56 Good
- (d) निर्धारित नहीं किया जा सकता
- (e) इनमें से कोई नहीं

**Q23. अंतिम चरण में बाएँ छोर से 7 वें स्थान पर कौन सा शब्द या संख्या होगी?**

- (a) 57
- (b) Apple
- (c) 60
- (d) Orange
- (e) इनमें से कोई नहीं

**Q24. किस चरण में तत्व '92 Mid 39 35' समान क्रम में हैं?**

- (a) चरण 3
- (b) चरण 4
- (c) चरण 5
- (d) चरण 6
- (e) इनमें से कोई नहीं

**Q25. निम्नलिखित प्रश्न में एक कथन और उसके बाद तीन पूर्वधारणाएं क्रमांक I, II और III दी गई हैं। आप कथनों को पढ़िए और निर्णय लीजिए कि कौन सी पूर्वधारणा कथन का अनुसरण करती है?**

**कथन :**

"पेपर लीक होने के साथ ही एसएससी उम्मीदवार कम हो गए हैं और उनमें से ज्यादातर ने बैंकिंग क्षेत्र की तैयारी शुरू करने का फैसला किया है।"- द हिंदू में प्रकाशित एक लेख।

**पूर्वधारणा :**

- (I) एसएससी ने पेपर लीक को रोकने के लिए कोई सुधारात्मक उपाय नहीं किया है।
  - (II) बैंकिंग परीक्षा के मामले में कोई पेपर लीक नहीं होगा।
  - (III) बैंकिंग क्षेत्र में एक अच्छा भविष्य है।
- (a) केवल II अनुसरण करता है
  - (b) I और III दोनों अनुसरण करते हैं
  - (c) केवल III अनुसरण करता है
  - (d) I और II दोनों अनुसरण करते हैं
  - (e) कोई अनुसरण नहीं करता है



**Q26. दिए गए कथन के संबंध में निम्नलिखित में से कौन सा तर्क मजबूत है?**

**कथन :**

प्रतिदिन एक सेब खाने के व्यक्ति स्वस्थ रहता है- भारत के स्वास्थ्य मंत्रालय द्वारा निर्देश।

**तर्क :**

I. शारीरिक रूप से और मानसिक रूप से फिट रहने के लिए प्रत्येक व्यक्ति को रोजाना एक सेब खाना चाहिए।

II. सेब के फ्लेवर का रियल जूस प्रतिबंधित होना चाहिए क्योंकि यह हानिकारक रसायनों से दूषित है।

III. प्रत्येक व्यक्ति द्वारा प्रतिदिन एक सेब खाना संभव नहीं है क्योंकि यह गर्मी के मौसम में महंगा होता है।

IV. हरी सब्जियां और वैकल्पिक सस्ते फल का सेवन करने से व्यक्ति स्वस्थ रह सकता है।

(a) I और III

(b) I, II और III

(c) I, III और IV

(d) सभी I, II, III और IV

(e) इनमें से कोई नहीं

**Directions (27-31): निम्नलिखित जानकारी का ध्यानपूर्वक अध्ययन कीजिए और नीचे दिए प्रश्नों के उत्तर दीजिए।**

12 व्यक्ति A, B, C, D, E, F, P, Q, R, S, T और U दो पंक्तियों में बैठे हैं। पंक्ति-1 में P, Q, R, S, T, U, उत्तर दिशा की ओर मुख करके बैठे हैं तथा पंक्ति-2 में A, B, C, D, E, F, दक्षिण दिशा की ओर मुख करके बैठे हैं। सभी व्यक्ति इस प्रकार बैठे हैं कि पंक्ति-1 में बैठे व्यक्ति का मुख, पंक्ति-2 में बैठे व्यक्ति की ओर है। साथ ही इनमें से प्रत्येक व्यक्ति को विभिन्न मूवी पसंद हैं, अर्थात्- ग्लेडिएटर, जुमानजी, क्रैश, फ्राइडे, एडमंड, लिमिटलेस, ब्रेवहार्ट, ब्लड डायमंड, माफियोसो, स्लैच, रिवोल्ट और धूम।

D को न तो ग्लेडिएटर न ही लिमिटलेस मूवी पसंद है। जिस व्यक्ति को फ्राइडे पसंद है वह पंक्ति के अंतिम छोर पर बैठा है और उसका मुख E की ओर है। P और जिस व्यक्ति को ब्रेवहार्ट मूवी पसंद है इनके बीच तीन व्यक्ति बैठे हैं। जिस व्यक्ति को जुमानजी पसंद है उसके निकटतम पड़ोसी का मुख, एडमंड पसंद करने वाले व्यक्ति की ओर है। E को न तो जुमानजी न ही एडमंड पसंद है। जिस व्यक्ति को माफियोसो पसंद है वह उस व्यक्ति के बायीं ओर दूसरे स्थान पर बैठा है जिसे जुमानजी पसंद है। जिस व्यक्ति को फ्राइडे पसंद है और जिस व्यक्ति को जुमानजी पसंद है उनके बीच दो व्यक्ति बैठे हैं। जिस व्यक्ति का मुख T की ओर है वह उस व्यक्ति के ठीक दायीं ओर बैठा है जिस व्यक्ति को जुमानजी पसंद है। T, Q का निकटतम पड़ोसी नहीं है। A उस व्यक्ति के बायीं ओर दूसरे स्थान पर बैठा है जिसे क्रैश मूवी पसंद है। E और A के बीच केवल एक व्यक्ति बैठा है। जिस व्यक्ति को क्रैश और जिस व्यक्ति को स्लैच मूवी पसंद है इनके बीच दो व्यक्ति बैठे हैं। P, T का एक निकटतम पड़ोसी है तथा उसे माफियोसो मूवी पसंद है। C जिसे ब्लड डायमंड पसंद है वह उस व्यक्ति का निकटतम पड़ोसी है जिसका मुख T की ओर है, जिसे लिमिटलेस मूवी पसंद नहीं है। जिस व्यक्ति को रिवोल्ट पसंद है, वह एडमंड मूवी पसंद करने वाले व्यक्ति के बाएं से दूसरे स्थान पर बैठा है। T और S के बीच तथा B और F के बीच केवल दो व्यक्ति बैठे हैं। B, C के निकट नहीं बैठा है। U और Q एक-दूसरे के निकटतम पड़ोसी हैं।

**Q27. निम्नलिखित में से किस व्यक्ति को 'धूम' मूवी पसंद है?**

(a) D

(b) C

(c) R

(d) P

(e) U

Q28. U के दायीं ओर तीसरे स्थान पर कौन बैठा है?

- (a) जिस व्यक्ति को ब्रेवहार्ट पसंद है
- (b) T
- (c) P
- (d) S
- (e) R

Q29. निम्नलिखित में से किसका मुख उस व्यक्ति की ओर है जिसे लैच पसंद है?

- (a) U
- (b) V
- (c) जिस व्यक्ति को ब्रेवहार्ट पसंद है
- (d) T
- (e) जिस व्यक्ति को जुमानजी पसंद है

Q30. निम्नलिखित पांच में से चार एक निश्चित प्रकार से समान हैं और इसलिए एक समूह बनाते हैं, निम्न में से कौन सा एक उस समूह से संबंधित नहीं है?

- (a) जिस व्यक्ति को क्लेश पसंद है
- (b) C
- (c) जिस व्यक्ति को रिवोल्ट पसंद है
- (d) P
- (e) R

Q31. निम्नलिखित में से किस व्यक्ति का मुख उस व्यक्ति की ओर है जो Q के बायीं ओर दूसरे स्थान पर बैठा है?

- (a) D
- (b) F
- (c) B
- (d) A
- (e) E

**Directions (32-35):** नीचे दिए गए प्रत्येक प्रश्न में तीन कथन और उसके बाद तीन निष्कर्ष I, II और III दिए गए हैं। आपको दिए गए कथनों को सत्य मानना है भले ही वे सर्वज्ञात तथ्यों से भिन्न प्रतीत होते हों। सभी निष्कर्षों को पढ़िए और सभी कथनों का एक-साथ प्रयोग करते हुए, यह निर्धारित कीजिए कि कौन से निष्कर्ष दिए गए कथनों का तार्किक रूप से अनुसरण करते हैं, चाहे सर्वज्ञात तथ्य कुछ भी हों।

Q32. कथन :

सभी पीओ ग्रेजुएट हैं

सभी क्लर्क पीओ हैं


कुछ क्लर्क इन्टर्मीडिएट हैं

निष्कर्ष :

I. कुछ क्लर्क ग्रेजुएट हैं

II. कुछ इन्टर्मीडिएट का ग्रेजुएट होना एक संभावना है

III. सभी इन्टर्मीडिएट ग्रेजुएट हो सकते हैं



- (a) केवल I और II अनुसरण करते हैं
- (b) केवल I और III अनुसरण करते हैं
- (c) केवल II और III अनुसरण करते हैं
- (d) सभी I, II और III अनुसरण करते हैं
- (e) इनमें से कोई नहीं

**Q33. कथन:**

कुछ होटल 5-स्टार हैं  
कोई 5-स्टार चीप नहीं है  
कुछ चीप लगशरीअस हैं

**निष्कर्ष :**

- I. कुछ लगशरीअस होटल हैं
  - II. कोई होटल लगशरीअस नहीं है
  - III. सभी होटल लगशरीअस हैं
- (a) कोई अनुसरण नहीं करता है
  - (b) केवल II अनुसरण करता है
  - (c) केवल III अनुसरण करता है
  - (d) केवल I अनुसरण करता है
  - (e) केवल या तो I या II अनुसरण करता है

**Q34. कथन :**

कोई लड़का लड़की नहीं है  
कुछ लड़की सुंदर हैं  
कुछ सुंदर बुद्धिमान हैं

**निष्कर्ष :**

- I. कुछ लड़कियां बुद्धिमान नहीं हैं
  - II. सभी लड़कों के सुंदर होने की एक संभावना है
  - III. कुछ लड़कियां बुद्धिमान हैं
- (a) केवल I और II अनुसरण करते हैं
  - (b) केवल I और III अनुसरण करते हैं
  - (c) केवल II और या तो I या III अनुसरण करते हैं
  - (d) सभी I, II और III अनुसरण करते हैं
  - (e) इनमें से कोई नहीं

**Q35. कथन :**

कुछ पुलिस ईमानदार हैं  
कुछ पुलिस चोर हैं  
कोई ईमानदार अमीर नहीं है



**निष्कर्ष :**

- I. कुछ चोर ईमानदार हो सकते हैं
  - II. सभी पुलिस कभी भी अमीर नहीं हो सकते हैं
  - III. सभी पुलिस अमीर हो सकते हैं
- (a) केवल I और II अनुसरण करते हैं  
(b) केवल II अनुसरण करता है  
(c) केवल I अनुसरण करता है  
(d) कोई अनुसरण नहीं करता है  
(e) इनमें से कोई नहीं

**Directions (36-38): निम्नलिखित जानकारी का ध्यानपूर्वक अध्ययन कीजिए और नीचे दिए प्रश्नों के उत्तर दीजिए।**

सात डिब्बे हैं जो एक के ऊपर एक करके इस प्रकार रखे हैं कि सभी अलग-अलग रंग के हैं। डिब्बा-B लाल रंग का है तथा वह शीर्ष या सबसे नीचे नहीं रखा है। डिब्बा-F, डिब्बा-E के नीचे रखा है। डिब्बा-A जो काले रंग का है तथा डिब्बा-B जो नारंगी रंग के डिब्बे के ठीक ऊपर रखा है, इनके बीच दो डिब्बे रखे हैं। डिब्बा-E गुलाबी रंग का है तथा उस डिब्बे के ठीक नीचे रखा है जो हरे रंग का है। डिब्बा-F नीले रंग का है। डिब्बा-E सबसे नीचे रखा है। पीले रंग का डिब्बा शीर्ष स्थान पर रखा है। डिब्बा A सबसे नीचे नहीं रखा है। डिब्बा-N नारंगी रंग का है तथा डिब्बा M, डिब्बा-G के नीचे रखा है।

**Q36. निम्नलिखित डिब्बों में से कौन सा डिब्बा, उस डिब्बे के ठीक नीचे रखा है जो काले रंग का है?**

- (a) डिब्बा A
- (b) डिब्बा N
- (c) डिब्बा F
- (d) डिब्बा M
- (e) इनमें से कोई नहीं

**Q37. निम्नलिखित में से कौन सा डिब्बा पीले रंग का है?**

- (a) डिब्बा G
- (b) डिब्बा M
- (c) डिब्बा A
- (d) डिब्बा N
- (e) डिब्बा F

**Q38. कितने डिब्बे, डिब्बा-N के ऊपर रखे हैं?**

- (a) दो
- (b) तीन
- (c) पांच
- (d) चार
- (e) एक

**Q39.** यदि शब्द 'RABBLEMENT' के वर्णों को अंग्रेजी वर्णमाला के क्रम में बाएं से दाएं व्यवस्थित किया जाता है, तो कितने वर्णों की स्थिति अपरिवर्तित रहेगी?

- (a) कोई नहीं
- (b) एक
- (c) दो
- (d) तीन
- (e) इनमें से कोई नहीं

**Q40.** शब्द 'STAGNATION' में वर्णों के ऐसे कितने युग्म हैं जिनमें से प्रत्येक के बीच उतने ही वर्ण हैं जितने अंग्रेजी वर्णमाला में (आगे और पिछड़े दोनों दिशाओं में) उनके बीच होते हैं?

- (a) कोई नहीं
- (b) दो
- (c) चार
- (d) तीन
- (e) चार से अधिक

**Q41.** निम्नलिखित प्रश्न में एक कथन और उसके बाद तीन निष्कर्ष दिए गए हैं जिनका क्रमांक I, II और III है। आपको सभी कथनों को पढ़ना है और यह निर्धारित करना है कि निम्नलिखित में से कौन सी कार्यवाही उपर्युक्त कथन के लिए उपयुक्त है।

**कथन:**

केंद्रीय माध्यमिक शिक्षा बोर्ड (सीबीएसई) कक्षा 12 वीं के लिए अर्थशास्त्र के वार्षिक परीक्षा पत्रों के लीक होने और 10 वीं कक्षा के गणित विषय के साथ विश्वसनीयता के गंभीर क्षरण का सामना कर रहा है।

**कार्यवाही :**

**I.** मानव संसाधन विकास मंत्री को तथ्यों को प्राप्त करने और किसी भी देरी के बिना उपचारात्मक कदम उठाने की पूरी तरह से जांच करनी चाहिए।

**II.** मानव संसाधन विकास मंत्री को सीबीएसई के सभी अधिकारियों को अपने संबंधित कार्यालयों से हटा देना चाहिए और उनके खिलाफ जांच करना चाहिए।

**III.** कक्षा 12वीं और कक्षा 10वीं के दोनों लीक पत्रों को सीबीएसई द्वारा रद्द किया जाना चाहिए और ताजा और निष्पक्ष परीक्षा आयोजित की जानी चाहिए।

- (a) सभी अनुसरण करते हैं
- (b) केवल (I) और (III) अनुसरण करते हैं
- (c) केवल (II) और (III) अनुसरण करते हैं
- (d) केवल (I) और (II) अनुसरण करते हैं
- (e) केवल (I) अनुसरण करता है

**Directions (42-46):** निम्नलिखित जानकारी का ध्यानपूर्वक अध्ययन कीजिए और नीचे दिए प्रश्नों के उत्तर दीजिए।

गंगा राम अस्पताल में विभिन्न प्रकार के छह डॉक्टर हैं अर्थात्- नेत्र-विशेषज्ञ, मनोचिकित्सक, त्वचा विशेषज्ञ, स्नायु-विशेषज्ञ, बाल चिकित्सक और 'रुधिर रोग विशेषज्ञ', लेकिन यह आवश्यक नहीं है कि इसी क्रम में हों। वे एक दिन में अलग-अलग समय पर अपने मरीजों को देखते हैं। मरीजों के साथ बैठक की अवधि अलग-अलग है। सभी डॉक्टरों की बैठक के बीच कोई अंतराल नहीं है। बैठक की अवधि या तो एक घंटा है या आधा घंटा है, लेकिन एक घंटे का  $1/3$  या  $1/4$  नहीं है।

'मनोचिकित्सक', 'नेत्र-विशेषज्ञ' की बैठक के समय के बाद मरीजों को देखता है। 'नेत्र-विशेषज्ञ' और 'रुधिर रोग विशेषज्ञ' के मरीजों को देखने की समयावधि समान है। 'मनोचिकित्सक' के मरीजों के साथ बैठक की अवधि, 'रुधिर रोग विशेषज्ञ' के मरीजों के साथ बैठक की अवधि से आधा घंटा कम है। 'नेत्र-विशेषज्ञ' अपने मरीजों को, 'त्वचा विशेषज्ञ' द्वारा अपने मरीजों को देखने के ठीक बाद या ठीक पहले देखता है। 'रुधिर रोग विशेषज्ञ' की बैठक का समय पूर्वाह्न 7 बजे के बाद है। 'स्नायु-विशेषज्ञ' की बैठक की अवधि, 'मनोचिकित्सक' की बैठक की अवधि से आधा घंटा अधिक है। 'बाल चिकित्सक' अपने मरीजों को, 'मनोचिकित्सक' द्वारा मरीजों को देखने के ठीक बाद देखता है। स्नायु-विशेषज्ञ अपने मरीजों को, 'नेत्र-विशेषज्ञ' से पहले देखता है, लेकिन ठीक पहले नहीं। सभी डॉक्टरों द्वारा अपने मरीजों को देखने की बैठक की कुल अवधि 9:30 घंटे है। रुधिर रोग विशेषज्ञ की बैठक, 'त्वचा विशेषज्ञ' से पहले है। 'बाल चिकित्सक' की बैठक का समय अपराह्न 2:30 से 4:00 है। 'त्वचा विशेषज्ञ' और 'स्नायु-विशेषज्ञ' की बैठक की समयावधि समान है। 'रुधिर रोग विशेषज्ञ' की बैठक का समय दो घंटे है। 'स्नायु-विशेषज्ञ' की बैठक का समय पूर्वाह्न 9:00 के बाद है।

**Q42.** निम्नलिखित में से कौन सा डॉक्टर अपने मरीजों को पूर्वाह्न 11:00 बजे से अपराह्न 12:30 तक देखता है?

- (a) नेत्र-विशेषज्ञ
- (b) मनोचिकित्सक
- (c) त्वचा विशेषज्ञ
- (d) स्नायु-विशेषज्ञ
- (e) इनमें से कोई नहीं

**Q43.** निम्नलिखित में से कौन सा डॉक्टर अपने मरीजों को 'स्नायु-विशेषज्ञ' के ठीक बाद देखता है?

- (a) त्वचा विशेषज्ञ
- (b) नेत्र-विशेषज्ञ
- (c) मनोचिकित्सक
- (d) स्नायु-विशेषज्ञ
- (e) इनमें से कोई नहीं

**Q44.** निम्नलिखित में से कौन सा डॉक्टर अपने मरीजों को पूर्वाह्न 9:30 से 11:00 तक देखता है?

- (a) नेत्र-विशेषज्ञ
- (b) मनोचिकित्सक
- (c) रुधिर रोग विशेषज्ञ
- (d) बाल चिकित्सक
- (e) इनमें से कोई नहीं

Q45. निम्नलिखित में से कौन अपने मरीजों को 'नेत्र-विशेषज्ञ' के ठीक बाद देखता है?

- (a) मनोचिकित्सक
- (b) बाल चिकित्सक
- (c) रुधिर रोग विशेषज्ञ
- (d) त्वचा विशेषज्ञ
- (e) इनमें से कोई नहीं

Q46. नेत्र-विशेषज्ञ द्वारा अपने मरीजों को देखने के लिए बैठक की अवधि (घंटों में) कितनी है?

- (a) 2.5 घंटे
- (b) 3 घंटे
- (c) 3.5 घंटे
- (d) 1.5 घंटे
- (e) 2 घंटे

Q47. निम्नलिखित जानकारी का ध्यानपूर्वक अध्ययन कीजिए और नीचे दिए प्रश्नों के उत्तर दीजिए।

A ÷ B का अर्थ है कि A, B का पुत्र है

A × B का अर्थ है कि A, B की बहन है

A @ B का अर्थ है कि A, B का भाई है

A - B का अर्थ है कि A, B की माँ है

व्यंजक 'A × R @ D - H' में D का A से क्या संबंध है?

- (a) बहन
- (b) पुत्री
- (c) पुत्र
- (d) माँ
- (e) इनमें से कोई नहीं

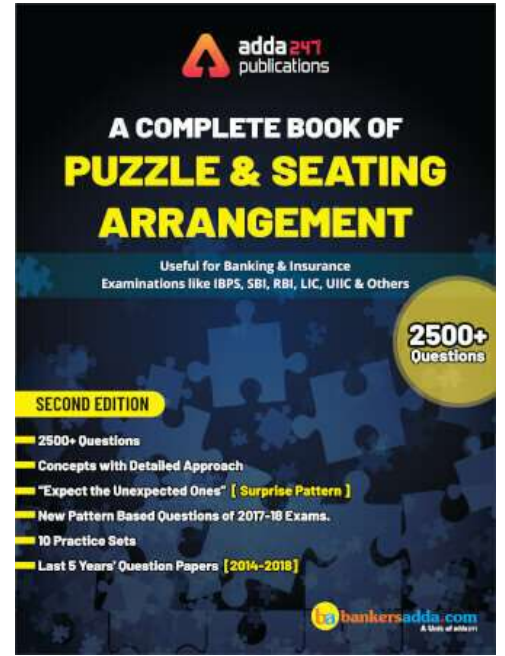
Q48. पेपर लीक पर आलोचना का सामना करना, केंद्रीय माध्यमिक शिक्षा बोर्ड ने सोमवार को "कूट रूप" प्रश्न पत्रों की एक प्रणाली स्थापित की, जिन्हें स्कूलों द्वारा मुद्रित किया जाना चाहिए।

"सीबीएसई ने परीक्षा शुरू होने से ठीक पहले परीक्षा केंद्रों में कूट रूप प्रश्न पत्र प्रदान करने की एक तंत्र तैयार किया है," उपर्युक्त कथन से निम्नलिखित में से किसका अनुमान लगाया जा सकता है?

I. सीबीएसई ने कूट रूप सिस्टम को निष्पक्ष परीक्षा आयोजित करने के लिए सुरक्षित तरीके के रूप में माना है।

II. कंप्यूटर और प्रिंटर की स्थापना के लिए सुरक्षित और सुरक्षित कमरा होगा जिसमें उच्च गति इंटरनेट कनेक्शन होगा।

III. प्रश्न पत्र जिप फ़ाइल के रूप में केंद्रों को प्रदान किया जाएगा जो पासवर्ड संरक्षित होगा।



- (a) केवल I
- (b) I और III दोनों
- (c) I और II दोनों
- (d) उपर्युक्त सभी
- (e) इनमें से कोई नहीं

**Q49.** माननीय सुप्रीम कोर्ट ने अनुसूचित जाति / अनुसूचित जनजाति अधिनियम में संशोधन किया है कि हरिजन अधिनियम के मामले में कोई तत्काल गिरफ्तारी नहीं होगी और मामले की जांच इंस्पेक्टर के बजाय डीएसपी रैंक के पुलिस अधिकारी द्वारा की जाएगी और फिर इसमें केवल डीएसपी रैंक अधिकारी द्वारा जांच जारी रखने का फैसला किया जाएगा।

इस संशोधन के बाद क्या-क्या प्रभाव हो सकते हैं।

**I.** हरिजन की ओर दमन बढ़ सकता है और समाज में समानता बाधित हो जाएगी।

**II.** पिछड़े वर्ग और हरिजन समाज के नेता भारत के सर्वोच्च न्यायालय द्वारा किए गए संशोधन के खिलाफ भारत बंद को बुला सकते हैं।

**III.** केंद्र सरकार पर दबाव डालने के लिए कुछ पार्टियों के नेता अपने अधिकार के रूप में आरक्षण प्रणाली को खत्म करने के लिए केंद्र सरकार पर दबाव डालने के लिए हड़ताल पर जा सकते हैं।

- (a) II और III दोनों
- (b) केवल I
- (c) I और II दोनों
- (d) उपर्युक्त सभी
- (e) इनमें से कोई नहीं

  
adda247

**Q50.** कर्मचारी संघ द्वारा किए गए एक सर्वेक्षण में, यह पाया गया है कि काम की उत्पादकता कार्यालय के कामकाजी माहौल में बदलाव के हिसाब से अलग है। अच्छा, स्वस्थ और सकारात्मक वातावरण प्रदर्शन को बढ़ाता है।

सर्वेक्षण में आने वाले तथ्यों को खत्म करने के लिए निम्नलिखित में से कौन सी कार्रवाई की गई है?

**I.** प्रबंधन ने कर्मचारी को मनाने की कोशिश की है कि दिन की उत्पादकता के अंत में दृढ़ संकल्प और कड़ी मेहनत पर निर्भर करता है।

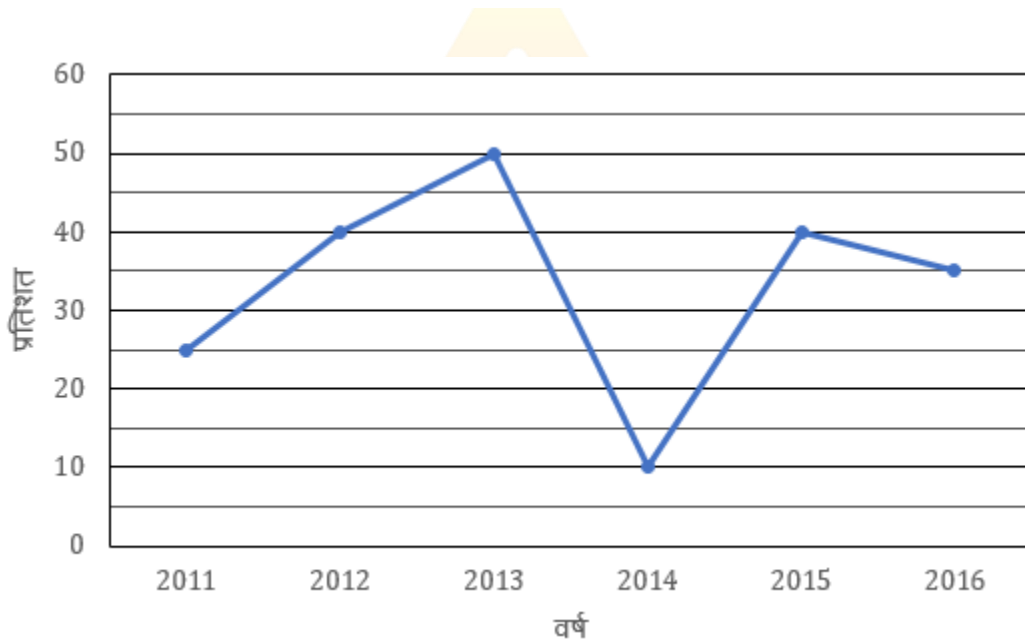
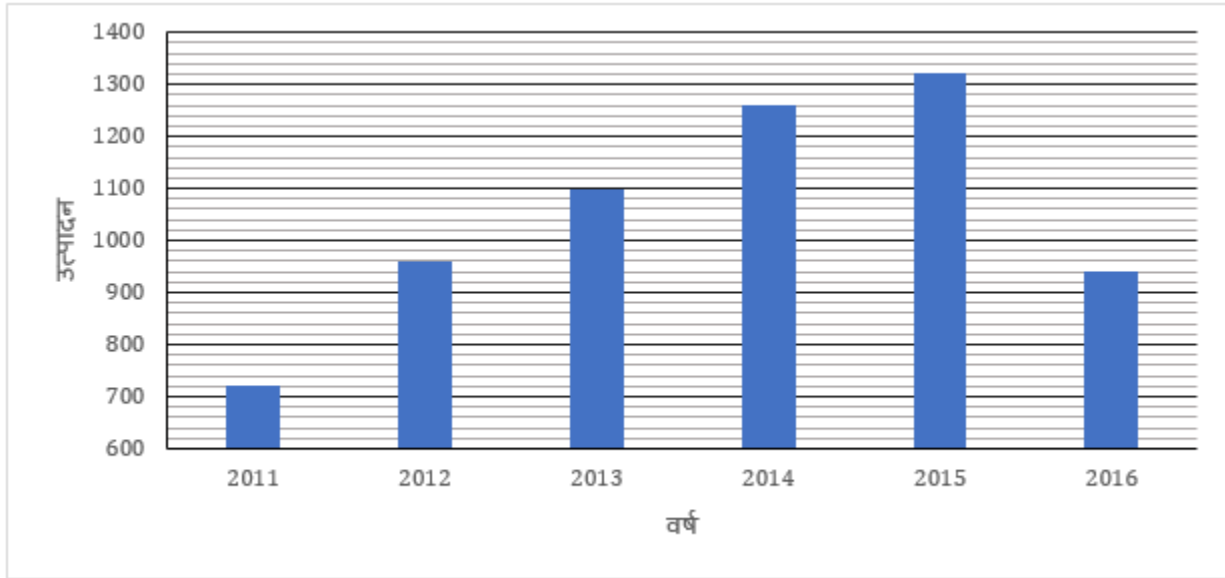
**II.** केन्द्रित होना, ईमानदारी और विकास की भूख महत्वपूर्ण मंत्र है जो हर कर्मचारी को कंपनी के विस्तार के लिए पालन करना चाहिए - मानव संसाधन द्वारा कहा गया कथन।

**III.** सभी वित्तीय वर्ष से सभी कर्मचारियों के लिए आरामदायक छुट्टी 15 से 25 हो गई है।

- (a) केवल III
- (b) II और III दोनों
- (c) I और III दोनों
- (d) केवल II
- (e) इनमें से कोई नहीं



**Directions (51-55):** नीचे दिए गए बार ग्राफ में, दिए गए छः वर्षों के दौरान एक कंपनी में दो प्रकार की कारों X और Y के उत्पादन को दर्शाया गया है। लाइन ग्राफ दर्शाता है कि प्रतिशत के सन्दर्भ में Y का उत्पादन X से कितना अधिक है। आंकड़ों का ध्यानपूर्वक अध्ययन कीजिये और निम्नलिखित प्रश्नों के उत्तर दीजिए।



**Q51.** वर्ष 2011 और 2012 में मिलाकर कंपनी द्वारा उत्पादित कुल Y प्रकार की कारों, वर्ष 2014 और 2016 में मिलाकर कंपनी द्वारा उत्पादित कुल X प्रकार की कारों का कितने प्रतिशत है?

- (a) 70%
- (b) 75%
- (c) 80%
- (d) 90%
- (e) 120%

**Q52. 2011 और 2012 में मिलाकर उत्पादित X प्रकार की कुल कारों का, 2013 और 2015 में मिलाकर उत्पादित X प्रकार की कुल कारों से अनुपात ज्ञात कीजिए।**

- (a) 21 : 22
- (b) 15 : 22
- (c) 7 : 10
- (d) 8 : 11
- (e) 6 : 11

**Q53. 2017 में, कंपनी के कुल उत्पादन में 35% की वृद्धि होती है जबकि 2016 में, X प्रकार की कारों के कुल उत्पादन में 62% की वृद्धि होती है, तो ज्ञात कीजिए 2017 में Y प्रकार की कारों के उत्पादन में कितने प्रतिशत की वृद्धि हुई?**

- (a) 10%
- (b) 15%
- (c) 20%
- (d) 25%
- (e) 30%

**Q54. 2011, 2013 और 2015 में मिलाकर उत्पादित Y प्रकार की कारों की औसत संख्या ज्ञात कीजिए।**

- (a) 580
- (b) 620
- (c) 1570
- (d) 590
- (e) 610

**Q55. 2012 में, Y प्रकार की 20% कारें त्रुटिपूर्ण हैं जबकि 2014 में, Y प्रकार की 30% कारें त्रुटिपूर्ण हैं, तो 2012 और 2014 में मिलाकर उत्पादित Y प्रकार की कारों की कुल संख्या ज्ञात कीजिये, जो त्रुटिपूर्ण नहीं हैं।**

- (a) 880
- (b) 910
- (c) 940
- (d) 970
- (e) 990

**Q56. रमन योजना 'X' में P रु. निवेश करता है, जो प्रतिवर्ष चक्रवृद्धि ब्याज पर कुछ दर प्रदान करती है, यदि योजना 'X' से पहले वर्ष में अर्जित ब्याज का, दूसरे वर्ष में अर्जित ब्याज से अनुपात 20:43 है, जबकि यदि रमन योजना 'Q' में P रु. निवेश करता है, जो समान दर प्रदान करती है तो 4 वर्षों के बाद साधारण ब्याज पर वह राशि 51,200 रु. हो जाती है। यदि वह योजना 'X' में 3 वर्षों के लिए P रु. निवेश करता है, तो उसके द्वारा कितना ब्याज अर्जित किया जा सकता है?**

- (a) 16,248
- (b) 16,868
- (c) 15,548
- (d) 14,656
- (e) 16,668

**Q57.** एक वर्ग में एक वृत्त निहित है। यदि वर्ग और वृत्त के क्षेत्रफल के मध्य 262.5 वर्ग सेमी का अंतर है, तो उस आयत का क्षेत्रफल ज्ञात कीजिए जिसका परिमाण वृत्त के समान है जबकि आयत की लम्बाई आयत की चौड़ाई से 20% अधिक है (सेमी<sup>2</sup> में)?

- (a) 1500
- (b) 1400
- (c) 700
- (d) 750
- (e) 3000

**Q58.** 5 अंकों की संख्या के अंकों का योग 43 है। ऐसी संख्या के 11 से विभाज्य होने की प्रायिकता ज्ञात कीजिए।

- (a) 1/3
- (b) 1/5
- (c) 2/5
- (d) 2/15
- (e) 2/3

**Q59.** 'A' और 'B' मिलकर एक व्यवसाय शुरू करते हैं। A आरंभ में (P + 250) निवेश करता है जबकि B आरंभ में '1.5P' निवेश करता है। 'A' प्रत्येक 4 महीनों के बाद 1000 रु. और निवेश करता है जबकि 'B' प्रत्येक तिमाही के बाद 500रु. और निवेश करता है। एक वर्ष के पश्चात 'A' को कुल लाभ का 46% प्राप्त होता है, तो 'B' द्वारा तीसरी तिमाही में निवेशित राशि ज्ञात कीजिए।

- (a) 3300
- (b) 3800
- (c) 4300
- (d) 4800
- (e) 5300

**Q60.** शब्द 'DELIGHT' को ऐसे कितने प्रकार से लिखा जा सकता है, कि दोनों स्वर हमेशा साथ आयें।

- (a) 1440
- (b) 720
- (c) 1569
- (d) 7560
- (e) 3360

**Q61.** 'C' कार्य पूरा होने तक सभी दिनों तक कार्य करता है। 'B' पहले 12 दिनों के लिए कार्य करता है और फिर छोड़ देता है तथा 3 दिनों के बाद 'D', 'C' के साथ शामिल हो जाता है और वे कार्य पूरा होने तक कार्य करते हैं। 'A' अंतिम 20 दिनों के लिए कार्य करता है। प्रत्येक व्यक्ति ने कार्य के बराबर हिस्से को किया। यदि 'A' और 'C' साथ मिलकर 48 दिनों में कार्य को पूरा कर सकते हैं, तो 'A', 'B' और 'D' साथ मिलकर कितने दिनों में कार्य को पूरा कर सकते हैं?

- (a) 24 दिन
- (b) 20 दिन
- (c) 16 दिन
- (d) 15 दिन
- (e)  $14\frac{2}{17}$  दिन

Q62. एक विद्यार्थी पांच द्विअंकीय संख्याओं का औसत ज्ञात करता है। यदि एक संख्या को उलट दिया गया और पुनः औसत निकाला गया, तो औसत में 5.4 की वृद्धि होती है। यदि सभी पांच संख्याएँ चार की क्रमागत गुणज हैं, तो वह संख्या ज्ञात कीजिए जिसे उलट दिया गया है?

- (a) 58
- (b) 36
- (c) 74
- (d) 48
- (e) इनमें से कोई नहीं

Q63. एक समूह का औसत भार 20किग्रा. है। जब 2 व्यक्तियों को समूह में जोड़ा जाता है, तो औसत भार 22 किग्रा. हो जाता है। इसके बाद जब समूह से 4 अन्य व्यक्तियों को निकाला जाता है, जिनका भार पहले शामिल किये गए 2 व्यक्तियों के भार से आधा है, तो औसत आयु 25 हो जाती है। समूह की आरंभिक संख्या ज्ञात कीजिए।

- (a) 18
- (b) 20
- (c) 22
- (d) 16
- (e) 14

Q64. प्रत्येक 20 किग्रा के लिए खुदरा विक्रेता 2 किग्रा चावल मुफ्त देता है। वह क्रयमूल्य से 50% अधिक मूल्य अंकित करता है। एक ग्राहक आता है और 500 किग्रा चावल  $16\frac{2}{3}\%$  की छूट पर खरीदता है। खुदरा विक्रेता का लाभ प्रतिशत ज्ञात कीजिए यदि खुदरा विक्रेता 20% कम भार तौलता है?

- (a)  $41\frac{1}{22}\%$
- (b)  $42\frac{1}{22}\%$
- (c)  $44\frac{1}{22}\%$
- (d)  $43\frac{1}{22}\%$
- (e)  $45\frac{1}{22}\%$

Q65. शतरंज बोर्ड पर यादृच्छिक रूप से तीन-इकाई वर्ग चुने जाते हैं। उनमें से दो के समान रंग के जबकि शेष एक के अन्य रंग के होने की प्रायिकता क्या है?

- (a) 16/21
- (b) 8/21
- (c) 5/21
- (d) 4/7
- (e) 32/63

**Directions (66-70):** दिए गए द्विघातीय समीकरणों को हल कीजिए और अपने उत्तर के आधार पर सही विकल्प को चिह्नित कीजिए-

**Q66.**

I.  $2x^2 - 9\sqrt{5}x + 50 = 0$

II.  $y^2 - 11\sqrt{3}y + 90 = 0$

- (a)  $x < y$   
(b)  $x \leq y$   
(c)  $x = y$  या  $x$  और  $y$  के मध्य कोई संबंध स्थापित नहीं किया जा सकता  
(d)  $x > y$   
(e)  $x \geq y$

**Q67.**

I.  $25x^2 - 25x + 6 = 0$

II.  $49y^2 - 49y + 12 = 0$

- (a)  $x < y$   
(b)  $x \leq y$   
(c)  $x = y$  या  $x$  और  $y$  के मध्य कोई संबंध स्थापित नहीं किया जा सकता  
(d)  $x > y$   
(e)  $x \geq y$

**Q68.**

I.  $9x^2 - 18x + 8 = 0$

II.  $15y^2 + 4y - 4 = 0$

- (a)  $x < y$   
(b)  $x \leq y$   
(c)  $x = y$  या  $x$  और  $y$  के मध्य कोई संबंध स्थापित नहीं किया जा सकता  
(d)  $x > y$   
(e)  $x \geq y$

**Q69.**

I.  $12x^2 - 45x + 42 = 0$

II.  $8y^2 - 26y + 21 = 0$

- (a)  $x < y$   
(b)  $x \leq y$   
(c)  $x = y$  या  $x$  और  $y$  के मध्य कोई संबंध स्थापित नहीं किया जा सकता  
(d)  $x > y$   
(e)  $x \geq y$



**EPFO SSA 2019  
PRIME**

**65+ TOTAL TESTS**

- ✓ 15 Full Length Mocks
- ✓ 30 Section Wise Sets
- ✓ 20 Topic Wise Sets
- ✓ eBook

**BILINGUAL**

**Q70.**

I.  $x^2 + 30x + 221 = 0$

II.  $y^2 + 20y + 99 = 0$

(a)  $x < y$

(b)  $x \leq y$

(c)  $x = y$  या  $x$  और  $y$  के मध्य कोई संबंध स्थापित नहीं किया जा सकता

(d)  $x > y$

(e)  $x \geq y$

**Directions (71-75):** नीचे दी गई तालिका पांच शहरों में डाले गए मतों की कुल संख्या दर्शाती है। X के लिए डाले गए कुल मत (प्रतिशत में) और डाले गए कुल अवैध मत। चुनाव में केवल दो व्यक्ति खड़े होते हैं (अर्थात्- X और Y)। आंकड़ों का ध्यानपूर्वक अध्ययन कीजिये और निम्नलिखित प्रश्नों के उत्तर दीजिए।

शहर	डाले गए कुल मत	X के लिए डाले गए मत (% में)	डाले गए कुल अवैध मत
A	1200	45	135
B	1500	48	250
C	1350	60	250
D	1600	54	88
E	1950	44	144

डाले गए कुल मत = X के लिए डाले गए मत + Y के लिए डाले गए मत

डाले गए कुल मत = कुल वैध मत + कुल अवैध मत

**Q71.** शहर A में Y के लिए डाले गए कुल अवैध मत X के लिए डाले गए कुल अवैध मतों से 25% अधिक हैं। ज्ञात कीजिए, शहर A में Y कितने प्रतिशत मतों से जीत जाता है।

(a)  $22\frac{2}{9}\%$

(b)  $21\frac{7}{8}\%$

(c)  $21\frac{5}{8}\%$

(d)  $22\frac{4}{9}\%$

(e)  $22\frac{5}{9}\%$

**Q72.** शहर A, C और E में मिलाकर Y के लिए डाले गए कुल मतों की औसत संख्या ज्ञात कीजिए।

(a) 736

(b) 748

(c) 764

(d) 754

(e) 760

Q73. शहर D और शहर E में Y के लिए डाले गए कुल अवैध मत क्रमशः 25% और 50% हैं। तो शहर D में Y के लिए डाले गए कुल वैध मत, शहर E में Y के लिए डाले गए कुल वैध मतों का कितने प्रतिशत हैं?

- (a) 80%
- (b) 75%
- (c) 65%
- (d) 60%
- (e) 70%

Q74. शहर C और D में मिलाकर X के लिए डाले गए कुल मत, शहर A और B में मिलाकर Y के लिए डाले गए कुल मतों का कितने प्रतिशत हैं?

- (a) 110.25%
- (b) 112.75%
- (c) 114.25%
- (d) 116.25%
- (e) 118.25%

Q75. शहर B में Y के लिए डाले गए कुल वैध मत, शहर C में Y के लिए डाले गए कुल वैध मतों से कितने अधिक हैं, यदि शहर B और शहर C में X के लिए डाले गये कुल अवैध मत क्रमशः 84% और 92% हैं।

- (a) 210
- (b) 220
- (c) 230
- (d) 240
- (e) 250



Directions (76-80): निम्नलिखित प्रश्नों में प्रश्न चिह्न (?) के स्थान पर लगभग क्या मान आना चाहिए?

Q76.  $\sqrt{5184.11} \div \sqrt{900.1} \times (7999.9)^{\frac{1}{3}} = ?$  का 14.9%

- (a) 420
- (b) 440
- (c) 380
- (d) 320
- (e) 270

Q77.  $3^2 = 729.12 \div 81.11 \times 242.91 \div 27.17 \times 9.09$

- (a) 3
- (b) 4
- (c) 5
- (d) 6
- (e) 7

Q78.  $?^2 = \sqrt{1199 \text{ का } 34.7\% - (17.99)^2 + 264 \text{ का } 60.60\%}$

- (a) 2  
(b) 4  
(c) 8  
(d) 16  
(e) 32

Q79.  $? \times \frac{342.15}{19.19} = \frac{108.18}{17.17} \times \frac{408.40}{16.16}$

- (a) 6  
(b) 18  
(c) 15  
(d) 12  
(e) 9

Q80.  $? \text{ का } 24.78\% = 450.450 \text{ का } \frac{68.12}{153.13} \text{ का } \frac{21.21}{35.15} \text{ का } \frac{5.11}{8.05}$

- (a) 300  
(b) 400  
(c) 240  
(d) 120  
(e) 480

**Directions (81-85):** निम्नलिखित प्रश्नों के साथ दो कथन A और B दिए गए हैं। आपको यह निर्धारित करना होगा कि प्रश्न का उत्तर देने के लिए कौन सा/से कथन पर्याप्त/आवश्यक है/हैं।

Q81. खुदरा विक्रेता का कुल लाभ या हानि प्रतिशत ज्ञात कीजिए यदि वह दो बैट और चार बॉलों को बेचता है।

(A) 3 बैट का क्रयमूल्य 4 बॉल के विक्रयमूल्य के बराबर है, जबकि एक बैट को बेचने पर लाभ प्रतिशत 50% है।

(B) दो बैटों को बेचने पर खुदरा विक्रेता 50% लाभ कमाता है, जबकि 4 बॉलों को बेचने पर उसे 40% की हानि होती है।

(a) कथन A अकेले प्रश्न का उत्तर देने के लिए पर्याप्त है लेकिन कथन B अकेले प्रश्न का उत्तर देने के लिए पर्याप्त नहीं है।

(b) कथन B अकेले प्रश्न का उत्तर देने के लिए पर्याप्त है लेकिन कथन A अकेले प्रश्न का उत्तर देने के लिए पर्याप्त नहीं है।

(c) प्रश्न का उत्तर देने के लिए दिए गए दोनों कथन मिलाकर आवश्यक हैं लेकिन प्रश्न का उत्तर देने के लिए कोई भी कथन अकेले पर्याप्त नहीं है।

(d) प्रश्न का उत्तर देने के लिए या तो कथन A या कथन B पर्याप्त है।

(e) प्रश्न का उत्तर देने के लिए कथन A और B मिलाकर पर्याप्त नहीं हैं।

Q82. एक बॉक्स में 4 ग्रीन बॉल, 'x' ब्लू बॉल, 5 वायलेट बॉल और 'y' येलो बॉल हैं। 'x + y' का मान ज्ञात कीजिए।

(A) दो ग्रीन बॉल को चुनने की प्रायिकता  $\frac{1}{20}$  है।

(B) एक ब्लू बॉल या एक वायलेट बॉल को चुनने की प्रायिकता  $\frac{1}{2}$  है।

(a) कथन A अकेले प्रश्न का उत्तर देने के लिए पर्याप्त है लेकिन कथन B अकेले प्रश्न का उत्तर देने के लिए पर्याप्त नहीं है।

(b) कथन B अकेले प्रश्न का उत्तर देने के लिए पर्याप्त है लेकिन कथन A अकेले प्रश्न का उत्तर देने के लिए पर्याप्त नहीं है।

(c) प्रश्न का उत्तर देने के लिए दिए गए दोनों कथन मिलाकर आवश्यक हैं लेकिन प्रश्न का उत्तर देने के लिए कोई भी कथन अकेले पर्याप्त नहीं है।

(d) प्रश्न का उत्तर देने के लिए या तो कथन A या कथन B पर्याप्त है।

(e) प्रश्न का उत्तर देने के लिए कथन A और B मिलाकर पर्याप्त नहीं हैं।



**Q83. यदि  $w > 1$  और  $n \neq 0,1$  तथा 'w' और 'n' दोनों पूर्णांक हैं। तो क्या 'n' एक धनात्मक पूर्णांक है?**

(A)  $w^{2n} > w^n$

(B)  $n^{2w} > n^w$

- (a) कथन A अकेले प्रश्न का उत्तर देने के लिए पर्याप्त है लेकिन कथन B अकेले प्रश्न का उत्तर देने के लिए पर्याप्त नहीं है।  
(b) कथन B अकेले प्रश्न का उत्तर देने के लिए पर्याप्त है लेकिन कथन A अकेले प्रश्न का उत्तर देने के लिए पर्याप्त नहीं है।  
(c) प्रश्न का उत्तर देने के लिए दिए गए दोनों कथन मिलाकर आवश्यक हैं लेकिन प्रश्न का उत्तर देने के लिए कोई भी कथन अकेले पर्याप्त नहीं है।  
(d) प्रश्न का उत्तर देने के लिए या तो कथन A या कथन B पर्याप्त है।  
(e) प्रश्न का उत्तर देने के लिए कथन A और B मिलाकर पर्याप्त नहीं हैं।

**Q84. एक समूह में व्यक्तियों की संख्या ज्ञात कीजिए यदि उस समूह का औसत भार 16 है?**

(A) यदि 16 भार वाला एक व्यक्ति समूह छोड़ देता है, तो समूह का औसत भार पहले के समान रहेगा।

(B) यदि 16 और 28 भार वाले दो व्यक्ति समूह में शामिल हो जाते हैं, तो समूह के औसत भार में 2 की वृद्धि होती है।

- (a) कथन A अकेले प्रश्न का उत्तर देने के लिए पर्याप्त है लेकिन कथन B अकेले प्रश्न का उत्तर देने के लिए पर्याप्त नहीं है।  
(b) कथन B अकेले प्रश्न का उत्तर देने के लिए पर्याप्त है लेकिन कथन A अकेले प्रश्न का उत्तर देने के लिए पर्याप्त नहीं है।  
(c) प्रश्न का उत्तर देने के लिए दिए गए दोनों कथन मिलाकर आवश्यक हैं लेकिन प्रश्न का उत्तर देने के लिए कोई भी कथन अकेले पर्याप्त नहीं है।  
(d) प्रश्न का उत्तर देने के लिए या तो कथन A या कथन B पर्याप्त है।  
(e) प्रश्न का उत्तर देने के लिए कथन A और B मिलाकर पर्याप्त नहीं हैं।

**Q85. 'A', 'B' और 'C' मिलकर कितने दिनों में कार्य को पूरा कर सकते हैं?**

(A) A, B से 50% अधिक कुशल है, जो C से 100% अधिक कुशल है जबकि A और B साथ मिलकर 12 दिनों में कार्य को पूरा कर सकते हैं।

(B) 'A' और 'B', 'B' और 'C' तथा 'C' और 'A' साथ मिलकर क्रमशः 12, 20 और 15 दिनों में कार्य को पूरा कर सकते हैं।

- (a) कथन A अकेले प्रश्न का उत्तर देने के लिए पर्याप्त है लेकिन कथन B अकेले प्रश्न का उत्तर देने के लिए पर्याप्त नहीं है।  
(b) कथन B अकेले प्रश्न का उत्तर देने के लिए पर्याप्त है लेकिन कथन A अकेले प्रश्न का उत्तर देने के लिए पर्याप्त नहीं है।  
(c) प्रश्न का उत्तर देने के लिए दिए गए दोनों कथन मिलाकर आवश्यक हैं लेकिन प्रश्न का उत्तर देने के लिए कोई भी कथन अकेले पर्याप्त नहीं है।  
(d) प्रश्न का उत्तर देने के लिए या तो कथन A या कथन B पर्याप्त है।  
(e) प्रश्न का उत्तर देने के लिए कथन A और B मिलाकर पर्याप्त नहीं हैं।

**Q86. राहुल धारा के अनुकूल की तुलना में धारा के प्रतिकूल 120 किमी तय करने में 7.5 घंटे अधिक लेता है। यदि वह अपनी आरंभिक गति में  $33\frac{1}{3}\%$  की वृद्धि करता है, तो धारा के अनुकूल की तुलना में धारा के प्रतिकूल 120 किमी तय करने में 4 घंटे अधिक समय लेता है। ज्ञात कीजिये धारा की गति, राहुल की गति का कितने प्रतिशत है?**

- (a) 25%  
(b)  $33\frac{1}{3}\%$   
(c) 50%  
(d)  $66\frac{2}{3}\%$   
(e) 75%

Q87. समान क्रयमूल्य की तीन वस्तुएं इस प्रकार लाभ पर बेची जाती हैं कि लाभ प्रतिशत समांतर श्रेणी में हो, जिसमें सार्व अंतर न्यूनतम लाभ प्रतिशत का आधा है। यदि इन तीन वस्तुओं का कुल राजस्व 1035 रु. है। तो दूसरी सबसे बड़ी विक्रय मूल्य ज्ञात कीजिए।

- (a) 300
- (b) 330
- (c) 360
- (d) 400
- (e) 345

Q88. दो बराबर धनराशियाँ समान दर पर दो वर्षों के लिए साधारण ब्याज और चक्रवृद्धि ब्याज पर उधार दी जाती हैं। यदि दो वर्ष पश्चात राशि 520 : 529 के अनुपात में है और दो वर्षों में अर्जित ब्याज के मध्य अंतर 18 रु. है, तो 3 वर्षों में साधारण ब्याज द्वारा अर्जित ब्याज का, चक्रवृद्धि ब्याज द्वारा अर्जित ब्याज से अनुपात ज्ञात कीजिए यदि दोनों योजनाओं में निवेश की गई कुल राशि 1600 रु. है?

- (a) 200 : 243
- (b) 400 : 463
- (c) 200 : 263
- (d) 300 : 343
- (e) 400 : 443

Q89. ऋतु, प्रिया और शीतल एक वृत्ताकार पथ के चारों ओर दौड़ना आरंभ करती हैं, जिसकी लम्बाई 480 मी है। वे एकसाथ आरंभ करती हैं और क्रमशः 15, 10 और 12 चक्कर लगा कर पहली बार 1 घंटे बाद मिलती हैं। समान गति के साथ ऋतु, प्रिया और शीतल 2400 मी. की एक दौड़ आरंभ करती हैं। प्रिया और शीतल के मध्य दूरी ज्ञात कीजिए, जब ऋतु फिनिशिंग लाइन को पार करती है?

- (a) 120 मी
- (b) 180 मी
- (c) 240 मी
- (d) 320 मी
- (e) 360 मी

Q90. चार वर्ष पूर्व, राम की आयु का श्याम की आयु से अनुपात 9 : 11 है और चार वर्ष पूर्व श्याम की आयु राम की वर्तमान आयु के समान है। यदि राहुल की वर्तमान आयु, राम और श्याम की वर्तमान आयु का औसत है, तो 2 वर्ष पूर्व राहुल की आयु ज्ञात कीजिए।

- (a) 20
- (b) 18
- (c) 24
- (d) 22
- (e) 26

**Directions (91-95):** नीचे दिए गए पाई-चार्ट में पांच प्रकार के परिवहन द्वारा दो शहरों की जनसंख्या की यात्रा को दर्शाया गया है। चार्ट का ध्यानपूर्वक अध्ययन कीजिए और निम्नलिखित प्रश्नों के उत्तर दीजिए।



शहर A



शहर B

**नोट:-** शहर A से शहर B की कुल जनसंख्या का अनुपात 5 : 2 है।

**Q91.** शहर A में बाइक द्वारा यात्रा करने वाले व्यक्तियों की कुल संख्या, शहर B से 945 अधिक है, तो शहर A और शहर B में मिलाकर बस द्वारा यात्रा करने वाले व्यक्तियों की कुल संख्या ज्ञात कीजिए।

- (a) 3010
- (b) 3115
- (c) 3055
- (d) 3085
- (e) 3145

Q92. शहर B में कार से यात्रा करने वाली महिलाओं की संख्या, शहर B में कार से यात्रा करने वाले पुरुषों की संख्या से 25% अधिक है, जो शहर A में कार से यात्रा करने वाले पुरुषों की संख्या का 25% है। यदि शहर B में मेट्रो से यात्रा करने वाले व्यक्तियों की कुल संख्या 456 है, तो शहर A में कार से यात्रा करने वाली महिलाओं की संख्या ज्ञात कीजिए।

- (a) 570
- (b) 1140
- (c) 1824
- (d) 836
- (e) 912

Q93. यदि शहर A और शहर B से मिलाकर कार द्वारा यात्रा करने वाले व्यक्तियों की कुल संख्या 582 है, तो शहर A से बाइक और मेट्रो द्वारा मिलाकर यात्रा करने वाले व्यक्तियों की कुल संख्या शहर B से बाइक और मेट्रो द्वारा मिलाकर यात्रा करने वाले व्यक्तियों की कुल संख्या से कितने प्रतिशत अधिक है?

- (a) 37.5%
- (b) 50%
- (c) 137.5%
- (d) 150%
- (e) 237.5%

Q94. यदि शहर B में कार द्वारा यात्रा करने वाले व्यक्तियों की संख्या, शहर A में ट्रेन द्वारा यात्रा करने वाले व्यक्तियों की संख्या से 126 अधिक है, तो शहर A और B में मिलाकर मेट्रो द्वारा यात्रा करने वाले व्यक्तियों की औसत संख्या ज्ञात कीजिए।

- (a) 468
- (b) 364
- (c) 414
- (d) 428
- (e) 442

Q95. शहर B में व्यक्तियों की कुल संख्या जो मेट्रो और ट्रेन द्वारा यात्रा करते हैं, शहर A में ट्रेन द्वारा यात्रा करने वाले व्यक्तियों से कितनी अधिक है। यदि शहर B में व्यक्तियों की कुल संख्या, शहर A में व्यक्तियों की कुल संख्या से 95 अधिक है, जो मेट्रो और ट्रेन द्वारा यात्रा करते हैं।

- (a) 13
- (b) 15
- (c) 17
- (d) 19
- (e) 21

**Directions (96-100):** निम्नलिखित संख्या श्रृंखला में प्रश्न चिह्न (?) के स्थान पर क्या आएगा?

Q96. 4055, 2724, 1995, 1652, ?, 1500

- (a) 1537
- (b) 1525
- (c) 1527
- (d) 1535
- (e) 1517

Q97. 24, 12, 12, 24, ?, 408

- (a) 96
- (b) 84
- (c) 92
- (d) 88
- (e) 86

Q98. 640, ?, 80, 60, 60, 75

- (a) 320
- (b) 180
- (c) 240
- (d) 80
- (e) 160

Q99. 250, 432, 686, 1024, 1458, ?

- (a) 2000
- (b) 1980
- (c) 1960
- (d) 1900
- (e) 1800

Q100. 16, 38, 49, ?, 82, 170

- (a) 71
- (b) 65
- (c) 62
- (d) 60
- (e) 68



**Directions (101-110):** Read the following passage carefully and answer the questions given below them. Certain words are given in bold to help you locate them while answering some of the questions.

It is reported that a few more heritage buildings of significant architectural design in Kolkata may be demolished in the near future to give way to high-rise office buildings or shopping malls which are in demand. Promoters and developers have set their eyes on the remaining **prominent** heritage buildings in Kolkata since they are at prime locations. One such building complex in central Kolkata presently houses commercial offices, banks, private firms and had earlier housed airlines offices. The building designed in colonial architecture style easily draws the attention of passers-by.

It is believed that the tenants have gone to the court to get access to the remaining portion of the building (since a major portion has already changed hands); only the court's verdict will decide the building's fate. In this way many heritage buildings of Kolkata have already been demolished. These include the Pan-Am airline office building along with the building of Maharaja of Burdwan on Chowringhee road and a few other buildings including 'Senate House'.

Buildings not only provide living and working spaces and **nurture** minds, as happened in the case of Tagore House in Central Calcutta, but they also tell the history of the city and as well as the country. "Netaji Bhavan" in Kolkata tells us how Netaji escaped from that house in his car in spite of the fact the British were alert to stop his doing so. Tagore House tells us how young Rabindranath would listen to stories of house maids who would sit on the long veranda and discuss among themselves their village tales. Many such historical facts are attached with each building.

There are buildings built by the French and Portuguese in their colonies in Chandannagore and Goa in India. The buildings' style and character tell us of the architectural style, art and culture in those distant lands. These countries, through their Consulates in Kolkata are restoring buildings, and re-using them as restaurants and public areas in Chandannagar and other parts of West Bengal. These have been reported and they have aroused interest among people.

Most of the heritage buildings are not maintained properly due to lack of funds. The buildings themselves do not earn sufficient rent to maintain themselves. In such a situation there is a need for buildings to re-use the spaces in such a way that they bring in good rent and or income that will enable them to maintain their **pristine** facades. In recent years such measures have been taken in some localities of old Kolkata where residential buildings have been restored and designed as contemporary guest rooms and restaurants to attract local people and tourists, and they are doing well.

Such initiatives should be encouraged by the local government and wherever required financial support needs to be extended on easy terms. It is not known whether the Heritage Commission of the State provides any support to such restoration initiatives by the owners of buildings; if not, they should take the step because restoration of buildings may **prevent** their demolition. Each new high-rise building built with concrete, brick, stone, glass and steel uses high energy-intensive materials which have consumed resources and have created pollution. Further pollution can be avoided if the building is restored and re-used. Restoration and re-use projects can move forward with the joint effort of the public and private sector.

**Q101. Which of the following statements justify/justifies the significance of heritage buildings?**

- (I) They denote the historical value of the city as well as the country.
  - (II) They tell us the architectural style, art and culture of the past.
  - (III) There are many untold historical facts attached to these buildings.
- (a) Only (I)  
(b) Both (I) and (III)  
(c) Both (II) and (III)  
(d) Only (III)  
(e) All (I), (II) and (III)

**Q102. Why, according to the passage, are heritage buildings being demolished?**

- (a) To fulfill the rising demands of office buildings or shopping malls.
- (b) To avoid the possible dangers of collapse of old buildings.
- (c) To replace the old buildings with new residential complexes.
- (d) To meet the requirements of certain promoters and developers.
- (e) Both (A) and (D)

**Q103. Which of the following statements does not comply with the given passage?**

- (I) The Heritage Commission of the State provides all the necessary aids to the owners of buildings to help them in restoration initiatives.
- (II) Rabindranath Tagore used to listen to the stories of house maids and discuss their village tales at his home, Tagore House.
- (III) The government is making efforts to restore certain buildings like the building of Maharaja of Burdwan and Senate House.
- (a) Only (I)
- (b) Both (I) and (III)
- (c) Both (II) and (III)
- (d) Only (III)
- (e) All (I), (II) and (III)

**Q104. What is/are the measure(s) suggested by the author to avoid the demolition of heritage buildings?**

- (a) The Heritage Commission of the State should offer help to the owners of buildings for the regular maintenance of these buildings.
- (b) Effective and innovative methods should be adopted to generate the funds from these buildings.
- (c) The local government should also take some necessary steps by raising the financial support on easy terms.
- (d) The public and the private sectors should join their hands together to come up with better restoration and re-use projects.
- (e) All of the above.

**Q105. How, according to the passage, could the problem of limited funds to restore the heritage buildings be mitigated?**

- (I) By reusing the provided space effectually to generate good rent and income from these buildings.
- (II) By renovating and utilizing the old vacant spaces into modern guestrooms and restaurants to attract local people and tourists.
- (III) By seeking the local government's help in replacing the old buildings with the new ones.
- (a) Both (II) and (III)
- (b) Only (II)
- (c) Both (I) and (II)
- (d) Only (III)
- (e) All (I), (II) and (III)

**Q106. How, according to the author, could the construction of new buildings in place of heritage buildings lead to pollution?**

- (I) Every new high-rise building requires high energy-intensive materials like concrete, brick, stone, glass, etc. which consume resources and can create pollution.
- (II) The demolition of old buildings demands the proper site to dump the remnants failing to which can create pollution.
- (III) The improper and poor quality of resources being used by certain promoters and developers may harm the nature adversely.

- (a) Only (I)
- (b) Only (II)
- (c) Only (III)
- (d) Both (I) and (II)
- (e) All (I), (II) and (III)

**Directions (107-108): Choose the word which is most SIMILAR in meaning to the word printed in bold in the context of the passage.**

**Q107. Nurture**

- (a) nourish
- (b) nutrition
- (c) educate
- (d) sharpen
- (e) examine

**Q108. Pristine**

- (a) guiltless
- (b) young
- (c) initial
- (d) immaculate
- (e) affected

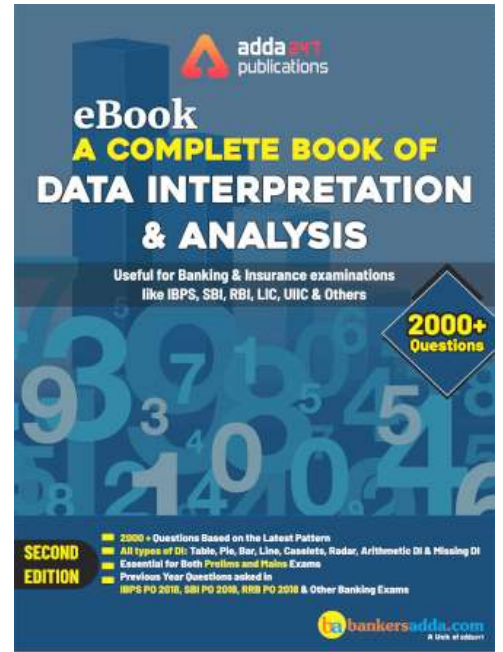
**Directions (109-110): Choose the word which is most OPPOSITE in meaning to the word printed in bold in the context of the passage.**

**Q109. Prominent**

- (a) chief
- (b) obscure
- (c) pronounced
- (d) depressed
- (e) eminent

**Q110. Prevent**

- (a) impede
- (b) heat
- (c) encourage
- (d) open
- (e) preclude





**Directions (111-115): Read the following passage carefully and answer the questions given below them. Certain words/phrases have been printed in bold to help you locate them while answering some of the questions.**

The jobs debate has kept economists busy. Their estimates of how many jobs are being created in India vary wildly. Consider the most recent disagreement. Surjit Bhalla of The Observatory Group estimates that 15 million jobs were created in fiscal year 2017. Mahesh Vyas of the Centre for Monitoring Indian Economy believes the number is barely a tenth of that. Their exchange should be seen against the wider debate on whether India has been growing without generating enough jobs for a young population.

Indian labour market data is devilishly difficult to analyse. A large part of the labour force is in the informal sector, where information is very difficult to collect on a monthly basis. Sample survey data is often confusing because of the withdrawal of women from the labour force over the past 15 years. Employment numbers for the young need to be handled with care since more children are staying back in college rather than seeking work. The formalization of the Indian economy means that there are **profound** structural shifts taking place in the composition of the labour force.

The decision by the government to release payroll data last week—based on the number of accounts in key social security schemes such as the Employees' Provident Fund Organization, the National Pension Scheme and the Employees' State Insurance Corporation—is thus welcome. Economists Soumya Kanti Ghosh of the State Bank of India and Pulak Ghosh of the Indian Institute of Management, Bangalore have been **pioneers** in this work, and their paper had also sparked off heated debate.

The new data series needs to be handled with care. It tracks the growth in payrolls rather than actual job creation, as even its proponents warn. It needs to be seasonally adjusted. More data points are needed. Payrolls give us some sense of what is happening in organized sector enterprises, but it is possible that job growth there could be balanced by job losses in the unorganized parts of the economy (it is interesting that economists on both sides of the argument accept that the role of the formal economy is growing rapidly). However, there is little doubt that the release of monthly payroll data is a big step in the right direction. The NITI Aayog task force on improving employment data had said in its report last year that there are four primary sources of employment data—household surveys, enterprise surveys, administrative data and data from government schemes. The release of payroll data last week deals with the third of these four possibilities. There is now an urgent need to improve capabilities in the other three. Existing data sets such as the Employment-Unemployment Survey conducted by the National Sample Survey Office or the Quarterly Employment Survey of the Labour Bureau are riddled with problems. In a recent interview with television channel CNBC TV 18, former chief statistician T.C.A. Anant said that the other missing elements will begin to fall into place later in the year, especially information about employees working in enterprises covered by social security laws.

What now? Technology can play a part. Household surveys could be conducted every year rather than every five years using new technologies that bypass time-consuming data collection methods. The new goods and services tax network (GSTN) offers an excellent opportunity to use Big Data analytics to extract employment data for all enterprises covered by the new tax. All sorts of data related to employment can be stored in a central data warehouse into which every level of government, from the panchayats up, feeds information. The economists in the Union finance ministry have already used Big Data from the Railways and GSTN to estimate migration and interstate trade, respectively. The same skills should be used to generate better job statistics.

All this will take time. So expect no miracles. India is an extremely complicated country, and the sort of **credible** monthly data that is available in more advanced economies is extremely difficult to deliver here. However, it is good that the first steps towards **overhauling** employment statistics have been taken with the release of the payroll data. The employment situation is one of the key variables considered by policymakers the world over. Indian policymakers are flying blind in the absence of **credible** employment numbers. Till then, the trend in wages is the best proxy for understanding job creation. Prices carry a lot of useful information. Rising wages across all job categories over the past decade are strong proof that the extreme narrative about jobless growth is just not true.

**Q111. According to the passage, what kept the economists busy?**

- (a) Economists and policymakers are busy in resolving the growing situation of joblessness.
- (b) The differences in the analysis of job creation in India has led to discussion or contemplation.
- (c) Providing exact estimates of joblessness in India is keeping them busy.
- (d) Generating the adequate jobs for young generation.
- (e) All of the above.

**Q112. Why Indian labour market is difficult to analyse?**

- (I) Maximum population of the country are in education sector.
  - (II) Extensive changes in the structure of economy of the country.
  - (III) Withdrawal of women from labour force resulting to confusion in the survey.
- (a) Only (I)
  - (b) Only (II) and (III)
  - (c) Only (III)
  - (d) Only (I) and (III)
  - (e) All are correct

**Q113. What is the main idea behind releasing payroll data by the government?**

- (a) The main idea is getting aware of the wages of the employees working in different sectors.
- (b) Releasing payroll data will solve the issue of distorted survey data of Indian economy.
- (c) Such payroll data will give idea about job creation in the Indian economy.
- (d) Both (B) and (C)
- (e) All are correct

**Q114. What is the NITI Aayog's stance regarding the monthly payroll data?**

- (a) There are huge benefits of new data series as it covers all the data covering formal and informal sectors.
- (b) There is difficulty in new data series in keeping track of the all the employment data.
- (c) The new data series deals only with the administrative source of employment data.
- (d) There are three sources of getting the employment data out of which there are two in which we are lagging.
- (e) The new payroll data needs to be seasonally adjusted as they keep on changing.

**Q115. What is the need of correct employment statistics for the development of India?**

- (a) It allows the citizens of India to analyze their future in a particular field.
- (b) It provides better knowledge to keep track of the formal and informal sector of the country.
- (c) It aids the policymakers in better understanding of the situation of unemployment in India.
- (d) both (A) and (C)
- (e) All are correct

**Directions (116-120):** In the questions given below few sentences are given which are grammatically correct and meaningful. Connect them by the word given above the statements in the best possible way without changing the intended meaning. Choose your answer accordingly from the options to form a correct, coherent sentence.

**Q116. TILL**

- (A) The Supreme Court had earlier this month extended the deadline for linking of various services with Aadhaar.
  - (B) Aadhaar number holders can view the details of Aadhaar Authentication they have done.
  - (C) The new deadline will be announced once the Supreme Court delivers its judgment on a batch of petitions challenging the constitutional validity of the biometrical identification scheme.
  - (D) This will enable service providers and Aadhaar number holders to verify if the Aadhaar number is valid and is not deactivated.
- (a) Only A-D
  - (b) Only A-C
  - (c) Only A-B
  - (d) Both A-B and C-D
  - (e) None of these

**Q117. PROVIDED THAT**

- (A) It is your responsibility to ensure that the builder understands and complies with all the bank's conditions of the loan.
  - (B) You can apply for progress payments at any stage during the construction process.
  - (C) Progress payments are made only if sufficient work has been completed and the bank is satisfied with the progress.
  - (D) A maximum of six progress payments are often allowed, based on the work completed.
- (a) Only A-D
  - (b) Only A-C
  - (c) Only B-C
  - (d) Both A-B and C-D
  - (e) None of these



**Q118. IN ORDER TO**

- (A) Fluent conversations can be enjoyed with the knowledge of idioms and phrases.  
(B) English sound more eloquent, through idiomatic expressions, popular phrases and proverbs.  
(C) Eloquent designs the technology to let computers participate in those conversations.  
(D) Gaining familiarity with several idioms and phrases helps you to carry eloquent conversations.
- (a) Only A-D  
(b) Only A-C  
(c) Only B-C  
(d) Both A-B and C-D  
(e) None of these

**Q119. NOTWITHSTANDING**

- (A) The proud claim is Manipur gifted the game of modern Polo to the world,  
(B) Manipuri ponies which are central to the game are facing a very precarious situation of possible extinction sooner rather than later.  
(C) Most of the Manipuri ponies are kept at home but they are let to roam and graze freely on roads and public places.  
(D) There are also many cases of ponies dying from consuming poisonous waste materials disposed of on road sides.
- (a) Only A-D  
(b) Both A-C and B-C  
(c) Only B-C  
(d) Only A-B  
(e) None of these

**Q120. WHENEVER**

- (A) In the name of education, all sorts of slaveries are nourished.  
(B) As some Indian officials have indicated, the days of carving out separate 'spheres of influence' are over.  
(C) As such, it remains a big question how the policy would be translated into action and what would be the fate of Manipur.  
(D) Every generation passes on, by way of inheritance, its jealousies, enmities, stupidities to the new generation through the teacher.
- (a) Only A-D  
(b) Only A-C  
(c) Only B-C  
(d) Only A-B  
(e) None of these

**Directions (121-125): Answer the following questions after rearranging the following sentences into a coherent paragraph and identify the sentence that doesn't fit in the context of the paragraph.**

(A) Overall, during the pendency of the case, political interests have over-ridden the principle of equity and justice.

(B) Since it is apparent that there is no meeting point between the warring States and whoever is at the Centre prefers to play vote bank politics, the Supreme Court should constitute a panel comprising retired judges and experts on the subject to monitor the implementation of its order and ensure equitable distribution of water till a consensus is arrived at by all the parties concerned.

(C) The long-drawn dispute in the case of sharing Cauvery waters among the respective southern States will go down in the annals of Indian judicial history as one where court directives have been flouted with impunity from time to time.

(D) The river's basin covers three states and a Union Territory as follows: Tamil Nadu, 43,856 square kilometres (16,933 sq mi) ; Karnataka, 34,273 square kilometres (13,233 sq mi) ; Kerala, 2,866 square kilometres (1,107 sq mi), and Puducherry, 160 square kilometres (62 sq mi).

(E) After having been accused of being lax in its approach, the Tamil Nadu government is now left with no other option than to file a contempt plea.

(F) It is no surprise that with both the BJP and the Congress having high stakes as major players in Karnataka's Assembly election and with nothing to lose in Tamil Nadu, the State is deprived of their firm support.

**Q121.** Considering the statement (C), "*The long-drawn dispute in the case of sharing Cauvery waters among the respective southern States will go down in the annals of Indian judicial history as one where court directives have been flouted with impunity from time to time.*" as the first statement of the paragraph after the rearrangement of sentences. Which one among the following doesn't relate coherently with the theme of the paragraph?

- (a) B
- (b) A
- (c) E
- (d) D
- (e) F

**Q122.** If the statement (C), "*The long-drawn dispute in the case of sharing Cauvery waters among the respective southern States will go down in the annals of Indian judicial history as one where court directives have been flouted with impunity from time to time.*" is the first statement of the paragraph after the rearrangement (excluding the incoherent statement), which one among the following pairs is consecutively related with each other?

- (a) B-D
- (b) A-B
- (c) D-A
- (d) A-F
- (e) E-B

**Q123.** Considering the statement (C), *“The long-drawn dispute in the case of sharing Cauvery waters among the respective southern States will go down in the annals of Indian judicial history as one where court directives have been flouted with impunity from time to time.”* as the first statement of the paragraph which one among the following may fit in between the first and second statements of the rearranged paragraph without altering the context of the paragraph?

- (a) Dams, such as the Krishna Raja Sagara Dam, Mettur Dam, and those on its tributaries such as Gorur dam, Harangi dam, Kabini dam, Amaravati dam and Banasura Sagar Dam store water from monsoon periods and release the water during the dry months.
- (b) Rising in southwestern Karnataka, it flows southeast some 800 kilometres (500 mi) to enter the Bay of Bengal.
- (c) The centre had told the court that the Cauvery water sharing is a sensitive subject and would have an impact on the Karnataka election.
- (d) Chief Justice of India Dipak Misra said: "We understand the problems of Tamil Nadu. We will solve the issue."
- (e) None of these

**Q124.** Considering the statement (C), *“The long-drawn dispute in the case of sharing Cauvery waters among the respective southern States will go down in the annals of Indian judicial history as one where court directives have been flouted with impunity from time to time.”* as the first statement of the paragraph which one among the following may replace statement (B) of the paragraph?

- (a) A dam called the Grand Anicut was built in the 2nd century at the point where the river divides.
- (b) Agreeing to take up Tamil Nadu's petition for contempt against the central government over the Cauvery water dispute, the Supreme Court today said: "We will see that Tamil Nadu gets water".
- (c) The verdict, ahead of the Karnataka elections, was claimed by the ruling Congress as a big win.
- (d) It rises on Brahmagiri Hill of the Western Ghats in southwestern Karnataka state, flows in a southeasterly direction for 475 miles (765 km) through the states of Karnataka and Tamil Nadu, and descends the Eastern Ghats in a series of great falls.
- (e) None of these

**Q125.** Considering the statement (C), *“The long-drawn dispute in the case of sharing Cauvery waters among the respective southern States will go down in the annals of Indian judicial history as one where court directives have been flouted with impunity from time to time.”* as the first sentence of the paragraph after the rearrangement (excluding the incoherent statement), what should be the logical and meaningful sequence of the rearranged paragraph after eliminating the incoherent statement?

- (a) CFEBA
- (b) CDABF
- (c) CEABD
- (d) CFEAD
- (e) CEAFB

**Directions (126-130):** In each of the following paragraph, there are two blank spaces. Below each paragraph, there are five options and each option consists of two words which can be filled up in the provided blanks respectively to make the paragraph grammatically and coherently correct. Find the most appropriate set of words that fit into the blanks contextually.

**Q126.** Good thinkers, attempting to \_\_\_\_\_ a solution to a problem, thinking self-reflectively through existing predicaments, do not bother to consult the fossilised handbook of a particular ideology to find out whether the \_\_\_\_\_ solution is dictated by it.

- (a) affirm, require
- (b) offer, proffered
- (c) find, dictated
- (d) execute, technical
- (e) present, allege

**Q127.** In fact, liberalism has no \_\_\_\_\_, fixed content, an unchanging core. The different doctrines/principles that fall under the rubric 'liberalism' share only a family resemblance. Each of them is as different from the other as are members of a large \_\_\_\_\_ family.

- (a) ephemeral, elongated
- (b) definite, happy
- (c) continuous, generous
- (d) timeless, extended
- (e) relentless, expressive

**Q128.** China has been North Korea's \_\_\_\_\_ from the earliest days and has never lost its pre-eminence in this respect. It has sometimes looked like a difficult balancing act between China and the different countries of the area, riven as they are by diverse interests and \_\_\_\_\_ demands.

- (a) bulwark, conflicting
- (b) brace, rising
- (c) reinforcements, consonant
- (d) guard, agreeable
- (e) mainstay, obscure

**Q129.** Delhi's Jama Masjid is the \_\_\_\_\_ heart of the city. It is always full of devotees who come to pray and tourists who come to admire Shah Jahan's architectural perfection. Outside its lofty gateways are markets \_\_\_\_\_ with people shopping for clothes, utensils and books, or digging into delicious street food and drinking cool sherbets to beat the heat.

- (a) noisy, profound
- (b) thrilling, replete
- (c) rich, profuse
- (d) pulsating, teeming
- (e) vibrant, spirited

**Q130. A study \_\_\_\_\_ by the National College Health Assessment in the US in 2013 revealed that an overwhelming one-third of the students faced difficulties in the preceding year due to mental depression and more than half of them \_\_\_\_\_ committing suicide.**

- (a) conducted, contemplated
- (b) attended, expected
- (c) regulated, scorned
- (d) governed, intended
- (e) controlled, revealed

**Q131. In the following questions few sentences are provided. Identify and mark the sentence which may fail to become the part of the paragraph coherently. In questions where “none of these” is an option and all the sentences are meaningful and logical with the context of the paragraph mark (E) i.e., “none of these” as your answer choice.**

- (a) Rivers have been the lifeline of all civilisations; no wonder they are considered sacred across cultures.
- (b) When a seeker can honour the sanctity of the environment, then he can experience the same sanctity in his own mind.
- (c) Sanskrit has a beautiful word for water, apa and the word aptha means ‘that which is born out of water’. Aptha also means ‘the dearest one’. So, it’s the same word for both ‘the dear one’ and ‘water’.
- (d) 60-70% of our body is made up of the water element. You need water vapour in the atmosphere; you need certain amount of humidity in the atmosphere. And you need water to drink as a fluid.
- (e) In India, the Ganga symbolises knowledge, Yamuna was known for love stories, Narmada stood for bhakti, knowledge and logic, Saraswati for brilliance and architecture, and India got its name from the Sindhu.

**Q132. In the following questions few sentences are provided. Identify and mark the sentence which may fail to become the part of the paragraph coherently. In questions where “none of these” is an option and all the sentences are meaningful and logical with the context of the paragraph mark (E) i.e., “none of these” as your answer choice.**

- (a) Private hospitals use modern and constantly updated medical infrastructure with advanced technology that needs upgrades.
- (b) While their revenues might have increased, importantly, overall profitability margins are rather low. There needs to be a fine balance between world class healthcare and affordability.
- (c) What patients should understand is that provision of high-standard ICU care in India is rather expensive if all international norms are adhered to, but still is markedly lower than that in developed countries, for example the US.
- (d) The Health Department has issued show cause notice to three private medical colleges for violating the fee structure stipulated by the Fee Committee appointed by the government.
- (e) None of these



**Q133. In the following questions few sentences are provided. Identify and mark the sentence which may fail to become the part of the paragraph coherently. In questions where “none of these” is an option and all the sentences are meaningful and logical with the context of the paragraph mark (E) i.e., “none of these” as your answer choice.**

- (a) It is painful to see the present condition of education. In the name of education, all sorts of slaveries are nourished.
- (b) The root causes for the ugliness and crippling of humanity are hidden in our education.
- (c) The present education has cut man off from nature and has not been able to give birth to any refinement, to any culture.
- (d) This education system has given birth to unnatural life. Every generation goes on imposing this unnaturalness on the next generation.
- (e) None of these

**Q134. In the following questions few sentences are provided. Identify and mark the sentence which may fail to become the part of the paragraph coherently. In questions where “none of these” is an option and all the sentences are meaningful and logical with the context of the paragraph mark (E) i.e., “none of these” as your answer choice.**

- (a) Children learn from adult role models. When they see adults expressing prejudice and bigotry, they think that is the way to be. Our children are innocent and pure at heart, but they learn from our example.
- (b) If we teach them to lie, they will lie. If we teach them to steal, they will steal. If we teach them to hate, they will hate.
- (c) The teacher has been an instrument for many types of exploitations. He is instrumental in spreading many diseases.
- (d) Instead, if we teach them to be loving, truthful and kind, they will be loving truthful and kind.
- (e) From the moment they are born, they are being influenced by the environment. They are learning to speak what they hear, and are learning to act in the manner they see the adults around them acting.

**Q135. In the following questions few sentences are provided. Identify and mark the sentence which may fail to become the part of the paragraph coherently. In questions where “none of these” is an option and all the sentences are meaningful and logical with the context of the paragraph mark (E) i.e., “none of these” as your answer choice.**

- (a) While faith is an essential ingredient of any religion, Easter for Christians is not just a matter of faith in an extraordinary event that took place eons ago.
- (b) The economic impact of Christmas has grown steadily over the past few centuries in many regions of the world.
- (c) Easter is the celebration of the living presence of Jesus Christ in the life of the world, the Church and of individuals.
- (d) Easter also called Pascha (Greek, Latin) or Resurrection Sunday, is a festival and holiday celebrating the resurrection of Jesus from the dead.
- (e) Mother Teresa found the suffering Jesus in the poorest of the poor and drew strength from his resurrection celebrated as Easter to do all she did.

**EPFO SSA 2019  
PRIME**

**65+ TOTAL TESTS**

- ✓ 15 Full Length Mocks
- ✓ 30 Section Wise Sets
- ✓ 20 Topic Wise Sets
- ✓ eBook

**BILINGUAL**

**Directions (136-140):** In the following passage against each number four words are suggested in bold which may or may not fit into the sentence contextually. These numbers are printed below the passage and against each, five options are given. Find out the most appropriate alternative reflecting the word which doesn't fit into the blank appropriately and thus fail to give a contextual meaning to the paragraph. If no such error is there mark (E) i.e. "all are correct" as your answer choice.

**Q136.** India's shipping industry is at a **(136) crossroads**. The country is aiming to make big **strides** in the maritime sector and investing billions of dollars to **modernise** and set up new ports as well as **related** infrastructure.

But its domestic shipping industry is finding it tough to compete with foreign shipping lines in carrying India specific export-import trade due to cost **(137) disadvantages** and an **uneven** playing field. Indian shipowners have asked the Centre to **consider** having a national fleet.

This is in line with other major maritime powers supporting their own shipping firms, for **adjusting** control and securing the transportation of critical cargo.

A national fleet policy **(138) initiates** that ships engaged in trade must be flagged, or registered, in India **irrespective** of whether they are owned by Indian or foreign shipping lines. Though India has allowed 100% FDI in shipping since 2001, foreign lines are **yet** to flag in India.

**Insisting** that India must have a national fleet, Anil Devli, CEO, Indian National Shipowner's Association (INSA), asked, "If foreign shipping lines control over 90% of India's cargo, why should they not be asked to flag some of their vessels in India and pay taxes like us."

Foreign lines register their vessels in favourable tax regimes such as Panama and at their local **(139) jurisdictions**.

Japan, China, the U.S., Malaysia, Indonesia and European nations practice absolute **cabotage** to protect their shipping lines. The EU practices cabotage even in ship recycling. China **ensures** that 600 million tonnes of coastal cargo is carried by Chinese vessels only. Cabotage **means** to a legal restriction that limits the transportation of goods and people within the country by that country's own transport services.

Japan ensures that all its imports are carried on by vessels owned, built and financed by **(140) entities** registered in the country. The Donald Trump **system** in the U.S. has **proposed** at least 30% of gas exports should be **executed** by their national carriers.

- (a) crossroads
- (b) strides
- (c) modernise
- (d) related
- (e) all are correct

**Q137.** India's shipping industry is at a **(136) crossroads**. The country is aiming to make big **strides** in the maritime sector and investing billions of dollars to **modernise** and set up new ports as well as **related** infrastructure.

But its domestic shipping industry is finding it tough to compete with foreign shipping lines in carrying India specific export-import trade due to cost **(137) disadvantages** and an **uneven** playing field. Indian shipowners have asked the Centre to **consider** having a national fleet.

This is in line with other major maritime powers supporting their own shipping firms, for **adjusting** control and securing the transportation of critical cargo.

A national fleet policy **(138) initiates** that ships engaged in trade must be flagged, or registered, in India **irrespective** of whether they are owned by Indian or foreign shipping lines. Though India has allowed 100% FDI in shipping since 2001, foreign lines are **yet** to flag in India.

**Insisting** that India must have a national fleet, Anil Devli, CEO, Indian National Shipowner's Association (INSA), asked, "If foreign shipping lines control over 90% of India's cargo, why should they not be asked to flag some of their vessels in India and pay taxes like us."

Foreign lines register their vessels in favourable tax regimes such as Panama and at their local **(139) jurisdictions**.

Japan, China, the U.S., Malaysia, Indonesia and European nations practice absolute **cabotage** to protect their shipping lines. The EU practices cabotage even in ship recycling. China **ensures** that 600 million tonnes of coastal cargo is carried by Chinese vessels only. Cabotage **means** to a legal restriction that limits the transportation of goods and people within the country by that country's own transport services.

Japan ensures that all its imports are carried on by vessels owned, built and financed by **(140) entities** registered in the country. The Donald Trump **system** in the U.S. has **proposed** at least 30% of gas exports should be **executed** by their national carriers.

- (a) disadvantages
- (b) uneven
- (c) consider
- (d) adjusting
- (e) all are correct

**Q138.** India's shipping industry is at a **(136) crossroads**. The country is aiming to make big **strides** in the maritime sector and investing billions of dollars to **modernise** and set up new ports as well as **related** infrastructure.

But its domestic shipping industry is finding it tough to compete with foreign shipping lines in carrying India specific export-import trade due to cost **(137) disadvantages** and an **uneven** playing field. Indian shipowners have asked the Centre to **consider** having a national fleet.

This is in line with other major maritime powers supporting their own shipping firms, for **adjusting** control and securing the transportation of critical cargo.

A national fleet policy **(138) initiates** that ships engaged in trade must be flagged, or registered, in India **irrespective** of whether they are owned by Indian or foreign shipping lines. Though India has allowed 100% FDI in shipping since 2001, foreign lines are **yet** to flag in India.

**Insisting** that India must have a national fleet, Anil Devli, CEO, Indian National Shipowner's Association (INSA), asked, "If foreign shipping lines control over 90% of India's cargo, why should they not be asked to flag some of their vessels in India and pay taxes like us."

Foreign lines register their vessels in favourable tax regimes such as Panama and at their local **(139) jurisdictions**.

Japan, China, the U.S., Malaysia, Indonesia and European nations practice absolute **cabotage** to protect their shipping lines. The EU practices cabotage even in ship recycling. China **ensures** that 600 million tonnes of coastal cargo is carried by Chinese vessels only. Cabotage **means** to a legal restriction that limits the transportation of goods and people within the country by that country's own transport services.

Japan ensures that all its imports are carried on by vessels owned, built and financed by **(140) entities** registered in the country. The Donald Trump **system** in the U.S. has **proposed** at least 30% of gas exports should be **executed** by their national carriers.

- (a) initiates
- (b) irrespective
- (c) yet
- (d) Insisting
- (e) all are correct

**Q139.** India's shipping industry is at a **(136) crossroads**. The country is aiming to make big **strides** in the maritime sector and investing billions of dollars to **modernise** and set up new ports as well as **related** infrastructure.

But its domestic shipping industry is finding it tough to compete with foreign shipping lines in carrying India specific export-import trade due to cost **(137) disadvantages** and an **uneven** playing field. Indian shipowners have asked the Centre to **consider** having a national fleet.

This is in line with other major maritime powers supporting their own shipping firms, for **adjusting** control and securing the transportation of critical cargo.

A national fleet policy **(138) initiates** that ships engaged in trade must be flagged, or registered, in India **irrespective** of whether they are owned by Indian or foreign shipping lines. Though India has allowed 100% FDI in shipping since 2001, foreign lines are **yet** to flag in India.

**Insisting** that India must have a national fleet, Anil Devli, CEO, Indian National Shipowner's Association (INSA), asked, "If foreign shipping lines control over 90% of India's cargo, why should they not be asked to flag some of their vessels in India and pay taxes like us."

Foreign lines register their vessels in favourable tax regimes such as Panama and at their local **(139) jurisdictions**.

Japan, China, the U.S., Malaysia, Indonesia and European nations practice absolute **cabotage** to protect their shipping lines. The EU practices cabotage even in ship recycling. China **ensures** that 600 million tonnes of coastal cargo is carried by Chinese vessels only. Cabotage **means** to a legal restriction that limits the transportation of goods and people within the country by that country's own transport services.

Japan ensures that all its imports are carried on by vessels owned, built and financed by **(140) entities** registered in the country. The Donald Trump **system** in the U.S. has **proposed** at least 30% of gas exports should be **executed** by their national carriers.

- (a) jurisdictions
- (b) cabotage
- (c) ensures
- (d) means
- (e) all are correct

**Q140.** India's shipping industry is at a **(136) crossroads**. The country is aiming to make big **strides** in the maritime sector and investing billions of dollars to **modernise** and set up new ports as well as **related** infrastructure.

But its domestic shipping industry is finding it tough to compete with foreign shipping lines in carrying India specific export-import trade due to cost **(137) disadvantages** and an **uneven** playing field. Indian shipowners have asked the Centre to **consider** having a national fleet.

This is in line with other major maritime powers supporting their own shipping firms, for **adjusting** control and securing the transportation of critical cargo.

A national fleet policy **(138) initiates** that ships engaged in trade must be flagged, or registered, in India **irrespective** of whether they are owned by Indian or foreign shipping lines. Though India has allowed 100% FDI in shipping since 2001, foreign lines are **yet** to flag in India.

**Insisting** that India must have a national fleet, Anil Devli, CEO, Indian National Shipowner's Association (INSA), asked, "If foreign shipping lines control over 90% of India's cargo, why should they not be asked to flag some of their vessels in India and pay taxes like us."

Foreign lines register their vessels in favourable tax regimes such as Panama and at their local **(139) jurisdictions**.

Japan, China, the U.S., Malaysia, Indonesia and European nations practice absolute **cabotage** to protect their shipping lines. The EU practices cabotage even in ship recycling. China **ensures** that 600 million tonnes of coastal cargo is carried by Chinese vessels only. Cabotage **means** to a legal restriction that limits the transportation of goods and people within the country by that country's own transport services.

Japan ensures that all its imports are carried on by vessels owned, built and financed by **(140) entities** registered in the country. The Donald Trump **system** in the U.S. has **proposed** at least 30% of gas exports should be **executed** by their national carriers.

- (a) entities
- (b) system
- (c) proposed
- (d) executed
- (e) all are correct

**Q141.** केंद्रीय ऊर्जा मंत्री आरके सिंह ने सतत विकास के लिए ऊर्जा परिवर्तन और वैश्विक पर्यावरण पर जी20 मंत्रिस्तरीय बैठक में कहाँ भाग लिया है?

- (a) रूस
- (b) जर्मनी
- (c) जापान
- (d) चीन
- (e) इनमें से कोई नहीं

**Q142.** किस अंतर्राष्ट्रीय संगठन ने विश्व निवेश रिपोर्ट 2019 जारी की है?

- (a) UNCTAD
- (b) OCDE
- (c) UNICEF
- (d) UNHCR
- (e) इनमें से कोई नहीं

**Q143. IDR एक वित्तीय लिखत है जिसे डिपॉजिटरी रसीद के रूप में भारतीय रुपये में दर्शाया जाता है। IDR का पूर्ण रूप क्या है?**

- (a) Indian Depository Risk
- (b) Indian Demand Receipt
- (c) Indian Depository Revenue
- (d) Indian Depository Receipt
- (e) इनमें से कोई नहीं

**Q144. भारतीय रिजर्व बैंक ने देश के सबसे बड़े निजी क्षेत्र के ऋणदाता एचडीएफसी बैंक पर धोखाधड़ी और अन्य दिशा-निर्देशों के अनुपालन की सूचना नहीं देने के लिए \_\_\_\_\_ का जुर्माना लगाया।**

- (a) 1 करोड़ रु.
- (b) 2 करोड़ रु.
- (c) 3 करोड़ रु.
- (d) 5 करोड़ रु.
- (e) इनमें से कोई नहीं

**Q145. उस राजनेता का नाम बताइए, जिसे मॉरिटानिया का राष्ट्रपति चुना गया है।**

- (a) याह्या औल्ड हाडामाइन
- (b) जुलो मामाडो भाटिया
- (c) मोहम्मद औलद गज़ौनी
- (d) मोहम्मद शेख औलद
- (e) इनमें से कोई नहीं

**Q146. मदन लाल सैनी, जिनका हाल ही में निधन हो गया। वे थे-**

- (a) पत्रकार
- (b) राजनीतिज्ञ
- (c) अभिनेता
- (d) निर्देशक
- (e) इनमें से कोई नहीं

**Q147. \_\_\_\_\_ निवेशकों को इकाइयां जारी करने और ऑफर डॉक्यूमेंट में बताए उद्देश्यों के अनुसार प्रतिभूतियों में धन निवेश करने के लिए धन संयोजन करने की एक प्रक्रिया है।**

- (a) शेयर
- (b) म्यूच्युअल फण्ड
- (c) इक्विटी
- (d) स्टॉक
- (e) इनमें से कोई नहीं

**BANK & INSURANCE  
2019**

**PREMIUM PACKAGE**

**Mocks | Practice sets | eBooks**

1000 Total Tests

500 + eBooks

**Validity: 12 Months | Bilingual**



**Q148. NDA सरकार में सामाजिक न्याय और अधिकारिता के वर्तमान केंद्रीय मंत्री कौन हैं?**


- (a) राव इंद्रजीत सिंह
- (b) थावर चंद गहलोत
- (c) नरेंद्र सिंह तोमर
- (d) अनंत गीते
- (e) इनमें से कोई नहीं

**Q149. सेबी एक नियामक प्राधिकरण है जो प्रतिभूतियों में निवेशकों के हितों की रक्षा के लिए, इनके विकास को बढ़ावा देने के लिए तथा प्रतिभूतियों के बाजार को विनियमित करने और उनके साथ जुड़े मामलों के लिए और इसके अतिरिक्त प्रासंगिक मुद्दों की देखभाल के लिए है, इसे सेबी अधिनियम 1992 की किस धारा के तहत स्थापित किया गया?**

- (a) धारा 3
- (b) धारा 18
- (c) धारा 10
- (d) धारा 30
- (e) इनमें से कोई नहीं

**Q150. उस राज्य सरकार का नाम बताइए, जिसने स्वास्थ्य सेवाओं में सुधार के लिए विश्व बैंक (WB) के साथ 328 मिलियन डॉलर के ऋण समझौते पर हस्ताक्षर किए हैं।**

- (a) तेलंगाना
- (b) आंध्र प्रदेश
- (c) ओडिशा
- (d) गुजरात
- (e) इनमें से कोई नहीं



**Q151. शून्य शेष बचत खाता किसके लिए खोला जा सकता है?**

- (a) कम्पनियों
- (b) उच्च निवल सम्पति वाले व्यक्ति
- (c) समाज का वित्तीय कमजोर वर्ग
- (d) आईटी कंपनियों के कर्मचारी
- (e) दिए गये विकल्पों में से कोई सत्य नहीं है

**Q152. पुलिस और स्वयंसेवकों से तत्काल सहायता पाने के लिए, मोबाइल ऐप '112 इंडिया' में महिलाओं की सुरक्षा के लिए एक विशेष सुविधा '\_\_\_\_' होगी।**

- (a) URGENCY
- (b) CRY
- (c) HELPME
- (d) SHOUT
- (e) NEEDY

**Q153. बैंक एक ग्राहक की पहचान कैसे प्रमाणित करता है?**

- (a) मौजूदा ग्राहक का परिचय प्राप्त करके
- (b) KYC मानदंडों का पालन करके
- (c) आधार कार्ड की कॉपी लेकर
- (d) उपर्युक्त सभी
- (e) केवल (b) और (c)

**Q154. उस भारतीय लेखक का नाम बताइए, जिसे \$ 100,000 नाइन डॉट्स पुरस्कार 2019 के विजेता के रूप में घोषित किया गया है।**

- (a) झुम्पा लाहिड़ी
- (b) अनीता देसाई
- (c) चित्रा बनर्जी दिवाकरुनी
- (d) एनी जैदी
- (e) इनमें से कोई नहीं

**Q155. सम्पत्ति के विरुद्ध लिए जाने वाले बैंक लोन में वह परिसम्पत्ति ऋणभार से मुक्त होनी चाहिए। इसका क्या अर्थ है?**

- (a) परिसंपत्ति के कई मालिक नहीं होने चाहिए
- (b) पूरी तरह से निर्मित की जाने वाली संपत्ति
- (c) परिसंपत्ति को ठीक से पंजीकृत किया जाना चाहिए
- (d) परिसंपत्ति को किसी देयता से मुक्त किया जाना चाहिए
- (e) दिए गये विकल्पों में से कोई सत्य नहीं है

**Q156. भारत के सबसे भारी, सबसे बड़े और सबसे शक्तिशाली उपग्रह का नाम क्या है जिसे हाल ही में सफलतापूर्वक लॉन्च किया गया?**

- (a) PSLV-10
- (b) GSAT-11
- (c) GSAT-3E
- (d) HULK-1A
- (e) Pushkar-1A

**Q157. RBI बैंकों के व्यावसायिक आंकड़ों में CASA के एक अच्छे सम्बन्ध की अपेक्षा करता है। यह क्या दर्शाता है?**

- (a) सकल क्रेडिट और बचत
- (b) चालू खाता और बचत खाता
- (c) लागत वृद्धि और विक्रय विश्लेषण
- (d) ग्राहक विश्लेषण और बचत पैटर्न
- (e) दिए गये विकल्पों में से कोई सत्य नहीं है



Q158. कांस्य की मूर्ति स्टैच्यू ऑफ यूनिटी, विश्व की सबसे ऊंची मूर्ति है, इसकी ऊंचाई \_\_\_\_\_ है।

- (a) 200मीटर
- (b) 189 मीटर
- (c) 153 मीटर
- (d) 93 मीटर
- (e) 182 मीटर

Q159. आरक्षित बंधक ऋण वरिष्ठ नागरिकों के लिए चलनिधि प्रदान करने हेतु हैं। निम्नलिखित में से क्या इस सुविधा का उचित वर्णन है?

- (a) वरिष्ठ नागरिक की मृत्यु के मामले में विधिक उत्तराधिकारी ऋण राशि का पुनर्भुगतान नहीं कर सकते हैं
- (b) वरिष्ठ नागरिक को 15 वर्षों के बाद संपत्ति को छोड़ना होगा
- (c) बैंक वरिष्ठ नागरिक को या तो मासिक भुगतान करते हैं या एकमुश्त भुगतान करते हैं
- (d) उपर्युक्त सभी
- (e) दिए गये विकल्पों में से कोई सत्य नहीं है

Q160. प्रधानमंत्री श्री नरेंद्र मोदी की अध्यक्षता में केंद्रीय मंत्रिमंडल ने झारसुगुड़ा हवाईअड्डे का नाम बदलने को मंजूरी दी है। यह हवाईअड्डा किस भारतीय राज्य में स्थित है?

- (a) तेलंगाना
- (b) आंध्रप्रदेश
- (c) छत्तीसगढ़
- (d) कर्नाटक
- (e) ओडिशा



Q161. IFSC कोड \_\_\_\_\_ - अक्षरांकीय वर्ण हैं जो RTGS और NEFT सिस्टम में भाग लेने वाली बैंक-शाखा की विशिष्ट रूप से पहचान करता है।

- (a) 10
- (b) 11
- (c) 12
- (d) 09
- (e) 13

Q162. भारत ने रूस के साथ दो अपग्रेडेड \_\_\_\_\_ श्रेणी के रडार से बच निकलने वाले युद्धपोत के लिए \$ 950 मिलियन के अनुबंध पर हस्ताक्षर किये।

- (a) क्रिवक III
- (b) सोवेत्सकोगो सोयुजा
- (c) किरोव II
- (d) एडमिरल ग्रिगोरोविच
- (e) एडमिरल गोर्शकोव

**Q163.** कर्मचारी भविष्य निधि, ईपीएफ के प्रत्येक सदस्य को यूएएन दिया जाता है। UAN का पूर्ण रूप है-

- (a) Universal Access Number
- (b) Universal Account Number
- (c) Unique Account Number
- (d) Universal Amount Number
- (e) Universal Account New

**Q164.** विश्व शरणार्थी दिवस 2019 की थीम है-

- (a) एम्ब्रसिंग रिफ्यूजी टू सेलिब्रेट आवर कॉमन ह्यूमैनिटी
- (b) नाँव मोर देन एवर, वी नीड टू स्टैंड विद रिफ्यूजी
- (c) स्टेप विथ रिफ्यूजी- टेक ए स्टेप ऑन वर्ल्ड रिफ्यूजी डे
- (d) वी स्टैंड टूगेदर विद रिफ्यूजी
- (e) इनमें से कोई नहीं

**Q165.** SBM समूह को पूर्ण स्वामित्व वाली सहायक कम्पनी के माध्यम से देश में संचालित करने के लिए भारतीय रिज़र्व बैंक की स्वीकृति प्राप्त हुई है। SBM समूह आधारित है-

- (a) मॉरीशस
- (b) सिंगापुर
- (c) रूस
- (d) जापान
- (e) चीन

**Q166.** अंतर्राष्ट्रीय ओलंपिक समिति (IOC) का नया मुख्यालय स्थित है-

- (a) बर्न
- (b) जिनेवा
- (c) लुसाने
- (d) मॉन्ट्रेक्स
- (e) इनमें से कोई नहीं

**Q167.** किस बैंक / कंपनी ने निवेशकों की प्रतिक्रिया, प्रोफाइल, क्लाइंट ऑर्डर और डील प्राइसिंग जैसी सूचनाओं को समयोचित पहुंच प्रदान करके पूंजी बाजारों के माध्यम से पूंजी जुटाने की प्रक्रिया को आसान बनाने के लिए एक नया डिजिटल प्लेटफॉर्म 'MyDeal' लॉन्च किया है?

- (a) रॉयल बैंक ऑफ स्कॉटलैंड
- (b) बार्कलेज बैंक
- (c) HSBC
- (d) बैंक ऑफ़ अमेरिका
- (e) सोनी

**Q168.** कॉन्फेडरेशन ऑफ इंडियन इंडस्ट्री (CII) ने अपनी 'ग्रोथ आउटलुक फॉर 2019' में कहा कि 2019 में भारत की GDP वृद्धि \_\_\_\_\_ होगी।

- (a) 7.3%
- (b) 7.7%
- (c) 8.1%
- (d) 7.8%
- (e) 7.5%

**Q169.** निम्न में से कौनसा बैंक अपने माइक्रो एटीएम टेबलेट्स के माध्यम से आधार-आधारित लेनदेन के लिए आइरिस स्कैन ऑथेंटिकेशन सुविधा शुरू करने वाला देश का पहला बैंक बन गया है?

- (a) पंजाब नेशनल बैंक
- (b) बैंक ऑफ बड़ौदा
- (c) भारतीय स्टेट बैंक
- (d) एक्सिस बैंक
- (e) इनमें से कोई नहीं

**Q170.** तेलंगाना को अब अपना पहला स्वतंत्र उच्च न्यायालय मिल गया है। तेलंगाना उच्च न्यायालय के पहले मुख्य न्यायाधीश के रूप में किसने शपथ ली?

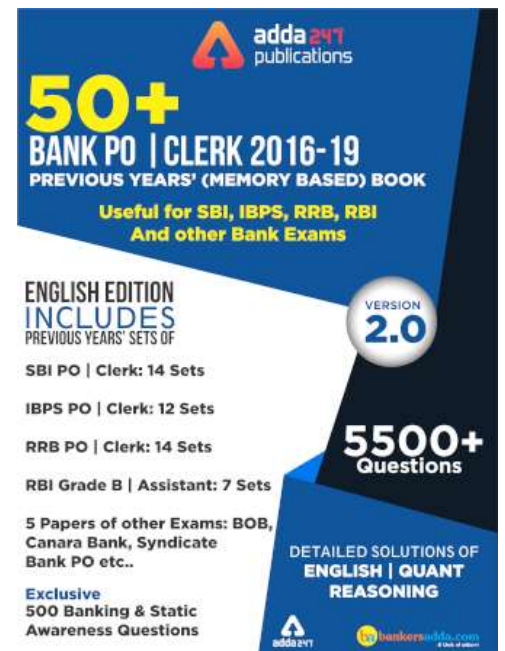
- (a) न्यायमूर्ति श्री कृष्ण अय्यर
- (b) न्यायमूर्ति बीटी राममूर्ति
- (c) न्यायमूर्ति टीबीएन राधाकृष्णन
- (d) न्यायमूर्ति बीएन कुमारस्वामी
- (e) इनमें से कोई नहीं

**Q171.** अंतरिम वित्त मंत्री ने वित्तीय वर्ष 2018-19 के लिए ग्रामीण गरीब मनरेगा के उद्देश्य से एक महत्वपूर्ण योजना के लिए \_\_\_\_\_ आवंटित किए हैं।

- (a) 10,000 करोड़ रु.
- (b) 60,000 करोड़ रु.
- (c) 50,000 करोड़ रु.
- (d) 20,000 करोड़ रु.
- (e) 80,000 करोड़ रु.

**Q172.** भारत ने एक ईरानी बैंक को मुंबई में एक शाखा खोलने की अनुमति दी है। उस बैंक का नाम बताइए।

- (a) पसरगड बैंक
- (b) पारसियन बैंक
- (c) तेजरत बैंक
- (d) एक्सपोर्ट डेवलपमेंट बैंक ऑफ़ ईरान
- (e) मास्कन बैंक



**Q173. 22 वां अखिल भारतीय आयुर्विज्ञान संस्थान (AIIMS) किस राज्य में स्थापित किया जाएगा?**


- (a) गुजरात
- (b) राजस्थान
- (c) हरियाणा
- (d) उत्तरप्रदेश
- (e) बिहार

**Q174. भारत सरकार, हिमाचल प्रदेश सरकार (GoHP) और विश्व बैंक ने ग्रेटर शिमला क्षेत्र के नागरिकों को स्वच्छ और विश्वसनीय पेयजल लाने में मदद करने के लिए \_\_\_\_\_ के ऋण समझौते पर हस्ताक्षर किए।**

- (a) \$ 200 मिलियन
- (b) \$80 मिलियन
- (c) \$150 मिलियन
- (d) \$90 मिलियन
- (e) \$40 मिलियन

**Q175. बजट 2019-20 में एकीकृत बाल विकास योजना (ICDS) के लिए कितनी राशि आवंटित की गई है?**

- (a) 32,187 करोड़ रु.
- (b) 31,600 करोड़ रु.
- (c) 15,300 करोड़ रु.
- (d) 27,584 करोड़ रु.
- (e) 10,100 करोड़ रु.



**Q176. भारतीय महिला हॉकी टीम ने \_\_\_\_\_ को हराकर FIH सीरीज़ फ़ाइनल जीत लिया है।**

- (a) दक्षिण कोरिया
- (b) चीन
- (c) जापान
- (d) रूस
- (e) इनमें से कोई नहीं

**Q177. वित्त मंत्री ने घोषणा की है कि पहली बार देश का रक्षा बजट \_\_\_\_\_ से ऊपर होगा।**

- (a) 1 लाख करोड़ रु.
- (b) 15 लाख करोड़ रु.
- (c) 3 लाख करोड़ रु.
- (d) 7 लाख करोड़ रु.
- (e) 10 लाख करोड़ रु.

**Q178. गोवा के 11 वें मुख्यमंत्री के रूप में किसने शपथ ली?**

- (a) प्रमोद सावंत
- (b) रामकृष्ण धवलीकर
- (c) विजई सरदेसाई
- (d) विनोद पल्यकर
- (e) इनमें से कोई नहीं

**Q179. फ्लिपकार्ट के सह-संस्थापक बिन्नी बंसल ने अपने इक्विटी शेयरों को 76 मिलियन अमरीकी डॉलर में निम्न में से किस कम्पनी को बेचा है?**

- (a) ebay
- (b) Snapdeal
- (c) Walmart
- (d) Alibaba
- (e) इनमें से कोई नहीं

**Q180. हैंस किलियन पुरस्कार 2019 पाने वाला भारतीय मनोवैज्ञानिक कौन है?**

- (a) सुधीर कक्कड़
- (b) आशीष नंदी
- (c) किशोर फडके
- (d) गिरीश्वर मिश्रा
- (e) इनमें से कोई नहीं



**Q181. क्यूबा की राजधानी क्या है?**

- (a) सूवा
- (b) बाकू
- (c) हवाना
- (d) मैड्रिड
- (e) चिलो

**Q182. "एलेवेनथ ऑवर" उपन्यास किसके द्वारा लिखा गया है?**

- (a) करण थापर
- (b) अरुण शौरी
- (c) मधु त्रेहन
- (d) हुसैन जैदी
- (e) इनमें से कोई नहीं

**Q183.** किस राज्य में प्रत्येक वर्ष पतंग महोत्सव मनाया जाता है?

- (a) आंध्रप्रदेश
- (b) गुजरात
- (c) असम
- (d) कर्नाटक
- (e) केरल

**Q184.** सस्टेनेबल गैस्ट्रोनाॅमी दिवस विश्वभर में कब मनाया जाता है?

- (a) 17 जून
- (b) 18 जून
- (c) 19 जून
- (d) 20 जून
- (e) इनमें से कोई नहीं

**Q185.** भारत में अंतर्राष्ट्रीय योग दिवस (IDY) 2019 की थीम है-

- (a) द नेशनल इवेंट ऑफ़ मांस योगा डेमन्स्ट्रेशन
- (b) कनेक्ट द यूथ
- (c) योग फॉर पीस
- (d) योग फॉर हार्ट
- (e) इनमें से कोई नहीं

**Q186.** बरगी बांध नर्मदा नदी पर बनने वाले 30 प्रमुख बांधों की श्रृंखला में से पहले पूर्ण किए गए बांधों में से एक है, यह किस राज्य में है?

- (a) मध्य प्रदेश
- (b) राजस्थान
- (c) गुजरात
- (d) महाराष्ट्र
- (e) हिमाचल प्रदेश

**Q187.** कथकली नृत्य किस राज्य में किया जाने वाला लोक नृत्य है?

- (a) झारखण्ड
- (b) आंध्रप्रदेश
- (c) तमिलनाडु
- (d) छत्तीसगढ़
- (e) केरल

Q188. फ्रेंच ओपन 2019 में सबसे अधिक उम्र में मैच जीतने वाले व्यक्ति कौन है?

- (a) जॉन इस्त्र
- (b) फेलिसियानो लोपेज़
- (c) इवो कार्लोविक
- (d) टामस बर्डिच
- (e) इनमें से कोई नहीं

Q189. कोयम्बटूर शहर किस नदी पर स्थित है?

- (a) पेन्ना नदी
- (b) नोय्याल नदी
- (c) शरावती नदी
- (d) थंबीबरानी नदी
- (e) इनमें से कोई नहीं

Q190. किन्नरसानी वन्यजीव अभयारण्य किस राज्य में स्थित है?

- (a) तमिलनाडु
- (b) तेलंगाना
- (c) आंध्रप्रदेश
- (d) केरल
- (e) कर्नाटक

