



# Adda 247 Publications

## BOOKS



Visit: [publications.adda247.com](http://publications.adda247.com) & [store.adda247.com](http://store.adda247.com)  
For any information, mail us at [publications@adda247.com](mailto:publications@adda247.com)

**Q1. कथन -** "ट्रम्प प्रशासन ने कॉर्पोरेट टैक्स दर में भारी कटौती (35% से केवल 15%) प्रस्तावित की है, जो एक भारी कमी है।"  
**I.** डोनाल्ड ट्रम्प की कर योजनाएं, अमेरिका की सुस्त अर्थव्यवस्था को फिर से जीवंत करने के लिए कुछ साहसिक सुधारों का वादा करती हैं।

**II.** मि. ट्रम्प उन्हें कम से कम एक बार टैक्स देने के बाद इन नकद स्टॉक में से कुछ को वापस लाने के लिए आगे बढ़ाने की उम्मीद करते हैं।

श्री ट्रम्प को उम्मीद है, कि कम से कम एक बार टैक्स का भुगतान करने के बाद ये कुछ नकदी स्टॉक लौटाएंगे।

**III.** पूंजी का प्रवाह, निवेशों को बढ़ाने के लिए यू.एस. निगमों को प्रोत्साहित करेगा, या शेयरधारकों को पुनर्खरीद के जरिए सामान्यतः नकदी वितरित करेगा।

निम्न में से कौन सा कथन उपर्युक्त कथन से प्राप्त किया जा सकता है?

- (a) उपरोक्त सभी
- (b) केवल II और III
- (c) केवल I और II
- (d) केवल II
- (e) केवल I

**Q2. कथन I-** वित्त मंत्री अरुण जेटली ने आज की वैश्विक अर्थव्यवस्था में ब्रेटन वुड्स संस्था के सामने आने वाली समस्याओं पर प्रकाश डालते हुए, अंतरराष्ट्रीय मुद्रा कोष की विवादास्पद कोटा प्रणाली में सुधार की मांग की है।

**कथन II-** श्री जेटली ने घोषणा की कि भारत नवीन विकास बैंक से 2 अरब डॉलर की मांग कर रहा है।

**कथन III-** कोटा, मदद की आवश्यकता वाले देशों को उधार देने के लिए आईएमएफ के निपटान में आकस्मिक धन के आकार को निर्धारित करने के साथ-साथ, उधार देने के फैसले को प्रभावित करने वाली व्यक्तिगत देशों की शक्ति को निर्धारित करते हैं और स्वयं को फंड में टैप करते हैं।


निम्नलिखित में से कौन सा दिए गए कथनों में से कारण/प्रभाव हो सकता है?

- (a) कथन I कारण होगा तथा कथन II और III इसके प्रभाव होंगे।
- (b) कथन II और III कारण होंगे तथा I इसका प्रभाव होगा।
- (c) कथन III कारण है और कथन I इसका प्रभाव है तथा कथन II स्वतंत्र कारण का प्रभाव है।
- (d) कथन II कारण है और कथन I इसका प्रभाव है तथा कथन III स्वतंत्र कारण का प्रभाव है।
- (e) कथन III कारण है और कथन II इसका प्रभाव है तथा कथन I स्वतंत्र कारण का प्रभाव है।

**Directions (3-7): निम्नलिखित जानकारी का ध्यानपूर्वक अध्ययन कीजिए और नीचे दिए गए प्रश्नों के उत्तर दीजिए।**

9 क्रिकेटर्स हैं जिन्हें तीन समूहों में वर्गीकृत किया गया है अर्थात्: बैट्समैन, बॉलर और ऑल राउंडर। खिलाड़ियों के नाम अर्थात्: सचिन, सहवाग, विराट, धोनी, इरफान, कुंबले, धवन, रोहित और अश्विन हैं, लेकिन जरूरी नहीं कि वे समान क्रम में हों। किसी भी एक समूह में चार से अधिक खिलाड़ी नहीं हैं और न्यूनतम दो खिलाड़ी हैं। किसी भी समूह के खिलाड़ियों की संख्या बराबर नहीं है।

धोनी, बॉलर समूह में नहीं है। कुंबले और धवन समान समूह में हैं लेकिन बैट्समैन समूह में नहीं हैं। रोहित और विराट समान समूह में नहीं हैं। सचिन के साथ उसके समूह में केवल एक क्रिकेट खिलाड़ी है। अश्विन, बैट्समैन समूह में है लेकिन सचिन के समूह में नहीं है। सहवाग न तो बैट्समैन समूह में न ही बॉलर समूह में है। इरफान और धोनी समान समूह में हैं। कुंबले न तो बैट्समैन न ही ऑल राउंडर है। विराट न तो बैट्समैन न ही ऑल राउंडर है। सहवाग और धोनी समान समूह में नहीं हैं।

**Adda247  
Test Series**

**IBPS CLERK PRIME  
MAINS  
30+ Total Tests**

- ✓ 10 Full Length Mocks with Video Solutions
- ✓ 15 Section wise Practice sets
- ✓ 7 Previous Years Papers
- ✓ Banking & Static eBook

**BILINGUAL**

**Q3. निम्नलिखित में से कौन बॉलर है?**

- (a) इरफ़ान
- (b) अश्विन
- (c) विराट
- (d) सचिन
- (e) या तो (a) या (c)

**Q4. निम्नलिखित में से कौन सा युग्म ऑलराउंडर्स के समूह को दर्शाता है?**

- (a) सचिन-धोनी
- (b) विराट-सहवाग
- (c) कुंबले-रोहित
- (d) सहवाग-सचिन
- (e) इनमें से कोई नहीं

**Q5. निम्नलिखित में से कौन सी जानकारी रोहित के संदर्भ में सत्य है?**

- (a) वह सचिन के समूह में है
- (b) वह 3 खिलाड़ियों के समूह में है
- (c) वह बैट्समैन समूह में है
- (d) सभी सत्य हैं
- (e) कोई सत्य नहीं है

**Q6. निम्नलिखित पांच में से चार एक निश्चित तरीके से समान हैं और इसलिए वे एक समूह बनाते हैं। निम्नलिखित में से कौन सा एक उस समूह से संबंधित नहीं है?**

- (a) धवन -सचिन
- (b) विराट -कुंबले
- (c) धोनी -इरफ़ान
- (d) रोहित -अश्विन
- (e) सचिन -सहवाग

**Q7. निम्न में से कौन सा युग्म क्रमशः बैट्समैन, बॉलर और ऑलराउंडर को दर्शाता है?**

- (a) इरफ़ान-कुंबले-धवन
- (b) अश्विन-विराट-सचिन
- (c) रोहित-सचिन-धवन
- (d) सहवाग-विराट-इरफ़ान
- (e) कुंबले-सचिन-रोहित

**Directions (8-12):** निम्नलिखित जानकारी का ध्यानपूर्वक अध्ययन कीजिए और निम्नलिखित प्रश्नों के उत्तर दीजिए।

एक निश्चित कूट भाषा में,

"when the apocalypse come" को "MW3 VT6 VA25 VC23" के रूप में कूटबद्ध किया जाता है

"featured in present moment" को "MI17 WF20 GP10 GM13" के रूप में कूटबद्ध किया जाता है

"villains stand up" को "KU5 WS7 HV4" के रूप में कूटबद्ध किया जाता है

"list of heroes" को "GL14 UO11 HH18" के रूप में कूटबद्ध किया जाता है

**Q8.** दी गयी कूट भाषा में 'dark' के लिए क्या कूट है?

- (a) CD10
- (b) DC13
- (c) DP21
- (d) PD22
- (e) इनमें से कोई नहीं

**Q9.** दी गयी कूट भाषा में 'Thug' के लिए क्या कूट है?

- (a) GG6
- (b) TG6
- (c) GT7
- (d) TT6
- (e) इनमें से कोई नहीं

**Q10.** निम्नलिखित में से कौन सा शब्द 'VK15' के रूप में कूटबद्ध किया जा सकता है?

- (a) Sword
- (b) Fish
- (c) Dish
- (d) Knife
- (e) इनमें से कोई नहीं

**Q11.** निम्नलिखित में से कौन सा शब्द 'GG19' के रूप में कूटबद्ध किया जा सकता है?

- (a) Goat
- (b) Boat
- (c) Gifts
- (d) Tags
- (e) इनमें से कोई नहीं

**Q12.** दी गयी कूट भाषा में 'Turkey' के लिए क्या कूट है?

- (a) KP10
- (b) BT6
- (c) RT7
- (d) IT7
- (e) इनमें से कोई नहीं



**Q13. कथन -** "कजाखस्तान की राजधानी अस्ताना में शंघाई सहयोग संगठन (SCO) के शिखर सम्मेलन के साथ, भारत क्षेत्रीय समूह का स्थायी सदस्य बनने के लिए तैयार है। भारत के साथ, पाकिस्तान भी एससीओ का पूर्ण सदस्य बन जाएगा।"

**I-** एससीओ में भारत का सामना, चीन-पाकिस्तान की साझेदारी से होने की संभावना है, जो एक छोटा संगठन है और जहां अन्य सदस्य चीन और पाकिस्तान दोनों के साथ सौहार्दपूर्ण संबंध रखते हैं।

**II-** एससीओ सदस्यता से भारत की 'कनेक्ट सेंट्रल एशिया पॉलिसी' को बढ़ावा मिलेगा, जो अब कुछ समय के लिए स्थिर मार्ग पर है।

**III-** भारत की समूह की पूर्ण सदस्यता से इसकी पहुँच पूरे मध्य एशियाई क्षेत्र तक हो जाएगी, जहां भारत ने इसकी शांति और स्थिरता में खुद को एक प्रमुख हितधारक के रूप में स्थापित किया है।

**IV-** एससीओ में भारत के प्रवेश से, भारत को क्षेत्रीय बाजारों तक अधिक पहुँच प्राप्त करने में और अपनी राजनीतिक-रणनीतिक गतिशीलता में मदद मिलेगी।

निम्नलिखित में से कौन सा उपरोक्त कथन का एक नतीजा है?

- (a) केवल II और III
- (b) केवल I
- (c) केवल IV
- (d) केवल III और IV
- (e) इनमें से कोई नहीं



**Directions (14-18):** निम्नलिखित जानकारी का ध्यानपूर्वक अध्ययन कीजिए और नीचे दिए गए प्रश्नों के उत्तर दीजिए।

व्यक्तियों की एक निश्चित संख्या एक पंक्ति में उत्तर की ओर उन्मुख होकर बैठी है। उनमें से सात मित्र हैं और प्रत्येक को अलग अलग फ़िल्म पसंद है। रोबोट पसंद करने वाले व्यक्ति के बायें केवल नौ व्यक्ति बैठे हैं। सिम्बा पसंद करने वाले व्यक्ति और सुपर30 पसंद करने वाले व्यक्ति के बीच में केवल चार व्यक्ति बैठे हैं। सुपर30 पसंद करने वाले व्यक्ति के दायें केवल चार व्यक्ति बैठे हैं। D और P के बीच में केवल छह व्यक्ति बैठे हैं, जो केसरी पसंद करता है। P और F के बीच में केवल पांच व्यक्ति बैठे हैं। केदारनाथ पसंद करने वाला व्यक्ति, F के दायें से तीसरे स्थान पर बैठा है। S और J के बीच में केवल छह व्यक्ति बैठे हैं। D और केदारनाथ पसंद करने वाले व्यक्ति के बीच में चार से अधिक व्यक्ति बैठे हैं। थग्स पसंद करने वाला व्यक्ति किसी एक अंत से पांचवें स्थान पर बैठा है लेकिन F का पड़ोसी नहीं है। M और रोबोट पसंद करने वाले व्यक्ति के बीच में केवल दो व्यक्ति बैठे हैं। केसरी पसंद करने वाला व्यक्ति, M के ठीक बायें बैठा है। S, जीरो पसंद करता है और बायें अंत से तीसरे स्थान पर बैठा है। J और सिम्बा पसंद करने वाले व्यक्ति के बीच में केवल दो व्यक्ति बैठे हैं। B दायें अंत से दूसरे स्थान पर बैठा है।

**Q14. निम्नलिखित में से कौन सुपर 30 फ़िल्म पसंद करता है?**

- (a) D
- (b) J
- (c) M
- (d) F
- (e) इनमें से कोई नहीं

Q15. J, निम्नलिखित में से कौन सी फ़िल्म पसंद करता है?

- (a) थग्स
- (b) सुपर 30
- (c) सिम्बा
- (d) रोबोट
- (e) केदारनाथ

Q16. पंक्ति में कितने व्यक्ति बैठे हैं?

- (a) 20
- (b) 21
- (c) 22
- (d) 23
- (e) 24

Q17. D और B के बायें से तीसरे स्थान पर बैठे व्यक्ति के बीच में कितने व्यक्ति बैठे हैं?

- (a) 12
- (b) 5
- (c) 11
- (d) 6
- (e) कोई नहीं

Q18. थग्स पसंद करने वाले व्यक्ति और J के बीच में कितने व्यक्ति बैठे हैं?

- (a) 5
- (b) 4
- (c) 13
- (d) 17
- (e) कोई नहीं

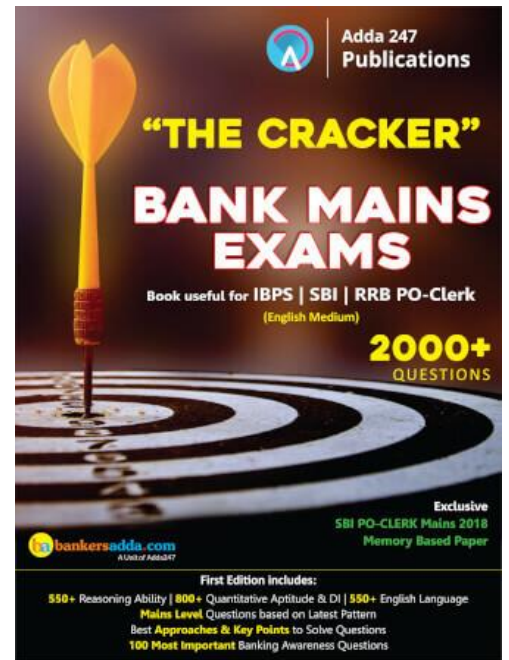
**Directions (19-23):** नीचे दिए गए प्रत्येक प्रश्न में कुछ कथन दिए गए हैं, जिसके बाद कुछ निष्कर्ष दिए गए हैं। आपको दिए गए कथनों को सत्य मानना है भले ही वे सर्वज्ञात तथ्यों से भिन्न प्रतीत होते हों। सभी निष्कर्षों का अध्ययन कीजिए और फिर निर्णय लीजिए कि दिया गया कौन सा निष्कर्ष, दिए गए कथनों का तार्किक रूप से अनुसरण करता है चाहे सर्वज्ञात तथ्य कुछ भी हों। उत्तर दीजिए:

Q19. कथन :

कुछ सलून, सीसर हैं।

सभी सीसर, हैण्ड वाश हैं।

कोई सलून, पार्लर नहीं है।



**निष्कर्ष:**

**I.** सभी सलून के हैण्ड वाश होने की सम्भावना है

**II.** सभी सीसर के पार्लर होने की सम्भावना है

(a) केवल I अनुसरण करता है

(b) I और II दोनों अनुसरण करते हैं

(c) केवल II अनुसरण करता है

(d) कोई अनुसरण नहीं करता है

(e) इनमें से कोई नहीं

**Q20. कथन :**

कुछ सलून, सीसर हैं।

सभी सीसर, हैण्ड वाश हैं।

कोई सलून, पार्लर नहीं है।

**निष्कर्ष :**

**I.** सभी हैण्ड वाश के सीसर होने की सम्भावना है

**II.** कोई सीसर, पार्लर नहीं है

(a) केवल II अनुसरण करता है

(b) I और II दोनों अनुसरण करते हैं

(c) केवल I अनुसरण करता है

(d) कोई अनुसरण नहीं करता है

(e) इनमें से कोई नहीं

adda247

**Q21. कथन:**

कुछ कार, बस हैं।

सभी प्लेन, शिप हैं।

कोई बस, प्लेन नहीं है।

**निष्कर्ष :**

**I.** सभी शिप के बस होने की सम्भावना हो सकती है

**II.** सभी कार, प्लेन हैं

(a) कोई अनुसरण नहीं करता है

(b) I और II दोनों अनुसरण करते हैं

(c) केवल II अनुसरण करता है

(d) केवल I अनुसरण करता है

(e) इनमें से कोई नहीं

**Q22. कथन :**

कुछ पंकज, उदय हैं।

कुछ उदय, रमेश हैं।

कोई रमेश, महेश नहीं है।

**निष्कर्ष :**

I. सभी पंकज के महेश होने की सम्भावना है

II. सभी उदय के महेश होने की सम्भावना नहीं है

(a) कोई अनुसरण नहीं करता है

(b) I और II दोनों अनुसरण करते हैं

(c) केवल II अनुसरण करता है

(d) केवल I अनुसरण करता है

(e) इनमें से कोई नहीं

**Q23. कथन :**

सभी स्क्वायर, बॉक्स हैं।

सभी बॉक्स, ट्रायंगल हैं।

कोई ट्रायंगल, सर्कल नहीं है।

**निष्कर्ष :**

I. सभी सर्कल के बॉक्स होने की सम्भावना है

II. सभी ट्रायंगल के स्क्वायर होने की सम्भावना है

(a) कोई अनुसरण नहीं करता है

(b) I और II दोनों अनुसरण करते हैं

(c) केवल II अनुसरण करता है

(d) केवल I अनुसरण करता है

(e) इनमें से कोई नहीं

**Q24. कथन -** "भारत ने 2016-17 की चौथी तिमाही में अपनी सबसे तेज़ी से बढ़ती हुई प्रमुख अर्थव्यवस्था के तमगे को खो दिया है, जहां जीडीपी विकास 6.1% पर आ रहा है, वहीं इसी अवधि में चीन की यह दर 6.9% है।"

I. विमुद्रीकरण के कारण विकास को काफी नुकसान पहुंचा है, क्योंकि विमुद्रीकरण के बाद से मंदी आई है,"

II. यदि आप वर्तमान और कालक्रम अनुमानों को देखते हैं, तो यह स्पष्ट है कि अर्थव्यवस्था काफी अच्छी तरह से बढ़ रही है,"

III. हम कुछ संतोष प्राप्त कर सकते हैं, लेकिन आंकड़े बताते हैं कि ऐसे अनेक क्षेत्र हैं जिन्हें अभी भी सुधारा जा सकता है।

निम्नलिखित में से कौन सा दिए गए कथन को सिद्ध करता है?

(a) कोई नहीं

(b) केवल I

(c) केवल I और III

(d) केवल III

(e) उपरोक्त सभी



**Q25. कथन I-** जीएसटी के तहत बैंकों के लिए चुनौती मौजूद कर प्रणाली के विपरीत प्रत्येक राज्य में पंजीकरण करना है। उन्हें अपने व्यावसायिक ग्राहकों के लिए इनवॉइस बढ़ाने के लिए राज्यवार राजस्व आंकड़ों को बनाए रखना होगा और आईटी सोल्यूशन संचालित करना होगा।

**कथन II-** बैंकों को जीएसटी के तहत अनिवार्य राज्य-केंद्रीय शिकायतों को पहचानने और उनका निपटान करने के लिए फ्रंटएंड आईटी इकोसिस्टम को अनुकूलित करना होगा।

**कथन III-** बैंकों को राज्यवार आंकड़ा प्रदान करने और राज्यवार कर भुगतानों की गणना करने की आवश्यकता होगी, जो उन्हें पहले नहीं करना पड़ता था।

निम्नलिखित में से कौन सा दिए गए कथन का कारण/प्रभाव है?

- (a) कथन I कारण होगा तथा कथन II और III इसके प्रभाव होंगे।
- (b) कथन II और III कारण होंगे तथा I इसका प्रभाव होगा।
- (c) कथन III कारण है तथा कथन I इसका प्रभाव है और कथन II स्वतंत्र कारण का प्रभाव है।
- (d) कथन II कारण है तथा कथन I इसका प्रभाव है और कथन III स्वतंत्र कारण का प्रभाव है।
- (e) कथन III कारण है तथा कथन II इसका प्रभाव है और कथन I स्वतंत्र कारण का प्रभाव है।

**Directions (26-30):** नीचे दिए गए प्रश्नों का उत्तर देने के लिए निम्नलिखित जानकारी का ध्यानपूर्वक अध्ययन कीजिये।

दो पंक्तियों में दस व्यक्ति बैठे हैं। पंक्ति 1 में- G, H, I, L और N का मुख उत्तर दिशा की ओर है एवं पंक्ति 2 में- P, Q, R, S और V का मुख दक्षिण दिशा की ओर है। सभी किसी न किसी प्रकार से I के रिश्तेदार हैं अर्थात् आंटी, अंकल, ग्रैंडमदर, भाई, पत्नी, कजिन, बहन, माता और ब्रदर-इन-लॉ, लेकिन जरूरी नहीं कि सभी समान क्रम में हों। प्रत्येक पंक्ति में एक सीट खाली है और दोनों एक दूसरे के विपरीत नहीं हैं।

I के भाई और आंटी के मध्य दो सीट हैं। S और I के ब्रदर-इन-लॉ की ओर उन्मुख व्यक्ति के मध्य एक से व्यक्ति बैठे हैं। L, I का कजिन है और I के बाएं से दूसरे स्थान पर बैठा है एवं उनमें से एक अंतिम छोर पर बैठा है। S, I का अंकल नहीं है। G का मुख I की ग्रैंडमदर की ओर है। G न तो L का एक निकटतम पड़ोसी है और न ही पंक्ति के किसी अंतिम छोर पर बैठा है। Q किसी एक अंतिम छोर पर बैठा है और वह I की पत्नी है, साथ ही वह I के भाई के ठीक बाएं ओर बैठी है। पंक्ति 2 की खाली सीट, H के बाएं ओर से तीसरे स्थान पर बैठे व्यक्ति के विपरीत है। V पंक्ति के किसी अंतिम छोर पर नहीं बैठा है। I की बहन और माता के मध्य केवल एक व्यक्ति बैठा है। G, I की बहन नहीं है। S और V के मध्य बैठे व्यक्तियों की संख्या, R और S के मध्य बैठे व्यक्तियों की संख्या के बराबर है। I की ग्रैंडमदर खाली सीट के ठीक बाएं ओर बैठी है।

**Q26. निम्नलिखित में से किसका मुख L के दाएं से तीसरे स्थान पर बैठे व्यक्ति की ओर है?**

- (a) P
- (b) I की ग्रैंडमदर
- (c) S
- (d) G
- (e) इनमें से कोई नहीं

**Q27. निम्नलिखित में से कौन I का ब्रदर इन लॉ है?**

- (a) R
- (b) G के बाएं से दूसरे स्थान पर बैठा व्यक्ति
- (c) L
- (d) M
- (e) H

**Q28.** दी गयी सूचना के आधार पर निम्नलिखित में से कौन-सा सत्य है?

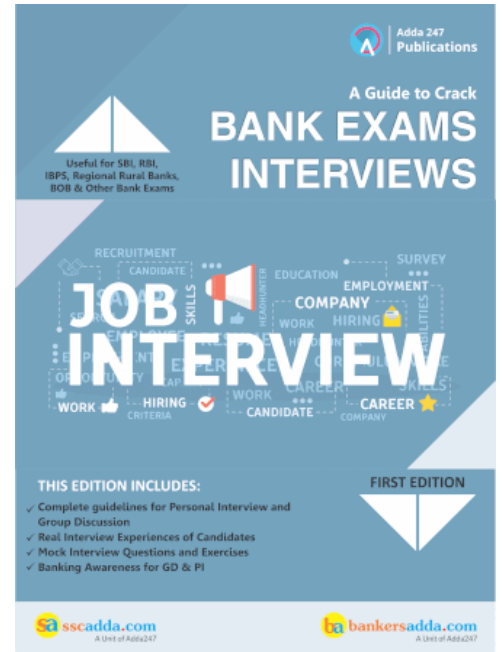
- (a) G, I की आंटी है
- (b) I की बहन बाएं छोर से तीसरे स्थान पर बैठी है
- (c) P और H दोनों का मुख एक दूसरे की ओर है
- (d) V का मुख H के बाएं से दूसरे स्थान पर बैठे व्यक्ति की ओर है
- (e) सभी सत्य हैं

**Q29.** S और Q के मध्य कितने व्यक्ति बैठे हैं?

- (a) एक
- (b) दो
- (c) तीन
- (d) चार
- (e) इनमें से कोई नहीं

**Q30.** G के सन्दर्भ में I की बहन का स्थान क्या है?

- (a) दाएं से दूसरा
- (b) ठीक बाएं
- (c) बाएं से दूसरा
- (d) ठीक दाएं
- (e) इनमें से कोई नहीं



**Directions (31-35):** नीचे दिए गए प्रश्नों का उत्तर देने के लिए निम्नलिखित सूचना का ध्यानपूर्वक अध्ययन कीजिये।

बारह व्यक्ति G, H, I, J, K, L, M, N, P, Q, R और S एक से चार तक, चार अलग-अलग तल पर रहते हैं। निचले तल की संख्या 1 है और शीर्ष तल की संख्या चार है, लेकिन जरूरी नहीं कि सभी समान क्रम में हो। पश्चिम से पूर्व तक प्रत्येक तल पर तीन फ्लैट: फ्लैट-1, फ्लैट-2, फ्लैट-3 हैं। इस प्रकार चौथे तल का फ्लैट-1, तीसरे तल के फ्लैट-1 से ठीक ऊपर है, जो दूसरे तल के फ्लैट-1 से ठीक ऊपर है और अन्य फ्लैट इसी प्रकार व्यवस्थित हैं।

Q किसी भी फ्लैट-1 में नहीं रहता है, लेकिन S के ठीक पश्चिम में रहता है। S और L, जो S के दक्षिण में रहता है, के मध्य एक व्यक्ति रहता है। P एक सम संख्या वाले तल पर रहता है लेकिन सम संख्या वाले फ्लैट में नहीं रहता है। J और R, जो J के दक्षिण में रहता है, के मध्य एक व्यक्ति रहता है। M के सन्दर्भ में H उत्तर पूर्व दिशा में रहता है। G, I के ठीक ऊपर रहता है। J, S के दक्षिण पश्चिम में रहता है। H किसी फ्लैट-3 में नहीं रहता है। I, M के ठीक ऊपर नहीं रहता है। K, H के सन्दर्भ में उत्तर पूर्व में रहता है।

Q31. निम्नलिखित में से कौन, चौथे तल के फ्लैट-1 में रहने वाले व्यक्ति और उसी तल के फ्लैट-3 में रहने वाले व्यक्ति के मध्य में रहता है?

- (a) J
- (b) H
- (c) Q
- (d) M
- (e) L

Q32. निम्नलिखित में से कौन-सा संयोजन H के सन्दर्भ में सत्य है?

- (a) फ्लैट-2, फ्लैट-1
- (b) फ्लैट -2, फ्लैट-2
- (c) फ्लैट-2, फ्लैट-4
- (d) फ्लैट-3, फ्लैट 2
- (e) इनमें से कोई नहीं

Q33. L के सन्दर्भ में G किस दिशा में रहता है?

- (a) दक्षिण-पूर्व
- (b) उत्तर-पश्चिम
- (c) दक्षिण-पश्चिम
- (d) उत्तर-पूर्व
- (e) निर्धारित नहीं किया जा सकता



Q34. निम्नलिखित में से कौन P के ठीक पूर्व में रहता है?

- (a) H
- (b) N
- (c) K
- (d) L
- (e) इनमें से कोई नहीं

Q35. निम्नलिखित पांच में से चार एक निश्चित प्रकार से समान हैं, कौन सा एक उस समूह से संबंधित नहीं है?

- (a) G, Q, S
- (b) H, P, K
- (c) M, R, L
- (d) G, Q, L
- (e) M, R, S

**Directions (36-38):** नीचे दिए गए प्रश्नों का उत्तर देने के लिए निम्नलिखित सूचना का ध्यानपूर्वक अध्ययन कीजिये।

एक विमान जयपुर हवाई अड्डे से भोपाल हवाई अड्डे के लिए उड़ान भरता है। वह 20 किमी उत्तर-पश्चिम में जाता है और बिंदु A पर पहुंचता है। अब वह 35 किमी पश्चिम की ओर जाता है और बिंदु B पर पहुंचता है। भारी वर्षा के कारण विमान जोधपुर हवाई अड्डे पर आपातकालीन लैंडिंग करता है और 20 किमी दक्षिण-पश्चिम में जाता है। वर्षा रुकने के बाद विमान 40 किमी उत्तर-पश्चिम में उड़ान लेता है और बिंदु C तक पहुंचता है। यहां से वह 35 किमी पश्चिम में जाता है और बिंदु D पर पहुंचता है। भोपाल हवाई अड्डे तक पहुंचने के लिए बिंदु D से वह 40 किमी दक्षिण-पूर्व में जाता है।

(नोट: सभी बनाये गये कोणों को  $45^\circ$  माना जाना चाहिए)

**Q36.** भोपाल हवाई अड्डे और जोधपुर हवाई अड्डे के बीच सबसे छोटी दूरी कितनी है?

- (a) 30 किमी
- (b) 40 किमी
- (c) 45 किमी
- (d) 35 किमी
- (e) निर्धारित नहीं किया जा सकता

**Q37.** बिंदु C और जयपुर हवाई अड्डे के बीच कुल दूरी ज्ञात कीजिये।

- (a) 105 किमी
- (b) 125 किमी
- (c) 115 किमी
- (d) 95 किमी
- (e) 135 किमी

**Q38.** बिंदु B के सन्दर्भ में बिंदु D किस दिशा में है?

- (a) पूर्वोत्तर
- (b) पश्चिम
- (c) दक्षिणपूर्व
- (d) दक्षिणपश्चिम
- (e) उत्तरपश्चिम

**Directions (39-40):** नीचे दिए गए प्रश्नों का उत्तर देने के लिए निम्नलिखित सूचना का ध्यानपूर्वक अध्ययन कीजिये।

एक परिवार में छह सदस्य G, L, M, N, O और Q हैं, जिसमें केवल दो विवाहित युगल हैं। N, Q का दामाद है। O, M का ग्रैंडसन है जो G से विवाहित नहीं है। N, L का ब्रदर-इन-लॉ है। Q, G का पिता नहीं है। N का कोई भाई बहन नहीं है। G, M की संन्तान है।

**Q39.** परिवार में कितनी महिलाएं हैं?

- (a) दो
- (b) एक
- (c) चार
- (d) निर्धारित नहीं किया जा सकता
- (e) कोई नहीं

**Q40.** यदि C, L की पत्नी है, तो G के सन्दर्भ में C का क्या सम्बन्ध है?

- (a) भाई
- (b) सिस्टर-इन-लॉ
- (c) बहन
- (d) ब्रदर-इन-लॉ
- (e) इनमें से कोई नहीं

**Directions (41-45):** निम्नलिखित सूचना का ध्यानपूर्वक अध्ययन कीजिये तथा नीचे दिए गए प्रश्नों के उत्तर दीजिये:

दस व्यक्ति A, B, C, D, E, F, G, H, I और J एक आयताकार मेज के चारों ओर बैठे हैं। वे सभी हरियाणा के अलग-अलग जिलों, अर्थात्- अंबाला, भिवानी, फरीदाबाद, फतेहाबाद, गुरुग्राम, हिसार, झज्जर, पंचकुला, जिंद और करनाल से सम्बंधित हैं लेकिन जरूरी नहीं कि समान क्रम में हो। कोने पर बैठे व्यक्तियों का मुख केंद्र की ओर है जबकि अन्य व्यक्तियों का मुख केंद्र से विपरीत दिशा में है। दो व्यक्ति आयताकार मेज की लम्बी भुजा पर बैठे हैं जबकि एक व्यक्ति आयताकार मेज की छोटी भुजा पर बैठा है।

A, J के बाएं ओर से तीसरे स्थान पर बैठा है। तीन व्यक्ति A और अम्बाला से सम्बंधित व्यक्ति के मध्य में बैठे हैं। I झज्जर से सम्बंधित है। I और J के मध्य केवल एक व्यक्ति बैठा है। I आयताकार मेज के एक कोने पर बैठा है। H हिसार से सम्बंधित है और एक कोने पर बैठा है। G पंचकुला से सम्बंधित है और H के दाएं ओर से दूसरे स्थान पर बैठा है। अम्बाला और भिवानी से संबंधित व्यक्तियों के मध्य तीन व्यक्ति बैठे हैं। B भिवानी से सम्बंधित है। अम्बाला और फरीदाबाद से सम्बंधित व्यक्तियों के मध्य केवल एक व्यक्ति बैठा है। E फरीदाबाद से सम्बंधित है। E, आयताकार मेज के कोने पर नहीं बैठा है। फतेहाबाद से सम्बंधित व्यक्ति फरीदाबाद से सम्बंधित व्यक्ति के बाएं ओर से दूसरे स्थान पर बैठा है। फतेहाबाद और गुरुग्राम से सम्बंधित व्यक्तियों के मध्य दो व्यक्ति बैठे हैं। C, D के ठीक दाएं ओर बैठा है। न तो C न ही D अम्बाला से सम्बंधित है। D करनाल से सम्बंधित है और F के आसन्न बैठा है।

**Q41.** C निम्नलिखित में से किस शहर से सम्बंधित है?

- (a) अम्बाला
- (b) जिंद
- (c) झज्जर
- (d) गुरुग्राम
- (e) हिसार

**Q42.** निम्नलिखित में से कौन मेज के कोने पर बैठे हैं?

- (a) AHBG
- (b) DCGJ
- (c) FJEI
- (d) ADCH
- (e) CHFI

**Q43.** जिंद से संबंधित व्यक्ति के दाएं ओर से दूसरे स्थान पर बैठा व्यक्ति कहाँ से संबंधित है?

- (a) अम्बाला
- (b) जिंद
- (c) पंचकुला
- (d) झज्जर
- (e) इनमें से कोई नहीं



**Q44. G गुरुग्राम से सम्बंधित है और B फरीदाबाद से सम्बंधित है, उसी प्रकार A किससे सम्बंधित है?**

- (a) अम्बाला
- (b) गुरुग्राम
- (c) हिसार
- (d) करनाल
- (e) इनमें से कोई नहीं

**Q45. अम्बाला से सम्बंधित व्यक्ति के विपरीत कौन बैठा है?**

- (a) C-जिंद
- (b) B-भिवानी
- (c) D-करनाल
- (d) H-हिसार
- (e) इनमें से कोई नहीं

**Directions (46-50): दिए गये प्रश्नों का उत्तर देने के लिए सूचना का अध्ययन कीजिये।**

एक शब्द और संख्या को व्यवस्थित करने वाली एक मशीन को शब्दों और संख्याओं की एक इनपुट पंक्ति दिए जाने पर वह उसे निर्धारित नियमों के अनुसार प्रत्येक चरण में पुनर्व्यवस्थित करती है। निम्नलिखित, इनपुट और पुनर्व्यवस्था चरणों का एक उदाहरण है। (सभी संख्याएं दो अंकीय संख्याएँ हैं और सभी संख्या के मान के आधार पर कुछ तर्कों के अनुसार व्यवस्थित की गई हैं।)

इनपुट: win 56 32 93 baffle for 46 hollow 28 11 give chance

चरण I: 93 56 32 baffle for 46 hollow 28 11 give chance win

चरण II: 11 93 56 32 baffle for 46 28 give chance win hollow

चरण III: 56 11 93 32 baffle for 46 28 chance win hollow give

चरण IV: 28 56 11 93 32 baffle 46 chance win hollow give for

चरण V: 46 28 56 11 93 32 baffle win hollow give for chance

चरण VI: 32 46 28 56 11 93 win hollow give for chance baffle

चरण VI उपर्युक्त इनपुट की व्यवस्था का अंतिम चरण है।

उपरोक्त चरणों में अनुसरण किये गये नियमों के अनुसार, निम्नलिखित प्रत्येक प्रश्न में दिए गए इनपुट के लिए उपयुक्त चरण ज्ञात कीजिये।

इनपुट: friend 89 at the 28 16 base cunning 35 53 here 68

**Q46. निम्नलिखित में से कौन-सा चरण II होगा?**

- (a) 89 friend at 28 16 base cunning 35 53 here 68 the
- (b) 35 53 28 68 16 89 the here friend cunning base at
- (c) 16 89 at friend 28 cunning base 35 53 68 the here
- (d) 53 28 68 16 89 35 the here friend cunning base at
- (e) इनमें से कोई नहीं



**NIACL AO (GENERALISTS)**

**BOOKS KIT**

**Ace - QUANT | REASONING | ENGLISH**  
Insurance Previous Years

**English Edition @ 799/-**

**Q47. कौन-सा शब्द/संख्या चरण IV में बाएं छोर से सातवें स्थान पर होगी?**

- (a) base
- (b) at
- (c) 35
- (d) the
- (e) 53

**Q48. कौन-सी चरण संख्या निम्नलिखित आउटपुट होगी?**

**'53 28 68 16 89 at 35 the here friend cunning base'**

- (a) ऐसा कोई चरण नहीं होगा
- (b) III
- (c) II
- (d) V
- (e) IV

**Q49. किस चरण में तत्व 'base 35 53' समान क्रम में पाए जाते हैं?**

- (a) चरण V
- (b) चरण IV
- (c) चरण I
- (d) चरण II
- (e) चरण III

**Q50. चरण IV में कौन-सा तत्व '89' और 'base' के ठीक मध्य में है?**

- (a) at
- (b) 28
- (c) here
- (d) friend
- (e) इनमें से कोई नहीं

**Directions (51-55): वह लगभग मान ज्ञात कीजिए, जो प्रश्न चिह्न (?) के स्थान पर आयेगा?**

**Q51.**  $40.11 \text{ का } 149.91\% + 24.991 = (2)^? + 53.11$

- (a) 9
- (b) 7
- (c) 5
- (d) 4
- (e) 6

**Q52.**  $\sqrt{960.89} + 511 \text{ का } 37.5\% + 593.87 \div 9.01 = (?)^2$

- (a) 13
- (b) 17
- (c) 19
- (d) 15
- (e) 14

**Q53.**  $1221.11 + 121.81 - 1220.99 + 11.99 = ? + 51.03$

- (a) 76
- (b) 94
- (c) 53
- (d) 83
- (e) 73

**Q54.**  $21.012 \times 4.02 \div (49.017)^{\frac{1}{2}} = (?)^2 - \sqrt{170}$

- (a) 4
- (b) 6
- (c) 7
- (d) 8
- (e) 5

**Q55.**  $15.91 \times 16.054 + ? = 20.918 \times 21.045$

- (a) 185
- (b) 220
- (c) 315
- (d) 155
- (e) 165

**Directions (56-60):** डाटा का ध्यानपूर्वक अध्ययन कीजिए तथा निम्नलिखित प्रश्नों के उत्तर दीजिए।

एक निर्माता कंपनी 'ABC' एक उत्पाद का उत्पादन करती है, जिसका मांग चक्र पाँच महीने का है।

जनवरी में मांग की इकाई, मई में मांग की इकाई से 100 अधिक है। अप्रैल तथा मार्च में मांग की इकाई, मई में मांग की इकाई से क्रमशः आधी और दोगुनी है। फरवरी में मांग की इकाई, मार्च में मांग की इकाई से 25% अधिक है।

पाँच माह में मांग की औसत इकाई, जनवरी में मांग की कुल इकाई के बराबर है।

कार्य दिवस/माह: इन पाँच महीनों में कार्यदिवस/माह का औसत 20.8 दिन है। जनवरी में कार्यदिवस, मई में कुल कार्य दिवसों के बराबर हैं तथा फरवरी, मार्च और अप्रैल में कार्यदिवस बराबर हैं, जो मई के कार्यदिवसों से 2 कम हैं।

कंपनी उस विशेष महीने में मांग की गई कुल इकाईयों का 20% सेफ्टी स्टॉक में रखती है और प्रत्येक महीने का सेफ्टी स्टॉक अगले महीने के लिए ओपनिंग स्टॉक बन जाता है और जनवरी का ओपनिंग स्टॉक 30 इकाई है।

आवश्यक उत्पादन = मांग + सेफ्टी स्टॉक - ओपनिंग स्टॉक

**Q56.** अप्रैल के ओपनिंग स्टॉक का, फरवरी महीने के सेफ्टी स्टॉक से अनुपात ज्ञात कीजिये।

- (a) 3 : 4
- (b) 5 : 4
- (c) 4 : 3
- (d) 4 : 5
- (e) 5 : 6

Q57. मार्च और मई में मिलाकर उत्पादन करने के लिए आवश्यक कुल इकाइयाँ, फरवरी में मांग की गई कुल इकाइयों का कितने प्रतिशत हैं?

- (a) 120%
- (b) 100%
- (c) 80%
- (d) 125%
- (e) 140%

Q58. जनवरी और मार्च में प्रति दिन उत्पादित इकाइयों की संख्या का योग, फरवरी और अप्रैल में मिलाकर कार्य दिवसों की कुल संख्या से कितने प्रतिशत अधिक या कम है?

- (a) 10%
- (b) 12½%
- (c) 15%
- (d) 20%
- (e) 25%

Q59. दिए गए पांच महीनों में से किसमें उत्पादन की मांग सबसे अधिक है?

- (a) जनवरी
- (b) फरवरी
- (c) मार्च
- (d) अप्रैल
- (e) मई

Q60. जनवरी और मई के मिलाकर ओपनिंग स्टॉक में इकाइयों की संख्या, जून के ओपनिंग स्टॉक से कितनी अधिक या कम है, यदि कंपनी वर्ष भर उत्पाद निर्मित करती है?

- (a) 15
- (b) 12
- (c) 18
- (d) 20
- (e) 10

Q61. दो पेपरों की एक परीक्षा में विद्यार्थियों की संख्या 'X' है, जिसमें से केवल पहले पेपर को उत्तीर्ण करने वाले 180 विद्यार्थी थे, जबकि केवल दूसरे पेपर को उत्तीर्ण करने वाले 320 विद्यार्थी थे। दोनों विषयों में अनुत्तीर्ण होने वाले एक विद्यार्थी के चयन की प्रायिकता  $\frac{1}{14}$  है। यदि दोनों विषयों में उत्तीर्ण होने वाले विद्यार्थी 150 हैं, तो ज्ञात कीजिए कि कौन-सा विकल्प परीक्षा में उपस्थित होने वाले विद्यार्थियों की कुल संख्या के सन्दर्भ में सही है?

- (a)  $400 < x < 680$
- (b)  $440 < x < 460$
- (c)  $480 < x < 510$
- (d)  $520 < x < 560$
- (e)  $580 < x < 720$

**Special Offer**

 **Adda 247  
Test Series**

 **CANARA BANK  
PO 2018**

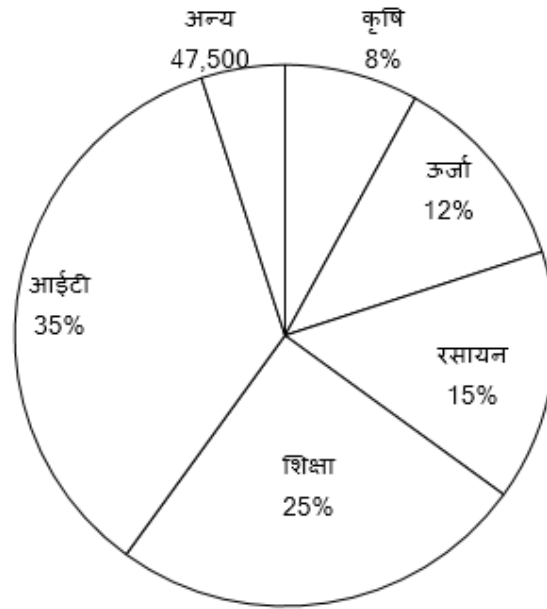
**SCALE -I**

**10 FULL LENGTH MOCKS**  
Bilingual  
VALIDITY : 1 MONTH

**Q62.** 60% दूध और शेष पानी के एक मिश्रण के 20% को पानी से प्रतिस्थापित किया जाता है। परिणामी विलयन से, पुनः विलयन के 25% को पानी से प्रतिस्थापित किया जाता है। अंत में, विलयन के एक चौथाई हिस्से को पानी से प्रतिस्थापित किया जाता है। अंतिम मिश्रण में कुल विलयन में दूध का प्रतिशत ज्ञात कीजिए:

- (a) 25%
- (b) 27%
- (c) 30%
- (d) 36%
- (e) 40%

**Directions (63-67):** नीचे दिया गया पाई-चार्ट एक विशेष वर्ष के विभिन्न उद्योगों में कर्मचारियों की कुल संख्या के प्रतिशत वितरण को दर्शाता है। चार्ट का ध्यानपूर्वक अध्ययन कीजिये और निम्नलिखित प्रश्नों के उत्तर दीजिये।



**Q63.** आईटी उद्योग में कर्मचारियों की संख्या, अन्य में कर्मचारियों की संख्या का कितने प्रतिशत है?

- (a) 500%
- (b) 600%
- (c) 700%
- (d) 800%
- (e) 900%

**Q64.** आईटी और ऊर्जा उद्योग में मिलाकर कर्मचारियों की कुल संख्या का, रसायन एवं कृषि उद्योग में मिलाकर कर्मचारियों की कुल संख्या से अनुपात ज्ञात कीजिये।

- (a) 47 : 19
- (b) 41 : 23
- (c) 39 : 19
- (d) 47 : 23
- (e) 41 : 16



**Q65.** आईटी, शिक्षा और रसायन उद्योग में कर्मचारियों की औसत संख्या एवं ऊर्जा और कृषि उद्योग में मिलाकर कर्मचारियों की औसत संख्या के बीच अंतर ज्ञात कीजिये।

- (a) 1,42,500
- (b) 5,22,500
- (c) 1,43,500
- (d) 1,52,500
- (e) 1,60,500

**Q66.** अन्य में कर्मचारियों की कुल संख्या, शिक्षा उद्योग में कर्मचारियों की कुल संख्या से कितने प्रतिशत अधिक या कम है?

- (a) 20% अधिक
- (b) 25% अधिक
- (c) 80% अधिक
- (d) 20% कम
- (e) 80% कम

**Q67.** यदि रसायन उद्योग से कर्मचारियों की कुल संख्या का 20%, ऊर्जा उद्योग में स्थानांतरित किया जाता है, तो ऊर्जा उद्योग में कर्मचारियों की कुल संख्या कृषि उद्योग में कर्मचारी की कुल संख्या का कितने प्रतिशत है?

- (a) 162.5%
- (b) 150%
- (c) 187.5%
- (d) 200%
- (e) 175%



**Directions (68-72):** निम्नलिखित संख्या श्रृंखला में, प्रश्न चिह्न (?) के स्थान पर क्या आना चाहिए?

**Q68.** 19, 45, 95, 177, 299, ?

- (a) 392
- (b) 438
- (c) 516
- (d) 469
- (e) 479

**Q69.** 256, 128, 192, 480, 1680, ?

- (a) 6720
- (b) 8400
- (c) 7560
- (d) 5880
- (e) 7600

Q70. 119, 126, 134, 146, 167, ?

- (a) 204
- (b) 208
- (c) 197
- (d) 219
- (e) 200

Q71. 18, 32, 50, 72, 98, ?

- (a) 124
- (b) 130
- (c) 128
- (d) 112
- (e) 138

Q72. 32, 66, 35, 72, 38, ?

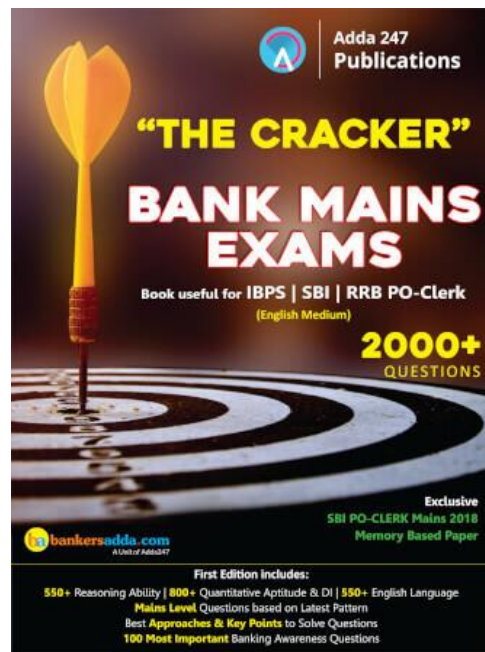
- (a) 76
- (b) 78
- (c) 84
- (d) 98
- (e) 80

Q73. राम दो योजनाओं A और B में 80,000 रु. का निवेश 2 वर्षों के लिए 2 : 3 के अनुपात में करता है। योजना A, R% की ब्याज दर प्रदान करती है और योजना B, (R + 5) % की ब्याज दर प्रदान करती है। 2 वर्ष बाद कुल मिश्रधन 96,000 रु. हो जाता है, तो R% का मान ज्ञात कीजिए।

- (a) 7.5%
- (b) 6%
- (c) 7%
- (d) 8%
- (e) 6.5%

Q74. एक दुकानदार एक पेन के अंकित मूल्य पर 30% और एक पेंसिल के मूल्य पर 40% की छूट देता है। पेन और पेंसिल के विक्रय मूल्य का अनुपात 7 : 4 है तथा पेन का विक्रय मूल्य पेंसिल के विक्रय मूल्य से 9 रु. अधिक है, तो पेन और पेंसिल का अंकित मूल्य ज्ञात कीजिए।

- (a) 15 रु., 35 रु.
- (b) 25 रु., 25 रु.
- (c) 40 रु., 10 रु.
- (d) 30 रु., 20 रु.
- (e) 27 रु., 23 रु.



Q75. वस्तु A और B के विक्रय मूल्य का अनुपात 3 : 4 है। वस्तु A की बिक्री पर, दुकानदार 50% का लाभ कमाता है और वस्तु B की बिक्री पर वह 20% का लाभ कमाता है तथा वस्तु B का क्रयमूल्य, वस्तु A के क्रयमूल्य से 100 रु. अधिक है, तो उसका कुल लाभ प्रतिशत ज्ञात कीजिए।

- (a)  $31\frac{1}{4}\%$   
 (b)  $30\frac{1}{4}\%$   
 (c)  $29\frac{1}{4}\%$   
 (d)  $28\frac{1}{4}\%$   
 (e)  $32\frac{1}{4}\%$

**Directions (76-80):** निम्नलिखित तालिका का अध्ययन कीजिए तथा इस पर आधारित प्रश्नों के उत्तर दीजिए।

दिए गए वर्षों में मिस्टर A का वार्षिक व्यय

नोट- मिस्टर A का वार्षिक वेतन = कुल व्यय + बचत

वर्ष	व्यय की वस्तुएं				बचत
	किराया	ट्रांसपोर्ट	वस्त्र	भोजन	
2013	40,000	10,000	50,000	50,000	_____
2014	_____	10,000	50,000	50,000	_____
2015	72,000	17,000	_____	55,000	64,000
2016	80,000	20,000	55,000	58,000	67,000
2017	1,00,000	_____	60,000	61,000	_____

Q76. 2013 में मिस्टर A के वेतन का कितने प्रतिशत किराये और ट्रांसपोर्ट पर मिलाकर व्यय किया जाता है, यदि हम यह जानते हैं कि 2013 में बचत 2013 के वेतन का 25% है?

- (a) 15%  
 (b) 18%  
 (c) 25%  
 (d) 22%  
 (e) 24%

Q77. 2014 में उसकी बचत में, 2013 की बचत की तुलना में 20% की वृद्धि होती है तथा 2013 में किराए पर व्यय की गई राशि का, 2014 में किराये पर व्यय की गयी राशि से अनुपात 2 : 3 है, तो वर्ष 2013 में ट्रांसपोर्ट और वस्त्रों पर व्यय की गई राशि का, वर्ष 2014 में किराये पर व्यय की गई राशि से अनुपात ज्ञात कीजिए।

- (a) 4 : 1  
 (b) 2 : 3  
 (c) 3 : 2  
 (d) 1 : 1  
 (e) 1 : 4

**Q78.** 2015 में वस्त्रों पर व्यय की गई राशि 2015 के कुल वेतन का 20% है, तो 2014 में किराये, ट्रांसपोर्ट और वस्त्रों पर औसत व्यय एवं 2015 में किराये, वस्त्रों और भोजन पर औसत व्यय के बीच अंतर ज्ञात कीजिए। (लगभग 100 के निकट) (2014 में किराया, पिछले प्रश्न में की गई गणना के समान है)

- (a) 19,700
- (b) 19,500
- (c) 20,000
- (d) 19,200
- (e) 19,600

**Q79.** 2013 में किराये और वस्त्रों पर किया गया व्यय, 2015 में बचत से कितने प्रतिशत अधिक या कम है?

- (a)  $40\frac{5}{8}\%$  कम
- (b)  $41\frac{5}{8}\%$  कम
- (c)  $40\frac{5}{8}\%$  अधिक
- (d)  $41\frac{5}{8}\%$  अधिक
- (e)  $42\frac{5}{8}\%$  कम

**Q80.** 2017 में उसकी पदोन्नति होती है और पदोन्नति के कारण उसका वेतन बढ़कर 5,50,000 रु. वार्षिक हो जाता है। समान वर्ष में, वह 5,00,000 रु. की कार खरीदने का निर्णय लेता है। 2017 में कार की खरीददारी के कारण उसका ट्रांसपोर्ट पर व्यय पिछले वर्ष की तुलना में 150% बढ़ जाता है, तो वर्ष 2017 के अंत में बचत ज्ञात कीजिए, जैसा कि हम जानते हैं कि वह कार की खरीदारी अपनी बचत से करता है (2013 और 2014 वर्ष की बचत पिछले वर्ष की गणना के अनुसार है)

- (a) 35,000
- (b) 40,000
- (c) 50,000
- (d) 30,000
- (e) 20,000

**Q81.** राहुल, एक दुकानदार के पास उपलब्ध यिपी नूडल्स के पैकेट्स में से 50% ले लेता है एवं एक पैकेट और ले लेता है। पुनः अरुण दुकानदार के पास उपलब्ध शेष पैकेट्स में से 50% पैकेट्स ले लेता है एवं एक पैकेट और ले लेता है। अंत में दुकानदार के पास यिपी नूडल्स के आरंभिक पैकेट्स में से 20% पैकेट्स बचते हैं। उन पैकेट्स की आरंभिक संख्या ज्ञात कीजिए:

- (a) 25
- (b) 40
- (c) 20
- (d) 30
- (e) उपरोक्त में से कोई नहीं

**Directions (82-86):** नीचे दिए गए प्रत्येक प्रश्न में, दो कथन (I) और (II) दिए गए हैं। आपको यह निर्धारित करना है कि कौन-सा कथन प्रश्न का उत्तर देने के लिए पर्याप्त है। साथ ही पाँच विकल्प दिए गए हैं, अपने उत्तर के अनुसार किसी एक विकल्प का चयन कीजिए।

**Q82. A और B दोनों क्रिकेट के खिलाड़ी हैं। पूर्ण वर्ष में ज्ञात कीजिए कि किसने सबसे अधिक कैच लिये?**

**I.** उस वर्ष में A और B द्वारा लिए गए कैच का अनुपात 2 : 3 है।

**II.** B द्वारा कैच लेना बंद करने के बाद A, 14 कैच लेने तक कैच लेना जारी रखता है।

(a) कथन (I) अकेले प्रश्न का उत्तर देने के लिए पर्याप्त है लेकिन कथन (II) अकेले प्रश्न का उत्तर देने के लिए पर्याप्त नहीं है।

(b) कथन (II) अकेले प्रश्न का उत्तर देने के लिए पर्याप्त है लेकिन कथन (I) अकेले प्रश्न का उत्तर देने के लिए पर्याप्त नहीं है।

(c) दोनों कथन मिलाकर प्रश्न का उत्तर देने के लिए आवश्यक हैं, लेकिन कोई भी कथन अकेले प्रश्न का उत्तर देने के लिए पर्याप्त नहीं है।

(d) या तो कथन (I) या कथन (II) प्रश्न का उत्तर देने के लिए पर्याप्त है।

(e) कथन (I) और (II) मिलाकर भी प्रश्न का उत्तर देने के लिए पर्याप्त नहीं हैं।

**Q83. तीन मित्र P, Q और R की आयु कितनी है (आयु प्राकृत संख्या में है) ?**

**I.** उनकी आयु का गुणनफल 48 वर्ष है।

**II.** उनकी आयु का योग 6 से विभाज्य नहीं है।

(a) कथन (I) अकेले प्रश्न का उत्तर देने के लिए पर्याप्त है लेकिन कथन (II) अकेले प्रश्न का उत्तर देने के लिए पर्याप्त नहीं है।

(b) कथन (II) अकेले प्रश्न का उत्तर देने के लिए पर्याप्त है लेकिन कथन (I) अकेले प्रश्न का उत्तर देने के लिए पर्याप्त नहीं है।

(c) दोनों कथन मिलाकर प्रश्न का उत्तर देने के लिए आवश्यक हैं, लेकिन कोई भी कथन अकेले प्रश्न का उत्तर देने के लिए पर्याप्त नहीं है।

(d) या तो कथन (I) या कथन (II) प्रश्न का उत्तर देने के लिए पर्याप्त है।

(e) कथन (I) और (II) मिलाकर भी प्रश्न का उत्तर देने के लिए पर्याप्त नहीं हैं।

**Q84. x, y, z और u का गुणनफल 2806 है (x, y, z और u सभी प्राकृत संख्याएं हैं)। इनमें से कौन-सी सबसे बड़ी संख्या है?**

**I.**  $x > z > u$

**II.**  $x > y > u$

(a) कथन (I) अकेले प्रश्न का उत्तर देने के लिए पर्याप्त है लेकिन कथन (II) अकेले प्रश्न का उत्तर देने के लिए पर्याप्त नहीं है।

(b) कथन (II) अकेले प्रश्न का उत्तर देने के लिए पर्याप्त है लेकिन कथन (I) अकेले प्रश्न का उत्तर देने के लिए पर्याप्त नहीं है।

(c) दोनों कथन मिलाकर प्रश्न का उत्तर देने के लिए आवश्यक हैं, लेकिन कोई भी कथन अकेले प्रश्न का उत्तर देने के लिए पर्याप्त नहीं है।

(d) या तो कथन (I) या कथन (II) प्रश्न का उत्तर देने के लिए पर्याप्त है।

(e) कथन (I) और (II) मिलाकर भी प्रश्न का उत्तर देने के लिए पर्याप्त नहीं हैं।

**Q85. अधिक से अधिक संख्या में पृष्ठों को टाइप करने की प्रत्येक प्रतियोगिता में, टाइप राइटर्स की तीन टीमों हैं जिनकी संख्या समान है। ज्ञात कीजिए कि कौन-सी टीम वह प्रतियोगिता जीतेगी।**

**I.** दूसरी और तीसरी टीम, पहली टीम की तुलना में 200% अधिक पृष्ठ टाइप करती है।

**II.** पहली और तीसरी टीम, दूसरी टीम द्वारा टाइप किए गए पृष्ठों की संख्या से दोगुना पृष्ठ टाइप करती है।



- (a) कथन (I) अकेले प्रश्न का उत्तर देने के लिए पर्याप्त है लेकिन कथन (II) अकेले प्रश्न का उत्तर देने के लिए पर्याप्त नहीं है।  
 (b) कथन (II) अकेले प्रश्न का उत्तर देने के लिए पर्याप्त है लेकिन कथन (I) अकेले प्रश्न का उत्तर देने के लिए पर्याप्त नहीं है।  
 (c) दोनों कथन मिलाकर प्रश्न का उत्तर देने के लिए आवश्यक हैं, लेकिन कोई भी कथन अकेले प्रश्न का उत्तर देने के लिए पर्याप्त नहीं है।  
 (d) या तो कथन (I) या कथन (II) प्रश्न का उत्तर देने के लिए पर्याप्त है।  
 (e) कथन (I) और (II) मिलाकर भी प्रश्न का उत्तर देने के लिए पर्याप्त नहीं हैं।

**Q86. V, R और A द्वारा मिलकर कमाए गए कुल लाभ में R का कुल कितना हिस्सा है?**

**I.** 1 वर्ष में उनके द्वारा मिलकर कमाया गया लाभ 54000 रु. है।

**II.** R का निवेश, V के निवेश से 25% कम और A के निवेश से 50% अधिक है।

- (a) कथन (I) अकेले प्रश्न का उत्तर देने के लिए पर्याप्त है लेकिन कथन (II) अकेले प्रश्न का उत्तर देने के लिए पर्याप्त नहीं है।  
 (b) कथन (II) अकेले प्रश्न का उत्तर देने के लिए पर्याप्त है लेकिन कथन (I) अकेले प्रश्न का उत्तर देने के लिए पर्याप्त नहीं है।  
 (c) दोनों कथन मिलाकर प्रश्न का उत्तर देने के लिए आवश्यक हैं, लेकिन कोई भी कथन अकेले प्रश्न का उत्तर देने के लिए पर्याप्त नहीं है।  
 (d) या तो कथन (I) या कथन (II) प्रश्न का उत्तर देने के लिए पर्याप्त है।  
 (e) कथन (I) और (II) मिलाकर भी प्रश्न का उत्तर देने के लिए पर्याप्त नहीं हैं।

**Q87.** जब एक भिन्न के अंश और हर में क्रमशः 40% और 50% की वृद्धि होती है, तो यह अन्य भिन्न का 84% हो जाता है तथा दोनों भिन्नो के व्युत्क्रमों का योग  $2\frac{7}{25}$  है, तो वास्तविक भिन्न ज्ञात कीजिए।

- (a)  $\frac{4}{5}$   
 (b)  $\frac{3}{4}$   
 (c)  $\frac{8}{9}$   
 (d)  $\frac{6}{7}$   
 (e)  $\frac{5}{6}$

**Q88.** A और B दो पात्र हैं जिनमें दूध और पानी का मिश्रण है। पात्र A में, दूध का पानी से अनुपात 2 : 3 है, जबकि पात्र B में, दूध का पानी से अनुपात 1 : 1 है। यदि पात्र A से 30ली मिश्रण को, पात्र B के 'x' लीटर मिश्रण के साथ एक अन्य पात्र C में मिलाया जाता है, तो पात्र C में दूध का पानी से अनुपात 7 : 8 हो जाता है, अतः x का मान ज्ञात कीजिए।

- (a) 58ली  
 (b) 64ली  
 (c) 62ली  
 (d) 60ली  
 (e) 65ली

**Q89.** बल्लेबाज़ A और B ने टीम द्वारा बनाये गए कुल रनों का 70% रन बनाये एवं बल्लेबाज़ A और B द्वारा बनाये गए रनों के बीच अंतर 45 रन है तथा A और B के रनों का अनुपात 29 : 20 है, तो बल्लेबाज़ B, टीम के कुल रनों का कितने प्रतिशत रन बनाता है?

- (a)  $26\frac{4}{7}\%$   
 (b)  $28\frac{4}{7}\%$   
 (c)  $24\frac{4}{7}\%$   
 (d)  $22\frac{4}{7}\%$   
 (e)  $30\frac{4}{7}\%$

**Q90.** 'A', 'B' की तुलना में 100% अधिक सक्षम है। B एक कार्य को अकेले पूरा करने में 'C' की तुलना में 50% अधिक समय लेता है। यदि 'C' कार्य को अकेले पूरा करने में A की तुलना में 6 दिन अधिक लेता है। तो उसी कार्य को 'A', 'B' और 'C' मिलकर कितना दिनों में पूरा कर सकते हैं?

- (a) 8 दिन
- (b) 9 दिन
- (c) 12 दिन
- (d) 15 दिन
- (e) 18 दिन

**Q91.** A और B मिलकर क्रमशः 8000 रु. और 10,000 रु. की पूंजी के निवेश के साथ एक व्यवसाय शुरू करते हैं। A, 5 महीने बाद व्यवसाय छोड़ देता है जबकि B जारी रखता है। A, व्यवसाय प्रबंधन के लिए कुल लाभ का 20% प्राप्त करता है तथा शेष लाभ को उनके हिस्से के अनुपात में बांटा जाता है। यदि एक वर्ष बाद, A को 2500 रु. का कुल लाभ प्राप्त होता है, तो A और B द्वारा मिलाकर अर्जित कुल लाभ ज्ञात कीजिये।

- (a) 10,000
- (b) 8,500
- (c) 7,500
- (d) 6,250
- (e) 5,750

**Q92.** एक बॉक्स में 'x' नीली, 5 लाल और 5 काली गेंद हैं। यदि बॉक्स से 2 नीली गेंद निकालने की प्रायिकता 0.125 है, तो बॉक्स में गेंदों की कुल संख्या कितनी है?

- (a) 25
- (b) 15
- (c) 16
- (d) 18
- (e) 21

**Q93.** सावन एक निश्चित गति से दिल्ली से कानपुर गया तथा अपनी गति में  $12\frac{1}{2}\%$  की कमी करके दिल्ली वापस आया। यदि दिल्ली और कानपुर के बीच की दूरी 560 कि.मी. है तथा दिल्ली से कानपुर जाने में उसके द्वारा लिया गया समय, कानपुर से दिल्ली वापस आने में लिए गए समय से 2.5 घंटे कम है, तो इस सम्पूर्ण यात्रा में उसके द्वारा लिया गया समय ज्ञात कीजिए।

- (a) 32 घंटे
- (b) 42 घंटे
- (c)  $37\frac{1}{2}$  घंटे
- (d)  $34\frac{1}{4}$  घंटे
- (e) 35 घंटे

**Q94.** A, B और C अलग-अलग एक कार्य को क्रमशः 15 दिन, 20 दिन और 30 दिनों में पूरा कर सकते हैं। वे कुछ दिन मिलकर कार्य करते हैं जिसके बाद C कार्य करना छोड़ देता है तथा शेष कार्य A और B द्वारा मिलकर पूरा किया जाता है। इस कार्य के लिए कुल 18000 रु. का भुगतान किया जाता है तथा B को C से 6000 रु. अधिक प्राप्त होते हैं। A ने कार्य को कितने दिन किया?

- (a) 8 दिन
- (b) 4 दिन
- (c) 6 दिन
- (d) 10 दिन
- (e) 2 दिन

Q95. मित्र और मोहित क्रमशः 4 : 11 के अनुपात में आरंभिक निवेश के साथ एक व्यवसाय आरंभ करते हैं। व्यवसाय आरंभ करने के छह महीने बाद माया इस व्यवसाय में मोहित द्वारा निवेशित धनराशि से  $9\frac{1}{11}\%$  अधिक धनराशि निवेश करके इसमें शामिल हो जाती है। यदि एक वर्ष के बाद, मित्र और माया का कुल मिलाकर लाभान्श 37560 रु. है, तो मोहित और माया के लाभान्श के बीच अंतर ज्ञात कीजिए।

- (a) 12320 रु.  
(b) 18780 रु.  
(c) 15625 रु.  
(d) 19195 रु.  
(e) 25040 रु.

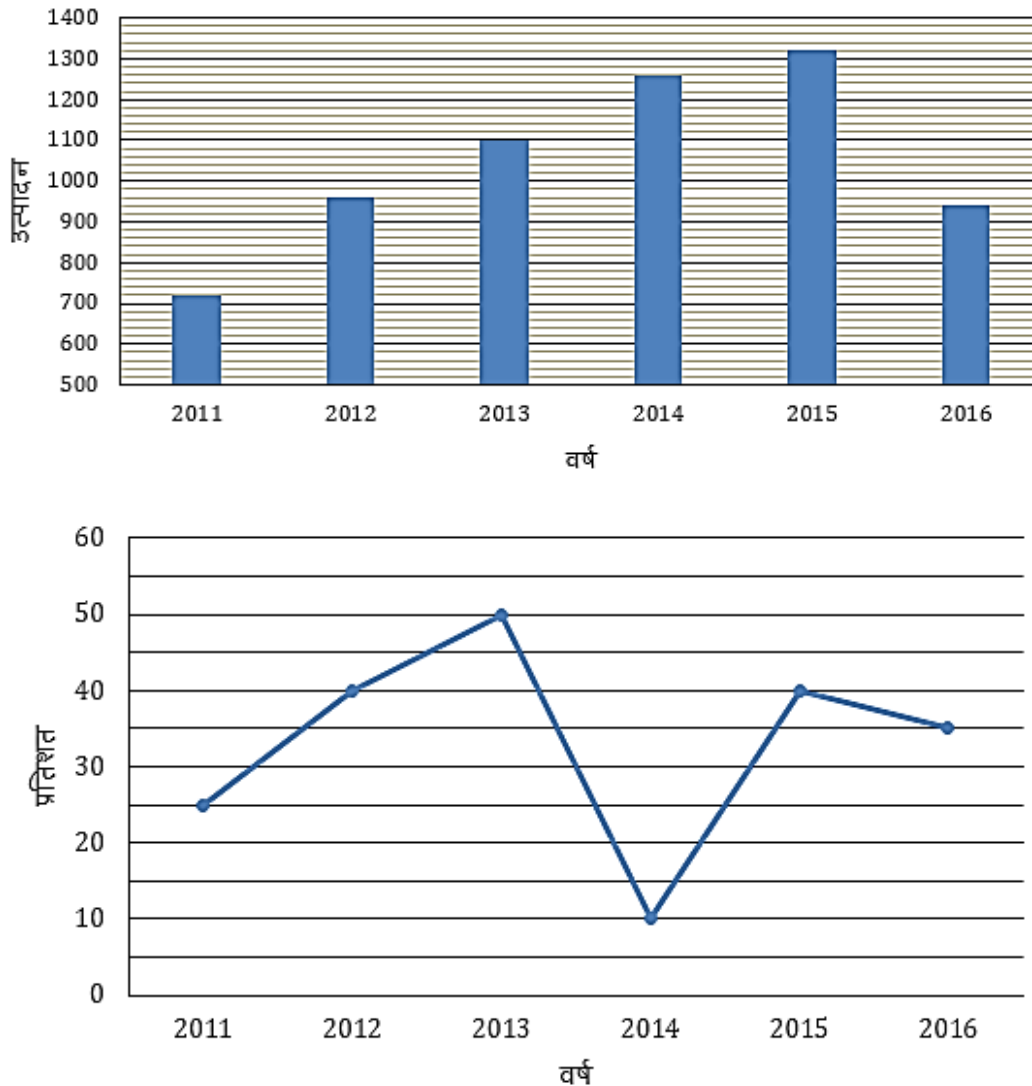
**Adda 247**  
Test Series

**IBPS CLERK PRIME**  
**MAINS**  
**30+ Total Tests**

- ✓ 10 Full Length Mocks with Video Solutions
- ✓ 15 Section wise Practice sets
- ✓ 7 Previous Years Papers
- ✓ Banking & Static eBook

**BILINGUAL**

**Directions (96-100):** नीचे दिए गए बार ग्राफ में, दिए गए छः वर्षों के दौरान एक कंपनी द्वारा उत्पादित दो प्रकार की कारों X और Y के कुल उत्पादन को दर्शाया गया है। लाइन ग्राफ दर्शाता है कि प्रतिशत के सन्दर्भ में Y का उत्पादन X से कितना अधिक है। आंकड़ों का ध्यानपूर्वक अध्ययन कीजिये और निम्नलिखित प्रश्नों के उत्तर दीजिए।



**Q96.** वर्ष 2011 और 2012 में मिलाकर कंपनी द्वारा उत्पादित कुल Y प्रकार की कारें, वर्ष 2014 और 2016 में मिलाकर कंपनी द्वारा उत्पादित कुल Y प्रकार की कारों का कितने प्रतिशत हैं?

- (a) 70%
- (b) 75%
- (c) 80%
- (d) 90%
- (e) 120%

**Q97.** 2011 और 2012 में मिलाकर उत्पादित X प्रकार की कुल कारों का, 2013 और 2015 में मिलाकर उत्पादित X प्रकार की कुल कारों से अनुपात ज्ञात कीजिए।

- (a) 21 : 22
- (b) 15 : 22
- (c) 7 : 10
- (d) 8 : 11
- (e) 6 : 11

**Q98.** 2017 में, कंपनी के कुल उत्पादन में 35% की वृद्धि होती है जबकि 2016 में, X प्रकार की कारों के कुल उत्पादन में 62% की वृद्धि होती है, तो ज्ञात कीजिए 2017 में Y प्रकार की कारों के उत्पादन में कितने प्रतिशत की वृद्धि हुई?

- (a) 10%
- (b) 15%
- (c) 20%
- (d) 25%
- (e) 30%


**Q99.** 2011, 2013 और 2015 में मिलाकर उत्पादित Y प्रकार की कारों की औसत संख्या ज्ञात कीजिए।

- (a) 580
- (b) 620
- (c) 1570
- (d) 590
- (e) 610

**Q100.** 2012 में, Y प्रकार की 20% कारें त्रुटिपूर्ण हैं जबकि 2014 में, Y प्रकार की 30% कारें त्रुटिपूर्ण हैं, तो 2012 और 2014 में मिलाकर उत्पादित Y प्रकार की कारों की कुल संख्या ज्ञात कीजिये, जो त्रुटिपूर्ण नहीं हैं।

- (a) 880
- (b) 910
- (c) 940
- (d) 970
- (e) 990

**Adda 247  
Test Series**

**CANARA BANK  
PO 2018**

**SCALE - I**

**10 FULL LENGTH MOCKS**  
Bilingual  
VALIDITY : 1 MONTH

**Directions (101-107):** Read the following passage, divided into number of paragraphs, carefully and answer the questions given below it. Certain words are given in bold to help you locate them while answering some of the questions.

**Paragraph 01:** IT'S LIKE READING Dostoevsky on a bad summer day. There are so many tormented souls out there caught in a morality play. Its emotional intensity is only matched by the inevitability of the questions it raises about country, religion, power, and retribution. It's big, shapeless, chaotic, and in the end, a rewarding experience of the imagination. But then, you're not reading the Great Russian. You're living in, dare I say, a creative phase of politics. Rich in ideas and arguments, intense in its interplay of passions, nuanced in its undertones of morality and ethics, and ambitious in its pursuit of freedom, politics today, as a genre in creativity, is as good as the original works in other realms of the human mind, be it fiction or philosophy.

**Paragraph 02:** A sign of the times could be the profusion of political titles in publishing. They are mostly built on the themes of populism, outsiderhood, globalisation and resentment. Hardly a week passes without a full-length review in the Books pages on yet another tome on a world gone astray, a world that's being led to an incendiary **denouement** by revolutionaries and revisionists. The moment deserves such interventions because, by common intellectual consensus, in the evolution of post-World War II politics, we are at the next history-shifting stage after 1989, Europe's annus mirabilis.

**Paragraph 03:** Then, the stage was an extension of literature: what was imagined in a controlled society sought freedom as the Lie unravelled. In the Russia once imagined by Gogol, and lately reclaimed by Solzhenitsyn, the sight of the last general secretary of the Soviet Union letting the empire crack and go away needed another prophet, another novelist. Elsewhere, in a vassal state, revolution earned an adjective as romantic as 'velvet', and in the **vanguard** of its freedom struggle were writers and singers. In the end, the philosopher would be king. It was a time when an idea that promised man an alternative more liberating than religion proved to be history's biggest ghost story.

**Paragraph 04:** Today, it's the idea of freedom, as it has always been, that propels politics. It's a different cast. No figures larger than their historical size. No one is pretending to be the last arbiter of our destiny. And no one is talking in a language that would be taught to generation after generation. The disappearance of **grandeur** from the arena even prompted some pundits a while ago to wail over the death of politics. This moment in politics has an overwhelming sense of ordinariness about it. The new salvation theologians are all ordinary guys, tapping into the fears of people who have lost their balance in a world moving at a pace they cannot cope with. They can easily be categorised into types.

**Paragraph 05:** 'Outsider' has already become a worn-out word, and most totemic outsiders are today insiders. That's what power does to usurpers. Still, the angry **legions** in affluent societies can still afford messiahs, and there's no sign that the people are getting less angry. The outsider, the undisputed protagonist of the political drama, is born from the rotten remains of politics as usual. He is a rejoinder to the three big 'E's that cause resentment: Establishment, Entrenchment and Entitlement. Where career politicians embody the status quo, the outsider sells tomorrow, as revolutionaries had done before. There is a difference. In the earlier revolutionary texts, the past is a country without glory, and invariably a horror story. In contrast, the outsider romances nostalgia, the future is the past restored in glory. 'Make America Great Again' is the slogan that took Donald Trump to the White House, and it is a sentiment in which the longing for a golden yesterday strengthens the struggle for a fantastic tomorrow.



**Q101.** What does the author mean by the phrase “a creative phase of politics”?

- (I) Politics today, as a genre in creativity, is as good as the original works in other realms of the human mind, be it fiction or philosophy.
  - (II) Politics today, as on moral and creative ground, is big, shapeless, chaotic, and in the end, a rewarding experience of the imagination.
  - (III) Politics today is rich in ideas and arguments, fervent in its interplay of passions and nuanced in its undertones of morality and ethics.
- (a) Only (I) is correct
  - (b) Only (II) is correct
  - (c) Both (I) and (II) are correct
  - (d) Both (I) and (III) are correct
  - (e) All are correct

**Q102.** Which of the following statements describe(s) the concept of “Outsider” in modern politics?

- (I) The outsider in modern politics is considered to be the unequivocal protagonist of the political drama.
  - (II) The outsider is considered to be born from the rotten remnants of politics as most totemic outsiders are today insiders.
  - (III) The outsider believes in cultural purity, and dreads cross- pollination.
- (a) Only (I) is correct
  - (b) Only (III) is correct
  - (c) Both (I) and (II) are correct
  - (d) Both (II) and (III) are correct
  - (e) All are correct

**Q103.** Which of the following themes determine the establishment of modern political titles?

- (I) Populism and Resentment.
  - (II) Outsiderhood, Globalisation and Antagonism
  - (III) Contentment, Hostility and Communism
- (a) Only (I) is correct
  - (b) Only (II) is correct
  - (c) Both (I) and (II) are correct
  - (d) Both (I) and (III) are correct
  - (e) All are correct

**Q104.** Which of the following statements summarizes the Paragraph 04 in the best possible manner?

- (a) Modern politics has evolved after the death of primeval politics and it finds no relevance from its classical glory as the idea of freedom and the sense of ordinariness have substituted the core ideologies.
- (b) In an unequal world the old bipolarity of politics has ceased to work, for the Left and the Right have not only lost the social space, they have lost the argument to a new set of liberators for whom it is not ideology that matters but ideas that feed on resentment.
- (c) The importance and culture of politics has diminished since the arrival of ordinary people on the arena that witnessed the death of ancient political ideologies.
- (d) As history choreographs a heady piece of politics, a certain amount of pessimism has taken over the fears of people who have lost their balance in a world moving at a pace they cannot cope with.
- (e) None of the above.

**Q105. What according to the author is/are the major cause(s) of indignation to the modern politics?**

- (I) The failure of modern politics to recover old ideologies from the system which used to be the defining stature of historical glory.  
(II) The three big 'E's that describe the existence of pillars on which modern politics is built - Establishment, Entrenchment and Entitlement.  
(III) The revolution that saw the advancement of new philosophers and salvation theologians who form the arrival of new ideologies and dogmas in the system.
- (a) Only (I) is correct  
(b) Only (II) is correct  
(c) Only (III) is correct  
(d) Both (I) and (II) are correct  
(e) All are correct

**Q106. What does the author mean by the ghost story as mentioned in the passage?**

- (a) It's not traditions, or even 'lessons from history', that matter but the man who dares to defy them, the ruler who refuses to be restrained by office.  
(b) The revolution that brought writers, singers and philosophers together in pursuit of attaining the idea that promised man an alternative more liberating than religion.  
(c) The empire that was built and imagined by Gogol and Solzhenitsyn to pursue the idea of freedom.  
(d) Both (b) and (c) are correct  
(e) All are correct

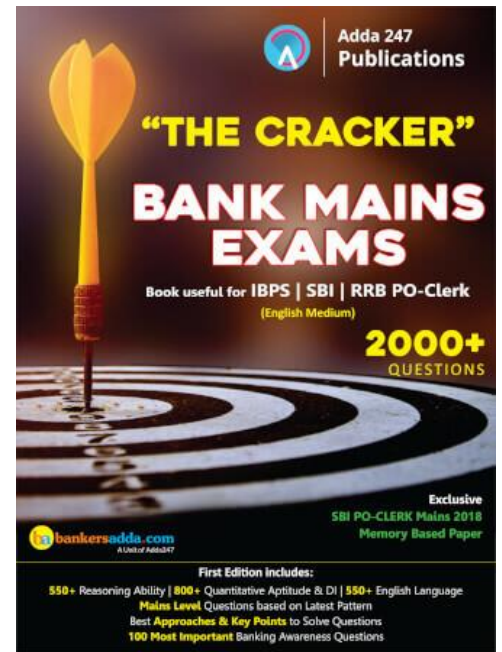
**Directions (107-107): Choose the word/group of words which is most similar in meaning to the word/group of words printed in bold as used in passage.**

**Q107. Legion**

- (a) Partisan  
(b) Conclave  
(c) Segmentation  
(d) Corps  
(e) Throng

**Directions (108-115): Read the following passage carefully and answer the questions given below it. Certain words have been printed in bold to help you locate them, while answering some of the questions.**

Formal dispute settlement at the WTO is a last-resort option. Many differences between Members are unlikely ever to become an issue at the WTO, and even if they do, they will not necessarily trigger formal dispute settlement procedures. Some issues are settled at the committee level or defused in that context. The WTO Secretariat cannot challenge any Member. It has no right to prosecute. It is up to governments to decide whether or not to bring a dispute against another government to the WTO. And it is also entirely up to the complainant to argue its case. The dispute is only between governments, and only about alleged failures to comply with WTO agreements or commitments.



Settling disputes is the responsibility of the Dispute Settlement Body (DSB). The DSB has sole authority to establish “panels” of experts to consider the case, and to adopt the panels’ findings or the results of an appeal. It monitors the implementation of the rulings and recommendations of panels and the Appellate Body, and has the power to authorize retaliation when a country does not comply with a ruling.

The World Trade Organization (WTO) is a relatively new international organization. However, it is responsible for a system that is over 50 years old. Established on 1 January 1995, the WTO replaced the General Agreement on Tariffs and Trade (GATT), which dated back to 1948. One of the most **profound** changes introduced by the transition from GATT to WTO in 1995 was the agreement to implement a dispute settlement process that would be speedier and more “automatic”, with fixed deadlines. This Agreement is set out in the WTO Understanding on Rules and Procedures Governing the Settlement of Disputes (the “Dispute Settlement Understanding or the “DSU”). It is more automatic in the sense that the dispute settlement process, including the adoption of the final panel report and the authorization of sanctions in case of non-compliance, can only be blocked if there is a consensus to do so (sometimes referred to as “reversed consensus”). Previously, under the GATT, it took a consensus among all countries to adopt the report – hence the “losing” party to the dispute could always block an unfavourable ruling.

In a first stage, the DSU requires countries in dispute to consult with each other to see if they can settle their differences by themselves (for at least 60 days). Parties can also agree to ask the WTO Director-General to mediate. Mediation, conciliation and good offices may be requested at any time in parallel to the dispute settlement process. If the consultations between the parties fail, the complaining country can ask for a panel to be appointed.

Panels resemble arbitral tribunals, the composition of which is normally also under the control of the parties to the dispute. Only if the two sides cannot agree does the WTO director-general appoint them. Panels consist of three (occasionally five) experts from different countries, who examine the evidence. Panel and Appellate Body findings have to be based on the agreements cited and should normally be given to the parties to the dispute within nine months from the establishment of the panel.

In general, after two hearings with the parties (and technical experts, if necessary), the panel submits the descriptive sections of its report (facts and arguments) for comments to the parties. This is followed by an “interim report” also submitted to the parties for review, and then, the final report, which is first submitted to the parties and then later circulated to all WTO Members. **Subsequently**, the final report is passed to the DSB, which can only reject the report by consensus. The report becomes the DSB’s ruling or recommendation within 60 days and is posted on the WTO website.

Panel reports can be appealed. The Appellate Body can hear on appeal only points of law decided by panels. Generally, the Appellate Body is not allowed to review facts of the case, as determined by the panel, or examine any evidence. Each appeal is heard by three members of a quasi-permanent seven-member Appellate Body set up by the DSB. The Appellate Body can uphold, modify or reverse the panel’s legal findings and conclusion, and proceedings should normally not last more than 90 days. When a case has been appealed, the DSB has to adopt the reports of the Appellate Body and of the panel (as amended, reversed or upheld) within 30 days from the circulation of the Appellate Body report; rejection is only possible by consensus.

The Dispute Settlement Understanding stresses that “prompt compliance with recommendations or rulings of the DSB is essential in order to ensure effective resolution of disputes to the benefit of all Members”. If a country is found to be at fault with the rules, it is expected to promptly correct the measure at issue. Moreover, it must state its intention to do so at a DSB meeting held within 30 days of the report’s

adoption. If immediate compliance with the recommendation proves impractical, the country will be allowed a “reasonable period of time”. If it fails to act within this period, it has to enter into negotiations with the complaining country (or countries) in order to determine temporary compensation – for instance, tariff reductions in areas of particular interest to the complaining side. There is no financial compensation. If no satisfactory compensation is agreed, the complaining side may ask the DSB for permission to impose limited trade sanctions (“suspend concessions or obligations”) against the other side. If requested the DSB must grant this authorization. WTO Arbitration on the level of such sanctions can also be requested if the parties do not agree.

The DSB monitors how adopted rulings are implemented, and any outstanding case remains on its agenda until the issue is resolved.

**Q108. “Formal dispute settlement at the WTO is a last-resort option” means:**

- I.** Countries should solve their differences among themselves.
- II.** Issues need not be reported to WTO if they can be sorted out bilaterally and multilaterally.
- III.** Efforts should be made to sort out the issues at committee level.
- IV.** WTO members should impose rules on members.

Choose the right option.

- (a) I and IV
- (b) I, II and III
- (c) II, III and IV above
- (d) All the four (I to IV)
- (e) None of these

**Q109. The Dispute Settlement Body can be approved only through:**

- (a) Companies & Organizations
- (b) Governments
- (c) Private individuals
- (d) United Nations
- (e) None of these

**Q110. Dispute Settlement system under WTO is better than GATT because:**

- I.** It is speedier & more automatic.
- II.** It has less blockages.
- III.** It is time bound
- IV.** It favours small and least developed countries.

Choose the right option.

- (a) I, II and IV
- (b) II, III and IV
- (c) I, II and III
- (d) II and IV
- (e) None of these

**Q111. Effective resolution of disputes is ensured by:**

- (a) asking the defaulting country to promptly correct the measure at issue.
- (b) imposing the financial compensation.
- (c) withdrawing that country's membership of WTO.
- (d) posting the DSB ruling on WTO website.
- (e) None of the above

**Q112. Which of the following statements are true?**

- I.** Panelists have to strictly follow their government's instructions.
- II.** Mediation, conciliation & good offices are independent of consultations.
- III.** Panel reports can be appealed.
- IV.** Failure to act within a reasonable period entails compensation.

Choose the right option.

- (a) I, II, III are true.
- (b) Only I and II are true.
- (c) Only II and III are true.
- (d) Only III and IV are true.
- (e) None of these

**Q113. Match the following:**

- |  |   |
|--|---|
| I. Conciliation<br>complaining side.   | (A) Tariff reduction in areas of particular interest to the |
| II. Mediation  | (B) Discussion with other party.                            |
| III. Inquiry   | (C) Third-party intervention put on a formal legal and      |
| institutionalized basis.   |   |
| IV. Compensation   | (D) Active participation of (a state, international         |
| organization or individual) who is authorized and expected to transmit and interpret |   |
| each party's proposals to the other and to advance his own proposals.                |   |
| V. Negotiations  | (E) Ascertaining disputed issues of fact.                   |
- (a) I-A, II-B, III-C, IV-D, V-E
  - (b) I-B, II-D, III-A, IV-C, V-E
  - (c) I-D, II-E, III-B, IV-A, V-C
  - (d) I-C, II-D, III-E, IV-A, V-B
  - (e) None of these

**Directions (114-115): Choose the word which is MOST SIMILAR in meaning to the word printed in bold as used in the passage.**

**Q114. SUBSEQUENTLY**

- (a) Obviate
- (b) antecedent
- (c) erstwhile
- (d) prefatory
- (e) Ensnare

 Adda 247  
Test Series

**IBPS CLERK PRIME**  
**MAINS**  
**30+ Total Tests**

- ✓ 10 Full Length Mocks with Video Solutions
- ✓ 15 Section wise Practice sets
- ✓ 7 Previous Years Papers
- ✓ Banking & Static eBook

**BILINGUAL**

**Q115. PROFOUND**

- (a) Trivial
- (b) Nugatory
- (c) Frivolous
- (d) Facile
- (e) Fervent

**Directions (116-120):** In the questions given below few sentences are given which are grammatically correct and meaningful. Connect them by the word given above the statements in the best possible way without changing the intended meaning. Choose your answer accordingly from the options to form a correct, coherent sentence.

**Q116. SO THAT**

- (A) The prison service should try to rehabilitate and improve the quality of life of prisoners.
  - (B) Prisoners can lead normal lives when they leave prison after the completion of their sentence.
  - (C) The number of inmates in state and federal prisons has increased nearly seven-fold from less than 200,000 in 1970 to 1,518,535 by midyear 2007.
  - (D) All prisons are different, but they share common challenges.
- (a) only A-B
  - (b) only B-C
  - (c) only C-D
  - (d) Both A-B and C-D
  - (e) None of these

**Q117. ALONGSIDE**

- (A) Scientists at the Massachusetts Institute of Technology (MIT) Computer Science and Artificial Laboratory (CSAIL) have created a soft, robotic fish that can swim on its own.
  - (B) The tail of the fish is buoyant and has two balloon-like chambers which function like pistons in an engine.
  - (C) The robotic fish that can swim with other fish in the ocean to get an up close and personal look for scientists
  - (D) The robotic fish was designed to be as non-disruptive as possible from the sound of the motor to the low-frequency emissions of the communications system so that it can interact and observe marine life, but also be more readily accepted by aquatic species.
- (a) only A-B
  - (b) only A-C
  - (c) only C-D
  - (d) Both A-B and C-D
  - (e) None of these



### Q118. NONETHELESS

- (A) The Facebook founder and CEO Zuckerberg claimed not to be familiar with shadow profiles
- (B) Facebook wants people to take seriously the idea that they can control their data.
- (C) Zuckerberg confirmed and accepted that the company collects information on nonusers.
- (D) Zuckerberg has stated his willingness to comply with GDPR for its European users.
- (a) only A-B
- (b) only B-C
- (c) only A-C
- (d) Both A-B and C-D
- (e) None of these

### Q119. EVEN THOUGH

- (A) There really weren't other opportunities for her, and most of them were volunteer opportunities.
- (B) My mom was talented and had a college degree, she lived in the era when the conventional wisdom in Dallas was that my dad worked.
- (C) I know that she felt so passionately that no other woman should ever be limited by cultural norms or what was expected of us.
- (D) She was supposed to stay home and take care of the kids, and nothing more.
- (a) only A-B
- (b) only B-D
- (c) only A-D
- (d) Both A-B and C-D
- (e) None of these

### Q120. LEST

- (A) Anna could not keep back her tears while confronting the chief investigating officer.
- (B) You shouldn't steal from someone else's car on federal property.
- (C) You should fear to face a potentially lengthy federal prison sentence.
- (D) The chief cause of her pain seemed to be the fear that the people would doubt her truthfulness.
- (a) only A-B
- (b) only B-D
- (c) only A-D
- (d) Both A-D and B-C
- (e) None of these



**Directions (121-130):** In the passage given below there are blanks which are to be filled with the options given below. Find out the appropriate pair of words in each case which can most suitably complete the sentence without altering the meaning of the statement. Both the words must fill the blank.

**Q121.** One does not have to be a political theorist to \_\_\_\_ (121) \_\_\_\_ how in the face of the \_\_\_\_ (122) \_\_\_\_ state of these pillars of our governing structure, we can expect the government to \_\_\_\_ (123) \_\_\_\_ the challenges of the emergent new world. Nor to ask the \_\_\_\_ (124) \_\_\_\_ questions. Is it realistic — or even fair — to expect our elected leaders to deliver on the promises they make on their election \_\_\_\_ (125) \_\_\_\_? After all, they are continually electioneering and given the size of their constituencies and the cost of \_\_\_\_ (126) \_\_\_\_ an election, they cannot \_\_\_\_ (127) \_\_\_\_ their dependence on “financiers”. How can we expect leaders whose success has been achieved within a system framed by the \_\_\_\_ (128) \_\_\_\_ of nationalism and national politics, and whose continuation in power depends on appealing to narrow ascriptive identities, to be \_\_\_\_ (129) \_\_\_\_ to the global challenges of climate change, terrorism, migration or religious sectarianism? Most importantly, how can our democracy \_\_\_\_ (130) \_\_\_\_ the opportunities and threats of globalisation with the pressures of individual expectations?

- (a) wonder/ponder
- (b) admire/expect
- (c) account/idolize
- (d) alarm/fear
- (e) confuse/distract

**Q122.** One does not have to be a political theorist to \_\_\_\_ (121) \_\_\_\_ how in the face of the \_\_\_\_ (122) \_\_\_\_ state of these pillars of our governing structure, we can expect the government to \_\_\_\_ (123) \_\_\_\_ the challenges of the emergent new world. Nor to ask the \_\_\_\_ (124) \_\_\_\_ questions. Is it realistic — or even fair — to expect our elected leaders to deliver on the promises they make on their election \_\_\_\_ (125) \_\_\_\_? After all, they are continually electioneering and given the size of their constituencies and the cost of \_\_\_\_ (126) \_\_\_\_ an election, they cannot \_\_\_\_ (127) \_\_\_\_ their dependence on “financiers”. How can we expect leaders whose success has been achieved within a system framed by the \_\_\_\_ (128) \_\_\_\_ of nationalism and national politics, and whose continuation in power depends on appealing to narrow ascriptive identities, to be \_\_\_\_ (129) \_\_\_\_ to the global challenges of climate change, terrorism, migration or religious sectarianism? Most importantly, how can our democracy \_\_\_\_ (130) \_\_\_\_ the opportunities and threats of globalisation with the pressures of individual expectations?

- (a) increasing/refreshing
- (b) tired/distress
- (c) collapsing/crumbling
- (d) accomplished/achieved
- (e) fatigue/empty

**Q123.** One does not have to be a political theorist to \_\_\_\_ (121) \_\_\_\_ how in the face of the \_\_\_\_ (122) \_\_\_\_ state of these pillars of our governing structure, we can expect the government to \_\_\_\_ (123) \_\_\_\_ the challenges of the emergent new world. Nor to ask the \_\_\_\_ (124) \_\_\_\_ questions. Is it realistic — or even fair — to expect our elected leaders to deliver on the promises they make on their election \_\_\_\_ (125) \_\_\_\_?

After all, they are continually electioneering and given the size of their constituencies and the cost of \_\_\_\_ (126) \_\_\_\_ an election, they cannot \_\_\_\_ (127) \_\_\_\_ their dependence on “financiers”. How can we expect leaders whose success has been achieved within a system framed by the \_\_\_\_ (128) \_\_\_\_ of nationalism and national politics, and whose continuation in power depends on appealing to narrow ascriptive identities, to be \_\_\_\_ (129) \_\_\_\_ to the global challenges of climate change, terrorism, migration or religious sectarianism? Most importantly, how can our democracy \_\_\_\_ (130) \_\_\_\_ the opportunities and threats of globalisation with the pressures of individual expectations?

- (a) venture/attack
- (b) tackle/address
- (c) materialize/distinguish
- (d) implement/create
- (e) contrive/derive

**Q124.** One does not have to be a political theorist to \_\_\_\_ (121) \_\_\_\_ how in the face of the \_\_\_\_ (122) \_\_\_\_ state of these pillars of our governing structure, we can expect the government to \_\_\_\_ (123) \_\_\_\_ the challenges of the emergent new world. Nor to ask the \_\_\_\_ (124) \_\_\_\_ questions. Is it realistic — or even fair — to expect our elected leaders to deliver on the promises they make on their election \_\_\_\_ (125) \_\_\_\_? After all, they are continually electioneering and given the size of their constituencies and the cost of \_\_\_\_ (126) \_\_\_\_ an election, they cannot \_\_\_\_ (127) \_\_\_\_ their dependence on “financiers”. How can we expect leaders whose success has been achieved within a system framed by the \_\_\_\_ (128) \_\_\_\_ of nationalism and national politics, and whose continuation in power depends on appealing to narrow ascriptive identities, to be \_\_\_\_ (129) \_\_\_\_ to the global challenges of climate change, terrorism, migration or religious sectarianism? Most importantly, how can our democracy \_\_\_\_ (130) \_\_\_\_ the opportunities and threats of globalisation with the pressures of individual expectations?

- (a) material/capital
- (b) opposite/deliberate
- (c) unreal/dangerous
- (d) consequential/significant
- (e) following/fatty

**Q125.** One does not have to be a political theorist to \_\_\_\_ (121) \_\_\_\_ how in the face of the \_\_\_\_ (122) \_\_\_\_ state of these pillars of our governing structure, we can expect the government to \_\_\_\_ (123) \_\_\_\_ the challenges of the emergent new world. Nor to ask the \_\_\_\_ (124) \_\_\_\_ questions. Is it realistic — or even fair — to expect our elected leaders to deliver on the promises they make on their election \_\_\_\_ (125) \_\_\_\_? After all, they are continually electioneering and given the size of their constituencies and the cost of \_\_\_\_ (126) \_\_\_\_ an election, they cannot \_\_\_\_ (127) \_\_\_\_ their dependence on “financiers”. How can we expect leaders whose success has been achieved within a system framed by the \_\_\_\_ (128) \_\_\_\_ of nationalism and national politics, and whose continuation in power depends on appealing to narrow ascriptive identities, to be \_\_\_\_ (129) \_\_\_\_ to the global challenges of climate change, terrorism, migration or religious sectarianism? Most importantly, how can our democracy \_\_\_\_ (130) \_\_\_\_ the opportunities and threats of globalisation with the pressures of individual expectations?

- (a) trail/movement
- (b) scope/trouble
- (c) aftermath/wake
- (d) dangle/flourish
- (e) shadow/charge

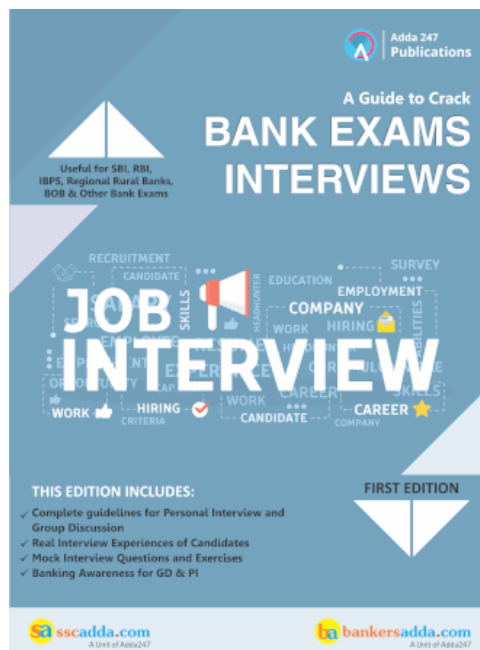
**Q126.** One does not have to be a political theorist to \_\_\_\_ (121) \_\_\_\_ how in the face of the \_\_\_\_ (122) \_\_\_\_ state of these pillars of our governing structure, we can expect the government to \_\_\_\_ (123) \_\_\_\_ the challenges of the emergent new world. Nor to ask the \_\_\_\_ (124) \_\_\_\_ questions. Is it realistic — or even fair — to expect our elected leaders to deliver on the promises they make on their election \_\_\_\_ (125) \_\_\_\_? After all, they are continually electioneering and given the size of their constituencies and the cost of \_\_\_\_ (126) \_\_\_\_ an election, they cannot \_\_\_\_ (127) \_\_\_\_ their dependence on “financiers”. How can we expect leaders whose success has been achieved within a system framed by the \_\_\_\_ (128) \_\_\_\_ of nationalism and national politics, and whose continuation in power depends on appealing to narrow ascriptive identities, to be \_\_\_\_ (129) \_\_\_\_ to the global challenges of climate change, terrorism, migration or religious sectarianism? Most importantly, how can our democracy \_\_\_\_ (130) \_\_\_\_ the opportunities and threats of globalisation with the pressures of individual expectations?

- (a) breaching/opposing
- (b) quitting/fraying
- (c) fighting/contesting
- (d) battling/conflicting
- (e) broiling/withstand

**Q127.** One does not have to be a political theorist to \_\_\_\_ (121) \_\_\_\_ how in the face of the \_\_\_\_ (122) \_\_\_\_ state of these pillars of our governing structure, we can expect the government to \_\_\_\_ (123) \_\_\_\_ the challenges of the emergent new world. Nor to ask the \_\_\_\_ (124) \_\_\_\_ questions. Is it realistic — or even fair — to expect our elected leaders to deliver on the promises they make on their election \_\_\_\_ (125) \_\_\_\_? After all, they are continually electioneering and given the size of their constituencies and the cost of \_\_\_\_ (126) \_\_\_\_ an election, they cannot \_\_\_\_ (127) \_\_\_\_ their dependence on “financiers”. How can we expect leaders whose success has been achieved within a system framed by the \_\_\_\_ (128) \_\_\_\_ of nationalism and national politics, and whose continuation in power depends on appealing to narrow ascriptive identities, to be \_\_\_\_ (129) \_\_\_\_ to the global challenges of climate change, terrorism, migration or religious sectarianism? Most importantly, how can our democracy \_\_\_\_ (130) \_\_\_\_ the opportunities and threats of globalisation with the pressures of individual expectations?

- (a) uphold/choose
- (b) cast/take in
- (c) yield/allow
- (d) flake out/vacate
- (e) discard/scrap

**Q128.** One does not have to be a political theorist to \_\_\_\_ (121) \_\_\_\_ how in the face of the \_\_\_\_ (122) \_\_\_\_ state of these pillars of our governing structure, we can expect the government to \_\_\_\_ (123) \_\_\_\_ the challenges of the emergent new world. Nor to ask the \_\_\_\_ (124) \_\_\_\_ questions. Is it realistic — or even fair — to expect our elected leaders to deliver on the promises they make on their election \_\_\_\_ (125) \_\_\_\_? After all, they are continually electioneering and given the size of their constituencies and the cost of \_\_\_\_ (126) \_\_\_\_ an election, they cannot \_\_\_\_ (127) \_\_\_\_ their dependence on “financiers”. How can we expect leaders whose success has been



achieved within a system framed by the \_\_\_\_**(128)**\_\_\_\_ of nationalism and national politics, and whose continuation in power depends on appealing to narrow ascriptive identities, to be \_\_\_\_**(129)**\_\_\_\_ to the global challenges of climate change, terrorism, migration or religious sectarianism? Most importantly, how can our democracy \_\_\_\_**(130)**\_\_\_\_ the opportunities and threats of globalisation with the pressures of individual expectations?

- (a) permission/license
- (b) straitjacket/barrier
- (c) impediment/agitation
- (d) arrest/deprivation
- (e) freedom/limit

**Q129.** One does not have to be a political theorist to \_\_\_\_**(121)**\_\_\_\_ how in the face of the \_\_\_\_**(122)**\_\_\_\_ state of these pillars of our governing structure, we can expect the government to \_\_\_\_**(123)**\_\_\_\_ the challenges of the emergent new world. Nor to ask the \_\_\_\_**(124)**\_\_\_\_ questions. Is it realistic — or even fair — to expect our elected leaders to deliver on the promises they make on their election \_\_\_\_**(125)**\_\_\_\_? After all, they are continually electioneering and given the size of their constituencies and the cost of \_\_\_\_**(126)**\_\_\_\_ an election, they cannot \_\_\_\_**(127)**\_\_\_\_ their dependence on “financiers”. How can we expect leaders whose success has been achieved within a system framed by the \_\_\_\_**(128)**\_\_\_\_ of nationalism and national politics, and whose continuation in power depends on appealing to narrow ascriptive identities, to be \_\_\_\_**(129)**\_\_\_\_ to the global challenges of climate change, terrorism, migration or religious sectarianism? Most importantly, how can our democracy \_\_\_\_**(130)**\_\_\_\_ the opportunities and threats of globalisation with the pressures of individual expectations?

- (a) responsive/amenable
- (b) impassive/complying
- (c) considerate/grateful
- (d) favorable/influential
- (e) easy/alive

**Q130.** One does not have to be a political theorist to \_\_\_\_**(121)**\_\_\_\_ how in the face of the \_\_\_\_**(122)**\_\_\_\_ state of these pillars of our governing structure, we can expect the government to \_\_\_\_**(123)**\_\_\_\_ the challenges of the emergent new world. Nor to ask the \_\_\_\_**(124)**\_\_\_\_ questions. Is it realistic — or even fair — to expect our elected leaders to deliver on the promises they make on their election \_\_\_\_**(125)**\_\_\_\_? After all, they are continually electioneering and given the size of their constituencies and the cost of \_\_\_\_**(126)**\_\_\_\_ an election, they cannot \_\_\_\_**(127)**\_\_\_\_ their dependence on “financiers”. How can we expect leaders whose success has been achieved within a system framed by the \_\_\_\_**(128)**\_\_\_\_ of nationalism and national politics, and whose continuation in power depends on appealing to narrow ascriptive identities, to be \_\_\_\_**(129)**\_\_\_\_ to the global challenges of climate change, terrorism, migration or religious sectarianism? Most importantly, how can our democracy \_\_\_\_**(130)**\_\_\_\_ the opportunities and threats of globalisation with the pressures of individual expectations?

- (a) incite/disperse
- (b) adjust/allow
- (c) clarify/judge
- (d) reconcile/resolve
- (e) modify/separate

**Directions (131-135): In each of the given questions an inference is given in bold which is then followed by three statements. You must find the statement(s) from where it is inferred. Choose the option with the best possible outcome as your choice.**


**Q131. North Korea's leader pledges to denuclearise the peninsula**

(I) North Korean leader Kim Jong-un has pledged to denuclearise and meet U.S. officials, China said on Wednesday after a historic meeting with President Xi Jinping, who promised China would uphold friendship with its isolated neighbour. North Korea's KCNA news agency made no mention of Mr. Kim's pledge to denuclearise, or his anticipated meeting with U.S. President Donald Trump that is planned for some time in May.

(II) After two days of speculation, China and North Korea both confirmed that Mr. Kim had travelled to Beijing and met Mr. Xi during what China called an unofficial visit from Sunday to Wednesday. It is our consistent stand to be committed to denuclearization on the peninsula, in accordance with the will of late President Kim Il-sung and late General Secretary Kim Jong-il," Kim Jong-un said, according to the ministry.

(III) "The issue of denuclearisation of the Korean peninsula can be resolved if South Korea and the U.S. respond to our efforts with goodwill, create an atmosphere of peace and stability while taking progressive and synchronous measures for the realisation of peace," Mr. Kim said. Kim Jong-un's predecessors, grandfather Kim Il-sung and father Kim Jong-il, both promised not to pursue nuclear weapons but secretly maintained programmes to develop them, culminating in the North's first nuclear test in 2006 under Kim Jong-il.

- (a) both (I) and (III)
- (b) both (II) and (III)
- (c) only (III)
- (d) both (I) and (II)
- (e) all of the above



**Q132. Vinesh worked very hard and her dedication and love for wrestling helped her overcome a gut-wrenching knee injury.**

(I) The Haryana wrestler will look to win her second CWG gold medal, and she might be even more motivated after the horrific knee injury she suffered at Rio 2016. "Whatever has happened, it is a thing of the past. The pain (of missing out on the Olympic medal) has somehow decreased now." says Vinesh.

(II) Vinesh chose to train at Lucknow along with other National campers, seek support from professionals in mental conditioning, recovery and nutrition from Olympic Gold Quest. According to OCG, requirements listed were specific and areas like weight management and mind training were targeted.

(III) The 24-year-old from the Phogat family is a very focused and strong-willed individual who knows the exact way to hone her mind and build up her body for the ordeal of competition. A podium finish will heal the scars of surgery post-Rio and make up for a long wait

- (a) only (I)
- (b) only (II)
- (c) only (III)
- (d) all of the above
- (e) none of the above



**Q133. Dubai's landscape is highlighted by sandy desert patterns, while gravel deserts dominate much of the southern region of the country.**

(I) The flat sandy desert gives way to the Western Hajar Mountains. A vast sea of sand dunes covers much of southern Dubai and eventually leads into the desert known as The Empty Quarter. Seismically, Dubai is in a very stable zone—the nearest seismic fault line, the Zagros Fault, is 200 kilometres (124 miles) from the UAE and is unlikely to have any seismic impact on Dubai. Experts also predict that the possibility of a tsunami in the region is minimal because the Persian Gulf waters are not deep enough to trigger a tsunami.

(II) Dubai has no natural river bodies or oases; however, Dubai does have a natural inlet, Dubai Creek, which has been dredged to make it deep enough for large vessels to pass through. Dubai also has multiple gorges and waterholes, which dot the base of the Western Al Hajar mountains.

(III) The sand consists mostly of crushed shell and coral and is fine, clean and white. East of the city, the salt-crusted coastal plains, known as sabkha, give way to a north-south running line of dunes. Farther east, the dunes grow larger and are tinged red with iron oxide.

- (a) both (I) and (III)
- (b) both (I) and (II)
- (c) all (II) and (III)
- (d) all of the above
- (e) none of the above

**Q134. For a given capacity, more number of cylinders is capable of producing more power.**

(I) More cylinders mean more piston area and the increased piston area permits an increase in the total valve area, allowing more air and fuel to be drawn into the engine, and the shorter stroke permits higher revs at the same piston speed, allowing the engine to pump still more air and fuel with the potential to produce more power, but with more fuel consumption too.

(II) As you increase the number of cylinders, each piston (and its associated rod and crank journal) gets smaller and lighter. Lighter parts can rev higher, if they're built right resulting in more power

(III) Even if the engine capacities are same for a motorcycle, the engine with a greater number of cylinders will be more capable because a comparable bore to stroke ratios are employed, an engine with more cylinders will have a greater piston area and a shorter stroke.

- (a) only (I)
- (b) only (II)
- (c) both (II) and (III)
- (d) All of the above
- (e) none of the above

**Q135. Confidence is growing around the world that India can take on China in the future.**

(I) The countries of Southeast Asia are divided among themselves about the virtues of growing closer to China, while Australia is split internally over the same question. Europe is distant, Russia a reluctant Chinese ally. Relations with China have not been good enough financially for Kazakhstan too.

(II) The unfortunate truth is that, however worthy this objective or sincere its expression, India's actions speak otherwise. Its diplomats and strategists continue to dither about whether or not balancing or containing China should be India's strategic objective. More importantly, the government isn't funding the military capability it would need to manage China's rise. India is short of cash and it is, unfortunately, starving its military.

(III) Only one country seems eager to deal with the ramifications of China's rise: India. Across dozens of world capitals, confidence is repeatedly expressed that India will seek, in the decades to come, to balance China. And in no capital, is this sentiment expressed more loudly than India's own.

- (a) only (I)
- (b) only (III)
- (c) only (II)
- (d) all of the above
- (e) (II) and (III)

**Directions (136-140):** There are three sentences given in the following question. Find the sentence(s) which is/are grammatically correct and contextually meaningful and then mark your answer choosing the best possible alternative among the five options given below each question. If all sentences are correct, choose option (E) i.e., "All are correct" as your answer.

- Q136.** (I) The science of course play a significant role in development.  
(II) Meghnad Saha with his thermal ionisation formula made India a leader in modern astronomy.  
(III) Time is the essence for a reasonable satisfactory growth of modern science.
- (a) Only (I) is correct
  - (b) Only (III) is correct
  - (c) Both (I) and (II) are correct
  - (d) Both (II) and (III) are correct
  - (e) All are correct

- Q137.** (I) MSP helps to procure adequate foodgrains through FCI, state agencies and co-operatives.  
(II) Polymer is one of the basic ingredients to produce dress materials.  
(III) The malady of our nation remains embedded in the colonial hangover.
- (a) Only (I) is correct
  - (b) Only (II) is correct
  - (c) Only (III) is correct
  - (d) Both (I) and (III) are correct
  - (e) All are correct

- Q138.** (I) He had managed to recoup most of his financial losses by 1870.  
(II) The break was taken to recoup her energy from the entertainment industry.  
(III) Though it was an outstanding success, but it did not recoup its high costs.
- (a) Only (I) is correct
  - (b) Only (III) is correct
  - (c) Both (I) and (II) are correct
  - (d) Both (II) and (III) are correct
  - (e) All are correct

 Adda 247  
Test Series

 **CANARA BANK**  
**PO 2018**

**SCALE - I**

**10 FULL LENGTH MOCKS**  
Bilingual  
VALIDITY : 1 MONTH



- Q139.** (I) Men and women should have the same chance of physical integrity.  
(II) The territory integrity of neighbouring countries must be fully respected.  
(III) Our views is that refugees should have the same right of personal integrity as our citizens.  
(a) Only (I) is correct  
(b) Only (II) is correct  
(c) Both (I) and (III) are correct  
(d) None is correct  
(e) All are correct

- Q140.** (I) If an extension is made, they will receive no recompense.  
(II) He would receive three valuable gifts in recompense.  
(III) There is no question of recompense for those who have lost money.  
(a) Only (II) is correct  
(b) Both (I) and (II) are correct  
(c) Both (II) and (III) are correct  
(d) Both (I) and (III) are correct  
(e) All are correct

**Directions (141-145): Rearrange the following six sentences (A), (B), (C), (D), (E) and (F) in the proper sequence to form a meaningful paragraph and then answer the questions given below.**

- (A) Most of the firms under investigation are medium-sized.  
(B) Authorities have so far focused on helping taxpayers get used to the new system.  
(C) The nature of evasion includes non-payment of tax, wrongful claim of tax rebates and failure to remit to the government taxes collected from customers.  
(D) The Directorate General of GST Intelligence, the apex intelligence unit under the Central Board of Excise and Customs (CBEC), has, in an all-India operation that began on Tuesday, detected tax evasion to the tune of Rs440 crore, a person privy to the development said on condition of anonymity.  
(E) The sectors where tax evasion has been detected include iron and steel, port services and organized retailers, the person said, adding that this is the first time such an operation has been carried out after the new indirect tax regime was implemented on 1st July.  
(F) The government has launched a crackdown on goods and services tax (GST) evaders ahead of the end of the fiscal year, signaling it will pursue tax dodgers.

**Q141. Which of the following should be the FOURTH sentence after rearranging these sentences into a coherent paragraph?**

- (a) A  
(b) B  
(c) C  
(d) D  
(e) E

**Q142. Which of the following should be the SECOND sentence after rearranging these sentences into a coherent paragraph?**

- (a) A
- (b) D
- (c) C
- (d) F
- (e) E

**Q143. Which of the following should be the SIXTH (LAST) sentence after rearranging these sentences into a coherent paragraph?**

- (a) A
- (b) D
- (c) C
- (d) F
- (e) B

**Q144. Which of the following should be the FIRST sentence after rearranging these sentences into a coherent paragraph?**

- (a) A
- (b) D
- (c) C
- (d) F
- (e) B

**Q145. Which of the following should be the FIFTH sentence after rearranging these sentences into a coherent paragraph?**

- (a) A
- (b) D
- (c) E
- (d) F
- (e) B

**Directions (146-150): Each of the following questions has a paragraph from which one sentence has been deleted. From the given options, choose the one that completes the paragraph in the most appropriate/coherent way.**

**Q146. Suffering is part of the natural order of the universe. At all levels in nature we see the struggle for survival, growth and decay, emergence of new life and a return to earth of what is biodegradable. Lacking the machinations of a mind, the order of creation just below humans does not cry out in anguish at its loss and destruction. Its passing away or transformation when it occurs, takes place often unnoticed, but always without complaint. \_\_\_\_\_**

- (a) Death and destruction is never "avenged".
- (b) Suffering came to be seen as punishment, sickness was often considered to be a consequence of sin.
- (c) It has been aptly said that suffering not transformed, is suffering transmitted.
- (d) The energy locked in our victimhood is released for our own good and that of others.
- (e) None of these

**Q147. Floodplains are formed over millions of years by the flooding of rivers and deposition of sand on riverbanks. These sandy floodplains are exceptional aquifers where any withdrawal is compensated by gravity flow from a large surrounding area. Some floodplains such as those of Himalayan rivers contain up to 20 times more water than the virgin flow in rivers in a year.**

**\_\_\_\_\_ If we conserve and use the floodplain, it can be a self-sustaining aquifer wherein every year, the river and floodplain are preserved in the same healthy condition as the year before.**

- (a) It would also generate substantial revenue for the cities.
- (b) This is the philosophy of “conserve and use”.
- (c) Preserving the floodplain in its entirety is critical for this scheme to work.
- (d) Since recharge is by rainfall and during late floods, the water quality is good.
- (e) None of these

**Q148. As search engines and algorithms replace encyclopaedias and libraries, tools like Elias are bound to become a more salient part of teaching. After all, memory has been outsourced since the written word came into place and an android is merely an engaging vessel through which children can access AI and internet-based learning software. \_\_\_\_\_. Freed from the dissemination of knowledge, assisted in assessing students, teachers can direct their attention to individual students who need it, and provide perspective rather than facts. If nothing else, Elias might free them from the tyranny of the young’s “why”. After all, impatience is all too human.**

- (a) Teaching, as a profession, can conceivably be enhanced by the use of such protocols.
- (b) In Finland, efforts are on to provide teachers with a prosthetic for patience.
- (c) Elias is also a robot.
- (d) It is worrying because it reflects an increasing alienation between North and South in political discourse.
- (e) Resistance to this will take the form of greater regional assertion.

**Q149. Renegotiating balance of power and new forms of cultural identity are all routine activities in politics. But they acquire more explosive potential when this negotiation takes place under three conditions: The political existence of a project of cultural hegemony, a fluid party system at the state level, and greater state centralisation. Right now this discontent seems only fleeting. But it would be a mistake to reduce it to the mere technicalities of a Finance Commission mandate. \_\_\_\_\_. And it would be a mistake to underestimate how quickly cultural anxieties can snowball into a potent political force, in an age marked by fragile and uncertain identities on the one hand, and mean and ungenerous leaders on the other.**

- (a) It is worrying because it reflects an increasing alienation between North and South in political discourse.
- (b) The discontent may not seem significant now.
- (c) There is more psychological and cultural anxiety fueling it.
- (d) The southern gauntlet is just an opening salvo.
- (e) Southern politics has itself been stuck in a rut.

**Q150.** When banks insure a farmer, they go by his declaration at the time of making the KCC and insure accordingly. There is no attempt to verify which crop has been actually planted and there is no system of asking the farmer to fill some form for crop insurance. As a result, when a crop loss is reported, there is a dispute between the farmer and the insurance company. It is catch 22 situation. On the one hand, the banker cannot name any other crop other than declared in the KCC, for a change would cause the invalidation of the card. On the other, on the farm there is some other crop which needs to be insured for the claims to be processed by the insurer. \_\_\_\_\_

- (a) This brings me to DBT in fertiliser subsidy.
- (b) The KCC is necessary to procure good quality inputs to raise productivity and production.
- (c) This will ensure better targeting and encourage digital transactions.
- (d) Some fear the farmers may misuse the crop loan if it is not linked to the scale of finance.
- (e) The result is that the farmer refuses to get his crop insured.

**Q151.** भारत और \_\_\_\_\_ ने प्रत्यर्पण संधि, शांतिपूर्ण उद्देश्यों के लिए परमाणु ऊर्जा के क्षेत्र में सहयोग और राजनयिक और आधिकारिक पासपोर्ट के लिए वीजा छूट पर तीन एमओयू पर हस्ताक्षर किए हैं।

- (a) युगांडा
- (b) केन्या
- (c) सूडान
- (d) मलावी
- (e) जापान

**Q152.** हाल ही में किसे इंटरनेशनल बॉक्सिंग एसोसिएशन (एआईबीए) का अध्यक्ष चुना गया है?


- (a) जैयर बोलसनारो
- (b) गफुर राखीमोव
- (c) मुलातु तेशोमे विरतु
- (d) सहले वर्क ज़ेडडे
- (e) थॉमस बाख

**Q153.** 18वीं हिंद महासागर रिम एसोसिएशन (आईओआरए) के मंत्रिपरिषद की बैठक 2018 हाल ही में \_\_\_\_\_ में आयोजित की गई थी।

- (a) शंघाई
- (b) डरबन
- (c) बीजिंग
- (d) टोक्यो
- (e) नई दिल्ली

**Q154.** यूरोपीय संघ की वैश्विक उपग्रह नेविगेशन प्रणाली निम्नलिखित में से कौन सा है?

- (a) बीडोउ
- (b) गैलीलियो
- (c) फाल्कन
- (d) ग्लोनास
- (e) न्यूटन



**NIACL AO (GENERALISTS)**

**BOOKS KIT**

**ACE - QUANT | REASONING | ENGLISH**  
**Insurance Previous Years**

**English Edition @ 799/-**

**Q155.** भारत के लिए पहली बार, एचएसबीसी होल्डिंग्स पीएलसी ने यूएस-आधारित ट्राइकन एनर्जी को \_\_\_\_\_ द्वारा निर्यात के लिए ब्लॉकचेन का उपयोग करके एक व्यापार वित्त लेनदेन निष्पादित किया है।

- (a) टाटा स्टील्स
- (b) रिलायंस इंडस्ट्रीज लिमिटेड
- (c) जिंदल एंड संस
- (d) एचडीएफसी बैंक
- (e) भारतीय सरकार

**Q156.** दिल्ली के मुख्यमंत्री अरविंद केजरीवाल ने दिल्ली के सिग्नेचर ब्रिज का उद्घाटन किया, जो भारत में \_\_\_\_\_ असममित केबल-अवरुद्ध ब्रिज है।

- (a) दूसरा
- (b) तीसरा
- (c) पहला
- (d) चौथा
- (e) पांचवां

**Q157.** उन दोनों देशों का नाम बताइए जिन्होंने हाल ही में सिमबेक्स का 25वां संस्करण शुरू किया है जो "स्केल और जटिलता के मामले में 1994 से सबसे बड़ा" होगा।

- (a) भारत और स्विट्जरलैंड
- (b) भारत और सिंगापुर
- (c) भारत और इंडोनेशिया
- (d) इंडोनेशिया और सिंगापुर
- (e) पाकिस्तान और सिंगापुर



**Q158.** किस राज्य सरकार ने पुरुष हॉकी विश्व कप से पहले भुवनेश्वर में 'मो बस' सेवा नामक एक नई पहल शुरू की है?

- (a) राजस्थान
- (b) महाराष्ट्र
- (c) पश्चिम बंगाल
- (d) ओडिशा
- (e) केरल

**Q159.** भारतीय रिजर्व बैंक ने वित्तीय अपराधों की जांच के लिए उधारकर्ताओं के सभी विवरणों को कैप्चर करने के लिए डिजिटल पीसीआर स्थापित करने की प्रक्रिया शुरू की है, जिसमें मनमाने अपराधी और लंबित कानूनी मामले भी शामिल हैं। पीसीआर का पूरा रूप क्या है?

- (a) प्राइवेट क्रेडिट रजिस्ट्री
- (b) पब्लिक क्रेडिट रजिस्ट्री
- (c) पब्लिक कॉमन रजिस्ट्री
- (d) पब्लिक क्रेडिट समीक्षा
- (e) पब्लिक क्रेडिट रेटिंग

**Q160.** उस बड़े बिजनेस का नाम बताएं जिसके साथ संयुक्त राष्ट्र विश्व खाद्य कार्यक्रम (डब्ल्यूएफपी) ने 2030 तक विश्व स्तर पर भूख को खत्म करने के प्रयासों का समर्थन करने के लिए रणनीतिक साझेदारी की है।

- (a) अलीबाबा समूह
- (b) पेटीएम
- (c) गूगल
- (d) वॉलमार्ट
- (e) ऐप्पल

**Q161.** डीसीबी बैंक ने मोबाइल आधारित भुगतान समाधान एमवीसा लॉन्च करने की घोषणा की है जो खुदरा दुकानों पर भुगतान को अधिक आसान बना देगा। डीसीबी बैंक कहाँ है?

- (a) पश्चिम बंगाल
- (b) केरल
- (c) महाराष्ट्र
- (d) राजस्थान
- (e) गुजरात

**Q162.** कौन सा भारतीय शहर महिला बॉक्सिंग विश्व चैम्पियनशिप-2018 की मेजबानी करेगा?

- (a) मुंबई
- (b) कोलकाता
- (c) पुणे
- (d) नई दिल्ली
- (e) इम्फाल

**Q163.** हाल ही में रक्षा अनुसंधान एवं विकास संगठन (डीआरडीओ) ने सफलतापूर्वक उड़ान भरने के लिए स्वदेशी विकसित सतह से सतह सामरिक मिसाइल \_\_\_\_ का परीक्षण किया।

- (a) प्राहर
- (b) अर्जुन
- (c) नाग
- (d) अग्नि -3
- (e) धनुष

**Q164.** नई तकनीक, सिम से पे लॉन्च करने वाले बैंक को नाम बताएं, जो स्मार्टफोन या इंटरनेट की आवश्यकता के बिना किसी भी खाता धारक को धन हस्तांतरण करने, उपयोगिता बिलों और अन्य मोबाइल बैंकिंग सेवाओं का भुगतान करने की सुविधा देता है।

- (a) स्टेट बैंक ऑफ इंडिया
- (b) एचडीएफसी बैंक
- (c) आईसीआईसीआई बैंक
- (d) यस बैंक
- (e) बैंक ऑफ बड़ौदा

Q165. भारत की पहली 'स्मार्ट बाड़' आरंभिक परियोजना का उद्घाटन केन्द्रीय गृह मंत्री राजनाथ सिंह ने \_\_\_\_ सीमा के साथ किया था।

- (a) भारत-बांग्लादेश सीमा
- (b) भारत-पाक सीमा
- (c) भारत- नेपाल सीमा
- (d) भारत- चीन सीमा
- (e) इनमें से कोई नहीं

Q166. किस कंपनी ने भारत के स्टेट बैंक के सहयोग से प्रीपेड मोबाइल वॉलेट "मोबीकैश" लॉन्च किया है?

- (a) टीसीएस
- (b) बीएसएनएल
- (c) एमटीएनएल
- (d) ओआईसी
- (e) आरआईएल

Q167. महिला सिंगल जापान ओपन 2018 का खिताब किसने जीता?

- (a) नोजोमी ओकुहारा
- (b) कैरोलिना मैरिन
- (c) साइना नेहवाल
- (d) पी वी सिन्धु
- (e) ज्वाला गुट्टा

Q168. निजी क्षेत्र के आरबीएल बैंक ने छोटे टिकट माइक्रो फाइनेंस ऋण वितरण के लिए एपीबीएस लॉन्च किया है। एपीबीएस का पूर्ण रूप है-

- (a) आधार पेमेंट ब्रिज सर्विस
- (b) आधार पेमेंट ब्रिज सेंडिंग
- (c) आधार पेमेंट ब्रिज स्कीम
- (d) आधार पेमेंट ब्रिज सोलुशन
- (e) आधार पेमेंट ब्रिज सिस्टम

Q169. रुपया-डीनॉमिनेटेड बांड, \_\_\_\_ के रूप में जाना जाता है।

- (a) गोड्ड बॉन्ड
- (b) भारत बंधन
- (c) मसाला बंधन
- (d) हिमालयी बंधन
- (e) इनमें से कोई नहीं

 Adda 247  
Test Series

**IBPS CLERK PRIME**  
**MAINS**  
**30+ Total Tests**

- ✓ 10 Full Length Mocks with Video Solutions
- ✓ 15 Section wise Practice sets
- ✓ 7 Previous Years Papers
- ✓ Banking & Static eBook

**BILINGUAL**



**Q170.** किस बैंक ने व्यापारियों के लिए ईजीपे मोबाइल एप्लिकेशन लॉन्च किया है जो सभी में एक स्वीकृत भुगतान प्लेटफॉर्म की सुविधा देता है?

- (a) बैंक ऑफ बड़ौदा
- (b) यूनियन बैंक ऑफ इंडिया
- (c) आईसीआईसीआई बैंक
- (d) एक्सिस बैंक
- (e) एचडीएफसी बैंक

**Q171.** उस नए सॉफ्टवेयर का नाम बताएं, जिसे राजस्थान में अनुमानित निदान और मौसमी व गैर-संक्रमणीय बीमारियों के नियंत्रण के साथ-साथ विशिष्ट क्षेत्रों में पाए जाने वाले बीमारियों के प्रचलन के लिए लॉन्च किया गया है।

- (a) उडान
- (b) निदान
- (c) समाधान
- (d) निवारण
- (e) इनमें से कोई नहीं

**Q172.** हाल ही में नुहाई का उत्सव \_\_\_ में मनाया गया था।

- (a) महाराष्ट्र
- (b) गोवा
- (c) तेलंगाना
- (d) ओडिशा
- (e) त्रिपुरा



**Q173.** निम्नलिखित सार्वजनिक क्षेत्र के किस बैंक ने 2000 रु. तक के लेनदेन के लिए संपर्क रहित क्रेडिट कार्ड वेव एन पे (वीज़ा प्लैटिनम मंच पर) लॉन्च किया?

- (a) बैंक ऑफ बड़ौदा
- (b) यूनियन बैंक ऑफ इंडिया
- (c) स्टेट बैंक ऑफ इंडिया
- (d) इंडियन बैंक
- (e) पंजाब नेशनल बैंक

**Q174.** ओपन एंडेड मनी मार्केट स्कीम पहली बार पेश की गयी-

- (a) यूटीआई म्यूचुअल फंड
- (b) आईडीबीआई म्यूचुअल फंड
- (c) आईसीआईसीआई म्यूचुअल फंड
- (d) एलआईसी म्यूचुअल फंड
- (e) इनमें से कोई नहीं

**Q175.** किस बैंक ने फेसबुक मैसेंजर पर ऑनचैट नामक एक चैटबॉट लॉन्च किया है, जो उपयोगकर्ताओं को फोन रिचार्ज करने, उपयोगिता बिल और कैब बुक करने की सुविधा देता है?


- (a) कोटक महिंद्रा बैंक
- (b) एक्सिस बैंक
- (c) आईसीआईसीआई बैंक
- (d) एचडीएफसी बैंक
- (e) सिटी यूनियन बैंक

**Q176.** छत्तीसगढ़ के वर्तमान राज्यपाल कौन हैं?

- (a) रमन सिंह
- (b) आनंदबीन पटेल
- (c) शीला दीक्षित
- (d) किरण बेदी
- (e) सत्य पाल मलिक

**Q177.** इंग्लैंड के उस रन बनाने वाले खिलाड़ी का नाम बताएं जिसने हाल ही में भारत के खिलाफ अंतिम टेस्ट मैच के बाद अंतरराष्ट्रीय क्रिकेट से सेवानिवृत्ति की घोषणा की है।

- (a) एलिस्टेयर कुक
- (b) इयान बेल
- (c) जोनाथन ट्रॉट
- (d) इऑन मॉर्गन
- (e) जेम्स टेलर



**Q178.** फिक्की भारत में सबसे बड़ा और सबसे पुराना शीर्ष व्यापार संगठन है। इसकी स्थापना किस वर्ष हुई थी?

- (a) 1967
- (b) 1957
- (c) 1947
- (d) 1927
- (e) 1937

**Q179.** 106 वीं भारतीय विज्ञान कांग्रेस (आईएससी-201 9) किस शहर में आयोजित की जाएगी?

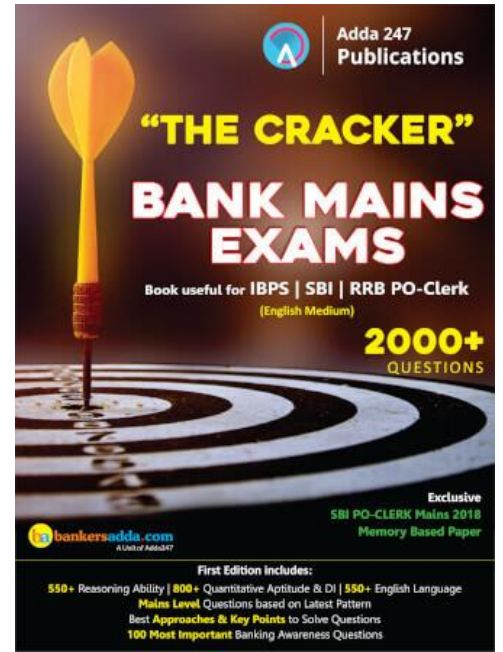
- (a) लखनऊ
- (b) जलंधर
- (c) जयपुर
- (d) नई दिल्ली
- (e) पुणे

**Q180.** सिडबी भारत में प्रमुख रूप से विकसित वित्तीय संस्थान है। इसकी स्थापना किस वर्ष हुई थी?

- (a) 1982
- (b) 1990
- (c) 1988
- (d) 1992
- (e) 1999

**Q181.** केंद्र किस देश में सबसे बड़ा डाटा सेंटर स्थापित करेगा जिसमें पांच लाख वर्चुअल सर्वर होस्ट करने की क्षमता होगी?

- (a) जयपुर
- (b) लखनऊ
- (c) भोपाल
- (d) भुवनेश्वर
- (e) कोलकाता



**Q182.** विज्ञान, प्रौद्योगिकी और नवाचारों से संबंधित मामलों पर प्रधान मंत्री नरेंद्र मोदी को सलाह देने के लिए केंद्र सरकार ने 21 सदस्यीय विज्ञान और प्रौद्योगिकी परिषद का गठन किया है। परिषद की अध्यक्षता \_\_\_\_\_ द्वारा की जाएगी।

- (a) मनोज सिन्हा
- (b) महेंद्र पद्मकर
- (c) टीएस विजयन
- (d) के विजय राघवन
- (e) कुमार मंगलम

**Q183.** टीआरएआई का उद्देश्य देश में दूरसंचार के विकास और ऐसी गति से परिस्थितियों को बनाने और पोषित करने से है जिससे भारत उभरते वैश्विक सूचना समाज में अग्रणी भूमिका निभा सके। टीआरएआई का पूर्ण रूप है-

- (a) टेलिकॉम रेगुलेटरी असेंबली ऑफ़ इंडिया
- (b) टेलिकॉम रेगुलेटरी एजेंसी ऑफ़ इंडिया
- (c) टेलिकॉम रेगुलेटरी अथॉरिटी ऑफ़ इंडिया
- (d) टेलिकॉम रेगुलेटरी एसोसिएशन ऑफ़ इंडिया
- (e) टेलिकॉम रेगुलेटरी अथॉरिटी ऑफ़ इंडिया.

**Q184.** वर्ल्ड हेपेटाइटिस डे 2018 के लिए विषय क्या है?

- (a) देखभाल के साथ हेपेटाइटिस का इलाज करें
- (b) हेपेटाइटिस का टेस्ट करें, उपचार करें।
- (c) हेपेटाइटिस के लिए प्रारंभिक परीक्षण
- (d) दिए गये विषयों में से कोई भी सत्य नहीं है
- (e) हेपेटाइटिस का अच्छी तरह से इलाज करें

**Q185. आईआरडीए के वर्तमान अध्यक्ष कौन हैं?**

- (a) अजय त्यागी
- (b) टीएस विजयन
- (c) सुभाष चंद्र खुंटिया
- (d) अनिल कौशल
- (e) आरएस शर्मा

**Q186. हाल ही में 61 वर्ष के श्रीमान ट्रन दाई क्वांग का निधन हो गया। वह \_\_\_\_\_ के राष्ट्रपति थे।**

- (a) थाईलैंड
- (b) कंबोडिया
- (c) वियतनाम
- (d) रोमानिया
- (e) माल्टा

**Q187. भारत में पैदा हुए पेप्सिको के सीईओ का नाम बताएं जिन्हें वैश्विक सांस्कृतिक संगठन एशिया सोसाइटी द्वारा गेम चेंजर ऑफ द ईयर पुरस्कार से सम्मानित किया जाएगा।**

- (a) इंद्र न्यूयी
- (b) शिखा शर्मा
- (c) चंदा दुर्गानी
- (d) कोमोलिता ठाकराल
- (e) अंजली त्रिपाठी

**Q188. उस बैंक का नाम बताएं जो अपने माइक्रो एटीएम टैबलेट के माध्यम से आधार आधारित लेनदेन के लिए आईरिस स्कैन प्रमाणीकरण सुविधा पेश करने वाले, देश का पहला बैंक बना।**

- (a) एक्सिस बैंक
- (b) एसबीआई
- (c) एचडीएफसी बैंक
- (d) आईसीआईसीआई बैंक
- (e) आईडीबीआई बैंक

**Q189. उस वरिष्ठ नौकरशाह का नाम बताएं जिसे केंद्रीय अप्रत्यक्ष कर और सीमा शुल्क बोर्ड (सीबीआईसी) का अध्यक्ष नियुक्त किया गया है।**

- (a) टी सुवर्ण राजू
- (b) एम के सरना
- (c) प्रवीण कोटी
- (d) एस रमेश
- (e) रत्नेश गिरि

**Q190.** बजट सत्र में घोषित, उस एलपीजी कनेक्शन स्कीम का नाम क्या है जिसे आठ करोड़ परिवारों तक पहुंचाया गया?

- (a) रोशानी मिशन
- (b) पीएमजीकेवाई
- (c) उज्ज्वल योजना
- (d) एपीवाई
- (e) स्मोक एग्जिट

**Q191.** क्यूबा की राजधानी क्या है?

- (a) सुवा
- (b) बाकू
- (c) हवाना
- (d) मैड्रिड
- (e) चिलो

**Q192.** कोयंबटूर शहर किस नदी पर स्थित है?

- (a) पन्ना नदी
- (b) नोयाल नदी
- (c) शरावती नदी
- (d) थैमिराबरानी नदी
- (e) इनमें से कोई नहीं

**Q193.** इंदिरा सागर बांध किस राज्य में स्थित है?

- (a) महाराष्ट्र
- (b) हरियाणा
- (c) ओडिशा
- (d) मध्य प्रदेश
- (e) इनमें से कोई नहीं

**Q194.** मोबाइल एटीएम प्रदान करने वाले पहले बैंक का नाम क्या है?

- (a) एसबीआई
- (b) आईसीआईसीआई बैंक
- (c) कर्नाटक बैंक
- (d) देना बैंक
- (e) एक्सिस बैंक

**Q195.** ड्यूश बैंक का मुख्यालय कहाँ है?

- (a) ताइवान
- (b) जर्मनी
- (c) फ्रांस
- (d) नीदरलैंड
- (e) इनमें से कोई नहीं



**Q196.** मुकुर्थी राष्ट्रीय उद्यान (एमएनपी) 78.46 वर्गकिमी संरक्षित क्षेत्र है, यह कहाँ स्थित है?

- (a) आंध्र प्रदेश
- (b) मध्य प्रदेश
- (c) केरल
- (d) असम
- (e) तमिलनाडु

**Q197.** झारसुगुडा थर्मल पावर प्लांट किस राज्य में स्थित है?

- (a) उत्तर प्रदेश
- (b) मध्य प्रदेश
- (c) ओडिशा
- (d) आंध्र प्रदेश
- (e) इनमें से कोई नहीं

**Q198.** "इन पर्स्यूट ऑफ प्रूफ: ए हिस्ट्री ऑफ आइडेंटिफिकेशन डॉक्यूमेंट्स इन इंडिया" पुस्तक के लेखक कौन है?

- (a) तारांगिनी श्रीरामन
- (b) चारु निवेदिता
- (c) गौरव शर्मा
- (d) जयकांतन
- (e) इनमें से कोई नहीं

**Q199.** विश्व संगीत दिवस दुनिया भर में \_\_\_\_\_ को मनाया जाता है।

- (a) 22 जून
- (b) 20 जून
- (c) 15 जून
- (d) 21 जून
- (e) 11 जून

**Q200.** पंकज अडवानी किस खेल से संबंधित है?

- (a) स्क्रकर
- (b) टेनिस
- (c) बैडमिंटन
- (d) एथलेटिक्स
- (e) इनमें से कोई नहीं

